

Constable GD in CAPFs NIA SSF and Rifleman GD in Assam Rifles Examination 2021

Roll Number	www.GovtJobsAlert.In
Candidate Name	www.GovtJobsAlert.In
Venue Name	CLM Resources and Management
Exam Date	29/11/2021
Exam Time :	9:00 AM - 10:30 AM
Subject	Constable GD 2021

Section : Part A General Intelligence and Reasoning

Q.1 दिए गए विकल्पों में से उस संख्या का चयन करें जो निम्नलिखित श्रृंखला में प्रश्न चिह्न (?) के स्थान पर आ सकती है।

6, 8, 20, 66, ?

Ans 1. 312

2. 204

3. 284

4. 272

Question ID : 65497830889

Status : Not Answered

Chosen Option : --

Q.2 दिए गए कथनों और निष्कर्षों को ध्यानपूर्वक पढ़ें। कथनों में दी गई जानकारी को सत्य मानते हुए, भले ही वो सामान्य रूप से ज्ञात तथ्यों से भिन्न प्रतीत होती हो, बताइए कि निम्न में से कौन से निष्कर्ष कथनों का तार्किक रूप से अनुसरण करते हैं।

कथन :

- कुछ फूल, रसायन हैं।
- कुछ रसायन, जड़ी-बूटी हैं।

निष्कर्ष:

- कोई भी फूल, जड़ी-बूटी नहीं है।
- कुछ फूल, जड़ी-बूटी हैं।

Ans 1. या तो निष्कर्ष I या निष्कर्ष II अनुसरण करता है।

2. निष्कर्ष I और II दोनों अनुसरण करते हैं।

3. केवल निष्कर्ष II अनुसरण करता है।

4. केवल निष्कर्ष I अनुसरण करता है।

Question ID : 65497830880

Status : Answered

Chosen Option : 1

Q.3 पाँच मित्र श्रुति, श्रेया, अनूप, अंकित और किरण एक पंक्ति में दक्षिण की ओर मुँह करके बैठे हैं। श्रुति, श्रेया और अनूप के बीच है। किरण और श्रेया क्रमशः पश्चिम और पूर्व के अंतिम सिरो पर बैठे हैं। बीच में कौन बैठा/बैठी है?

Ans 1. श्रुति

2. किरण

3. अंकित

4. अनूप

Question ID : 65497830902

Status : Answered

Chosen Option : 1

Q.4 दिए गए विकल्पों में से उस संख्या का चयन करें जो निम्नलिखित श्रृंखला में प्रश्न चिह्न (?) के स्थान पर आ सकती है।

53, 74, 95, 116, ?

Ans 1. 137

2. 143

3. 129

4. 125

Question ID : 65497830894
Status : Answered
Chosen Option : 1

Q.5 दिए गए विकल्पों में से उस अक्षर-समूह का चयन करें जो निम्नलिखित श्रृंखला में प्रश्न चिह्न (?) के स्थान पर आ सकता है।

BY, FU, JQ, NM, RI, ?

Ans 1. WD

2. EV

3. VE

4. UE

Question ID : 65497830900
Status : Answered
Chosen Option : 3

Q.6 उस विकल्प का चयन करें जो तीसरे शब्द से उसी प्रकार संबंधित है जिस प्रकार दूसरा शब्द पहले शब्द से संबंधित है।

इंटोमोलॉजी (Entomology): कीट :: इथियोलॉजी (Ichthyology) : ?

Ans 1. जीवाणु

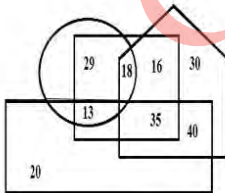
2. सिक्का

3. मछली

4. मधु

Question ID : 65497830901
Status : Answered
Chosen Option : 1

Q.7 दी गई आकृति में, पंचभुज 'नेपाली शब्दों' को निरूपित करता है, वृत्त 'हिंदी शब्दों' को निरूपित करता है, आयत 'अंग्रेजी शब्दों' को निरूपित करता है, और वर्ग 'फ़ारसी शब्दों' को निरूपित करता है।



कौन सी संख्या अंग्रेजी और फ़ारसी के उन शब्दों को निरूपित करती है जो हिंदी शब्दों में शामिल हैं?

Ans 1. 16

2. 29

3. 13

4. 35

Question ID : 65497830903
Status : Answered
Chosen Option : 3

Q.8 एक निश्चित कूट भाषा में, 'JAIPUR' को 'AJPIRU' के रूप में लिखा जाता है और 'BHOPAL' को 'HBPOLA' के रूप में लिखा जाता है। उसी भाषा में 'INDORE' को किस रूप में लिखा जाएगा?

- Ans 1. NIODER
 2. DNEERO
 3. DINRUP
 4. NDOIER

Question ID : 65497830885
 Status : Answered
 Chosen Option : 1

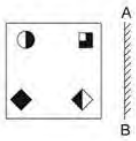
Q.9 नौ विद्यार्थी, अजय, गीता, नव्या, विपिन, पिंकी, कबीर, मोहन, सरोज और रानी, अपनी ऊँचाइयों के घटते क्रम के अनुसार बाईं ओर से दाईं ओर एक पंक्ति में खड़े हैं। अजय ठीक बीच में खड़ा है। मोहन और कबीर क्रमशः बाईं ओर दाईं ओर से तीसरे स्थान पर हैं। गीता पंक्ति के किसी एक छोर पर है। नव्या, अजय के बाईं ओर बिल्कुल बगल में खड़ी है। सभी नौ छात्रों में विपिन सबसे ऊँचा है। रानी, अजय और कबीर के बीच खड़ी है। पिंकी दाईं ओर से आठवें स्थान पर है।

दाईं ओर से दूसरे स्थान पर कौन है?

- Ans 1. सरोज
 2. पिंकी
 3. कबीर
 4. मोहन

Question ID : 65497830893
 Status : Answered
 Chosen Option : 1

Q.10 दर्पण को AB रेखा पर रखे जाने पर निम्न आकृति के सही दर्पण प्रतिबिंब का चयन कीजिए।



Ans

- 1.
- 2.
- 3.
- 4.

Question ID : 65497830890
 Status : Answered
 Chosen Option : 2

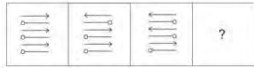
Q.11 उस विकल्प का चयन करें, जिसकी संख्याएँ आपस में उसी प्रकार संबंधित हैं, जिस प्रकार दिए गए समुच्चय की संख्याएँ आपस में संबंधित हैं।

(8, 112, 49)

- Ans 1. (15, 85, 25)
 2. (16, 117, 81)
 3. (12, 48, 64)
 4. (7, 154, 121)

Question ID : 65497830881
Status : Answered
Chosen Option : 3

Q.12 दिए गए विकल्पों में से उस आकृति का चयन करें जो नीचे दी गई श्रृंखला में प्रश्न चिह्न (?) के स्थान पर आ सकती है।



Ans

- 1.
- 2.
- 3.
- 4.

Question ID : 65497830897
Status : Answered
Chosen Option : 1

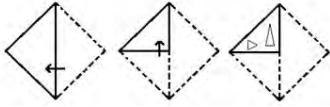
Q.13 एक काल्पनिक गणितीय प्रणाली में, प्रतीक '@' का अर्थ जोड़ है, प्रतीक '\$' का अर्थ विभाजन है, प्रतीक '&' का अर्थ घटाव है, और प्रतीक '#' का अर्थ गुणा है। निम्नलिखित अभिव्यंजक का मान क्या होगा?

165 \$ 11 # 15 & 4 @ 6

- Ans 1. 227
 2. 157
 3. 352
 4. 355

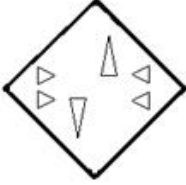
Question ID : 65497830896
Status : Answered
Chosen Option : 1

Q.14 निम्नांकित चित्रों में एक कागज को मोड़ने के क्रम और मुड़े हुए कागज को काटने का तरीका दर्शाया गया है। मुड़े हुए कागज को खोलने पर यह कैसा दिखाई देगा?



Ans

✗ 1.



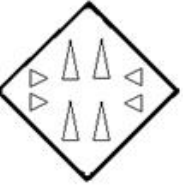
✓ 2.



✗ 3.



✗ 4.



Question ID : 65497830883
Status : Answered
Chosen Option : 2

Q.15 उस विकल्प का चयन करें जो तीसरे अक्षर-समूह से उसी प्रकार संबंधित है जिस प्रकार दूसरा अक्षर-समूह पहले अक्षर-समूह से संबंधित है।

SNJ : UQL :: XPT : ?

Ans

✓ 1. ZSV

✗ 2. ZTU

✗ 3. YTW

✗ 4. YSV

Question ID : 65497830884
Status : Answered
Chosen Option : 1

Q.16 75 विद्यार्थियों की एक कक्षा में, 40 विद्यार्थी क्रिकेट में भाग लेते हैं, 28 विद्यार्थी हॉकी में भाग लेते हैं और 12 विद्यार्थी क्रिकेट और हॉकी दोनों में भाग लेते हैं। वहीं 19 विद्यार्थी इन दोनों में से किसी भी खेल में भाग नहीं लेते हैं। कितने विद्यार्थी केवल हॉकी में भाग लेते हैं?

- Ans
- 1. 44
 - 2. 28
 - 3. 16
 - 4. 35

Question ID : 65497830882
Status : Answered
Chosen Option : 2

Q.17 एक निश्चित कूट भाषा में, 'ATUL' को '1-20-21-12' के रूप में कूटबद्ध किया जाता है और 'RAJU' को '18-1-10-21' के रूप में कूटबद्ध किया जाता है। उसी भाषा में 'GITA' को किस रूप में कूटबद्ध किया जाएगा?

- Ans
- 1. 7-9-20-1
 - 2. 5-11-22-1
 - 3. 6-10-20-1
 - 4. 8-9-20-1

Question ID : 65497830888
Status : Answered
Chosen Option : 1

Q.18 एक विशिष्ट कूट भाषा में, 'INAUGRAL' को 'UANILARG' लिखा जाता है। उसी भाषा में 'PROLIFER' को क्या लिखा जाएगा?

- Ans
- 1. LOPRERFJ
 - 2. LORPREFI
 - 3. RPLIFIRE
 - 4. ORPIFREF

Question ID : 65497830879
Status : Answered
Chosen Option : 2

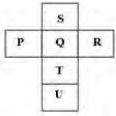
Q.19 उस विकल्प का चयन कीजिए जिसमें निम्न शब्दों का वह क्रम दिया गया है, जिस क्रम में वे अंग्रेजी शब्दकोश में मौजूद होते हैं।

1. Delicious
2. Deliberate
3. Delinquent
4. Delirium
5. Delicacy

- Ans
- 1. 3, 5, 1, 4, 2
 - 2. 2, 5, 3, 4, 1
 - 3. 2, 5, 1, 4, 3
 - 4. 2, 5, 1, 3, 4

Question ID : 65497830891
Status : Answered
Chosen Option : 4

Q.20 दिए गए शीट को मोड़कर एक घन बनाया गया है। इस प्रकार बने घन में, 'Q' अक्षर दर्शाने वाले फलक के विपरीत फलक पर कौन सा अक्षर होगा?



- Ans
- 1. U
 - 2. T
 - 3. S
 - 4. R

Question ID : 65497830898
Status : Answered
Chosen Option : 1

Q.21 मनोज, कपिल के पिता हैं। कपिल, माया का एकलौता बेटा है। काव्या, माया की बेटी है। नेहा, काव्या की एकलौती बेटी है। कपिल का नेहा से क्या संबंध है?

- Ans
- 1. दादा
 - 2. पिता
 - 3. भाई
 - 4. मामा

Question ID : 65497830886
Status : Answered
Chosen Option : 3

Q.22 उस विकल्प का चयन करें जो तीसरी संख्या से उसी प्रकार संबंधित है जिस प्रकार दूसरी संख्या पहली संख्या से संबंधित है।

154 : 10 :: 261 : ?

- Ans
- 1. 8
 - 2. 9
 - 3. 10
 - 4. 7

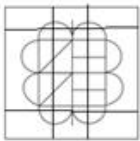
Question ID : 65497830895
Status : Answered
Chosen Option : 2

Q.23 उस विकल्प का चयन करें जिसमें दी गई आकृति अंतर्निहित है (घुमाने की अनुमति नहीं है)।

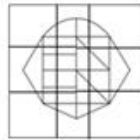


Ans

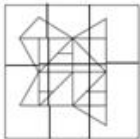
✗ 1.



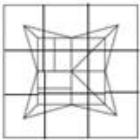
✓ 2.



✗ 3.



✗ 4.



Question ID : 65497830899

Status : Answered

Chosen Option : 2

Q.24 अक्षरों के उस संयोजन का चयन करें जो दी गई श्रृंखला के रिक्त स्थान में क्रमिक रूप से रखे जाने पर श्रृंखला को पूर्ण करेगा।

_ a d f b _ d f b a _ f b a d _

Ans

✗ 1. d f b a

✗ 2. b a f d

✗ 3. a b f d

✓ 4. b a d f

Question ID : 65497830892

Status : Answered

Chosen Option : 4

Q.25 चार अक्षर-समूह दिए गए हैं, जिनमें से तीन किसी तरह से संगत हैं और कोई एक असंगत है। असंगत अक्षर-समूह का चयन कीजिए।

Ans

✗ 1. RUW

✓ 2. SVY

✗ 3. JMO

✗ 4. NQS

Question ID : 65497830887

Status : Answered

Chosen Option : 2

Section : Part B General Knowledge and General Awareness

Q.1 नवंबर 2020 में, भारत में बाफ्टा ब्रेकथ्रू पहल के राजदूत के रूप में निम्नलिखित में से किसे चुना गया?

- Ans
- 1. दीपिका पादुकोण
 - 2. शाहरुख खान
 - 3. अक्षय कुमार
 - 4. ए.आर.रहमान

Question ID : 65497830925
Status : Answered
Chosen Option : 1

Q.2 भारतीय संविधान के निम्नलिखित में से किस अनुच्छेद में 6 वर्ष से कम आयु के बच्चों के लिए प्रारंभिक बाल्यावस्था देख-रेख और शिक्षा का उपबंध है?

- Ans
- 1. अनुच्छेद 35
 - 2. अनुच्छेद 44
 - 3. अनुच्छेद 45
 - 4. अनुच्छेद 53

Question ID : 65497830924
Status : Answered
Chosen Option : 2

Q.3 नवंबर 2020 में, जहाजरानी मंत्रालय का नाम परिवर्तित करते हुए पत्तन, जहाजरानी एवं _____ मंत्रालय कर दिया गया।

- Ans
- 1. जल
 - 2. मत्स्ययन
 - 3. जलमार्ग
 - 4. जल धन

Question ID : 65497830911
Status : Answered
Chosen Option : 1

Q.4 'ऑलिवर ट्विस्ट (Oliver Twist)' उपन्यास के लेखक निम्नलिखित में से कौन हैं?

- Ans
- 1. चार्ल्स डिकेन्स (Charles Dickens)
 - 2. थॉमस हार्डी (Thomas Hardy)
 - 3. ई.एम. फोरस्टर (EM Forster)
 - 4. चार्लोट ब्रॉन्टे (Charlotte Bronte)

Question ID : 65497830922
Status : Answered
Chosen Option : 4

Q.5 पोटैशियम का रासायनिक प्रतीक _____ है।

- Ans
- 1. P
 - 2. Ca
 - 3. K
 - 4. Li

Question ID : 65497830919
Status : Answered
Chosen Option : 3

Q.6 पाकिस्तान का कौन-सा शहर हाथ से बुने हुए फुटबॉल के निर्माण में विश्व में अग्रणी है?

- Ans
- 1. इस्लामाबाद
 - 2. मुल्तान
 - 3. सियालकोट
 - 4. कराची

Question ID : 65497830926
Status : Not Answered
Chosen Option : --

Q.7 वैदिक कालीन 'चतुराश्रम' व्यवस्था के अनुसार, पारिवारिक अवधि के लिए निम्न में से किस पद का प्रावधान किया गया है?

- Ans
- 1. संन्यास
 - 2. ब्रह्मचर्य
 - 3. वानप्रस्थ
 - 4. गृहस्थ

Question ID : 65497830908
Status : Answered
Chosen Option : 1

Q.8 अपने वर्धन-काल के दौरान मूंगाफली की खेती के लिए कितनी न्यूनतम वर्षा आवश्यक होती है?

- Ans
- 1. 50 - 125 cm
 - 2. 20 - 40 cm
 - 3. 130 - 155 cm
 - 4. 30 - 45 cm

Question ID : 65497830904
Status : Answered
Chosen Option : 4

Q.9 सिख धर्म के छठे गुरु निम्नलिखित में से कौन हुए थे?

- Ans
- 1. गुरु अर्जुन
 - 2. गुरु हरगोबिंद
 - 3. गुरु राम दास
 - 4. गुरु अंगद

Question ID : 65497830909
Status : Answered
Chosen Option : 2

Q.10 आदि कैलाश पर्वत _____ राज्य में स्थित है।

- Ans
- 1. हिमाचल प्रदेश
 - 2. अरुणाचल प्रदेश
 - 3. सिक्किम
 - 4. उत्तराखंड

Question ID : 65497830927
Status : Answered
Chosen Option : 4

Q.11 दिसंबर 2020 तक, पुरुष क्रिकेट में 60-ओवर, 50-ओवर और 20-ओवर के वर्ल्ड कप जीतने वाला एकमात्र देश कौन सा है?

- Ans
- 1. वेस्ट इंडीज
 - 2. भारत
 - 3. ऑस्ट्रेलिया
 - 4. इंग्लैंड

Question ID : 65497830907
Status : Answered
Chosen Option : 3

Q.12 निम्नलिखित में से किसने 2020 में साहित्य के लिए नोबेल पुरस्कार प्राप्त किया है?

- Ans
- 1. लुईस ग्लूक (Louise Glück)
 - 2. काजुओ इशिगुरो (Kazuo Ishiguro)
 - 3. पीटर हैंडके (Peter Handke)
 - 4. ओल्गा टोकरियुकुक (Olga Tokarczuk)

Question ID : 65497830915
Status : Answered
Chosen Option : 1

Q.13 उत्पादन लागत (factor cost) पर भारत की जीडीपी (GDP) की गणना करते समय, केंद्रीय सांख्यिकी कार्यालय कितने विभिन्न उद्योगों के प्रदर्शन का आकलन करता है?

- Ans
- 1. 4
 - 2. 6
 - 3. 8
 - 4. 10

Question ID : 65497830905
Status : Not Answered
Chosen Option : --

Q.14 चैतन्य, जिन्हें श्री गौरांग के नाम से भी जाना जाता है, _____ के एक लोकप्रिय वैष्णव संत और सुधारक थे।

- Ans
- 1. श्रृंगेरी
 - 2. पंढरपुर
 - 3. मदुरै
 - 4. नादिया

Question ID : 65497830921
Status : Answered
Chosen Option : 1

Q.15 निम्नलिखित में से कौन एक पेशेवर बैडमिंटन खिलाड़ी नहीं है?

- Ans
- 1. साइना नेहवाल
 - 2. श्रीकांत किदांबी
 - 3. सानिया मिर्ज़ा
 - 4. पी.वी. सिंधु

Question ID : 65497830916
Status : Answered
Chosen Option : 3

Q.16 स्वच्छ सर्वेक्षण 2020 के अनुसार, इनमें से सबसे स्वच्छ शहर कौन सा है?

- Ans 1. जालंधर
 2. नई दिल्ली
 3. वाराणसी
 4. राँची

Question ID : 65497830923
Status : Answered
Chosen Option : 4

Q.17 दिल्ली, मुंबई, चेन्नई और कोलकाता के चार प्रमुख शहरों को जोड़ने वाला स्वर्णिम चतुर्भुज _____ परियोजना का हिस्सा है।

- Ans 1. शुभमाला
 2. भारतमाला
 3. सागरमाला
 4. दीपमाला

Question ID : 65497830913
Status : Answered
Chosen Option : 2

Q.18 ओलंपिक खेलों के प्रतीक में छल्लों के पांच रंग लाल, नीला, हरा, पीला और _____ हैं।

- Ans 1. नारंगी
 2. स्लेटी
 3. काला
 4. भूरा

Question ID : 65497830928
Status : Answered
Chosen Option : 1

Q.19 पृथ्वी शिखर सम्मेलन 1992 के एजेंडा 21 में, 21 का क्या अर्थ है?

- Ans 1. 21 महीने
 2. 21 आधिकारिक वार्ताएं
 3. 21वीं सदी
 4. 21 राष्ट्र

Question ID : 65497830918
Status : Answered
Chosen Option : 3

Q.20 भारत की संविधान सभा द्वारा राष्ट्रगान को निम्नलिखित में से किस वर्ष अपनाया गया?

- Ans 1. 1949
 2. 1947
 3. 1950
 4. 1952

Question ID : 65497830910
Status : Answered
Chosen Option : 3

Q.21 धौलागिरि _____ में स्थित हिमालय की एक पर्वत चोटी है।

- Ans
- 1. कुमाऊं
 - 2. भूटान
 - 3. गढ़वाल
 - 4. नेपाल

Question ID : 65497830914
Status : Answered
Chosen Option : 1

Q.22 _____ में संपन्न हुआ कांग्रेस का अधिवेशन किसी पिछड़े ग्रामीण क्षेत्र में आयोजित होने वाला पहला अधिवेशन था?

- Ans
- 1. रामपुर
 - 2. पुत्राग्रा
 - 3. करुमादि
 - 4. फैज़पुर

Question ID : 65497830906
Status : Not Answered
Chosen Option : --

Q.23 वारली चित्रकला _____ के वारली जनजाति के लोगों द्वारा निर्मित आदिवासी कला की एक शैली है।

- Ans
- 1. बिहार
 - 2. केरला
 - 3. महाराष्ट्र
 - 4. असम

Question ID : 65497830917
Status : Answered
Chosen Option : 4

Q.24 निम्नलिखित में से सबसे अधिक परमाणु द्रव्यमान वाला तत्व कौन सा है?

- Ans
- 1. कैल्शियम
 - 2. मैग्नीशियम
 - 3. क्लोरीन
 - 4. सल्फर

Question ID : 65497830920
Status : Answered
Chosen Option : 3

Q.25 निम्नलिखित में से कौन सा शहर UNESCO (यूनेस्को) की विश्व विरासत सूची में सम्मिलित है?

- Ans
- 1. धर्मशाला
 - 2. कटक
 - 3. जयपुर
 - 4. भोपाल

Question ID : 65497830912
Status : Answered
Chosen Option : 2

Section : Part C Elementary Mathematics

Q.1 वह छोटी से छोटी संख्या कौन-सी है, जिसे 6, 8 और 10 से विभाजित करने पर शेषफल क्रमशः 4, 6 और 8 प्राप्त होता है?

- Ans
- 1. 120
 - 2. 118
 - 3. 122
 - 4. 58

Question ID : 65497830929
Status : Answered
Chosen Option : 2

Q.2 यदि 23, 26, y , $y + 4$ और $y + 7$ का औसत 30 है, तो y का मान कितना होगा?

- Ans
- 1. 35
 - 2. 30
 - 3. 25
 - 4. 32

Question ID : 65497830941
Status : Answered
Chosen Option : 2

Q.3 एक व्यक्ति ने एक अलमारी 4% की हानि पर ₹960 में बेची फिर उसने एक फोल्डिंग बेड 20% के लाभ पर ₹840 में बेचा। उसका लाभ या हानि ज्ञात करें।

- Ans
- 1. ₹100 लाभ
 - 2. ₹340 लाभ
 - 3. ₹120 हानि
 - 4. 100% हानि

Question ID : 65497830950
Status : Answered
Chosen Option : 1

Q.4 यदि ₹12,800 की धनराशि को 9% वार्षिक साधारण ब्याज दर पर 5 वर्षों के लिए निवेश किया जाता है, तो बैंक द्वारा लौटाया जाने वाला मिश्रधन कितना होगा?

- Ans
- 1. ₹18,560
 - 2. ₹5,760
 - 3. ₹18,650
 - 4. ₹19,694

Question ID : 65497830934
Status : Answered
Chosen Option : 1

Q.5 यदि पाँच वर्षों का साधारण ब्याज मूलधन के 35% के बराबर है, तो ब्याज की दर कितनी है?

- Ans
- 1. 8%
 - 2. 9%
 - 3. 7%
 - 4. 8.5%

Question ID : 65497830943
Status : Answered
Chosen Option : 3

Q.6 10% वार्षिक ब्याज दर पर 2 वर्षों के लिए निवेश की गई किसी निश्चित धनराशि पर प्राप्त साधारण ब्याज, ₹5000 की धनराशि पर 10% की दर से 2 वर्षों में प्राप्त चक्रवृद्धि ब्याज (जबकि ब्याज वार्षिक रूप में चक्रवृद्धि होता है) का आधा है। साधारण ब्याज पर निवेश की जाने वाली धनराशि कितनी है?

- Ans
- 1. ₹2,575
 - 2. ₹2,500
 - 3. ₹2,750
 - 4. ₹2,625

Question ID : 65497830952
Status : Answered
Chosen Option : 4

Q.7 यदि किसी घन का आयतन 175616 cm^3 है, तो इसकी भुजा की माप कितनी होगी?

- Ans
- 1. 36 cm
 - 2. 56 cm
 - 3. 66 cm
 - 4. 46 cm

Question ID : 65497830953
Status : Answered
Chosen Option : 3

Q.8 $\frac{43 + \frac{2}{7} \text{ of } 28 - 7}{(72 + 8 \times 2.5) - \frac{1}{8} \text{ of } (\frac{4}{3} - \frac{8}{9})}$ का मान कितना होगा?

- Ans
- 1. 1
 - 2. 2
 - 3. 5
 - 4. 20

Question ID : 65497830940
Status : Answered
Chosen Option : 2

Q.9 एक समूह में 30 लड़कियों का औसत भार 35 kg है। जब उस समूह में एक लड़की और आ जाती है, तो औसत भार 2 kg बढ़ जाता है। नई शामिल हुई लड़की का भार कितना है?

- Ans
- 1. 48 kg
 - 2. 97 kg
 - 3. 64 kg
 - 4. 79 kg

Question ID : 65497830945
Status : Answered
Chosen Option : 2

Q.10 $5 \div 10$ of $10 \times 4 + 4 \div 4$ of $4 \times 10 + (10 - 4) \div 16 \times 4$ का मान ज्ञात करें।

- Ans
- 1. $\frac{16}{5}$
 - 2. $\frac{11}{5}$
 - 3. $\frac{21}{5}$
 - 4. $\frac{18}{5}$

Question ID : 65497830935
Status : Answered
Chosen Option : 3

Q.11 4 cm, 5 cm और 6 cm की भुजाओं वाले एक घनाभ के प्रत्येक कोने से 1 cm भुजा वाले घन निकाले जाते हैं। शेष ठोस का आयतन कितना होगा?

- Ans
- 1. 112 cm^3
 - 2. 24 cm^3
 - 3. 114 cm^3
 - 4. 60 cm^3

Question ID : 65497830932
Status : Answered
Chosen Option : 3

Q.12 किसी बैग में ₹310 हैं, जिसमें 5 रुपये, 2 रुपये और 1 रुपये के सिक्कों का अनुपात 4 : 3 : 5 है। 5 रुपये के सिक्कों की संख्या कितनी है?

- Ans
- 1. 30
 - 2. 40
 - 3. 20
 - 4. 50

Question ID : 65497830951
Status : Answered
Chosen Option : 2

Q.13 A और B मिलकर एक निश्चित कार्य को 20 दिनों में पूरा कर सकते हैं, B और C मिलकर इसे 30 दिनों में पूरा कर सकते हैं तथा C और A मिलकर इसे 24 दिनों में पूरा कर सकते हैं। अकेले A उस कार्य का $\frac{7}{12}$ भाग कितने दिनों में पूरा करेगा?

- Ans
- 1. 30
 - 2. 20
 - 3. 48
 - 4. 80

Question ID : 65497830937
Status : Answered
Chosen Option : 2

Q.14 9, 21 और 123 का चतुर्थानुपाती ज्ञात करें।

- Ans
- 1. 728
 - 2. 278
 - 3. 287
 - 4. 246

Question ID : 65497830931
Status : Answered
Chosen Option : 3

Q.15 राम ने अंकित मूल्य पर 35% की छूट पर एक कुर्सी खरीदी। यदि राम को छूट नहीं मिली होती तो उसे कुर्सी का मूल्य ₹245 अधिक चुकाना पड़ता। राम ने कुर्सी खरीदने के लिए कितने रुपये का भुगतान किया?

- Ans
- 1. ₹375
 - 2. ₹400
 - 3. ₹425
 - 4. ₹455

Question ID : 65497830946
Status : Answered
Chosen Option : 4

Q.16 14, 28 और 42 से विभाज्य तीन अंकों की बड़ी से बड़ी संख्या कौन सी है?

- Ans
- 1. 934
 - 2. 924
 - 3. 964
 - 4. 942

Question ID : 65497830939
Status : Answered
Chosen Option : 2

Q.17 एक ट्रेन अपनी सामान्य चाल की $\frac{1}{4}$ चाल से चलने पर अपने गंतव्य तक 60 मिनट की देरी से पहुंचती है। वही दूरी तय करने में ट्रेन द्वारा लगने वाला सामान्य समय ज्ञात कीजिए।

- Ans
- 1. 20 मिनट
 - 2. 25 मिनट
 - 3. 10 मिनट
 - 4. 15 मिनट

Question ID : 65497830949
Status : Answered
Chosen Option : 4

Q.18 1 से 40 तक की संख्याओं में इकाई के स्थान पर 1 या 9 अंक वाली संख्याओं का प्रतिशत कितना है?

- Ans
- 1. 35.0
 - 2. 25.0
 - 3. 30.0
 - 4. 20.0

Question ID : 65497830947
Status : Answered
Chosen Option : 4

Q.19 A किसी प्रोजेक्ट को 10 दिन में और B उसी प्रोजेक्ट को 15 दिन में पूरा कर सकता है। A और B दोनों एक साथ मिलकर उस प्रोजेक्ट पर काम करना शुरू करते हैं लेकिन A प्रोजेक्ट पूरा होने के 5 दिन पहले उसे छोड़ देता है। अब प्रोजेक्ट को पूरा होने में कितने दिन का समय लगेगा?

- Ans
- 1. 9
 - 2. 10
 - 3. 7
 - 4. 5

Question ID : 65497830948
Status : Answered
Chosen Option : 1

Q.20 एक पंखे का अंकित मूल्य ₹1,780 है और इसे ₹1,655.40 में बेचा जाता है। दी गई प्रतिशत छूट कितनी है?

- Ans
- 1. 7%
 - 2. 6%
 - 3. 9%
 - 4. 5%

Question ID : 65497830938
Status : Answered
Chosen Option : 1

Q.21 एक कार की चाल, एक बस की चाल की $1\frac{1}{5}$ गुना है। एक ट्रेन 1200 km की दूरी 15 घंटे में तय करती है। यदि बस की चाल, ट्रेन की चाल की $1\frac{1}{4}$ गुना है, तो कार 7 घंटे में कितनी दूरी तय करेगी?

- Ans**
- 1. 840 km
 - 2. 820 km
 - 3. 860 km
 - 4. 720 km

Question ID : 65497830944
Status : Answered
Chosen Option : 1

Q.22 एक व्यक्ति ने ₹8,875 में एक ओवन बेचा और इस लेनदेन में उसे 25% का लाभ हुआ। यदि उसने इस ओवन को ₹6,937 में बेचा होता, तो उसका लाभ प्रतिशत या हानि प्रतिशत (दशमलव के दो स्थानों तक) कितना होता?

- Ans**
- 1. 2.29% की हानि
 - 2. 2.30% का लाभ
 - 3. 2.30% की हानि
 - 4. 2.29% का लाभ

Question ID : 65497830933
Status : Answered
Chosen Option : 3

Q.23 एक दुकानदार ने ₹21,000 प्रत्येक के मूल्य पर 6 टीवी सेट खरीदे और सभी को कुल मिलाकर ₹1,45,920 के मूल्य में बेच दिया। कुल लाभ या हानि प्रतिशत (दशमलव के दो स्थानों तक सही) क्या था?

- Ans**
- 1. 11.21% का लाभ
 - 2. 15.81% का लाभ
 - 3. 12.71% की हानि
 - 4. 21.19% की हानि

Question ID : 65497830936
Status : Answered
Chosen Option : 2

Q.24 एक परीक्षार्थी 25% अंक अर्जित करता है और 32 अंकों से अनुत्तीर्ण हो जाता है, जबकि एक अन्य परीक्षार्थी जो 40% अंक अर्जित करता है, वह परीक्षा उत्तीर्ण करने के लिए आवश्यक न्यूनतम अंकों से 28 अंक अधिक अर्जित करता है। 72% अंक अर्जित करने वाले परीक्षार्थी ने कितने अंक प्राप्त किए?

- Ans**
- 1. 400
 - 2. 132
 - 3. 288
 - 4. 204

Question ID : 65497830930
Status : Answered
Chosen Option : 3

Q.25 तीन संख्याएं A, B और C क्रमशः 4 : 5 : 8 के अनुपात में हैं। यदि प्रत्येक संख्या में क्रमशः 15%, 24% और 35% की वृद्धि की जाती है, तो इन संख्याओं का नया अनुपात क्या होगा?

- Ans
- 1. 23 : 33 : 54
 - 2. 23 : 31 : 44
 - 3. 23 : 31 : 54
 - 4. 21 : 31 : 54

Question ID : 65497830942
Status : Answered
Chosen Option : 3

Section : Part D English

Q.1 Select the most appropriate ANTONYM of the given word.

Discreet

- Ans
- 1. Tactless
 - 2. Prudent
 - 3. Proud
 - 4. Reserved

Question ID : 65497830968
Status : Not Answered
Chosen Option : --

Q.2 Select the most appropriate option to fill in the blank.

Retail sales of consumer goods and automobiles witnessed a sharp spike during the _____ season.

- Ans
- 1. concert
 - 2. celebrated
 - 3. festive
 - 4. gala

Question ID : 65497830967
Status : Not Answered
Chosen Option : --

Q.3 Select the option that can be used as a one-word substitute for the given group of words.

Not having knowledge or experience of a particular subject or activity

- Ans
- 1. Expert
 - 2. Uninitiated
 - 3. Familiar
 - 4. Unknown

Question ID : 65497830964
Status : Not Answered
Chosen Option : --

Q.4 Select the most appropriate option that can substitute the underlined word in the given sentence.

As a boy, Ravidas used to be very outspoken and avoided all company.

- Ans 1. timid
 2. bold
 3. vulnerable
 4. dashing

Question ID : 65497830958
Status : Not Answered
Chosen Option : --

Q.5 Select the most appropriate synonym of the given word.

Mayhem

- Ans 1. Rebel
 2. Chaos
 3. Order
 4. Plunder

Question ID : 65497830971
Status : Not Answered
Chosen Option : --

Q.6 Select the option that can be used as a one-word substitute for the given group of words.

A game that no one wins

- Ans 1. Draw
 2. Match
 3. Sport
 4. Pastime

Question ID : 65497830961
Status : Not Answered
Chosen Option : --

Q.7 Select the most appropriate ANTONYM of the given word.

Dull

- Ans 1. Simple
 2. Unintelligent
 3. Exciting
 4. Disagreeable

Question ID : 65497830963
Status : Not Answered
Chosen Option : --

Q.8 Select the INCORRECTLY spelt word.

- Ans 1. Believe
 2. Existence
 3. Garantee
 4. Consensus

Question ID : 65497830966
Status : Not Answered
Chosen Option : --

Q.9 Select the INCORRECTLY spelt word.

- Ans 1. Embarass
 2. Harassment
 3. Suppress
 4. Witness

Question ID : 65497830965
Status : Not Answered
Chosen Option : --

Q.10 Select the most appropriate option to fill in the blank.

Permanent tissues are derived from meristematic tissues once they lose their _____ to divide.

- Ans 1. intellectuality
 2. sentimentality
 3. ability
 4. confidentially

Question ID : 65497830957
Status : Not Answered
Chosen Option : --

Q.11 The following sentence has been divided into parts. One of them may contain an error. Select the part that contains the error from the given options. If you don't find any error, select 'No error' as your answer.

John and I likes / to go fishing / in the evenings.

- Ans 1. to go fishing
 2. No error
 3. in the evenings
 4. John and I likes

Question ID : 65497830954
Status : Not Answered
Chosen Option : --

Q.12 Select the most appropriate meaning of the given idiom.

Under the weather

- Ans 1. Able to face the cold
 2. Ready to go out
 3. Slightly ill
 4. Extremely active

Question ID : 65497830960
Status : Not Answered
Chosen Option : --

Q.13 Select the most appropriate option that can substitute the underlined word in the given sentence.

My teacher described an interesting slaughter she had with one of her students.

- Ans
- 1. volunteer
 - 2. encounter
 - 3. harbinger
 - 4. plunder

Question ID : 65497830959
Status : Not Answered
Chosen Option : --

Q.14 Parts of the given sentence have been given as options. One of them contains a grammatical error. Select the option that has the error.

Please stay back for Sunnys first birthday celebration at Taj West End.

- Ans
- 1. first birthday celebration
 - 2. at Taj West End
 - 3. Sunnys
 - 4. stay back

Question ID : 65497830970
Status : Not Answered
Chosen Option : --

Q.15 Select the option that can be used as a one-word substitute for the given group of words.

The state of being married

- Ans
- 1. Matrilineal
 - 2. Matriarchy
 - 3. Material
 - 4. Matrimony

Question ID : 65497830972
Status : Not Answered
Chosen Option : --

Q.16 Select the most appropriate option to fill in the blank.

I would _____ you to do yoga daily for at least 10 minutes.

- Ans
- 1. order
 - 2. share
 - 3. convey
 - 4. advise

Question ID : 65497830969
Status : Not Answered
Chosen Option : --

Q.17 Select the most appropriate synonym of the given word.

Confine

- Ans 1. Restrict
 2. Allow
 3. Open
 4. Ignore

Question ID : 65497830955
Status : Not Answered
Chosen Option : --

Q.18 The following sentence has been split into four segments. Identify the segment that contains a grammatical error.

The players have admitted / to have done / a month's rigorous training / before the match.

- Ans 1. a month's rigorous training
 2. The players have admitted
 3. before the match
 4. to have done

Question ID : 65497830962
Status : Not Answered
Chosen Option : --

Q.19 Select the most appropriate option that can substitute the underlined segment in the given sentence. If there is no need to substitute it, select 'No substitution required'.

I haven't found a job yet but I am going to keep trying.

- Ans 1. keep on the trying
 2. keep to trying
 3. No substitution required
 4. keep up trying

Question ID : 65497830973
Status : Not Answered
Chosen Option : --

Q.20 Select the most appropriate meaning of the given idiom.

Once and for all

- Ans 1. Rarely
 2. Gradually
 3. Immediately
 4. Finally

Question ID : 65497830956
Status : Not Answered
Chosen Option : --

Comprehension:

In the following passage, some words have been deleted. Read the passage carefully and select the most appropriate option to fill in each blank.

India remains one of the most ethnically diverse countries in the world. (1)_____ from its many religions and sects, India (2)_____ home to innumerable castes and tribes, as well (3)_____ to more than a dozen major and (4)_____ of minor linguistic groups from (5)_____ language families unrelated to one another.

SubQuestion No : 21

Q.21 Select the most appropriate option to fill in blank no. 1.

- Ans 1. Separate
 2. Together
 3. Outside
 4. Apart

Question ID : 65497830975
Status : Not Answered
Chosen Option : --

Comprehension:

In the following passage, some words have been deleted. Read the passage carefully and select the most appropriate option to fill in each blank.

India remains one of the most ethnically diverse countries in the world. (1)_____ from its many religions and sects, India (2)_____ home to innumerable castes and tribes, as well (3)_____ to more than a dozen major and (4)_____ of minor linguistic groups from (5)_____ language families unrelated to one another.

SubQuestion No : 22

Q.22 Select the most appropriate option to fill in blank no. 2.

- Ans 1. is
 2. be
 3. were
 4. am

Question ID : 65497830976
Status : Not Answered
Chosen Option : --

Comprehension:

In the following passage, some words have been deleted. Read the passage carefully and select the most appropriate option to fill in each blank.

India remains one of the most ethnically diverse countries in the world. (1)_____ from its many religions and sects, India (2)_____ home to innumerable castes and tribes, as well (3)_____ to more than a dozen major and (4)_____ of minor linguistic groups from (5)_____ language families unrelated to one another.

SubQuestion No : 23

Q.23 Select the most appropriate option to fill in blank no. 3.

- Ans 1. so
 2. as
 3. by
 4. with

Question ID : 65497830977
Status : Not Answered
Chosen Option : --

Comprehension:

In the following passage, some words have been deleted. Read the passage carefully and select the most appropriate option to fill in each blank.

India remains one of the most ethnically diverse countries in the world. (1)_____ from its many religions and sects, India (2)_____ home to innumerable castes and tribes, as well (3)_____ to more than a dozen major and (4)_____ of minor linguistic groups from (5)_____ language families unrelated to one another.

SubQuestion No : 24

Q.24 Select the most appropriate option to fill in blank no. 4.

- Ans** 1. hundreds
 2. ample
 3. sufficient
 4. loads

Question ID : 65497830978
Status : Not Answered
Chosen Option : --

Comprehension:

In the following passage, some words have been deleted. Read the passage carefully and select the most appropriate option to fill in each blank.

India remains one of the most ethnically diverse countries in the world. (1)_____ from its many religions and sects, India (2)_____ home to innumerable castes and tribes, as well (3)_____ to more than a dozen major and (4)_____ of minor linguistic groups from (5)_____ language families unrelated to one another.

SubQuestion No : 25

Q.25 Select the most appropriate option to fill in blank no. 5.

- Ans** 1. abundant
 2. quite
 3. moderate
 4. several

Question ID : 65497830979
Status : Not Answered
Chosen Option : --

Section : Part D Hindi

Q.1 सही वर्तनी वाले शब्द का चयन करें।

- Ans** 1. अर्धवार्षिक
 2. अर्धवार्षिक
 3. अर्धवारषिक
 4. अरधवार्षिक

Question ID : 65497830993
Status : Answered
Chosen Option : 2

Q.2 दिए गए वाक्य का वो भाग ज्ञात करें जिसमें कोई त्रुटि है। यदि कोई त्रुटि नहीं है, तो 'कोई त्रुटि नहीं है' चुनें।

शिकारी ने (1) भूख से मचलते हुए (2) हिरण को छोड़ दिया। (3) कोई त्रुटि नहीं है (4)

- Ans
- 1. 4
 - 2. 3
 - 3. 2
 - 4. 1

Question ID : 65497830985
Status : Answered
Chosen Option : 1

Q.3 'आँख खुलना' मुहावरे का अर्थ बताइए-

- Ans
- 1. सोकर उठना
 - 2. क्रोध आना
 - 3. सावधान होना
 - 4. जानकार होना

Question ID : 65497830988
Status : Answered
Chosen Option : 3

Q.4 दिए गए वाक्य में रेखांकित खंड को प्रतिस्थापित करने के लिए सबसे उपयुक्त विकल्प का चयन करें। यदि इसे प्रतिस्थापित करने की आवश्यकता नहीं है, तो विकल्प 'किसी बदलाव की आवश्यकता नहीं है' का चयन करें।

हवा का हल्का-सा झोंका आया।

- Ans
- 1. झापटा
 - 2. किसी बदलाव की आवश्यकता नहीं है।
 - 3. ढोका
 - 4. धोका

Question ID : 65497830998
Status : Answered
Chosen Option : 2

Q.5 दिए गए शब्द के विलोम शब्द का चयन करें।

कर्कश

- Ans
- 1. कटु
 - 2. मधुर
 - 3. मधुप
 - 4. कड़वा

Question ID : 65497830986
Status : Answered
Chosen Option : 2

Q.6 दिए गए वाक्य का वह भाग ज्ञात करें जिसमें कोई त्रुटि है। यदि कोई त्रुटि नहीं है, तो 'कोई त्रुटि नहीं है' चुनें।

मैंने तुम्हें (1)/ अनेकों बार (2)/ कहा है (3)/ कोई त्रुटि नहीं है (4)

- Ans
- 1. 1
 - 2. 4
 - 3. 2
 - 4. 3

Question ID : 65497830995
Status : Answered
Chosen Option : 3

Q.7 राज्य के प्रति द्रोह करनेवाला - वाक्यांश के लिए एक शब्द चुनिए।

- Ans
- 1. शहीद
 - 2. राष्ट्रप्रेमी
 - 3. राजद्रोही
 - 4. राज्य

Question ID : 65497830980
Status : Answered
Chosen Option : 3

Q.8 रिक्त स्थान की पूर्ति के लिए सबसे उपयुक्त शब्द का चयन कीजिए।

भारतीय संस्कृति को मैंने _____ में देखा।

- Ans
- 1. नगरों-नगरों
 - 2. गलियों-गलियों
 - 3. गाँवों-गाँवों
 - 4. गाँव-गाँव

Question ID : 65497830981
Status : Answered
Chosen Option : 3

Q.9 दिए गये वाक्यांश के लिए एक शब्द दीजिये।

जिसकी गिनती न की जा सके

- Ans
- 1. अकर्मणीय
 - 2. अगणनीय
 - 3. अगङ्नीय
 - 4. अकरणीय

Question ID : 65497830987
Status : Answered
Chosen Option : 2

Q.10 'जिसकी तुलना न की जा सके' वाक्यांश के लिए एक शब्द होगा-

- Ans
- 1. अतुलनीय
 - 2. तुलनीय
 - 3. अनुपम
 - 4. अन्यमनस्क

Question ID : 65497830999
Status : Answered
Chosen Option : 1

Q.11 दिए गए शब्द के समानार्थी शब्द का चयन करें।

आँसू

- Ans
- 1. व्यादा
 - 2. जुल्फ
 - 3. नीर
 - 4. अश्रु

Question ID : 65497830984
Status : Answered
Chosen Option : 3

Q.12 दिए गए वाक्य का वह भाग ज्ञात करें जिसमें कोई त्रुटि है। यदि कोई त्रुटि नहीं है, तो 'कोई त्रुटि नहीं है' विकल्प को चुनें।

सुषमा घी से रोटी बनाई।

- Ans
- 1. घी से
 - 2. सुषमा
 - 3. रोटी बनाई
 - 4. कोई त्रुटि नहीं

Question ID : 65497830983
Status : Answered
Chosen Option : 4

Q.13 दिए गए वाक्य में रेखांकित खंड को प्रतिस्थापित करने के लिए सबसे उपयुक्त विकल्प का चयन करें। यदि इसे प्रतिस्थापित करने की आवश्यकता नहीं है, तो विकल्प 'किसी बदलाव की आवश्यकता नहीं है' का चयन करें।

भोजन करके हमने यात्रा प्रारंभ किया।

- Ans
- 1. प्रारंभ की
 - 2. प्रारंभ किए
 - 3. किसी बदलाव की आवश्यकता नहीं है।
 - 4. प्रारंभ किया

Question ID : 65497830982
Status : Answered
Chosen Option : 1

Q.14 रिक्त स्थान की पूर्ति के लिए सबसे उपयुक्त शब्द का चयन करें-

_____ तुम निर्भय हो उतने ही ईमानदार भी हो।

- Ans
- 1. कितने
 - 2. वैसे
 - 3. जैसे
 - 4. जितने

Question ID : 65497830989
Status : Answered
Chosen Option : 4

Q.15 दिए गए शब्द के समानार्थी शब्द का चयन करें।

राजा

- Ans 1. नृप
 2. वृन्द
 3. विप्र
 4. यति

Question ID : 65497830996
Status : Answered
Chosen Option : 1

Q.16 दिए गए वाक्य में रेखांकित खंड को प्रतिस्थापित करने के लिए सबसे उपयुक्त विकल्प का चयन करें।
यदि इसे प्रतिस्थापित करने की आवश्यकता नहीं है, तो विकल्प 'किसी बदलाव की आवश्यकता नहीं है'
का चयन करें।

कामिनी को अपने माता-पिता के वचनों के ऊपर श्रद्धा थी।

- Ans 1. वचन के ऊपर
 2. किसी बदलाव की आवश्यकता नहीं है।
 3. वचनों पर
 4. वचन ऊपर

Question ID : 65497830994
Status : Answered
Chosen Option : 3

Q.17 सही वर्तनी वाले शब्द का चयन करें।

- Ans 1. अविस्मरणीय
 2. अविस्मरणिय
 3. अविस्मरणीय
 4. अविस्मर्णीय

Question ID : 65497830992
Status : Answered
Chosen Option : 3

Q.18 नीचे दिए वाक्य में रिक्त-स्थान की पूर्ति के लिए सबसे उपयुक्त शब्द का चयन करें।

पत्ता _____ है तो भी कुत्ते भौंकते हैं।

- Ans 1. फड़फड़ाता
 2. फड़कता
 3. खड़कता
 4. सरकता

Question ID : 65497830997
Status : Answered
Chosen Option : 1

Q.19 उस विकल्प का चयन करें जो नीचे दिए गये मुहावरे का अर्थ व्यक्त करता है-

जी को रोग लगाना

- Ans
- 1. उम्मीद न रहना
 - 2. रंज होना
 - 3. फिक्र में रहना
 - 4. दिल घबराना

Question ID : 65497830991

Status : Not Answered

Chosen Option : --

Q.20 विकल्पों में से कौन सा निम्न शब्द का विलोम नहीं है-

कल्पित

- Ans
- 1. यथार्थ
 - 2. अयथार्थ
 - 3. वास्तविक
 - 4. अकल्पित

Question ID : 65497830990

Status : Answered

Chosen Option : 1

Comprehension:

नीचे दिए गए गद्यांश में से कुछ शब्द हटा दिए गए हैं। संबंधित प्रश्नों में प्रत्येक संख्या के लिए सबसे उपयुक्त विकल्प का चयन करें।

स्वतंत्रता का इतिहास बलिदानों का इतिहास है। हमें (1) _____ भीख में नहीं मिली। उसे पाने के लिए (2) _____ संघर्ष करना पड़ा। कितने ही युवकों को प्राणों की बलि देनी पड़ी। सन् 1857 में (3) _____ स्वतंत्रता संग्राम हुआ। उसमें लक्ष्मीबाई, तात्याटोपे, बहादुर शाह ज़फर जैसे अनेक (4) _____ ने बलिदान दिया। उस संघर्ष के बाद अंग्रेजों ने भारत पर खूब अत्याचार किए। कुछ सालों तक संघर्ष रूक गया। किंतु आज़ादी की (5) _____ सुलगती रही।

SubQuestion No : 21

Q.21 गद्यांश के रिक्त स्थान (1) के लिए सर्वाधिक उपयुक्त शब्द होगा-

- Ans
- 1. लोकतंत्र
 - 2. स्वतंत्रता
 - 3. राजतंत्र
 - 4. परतंत्रता

Question ID : 65497831001

Status : Answered

Chosen Option : 1

Comprehension:

नीचे दिए गए गद्यांश में से कुछ शब्द हटा दिए गए हैं। संबंधित प्रश्नों में प्रत्येक संख्या के लिए सबसे उपयुक्त विकल्प का चयन करें।

स्वतंत्रता का इतिहास बलिदानों का इतिहास है। हमें (1) _____ भीख में नहीं मिली। उसे पाने के लिए (2) _____ संघर्ष करना पड़ा। कितने ही युवकों को प्राणों की बलि देनी पड़ी। सन् 1857 में (3) _____ स्वतंत्रता संग्राम हुआ। उसमें लक्ष्मीबाई, तात्याटोपे, बहादुर शाह ज़फर जैसे अनेक (4) _____ ने बलिदान दिया। उस संघर्ष के बाद अंग्रेजों ने भारत पर खूब अत्याचार किए। कुछ सालों तक संघर्ष रूक गया। किंतु आज़ादी की (5) _____ सुलगती रही।

SubQuestion No : 22

Q.22 गद्यांश के रिक्त स्थान (2) के लिए सर्वाधिक उपयुक्त शब्द होगा-

- Ans**
- 1. असामान्य
 - 2. आसान
 - 3. कठिन
 - 4. साधारण

Question ID : 65497831002

Status : Answered

Chosen Option : 3

Comprehension:

नीचे दिए गए गद्यांश में से कुछ शब्द हटा दिए गए हैं। संबंधित प्रश्नों में प्रत्येक संख्या के लिए सबसे उपयुक्त विकल्प का चयन करें।

स्वतंत्रता का इतिहास बलिदानों का इतिहास है। हमें (1) _____ भीख में नहीं मिली। उसे पाने के लिए (2) _____ संघर्ष करना पड़ा। कितने ही युवकों को प्राणों की बलि देनी पड़ी। सन् 1857 में (3) _____ स्वतंत्रता संग्राम हुआ। उसमें लक्ष्मीबाई, तात्याटोपे, बहादुर शाह ज़फर जैसे अनेक (4) _____ ने बलिदान दिया। उस संघर्ष के बाद अंग्रेजों ने भारत पर खूब अत्याचार किए। कुछ सालों तक संघर्ष रूक गया। किंतु आज़ादी की (5) _____ सुलगती रही।

SubQuestion No : 23

Q.23 गद्यांश के रिक्त स्थान (3) के लिए सर्वाधिक उपयुक्त शब्द होगा-

- Ans**
- 1. प्रथम
 - 2. तृतीय
 - 3. चतुर्थ
 - 4. द्वितीय

Question ID : 65497831003

Status : Answered

Chosen Option : 1

Comprehension:

नीचे दिए गए गद्यांश में से कुछ शब्द हटा दिए गए हैं। संबंधित प्रश्नों में प्रत्येक संख्या के लिए सबसे उपयुक्त विकल्प का चयन करें।

स्वतंत्रता का इतिहास बलिदानों का इतिहास है। हमें (1) _____ भीख में नहीं मिली। उसे पाने के लिए (2) _____ संघर्ष करना पड़ा। कितने ही युवकों को प्राणों की बलि देनी पड़ी। सन् 1857 में (3) _____ स्वतंत्रता संग्राम हुआ। उसमें लक्ष्मीबाई, तात्याटोपे, बहादुर शाह ज़फर जैसे अनेक (4) _____ ने बलिदान दिया। उस संघर्ष के बाद अंग्रेजों ने भारत पर खूब अत्याचार किए। कुछ सालों तक संघर्ष रूक गया। किंतु आज़ादी की (5) _____ सुलगती रही।

SubQuestion No : 24

Q.24 गद्यांश के रिक्त स्थान (4) के लिए सर्वाधिक उपयुक्त शब्द होगा-

- Ans**
- 1. सैनिकों
 - 2. सेनानियों
 - 3. बहादुरों
 - 4. दीवानों

Question ID : 65497831004

Status : Answered

Chosen Option : 2

Comprehension:

नीचे दिए गए गद्यांश में से कुछ शब्द हटा दिए गए हैं। संबंधित प्रश्नों में प्रत्येक संख्या के लिए सबसे उपयुक्त विकल्प का चयन करें।

स्वतंत्रता का इतिहास बलिदानों का इतिहास है। हमें (1) _____ भीख में नहीं मिली। उसे पाने के लिए (2) _____ संघर्ष करना पड़ा। कितने ही युवकों को प्राणों की बलि देनी पड़ी। सन् 1857 में (3) _____ स्वतंत्रता संग्राम हुआ। उसमें लक्ष्मीबाई, तात्याटोपे, बहादुर शाह ज़फर जैसे अनेक (4) _____ ने बलिदान दिया। उस संघर्ष के बाद अंग्रेजों ने भारत पर खूब अत्याचार किए। कुछ सालों तक संघर्ष रूक गया। किंतु आज़ादी की (5) _____ सुलगती रही।

SubQuestion No : 25

Q.25 गद्यांश के रिक्त स्थान (5) के लिए सर्वाधिक उपयुक्त शब्द होगा-

- Ans**
- 1. लपट
 - 2. वायु
 - 3. चिनगारी
 - 4. लकड़ी

Question ID : 65497831005

Status : Answered

Chosen Option : 3