

Constable GD in CAPFs NIA SSF and Rifleman GD in Assam Rifles Examination 2021

Roll Number	www.GovtJobsAlert.In
Candidate Name	www.GovtJobsAlert.In
Venue Name	iON Digital Zone iDZ Dholi Magri
Exam Date	03/12/2021
Exam Time :	4:00 PM - 5:30 PM
Subject	Constable GD 2021

Section : Part A General Intelligence and Reasoning

Q.1 किसी निश्चित कोड भाषा में, 'PERHAPS' को 'SPAHREP' के रूप में लिखा जाता है। उसी भाषा में 'CHEWING' को किस तरह लिखा जाएगा?

Ans 1. GNIWEHC

2. ECHNIGW

3. GNIEHWC

4. HGWENIC

Question ID : 65497828974

Status : Answered

Chosen Option : 1

Q.2 उस विकल्प का चयन करें, जिसमें संख्याएं एक-दूसरे से उसी तरह से संबंधित हैं जैसे दिए गए समुच्चय में संख्याएं एक-दूसरे से संबंधित हैं।

(13, 224, 15)

Ans 1. (22, 350, 16)

2. (19, 274, 15)

3. (9, 108, 12)

4. (17, 396, 21)

Question ID : 65497828976

Status : Answered

Chosen Option : 4

Q.3 दिए गए कथनों और निष्कर्षों को ध्यानपूर्वक पढ़ें। कथनों में दी गई जानकारी को सत्य मानते हुए, भले ही वो सामान्य रूप से ज्ञात तथ्यों से भिन्न प्रतीत होती हो, बताइए कि निम्न में से कौन से निष्कर्ष कथनों का तार्किक रूप से अनुसरण करते हैं।

कथन:

1. कोई भी स्पीकर, फोन नहीं है।
2. सभी तार, फोन हैं।

निष्कर्ष:

- I. कुछ फोन, तार हैं।
- II. कोई भी तार, स्पीकर नहीं है।
- III. कोई भी फोन, स्पीकर नहीं है।

- Ans
- 1. केवल निष्कर्ष I और II अनुसरण करते हैं।
 - 2. केवल निष्कर्ष I अनुसरण करता है।
 - 3. केवल निष्कर्ष II और III अनुसरण करते हैं।
 - 4. सभी निष्कर्ष अनुसरण करते हैं।

Question ID : 65497828975
Status : Answered
Chosen Option : 4

Q.4 चार अक्षर-समूह दिए गए हैं, जिनमें से तीन किसी तरह से संगत हैं और एक असंगत है। उस अक्षर-समूह का चयन करें, जो अन्य से असंगत है।

- Ans
- 1. TYD
 - 2. RVB
 - 3. NSX
 - 4. GLQ

Question ID : 65497828995
Status : Answered
Chosen Option : 2

Q.5 विकल्पों में से उस संख्या का चयन कीजिए जो नीचे दी गई श्रृंखला में प्रश्न चिह्न (?) के स्थान पर आ सकती है।

4, 16, 64, 256, ?

- Ans
- 1. 512
 - 2. 252
 - 3. 320
 - 4. 1024

Question ID : 65497828988
Status : Answered
Chosen Option : 4

Q.6 उस अक्षर संयोजन का चयन करें जिसे दी गई श्रृंखला के रिक्त स्थानों में क्रमिक रूप से रखे जाने पर श्रृंखला पूर्ण हो जाएगी।

BCD_B_DDBC_D_CDD

- Ans
- 1. BCBB
 - 2. CBDB
 - 3. DCDB
 - 4. CCDB

Question ID : 65497828987
Status : Answered
Chosen Option : 3

Q.7 दिए गए विकल्पों में से उस संख्या का चयन कीजिए, जो निम्नलिखित श्रेणी में प्रश्नवाचक चिन्ह (?) के स्थान पर आ सकती है।

13, 29, 62, 129, 264, ?

- Ans
- 1. 535
 - 2. 395
 - 3. 470
 - 4. 505

Question ID : 65497828997
Status : Answered
Chosen Option : 1

Q.8 उस विकल्प का चयन करें, जो दी गई आकृति में अंतर्निहित नहीं है (आकृति को घुमाने की अनुमति नहीं है)।



- Ans
- 1.
 - 2.
 - 3.
 - 4.

Question ID : 65497828994
Status : Answered
Chosen Option : 3

Q.9 पंकज, अल्पेश, श्रीकुमार, दिनेश, नीरज और मनिंदर छः अलग-अलग पंक्तियों में एक के बाद एक के क्रम में बैठे हुए हैं। पंकज, अल्पेश से ठीक आगे वाली पंक्ति में बैठा है। दिनेश अंतिम पंक्ति में बैठा है। अल्पेश वाली पंक्ति से पहले चार पंक्तियां हैं। श्रीकुमार, नीरज के ठीक बाद वाली पंक्ति में है। मनिंदर पहली पंक्ति में नहीं है। मनिंदर के ठीक बाद वाली पंक्ति में कौन बैठा है?

- Ans
- 1. पंकज
 - 2. दिनेश
 - 3. नीरज
 - 4. अल्पेश

Question ID : 65497828983
Status : Answered
Chosen Option : 4

Q.10 दिए गए संयोजन के सही दर्पण प्रतिबिंब का चयन कीजिए, जबकि दर्पण को इसकी दाईं ओर रखा गया है।

X G f q 5 K

- Ans
- 1. K 9 p f Ɔ X
 - 2. K Ɔ p f Ɔ X
 - 3. K Ɔ b f Ɔ X
 - 4. K Ɔ p f Ɔ X

Question ID : 65497828998
Status : Answered
Chosen Option : 2

Q.11 एक निश्चित कूट भाषा में, ULTRA को 422440362 लिखा जाता है। उसी कूट भाषा में FUMING को किस प्रकार लिखा जाएगा?

- Ans
- 1. 122126181407
 - 2. 124026162814
 - 3. 144226182816
 - 4. 124226182814

Question ID : 65497828996
Status : Answered
Chosen Option : 4

Q.12 पीपूष ₹450 प्रति कंबल की दर से 4 कंबल खरीदता है। वह इन 4 कंबलों को गोपी को बेच देता है और अपने निवेश पर 12% का लाभ कमाता है। गोपी भी सभी 4 कंबल प्रीतम को बेच देता है और 15% का लाभ कमाता है। प्रीतम ने एक कंबल किस मूल्य पर खरीदा था?

- Ans
- 1. ₹602.40
 - 2. ₹579.60
 - 3. ₹622.50
 - 4. ₹529.60

Question ID : 65497828977
Status : Answered
Chosen Option : 2

Q.13 दिए गए विकल्पों में से उस अक्षर-समूह का चयन कीजिए जो निम्न श्रृंखला में प्रश्न चिह्न (?) के स्थान पर आ सकता है।

PHMT, OGNU, NFOV, MEPW, ?

Ans 1. LDQX

2. NGQX

3. NVKD

4. LDRY

Question ID : 65497828979

Status : Answered

Chosen Option : 1

Q.14 उस विकल्प का चयन कीजिए, जिसका चौथी संख्या से वही संबंध है, जो पहली संख्या का दूसरी संख्या से है और पांचवीं संख्या का छठी संख्या से है।

50 : 9 :: ? : 14 :: 82 : 11

Ans 1. 145

2. 172

3. 126

4. 160

Question ID : 65497828991

Status : Answered

Chosen Option : 4

Q.15 उस विकल्प का चयन कीजिए जिसमें निम्न शब्दों के अंग्रेजी शब्दकोश के वर्णानुक्रम को दर्शाया गया है।

1. Hitch
2. Home
3. Hire
4. Hippo

Ans 1. 4, 3, 2, 1

2. 4, 3, 1, 2

3. 1, 2, 3, 4

4. 1, 3, 2, 4

Question ID : 65497828986

Status : Answered

Chosen Option : 2

Q.16 वर्गों के उस समुच्चय का चयन कीजिए जिनके बीच के संबंध को निम्न वेन आरेख द्वारा सर्वोत्तम रूप से दर्शाया गया है।



Ans

1. महिलाएं, ड्राइवर, आर्किटेक्ट
 2. डॉक्टर, करदाता, नर्स
 3. प्रिंटर, टीवी, वाशिंग मशीन
 4. कार, वाहन, स्कूटर

Question ID : 65497828985

Status : Answered

Chosen Option : 3

Q.17 मालती, विवेक की पत्नी के ससुर की बेटी है। अर्पित, नीतू का पोता है, जो कि दयाल की पत्नी है। विवेक, दयाल का इकलौता बेटा है। सुष्मिता, मालती की बहन है। विवेक की पत्नी का अर्पित से क्या संबंध है?

Ans

1. बुआ
 2. माँ
 3. नानी
 4. मौसी

Question ID : 65497828984

Status : Answered

Chosen Option : 2

Q.18 जिस तरह से 'अटलांटिक' का संबंध 'महासागर' से है उसी तरह, 'पनामा' का संबंध '_____' से है।

Ans

1. परिवहन
 2. नहर
 3. भाषा
 4. महाद्वीप

Question ID : 65497828980

Status : Answered

Chosen Option : 2

Q.19 सात व्यक्ति P, Q, R, S, T, U और V एक सीधी क्षैतिज पंक्ति में उत्तर की ओर मुख करके बैठे हैं। U, R के बाईं ओर दूसरे स्थान पर बैठा है। Q, V के बाईं ओर दूसरे स्थान पर बैठा है। T, R के बाईं ओर तीसरे स्थान पर बैठा है। S, P के दाईं ओर तीसरे स्थान पर बैठा है। यदि T किसी एक कोने पर बैठा है, तो दूसरे कोने पर कौन बैठा है?

Ans

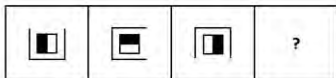
1. Q
 2. S
 3. P
 4. V

Question ID : 65497828990

Status : Answered


Chosen Option : 4

Q.20 दिए गए विकल्पों में से उस आकृति का चयन करें, जो निम्न आकृति शृंखला में प्रश्नवाचक चिह्न (?) के स्थान पर आ सकती है।

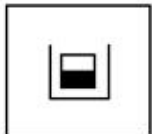


Ans


✗ 1.



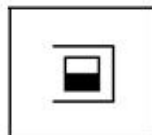
✗ 2.



✗ 3.



✓ 4.

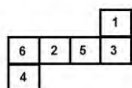


Question ID : 65497828989

Status : Answered

Chosen Option : 4

Q.21 दी गई शीट को मोड़कर एक घन बनाया जाता है। इस प्रकार निर्मित घन में, संख्या '3' वाले फलक के विपरीत फलक पर कौन सी संख्या मौजूद होगी?



Ans

✗ 1. 4

✗ 2. 1

✓ 3. 2

✗ 4. 6

Question ID : 65497828993

Status : Answered

Chosen Option : 3

Q.22 दिए गए समीकरण को सही करने के लिए किन दो संख्याओं को आपस में बदला जाना चाहिए?

$$28 \times 3 + 14 - 45 \div 9 = 65$$

- Ans 1. 14 और 28
 2. 14 और 9
 3. 28 और 45
 4. 14 और 3

Question ID : 65497828992
Status : Answered
Chosen Option : 1

Q.23 उस विकल्प का चयन कीजिए जो तृतीय अक्षर-समूह से उसी तरह से संबंधित है जैसे द्वितीय अक्षर-समूह प्रथम अक्षर-समूह से संबंधित है।

ADIJ : ES :: BDGH : ?

- Ans 1. ZC
 2. VM
 3. FO
 4. TY

Question ID : 65497828981
Status : Answered
Chosen Option : 3

Q.24 एक निश्चित कूट भाषा में 'TARGET' को 'U b S h f U' और 'FLOW' को 'g M P X' लिखा जाता है। उसी भाषा में 'MACROS' कैसे लिखा जाएगा?

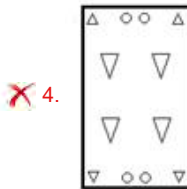
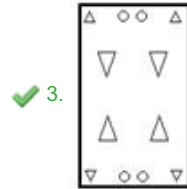
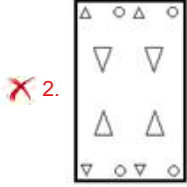
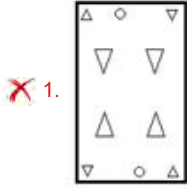
- Ans 1. NZD s P t
 2. n b b S p t
 3. L z D S p T
 4. N b d S P T

Question ID : 65497828982
Status : Answered
Chosen Option : 4

Q.25 दिए गए चित्र में कागज के एक टुकड़े को मोड़ने का क्रम और मुड़े हुए टुकड़े को काटने की विधि दर्शाई गई है। यह कागज खोलने पर कैसा दिखेगा?



Ans



Question ID : **65497828978**
Status : **Answered**
Chosen Option : **3**

Section : **Part B General Knowledge and General Awareness**

Q.1 2020 की जूनियर स्पीड ऑनलाइन शतरंज चैम्पियनशिप निम्न में से किस भारतीय खिलाड़ी ने जीती?

Ans ✓ 1. निहाल सरीन

✗ 2. रमेशबाबू प्रज्ञानानन्द

✗ 3. मित्राबा गुहा

✗ 4. डी. गुकेश

Question ID : **65497829014**
Status : **Answered**
Chosen Option : **4**

Q.2 तमिलनाडु, आंध्र प्रदेश और केरल में पाई जाने वाली किस प्रकार की मिट्टी काजू जैसी फसलों के लिए सबसे उपयुक्त है?

- Ans 1. लाल लैटेराइट मिट्टी
 2. जलोढ़ मिट्टी
 3. काली मिट्टी
 4. मरु मिट्टी

Question ID : 65497828999
Status : Answered
Chosen Option : 1

Q.3 भारतीय संविधान के निम्नलिखित में से किस अनुच्छेद के तहत सर्वोच्च न्यायालय को न्यायालय की अवमानना के लिए दंडित करने की शक्ति प्रदान की गई है, जिसमें खुद की अवमानना के लिए दंडित करने की शक्ति भी शामिल है?

- Ans 1. अनुच्छेद 63 और 72
 2. अनुच्छेद 130 और 172
 3. अनुच्छेद 65 और 122
 4. अनुच्छेद 129 और 142

Question ID : 65497829006
Status : Answered
Chosen Option : 4

Q.4 एशियन गेम्स में भारत ने पहली बार फुटबॉल का स्वर्ण पदक किस वर्ष जीता?

- Ans 1. 1951
 2. 1958
 3. 1962
 4. 1954

Question ID : 65497829009
Status : Not Answered
Chosen Option : --

Q.5 पावो क्रिस्टेटस (Pavo Cristatus) को सामान्यतः _____ के रूप में जाना जाता है।

- Ans 1. कबूतर
 2. मोर
 3. वनमानुष
 4. कुत्ता

Question ID : 65497829017
Status : Answered
Chosen Option : 2

Q.6 अगस्त 2021 में, भारतीय रिजर्व बैंक ने 'इंडो-नेपाल रेमिटेंस फैसिलिटी स्कीम' के तहत नेपाल को किए जाने वाले फंड ट्रांसफर की सीमा बढ़ाकर _____ प्रति लेन-देन करने की घोषणा की, जो 1 अक्टूबर 2021 से प्रभावी होगी।

- Ans 1. ₹2 लाख
 2. ₹50 हजार
 3. ₹1 लाख
 4. ₹75 हजार

Question ID : 65497829023
Status : Answered
Chosen Option : 1

Q.7 निम्नलिखित में से क्या ठोस अपशिष्ट का जैव अपघटनीय रूप है?

- Ans 1. कंपोस्ट
 2. टायर
 3. प्लास्टिक
 4. काँच

Question ID : 65497829010
Status : Answered
Chosen Option : 1

Q.8 नालंदा और विक्रमशिला विश्वविद्यालयों के संस्थापक निम्नलिखित में से कौन थे?

- Ans 1. धर्मपाल
 2. मिहिरभोज
 3. गोपाल
 4. लक्ष्मण सेन

Question ID : 65497829001
Status : Answered
Chosen Option : 1

Q.9 2014 में इंडियन डेयरी एसोसिएशन (IDA) द्वारा शुरू किया गया, राष्ट्रीय दुग्ध दिवस कब मनाया जाता है?

- Ans 1. 29 अक्टूबर
 2. 26 नवंबर
 3. 14 जुलाई
 4. 31 सितंबर

Question ID : 65497829012
Status : Answered
Chosen Option : 1

Q.10 तमलाडु (या तमला डु) {Tamladu (or Tamla Du)} _____ जनजाति द्वारा मनाया जाने वाला त्योहार है।

- Ans
- 1. तुत्सा (Tutsa)
 - 2. मिशमी (Mishmi)
 - 3. खमती (Khamti)
 - 4. वाँचो (Wancho)

Question ID : 65497829015
Status : Not Answered
Chosen Option : --

Q.11 संयुक्त राष्ट्र के खाद्य और कृषि संगठन (FAO) ने वर्ष _____ में कुट्टनाड की समुद्र तल से नीचे की कृषि प्रणाली को 'वैश्विक रूप से महत्वपूर्ण कृषि विरासत प्रणाली' (GIAHS) घोषित किया।

- Ans
- 1. 2011
 - 2. 2013
 - 3. 2014
 - 4. 2012

Question ID : 65497829020
Status : Not Answered
Chosen Option : --

Q.12 'द एम्परर्स न्यू क्लॉथ्स ('The Emperor's New Clothes')' _____ द्वारा लिखी गई एक बालकथा है।

- Ans
- 1. एनिड ब्लॉटन (Enid Blyton)
 - 2. रोआल्ड डाहल (Roald Dahl)
 - 3. ऑस्कर वाइल्ड (Oscar Wilde)
 - 4. हैन्स क्रिश्चियन एंडरसन (Hans Christian Andersen)

Question ID : 65497829021
Status : Not Answered
Chosen Option : --

Q.13 अक्टूबर 2020 में, भारत ने अपनी किलो-क्लास पनडुब्बियों में से एक INS सिंधुवीर को _____ को देने का फैसला किया।

- Ans
- 1. म्यांमार की नौसेना
 - 2. मालदीव की नौसेना
 - 3. मंगोलिया की नौसेना
 - 4. मॉरीशस की नौसेना

Question ID : 65497829007
Status : Answered
Chosen Option : 1

Q.14 निम्नलिखित में से किसने 'एडेलगिव हरुन इंडिया परोपकार सूची 2020' में शीर्ष स्थान प्राप्त किया?

- Ans 1. अजीम प्रेमजी
 2. शिव नादर
 3. मुकेश अंबानी
 4. एन.आर. नारायण मूर्ति

Question ID : 65497829008
Status : Not Answered
Chosen Option : --

Q.15 राष्ट्रीय नमक सत्याग्रह स्मारक कहाँ स्थित है?

- Ans 1. गुजरात
 2. महाराष्ट्र
 3. दिल्ली
 4. पुदुचेरी

Question ID : 65497829019
Status : Answered
Chosen Option : 1

Q.16 भारत में ब्रिटिश शासन के दौरान निम्नलिखित में से किसने रैयतवाड़ी व्यवस्था की शुरुआत की थी?

- Ans 1. लॉर्ड मिंटो
 2. कैप्टन अलेक्जेंडर रीड
 3. वारेन हेस्टिंग्स
 4. लॉर्ड डलहौज़ी

Question ID : 65497829004
Status : Answered
Chosen Option : 2

Q.17 भारतीय संविधान में द्विसदनीय प्रणाली, किस देश से ली गई है?

- Ans 1. ऑस्ट्रेलिया
 2. अमेरिका
 3. आयरलैंड
 4. यूनाइटेड किंगडम

Question ID : 65497829005
Status : Answered
Chosen Option : 2

Q.18 भारतीय अर्थशास्त्री अमर्त्य सेन को मई 2021 में सामाजिक विज्ञान श्रेणी में _____ शीर्ष प्रिसेस ऑफ ऑस्ट्रियस अवार्ड से सम्मानित किया गया।

- Ans 1. इटली के
 2. स्वीडन के
 3. जर्मनी के
 4. स्पेन के

Question ID : 65497829018
Status : Not Answered
Chosen Option : --

Q.19 2020 में, कितने कृषि विधेयक पारित किए गए?

- Ans 1. दो
 2. तीन
 3. चार
 4. पांच

Question ID : 65497829000
Status : Answered
Chosen Option : 2

Q.20 इनमें से कौन सा बैंक पूंजीकरण की समस्या से ग्रस्त था, और बाद में भारतीय रिजर्व बैंक ने 2020 में उसका प्रबंधन संभाल लिया?

- Ans 1. बंधन बैंक
 2. ऐक्सिस बैंक
 3. आईडीबीआई बैंक
 4. यस बैंक

Question ID : 65497829002
Status : Answered
Chosen Option : 4

Q.21 अंतरराष्ट्रीय हॉकी टीम के कप्तान बनने वाले पहले गोलकीपर निम्न में से कौन थे?

- Ans 1. शंकर लक्ष्मण
 2. रिचर्ड जे एलन
 3. बीरेंद्र लकड़ा
 4. पीआर श्रीजेश

Question ID : 65497829022
Status : Not Answered
Chosen Option : --

Q.22 कलकत्ता (कोलकाता) में भारतीय संग्रहालय की स्थापना निम्न में से किस वर्ष की गई थी?

- Ans 1. 1845
 2. 1798
 3. 1814
 4. 1886

Question ID : 65497829011
Status : Not Answered
Chosen Option : --

Q.23 अपने महानिर्वाण से पहले बुद्ध ने अंतिम उपदेश कहाँ दिया था?

- Ans 1. वैशाली
 2. लुंबिनी
 3. कुशीनगर
 4. सारनाथ

Question ID : 65497829003
Status : Answered
Chosen Option : 3

Q.24 भारतीय वन्यजीव (संरक्षण) अधिनियम किस वर्ष लागू किया गया था?

- Ans
- 1. 1974
 - 2. 1970
 - 3. 1972
 - 4. 1973

Question ID : 65497829013
Status : Answered
Chosen Option : 1

Q.25 ecology शब्द, _____ शब्द 'Oekologie' से बना है।

- Ans
- 1. यूनानी
 - 2. स्पेनिश
 - 3. लैटिन
 - 4. फ्रांसीसी

Question ID : 65497829016
Status : Not Answered
Chosen Option : --

Section : Part C Elementary Mathematics

Q.1 P ने 20% की हानि पर कोई वस्तु Q को ₹18000 में बेची। Q इसे R को उस मूल्य पर बेचता है जिससे P को 8% का लाभ होता है। Q द्वारा प्राप्त प्रतिशत लाभ ज्ञात कीजिए।

- Ans
- 1. 35%
 - 2. 40%
 - 3. 12%
 - 4. 25%

Question ID : 65497829036
Status : Answered
Chosen Option : 1

Q.2 एक नाव शांत जल में 17 km/h की चाल से यात्रा करती है। यदि धारा की चाल 2 km/h है, तो नाव को धारा की दिशा में 95 km की दूरी तय करने में कितना समय (घंटों में) लगेगा?

- Ans
- 1. 6.3
 - 2. 5.6
 - 3. 5
 - 4. 6

Question ID : 65497829035
Status : Answered
Chosen Option : 3

Q.3 गेहूँ की दो किस्मों को मिला दिया गया। 60 kg गेहूँ में, 40% गेहूँ A किस्म का और 60% गेहूँ B किस्म का है। मिश्रित गेहूँ में A किस्म का कितना गेहूँ और मिला दिया जाए, जिससे मिश्रण में B किस्म का गेहूँ 40% रह जाए?

- Ans**
- 1. 20 kg
 - 2. 12 kg
 - 3. 30 kg
 - 4. 9 kg

Question ID : **65497829025**
Status : **Answered**
Chosen Option : **3**

Q.4 एक निश्चित धनराशि 9.5% वार्षिक साधारण ब्याज की दर से 4 वर्षों में ₹6,624 हो जाती है। समान राशि पर समान ब्याज दर से $6\frac{1}{2}$ वर्षों में प्राप्त साधारण ब्याज (₹ में) कितना होगा?

- Ans**
- 1. 2,886
 - 2. 3,016
 - 3. 2,964
 - 4. 2,912

Question ID : **65497829044**
Status : **Answered**
Chosen Option : **3**

Q.5 $\frac{67 + \frac{2}{5} \text{ of } 75}{5 + \frac{2}{3} \times (58 - 37)}$ का मान ज्ञात कीजिए।

- Ans**
- 1. $5\frac{2}{19}$
 - 2. $-5\frac{1}{19}$
 - 3. $-5\frac{2}{19}$
 - 4. $5\frac{1}{19}$

Question ID : **65497829028**
Status : **Answered**
Chosen Option : **1**

Q.6 2015 में, एक फुटबॉल क्लब में औसत उपस्थिति पिछले वर्ष की तुलना में 11% कम हो गई। यदि इस वर्ष 3190 कम लोग मैच देखने गए, तो 2014 में कितने लोग मैच देखने गए थे?

- Ans**
- 1. 29000
 - 2. 31900
 - 3. 28000
 - 4. 35090

Question ID : 65497829031
Status : Answered
Chosen Option : 1

Q.7 यदि $x^2 : y^2 = 9 : 25$ और $2 : x = 5 : 15$ है, तो y का मान क्या होगा?

- Ans**
- 1. 15
 - 2. 10
 - 3. 12
 - 4. 17

Question ID : 65497829046
Status : Answered
Chosen Option : 2

Q.8 एक वस्तु पर 15% की छूट देने के बाद भी उस पर 19% का लाभ प्राप्त होता है। 25% की छूट देने पर प्राप्त प्रतिशत लाभ कितना होगा?

- Ans**
- 1. 5%
 - 2. 6%
 - 3. 4.5%
 - 4. 4%

Question ID : 65497829045
Status : Answered
Chosen Option : 1

Q.9 126 km/h की चाल से चल रही एक ट्रेन एक खंभे को 6 सेकंड में पार कर लेती है। ट्रेन की लंबाई ज्ञात करें।

- Ans**
- 1. 180 m
 - 2. 220 m
 - 3. 210 m
 - 4. 240 m

Question ID : 65497829039
Status : Answered
Chosen Option : 3

Q.10 50 m लंबे और 45 m चौड़े एक पूल (तालाब) में, 90 व्यक्ति डुबकी लगाते हैं। यदि व्यक्तियों द्वारा पानी का औसत विस्थापन 1 m^3 है, तो पानी का स्तर कितना ऊँचा उठेगा?

- Ans**
- 1. 10 cm
 - 2. 40 cm
 - 3. 4 cm
 - 4. 12 cm

Question ID : **65497829027**
Status : **Answered**
Chosen Option : **3**

Q.11 ब्याज प्रति 8 माह पर चक्रवृद्धि होने पर, एक धनराशि पर 12% वार्षिक ब्याज दर से $1\frac{1}{3}$ वर्ष में प्राप्त होने वाला चक्रवृद्धि ब्याज ₹2496 है। समान ब्याज की दर से, यदि ब्याज वार्षिक रूप में चक्रवृद्धि हो, तो वही धनराशि चार वर्ष में कितनी (₹ में, निकटतम ₹ तक) हो जाएगी?

- Ans**
- 1. 23603
 - 2. 20336
 - 3. 26033
 - 4. 30632

Question ID : **65497829037**
Status : **Answered**
Chosen Option : **1**

Q.12 A और B की आय का अनुपात $x : y$ है। जब A की आय में 20% की वृद्धि होती है और B की आय में 40% की कमी होती है, तो A और B की आय का अनुपात 5 : 6 हो जाता है। $\frac{3x + 2y}{5x - y}$ का मान ज्ञात कीजिए।

- Ans**
- 1. $\frac{5}{2}$
 - 2. 1
 - 3. $\frac{7}{9}$
 - 4. 3

Question ID : **65497829043**
Status : **Answered**
Chosen Option : **4**

Q.13 $36\frac{2}{5} \div \left[27 + \frac{3}{8} \text{ of } 24 + \left(45 \div 9 - 4\frac{3}{5} \right) \right]$ का मान क्या होगा?

- Ans
- 1. 2
 - 2. 10
 - 3. 1
 - 4. 5

Question ID : 65497829038
Status : Answered
Chosen Option : 3

Q.14 P एक कार्य को 30 दिनों में पूर्ण कर सकता है और Q उसी कार्य को 40 दिनों में पूर्ण कर सकता है। उन दोनों ने 5 दिनों तक साथ मिलकर कार्य किया और फिर Q ने छोड़ दिया। P को अकेले ही शेष कार्य पूर्ण करने में कितना समय (दिन और घंटे में) लगेगा?

- Ans
- 1. 20 दिन 6 घंटे
 - 2. 21 दिन 18 घंटे
 - 3. 21 दिन 6 घंटे
 - 4. 21 दिन 12 घंटे

Question ID : 65497829033
Status : Answered
Chosen Option : 3

Q.15 ₹16,000 की राशि पर एक निश्चित वार्षिक ब्याज दर पर 2 वर्ष के चक्रवृद्धि ब्याज और साधारण ब्याज का अंतर ₹102.40 है, तो वार्षिक ब्याज दर ज्ञात कीजिए।

- Ans
- 1. 10%
 - 2. 8%
 - 3. 11%
 - 4. 6.5%

Question ID : 65497829047
Status : Answered
Chosen Option : 2

Q.16 3 अंकों की वह बड़ी से बड़ी संख्या कौन सी है, जो 4, 5 और 6 से विभाज्य है?

- Ans
- 1. 960
 - 2. 978
 - 3. 980
 - 4. 990

Question ID : 65497829024
Status : Answered
Chosen Option : 1

Q.17 निम्नलिखित भिन्न संख्याओं का महत्तम समापवर्तक (HCF) ज्ञात कीजिए?

$$\frac{4}{5}, \frac{24}{25}, \frac{16}{35}$$

Ans

1. $\frac{4}{175}$

2. $\frac{48}{5}$

3. $\frac{48}{175}$

4. $\frac{4}{5}$

Question ID : 65497829041

Status : Answered

Chosen Option : 1

Q.18 एक तार, जो 14 cm त्रिज्या वाले एक वृत्त के रूप में है, को मोड़कर एक वर्ग बनाया जाता है। वर्ग की भुजा की लंबाई (cm में) ज्ञात कीजिए। ($\pi = \frac{22}{7}$ मानिए)

Ans

1. 21.5

2. 24

3. 22

4. 20.8

Question ID : 65497829048

Status : Answered

Chosen Option : 3

Q.19 15 संख्याओं का औसत 55.4 है। पहली 6 संख्याओं का औसत 50 है और अगली 4 संख्याओं का औसत 60.5 है। शेष संख्याओं का औसत ज्ञात कीजिए।

Ans

1. 58.5

2. 55.6

3. 57.8

4. 59.4

Question ID : 65497829042

Status : Answered

Chosen Option : 3

Q.20 एक प्रकाशक, किसी पुस्तक को ₹625 में बेचकर, 25% का लाभ प्राप्त करता है। 35% लाभ प्राप्त करने के लिए उसे वह पुस्तक किस मूल्य (₹ में) पर बेचनी चाहिए?

- Ans**
- 1. 700
 - 2. 725
 - 3. 675
 - 4. 650

Question ID : 65497829032
Status : Answered
Chosen Option : 3

Q.21 यदि $(2x + 3y) : (4x - 7y) = 3 : 5$ है, तो $x : y$ का मान क्या होगा?

- Ans**
- 1. 18 : 1
 - 2. 4 : 11
 - 3. 11 : 4
 - 4. 1 : 18

Question ID : 65497829026
Status : Answered
Chosen Option : 1

Q.22 A और B एक साथ मिल कर एक कार्य को 16 दिनों में कर सकते हैं। यदि A, B की तुलना में 50% कम कार्यकुशल है, तो A अकेले कार्य करते हुए कितने दिनों में पूरे कार्य को पूर्ण कर सकता है?

- Ans**
- 1. 48
 - 2. 30
 - 3. 36
 - 4. 24

Question ID : 65497829034
Status : Answered
Chosen Option : 1

Q.23 एक हैंडबैग, एक कमीज और एक जैकेट को ₹2,300 प्रत्येक में खरीदा गया था। उन्हें क्रमशः 12% लाभ, 15% हानि और 6% लाभ पर बेचा गया। कुल लाभ प्रतिशत या हानि प्रतिशत कितना है?

- Ans**
- 1. 2% हानि
 - 2. 1% लाभ
 - 3. 5% लाभ
 - 4. 6% हानि

Question ID : 65497829040
Status : Answered
Chosen Option : 2

Q.24 एक छात्र के अंक गलती से 78 के बदले 92 दर्ज किए गए थे। इसके कारण कक्षा के औसत अंकों में आधे की वृद्धि हो गई। कक्षा में छात्रों की संख्या कितनी है?

- Ans
- 1. 28
 - 2. 30
 - 3. 24
 - 4. 32

Question ID : 65497829029
Status : Answered
Chosen Option : 1

Q.25 8%, 15% और 20% की तीन क्रमागत छूटों के बराबर एक एकल छूट लगभग कितनी है?

- Ans
- 1. 40%
 - 2. 38%
 - 3. 37%
 - 4. 43%

Question ID : 65497829030
Status : Answered
Chosen Option : 3

Section : Part D English

Q.1 Select the option that can be used as a one-word substitute for the given group of words.

Something that cannot be handled easily

- Ans
- 1. Unfit
 - 2. Untidy
 - 3. Unwieldy
 - 4. Untimely

Question ID : 65497829052
Status : Answered
Chosen Option : 3

Q.2 Select the most appropriate option that can substitute the underlined segment in the given sentence. If there is no need to substitute it, select 'No substitution required'.

We are eaten our dinner before they arrived.

- Ans
- 1. We are eating
 - 2. We had eaten
 - 3. No substitution required
 - 4. We is eaten

Question ID : 65497829063
Status : Answered
Chosen Option : 2

Q.3 Select the **INCORRECTLY** spelt word.

- Ans 1. Resist
 2. Bitray
 3. Reverse
 4. Specific

Question ID : **65497829066**
Status : **Answered**
Chosen Option : **2**

Q.4 Select the most appropriate option to fill in the blank.

Everyone _____ laughter when he appeared in the room.

- Ans 1. burst up
 2. burst out
 3. burst into
 4. burst in

Question ID : **65497829061**
Status : **Answered**
Chosen Option : **2**

Q.5 Select the most appropriate option to fill in the blank.

I expect him to _____ by his decision to help me.

- Ans 1. admit
 2. abide
 3. act
 4. bear

Question ID : **65497829060**
Status : **Answered**
Chosen Option : **1**

Q.6 Select the most appropriate meaning of the given idiom.

Ins and outs

- Ans 1. Complete facts
 2. Some details
 3. Brief points
 4. Hidden facts

Question ID : **65497829051**
Status : **Answered**
Chosen Option : **1**

Q.7 Select the most appropriate synonym of the given word.

Layout

Ans 1. Arrangement

2. Order

3. Schedule

4. Timetable

Question ID : 65497829064

Status : Answered

Chosen Option : 1

Q.8 Select the option that will improve the underlined part of the given sentence. In case no improvement is needed, select 'No improvement required'.

Mira's train was late and it reached Varanasi on middle night.

Ans 1. No improvement required

2. at midnight

3. on midnight

4. in middle night

Question ID : 65497829059

Status : Answered

Chosen Option : 2

Q.9 Select the option that can be used as a one-word substitute for the given group of words.

Study of living organisms

Ans 1. Pathology

2. Physiology

3. Geology

4. Biology

Question ID : 65497829065

Status : Answered

Chosen Option : 4

Q.10 The following sentence has been split into four segments. Identify the segment that contains a grammatical error.

Teachers are / expect to mentor / their students appropriately / during the Covid-19 pandemic.

Ans 1. during the Covid-19 pandemic

2. expect to mentor

3. their students appropriately

4. Teachers are

Question ID : 65497829062

Status : Answered

Chosen Option : 2

Q.11 Select the most appropriate synonym of the given word.

Chaos

- Ans 1. System
 2. Calm
 3. Quiet
 4. Turmoil

Question ID : 65497829050
Status : Answered
Chosen Option : 4

Q.12 Select the most appropriate ANTONYM of the given word.

Abstract

- Ans 1. Belligerent
 2. Hilarious
 3. Concrete
 4. Auspicious

Question ID : 65497829054
Status : Answered
Chosen Option : 3

Q.13 Select the most appropriate meaning of the given idiom.

See the light of day

- Ans 1. Have a long life
 2. Work during daytime
 3. Feel very hot
 4. Become publicly known

Question ID : 65497829068
Status : Answered
Chosen Option : 4

Q.14 Select the most appropriate option that can substitute the underlined word in the given sentence.

The door was ajar and Jenny observed in.

- Ans 1. peeped
 2. dazed
 3. stared
 4. derived

Question ID : 65497829053
Status : Answered
Chosen Option : 2

Q.15 Select the **INCORRECTLY** spelt word.

- Ans 1. Laboratory
 2. Government
 3. Advertisement
 4. Tactfully

Question ID : **65497829058**
Status : **Answered**
Chosen Option : **1**

Q.16 The following sentence has been split into four segments. Identify the segment that contains a grammatical error.

Abhiram returned back to the signal / and gave his last hundred rupee note / to the man / who had said he needed help.

- Ans 1. who had said he needed help
 2. to the man
 3. and gave his last hundred rupee note
 4. Abhiram returned back to the signal

Question ID : **65497829055**
Status : **Answered**
Chosen Option : **4**

Q.17 The following sentence has been divided into parts. One of them may contain an error. Select the part that contains the error from the given options. If you don't find any error, select 'No error' as your answer.

I wants / to take that / dog home.

- Ans 1. to take that
 2. I wants
 3. No error
 4. dog home

Question ID : **65497829049**
Status : **Answered**
Chosen Option : **1**

Q.18 Select the most appropriate **ANTONYM** of the given word.

Paltry

- Ans 1. Key
 2. Crucial
 3. Substantial
 4. Basic

Question ID : **65497829056**
Status : **Answered**
Chosen Option : **4**

Q.19 Select the option that can be used as a one-word substitute for the given group of words.

The science of surveying and charting bodies of water

- Ans** 1. Demography
 2. Hydrography
 3. Holography
 4. Topography

Question ID : 65497829057
Status : Answered
Chosen Option : 2

Q.20 Select the most appropriate option to fill in the blank.

If the prepaid card for mobile phones does not _____ to you, you may opt for the postpaid card.

- Ans** 1. interest
 2. appeal
 3. attract
 4. allure

Question ID : 65497829067
Status : Answered
Chosen Option : 4

Comprehension:

In the following passage, some words have been deleted. Read the passage carefully and select the most appropriate option to fill in each blank.

Triveni was a very popular Kannada writer. Her (1) _____ was easy to read and very convincing. Her stories (2) _____ dealt with problems in the lives of (3) _____ people and were always very interesting. (4) _____ for Kannada literature, she died very young. (5) _____, readers continue to appreciate her novels even today.

SubQuestion No : 21

Q.21 Select the most appropriate option to fill in blank no. 1.

- Ans** 1. design
 2. mode
 3. method
 4. style

Question ID : 65497829070
Status : Answered
Chosen Option : 4

Comprehension:

In the following passage, some words have been deleted. Read the passage carefully and select the most appropriate option to fill in each blank.

Triveni was a very popular Kannada writer. Her (1) _____ was easy to read and very convincing. Her stories (2) _____ dealt with problems in the lives of (3) _____ people and were always very interesting. (4) _____ for Kannada literature, she died very young. (5) _____, readers continue to appreciate her novels even today.

SubQuestion No : 22

Q.22 Select the most appropriate option to fill in blank no. 2.

- Ans**
- 1. once
 - 2. almost
 - 3. usually
 - 4. rough

Question ID : **65497829071**
Status : **Answered**
Chosen Option : **3**

Comprehension:

In the following passage, some words have been deleted. Read the passage carefully and select the most appropriate option to fill in each blank.

Triveni was a very popular Kannada writer. Her (1) _____ was easy to read and very convincing. Her stories (2) _____ dealt with problems in the lives of (3) _____ people and were always very interesting. (4) _____ for Kannada literature, she died very young. (5) _____, readers continue to appreciate her novels even today.

SubQuestion No : 23

Q.23 Select the most appropriate option to fill in blank no. 3.

- Ans**
- 1. routine
 - 2. ordinary
 - 3. natural
 - 4. habitual

Question ID : **65497829072**
Status : **Answered**
Chosen Option : **2**

Comprehension:

In the following passage, some words have been deleted. Read the passage carefully and select the most appropriate option to fill in each blank.

Triveni was a very popular Kannada writer. Her (1) _____ was easy to read and very convincing. Her stories (2) _____ dealt with problems in the lives of (3) _____ people and were always very interesting. (4) _____ for Kannada literature, she died very young. (5) _____, readers continue to appreciate her novels even today.

SubQuestion No : 24

Q.24 Select the most appropriate option to fill in blank no. 4.

- Ans**
- 1. Unfortunately
 - 2. Dismally
 - 3. Miserably
 - 4. Horribly

Question ID : **65497829073**
Status : **Answered**
Chosen Option : **1**

Comprehension:

In the following passage, some words have been deleted. Read the passage carefully and select the most appropriate option to fill in each blank.

Triveni was a very popular Kannada writer. Her (1) _____ was easy to read and very convincing. Her stories (2) _____ dealt with problems in the lives of (3) _____ people and were always very interesting. (4) _____ for Kannada literature, she died very young. (5) _____, readers continue to appreciate her novels even today.

SubQuestion No : 25

Q.25 Select the most appropriate option to fill in blank no. 5.

- Ans**
- 1. Therefore
 - 2. Besides
 - 3. Hence
 - 4. However

Question ID : **65497829074**
Status : **Answered**
Chosen Option : **4**

Section : **Part D Hindi**

Q.1 'पहाड़ के ऊपर की समतल भूमि' वाक्यांश के लिए एक सार्थक शब्द दीजिए।

- Ans**
- 1. अंतरिक्ष
 - 2. अधित्यका
 - 3. अनावृत्त
 - 4. आगत पतिका

Question ID : **65497829075**
Status : **Not Answered**
Chosen Option : --

Q.2 दिए गए वाक्य का वह भाग ज्ञात करें जिसमें कोई त्रुटि है। यदि कोई त्रुटि नहीं है, तो 'कोई त्रुटि नहीं है' विकल्प को चुनें।

गुरुजनों पर श्रद्धा रखनी चाहिए।

- Ans**
- 1. गुरुजनों पर
 - 2. रखनी चाहिए
 - 3. कोई त्रुटि नहीं
 - 4. श्रद्धा

Question ID : **65497829078**
Status : **Not Answered**
Chosen Option : --

Q.3 दिए गए शब्द का विलोम चुनें।

जागृति

- Ans 1. तृप्ति
 2. सुषुप्ति
 3. स्तुति
 4. निवृत्ति

Question ID : 65497829080
Status : Not Answered
Chosen Option : --

Q.4 रिक्त स्थान की पूर्ति के लिए सबसे उपयुक्त शब्द का चयन कीजिए।

उसका स्वर अत्यंत _____ था।

- Ans 1. कर्कश
 2. कठिन
 3. श्रेष्ठ
 4. कसेला

Question ID : 65497829077
Status : Not Answered
Chosen Option : --

Q.5 दिए गए वाक्य का वह भाग ज्ञात करें जिसमें कोई त्रुटि है। यदि कोई त्रुटि नहीं है, तो 'कोई त्रुटि नहीं' विकल्प को चुनें।

पिता ने बच्चों को जलेबियाँ खिलाए।

- Ans 1. कोई त्रुटि नहीं
 2. बच्चों को
 3. जलेबियाँ खिलाए
 4. पिता ने

Question ID : 65497829082
Status : Not Answered
Chosen Option : --

Q.6 दिए गए वाक्य में रेखांकित खंड को प्रतिस्थापित करने के लिए सबसे उपयुक्त विकल्प का चयन करें। यदि इसे प्रतिस्थापित करने की आवश्यकता नहीं है, तो विकल्प किसी बदलाव की आवश्यकता नहीं है' का चयन करें।

मेरा यह सुझाव तुम्हारे हित का है।

- Ans 1. तुम्हारे हित की
 2. किसी बदलाव की आवश्यकता नहीं है।
 3. तुम्हारे हित के लिए
 4. तुम्हारे हित को

Question ID : 65497829086
Status : Not Answered
Chosen Option : --

Q.7 कुलीन शब्द के लिए सही वाक्यांश निम्न में से कौन सा होगा?

- Ans
- 1. जो क्षमा के लायक है।
 - 2. छात्रावास में रहने वाला।
 - 3. जो अच्छे कुल में जन्मा है।
 - 4. जो विदेश में रहता है।

Question ID : 65497829081
Status : Not Answered
Chosen Option : --

Q.8 रिक्त स्थान की पूर्ति के लिए सबसे उपयुक्त शब्द का चयन कीजिए।

आज _____ प्रतियोगिता नहीं होगी।

- Ans
- 1. अंत्याक्षरी
 - 2. अंताक्षरी
 - 3. अंत्येष्टि
 - 4. अन्त्योदय

Question ID : 65497829076
Status : Not Answered
Chosen Option : --

Q.9 दिए गए शब्द के समानार्थी शब्द का चयन करें।

गरमी

- Ans
- 1. मसूण
 - 2. निदाघ
 - 3. दिवा
 - 4. वासर

Question ID : 65497829088
Status : Not Answered
Chosen Option : --

Q.10 'पापड़ बेलना' मुहावरे का सही अर्थ है-

- Ans
- 1. पीछे पड़ना
 - 2. बेकार जीवन बिताना
 - 3. बहुत श्रम करना
 - 4. कठिन काम करना

Question ID : 65497829093
Status : Not Answered
Chosen Option : --

Q.11 दिये गये वाक्य में रेखांकित अंश को प्रतिस्थापित करने के लिए सबसे उपयुक्त विकल्प का चयन करें।

उसने अपनी भूल के लिए दया माँगी।

- Ans
- 1. भिक्षा
 - 2. याचना
 - 3. कृपा
 - 4. क्षमा

Question ID : 65497829092
Status : Not Answered
Chosen Option : --

Q.12 निम्नलिखित में से शुद्ध वर्तनी वाला शब्द कौन सा है?

- Ans
- 1. प्रशंशा
 - 2. प्रसंशा
 - 3. प्रशंसा
 - 4. प्रसंसा

Question ID : 65497829090
Status : Not Answered
Chosen Option : --

Q.13 दिए गए शब्द का विलोम चुनें।

शुक्ल

- Ans
- 1. पीत
 - 2. नील
 - 3. श्वेत
 - 4. कृष्ण

Question ID : 65497829084
Status : Not Answered
Chosen Option : --

Q.14 दिए गए वाक्य का वह भाग ज्ञात करें जिसमें कोई त्रुटि है। यदि कोई त्रुटि नहीं है, तो 'कोई त्रुटि नहीं है' चुनें।

दस रुपया (1)/ में क्या (2)/ आता है (3)/ कोई त्रुटि नहीं है (4)

- Ans
- 1. 2
 - 2. 4
 - 3. 3
 - 4. 1

Question ID : 65497829087
Status : Not Answered
Chosen Option : --

Q.15 निम्नलिखित में से शुद्ध वर्तनी वाला शब्द कौन सा है?

- Ans 1. उन्मीलीत
 2. उन्मिलित
 3. उन्मीलित
 4. उन्मिलीत

Question ID : 65497829091
Status : Not Answered
Chosen Option : --

Q.16 उस विकल्प का चयन कीजिए जो निम्न मुहावरे का अर्थ व्यक्त करता है।

'जूतियों में दाल बांटना'

- Ans 1. साफ़ इनकार करना
 2. बाधा पैदा करना
 3. आपस में लड़ाई-झगड़ा हो जाना
 4. उपाय करना

Question ID : 65497829085
Status : Not Answered
Chosen Option : --

Q.17 दिए गए वाक्य में रेखांकित खंड को प्रतिस्थापित करने के लिए सबसे उपयुक्त विकल्प का चयन करें।
यदि इसे प्रतिस्थापित करने की आवश्यकता नहीं है, तो विकल्प 'किसी बदलाव की आवश्यकता नहीं है'
का चयन करें।

सभा समाप्त होने के बाद अतिथि घर चली गईं।

- Ans 1. घर चलते दिए
 2. किसी बदलाव की आवश्यकता नहीं है।
 3. घर चलते गया
 4. घर चले गए

Question ID : 65497829079
Status : Not Answered
Chosen Option : --

Q.18 रिक्त स्थान की पूर्ति के लिए सबसे उपयुक्त विकल्प का चयन करें।

मित्रों ने अंकित का _____ किया पर उसने बुरा नहीं माना।

- Ans 1. परिहास
 2. उपहास
 3. व्यंग्य
 4. हास

Question ID : 65497829094
Status : Not Answered
Chosen Option : --

Q.19 दिए गए शब्द के समानार्थी शब्द का चयन कीजिए।

आँख

- Ans 1. वासव
 2. दनुज
 3. दृग
 4. अम्बु

Question ID : 65497829083
Status : Not Answered
Chosen Option : --

Q.20 दिये गये वाक्यांश के लिए एक शब्द दीजिये।

चार भुजाओं वाला

- Ans 1. चतुर्दशी
 2. चतुर्भुज
 3. चतुरानन
 4. चहुमुखी

Question ID : 65497829089
Status : Not Answered
Chosen Option : --

Comprehension:

दिए गए गद्यांश में से कुछ शब्द हटा दिए गए हैं। विकल्पों की सहायता से प्रत्येक संख्या के लिए सबसे उपयुक्त विकल्प का चयन करें।

आलस्य समय का सबसे बड़ा (1) _____ है। अतः इसे दूर भगाना आवश्यक है। (2) _____ का मूल्य पहचानिए। मानव जीवन (3) _____ है। नश्वर है। इस नश्वर संसार में हमें समय का (4) _____ करना है। विद्यार्थियों के लिए तो समय का विशेष (5) _____ है।

SubQuestion No : 21

Q.21 गद्यांश के रिक्त स्थान (1) के लिए सर्वाधिक उपयुक्त शब्द होगा-

- Ans 1. गुरु
 2. शत्रु
 3. मित्र
 4. शिष्य

Question ID : 65497829096
Status : Not Answered
Chosen Option : --

Comprehension:

दिए गए गद्यांश में से कुछ शब्द हटा दिए गए हैं। विकल्पों की सहायता से प्रत्येक संख्या के लिए सबसे उपयुक्त विकल्प का चयन करें।

आलस्य समय का सबसे बड़ा (1) _____ है। अतः इसे दूर भगाना आवश्यक है। (2) _____ का मूल्य पहचानिए। मानव जीवन (3) _____ है। नश्वर है। इस नश्वर संसार में हमें समय का (4) _____ करना है। विद्यार्थियों के लिए तो समय का विशेष (5) _____ है।

SubQuestion No : 22

Q.22 गद्यांश के रिक्त स्थान (2) के लिए सर्वाधिक उपयुक्त शब्द होगा-

- Ans** 1. भोजन
 2. समय
 3. मित्रता
 4. सक्रियता

Question ID : **65497829097**
Status : **Not Answered**
Chosen Option : --

Comprehension:

दिए गए गद्यांश में से कुछ शब्द हटा दिए गए हैं। विकल्पों की सहायता से प्रत्येक संख्या के लिए सबसे उपयुक्त विकल्प का चयन करें।

आलस्य समय का सबसे बड़ा (1) _____ है। अतः इसे दूर भगाना आवश्यक है। (2) _____ का मूल्य पहचानिए। मानव जीवन (3) _____ है। नश्वर है। इस नश्वर संसार में हमें समय का (4) _____ करना है। विद्यार्थियों के लिए तो समय का विशेष (5) _____ है।

SubQuestion No : 23

Q.23 गद्यांश के रिक्त स्थान (3) के लिए सर्वाधिक उपयुक्त शब्द होगा-

- Ans** 1. 50 साल
 2. महीने
 3. स्थायी
 4. क्षण भर

Question ID : **65497829098**
Status : **Not Answered**
Chosen Option : --

Comprehension:

दिए गए गद्यांश में से कुछ शब्द हटा दिए गए हैं। विकल्पों की सहायता से प्रत्येक संख्या के लिए सबसे उपयुक्त विकल्प का चयन करें।

आलस्य समय का सबसे बड़ा (1) _____ है। अतः इसे दूर भगाना आवश्यक है। (2) _____ का मूल्य पहचानिए। मानव जीवन (3) _____ है। नश्वर है। इस नश्वर संसार में हमें समय का (4) _____ करना है। विद्यार्थियों के लिए तो समय का विशेष (5) _____ है।

SubQuestion No : 24

Q.24 गद्यांश के रिक्त स्थान (4) के लिए सर्वाधिक उपयुक्त शब्द होगा-

- Ans** 1. उपभोग
 2. बर्बाद
 3. दुरुपयोग
 4. सदुपयोग

Question ID : **65497829099**
Status : **Not Answered**
Chosen Option : --

Comprehension:

दिए गए गद्यांश में से कुछ शब्द हटा दिए गए हैं। विकल्पों की सहायता से प्रत्येक संख्या के लिए सबसे उपयुक्त विकल्प का चयन करें।

आलस्य समय का सबसे बड़ा (1) _____ है। अतः इसे दूर भगाना आवश्यक है। (2) _____ का मूल्य पहचानिए। मानव जीवन (3) _____ है। नश्वर है। इस नश्वर संसार में हमें समय का (4) _____ करना है। विद्यार्थियों के लिए तो समय का विशेष (5) _____ है।

SubQuestion No : 25

Q.25 गद्यांश के रिक्त स्थान (5) के लिए सर्वाधिक उपयुक्त शब्द होगा-

- Ans**
- 1. कारवाही
 - 2. भूमिका
 - 3. प्रभाव
 - 4. महत्त्व

Question ID : **65497829100**

Status : **Not Answered**

Chosen Option : --

GovtJobsAlert.In