

Constable GD in CAPFs NIA SSF and Rifleman GD in Assam Rifles Examination 2021

Roll Number	www.GovtJobsAlert.In
Candidate Name	www.GovtJobsAlert.In
Venue Name	MIT Meerut
Exam Date	03/12/2021
Exam Time :	9:00 AM - 10:30 AM
Subject	Constable GD 2021

Section : Part A General Intelligence and Reasoning

Q.1 अक्षरों के उस संयोजन का चयन करें जिसे दी गई श्रेणी में रिक्त स्थानों पर क्रमिक रूप से रखने पर श्रेणी पूर्ण हो जाएगी।

kg_pg_kgt_gnk_tpg_kg_p_n

Ans 1. t, p, n, n, g, g, t

2. t, p, n, g, n, g, t

3. t, n, p, g, n, t, g

4. t, n, p, g, g, n, t

Question ID : 65497835084

Status : Answered

Chosen Option : 3

Q.2 दर्पण को दी गई आकृति के दाईं ओर रखे जाने पर, आकृति का दर्पण में निर्मित सही प्रतिबिंब चयनित कीजिए।



Ans

1.



2.



3.



4.



Question ID : 65497835090

Status : Answered

Chosen Option : 4

Q.3 एक विशिष्ट कूट भाषा में, 'FREE' को 'AQRR' और 'ASTER' को 'DNXRQ' लिखा जाता है। उसी भाषा में 'STARS' को क्या लिखा जाएगा?

- Ans
- 1. RXYQR
 - 2. NADRN
 - 3. PXDQO
 - 4. NXDQN

Question ID : 65497835071
Status : Answered
Chosen Option : 4

Q.4 यदि 'A % B' का अर्थ है कि 'A, B का पिता है', 'A # B' का अर्थ है कि 'A, B का भाई है' और 'A \$ B' का अर्थ है कि 'A, B की पत्नी है', तो दिए गए व्यंजक में K का R से क्या संबंध है?





K \$ H % Y # M # R

- Ans
- 1. माँ
 - 2. दादी
 - 3. पिता
 - 4. बुआ

Question ID : 65497835073
Status : Answered
Chosen Option : 1

Q.5 उस वेन आरेख का चयन करें, जो निम्नलिखित वर्गों के बीच के संबंध को सबसे अच्छे तरीके से दर्शाता है।

राज्य, जिला, कॉलोनी

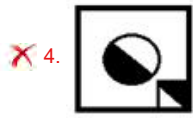
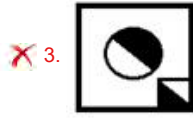
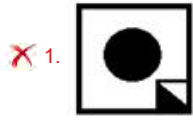
- Ans
- 1. 
 - 2. 
 - 3. 
 - 4. 

Question ID : 65497835094
Status : Answered
Chosen Option : 3

Q.6 दिए गए विकल्प में से उस आकृति का चयन करें जो निम्नलिखित आकृति श्रृंखला में प्रश्नवाचक चिह्न (?) के स्थान पर आ सकती है।



Ans



Question ID : 65497835086
Status : Answered
Chosen Option : 2

Q.7 उस विकल्प का चयन करें, जो दिए गए चित्र में अंतर्निहित नहीं है (आकृति को घुमाने की अनुमति नहीं है)।



Ans



Question ID : 65497835077
Status : Answered
Chosen Option : 3

Q.8 Six friends, K, L, M, N, O and P, are sitting around a hexagonal shaped table at equal distances between them. K is facing P. O is second to the right of N. N is sitting between K and L. M is to the immediate left of P. Who is sitting to the immediate right of O?

- Ans
- 1. P
 - 2. N
 - 3. L
 - 4. M

Question ID : 65497835072
Status : Answered
Chosen Option : 1

Q.9 दी गई शीट को मोड़कर एक घन बनाया गया है। इस प्रकार बने घन में, '&' दिखाने वाले पृष्ठ के विपरीत पृष्ठ पर कौन सा चिह्न होगा?

			&
@	+	%	#
\$			

- Ans
- 1. +
 - 2. \$
 - 3. @
 - 4. #

Question ID : 65497835076
Status : Answered
Chosen Option : 2

Q.10 दिए गए विकल्पों में से उस संख्या का चयन करें जो निम्नलिखित श्रृंखला में प्रश्न चिह्न (?) के स्थान पर आ सकती है।

9, 13, 52, 56, 224, 228, ?

- Ans
- 1. 1331
 - 2. 522
 - 3. 912
 - 4. 729

Question ID : 65497835089
Status : Answered
Chosen Option : 3

Q.11 चार अक्षर-समूह दिए गए हैं, जिनमें से तीन किसी तरह से एक समान हैं और एक असंगत है। उस अक्षर-समूह का चयन करें जो असंगत है।

- Ans
- 1. PLK
 - 2. KDF
 - 3. QJL
 - 4. NGI

Question ID : 65497835087
Status : Answered
Chosen Option : 1

Q.12 उस विकल्प का चयन करें, जिसकी संख्याएँ आपस में उसी प्रकार संबंधित हैं, जिस प्रकार दिए गए समुच्चय की संख्याएँ आपस में संबंधित हैं।

(5, 27, 8)

Ans 1. (16, 24, 12)

2. (11, 64, 15)

3. (4, 54, 6)

4. (8, 60, 6)

Question ID : 65497835080

Status : Not Answered

Chosen Option : --

Q.13 उस विकल्प का चयन करें, जो चौथी संख्या से उसी प्रकार संबंधित है जिस प्रकार पहली संख्या दूसरी संख्या से और पाँचवीं संख्या छठी संख्या से संबंधित है।

126 : 5 :: ? : 4 :: 28 : 3

Ans 1. 37

2. 65

3. 82

4. 17

Question ID : 65497835074

Status : Answered

Chosen Option : 2

Q.14 उस विकल्प का चयन करें जो तीसरे अक्षर-समूह से उसी प्रकार संबंधित है, जिस प्रकार दूसरा अक्षर-समूह पहले अक्षर-समूह से संबंधित है।

YKMP : QNLZ :: SURC : ?

Ans 1. DSTR

2. VTSB

3. KXQD

4. DSVT

Question ID : 65497835070

Status : Answered

Chosen Option : 4

Q.15 दिए गए विकल्पों में से वह संख्या चुनें जो निम्नलिखित श्रृंखला में प्रश्नवाचक चिह्न (?) के स्थान पर आ सकती है।

2, 6, 12, 20, 30, ?

Ans 1. 50

2. 48

3. 42

4. 36

Question ID : 65497835085

Status : Answered

Chosen Option : 3

Q.16 एक विशिष्ट कूट भाषा में, 'FOAMING' को 'AOFMGN' लिखा जाता है। उसी भाषा में 'BELIEVE' को क्या लिखा जाएगा?

- Ans
- 1. MFCJFWF
 - 2. EBILVEE
 - 3. LEBIEVE
 - 4. LEBEIEV

Question ID : 65497835078
Status : Answered
Chosen Option : 3

Q.17 श्री गुप्ता की आयु उनके बेटे शशांक से 26 वर्ष अधिक है। शशांक की बहन गार्गी शशांक से 4 वर्ष छोटी है। श्री गुप्ता की आयु गार्गी की आयु की चार गुनी है। शशांक की आयु कितनी है?

- Ans
- 1. 12 वर्ष
 - 2. 18 वर्ष
 - 3. 14 वर्ष
 - 4. 16 वर्ष

Question ID : 65497835081
Status : Answered
Chosen Option : 3

Q.18 'Hydrophobia' is related to 'Water' in the same way as 'Acrophobia' is related to _____.

- Ans
- 1. Darkness
 - 2. Examination
 - 3. Height
 - 4. Open spaces

Question ID : 65497835092
Status : Answered
Chosen Option : 1

Q.19 एक निश्चित कूट भाषा में, 'DESERT' को '415163' के रूप में कूटबद्ध किया जाता है और 'ARMY' को '2687' के रूप में कूटबद्ध किया जाता है। उसी भाषा में 'SMART' को किस रूप में कूटबद्ध किया जाएगा?

- Ans
- 1. 28563
 - 2. 58143
 - 3. 58436
 - 4. 58263

Question ID : 65497835088
Status : Answered
Chosen Option : 4

Q.20 उस सही विकल्प चयन करें, जो दिए गए शब्दों को उस क्रम में दर्शाता है जिस क्रम में वे अंग्रेजी शब्दकोश में दिखाई पड़ते हैं।

1. Favourite
2. Favourable
3. Favoured
4. Favouritism
5. Favourably

- Ans
- 1. 1, 3, 4, 5, 2
 - 2. 3, 1, 4, 2, 5
 - 3. 2, 5, 3, 1, 4
 - 4. 2, 1, 3, 4, 5

Question ID : 65497835083
Status : Answered
Chosen Option : 3

Q.21 Read the given statements and conclusions carefully. Assuming that the information given in the statements is true, even if it appears to be at variance with commonly known facts, decide which of the given conclusions logically follow(s) from the statements.

Statements:

1. All chocolates are fruits.
2. All fruits are coconuts.

Conclusions:

- I. Some chocolates are not coconuts.
- II. All chocolates are coconuts.
- III. Some coconuts are fruits.

- Ans
- 1. Only conclusion I follows
 - 2. None of the conclusions follow
 - 3. Only conclusions II and III follow
 - 4. Only conclusion II follows

Question ID : 65497835079
Status : Answered
Chosen Option : 3

Q.22 दिए गए समीकरण को संतुलित करने के लिए किन दो संख्याओं को परस्पर बदलना होगा?

$$15 \times 7 + 40 - 24 \div 8 = 124$$

- Ans
- 1. 24 और 8
 - 2. 24 और 40
 - 3. 7 और 15
 - 4. 7 और 24

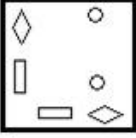
Question ID : 65497835075
Status : Answered
Chosen Option : 2

Q.23 निम्नांकित चित्रों में एक कागज को मोड़ने का क्रम और मुड़े हुए कागज को काटने का तरीका दर्शाया गया है। मुड़े हुए कागज को खोलने पर यह कैसा दिखाई देगा?

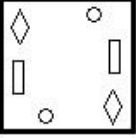


Ans

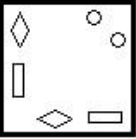
✗ 1.



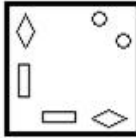
✗ 2.



✗ 3.



✓ 4.



Question ID : 65497835082

Status : Answered

Chosen Option : 4

Q.24 दिए गए विकल्पों में से उस अक्षर-समूह का चयन करें, जो निम्नलिखित श्रृंखला में प्रश्नवाचक चिह्न (?) के स्थान पर आ सकता है।

SPMJ, WTQN, YVSP, ?

Ans

✓ 1. QNKH

✗ 2. QNLH

✗ 3. MJGE

✗ 4. URPL

Question ID : 65497835091

Status : Answered

Chosen Option : 4

Q.25 Six friends, namely Avik, Rishi, Piyush, Sonal, Aashu, and Rohit, are standing in a row facing north. Rishi is standing to the left of Avik and to the right of Piyush. Sonal is standing to the right of Avik and to the left of Aashu. Aashu is standing to the left of Rohit. Which two friends are standing at the centre?

Ans

✗ 1. Rishi and Avik

✓ 2. Avik and Sonal

✗ 3. Aashu and Sonal

✗ 4. Rishi and Sonal

Question ID : 65497835093

Status : Answered

Chosen Option : 2

Section : Part B General Knowledge and General Awareness

Q.1 धौलावीरा और लोथल की प्राचीन हड़प्पा बस्तियाँ वर्तमान भारतीय राज्य _____ में स्थित हैं।

- Ans 1. गुजरात
 2. राजस्थान
 3. मध्य प्रदेश
 4. हरियाणा

Question ID : 65497835099
Status : Answered
Chosen Option : 1

Q.2 वर्ष 2014 में, भारत को आधिकारिक तौर पर निम्नलिखित में से किस बीमारी से मुक्त घोषित किया गया था?

- Ans 1. पोलियो
 2. रेबीज
 3. प्लेग
 4. धनुस्तंभ (टेटनस)

Question ID : 65497835096
Status : Answered
Chosen Option : 3

Q.3 The arteries divide into smaller vessels. On reaching the tissues, they divide further into extremely thin tubes called:

- Ans 1. arterioles
 2. venules
 3. capillaries
 4. veins

Question ID : 65497835107
Status : Not Answered
Chosen Option : --

Q.4 मुगल बादशाह अकबर के किस वित्त मंत्री ने 'दहसाला' नामक कराधान की प्रणाली शुरू की थी?

- Ans 1. मिर्जा अज़ीज़ कोका
 2. अब्दुर रहीम
 3. बैरम खान
 4. राजा टोडरमल

Question ID : 65497835105
Status : Answered
Chosen Option : 4

Q.5 दुर्योधन सिंह नेगी निम्नलिखित में से किस खेल से संबंधित हैं?

- Ans 1. बास्केटबॉल
 2. फुटबॉल
 3. भारोत्तोलन
 4. मुक्केबाज़ी

Question ID : 65497835119
Status : Not Answered
Chosen Option : --

Q.6 किस संविधान संशोधन के द्वारा रियासतों के पूर्व शासकों की उपाधियों और विशेषाधिकारों को समाप्त कर दिया गया?

- Ans 1. 26वें
 2. 25वें
 3. 27वें
 4. 24वें

Question ID : 65497835115
Status : Not Answered
Chosen Option : --

Q.7 Which great traveller wrote the book 'The Great Tang Dynasty Record on the Western Regions'?

- Ans 1. Xuanzang
 2. Fa Hien
 3. Al Beruni
 4. Nicolo Conti

Question ID : 65497835100
Status : Not Answered
Chosen Option : --

Q.8 2020-2021 के बजट के तहत निम्नलिखित में से कौन-सा कर समाप्त कर दिया गया है?

- Ans 1. संपत्ति कर
 2. लाभांश वितरण कर
 3. प्रतिभूति लेनदेन कर
 4. कॉर्पोरेट कर

Question ID : 65497835104
Status : Answered
Chosen Option : 4

Q.9 निम्नलिखित में से कौन सा स्मारक उत्तर प्रदेश में स्थित नहीं है?

- Ans 1. जहाँगीर का मकबरा
 2. एत्माद-उद-दौला का मकबरा
 3. अकबर का मकबरा
 4. शेख सलीम चिश्ती का मकबरा

Question ID : 65497835110
Status : Answered
Chosen Option : 1

Q.10 'द अल्केमिस्ट' पुस्तक निम्नलिखित में से किसने लिखी?

- Ans 1. एंथनी डोएर
 2. पाउलो कोएलो
 3. कैथरीन बर्न्स
 4. रस्किन बांड

Question ID : 65497835112
Status : Not Answered
Chosen Option : --

Q.11 लोथल स्थल पर हड़प्पा सभ्यता के अवशेषों की खोज निम्न में से किसने की थी?

- Ans
- 1. डी.आर. साहनी
 - 2. आर.एस. बिष्ट
 - 3. एस.आर. राव
 - 4. आर.डी. बनर्जी

Question ID : 65497835108
Status : Answered
Chosen Option : 2

Q.12 गूगल द्वारा निर्मित कंप्यूटर को संगणना करने में कितना समय लगता है जो कि इसे क्वॉंटम सर्वोच्चता तक पहुंचने वाला सबसे तेज़ कंप्यूटर बनाता है?

- Ans
- 1. 200 सेकंड
 - 2. 300 सेकंड
 - 3. 500 सेकंड
 - 4. 400 सेकंड

Question ID : 65497835116
Status : Not Answered
Chosen Option : --

Q.13 फरवरी 2018 में कितने राज्यों ने प्रायोगिक योजना (पायलट योजना) के रूप में 'स्वजल' (ग्रामीण पाइप पेयजल आपूर्ति के लिए सामुदायिक नेतृत्व विधि) को शुरू किया?

- Ans
- 1. चार
 - 2. दो
 - 3. आठ
 - 4. छह

Question ID : 65497835097
Status : Not Answered
Chosen Option : --

Q.14 _____ is an annual allowance for wear and tear of a capital good.

- Ans
- 1. Depression
 - 2. Acceleration
 - 3. Appreciation
 - 4. Depreciation

Question ID : 65497835114
Status : Not Answered
Chosen Option : --

Q.15 रेपसीड-मस्टर्ड का राष्ट्रीय अनुसंधान केंद्र भारत के निम्नलिखित में से किस राज्य में स्थित है?

- Ans
- 1. राजस्थान
 - 2. पंजाब
 - 3. गुजरात
 - 4. हरियाणा

Question ID : 65497835118
Status : Not Answered
Chosen Option : --

Q.16 Which Indian state won the PATA (Pacific Asia Travel Association) Gold Award Grand Title Winner 2020 for Marketing for Education and Training for its 'Human by Nature Print Campaign'?

- Ans 1. Sikkim
 2. Kerala
 3. Goa
 4. Meghalaya

Question ID : 65497835103
Status : Answered
Chosen Option : 2

Q.17 निम्नलिखित में से कौन-सी सिक्किम राज्य की पारंपरिक नृत्य शैली है?

- Ans 1. मुखौटा
 2. चुटकी
 3. भोटिया
 4. पांडव

Question ID : 65497835095
Status : Not Answered
Chosen Option : --

Q.18 भारत में राष्ट्रीय उपभोक्ता दिवस इस दिन मनाया जाता है:

- Ans 1. 22 नवंबर
 2. 24 दिसंबर
 3. 05 सितंबर
 4. 01 दिसंबर

Question ID : 65497835117
Status : Answered
Chosen Option : 2

Q.19 प्रवर, मंजीरा और मनेर नदियाँ, _____ नदी की दाहिनी सहायक नदियाँ हैं।

- Ans 1. नर्मदा
 2. कृष्णा
 3. कावेरी
 4. गोदावरी

Question ID : 65497835098
Status : Answered
Chosen Option : 2

Q.20 दिसंबर 2020 में निम्नलिखित में से किसे विश्व स्वास्थ्य संगठन (WHO) फाउंडेशन के पहले मुख्य कार्यकारी अधिकारी (CEO) के रूप में नियुक्त किया गया था?

- Ans 1. मेलिंडा गेट्स
 2. अनिल सोनी
 3. रणदीप गुलेरिया
 4. टेड्रोस अदनोम गेब्रेयसस

Question ID : 65497835109
Status : Answered
Chosen Option : 4

Q.21 किस वर्ष, नेपाल ने राजतंत्र को समाप्त कर दिया और एक लोकतांत्रिक गणराज्य के रूप में उभरा?

- Ans
- 1. 2010
 - 2. 2008
 - 3. 2013
 - 4. 2005

Question ID : 65497835102
Status : Not Answered
Chosen Option : --

Q.22 'सीता - वॉरियर ऑफ़ मिथिला' पुस्तक के लेखक निम्नलिखित में से कौन हैं?

- Ans
- 1. चेतन भगत
 - 2. अरविंद अडिगा
 - 3. अमीश त्रिपाठी
 - 4. विक्रम सेठ

Question ID : 65497835101
Status : Not Answered
Chosen Option : --

Q.23 निम्नलिखित में से कौन खेलो इंडिया यूथ गेम्स 2020 में सबसे तेज एथलीट बन गया?

- Ans
- 1. हिमा दास
 - 2. निर्मला श्योराण
 - 3. ऐंसी सोजन
 - 4. सांद्रा बाबू

Question ID : 65497835106
Status : Not Answered
Chosen Option : --

Q.24 'स्टैचू ऑफ़ यूनिटी' _____ में स्थित है।

- Ans
- 1. ललितपुर
 - 2. पटना
 - 3. भिलाई
 - 4. केवड़िया

Question ID : 65497835111
Status : Answered
Chosen Option : 4

Q.25 With reference to famous sports personalities, who among the following is a Dutch?

- Ans
- 1. Pele
 - 2. Johan Cruyff
 - 3. Jacques Kallis
 - 4. Don Bradman

Question ID : 65497835113
Status : Answered
Chosen Option : 2

Section : Part C Elementary Mathematics

Q.1 सौरभ अपनी मासिक आय का 20% अपने बच्चों की शिक्षा पर खर्च करता है। वह शेष राशि का 30% परिवहन और कपड़ों पर खर्च करता है। इसके अतिरिक्त, वह अपने पास शेष बची राशि का 50% किराए और घर के रखरखाव में खर्च करता है। इन सभी खर्चों के बाद, वह अपने पास शेष बची राशि का 50% अपने माता-पिता के पास भेज देता है। शेष बची राशि ₹11,200 की वह बचत करता है। उसकी मासिक आय कितनी है?

- Ans**
- 1. ₹11,200
 - 2. ₹86,000
 - 3. ₹1,00,000
 - 4. ₹80,000

Question ID : 65497835130
Status : Answered
Chosen Option : 4

Q.2 यदि $\frac{1}{a} : \frac{1}{7} = \frac{1}{3.43} : \frac{1}{a}$ है, तो a का मान कितना होगा?

- Ans**
- 1. 7.7
 - 2. 4.9
 - 3. 5.6
 - 4. 6.5

Question ID : 65497835142
Status : Answered
Chosen Option : 2

Q.3 एक विक्रेता किसी वस्तु को उसके अंकित मूल्य पर 13% छूट देकर बेचता है और उसे 20% लाभ प्राप्त होता है। यदि वस्तु के क्रय मूल्य में 10% की वृद्धि होती है, तो उसे उसी अंकित मूल्य पर अब कितने प्रतिशत की छूट देनी चाहिए, ताकि पहले जितना ही लाभ प्रतिशत अर्जित किया जा सके?

- Ans**
- 1. 5.3%
 - 2. 4.3%
 - 3. 2.5%
 - 4. 3.7%

Question ID : 65497835135
Status : Not Answered
Chosen Option : --

Q.4 एक निश्चित संख्या में लड्डू 10, 20 और 25 बच्चों के बीच बराबर-बराबर वितरित किए जा सकते हैं। लेकिन अगर 27 बच्चे हैं और उन्हें बराबर लड्डू देने पर 3 लड्डू शेष बच जाते हैं। लड्डूओं की न्यूनतम संख्या कितनी है?

- Ans**
- 1. 200
 - 2. 300
 - 3. 100
 - 4. 400

Question ID : 65497835122
Status : Not Answered
Chosen Option : --

Q.5 एक व्यक्ति को उसकी सामान्य चाल की $\frac{3}{4}$ चाल से चलते हुए एक निश्चित दूरी को तय करने में लगने वाला समय, उसकी सामान्य चाल पर उसी दूरी को तय करने में लगे समय से 1 घंटा 40 मिनट अधिक है। उस व्यक्ति को अपनी सामान्य चाल से उसी दूरी को तय करने में कितना समय (घंटों में) लगता है?

- Ans**
- 1. 3
 - 2. 4
 - 3. 6
 - 4. 5

Question ID : 65497835134
Status : Not Answered
Chosen Option : --

Q.6 A student travelled a distance of 30 km in 3 hours, partly on foot at a speed of 4 km/h and the remaining on a bicycle at a speed of 12 km/h. The ratio of the distance travelled on foot and that travelled on the bicycle is:

- Ans**
- 1. 4 : 5
 - 2. 1 : 9
 - 3. 2 : 3
 - 4. 3 : 5

Question ID : 65497835141
Status : Answered
Chosen Option : 2

Q.7 ₹6,000 की धनराशि के लिए 5% वार्षिक ब्याज दर पर 2 वर्ष में प्राप्त साधारण ब्याज और वार्षिक रूप से चक्रवृद्धि होने वाले चक्रवृद्धि ब्याज में कितना अंतर होगा?

- Ans**
- 1. ₹15
 - 2. ₹30
 - 3. ₹35
 - 4. ₹10

Question ID : 65497835127
Status : Answered
Chosen Option : 1

Q.8 साज़ीया की आय रेहाना की आय से 20% कम है। रेहाना की आय साज़ीया की आय से कितनी अधिक है?

- Ans**
- 1. 75%
 - 2. 80%
 - 3. 20%
 - 4. 25%

Question ID : 65497835139
Status : Answered
Chosen Option : 4

Q.9 तीन वर्ष पहले, एक फ्लैट का मूल्य ₹65,00,000 था। इसका मूल्य पहले, दूसरे और तीसरे वर्ष की समाप्ति पर क्रमशः 5%, 4% और 3% की दर पर हासित होता है। फ्लैट का वर्तमान मूल्य कितना है?

- Ans**
- 1. ₹53,98,185
 - 2. ₹55,72,320
 - 3. ₹57,50,160
 - 4. ₹59,31,744

Question ID : 65497835132
Status : Answered
Chosen Option : 3

Q.10 A और B एक साथ काम करके किसी कार्य को 30 दिनों में पूरा कर सकते हैं। A अकेले उस कार्य को 50 दिनों में पूरा कर सकता है। B अकेले उसी कार्य को कितने दिनों में पूरा कर सकता है?

- Ans**
- 1. 20
 - 2. 75
 - 3. 60
 - 4. 10

Question ID : 65497835128
Status : Answered
Chosen Option : 2

Q.11 सुमेर ने ₹800 प्रति कुर्सी के मूल्य पर 6 कुर्सियाँ और ₹1,200 में एक मेज खरीदा। उसने सभी कुर्सियों और मेज को ₹7,200 में बेच दिया। उसके लाभ का प्रतिशत कितना है?

- Ans**
- 1. 25
 - 2. 22
 - 3. 16.6
 - 4. 20

Question ID : 65497835125
Status : Answered
Chosen Option : 4

Q.12 $\left(2\frac{6}{7} \text{ of } 4\frac{1}{5} \div \frac{2}{3}\right) \times 5\frac{1}{9} \div \left(\frac{3}{4} \times 2\frac{2}{3} \text{ of } \frac{1}{2} \div \frac{1}{4}\right)$ का मान कितना होगा?

- Ans**
- 1. 5
 - 2. 25
 - 3. 21
 - 4. 23

Question ID : 65497835133
Status : Answered
Chosen Option : 4

Q.13 अमित ने विमल को एक अलमारी बेची और 10% का लाभ प्राप्त किया। विमल ने वही अलमारी चेतन को बेची और 10% का लाभ प्राप्त किया। यदि चेतन ने अलमारी को ₹14,520 में खरीदा, तो अमित के लिए अलमारी का क्रय मूल्य कितना था?

- Ans**
- 1. ₹13,200
 - 2. ₹12,000
 - 3. ₹12,100
 - 4. ₹13,000

Question ID : 65497835131
Status : Answered
Chosen Option : 2

Q.14 चार मित्रों A, B, C और D ने किसी व्यवसाय में क्रमशः 3 : 7 : 9 : 13 के अनुपात में निवेश किया। यदि C के लाभ का हिस्सा ₹8,910 है, तो A और B के लाभ का कुल हिस्सा कितना है?

- Ans**
- 1. ₹11,880
 - 2. ₹6,930
 - 3. ₹9,900
 - 4. ₹2,970

Question ID : 65497835126
Status : Answered
Chosen Option : 3

Q.15 14 m लंबे और 8 m चौड़े आयताकार पार्क के चारों ओर 1 m चौड़ा रास्ता है। रास्ते का क्षेत्रफल कितना है?

- Ans**
- 1. 20 m²
 - 2. 13 m²
 - 3. 48 m²
 - 4. 30 m²

Question ID : 65497835144
Status : Answered
Chosen Option : 3

Q.16 निम्नलिखित में से कौन सा गलत है?

विकल्प	क्रय मूल्य	विक्रय मूल्य	लाभ %	हानि %
1	80	96	20%	-----
2	8000	7000	-----	25/2%
3	7812	6786	-----	13%
4	1400	1526	9%	-----

- Ans
- 1. 2
 - 2. 3
 - 3. 4
 - 4. 1

Question ID : 65497835136
Status : Answered
Chosen Option : 2

Q.17 25 और 45 के बीच आने वाली अभाज्य संख्याओं का औसत कितना है?

- Ans
- 1. $34\frac{1}{11}$
 - 2. $33\frac{8}{9}$
 - 3. 36
 - 4. $36\frac{1}{5}$

Question ID : 65497835124
Status : Answered
Chosen Option : 4

Q.18 एक गणित की परीक्षा में 30 छात्रों द्वारा प्राप्त औसत अंक 100 में से 76 हैं। अनजाने में, एक छात्र के अंक 65 के बजाय 56 और दूसरे छात्र के अंक 48 के बजाय 84 लिखे गए थे। सही औसत ज्ञात करें।

- Ans
- 1. 65%
 - 2. 70%
 - 3. 80%
 - 4. 75.1%

Question ID : 65497835137
Status : Answered
Chosen Option : 4

Q.19 निम्नलिखित समीकरण का मान ज्ञात कीजिए।

$$\frac{5}{7} \text{ of } \frac{2}{5} + \frac{3}{7} - \frac{1}{14} \times 2 \div 1$$

Ans

- ✓ 1. $\frac{4}{7}$
✗ 2. $\frac{9}{7}$
✗ 3. 1
✗ 4. $\frac{6}{7}$

Question ID : 65497835123
Status : Answered
Chosen Option : 1

Q.20 दो पाइप एक कुंड को क्रमशः 12 और 15 घंटों में भर सकते हैं, जबकि तीसरा पाइप उसे 24 घंटे में खाली कर सकता है। यदि तीनों पाइप एक ही समय पर साथ खोले जाते हैं, तो कुंड भरने में कितना समय (घंटों और निकटतम मिनटों में) लगेगा?

Ans

- ✗ 1. 9 घंटे 13 मिनट
✗ 2. 9 घंटे 10 मिनट
✓ 3. 9 घंटे 14 मिनट
✗ 4. 9 घंटे 12 मिनट

Question ID : 65497835140
Status : Answered
Chosen Option : 1

Q.21 एक पर्स में ₹1, ₹2 और ₹5 के सिक्कों का अनुपात 8 : 5 : 3 है। अगर पर्स में रखे इन सिक्कों का कुल मूल्य ₹132 है, तो पर्स में ₹5 के कितने सिक्के हैं?

Ans

- ✗ 1. 32
✗ 2. 64
✗ 3. 20
✓ 4. 12

Question ID : 65497835120
Status : Answered
Chosen Option : 4

Q.22 ₹10,000 की धनराशि के लिए पहले वर्ष में 8%, दूसरे वर्ष में 10%, और तीसरे वर्ष में 12% की ब्याज दर पर 3 वर्षों का चक्रवृद्धि ब्याज कितना होगा?

Ans

- ✗ 1. ₹3,345.6
✗ 2. ₹3,330.6
✓ 3. ₹3,305.6
✗ 4. ₹3,350.6

Question ID : 65497835143
Status : Answered
Chosen Option : 3

Q.23 20%, 10% और 15% की क्रमिक छूटों की श्रृंखला के समतुल्य एकल छूट ज्ञात करें।

- Ans 1. 38.8%
 2. 37.5%
 3. 40%
 4. 45%

Question ID : 65497835138
Status : Answered
Chosen Option : 1

Q.24 21 m त्रिज्या वाले किसी वृत्ताकार पार्क का एक चक्कर, वर्गाकार पार्क के एक चक्कर के बराबर है। वर्गाकार पार्क की भुजा की लंबाई कितनी है?

$$\left(\pi = \frac{22}{7} \text{ लें} \right)$$

- Ans 1. 21 m
 2. 33 m
 3. 44 m
 4. 16.5 m

Question ID : 65497835121
Status : Answered
Chosen Option : 2

Q.25 वह सबसे छोटी संख्या ज्ञात करें, जिसे 8, 9 और 10 से विभाजित करने पर प्रत्येक में शेषफल 1 प्राप्त होता है।

- Ans 1. 360
 2. 359
 3. 361
 4. 181

Question ID : 65497835129
Status : Answered
Chosen Option : 3

Section : Part D English

Q.1 The following sentence has been divided into parts. One of them may contain an error. Select the part that contains the error from the given options. If you don't find any error, select 'No error' as your answer.

Radium is one of / the most valuable metal / in the world.

- Ans 1. the most valuable metal
 2. No error
 3. Radium is one of
 4. in the world

Question ID : 65497835146
Status : Not Answered
Chosen Option : --

Q.2 Select the most appropriate option to fill in the blank.

Trust is the most important element of a _____ relationship.

- Ans
- 1. fit
 - 2. humble
 - 3. sound
 - 4. kind

Question ID : 65497835152
Status : Not Answered
Chosen Option : --

Q.3 Select the most appropriate meaning of the given idiom.

From far and wide

- Ans
- 1. From somewhere
 - 2. From all directions
 - 3. From a far off place
 - 4. From a nearby place

Question ID : 65497835151
Status : Not Answered
Chosen Option : --

Q.4 Select the most appropriate meaning of the given idiom.

Alive and kicking

- Ans
- 1. Healthy and doing well
 - 2. Money earned in return for little work
 - 3. Strict and non-flexible
 - 4. Stout and chubby

Question ID : 65497835157
Status : Not Answered
Chosen Option : --

Q.5 The following sentence has been split into four segments. Identify the segment that contains a grammatical error.

I thought the actress / to be she, / but I / was not sure.

- Ans
- 1. to be she
 - 2. I thought the actress
 - 3. but I
 - 4. was not sure

Question ID : 65497835153
Status : Not Answered
Chosen Option : --

Q.6 Select the most appropriate option to fill in the blank.

The doctor's clinic is _____ to my house.

- Ans 1. adjunct
 2. far way
 3. adjacent
 4. akin

Question ID : 65497835162
Status : Not Answered
Chosen Option : --

Q.7 Select the most appropriate ANTONYM of the given word.

Abundant

- Ans 1. Spacious
 2. Devious
 3. Timorous
 4. Insufficient

Question ID : 65497835154
Status : Not Answered
Chosen Option : --

Q.8 Select the most appropriate option that can substitute the underlined segment in the given sentence. If there is no need to substitute it, select 'No substitution required'.

She has one younger sister, does she?

- Ans 1. haven't she
 2. No substitution required
 3. has she
 4. hasn't she

Question ID : 65497835145
Status : Not Answered
Chosen Option : --

Q.9 The following sentence has been split into four segments. Identify the segment that contains a grammatical error.

She asked her teacher / that if she could / explain that / problem again.

- Ans 1. problem again
 2. She asked her teacher
 3. that if she could
 4. explain that

Question ID : 65497835159
Status : Not Answered
Chosen Option : --

Q.10 Select the most appropriate synonym of the given word.

Turbulent

- Ans** 1. Ordered
 2. Peaceful
 3. Violent
 4. Non-violent

Question ID : 65497835160
Status : Not Answered
Chosen Option : --

Q.11 Select the INCORRECTLY spelt word.

- Ans** 1. Flame
 2. Flock
 3. Flore
 4. Flood

Question ID : 65497835149
Status : Not Answered
Chosen Option : --

Q.12 Select the most appropriate option that can substitute the underlined segment in the given sentence. If there is no need to substitute it, select 'No substitution required'.

Poetry can be the voice of our feelings if our minds are speechless with grief or joy.

- Ans** 1. even our minds
 2. No substitution required
 3. even when our minds
 4. also our minds

Question ID : 65497835164
Status : Not Answered
Chosen Option : --

Q.13 Select the option that can be used as a one-word substitute for the given group of words.

Dead body of an animal

- Ans** 1. Carcass
 2. Corpse
 3. Cadaver
 4. Cadence

Question ID : 65497835155
Status : Not Answered
Chosen Option : --

Q.14 Select the option that can be used as a one-word substitute for the given group of words.

The branch of science which deals with celestial bodies like stars, planets and natural objects in space

- Ans** 1. Astronomy
 2. Mythology
 3. Astrology
 4. Meteorology

Question ID : **65497835161**
Status : **Not Answered**
Chosen Option : --

Q.15 Select the **INCORRECTLY** spelt word

- Ans** 1. Appliances
 2. Circuit
 3. Phenomenon
 4. Assosiated

Question ID : **65497835156**
Status : **Not Answered**
Chosen Option : --

Q.16 Select the most appropriate option to fill in the blank.

He _____ a clever plan to safeguard his secret.

- Ans** 1. imagined
 2. devised
 3. created
 4. planned

Question ID : **65497835150**
Status : **Not Answered**
Chosen Option : --

Q.17 Select the most appropriate synonym of the given word.

Absolutely

- Ans** 1. Generally
 2. Doubtfully
 3. Definitely
 4. Questionably

Question ID : **65497835148**
Status : **Not Answered**
Chosen Option : --

Q.18 Select the option that can be used as a one-word substitute for the given group of words.

An imaginary ideal society free of poverty and suffering

- Ans 1. Utopia
 2. Paradise
 3. Eden
 4. Heaven

Question ID : 65497835158
Status : Not Answered
Chosen Option : --

Q.19 Select the most appropriate ANTONYM of the given word.

Dissuade

- Ans 1. Prevent
 2. Discourage
 3. Persuade
 4. Counsel

Question ID : 65497835163
Status : Not Answered
Chosen Option : --

Q.20 Select the most appropriate option that can substitute the underlined segment in the given sentence. If there is no need to substitute it, select 'No substitution required'.

She made the children to clean their room properly.

- Ans 1. clean
 2. cleaned
 3. No substitution required
 4. cleaning

Question ID : 65497835147
Status : Not Answered
Chosen Option : --

Comprehension:

In the following passage, some words have been deleted. Read the passage carefully and select the most appropriate option to fill in each blank.

Producing silk is a (1) _____ process and demands close attention. First, quality feed for the silkworm needs to be (2) _____. Then, the worms need to be carefully hand-reared in controlled environmental (3) _____ till the pupae spin the silk cocoons. The silk is extracted by human hand and (4) _____ woven into fabric. The traditional hand-loom silk always scores over the power looms in their individuality, character and (5) _____ beauty.

SubQuestion No : 21

Q.21 Select the most appropriate option to fill in blank no. 1.

- Ans 1. worthy
 2. filthy
 3. lengthy
 4. frothy

Question ID : 65497835166
Status : Not Answered
Chosen Option : --

Comprehension:

In the following passage, some words have been deleted. Read the passage carefully and select the most appropriate option to fill in each blank.

Producing silk is a (1) _____ process and demands close attention. First, quality feed for the silkworm needs to be (2) _____. Then, the worms need to be carefully hand-reared in controlled environmental (3) _____ till the pupae spin the silk cocoons. The silk is extracted by human hand and (4) _____ woven into fabric. The traditional hand-loom silk always scores over the power looms in their individuality, character and (5) _____ beauty.

SubQuestion No : 22

Q.22 Select the most appropriate option to fill in blank no. 2.

- Ans**
- 1. cultivated
 - 2. clobbered
 - 3. channelled
 - 4. chiselled

Question ID : 65497835167
Status : Not Answered
Chosen Option : --

Comprehension:

In the following passage, some words have been deleted. Read the passage carefully and select the most appropriate option to fill in each blank.

Producing silk is a (1) _____ process and demands close attention. First, quality feed for the silkworm needs to be (2) _____. Then, the worms need to be carefully hand-reared in controlled environmental (3) _____ till the pupae spin the silk cocoons. The silk is extracted by human hand and (4) _____ woven into fabric. The traditional hand-loom silk always scores over the power looms in their individuality, character and (5) _____ beauty.

SubQuestion No : 23

Q.23 Select the most appropriate option to fill in blank no. 3.

- Ans**
- 1. felicitations
 - 2. exhilarations
 - 3. conditions
 - 4. obstructions

Question ID : 65497835168
Status : Not Answered
Chosen Option : --

Comprehension:

In the following passage, some words have been deleted. Read the passage carefully and select the most appropriate option to fill in each blank.

Producing silk is a (1) _____ process and demands close attention. First, quality feed for the silkworm needs to be (2) _____. Then, the worms need to be carefully hand-reared in controlled environmental (3) _____ till the pupae spin the silk cocoons. The silk is extracted by human hand and (4) _____ woven into fabric. The traditional hand-loom silk always scores over the power looms in their individuality, character and (5) _____ beauty.

SubQuestion No : 24

Q.24 Select the most appropriate option to fill in blank no. 4.

- Ans**
- 1. only
 - 2. but
 - 3. than
 - 4. then

Question ID : 65497835169
Status : Not Answered
Chosen Option : --

Comprehension:

In the following passage, some words have been deleted. Read the passage carefully and select the most appropriate option to fill in each blank.

Producing silk is a (1)_____ process and demands close attention. First, quality feed for the silkworm needs to be (2)_____. Then, the worms need to be carefully hand-reared in controlled environmental (3)_____ till the pupae spin the silk cocoons. The silk is extracted by human hand and (4)_____ woven into fabric. The traditional hand-loom silk always scores over the power looms in their individuality, character and (5)_____ beauty.

SubQuestion No : 25

Q.25 Select the most appropriate option to fill in blank no. 5.

- Ans 1. classic
 2. dramatic
 3. drastic
 4. arctic

Question ID : 65497835170
Status : Not Answered
Chosen Option : --

Section : Part D Hindi

Q.1 दिए गए शब्द के समानार्थी शब्द का चयन कीजिए।

पपीहा

- Ans 1. पनही
 2. पपैया
 3. पन्नग
 4. पय

Question ID : 65497835179
Status : Not Answered
Chosen Option : --

Q.2 दिए गए वाक्य का वह भाग ज्ञात करें जिसमें कोई त्रुटि है। यदि कोई त्रुटि नहीं है, तो 'कोई त्रुटि नहीं है' चुनें।

जब तक (1)/ मैं नहीं आऊँ (2)/ तुम दफ्तर बंद मत करना।(3)/ कोई त्रुटि नहीं है(4)

- Ans 1. 4
 2. 3
 3. 2
 4. 1

Question ID : 65497835178
Status : Answered
Chosen Option : 3

Q.3 दिये गये वाक्यांश के लिए एक सार्थक शब्द का चयन कीजिए।

व्यक्ति जो ठीक समय पर तुरंत किसी बात या व्यक्ति को सोच ले

- Ans 1. प्रतिवादी
 2. प्रस्युत्पन्न
 3. प्रस्युत्पन्नमति
 4. प्रत्यागत

Question ID : 65497835174
Status : Answered
Chosen Option : 3

Q.4 दिए गए वाक्य का वह भाग ज्ञात करें जिसमें कोई त्रुटि है। यदि कोई त्रुटि नहीं है, तो 'कोई त्रुटि नहीं है' चुनें।

हमारे से (1)/ कोई काम (2)/ नहीं होता (3)/ कोई त्रुटि नहीं है (4)

Ans 1. 3

2. 1

3. 4

4. 2

Question ID : 65497835185

Status : Answered

Chosen Option : 2

Q.5 निम्नलिखित प्रश्न में, दिए गए चार विकल्पों में से उस विकल्प का चयन करें, जो मुहावरे का अर्थ व्यक्त करता है।

पगड़ी उछलना

Ans 1. सिर पर से टोपी निकाल लेना

2. सिर पर पगड़ी बाँधना

3. सम्मानित करना

4. अपमानित करना

Question ID : 65497835182

Status : Answered

Chosen Option : 4

Q.6 दिए गए वाक्य में रेखांकित खंड को प्रतिस्थापित करने के लिए सबसे उपयुक्त विकल्प का चयन करें। यदि इसे प्रतिस्थापित करने की आवश्यकता नहीं है, तो विकल्प 'किसी बदलाव की आवश्यकता नहीं है' का चयन करें।

एक गाय, दो घोड़े और एक बकरी मैदान में चर रही हैं।

Ans 1. चर रहे हैं

2. किसी बदलाव की आवश्यकता नहीं है।

3. चर रही है

4. चर रहा है

Question ID : 65497835188

Status : Answered

Chosen Option : 2

Q.7 दिए गए शब्द का विलोम शब्द चुनिए।

मुनाफा

Ans 1. नुकसान

2. बढ़ावा

3. बढ़ोत्तरी

4. लाभ

Question ID : 65497835181

Status : Answered

Chosen Option : 1

Q.8 निम्नलिखित प्रश्न में, दिए गए चार विकल्पों में से उस विकल्प का चयन करें, जो मुहावरे का अर्थ व्यक्त करता है।

दिन दूना रात चौगुना

- Ans
- 1. दिखावा करना
 - 2. दिन से रात चार गुना बड़ी है
 - 3. खूब उन्नति करना
 - 4. नुकसान ही नुकसान होना

Question ID : 65497835183
Status : Answered
Chosen Option : 3

Q.9 रिक्त स्थान को भरने के लिए सबसे उपयुक्त शब्द का चयन कीजिए।

गर्मी से पहले _____ ऋतु होती है।

- Ans
- 1. वर्षा
 - 2. हेमंत
 - 3. वसंत
 - 4. ग्रीष्म

Question ID : 65497835177
Status : Answered
Chosen Option : 3

Q.10 दिए गए वाक्य में रेखांकित खंड को प्रतिस्थापित करने के लिए सबसे उपयुक्त विकल्प का चयन करें। यदि इसे प्रतिस्थापित करने की आवश्यकता नहीं है, तो विकल्प 'किसी बदलाव की आवश्यकता नहीं है' का चयन करें।

खरगोश निरिह पशु है।

- Ans
- 1. नीरिः पशु है।
 - 2. किसी बदलाव की आवश्यकता नहीं है।
 - 3. नीरिह पशु है।
 - 4. निरीह पशु है।

Question ID : 65497835180
Status : Answered
Chosen Option : 4

Q.11 दिए गए वाक्य का वह भाग ज्ञात करें जिसमें कोई त्रुटि है। यदि कोई त्रुटि नहीं है, तो 'कोई त्रुटि नहीं है' चुनें।

छात्र ने अपने (1)/ अध्यापक को (2)/ अभिनंदन-पत्र प्रदान किया। (3)/ कोई त्रुटि नहीं है (4)

- Ans
- 1. 2
 - 2. 4
 - 3. 3
 - 4. 1

Question ID : 65497835171
Status : Answered
Chosen Option : 2

Q.12 रिक्त स्थान को भरने के लिए सबसे उपयुक्त शब्द का चयन करें।

भारत वस्तुतः ऋतुओं की _____ का देश है।

- Ans
- 1. समानता
 - 2. मनोरंजकता
 - 3. विविधता
 - 4. समकक्षता

Question ID : 65497835189
Status : Answered
Chosen Option : 3

Q.13 सही वर्तनी वाले शब्द का चयन कीजिए।

- Ans
- 1. परिशिष्ट
 - 2. परिशीष्ट
 - 3. परीशिष्ट
 - 4. परिशीष्ठ

Question ID : 65497835175
Status : Answered
Chosen Option : 3

Q.14 'विवाद से अलग रहने वाला' वाक्यांश के लिए एक शब्द होगा-

- Ans
- 1. अभियुक्त
 - 2. तटस्थ
 - 3. मध्यस्थ
 - 4. गवाह

Question ID : 65497835190
Status : Answered
Chosen Option : 1

Q.15 'स्थावर' शब्द का विलोम कौन-सा है?

- Ans
- 1. चंचल
 - 2. जड़
 - 3. स्थिर
 - 4. जंगम

Question ID : 65497835172
Status : Answered
Chosen Option : 2

Q.16 दिये गये वाक्यांश के लिए एक सार्थक शब्द दीजिए।

ग्राम का रहनेवाला

- Ans
- 1. नागर
 - 2. नागरिक
 - 3. गंवार
 - 4. ग्रामीण

Question ID : 65497835173
Status : Answered
Chosen Option : 4

Q.17 दिए गए शब्द के समानार्थी शब्द का चयन करें।

नदी

- Ans
- 1. चंचला
 - 2. तरिणी
 - 3. लहरी
 - 4. सरिता

Question ID : 65497835187
Status : Answered
Chosen Option : 4

Q.18 दिए गए वाक्य में रेखांकित खंड को प्रतिस्थापित करने के लिए सबसे उपयुक्त विकल्प का चयन करें।
यदि इसे प्रतिस्थापित करने की आवश्यकता नहीं है, तो विकल्प 'किसी बदलाव की आवश्यकता नहीं है'
का चयन करें।

हत्यारे को मृत्युदंड की सजा मिलेगी।

- Ans
- 1. की सजा मिलेगा
 - 2. मिलेगा
 - 3. का सजा मिलेगा
 - 4. किसी बदलाव की आवश्यकता नहीं है।

Question ID : 65497835186
Status : Answered
Chosen Option : 2

Q.19 रिक्त स्थान भरने के लिए सबसे उपयुक्त शब्द का चयन करें।

लखनऊ जाकर कार्यालय के कई _____ निपटाने है।

- Ans
- 1. कार्य
 - 2. भुगतान
 - 3. कर्त्तव्य
 - 4. वक्तव्य

Question ID : 65497835184
Status : Answered
Chosen Option : 1

Q.20 सही वर्तनी वाले शब्द का चयन कीजिए।

- Ans
- 1. प्रावीधिकि
 - 2. प्राविधिकी
 - 3. प्रविधीकी
 - 4. प्रवीधिकी

Question ID : 65497835176
Status : Answered
Chosen Option : 2

Comprehension:

दिए गए अनुच्छेद में कुछ शब्द हटा दिए गए हैं। दिए गए विकल्पों की सहायता से रिक्त स्थान भरें। प्रत्येक प्रश्न संख्या के लिए सबसे उपयुक्त विकल्प का चयन कीजिए।

मानव जीवन को सफल बनाने के लिए तीन साधनों का उल्लेख हमारे शास्त्रों में बताया गया है – ज्ञान, भक्ति और (1) _____। अन्य प्राणियों से (2) _____ नहीं हो सकती। उनका (3) _____ भी सीमित ही है। उसमें कोई वृद्धि नहीं हुई है। मनुष्य का ज्ञान है तो विशाल, पर उसकी भी सीमा है। बिना (4) _____ के ज्ञान बेकार है। ज्ञान वहीं व्यावहारिक है जो कर्म को आगे बढ़ाने में सहायक हो। कर्म की ही प्रधानता है। गीता में भी कर्म की महिमा और (5) _____ का व्याख्यान है।

SubQuestion No : 21

Q.21 गद्यांश के रिक्त स्थान (1) के लिए सर्वाधिक उपयुक्त शब्द होगा-

- Ans**
- 1. उपासना
 - 2. साधना
 - 3. आराधना
 - 4. कर्म

Question ID : 65497835192
Status : Answered
Chosen Option : 4

Comprehension:

दिए गए अनुच्छेद में कुछ शब्द हटा दिए गए हैं। दिए गए विकल्पों की सहायता से रिक्त स्थान भरें। प्रत्येक प्रश्न संख्या के लिए सबसे उपयुक्त विकल्प का चयन कीजिए।

मानव जीवन को सफल बनाने के लिए तीन साधनों का उल्लेख हमारे शास्त्रों में बताया गया है – ज्ञान, भक्ति और (1) _____। अन्य प्राणियों से (2) _____ नहीं हो सकती। उनका (3) _____ भी सीमित ही है। उसमें कोई वृद्धि नहीं हुई है। मनुष्य का ज्ञान है तो विशाल, पर उसकी भी सीमा है। बिना (4) _____ के ज्ञान बेकार है। ज्ञान वहीं व्यावहारिक है जो कर्म को आगे बढ़ाने में सहायक हो। कर्म की ही प्रधानता है। गीता में भी कर्म की महिमा और (5) _____ का व्याख्यान है।

SubQuestion No : 22

Q.22 गद्यांश के रिक्त स्थान (2) के लिए सर्वाधिक उपयुक्त शब्द होगा-

- Ans**
- 1. ज्ञान
 - 2. रीति
 - 3. कर्म
 - 4. भक्ति

Question ID : 65497835193
Status : Answered
Chosen Option : 4

Comprehension:

दिए गए अनुच्छेद में कुछ शब्द हटा दिए गए हैं। दिए गए विकल्पों की सहायता से रिक्त स्थान भरें। प्रत्येक प्रश्न संख्या के लिए सबसे उपयुक्त विकल्प का चयन कीजिए।

मानव जीवन को सफल बनाने के लिए तीन साधनों का उल्लेख हमारे शास्त्रों में बताया गया है – ज्ञान, भक्ति और (1) _____। अन्य प्राणियों से (2) _____ नहीं हो सकती। उनका (3) _____ भी सीमित ही है। उसमें कोई वृद्धि नहीं हुई है। मनुष्य का ज्ञान है तो विशाल, पर उसकी भी सीमा है। बिना (4) _____ के ज्ञान बेकार है। ज्ञान वहीं व्यावहारिक है जो कर्म को आगे बढ़ाने में सहायक हो। कर्म की ही प्रधानता है। गीता में भी कर्म की महिमा और (5) _____ का व्याख्यान है।

SubQuestion No : 23

Q.23 गद्यांश के रिक्त स्थान (3) के लिए सर्वाधिक उपयुक्त शब्द होगा-

- Ans**
- 1. कर्म
 - 2. धन
 - 3. शक्ति
 - 4. ज्ञान

Question ID : 65497835194
Status : Answered
Chosen Option : 4

Comprehension:

दिए गए अनुच्छेद में कुछ शब्द हटा दिए गए हैं। दिए गए विकल्पों की सहायता से रिक्त स्थान भरें। प्रत्येक प्रश्न संख्या के लिए सबसे उपयुक्त विकल्प का चयन कीजिए।

मानव जीवन को सफल बनाने के लिए तीन साधनों का उल्लेख हमारे शास्त्रों में बताया गया है – ज्ञान, भक्ति और (1) _____। अन्य प्राणियों से (2) _____ नहीं हो सकती। उनका (3) _____ भी सीमित ही है। उसमें कोई वृद्धि नहीं हुई है। मनुष्य का ज्ञान है तो विशाल, पर उसकी भी सीमा है। बिना (4) _____ के ज्ञान बेकार है। ज्ञान वहीं व्यावहारिक है जो कर्म को आगे बढ़ाने में सहायक हो। कर्म की ही प्रधानता है। गीता में भी कर्म की महिमा और (5) _____ का व्याख्यान है।

SubQuestion No : 24

Q.24 गद्यांश के रिक्त स्थान (4) के लिए सर्वाधिक उपयुक्त शब्द होगा-

- Ans** 1. शक्ति
 2. भक्ति
 3. कर्म
 4. धन

Question ID : 65497835195
Status : Answered
Chosen Option : 3

Comprehension:

दिए गए अनुच्छेद में कुछ शब्द हटा दिए गए हैं। दिए गए विकल्पों की सहायता से रिक्त स्थान भरें। प्रत्येक प्रश्न संख्या के लिए सबसे उपयुक्त विकल्प का चयन कीजिए।

मानव जीवन को सफल बनाने के लिए तीन साधनों का उल्लेख हमारे शास्त्रों में बताया गया है – ज्ञान, भक्ति और (1) _____। अन्य प्राणियों से (2) _____ नहीं हो सकती। उनका (3) _____ भी सीमित ही है। उसमें कोई वृद्धि नहीं हुई है। मनुष्य का ज्ञान है तो विशाल, पर उसकी भी सीमा है। बिना (4) _____ के ज्ञान बेकार है। ज्ञान वहीं व्यावहारिक है जो कर्म को आगे बढ़ाने में सहायक हो। कर्म की ही प्रधानता है। गीता में भी कर्म की महिमा और (5) _____ का व्याख्यान है।

SubQuestion No : 25

Q.25 गद्यांश के रिक्त स्थान (5) के लिए सर्वाधिक उपयुक्त शब्द होगा-

- Ans** 1. कर्म
 2. कर्मफल
 3. शक्तिफल
 4. धनफल

Question ID : 65497835196
Status : Answered
Chosen Option : 2