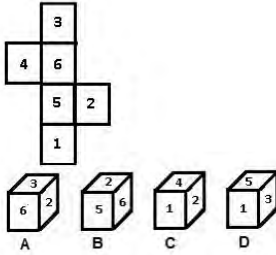


Constable GD in CAPFs NIA SSF and Rifleman GD in Assam Rifles Examination 2021

Roll Number	www.GovtJobsAlert.In
Candidate Name	www.GovtJobsAlert.In
Venue Name	iON Digital Zone iDZ Kanti
Exam Date	14/12/2021
Exam Time :	9:00 AM - 10:30 AM
Subject	Constable GD 2021

Section : Part A General Intelligence and Reasoning

Q.1 विकल्पों में से उन बॉक्स का चयन कीजिए जिन्हें निम्नांकित शीट को रेखाओं पर मोड़ने से प्राप्त किया जा सकता है।



- Ans
- 1. A और C
 - 2. A और B
 - 3. केवल D
 - 4. केवल A

Question ID : 65497829739
Status : Answered
Chosen Option : 2

Q.2 एक विशिष्ट कूट भाषा में, 'PROTECTION' को 'QQPSFBUHPM' लिखा जाता है। इस कूट भाषा में 'ABSOLUTELY' को क्या लिखा जाएगा?

- Ans
- 1. ZCTNVQMGNT
 - 2. BATNMTJUDMX
 - 3. BATMNUJDMX
 - 4. ABTNUMAMDX

Question ID : 65497829748
Status : Answered
Chosen Option : 2

Q.3 एक पंक्ति में बैठे विल्सन, पीटर, याग्निक और ज़ोहरा टीवी देख रहे हैं। याग्निक, ज़ोहरा के बाईं ओर बैठा है, जो विल्सन के बाईं ओर है। याग्निक के बाईं ओर कौन है, यदि वह पंक्ति के किसी भी छोर पर नहीं बैठा है?

- Ans
- 1. विल्सन
 - 2. पीटर
 - 3. ज़ोहरा
 - 4. याग्निक

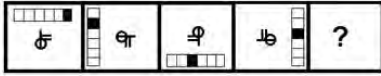
Question ID : 65497829736
Status : Answered
Chosen Option : 2

Q.4 पाँच व्यक्ति, A, B, C, D और E एक पंचभुजाकार मेज़ के एक-एक कोने पर मेज़ के केंद्र की ओर मुँह करके बैठे हैं। C, A की दाईं ओर और D की बाईं ओर दूसरे स्थान पर है। E, A और D के बीच नहीं है। E की बाईं ओर तीसरे स्थान पर कौन बैठा है?

- Ans
- 1. B
 - 2. D
 - 3. C
 - 4. A

Question ID : 65497829746
Status : Answered
Chosen Option : 1

Q.5 दिए गए विकल्पों में से उस आकृति का चयन कीजिए, जो निम्न आकृति श्रृंखला में प्रश्नवाचक चिन्ह (?) के स्थान पर आ सकती है।



Ans

- 1.
- 2.
- 3.
- 4.

Question ID : 65497829760
Status : Answered
Chosen Option : 4

Q.6 एक कक्षा में, 48 लड़के ऐसे हैं जिनकी लंबाई 157 cm से अधिक है। यदि यह संख्या कुल लड़कों की संख्या की $\frac{4}{5}$ है, और लड़कों की संख्या कुल छात्रों की संख्या की $\frac{3}{4}$ है, तो कक्षा में लड़कियों की संख्या कितनी है?

- Ans 1. 20
 2. 60
 3. 45
 4. 80

Question ID : 65497829751
Status : Answered
Chosen Option : 1

Q.7 यदि 'a', 'x' को निरूपित करता है, 'b', '+' को निरूपित करता है, 'c', '-' को निरूपित करता है और 'd', '*' को निरूपित करता है, तो निम्न व्यंजक का मान ज्ञात करें।

55a5b5c5d3

- Ans 1. 52
 2. 51
 3. 53
 4. 54

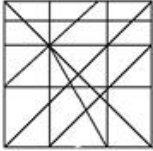
Question ID : 65497829738
Status : Answered
Chosen Option : 3

Q.8 उस विकल्प का चयन करें जिसमें दी गई आकृति अंतर्निहित है (घुमाने की अनुमति नहीं है)।

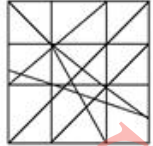


Ans

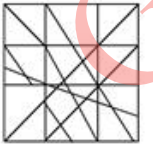
1.



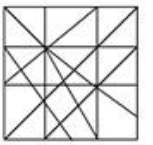
2.



3.



4.


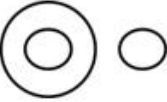




Question ID : 65497829740
Status : Answered
Chosen Option : 3

Q.9 उस वेन आरेख का चयन करें जो निम्नलिखित वर्गों के बीच संबंध को सर्वोत्तम ढंग से निरूपित करता है।

समुद्री जीव-जंतु, झींगा, वॉलरस

Ans

- ✗ 1. 
- ✗ 2. 
- ✓ 3. 
- ✗ 4. 

Question ID : 65497829747

Status : Answered

Chosen Option : 2

Q.10 दिए गए विकल्पों में से उस अक्षर-समूह का चयन करें जो निम्नलिखित श्रृंखला में प्रश्न चिह्न (?) के स्थान पर आ सकता है।

FJNR, CGKO, IMQU, ?

Ans

- ✗ 1. FJMR
- ✗ 2. DHLU
- ✗ 3. KOSX
- ✓ 4. LPTX

Question ID : 65497829744

Status : Answered

Chosen Option : 1

Q.11 दिए गए कथनों और निष्कर्षों को ध्यानपूर्वक पढ़ें। आपको कथनों में दी गई जानकारी को सही मान कर चलना है, भले ही वो सामान्य ज्ञात तथ्यों से भिन्न प्रतीत होती हो, और फिर निर्णय कीजिए कि दिए गए निष्कर्षों में से कौन सा/से निष्कर्ष कथनों का तार्किक रूप से अनुसरण करता है (करते हैं)।

कथन :

- I) कुछ दंत चिकित्सक सर्जन हैं।
II) सभी सर्जन डॉक्टर हैं।

निष्कर्ष :

- I) कुछ दंत चिकित्सक डॉक्टर हैं।
II) कोई भी सर्जन दंत चिकित्सक नहीं है।

Ans

- ✗ 1. निष्कर्ष I और II दोनों अनुसरण करते हैं।
- ✗ 2. केवल निष्कर्ष II अनुसरण करता है।
- ✗ 3. न तो निष्कर्ष I और न ही निष्कर्ष II अनुसरण करता है।
- ✓ 4. केवल निष्कर्ष I अनुसरण करता है।

Question ID : 65497829749

Status : Answered

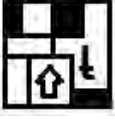
Chosen Option : 4

Q.12 दी गई आकृति के सही दर्पण प्रतिबिंब का चयन कीजिए, जबकि दर्पण को इसकी दाईं ओर रखा गया है।



Ans

1.



2.



3.



4.



Question ID : 65497829756

Status : Answered

Chosen Option : 4

Q.13 उस सही विकल्प का चयन कीजिए, जो दिए गए शब्दों के उस क्रम को दर्शाता है, जिस क्रम में वे अंग्रेज़ी शब्दकोश में मौजूद होते हैं।

1. Court
2. Course
3. Courteous
4. Count
5. Courage

Ans

1. 3, 5, 2, 1, 4

2. 4, 2, 5, 1, 3

3. 4, 5, 2, 3, 1

4. 4, 5, 2, 1, 3

Question ID : 65497829757

Status : Answered

Chosen Option : 4

Q.14 'कलम' का 'स्याही' से वही संबंध है, जो संबंध 'सुई' का '_____' से है।

Ans

1. सिलाई

2. धागे

3. प्रतिरूप

4. कपड़े

Question ID : 65497829745

Status : Answered

Chosen Option : 2

Q.15 दिए गए पैटर्न का ध्यानपूर्वक अध्ययन करें, और उस संख्या का चयन करें जो इसमें प्रश्नवाचक चिह्न (?) के स्थान पर आ सकती है।

9 10 13
8 12 14
43 54 ?

- Ans 1. 65
 2. 67
 3. 59
 4. 78

Question ID : 65497829750
Status : Answered
Chosen Option : 2

Q.16 एक निश्चित कूट भाषा में SINGER को 42-30 लिखा जाता है और GOALEE को 23-22 लिखा जाता है। उसी कूट भाषा में FLEXEN को किस प्रकार लिखा जाएगा?

- Ans 1. 19-66
 2. 25-44
 3. 23-43
 4. 25-49

Question ID : 65497829754
Status : Answered
Chosen Option : 3

Q.17 दिए गए विकल्पों में से उस संख्या का चयन कीजिए, जो निम्नलिखित श्रेणी में प्रश्नवाचक चिह्न (?) के स्थान पर आ सकती है।

30, 41, 57, 78, 104, 135, ?

- Ans 1. 240
 2. 171
 3. 215
 4. 202

Question ID : 65497829759
Status : Answered
Chosen Option : 2

Q.18 दिए गए विकल्पों में से उस संख्या का चयन कीजिए, जो निम्नलिखित श्रेणी में प्रश्नवाचक चिह्न (?) के स्थान पर आ सकती है।

28, 14, 14, 21, 42, 105, ?

- Ans 1. 210
 2. 305
 3. 315
 4. 255

Question ID : 65497829755
Status : Answered
Chosen Option : 1

Q.19 उस विकल्प का चयन कीजिए जो तीसरी संख्या से उसी तरह से संबंधित है जैसे दूसरी संख्या पहली संख्या से संबंधित है और छठी संख्या पाँचवीं संख्या से संबंधित है।

78 : 87 :: 43 : ? :: 65 : 56

Ans 1. 33

2. 34

3. 44

4. 45

Question ID : 65497829737

Status : Answered

Chosen Option : 2

Q.20 उस विकल्प का चयन करें जो चौथे अक्षर-समूह से उसी प्रकार संबंधित है जिस प्रकार पहला अक्षर-समूह, दूसरे अक्षर-समूह से संबंधित है।

AF : GL :: ? : SX

Ans 1. MR

2. HJ

3. RM

4. MN

Question ID : 65497829741

Status : Answered

Chosen Option : 1

Q.21 चार अक्षर-समूह दिए गए हैं, जिनमें से तीन किसी तरह से संगत हैं और एक असंगत है। उस अक्षर-समूह का चयन करें, जो अन्य से असंगत है।

Ans 1. CXTF

2. TOJE

3. NIDY

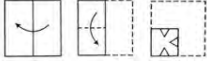
4. RMHC

Question ID : 65497829753

Status : Answered

Chosen Option : 1

Q.22 निम्नांकित चित्रों में एक कागज को मोड़ने के क्रम और मुड़े हुए कागज को काटने का तरीका दर्शाया गया है। मुड़े हुए कागज को खोलने पर यह कैसा दिखाई देगा?



Ans

- ✓ 1.
- ✗ 2.
- ✗ 3.
- ✗ 4.

Question ID : 65497829752

Status : Answered

Chosen Option : 1

Q.23 किसी निश्चित कूट भाषा में, 'NORVEY' को 'MNQUDX' के रूप में लिखा जाता है। उसी कूट भाषा में 'SYDNEY' को किस रूप में लिखा जाएगा?

- Ans ✗ 1. XXCMRD
- ✗ 2. RXMCDX
- ✗ 3. CMRXXD
- ✓ 4. RXCMDX

Question ID : 65497829742

Status : Answered

Chosen Option : 4

Q.24 अक्षरों के उस संयोजन का चयन कीजिए, जिसे दी गई श्रृंखला के रिक्त स्थानों में क्रमबद्ध रूप से रखने पर श्रृंखला पूर्ण हो जाएगी।

DP_X_D_N_R_P_XR

- Ans ✓ 1. NRPXDN
- ✗ 2. NRPXND
- ✗ 3. RNPXDN
- ✗ 4. NXPXDN

Question ID : 65497829758

Status : Answered

Chosen Option : 1

Q.25 धीरज संतोष का इकलौता पुत्र है और संतोष मेरी माँ की इकलौती पुत्री है। मेरी माँ का धीरज के साथ क्या संबंध है?

- Ans
- 1. माँ
 - 2. बहन
 - 3. नानी
 - 4. चाची/बुआ/मौसी

Question ID : 65497829743
Status : Answered
Chosen Option : 3

Section : Part B General Knowledge and General Awareness

Q.1 वर्ष 2020 में इंडियन प्रीमियर लीग (IPL) का कौन सा संस्करण आयोजित किया गया था?

- Ans
- 1. 12
 - 2. 11
 - 3. 14
 - 4. 13

Question ID : 65497829771
Status : Answered
Chosen Option : 4

Q.2 निम्नलिखित में से किसने अपने पहले उपन्यास 'शुगी बैन (Shuggie Bain)' के लिए वर्ष 2020 में कथा-साहित्य (फिक्शन) श्रेणी में बुकर पुरस्कार प्राप्त किया?

- Ans
- 1. एस. हरीश
 - 2. मिशेल ओबामा
 - 3. मैरीके लुकास रिजनेवेल्ड
 - 4. उगलस स्टुअर्ट

Question ID : 65497829766
Status : Not Answered
Chosen Option : --

Q.3 दिसंबर 2020 तक भारत के संविधान में कितने संशोधन किए गए थे?

- Ans
- 1. 104
 - 2. 105
 - 3. 106
 - 4. 107

Question ID : 65497829772
Status : Answered
Chosen Option : 1

Q.4 वसा ऊतक, मानव शरीर में पाया जाने वाला किस प्रकार का ऊतक है?

- Ans
- 1. उपकला (epithelial)
 - 2. पेशीय (muscular)
 - 3. तंत्रिका (nervous)
 - 4. संयोजी (connective)

Question ID : 65497829783
Status : Answered
Chosen Option : 2

Q.5 निम्नलिखित में से किस क्रिकेट खिलाड़ी ने एक किशोर के रूप में विश्व युवा शतरंज चैंपियनशिप में भारत का प्रतिनिधित्व किया है?

- Ans
- 1. अजिंक्य रहाणे
 - 2. युजवेंद्र चहल
 - 3. भुवनेश्वर कुमार
 - 4. मोहम्मद शामी

Question ID : 65497829777
Status : Not Answered
Chosen Option : --

Q.6 पक्के (Pakke) बाघ अभयारण्य निम्नलिखित में से किस राज्य में स्थित है?

- Ans
- 1. मिज़ोरम
 - 2. असम
 - 3. अरुणाचल प्रदेश
 - 4. आंध्र प्रदेश

Question ID : 65497829765
Status : Not Answered
Chosen Option : --

Q.7 वासु परांजपे का संबंध निम्नलिखित में से किस खेल से था?

- Ans
- 1. क्रिकेट
 - 2. बैडमिंटन
 - 3. हॉकी
 - 4. टेनिस

Question ID : 65497829781
Status : Not Answered
Chosen Option : --

Q.8 निम्नलिखित में से कौन सा शिक्षा आयोग 1882 में नियुक्त किया गया था?

- Ans
- 1. हंटर आयोग
 - 2. सैडलर आयोग
 - 3. कलकत्ता विश्वविद्यालय आयोग
 - 4. विश्वविद्यालय आयोग

Question ID : 65497829768
Status : Answered
Chosen Option : 1

Q.9 निम्नलिखित में से कौन सा एक एक-कोशिकीय जीव नहीं है?

- Ans
- 1. पादप
 - 2. बैक्टीरिया (जीवाणु)
 - 3. शैवाल
 - 4. प्रोटोजोन्स

Question ID : 65497829764
Status : Answered
Chosen Option : 1

Q.10 निम्नलिखित में से कौन सी गोदावरी नदी की एक सहायक नदी है?

- Ans 1. मुसी
 2. पेनगंगा
 3. तुंगभद्रा
 4. कोयना

Question ID : 65497829776
Status : Answered
Chosen Option : 3

Q.11 भारत का प्रथम डिजिटल केंद्रीय बजट वर्ष _____ में प्रस्तुत किया गया।

- Ans 1. 2021
 2. 2019
 3. 2020
 4. 2018

Question ID : 65497829782
Status : Answered
Chosen Option : 3

Q.12 भारत के किस चुनाव आयुक्त ने, 2020 में फ़िलिपींस-आधारित एशियाई विकास बैंक के उपाध्यक्ष के रूप में नियुक्त होने के लिए अपने पद से इस्तीफा दे दिया?

- Ans 1. राजीव कुमार
 2. अशोक लवासा
 3. सुशील चंद्रा
 4. ओम प्रकाश रावत

Question ID : 65497829773
Status : Not Answered
Chosen Option : --

Q.13 निम्न में से किस भारतीय राज्य की सीमा नेपाल से नहीं लगती है?

- Ans 1. असम
 2. उत्तराखंड
 3. पश्चिम बंगाल
 4. उत्तर प्रदेश

Question ID : 65497829779
Status : Answered
Chosen Option : 2

Q.14 खान अब्दुल गफ्फार खान निम्न में से किस क्षेत्र के पश्तून (पठान) नेता थे?

- Ans 1. संयुक्त प्रांत
 2. उत्तर-पश्चिम सीमांत प्रांत
 3. कूर्ग
 4. मध्य प्रांत

Question ID : 65497829775
Status : Answered
Chosen Option : 2

Q.15 निम्नलिखित में से किस राज्य ने 67वें राष्ट्रीय फिल्म पुरस्कार, 2019 में 'मोस्ट फिल्म फ्रेंडली स्टेट अवार्ड (Most Film Friendly State Award)' जीता?

- Ans
- 1. महाराष्ट्र
 - 2. गुजरात
 - 3. तेलंगाना
 - 4. सिक्किम

Question ID : 65497829780
Status : Not Answered
Chosen Option : --

Q.16 राष्ट्रीय शहरी स्वच्छता नीति किस वर्ष शुरू की गई थी?

- Ans
- 1. 1999
 - 2. 2008
 - 3. 2015
 - 4. 2014

Question ID : 65497829763
Status : Answered
Chosen Option : 4

Q.17 जुलाई 1968 में इंदिरा गांधी द्वारा भारत की कृषि में प्रभावशाली प्रगति को दर्ज करने के लिए आधिकारिक तौर पर एक डाक टिकट जारी किया गया। इसका शीर्षक निम्न में से क्या था?

- Ans
- 1. गेहूं की क्रांति
 - 2. श्वेत क्रांति
 - 3. नीली क्रांति
 - 4. हरित क्रांति

Question ID : 65497829774
Status : Answered
Chosen Option : 4

Q.18 मध्य प्रदेश और भारत के कुछ अन्य राज्यों में प्रति वर्ष सितंबर-अक्टूबर के महीने में युवाओं और शक्ति के देवता के सम्मान में जनजातियों द्वारा इनमें से कौन सा कृषि उत्सव मनाया जाता है?

- Ans
- 1. अट्टुकल पोंगल
 - 2. पूरम महोत्सव
 - 3. चंदनकुड़ा महोत्सव
 - 4. करम महोत्सव

Question ID : 65497829778
Status : Not Answered
Chosen Option : --

Q.19 भारत के संविधान का निम्नलिखित में से कौन सा अनुच्छेद परिभाषित करता है कि 14 वर्ष से कम आयु के किसी भी बच्चे को किसी कारखाने या खदान में काम करने के लिए या किसी अन्य खतरनाक रोजगार में नहीं लगाया जाएगा?

- Ans
- 1. अनुच्छेद 24
 - 2. अनुच्छेद 34
 - 3. अनुच्छेद 76
 - 4. अनुच्छेद 89

Question ID : 65497829769
Status : Answered
Chosen Option : 1

Q.20 सितंबर 2021 में वर्चुअल मोड में संपन्न हुए 13वें ब्रिक्स (BRICS) शिखर सम्मेलन की अध्यक्षता निम्न में से किसने की थी?

- Ans
- 1. भारत के प्रधानमंत्री
 - 2. दक्षिण अफ्रीका के राष्ट्रपति
 - 3. रूस के राष्ट्रपति
 - 4. ब्राजील के राष्ट्रपति

Question ID : 65497829785
Status : Answered
Chosen Option : 1

Q.21 सैयद अहमद खान द्वारा अलीगढ़ आंदोलन की शुरुआत निम्न में से किस वर्ष की गई?

- Ans
- 1. 1890
 - 2. 1875
 - 3. 1789
 - 4. 1909

Question ID : 65497829767
Status : Not Answered
Chosen Option : --

Q.22 भारत के सीमा सुरक्षा बल का स्थापना दिवस निम्न में से किस तिथि को मनाया जाता है?

- Ans
- 1. 1 दिसंबर
 - 2. 31 अक्टूबर
 - 3. 5 मई
 - 4. 13 सितंबर

Question ID : 65497829770
Status : Answered
Chosen Option : 3

Q.23 निम्नलिखित में से किस शहर में भारत का पहला चंदन संग्रहालय स्थापित किया जा रहा है?

- Ans
- 1. मैसूर
 - 2. बेंगलुरु
 - 3. पटना
 - 4. हैदराबाद

Question ID : 65497829762
Status : Answered
Chosen Option : 2

Q.24 अंतिम मौर्य सम्राट की हत्या निम्न में से किसके द्वारा की गई थी?

- Ans
- 1. विष्णुवर्धन
 - 2. कुलशेखर वर्मन
 - 3. पुष्यमित्र शुंग
 - 4. महेन्द्रवर्मन

Question ID : 65497829784
Status : Not Answered
Chosen Option : --

Q.25 2020-21 के केंद्रीय बजट के अनुसार, कितने पुरातत्व स्थलों को स्थानिक संग्रहालय वाले प्रतिमान स्थलों के रूप में विकसित किया जाएगा?

- Ans
- 1. 1.7
 - 2. 2.6
 - 3. 3.8
 - 4. 4.5

Question ID : 65497829761
Status : Not Answered
Chosen Option : --

Section : Part C Elementary Mathematics

Q.1 $\frac{72 + \frac{3}{8} \text{ of } 56 - 8}{95 - \frac{5}{2} \text{ of } (25 - 21)}$ का मान ज्ञात कीजिए।

- Ans
- 1. 1
 - 2. 10
 - 3. 5
 - 4. 4

Question ID : 65497829792
Status : Answered
Chosen Option : 1

Q.2 ब्याज दर के $12\frac{1}{2}\%$ से $10\frac{1}{2}\%$ हो जाने पर दीप्ति को साधारण ब्याज पर ₹300 की वार्षिक हानि होती है। दीप्ति द्वारा निवेशित राशि क्या थी?

- Ans
- 1. ₹14,000
 - 2. ₹15,000
 - 3. ₹15,500
 - 4. ₹16,000

Question ID : 65497829791
Status : Answered
Chosen Option : 2

Q.3 एक मेज का खुदरा मूल्य ₹1,100 है। यदि निर्माता, थोक व्यापारी और खुदरा विक्रेता के का लाभ प्रतिशत क्रमशः 5%, 10% और 12% हैं, तो मेज की उत्पादन लागत ज्ञात कीजिए। (मान पूर्णांक में ज्ञात करें)

- Ans
- 1. ₹825
 - 2. ₹725
 - 3. ₹790
 - 4. ₹850

Question ID : 65497829804
Status : Not Attempted and Marked For Review
Chosen Option : --

Q.4 एक आदमी गेहूँ खरीदना चाहता है। गेहूँ के मूल्य में $6\frac{1}{4}$ % की कमी के कारण, वह ₹150 में $\frac{1}{2}$ kg गेहूँ अधिक खरीद पाता है। गेहूँ की मूल और घटी दरों के बीच अंतर ज्ञात कीजिए।

- Ans
- ✓ 1. ₹1.25/kg
 - ✗ 2. ₹2.25/kg
 - ✗ 3. ₹3/kg
 - ✗ 4. ₹1.75/kg

Question ID : 65497829803
Status : Not Answered
Chosen Option : --

Q.5 वह सबसे छोटी पूर्ण वर्ग संख्या कौन सी है, जो 28, 32 और 56 से विभाज्य है?

- Ans
- ✗ 1. 2916
 - ✗ 2. 2304
 - ✗ 3. 3364
 - ✓ 4. 3136

Question ID : 65497829788
Status : Answered
Chosen Option : 4

Q.6 निम्न व्यंजक को सरल कीजिए:

$$2 - \left[2\frac{1}{2} \times \left(-\frac{2}{3} \right) - 5 \left\{ \frac{1}{5} - \left(\frac{3}{5} - \frac{7}{10} \right) \right\} \right]$$

- Ans
- ✗ 1. $2\frac{1}{6}$
 - ✓ 2. $5\frac{1}{6}$
 - ✗ 3. $4\frac{1}{6}$
 - ✗ 4. $-1\frac{1}{6}$

Question ID : 65497829809
Status : Answered
Chosen Option : 2

Q.7 A और B ने 13 दिन तक एक साथ कार्य किया और उन्हें ₹20,800 वेतन प्राप्त हुआ। A की कार्यक्षमता B की कार्यक्षमता की 7 गुनी थी। B की दैनिक आय क्या थी?

- Ans
- ✓ 1. ₹200
 - ✗ 2. ₹300
 - ✗ 3. ₹250
 - ✗ 4. ₹400

Question ID : 65497829794
Status : Answered
Chosen Option : 1

Q.8 एक पुस्तकालय में रविवार को आने वाले व्यक्तियों की औसत संख्या 240 और अन्य दिनों में आने वाले व्यक्तियों की औसत संख्या 150 है। सोमवार से शुरू होने वाले 30 दिनों के महीने में, प्रतिदिन आने वाले व्यक्तियों की औसत संख्या क्या है?

- Ans**
- 1. 146
 - 2. 162
 - 3. 126
 - 4. 152

Question ID : 65497829789
Status : Not Answered
Chosen Option : --

Q.9 25, 96, 108 और 225 का लघुत्तम समापवर्त्य (LCM) ज्ञात करें।

- Ans**
- 1. 21525
 - 2. 19000
 - 3. 21600
 - 4. 15630

Question ID : 65497829802
Status : Answered
Chosen Option : 3

Q.10 अमित एक वस्तु को उसके अंकित मूल्य पर 25% की छूट देकर ₹614.25 में बेचता है। यदि उसने छूट की पेशकश नहीं की होती, तो उसे 17% का लाभ होता। वस्तु का क्रय मूल्य (₹ में) ज्ञात कीजिए।

- Ans**
- 1. 700
 - 2. 800
 - 3. 750
 - 4. 720

Question ID : 65497829805
Status : Answered
Chosen Option : 1

Q.11 ₹x की राशि को A, B और C के बीच $\frac{3}{4} : \frac{4}{5} : \frac{5}{8}$ के अनुपात में विभाजित किया जाता है। यदि A और C के हिस्सों का अंतर ₹185 है, तो x का मान ज्ञात कीजिए।

- Ans**
- 1. 3,256
 - 2. 3,219
 - 3. 3,182
 - 4. 3,293

Question ID : 65497829806
Status : Answered
Chosen Option : 2

Q.12 एक निश्चित धनराशि, एक निश्चित वार्षिक साधारण ब्याज की दर पर $2\frac{1}{2}$ वर्षों में ₹8,330 और $5\frac{1}{2}$ वर्षों में ₹10,166 हो जाती है। समान राशि पर दुगुनी दर से 4 वर्षों में प्राप्त साधारण ब्याज (₹ में) कितना होगा?

- Ans**
- 1. 4,896
 - 2. 3,264
 - 3. 4,268
 - 4. 4,860

Question ID : 65497829807
Status : Not Answered
Chosen Option : --

Q.13 एक आदमी, एक वस्तु को 25% के लाभ पर बेचना चाहता था, परंतु उसने इस वस्तु को 25% की हानि पर ₹870 में बेचा। वह 25% लाभ प्राप्त करने के लिए वस्तु को किस मूल्य पर बेचना चाहता था?

- Ans**
- 1. ₹1,350
 - 2. ₹1,460
 - 3. ₹1,400
 - 4. ₹1,450

Question ID : 65497829793
Status : Answered
Chosen Option : 4

Q.14 ₹725 की धनराशि एक निश्चित वार्षिक ब्याज दर पर वर्ष की शुरुआत में उधार दी जाती है। 8 महीने के बाद ₹362.50 धनराशि और उधार दी जाती है, लेकिन इस पर ब्याज की दर पिछली दर से दोगुनी है। वर्ष के अंत में, दोनों ऋणों से साधारण ब्याज के रूप में ₹53.50 प्राप्त होता है। मूल वार्षिक ब्याज दर (दशमलव के दो स्थानों तक सही) कितनी थी?

- Ans**
- 1. 5.2%
 - 2. 6.53%
 - 3. 5.53%
 - 4. 4.53%

Question ID : 65497829796
Status : Not Answered
Chosen Option : --

Q.15 एक आयताकार मैदान का क्षेत्रफल, 64 m, 120 m और 136 m भुजाओं वाले एक त्रिभुजाकार भूखंड के क्षेत्रफल के बराबर है। यदि आयताकार मैदान की भुजाओं का अनुपात 5 : 3 है, तो इसका परिमाप (m में) कितना होगा?

- Ans**
- 1. 256
 - 2. 224
 - 3. 192
 - 4. 240

Question ID : 65497829808
Status : Not Answered
Chosen Option : --

Q.16 एक दुकानदार किसी वस्तु के अंकित मूल्य पर 20% छूट देने के बाद भी 4% का लाभ अर्जित करता है। उसने वस्तु पर क्रय मूल्य से कितने प्रतिशत अधिक मूल्य अंकित किया था?

- Ans**
- 1. 60%
 - 2. 40%
 - 3. 30%
 - 4. 35%

Question ID : 65497829795
Status : Not Answered
Chosen Option : --

Q.17 मधुर, मनीषा से तीन गुना अधिक तेजी से काम कर सकता है, और वे साथ मिलकर कोई काम 15 दिनों में पूरा कर सकते हैं। मधुर अकेले उस काम को कितने दिनों में पूरा कर पाएगा?

- Ans**
- 1. 45
 - 2. 30
 - 3. 25
 - 4. 20

Question ID : 65497829800
Status : Answered
Chosen Option : 4

Q.18 एक वर्गाकार मैदान का परिमाण, एक वृत्ताकार मैदान की परिधि का दोगुना है। यदि वर्गाकार मैदान का क्षेत्रफल 193600 m^2 है, तो वृत्ताकार मैदान का क्षेत्रफल ज्ञात करें। (m^2 में) ($\pi = \frac{22}{7}$ लें)

- Ans**
- 1. 40400
 - 2. 75000
 - 3. 61600
 - 4. 30800

Question ID : 65497829787
Status : Not Answered
Chosen Option : --

Q.19 13 और 43 के बीच की उन सभी संख्याओं का औसत कितना होगा जो 3 से विभाज्य हैं।

- Ans**
- 1. 26
 - 2. 28.5
 - 3. 25.5
 - 4. 27.5

Question ID : 65497829797
Status : Answered
Chosen Option : 2

Q.20 तीन क्रमागत छूटों 5%, 10% और 16% के समतुल्य एकल छूट ज्ञात करें।

- Ans
- 1. 29.32%
 - 2. 29.50%
 - 3. 30.28%
 - 4. 28.18%

Question ID : 65497829798
Status : Answered
Chosen Option : 4

Q.21 तीन वर्ष पहले, A और B की आयु का अनुपात 8 : 9 था। पाँच वर्ष बाद, A और B की आयु का अनुपात 10 : 11 हो जाएगा। यदि वर्तमान में, C, A से 8 वर्ष छोटा है, तो B और C की वर्तमान आयु का अनुपात क्या होगा?

- Ans
- 1. 13 : 11
 - 2. 11 : 7
 - 3. 12 : 7
 - 4. 13 : 9

Question ID : 65497829790
Status : Not Answered
Chosen Option : --

Q.22 किस संख्या का 3%, 12 के 4% और 80 के 6% के योग के बराबर है?

- Ans
- 1. 314
 - 2. 140
 - 3. 127
 - 4. 176

Question ID : 65497829799
Status : Answered
Chosen Option : 4

Q.23 एक मोटरबोट धारा की विपरीत दिशा में 33 km और धारा की दिशा में 21 km जाती है। शांत जल में मोटरबोट की चाल 25 km/h है और धारा की चाल 3 km/h है। मोटरबोट द्वारा लिया गया कुल समय ज्ञात कीजिए।

- Ans
- 1. 2 h 15 min
 - 2. 2 h 30 min
 - 3. 2 h 45 min
 - 4. 2 h 10 min

Question ID : 65497829810
Status : Answered
Chosen Option : 1

Q.24 A और B की आय का अनुपात 3 : 7 है और उनके व्यय का अनुपात 2 : 5 है। यदि उनमें से प्रत्येक, प्रति माह ₹5500 की बचत करता है, तो B की आय (₹ में) ज्ञात करें।

- Ans
- 1. 148500
 - 2. 49500
 - 3. 115500
 - 4. 82500

Question ID : 65497829786
Status : Answered
Chosen Option : 3

Q.25 60 km/h की चाल से चलती हुई एक ट्रेन, उसी दिशा में 24 km/h की चाल चलती हुई एक दूसरी ट्रेन को 30 सेकंड में पार करती है। दोनों ट्रेनों की लंबाइयों का योग कितना होगा?

- Ans
- 1. 230 km
 - 2. 300 m
 - 3. 300 km
 - 4. 230 m

Question ID : 65497829801
Status : Answered
Chosen Option : 3

Section : Part D English

Q.1 Select the option that can be used as a one-word substitute for the given group of words.

A condition in which one is unable to sleep over a period of time

- Ans
- 1. Insomnia
 - 2. Sickness
 - 3. Complaint
 - 4. Disorder

Question ID : 65497829812
Status : Not Answered
Chosen Option : --

Q.2 Select the most appropriate option to fill in the blank.

The UK government has decided to _____ a further one-year extension for foreign doctors and nurses whose visas are set to expire before 31 March 2021, as they battle the Covid -19 pandemic.

- Ans
- 1. strengthen
 - 2. recover
 - 3. sanction
 - 4. improve

Question ID : 65497829816
Status : Not Answered
Chosen Option : --

Q.3 Select the most appropriate option that can substitute the underlined word in the given sentence.

She succeeded in convincing her family that her chosen path was the one she just had to depend upon.

- Ans**
- 1. ponder
 - 2. dwell
 - 3. tread
 - 4. dread

Question ID : 65497829811
Status : Not Answered
Chosen Option : --

Q.4 Select the option that can be used as a one-word substitute for the given group of words.

Ability to see what might happen in the future

- Ans**
- 1. Hindsight
 - 2. Provision
 - 3. Prospect
 - 4. Foresight

Question ID : 65497829829
Status : Not Answered
Chosen Option : --

Q.5 The following sentence has been split into four segments. Identify the segment that contains a grammatical error.

The young girl's / long black hair / that reached her waist / were loosely plaited.

- Ans**
- 1. The young girl's
 - 2. were loosely plaited
 - 3. long black hair
 - 4. that reached her waist

Question ID : 65497829813
Status : Not Answered
Chosen Option : --

Q.6 Select the most appropriate synonym of the given word.

Reliable

- Ans**
- 1. Suitable
 - 2. Dependable
 - 3. Affordable
 - 4. Capable

Question ID : 65497829821
Status : Not Answered
Chosen Option : --

Q.7 Select the most appropriate ANTONYM of the given word.

Candid

- Ans 1. Biased
 2. Blunt
 3. Sharp
 4. Frank

Question ID : 65497829828
Status : Not Answered
Chosen Option : --

Q.8 Select the most appropriate synonym of the given word.

Cute

- Ans 1. Charming
 2. Familiar
 3. Skilled
 4. Ignorant

Question ID : 65497829814
Status : Not Answered
Chosen Option : --

Q.9 Select the most appropriate ANTONYM of the given word.

Benign

- Ans 1. Gentle
 2. Malignant
 3. Compassionate
 4. Amiable

Question ID : 65497829819
Status : Not Answered
Chosen Option : --

Q.10 Select the most appropriate meaning of the given idiom.

Hit the sack

- Ans 1. Fool someone
 2. Go to bed
 3. Find a treasure
 4. Work hard

Question ID : 65497829826
Status : Not Answered
Chosen Option : --

Q.11 The following sentence has been split into four segments. Identify the segment that contains a grammatical error.

We are all / familiar to a / use of fingerprints / in solving crimes.

- Ans**
- 1. familiar to a
 - 2. use of fingerprints
 - 3. in solving crimes
 - 4. We are all

Question ID : 65497829827
Status : Not Answered
Chosen Option : --

Q.12 Select the INCORRECTLY spelt word.

- Ans**
- 1. Pauper
 - 2. Awesome
 - 3. Buffett
 - 4. Mischief

Question ID : 65497829830
Status : Not Answered
Chosen Option : --

Q.13 Select the option that will improve the underlined part of the given sentence. In case no improvement is needed, select 'No improvement required'.

What is the average height of an American male?

- Ans**
- 1. a average height for
 - 2. an average height in
 - 3. an average height of
 - 4. No improvement required

Question ID : 65497829817
Status : Not Answered
Chosen Option : --

Q.14 Select the most appropriate option to fill in the blank.

The people of Himachal Pradesh are known for their rich cultural _____.

- Ans**
- 1. fashion
 - 2. estate
 - 3. portion
 - 4. heritage

Question ID : 65497829818
Status : Not Answered
Chosen Option : --

Q.15 Select the option that is closest in meaning to the underlined idiom/phrase in the given sentence.

My mother said, "Think carefully about your life's goal and then don't give up till you achieve it."

- Ans
- 1. examine it
 - 2. accept it
 - 3. postpone it
 - 4. stop doing it

Question ID : 65497829822
Status : Not Answered
Chosen Option : --

Q.16 Select the most appropriate option that can substitute the underlined segment in the given sentence. If there is no need to substitute it, select 'No substitution required'.

Lot of people want to go on the excursion.

- Ans
- 1. The lot of people
 - 2. No substitution required
 - 3. The lots of people
 - 4. Lots of people

Question ID : 65497829824
Status : Not Answered
Chosen Option : --

Q.17 Select the most appropriate option to fill in the blank.

The head office is _____ overseas but has branches in many cities in India.

- Ans
- 1. setting
 - 2. location
 - 3. set
 - 4. located

Question ID : 65497829825
Status : Not Answered
Chosen Option : --

Q.18 The following sentence has been split into four segments. Identify the segment that contains a grammatical error.

My friend sold / all the furnitures / he had before / leaving the city.

- Ans
- 1. My friend sold
 - 2. leaving the city
 - 3. all the furnitures
 - 4. he had before

Question ID : 65497829820
Status : Not Answered
Chosen Option : --

Q.19 Select the option that can be used as a one-word substitute for the given group of words.

A person who walks, especially in an area where vehicles go

- Ans 1. Pedagogue
 2. Pedestrian
 3. Pedestal
 4. Footman

Question ID : 65497829823
Status : Not Answered
Chosen Option : --

Q.20 Select the INCORRECTLY spelt word.

- Ans 1. Player
 2. Ideal
 3. Aristocret
 4. Filling

Question ID : 65497829815
Status : Not Answered
Chosen Option : --

Comprehension:

In the following passage some words have been deleted. Read the passage carefully and select the most appropriate option to fill in each blank.

A poor Arab was travelling in the desert, thirsty and tired. He soon came (1) _____ an oasis and drank water from (2) _____. Filling his leather bottle with the water, he (3) _____ his journey to Baghdad. After (4) _____ an audience with the Caliph there, he (5) _____ him with the bottle of water. It was the only gift he had.

SubQuestion No : 21

Q.21 Select the most appropriate option to fill in blank no.1.

- Ans 1. upon
 2. into
 3. with
 4. over

Question ID : 65497829832
Status : Not Answered
Chosen Option : --

Comprehension:

In the following passage some words have been deleted. Read the passage carefully and select the most appropriate option to fill in each blank.

A poor Arab was travelling in the desert, thirsty and tired. He soon came (1) _____ an oasis and drank water from (2) _____. Filling his leather bottle with the water, he (3) _____ his journey to Baghdad. After (4) _____ an audience with the Caliph there, he (5) _____ him with the bottle of water. It was the only gift he had.

SubQuestion No : 22

Q.22 Select the most appropriate option to fill in blank no.2.

- Ans 1. him
 2. her
 3. them
 4. it

Question ID : 65497829833
Status : Not Answered
Chosen Option : --

Comprehension:

In the following passage some words have been deleted. Read the passage carefully and select the most appropriate option to fill in each blank.

A poor Arab was travelling in the desert, thirsty and tired. He soon came (1) _____ an oasis and drank water from (2) _____. Filling his leather bottle with the water, he (3) _____ his journey to Baghdad. After (4) _____ an audience with the Caliph there, he (5) _____ him with the bottle of water. It was the only gift he had.

SubQuestion No : 23

Q.23 Select the most appropriate option to fill in blank no.3.

- Ans** 1. continued
 2. promoted
 3. maintained
 4. progressed

Question ID : 65497829834
Status : Not Answered
Chosen Option : --

Comprehension:

In the following passage some words have been deleted. Read the passage carefully and select the most appropriate option to fill in each blank.

A poor Arab was travelling in the desert, thirsty and tired. He soon came (1) _____ an oasis and drank water from (2) _____. Filling his leather bottle with the water, he (3) _____ his journey to Baghdad. After (4) _____ an audience with the Caliph there, he (5) _____ him with the bottle of water. It was the only gift he had.

SubQuestion No : 24

Q.24 Select the most appropriate option to fill in blank no.4.

- Ans** 1. removing
 2. securing
 3. storing
 4. requiring

Question ID : 65497829835
Status : Not Answered
Chosen Option : --

Comprehension:

In the following passage some words have been deleted. Read the passage carefully and select the most appropriate option to fill in each blank.

A poor Arab was travelling in the desert, thirsty and tired. He soon came (1) _____ an oasis and drank water from (2) _____. Filling his leather bottle with the water, he (3) _____ his journey to Baghdad. After (4) _____ an audience with the Caliph there, he (5) _____ him with the bottle of water. It was the only gift he had.

SubQuestion No : 25

Q.25 Select the most appropriate option to fill in blank no.5.

- Ans** 1. presented
 2. granted
 3. donated
 4. offered

Question ID : 65497829836
Status : Not Answered
Chosen Option : --

Section : Part D Hindi

Q.1 'लुप्त' का विलोम शब्द होगा-

- Ans
- 1. जाग्रत
 - 2. सुप्त
 - 3. व्यक्त
 - 4. लिप्त

Question ID : 65497829855
Status : Answered
Chosen Option : 2

Q.2 दिए गए वाक्य में रेखांकित खंड को प्रतिस्थापित करने के लिए सबसे उपयुक्त विकल्प का चयन करें।
यदि इसे प्रतिस्थापित करने की आवश्यकता नहीं है, तो विकल्प 'किसी बदलाव की आवश्यकता नहीं है'
का चयन करें।

अपने उज्ज्वल भविष्य के लिए, हमारा उद्देश्य सफलता प्राप्ति होनी चाहिए।

- Ans
- 1. सफलता-प्राप्ति होना चाहिए।
 - 2. सफलता को प्राप्त होनी चाहिए।
 - 3. किसी बदलाव की आवश्यकता नहीं है।
 - 4. सफलता प्राप्त होनी चाहिए।

Question ID : 65497829844
Status : Answered
Chosen Option : 4

Q.3 दिए गए वाक्य में रेखांकित खंड को प्रतिस्थापित करने के लिए सबसे उपयुक्त विकल्प का चयन करें।
यदि इसे प्रतिस्थापित करने की आवश्यकता नहीं है, तो विकल्प 'किसी बदलाव की आवश्यकता नहीं है'
का चयन करें।

इधर-उधर भटकते हुए, आवारे पशु लोगों के खेतों में जा पहुंचे।

- Ans
- 1. आवारा पशु लोगों के
 - 2. किसी बदलाव की आवश्यकता नहीं है।
 - 3. आवारे पशु लोगों की
 - 4. आवारे पशुओं लोगों के

Question ID : 65497829848
Status : Answered
Chosen Option : 1

Q.4 'मुँह धो आना' मुहावरे का सही अर्थ क्या है?

- Ans
- 1. धोखा खाना
 - 2. सफाई पसंद होना
 - 3. नींद से जागना
 - 4. आशा न रखना

Question ID : 65497829856
Status : Answered
Chosen Option : 4

Q.5 सही वर्तनी वाले शब्द का चयन करें।

- Ans
- 1. परिणती
 - 2. परिणति
 - 3. परिनति
 - 4. पऋणति

Question ID : 65497829839
Status : Answered
Chosen Option : 1

Q.6 दिये गये वाक्यांश के लिए एक शब्द दीजिये।

एक ही माँ की कोख से पैदा हुए बच्चे

- Ans
- 1. सहूदर
 - 2. सगोत्र
 - 3. सउदर
 - 4. सहोदर

Question ID : 65497829843
Status : Answered
Chosen Option : 2

Q.7 जिससे बढ़कर ऊँचा कोई न हो' वाक्यांश के लिए एक शब्द होगा-

- Ans
- 1. महत्तम
 - 2. लघुत्तम
 - 3. उच्चतम
 - 4. निम्नतम

Question ID : 65497829850
Status : Answered
Chosen Option : 3

Q.8 दिये गये वाक्य के किस भाग में त्रुटि है?

महात्मा गाँधी को राष्ट्रपिता कहा जाता है।

- Ans
- 1. को राष्ट्रपिता
 - 2. महात्मा गाँधी
 - 3. कहा
 - 4. जाता है।

Question ID : 65497829851
Status : Answered
Chosen Option : 1

Q.9 दिए गए शब्द के समानार्थी शब्द का चयन करें।

पृथ्वी

- Ans
- 1. धराधर
 - 2. अटवी
 - 3. भार्गवी
 - 4. धरित्री

Question ID : 65497829846
Status : Answered
Chosen Option : 4

Q.10 दिए गए शब्द का विलोम चुनें।

परलोक

- Ans
- 1. स्वर्गलोक
 - 2. इहलोक
 - 3. इन्द्रलोक
 - 4. चंद्रलोक

Question ID : 65497829842
Status : Answered
Chosen Option : 4

Q.11 दिए गए वाक्य का वह भाग ज्ञात करें जिसमें कोई त्रुटि है। यदि कोई त्रुटि नहीं है, तो 'कोई त्रुटि नहीं है' चुनें।

राम की (1)/ दाहिनी दिशा में (2)/ गोविन्द बैठा है (3)/ कोई त्रुटि नहीं है (4)

- Ans
- 1. 1
 - 2. 4
 - 3. 3
 - 4. 2

Question ID : 65497829845
Status : Answered
Chosen Option : 1

Q.12 'आँख लगाना' मुहावरे का सही अर्थ है-

- Ans
- 1. किसी के प्रति आकर्षित होना
 - 2. इशारा करना
 - 3. धोखा खाना
 - 4. नींद आ जाना

Question ID : 65497829853
Status : Answered
Chosen Option : 4

Q.13 रिक्त स्थान को भरने के लिए सबसे उपयुक्त विकल्प का चयन करें।

सीमा दसवीं कक्षा के 'क' _____ में पढ़ती है।

- Ans
- 1. कोटि
 - 2. अनुभाग
 - 3. वर्ग
 - 4. श्रेणी

Question ID : 65497829854
Status : Answered
Chosen Option : 2

Q.14 रिक्त स्थान की पूर्ति के लिए सबसे उपयुक्त शब्द का चयन करें-

साहित्य और समाज का _____ संबंध है।

- Ans
- 1. घनिष्ठ
 - 2. घोर
 - 3. घनघोर
 - 4. घृणित

Question ID : 65497829849
Status : Answered
Chosen Option : 1

Q.15 दिए गए वाक्य में रेखांकित खंड को प्रतिस्थापित करने के लिए सबसे उपयुक्त विकल्प का चयन करें।
यदि इसे प्रतिस्थापित करने की आवश्यकता नहीं है, तो विकल्प 'किसी बदलाव की आवश्यकता नहीं है'
का चयन करें।

यह भोजन दस आदमी के लिए है।

- Ans
- 1. दस आदमी का
 - 2. दस आदमियों का
 - 3. किसी बदलाव की आवश्यकता नहीं है।
 - 4. दस आदमियों के

Question ID : 65497829847
Status : Answered
Chosen Option : 4

Q.16 रिक्त स्थान की पूर्ति के लिए सबसे उपयुक्त शब्द का चयन करें-

उसकी खुशी का _____ मैं आज तक नहीं जान पाया।

- Ans
- 1. कारण
 - 2. फल
 - 3. ठिकाना
 - 4. प्रकार

Question ID : 65497829837
Status : Answered
Chosen Option : 1

Q.17 दिए गए वाक्य का वह भाग ज्ञात करें जिसमें कोई त्रुटि है। यदि कोई त्रुटि नहीं है, तो 'कोई त्रुटि नहीं है'
चुनें।

इस जंगल के पीछे एक पीशाचिनी रहा करती थी।

- Ans
- 1. इस जंगल के पीछे
 - 2. कोई त्रुटि नहीं है।
 - 3. रहा करती थी।
 - 4. एक पीशाचिनी

Question ID : 65497829841
Status : Answered
Chosen Option : 1

Q.18 'दृग' किसका पर्यायवाची है?

- Ans
- 1. अश्व
 - 2. आकाश
 - 3. अमृत
 - 4. आँख

Question ID : 65497829852
Status : Answered
Chosen Option : 1

Q.19 दिये गये वाक्यांश के लिए एक शब्द चुनिए।

‘सब कुछ करने की क्षमता रखने वाला’

- Ans
- 1. सर्वव्यापी
 - 2. विशेषज्ञ
 - 3. सर्वशक्तिमान
 - 4. अन्तर्यामी

Question ID : 65497829838
Status : Answered
Chosen Option : 3

Q.20 सही वर्तनी वाले शब्द का चयन करें।

- Ans
- 1. पौराणिक
 - 2. पुराणिक
 - 3. पूराणिक
 - 4. पौरानिक

Question ID : 65497829840
Status : Answered
Chosen Option : 1

Comprehension:

दिए गए गद्यांश में से कुछ शब्द हटा दिए गए हैं। दिए गए विकल्पों की सहायता से प्रत्येक संख्या के लिए सबसे उपयुक्त विकल्प का चयन करें-

भारत में वैदिक काल से लेकर आज तक कन्या को (1) _____ माना जाता है। जब वह युवा होती है तो किसी योग्य (2) _____ के हाथों में उसका (3) _____ कर दिया जाता है। दान के साथ कुछ (4) _____ भी दी जाती है जैसे गाय, सुवर्ण, वस्त्र, धन आदि। इस प्रकार (5) _____ की प्रथा चली।

SubQuestion No : 21

Q.21 गद्यांश के रिक्त स्थान (1) के लिए सर्वाधिक उपयुक्त शब्द होगा-

- Ans
- 1. नादान
 - 2. पराया-धन
 - 3. इंसान
 - 4. दहेज़-धन

Question ID : 65497829858
Status : Answered
Chosen Option : 2

Comprehension:

दिए गए गद्यांश में से कुछ शब्द हटा दिए गए हैं। दिए गए विकल्पों की सहायता से प्रत्येक संख्या के लिए सबसे उपयुक्त विकल्प का चयन करें-

भारत में वैदिक काल से लेकर आज तक कन्या को (1) _____ माना जाता है। जब वह युवा होती है तो किसी योग्य (2) _____ के हाथों में उसका (3) _____ कर दिया जाता है। दान के साथ कुछ (4) _____ भी दी जाती है जैसे गाय, सुवर्ण, वस्त्र, धन आदि। इस प्रकार (5) _____ की प्रथा चली।

SubQuestion No : 22

Q.22 गद्यांश के रिक्त स्थान (2) के लिए सर्वाधिक उपयुक्त शब्द होगा-

- Ans
- 1. इन्सान
 - 2. परिवार
 - 3. खानदान
 - 4. वर

Question ID : 65497829859
Status : Answered
Chosen Option : 1

Comprehension:

दिए गए गद्यांश में से कुछ शब्द हटा दिए गए हैं। दिए गए विकल्पों की सहायता से प्रत्येक संख्या के लिए सबसे उपयुक्त विकल्प का चयन करें-

भारत में वैदिक काल से लेकर आज तक कन्या को (1) _____ माना जाता है। जब वह युवा होती है तो किसी योग्य (2) _____ के हाथों में उसका (3) _____ कर दिया जाता है। दान के साथ कुछ (4) _____ भी दी जाती है जैसे गाय, सुवर्ण, वस्त्र, धन आदि। इस प्रकार (5) _____ की प्रथा चली।

SubQuestion No : 23

Q.23 गद्यांश के रिक्त स्थान (3) के लिए सर्वाधिक उपयुक्त शब्द होगा-

- Ans**
- 1. मुहूर्त
 - 2. विवाह
 - 3. दान
 - 4. लग्न

Question ID : 65497829860

Status : Answered

Chosen Option : 2

Comprehension:

दिए गए गद्यांश में से कुछ शब्द हटा दिए गए हैं। दिए गए विकल्पों की सहायता से प्रत्येक संख्या के लिए सबसे उपयुक्त विकल्प का चयन करें-

भारत में वैदिक काल से लेकर आज तक कन्या को (1) _____ माना जाता है। जब वह युवा होती है तो किसी योग्य (2) _____ के हाथों में उसका (3) _____ कर दिया जाता है। दान के साथ कुछ (4) _____ भी दी जाती है जैसे गाय, सुवर्ण, वस्त्र, धन आदि। इस प्रकार (5) _____ की प्रथा चली।

SubQuestion No : 24

Q.24 गद्यांश के रिक्त स्थान (4) के लिए सर्वाधिक उपयुक्त शब्द होगा-

- Ans**
- 1. चीजें
 - 2. अधिक
 - 3. पुण्य
 - 4. और

Question ID : 65497829861

Status : Answered

Chosen Option : 1

Comprehension:

दिए गए गद्यांश में से कुछ शब्द हटा दिए गए हैं। दिए गए विकल्पों की सहायता से प्रत्येक संख्या के लिए सबसे उपयुक्त विकल्प का चयन करें-

भारत में वैदिक काल से लेकर आज तक कन्या को (1) _____ माना जाता है। जब वह युवा होती है तो किसी योग्य (2) _____ के हाथों में उसका (3) _____ कर दिया जाता है। दान के साथ कुछ (4) _____ भी दी जाती है जैसे गाय, सुवर्ण, वस्त्र, धन आदि। इस प्रकार (5) _____ की प्रथा चली।

SubQuestion No : 25

Q.25 गद्यांश के रिक्त स्थान (5) के लिए सर्वाधिक उपयुक्त शब्द होगा-

- Ans**
- 1. दहेज़
 - 2. विवाह
 - 3. कन्यादान
 - 4. बिदाई

Question ID : 65497829862

Status : Answered

Chosen Option : 1