

Constable GD in CAPFs NIA SSF and Rifleman GD in Assam Rifles Examination 2021

Roll Number	www.qmaths.in
Candidate Name	www.qmaths.in
Venue Name	Indraprastha Public School
Exam Date	30/11/2021
Exam Time :	12:30 PM - 2:00 PM
Subject	Constable GD 2021

Section : Part A General Intelligence and Reasoning

Q.1 दिए गए पैटर्न का ध्यानपूर्वक अध्ययन कीजिए और उस संख्या का चयन कीजिए, जो इसमें प्रश्नवाचक चिह्न (?) के स्थान पर आ सकती है।

5 12 ?
11 19 25
26 55 79

Ans 1. 18

2. 22

3. 17

4. 20

Question ID : 65497833811

Status : Not Answered

Chosen Option : --

Q.2 एक निश्चित कूट भाषा में, 'go went gone' को 'da ma dof' लिखा जाता है, 'he had gone' को 'ga dol ma' लिखा जाता है और 'he was good' को 'na ga ca' लिखा जाता है। उसी कूट भाषा में 'had' को किस प्रकार लिखा जाएगा?

Ans 1. ga

2. ca

3. dol

4. ma

Question ID : 65497833809

Status : Answered


Chosen Option : 3

Q.3 उस विकल्प का चयन करें जिसमें दी गई आकृति अंतर्निहित है (घुमाने की अनुमति नहीं है)।

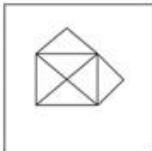


Ans

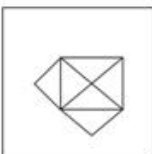
✗ 1.



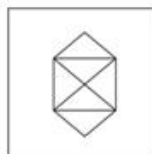
✗ 2.



✗ 3.



✓ 4.

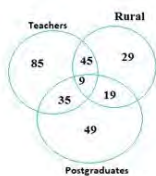


Question ID : 65497833804

Status : Answered

Chosen Option : 4

Q.4 दिए गए आरेख का ध्यानपूर्वक अध्ययन करें और निम्न प्रश्न का उत्तर दें।



उन शिक्षकों (Teachers) की संख्या कितनी है जो ना तो ग्रामीण (Rural) है ना ही स्नातकोत्तर (Postgraduates) हैं?

Ans

✗ 1. 9

✓ 2. 85

✗ 3. 45

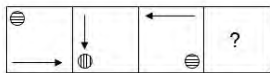
✗ 4. 35

Question ID : 65497833808

Status : Answered

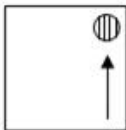
Chosen Option : 2

Q.5 दिए गए विकल्पों में से उस आकृति का चयन करें जो नीचे दी गई श्रृंखला में प्रश्न चिह्न (?) के स्थान पर आ सकती है।

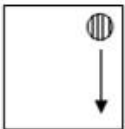


Ans

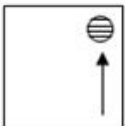
✓ 1.



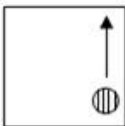
✗ 2.



✗ 3.



✗ 4.



Question ID : 65497833824

Status : Answered

Chosen Option : 1

Q.6 दिए गए विकल्पों में से उस संख्या का चयन करें, जो निम्नलिखित श्रेणी में प्रश्न चिह्न (?) के स्थान पर आ सकती है।

3, 35, 99, 195, ?

Ans

✗ 1. 225

✗ 2. 325

✗ 3. 299

✓ 4. 323

Question ID : 65497833823

Status : Answered

Chosen Option : 4

Q.7 उस विकल्प का चयन करें, जिसका तीसरे पद से वही संबंध है, जो दूसरे पद का पहले पद से है।

PRINT : RNTPI :: LEMON : ?

Ans

✗ 1. MLNOE

✗ 2. ELOMN

✓ 3. EONLM

✗ 4. LNEMO

Question ID : 65497833814

Status : Answered

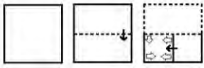
Chosen Option : 3

Q.8 किसी कूट भाषा में, 'SPIRIT' को 'WKMIMG' लिखा जाता है। उसी कूट भाषा में 'GLOBAL' को किस प्रकार लिखा जाएगा?

- Ans
- 1. GOTYXO
 - 2. KOSYEO
 - 3. GTYOOX
 - 4. KSOEYO

Question ID : 65497833815
Status : Answered
Chosen Option : 2

Q.9 निम्नांकित आकृतियों में एक कागज के टुकड़े को मोड़ने का क्रम और मुड़े हुए कागज को काटने की विधि दर्शाई गई है। यह कागज खोलने पर कैसा दिखेगा?



- Ans
- 1.
 - 2.
 - 3.
 - 4.

Question ID : 65497833813
Status : Answered
Chosen Option : 2

Q.10 दर्पण को चित्र में प्रदर्शित किए गए अनुसार 'PQ' पर रखे जाने पर, दिए गए संयोजन के सही दर्पण प्रतिबिंब का चयन कीजिए।

TRIANGLE

- Ans
- 1. TRIANGLE
 - 2. LKVINCFE
 - 3. LKVINCFE
 - 4. TRIANGLE

Question ID : 65497833820
Status : Answered
Chosen Option : 4

Q.11 निम्नलिखित चार अक्षर-समूहों में से तीन किसी तरह से संगत हैं और एक असंगत है। असंगत अक्षर-समूह का चयन करें।

- Ans 1. HAA
 2. OFF
 3. UHH
 4. IXX

Question ID : 65497833817
Status : Marked For Review
Chosen Option : 4

Q.12 F, G, P, Q, R और S अक्षरों द्वारा चिह्नित एक ही पासे की दो विभिन्न स्थितियाँ दर्शाई गई हैं। उस अक्षर का चयन करें जो अक्षर 'G' दर्शाने वाले फलक के विपरीत फलक पर होगा।



- Ans 1. F
 2. Q
 3. S
 4. R

Question ID : 65497833803
Status : Answered
Chosen Option : 2

Q.13 अक्षरों के उस संयोजन का चयन करें, जिसे दी गई श्रृंखला के रिक्त स्थानों में क्रमिक रूप से रखे जाने पर श्रृंखला पूर्ण हो जाएगी।

_ b _ p p p _ q p _ p b _ p _

- Ans 1. p q b p q p
 2. p b q p b q
 3. p q p p q b
 4. b q b p b p

Question ID : 65497833822
Status : Answered
Chosen Option : 1

Q.14 सात मित्र, M, N, O, P, Q, R और S, सभी एक सीधी पंक्ति में, उत्तर की ओर मुंह करके बैठे हैं। N पंक्ति के मध्य में बैठा है। M, Q और P के बीच में बैठा है। Q, N के बाईं ओर ठीक बगल में बैठा है। S, O के बाईं ओर ठीक बगल में बैठा है। M और O किसी भी सिरे पर नहीं बैठे हैं। दाएं सिरे पर कौन बैठा है?

- Ans 1. N
 2. P
 3. R
 4. Q

Question ID : 65497833800
Status : Answered
Chosen Option : 3

Q.15 दिए गए विकल्पों में से उस संख्या का चयन करें, जो निम्नलिखित श्रेणी में प्रश्न चिह्न (?) के स्थान पर आ सकती है।

144, 289, 484, ?, 1024

- Ans
- 1. 725
 - 2. 625
 - 3. 729
 - 4. 676

Question ID : 65497833819
Status : Answered
Chosen Option : 3

Q.16 एक काल्पनिक गणितीय प्रणाली में, P घटना को दर्शाता है, Q भाग को दर्शाता है, R जोड़ने को दर्शाता है और S गुणन को दर्शाता है। गणित के अन्य सभी नियम मौजूदा प्रणाली के समान ही हैं। दिए गए व्यंजक का मान ज्ञात कीजिए।

106 R 115 Q 23 S 7 P 19

- Ans
- 1. 122
 - 2. 154
 - 3. 45
 - 4. 87

Question ID : 65497833802
Status : Not Attempted and Marked For Review
Chosen Option : --

Q.17 किसी संख्या में 12 जोड़ने पर प्राप्त परिणाम, संख्या और 4 के योग के दोगुने के बराबर होता है। संख्या ज्ञात कीजिए।

- Ans
- 1. 10
 - 2. 5
 - 3. 4
 - 4. 8

Question ID : 65497833812
Status : Answered
Chosen Option : 3

Q.18 दिए गए विकल्पों में से उस अक्षर-समूह का चयन कीजिए, जो निम्नलिखित श्रृंखला में प्रश्न चिह्न (?) के स्थान पर आ सकता है।

GBL, JEO, MHR, ?

- Ans
- 1. PKU
 - 2. OJB
 - 3. QJV
 - 4. QKW

Question ID : 65497833805
Status : Answered
Chosen Option : 1

Q.19 एक विशिष्ट कूट भाषा में, 'REACH' का कोड 85139 और 'SUN' का कोड 264 है। उसी कूट भाषा में 'SEARCH' का कोड क्या होगा?

- Ans
- 1. 258139
 - 2. 253189
 - 3. 253819
 - 4. 251839

Question ID : 65497833818
Status : Answered
Chosen Option : 4

Q.20 उस सही विकल्प का चयन करें, जो दिए गए शब्दों के उस सही क्रम को दर्शाता है, जिस क्रम में ये शब्द अंग्रेजी शब्दकोश में मौजूद होते हैं।

- i. Declaim
- ii. Decline
- iii. Decisive
- iv. Declare
- v. Decode

- Ans
- 1. i, iv, ii, iii, v
 - 2. i, ii, iv, iii, v
 - 3. v, iii, iv, ii, i
 - 4. iii, i, iv, ii, v

Question ID : 65497833821
Status : Answered
Chosen Option : 4

Q.21 सात मित्र, L, M, N, O, P, Q और R, एक वृत्ताकार मेज के परितः केंद्र की ओर पीठ करके बैठे हैं। L, P के दाईं ओर ठीक बगल में बैठा है। M, P का पड़ोसी नहीं है। O, L के बाईं ओर तीसरे स्थान पर बैठा है। Q, R और O के बीच में बैठा है। L के दाईं ओर ठीक बगल में कौन बैठा है?

- Ans
- 1. M
 - 2. R
 - 3. N
 - 4. Q

Question ID : 65497833807
Status : Answered
Chosen Option : 1

Q.22 'पटना' का 'बिहार' से वही संबंध है, जो 'दिसपुर' का '_____ ' से है।

- Ans
- 1. नागालैंड
 - 2. मेघालय
 - 3. मिज़ोरम
 - 4. असम

Question ID : 65497833806
Status : Answered
Chosen Option : 4

Q.23 उस विकल्प का चयन करें, जिसका चौथी संख्या से वही संबंध है, जो पहली संख्या का दूसरी संख्या से है।

54 : 9 :: ? : 7

Ans 1. 42

2. 62

3. 56

4. 60

Question ID : 65497833801
Status : Answered
Chosen Option : 1

Q.24 'A×B' का अर्थ है - 'A, B का भाई है'।
'A-B' का अर्थ है - 'A, B की मां है'।
'A÷B' का अर्थ है - 'A, B का पिता है'।

निम्नलिखित में से किसका अर्थ है - 'M, Q का पुत्र है'?

Ans 1. Q÷M×R

2. M×R÷Q

3. M÷R×Q

4. M-R÷T

Question ID : 65497833816
Status : Answered
Chosen Option : 1

Q.25 दिए गए कथनों और निष्कर्षों को ध्यानपूर्वक पढ़ें। कथनों में दी गई जानकारी को सत्य मानते हुए विचार करें, भले ही वह सामान्यतः ज्ञात तथ्यों से भिन्न प्रतीत होती हो और बताएं कि दिए गए निष्कर्षों में से कौन से कथनों का तार्किक रूप से पालन करते हैं?

कथन :
सभी लैपटॉप, मॉनिटर हैं।
सभी मॉनिटर, टीवी हैं।

निष्कर्ष :
1. सभी मॉनिटर, लैपटॉप हैं।
2. कुछ टीवी, मॉनिटर हैं।
3. कोई भी मॉनिटर, लैपटॉप नहीं है।

Ans 1. केवल निष्कर्ष 1 पालन करता है।

2. केवल निष्कर्ष 2 पालन करता है।

3. निष्कर्ष 2 और 3 दोनों ही पालन करते हैं।

4. केवल निष्कर्ष 3 पालन करता है।

Question ID : 65497833810
Status : Answered
Chosen Option : 2

Section : Part B General Knowledge and General Awareness

Q.1 अंग्रेजों के खिलाफ किए गए आंदोलन और उसके नेता का इनमें से कौन सा युग्म सुमेलित नहीं है?

Ans 1. पागल पंथी विद्रोह - तिरुत सिंह

2. अहोम विद्रोह - गोमधर कुंवर

3. पाइका विद्रोह - बक्शी जगबंधु

4. कोल विद्रोह - बुधू भगत

Question ID : 65497833847
Status : Not Answered
Chosen Option : --

Q.2 खरीफ की इनमें से किस फसल को भोजन और चारे, दोनों के रूप में इस्तेमाल किया जाता है?

- Ans 1. बाजरा
 2. मक्का
 3. ज्वार
 4. गेहूँ

Question ID : 65497833836
Status : Answered
Chosen Option : 2

Q.3 शाही उपाधि अधिनियम [Royal Titles Act] (1876) के माध्यम से, महारानी विक्टोरिया ने 'कैसर-ए-हिंद' या भारत की महारानी की उपाधि धारण की। महारानी विक्टोरिया द्वारा उक्त उपाधि धारण किए जाने के समय ब्रिटिश भारत का वायसराय कौन था?

- Ans 1. लार्ड कैनिंग
 2. लॉर्ड लैंसडाउन
 3. लार्ड रिपन
 4. लार्ड लिटन

Question ID : 65497833835
Status : Answered
Chosen Option : 3

Q.4 जल्लीकट्टू, मुख्यतः तमिलनाडु में आयोजित एक _____ है।

- Ans 1. सांडों को काबू करने का त्योहार
 2. पतंगबाजी का त्योहार
 3. भैंसों की लड़ाई का त्योहार
 4. मोमबत्ती जलाने का त्योहार

Question ID : 65497833842
Status : Answered
Chosen Option : 1

Q.5 विश्व निमोनिया दिवस कब मनाया जाता है?

- Ans 1. 15 अक्टूबर
 2. 5 सितंबर
 3. 12 नवंबर
 4. 18 दिसंबर

Question ID : 65497833848
Status : Not Answered
Chosen Option : --

Q.6 हैदराबाद राज्य के संस्थापक, निज़ाम-उल-मुल्क आसफ जाह, _____ फ़रूख़सियर के दरबार के सबसे शक्तिशाली सदस्य थे।

- Ans 1. मुगल सम्राट
 2. खिलजी सम्राट
 3. राजपूत सम्राट
 4. गुप्त सम्राट

Question ID : 65497833838
Status : Marked For Review
Chosen Option : 2

Q.7 In November 2020, who among the following inaugurated the 'Lilawati Awards', which is an initiative of All India Council for Technical Education?

- Ans
- 1. Harsh Vardhan
 - 2. Rajiv Kumar
 - 3. Amit Shah
 - 4. Ramesh Pokhriyal 'Nishank'

Question ID : 65497833832
Status : Marked For Review
Chosen Option : 4

Q.8 भारत ने _____ में बैंक राष्ट्रीयकरण कार्यक्रम की 50वीं वर्षगांठ मनाई।

- Ans
- 1. 2019
 - 2. 2015
 - 3. 2020
 - 4. 2017

Question ID : 65497833849
Status : Answered
Chosen Option : 3

Q.9 भारत और बांग्लादेश, _____ के प्रमुख उत्पादक हैं।

- Ans
- 1. कॉफ़ी
 - 2. जूट
 - 3. चाय
 - 4. बाजरा

Question ID : 65497833843
Status : Answered
Chosen Option : 2

Q.10 Which of the following statements about the Equal Remuneration Act of 1976 is INCORRECT?

- Ans
- 1. It provides for prevention of discrimination against women at workplace.
 - 2. It provides for payment of equal remuneration to men and women, in the matter of employment.
 - 3. It applies to certain parts of India.
 - 4. It is a Central Legislation.

Question ID : 65497833839
Status : Not Answered
Chosen Option : --

Q.11 The Ministry of Information and Broadcasting announced _____ as the new President of the Film and Television Institute of India in September 2020.

- Ans
- 1. Gajendra Chauhan
 - 2. Anupam Kher
 - 3. Shekhar Kapur
 - 4. Mahesh Bhatt

Question ID : 65497833841
Status : Answered
Chosen Option : 2

Q.12 Who among the following Australian cricketers won the Allan Border Medal 2020?

- Ans
- 1. Cameron Green
 - 2. Pat Cummins
 - 3. Glenn Maxwell
 - 4. David Warner

Question ID : 65497833845
Status : Answered
Chosen Option : 2

Q.13 Which of the following was NOT the theme for Union Budget 2020-21?

- Ans
- 1. Education for All
 - 2. Develop a Caring Society
 - 3. Aspirational India
 - 4. Economic Development for All

Question ID : 65497833834
Status : Not Answered
Chosen Option : --

Q.14 22 नवंबर 2020 तक प्राप्त जानकारी के अनुसार, 17वीं लोकसभा में हिमाचल प्रदेश के कितने सदस्य हैं?

- Ans
- 1. 8
 - 2. 4
 - 3. 12
 - 4. 6

Question ID : 65497833831
Status : Not Answered
Chosen Option : --

Q.15 निम्नलिखित में से कौन फ़िट इंडिया आंदोलन के संस्थापक हैं?

- Ans
- 1. अमित शाह
 - 2. सुपर्णो सत्पथी
 - 3. नरेंद्र मोदी
 - 4. किरण रिजिजू

Question ID : 65497833833
Status : Answered
Chosen Option : 3

Q.16 Which of the following compounds contains an ionic bond?

- Ans
- 1. CH₄
 - 2. CHCl₃
 - 3. NaCl
 - 4. N₂

Question ID : 65497833846
Status : Not Answered
Chosen Option : --

Q.17 निम्नलिखित में से कौन सा स्मारक राजस्थान में स्थित है?

- Ans 1. हवा महल
 2. बड़ा इमामबाड़ा
 3. बीबी का मकबरा
 4. उज्जयंत महल

Question ID : 65497833827
Status : Answered
Chosen Option : 1

Q.18 Which of the following grasslands are present in North America?

- Ans 1. Pampas
 2. Prairies
 3. Downs
 4. Steppes

Question ID : 65497833826
Status : Answered
Chosen Option : 2

Q.19 मनिका बत्रा एक प्रसिद्ध भारतीय _____ हैं।

- Ans 1. टेबल टेनिस खिलाड़ी
 2. एथलीट
 3. तैराक
 4. बास्केटबॉल खिलाड़ी

Question ID : 65497833840
Status : Answered
Chosen Option : 1

Q.20 दिल्ली सल्तनत के अधीन प्रशासन की भाषा कौन सी थी?

- Ans 1. तुर्की
 2. संस्कृत
 3. फ़ारसी
 4. उर्दू

Question ID : 65497833837
Status : Answered
Chosen Option : 4

Q.21 Pressure is equal to thrust divided by _____.

- Ans 1. length
 2. area
 3. Force
 4. mass

Question ID : 65497833829
Status : Answered
Chosen Option : 2

Q.22 What is the maximum number of electrons that can be accommodated in the 'N' shell of an atom?

- Ans
- 1. 4
 - 2. 8
 - 3. 24
 - 4. 32

Question ID : 65497833828
Status : Not Answered
Chosen Option : --

Q.23 मलाला यूसुफजई सबसे कम आयु की नोबेल शांति पुरस्कार विजेता हैं, जिनको केवल 17 वर्ष की आयु में यह पुरस्कार प्रदान किया गया था। उन्हें इनमें से किस वर्ष में नोबेल शांति पुरस्कार से सम्मानित किया गया था?

- Ans
- 1. 2019
 - 2. 2014
 - 3. 2016
 - 4. 2018

Question ID : 65497833830
Status : Answered
Chosen Option : 2

Q.24 Which of the following types of goods is defined as 'the goods that are identical, similar or comparable to another product, in the eyes of the consumer, such that they can either fully or partly satisfy the same needs of the consumer'?

- Ans
- 1. Consumer goods
 - 2. Substitute goods
 - 3. Intermediate goods
 - 4. Capital goods

Question ID : 65497833825
Status : Not Answered
Chosen Option : --

Q.25 _____ ने मां बनने के बाद कोर्ट पर सफल वापसी करते हुए, एशिया/ओशिनिया ज़ोन के लिए फेड कप हार्ट अवार्ड 2020 जीतने वाली प्रथम भारतीय होने का गौरव हासिल किया।

- Ans
- 1. रुतुजा भोसले
 - 2. रिया भाटिया
 - 3. अंकिता रैना
 - 4. सानिया मिर्जा

Question ID : 65497833844
Status : Not Answered
Chosen Option : --

Section : Part C Elementary Mathematics

Q.1 एक मिश्रण की 35 लीटर मात्रा में दूध और पानी का अनुपात 3 : 2 है। यदि इसमें से मिश्रण की 4 लीटर मात्रा निकालकर उसके स्थान पर 4 लीटर दूध मिला दिया जाए, तो इस प्रकार प्राप्त नए मिश्रण में दूध और पानी का अनुपात ज्ञात कीजिए।

- Ans**
- 1. 3 : 7
 - 2. 5 : 2
 - 3. 3 : 5
 - 4. 4 : 7

Question ID : 65497833872

Status : **Not Attempted and Marked For Review**

Chosen Option : --

Q.2 रवि ने ₹1800 की धनराशि 6% वार्षिक साधारण ब्याज की दर पर और ₹2800 की धनराशि 7% वार्षिक साधारण ब्याज की दर पर समान अवधि के लिए उधार ली और संपूर्ण ब्याज के रूप में कुल ₹2736 का भुगतान किया। उसके मित्र शिव ने ₹2500 की धनराशि 8% वार्षिक साधारण ब्याज की दर पर समान अवधि के लिए उधार ली। ऋण को पूर्णतया चुकाने के लिए शिव को कितना (₹ में) भुगतान करना होगा?

- Ans**
- 1. 3,900
 - 2. 4,000
 - 3. 4,300
 - 4. 4,500

Question ID : 65497833853

Status : **Answered**

Chosen Option : 3

Q.3 एक निश्चित धनराशि पर 10% वार्षिक ब्याज की दर से 2 वर्ष का चक्रवृद्धि ब्याज ₹651 है (ब्याज की गणना वार्षिक चक्रवृद्धि आधार पर की गई है)। समान धनराशि पर, पूर्व से आधी ब्याज दर पर, पूर्व से दोगुनी अवधि का साधारण ब्याज ज्ञात कीजिए।

- Ans**
- 1. ₹630
 - 2. ₹600
 - 3. ₹620
 - 4. ₹520

Question ID : 65497833862

Status : **Answered**

Chosen Option : 3

Q.4 एक रेलगाड़ी की चाल 25% कम कर देने पर यह समान दूरी तय करने में 42 मिनट अधिक लेती है। वही दूरी अपनी वास्तविक चाल से तय करने में रेलगाड़ी को (घंटों में) कितना समय लगेगा?

- Ans**
- 1. $1\frac{4}{5}$
 - 2. $2\frac{1}{5}$
 - 3. $2\frac{1}{10}$
 - 4. $1\frac{1}{20}$

Question ID : 65497833871

Status : **Answered**

Chosen Option : 3

Q.5 यदि सीमा, उसके पास मौजूद सभी कंचों को प्रत्येक 6, 10, 12 और 15 कंचों वाली पंक्तियों में व्यवस्थित कर सकती है और कंचों की संख्या पूर्ण वर्ग है, तो सीमा के पास मौजूद कंचों की न्यूनतम संख्या ज्ञात कीजिए।

- Ans**
- 1. 400
 - 2. 625
 - 3. 225
 - 4. 900

Question ID : 65497833850
Status : Answered
Chosen Option : 4

Q.6 एक आदमी ने ₹60 प्रति दर्जन की दर से कुछ अंडे खरीदे और उतने ही अंडे ₹50 प्रति दर्जन की दर से खरीदे। यदि उसने इन सभी अंडों को ₹70 प्रति दर्जन की दर से बेचने के पश्चात ₹930 का लाभ प्राप्त किया हो, तो उसके द्वारा खरीदे गए अंडों की कुल संख्या कितनी थी?

- Ans**
- 1. 62 दर्जन
 - 2. 48 दर्जन
 - 3. 70 दर्जन
 - 4. 54 दर्जन

Question ID : 65497833866
Status : Answered
Chosen Option : 1

Q.7 24 लड़कों का औसत वजन, 28 लड़कियों के औसत वजन से 7 kg अधिक है। यदि 24 लड़कों का कुल वजन 1080 kg है, तो 28 लड़कियों का कुल वजन कितना होगा?

- Ans**
- 1. 1064 kg
 - 2. 1054 kg
 - 3. 1074 kg
 - 4. 1046 kg

Question ID : 65497833854
Status : Answered
Chosen Option : 3

Q.8 यदि $2 \text{ of } 8 \div 3 + 3 \frac{4}{5} \div x - 4 \frac{7}{9} = 6 \frac{8}{9}$ है, तो x का मान कितना होगा ?

- Ans**
- 1. $\frac{5}{9}$
 - 2. $\frac{3}{5}$
 - 3. $\frac{6}{7}$
 - 4. $\frac{2}{3}$

Question ID : 65497833865
Status : Answered
Chosen Option : 2

Q.9 The perimeter and area of a rectangular sheet are 40 m and 72 m^2 , respectively. The length of the diagonal will be:

- Ans** 1. 16 m
 2. 14 m
 3. 12 m
 4. 10 m

Question ID : 65497833860
Status : Answered
Chosen Option : 1

Q.10 The height of a right circular cylinder is 14 cm and its curved surface is 264 cm^2 . Its volume is:

- Ans** 1. 252 cm^3
 2. 396 cm^3
 3. 366 cm^3
 4. 290 cm^3

Question ID : 65497833874
Status : Answered
Chosen Option : 2

Q.11 एक छात्र को 160 अंक मिले और उसे उत्तीर्ण होने के लिए आवश्यक न्यूनतम 35% अंक प्राप्त करने के लिए 50 और अंकों की आवश्यकता है। पूर्णांक ज्ञात करें।

- Ans** 1. 750
 2. 600
 3. 500
 4. 800

Question ID : 65497833864
Status : Answered
Chosen Option : 2

Q.12 440 के 35% में कितना जोड़ा जाए कि परिणाम, 550 के 42% के बराबर हो जाए?

- Ans** 1. 77
 2. 75
 3. 70
 4. 65

Question ID : 65497833856
Status : Answered
Chosen Option : 1

Q.13 A ने एक वस्तु B को 20% लाभ पर बेची। B ने इसे 12% हानि पर C को बेच दिया और C ने इसे 25% लाभ पर D को बेच दिया। यदि B को ₹72 की हानि हुई, तो D ने उस वस्तु को किस मूल्य पर खरीदा?

- Ans** 1. ₹660
 2. ₹594
 3. ₹528
 4. ₹396

Question ID : 65497833869
Status : Answered
Chosen Option : 1

Q.14 $\frac{3}{5} \div 4\frac{4}{5}$ of $\frac{5}{16} + \frac{2}{3} \div \frac{8}{15} \times 1\frac{1}{5} - \frac{1}{4} \times \frac{3}{4} \div 1\frac{1}{4}$ of $\frac{2}{5}$ का मान कितना होगा?

- Ans
1. $\frac{12}{5}$
2. $\frac{9}{4}$
3. $\frac{21}{10}$
4. $\frac{61}{40}$

Question ID : 65497833870
Status : Not Answered
Chosen Option : --

Q.15 एक व्यक्ति 15% वार्षिक चक्रवृद्धि ब्याज की दर पर ₹15,000 उधार लेता है। प्रत्येक वर्ष के अंत में, वह आंशिक पुनर्भुगतान के रूप में ₹2,500 का भुगतान करता है। इस तरह की तीन किश्तों का भुगतान करने के बाद भी उस पर कितनी धनराशि बकाया है?

- Ans
1. ₹12,150
2. ₹13,175.66
3. ₹14,131.87
4. ₹12,642.50

Question ID : 65497833873
Status : Not Answered
Chosen Option : --

Q.16 किन्हीं दो संख्याओं के महत्तम समापवर्तक और लघुत्तम समापवर्त्य क्रमशः 25 और 750 हैं। यदि दो संख्याओं में से एक संख्या 75 है, तो दूसरी संख्या ज्ञात कीजिए।

- Ans
1. 250
2. 75
3. 25
4. 50

Question ID : 65497833863
Status : Answered
Chosen Option : 1

Q.17 एक समान चाल से चलती हुए एक कार 6 घंटों में एक निश्चित दूरी तय करती है। यदि कार की चाल 10 km/h बढ़ा दी जाती, तो यह दूरी 5 घंटों में तय की जा सकती थी। कार द्वारा तय की गई दूरी कितनी है?

- Ans
1. 200 km
2. 300 km
3. 350 km
4. 250 km

Question ID : 65497833858
Status : Answered
Chosen Option : 2

Q.18 8%, 12.5% और 20% की तीन क्रमिक छूटों के समतुल्य एकल छूट कितनी होगी?

- Ans
- 1. 36.5%
 - 2. 35.4%
 - 3. 40.5%
 - 4. 35.6%

Question ID : 65497833855
Status : Answered
Chosen Option : 4

Q.19 32 श्रमिक, 9 घंटे प्रतिदिन कार्य करते हुए एक कार्य को 14 दिन में पूर्ण कर सकते हैं। यदि प्रत्येक श्रमिक, 8 घंटे प्रतिदिन कार्य करता हो, तो उस कार्य को 18 दिन में पूर्ण करने के लिए कितने श्रमिकों की आवश्यकता होगी?

- Ans
- 1. 24
 - 2. 26
 - 3. 28
 - 4. 30

Question ID : 65497833867
Status : Answered
Chosen Option : 3

Q.20 पाँच क्रमागत सम संख्याओं का औसत 36 है। यदि अगली पाँच क्रमागत विषम संख्याओं को शामिल किया जाए, तो सभी संख्याओं का औसत क्या होगा?

- Ans
- 1. 40.5
 - 2. 37.75
 - 3. 39
 - 4. 41.25

Question ID : 65497833851
Status : Not Answered
Chosen Option : --

Q.21 A और B ने ₹6000 में एक कार्य करने का ठेका लिया। इस कार्य को A, 10 दिन में और B, 12 दिन में पूरा कर सकता है। C की मदद से, उन्होंने 4 दिन में यह कार्य पूरा किया। भुगतान राशि में C का हिस्सा कितना होगा?

- Ans
- 1. ₹1,500
 - 2. ₹2,400
 - 3. ₹1,400
 - 4. ₹1,600

Question ID : 65497833857
Status : Answered
Chosen Option : 4

Q.22 एक वस्तु का अंकित मूल्य ₹ 700 है। यदि इसे 35% की छूट पर बेचा जाता है, तो इसका विक्रय मूल्य, इसके क्रय मूल्य के $\frac{5}{3}$ गुने के बराबर होता है। वस्तु का क्रय मूल्य (₹ में) ज्ञात कीजिए।

- Ans**
- 1. 455
 - 2. 291
 - 3. 420
 - 4. 273

Question ID : 65497833868
Status : Answered
Chosen Option : 4

Q.23 एक राशि को P, Q और R के बीच क्रमशः 13 : 17 : 25 के अनुपात में वितरित किया गया। यदि R को Q से ₹6,800 अधिक मिले, तो P के भाग और Q के भाग का अंतर क्या है?

- Ans**
- 1. ₹3,600
 - 2. ₹4,400
 - 3. ₹3,200
 - 4. ₹3,400

Question ID : 65497833859
Status : Answered
Chosen Option : 4

Q.24 जब एक भूखंड को ₹34,080 में बेचा गया तो मालिक को 20% की हानि हुई। 20% का लाभ अर्जित करने के लिए उस भूखंड को किस मूल्य पर बेचा जाना चाहिए?

- Ans**
- 1. ₹50,120
 - 2. ₹51,120
 - 3. ₹41,120
 - 4. ₹51,020

Question ID : 65497833861
Status : Answered
Chosen Option : 2

Q.25 ₹1,26,672 को A और B के बीच में 7 : 9 के अनुपात में विभाजित किया जाता है। B के हिस्से और A के हिस्से के बीच का अंतर (₹ में) कितना होगा?

- Ans**
- 1. 21,317
 - 2. 15,834
 - 3. 13,485
 - 4. 18,354

Question ID : 65497833852
Status : Answered
Chosen Option : 2

Section : Part D English

Q.1 Select the most appropriate ANTONYM of the given word.

United

- Ans** 1. Bonded
 2. Separated
 3. Together
 4. Linked

Question ID : 65497833881
Status : Not Answered
Chosen Option : --

Q.2 Select the correctly spelt word.

- Ans** 1. Schemes
 2. Malnourised
 3. Intigrated
 4. Recognisable

Question ID : 65497833879
Status : Not Answered
Chosen Option : --

Q.3 Select the most appropriate option to fill in the blank.

The _____ of directors gave their approval for the project.

- Ans** 1. board
 2. team
 3. band
 4. bunch

Question ID : 65497833880
Status : Not Answered
Chosen Option : --

Q.4 Select the most appropriate synonym of the given word.

Brutal

- Ans** 1. Cheerful
 2. Courteous
 3. Cruel
 4. Considerate

Question ID : 65497833878
Status : Not Answered
Chosen Option : --

Q.5 Select the most appropriate option to fill in the blank.

Nobody seems to be _____ in visiting museums.

- Ans** 1. attracted
 2. obsessed
 3. anxious
 4. interested

Question ID : 65497833882
Status : Not Answered
Chosen Option : --

Q.6 The following sentence has been split into four segments. Identify the segment that contains a grammatical error.

Why do you think / why John / refused to / marry her?

- Ans
- 1. marry her
 - 2. why John
 - 3. Why do you think
 - 4. refused to

Question ID : 65497833888
Status : Not Answered
Chosen Option : --

Q.7 Select the option that can be used as a one-word substitute for the given group of words.

Able to be eaten

- Ans
- 1. Decibel
 - 2. Hobble
 - 3. Edible
 - 4. Scribble

Question ID : 65497833876
Status : Not Answered
Chosen Option : --

Q.8 Select the most appropriate option that can substitute the underlined segment in the given sentence. If there is no need to substitute it, select 'No substitution required'.

Vanilla ice cream with chocolate sauce is my favourite.

- Ans
- 1. with chocolate sauce is being
 - 2. with chocolate sauce are
 - 3. with chocolate sauces are
 - 4. No substitution required

Question ID : 65497833885
Status : Not Answered
Chosen Option : --

Q.9 Select the most appropriate option that can substitute the underlined segment in the given sentence. If there is no need to substitute it, select 'No substitution required'.

Trees can live in an extremely long time – tens, hundreds, even thousands of years.

- Ans
- 1. No substitution required
 - 2. can live for an extremely long time
 - 3. can live in an extremely longest time
 - 4. can live with an extremely long time

Question ID : 65497833884
Status : Not Answered
Chosen Option : --

Q.10 Select the option that can be used as a one-word substitute for the given group of words.

Owing money to someone

- Ans
- 1. Exchanged
 - 2. Donated
 - 3. Loaned
 - 4. Indebted

Question ID : 65497833890
Status : Not Answered
Chosen Option : --

Q.11 The following sentence has been split into four segments. Identify the segment that contains a grammatical error.

Emma agreed / thinking of an excuse / to get Paul / out of the house.

- Ans
- 1. Emma agreed
 - 2. to get Paul
 - 3. thinking of an excuse
 - 4. out of the house

Question ID : 65497833892
Status : Not Answered
Chosen Option : --

Q.12 Select the option that can be used as a one-word substitute for the given group of words.

A dummy used to display clothes in a shop window

- Ans
- 1. Mannequin
 - 2. Model
 - 3. Statue
 - 4. Supermodel

Question ID : 65497833894
Status : Not Answered
Chosen Option : --

Q.13 Select the option that is closest in meaning to the underlined idiom/phrase in the given sentence.

Losing my job was a blessing in disguise because I got to spend more time with my family.

- Ans
- 1. event that seemed bad at first but resulted in something good later
 - 2. task that appeared difficult at first but became easy later
 - 3. a good thing that happened only once
 - 4. a joyful event that made everybody happy

Question ID : 65497833886
Status : Not Answered
Chosen Option : --

Q.14 Select the most appropriate ANTONYM of the given word.

Remorse

- Ans 1. Denial
 2. Guilt
 3. Indifference
 4. Anger

Question ID : 65497833889
Status : Not Answered
Chosen Option : --

Q.15 Select the most appropriate option to fill in the blank.

It is important to _____ with the police and listen to their advice.

- Ans 1. cope
 2. concern
 3. cooperate
 4. combine

Question ID : 65497833887
Status : Not Answered
Chosen Option : --

Q.16 The following sentence has been split into four segments. Identify the segment that contains a grammatical error.

Mr. Ghosh is senior / than Mr. Sen, / so he must be / promoted first.

- Ans 1. than Mr. Sen
 2. Mr. Ghosh is senior
 3. promoted first
 4. so he must be

Question ID : 65497833877
Status : Not Answered
Chosen Option : --

Q.17 Select the INCORRECTLY spelt word.

- Ans 1. Submission
 2. Omission
 3. Comission
 4. Remission

Question ID : 65497833891
Status : Not Answered
Chosen Option : --

Q.18 Select the most appropriate meaning of the given idiom.

To lose one's head

- Ans 1. To become upset or angry
 2. To be robbed
 3. To be happy
 4. To take responsibility

Question ID : 65497833883
Status : Not Answered
Chosen Option : --

Q.19 Select the most appropriate synonym of the given word.

Perforate

- Ans 1. Fold
 2. Pierce
 3. Crack
 4. Tear

Question ID : 65497833893
Status : Not Answered
Chosen Option : --

Q.20 Select the most appropriate option that can substitute the underlined segment in the given sentence. If there is no need to substitute it, select 'No substitution required'.

He will not get admission in a good college unless he will work hard.

- Ans 1. would work
 2. No substitution required
 3. works
 4. is working

Question ID : 65497833875
Status : Not Answered
Chosen Option : --

Comprehension:

In the following passage, some words have been deleted. Read the passage carefully and select the most appropriate option to fill in each blank.

When the temperature (1)_____ during the summer season, many people choose to use air-conditioners to keep their homes and offices cool. Air-conditioners, which were once regarded as a luxury, have now almost become a/an (2)_____. The air-conditioning system not only cools the indoor air down but also filters out harmful pollutants. This helps reduce dust, pollen and allergens inside the home and (3)_____ the quality of air inside the house or room. However, along with the (4)_____, there are some disadvantages. A major disadvantage is that if the filter inside the air-conditioner is not cleaned and maintained regularly, it (5)_____ to problems such as allergic colds, fever, headaches and dryness of the skin.

SubQuestion No : 21

Q.21 Select the most appropriate option to fill in blank no. 1.

- Ans 1. rises
 2. gains
 3. raises
 4. extends

Question ID : 65497833896
Status : Not Answered
Chosen Option : --

Comprehension:

In the following passage, some words have been deleted. Read the passage carefully and select the most appropriate option to fill in each blank.

When the temperature (1)_____ during the summer season, many people choose to use air-conditioners to keep their homes and offices cool. Air-conditioners, which were once regarded as a luxury, have now almost become a/an (2)_____. The air-conditioning system not only cools the indoor air down but also filters out harmful pollutants. This helps reduce dust, pollen and allergens inside the home and (3)_____ the quality of air inside the house or room. However, along with the (4)_____, there are some disadvantages. A major disadvantage is that if the filter inside the air-conditioner is not cleaned and maintained regularly, it (5)_____ to problems such as allergic colds, fever, headaches and dryness of the skin.

SubQuestion No : 22

Q.22 Select the most appropriate option to fill in blank no. 2.

- Ans 1. urgency
 2. demand
 3. essence
 4. necessity

Question ID : 65497833897
Status : Not Answered
Chosen Option : --

Comprehension:

In the following passage, some words have been deleted. Read the passage carefully and select the most appropriate option to fill in each blank.

When the temperature (1)_____ during the summer season, many people choose to use air-conditioners to keep their homes and offices cool. Air-conditioners, which were once regarded as a luxury, have now almost become a/an (2)_____. The air-conditioning system not only cools the indoor air down but also filters out harmful pollutants. This helps reduce dust, pollen and allergens inside the home and (3)_____ the quality of air inside the house or room. However, along with the (4)_____, there are some disadvantages. A major disadvantage is that if the filter inside the air-conditioner is not cleaned and maintained regularly, it (5)_____ to problems such as allergic colds, fever, headaches and dryness of the skin.

SubQuestion No : 23

Q.23 Select the most appropriate option to fill in blank no. 3.

- Ans 1. develops
 2. reforms
 3. improve
 4. alters

Question ID : 65497833898
Status : Not Answered
Chosen Option : --

Comprehension:

In the following passage, some words have been deleted. Read the passage carefully and select the most appropriate option to fill in each blank.

When the temperature (1)_____ during the summer season, many people choose to use air-conditioners to keep their homes and offices cool. Air-conditioners, which were once regarded as a luxury, have now almost become a/an (2)_____. The air-conditioning system not only cools the indoor air down but also filters out harmful pollutants. This helps reduce dust, pollen and allergens inside the home and (3)_____ the quality of air inside the house or room. However, along with the (4)_____, there are some disadvantages. A major disadvantage is that if the filter inside the air-conditioner is not cleaned and maintained regularly, it (5)_____ to problems such as allergic colds, fever, headaches and dryness of the skin.

SubQuestion No : 24

Q.24 Select the most appropriate option to fill in blank no. 4.

- Ans 1. merit
 2. credits
 3. benefits
 4. virtue

Question ID : 65497833899
Status : Not Answered
Chosen Option : --

Comprehension:

In the following passage, some words have been deleted. Read the passage carefully and select the most appropriate option to fill in each blank.

When the temperature (1)_____ during the summer season, many people choose to use air-conditioners to keep their homes and offices cool. Air-conditioners, which were once regarded as a luxury, have now almost become a/an (2)_____. The air-conditioning system not only cools the indoor air down but also filters out harmful pollutants. This helps reduce dust, pollen and allergens inside the home and (3)_____ the quality of air inside the house or room. However, along with the (4)_____, there are some disadvantages. A major disadvantage is that if the filter inside the air-conditioner is not cleaned and maintained regularly, it (5)_____ to problems such as allergic colds, fever, headaches and dryness of the skin.

SubQuestion No : 25

Q.25 Select the most appropriate option to fill in blank no. 5.

- Ans 1. could lead
 2. is leading
 3. led
 4. leads

Question ID : 65497833900
Status : Not Answered
Chosen Option : --

Section : Part D Hindi

Q.1 सही वर्तनी वाले शब्द का चयन करें।

- Ans 1. पारीतोषिक
 2. परीतोषिक
 3. पारितोषिक
 4. परितोषिक

Question ID : 65497833904
Status : Answered
Chosen Option : 4

Q.2 दिए गए विकल्पों में से निम्नलिखित वाक्यांश के लिए एक शब्द का चयन कीजिए-

अपने देश के साथ विश्वासघात करने वाला

- Ans
- 1. दुर्भिक्ष
 - 2. देशप्रेमी
 - 3. देशद्रोही
 - 4. विश्वासघाती

Question ID : 65497833914
Status : Answered
Chosen Option : 3

Q.3 दिए गए वाक्य का वह भाग ज्ञात करें जिसमें कोई त्रुटि है। यदि कोई त्रुटि नहीं है, तो 'कोई त्रुटि नहीं है' चुनें।

क्या आप अपनी (1)/ बात की स्पष्टीकरण करने के लिए (2)/ बिलकुल तैयार हैं? (3)/ कोई त्रुटि नहीं है (4)

- Ans
- 1. 1
 - 2. 2
 - 3. 3
 - 4. 4

Question ID : 65497833907
Status : Answered
Chosen Option : 2

Q.4 दिए गए शब्द का विलोम चुनें-

प्रचुर

- Ans
- 1. प्रचलित
 - 2. अप्रचारित
 - 3. अप्रचुर
 - 4. प्रचारित

Question ID : 65497833912
Status : Answered
Chosen Option : 3

Q.5 दिए गए वाक्यांश के लिए एक शब्द दीजिए-

जो अक्षरों को पढ़ना-लिखना जानता हो

- Ans
- 1. साक्षर
 - 2. निराक्षर
 - 3. सर्वज्ञ
 - 4. अनपढ़

Question ID : 65497833902
Status : Answered
Chosen Option : 1

Q.6 दिए गए वाक्य में रेखांकित खंड को प्रतिस्थापित करने के लिए सर्वाधिक उपयुक्त विकल्प का चयन करें। यदि इसे प्रतिस्थापित करने की आवश्यकता नहीं है, तो विकल्प 'किसी बदलाव की आवश्यकता नहीं है' का चयन करें।

अपराधी छूट जाते हैं, निरपराध को सज़ा मिलता है।

- Ans 1. निरपराध को सज़ा मिलती है।
 2. किसी बदलाव की आवश्यकता नहीं है।
 3. निरपराध का सज़ा मिलता है।
 4. निरपराध को सज़ा मिलती है।

Question ID : 65497833905
Status : Answered
Chosen Option : 4

Q.7 बहु संख्यक रेखांकित शब्द का सही विलोम बताइए-

- Ans 1. अल्पसंख्यक
 2. अल्पतज्ञ
 3. असीम
 4. अल्प

Question ID : 65497833918
Status : Answered
Chosen Option : 1

Q.8 दिए गए वाक्य का वह भाग ज्ञात करें जिसमें कोई त्रुटि है। यदि कोई त्रुटि नहीं है, तो 'कोई त्रुटि नहीं है' चुनें।

हमारे यहाँ(1)/ तरुण नवयुवकों की(2)/ शिक्षा का अच्छा प्रबंध है।(3)/ कोई त्रुटि नहीं है।(4)

- Ans 1. 1
 2. 2
 3. 4
 4. 3

Question ID : 65497833911
Status : Answered
Chosen Option : 2

Q.9 रिक्त स्थान की पूर्ति करने के लिए सर्वाधिक उपयुक्त शब्द का चयन करें।

आज का युवा अपने अधिकारों के प्रति अत्यंत _____ है।

- Ans 1. सजग
 2. बेखबर
 3. अनभिज्ञ
 4. सहज

Question ID : 65497833909
Status : Answered
Chosen Option : 1

Q.10 सही वर्तनी वाले शब्द का चयन करें।

- Ans 1. गर्म्भिय
 2. गाम्भीर्य
 3. गम्भीर्य
 4. गांभिष

Question ID : 65497833903
Status : Answered
Chosen Option : 3

Q.11 दिए गए वाक्य में रेखांकित खंड को प्रतिस्थापित करने के लिए सर्वाधिक उपयुक्त विकल्प का चयन करें।
यदि इसे प्रतिस्थापित करने की आवश्यकता नहीं है, तो विकल्प 'किसी बदलाव की आवश्यकता नहीं है'
का चयन करें।

मैंने सुई, कंघी, दर्पण और पुस्तकें मोल लिए।

- Ans 1. मोल दी।
 2. मोल किए।
 3. किसी बदलाव की आवश्यकता नहीं है।
 4. मोल लीं।

Question ID : 65497833910
Status : Answered
Chosen Option : 4

Q.12 दिए गए शब्द के समानार्थी शब्द का चयन करें।

जलज

- Ans 1. जलधि
 2. राजीव
 3. जरायु
 4. सलिल

Question ID : 65497833908
Status : Answered
Chosen Option : 2

Q.13 'मृगांक' किसका पर्यायवाची है?

- Ans 1. सूर्य
 2. कमल
 3. चन्द्र
 4. नयन

Question ID : 65497833917
Status : Not Answered
Chosen Option : --

Q.14 दिए गए विकल्पों में से निम्नलिखित वाक्यांश के लिए एक शब्द का चयन कीजिए-

जिसके हृदय में ममता नहीं है

- Ans 1. निर्भय
 2. निर्दय
 3. निर्मम
 4. निर्मूल

Question ID : 65497833913
Status : Answered
Chosen Option : 3

Q.15 दिए गए वाक्य में रेखांकित खंड को प्रतिस्थापित करने के लिए सर्वाधिक उपयुक्त विकल्प का चयन करें।
यदि इसे प्रतिस्थापित करने की आवश्यकता नहीं है, तो विकल्प 'किसी बदलाव की आवश्यकता नहीं है'
का चयन करें।

कुछ बच्चे मैदान में क्रिकेट खेल रहे थे तो मेरे लड़का ने भी उनके साथ खेलने की जिद की।

- Ans
- 1. तो मेरा बच्चा ने भी उनके साथ
 - 2. तो मेरा लड़का ने भी उनके साथ
 - 3. किसी बदलाव की आवश्यकता नहीं है।
 - 4. तो मेरे बेटे ने भी उनके साथ

Question ID : 65497833906
Status : Answered
Chosen Option : 4

Q.16 छप्पर फाड़ कर देना मुहावरे का उचित अर्थ स्पष्ट कीजिए-

- Ans
- 1. बिना प्रयत्न प्राप्त होना
 - 2. जवाब नहीं देना
 - 3. विवाह करना
 - 4. अप्रत्याक्षित हानि होना।

Question ID : 65497833919
Status : Answered
Chosen Option : 1

Q.17 'आँखें नीची होना' मुहावरे का सही अर्थ है-

- Ans
- 1. परेशान होना
 - 2. क्रोधित होना
 - 3. चिंतित होना
 - 4. लज्जित होना

Question ID : 65497833915
Status : Answered
Chosen Option : 4

Q.18 रिक्त स्थान की पूर्ति करने के लिए सर्वाधिक उपयुक्त शब्द का चयन करें।

पुलिस सारी घटना की _____ कर रही है।

- Ans
- 1. जाँच
 - 2. माप
 - 3. परीक्षा
 - 4. टीका

Question ID : 65497833920
Status : Answered
Chosen Option : 1

Q.19 रिक्त स्थान की पूर्ति करने के लिए सर्वाधिक उपयुक्त शब्द का चयन करें।

श्रीकृष्ण के मामा कंस एक _____ राजा थे।

- Ans
- 1. देशप्रेमी
 - 2. धार्मिक
 - 3. अत्याचारी
 - 4. विनयी

Question ID : 65497833901
Status : Answered
Chosen Option : 3

Q.20 दिए गए वाक्य के किस भाग में त्रुटि है?

छात्राओं ने रंगारंग कार्यक्रम में भाग लिया।

- Ans
- 1. रंगारंग
 - 2. छात्राओं ने
 - 3. भाग लिया।
 - 4. कार्यक्रम में

Question ID : 65497833916
Status : Answered
Chosen Option : 4

Comprehension:

दिए गए गद्यांश में से कुछ शब्द हटा दिए गए हैं। नीचे दिए विकल्पों की सहायता से रिक्त स्थानों की पूर्ति करें।
प्रत्येक संख्या के लिए सर्वाधिक उपयुक्त विकल्प का चयन करें।

तुलसीदास ने 'रामचरितमानस' के द्वारा वेद-शास्त्र-सम्मत हिन्दू धर्म का (1) _____ किया। हमारी संस्कृति का (2) _____ ही वेद, शास्त्र, स्मृति आदि ग्रंथ हैं। तुलसीदास ने उस संस्कृति के आध्यात्मिक और सामाजिक पक्ष की (3) _____ की और हमारे सामने कई आदर्श प्रस्तुत किए। 'रामचरितमानस' के (4) _____ से हिन्दुओं में अपनी संस्कृति के अतीत और भविष्य पर आस्था और गर्व का (5) _____ हुआ।

SubQuestion No : 21

Q.21 गद्यांश के रिक्त स्थान (1) के लिए सर्वाधिक उपयुक्त शब्द होगा-

- Ans
- 1. प्राचार
 - 2. प्रचार
 - 3. प्रकार
 - 4. प्रदान

Question ID : 65497833922
Status : Answered
Chosen Option : 2

Comprehension:

दिए गए गद्यांश में से कुछ शब्द हटा दिए गए हैं। नीचे दिए विकल्पों की सहायता से रिक्त स्थानों की पूर्ति करें।
प्रत्येक संख्या के लिए सर्वाधिक उपयुक्त विकल्प का चयन करें।

तुलसीदास ने 'रामचरितमानस' के द्वारा वेद-शास्त्र-सम्मत हिन्दू धर्म का (1) _____ किया। हमारी संस्कृति का (2) _____ ही वेद, शास्त्र, स्मृति आदि ग्रंथ हैं। तुलसीदास ने उस संस्कृति के आध्यात्मिक और सामाजिक पक्ष की (3) _____ की और हमारे सामने कई आदर्श प्रस्तुत किए। 'रामचरितमानस' के (4) _____ से हिन्दुओं में अपनी संस्कृति के अतीत और भविष्य पर आस्था और गर्व का (5) _____ हुआ।

SubQuestion No : 22

Q.22 गद्यांश के रिक्त स्थान (2) के लिए सर्वाधिक उपयुक्त शब्द होगा-

- Ans
- 1. अधार
 - 2. आधार
 - 3. आभार
 - 4. उद्धार

Question ID : 65497833923
Status : Answered
Chosen Option : 2

Comprehension:

दिए गए गद्यांश में से कुछ शब्द हटा दिए गए हैं। नीचे दिए विकल्पों की सहायता से रिक्त स्थानों की पूर्ति करें। प्रत्येक संख्या के लिए सर्वाधिक उपयुक्त विकल्प का चयन करें।

तुलसीदास ने 'रामचरितमानस' के द्वारा वेद-शास्त्र-सम्मत हिन्दू धर्म का (1)_____ किया। हमारी संस्कृति का (2)_____ ही वेद, शास्त्र, स्मृति आदि ग्रंथ हैं। तुलसीदास ने उस संस्कृति के आध्यात्मिक और सामाजिक पक्ष की (3)_____ की और हमारे सामने कई आदर्श प्रस्तुत किए। 'रामचरितमानस' के (4)_____ से हिन्दुओं में अपनी संस्कृति के अतीत और भविष्य पर आस्था और गर्व का (5)_____ हुआ।

SubQuestion No : 23

Q.23 गद्यांश के रिक्त स्थान (3) के लिए सर्वाधिक उपयुक्त शब्द होगा-

- Ans** 1. गुणगान
 2. रक्षा
 3. रखा
 4. महत्ता

Question ID : 65497833924
Status : Answered
Chosen Option : 2

Comprehension:

दिए गए गद्यांश में से कुछ शब्द हटा दिए गए हैं। नीचे दिए विकल्पों की सहायता से रिक्त स्थानों की पूर्ति करें। प्रत्येक संख्या के लिए सर्वाधिक उपयुक्त विकल्प का चयन करें।

तुलसीदास ने 'रामचरितमानस' के द्वारा वेद-शास्त्र-सम्मत हिन्दू धर्म का (1)_____ किया। हमारी संस्कृति का (2)_____ ही वेद, शास्त्र, स्मृति आदि ग्रंथ हैं। तुलसीदास ने उस संस्कृति के आध्यात्मिक और सामाजिक पक्ष की (3)_____ की और हमारे सामने कई आदर्श प्रस्तुत किए। 'रामचरितमानस' के (4)_____ से हिन्दुओं में अपनी संस्कृति के अतीत और भविष्य पर आस्था और गर्व का (5)_____ हुआ।

SubQuestion No : 24

Q.24 गद्यांश के रिक्त स्थान (4) के लिए सर्वाधिक उपयुक्त शब्द होगा-

- Ans** 1. लिखन-पाठन
 2. पठन-पाठन
 3. लिखन-मनन
 4. मनन-गुनन

Question ID : 65497833925
Status : Answered
Chosen Option : 2

Comprehension:

दिए गए गद्यांश में से कुछ शब्द हटा दिए गए हैं। नीचे दिए विकल्पों की सहायता से रिक्त स्थानों की पूर्ति करें। प्रत्येक संख्या के लिए सर्वाधिक उपयुक्त विकल्प का चयन करें।

तुलसीदास ने 'रामचरितमानस' के द्वारा वेद-शास्त्र-सम्मत हिन्दू धर्म का (1)_____ किया। हमारी संस्कृति का (2)_____ ही वेद, शास्त्र, स्मृति आदि ग्रंथ हैं। तुलसीदास ने उस संस्कृति के आध्यात्मिक और सामाजिक पक्ष की (3)_____ की और हमारे सामने कई आदर्श प्रस्तुत किए। 'रामचरितमानस' के (4)_____ से हिन्दुओं में अपनी संस्कृति के अतीत और भविष्य पर आस्था और गर्व का (5)_____ हुआ।

SubQuestion No : 25

Q.25 गद्यांश के रिक्त स्थान (5) के लिए सर्वाधिक उपयुक्त शब्द होगा-

- Ans** 1. संचार
 2. विचार
 3. प्रचार
 4. संसार

Question ID : 65497833926
Status : Answered
Chosen Option : 1