

Constable GD in CAPFs NIA SSF and Rifleman GD in Assam Rifles Examination 2021

Roll Number	www.GovtJobsAlert.In
Candidate Name	www.GovtJobsAlert.In
Venue Name	ION Digital Zone iDZ Sandalpur
Exam Date	13/12/2021
Exam Time :	4:00 PM - 5:30 PM
Subject	Constable GD 2021

Section : Part A General Intelligence and Reasoning

Q.1 उस सही विकल्प का चयन करें, जो दिए गए शब्दों के उस क्रम को दर्शाता है, जिस क्रम में ये अंग्रेजी शब्दकोश में मौजूद होते हैं।

1. Mosaic
2. Mortise
3. Morpheus
4. Mortified
5. Morris

Ans 1. 3, 2, 5, 4, 1
 2. 3, 4, 5, 2, 1
 3. 3, 5, 4, 2, 1
 4. 3, 5, 2, 4, 1

Question ID : 65497836229
Status : Answered
Chosen Option : 4

Q.2 दीपक, गुरकिरण, शाहिद और विक्रान्त नामक चार व्यक्ति एक वर्गाकार मेज के चारों ओर इसके केंद्र की ओर मुख करके बैठे हैं। वे इस तरह से बैठे हैं कि प्रत्येक व्यक्ति मेज की प्रत्येक भुजा के मध्य में बैठा है। विक्रान्त, दीपक के दाईं ओर ठीक बगल में बैठा है। शाहिद, विक्रान्त के सामने बैठा है। गुरकिरण के बाईं ओर ठीक बगल में कौन बैठा है?

Ans 1. या तो शाहिद या दीपक
 2. शाहिद
 3. दीपक
 4. विक्रान्त

Question ID : 65497836223
Status : Answered
Chosen Option : 2

Q.3 उस विकल्प का चयन कीजिए, जिसका चौथी संख्या से वही संबंध है, जो पहली संख्या का दूसरी संख्या से है और पांचवीं संख्या का छठी संख्या से है।

60 : 28 :: ? : 41 :: 70 : 33

Ans 1. 102
 2. 89
 3. 94
 4. 86

Question ID : 65497836234
Status : Not Answered
Chosen Option : --

Q.4 दिए गए संयोजन के सही दर्पण प्रतिबिंब का चयन करें जब दर्पण को निम्नांकित चिहानुसार 'PQ' पर रखा गया है।

HOT4SP9OT
P
Q

- Ans
- ✓ 1. T O R P 2 4 T O H
 - ✗ 2. H O L 4 2 P 9 O L
 - ✗ 3. T O 4 P 2 R T O H
 - ✗ 4. H O L 9 2 P 4 O L

Question ID : 65497836228

Status : Answered

Chosen Option : 1

Q.5 147 ml आयतन वाले एक जग को 11 ml, 17 ml और 23 ml आयतन वाले तीन गिलासों की न्यूनतम संख्या का उपयोग करके पानी से भरा जाना है। गिलासों का उपयोग, केवल उनके पूर्ण आयतन के साथ ही किया जा सकता है और प्रत्येक गिलास का उपयोग कम से कम एक बार किया जाना अनिवार्य है। इन तीनों गिलासों का उपयोग करके जग को पूरा भरने के लिए कम से कम कितने गिलासों की आवश्यकता होगी?

- Ans
- ✗ 1. 11
 - ✗ 2. 12
 - ✗ 3. 10
 - ✓ 4. 9

Question ID : 65497836219

Status : Not Answered

Chosen Option : --

Q.6 कृप के चित्र की ओर इंगित करते हुए पूर्वी ने कहा, "वह मेरे भाई की पत्नी की इकलौती बेटी के दादा का बेटा है।" पूर्वी का कृप से क्या संबंध है?

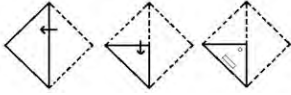
- Ans
- ✓ 1. बहन
 - ✗ 2. बेटी
 - ✗ 3. मां
 - ✗ 4. दादी

Question ID : 65497836215

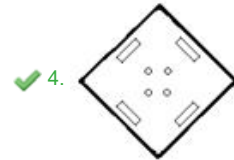
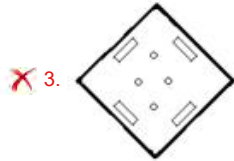
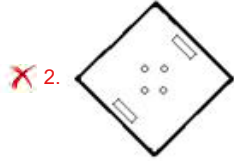
Status : Answered

Chosen Option : 1

Q.7 दिए गए चित्र में कागज के एक टुकड़े को मोड़ने का क्रम और मुड़े हुए टुकड़े को काटने की विधि दर्शाई गई है। यह कागज खोलने पर कैसा दिखेगा?



Ans



Question ID : 65497836220
Status : Answered
Chosen Option : 4

Q.8 'माउंट एवरेस्ट' का 'पर्वत' से वही संबंध है, जो 'नोबेल' का '_____' से है।

- Ans 1. पुरस्कार
 2. पुस्तक
 3. कर्तव्य
 4. प्रसिद्धि

Question ID : 65497836222
Status : Answered
Chosen Option : 1

Q.9 अक्षरों के उस संयोजन का चयन करें, जिसे क्रमबद्ध रूप से दी गई श्रृंखला के रिक्त स्थानों में रखे जाने पर श्रृंखला पूर्ण हो जाएगी।

PR__UC__RODU__PROD__T

- Ans 1. ODTCTPUC
 2. ODCPTCUT
 3. ODTPCTUC
 4. ODPTUTCC

Question ID : 65497836230
Status : Answered
Chosen Option : 3

Q.10 दिए गए विकल्पों में से उस संख्या का चयन करें, जो निम्नलिखित श्रेणी में प्रश्न चिह्न (?) के स्थान पर आ सकती है।

13, 7, 6, ?, 19, 50

- Ans
- 1. 4.5
 - 2. 10.5
 - 3. 12.5
 - 4. 11

Question ID : 65497836227
Status : Not Answered
Chosen Option : --

Q.11 वर्गों के उस समुच्चय का चयन कीजिए जिनके बीच का संबंध निम्नलिखित वेन आरेख द्वारा सर्वोत्तम रूप से दर्शाया गया है।



- Ans
- 1. विद्यार्थी, अंशकालिक कर्मचारी, लड़कियाँ
 - 2. स्तनधारी, मानव, सरीसृप
 - 3. महिलाएँ, माताएँ, बहनें
 - 4. अभियंता, निरक्षर, शहरी निवासी

Question ID : 65497836224
Status : Answered
Chosen Option : 3

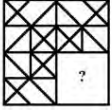
Q.12 उस विकल्प का चयन करें, जिसका तीसरे अक्षर-समूह से वही संबंध है, जो दूसरे अक्षर-समूह का पहले अक्षर-समूह से है।

QZCT : JAXG :: MRDY : ?

- Ans
- 1. NIHS
 - 2. NIWB
 - 3. GIES
 - 4. QUBM


Question ID : 65497836213
Status : Answered
Chosen Option : 2

Q.13 दिए गए विकल्पों में से उस आकृति का चयन करें, जो निम्नांकित श्रृंखला में प्रश्नवाचक चिह्न (?) के स्थान पर आ सकता है (घुमाने की अनुमति नहीं है)।



Ans

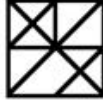
1.



2.



3.



4.



Question ID : 65497836232
Status : Answered
Chosen Option : 3

Q.14 एक विशिष्ट कूट भाषा में, 'STORE' को '8712922' और 'PURE' को '116922' लिखा जाता है। उसी कूट भाषा में 'ASSURED' को किस प्रकार लिखा जाएगा?

Ans

1. 2686982223

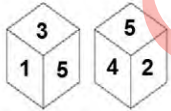
2. 2688982223

3. 2695872223

4. 2688692223

Question ID : 65497836226
Status : Answered
Chosen Option : 4

Q.15 एक ही पासे की दो अलग-अलग स्थितियाँ दर्शाई गई हैं, जिसके छह फलकों पर 1 से 6 तक अंक दिए गए हैं। उस संख्या का चयन करें, जो अंक '5' वाले फलक के विपरीत फलक पर होगी।



Ans

1. 1

2. 2

3. 6

4. 3

Question ID : 65497836236
Status : Answered
Chosen Option : 3

Q.16 किसी निश्चित कूट भाषा में, 'CAR' को 'XZI' लिखा जाता है और 'TOP' को 'GLK' लिखा जाता है। उसी कूट भाषा में 'FATHER' को किस प्रकार लिखा जाएगा?

- Ans
- 1. VZHTKI
 - 2. UZGSVI
 - 3. WZGHUI
 - 4. UZHTVJ

Question ID : 65497836216
Status : Answered
Chosen Option : 2

Q.17 दिए गए कथनों और निष्कर्षों को ध्यानपूर्वक पढ़ें। कथनों में दी गई जानकारी को सत्य मानते हुए विचार करें, भले ही यह सामान्यतः ज्ञात तथ्यों से भिन्न प्रतीत होती हो, और बताएं कि दिए गए निष्कर्षों में से कौन से तार्किक रूप से कथनों का पालन करते हैं।

कथन:

1. सभी नर्स, डॉक्टर हैं।
2. सभी डॉक्टर, डिजाइनर हैं।
3. कुछ नर्स, आर्किटेक्ट हैं।

निष्कर्ष:

- I. कुछ डिजाइनर, आर्किटेक्ट हैं।
- II. कोई डॉक्टर, आर्किटेक्ट नहीं है।

- Ans
- 1. न तो निष्कर्ष I और न ही II पालन करता है।
 - 2. केवल निष्कर्ष I पालन करता है।
 - 3. केवल निष्कर्ष II पालन करता है।
 - 4. दोनों ही निष्कर्ष पालन करते हैं।

Question ID : 65497836217
Status : Answered
Chosen Option : 2

Q.18 उस विकल्प का चयन करें, जिसमें दी गई आकृति अंतर्निहित है (आकृति को घुमाने की अनुमति नहीं है)।



Ans

- 1.
- 2.
- 3.
- 4.

Question ID : 65497836237
Status : Answered
Chosen Option : 4

Q.19 एक विशिष्ट कूट भाषा में, 'FESTIVAL' को 'UTFGMBWJ' लिखा जाता है। उसी कूट भाषा में 'MAJESTIC' को किस प्रकार लिखा जाएगा?

- Ans
- 1. BNFKUTRX
 - 2. FKBNDJUT
 - 3. CJURFBKT
 - 4. NBKFTUJE

Question ID : 65497836214
Status : Not Answered
Chosen Option : --

Q.20 दिए गए विकल्पों में से उस संख्या का चयन करें, जो निम्नलिखित श्रेणी में प्रश्न चिह्न (?) के स्थान पर आ सकती है।

7, 13, 25, 43, ?, 97

- Ans
- 1. 67
 - 2. 63
 - 3. 61
 - 4. 56

Question ID : 65497836231
Status : Answered
Chosen Option : 1

Q.21 निम्नलिखित चार अक्षर-समूहों में से तीन किसी तरह से संगत हैं और एक असंगत है। असंगत अक्षर-समूह का चयन करें।

- Ans
- 1. HOT
 - 2. LIP
 - 3. MRF
 - 4. POD

Question ID : 65497836225
Status : Answered
Chosen Option : 3

Q.22 K, L, M, N, O, P, Q और R एक वृत्ताकार मेज के इर्द-गिर्द मेज के केंद्र की ओर पीठ करके बैठे हैं। R, M के बाईं ओर ठीक बगल में बैठा है, जो P के बाईं ओर दूसरे स्थान पर बैठा है। K, P के दाईं ओर चौथे स्थान पर बैठा है। Q, L और N के बीच में बैठा है। R, L के दाईं ओर दूसरे स्थान पर बैठा है। M और P के बीच में कौन बैठा है?

- Ans
- 1. O
 - 2. R
 - 3. L
 - 4. N

Question ID : 65497836233
Status : Not Answered
Chosen Option : --

Q.23 यदि 'A' का अर्थ '+' है, 'B' का अर्थ '-' है, 'C' का अर्थ 'x' है और 'D' का अर्थ '÷' है, तो दिए गए व्यंजक का मान ज्ञात कीजिए।

$$50 A 19 B (36 D 2) C 3 A 15 A (10 D 5) = ?$$

- Ans
- 1. 40
 - 2. 44
 - 3. 32
 - 4. 28

Question ID : 65497836235
Status : Answered
Chosen Option : 3

Q.24 दिए गए विकल्पों में से उस अक्षर समूह का चयन कीजिए, जो निम्नलिखित श्रृंखला में प्रश्न चिह्न (?) के स्थान पर आ सकता है।

HK, FM, DO, BQ, ?, XU, VW

- Ans
- 1. WS
 - 2. AK
 - 3. ZS
 - 4. ZK

Question ID : 65497836221
Status : Answered
Chosen Option : 3

Q.25 उस विकल्प का चयन करें, जिसमें दी गई संख्याओं के बीच वही संबंध है, जो दिए गए समूह की संख्याओं के बीच है।

(64, 51, 38)

- Ans
- 1. (45, 54, 99)
 - 2. (90, 120, 64)
 - 3. (22, 50, 79)
 - 4. (52, 46, 40)

Question ID : 65497836218
Status : Answered
Chosen Option : 4

Section : Part B General Knowledge and General Awareness

Q.1 एक द्रुमाकृतिक अपवाह पैटर्न (Dendritic Drainage Pattern) _____।

- Ans
- 1. जब नदी सरणी, मैदानी क्षेत्र की ढलान के साथ साथ प्रवाहित होती है और इसकी सहायक नदियों के साथ एक वृक्ष की शाखाओं जैसी दिखाई देती है
 - 2. तब बनते हैं, जब धारा एक केंद्रीय शिखर या गुंबद जैसी संरचना से अलग-अलग दिशाओं में बहती है
 - 3. जब कोई नदी अपनी सहायक नदियों से लगभग समकोण पर मिलती है
 - 4. एक दृढ़ संयुक्त चट्टानी इलाके पर बनता है

Question ID : 65497836252
Status : Answered
Chosen Option : 1

Q.2 रासायनिक क्षारों के संबंध में निम्नलिखित में से कौन सा कथन सही है?

- Ans
- 1. क्षार स्पर्श में साबुनी, स्वाद में खट्टे और संक्षारक होते हैं।
 - 2. क्षार स्पर्श में चिपचिपे, स्वाद में कड़वे और संक्षारक होते हैं।
 - 3. क्षार स्पर्श में चिपचिपे, स्वाद में खट्टे और संक्षारक होते हैं।
 - 4. क्षार स्पर्श में साबुनी, स्वाद में कड़वे और संक्षारक होते हैं।

Question ID : 65497836261
Status : Answered
Chosen Option : 4

Q.3 आर्थिक सर्वेक्षण 2020-21 में शामिल नवनिर्मित बुनियादी आवश्यकता सूचकांक (BNI) पांच आयामों के तहत आने वाले 26 संकेतकों को एकीकृत करता है। निम्नलिखित में से कौन उनमें से एक नहीं है?

- Ans
- 1. रोजगार
 - 2. स्वच्छता
 - 3. जल
 - 4. आवास

Question ID : 65497836259
Status : Not Answered
Chosen Option : --

Q.4 कौन-सा अधिनियम ऐसे व्यक्ति के अभियोजन की अनुमति प्रदान करता है, जो विदेश में रहते हुए आपराधिक मुकदमे का सामना करने के लिए भारत लौटने से इंकार करता है?

- Ans
- 1. निक्षेपागार अधिनियम, 1996
 - 2. बैंककार बही साक्ष्य अधिनियम, 1891
 - 3. अंतर्राष्ट्रीय वित्तीय सेवा केंद्र प्राधिकरण अधिनियम, 2019
 - 4. भगोड़ा आर्थिक अपराधी (FEO) अधिनियम, 2018

Question ID : 65497836240
Status : Answered
Chosen Option : 4

Q.5 जून 2020 में जारी फीफा (FIFA) विश्व रैंकिंग में भारत की रैंक क्या थी?

- Ans
- 1. 105 वीं
 - 2. 106 वीं
 - 3. 107 वीं
 - 4. 108 वीं

Question ID : 65497836250
Status : Not Answered
Chosen Option : --

Q.6 निम्न में से किस वृक्ष/पौधे का उपयोग खांसी और सर्दी के उपचार में किया जाता है?

- Ans
- 1. कचनार
 - 2. बबूल
 - 3. सर्पगंधा
 - 4. तुलसी

Question ID : 65497836255
Status : Answered
Chosen Option : 4

Q.7 किस वर्ष में संसद के एक अधिनियम द्वारा लक्कादीव-मिनिक्ॉय-अमीनदीवी द्वीप के द्वीपों को समेकित करते हुए लक्षद्वीप नामक केंद्र शासित प्रदेश का गठन किया गया?

- Ans
- 1. 1974
 - 2. 1971
 - 3. 1973
 - 4. 1972

Question ID : 65497836249
Status : Answered
Chosen Option : 2

Q.8 महाधिवक्ता, _____ के प्रसाद पर्यंत अपने पद पर बना रह सकता है।

- Ans
- 1. महान्यायवादी
 - 2. प्रधानमंत्री
 - 3. मुख्यमंत्री
 - 4. राज्यपाल

Question ID : 65497836246
Status : Answered
Chosen Option : 1

Q.9 निम्नलिखित में से कौन सा शब्द भारत में मंदिर स्थापत्यकला से संबंधित नहीं है?

- Ans
- 1. द्रविड़
 - 2. ऊर्ध्वका
 - 3. वेसर
 - 4. नागर

Question ID : 65497836251
Status : Answered
Chosen Option : 2

Q.10 नवंबर 2020 में, अंतरिक्ष कक्षा में लॉन्च किए गए स्पेसएक्स क्यू ड्रैगन अंतरिक्ष यान में तीन अमेरिकी और एक _____ अंतरिक्ष यात्री थे।

- Ans
- 1. चीनी
 - 2. रूसी
 - 3. जापानी
 - 4. दक्षिण कोरियाई

Question ID : 65497836257
Status : Answered
Chosen Option : 2

Q.11 SIMBEX-20 क्या है?

- Ans
- 1. भारत और सऊदी अरब के बीच द्विपक्षीय समुद्री अभ्यास।
 - 2. भारत और सिंगापुर के बीच आर्थिक संबंधों में बढ़ोत्तरी जांचने के लिए बनाया गया वित्तीय बेंचमार्क।
 - 3. भारत और सिंगापुर के बीच द्विपक्षीय समुद्री अभ्यास।
 - 4. भारत और सऊदी अरब के बीच आर्थिक संबंधों में बढ़ोत्तरी जांचने के लिए बनाया गया वित्तीय बेंचमार्क।

Question ID : 65497836247
Status : Answered
Chosen Option : 3

Q.12 निम्नलिखित में से कौन सा लोक नृत्य एक हाथ में तलवार और दूसरे हाथ में ढाल लेकर किया जाता है?

- Ans
- 1. जदूर
 - 2. कर्मा
 - 3. पाइका
 - 4. संथाल

Question ID : 65497836258
Status : Not Answered
Chosen Option : --

Q.13 भारतीय राष्ट्रीय कांग्रेस के पहले अधिवेशन का आयोजन मुंबई (तत्कालीन बंबई) में व्योमेश चंद्र बनर्जी की अध्यक्षता में _____ में किया गया था।

- Ans
- 1. जनवरी, 1884
 - 2. नवंबर, 1906
 - 3. अक्टूबर, 1882
 - 4. दिसंबर, 1885

Question ID : 65497836245
Status : Answered
Chosen Option : 4

Q.14 द्वितीय विश्व युद्ध में अपने पक्ष में पूर्ण भारतीय सहयोग प्राप्त करने के लिए ब्रिटिश सरकार ने भारत में कौन-सा मिशन शुरू किया था?

- Ans
- 1. कॉर्नवालिस
 - 2. साइमन
 - 3. इरविन
 - 4. क्रिप्स

Question ID : 65497836239
Status : Answered
Chosen Option : 4

Q.15 भारतीय अर्थव्यवस्था के किस एकमात्र क्षेत्र ने 2020 की पहली तिमाही में 3.4% का बढ़ा हुआ GVA (सकल मूल्य वर्धित) प्रदर्शित किया?

- Ans
- 1. निर्माण
 - 2. विनिर्माण
 - 3. सेवाएं
 - 4. कृषि

Question ID : 65497836242
Status : Answered
Chosen Option : 3

Q.16 AG टैन्सले (AG Tansley) ने 1935 में _____ की अवधारणा प्रस्तुत की।

- Ans
- 1. श्वसन
 - 2. शून्य
 - 3. पारिस्थितिकी तंत्र
 - 4. गति

Question ID : 65497836260
Status : Answered
Chosen Option : 3

Q.17 निम्नलिखित में से कौन, 2020 महिला टी-20 चैलेंज (क्रिकेट) का शीर्ष प्रायोजक (Title Sponsor) था?

- Ans 1. पेटीएम
 2. जियो
 3. अनअकैडमी
 4. ड्रीम 11

Question ID : 65497836254
Status : Not Answered
Chosen Option : --

Q.18 ICC (अंतरराष्ट्रीय क्रिकेट परिषद) का मुख्यालय इनमें से किस देश में स्थित है?

- Ans 1. यू.के. (UK)
 2. यू.ए.ई. (UAE)
 3. भारत
 4. ऑस्ट्रेलिया

Question ID : 65497836248
Status : Answered
Chosen Option : 2

Q.19 नवंबर 2020 में, नीतीश कुमार लगातार _____ बार बिहार के मुख्यमंत्री बने।

- Ans 1. तीसरी
 2. चौथी
 3. दूसरी
 4. पांचवीं

Question ID : 65497836241
Status : Answered
Chosen Option : 2

Q.20 ऋग्वेद, कितनी पुस्तकों (मंडलों) में विभाजित है?

- Ans 1. 5
 2. 10
 3. 16
 4. 13

Question ID : 65497836238
Status : Answered
Chosen Option : 2

Q.21 निम्नलिखित में से कौन सा व्यक्ति फोर्ब्स द्वारा जारी 'विश्व के अरबपतियों की सूची', 2021 में शामिल नहीं है?

- Ans 1. राधाकिशन दमानी
 2. शिव नादर
 3. उदय कोटक
 4. अदार पूनावाला

Question ID : 65497836262
Status : Answered
Chosen Option : 1

Q.22 भारत के वाणिज्य एवं उद्योग मंत्रालय के आंकड़ों के अनुसार, निम्नलिखित में से कौन सा देश अप्रैल-सितंबर 2020 के दौरान भारत में प्रत्यक्ष विदेशी निवेश (FDI) के दूसरे सबसे बड़े स्रोत के रूप में प्रकट हुआ?

- Ans
- 1. जापान
 - 2. संयुक्त राज्य अमेरिका
 - 3. फ्रांस
 - 4. मॉरीशस

Question ID : 65497836244
Status : Not Answered
Chosen Option : --

Q.23 'ए प्रॉमिस्ड लैंड', _____ द्वारा लिखित एक पुस्तक है।

- Ans
- 1. बराक ओबामा
 - 2. प्रियंका चोपड़ा
 - 3. नेल्सन मंडेला
 - 4. मिल्खा सिंह

Question ID : 65497836253
Status : Answered
Chosen Option : 1

Q.24 अलाउद्दीन खिलजी द्वारा लगाया गया 'खराज' कर, किसान की उपज के लगभग _____ % हिस्से के बराबर होता था।

- Ans
- 1. 10
 - 2. 50
 - 3. 25
 - 4. 20

Question ID : 65497836256
Status : Answered
Chosen Option : 2

Q.25 2015 तक प्राप्त जानकारी के अनुसार, नेशनल मिशन फॉर क्लीन गंगा (NMCG) के विश्व बैंक द्वारा वित्तपोषित नेशनल गंगा रिवर बेसिन प्रोजेक्ट्स (NGRBP) कितने राज्यों पर केंद्रित थे?

- Ans
- 1. पांच
 - 2. नौ
 - 3. तीन
 - 4. सात

Question ID : 65497836243
Status : Answered
Chosen Option : 1

Section : Part C Elementary Mathematics

Q.1 एक संख्या p में 99 का $p\%$ जोड़ने पर प्राप्त मान, 99 में p के 99% के योग के बराबर होता है।
($p + 51$)% of 928 + 72 का मान ज्ञात कीजिए।

- Ans
- 1. 1500
 - 2. 1392
 - 3. 1464
 - 4. 1371.2

Question ID : 65497836269
Status : Answered
Chosen Option : 3

Q.2 3 से अभाज्य आठ सबसे छोटी सम प्राकृत संख्याओं का औसत ज्ञात कीजिए।

- Ans
- 1. 11
 - 2. 8
 - 3. 9
 - 4. 12

Question ID : 65497836270
Status : Not Answered
Chosen Option : --

Q.3 किसी दुकानदार ने ₹80 में 5 नोटबुक की दर से 200 नोटबुक खरीदी। उसने उनमें से आधी नोटबुक को क्रय मूल्य पर बेच दिया और शेष नोटबुक को ₹100 में 5 नोटबुक की दर से बेचा। उसका प्रतिशत लाभ कितना है?

- Ans
- 1. 10%
 - 2. 12%
 - 3. 12.5%
 - 4. 15%

Question ID : 65497836264
Status : Not Answered
Chosen Option : --

Q.4 एक व्यापारी ने ₹5,400 में एक रूम कूलर खरीदा। 25% की छूट देने के बाद, उसे 25% का लाभ प्राप्त होता है। रूम कूलर पर अंकित मूल्य कितना है?

- Ans
- 1. ₹9,000
 - 2. ₹3,600
 - 3. ₹6,750
 - 4. ₹1,350

Question ID : 65497836271
Status : Answered
Chosen Option : 1

Q.5 यदि $a : b = 9 : 7$ है, तो $(11a-9b) : (2a+3b)$ का मान कितना है?

- Ans
- 1. 4 : 21
 - 2. 54 : 13
 - 3. 4 : 13
 - 4. 12 : 13

Question ID : 65497836265
Status : Answered
Chosen Option : 4

Q.6 एक आदमी ने ₹20,850 में एक रेडियो और एक टीवी सेट बेचा, उस रेडियो पर 20% लाभ हुआ और टीवी सेट पर 15% लाभ हुआ। यदि उसने दोनों वस्तुओं को ₹21,450 में बेचा होता, तो उसे रेडियो पर 15% लाभ प्राप्त होता और टीवी सेट पर 20% लाभ प्राप्त होता। टीवी सेट का क्रय मूल्य ज्ञात कीजिए।

- Ans
- 1. ₹24,000
 - 2. ₹18,000
 - 3. ₹20,000
 - 4. ₹15,000

Question ID : 65497836275
Status : Not Answered
Chosen Option : --

Q.7 यदि k का 200% - 50 का $(k+2)\%$ = k है, तो k का मान ज्ञात करें।

- Ans
- 1. $\frac{2}{3}$
 - 2. $\frac{100}{149}$
 - 3. 2
 - 4. 1

Question ID : 65497836272
Status : Answered
Chosen Option : 3

Q.8 एक निश्चित समय में 3 महिलाएं जितना काम कर सकती हैं, उतना ही काम दो पुरुष पूरा कर सकते हैं। दस पुरुष और 6 महिलाएं एक काम को 5 दिनों में पूरा कर सकते हैं। यदि 4 पुरुष और 9 महिलाएं एक साथ मिलकर काम करते हैं, तो वे इसी काम को कितने दिनों में पूरा कर पाएंगे?

- Ans
- 1. $7\frac{1}{2}$
 - 2. 7
 - 3. $6\frac{1}{2}$
 - 4. 8

Question ID : 65497836273
Status : Answered
Chosen Option : 2

Q.9 छह वर्ष पहले, A और B की आयु का अनुपात 17 : 13 था, और उनकी वर्तमान आयु का अनुपात 5 : 4 है। अब से 4 वर्ष बाद उनकी आयु का अनुपात ज्ञात कीजिए।

- Ans**
- 1. 11 : 9
 - 2. 4 : 3
 - 3. 3 : 2
 - 4. 9 : 5

Question ID : 65497836283
Status : Answered
Chosen Option : 1

Q.10 एक वस्तु का अंकित मूल्य ₹480 है। अंकित मूल्य पर 18% की छूट देकर, एक दुकानदार ₹63.60 का लाभ अर्जित करता है। उसका प्रतिशत लाभ ज्ञात करें।

- Ans**
- 1. $13\frac{3}{4}\%$
 - 2. $19\frac{1}{11}\%$
 - 3. $19\frac{3}{11}\%$
 - 4. $13\frac{1}{4}\%$

Question ID : 65497836278
Status : Answered
Chosen Option : 2

Q.11 एक कार 10% के लाभ पर ₹66,000 में बेची गई। यदि इसे ₹600 अधिक में बेचा जाता, तो प्रतिशत लाभ कितना होता?

- Ans**
- 1. 11.5%
 - 2. 13%
 - 3. 11%
 - 4. 15%

Question ID : 65497836277
Status : Answered
Chosen Option : 3

Q.12 320 m लंबी एक ट्रेन अपनी लंबाई से तीन गुना लंबे प्लेटफॉर्म को 90 सेकंड में पार करती है। ट्रेन की चाल (km/h में) कितनी है?

- Ans**
- 1. 50.4
 - 2. 48
 - 3. 51.2
 - 4. 54

Question ID : 65497836280
Status : Answered
Chosen Option : 1

Q.13 यदि ₹16400 की राशि पर 'R' ब्याज दर पर 3 वर्ष में प्राप्त साधारण ब्याज और ₹18000 की राशि पर समान 'R' ब्याज दर पर 4 वर्ष में प्राप्त साधारण ब्याज का योग ₹10302 है, तो 'R' का मान ज्ञात कीजिए।

- Ans**
- 1. 9%
 - 2. 10.5%
 - 3. 8.5%
 - 4. 8%

Question ID : 65497836276
Status : Answered
Chosen Option : 3

Q.14 $25 - 4 \text{ of } (14.4 \div 9) + 16 \times 0.4$ का मान ज्ञात करें।

- Ans**
- 1. 25
 - 2. 0
 - 3. 20
 - 4. 5

Question ID : 65497836281
Status : Answered
Chosen Option : 3

Q.15 किसी कार्य को पूरा करने में B की गति A की गति की 3 गुनी है। यदि B कार्य को 28 दिनों में पूरा करता है, तो एक साथ काम करने पर उन्हें उस कार्य को पूरा करने में कितने दिन लगेंगे?

- Ans**
- 1. 21 दिन
 - 2. 22 दिन
 - 3. $22\frac{2}{5}$ दिन
 - 4. 14 दिन

Question ID : 65497836266
Status : Answered
Chosen Option : 1

Q.16 विलयनों A और B में अम्ल और पानी का अनुपात क्रमशः 3 : 5 और 9 : 7 है। विलयनों A और B को 2 : 3 के अनुपात में मिलाया जाता है। परिणामी विलयन में अम्ल और पानी का अनुपात ज्ञात कीजिए।

- Ans**
- 1. 19 : 21
 - 2. 37 : 43
 - 3. 39 : 41
 - 4. 9 : 11

Question ID : 65497836284
Status : Not Answered
Chosen Option : --

Q.17 यदि $a = 2 \times 32 \times 5, b = 34 \times 5 \times 7, c = 22 \times 3 \times 7$ हो, तो a, b और c का लघुत्तम समापवर्त्य (LCM) कितना होगा?

- Ans
- ✓ 1. 11340
 - ✗ 2. 3780
 - ✗ 3. 5670
 - ✗ 4. 3

Question ID : 65497836268
Status : Answered
Chosen Option : 1

Q.18 निम्नलिखित व्यंजक का मान ज्ञात कीजिए।

$$(-5) \text{ of } (-45) \div (-15) - (-3) + 5 \times \frac{1}{15}$$

- Ans
- ✗ 1. $18\frac{1}{3}$
 - ✓ 2. $-11\frac{2}{3}$
 - ✗ 3. $3\frac{2}{15}$
 - ✗ 4. $3\frac{74}{225}$

Question ID : 65497836263
Status : Answered
Chosen Option : 1

Q.19 एक आयताकार मैदान की भुजाओं का अनुपात 3 : 2 है और इसका परिमाण 600 m है। एक वर्गाकार मैदान का क्षेत्रफल, इस आयताकार मैदान के क्षेत्रफल के 6 गुने के बराबर है। वर्गाकार मैदान का परिमाण (m में) ज्ञात कीजिए।

- Ans
- ✗ 1. 1280
 - ✓ 2. 1440
 - ✗ 3. 1200
 - ✗ 4. 1120

Question ID : 65497836287
Status : Answered
Chosen Option : 2

Q.20 $\frac{5}{6} \div \frac{5}{6}$ of $\frac{5}{6} \times 1\frac{2}{3} + \frac{3}{4} \div \frac{4}{3}$ of $1\frac{1}{2} - 1\frac{1}{2} - \frac{5}{6} \div \frac{3}{4}$ का मान ज्ञात करें।

Ans

1. $\frac{7}{8}$
 2. $\frac{28}{9}$
 3. $\frac{-29}{18}$
 4. $\frac{-17}{72}$

Question ID : 65497836279
Status : Not Answered
Chosen Option : --

Q.21 एक निश्चित धनराशि पर 15% वार्षिक साधारण ब्याज की दर पर $5\frac{1}{2}$ वर्ष में प्राप्त मिश्रधन, समान धनराशि पर समान दर पर 10 वर्ष में प्राप्त साधारण ब्याज से ₹1755 अधिक है। धनराशि (₹ में) ज्ञात कीजिए।

Ans

1. 5,200
 2. 5,800
 3. 5,500
 4. 5,400

Question ID : 65497836286
Status : Not Answered
Chosen Option : --

Q.22 ₹6,400 की एक धनराशि साधारण ब्याज की एक निश्चित वार्षिक दर पर $4\frac{1}{2}$ वर्ष में ₹8,848 हो जाती है। साधारण ब्याज की समान दर पर ₹9,000 की धनराशि $2\frac{2}{5}$ वर्ष में कितनी (₹ में) हो जाएगी?

Ans

1. 10,646
 2. 10,863
 3. 10,836
 4. 10,764

Question ID : 65497836285
Status : Not Answered
Chosen Option : --

Q.23 दो कारें क्रमशः 45 km/h और 70 km/h की चाल से एक दूसरे की ओर चल रही हैं। उनके एक-दूसरे से मिलने से 12 मिनट पहले, उनके बीच की दूरी कितनी होगी?

Ans

1. 21 km
 2. 23 km
 3. 22 km
 4. 20 km

Question ID : 65497836274
Status : Not Answered
Chosen Option : --

Q.24 14 cm त्रिज्या वाले एक अर्धगोलाकार ठोस का पूर्ण पृष्ठीय क्षेत्रफल ज्ञात कीजिए?
($\pi = \frac{22}{7}$ लें)

- Ans 1. 1848 cm²
 2. 616 cm²
 3. 1232 cm²
 4. 2352 cm²

Question ID : 65497836267
Status : Answered
Chosen Option : 1

Q.25 19 संख्याओं का औसत 46 है। पहली 5 संख्याओं का औसत 49 है और अगली 6 संख्याओं का औसत 54 है। शेष संख्याओं का औसत ज्ञात कीजिए। (एक दशमलव स्थान तक पूर्णांकित करें)

- Ans 1. 38.1
 2. 43.5
 3. 42.4
 4. 33.9

Question ID : 65497836282
Status : Not Answered
Chosen Option : --

Section : Part D English

Q.1 The following sentence has been divided into parts. One of them may contain an error. Select the part that contains the error from the given options. If you don't find any error, mark 'No error' as your answer.

Mr. Sharma is one of / the best teacher / I have ever seen.

- Ans 1. the best teacher
 2. I have ever seen
 3. Mr. Sharma is one of
 4. No error

Question ID : 65497836289
Status : Not Answered
Chosen Option : --

Q.2 Select the most appropriate option to fill in the blank.

Traffic _____ is a very serious problem in metro cities.

- Ans 1. congestion
 2. collection
 3. gathering
 4. chain

Question ID : 65497836299
Status : Not Answered
Chosen Option : --

Q.3 Select the most appropriate synonym of the given word.

Common

- Ans 1. Individual
 2. Usual
 3. Scarce
 4. Particular

Question ID : 65497836290
Status : Not Answered
Chosen Option : --

Q.4 Select the most appropriate ANTONYM of the given word.

Severe

- Ans 1. Narrow
 2. Mild
 3. Short
 4. Sharp

Question ID : 65497836293
Status : Not Answered
Chosen Option : --

Q.5 Select the most appropriate option that can substitute the underlined word in the given sentence. If there is no need to substitute it, select 'No substitution required'.

There is two pens in the box.

- Ans 1. was
 2. No substitution required
 3. are
 4. have

Question ID : 65497836300
Status : Not Answered
Chosen Option : --

Q.6 The following sentence has been split into four segments. Identify the segment that contains a grammatical error.

When I got back / to the flat, / I found that / I was locked out.

- Ans 1. When I got back
 2. I was locked out
 3. to the flat
 4. I found that

Question ID : 65497836302
Status : Not Answered
Chosen Option : --

Q.7 Select the most appropriate meaning of the given idiom.

Out of question

- Ans 1. Wishful
 2. Doubtful
 3. Difficult
 4. Impossible

Question ID : 65497836292
Status : Not Answered
Chosen Option : --

Q.8 Select the option that can be used as a one-word substitute for the given group of words.

One who makes an eloquent public speech

- Ans 1. Orator
 2. Lecturer
 3. Presenter
 4. Mentor

Question ID : 65497836298
Status : Not Answered
Chosen Option : --

Q.9 The following sentence has been split into four segments. Identify the segment that contains a grammatical error.

She arrived / at / Monday morning / to attend the marriage.

- Ans 1. to attend the marriage
 2. She arrived
 3. at
 4. Monday morning

Question ID : 65497836296
Status : Not Answered
Chosen Option : --

Q.10 Select the option that will improve the underlined part of the given sentence. In case no improvement is needed, select 'No improvement required'.

What fun is it to ride a rollercoaster with friends!

- Ans 1. No improvement required
 2. it is for riding
 3. is it riding
 4. it is to ride

Question ID : 65497836295
Status : Not Answered
Chosen Option : --

Q.11 Select the INCORRECTLY spelt word.

- Ans 1. Arrogent
 2. Appeal
 3. Immediate
 4. Attention

Question ID : 65497836306
Status : Not Answered
Chosen Option : --

Q.12 Select the option that is closest in meaning to the underlined idiom/phrase in the given sentence.

The teacher couldn't make head or tail of the student's answer.

- Ans 1. appreciate
 2. understand
 3. overlook
 4. recommend

Question ID : 65497836301
Status : Not Answered
Chosen Option : --

Q.13 Select the most appropriate synonym of the given word.

Bargain

- Ans 1. Disagreement
 2. Gain
 3. Dispute
 4. Deal

Question ID : 65497836297
Status : Not Answered
Chosen Option : --

Q.14 Select the INCORRECTLY spelt word.

- Ans 1. Submitted
 2. Ommitted
 3. Committed
 4. Remitted

Question ID : 65497836305
Status : Not Answered
Chosen Option : --

Q.15 Select the option that can be used as a one-word substitute for the given group of words.

Go or come after a person or thing proceeding ahead

- Ans 1. Race
 2. Follow
 3. Search
 4. Hunt

Question ID : 65497836291
Status : Not Answered
Chosen Option : --

Q.16 Select the option that can be used as a one-word substitute for the given group of words.

Connected with the sense of touch

- Ans
- 1. Visual
 - 2. Auditory
 - 3. Tactile
 - 4. Olfactory

Question ID : 65497836304
Status : Not Answered
Chosen Option : --

Q.17 Select the most appropriate option to fill in the blank.

My grandmother is _____ to the bed.

- Ans
- 1. concealed
 - 2. confined
 - 3. concerned
 - 4. confirmed

Question ID : 65497836307
Status : Not Answered
Chosen Option : --

Q.18 Select the most appropriate option to fill in the blank.

When she _____ the hall, she was pleasantly surprised.

- Ans
- 1. arrived
 - 2. intruded
 - 3. appeared
 - 4. entered

Question ID : 65497836294
Status : Not Answered
Chosen Option : --

Q.19 Select the most appropriate ANTONYM of the given word.

Originate

- Ans
- 1. Terminate
 - 2. Emerge
 - 3. Exist
 - 4. Continue

Question ID : 65497836303
Status : Not Answered
Chosen Option : --

Q.20 Select the most appropriate option that can substitute the underlined segment in the given sentence. If there is no need to substitute it, select 'No substitution required'.

She made the shopkeeper to take back the damaged headset.

- Ans
- 1. taking back
 - 2. take back
 - 3. No substitution required
 - 4. taken back

Question ID : 65497836288
Status : Not Answered
Chosen Option : --

Comprehension:

In the following passage, some words have been deleted. Read the passage carefully and select the most appropriate option to fill in each blank.

Riding a bicycle, also called cycling, has a number of health (1)_____. Cycling is an aerobic activity, which means your heart, lungs and blood vessels all get a workout. It also helps (2)_____ stamina and physical strength. Another important advantage is that cycling helps (3)_____ endorphins or the feel-good chemicals in the brain (4)_____ help reduce stress levels. People who (5)_____ cycling as an exercise find that they have more energy for their day-to-day activities.

SubQuestion No : 21

Q.21 Select the most appropriate option to fill in blank no. 1.

- Ans
- 1. values
 - 2. credits
 - 3. benefits
 - 4. traits

Question ID : 65497836309
Status : Not Answered
Chosen Option : --

Comprehension:

In the following passage, some words have been deleted. Read the passage carefully and select the most appropriate option to fill in each blank.

Riding a bicycle, also called cycling, has a number of health (1)_____. Cycling is an aerobic activity, which means your heart, lungs and blood vessels all get a workout. It also helps (2)_____ stamina and physical strength. Another important advantage is that cycling helps (3)_____ endorphins or the feel-good chemicals in the brain (4)_____ help reduce stress levels. People who (5)_____ cycling as an exercise find that they have more energy for their day-to-day activities.

SubQuestion No : 22

Q.22 Select the most appropriate option to fill in blank no. 2.

- Ans
- 1. build
 - 2. establish
 - 3. expand
 - 4. grow

Question ID : 65497836310
Status : Not Answered
Chosen Option : --

Comprehension:

In the following passage, some words have been deleted. Read the passage carefully and select the most appropriate option to fill in each blank.

Riding a bicycle, also called cycling, has a number of health (1)_____. Cycling is an aerobic activity, which means your heart, lungs and blood vessels all get a workout. It also helps (2)_____ stamina and physical strength. Another important advantage is that cycling helps (3)_____ endorphins or the feel-good chemicals in the brain (4)_____ help reduce stress levels. People who (5)_____ cycling as an exercise find that they have more energy for their day-to-day activities.

SubQuestion No : 23

Q.23 Select the most appropriate option to fill in blank no. 3.

- Ans 1. leak
 2. realise
 3. release
 4. clear

Question ID : 65497836311
Status : Not Answered
Chosen Option : --

Comprehension:

In the following passage, some words have been deleted. Read the passage carefully and select the most appropriate option to fill in each blank.

Riding a bicycle, also called cycling, has a number of health (1)_____. Cycling is an aerobic activity, which means your heart, lungs and blood vessels all get a workout. It also helps (2)_____ stamina and physical strength. Another important advantage is that cycling helps (3)_____ endorphins or the feel-good chemicals in the brain (4)_____ help reduce stress levels. People who (5)_____ cycling as an exercise find that they have more energy for their day-to-day activities.

SubQuestion No : 24

Q.24 Select the most appropriate option to fill in blank no. 4.

- Ans 1. that
 2. thus
 3. who
 4. such

Question ID : 65497836312
Status : Not Answered
Chosen Option : --

Comprehension:

In the following passage, some words have been deleted. Read the passage carefully and select the most appropriate option to fill in each blank.

Riding a bicycle, also called cycling, has a number of health (1)_____. Cycling is an aerobic activity, which means your heart, lungs and blood vessels all get a workout. It also helps (2)_____ stamina and physical strength. Another important advantage is that cycling helps (3)_____ endorphins or the feel-good chemicals in the brain (4)_____ help reduce stress levels. People who (5)_____ cycling as an exercise find that they have more energy for their day-to-day activities.

SubQuestion No : 25

Q.25 Select the most appropriate option to fill in blank no. 5.

- Ans 1. take off
 2. take up
 3. take out
 4. take after

Question ID : 65497836313
Status : Not Answered
Chosen Option : --

Section : Part D Hindi

Q.1 दिए गए वाक्यांश के लिए एक सार्थक शब्द दीजिए।

जिसे तरने या पार जाने की इच्छा हो

- Ans
- 1. निरामिष
 - 2. तस्कर
 - 3. मुमूर्षु
 - 4. तितीर्षु

Question ID : 65497836317
Status : Answered
Chosen Option : 4

Q.2 निम्नलिखित में से शुद्ध वर्तनी वाला शब्द कौन सा है?

- Ans
- 1. अनिष्ठ
 - 2. अनीष्ट
 - 3. अनिष्ट
 - 4. अनीष्ट

Question ID : 65497836331
Status : Answered
Chosen Option : 1

Q.3 दिए गए शब्द के विलोम का चयन कीजिए।

न्यून

- Ans
- 1. अधिकतम
 - 2. अधिक
 - 3. अत्यंत
 - 4. बृहत

Question ID : 65497836315
Status : Answered
Chosen Option : 2

Q.4 'आंखें चार होना' मुहावरे का सही अर्थ क्या है?

- Ans
- 1. घूरना
 - 2. लज्जित होना
 - 3. आकर्षित होना
 - 4. आमने-सामने होना

Question ID : 65497836327
Status : Answered
Chosen Option : 3

Q.5 निम्नलिखित में से शुद्ध वर्तनी वाला शब्द कौन सा है?

- Ans
- 1. नीरीह
 - 2. नीरिह
 - 3. निरिह
 - 4. निरीह

Question ID : 65497836330
Status : Answered
Chosen Option : 2

Q.6 'अनुरक्ति' का विलोम शब्द क्या होगा?

- Ans 1. विरक्ति
 2. शक्ति
 3. आसक्ति
 4. भक्ति

Question ID : 65497836328
Status : Answered
Chosen Option : 1

Q.7 रिक्त स्थान की पूर्ति करने के लिए सर्वाधिक उपयुक्त विकल्प का चयन करें।

मैंने _____ में सोचा कि ऐसा क्यों होता है।

- Ans 1. मन
 2. अन्तःकरण
 3. आत्मा
 4. चित्त

Question ID : 65497836332
Status : Answered
Chosen Option : 1

Q.8 दिए गए वाक्यांश के लिए एक शब्द दीजिए।

जो ईश्वर में विश्वास रखता हो

- Ans 1. वास्तविक
 2. नास्तिक
 3. सात्विक
 4. आस्तिक

Question ID : 65497836326
Status : Answered
Chosen Option : 4

Q.9 जिसके हाथ में चक्र है' इस वाक्यांश के लिए एक सार्थक शब्द का चयन कीजिए।

- Ans 1. चंद्रशेखर
 2. चक्रपाणि
 3. चक्रधर
 4. चंद्रचूड़

Question ID : 65497836316
Status : Answered
Chosen Option : 2

Q.10 दिए गए वाक्य में रेखांकित अंश को प्रतिस्थापित करने के लिए सर्वाधिक उपयुक्त विकल्प का चयन करें।

स्कूल में व्याकरण की विद्या दी जाती है।

- Ans 1. ज्ञान
 2. शिक्षा
 3. बुद्धि
 4. दीक्षा

Question ID : 65497836333
Status : Answered
Chosen Option : 2

Q.11 दिए गए वाक्य का वह भाग ज्ञात करें जिसमें कोई त्रुटि है। यदि कोई त्रुटि नहीं है, तो 'कोई त्रुटि नहीं है' चुनें।

महापुरुषों के (1)/ उपदेशों को अपने (2)/ जीवन में प्रयोग करो (3)/ कोई त्रुटि नहीं है (4)

Ans 1. 4

2. 2

3. 3

4. 1

Question ID : 65497836324

Status : Answered

Chosen Option : 3

Q.12 दिए गए वाक्य का वह भाग ज्ञात करें जिसमें कोई त्रुटि है। यदि कोई त्रुटि नहीं है, तो 'कोई त्रुटि नहीं है' चुनें।

कोयल की (1)/ कू कू सुनकर (2)/ मेरी नींद खुल गयी। (3)/ कोई त्रुटि नहीं है (4)

Ans 1. 3

2. 4

3. 1

4. 2

Question ID : 65497836322

Status : Answered

Chosen Option : 2

Q.13 दिए गए वाक्य में रेखांकित खंड को प्रतिस्थापित करने के लिए सर्वाधिक उपयुक्त विकल्प का चयन करें। यदि इसे प्रतिस्थापित करने की आवश्यकता नहीं है, तो विकल्प 'किसी बदलाव की आवश्यकता नहीं है' का चयन करें।

उसकी आपबीती सुनकर मैं द्रविभूत हो गया।

Ans 1. किसी बदलाव की आवश्यकता नहीं है।

2. आपबीती सुनकर मैं द्रवीभूत हो गया।

3. आपबीति सुनकर मैं द्रवीभूत हो गया।

4. आपबिती सुनकर मैं द्रविभित हो गया।

Question ID : 65497836320

Status : Answered

Chosen Option : 3

Q.14 दिए गए वाक्य में रेखांकित खंड को प्रतिस्थापित करने के लिए सर्वाधिक उपयुक्त विकल्प का चयन करें। यदि इसे प्रतिस्थापित करने की आवश्यकता नहीं है, तो विकल्प 'किसी बदलाव की आवश्यकता नहीं है' का चयन करें।

आजकल अफवाहों पर हरेक कोई विश्वास कर डालता है।

Ans 1. हर कोई विश्वास कर डालता है।

2. हर कोई विश्वास कर लेता है।

3. किसी बदलाव की आवश्यकता नहीं है।

4. हरेक विश्वास कर डालता है।

Question ID : 65497836321

Status : Answered

Chosen Option : 2

Q.15 दिए गए शब्द के समानार्थी शब्द का चयन करें।

घोड़ा

- Ans 1. हय
 2. हरिवाहन
 3. वारिज
 4. गय

Question ID : 65497836325
Status : Answered
Chosen Option : 1

Q.16 दिए गए वाक्य का वह भाग ज्ञात करें जिसमें कोई त्रुटि है। यदि कोई त्रुटि नहीं है, तो 'कोई त्रुटि नहीं है' चुनें।

वहां बहुत से पशु और पक्षी (1)/ उड़ते और चरते हुए (2)/ दिखाई दिए। (3)/ कोई त्रुटि नहीं है (4)

- Ans 1. 3
 2. 4
 3. 2
 4. 1

Question ID : 65497836314
Status : Answered
Chosen Option : 2

Q.17 रिक्त स्थान की पूर्ति करने के लिए सर्वाधिक उपयुक्त शब्द का चयन कीजिए।

_____ अपनी-अपनी सेनाएं लेकर आए।

- Ans 1. राजा
 2. नेता
 3. अध्यापक
 4. राजे

Question ID : 65497836318
Status : Answered
Chosen Option : 1

Q.18 दिए गए शब्द के समानार्थी शब्द का चयन करें।

लक्ष्मी

- Ans 1. शैलसुता
 2. ब्राह्मी
 3. कालिका
 4. पद्मा

Question ID : 65497836323
Status : Answered
Chosen Option : 3

Q.19 'खून सफेद हो जाना' मुहावरे का सही अर्थ क्या है?

- Ans
- 1. आश्चर्यचकित होना
 - 2. घृणा करना
 - 3. अत्याचार करना
 - 4. दया न रह जाना

Question ID : 65497836329
Status : Answered
Chosen Option : 4

Q.20 रिक्त स्थान की पूर्ति करने के लिए सर्वाधिक उपयुक्त शब्द का चयन कीजिए।

भारत _____ देश है।

- Ans
- 1. सापेक्ष
 - 2. धर्मनिरपेक्ष
 - 3. अपक्ष
 - 4. असहिष्णु

Question ID : 65497836319
Status : Answered
Chosen Option : 2

Comprehension:

दिए गए गद्यांश में कुछ शब्द हटा दिए गए हैं। दिए गए विकल्पों की सहायता से रिक्त स्थानों की पूर्ति करें। प्रत्येक प्रश्न संख्या के लिए सर्वाधिक उपयुक्त विकल्प का चयन कीजिए।

जिज्ञासा मनुष्य की (1) _____ प्रवृत्ति है और आनंद प्राप्ति उसकी स्वाभाविक (2) _____। घोर से घोर (3) _____ मनुष्य में भी ये दोनों प्रवृत्तियां स्वाभाविक और जन्म-जात हैं। उनका संतोषजनक (4) _____ न होने पर मनुष्य में एक ओर तो (5) _____ उत्पन्न होती है और दूसरी ओर भय, निराशा और अवसाद।

SubQuestion No : 21

Q.21 गद्यांश के रिक्त स्थान (1) के लिए सर्वाधिक उपयुक्त शब्द होगा-

- Ans
- 1. औपचारिक
 - 2. अनौपचारिक
 - 3. अस्वाभाविक
 - 4. स्वाभाविक

Question ID : 65497836335
Status : Answered
Chosen Option : 3

Comprehension:

दिए गए गद्यांश में कुछ शब्द हटा दिए गए हैं। दिए गए विकल्पों की सहायता से रिक्त स्थानों की पूर्ति करें। प्रत्येक प्रश्न संख्या के लिए सर्वाधिक उपयुक्त विकल्प का चयन कीजिए।

जिज्ञासा मनुष्य की (1) _____ प्रवृत्ति है और आनंद प्राप्ति उसकी स्वाभाविक (2) _____। घोर से घोर (3) _____ मनुष्य में भी ये दोनों प्रवृत्तियां स्वाभाविक और जन्म-जात हैं। उनका संतोषजनक (4) _____ न होने पर मनुष्य में एक ओर तो (5) _____ उत्पन्न होती है और दूसरी ओर भय, निराशा और अवसाद।

SubQuestion No : 22

Q.22 गद्यांश के रिक्त स्थान (2) के लिए सर्वाधिक उपयुक्त शब्द होगा-

- Ans
- 1. कामना
 - 2. अवृत्ति
 - 3. निवृत्ति
 - 4. जिज्ञासा

Question ID : 65497836336
Status : Answered
Chosen Option : 1

Comprehension:

दिए गए गद्यांश में कुछ शब्द हटा दिए गए हैं। दिए गए विकल्पों की सहायता से रिक्त स्थानों की पूर्ति करें।
प्रत्येक प्रश्न संख्या के लिए सर्वाधिक उपयुक्त विकल्प का चयन कीजिए।

जिज्ञासा मनुष्य की (1) _____ प्रवृत्ति है और आनंद प्राप्ति उसकी स्वाभाविक (2) _____। घोर से घोर (3) _____ मनुष्य में भी ये दोनों प्रवृत्तियां स्वाभाविक और जन्म-जात हैं। उनका संतोषजनक (4) _____ न होने पर मनुष्य में एक ओर तो (5) _____ उत्पन्न होती है और दूसरी ओर भय, निराशा और अवसाद।

SubQuestion No : 23

Q.23 गद्यांश के रिक्त स्थान (3) के लिए सर्वाधिक उपयुक्त शब्द होगा-

- Ans**
- 1. आर्थिक
 - 2. राजनीतिक
 - 3. सामाजिक
 - 4. भौतिकवादी

Question ID : 65497836337

Status : Answered

Chosen Option : 3

Comprehension:

दिए गए गद्यांश में कुछ शब्द हटा दिए गए हैं। दिए गए विकल्पों की सहायता से रिक्त स्थानों की पूर्ति करें।
प्रत्येक प्रश्न संख्या के लिए सर्वाधिक उपयुक्त विकल्प का चयन कीजिए।

जिज्ञासा मनुष्य की (1) _____ प्रवृत्ति है और आनंद प्राप्ति उसकी स्वाभाविक (2) _____। घोर से घोर (3) _____ मनुष्य में भी ये दोनों प्रवृत्तियां स्वाभाविक और जन्म-जात हैं। उनका संतोषजनक (4) _____ न होने पर मनुष्य में एक ओर तो (5) _____ उत्पन्न होती है और दूसरी ओर भय, निराशा और अवसाद।

SubQuestion No : 24

Q.24 गद्यांश के रिक्त स्थान (4) के लिए सर्वाधिक उपयुक्त शब्द होगा-

- Ans**
- 1. शमन
 - 2. निवारण
 - 3. गमन
 - 4. उद्वेलन

Question ID : 65497836338

Status : Answered

Chosen Option : 2

Comprehension:

दिए गए गद्यांश में कुछ शब्द हटा दिए गए हैं। दिए गए विकल्पों की सहायता से रिक्त स्थानों की पूर्ति करें।
प्रत्येक प्रश्न संख्या के लिए सर्वाधिक उपयुक्त विकल्प का चयन कीजिए।

जिज्ञासा मनुष्य की (1) _____ प्रवृत्ति है और आनंद प्राप्ति उसकी स्वाभाविक (2) _____। घोर से घोर (3) _____ मनुष्य में भी ये दोनों प्रवृत्तियां स्वाभाविक और जन्म-जात हैं। उनका संतोषजनक (4) _____ न होने पर मनुष्य में एक ओर तो (5) _____ उत्पन्न होती है और दूसरी ओर भय, निराशा और अवसाद।

SubQuestion No : 25

Q.25 गद्यांश के रिक्त स्थान (5) के लिए सर्वाधिक उपयुक्त शब्द होगा-

- Ans**
- 1. आस्था
 - 2. सुआवस्था
 - 3. अनास्था
 - 4. दुरावस्था

Question ID : 65497836339

Status : Not Answered

Chosen Option : --