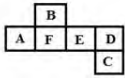


Constable GD in CAPFs NIA SSF and Rifleman GD in Assam Rifles Examination 2021

Roll Number	www.GovtJobsAlert.In
Candidate Name	www.GovtJobsAlert.in
Venue Name	iON Digital Zone iDZ Laxman Nagar
Exam Date	01/12/2021
Exam Time :	4:00 PM - 5:30 PM
Subject	Constable GD 2021

Section : Part A General Intelligence and Reasoning

Q.1 दी गई शीट को मोड़कर एक घन बनाया जाता है। इस तरह निर्मित घन में, निम्न में से कौन सा अक्षर-युग्म विपरीत पृष्ठों पर होगा?



- Ans
- 1. D और F
 - 2. B और E
 - 3. F और E
 - 4. C और F

Question ID : 65497830005
Status : Answered
Chosen Option : 1

Q.2 उस सही विकल्प का चयन कीजिए, जो दिए गए शब्दों के उस क्रम को दर्शाता है, जिस क्रम में वे अंग्रेज़ी शब्दकोश में मौजूद होते हैं।

1. Naughty
2. Navy
3. Navigate
4. Nautical
5. Nuptial

- Ans
- 1. 1, 4, 3, 5, 2
 - 2. 1, 3, 4, 2, 5
 - 3. 3, 2, 1, 4, 5
 - 4. 1, 4, 3, 2, 5

Question ID : 65497830007
Status : Answered
Chosen Option : 4

Q.3 किसी निश्चित कूट भाषा में, 'CAMEL' को 'ECNGN' और 'HORSE' को 'JQSUG' के रूप में लिखा जाता है। उसी कूट भाषा में 'WHALE' को किस रूप में लिखा जाएगा?

- Ans
- 1. XIBMF
 - 2. YJBNG
 - 3. YJCNG
 - 4. XJBNF

Question ID : 65497829990
Status : Answered
Chosen Option : 2

Q.4 शब्दों के उस समूह का चयन कीजिए, जो दिए गए वेन आरेख द्वारा सर्वोत्तम ढंग से प्रदर्शित होता है।



- Ans
- 1. इंजीनियर, स्नातक, अशिक्षित
 - 2. किसान, ग्रामीण, साक्षर
 - 3. डॉक्टर, नर्स, इंसान
 - 4. महिलाएं, माताएं, पुत्रियां

Question ID : 65497830014
Status : Answered
Chosen Option : 4

Q.5 अक्षरों के उस संयोजन का चयन कीजिए, जिसे दी गई श्रृंखला के रिक्त स्थानों में क्रमबद्ध रूप से रखने पर श्रृंखला पूर्ण हो जाएगी।

V _ M R _ V _ M _ D _ K M _ D

- Ans
- 1. KDKRDR
 - 2. KDKRVR
 - 3. KDRRVR
 - 4. KDKRVK

Question ID : 65497830008
Status : Answered
Chosen Option : 2

Q.6 उस विकल्प का चयन कीजिए जिसका तीसरी संख्या से वही संबंध है जो दूसरी संख्या का पहली संख्या से और छठी संख्या का पांचवी संख्या से है।

18 : 26 :: 20 : ? :: 16 : 23

- Ans
- 1. 41
 - 2. 31
 - 3. 38
 - 4. 29

Question ID : 65497830003
Status : Not Answered
Chosen Option : --

Q.7 A, D का पिता है। C और D भाई हैं। G, B की माँ है और C, B का भाई है। G, A से किस प्रकार संबंधित है?

- Ans
- 1. भाभी
 - 2. बहन
 - 3. सास
 - 4. पत्नी

Question ID : 65497829997
Status : Answered
Chosen Option : 4

Q.8 दिए गए विकल्पों में से उस संख्या का चयन कीजिए, जो निम्नलिखित श्रेणी में प्रश्नवाचक चिन्ह (?) के स्थान पर आ सकती है।

19, 19, 38, 114, ?, 2280

Ans 1. 1140

2. 456

3. 224

4. 344

Question ID : 65497830009

Status : Answered

Chosen Option : 2

Q.9 एक निश्चित कूट भाषा में, 'MISTAKE' को '9765412' के रूप में और 'NAKED' को '84123' के रूप में कूटबद्ध किया जाता है। उसी कूट भाषा में, 'INTIMATE' को किस रूप में कूटबद्ध किया जाएगा?

Ans 1. 89786145

2. 78579452

3. 78698365

4. 79438163

Question ID : 65497829999

Status : Answered

Chosen Option : 2

Q.10 दिए गए कथनों और निष्कर्षों को ध्यानपूर्वक पढ़ें। यह मानते हुए कि कथनों में दी गई जानकारी सही है, भले ही वह सामान्य रूप से ज्ञात तथ्यों से भिन्न प्रतीत होती हो, यह निर्धारित करें कि दिए गए निष्कर्षों में से कौन से निष्कर्ष कथनों का तार्किक रूप से अनुसरण करते हैं।

कथन:

सभी स्कूटर दो पहिया वाहन हैं।

सभी साइकिल दो पहिया वाहन हैं।

निष्कर्ष:

I. सभी स्कूटर साइकिल हैं।

II. सभी साइकिल स्कूटर हैं।

Ans 1. ना तो निष्कर्ष I. ना निष्कर्ष II. अनुसरण करता है।

2. केवल निष्कर्ष II. अनुसरण करता है।

3. निष्कर्ष I. और II. दोनों अनुसरण करते हैं।

4. केवल निष्कर्ष I. अनुसरण करता है।

Question ID : 65497829991

Status : Answered

Chosen Option : 3

Q.11 'केंचुए' का 'अरज्जूकी' से वही संबंध है, जो 'मछली' का '_____' से है।

Ans 1. रज्जूकी

2. अरज्जूकी

3. सरीसृप

4. स्तनधारी

Question ID : 65497830012

Status : Answered

Chosen Option : 3

Q.12 एक निश्चित कूट भाषा में, IMPORT को GKRQPR लिखा जाता है। उसी कूट भाषा में EXPEND को क्या लिखा जाएगा?

- Ans
- 1. GCFLMF
 - 2. CVNGLR
 - 3. DYQFMB
 - 4. CVRGLB

Question ID : 65497829996
Status : Answered
Chosen Option : 4

Q.13 छः डिलीवरी बाँय U, V, W, X, Y और Z एक स्टॉक रूम से अपना सामान लेने के लिए एक पंक्ति में एक के बाद एक करके खड़े हुए हैं। Z, W के बाएँ ठीक बगल में है। पंक्ति में दोनों छोरों पर Z और Y खड़े हैं। W, Z और V के बीच में है। U, X के बाएँ ठीक बगल में है। Y, X के दाएँ ठीक बगल में है। निम्न में से कौन सा डिलीवरी बाँय दाईं ओर से चौथे स्थान पर खड़ा है?

- Ans
- 1. U
 - 2. V
 - 3. X
 - 4. W

Question ID : 65497830002
Status : Answered
Chosen Option : 2

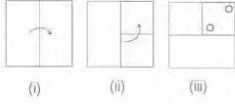
Q.14 दिए गए विकल्पों में से उस संख्या का चयन कीजिए जो निम्न श्रेणी में प्रश्नवाचक चिह्न (?) के स्थान पर आएगी।

2, 3, 10, 39, 172, ?, 5346

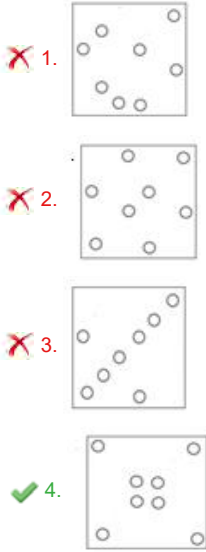
- Ans
- 1. 693
 - 2. 885
 - 3. 756
 - 4. 743

Question ID : 65497830000
Status : Not Answered
Chosen Option : --

Q.15 नीचे दी गई आकृतियों में कागज के एक टुकड़े को मोड़ने का क्रम और उस मुड़े हुए कागज को काटने का तरीका दर्शाया गया है। इस कागज को खोलने पर यह कैसा दिखेगा?



Ans



Question ID : 65497829994
Status : Answered
Chosen Option : 4

Q.16 चार अक्षर-समूह दिए गए हैं, जिनमें से तीन किसी निश्चित तरीके से संगत हैं, जबकि उनमें से कोई एक असंगत है। उस असंगत अक्षर-समूह का चयन कीजिए।

- Ans
- 1. MJQ
 - 2. EBI
 - 3. GDK
 - 4. RNU

Question ID : 65497829998
Status : Answered
Chosen Option : 4

Q.17 दिए गए विकल्पों में से उस अक्षर-समूह का चयन करें, जो निम्नलिखित श्रृंखला में प्रश्नवाचक चिन्ह (?) के स्थान पर आ सकता है।

TOD, UQG, VSJ, WUM, XWP, ?

- Ans
- 1. YYT
 - 2. YAS
 - 3. YZS
 - 4. YYS

Question ID : 65497830011
Status : Answered
Chosen Option : 4

Q.18 चार संख्या त्रिक दिए गए हैं, जिनमें से तीन किसी विशेष नियम के अनुसार संगत हैं और कोई एक असंगत है। उस असंगत संख्या त्रिक का चयन कीजिए।

- Ans 1. (13, 26, 169)
 2. (17, 34, 278)
 3. (15, 30, 225)
 4. (12, 24, 144)

Question ID : 65497829992
Status : Answered
Chosen Option : 2

Q.19 किसी कंपनी के कर्मचारियों की औसत आयु 45 वर्ष है। 38, 45 और 49 वर्ष की आयु वाले तीन कर्मचारी इस्तीफा दे देते हैं और 42, 46 और 44 वर्ष की आयु वाले तीन नये कर्मचारी कंपनी में शामिल होते हैं। अब कर्मचारियों की औसत आयु क्या होगी?

- Ans 1. 47 वर्ष
 2. 45 वर्ष
 3. 48 वर्ष
 4. 46 वर्ष

Question ID : 65497829993
Status : Answered
Chosen Option : 2

Q.20 यदि 'A' का अर्थ 'जोड़' है, 'B' का अर्थ 'गुणा' है, 'C' का अर्थ 'घटाना' है, और 'D' का अर्थ 'भाग' है, तो निम्न व्यंजक का मान कितना होगा?

72 D 6 B 12 A 24 C 18 C (20 B 5 A 48)

- Ans 1. 3
 2. 2
 3. 4
 4. 1

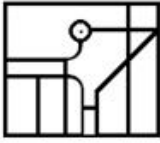
Question ID : 65497830004
Status : Answered
Chosen Option : 2

Q.21 उस विकल्प का चयन कीजिए जिसमें दी गई आकृति सम्मिहित है। (आकृति को घुमाने की अनुमति नहीं है)

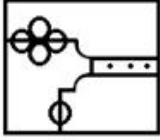


Ans

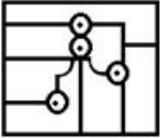
✗ 1.



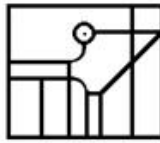
✗ 2.



✗ 3.



✓ 4.



Question ID : 65497830006

Status : Answered

Chosen Option : 4

Q.22 यदि दर्पण को निम्नांकित चित्र के अनुसार PQ पर रखा जाए, तो दिए गए संयोजन का दर्पण में निर्मित सही प्रतिबिंब चयनित कीजिए।

POLYNOMIAL $\begin{matrix} P \\ | \\ Q \end{matrix}$

Ans

✗ 1. LAIOMYLOP

✗ 2. POLYMOIAT

✗ 3. POLYMOIAT

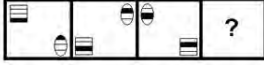
✓ 4. LAIOMYLOP

Question ID : 65497830001

Status : Answered

Chosen Option : 4

Q.23 दिए गए विकल्पों में से उस आकृति का चयन कीजिए, जो निम्न आकृति श्रृंखला में प्रश्नवाचक चिन्ह (?) के स्थान पर आ सकती है।

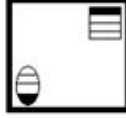


Ans

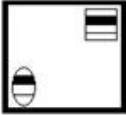
✗ 1.



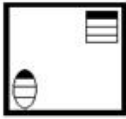
✓ 2.



✗ 3.



✗ 4.



Question ID : 65497830010
Status : Answered
Chosen Option : 2

Q.24 उस विकल्प का चयन करें जो तीसरे पद से उसी प्रकार संबंधित है, जिस प्रकार दूसरा पद पहले पद से संबंधित है।

BULK : YFOP :: NOTE : ?

Ans

✗ 1. OWQS

✗ 2. PQCH

✓ 3. MLGV

✗ 4. HWRP

Question ID : 65497829995
Status : Answered
Chosen Option : 3

Q.25 चिराग, फिरोज, हीरा, जॉय और लोहित एक सीधी पंक्ति में उत्तर की ओर मुंह करके बैठे हुए हैं। लोहित, फिरोज के दाईं ओर ठीक बगल में बैठा है। चिराग, जॉय के बाईं ओर ठीक बगल में बैठा है। लोहित और चिराग के बीच में केवल हीरा बैठा है। फिरोज के दाईं ओर तीसरे स्थान पर कौन बैठा है?

Ans

✓ 1. चिराग

✗ 2. जॉय

✗ 3. लोहित

✗ 4. हीरा

Question ID : 65497830013
Status : Answered
Chosen Option : 1

Section : Part B General Knowledge and General Awareness

Q.1 सितंबर 2021 तक प्राप्त जानकारी के अनुसार, इमैनुएल मैक्रॉ किस देश के राष्ट्रपति हैं?

- Ans
- 1. इटली
 - 2. जर्मनी
 - 3. फ्रांस
 - 4. ग्रीस

Question ID : 65497830026
Status : Answered
Chosen Option : 3

Q.2 निम्नलिखित में से किस अम्ल को चींटी के काटते समय त्वचा में इंजेक्ट किया जाता है?

- Ans
- 1. साइट्रिक अम्ल
 - 2. एस्कॉर्बिक अम्ल
 - 3. टार्टरिक अम्ल
 - 4. फॉर्मिक अम्ल

Question ID : 65497830030
Status : Answered
Chosen Option : 4

Q.3 हड़प्पा सभ्यता के अन्य शहरों के विपरीत, धोलावीरा शहर को _____ भागों में विभाजित किया गया था, प्रत्येक भाग विशाल पत्थर की दीवारों से घिरा हुआ था।

- Ans
- 1. पाँच
 - 2. दो
 - 3. तीन
 - 4. चार

Question ID : 65497830034
Status : Answered
Chosen Option : 3

Q.4 एम्मा रादुकानू (Emma Raducanu) ने सितंबर 2021 में _____ को हराकर यूएस (US) ओपन महिला एकल (टेनिस) खिताब जीता।

- Ans
- 1. लेलाह फर्नांडिस (Leylah Fernandez)
 - 2. मरीना स्टाकुसिक (Marina Stakusic)
 - 3. मिया कुप्रेस (Mia Kupres)
 - 4. रेबेका मैरिनो (Rebecca Marino)

Question ID : 65497830039
Status : Answered
Chosen Option : 1

Q.5 तेरहवीं और चौदहवीं शताब्दी के दौरान पंजाब में निम्नलिखित में से कौन-सी जनजाति का प्रभुत्व था?

- Ans
- 1. खोखर
 - 2. गक्खर
 - 3. जंजुहा
 - 4. लंगाह

Question ID : 65497830021
Status : Answered
Chosen Option : 1

Q.6 अक्टूबर 2020 में रिवर्स रेपो दर क्या थी?

- Ans
- 1. 4%
 - 2. 3.35%
 - 3. 3.75%
 - 4. 3.5%

Question ID : 65497830019
Status : Answered
Chosen Option : 2

Q.7 निम्नलिखित में से किस प्रकार के बैंकों का संचालन मुख्यतः ऑनलाइन होता है और उनका कोई भौतिक शाखा नेटवर्क नहीं होता है?

- Ans
- 1. नियो
 - 2. शैडो
 - 3. वाणिज्यिक
 - 4. रिटेल

Question ID : 65497830016
Status : Not Answered
Chosen Option : --

Q.8 जैन धर्म के 24वें और अंतिम तीर्थंकर, वर्धमान महावीर का जन्म छठी शताब्दी ईसा में पूर्व में कहाँ हुआ था?

- Ans
- 1. बिहार
 - 2. आंध्र प्रदेश
 - 3. महाराष्ट्र
 - 4. तमिलनाडु

Question ID : 65497830017
Status : Not Answered
Chosen Option : --

Q.9 बैंकिंग विनियमन अधिनियम, 1949 की धारा _____ के प्रावधानों के तहत, किसी वाणिज्यिक बैंक को बैंकिंग व्यवसाय शुरू करने के लिए भारतीय रिजर्व बैंक से लाइसेंस प्राप्त करना आवश्यक है।

- Ans
- 1. 46
 - 2. 53
 - 3. 31
 - 4. 22

Question ID : 65497830036
Status : Not Answered
Chosen Option : --

Q.10 निम्नलिखित में से कौन सा एक प्राकृतिक पारिस्थितिकी तंत्र (इको सिस्टम) है?

- Ans
- 1. बांध
 - 2. बगीचा
 - 3. एकेरियम
 - 4. रेगिस्तान

Question ID : 65497830031
Status : Answered
Chosen Option : 4

Q.11 अक्टूबर 2020 में फाउंडेशन ऑफ़ एनवायरनमेंट एजुकेशन, डेनमार्क द्वारा अंतरराष्ट्रीय 'ब्लू प्लैग' प्रमाणन से सम्मानित किए जाने वाले आठ समुद्र तटों में निम्न में से कौन सा एक था?

- Ans
- 1. कारवार
 - 2. शिवराजपुर
 - 3. तिथल
 - 4. गोपालपुर

Question ID : 65497830032
Status : Answered
Chosen Option : 2

Q.12 फिल्म 'थलाइवी (Thalaivii)', जो सितंबर 2021 में रिलीज हुई थी, _____ के जीवन पर आधारित आधिकारिक बायोपिक है।

- Ans
- 1. सुषमा स्वराज
 - 2. शीला दीक्षित
 - 3. इंदिरा गांधी
 - 4. जे जयललिता

Question ID : 65497830035
Status : Answered
Chosen Option : 4

Q.13 पंजाब में मनाया जाने वाला 'लोहड़ी' त्यौहार प्रतिवर्ष _____ के महीने में मनाया जाता है।

- Ans
- 1. अप्रैल
 - 2. दिसंबर
 - 3. जनवरी
 - 4. फरवरी

Question ID : 65497830028
Status : Not Answered
Chosen Option : --

Q.14 'स्वस्थ वायु, स्वस्थ ग्रह (Healthy Air, Healthy Planet)', 2021 के _____ की विषयवस्तु थी।

- Ans
- 1. पृथ्वी दिवस
 - 2. नीले आसमान के लिए स्वच्छ हवा के अंतरराष्ट्रीय दिवस
 - 3. विश्व पर्यावरण दिवस
 - 4. विश्व ओजोन दिवस

Question ID : 65497830037
Status : Answered
Chosen Option : 2

Q.15 निम्नलिखित में से किस दिन को 'इंटरनेशनल डे टू एंड इंप्युनिटी फॉर क्राइम अगेंस्ट जर्नलिस्ट' के रूप में मनाया जाता है?

- Ans
- 1. 2 नवंबर
 - 2. 3 नवंबर
 - 3. 4 नवंबर
 - 4. 5 नवंबर

Question ID : 65497830023
Status : Not Answered
Chosen Option : --

Q.16 निम्नलिखित में से कौन सा एक फूल का भाग है?

- Ans
- 1. शिरा विन्यास
 - 2. शिराएँ
 - 3. स्त्रीकेसर
 - 4. मध्य शिरा

Question ID : 65497830033
Status : Answered
Chosen Option : 3

Q.17 कुव्वत-उल-इस्लाम मस्जिद कहाँ स्थित है?

- Ans
- 1. पुणे
 - 2. दिल्ली
 - 3. मैसूर
 - 4. आगरा

Question ID : 65497830024
Status : Answered
Chosen Option : 2

Q.18 निम्नलिखित में से कौन सी मृदा संरक्षण की एक विधि नहीं है?

- Ans
- 1. शेल्टर बेल्ट
 - 2. इंटरक्रॉपिंग
 - 3. रॉक डैम
 - 4. ओवरग्रेजिंग

Question ID : 65497830025
Status : Answered
Chosen Option : 3

Q.19 एशियाई फुटबॉल कप 2019 की मेजबानी निम्नलिखित में से किस देश ने की थी?

- Ans
- 1. चीन
 - 2. ऑस्ट्रेलिया
 - 3. म्यांमार
 - 4. संयुक्त अरब अमीरात

Question ID : 65497830018
Status : Not Answered
Chosen Option : --

Q.20 निम्नलिखित में से कौन-सा शहर, विजयनगर के मध्यकालीन हिंदू राज्य से संबंधित अपने खंडहरों के लिए प्रसिद्ध है और इसे विश्व विरासत स्थल घोषित किया गया है?

- Ans
- 1. डांडेली
 - 2. हम्पी
 - 3. चिकमंगलूर
 - 4. मडिकेरी

Question ID : 65497830020
Status : Answered
Chosen Option : 2

Q.21 भारतीय दंड संहिता की कौन-सी धारा महिला की सहमति के बिना गर्भपात करने के अपराध से संबंधित है?

- Ans
- 1. धारा 314
 - 2. धारा 313
 - 3. धारा 315
 - 4. धारा 312

Question ID : 65497830022
Status : Answered
Chosen Option : 4

Q.22 टेस्ट क्रिकेट में तिहरा शतक बनाने वाले पहले भारतीय बल्लेबाज _____ थे।

- Ans
- 1. शिखर धवन
 - 2. रोहित शर्मा
 - 3. वीरेंद्र सहवाग
 - 4. सुरेश रैना

Question ID : 65497830027
Status : Answered
Chosen Option : 3

Q.23 निम्नलिखित में से क्या बैरन द्वीप की एक अनूठी विशेषता है?

- Ans
- 1. यहां आदिम असारो जनजाति का निवास है।
 - 2. यह हिंद महासागर का एक निर्जन द्वीप है।
 - 3. यहाँ भारत का एकमात्र सक्रिय ज्वालामुखी है।
 - 4. यहाँ भारत की सबसे बड़ी खारे पानी की झील मौजूद है।

Question ID : 65497830015
Status : Answered
Chosen Option : 3

Q.24 उकाई बांध किस नदी पर स्थित है?

- Ans
- 1. माही
 - 2. ताप्ती
 - 3. कर्जन
 - 4. नर्मदा

Question ID : 65497830038
Status : Answered
Chosen Option : 2

Q.25 अक्टूबर 2020 तक के आंकड़ों के अनुसार, भारत सरकार ने _____ अनाजों के लिए न्यूनतम समर्थन मूल्य (MSP) तय कर दिया है।

- Ans
- 1. 5
 - 2. 10
 - 3. 7
 - 4. 12

Question ID : 65497830029
Status : Not Answered
Chosen Option : --

Section : Part C Elementary Mathematics

Q.1 ₹2,400 की राशि पर 20 मार्च 2019 से 31 मई 2019 तक $6\frac{1}{4}\%$ की वार्षिक ब्याजदर से प्राप्त साधारण ब्याज ज्ञात कीजिए।

- Ans
- 1. ₹25
 - 2. ₹54
 - 3. ₹30
 - 4. ₹42

Question ID : 65497830055
Status : Answered
Chosen Option : 3

Q.2 दो संख्याओं का लघुत्तम समापवर्त्य (LCM) और महत्तम समापवर्तक (HCF) क्रमशः 60 और 5 हैं। यदि एक संख्या को 2 से विभाजित किया जाता है और भागफल 10 है, तो दूसरी संख्या ज्ञात कीजिए।

- Ans
- 1. 30
 - 2. 15
 - 3. 12
 - 4. 20

Question ID : 65497830051
Status : Answered
Chosen Option : 1

Q.3 व्यंजक $\frac{1}{3 \times 4} + \frac{1}{4 \times 5} + \frac{1}{5 \times 6} + \dots + \frac{1}{20 \times 21}$ को सरल करने पर क्या परिणाम प्राप्त होगा?

- Ans
- 1. $\frac{3}{7}$
 - 2. $\frac{2}{7}$
 - 3. $\frac{1}{20}$
 - 4. $\frac{1}{7}$

Question ID : 65497830046
Status : Not Answered
Chosen Option : --

Q.4 $(3\frac{1}{5} \div \frac{2}{3} \text{ of } 4\frac{1}{2}) + 5\frac{2}{3} \div 1\frac{2}{3} \text{ of } 4\frac{1}{4} - 5\frac{1}{3} \times \frac{3}{4} \div 2\frac{2}{3}$ का मान ज्ञात कीजिए।

- Ans
- 1. $\frac{28}{15}$
 - 2. $\frac{2}{5}$
 - 3. $\frac{1}{3}$
 - 4. $\frac{11}{30}$

Question ID : 65497830058
Status : Not Answered
Chosen Option : --

Q.5 किसी धनराशि पर 8% वार्षिक ब्याज दर से 2 वर्ष में प्राप्त साधारण ब्याज और वार्षिक रूप से चक्रवृद्धि होने वाले चक्रवृद्धि ब्याज के बीच अंतर ₹16.80 है। वह धनराशि कितनी है?

- Ans
- 1. ₹2,025
 - 2. ₹2,225
 - 3. ₹2,825
 - 4. ₹2,625

Question ID : 65497830045
Status : Not Answered
Chosen Option : --

Q.6 किसी कक्षा के 15 छात्रों की औसत आयु 14 वर्ष है। इनमें से 6 छात्रों की औसत आयु 15 वर्ष और अन्य 8 छात्रों की औसत आयु 13 वर्ष है। 15वें छात्र की आयु ज्ञात कीजिए।

- Ans
- 1. 16 वर्ष
 - 2. 15 वर्ष
 - 3. 18 वर्ष
 - 4. 14 वर्ष

Question ID : 65497830052
Status : Answered
Chosen Option : 1

Q.7 वह अनुपात ज्ञात कीजिए जिसके दोनों पदों का अंतर 45 और प्राप्त मान $\frac{4}{7}$ के बराबर है।

- Ans
- 1. 60 : 105
 - 2. 35 : 80
 - 3. 50 : 95
 - 4. 65 : 20

Question ID : 65497830054
Status : Not Answered
Chosen Option : --

Q.8 यदि एक ईंट की माप 28 cm × 18 cm × 6 cm है, तो 21 m लंबी, 12 m ऊँची और 36 cm मोटी दीवार बनाने के लिए कितनी ईंटों की आवश्यकता होगी?

- Ans**
- 1. 20000
 - 2. 25000
 - 3. 30000
 - 4. 24000

Question ID : 65497830043
Status : Not Answered
Chosen Option : --

Q.9 एक व्यक्ति ने एक कार ₹3,80,000 में बेची और उसे 5% की हानि हुई। 15% का लाभ प्राप्त करने के लिए, कार का विक्रय मूल्य कितना होना चाहिए?

- Ans**
- 1. ₹4,10,000
 - 2. ₹40,000
 - 3. ₹4,60,000
 - 4. ₹4,20,000

Question ID : 65497830047
Status : Answered
Chosen Option : 3

Q.10 एक कार पहले 272 km की दूरी 40 km/h की औसत चाल से और अगले 85 km की दूरी 50 km/h की औसत चाल से तय करती है। पूरी यात्रा के लिए औसत चाल (km/h में) ज्ञात कीजिए।

- Ans**
- 1. 44
 - 2. 40
 - 3. 42.5
 - 4. 42

Question ID : 65497830064
Status : Answered
Chosen Option : 1

Q.11 मोहन और रमेश मिलकर एक कार्य को 15 दिनों में पूरा कर सकते हैं। मोहन, रमेश से 50% अधिक कुशल है। अकेले मोहन द्वारा कार्य को पूरा करने में लिया गया समय ज्ञात करें।

- Ans**
- 1. 20 दिन
 - 2. 22.5 दिन
 - 3. 32 दिन
 - 4. 25 दिन

Question ID : 65497830048
Status : Answered
Chosen Option : 4

Q.12 ₹9,500 की धनराशि पर 2 वर्षों में 8% की वार्षिक ब्याज दर से अर्धवार्षिक रूप से चक्रवृद्धि होनेवाला चक्रवृद्धि ब्याज जात कीजिए। (दशमलव के दो स्थानों तक सही)।

- Ans**
- 1. ₹1,650
 - 2. ₹1,613.66
 - 3. ₹1,532.75
 - 4. ₹1,213.50

Question ID : 65497830056
Status : Not Answered
Chosen Option : --

Q.13 एक वस्तु का अंकित मूल्य ₹400 था किन्तु दुकानदार ने इस पर 25% और 15% की दोहरी छूट दी। उसने वस्तु को कितने में बेचा?

- Ans**
- 1. ₹325
 - 2. ₹255
 - 3. ₹278
 - 4. ₹300.5

Question ID : 65497830050
Status : Answered
Chosen Option : 2

Q.14 दो धनात्मक संख्याओं का अनुपात 3 : 4 है। यदि उनके घनों का योग 728 है, तो इन दो संख्याओं का योग क्या होगा?

- Ans**
- 1. 16
 - 2. 15
 - 3. 14
 - 4. 24

Question ID : 65497830042
Status : Not Answered
Chosen Option : --

Q.15 एक व्यक्ति के वेतन में पहले 15% की वृद्धि की जाती है और उसके बाद 15% की कमी की जाती है। उसके वेतन में हुआ शुद्ध परिवर्तन कितना है?

- Ans**
- 1. 2.25% की कमी
 - 2. 1.5% की कमी
 - 3. 2.25% की वृद्धि
 - 4. कोई परिवर्तन नहीं

Question ID : 65497830062
Status : Answered
Chosen Option : 1

Q.16 दो शंनुओं की ऊंचाई का अनुपात 2 : 1 है और उनकी त्रिज्याओं का अनुपात 1 : 2 हैं। उनके आयतन का अनुपात जात कीजिए।

- Ans
- 1. 4 : 3
 - 2. 2 : 1
 - 3. 1 : 2
 - 4. 3 : 4

Question ID : 65497830057
Status : Not Answered
Chosen Option : --

Q.17 मिश्रधातु A का 40 kg मिश्रधातु B के 63 kg में मिलाया जाता है। यदि मिश्रधातु A में, लेड और टिन का अनुपात 2 : 3 है और मिश्रधातु B में, टिन और तांबे का अनुपात 2 : 5 है, तो नई मिश्रधातु में टिन की मात्रा जात कीजिए?

- Ans
- 1. 24 kg
 - 2. 42 kg
 - 3. 36 kg
 - 4. 18 kg

Question ID : 65497830053
Status : Not Answered
Chosen Option : --

Q.18 दो धनात्मक संख्याओं x और y का अंतर 350 है, जहाँ $(x > y)$ है। यदि x का 9.5%, y के 16.5% के बराबर है, तो दोनों संख्याओं x और y का योग क्या होगा?

- Ans
- 1. 1250
 - 2. 1400
 - 3. 1300
 - 4. 1200

Question ID : 65497830041
Status : Not Answered
Chosen Option : --

Q.19 यदि किसी वस्तु का विक्रय मूल्य तीन गुना होने पर लाभ चार गुना हो जाता है, तो उसपर प्राप्त प्रतिशत लाभ कितना होगा?

- Ans
- 1. 50%
 - 2. 20%
 - 3. 100%
 - 4. 200%

Question ID : 65497830044
Status : Not Answered
Chosen Option : --

Q.20 दो धनात्मक संख्याओं का अनुपात 11 : 17 है और उनका महत्तम समापवर्तक (HCF) 4 है। उनका लघुत्तम समापवर्त्य (LCM) क्या होगा?

- Ans
- 1. 648
 - 2. 784
 - 3. 746
 - 4. 748

Question ID : 65497830040
Status : Not Answered
Chosen Option : --

Q.21 संख्याओं a और b, b और c, c और d के औसत क्रमशः 9, 6, 4 हैं। a और d का औसत ज्ञात कीजिए।

- Ans
- 1. 5.5
 - 2. 7
 - 3. 6
 - 4. 4.2

Question ID : 65497830060
Status : Not Answered
Chosen Option : --

Q.22 P, ₹1,200 में खरीदी एक वस्तु Q को 15% लाभ पर बेचता है। फिर Q इसे R को ₹1,449 में बेचता है। Q का लाभ प्रतिशत कितना है?

- Ans
- 1. 7%
 - 2. 10%
 - 3. 5%
 - 4. 6%

Question ID : 65497830049
Status : Not Answered
Chosen Option : --

Q.23 किसी बाल्टी का $\frac{4}{11}$ भाग 5 मिनट में भरता है। शेष बाल्टी को भरने में लगने वाला समय ज्ञात करें।

- Ans
- 1. 8 मिनट 20 सेकंड
 - 2. 8 मिनट 40 सेकंड
 - 3. 8 मिनट
 - 4. 8 मिनट 45 सेकंड

Question ID : 65497830059
Status : Not Answered
Chosen Option : --

Q.24 A एक कार्य को 18 दिनों में कर सकता है। A और B एक साथ कार्य करते हुए उसी कार्य को 8 दिनों में कर सकते हैं, जबकि B और C एक साथ कार्य करते हुए उसी कार्य को 6 दिनों में कर सकते हैं। A, B और C एक साथ कार्य करते हुए उसी कार्य को कितने दिनों में कर सकते हैं?

Ans

1. $3\frac{1}{2}$

2. $3\frac{4}{5}$

3. $4\frac{3}{4}$

4. $4\frac{1}{2}$

Question ID : 65497830063

Status : Not Answered

Chosen Option : --

Q.25 एक दुकानदार एक सोफा-सेट पर 12% की छूट देकर इसे ₹17,776 में बेचता है। सोफा-सेट का अंकित मूल्य (₹ में) कितना है?

Ans

1. 20,200

2. 22,000

3. 19,800

4. 19,910

Question ID : 65497830061

Status : Not Answered

Chosen Option : --

Section : Part D English

Q.1 The following sentence has been split into four segments. Identify the segment that contains a grammatical error.

Despite of being / a small girl / she fought / the bull bravely.

Ans

1. a small girl

2. the bull bravely

3. she fought

4. Despite of being

Question ID : 65497830079

Status : Not Answered

Chosen Option : --

Q.2 Select the most appropriate option to fill in the blank.

The pictures _____ the postures which you have to assume.

Ans

1. decline

2. decipher

3. depict

4. decode

Question ID : 65497830078

Status : Not Answered

Chosen Option : --

Q.3 Select the most appropriate option to fill in the blank.

'Of Mice and Men' is a well-known _____ by John Steinbeck.

- Ans** 1. circular
 2. novella
 3. pamphlet
 4. memorandum

Question ID : 65497830072
Status : Not Answered
Chosen Option : --

Q.4 Select the option that can be used as a one-word substitute for the given group of words.

Brighten with light

- Ans** 1. Illustrate
 2. Celebrate
 3. Illuminate
 4. Terminate

Question ID : 65497830070
Status : Not Answered
Chosen Option : --

Q.5 Select the most appropriate synonym of the given word.

Reckless

- Ans** 1. Veritable
 2. Rational
 3. Queer
 4. Rash

Question ID : 65497830066
Status : Not Answered
Chosen Option : --

Q.6 The following sentence has been split into four segments. Identify the segment that contains a grammatical error.

The tornados / on the east coast / gives rise / to tsunamis.

- Ans** 1. on the east coast
 2. gives rise
 3. to tsunamis
 4. The tornados

Question ID : 65497830065
Status : Not Answered
Chosen Option : --

Q.7 Select the option that will improve the underlined part of the given sentence. In case no improvement is needed, select 'No improvement required'.

Side by side fruits, Radha sells fresh flowers in the market.

- Ans**
- 1. Altogether fruits
 - 2. Apart for fruits
 - 3. Besides fruits
 - 4. No improvement required

Question ID : 65497830069
Status : Not Answered
Chosen Option : --

Q.8 Select the option that is closest in meaning to the underlined idiom/phrase in the given sentence.

The manager moved heaven and earth to help the factory workers who had lost their jobs.

- Ans**
- 1. offered good advice
 - 2. wasted a lot of time
 - 3. did everything possible
 - 4. travelled to distant places

Question ID : 65497830073
Status : Not Answered
Chosen Option : --

Q.9 Select the most appropriate option to fill in the blank.

The two parties held several _____ during the campaigning for elections.

- Ans**
- 1. crowds
 - 2. rallies
 - 3. assemblies
 - 4. masses

Question ID : 65497830068
Status : Not Answered
Chosen Option : --

Q.10 Select the option that will improve the underlined part of the given sentence. In case no improvement is needed, select 'No improvement required'.

The teacher asked Mohit that why he was absent for the test.

- Ans**
- 1. why he was
 - 2. why was he
 - 3. No improvement required
 - 4. that why was he

Question ID : 65497830084
Status : Not Answered
Chosen Option : --

Q.11 Select the most appropriate meaning of the given idiom.

Out of the blue

- Ans** 1. Sorrowfully
 2. Unexpectedly
 3. From the sky
 4. Without a uniform

Question ID : 65497830067
Status : Not Answered
Chosen Option : --

Q.12 Select the most appropriate ANTONYM of the given word.

Impel

- Ans** 1. Inspire
 2. Repress
 3. Prompt
 4. Oblige

Question ID : 65497830083
Status : Not Answered
Chosen Option : --

Q.13 Select the INCORRECTLY spelt word.

- Ans** 1. Eligible
 2. Relevent
 3. Illicit
 4. Tactics

Question ID : 65497830082
Status : Not Answered
Chosen Option : --

Q.14 Select the most appropriate option that can substitute the underlined segment in the given sentence. If there is no need to substitute it, select 'No substitution required'.

No one are required to line up for the investigation.

- Ans** 1. No one is required
 2. No substitution required
 3. No one have required
 4. No one had required

Question ID : 65497830071
Status : Not Answered
Chosen Option : --

Q.15 Select the option that can be used as a one-word substitute for the given group of words.

A vehicle used to carry a dead body

- Ans** 1. Hearse
 2. Tomb
 3. Grave
 4. Coffin

Question ID : 65497830081
Status : Not Answered
Chosen Option : --

Q.16 Select the most appropriate synonym of the given word.

Aroma

- Ans** 1. Sourness
 2. Stink
 3. Fragrance
 4. Stench

Question ID : 65497830075
Status : Not Answered
Chosen Option : --

Q.17 Select the most appropriate ANTONYM of the given word.

Retard

- Ans** 1. Delay
 2. Choke
 3. Hurry
 4. Cram

Question ID : 65497830080
Status : Not Answered
Chosen Option : --

Q.18 Select the option that can be used as a one-word substitute for the given group of words.

Subject (someone) to a continuous flow of questions, criticisms or information

- Ans** 1. Revolt
 2. Irritate
 3. Bombard
 4. Shout

Question ID : 65497830076
Status : Not Answered
Chosen Option : --

Q.19 Select the INCORRECTLY spelt word.

- Ans** 1. Charity
 2. Overall
 3. Hittch
 4. Affirm

Question ID : 65497830077
Status : Not Answered
Chosen Option : --

Q.20 The following sentence has been split into four segments. Identify the segment that contains a grammatical error.

Last night's / Christmas party was fun. / I wish / you would come.

- Ans** 1. you would come
 2. Last night's
 3. I wish
 4. Christmas party was fun

Question ID : 65497830074
Status : Not Answered
Chosen Option : --

Comprehension:

In the following passage, some words have been deleted. Read the passage carefully and select the most appropriate option to fill in each blank.

Mount Everest, a peak in the Himalayan mountain range, is at a height of 8850 metres above sea level and is considered the (1)_____ point on earth. While it is called Chomo-Lungma, or "Mother Goddess of the Land," (2)_____ the Tibetans, the people of Nepal call it Sagarmatha. The British named the mountain (3)_____ Sir George Everest, a 19th-century British surveyor of South Asia. The Everest is believed to be over 60 billion years old. Although the first (4)_____ to climb Mount Everest was made in 1921, it was not successful. It was on 29th May, 1953, that Edmund Hillary and Tenzing Norgay became the first men to (5)_____ the summit of this mountain.

SubQuestion No : 21

Q.21 Select the most appropriate option to fill in blank no. 1.

- Ans** 1. highest
 2. maximum
 3. uppermost
 4. longest

Question ID : 65497830086
Status : Not Answered
Chosen Option : --

Comprehension:

In the following passage, some words have been deleted. Read the passage carefully and select the most appropriate option to fill in each blank.

Mount Everest, a peak in the Himalayan mountain range, is at a height of 8850 metres above sea level and is considered the (1)_____ point on earth. While it is called Chomo-Lungma, or "Mother Goddess of the Land," (2)_____ the Tibetans, the people of Nepal call it Sagarmatha. The British named the mountain (3)_____ Sir George Everest, a 19th-century British surveyor of South Asia. The Everest is believed to be over 60 billion years old. Although the first (4)_____ to climb Mount Everest was made in 1921, it was not successful. It was on 29th May, 1953, that Edmund Hillary and Tenzing Norgay became the first men to (5)_____ the summit of this mountain.

SubQuestion No : 22

Q.22 Select the most appropriate option to fill in blank no. 2.

- Ans** 1. with
 2. for
 3. by
 4. on

Question ID : 65497830087
Status : Not Answered
Chosen Option : --

Comprehension:

In the following passage, some words have been deleted. Read the passage carefully and select the most appropriate option to fill in each blank.

Mount Everest, a peak in the Himalayan mountain range, is at a height of 8850 metres above sea level and is considered the (1)_____ point on earth. While it is called Chomo-Lungma, or "Mother Goddess of the Land," (2)_____ the Tibetans, the people of Nepal call it Sagarmatha. The British named the mountain (3)_____ Sir George Everest, a 19th-century British surveyor of South Asia. The Everest is believed to be over 60 billion years old. Although the first (4)_____ to climb Mount Everest was made in 1921, it was not successful. It was on 29th May, 1953, that Edmund Hillary and Tenzing Norgay became the first men to (5)_____ the summit of this mountain.

SubQuestion No : 23

Q.23 Select the most appropriate option to fill in blank no. 3.

- Ans 1. over
 2. from
 3. about
 4. after

Question ID : **65497830088**
Status : **Not Answered**
Chosen Option : --

Comprehension:

In the following passage, some words have been deleted. Read the passage carefully and select the most appropriate option to fill in each blank.

Mount Everest, a peak in the Himalayan mountain range, is at a height of 8850 metres above sea level and is considered the (1)_____ point on earth. While it is called Chomo-Lungma, or "Mother Goddess of the Land," (2)_____ the Tibetans, the people of Nepal call it Sagarmatha. The British named the mountain (3)_____ Sir George Everest, a 19th-century British surveyor of South Asia. The Everest is believed to be over 60 billion years old. Although the first (4)_____ to climb Mount Everest was made in 1921, it was not successful. It was on 29th May, 1953, that Edmund Hillary and Tenzing Norgay became the first men to (5)_____ the summit of this mountain.

SubQuestion No : 24

Q.24 Select the most appropriate option to fill in blank no. 4.

- Ans 1. test
 2. trial
 3. attempt
 4. struggle

Question ID : **65497830089**
Status : **Not Answered**
Chosen Option : --

Comprehension:

In the following passage, some words have been deleted. Read the passage carefully and select the most appropriate option to fill in each blank.

Mount Everest, a peak in the Himalayan mountain range, is at a height of 8850 metres above sea level and is considered the (1)_____ point on earth. While it is called Chomo-Lungma, or "Mother Goddess of the Land," (2)_____ the Tibetans, the people of Nepal call it Sagarmatha. The British named the mountain (3)_____ Sir George Everest, a 19th-century British surveyor of South Asia. The Everest is believed to be over 60 billion years old. Although the first (4)_____ to climb Mount Everest was made in 1921, it was not successful. It was on 29th May, 1953, that Edmund Hillary and Tenzing Norgay became the first men to (5)_____ the summit of this mountain.

SubQuestion No : 25

Q.25 Select the most appropriate option to fill in blank no. 5.

- Ans 1. enter
 2. realise
 3. gain
 4. reach

Question ID : **65497830090**
Status : **Not Answered**
Chosen Option : --

Section : **Part D Hindi**

Q.1 शुद्ध वर्तनी बताएँ-

- Ans 1. लालशा
 2. शोणित
 3. शोनित
 4. मतस्य

Question ID : **65497830104**
Status : **Answered**
Chosen Option : 2

Q.2 दिये गये वाक्यांश के लिए एक शब्द दीजिये।

आँखों से परे

- Ans 1. बहुत दूर
 2. प्रत्यक्ष
 3. परोक्ष
 4. निकट

Question ID : **65497830099**
Status : **Answered**
Chosen Option : 1

Q.3 निम्नलिखित शब्दों में शुद्ध वर्तनी को पहचानिए-

- Ans 1. अवीष्कार
 2. आविष्कार
 3. अविष्कार
 4. अविषकार

Question ID : **65497830103**
Status : **Answered**
Chosen Option : 2

Q.4 दिये गये वाक्य में रेखांकित अंश को प्रतिस्थापित करने के लिए सबसे उपयुक्त विकल्प का चयन करें।

अपना दोष दूसरों के सिर क्यों जड़ते हो?

- Ans
- 1. फोड़ते हो?
 - 2. करते हो?
 - 3. जोड़ते हो?
 - 4. मढ़ते हो?

Question ID : 65497830109
Status : Answered
Chosen Option : 1

Q.5 दिए गए शब्द का विलोम चुनें।

अंधकार

- Ans
- 1. प्रकाश
 - 2. सूर्योदय
 - 3. उजाला
 - 4. कालिमा

Question ID : 65497830098
Status : Answered
Chosen Option : 1

Q.6 दिए गए शब्द का समानार्थी शब्द चुनें-

रंक

- Ans
- 1. वीरांगना
 - 2. दरिद्र
 - 3. राजा
 - 4. रक्त

Question ID : 65497830101
Status : Answered
Chosen Option : 3

Q.7 'भाड़ झोकना' मुहावरे का सही अर्थ क्या है?

- Ans
- 1. समय व्यर्थ खोना
 - 2. गालियाँ देना
 - 3. बहुत श्रम करना
 - 4. हमला करना

Question ID : 65497830107
Status : Answered
Chosen Option : 3

Q.8 रिक्त स्थान की पूर्ति के लिए सबसे उपयुक्त शब्द का चयन करें-

उसके पास _____ धन है।

- Ans
- 1. प्राप्त
 - 2. उपयुक्त
 - 3. अतल
 - 4. पर्याप्त

Question ID : 65497830092
Status : Answered
Chosen Option : 4

Q.9 दिए गए वाक्य में रेखांकित खंड को प्रतिस्थापित करने के लिए सबसे उपयुक्त विकल्प का चयन करें। यदि इसे प्रतिस्थापित करने की आवश्यकता नहीं है, तो विकल्प 'किसी बदलाव की आवश्यकता नहीं है' का चयन करें।

दूर रहने वाले लोगों से हम अपनी बात दूरभाष यंत्र में कर सकते हैं।

- Ans
- 1. किसी बदलाव की आवश्यकता नहीं है।
 - 2. दूरभाष यंत्र द्वारा कर सकते हैं।
 - 3. दूरभाष यंत्र में कर सकती हैं।
 - 4. दूरभाष यंत्र पर कर सकते हैं।

Question ID : 65497830093
Status : Answered
Chosen Option : 2

Q.10 रिक्त स्थान की पूर्ति के लिए सबसे उपयुक्त शब्द का चयन करें-

सशस्त्र प्रहरी _____ की रक्षा कर रहे थे।

- Ans
- 1. कोश
 - 2. कुल
 - 3. कोस
 - 4. कोष

Question ID : 65497830105
Status : Answered
Chosen Option : 4

Q.11 उस विकल्प का चयन करें जिसमें निम्न मुहावरे का सर्वाधिक उपयुक्त अर्थ दिया गया है।

मुट्ठी गर्म करना

- Ans
- 1. रिश्तत देना
 - 2. बहुत परेशान करना
 - 3. किसी को भड़काना
 - 4. बुरी तरह पीटना

Question ID : 65497830102
Status : Answered
Chosen Option : 4

Q.12 रिक्त स्थान की पूर्ति के लिए सबसे उपयुक्त शब्द का चयन करें।

भाषा में अभिव्यक्त विचार लिपि की _____ से सुरक्षित रहते हैं।

- Ans
- 1. सहायता
 - 2. कृपा
 - 3. दया
 - 4. प्रेरणा

Question ID : 65497830096
Status : Answered
Chosen Option : 1

Q.13 दिए गए शब्द के समानार्थी शब्द का चयन करें।

सरस्वती

- Ans 1. धवल
 2. ब्राह्मी
 3. शुचि
 4. कान्ता

Question ID : 65497830095
Status : Answered
Chosen Option : 3

Q.14 दिए गए वाक्य का वह भाग ज्ञात करें जिसमें कोई त्रुटि है। यदि कोई त्रुटि नहीं है, तो 'कोई त्रुटि नहीं है' चुनें।

शिक्षा का (1)/ माध्यम तो (2)/ हिन्दी ही रहेगा (3)/ कोई त्रुटि नहीं है (4)

- Ans 1. 2
 2. 4
 3. 1
 4. 3

Question ID : 65497830094
Status : Answered
Chosen Option : 1

Q.15 'हास' का विलोम शब्द होगा-

- Ans 1. परिहास
 2. रुदन
 3. गायन
 4. उपहास

Question ID : 65497830106
Status : Answered
Chosen Option : 1

Q.16 दिए गए वाक्य का वह भाग ज्ञात करें जिसमें कोई त्रुटि है। यदि कोई त्रुटि नहीं है, तो 'कोई त्रुटि नहीं है' चुनें।

मैंने एक वर्ष तक(1)/ उनकी प्रतीक्षा(2)/ देखी।(3)/ कोई त्रुटि नहीं है।(4)

- Ans 1. 2
 2. 3
 3. 4
 4. 1

Question ID : 65497830100
Status : Answered
Chosen Option : 2

Q.17 दिये गये वाक्य में रेखांकित अंश को प्रतिस्थापित करने के लिए सबसे उपयुक्त विकल्प का चयन करें।

मैं आपके सुखी जीवन की आकांक्षा करता हूँ।

- Ans
- 1. इच्छा
 - 2. वासना
 - 3. कामना
 - 4. आराधना

Question ID : 65497830108
Status : Answered
Chosen Option : 3

Q.18 दिए गए वाक्यांश के लिए एक शब्द चुनें।

पूछने योग्य

- Ans
- 1. सुयोग्य
 - 2. प्रश्न
 - 3. प्रष्टव्य
 - 4. योग्य

Question ID : 65497830091
Status : Answered
Chosen Option : 2

Q.19 'जिसका भोग करना उचित हो' वाक्यांश के लिए एक शब्द होगा-

- Ans
- 1. भोग्य
 - 2. भजन
 - 3. भोजन
 - 4. भुक्ति

Question ID : 65497830110
Status : Answered
Chosen Option : 3

Q.20 दिए गए वाक्य का वह भाग ज्ञात करें जिसमें कोई त्रुटि है। यदि कोई त्रुटि नहीं है, तो 'कोई त्रुटि नहीं है' चुनें।

केवल यहाँ (1)/ दो पुस्तकें (2)/ रखी हैं। (3)/ कोई त्रुटि नहीं है (4)

- Ans
- 1. 3
 - 2. 1
 - 3. 2
 - 4. 4

Question ID : 65497830097
Status : Answered
Chosen Option : 3

Comprehension:

दिए गए गद्यांश में से कुछ शब्द हटा दिए गए हैं। संबंधित प्रश्नों में प्रत्येक संख्या के लिए सबसे उपयुक्त विकल्प का चयन करें।

चिकित्सा (1) _____ के क्षेत्र में काफी (2) _____ हुई है। अनेक (3) _____ बीमारियों से छुटकारा मिलने लगा है, उसने (4) _____ को सुन्दर और (5) _____ बना दिया है।

SubQuestion No : 21

Q.21 गद्यांश के रिक्त स्थान (1) के लिए सर्वाधिक उपयुक्त शब्द होगा-

- Ans**
- 1. संगीत
 - 2. कला
 - 3. विज्ञान
 - 4. साहित्य

Question ID : **65497830112**
Status : **Answered**
Chosen Option : **3**

Comprehension:

दिए गए गद्यांश में से कुछ शब्द हटा दिए गए हैं। संबंधित प्रश्नों में प्रत्येक संख्या के लिए सबसे उपयुक्त विकल्प का चयन करें।

चिकित्सा (1) _____ के क्षेत्र में काफी (2) _____ हुई है। अनेक (3) _____ बीमारियों से छुटकारा मिलने लगा है, उसने (4) _____ को सुन्दर और (5) _____ बना दिया है।

SubQuestion No : 22

Q.22 गद्यांश के रिक्त स्थान (2) के लिए सर्वाधिक उपयुक्त शब्द होगा-

- Ans**
- 1. विषमता
 - 2. प्रगति
 - 3. भ्रमणशील
 - 4. गिरावट

Question ID : **65497830113**
Status : **Answered**
Chosen Option : **2**

Comprehension:

दिए गए गद्यांश में से कुछ शब्द हटा दिए गए हैं। संबंधित प्रश्नों में प्रत्येक संख्या के लिए सबसे उपयुक्त विकल्प का चयन करें।

चिकित्सा (1) _____ के क्षेत्र में काफी (2) _____ हुई है। अनेक (3) _____ बीमारियों से छुटकारा मिलने लगा है, उसने (4) _____ को सुन्दर और (5) _____ बना दिया है।

SubQuestion No : 23

Q.23 गद्यांश के रिक्त स्थान (3) के लिए सर्वाधिक उपयुक्त शब्द होगा-

- Ans**
- 1. आसान
 - 2. सरल
 - 3. आकर्षक
 - 4. जानलेवा

Question ID : **65497830114**
Status : **Answered**
Chosen Option : **4**

Comprehension:

दिए गए गद्यांश में से कुछ शब्द हटा दिए गए हैं। संबंधित प्रश्नों में प्रत्येक संख्या के लिए सबसे उपयुक्त विकल्प का चयन करें।

चिकित्सा (1) _____ के क्षेत्र में काफी (2) _____ हुई है। अनेक (3) _____ बीमारियों से छुटकारा मिलने लगा है, उसने (4) _____ को सुन्दर और (5) _____ बना दिया है।

SubQuestion No : 24

Q.24 गद्यांश के रिक्त स्थान (4) के लिए सर्वाधिक उपयुक्त शब्द होगा-

- Ans**
- 1. डॉक्टर
 - 2. कर्मचारी
 - 3. अस्पताल
 - 4. जीवन

Question ID : **65497830115**
Status : **Answered**
Chosen Option : **4**

Comprehension:

दिए गए गद्यांश में से कुछ शब्द हटा दिए गए हैं। संबंधित प्रश्नों में प्रत्येक संख्या के लिए सबसे उपयुक्त विकल्प का चयन करें।

चिकित्सा (1) _____ के क्षेत्र में काफी (2) _____ हुई है। अनेक (3) _____ बीमारियों से छुटकारा मिलने लगा है, उसने (4) _____ को सुन्दर और (5) _____ बना दिया है।

SubQuestion No : 25

Q.25 गद्यांश के रिक्त स्थान (5) के लिए सर्वाधिक उपयुक्त शब्द होगा-

- Ans**
- 1. छोटा
 - 2. लघु
 - 3. कल्पनाशील
 - 4. दीर्घ

Question ID : **65497830116**
Status : **Answered**
Chosen Option : **4**