

Constable GD in CAPFs NIA SSF and Rifleman GD in Assam Rifles Examination 2021

Roll Number	www.GovtJobsAlert.In
Candidate Name	www.GovtJobsAlert.In
Venue Name	iON Digital Zone iDZ 1 Hathipur
Exam Date	15/12/2021
Exam Time :	12:30 PM - 2:00 PM
Subject	Constable GD 2021

Section : Part A General Intelligence and Reasoning

Q.1 उस विकल्प का चयन कीजिए, जिसका चौथी संख्या से वही संबंध है, जो पहली संख्या का दूसरी संख्या से है और पांचवीं संख्या का छठी संख्या से है।

26 : 6 :: ? : 11 :: 37 : 7

Ans 1. 101

2. 82

3. 145

4. 122

Question ID : 65497834312

Status : Answered

Chosen Option : 1

Q.2 आठ लड़कियां, K, L, M, N, O, P, Q और R, दो पंक्तियों में बैठी हैं, प्रत्येक पंक्ति में चार लड़कियां हैं। दोनों पंक्तियां एक ही दिशा की ओर अभिमुख हैं। एक पंक्ति दूसरी पंक्ति के पीछे है। K एक सिरे पर है और P के बाईं ओर ठीक बगल में है। O, M के बाईं ओर ठीक बगल में है। K और R के बीच में दो लड़कियां बैठी हैं। L, P के ठीक पीछे है। O, L और M के बीच में है। N आगे वाली पंक्ति में नहीं है। P और R के बीच में कौन बैठा है?

Ans 1. Q

2. L

3. N

4. M

Question ID : 65497834311

Status : Answered

Chosen Option : 1

Q.3 उस विकल्प का चयन कीजिए जो नीचे दी गई आकृति में सन्निहित है (आकृति को घुमाने की अनुमति नहीं है)



Ans

1.



2.



3.



4.



Question ID : 65497834315

Status : Answered

Chosen Option : 3

Q.4 दिए गए कथनों और निष्कर्षों को ध्यानपूर्वक पढ़ें। कथनों में दी गई जानकारी को सत्य मानते हुए विचार करें, भले ही वह सामान्यतः ज्ञात तथ्यों से भिन्न प्रतीत होती हो, और बताएं कि दिए गए निष्कर्षों में से कौन से, कथनों का तार्किक रूप से पालन करते हैं?

कथन:

कुछ गुलाब, पैंसी हैं।

कुछ लिली, पैंसी हैं।

सभी गुलाब, डेज़ी हैं।

निष्कर्ष:

I. कुछ गुलाब, लिली हैं।

II. सभी पैंसी, डेज़ी हैं।

Ans 1. न तो निष्कर्ष I और न ही निष्कर्ष II पालन करता है।

2. केवल निष्कर्ष II पालन करता है।

3. निष्कर्ष I और II दोनों ही पालन करते हैं।

4. केवल निष्कर्ष I पालन करता है।

Question ID : 65497834322

Status : Answered

Chosen Option : 1

Q.5 एक लड़के के फोटोग्राफ की ओर इशारा करते हुए आदित्य ने कहा, "वह मेरी सास की इकलौती पुत्री का इकलौता पुत्र है।" उस लड़के का आदित्य से क्या संबंध है?

Ans 1. भतीजा

2. साला

3. पुत्र

4. ससुर

Question ID : 65497834328

Status : Answered

Chosen Option : 3

Q.6 'औषधियों' का 'औषधालय' से वही संबंध है, जो 'ऐतिहासिक वस्तुओं' का '_____' से है।

- Ans
- 1. संस्कृति
 - 2. संग्रहालय
 - 3. उद्योग
 - 4. वास्तुकला

Question ID : 65497834309
Status : Answered
Chosen Option : 2

Q.7 एक निश्चित कूट भाषा में, 'TONIC' को 'UPOJDB' लिखा जाता है, और 'PRINT' को 'QSJOUS' लिखा जाता है। उसी कूट भाषा में 'SUPER' को किस प्रकार लिखा जाएगा?

- Ans
- 1. TVQFSQ
 - 2. TVFQSQ
 - 3. TUQSQF
 - 4. TVQFST

Question ID : 65497834327
Status : Answered
Chosen Option : 1

Q.8 चार अक्षर-समूह दिए गए हैं, जिनमें से तीन किसी तरह से संगत हैं और एक असंगत है। उस अक्षर-समूह का चयन करें, जो अन्य से असंगत है।

- Ans
- 1. LPU
 - 2. MMV
 - 3. DSE
 - 4. AMU

Question ID : 65497834329
Status : Answered
Chosen Option : 2

Q.9 दिए गए पैटर्न का ध्यानपूर्वक अध्ययन करें और उस संख्या का चयन करें, जो इसमें प्रश्न चिह्न (?) के स्थान पर आ सकती है।

26 19 12
32 ? 16
23 20 17

- Ans
- 1. 24
 - 2. 28
 - 3. 32
 - 4. 15

Question ID : 65497834323
Status : Answered
Chosen Option : 1

Q.10 दिए गए विकल्पों में से उस अक्षर समूह का चयन कीजिए, जो निम्न श्रृंखला में प्रश्न चिह्न (?) के स्थान पर आ सकता है।

NKY, LHU, JEQ, ?, FYI


- Ans
- 1. GAO
 - 2. HBM
 - 3. IBN
 - 4. HCN

Question ID : 65497834308

Status : Answered

Chosen Option : 2

Q.11 दिए गए विकल्पों में से उस आकृति का चयन करें जो निम्नलिखित श्रृंखला में प्रश्न चिह्न (?) के स्थान पर आ सकती है।



Ans

- 1.
- 2.
- 3.
- 4.

Question ID : 65497834320

Status : Answered

Chosen Option : 3

Q.12 उस सही विकल्प का चयन करें, जो दिए गए शब्दों के उस क्रम को दर्शाता है, जिसमें वे अंग्रेज़ी शब्दकोश में मौजूद होते हैं।

1. Patent
2. Patient
3. Patience
4. Paternalism
5. Patella

- Ans
- 1. 5, 4, 1, 3, 2
 - 2. 5, 1, 2, 3, 4
 - 3. 5, 1, 4, 3, 2
 - 4. 1, 4, 2, 3, 5

Question ID : 65497834317

Status : Answered

Chosen Option : 3

Q.13 किसी कूट भाषा में, LOTUS को NMVSU लिखा जाता है। उसी कूट भाषा में TULIP को किस प्रकार लिखा जाएगा?

- Ans
- 1. UVMJQ
 - 2. VWNKR
 - 3. UTMHQ
 - 4. VSNGR

Question ID : 65497834321

Status : Answered

Chosen Option : 4

Q.14 यदि दर्पण को 'PQ' पर रखा गया हो, तो दिए गए संयोजन के सही दर्पण प्रतिबिंब का चयन करें।

NUMERICAL
P
|
Q

- Ans
- 1. LAƆIЯEMUИ
 - 2. ИИИИEƆIƆVГ
 - 3. ИИИИEƆIƆVГ
 - 4. LAƆIЯEMUИ

Question ID : 65497834332

Status : Answered

Chosen Option : 1

Q.15 छह मित्र, A, B, C, D, E और F, एक वृत्ताकार मेज के परितः केंद्र की ओर मुख करके बैठे हैं। D, B के दाईं ओर तीसरे स्थान पर है। F, D के दाईं ओर ठीक बगल में बैठा है। C, D और E के बीच में बैठा है। B और F के बीच में कौन बैठा है?

Ans 1. A

2. C

3. D

4. E

Question ID : 65497834310

Status : Answered

Chosen Option : 1

Q.16 उस अक्षर-समूह का चयन कीजिए जिसका तीसरे अक्षर-समूह से वही संबंध है जो दूसरे अक्षर-समूह का पहले अक्षर-समूह से है।

BGL : HNT :: EIM : ?

Ans 1. JLP

2. QTX

3. KPU

4. ILN

Question ID : 65497834326

Status : Answered

Chosen Option : 3

Q.17 उस वेन आरेख का चयन कीजिए जो निम्न वर्गों के संबंध का सर्वश्रेष्ठ निरूपण करता है।

माताएँ, बेटियाँ, महिलाएँ

Ans

1.



2.



3.



4.



Question ID : 65497834316

Status : Answered


Chosen Option : 3

Q.18 नीचे दी गई आकृतियों में कागज के एक टुकड़े को मोड़ने का क्रम और उस मुड़े हुए कागज को काटने का तरीका दर्शाया गया है। इस कागज को खोलने पर यह कैसा दिखेगा?




Ans

✓ 1.




✗ 2.



✗ 3.



✗ 4.



Question ID : 65497834325

Status : Answered

Chosen Option : 1

Q.19 दिए गए विकल्पों में से उस संख्या का चयन करें, जो निम्नलिखित श्रेणी में प्रश्न चिह्न (?) के स्थान पर आ सकती है।

11, 33, 13, 39, 17, ?

Ans ✓ 1. 51

✗ 2. 19

✗ 3. 57

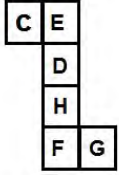
✗ 4. 41

Question ID : 65497834319

Status : Answered

Chosen Option : 1

Q.20 दी गई शीट को मोड़कर एक घन बनाया जाता है। इस प्रकार बनाए गए घन में, अक्षरों का कौन सा युग्म इसके विपरीत पृष्ठों पर होगा?



- Ans
- 1. E और H
 - 2. E और D
 - 3. C और H
 - 4. C और F

Question ID : 65497834314
Status : Answered
Chosen Option : 1

Q.21 दिए गए विकल्पों में से उस संख्या का चयन करें, जो निम्नलिखित श्रेणी में प्रश्न चिह्न (?) के स्थान पर आ सकती है।

7, 16, 41, ?, 171, 292

- Ans
- 1. 97
 - 2. 81
 - 3. 90
 - 4. 100

Question ID : 65497834331
Status : Answered
Chosen Option : 3

Q.22 किसी निश्चित कूट भाषा में, 'GLARE' को '201526922' और 'DUST' को '23687' लिखा जाता है। उसी कूट भाषा में 'HYPER' को किस प्रकार लिखा जाएगा?

- Ans
- 1. 19221219
 - 2. 19211229
 - 3. 19122129
 - 4. 19121229

Question ID : 65497834330
Status : Answered
Chosen Option : 2

Q.23 अक्षरों के उस संयोजन का चयन करें, जिसे क्रमबद्ध रूप से दी गई श्रृंखला के रिक्त स्थानों में रखे जाने पर श्रृंखला पूर्ण हो जाएगी।

KU__NK_QP__U_PN

- Ans
- 1. QQPUNK
 - 2. QUPQNK
 - 3. QPUNQK
 - 4. QPUNKQ

Question ID : 65497834318
Status : Answered
Chosen Option : 4

Q.24 किसी संख्या के दो गुने में तीन जोड़ने पर प्राप्त योगफल को 5 से गुणा किया जाता है और प्राप्त गुणनफल को मूल संख्या में जोड़ा जाता है, तो परिणाम 158 प्राप्त होता है। मूल संख्या का वर्ग ज्ञात कीजिए।

- Ans
- 1. 169
 - 2. 225
 - 3. 121
 - 4. 289

Question ID : 65497834324
Status : Answered
Chosen Option : 1

Q.25 दिए गए समीकरण को सही करने के लिए किन दो संख्याओं को आपस में बदला जाना चाहिए?

$$45 + 35 \times 7 - 81 \div 9 = 321$$

- Ans
- 1. 45 और 7
 - 2. 45 और 81
 - 3. 7 और 9
 - 4. 45 और 35

Question ID : 65497834313
Status : Answered
Chosen Option : 2

Section : Part B General Knowledge and General Awareness

Q.1 ऊन उद्योग में छंटाईकर्ता कभी-कभी _____ नामक जीवाणु से संक्रमित हो जाते हैं, जिसके कारण सॉर्टर डिजीज (Sorter's Disease) नामक घातक रक्त रोग हो जाता है।

- Ans
- 1. एंथ्रेक्स
 - 2. एडवर्ड्सियाला
 - 3. एसिटोबैक्टर पासचुरिएनस
 - 4. मेलिटॉगियम बोलेटस

Question ID : 65497834336
Status : Not Answered
Chosen Option : --

Q.2 चाय और कॉफी _____ मिट्टी में उगाई जाती हैं।

- Ans 1. लैटेराइट
 2. जलोढ़
 3. शुष्क
 4. काली

Question ID : 65497834347
Status : Answered
Chosen Option : 4

Q.3 निम्नलिखित में से किस राज्य ने 1 दिसंबर 2020 को, 'अरुणोदय (Orunodoi)' योजना का शुभारंभ किया?

- Ans 1. हिमाचल प्रदेश
 2. पश्चिम बंगाल
 3. असम
 4. सिक्किम

Question ID : 65497834343
Status : Not Answered
Chosen Option : --

Q.4 अक्टूबर, 2020 में एक अंतर्राष्ट्रीय निर्णायक मंडल द्वारा कितने भारतीय समुद्र तटों को प्रतिष्ठित 'ब्लू फ्लैग सर्टिफिकेशन (Blue Flag certification)' से सम्मानित किया गया?

- Ans 1. छह
 2. सात
 3. पांच
 4. आठ

Question ID : 65497834340
Status : Answered
Chosen Option : 3

Q.5 कालिदास रचित नाटक 'अभिज्ञान शाकुंतलम' शकुंतला और राजा _____ की प्रेम कथा है।

- Ans 1. धृतराष्ट्र
 2. दुशासन
 3. दुष्यंत
 4. दशरथ

Question ID : 65497834355
Status : Answered
Chosen Option : 3

Q.6 केंद्रीय बजट 2020-21 के दौरान बच्चों और गर्भवती महिलाओं के पोषण के लिए इनमें से किस कार्यक्रम का शुभारंभ किया गया था?

- Ans
- 1. पोषण अभियान
 - 2. पोषण अधिकार
 - 3. पोषण ज्ञान
 - 4. पोषण संग

Question ID : 65497834345
Status : Answered
Chosen Option : 1

Q.7 औरंगजेब ने _____ में एक लंबी लड़ाई लड़ते हुए अपने साम्राज्य के सैन्य और वित्तीय संसाधनों को अधिकांशतः खर्च कर दिया था।

- Ans
- 1. दक्कन
 - 2. हैदराबाद
 - 3. अवध
 - 4. बंगाल

Question ID : 65497834350
Status : Not Answered
Chosen Option : --

Q.8 नवंबर, 2020 में, पूर्वोत्तर भारत से इनमें से किसे हॉकी इंडिया के प्रथम अध्यक्ष के रूप में चुना गया था?

- Ans
- 1. कोठाजीत सिंह (Kothajit Singh)
 - 2. मोहम्मद मुश्ताक अहमद (Mohd Mushtaque Ahmad)
 - 3. चिंगलेनसाना सिंह (Chinglensana Singh)
 - 4. ज्ञानेंद्रो निंगोबम (Gyanendro Ningombam)

Question ID : 65497834334
Status : Answered
Chosen Option : 4

Q.9 हजारद्वारी महल _____ में स्थित है।

- Ans
- 1. मुर्शिदाबाद
 - 2. जोधपुर
 - 3. मैसूर
 - 4. बीकानेर

Question ID : 65497834353
Status : Not Answered
Chosen Option : --

Q.10 इलाहाबाद के पास _____ में एक परिष्कृत जल संचयन प्रणाली थी जो प्राचीन काल में भी गंगा नदी के बाढ़ के पानी को नहर द्वारा निकाल देती थी।

- Ans
- 1. लहुरादेवा
 - 2. कौशांबी (कोसांबी)
 - 3. झूसी (झूसी)
 - 4. श्रृंगवेरपुर

Question ID : 65497834354
Status : Answered
Chosen Option : 3

Q.11 भारत किस वर्ष फुटबॉल के महिला एशियाई कप की मेजबानी करेगा?

- Ans
- 1. 2023
 - 2. 2024
 - 3. 2021
 - 4. 2022

Question ID : 65497834348
Status : Answered
Chosen Option : 4

Q.12 भारत में हिम तेंदुआ (Snow Leopard) परियोजना की शुरुआत _____ में की गई थी।

- Ans
- 1. 2009
 - 2. 2012
 - 3. 2006
 - 4. 2014

Question ID : 65497834341
Status : Not Answered
Chosen Option : --

Q.13 खिलजी और तुगलक शासकों ने सेन्य कमांडरों को क्षेत्रों का गवर्नर नियुक्त किया था। इन क्षेत्रों को किस नाम से जाना जाता था?

- Ans
- 1. मुकति
 - 2. इक्ता
 - 3. इकतदार
 - 4. सामंत

Question ID : 65497834349
Status : Answered
Chosen Option : 2

Q.14 निम्नलिखित में से कौन सा राज्य यमुना नदी के जलग्रहण क्षेत्र के अंतर्गत नहीं आता है?

- Ans
- 1. राजस्थान
 - 2. हिमाचल प्रदेश
 - 3. उत्तराखंड
 - 4. पंजाब

Question ID : 65497834344
Status : Answered
Chosen Option : 4

Q.15 भारत के आर्थिक सर्वेक्षण 2020-2021 के अनुसार, किस राज्य के वन आच्छादित क्षेत्र में वृद्धि नहीं हुई है?

- Ans
- 1. आंध्र प्रदेश
 - 2. कर्नाटक
 - 3. अरुणाचल प्रदेश
 - 4. केरल

Question ID : 65497834333
Status : Answered
Chosen Option : 4

Q.16 1 नवंबर 2020 से सब्जियों के आधार मूल्य (floor prices) निर्धारित करने वाला देश का पहला राज्य कौन सा था?

- Ans
- 1. ओडिशा
 - 2. तेलंगाना
 - 3. केरल
 - 4. तमिलनाडु

Question ID : 65497834352
Status : Answered
Chosen Option : 3

Q.17 भारत के राष्ट्रीय ध्वज के सफेद भाग के केंद्र में एक गहरे नीले रंग का अशोक चक्र सुसज्जित है। इस चक्र में कितनी तीलियां हैं?

- Ans
- 1. 22
 - 2. 20
 - 3. 30
 - 4. 24

Question ID : 65497834335
Status : Answered
Chosen Option : 4

Q.18 कृष्णदेवराय, जिन्होंने 1509 से 1529 तक विजयनगर पर शासन किया, किस राजवंश से संबंधित थे?

- Ans
- 1. तुलुव राजवंश
 - 2. अराविदु राजवंश
 - 3. सलुव राजवंश
 - 4. संगम राजवंश

Question ID : 65497834346
Status : Answered
Chosen Option : 4

Q.19 भारतीय संविधान का अनुच्छेद 368 इनमें से किससे संबंधित है?

- Ans
- 1. संवैधानिक संशोधन
 - 2. कृषि प्रक्रियाएं
 - 3. केंद्र-राज्य संबंध
 - 4. संसद

Question ID : 65497834351
Status : Answered
Chosen Option : 1

Q.20 भारतीय संविधान के किस अनुच्छेद में मौलिक कर्तव्यों से संबंधित प्रावधान दिए गए हैं?

- Ans
- 1. अनुच्छेद 21A
 - 2. अनुच्छेद 51A
 - 3. अनुच्छेद 18
 - 4. अनुच्छेद 81

Question ID : 65497834339
Status : Answered
Chosen Option : 1

Q.21 निम्नलिखित में से कौन सा मोती का प्राथमिक घटक है?

- Ans
- 1. मैग्नीशियम परॉक्साइड
 - 2. सोडियम बाईकार्बोनेट
 - 3. कैल्शियम कार्बोनेट
 - 4. कैल्शियम सल्फेट

Question ID : 65497834337
Status : Not Answered
Chosen Option : --

Q.22 पुस्तक 'द थर्ड पिलर: हाउ मार्केट्स एंड द स्टेट लीव द कम्युनिटी बिहाइंड' के लेखक निम्नलिखित में से कौन हैं?

- Ans
- 1. रुचिर शर्मा
 - 2. रघुराम राजन
 - 3. जयराम रमेश
 - 4. पी. चिदंबरम

Question ID : 65497834338
Status : Answered
Chosen Option : 2

Q.23 (जून 2021 में आर्थिक मामलों की कैबिनेट समिति द्वारा घोषित किए गए अनुसार) विपणन अवधि 2021-22 के लिए, _____ के मामले में, किसानों को उनकी उत्पादन लागत पर मिलने वाला अपेक्षित रिटर्न, अन्य अनिवार्य खरीफ फसलों की तुलना में अधिकतम 85% रहने का अनुमान है।

- Ans
- 1. तूर (अरहर)
 - 2. उड़द
 - 3. बाजरा
 - 4. मूंग

Question ID : 65497834357
Status : Not Answered
Chosen Option : --

Q.24 निम्नलिखित में से कौन सा समाचार पत्र राजा राममोहन राय द्वारा शुरू किया गया था?

- Ans
- 1. संवाद कौमुदी
 - 2. आनंद बाजार पत्रिका
 - 3. अमृत बाजार पत्रिका
 - 4. कर्मयोगी

Question ID : 65497834342
Status : Answered
Chosen Option : 1

Q.25 हेप्टाथलीट स्वप्ना बर्मन _____ राज्य की मूल निवासी हैं।

- Ans
- 1. मिजोरम
 - 2. पश्चिम बंगाल
 - 3. ओडिशा
 - 4. नागालैंड

Question ID : 65497834356
Status : Not Answered
Chosen Option : --

Section : Part C Elementary Mathematics

Q.1 साधारण ब्याज पर दी गई एक धनराशि 2 वर्षों में ₹7920 और उसके बाद 5 और वर्षों के पश्चात ₹11220 हो जाती है। वार्षिक ब्याज की दर ज्ञात कीजिए।

- Ans
- 1. 17.5%
 - 2. 12%
 - 3. 9.85%
 - 4. 10%

Question ID : 65497834359
Status : Not Answered
Chosen Option : --

Q.2 दो संख्याओं के लघुत्तम समापवर्त्य (LCM) और महत्तम समापवर्तक (HCF) क्रमशः 1920 और 4 हैं। उनमें से एक संख्या 60 है, तो दूसरी संख्या ज्ञात करें।

- Ans
- 1. 128
 - 2. 88
 - 3. 124
 - 4. 120

Question ID : 65497834373
Status : Answered
Chosen Option : 1

Q.3 यदि किसी उधार दी गई धनराशि पर 9 महीने का साधारण ब्याज उधार दी गई धनराशि का 0.12 गुना है, तो वार्षिक ब्याज दर कितने प्रतिशत है?

- Ans
- 1. 16%
 - 2. 15%
 - 3. 18%
 - 4. 12%

Question ID : 65497834366
Status : Answered
Chosen Option : 1

Q.4 उस छोटी से छोटी संख्या के अंकों का योग कितना है जिसे 12, 16 और 20 से विभाजित करने पर प्रत्येक मामले में 6 शेषफल बचता है और वह संख्या 9 से पूर्ण रूप से विभाज्य है?

- Ans
- 1. 12
 - 2. 16
 - 3. 18
 - 4. 14

Question ID : 65497834360
Status : Answered
Chosen Option : 1

Q.5 तीन संख्याओं A, B और C का अनुपात 2 : 3 : 5 है, और इन संख्याओं के वर्गों का योग 3,800 है। C का मान ज्ञात करें।

- Ans
- 1. 30
 - 2. 50
 - 3. 40
 - 4. 20

Question ID : 65497834371
Status : Answered
Chosen Option : 2

Q.6 एक वस्तु को ₹3,750 में बेचने पर दुकानदार को 25% का लाभ प्राप्त होता है। यदि वस्तु को ₹300 अधिक में बेचा गया होता, तो दुकानदार का प्रतिशत लाभ कितना होता?

- Ans
- 1. 35
 - 2. 37.5
 - 3. 32
 - 4. 36

Question ID : 65497834358
Status : Answered
Chosen Option : 1

Q.7 एक मशीन, एक निश्चित समयावधि में एक पुरुष की तुलना में दोगुना कार्य कर सकती है। 10 मशीनों और 5 पुरुषों को किसी कार्य को पूर्ण करने में 60 दिन का समय लगता है। 10 पुरुषों और 5 मशीनों को उसी कार्य को पूर्ण करने में कितना समय लगेगा?

- Ans
- 1. 90 दिन
 - 2. 84 दिन
 - 3. 75 दिन
 - 4. 68 दिन

Question ID : 65497834377
Status : Answered
Chosen Option : 3

Q.8 एक क्रिकेट टेस्ट मैच में, अनुज ने 15 छक्कों और 18 चौकों की सहायता से अपना दोहरा शतक पूरा किया। उसने दोहरा शतक पूरा करने के लिए विकेटों के बीच दौड़कर कितने प्रतिशत रन बनाए?

- Ans
- 1. 19%
 - 2. 24.5%
 - 3. 22%
 - 4. 16.5%

Question ID : 65497834364
Status : Answered
Chosen Option : 1

Q.9 $5 \times [6 \times 2\{3 \times 7 \div (5 \times 3)\}]$ का मान ज्ञात करें।

- Ans
- 1. 126
 - 2. 104
 - 3. 92
 - 4. 84

Question ID : 65497834375
Status : Answered
Chosen Option : 4

Q.10 21 वस्तुओं का क्रय मूल्य, 15 वस्तुओं के विक्रय मूल्य के बराबर है। लाभ या हानि का प्रतिशत ज्ञात करें।

- Ans
- 1. $22\frac{1}{7}\%$ लाभ
 - 2. 23% हानि
 - 3. 15% हानि
 - 4. 40% लाभ

Question ID : 65497834376

Status : Answered

Chosen Option : 4

Q.11 किसी 10 सदस्यीय परिवार के सदस्यों की औसत आयु 29 वर्ष है। यदि सबसे कम आयु वाले सदस्य जुड़वाँ हैं और उनमें से प्रत्येक की आयु 5 वर्ष है, तो जुड़वाँ बच्चों के जन्म के समय परिवार के सदस्यों की औसत आयु (वर्षों में) कितनी थी?

- Ans
- 1. 32
 - 2. 28
 - 3. 31
 - 4. 30

Question ID : 65497834362

Status : Answered

Chosen Option : 3

Q.12 व्यंजक $\frac{5\frac{5}{8}}{6\frac{3}{7}}$ of $\frac{6\frac{7}{11}}{9\frac{1}{8}} \div \frac{8}{9} \left(2\frac{3}{11} + \frac{13}{22} \right)$ of $\frac{9}{5}$ का मान ज्ञात करें।

- Ans
- 1. $\frac{11}{36}$
 - 2. $\frac{5}{36}$
 - 3. $\frac{1}{36}$
 - 4. $\frac{25}{36}$

Question ID : 65497834369

Status : Answered

Chosen Option : 2

Q.13 250 m लंबी ट्रेन एकसमान चाल से चलते हुए 200 m लंबे रेलवे प्लेटफॉर्म को 45 s में पार कर जाती है। उस ट्रेन को उस साइकिल सवार को पार करने में कितना समय (सेकंड में) लगेगा जो ट्रेन की दिशा में 6 km/h की चाल से साइकिल चला रहा है?

- Ans
- 1. 21
 - 2. 54
 - 3. 62.5
 - 4. 30

Question ID : 65497834368
Status : Answered
Chosen Option : 2

Q.14 एक ठोस लंबवृत्तीय बेलन के आधार की त्रिज्या 10.5 cm है और इसका आयतन 5197.5 cm^3 है। बेलन का कुल पृष्ठीय क्षेत्रफल (cm^2 में) ज्ञात कीजिए। ($\pi = \frac{22}{7}$ लीजिए)

- Ans
- 1. 1605
 - 2. 1749
 - 3. 1584
 - 4. 1683

Question ID : 65497834382
Status : Answered
Chosen Option : 3

Q.15 जब 22, 39, 56 और 107 में से प्रत्येक संख्या से 'x' घटाया जाता है, तो प्राप्त परिणामी संख्याएं, इसी क्रम में समानुपात में होती हैं। $(x + 3)$ और $(3x - 7)$ के बीच का माध्यानुपाती (mean proportional) ज्ञात कीजिए।

- Ans
- 1. 12
 - 2. 8
 - 3. 10
 - 4. 14

Question ID : 65497834380
Status : Not Answered
Chosen Option : --

Q.16 एक दुकानदार अपने माल पर क्रय मूल्य से 40% अधिक मूल्य अंकित करता है। उसने 60% माल अंकित मूल्य पर और शेष को अंकित मूल्य पर 65% छूट पर बेचा। पूरे संव्यवहार में उसका लाभ/हानि ज्ञात कीजिए।

- Ans
- 1. हानि, 9.6%
 - 2. लाभ, 3.6%
 - 3. हानि, 3.6%
 - 4. लाभ, 9.6%

Question ID : 65497834379
Status : Not Answered
Chosen Option : --

Q.17 एक दुकानदार ने एक वस्तु ₹4,500 में खरीदी, और इसे 5% की हानि पर बेच दिया। इस पैसे से उसने एक अन्य वस्तु खरीदी और उसे 10% के लाभ पर बेच दिया, उसका कुल लाभ ज्ञात करें।

- Ans
- 1. ₹220
 - 2. ₹202.50
 - 3. ₹280.50
 - 4. ₹210

Question ID : 65497834378
Status : Answered
Chosen Option : 2

Q.18 यदि एक घन का विकर्ण $\sqrt{108}$ cm है, तो घन का आयतन (cm^3 में) क्या होगा?

- Ans
- 1. 216
 - 2. 228
 - 3. 226
 - 4. 214

Question ID : 65497834372
Status : Answered
Chosen Option : 1

Q.19 किसी कक्षा में छात्रों का औसत वजन 56 kg है। यदि 58 kg औसत वजन वाले पांच और छात्र कक्षा में शामिल हो जाते हैं, तो छात्रों का औसत वजन 0.5 kg बढ़ जाता है। कक्षा में छात्रों की मूल संख्या कितनी थी?

- Ans
- 1. 25
 - 2. 20
 - 3. 15
 - 4. 18

Question ID : 65497834361
Status : Not Answered
Chosen Option : --

Q.20 ₹9,500 को तीन मित्रों A, B और C के बीच इस तरह विभाजित किया जाता है, कि B को मिलने वाली धनराशि A को मिली धनराशि का 75% है और A एवं C को मिली धनराशि का अनुपात 8 : 5 है। B को मिलने वाली राशि (₹ में) कितनी है?

- Ans
- 1. 6,000
 - 2. 3,000
 - 3. 2,500
 - 4. 4,000

Question ID : 65497834365
Status : Answered
Chosen Option : 3

Q.21 एक विक्रेता (डीलर) अपने ग्राहकों को 20% की छूट देता है और फिर भी 20% लाभ अर्जित करता है। यदि किसी सामान का क्रय मूल्य ₹960 है, तो उसका अंकित मूल्य (₹ में) कितना है?

- Ans
- 1. 1,440
 - 2. 1,600
 - 3. 1,152
 - 4. 1,280

Question ID : 65497834363

Status : Answered

Chosen Option : 3

Q.22 एक निश्चित वार्षिक ब्याज दर पर ₹10,000 की राशि 2 वर्षों में ₹13,225 हो जाती है, जबकि ब्याज की गणना वार्षिक चक्रवृद्धि आधार पर की जाती है। यदि ब्याज की गणना 8-मासिक चक्रवृद्धि आधार पर की जाए, तो समान राशि पर समान ब्याज दर पर समान समय में प्राप्त होने वाला ब्याज (₹ में) कितना होगा?

- Ans
- 1. 3,350
 - 2. 3,290
 - 3. 3,360
 - 4. 3,310

Question ID : 65497834381

Status : Not Answered

Chosen Option : --

Q.23 यदि दो संख्याएं, तीसरी संख्या के 12% और 48% के बराबर हैं, तो पहली संख्या दूसरी संख्या के कितने प्रतिशत के बराबर है?

- Ans
- 1. 20%
 - 2. 25%
 - 3. 30%
 - 4. 15%

Question ID : 65497834374

Status : Answered

Chosen Option : 2

Q.24 एक ट्रेन की औसत चाल, एक कार की औसत चाल की 180% है। कार 990 km की दूरी 15 घंटे में तय करती है। 891 km की दूरी तय करने के लिए ट्रेन द्वारा लिया गया समय (घंटों में) ज्ञात करें।

Ans

1. $9\frac{1}{2}$

2. $6\frac{1}{2}$

3. $7\frac{1}{2}$

4. $5\frac{1}{2}$

Question ID : 65497834370

Status : Not Answered

Chosen Option : --

Q.25 4 पुरुष और 4 महिलाएं किसी कार्य को 5 दिनों में पूरा कर सकते हैं, जबकि 2 पुरुष और 5 महिलाएं उसी कार्य को 6 दिनों में पूरा कर सकते हैं। 1 महिला अकेले और 1 पुरुष अकेले उस कार्य को पूरा करने में क्रमशः कितने-कितने दिन का समय लेंगे?

Ans

1. 36 और 45

2. 36 और 20

3. 45 और 36

4. 20 और 36

Question ID : 65497834367

Status : Answered

Chosen Option : 2

Section : Part D English

Q.1 Select the most appropriate option that can substitute the underlined word in the given sentence. If there is no need to substitute it, select 'No substitution required'.

Either Sumit or Amit will give their assistance in unloading the goods from the truck.

Ans

1. his

2. your

3. its

4. No substitution required

Question ID : 65497834396

Status : Not Answered

Chosen Option : --

Q.2 Select the most appropriate option that can substitute the underlined segment in the given sentence. If there is no need to substitute it, select 'No substitution required'.

This is the garage when I get my car repaired.

- Ans
- 1. wherever
 - 2. No substitution required
 - 3. whenever
 - 4. where

Question ID : 65497834383
Status : Not Answered
Chosen Option : --

Q.3 The following sentence has been divided into parts. One of them may contain an error. Select the part that contains the error from the given options. If you don't find any error, mark 'No error' as your answer.

Did you knew / that there will be / a pay hike soon?

- Ans
- 1. a pay hike soon
 - 2. No error
 - 3. Did you knew
 - 4. that there will be

Question ID : 65497834400
Status : Not Answered
Chosen Option : --

Q.4 Select the option that can be used as a one-word substitute for the given group of words.

A solemn promise

- Ans
- 1. Salute
 - 2. Contract
 - 3. Tribute
 - 4. Pledge

Question ID : 65497834402
Status : Not Answered
Chosen Option : --

Q.5 The following sentence has been split into four segments. Identify the segment that contains a grammatical error.

Its matter of great concern / for the authorities that / despite all the efforts, / the number of patients is increasing.

- Ans
- 1. despite all the efforts
 - 2. the number of patients is increasing
 - 3. for the authorities that
 - 4. Its matter of great concern

Question ID : 65497834388
Status : Not Answered
Chosen Option : --

Q.6 Select the most appropriate option to fill in the blank.

Disasters expose the most _____ section of society to grave danger.

- Ans
- 1. potable
 - 2. vulnerable
 - 3. sustainable
 - 4. equitable

Question ID : 65497834387
Status : Not Answered
Chosen Option : --

Q.7 Select the most appropriate synonym of the given word.

SUSTAIN (V)

- Ans
- 1. Weaken
 - 2. Support
 - 3. Suspect
 - 4. Believe

Question ID : 65497834401
Status : Not Answered
Chosen Option : --

Q.8 Select the correctly spelt word.

- Ans
- 1. Mathematics
 - 2. Maethematics
 - 3. Mathematiks
 - 4. Mathemetics

Question ID : 65497834386
Status : Not Answered
Chosen Option : --

Q.9 Select the INCORRECTLY spelt word.

- Ans
- 1. Indecisiveness
 - 2. Gullible
 - 3. Dissimulation
 - 4. Magnanemous

Question ID : 65497834391
Status : Not Answered
Chosen Option : --

Q.10 Select the most appropriate meaning of the given idiom.

To spill the beans

- Ans
- 1. To do something very difficult
 - 2. To give away a secret
 - 3. To throw away something important
 - 4. To work very hard

Question ID : 65497834399
Status : Not Answered
Chosen Option : --

Q.11 Select the most appropriate ANTONYM of the given word.

Delicious

- Ans
- 1. Sweet
 - 2. Distasteful
 - 3. Tasteful
 - 4. Satisfactory

Question ID : 65497834389
Status : Not Answered
Chosen Option : --

Q.12 Select the most appropriate option that can substitute the underlined word in the given sentence. If there is no need to substitute it, select 'No substitution required'.

Despite play very well, we lost the match.

- Ans
- 1. No substitution required
 - 2. Despite of us playing
 - 3. Despite of our playing
 - 4. Despite playing

Question ID : 65497834397
Status : Not Answered
Chosen Option : --

Q.13 Select the option that can be used as a one-word substitute for the given group of words.

Sound made by a horse

- Ans
- 1. Neigh
 - 2. Bark
 - 3. Growl
 - 4. Bray

Question ID : 65497834384
Status : Not Answered
Chosen Option : --

Q.14 Select the most appropriate option to fill in the blank.

She found herself in an _____ situation and left quickly.

- Ans
- 1. elegant
 - 2. awkward
 - 3. abstract
 - 4. obvious

Question ID : 65497834394
Status : Not Answered
Chosen Option : --

Q.15 The following sentence has been split into four segments. Identify the segment that contains a grammatical error.

The examinations / will be pushed back / so that candidates get additional time / for prepare.

- Ans
- 1. The examinations
 - 2. will be pushed back
 - 3. for prepare
 - 4. so that candidates get additional time

Question ID : 65497834392
Status : Not Answered
Chosen Option : --

Q.16 Select the most appropriate meaning of the given idiom.

To take up the gauntlet

- Ans
- 1. To deny the challenge
 - 2. To suffer humiliation
 - 3. To accept a challenge
 - 4. To face failure

Question ID : 65497834395
Status : Not Answered
Chosen Option : --

Q.17 Select the option that can be used as a one-word substitute for the given group of words.

Person who is the natural successor to ancestral property

- Ans
- 1. Heretic
 - 2. Extrovert
 - 3. Interlocutor
 - 4. Heir

Question ID : 65497834390
Status : Not Answered
Chosen Option : --

Q.18 Select the most appropriate option to fill in the blank.

The ticket gives _____ travel on city buses for as little as ₹100.

- Ans
- 1. unlimited
 - 2. never-ending
 - 3. uncontrolled
 - 4. infinite

Question ID : 65497834398
Status : Not Answered
Chosen Option : --

Q.19 Select the most appropriate ANTONYM of the given word.

Just

- Ans
- 1. Conclude
 - 2. Fail
 - 3. Corrupt
 - 4. Blur

Question ID : 65497834385
Status : Not Answered
Chosen Option : --

Q.20 Select the most appropriate synonym of the given word.

Sullen

- Ans
- 1. Smart
 - 2. Grim
 - 3. Dazzling
 - 4. Bright

Question ID : 65497834393
Status : Not Answered
Chosen Option : --

Comprehension:

In the following passage, some words have been deleted. Read the passage carefully and select the most appropriate option to fill in each blank.

Modern scientific and technological developments in the practice of medicine and public health (1)_____ nursing into new and wider fields of activity, and its functions have been expanded (2)_____. Therefore, nursing is no longer limited mainly to activities within the hospital. It has also become (3)_____ in which prevention and rehabilitation are a vital part of its program. The modern concept of nursing considers the hospital, (4)_____ central, as only one of (5)_____ in the community.

SubQuestion No : 21

Q.21 Select the most appropriate option to fill in blank no. 1.

- Ans
- 1. are drawn
 - 2. drew
 - 3. had drawn
 - 4. are drawing

Question ID : 65497834404

Status : **Not Answered**

Chosen Option : --

Comprehension:

In the following passage, some words have been deleted. Read the passage carefully and select the most appropriate option to fill in each blank.

Modern scientific and technological developments in the practice of medicine and public health (1)_____ nursing into new and wider fields of activity, and its functions have been expanded (2)_____. Therefore, nursing is no longer limited mainly to activities within the hospital. It has also become (3)_____ in which prevention and rehabilitation are a vital part of its program. The modern concept of nursing considers the hospital, (4)_____ central, as only one of (5)_____ in the community.

SubQuestion No : 22

Q.22 Select the most appropriate option to fill in blank no. 2.

- Ans
- 1. accordingly
 - 2. naturally
 - 3. consistently
 - 4. respectively

Question ID : 65497834405

Status : **Not Answered**

Chosen Option : --

Comprehension:

In the following passage, some words have been deleted. Read the passage carefully and select the most appropriate option to fill in each blank.

Modern scientific and technological developments in the practice of medicine and public health (1)_____ nursing into new and wider fields of activity, and its functions have been expanded (2)_____. Therefore, nursing is no longer limited mainly to activities within the hospital. It has also become (3)_____ in which prevention and rehabilitation are a vital part of its program. The modern concept of nursing considers the hospital, (4)_____ central, as only one of (5)_____ in the community.

SubQuestion No : 23

Q.23 Select the most appropriate option to fill in blank no. 3.

- Ans
- 1. community service
 - 2. community services
 - 3. a community service
 - 4. the community service

Question ID : 65497834406

Status : **Not Answered**

Chosen Option : --

Comprehension:

In the following passage, some words have been deleted. Read the passage carefully and select the most appropriate option to fill in each blank.

Modern scientific and technological developments in the practice of medicine and public health (1)_____ nursing into new and wider fields of activity, and its functions have been expanded (2)_____. Therefore, nursing is no longer limited mainly to activities within the hospital. It has also become (3)_____ in which prevention and rehabilitation are a vital part of its program. The modern concept of nursing considers the hospital, (4)_____ central, as only one of (5)_____ in the community.

SubQuestion No : 24

Q.24 Select the most appropriate option to fill in blank no. 4.

- Ans
- 1. whenever
 - 2. wherever
 - 3. however
 - 4. whatever

Question ID : 65497834407

Status : **Not Answered**

Chosen Option : --

Comprehension:

In the following passage, some words have been deleted. Read the passage carefully and select the most appropriate option to fill in each blank.

Modern scientific and technological developments in the practice of medicine and public health (1)_____ nursing into new and wider fields of activity, and its functions have been expanded (2)_____. Therefore, nursing is no longer limited mainly to activities within the hospital. It has also become (3)_____ in which prevention and rehabilitation are a vital part of its program. The modern concept of nursing considers the hospital, (4)_____ central, as only one of (5)_____ in the community.

SubQuestion No : 25

Q.25 Select the most appropriate option to fill in blank no. 5.

- Ans
- 1. many agency
 - 2. many agencies
 - 3. the many agencies
 - 4. the many agency

Question ID : 65497834408
Status : Not Answered
Chosen Option : --

Section : Part D Hindi

Q.1 दिए गए शब्द का विलोम चुने -

उर्वरा

- Ans
- 1. क्षुद्र
 - 2. ऊसर
 - 3. मोक्ष
 - 4. संपन्न

Question ID : 65497834423
Status : Answered
Chosen Option : 2

Q.2 दिए गए शब्द के समानार्थी शब्द का चयन कीजिए।

अटवी

- Ans
- 1. अडिग
 - 2. जंगल
 - 3. अचल
 - 4. अटल

Question ID : 65497834411
Status : Answered
Chosen Option : 4

Q.3 'सुर' का पर्यायवाची है-

Ans 1. देवता

2. सूर्य

3. राक्षस

4. सुरंग

Question ID : 65497834426

Status : Answered

Chosen Option : 1

Q.4 दिए गए वाक्य का वह भाग ज्ञात करें जिसमें कोई त्रुटि है। यदि कोई त्रुटि नहीं है, तो 'कोई त्रुटि नहीं है' चुनें।

बुरा से बुरा (1)/ आदमी यह (2)/ कहता है। (3)/ कोई त्रुटि नहीं है (4)

Ans 1. 1

2. 4

3. 2

4. 3

Question ID : 65497834410

Status : Answered

Chosen Option : 1

Q.5 रिक्त स्थान की पूर्ति करने के लिए सर्वाधिक उपयुक्त शब्द का चयन करें।

लड़का बीमार है _____ पढ़ने नहीं आया।

Ans 1. कदाचित्

2. इसलिए

3. इससे

4. क्योंकि

Question ID : 65497834419

Status : Answered

Chosen Option : 2

Q.6 दिए गए वाक्य का वह भाग ज्ञात करें जिसमें कोई त्रुटि है। यदि कोई त्रुटि नहीं है, तो 'कोई त्रुटि नहीं है' चुनें।

आपसी मनमुटाव को सामने - आमने बैठकर बातचीत से दूर करें।

Ans 1. आपसी मनमुटाव को

2. बातचीत से दूर करें।

3. सामने - आमने बैठकर

4. कोई त्रुटि नहीं है।

Question ID : 65497834422

Status : Answered

Chosen Option : 3

Q.7 दिए गए वाक्य में रेखांकित खंड को प्रतिस्थापित करने के लिए सर्वाधिक उपयुक्त विकल्प का चयन करें। यदि इसे प्रतिस्थापित करने की आवश्यकता नहीं है, तो विकल्प 'किसी बदलाव की आवश्यकता नहीं है' का चयन करें।

जंगली जानवर, चिड़ियाघर में हमारे मनोरंजन ही करते हैं।

- Ans
- 1. किसी बदलाव की आवश्यकता नहीं है।
 - 2. हमारे मनोरंजन ही कर रहे हैं।
 - 3. हमारे मनोरंजन ही करता है।
 - 4. हमारा मनोरंजन ही करते हैं।

Question ID : 65497834418

Status : Answered

Chosen Option : 4

Q.8 दिए गए वाक्यांश के लिए एक शब्द का चयन करें:

विस्थापित लोगों को पुनः बसाना

- Ans
- 1. पुनरावृत्ति
 - 2. पुनर्वास
 - 3. पुनरुक्ति
 - 4. पुनर्वा

Question ID : 65497834424

Status : Answered

Chosen Option : 2

Q.9 दिए गए वाक्य के किस भाग में त्रुटि है?

भारत में अनेक प्रदेशिक भाषाएं हैं।

- Ans
- 1. भारत में
 - 2. भाषाएं हैं।
 - 3. अनेक
 - 4. प्रदेशिक

Question ID : 65497834425

Status : Answered

Chosen Option : 4

Q.10 दिए गए शब्द का विलोम चुनें।

क्रूर

- Ans
- 1. विधुर
 - 2. निष्ठुर
 - 3. असुर
 - 4. दयालु

Question ID : 65497834415

Status : Answered

Chosen Option : 4

Q.11 निम्नलिखित प्रश्न में, दिए गए चार विकल्पों में से उस विकल्प का चयन करें, जो मुहावरे के सही अर्थ को व्यक्त करता है।

पहाड़ टूटना

- Ans 1. भारी विपत्ति आना
 2. विपत्ति के समय कोई साथ न देना
 3. खूब लाभ उठाना
 4. पहाड़ टूट कर गिरना

Question ID : 65497834416
Status : Answered
Chosen Option : 1

Q.12 रिक्त स्थान की पूर्ति करने के लिए सर्वाधिक उपयुक्त विकल्प का चयन करें।

भारत का _____ किया गया।

- Ans 1. अभिवादन
 2. समापन
 3. आवभगत
 4. स्वागत

Question ID : 65497834428
Status : Answered
Chosen Option : 3

Q.13 निम्नलिखित प्रश्न में, दिए गए चार विकल्पों में से उस विकल्प का चयन करें, जो मुहावरे के सही अर्थ को व्यक्त करता है।

हाथ मलना-

- Ans 1. हार मान लेना
 2. पछताना
 3. दोनों हाथों को मसलना
 4. खो देना

Question ID : 65497834421
Status : Answered
Chosen Option : 2

Q.14 दिए गए वाक्य में रेखांकित खंड को प्रतिस्थापित करने के लिए सर्वाधिक उपयुक्त विकल्प का चयन करें। यदि इसे प्रतिस्थापित करने की आवश्यकता नहीं है, तो विकल्प 'किसी बदलाव की आवश्यकता नहीं है' का चयन करें।

कई रेलवे के कर्मचारियों की गिरफ्तारी हुई।

- Ans 1. कईयों की रेलवे
 2. किसी बदलाव की आवश्यकता नहीं है।
 3. रेलवे के कई
 4. कई के रेलवे

Question ID : 65497834420
Status : Answered
Chosen Option : 3

Q.15 'गले का हार होना' मुहावरे का सही अर्थ है-

- Ans
- 1. बहुत कीमती होना
 - 2. गहरी मित्रता होना
 - 3. बहुत प्यारा होना
 - 4. समस्या पैदा करना

Question ID : 65497834427
Status : Answered
Chosen Option : 2

Q.16 अशुद्ध वर्तनी वाले शब्द का चयन करें।

- Ans
- 1. महाराजा
 - 2. कौतूहल
 - 3. दयालु
 - 4. कनिष

Question ID : 65497834414
Status : Answered
Chosen Option : 4

Q.17 सही वर्तनी वाले शब्द का चयन करें।

- Ans
- 1. शुसुम्ना
 - 2. सुषुम्ना
 - 3. शुषुम्ना
 - 4. सुशुम्ना

Question ID : 65497834413
Status : Answered
Chosen Option : 3

Q.18 दिए गए वाक्य में रेखांकित खंड को प्रतिस्थापित करने के लिए सर्वाधिक उपयुक्त विकल्प का चयन करें। यदि इसे प्रतिस्थापित करने की आवश्यकता नहीं है, तो विकल्प 'किसी बदलाव की आवश्यकता नहीं है' का चयन करें।

सुधा भूख में बेचैन है।

- Ans
- 1. भूख के
 - 2. भूख से
 - 3. किसी बदलाव की आवश्यकता नहीं है।
 - 4. भूख में

Question ID : 65497834412
Status : Answered
Chosen Option : 2

Q.19 दिए गए वाक्यांश के लिए एक शब्द का चयन करें:

असाधारण मेधा बुद्धि वाला

- Ans
- 1. बुद्धिमान
 - 2. महाज्ञानी
 - 3. बुद्धिशाली
 - 4. मेधावी

Question ID : 65497834417

Status : Answered

Chosen Option : 4

Q.20 रिक्त स्थान की पूर्ति करने के लिए सर्वाधिक उपयुक्त शब्द का चयन कीजिए।

नाटक _____ पर खेला जाता है।

- Ans
- 1. मेज
 - 2. मंच
 - 3. रंगमंच
 - 4. चौराहे

Question ID : 65497834409

Status : Answered

Chosen Option : 3

Comprehension:

दिए गए गद्यांश में से कुछ शब्द हटा दिए गए हैं, दिए गए विकल्पों की सहायता से रिक्त स्थान की पूर्ति करें, प्रत्येक संख्या के लिए सर्वाधिक उपयुक्त विकल्प का चयन करें।

सकारात्मक सोच व्यक्ति को (1) _____ की ओर ले जाती है। कहा भी जाता है कि मन के हारे हार है, मन के जीते (2) _____। जीवन एक संघर्ष है और इसका हमें (3) _____ होकर सामना करना चाहिए। सकारात्मक सोच से ऊर्जा प्राप्त होती है और हमारा (4) _____ बढ़ता है। निराशा हमें कमजोर बनाती है जबकि आशा नई (5) _____ दिखाती है।

SubQuestion No : 21

Q.21 गद्यांश के रिक्त स्थान (1) के लिए सर्वाधिक उपयुक्त शब्द होगा-

- Ans
- 1. पतन
 - 2. असफलता
 - 3. सफलता
 - 4. संघर्ष

Question ID : 65497834430

Status : Answered

Chosen Option : 3

Comprehension:

दिए गए गद्यांश में से कुछ शब्द हटा दिए गए हैं, दिए गए विकल्पों की सहायता से रिक्त स्थान की पूर्ति करें, प्रत्येक संख्या के लिए सर्वाधिक उपयुक्त विकल्प का चयन करें।

सकारात्मक सोच व्यक्ति को (1) _____ की ओर ले जाती है। कहा भी जाता है कि मन के हारे हार है, मन के जीते (2) _____। जीवन एक संघर्ष है और इसका हमें (3) _____ होकर सामना करना चाहिए। सकारात्मक सोच से ऊर्जा प्राप्त होती है और हमारा (4) _____ बढ़ता है। निराशा हमें कमजोर बनाती है जबकि आशा नई (5) _____ दिखाती है।

SubQuestion No : 22

Q.22 गद्यांश के रिक्त स्थान (2) के लिए सर्वाधिक उपयुक्त शब्द होगा-

- Ans
- 1. पीड़ा
 - 2. आनंद
 - 3. जीत
 - 4. प्रसन्नता

Question ID : 65497834431

Status : Answered

Chosen Option : 3

Comprehension:

दिए गए गद्यांश में से कुछ शब्द हटा दिए गए हैं, दिए गए विकल्पों की सहायता से रिक्त स्थान की पूर्ति करें, प्रत्येक संख्या के लिए सर्वाधिक उपयुक्त विकल्प का चयन करें।

सकारात्मक सोच व्यक्ति को (1) _____ की ओर ले जाती है। कहा भी जाता है कि मन के हारे हार है, मन के जीते (2) _____। जीवन एक संघर्ष है और इसका हमें (3) _____ होकर सामना करना चाहिए। सकारात्मक सोच से ऊर्जा प्राप्त होती है और हमारा (4) _____ बढ़ता है। निराशा हमें कमजोर बनाती है जबकि आशा नई (5) _____ दिखाती है।

SubQuestion No : 23

Q.23 गद्यांश के रिक्त स्थान (3) के लिए सर्वाधिक उपयुक्त शब्द होगा-

- Ans
- 1. बेपरवाह
 - 2. भयभीत
 - 3. निडर
 - 4. लापरवाह

Question ID : 65497834432

Status : Answered

Chosen Option : 3

Comprehension:

दिए गए गद्यांश में से कुछ शब्द हटा दिए गए हैं, दिए गए विकल्पों की सहायता से रिक्त स्थान की पूर्ति करें, प्रत्येक संख्या के लिए सर्वाधिक उपयुक्त विकल्प का चयन करें।

सकारात्मक सोच व्यक्ति को (1) _____ की ओर ले जाती है। कहा भी जाता है कि मन के हारे हार है, मन के जीते (2) _____। जीवन एक संघर्ष है और इसका हमें (3) _____ होकर सामना करना चाहिए। सकारात्मक सोच से ऊर्जा प्राप्त होती है और हमारा (4) _____ बढ़ता है। निराशा हमें कमजोर बनाती है जबकि आशा नई (5) _____ दिखाती है।

SubQuestion No : 24

Q.24 गद्यांश के रिक्त स्थान (4) के लिए सर्वाधिक उपयुक्त शब्द होगा-

- Ans
- 1. साम्राज्य
 - 2. दायरा
 - 3. आत्मविश्वास
 - 4. कार्य

Question ID : 65497834433

Status : Answered

Chosen Option : 3

Comprehension:

दिए गए गद्यांश में से कुछ शब्द हटा दिए गए हैं, दिए गए विकल्पों की सहायता से रिक्त स्थान की पूर्ति करें, प्रत्येक संख्या के लिए सर्वाधिक उपयुक्त विकल्प का चयन करें।

सकारात्मक सोच व्यक्ति को (1) _____ की ओर ले जाती है। कहा भी जाता है कि मन के हारे हार है, मन के जीते (2) _____। जीवन एक संघर्ष है और इसका हमें (3) _____ होकर सामना करना चाहिए। सकारात्मक सोच से ऊर्जा प्राप्त होती है और हमारा (4) _____ बढ़ता है। निराशा हमें कमजोर बनाती है जबकि आशा नई (5) _____ दिखाती है।

SubQuestion No : 25

Q.25 गद्यांश के रिक्त स्थान (5) के लिए सर्वाधिक उपयुक्त शब्द होगा-

- Ans
- 1. दुनिया
 - 2. जीवन
 - 3. राह
 - 4. बात

Question ID : 65497834434

Status : Answered

Chosen Option : 3