

Constable GD in CAPFs NIA SSF and Rifleman GD in Assam Rifles Examination 2021

Roll Number	www.GovtJobsAlert.In
Candidate Name	www.GovtJobsAlert.In
Venue Name	iON Digital Zone iDZ Mathura Road
Exam Date	09/12/2021
Exam Time :	4:00 PM - 5:30 PM
Subject	Constable GD 2021

Section : Part A General Intelligence and Reasoning

Q.1 'मुद्रास्फुति' का जो संबंध 'अपस्फुति' से है वही संबंध 'त्वरित' का '____' से है।

Ans 1. प्रतिवर्त

2. तीव्र

3. मंदी

4. दौड़

Question ID : 65497834059

Status : Answered

Chosen Option : 3

Q.2 किसी कूट भाषा में, ALMOND को BMNPOE के रूप में लिखा जाता है। उसी भाषा में MENTAL को किस प्रकार से लिखा जाएगा?

Ans 1. NFOUBM

2. NFOOBM

3. FNOOMB

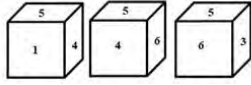
4. FNOOBM

Question ID : 65497834067

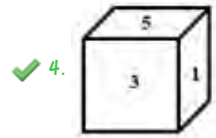
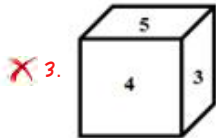
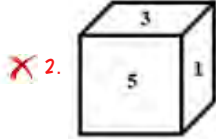
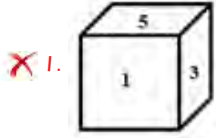
Status : Answered

Chosen Option : 1

9.3 एक ही पासे की तीन विभिन्न स्थितियाँ दर्शाई गई हैं। इस पासे को अगली बार घुमाने पर इसकी आने वाली स्थिति का चयन करें।



Ans



Question ID : 65497834065
Status : Answered
Chosen Option : 4

9.4 दिए गए विकल्पों में से उस संख्या का चयन करें जो निम्नलिखित श्रृंखला में प्रश्न चिह्न (?) के स्थान पर आ सकती है।

2, 6, 12, ?, 30

Ans

✓ 1. 20

✗ 2. 24

✗ 3. 18

✗ 4. 26

Question ID : 65497834074
Status : Answered
Chosen Option : 1

9.5 चार अक्षर-समूह दिए गए हैं, जिनमें से तीन किसी तरह से एक समान हैं और एक असंगत है। उस अक्षर-समूह का चयन करें जो असंगत है।

Ans

✗ 1. RTUS

✗ 2. KMNL

✗ 3. JLMK

✓ 4. OQSP

Question ID : 65497834072
Status : Answered
Chosen Option : 4

Q.6 छह लड़कियां, P, Q, R, S, T और U दो पंक्तियों में बैठी हैं। एक पंक्ति दूसरी पंक्ति के पीछे है। सभी लड़कियां उत्तर दिशा की ओर अभिमुख हैं। आगे की पंक्ति में तीन लड़कियां हैं। शेष लड़कियां दूसरी पंक्ति में बैठी हैं। T ठीक P के पीछे बैठी है। R ठीक U के बाएं पड़ोस में बैठी है। S ठीक T और Q के बीच में बैठी है। S ठीक Q के बाएं पड़ोस में बैठी है। R के ठीक पीछे कौन सी लड़की बैठी है?

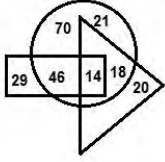
- Ans
- 1. ज्ञात नहीं किया जा सकता है
 - 2. P
 - 3. Q
 - 4. S

Question ID : 65497834060

Status : Answered

Chosen Option : 4

Q.7 निम्नलिखित चित्र में, आयत, 'योग शिक्षकों' को दर्शाता है, वृत्त, 'भारतीयों' को दर्शाता है और विभुज, 'सामाजिक कार्यकर्ताओं' को दर्शाता है। विभिन्न खंडों में दी गई संख्याएँ उस श्रेणी के व्यक्तियों की संख्या को दर्शाती हैं।



कितने भारतीय सामाजिक कार्यकर्ता है लेकिन योग शिक्षक नहीं हैं?

- Ans
- 1. 14
 - 2. 20
 - 3. 18
 - 4. 21

Question ID : 65497834061

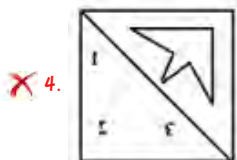
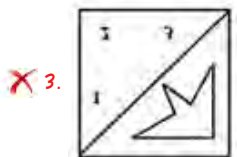
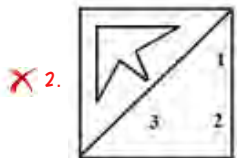
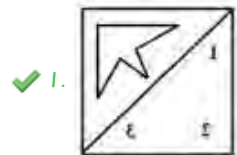
Status : Answered

Chosen Option : 3

Q.8 दर्पण को आकृति के दाईं ओर रखे जाने पर, दी गई आकृति का दर्पण में निर्मित सही प्रतिबिंब चयनित करें।



Ans



Question ID : 65497834075

Status : Answered

Chosen Option : 1

Q.9 उस विकल्प का चयन करें जो तीसरे पद से उसी प्रकार संबंधित है जिस प्रकार दूसरा पद पहले पद से संबंधित है।

MUSCLE : CSMEUL :: WONDER : ?

Ans ✗ 1. DWNERO

✓ 2. DNWROE

✗ 3. NOEWD R

✗ 4. DNORWE

Question ID : 65497834076

Status : Answered

Chosen Option : 2

Q.10 M, N, O और P एक गोल कार्यालय-मेज़ के परितः एक दूसरे से समान दूरी पर बैठे हैं। E, F, G और H भी बैठक में सम्मिलित हो गए हैं। M, F के सामने और O और G के बीच में बैठा है। P, G के दाईं ओर दूसरे स्थान पर और H के बाईं ओर तीसरे स्थान पर बैठा है। यदि N, H के सामने बैठा है, तो F के पड़ोस में कौन से 2 लोग बैठे हैं?

- Ans
- 1. H, P
 - 2. P, E
 - 3. E, N
 - 4. O, H

Question ID : 65497834062

Status : Answered

Chosen Option : 2

Q.11 दिए गए विकल्पों में से उस अक्षर-समूह का चयन करें जो निम्नलिखित श्रेणी में प्रश्नवाचक चिह्न (?) के स्थान पर आ सकता है।

TH, VJ, YM, ?, HV

- Ans
- 1. DR
 - 2. BR
 - 3. HS
 - 4. CO

Question ID : 65497834058

Status : Answered

Chosen Option : 4

Q.12 दिए गए कथनों और निष्कर्षों को ध्यानपूर्वक पढ़ें। यह मानते हुए कि कथनों में दी गई सूचना सही है, भले ही वह सामान्य रूप से ज्ञात तथ्यों से भिन्न प्रतीत होती हो, और यह निर्धारित करें कि दिए गए निष्कर्षों में से कौन-सा/से निष्कर्ष कथनों का तार्किक रूप से अनुसरण करता है/करते हैं।

कथन:

सभी पुस्तकें रजिस्टर हैं।
सभी रजिस्टर पेंसिल हैं।

निष्कर्ष:

- I. सभी पुस्तकें पेंसिल हैं।
- II. कोई भी रजिस्टर कलम नहीं है।

- Ans
- 1. केवल निष्कर्ष I अनुसरण करता है।
 - 2. केवल निष्कर्ष II अनुसरण करता है।
 - 3. या तो निष्कर्ष I या निष्कर्ष II अनुसरण करता है।
 - 4. दोनों निष्कर्ष अनुसरण करते हैं।

Question ID : 65497834068

Status : Answered

Chosen Option : 1

Q.13 निम्नलिखित विकल्पों में से उस विकल्प का चयन करें, जो दिए गए शब्दों के उस सही क्रम को दर्शाता है, जिस क्रम में ये शब्द अंग्रेजी शब्दकोश में दिखाई देते हैं।

1. Prelude
2. Pressure
3. Presume
4. Product
5. Profess

- Ans
- 1. 1, 2, 3, 5, 4
 - 2. 1, 2, 4, 3, 5
 - 3. 1, 2, 3, 4, 5
 - 4. 1, 4, 2, 3, 5

Question ID : 65497834054
Status : Answered
Chosen Option : 3

Q.14 उस विकल्प का चयन करें जो तीसरी संख्या से उसी प्रकार संबंधित है जिस प्रकार दूसरी संख्या पहली संख्या से संबंधित है।

9 : 107 :: 8 : ?

- Ans
- 1. 112
 - 2. 96
 - 3. 100
 - 4. 98

Question ID : 65497834063
Status : Answered
Chosen Option : 4

Q.15 एक निश्चित कूट भाषा में, CHAMPION को NIMHOPAC के रूप में लिखा जाता है। उसी भाषा में CHILDREN को किस रूप में लिखा जाएगा?

- Ans
- 1. RENDLIHC
 - 2. DLIHCNER
 - 3. NRLHEDIC
 - 4. IENRDLHC

Question ID : 65497834077
Status : Answered
Chosen Option : 3

Q.16 यदि 'P' 'जोड़' को निर्दिष्ट करता है, 'D' 'घटाने' को निर्दिष्ट करता है, 'S' 'गुणा' को निर्दिष्ट करता है, और 'V' 'भाग' को निर्दिष्ट करता है, तो निम्नलिखित व्यंजक का मान क्या होगा?

5 (7 S 3) D 3 (8 P 6) V 7 D 11 (3 S 13 S 2) P 2 (4 I S 9)

- Ans
- 1. 39
 - 2. -93
 - 3. 21
 - 4. -21

Question ID : 65497834064
Status : Answered
Chosen Option : 4

Q.17 जब एक संख्या को उसकी अगली संख्या में जोड़ा जाता है और उनको अन्य एक संख्या में जोड़ा जाता है जो कि उस अगली संख्या की 2 गुनी है, तो इन तीनों संख्याओं का योग 35 होता है। वह संख्या बताइए।

Ans 1.8

2.6

3.7

4.9

Question ID : 65497834070

Status : Answered

Chosen Option : 1

Q.18 एक निश्चित कूट भाषा में, ANGER को 45 के रूप में कूटबद्ध किया जाता है। उसी भाषा में CRUEL को किस रूप में कूटबद्ध किया जाएगा?

Ans 1.58

2.56

3.59

4.55

Question ID : 65497834073

Status : Answered

Chosen Option : 3

Q.19 दिए गए पैटर्न का ध्यानपूर्वक अध्ययन करें और उस संख्या का चयन करें जो इसमें प्रश्न चिह्न (?) के स्थान पर आ सकती है।

14 10 38

15 20 50

16 30 ?

Ans 1.64

2.60

3.58

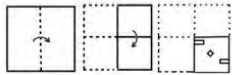
4.62

Question ID : 65497834069

Status : Answered

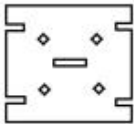
Chosen Option : 4

Q.20 नीचे दी गई आकृतियों में कागज़ के एक टुकड़े को मोड़ने और मोड़े गए कागज़ को काटने के तरीके का क्रम दर्शाया गया है। कागज़ को खोले जाने पर वह कैसा दिखाई देगा?

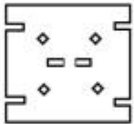


Ans

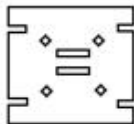
1.



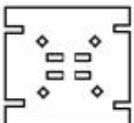
2.



3.



4.



Question ID : 65497834071

Status : Answered

Chosen Option : 3

Q.21 अक्षरों के उस संयोजन का चयन करें, जिन्हें जब दी गई श्रृंखला के रिक्त स्थानों में क्रमिक रूप से रखा जाए, तो श्रृंखला पूर्ण होगी।

Y _ D P _ A _ P Y A D _ Y A _ P

Ans

1. P Y D P D

2. A Y P D Y

3. A Y D P D

4. A Y D P Y

Question ID : 65497834055

Status : Answered

Chosen Option : 3

Q.22 M, S का इकलौता बेटा है। F, Y की बेटी है और P की इकलौती भतीजी/भांजी है। P, S की इकलौती बेटी है। Y का संबंध M के साथ किस रूप में है?

Ans

1. ममेरी बहन

2. बहन

3. पत्नी

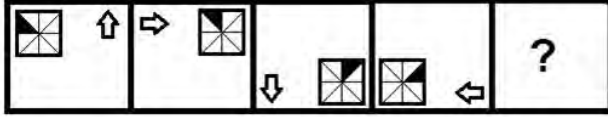
4. चाची

Question ID : 65497834078

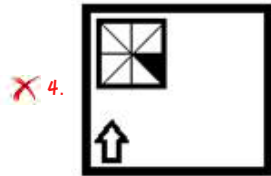
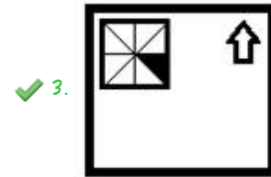
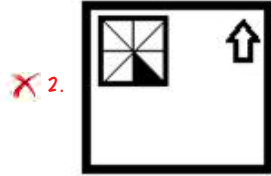
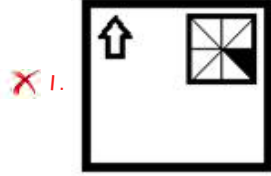
Status : Answered

Chosen Option : 4

9.23 निम्नांकित आकृति शृंखला में प्रश्नचिह्न (?) के स्थान पर आने वाली आकृति का चयन करें।



Ans

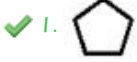


Question ID : 65497834057
Status : Answered
Chosen Option : 3

Q.24 उस विकल्प का चयन करें जो दी गई आकृति में अंतर्निहित है (आकृति को घुमाने की अनुमति नहीं है)।



Ans



Question ID : 65497834066

Status : Answered

Chosen Option : 1

Q.25 दिए गए विकल्पों में से उस संख्या का चयन करें, जो निम्नलिखित श्रृंखला में प्रश्नवाचक चिह्न (?) के स्थान पर आ सकती है।

15, 30, 50, 75, 105, ?, 180

Ans

✓ 1. 140

✗ 2. 155

✗ 3. 98

✗ 4. 108

Question ID : 65497834056

Status : Answered

Chosen Option : 1

Section : Part B General Knowledge and General Awareness

Q.1 अमेरिकी भूविज्ञानी चार्ल्स वेल्ड और दोराबजी टाटा ने लोहे के अयस्कों की खोज कहां की थी?

Ans

✓ 1. राजहारा की पहाड़ियां

✗ 2. बैलाडिला

✗ 3. बोरिया टिब्बू

✗ 4. एकलामा

Question ID : 65497834099

Status : Answered

Chosen Option : 3

Q.2 29 सितंबर, 2020 को विश्व हृदय दिवस के अवसर पर, वर्ल्ड हार्ट फेडरेशन (WHF) द्वारा विश्व स्वास्थ्य संगठन (WHO) के साथ मिलकर, विश्व में किस हृदय रोग को मृत्यु का सबसे प्रमुख कारण घोषित किया गया था?

- Ans
- 1. अतालता (Arrhythmia)
 - 2. कार्डियोवैस्कुलर रोग (CVD)
 - 3. कार्डियोमायोपैथी
 - 4. कोरोनरी धमनी रोग (CAD)

Question ID : 65497834083
Status : Answered
Chosen Option : 2

Q.3 निम्नलिखित में से कौन, भारत के सर्वोच्च नागरिक सम्मान, भारत रत्न से सम्मानित होने वाले/वाली पहले/पहली संगीतकार थे/थी?

- Ans
- 1. पंडित भीमसेन गुरुराज जोशी
 - 2. बीएम बालमुरलीकृष्ण
 - 3. लता मंगेशकर
 - 4. एमएस सुब्बुलक्ष्मी

Question ID : 65497834084
Status : Answered
Chosen Option : 1

Q.4 निम्नलिखित में से कौन सा कथन गलत है?

- Ans
- 1. राजकोषीय नीति, सरकार के कराधान और व्यय निर्णयों से संबंधित है।
 - 2. मौद्रिक नीति, अर्थव्यवस्था में धन की आपूर्ति और ब्याज की दर से संबंधित है।
 - 3. राजकोषीय नीति में कर नीति, व्यय नीति, निवेश या विनिवेश रणनीति और ऋण या अधिशेष प्रबंधन शामिल हैं।
 - 4. अधिकांश आधुनिक अर्थव्यवस्थाओं में, केंद्रीय बैंक राजकोषीय नीति से संबंधित है, जबकि सरकार मौद्रिक नीति के लिए उत्तरदायी है।

Question ID : 65497834103
Status : Answered
Chosen Option : 1

Q.5 भारत ने _____ 2020 में विश्व जैव ईंधन दिवस मनाया।

- Ans
- 1. जुलाई
 - 2. अगस्त
 - 3. मई
 - 4. अक्टूबर

Question ID : 65497834088
Status : Answered
Chosen Option : 3

Q.6 कौन-सा शहर 24 अगस्त से 5 सितंबर तक, 2021 ग्रीष्मकालीन पैरालंपिक की मेजबानी करेगा?

- Ans
- 1. टोरंटो
 - 2. अटलांटा
 - 3. बीजिंग
 - 4. टोक्यो

Question ID : 65497834079
Status : Answered
Chosen Option : 4

Q.7 अरब सागर का कौन सा द्वीपीय देश भारत का पड़ोसी है?

- Ans
- 1. मालदीव
 - 2. इंडोनेशिया
 - 3. श्रीलंका
 - 4. म्यांमार

Question ID : 65497834097
Status : Answered
Chosen Option : 1

Q.8 पांचवीं से चौथी शताब्दी ईसा पूर्व के आसपास बुद्ध के उपदेशों का संकलन निम्नलिखित में से कौन-सा था?

- Ans
- 1. तत्त्वार्थ
 - 2. त्रिपिटक
 - 3. अवेस्ता
 - 4. अष्टांगहृदयम्

Question ID : 65497834082
Status : Answered
Chosen Option : 2

Q.9 नवम्बर 2020 तक की स्थिति के अनुसार, सरस्वती सम्मान एक वार्षिक पुरस्कार है जो भारतीय संविधान की आठवीं अनुसूची में सूचीबद्ध _____ भारतीय भाषाओं में से किसी में भी गद्य या पद्य में असाधारण साहित्यिक कार्य के लिए दिया जाता है।

- Ans
- 1. 18
 - 2. 22
 - 3. 20
 - 4. 24

Question ID : 65497834090
Status : Answered
Chosen Option : 2

Q.10 निम्नलिखित में से कौन सा स्मारक लखनऊ में स्थित है?

- Ans 1. बड़ा इमामबाड़ा
 2. महाबत मक़बरा
 3. अजंता एलोरा की गुफाएं
 4. गोलकोंडा किला

Question ID : 65497834093
Status : Answered
Chosen Option : 2

Q.11 भारतीय संविधान का एक सौ तीनवां संशोधन सरकारी नौकरियों और शैक्षिक संस्थानों में _____ के लिए आरक्षण प्रदान करता है।

- Ans 1. आर्थिक रूप से कमजोर वर्ग
 2. अनुसूचित जाति/जनजाति
 3. अन्य पिछड़ा वर्ग
 4. अल्पसंख्यकों

Question ID : 65497834101
Status : Answered
Chosen Option : 2

Q.12 रग्बी विश्व कप 2019 किसने जीता था?

- Ans 1. दक्षिण अफ्रीका
 2. फ्रांस
 3. ऑस्ट्रेलिया
 4. न्यूजीलैंड

Question ID : 65497834096
Status : Answered
Chosen Option : 2

Q.13 भारतीय कृषि अनुसंधान परिषद (ICAR) का राष्ट्रीय केला अनुसंधान केंद्र कहाँ स्थापित किया गया है?

- Ans 1. तिरुचिरापल्ली, तमिलनाडु
 2. जलगाँव, महाराष्ट्र
 3. हाजीपुर, बिहार
 4. बेलगाम, कर्नाटक

Question ID : 65497834086
Status : Answered
Chosen Option : 1

Q.14 थरवोय कंदिगई-कन्ननकोट्टई (Thervoy Kandigai-Kannankottai) जलाशय निम्नलिखित में से किस राज्य में स्थित है?

- Ans
- 1. मध्य प्रदेश
 - 2. तमिलनाडु
 - 3. महाराष्ट्र
 - 4. कर्नाटक

Question ID : 65497834094
Status : Answered
Chosen Option : 2

Q.15 बाटा शू आर्गनाईजेशन के वैश्विक मुख्य कार्यकारी अधिकारी (CEO) कौन बने?

- Ans
- 1. संदीप कटारिया
 - 2. थॉमस जॉर्ज बाटा
 - 3. अश्वनी विंडल्स
 - 4. एलेक्सिस नसरद

Question ID : 65497834102
Status : Answered
Chosen Option : 1

Q.16 निम्नलिखित में से किसे विटामिन B2 के नाम से भी जाना जाता है?

- Ans
- 1. नियासिनामाइड
 - 2. राइबोफ्लेविन
 - 3. थायमिन
 - 4. साइनोकोबालामीन

Question ID : 65497834081
Status : Answered
Chosen Option : 3

Q.17 नवंबर 2020 तक की स्थिति के अनुसार, ₹ _____ करोड़ से कम टर्नओवर वाली भारतीय फर्म पर कॉर्पोरेट टैक्स नहीं लगाया जाता है।

- Ans
- 1. 2.5
 - 2. 2
 - 3. 1
 - 4. 1.5

Question ID : 65497834080
Status : Answered
Chosen Option : 1

9.18 निम्नलिखित में से कौन सा समारोह मुख्यतः ओडिशा से संबंधित है?

- Ans
- 1. बालि यात्रा
 - 2. कांग चिंगबा
 - 3. अंबुबाची मेला
 - 4. होला मोहल्ला

Question ID : 65497834087
Status : Answered
Chosen Option : 1

9.19 निम्नलिखित में से किसने 2020 का बुकर पुरस्कार जीता था?

- Ans
- 1. एना बर्न्स
 - 2. बर्नार्डिन एवरिस्टो
 - 3. जॉर्ज सॉन्डर्स
 - 4. डगलस स्टुअर्ट

Question ID : 65497834085
Status : Answered
Chosen Option : 2

9.20 पंजाब के किस जिले में भारतीय सैनिकों के कंकाल के अवशेष थे, जिन्हें ब्रिटिश सैनिकों ने 1857 में प्रथम स्वतंत्रता संग्राम में भाग लेने के लिए मार दिया था, इन्हें मार्च 2014 में खोजा गया था?

- Ans
- 1. जालंधर
 - 2. अमृतसर
 - 3. बठिंडा
 - 4. पटियाला

Question ID : 65497834100
Status : Answered
Chosen Option : 2

9.21 निम्नलिखित में से कौन-सा ध्वनि तरंगों का एक अभिलक्षण नहीं है?

- Ans
- 1. प्रगामी
 - 2. यांत्रिक
 - 3. विद्युतचुंबकीय
 - 4. अनुदैर्घ्य

Question ID : 65497834089
Status : Answered
Chosen Option : 1

9.22 डायना पुरस्कार 2020 से किसे सम्मानित किया गया है?

- Ans
- 1. समर्थ जोशी
 - 2. बिमल जालान
 - 3. फ्रीया ठकराल
 - 4. सी. रंगराजन

Question ID : 65497834095
Status : Answered
Chosen Option : 3

Q.23 निम्नलिखित में से किस वर्ष में औरंगजेब के आदेश पर सिखों के नौवें गुरु श्री गुरु तेग बहादुर की हत्या कर दी गई थी?

- Ans
- 1. 1745
 - 2. 1675
 - 3. 1689
 - 4. 1539

Question ID : 65497834092
Status : Answered
Chosen Option : 2

Q.24 निम्नलिखित में से कौन सा विश्वविद्यालय वर्ष 2020 में 'मौलाना अबुल कलाम आज़ाद (MAKA) ट्रॉफी' का प्राप्तकर्ता था?

- Ans
- 1. गुरु नानक देव विश्वविद्यालय, अमृतसर
 - 2. पंजाबी विश्वविद्यालय, पटियाला
 - 3. पंजाब कृषि विश्वविद्यालय, लुधियाना
 - 4. पंजाब विश्वविद्यालय, चंडीगढ़

Question ID : 65497834098
Status : Answered
Chosen Option : 4

Q.25 केंद्रीय अप्रत्यक्ष कर और सीमा शुल्क बोर्ड (CBIC) के अध्यक्ष कौन हैं?

- Ans
- 1. अमित शाह
 - 2. राजीव कुमार
 - 3. अजित कुमार
 - 4. अशोक लवासा

Question ID : 65497834091
Status : Answered
Chosen Option : 4

Section : Part C Elementary Mathematics

Q.1 एक लंब वृत्तीय शंकु का आयतन 924 cm^3 है और इसकी ऊंचाई 18 cm है। शंकु के आधार का परिमाण (cm में) ज्ञात करें। ($\pi = \frac{22}{7}$ लीजिए)

- Ans
- 1. 33
 - 2. 66
 - 3. 44
 - 4. 22

Question ID : 65497834128
Status : Answered
Chosen Option : 3

Q.2 एक सेल्समैन ने एक घड़ी 9% हानि पर बेची। यदि विक्रय मूल्य ₹140 अधिक होता, तो 5% का लाभ होता। घड़ी का लागत मूल्य कितना था?

- Ans
- 1. ₹1,150
 - 2. ₹1,000
 - 3. ₹900
 - 4. ₹1,200

Question ID : 65497834125
Status : Answered
Chosen Option : 2

Q.3 एक धन-राशि को A, B, C और D के बीच क्रमशः 4 : 7 : 11 : 13 के अनुपात में वितरित किया गया है। यदि C को B से ₹2,800 अधिक मिलते हैं, तो A के हिस्से और D के हिस्से के बीच कितना अंतर है?

- Ans
- 1. ₹6,300
 - 2. ₹6,200
 - 3. ₹5,200
 - 4. ₹4,800

Question ID : 65497834117
Status : Answered
Chosen Option : 1

Q.4 स्थिर जल में एक नाव की चाल 9 km/h है। यदि यह धारा की दिशा में 35 km जाने में और धारा की विपरीत दिशा में 28 km जाने में समान समय लेती है, तो धारा की चाल (km/h में) कितनी है?

- Ans
- 1. 1.5
 - 2. 0.5
 - 3. 1.2
 - 4. 1

Question ID : 65497834112
Status : Answered
Chosen Option : 4

Q.5 एकसमान जल प्रवाह वाले 8 नल किसी टंकी को 27 मिनट में भरते हैं। 3 मिनट के बाद, 2 नल बंद हो जाते हैं। शेष नलों द्वारा टंकी को भरने में लगने वाला समय ज्ञात करें।

- Ans
- 1. 36 मिनट
 - 2. 28 मिनट
 - 3. 30 मिनट
 - 4. 32 मिनट

Question ID : 65497834124
Status : Answered
Chosen Option : 4

Q.6 यदि 12 वस्तुओं का विक्रय मूल्य 15 वस्तुओं के क्रय मूल्य के बराबर है, तो लाभ प्रतिशत कितना है?

- Ans
- 1. 20%
 - 2. 3%
 - 3. 27%
 - 4. 25%

Question ID : 65497834104

Status : Answered

Chosen Option : 4

Q.7 सत्ताइस वर्ष पहले, विवाह के समय एक दंपति की औसत आयु 25 वर्ष थी। अब उनकी 25 वर्ष की एक बेटी है। परिवार की औसत आयु कितनी है?

- Ans
- 1. 52 वर्ष
 - 2. 43 वर्ष
 - 3. 36 वर्ष
 - 4. 41 वर्ष

Question ID : 65497834108

Status : Answered

Chosen Option : 2

Q.8 सुशांत के पास जो धन था, उसमें से उसने 30% अपनी पत्नी को दे दिया। अपने दो पुत्रों में से प्रत्येक को उसने शेष राशि में से 18% दिए। अब शेष बची राशि की तीन-चौथाई राशि विविध मदों में खर्च हुई और ₹19,600 की शेष राशि को बैंक में जमा करा दिया गया। आरंभ में सुशांत के पास कितनी राशि थी?

- Ans
- 1. ₹1,65,000
 - 2. ₹1,70,000
 - 3. ₹1,80,000
 - 4. ₹1,75,000

Question ID : 65497834120

Status : Not Answered

Chosen Option : --

Q.9 राधा ने ₹19200 का ऋण लिया जिसमें से कुछ धनराशि 4% वार्षिक साधारण ब्याज पर और शेष धनराशि 7% वार्षिक साधारण ब्याज पर थी। उसने 5 साल के बाद ब्याज के रूप में कुल ₹5520 का भुगतान किया। ब्याज की दो अलग-अलग दरों पर उधार ली गई धनराशि में (₹ में) कितना अंतर है?

- Ans
- 1. 3200
 - 2. 4000
 - 3. 2000
 - 4. 3600

Question ID : 65497834116

Status : Not Answered

Chosen Option : --

Q.10 एक माली एक बगीचे में पेड़ लगाना चाहता है। यदि प्रत्येक पंक्ति में पेड़ों की संख्या समान है, और 105 या 210 या 315 या 525 पंक्तियाँ हैं, और उसके बाद कोई पेड़ शेष नहीं रहता है, तो लगाए जाने वाले पेड़ों की निम्नतम संख्या क्या होगी?

- Ans
- 1. 3150
 - 2. 2100
 - 3. 1000
 - 4. 1525

Question ID : 65497834113
Status : Answered
Chosen Option : 1

Q.11 गगन ने 8% वार्षिक चक्रवृद्धि ब्याज दर पर ₹2,500 की राशि उधार ली। उसने पहले वर्ष के अंत में ₹1,000 और दूसरे वर्ष के अंत में ₹500 का भुगतान किया। 4 वर्ष के अंत में अपना बकाया चुकाने के लिए उसे कितना भुगतान (निकटतम रूप में) करना होगा?

- Ans
- 1. ₹1,443
 - 2. ₹1,628
 - 3. ₹1,800
 - 4. ₹1,558

Question ID : 65497834105
Status : Not Answered
Chosen Option : --

Q.12 निम्नलिखित समीकरण का मान ज्ञात कीजिए।

$$\frac{\frac{1}{4} \div \frac{1}{2} \times 1\frac{1}{3}}{\frac{3}{4} \text{ of } 8 \div 2} + 6 \div 3 \times 2$$

- Ans
- 1. $4\frac{1}{8}$
 - 2. $1\frac{1}{8}$
 - 3. $4\frac{2}{9}$
 - 4. $1\frac{2}{9}$

Question ID : 65497834106
Status : Answered
Chosen Option : 3

Q.13 एक घड़ी का अंकित मूल्य ₹700 है। एक दुकानदार दो क्रमिक छूट देता है और घड़ी को ₹315 में बेच देता है। यदि पहली छूट 10% है, तो दूसरी छूट कितनी होगी?

- Ans
- 1. 60%
 - 2. 35%
 - 3. 25%
 - 4. 50%

Question ID : 65497834121
Status : Answered
Chosen Option : 4

Q.14 8 वस्तुओं का विक्रय मूल्य 12 वस्तुओं के क्रय मूल्य के बराबर है। लाभ प्रतिशत ज्ञात करें।

- Ans
- 1. 50%
 - 2. 27%
 - 3. 90%
 - 4. 25%

Question ID : 65497834123
Status : Answered
Chosen Option : 1

Q.15 A, B और C एक साथ मिलकर काम करके किसी कार्य को 16 दिन में पूरा कर सकते हैं। यदि A और B एक साथ मिलकर काम करें, तो वे उसी कार्य को 18 दिन में पूरा कर सकते हैं। यदि B और C एक साथ मिलकर काम करें, तो वे उसी कार्य को 24 दिन में पूरा कर सकते हैं। A और C एक साथ मिलकर इस कार्य को कितने दिनों में पूरा कर सकते हैं?

- Ans
- 1. 36
 - 2. 21
 - 3. 54
 - 4. 26

Question ID : 65497834111
Status : Answered
Chosen Option : 1

Q.16 एक दुकानदार ने 20% की छूट (डिस्काउंट) पर कुछ सामान खरीदा। उसने अपने ग्राहकों को अंकित मूल्य पर 10% की छूट दी। उसका लाभ प्रतिशत क्या है?

- Ans
- 1. 12.5
 - 2. 30
 - 3. 10
 - 4. 11.9

Question ID : 65497834109
Status : Answered
Chosen Option : 1

Q.17 व्यंजक $2 \div 2 \text{ of } \frac{1}{2} + 2.5 \times 2 \div 5 \times \frac{3}{5} \text{ of } \frac{1}{3} - 0.5(2.5 - \frac{1}{2} \times 2 \div \frac{1}{2})$, को सरल करने पर _____ परिणाम प्राप्त होगा।

- Ans
- 1. $\frac{2}{3}$
 - 2. 1
 - 3. 0
 - 4. 6.75

Question ID : 65497834122
Status : Answered
Chosen Option : 2

Q.18 संख्या 5, 8, 15 के चतुर्थ समानुपाती और संख्या 12 और 30 के तृतीय समानुपाती का अनुपात ज्ञात करें।

- Ans
- 1. 4 : 9
 - 2. 6 : 17
 - 3. 5 : 13
 - 4. 8 : 25

Question ID : 65497834126
Status : Answered
Chosen Option : 1

Q.19 यदि संख्या A का 78% किसी अन्य संख्या B के 32.5% के बराबर है, तो B का A से अनुपात क्या है?

- Ans
- 1. 12 : 5
 - 2. 5 : 12
 - 3. 4 : 7
 - 4. 7 : 4

Question ID : 65497834115
Status : Answered
Chosen Option : 1

Q.20 किसी स्कूल में विद्यार्थियों की औसत आयु 13.2 वर्ष है। लड़कों की औसत आयु 14.4 वर्ष है और लड़कियों की औसत आयु 12.3 वर्ष है। लड़कियों की संख्या का लड़कों की संख्या से अनुपात ज्ञात करें।

- Ans
- 1. 3 : 4
 - 2. 4 : 1
 - 3. 4 : 3
 - 4. 1 : 4

Question ID : 65497834114
Status : Answered
Chosen Option : 3

Q.21 एक गोले का आयतन, 6 cm त्रिज्या और 8 cm ऊँचाई वाले बेलन के आयतन के बराबर है। गोले का व्यास कितना है?

- Ans
- 1. 12 cm
 - 2. 14 cm
 - 3. 16 cm
 - 4. 18 cm

Question ID : 65497834118
Status : Answered
Chosen Option : 1

Q.22 एक व्यक्ति किसी निश्चित दूरी को एकसमान चाल से 5 घंटे में तय करता है। यदि वह अपनी चाल में 1 km/h की वृद्धि कर देता है, तो वह उस दूरी को तय करने में 10 मिनट कम लेता है। उस व्यक्ति की चाल (km/h में) कितनी है?

- Ans
- 1. 30
 - 2. 29
 - 3. 28
 - 4. 25

Question ID : 65497834107
Status : Not Answered
Chosen Option : --

Q.23 वह सबसे छोटी संख्या ज्ञात करें, जिसे 6, 9, 15, 18 और 21 से विभाजित करने पर प्रत्येक बार शेषफल 4 प्राप्त हो।

- Ans
- 1. 734
 - 2. 634
 - 3. 636
 - 4. 624

Question ID : 65497834119
Status : Answered
Chosen Option : 2

Q.24 एक प्रत्याशी को चुनाव में 41,250 मत मिले और उसने अपने विरोधी को 7,500 मतों के अंतर से हरा दिया। यदि कोई भी मत अमान्य घोषित नहीं किया गया और चुनाव में केवल दो प्रत्याशी थे, तो विजेता प्रत्याशी को मिले मतों का प्रतिशत क्या है?

- Ans
- 1. 65
 - 2. 55
 - 3. 60
 - 4. 75

Question ID : 65497834110
Status : Answered
Chosen Option : 2

Q.25 यदि ब्याज वार्षिक रूप से चक्रवृद्धि किया जाए, तो एक निश्चित मूलधन 4 वर्षों में 10% वार्षिक दर से ₹14,641 का मिश्रधन हो जाता है। समान मूलधन पर $3\frac{1}{2}$ वर्ष के लिए समान ब्याज दर से साधारण ब्याज ज्ञात करें।

- Ans
- 1. ₹3,000
 - 2. ₹4,200
 - 3. ₹2,800
 - 4. ₹3,500

Question ID : 65497834127
Status : Not Answered
Chosen Option : --

Section : Part D English

Q.1 Select the most appropriate meaning of the given idiom.

To know what's what

- Ans
- 1. To know the facts of a situation
 - 2. To be in a difficult situation
 - 3. To be overconfident
 - 4. To be very rude

Question ID : 65497834142
Status : Answered
Chosen Option : 1

Q.2 The following sentence has been split into four segments. Identify the segment that contains a grammatical error.

If he were / to climb the tree / and bring the kitty down, / the child was happy.

- Ans
- 1. If he were
 - 2. and bring the kitty down
 - 3. the child was happy
 - 4. to climb the tree

Question ID : 65497834146
Status : Answered
Chosen Option : 3

Q.3 The following sentence has been divided into parts. One of them may contain an error. Select the part that contains the error from the given options. If you don't find any error, select 'No error' as your answer.

He worked so hardly / that he won / the dance competition.

- Ans
- 1. that he won
 - 2. He worked so hardly
 - 3. the dance competition
 - 4. No error

Question ID : 65497834129
Status : Answered
Chosen Option : 2

Q.4 Select the most appropriate option that can substitute the underlined word in the given sentence. If there is no need to substitute it, select 'No substitution required'.

The Prime Minister as well as his ministers want peace in the country.

- Ans
- 1. wants
 - 2. No substitution required
 - 3. are wanting
 - 4. have wanted

Question ID : 65497834144
Status : Answered
Chosen Option : 1

Q.5 Select the most appropriate option that can substitute the underlined segment in the given sentence. If there is no need to substitute it, select 'No substitution required'.

We must prayed at the Almighty for the well-being of all family members.

- Ans
- 1. No substitution required
 - 2. pray to
 - 3. be praying at
 - 4. pray from

Question ID : 65497834143
Status : Answered
Chosen Option : 2

Q.6 Select the option that can be used as a one-word substitute for the given group of words.

Sound reflected back as in mountains

- Ans
- 1. Eclipse
 - 2. Éclair
 - 3. Echo
 - 4. Ebony

Question ID : 65497834132
Status : Answered
Chosen Option : 2

Q.7 Select the INCORRECTLY spelt word.

- Ans
- 1. Glorious
 - 2. ConscIOUS
 - 3. Vicious
 - 4. CourtIOUS

Question ID : 65497834133
Status : Answered
Chosen Option : 4

Q.8 Select the most appropriate synonym of the given word.

Jubilation

- Ans
- 1. Submission
 - 2. Servitude
 - 3. Rejoicing
 - 4. Subjugation

Question ID : 65497834137
Status : Answered
Chosen Option : 3

Q.9 The following sentence has been split into four segments. Identify the segment that contains a grammatical error.

Beside doing the laundry, / Rakesh helped her / in cooking also / when she was ill.

- Ans
- 1. when she was ill
 - 2. in cooking also
 - 3. Beside doing the laundry
 - 4. Rakesh helped her

Question ID : 65497834136
Status : Answered
Chosen Option : 2

Q.10 Select the most appropriate ANTONYM of the given word.

Generous

- Ans
- 1. Charitable
 - 2. kind-hearted
 - 3. Helpful
 - 4. Inconsiderate

Question ID : 65497834130
Status : Answered
Chosen Option : 4

Q.11 Select the correctly spelt word.

- Ans
- 1. Synergizm
 - 2. Lifelesness
 - 3. Incredulous
 - 4. Recaptulate

Question ID : 65497834138
Status : Answered
Chosen Option : 3

Q.12 Select the most appropriate option to fill in the blank.

We must plant and _____ at least one tree every year.

- Ans
- 1. abolish
 - 2. utilise
 - 3. nurture
 - 4. assemble

Question ID : 65497834139
Status : Answered
Chosen Option : 3

Q.13 Select the most appropriate option that can substitute the underlined segment in the given sentence. If there is no need to substitute it, select 'No substitution required'.

The plant will die unless you will water it every day.

- Ans
- 1. No substitution required
 - 2. are watering
 - 3. would water
 - 4. water

Question ID : 65497834135
Status : Answered
Chosen Option : 4

Q.14 Select the most appropriate meaning of the given idiom.

To rub salt in someone's wound

- Ans
- 1. To make a bad or painful situation worse
 - 2. To use salt as a remedy for a painful wound
 - 3. To make a medicine for wounds
 - 4. To help in bandaging a wound

Question ID : 65497834141
Status : Answered
Chosen Option : 1

Q.15 Select the option that can be used as a one-word substitute for the given group of words.

Represent something as larger, better or worse than it really is

- Ans
- 1. Applaud
 - 2. Exaggerate
 - 3. Boast
 - 4. Ridicule

Question ID : 65497834148
Status : Answered
Chosen Option : 2

Q.16 Select the most appropriate option to fill in the blank.

Every night, _____ going to bed, he thanked God for his gifts.

- Ans
- 1. after
 - 2. soon
 - 3. through
 - 4. before

Question ID : 65497834140
Status : Answered
Chosen Option : 4

Q.17 Select the most appropriate option to fill in the blank.

The _____ has created a havoc in the whole world.

- Ans
- 1. prefix
 - 2. panorama
 - 3. pandemic
 - 4. pantomime

Question ID : 65497834145
Status : Answered
Chosen Option : 3

Q.18 Select the option that can be used as a one-word substitute for the given group of words.

the sound made by a crocodile

- Ans
- 1. Growl
 - 2. Screech
 - 3. Trumpet
 - 4. Bellow

Question ID : 65497834131
Status : Answered
Chosen Option : 1

Q.19 Select the most appropriate synonym of the given word.

Excerpt

- Ans
- 1. Abstract
 - 2. Blurb
 - 3. Interval
 - 4. Extract

Question ID : 65497834147
Status : Answered
Chosen Option : 4

Q.20 Select the most appropriate ANTONYM of the given word.

Commence

Ans 1. Conclude

2. Begin

3. Arise

4. Launch

Question ID : 65497834134

Status : Answered

Chosen Option : 1

Comprehension:

In the following passage, some words have been deleted. Read the passage carefully and select the most appropriate option to fill in each blank.

I had a little cottage. There were vines (1)_____ on it. They looked pretty with the evening sun on (2)_____. My wife was very ill, we had no food (3)_____. I could get no work and my wife, Jeanette, was (4)_____ so I stole to buy her food. They caught me. I (5)_____ with them and told them why I stole but they laughed at me. I was sentenced to 10 years in prison.

SubQuestion No : 21

Q.21 Select the most appropriate option to fill in blank no.1.

Ans 1. developing

2. swelling

3. planting

4. growing

Question ID : 65497834150

Status : Answered

Chosen Option : 3

Comprehension:

In the following passage, some words have been deleted. Read the passage carefully and select the most appropriate option to fill in each blank.

I had a little cottage. There were vines (1)_____ on it. They looked pretty with the evening sun on (2)_____. My wife was very ill, we had no food (3)_____. I could get no work and my wife, Jeanette, was (4)_____ so I stole to buy her food. They caught me. I (5)_____ with them and told them why I stole but they laughed at me. I was sentenced to 10 years in prison.

SubQuestion No : 22

Q.22 Select the most appropriate option to fill in blank no.2.

Ans 1. it

2. them

3. us

4. her

Question ID : 65497834151

Status : Answered

Chosen Option : 2

Comprehension:

In the following passage, some words have been deleted. Read the passage carefully and select the most appropriate option to fill in each blank.

I had a little cottage. There were vines (1)_____ on it. They looked pretty with the evening sun on (2)_____. My wife was very ill, we had no food (3)_____. I could get no work and my wife, Jeanette, was (4)_____ so I stole to buy her food. They caught me. I (5)_____ with them and told them why I stole but they laughed at me. I was sentenced to 10 years in prison.

SubQuestion No : 23

Q.23 Select the most appropriate option to fill in blank no.3.

- Ans 1. to be eating
 2. to eat
 3. to ate
 4. for eating

Question ID : 65497834152

Status : Answered

Chosen Option : 2

Comprehension:

In the following passage, some words have been deleted. Read the passage carefully and select the most appropriate option to fill in each blank.

I had a little cottage. There were vines (1)_____ on it. They looked pretty with the evening sun on (2)_____. My wife was very ill, we had no food (3)_____. I could get no work and my wife, Jeanette, was (4)_____ so I stole to buy her food. They caught me. I (5)_____ with them and told them why I stole but they laughed at me. I was sentenced to 10 years in prison.

SubQuestion No : 24

Q.24 Select the most appropriate option to fill in blank no.4.

- Ans 1. falling
 2. expiring
 3. vanishing
 4. dying

Question ID : 65497834153

Status : Answered

Chosen Option : 4

Comprehension:

In the following passage, some words have been deleted. Read the passage carefully and select the most appropriate option to fill in each blank.

I had a little cottage. There were vines (1)_____ on it. They looked pretty with the evening sun on (2)_____. My wife was very ill, we had no food (3)_____. I could get no work and my wife, Jeanette, was (4)_____ so I stole to buy her food. They caught me. I (5)_____ with them and told them why I stole but they laughed at me. I was sentenced to 10 years in prison.

SubQuestion No : 25

Q.25 Select the most appropriate option to fill in blank no.5.

- Ans 1. pretended
 2. promised
 3. pleaded
 4. preyed

Question ID : 65497834154

Status : Answered

Chosen Option : 4

Q.1 दिये गये वाक्यांश के लिए एक शब्द दीजिये।

विषय को जानने की बेचैनी।

- Ans
- 1. प्रयत्नशील होना
 - 2. अविचल होना
 - 3. सचेष्ट होना
 - 4. उत्सुक होना

Question ID : 65497834170
Status : Not Answered
Chosen Option : --

Q.2 सही वर्तनी वाले शब्द का चयन करें।

- Ans
- 1. व्यावसायिक
 - 2. व्यवसायिक
 - 3. व्यावसायीक
 - 4. व्यवसाईक

Question ID : 65497834163
Status : Not Answered
Chosen Option : --

Q.3 रिक्त स्थान को भरने के लिए सबसे उपयुक्त शब्द का चयन करें।

दक्षिण का कोणार्क मंदिर, _____ का अद्भुत नमूना है।

- Ans
- 1. मुगलकला
 - 2. वास्तुकला
 - 3. पाश्चात्य कला
 - 4. हस्तकला

Question ID : 65497834165
Status : Not Answered
Chosen Option : --

Q.4 दिये गये वाक्यांश के लिए एक शब्द दीजिये।

कमल की दण्ड

- Ans
- 1. पुरन्द
 - 2. औरस
 - 3. पराग
 - 4. मृणाल

Question ID : 65497834167
Status : Not Answered
Chosen Option : --

Q.5 दिए गए शब्द का समानार्थी शब्द चुनें।

शून्य

- Ans
- 1. शूर
 - 2. पराक्रमी
 - 3. खाली
 - 4. वीर

Question ID : 65497834173
Status : Not Answered
Chosen Option : --

Q.6 दिए गए शब्द के समानार्थी शब्द का चयन कीजिए।

दंतायुध

- Ans
- 1. कंबुक
 - 2. वराह
 - 3. दंतावल
 - 4. कंबु

Question ID : 65497834156
Status : Not Answered
Chosen Option : --

Q.7 निम्नलिखित प्रश्न में, दिए गए चार विकल्पों में से, उस विकल्प का चयन करें जो मुहावरे का अर्थ व्यक्त करता है।

सती-सावित्री होना

- Ans
- 1. पतिव्रता होना
 - 2. सत्यवादी होना
 - 3. सरल होना
 - 4. दृढ़निश्चयी होना

Question ID : 65497834166
Status : Not Answered
Chosen Option : --

Q.8 दिए गए वाक्य का वह भाग ज्ञात करें जिसमें कोई त्रुटि है। यदि कोई त्रुटि नहीं है, तो 'कोई त्रुटि नहीं है' चुनें।

महात्मा गांधी के (1)/ सन्देशों से देश (2)/ सर्वाधिक प्रभावित हुआ (3)/ कोई त्रुटि नहीं है (4)

- Ans
- 1. 1
 - 2. 2
 - 3. 4
 - 4. 3

Question ID : 65497834168
Status : Not Answered
Chosen Option : --

Q.9 रिक्त स्थान को भरने के लिए सबसे उपयुक्त शब्द का चयन कीजिए।

वे _____ बार देख चुके हैं।

- Ans
- 1. आनेकों
 - 2. अनेकों
 - 3. अनेक
 - 4. अनेकोन

Question ID : 65497834159
Status : Not Answered
Chosen Option : --

Q.10 सही वर्तनी वाले शब्द का चयन करें।

- Ans
- 1. हसित
 - 2. हर्षित
 - 3. हरषित
 - 4. हरसित

Question ID : 65497834162
Status : Not Answered
Chosen Option : --

Q.11 'अच्छा-बुरा सबको एक-सा समझना' यह अर्थ किस मुहावरे से प्रकट होता है?

- Ans
- 1. सबको एक डंडे से हांकना
 - 2. सब नौबत होना
 - 3. सब्ज-बाग नजर आना
 - 4. सब धान बाईस पसेरी होना

Question ID : 65497834158
Status : Not Answered
Chosen Option : --

Q.12 दिए गए वाक्य का वह भाग ज्ञात करें जिसमें कोई त्रुटि है। यदि कोई त्रुटि नहीं है, तो 'कोई त्रुटि नहीं है' चुनें।

प्रत्येक प्राणी (1)/ को आत्मनिर्भर (2)/ होना चाहिए। (3)/ कोई त्रुटि नहीं है (4)

- Ans
- 1. 2
 - 2. 1
 - 3. 4
 - 4. 3

Question ID : 65497834155
Status : Not Answered
Chosen Option : --

Q.13 दिए गए शब्द का विलोम चुनें।

अत्यधिक

- Ans 1. अधिक
 2. प्रभूत
 3. स्वल्प
 4. अल्प

Question ID : 65497834169
Status : Not Answered
Chosen Option : --

Q.14 रिक्त स्थान को भरने के लिए सबसे उपयुक्त शब्द का चयन करें।

विपत्ति में _____ से काम लेना चाहिए।

- Ans 1. साहस
 2. बल
 3. वीरता
 4. शौर्य

Question ID : 65497834174
Status : Not Answered
Chosen Option : --

Q.15 दिए गए वाक्य में रेखांकित खंड को प्रतिस्थापित करने के लिए सबसे उपयुक्त विकल्प का चयन करें। यदि इसे प्रतिस्थापित करने की आवश्यकता नहीं है, तो विकल्प 'किसी बदलाव की आवश्यकता नहीं है' का चयन करें।

उसपर कई घड़े पानी पड़ गया।

- Ans 1. घड़ी
 2. घड़े
 3. किसी बदलाव की आवश्यकता नहीं है।
 4. घड़ों

Question ID : 65497834171
Status : Not Answered
Chosen Option : --

Q.16 दिए गए वाक्य का वह भाग ज्ञात करें जिसमें कोई त्रुटि है। यदि कोई त्रुटि नहीं है, तो 'कोई त्रुटि नहीं है' चुनें।

मेरे को(1)/ तुम्हारा काम(2)/ पसंद है।(3)/ कोई त्रुटि नहीं है।(4)

- Ans 1. 1
 2. 2
 3. 3
 4. 4

Question ID : 65497834172
Status : Not Answered
Chosen Option : --

Q.17 जिसके समान दूसरा नहीं - शब्द समूह के स्थान पर एक शब्द लिखिए।

- Ans
- 1. चतुर
 - 2. बहुत ही सुंदर
 - 3. अद्वितीय
 - 4. द्वितीय

Question ID : 65497834161
Status : Not Answered
Chosen Option : --

Q.18 दिए गए वाक्य में रेखांकित खंड को प्रतिस्थापित करने के लिए सबसे उपयुक्त विकल्प का चयन करें। यदि इसे प्रतिस्थापित करने की आवश्यकता नहीं है, तो विकल्प 'किसी बदलाव की आवश्यकता नहीं है' का चयन करें।

राहुल ने अपने प्रिय मित्र को कहानी की पुस्तक दिये।

- Ans
- 1. प्रिय मित्र को कहानी की पुस्तक दी।
 - 2. किसी बदलाव की आवश्यकता नहीं है।
 - 3. प्रिय मित्र को कहानी का पुस्तक दिये।
 - 4. प्रिय मित्र को कहानी की पुस्तकें दिये।

Question ID : 65497834164
Status : Not Answered
Chosen Option : --

Q.19 निम्न में से कौनसा विलोम-युग्म सही नहीं है?

- Ans
- 1. अंत-आदि
 - 2. अज्ञ-विज्ञ
 - 3. क्षत-विक्षत
 - 4. अथ-इति

Question ID : 65497834157
Status : Not Answered
Chosen Option : --

Q.20 दिए गए वाक्य में रेखांकित खंड को प्रतिस्थापित करने के लिए सबसे उपयुक्त विकल्प का चयन करें। यदि इसे प्रतिस्थापित करने की आवश्यकता नहीं है, तो विकल्प 'किसी बदलाव की आवश्यकता नहीं है' का चयन करें।

दक्षिण भारत के मंदिरों में वास्तु कला के दर्शन होते हैं।

- Ans
- 1. किसी बदलाव की आवश्यकता नहीं है।
 - 2. वास्तु कला के दर्शन होते हैं।
 - 3. वास्तु कला के दर्शन होते है।
 - 4. वास्तु कला के दर्शन होता हैं।

Question ID : 65497834160
Status : Not Answered
Chosen Option : --

Comprehension:

दिए गए अनुच्छेद में कुछ शब्द हटा दिए गए हैं। दिए गए विकल्पों की सहायता से रिक्त स्थान भरें। प्रत्येक संख्या के लिए सबसे उपयुक्त विकल्प का चयन करें।

काव्य का सम्बन्ध (1) _____ हित चिन्ता से जुड़ा हुआ है। सभ्यता के (2) _____ युग में जब प्रकृति के रहस्य मनुष्य के लिए (3) _____ थे और वह अधिकांश में अपने जीवित रहने के लिए प्रकृति की (4) _____ पर निर्भर था, तब उसने प्रकृति के अनेक उपादानों की (5) _____ प्रारंभ की।

SubQuestion No : 21

Q.21 गद्यांश के रिक्त स्थान (1) के लिए सर्वाधिक उपयुक्त शब्द होगा-

- Ans
- 1. प्राणियों की
 - 2. देवताओं की
 - 3. राजाओं की
 - 4. मनुष्य की

Question ID : 65497834176

Status : Not Answered

Chosen Option : --

Comprehension:

दिए गए अनुच्छेद में कुछ शब्द हटा दिए गए हैं। दिए गए विकल्पों की सहायता से रिक्त स्थान भरें। प्रत्येक संख्या के लिए सबसे उपयुक्त विकल्प का चयन करें।

काव्य का सम्बन्ध (1) _____ हित चिन्ता से जुड़ा हुआ है। सभ्यता के (2) _____ युग में जब प्रकृति के रहस्य मनुष्य के लिए (3) _____ थे और वह अधिकांश में अपने जीवित रहने के लिए प्रकृति की (4) _____ पर निर्भर था, तब उसने प्रकृति के अनेक उपादानों की (5) _____ प्रारंभ की।

SubQuestion No : 22

Q.22 गद्यांश के रिक्त स्थान (2) के लिए सर्वाधिक उपयुक्त शब्द होगा-

- Ans
- 1. पुराने
 - 2. प्राचीन
 - 3. प्रारम्भिक
 - 4. आदि

Question ID : 65497834177

Status : Not Answered

Chosen Option : --

Comprehension:

दिए गए अनुच्छेद में कुछ शब्द हटा दिए गए हैं। दिए गए विकल्पों की सहायता से रिक्त स्थान भरें। प्रत्येक संख्या के लिए सबसे उपयुक्त विकल्प का चयन करें।

काव्य का सम्बन्ध (1) _____ हित चिन्ता से जुड़ा हुआ है। सभ्यता के (2) _____ युग में जब प्रकृति के रहस्य मनुष्य के लिए (3) _____ थे और वह अधिकांश में अपने जीवित रहने के लिए प्रकृति की (4) _____ पर निर्भर था, तब उसने प्रकृति के अनेक उपादानों की (5) _____ प्रारंभ की।

SubQuestion No : 23

Q.23 गद्यांश के रिक्त स्थान (3) के लिए सर्वाधिक उपयुक्त शब्द होगा-

- Ans
- 1. अज्ञात
 - 2. ज्ञात
 - 3. निष्णात
 - 4. सहजात

Question ID : 65497834178

Status : Not Answered

Chosen Option : --

Comprehension:

दिए गए अनुच्छेद में कुछ शब्द हटा दिए गए हैं। दिए गए विकल्पों की सहायता से रिक्त स्थान भरें। प्रत्येक संख्या के लिए सबसे उपयुक्त विकल्प का चयन करें।

काव्य का सम्बन्ध (1) _____ हित चिन्ता से जुड़ा हुआ है। सभ्यता के (2) _____ युग में जब प्रकृति के रहस्य मनुष्य के लिए (3) _____ थे और वह अधिकांश में अपने जीवित रहने के लिए प्रकृति की (4) _____ पर निर्भर था, तब उसने प्रकृति के अनेक उपादानों की (5) _____ प्रारंभ की।

SubQuestion No : 24

Q.24 गद्यांश के रिक्त स्थान (4) के लिए सर्वाधिक उपयुक्त शब्द होगा-

- Ans 1. कृपा
 2. माया
 3. दया
 4. ममता

Question ID : 65497834179

Status : Not Answered

Chosen Option : --

Comprehension:

दिए गए अनुच्छेद में कुछ शब्द हटा दिए गए हैं। दिए गए विकल्पों की सहायता से रिक्त स्थान भरें। प्रत्येक संख्या के लिए सबसे उपयुक्त विकल्प का चयन करें।

काव्य का सम्बन्ध (1) _____ हित चिन्ता से जुड़ा हुआ है। सभ्यता के (2) _____ युग में जब प्रकृति के रहस्य मनुष्य के लिए (3) _____ थे और वह अधिकांश में अपने जीवित रहने के लिए प्रकृति की (4) _____ पर निर्भर था, तब उसने प्रकृति के अनेक उपादानों की (5) _____ प्रारंभ की।

SubQuestion No : 25

Q.25 गद्यांश के रिक्त स्थान (5) के लिए सर्वाधिक उपयुक्त शब्द होगा-

- Ans 1. चिन्ता
 2. प्रशंसा
 3. प्रार्थना
 4. खोज

Question ID : 65497834180

Status : Not Answered

Chosen Option : --