

Constable GD in CAPFs NIA SSF and Rifleman GD in Assam Rifles Examination 2021

Roll Number	www.GovtJobsAlert.In
Candidate Name	www.GovtJobsAlert.In
Venue Name	ION Digital Zone IDZ Greater Noida
Exam Date	26/11/2021
Exam Time :	9:00 AM - 10:30 AM
Subject	Constable GD 2021

Section : Part A General Intelligence and Reasoning

Q.1 उस विकल्प का चयन करें जो तीसरे शब्द से उसी प्रकार संबंधित है जिस प्रकार दूसरा शब्द पहले शब्द से संबंधित है।

पत्तियां : क्लोरोफिल :: रक्त : ?

- Ans 1. हीमोग्लोबिन
 2. प्लाज्मा
 3. प्लेटलेट्स
 4. श्वेत रक्त कणिकाएं

Question ID : 65497834965

Status : Answered

Chosen Option : 1

Q.2 दिए गए संयोजन के उस सही दर्पण प्रतिबिंब का चयन करें जो दर्पण को PQ पर रखने पर बनेगा।

GR8ZEQ

- Ans 1. Q8Z8R9
 2. Q8ZEQ
 3. Q8ZEQ
 4. Q8ZEQ

Question ID : 65497834946

Status : Answered

Chosen Option : 3

Q.3 एक निश्चित कूट भाषा में, TRICKY को CXLFQH के रूप में लिखा जाता है। उसी कूट भाषा में PICNIC को किस रूप में लिखा जाएगा?

- Ans
- 1. YOFOOL
 - 2. YOEQOL
 - 3. YOEOOL
 - 4. YOFQOL

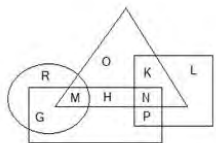
Question ID : 65497834948
Status : Not Answered
Chosen Option : --

Q.4 एक निश्चित कूट भाषा में, TAPE को EPAT और LOVE को EVOL के रूप में लिखा जाता है। उसी कूट भाषा में, NITIN को किस रूप में लिखा जाएगा?

- Ans
- 1. NITIN
 - 2. ITNNI
 - 3. TINNI
 - 4. INNTI

Question ID : 65497834944
Status : Answered
Chosen Option : 1

Q.5 नीचे दी गई आकृति में, आयत 'मज़बूत' को निरूपित करता है, वृत्त 'चमड़े' को निरूपित करता है, त्रिभुज 'थैले' को निरूपित करता है, और वर्ग 'लाल' को निरूपित करता है।



उस अक्षर का चयन करें जो चमड़े के उन थैलों को निरूपित करता है जो मज़बूत हैं लेकिन लाल रंग के नहीं हैं।

- Ans
- 1. K
 - 2. G
 - 3. N
 - 4. M

Question ID : 65497834967
Status : Answered
Chosen Option : 4

Q.6 नीचे पांच अक्षर दिए गए हैं, जिनमें से चार किसी प्रकार से संगत हैं और एक असंगत है। उस असंगत अक्षर का चयन कीजिए।

A, D, I, P, R

- Ans 1. P
 2. I
 3. D
 4. R

Question ID : 65497834943

Status : Answered

Chosen Option : 4

Q.7 दिए गए विकल्पों में से उस संख्या का चयन कीजिए जो निम्न शृंखला में प्रश्नचिह्न (?) के स्थान पर आ सकती है।

2, 3, 4, 5, 6, 7, 8, ?, 10, 13, 12, 17, 14

- Ans 1. 12
 2. 11
 3. 9
 4. 10

Question ID : 65497834957

Status : Answered

Chosen Option : 3

Q.8 निमेश, मेघना का एकलौता भाई है। सुरभि, निमेश की बेटी है। मेघना और नेहा बहनें हैं। मणि, करण का बेटा है, जो कि मेघना का पति है। मणि का सुरभि से क्या संबंध है?


- Ans 1. मामा
 2. चाचा
 3. पिता
 4. फुफेरा भाई

Question ID : 65497834949

Status : Answered

Chosen Option : 4

Q.9 दी गई शीट को मोड़कर एक बॉक्स बनाया गया है। इस प्रकार से बने बॉक्स में, ♥ दर्शाने वाले फलक के विपरीत कौन-सा फलक होगा?



Ans



Question ID : 65497834953

Status : Answered

Chosen Option : 2

Q.10 यदि निम्नांकित व्यंजक में '÷' और '-' के स्थानों को आपस में बदल दिया जाए और अंकों '2' और '4' के स्थानों को आपस में बदल दिया जाए, तो निम्न व्यंजक का मान क्या होगा?

$$426 \div 648 - 312$$

Ans 1. 124

2. 424

3. 244

4. 224

Question ID : 65497834952

Status : Answered

Chosen Option : 3

Q.11 उस विकल्प का चयन करें जो तीसरे अक्षर-समूह से उसी प्रकार संबंधित है जिस प्रकार दूसरा अक्षर-समूह पहले अक्षर-समूह से संबंधित है।

CGRT : DJWA :: XUKM : ?

Ans 1. YYPT

2. YYQT

3. YXQT

4. YXPT

Question ID : 65497834947

Status : Answered

Chosen Option : 3

Q.12 उस विकल्प का चयन कीजिए जिसका तीसरी संख्या से वही संबंध है, जो दूसरी संख्या का पहली संख्या से है।

132 : 501 :: 2364 : ?

Ans 1. 5073

2. 3474

3. 9430

4. 4582

Question ID : 65497834951

Status : Answered

Chosen Option : 3

Q.13 दिए गए पैटर्न का ध्यानपूर्वक अध्ययन करें, और उस संख्या का चयन करें जो इसमें प्रश्नचिह्न (?) के स्थान पर आ सकती है।

9 12 13

42 98 ?

39 46 80

Ans 1. 89

2. 140

3. 99

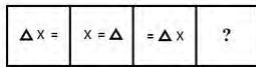
4. 93

Question ID : 65497834961

Status : Answered

Chosen Option : 1

Q.14 दिए गए विकल्पों में से उस आकृति का चयन कीजिए जो दी गई श्रृंखला में प्रश्न चिह्न (?) के स्थान पर आ सकती है।



Ans

1. $= x \Delta$

2. $x \Delta =$

3. $\Delta = x$

4. $\Delta \times =$

Question ID : 65497834958

Status : Answered

Chosen Option : 4

Q.15 किसी विशिष्ट कूट भाषा में, 'the light house' को 'zu chi pin', 'house is big' को 'mo tim zu' और 'the big garden' को 'riz tim pin' लिखा जाता है। इस कूट भाषा में 'light' को क्या लिखा जाएगा?

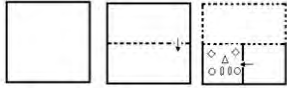
- Ans
- 1. chi
 - 2. big
 - 3. mo
 - 4. riz

Question ID : 65497834959

Status : Answered

Chosen Option : 1

Q.16 निम्नांकित चित्रों में एक कागज को मोड़ने का क्रम और मुड़े हुए कागज को काटने का तरीका दर्शाया गया है। मुड़े हुए कागज को खोलने पर यह कैसा दिखाई देगा?



Ans

- 1.
- 2.
- 3.
- 4.

Question ID : 65497834963

Status : Answered

Chosen Option : 3

Q.17 दिए गए विकल्पों में से उस संख्या का चयन कीजिए जो निम्न श्रृंखला में प्रश्नचिह्न (?) के स्थान पर आ सकती है।

2, 4, 16, 256, ?

Ans 1. 65500

2. 65336

3. 65000

4. 65536

Question ID : 65497834945

Status : Answered

Chosen Option : 4

Q.18 दिए गए विकल्पों में से उस अक्षर-समूह का चयन करें जो निम्नलिखित श्रृंखला में प्रश्न चिह्न (?) के स्थान पर आ सकता है।

HSI, OLO, VEU, CXA, ?

Ans 1. JQG

2. KPG

3. KQF

4. JPF

Question ID : 65497834964

Status : Answered

Chosen Option : 1

Q.19 एक साबुन का मूल्य ₹7 और एक कलम का मूल्य ₹5 है। राजेश ₹38 में ये दोनों चीजें खरीदीं। उसने कितने साबुन खरीदे?

Ans 1. 4

2. 5

3. 2

4. 3

Question ID : 65497834962

Status : Answered

Chosen Option : 1

Q.20 दिए गए कथनों और निष्कर्षों को ध्यानपूर्वक पढ़ें। आपको कथनों में दी गई जानकारी को सही मान कर चलना है, भले ही वो सामान्य ज्ञात तथ्यों से भिन्न प्रतीत होती हो, और फिर निर्णय कीजिए कि दिए गए निष्कर्षों में से कौन से निष्कर्ष कथनों का तार्किक रूप से अनुसरण करते हैं।

कथन :

कुछ पतंग, जहाज हैं।
सभी जहाज, जेपेलिन हैं।

निष्कर्ष :

1. कुछ पतंग, जेपेलिन हैं।
2. सभी जेपेलिन, जहाज हैं।

- Ans
- 1. दोनों निष्कर्ष अनुसरण करते हैं।
 - 2. केवल निष्कर्ष 1 अनुसरण करता है।
 - 3. केवल निष्कर्ष 2 अनुसरण करता है।
 - 4. कोई भी निष्कर्ष अनुसरण नहीं करता है।

Question ID : 65497834960

Status : Answered

Chosen Option : 2

Q.21 Eight persons are sitting in a circle facing the centre. Arush is sitting opposite to Rita. There are two persons sitting between Rakesh and Arush. Ankita is sitting towards the right of Arush and opposite to Urvashi. Anu is sitting between Rita and Urvashi. Ankita is sitting between Rohan and Rakesh. Aman is sitting towards the left of Rohan. Who is sitting between Arush and Urvashi?

- Ans
- 1. Rohan
 - 2. Aman
 - 3. Anu
 - 4. Ankita

Question ID : 65497834950

Status : Answered

Chosen Option : 2

Q.22 उस अक्षर संयोजन का चयन करें जिसे दी गई श्रृंखला के रिक्त स्थानों में क्रमिक रूप से रखे जाने पर श्रृंखला पूर्ण हो जाएगी।

s _ r _ k s _ _ c k _ u r c _ s u _ c _

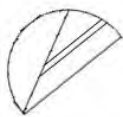
- Ans
- 1. c, u, c, s, r, k, s, k
 - 2. c, u, c, r, s, k, r, k
 - 3. u, c, u, r, s, k, r, k
 - 4. u, c, u, k, r, s, r, k

Question ID : 65497834956

Status : Answered

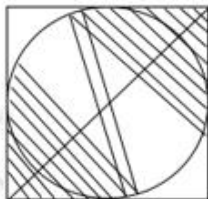
Chosen Option : 3

Q.23 उस विकल्प का चयन करें जिसमें दी गई आकृति सन्निकित है (आकृति को घुमाने की अनुमति है)।

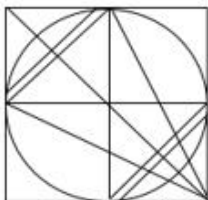


Ans

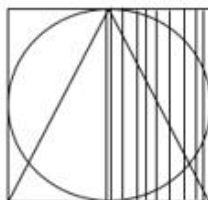
1.



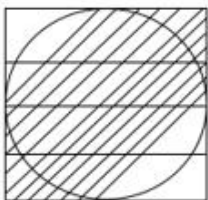
2.



3.



4.



Question ID : 65497834954

Status : Answered

Chosen Option : 2

Q.24 Six friends, Perna, Priyanka, Rahul, Vishal, Tushar and Shruti, are sitting around a circular table, facing the centre of the table. Priyanka is sitting to the immediate left of Tushar. Vishal is sitting to the immediate left of Rahul. Perna is second to the right of Vishal. Perna is sitting between Rahul and Shruti. Who is sitting between Perna and Vishal?

Ans 1. Shruti

2. Tushar

3. Priyanka

4. Rahul

Question ID : 65497834966

Status : Answered

Chosen Option : 4

Q.25 उस सही विकल्प का चयन करें जो दिए गए शब्दों का तार्किक और सार्थक क्रम दर्शाता है।

- i. एमोनियाकरण
- ii. विनाइट्रीकरण
- iii. नाइट्रोजन स्थिरीकरण
- iv. स्वांगीकरण
- v. नाइट्रीकरण

- Ans
- 1. iii, v, i, iv, ii
 - 2. v, iii, i, iv, ii
 - 3. v, iii, iv, i, ii
 - 4. iii, v, iv, i, ii

Question ID : 65497834955
Status : Not Answered
Chosen Option : --

Section : Part B General Knowledge and General Awareness

Q.1 चारमीनार, जोकि एक लोकप्रिय स्मारक और मकबरा है, कहाँ स्थित है?

- Ans
- 1. चेन्नई
 - 2. मुंबई
 - 3. हैदराबाद
 - 4. दिल्ली

Question ID : 65497834979
Status : Answered
Chosen Option : 3

Q.2 'द रूल ब्रेकर्स (the Rule Breakers)' नामक पुस्तक के लेखक कौन हैं?

- Ans
- 1. प्रीति शेनॉय
 - 2. अमिताव घोष
 - 3. बिबेक देबरॉय
 - 4. सत्यार्थ नायक

Question ID : 65497834982
Status : Not Answered
Chosen Option : --

Q.3 निम्नलिखित में से किस राज्य में प्रतिवर्ष 'अंतरराष्ट्रीय चेरी ब्लॉसम उत्सव' मनाया जाता है?

- Ans
- 1. पंजाब
 - 2. मेघालय
 - 3. उत्तराखंड
 - 4. हिमाचल प्रदेश

Question ID : 65497834970
Status : Not Answered
Chosen Option : --

Q.4 भारतीय बैंक आजकल अपनी जमा राशि का _____ प्रतिशत नकदी के रूप में रखते हैं, यह नकदी उन जमाकर्ताओं को भुगतान करने के लिए रखी जाती है जो किसी भी दिन बैंक से पैसे निकालने आ सकते हैं।

- Ans 1. 15
 2. 20
 3. 5
 4. 10

Question ID : 65497834988
Status : Answered
Chosen Option : 2

Q.5 _____ बैंकिंग संचालन का एक विशेष खंड है जो व्यक्तियों या संगठनों को पूंजी जुटाने और उन्हें वित्तीय परामर्श सेवाएँ प्रदान करने में मदद करता है।

- Ans 1. वाणिज्यिक बैंकिंग (Commercial banking)
 2. निवेश बैंकिंग (Investment banking)
 3. निगमित वित्त (Corporate finance)
 4. निजी इक्विटी (Private equity)

Question ID : 65497834974
Status : Answered
Chosen Option : 1

Q.6 निम्नलिखित में से कौन सी एक संघीय सरकार की विशेषता नहीं है?

- Ans 1. एकसदनी विधायिका
 2. संविधान की सर्वोच्चता
 3. दोहरी सरकार
 4. लिखित संविधान

Question ID : 65497834989
Status : Answered
Chosen Option : 1

Q.7 भारतीय संविधान में निम्नलिखित में से किस संवैधानिक संशोधन अधिनियम द्वारा राष्ट्रीय राजधानी क्षेत्र दिल्ली और केंद्र शासित प्रदेश पुदुचेरी की विधानसभाओं को राष्ट्रपति चुनाव के लिए निर्वाचक मंडल में जोड़ा गया था?

- Ans 1. संविधान (सत्रहवां संशोधन) अधिनियम, 1964
 2. संविधान (सत्तरवां संशोधन) अधिनियम, 1992
 3. संविधान (छिहत्तरवां संशोधन) अधिनियम, 1994
 4. संविधान (चौदहवां संशोधन) अधिनियम, 1962

Question ID : 65497834977
Status : Answered
Chosen Option : 4

Q.8 भारत में प्रथम 'गौ कैबिनेट (cow cabinet)' की स्थापना निम्नलिखित में से किस राज्य में की गई है?

- Ans
- 1. उत्तर प्रदेश
 - 2. बिहार
 - 3. राजस्थान
 - 4. मध्य प्रदेश

Question ID : 65497834978
Status : Answered
Chosen Option : 2

Q.9 मुर्लेन राष्ट्रीय उद्यान निम्नलिखित में से किस राज्य में स्थित है?

- Ans
- 1. मिज़ोरम
 - 2. त्रिपुरा
 - 3. नागालैंड
 - 4. असम

Question ID : 65497834969
Status : Not Answered
Chosen Option : --

Q.10 'नाइट ऑफ़ द रेस्टलेस स्पिरिट्स: स्टोरीज़ फ़्रॉम 1984' नामक पुस्तक के लेखक निम्नलिखित में से कौन हैं?

- Ans
- 1. सरबप्रीत सिंह
 - 2. विनय सीतापति
 - 3. खुशवंत सिंह
 - 4. चेतन भगत

Question ID : 65497834972
Status : Not Answered
Chosen Option : --

Q.11 खाज (एज़िमा) रोग का संबंध मानव शरीर के निम्न में से किस भाग से है?

- Ans
- 1. त्वचा
 - 2. अस्थि
 - 3. आँख
 - 4. फेफड़े

Question ID : 65497834980
Status : Answered
Chosen Option : 1

Q.12 भारत की महिला क्रिकेटर स्मृति मंधाना किस राज्य की निवासी हैं?

- Ans
- 1. गुजरात
 - 2. बिहार
 - 3. महाराष्ट्र
 - 4. गोवा

Question ID : 65497834968
Status : Answered
Chosen Option : 2

Q.13 Which petroleum product is used for metalling roads?

- Ans 1. Bitumen
 2. Coal gas
 3. Coke
 4. Coal

Question ID : 65497834983
Status : Answered
Chosen Option : 1

Q.14 डेड्रॉन और एगज़ॉन किसके भाग हैं?

- Ans 1. पाचन तंत्र
 2. तंत्रिका तंत्र
 3. उत्सर्जन तंत्र
 4. मांसपेशी तंत्र

Question ID : 65497834981
Status : Not Answered
Chosen Option : --

Q.15 अर्थशास्त्र में जीएनपी (GNP) का पूर्ण रूप क्या है?

- Ans 1. ग्रॉस नेशनल प्रोड्यूस (Great National Produce)
 2. ग्रॉस नेचुरल प्रोड्यूस (Gross Natural Produce)
 3. ग्रॉस नेचुरल प्रोडक्ट (Gross Natural Product)
 4. ग्रॉस नेशनल प्रोडक्ट (Gross National Product)

Question ID : 65497834986
Status : Answered
Chosen Option : 4

Q.16 निम्नलिखित में से किस आरंभिक भारतीय लेखक को बेपुर सुल्तान के नाम से जाना जाता है, जिन्होंने मलयालम भाषा में उपन्यास लिखे?

- Ans 1. परंबवदम श्रीधरन
 2. एमटी वासुदेवन नायर
 3. एसके पोटेक्कट
 4. वैकोम मुहम्मद बशीर

Question ID : 65497834987
Status : Not Answered
Chosen Option : --

Q.17 2020 में 'लोकल फॉर दीवाली' अभियान निम्नलिखित में से किस मंत्रालय द्वारा आरंभ किया गया?

- Ans 1. वस्त्र मंत्रालय
 2. रसायन और उर्वरक मंत्रालय
 3. आयुष मंत्रालय
 4. कोयला मंत्रालय

Question ID : 65497834990
Status : Answered
Chosen Option : 3

Q.18 सरदार वल्लभभाई पटेल द्वारा निम्नलिखित में से किस आंदोलन का नेतृत्व किया गया था?

- Ans 1. बारडोली सत्याग्रह
 2. दांडी मार्च
 3. काकोरी षड्यंत्र
 4. चटगाँव शस्त्रागार छापा

Question ID : 65497834976
Status : Answered
Chosen Option : 1

Q.19 खेल मंत्री किरन रिजिजू ने जनवरी 2021 में फ़िट इंडिया स्कूल वीक के किस संस्करण का शुभारंभ किया था?

- Ans 1. चौथे
 2. छठे
 3. पहले
 4. दूसरे

Question ID : 65497834973
Status : Not Answered
Chosen Option : --

Q.20 सिरोही/शिरुई राष्ट्रीय उद्यान निम्नलिखित में से किस राज्य में स्थित है?

- Ans 1. असम
 2. ओडिशा
 3. मणिपुर
 4. पश्चिम बंगाल

Question ID : 65497834971
Status : Not Answered
Chosen Option : --

Q.21 भारत के बॉम्बे में, कताई मिल के रूप में पहली कॉटन मिल किस वर्ष स्थापित की गई थी?

- Ans 1. 1854
 2. 1851
 3. 1852
 4. 1853

Question ID : 65497834984
Status : Not Answered
Chosen Option : --

Q.22 शिबिर कुमार घोष ने भारतीयों में राष्ट्रीयता की भावना जगाने के उद्देश्य से 1875 में _____ की स्थापना की थी।

- Ans
- 1. ईस्ट इंडिया एसोसिएशन
 - 2. इंडिया लीग
 - 3. आर्य समाज
 - 4. इंडियन एसोसिएशन

Question ID : 65497834975
Status : Answered
Chosen Option : 4

Q.23 _____ स्टेडियम की एक दीवार क्रिकेटर राहुल द्रविड़ को समर्पित है।

- Ans
- 1. वानखेड़े
 - 2. अरुण जेटली
 - 3. चिन्नास्वामी
 - 4. जवाहर लाल नेहरू

Question ID : 65497834992
Status : Not Answered
Chosen Option : --

Q.24 _____ नदी, पीर पंजाल पर्वतमाला के समानांतर उत्तर-पश्चिम दिशा में बहती है और किशतवाड़ के पास की पर्वतमाला को काटती है।

- Ans
- 1. रावी
 - 2. सतलुज
 - 3. ब्यास
 - 4. चेनाब

Question ID : 65497834991
Status : Not Answered
Chosen Option : --

Q.25 TX2 लक्ष्य, 2022 तक दुनिया में जंगली _____ की संख्या को दोगुना करने के लिए एक विश्वव्यापी प्रतिबद्धता है।

- Ans
- 1. शेरों
 - 2. तेंदुओं
 - 3. हाथियों
 - 4. बाघों

Question ID : 65497834985
Status : Not Answered
Chosen Option : --

Section : Part C Elementary Mathematics

Q.1 A, B और C तीन संख्याएँ हैं। A, B से 40% कम है और B, C से 15% कम है। यदि C, D से 50% अधिक है, तो A, D से कितने प्रतिशत कम होगी?

- Ans
- 1. 24.25%
 - 2. 23.5%
 - 3. 10.75%
 - 4. 18.5%

Question ID : 65497835014
Status : Answered
Chosen Option : 2

Q.2 26 संख्याओं का औसत 54.5 है। प्रथम 15 संख्याओं का औसत 58.6 और अंतिम 12 संख्याओं का औसत 52 है। यदि 15वीं संख्या को निकाल दिया जाए तो शेष संख्याओं का औसत कितना होगा?

- Ans
- 1. 50.56
 - 2. 53.24
 - 3. 57.28
 - 4. 49.24

Question ID : 65497835012
Status : Answered
Chosen Option : 1

Q.3 वह छोटी से छोटी संख्या ज्ञात करें, जिसमें 18 जोड़ने पर प्राप्त संख्या 28, 36 और 45 से पूर्णतः विभाज्य हो।

- Ans
- 1. 1242
 - 2. 280
 - 3. 518
 - 4. 1000

Question ID : 65497835001
Status : Answered
Chosen Option : 1

Q.4 दो वृत्तों की विज्याएँ क्रमशः 21 cm और 25 cm हैं। उस वृत्त का क्षेत्रफल (cm^2 में, दशमलव के एक स्थान तक सही) कितना होगा जिसकी परिधि इन दोनों वृत्तों की परिधि के अंतर के बराबर है। ($\pi = \frac{22}{7}$ लें)

- Ans
- 1. 49.7
 - 2. 52.3
 - 3. 50.3
 - 4. 48.9

Question ID : 65497834994
Status : Answered
Chosen Option : 3

Q.5 एक दुकानदार ₹1,800 तक की खरीद पर 15% की छूट और ₹1,800 से अधिक की खरीद पर 17.5% छूट की घोषणा करता है। अब्दुल ₹8 प्रति पेन की दर से 225 पेन और ₹30 प्रति दर्जन की दर से 4 दर्जन पेंसिलें खरीदता है। अब्दुल द्वारा भुगतान की गई राशि ज्ञात कीजिए।

- Ans
- 1. ₹1,580
 - 2. ₹1,540
 - 3. ₹1,684
 - 4. ₹1,584

Question ID : 65497834997
Status : Answered
Chosen Option : 4

Q.6 ₹8,500 की धनराशि पर 6% वार्षिक दर से 2 वर्ष में प्राप्त होने वाला चक्रवृद्धि ब्याज ज्ञात कीजिए, यदि ब्याज अर्ध-वार्षिक रूप में चक्रवृद्धि होता है।

- Ans
- 1. ₹1,025.75
 - 2. ₹1,066.82
 - 3. ₹9,968.72
 - 4. ₹1,050.25

Question ID : 65497835010
Status : Answered
Chosen Option : 2

Q.7 $[17 + (8 - 5) \times 5] + (25 - 48 \div 6 + 12 \times 2)$ का मान ज्ञात कीजिए।

- Ans
- 1. 37
 - 2. 27
 - 3. 122
 - 4. 73

Question ID : 65497834998
Status : Answered
Chosen Option : 4

Q.8 एक बेलन और एक शंकु के आधारों की त्रिज्याओं का अनुपात 4 : 3 है और उनकी ऊंचाइयों का अनुपात 1 : 2 है, तो उनके अयतनों का अनुपात ज्ञात करें।

- Ans
- 1. 5 : 4
 - 2. 8 : 3
 - 3. 4 : 5
 - 4. 3 : 8

Question ID : 65497835011
Status : Answered
Chosen Option : 2

Q.9 यदि $2x + 7y : 4x - 3y :: 8 : 3$ है, तो $x : y$ का मान ज्ञात करें।

- Ans
- 1. 45 : 38
 - 2. 24 : 43
 - 3. 22 : 37
 - 4. 45 : 26

Question ID : 65497835003
Status : Answered
Chosen Option : 4

Q.10 एक कार, 45 km/h की चाल से 40 मिनट तक चली, फिर 60 km/h की चाल से 45 मिनट तक चली, और फिर 50 km/h की चाल से $1\frac{1}{2}$ घंटे तक चली। पूरी यात्रा में कार की औसत चाल (km/h में) लगभग कितनी होगी?

- Ans
- 1. 51.9
 - 2. 52.8
 - 3. 51.4
 - 4. 52.3

Question ID : 65497835016
Status : Answered
Chosen Option : 3

Q.11 एक व्यक्ति 600 m की दूरी 5 मिनट में तय करता है। उसकी चाल (km/h में) ज्ञात करें।

- Ans
- 1. 7.2 km/h
 - 2. 4.6 km/h
 - 3. 3.8 km/h
 - 4. 5.6 km/h

Question ID : 65497835006
Status : Answered
Chosen Option : 1

Q.12 एक वस्तु का सूची मूल्य ₹576 है। इसे सूची मूल्य पर 20% की छूट देकर बेचा गया है। यदि इसका क्रय मूल्य ₹480 है, तो लाभ/हानि का प्रतिशत कितना होगा?

- Ans
- 1. लाभ, 4%
 - 2. लाभ, 2%
 - 3. हानि, 4%
 - 4. हानि, 2%

Question ID : 65497835013
Status : Answered
Chosen Option : 3

Q.13 एक वस्तु ₹425 में खरीदी जाती है और ₹500 में बेच दी जाती है। तो लाभ प्रतिशत लगभग कितना है?

- Ans
- 1. 18%
 - 2. 17.65%
 - 3. 16.56%
 - 4. 18.6%

Question ID : 65497834999
Status : Answered
Chosen Option : 2

Q.14 $\left\{ \frac{12}{9-6} \right\} + 8 - \left(\frac{16}{4} \right) - (3 - 5 - 4)$ का मान ज्ञात करें।

- Ans
- 1. 14
 - 2. 35
 - 3. 42
 - 4. 24

Question ID : 65497835005
Status : Answered
Chosen Option : 1

Q.15 एक व्यक्ति ने अपनी वस्तुओं के $\frac{5}{6}$ भाग को 15% लाभ पर और शेष को क्रय मूल्य पर बेच दिया। पूरे लेन-देन में उसके द्वारा अर्जित लाभ ज्ञात कीजिए।

- Ans
- 1. $15\frac{2}{3}\%$
 - 2. 7%
 - 3. $9\frac{3}{5}\%$
 - 4. $12\frac{1}{2}\%$

Question ID : 65497835017
Status : Answered
Chosen Option : 4

Q.16 A, B और C मिलकर एक कार्य को 8 दिन में पूरा कर सकते हैं। यदि A, B से 50% अधिक दक्ष है और B, C से 50% अधिक दक्ष है, तो B अकेले उसी कार्य को कितने समय में पूरा कर लेगा?

- Ans
- 1. 48 दिन
 - 2. 36 दिन
 - 3. 24 दिन
 - 4. 16 दिन

Question ID : 65497835015

Status : Answered

Chosen Option : 3

Q.17 एक ऋण दो समान वार्षिक किश्तों में लौटाया जाना है। यदि ब्याज की दर 10% वार्षिक है, जिसकी गणना वार्षिक चक्रवृद्धि आधार पर की जाती है और प्रत्येक किश्त ₹3,872 की है, तो ऋण की राशि (₹ में) कितनी है?

- Ans
- 1. 6,720
 - 2. 7,744
 - 3. 7,500
 - 4. 6,500

Question ID : 65497834996

Status : Answered

Chosen Option : 4

Q.18 यदि T मूलधन को निरूपित करता है, M वर्षों की संख्या को निरूपित करता है, P ब्याज की दर को निरूपित करता है (ब्याज वार्षिक आधार पर चक्रवृद्धि होता है), तो चक्रवृद्धि ब्याज किस प्रकार दर्शाया जाएगा?

- Ans
- 1. $T(1 + P/100)^M - T$
 - 2. $T(1 + P/100)^M$
 - 3. $M(1 + M/100)^P$
 - 4. $M(1 + T/100)^P - T$

Question ID : 65497835004

Status : Answered

Chosen Option : 1

Q.19 दो उम्मीदवारों के बीच चुनाव में, 82% मतदाताओं ने मतदान किया जिनमें से 4% मत अवैध पाए गए। विजेता उम्मीदवार को 108240 मत मिले जो कि वैध मतों के 55% हैं। उन मतदाताओं की कुल संख्या कितनी है जिन्होंने इस चुनाव में मतदान किया?

- Ans
- 1. 205000
 - 2. 200000
 - 3. 200500
 - 4. 250000

Question ID : 65497835008
Status : Answered
Chosen Option : 1

Q.20 पहली 7 विषम अभाज्य संख्याओं का माध्य (दशमलव के दो स्थानों तक सही) ज्ञात करें।

- Ans
- 1. 10.71
 - 2. 12.35
 - 3. 12.45
 - 4. 7.34

Question ID : 65497835002
Status : Answered
Chosen Option : 1

Q.21 राम, जो कि कृष की तुलना में आधा कार्यकुशल है, एक काम को अकेले 12 दिन में पूरा करेगा। यदि राम और कृष एक साथ मिलकर कार्य करते हैं, तो वे कार्य को पूरा करने में कितना समय लेंगे?

- Ans
- 1. 6 दिन
 - 2. 4 दिन
 - 3. 2 दिन
 - 4. 8 दिन

Question ID : 65497835000
Status : Answered
Chosen Option : 2

Q.22 तीन संख्याओं का अनुपात 3 : 2 : 5 और उनके वर्गों का योग 8550 है। उन संख्याओं का योग ज्ञात करें।

- Ans
- 1. 225
 - 2. 75
 - 3. 172
 - 4. 150

Question ID : 65497835009
Status : Answered
Chosen Option : 4

Q.23 एक वस्तु को 18% की हानि पर बेचा गया। यदि उस वस्तु को ₹2,475 अधिक में बेचा जाता, तो 12% का लाभ प्राप्त होता। वस्तु का विक्रय मूल्य (₹ में) ज्ञात कीजिए।

- Ans
- 1. 7,275
 - 2. 6,765
 - 3. 8,250
 - 4. 8,000

Question ID : 65497834995
Status : Answered
Chosen Option : 2

Q.24 एक स्कूल में कुल छात्रों के रूप में केवल लड़के और लड़कियां हैं। स्कूल में लड़कों और लड़कियों की संख्या का अनुपात 5 : 8 है। स्कूल में छात्रों की कुल संख्या कितनी हो सकती है?

- Ans
- 1. 1690
 - 2. 2700
 - 3. 1800
 - 4. 2100

Question ID : 65497834993
Status : Answered
Chosen Option : 1

Q.25 वह छोटी से छोटी संख्या कौन-सी है जिसे 5 में जोड़े जाने पर वह 15, 20 और 21 से पूर्णतः विभाज्य हो जाती है?

- Ans
- 1. 425
 - 2. 210
 - 3. 420
 - 4. 415

Question ID : 65497835007
Status : Answered
Chosen Option : 4

Section : Part D English

Q.1 Select the option that can be used as a one-word substitute for the given group of words.

The art of effective speaking

- Ans
- 1. Impromptu
 - 2. Allocation
 - 3. Elocution
 - 4. Extempore

Question ID : 65497835029
Status : Not Answered
Chosen Option : --

Q.2 Select the most appropriate meaning of the given idiom.

Feel at sea

- Ans
- 1. To travel always by sea
 - 2. To experience sea for the first time
 - 3. To feel exhausted
 - 4. To feel lost or confused

Question ID : 65497835031
Status : Not Answered
Chosen Option : --

Q.3 Select the correctly spelt word.

- Ans
- 1. Domicille
 - 2. Penninsula
 - 3. Canibal
 - 4. Pharmacy

Question ID : 65497835025
Status : Not Answered
Chosen Option : --

Q.4 Select the most appropriate option to fill in the blank.

The book gives a _____ account of the horrors of war.

- Ans
- 1. heroic
 - 2. bulky
 - 3. pleasant
 - 4. graphic

Question ID : 65497835036
Status : Not Answered
Chosen Option : --

Q.5 Select the option that will improve the underlined part of the given sentence. In case no improvement is needed, select 'No improvement required'.

She just completed the work before her friend came.

- Ans
- 1. just has completed the work
 - 2. had just completed the work
 - 3. has just completed the work
 - 4. No improvement required

Question ID : 65497835024
Status : Not Answered
Chosen Option : --

Q.6 Select the most appropriate meaning of the given idiom.

In the same boat

- Ans
- 1. Having fun
 - 2. Sharing a ride
 - 3. In a similar situation
 - 4. To be calm

Question ID : 65497835022
Status : Not Answered
Chosen Option : --

Q.7 Select the most appropriate option to fill in the blank.

Edit and proofread your essay _____ times.

- Ans
- 1. much
 - 2. few
 - 3. less
 - 4. several

Question ID : 65497835018
Status : Not Answered
Chosen Option : --

Q.8 Select the most appropriate option to fill in the blank.

He recovered after a _____ illness.

- Ans
- 1. projected
 - 2. stretched
 - 3. prolonged
 - 4. surprise

Question ID : 65497835026
Status : Not Answered
Chosen Option : --

Q.9 Select the option that will improve the underlined part of the given sentence. In case no improvement is needed, select 'No improvement required'. The strong wind almost lifted me off my feet.

- Ans
- 1. above my feet
 - 2. No improvement required
 - 3. over my feet
 - 4. against my feet

Question ID : 65497835037
Status : Not Answered
Chosen Option : --

Q.10 The following sentence has been split into four segments. Identify the segment that contains a grammatical error.

The road was blocked / so we had / to turn back and / find another one route.

- Ans
- 1. so we had
 - 2. to turn back and
 - 3. The road was blocked
 - 4. find another one route

Question ID : 65497835032
Status : Not Answered
Chosen Option : --

Q.11 Select the most appropriate synonym of the given word.

Facility

- Ans
- 1. Happiness
 - 2. Fitting
 - 3. Skill
 - 4. Luck

Question ID : 65497835021
Status : Not Answered
Chosen Option : --

Q.12 Select the most appropriate ANTONYM of the given word.

Guilty

- Ans
- 1. Ignorant
 - 2. Innocent
 - 3. Sad
 - 4. Clever

Question ID : 65497835028
Status : Not Answered
Chosen Option : --

Q.13 Select the most appropriate ANTONYM of the given word.

Distinctive

- Ans
- 1. Similarity
 - 2. Common
 - 3. Original
 - 4. Close

Question ID : 65497835035
Status : Not Answered
Chosen Option : --

Q.14 Select the correctly spelt word.

- Ans
- 1. Maintenance
 - 2. Refree
 - 3. Restaraunt
 - 4. Millienum

Question ID : 65497835030
Status : Not Answered
Chosen Option : --

Q.15 Select the option that can be used as a one-word substitute for the given group of words.

Not to pay attention to someone or something

- Ans
- 1. Argue
 - 2. Ignore
 - 3. Attract
 - 4. Rebel

Question ID : 65497835023
Status : Not Answered
Chosen Option : --

Q.16 Select the most appropriate synonym of the given word.

Kinship

- Ans
- 1. Incompatibility
 - 2. Relationship
 - 3. Partnership
 - 4. Viewership

Question ID : 65497835033
Status : Not Answered
Chosen Option : --

Q.17 The following sentence has been split into four segments. Identify the segment that contains a grammatical error.

Laughing for about ten minutes / continuous each day / is supposed to be / good for your health.

- Ans
- 1. good for your health
 - 2. is supposed to be
 - 3. continuous each day
 - 4. Laughing for about ten minutes

Question ID : 65497835020
Status : Not Answered
Chosen Option : --

Q.18 Select the option that can be used as a one-word substitute for the given group of words.

A change which is the result of an act or some cause

- Ans
- 1. Effect
 - 2. Affect
 - 3. Product
 - 4. Addition

Question ID : 65497835034
Status : Not Answered
Chosen Option : --

Q.19 Select the most appropriate option that can substitute the underlined segment in the given sentence. If there is no need to substitute it, select 'No substitution required'.

"The players needing a break and we think it's time for them to rest," the coach told the reporters.

- Ans
- 1. No substitution required
 - 2. need a break
 - 3. needs a break
 - 4. are need a break

Question ID : 65497835019
Status : Not Answered
Chosen Option : --

Q.20 The following sentence has been split into four segments. Identify the segment that contains a grammatical error.

Has the situation / been favourable, / I would have / attended the marriage.

- Ans
- 1. attended the marriage
 - 2. Has the situation
 - 3. I would have
 - 4. been favourable

Question ID : 65497835027
Status : Not Answered
Chosen Option : --

Comprehension:

In the following passage, some words have been deleted. Read the passage carefully and select the most appropriate option to fill in each blank.

It was a cold, wet January day on (1) _____. Tom went back to school. He carried in his pocket (2) _____ sugar-candies and a doll for little Laura. The (3) _____ was long and boring. Tom wanted to reach as quickly as (4) _____. He couldn't wait to see Laura with the (5) _____ smile on her face.

SubQuestion No : 21

Q.21 Select the most appropriate option to fill in blank number 1.

Ans 1. which

2. that

3. where

4. when

Question ID : 65497835039

Status : Not Answered

Chosen Option : --

Comprehension:

In the following passage, some words have been deleted. Read the passage carefully and select the most appropriate option to fill in each blank.

It was a cold, wet January day on (1) _____. Tom went back to school. He carried in his pocket (2) _____ sugar-candies and a doll for little Laura. The (3) _____ was long and boring. Tom wanted to reach as quickly as (4) _____. He couldn't wait to see Laura with the (5) _____ smile on her face.

SubQuestion No : 22

Q.22 Select the most appropriate option to fill in blank number 2.

Ans 1. none

2. any

3. some

4. much

Question ID : 65497835040

Status : Not Answered

Chosen Option : --

Comprehension:

In the following passage, some words have been deleted. Read the passage carefully and select the most appropriate option to fill in each blank.

It was a cold, wet January day on (1) _____. Tom went back to school. He carried in his pocket (2) _____ sugar-candies and a doll for little Laura. The (3) _____ was long and boring. Tom wanted to reach as quickly as (4) _____. He couldn't wait to see Laura with the (5) _____ smile on her face.

SubQuestion No : 23

Q.23 Select the most appropriate option to fill in blank number 3.

- Ans
- 1. adventure
 - 2. visit
 - 3. passage
 - 4. journey

Question ID : 65497835041
Status : Not Answered
Chosen Option : --

Comprehension:

In the following passage, some words have been deleted. Read the passage carefully and select the most appropriate option to fill in each blank.

It was a cold, wet January day on (1) _____. Tom went back to school. He carried in his pocket (2) _____ sugar-candies and a doll for little Laura. The (3) _____ was long and boring. Tom wanted to reach as quickly as (4) _____. He couldn't wait to see Laura with the (5) _____ smile on her face.

SubQuestion No : 24

Q.24 Select the most appropriate option to fill in blank number 4.

- Ans
- 1. portable
 - 2. practical
 - 3. probable
 - 4. possible

Question ID : 65497835042
Status : Not Answered
Chosen Option : --

Comprehension:

In the following passage, some words have been deleted. Read the passage carefully and select the most appropriate option to fill in each blank.

It was a cold, wet January day on (1) _____. Tom went back to school. He carried in his pocket (2) _____ sugar-candies and a doll for little Laura. The (3) _____ was long and boring. Tom wanted to reach as quickly as (4) _____. He couldn't wait to see Laura with the (5) _____ smile on her face.

SubQuestion No : 25

Q.25 Select the most appropriate option to fill in blank number 5.

Ans 1. adorable

2. capable

3. reliable

4. suitable

Question ID : 65497835043

Status : Not Answered

Chosen Option : --

Section : Part D Hindi

Q.1 दिए गये वाक्यांश के लिए एक शब्द है-

जिसका मूल नहीं है-

Ans 1. अमूल

2. निर्मूल

3. जड़मूल

4. समूल

Question ID : 65497835047

Status : Answered

Chosen Option : 2

Q.2 निम्न में से कौन से युग्म में पर्यायवाची शब्द दिए गए हैं?

Ans 1. हाथी - गज

2. जय - पराजय

3. आश्रय - गगनचुम्बी इमारत

4. कुबेर - गद्ध

Question ID : 65497835062

Status : Answered

Chosen Option : 1

Q.3 दिए गए वाक्य का वह भाग ज्ञात करें जिसमें कोई त्रुटि है। यदि कोई त्रुटि नहीं है, तो 'कोई त्रुटि नहीं है' चुनें।

उसने बोला कि (1)\ वह खाना (2)\ नहीं खाएंगे (3)\ कोई त्रुटि नहीं है (4)

Ans 1. 1

2. 2

3. 4

4. 3

Question ID : 65497835045

Status : Answered

Chosen Option : 4

Q.4 दिए गए वाक्य में रेखांकित खंड को प्रतिस्थापित करने के लिए सबसे उपयुक्त विकल्प का चयन करें। यदि इसे प्रतिस्थापित करने की आवश्यकता नहीं है, तो विकल्प 'किसी बदलाव की आवश्यकता नहीं है' का चयन करें।

युवती ने घबराकर पूछा।

Ans 1. घबराई और पूछने लगी

2. घबराकर पूछी

3. घबराई हुई पूछी

4. किसी बदलाव की आवश्यकता नहीं है।

Question ID : 65497835044

Status : Answered

Chosen Option : 4

Q.5 रिक्त स्थान की पूर्ति के लिए सबसे उपयुक्त शब्द का चयन करें-

जलसे में _____ लोग थे कि कहीं भी खड़े होने की जगह न थी।

Ans 1. इतने

2. कुछ

3. थोड़े

4. कम

Question ID : 65497835058

Status : Answered

Chosen Option : 1

Q.6 अशुद्ध अंश को पहचानिए-

हमें / रविवार को / पिताजी के साथ / बाहर जानी है

Ans 1. बाहर जानी है

2. रविवार को

3. हमें

4. पिताजी के साथ

Question ID : 65497835061

Status : Answered

Chosen Option : 1

Q.7 'सारे शरीर की हड्डियों का ढांचा' वाक्यांश के लिए एक शब्द होगा-

- Ans
- 1. जंजाल
 - 2. खोपड़ी
 - 3. कंकाल
 - 4. जीवाश्म

Question ID : 65497835063
Status : Answered
Chosen Option : 3

Q.8 नीचे दिए वाक्य में रिक्त-स्थान की पूर्ति के लिए सबसे उपयुक्त शब्द का चयन करें।

हवा की _____ में भी संगीत है।

- Ans
- 1. कड़कड़ाहट
 - 2. झनझनाहट
 - 3. घरघराहट
 - 4. सरसराहट

Question ID : 65497835057
Status : Answered
Chosen Option : 4

Q.9 दिए गए वाक्य का वह भाग ज्ञात करें जिसमें कोई त्रुटि है। यदि कोई त्रुटि नहीं है, तो 'कोई त्रुटि नहीं है' चुनें।

इस सम्बन्ध से (1)/ और अधिक कहने की (2)/ आवश्यकता नहीं है (3)/ कोई त्रुटि नहीं है (4)

- Ans
- 1. 4
 - 2. 1
 - 3. 3
 - 4. 2

Question ID : 65497835050
Status : Answered
Chosen Option : 2

Q.10 दिए गए शब्द का विलोम चुनें।

उष्ण

- Ans
- 1. गर्म
 - 2. शीतल
 - 3. शीतोष्ण
 - 4. ग्रीष्म

Question ID : 65497835055
Status : Answered
Chosen Option : 2

Q.11 दिए गए शब्द का विलोम चुनें।

क्षर

- Ans 1. विक्रर
 2. निरक्षर
 3. अक्षर
 4. साक्षर

Question ID : 65497835051

Status : Answered

Chosen Option : 3

Q.12 दुष्काल में भूख से मरने की अवस्था हो जाती है।

शब्द समूह के स्थान पर उचित शब्द लिखिए-

- Ans 1. निराशाजनक
 2. भूखमरी
 3. बहुत खाकर
 4. निरोगी

Question ID : 65497835060

Status : Answered

Chosen Option : 2

Q.13 दिए गए शब्द का समानार्थी शब्द निम्न में से कौन सा नहीं है-

गरीब

- Ans 1. दरिद्र
 2. अकिंचन
 3. भृत्य
 4. कंगाल

Question ID : 65497835046

Status : Answered

Chosen Option : 3

Q.14 उस विकल्प का चयन करें जो निम्न मुहावरे का सही अर्थ व्यक्त करता है।

सब्ज़ बाग़ दिखाना

- Ans 1. हरियाली दिखाना
 2. दशा सुधारना
 3. अपन सपने सुनाना
 4. अच्छी-अच्छी बातें कहकर बहकाना

Question ID : 65497835048

Status : Answered

Chosen Option : 4

Q.15 सही वर्तनी वाले शब्द का चयन करें।

- Ans 1. अधिआत्मिक
 2. अध्यात्मिक
 3. अधयात्मिक
 4. आध्यात्मिक

Question ID : 65497835053
Status : Answered
Chosen Option : 4

Q.16 दिये गये वाक्य में रेखांकित अंश को प्रतिस्थापित करने के लिए सबसे उपयुक्त विकल्प का चयन करें।

दूध लीटर की नाप से बिकता है।

- Ans 1. जाँच
 2. कीमत
 3. माप
 4. तौल

Question ID : 65497835059
Status : Answered
Chosen Option : 3

Q.17 सही वर्तनी वाले शब्द का चयन करें।

- Ans 1. विदूषी
 2. वीदुषी
 3. विदुषि
 4. विदुषी

Question ID : 65497835054
Status : Answered
Chosen Option : 3

Q.18 उस विकल्प का चयन करें जो निम्न मुहावरे का सही अर्थ व्यक्त करता है।

विष उगलना

- Ans 1. बुराई का प्रचार करना
 2. हानि पहुंचाना
 3. क्रोध करना
 4. द्वेषपूर्ण बात करना

Question ID : 65497835056
Status : Answered
Chosen Option : 4

Q.19 रिक्त स्थान की पूर्ति के लिए सबसे उपयुक्त शब्द का चयन करें।

हमारे शिक्षक प्रश्न _____ हैं।

Ans 1. पूछते

2. पुछवाते

3. पुछते

4. कहते

Question ID : 65497835049

Status : Answered

Chosen Option : 1

Q.20 दिये गये वाक्यांश के लिए एक शब्द दीजिये।

जो कम खर्च करने वाला हो

Ans 1. मितव्ययी

2. अल्पव्ययी

3. अव्ययी

4. अतिव्ययी

Question ID : 65497835052

Status : Answered

Chosen Option : 2

Comprehension:

दिए गए गद्यांश में से कुछ शब्द हटा दिए गए हैं। संबंधित प्रश्नों में प्रत्येक संख्या के लिए सबसे उपयुक्त विकल्प का चयन करें।

मोह मन की उस (1) _____ का द्योतक है, जिसमें मनुष्य (2) _____ के कारण सत्य को (3) _____ में (4) _____ हो जाता है। मोह के कारण हमारी चेतना पर ममत्व का (5) _____ चढ़ जाता है।

SubQuestion No : 21

Q.21 गद्यांश के रिक्त स्थान (1) के लिए सर्वाधिक उपयुक्त शब्द होगा-

Ans 1. चाहत

2. परिस्थिति

3. कामना

4. दशा

Question ID : 65497835065

Status : Answered

Chosen Option : 4

Comprehension:

दिए गए गद्यांश में से कुछ शब्द हटा दिए गए हैं। संबंधित प्रश्नों में प्रत्येक संख्या के लिए सबसे उपयुक्त विकल्प का चयन करें।

मोह मन की उस (1) _____ का द्योतक है, जिसमें मनुष्य (2) _____ के कारण सत्य को (3) _____ में (4) _____ हो जाता है। मोह के कारण हमारी चेतना पर ममत्व का (5) _____ चढ़ जाता है।

SubQuestion No : 22

Q.22 गद्यांश के रिक्त स्थान (2) के लिए सर्वाधिक उपयुक्त शब्द होगा-

- Ans
- 1. विवशता
 - 2. शंका
 - 3. कुंठा
 - 4. भ्रम

Question ID : 65497835066

Status : Answered

Chosen Option : 1

Comprehension:

दिए गए गद्यांश में से कुछ शब्द हटा दिए गए हैं। संबंधित प्रश्नों में प्रत्येक संख्या के लिए सबसे उपयुक्त विकल्प का चयन करें।

मोह मन की उस (1) _____ का द्योतक है, जिसमें मनुष्य (2) _____ के कारण सत्य को (3) _____ में (4) _____ हो जाता है। मोह के कारण हमारी चेतना पर ममत्व का (5) _____ चढ़ जाता है।

SubQuestion No : 23

Q.23 गद्यांश के रिक्त स्थान (3) के लिए सर्वाधिक उपयुक्त शब्द होगा-

- Ans
- 1. पहचानने
 - 2. पकड़ने
 - 3. चुनने
 - 4. जानने

Question ID : 65497835067

Status : Answered

Chosen Option : 1

Comprehension:

दिए गए गद्यांश में से कुछ शब्द हटा दिए गए हैं। संबंधित प्रश्नों में प्रत्येक संख्या के लिए सबसे उपयुक्त विकल्प का चयन करें।

मोह मन की उस (1) _____ का द्योतक है, जिसमें मनुष्य (2) _____ के कारण सत्य को (3) _____ में (4) _____ हो जाता है। मोह के कारण हमारी चेतना पर ममत्व का (5) _____ चढ़ जाता है।

SubQuestion No : 24

Q.24 गद्यांश के रिक्त स्थान (4) के लिए सर्वाधिक उपयुक्त शब्द होगा-

- Ans
- 1. असमर्थ
 - 2. निपुण
 - 3. मोहासक्त
 - 4. विवश

Question ID : 65497835068

Status : Answered

Chosen Option : 1

Comprehension:

दिए गए गद्यांश में से कुछ शब्द हटा दिए गए हैं। संबंधित प्रश्नों में प्रत्येक संख्या के लिए सबसे उपयुक्त विकल्प का चयन करें।

मोह मन की उस (1) _____ का द्योतक है, जिसमें मनुष्य (2) _____ के कारण सत्य को (3) _____ में (4) _____ हो जाता है। मोह के कारण हमारी चेतना पर ममत्व का (5) _____ चढ़ जाता है।

SubQuestion No : 25

Q.25 गद्यांश के रिक्त स्थान (5) के लिए सर्वाधिक उपयुक्त शब्द होगा-

- Ans
- 1. चादर
 - 2. रंग
 - 3. मुखौटा
 - 4. आवरण

Question ID : 65497835069

Status : Answered

Chosen Option : 4

GovtJobsAlert.in