

Constable GD in CAPFs NIA SSF and Rifleman GD in Assam Rifles Examination 2021

Roll Number	www.GovtJobsAlert.In
Candidate Name	www.GovtJobsAlert.In
Venue Name	Maa Santoshi Computers Pvt. Ltd.
Exam Date	23/11/2021
Exam Time :	9:00 AM - 10:30 AM
Subject	Constable GD 2021

Section : Part A General Intelligence and Reasoning

Q.1 उस विकल्प का चयन करें जो तीसरी संख्या से उसी प्रकार संबंधित है जिस प्रकार दूसरी संख्या पहली संख्या से संबंधित है।

15 : 225 :: 24 : ?

- Ans
- 1. 552
 - 2. 446
 - 3. 529
 - 4. 576

Question ID : 65497833173

Status : Answered

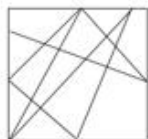
Chosen Option : 4

Q.2 उस विकल्प का चयन करें जिसमें दी गई आकृति अंतर्निहित है (आकृति को घुमाने की अनुमति नहीं है)।

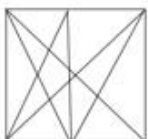


Ans

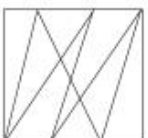
✓ 1.



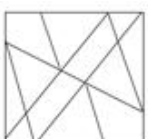
✗ 2.



✗ 3.



✗ 4.



Question ID : 65497833176

Status : Answered

Chosen Option : 1

Q.3 'प्रतिरोध' का जो संबंध 'ओम' से है, 'बल' का वही संबंध '_____' से है।

Ans

✗ 1. वोल्ट

✗ 2. अंश

✓ 3. न्यूटन

✗ 4. रेडियन

Question ID : 65497833182

Status : Answered

Chosen Option : 3

Q.4 चार अक्षर समूह दिए गए हैं, जिनमें से तीन किसी तरह से समान हैं और एक असंगत है। उस असंगत अक्षर समूह का चयन कीजिए।

Ans

✗ 1. LMWU

✓ 2. PQZY

✗ 3. JKUS

✗ 4. DEOM

Question ID : 65497833165

Status : Answered

Chosen Option : 2

Q.5 दिए गए कथनों और निष्कर्षों को ध्यानपूर्वक पढ़ें। यह मानते हुए कि कथनों में दी गई सूचना सत्य है, भले ही वह सामान्य रूप से ज्ञात तथ्यों से भिन्न प्रतीत होती हो, और बताइए कि दिए गए निष्कर्षों में से कौन-सा/से निष्कर्ष कथनों का तार्किक रूप से अनुसरण करता है/करते हैं।

कथन:

कुछ चम्मच, प्लेट हैं।
कुछ प्लेट, गिलास हैं।

निष्कर्ष:

- I. कोई भी गिलास, चम्मच नहीं है।
- II. कोई भी प्लेट, चम्मच नहीं है।
- III. कुछ गिलास, चम्मच हैं।

- Ans
- 1. केवल निष्कर्ष II और III अनुसरण करते हैं।
 - 2. सभी निष्कर्ष अनुसरण करते हैं।
 - 3. या तो निष्कर्ष I या निष्कर्ष III अनुसरण करता है।
 - 4. केवल निष्कर्ष I और II अनुसरण करते हैं।

Question ID : 65497833185

Status : Answered

Chosen Option : 3

Q.6 राजपाल और रामपाल दो भाई हैं। सुनीता, राजपाल की भाभी है। रघुबीर, सुनीता के पिता हैं। सुनीता, विक्रम की इकलौती बहन है। हर्ष, सुनीता का इकलौता पुत्र है। रामपाल का हर्ष से क्या संबंध है?

- Ans
- 1. पिता
 - 2. चाचा
 - 3. दादा
 - 4. मामा

Question ID : 65497833171

Status : Answered

Chosen Option : 1

Q.7 दिए गए विकल्पों में से उस आकृति का चयन करें, जो निम्नलिखित आकृति में प्रश्नवाचक चिह्न (?) के स्थान पर आ सकती है, और पैटर्न को पूरा कर सकती है (घुमाने की अनुमति नहीं है)।



- Ans
- 1.
 - 2.
 - 3.
 - 4.

Question ID : 65497833180

Status : Answered

Chosen Option : 4

Q.8 निम्नलिखित विकल्पों में से उस विकल्प का चयन करें, जो दिए गए शब्दों के उस सही क्रम को दर्शाता है, जिस क्रम में ये शब्द अंग्रेजी शब्दकोश में दिखाई देते हैं।

1. Stumpy
2. Stumble
3. Stupor
4. Stuffy
5. Stung

- Ans
- 1. 4, 1, 2, 5, 3
 - 2. 4, 2, 1, 5, 3
 - 3. 4, 2, 5, 1, 3
 - 4. 2, 4, 1, 5, 3

Question ID : 65497833177

Status : Answered

Chosen Option : 2

Q.9 दिए गए पैटर्न का ध्यानपूर्वक अध्ययन कीजिए और उस संख्या का चयन कीजिए जो इसमें प्रश्नवाचक चिह्न (?) के स्थान पर आ सकती है।

4 10 9
5 13 13
7 19 ?

- Ans
- 1. 13
 - 2. 21
 - 3. 17
 - 4. 23

Question ID : 65497833186

Status : Not Attempted and
Marked For Review

Chosen Option : --

Q.10 अक्षरों के उस संयोजन का चयन करें, जिसे जब दी गई श्रृंखला के रिक्त स्थानों में क्रम से रखा जाए, तो श्रृंखला पूर्ण हो सके।

S O _ _ T A S _ _ A T A _ _ N A T _ _ O N A _ _

- Ans
- 1. NAONSOTASA
 - 2. NAONSOASON
 - 3. NAONSOASTA
 - 4. NAONSOSATA

Question ID : 65497833178

Status : Not Answered

Chosen Option : --

Q.11 दिए गए विकल्पों में से उस संख्या का चयन करें, जो निम्नलिखित श्रृंखला में प्रश्नवाचक चिह्न (?) के स्थान पर आ सकती है।

7, 11, 16, 22, ?, 37, 46

Ans 1. 29

2. 27

3. 28

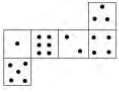
4. 31

Question ID : 65497833179

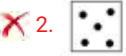
Status : Answered

Chosen Option : 1

Q.12 नीचे दी गई शीट को मोड़कर एक बॉक्स बनाया गया है। इस प्रकार बने बॉक्स में, उस फलक का चयन करें जो चार बिंदु दर्शाने वाले फलक के विपरीत फलक पर होगा।



Ans



Question ID : 65497833175

Status : Answered


Chosen Option : 1

Q.13 निम्नांकित आकृतियों में एक कागज के टुकड़े को मोड़ने का क्रम और मुड़े हुए कागज को काटने की विधि दर्शाई गई है। यह कागज खोलने पर कैसा दिखेगा?




Ans


✓ 1.




✗ 2.



✗ 3.



✗ 4.



Question ID : 65497833188

Status : Answered

Chosen Option : 1

Q.14 यदि $5 + 8 = 14$, $9 + 6 = 21$, और $4 + 10 = 13$ है, तो $7 + 2 =$ कितना होगा?

Ans ✓ 1. 15

✗ 2. 16

✗ 3. 18

✗ 4. 17

Question ID : 65497833187

Status : Not Attempted and Marked For Review

Chosen Option : --

Q.15 दिए गए विकल्पों में से उस संख्या का चयन कीजिए जो निम्नलिखित श्रृंखला में प्रश्न चिह्न (?) को प्रतिस्थापित कर सकती है।

1, 8, 64, 512, ?

Ans ✗ 1. 17282

✓ 2. 4096

✗ 3. 2744

✗ 4. 2197

Question ID : 65497833167

Status : Answered

Chosen Option : 2

Q.16 यदि 'N' का अर्थ 'x' है, 'T' का अर्थ '-' है, 'M' का अर्थ '=' है, 'A' का अर्थ '=' है, और 'R' का अर्थ '+' है, तो निम्नलिखित में से कौन सा समीकरण तार्किक रूप से सही होगा?

- Ans
- 1. 36M18N36R18T36A58
 - 2. 36N18R36M18T36A54
 - 3. 36A18T36N18R36M54
 - 4. 36M18N36R18T36A54

Question ID : 65497833174

Status : **Not Attempted and Marked For Review**

Chosen Option : --

Q.17 एक निश्चित कूट भाषा में, 'GROWTH' को 'OIGHGW' लिखा जाता है। उसी कूट भाषा में, 'GODREJ' को क्या लिखा जाएगा?

- Ans
- 1. DOGJER
 - 2. DGLVJR
 - 3. DPGJZR
 - 4. DLGJVR

Question ID : 65497833183

Status : **Answered**

Chosen Option : 1

Q.18 उस अक्षर-समूह का चयन कीजिए जो निम्नांकित श्रेणी में प्रश्नवाचक चिह्न (?) के स्थान पर आ सकता है।

BER, EAT, HWV, ?, NOZ

- Ans
- 1. LSY
 - 2. LSX
 - 3. KTX
 - 4. KSX

Question ID : 65497833181

Status : **Answered**

Chosen Option : 4

Q.19 उस विकल्प का चयन कीजिए जिसका तीसरे पद से वही संबंध है जो दूसरे पद का पहले पद से है।

BEARD : FTCGD :: CROWN : ?

- Ans
- 1. PYBCE
 - 2. WXDJM
 - 3. PYQTE
 - 4. PYQVH

Question ID : 65497833169

Status : **Answered**

Chosen Option : 3

Q.20 एक निश्चित कूट भाषा में, PRINCE को OQHODF लिखा जाता है। उसी कूट भाषा में BUDGET को क्या लिखा जाएगा?

- Ans 1. ATCHFU
 2. DBQSFU
 3. ATEIFU
 4. ATCIFU

Question ID : 65497833170
Status : Answered
Chosen Option : 1

Q.21 छह मित्र उत्तर दिशा की ओर अभिमुख होकर एक पंक्ति में बैठे हैं। मेहर पश्चिमी छोर पर बैठी है। निधि केवल सिया के बाईं ओर बैठी है। अंश और निधि के बीच में दो व्यक्ति बैठे हैं। गौरव और मेहर के बीच में एक व्यक्ति बैठा है। रक्षित, अंश के दाईं ओर बैठा है। पूर्व से तीसरे स्थान पर कौन-सा व्यक्ति बैठा है?

- Ans 1. रक्षित
 2. गौरव
 3. अंश
 4. निधि

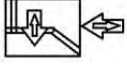
Question ID : 65497833172
Status : Answered
Chosen Option : 2

Q.22 एक निश्चित कूट भाषा में, TAILOR को 538490 और LAND को 4367 के रूप में कूटबद्ध किया गया है। उसी भाषा में DRAIN को किस रूप में कूटबद्ध किया जाएगा?

- Ans 1. 70367
 2. 70389
 3. 70386
 4. 60378

Question ID : 65497833166
Status : Answered
Chosen Option : 3

Q.23 यदि दर्पण को दी गई आकृति के दाईं ओर रखा गया हो, तो आकृति का सही दर्पण प्रतिबिंब चयनित कीजिए।



Ans

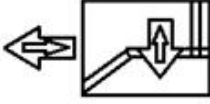
✗ 1.



✓ 2.



✗ 3.



✗ 4.



Question ID : 65497833168

Status : Answered

Chosen Option : 2

Q.24 छह सहेलियाँ गोपी, शीला, रावली, सरयू, हिना और गिरि उत्तर दिशा की ओर मुख करके एक पंक्ति में खड़ी हैं। शीला और हिना के बीच में दो व्यक्ति हैं। रावली ठीक हिना और सरयू के बीच में है। गोपी के आगे केवल एक व्यक्ति है। गिरि ठीक गोपी और हिना के बीच में है। हिना पंक्ति में पीछे से तीसरे स्थान पर है। शीला और हिना के बीच में कौन-से दो व्यक्ति हैं?

Ans

✗ 1. गिरि और सरयू

✓ 2. गोपी और गिरि

✗ 3. सरयू और रावली

✗ 4. गोपी और रावली

Question ID : 65497833184

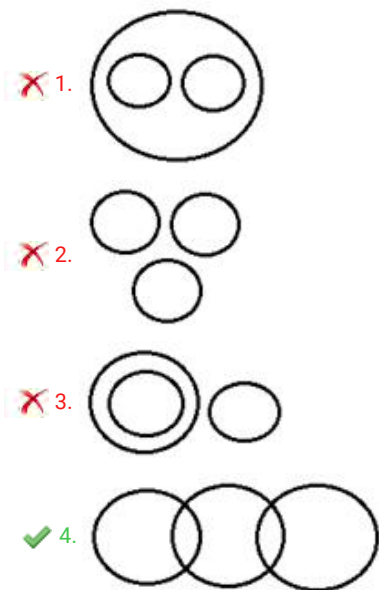
Status : Not Answered

Chosen Option : --

Q.25 Select the Venn diagram that best represents the relationship between the following classes.

Entrance test, Questions, Practice test

Ans



Question ID : 65497833189

Status : Answered

Chosen Option : 1

Section : Part B General Knowledge and General Awareness

Q.1 किसकी सलाह पर, गांधीजी ने जमीन और वहां के लोगों के बारे में जानने के लिए एक वर्ष ब्रिटिश भारत की यात्रा पर बिताया?

- Ans
- ✘ 1. लाला लाजपत राय
 - ✘ 2. बिपिन चंद्र पाल
 - ✘ 3. बाल गंगाधर तिलक
 - ✔ 4. गोपाल कृष्ण गोखले

Question ID : 65497833210

Status : Answered

Chosen Option : 4

Q.2 निम्नलिखित में से वह कौन सा गंभीर मानसिक रोग है, जो व्यक्ति के सोचने, अनुभूति करने और व्यवहार करने के ढंग को प्रभावित करता है?

- Ans
- ✘ 1. फीताकृमि संक्रमण (Taeniasis)
 - ✘ 2. धमनीकाठिन्य (Atherosclerosis)
 - ✔ 3. खंडित मनस्कता (Schizophrenia)
 - ✘ 4. गोलकृमि संक्रमण (Ascariasis)

Question ID : 65497833202

Status : Not Answered

Chosen Option : --

Q.3 लखनऊ के बुनकरों की अद्वितीय पारंपरिक कढ़ाई की कला, निम्नलिखित में से क्या कहलाती है?

- Ans
- 1. ज़रदोज़ी
 - 2. फुलकारी
 - 3. चिकनकारी
 - 4. कशीदाकारी

Question ID : 65497833190
Status : Not Answered
Chosen Option : --

Q.4 भारत के संविधान के निम्नलिखित मौलिक अधिकारों में से कौन सा बलात् श्रम के निषेध पर जोर देता है?

- Ans
- 1. शोषण के विरुद्ध अधिकार
 - 2. संवैधानिक उपचार का अधिकार
 - 3. सांस्कृतिक और शैक्षिक अधिकार
 - 4. स्वतंत्रता का अधिकार

Question ID : 65497833211
Status : Answered
Chosen Option : 1

Q.5 श्रम और रोजगार मंत्रालय ने कौशल विकास पर पहली राष्ट्रीय नीति किस वर्ष तैयार की थी?

- Ans
- 1. 2001
 - 2. 2009
 - 3. 2005
 - 4. 2015

Question ID : 65497833209
Status : Answered
Chosen Option : 3

Q.6 गुरुमुखी लिपि का आविष्कार निम्नलिखित में से किस गुरु द्वारा किया गया था?

- Ans
- 1. गुरु अर्जन
 - 2. गुरु तेग बहादुर
 - 3. गुरु नानक
 - 4. गुरु अंगद

Question ID : 65497833207
Status : Answered
Chosen Option : 3

Q.7 निम्नलिखित में से कौन सा देश शंघाई सहयोग संगठन की 19वीं शासनाध्यक्ष परिषद् की बैठक की मेज़बानी करेगा?

- Ans
- 1. चीन
 - 2. उज़्बेकिस्तान
 - 3. रूस
 - 4. भारत

Question ID : 65497833198
Status : Answered
Chosen Option : 1

Q.8 केंद्रीय बजट 2020 में, भारत सरकार ने बैंक सावधि जमा (fixed deposits) और बचत पर कितना बीमा देने का प्रस्ताव किया था जो पहले केवल ₹1 लाख का था?

- Ans
- 1. ₹4 लाख
 - 2. ₹3 लाख
 - 3. ₹2 लाख
 - 4. ₹5 लाख

Question ID : 65497833199
Status : Answered
Chosen Option : 2

Q.9 निम्नलिखित में से कौन, 12000 ओ.डी.आई. (ODI) रन बनाने वाला सबसे तेज़ क्रिकेट खिलाड़ी है?

- Ans
- 1. रिकी पॉटिंग
 - 2. विराट कोहली
 - 3. सचिन तेंदुलकर
 - 4. कुमार संगकारा

Question ID : 65497833193
Status : Answered
Chosen Option : 2

Q.10 निम्नलिखित में से किसे, पश्चिम भारत के एक ग्रामीण स्कूल में अधिकतर निर्धन जनजातियों की लड़कियों की सहायता करने के लिए ग्लोबल टीचर अवार्ड (वैश्विक शिक्षक पुरस्कार) 2020 से सम्मानित किया गया?

- Ans
- 1. आदित्य कुमार
 - 2. अरविन्द गुप्ता
 - 3. रणजीत सिंह दिसाले
 - 4. कमलेश जपडिया

Question ID : 65497833192
Status : Answered
Chosen Option : 4

Q.11 Which of the following is NOT a right of the consumer under Consumer Protection Act 2019?

- Ans
- 1. Right to choose
 - 2. Right to be informed
 - 3. Right to seek redressal
 - 4. Right to work

Question ID : 65497833205
Status : Answered
Chosen Option : 4

Q.12 In a neutralisation reaction, a new substance is formed, called:

- Ans
- 1. salt
 - 2. washing soda
 - 3. baking soda
 - 4. pepper

Question ID : 65497833206
Status : Answered
Chosen Option : 1

Q.13 भारतीय जनता पार्टी की स्थापना निम्नलिखित में से किस वर्ष में हुई थी?

- Ans
- 1. 1957
 - 2. 1980
 - 3. 1934
 - 4. 1967

Question ID : 65497833197
Status : Answered
Chosen Option : 1

Q.14 विश्व स्वास्थ्य संगठन द्वारा जारी 'विश्व मलेरिया रिपोर्ट 2020' के अनुसार, निम्नलिखित में से किस देश ने दक्षिण-पूर्व एशिया में मलेरिया के मामलों में सबसे बड़ी कमी दर्ज की?

- Ans
- 1. चीन
 - 2. बांग्लादेश
 - 3. पाकिस्तान
 - 4. भारत

Question ID : 65497833212
Status : Answered
Chosen Option : 4

Q.15 निम्नलिखित में से किसने नैनो विज्ञान और प्रौद्योगिकी 2020 में 'युवा करियर पुरस्कार' प्राप्त किया?

- Ans
- 1. सुधा शर्मा
 - 2. ललित जैन
 - 3. सौरभ लोढ़ा
 - 4. उमाकांत जोशी

Question ID : 65497833204
Status : Answered
Chosen Option : 2

Q.16 निम्नलिखित देशों में से कौन से देश 1.8 km लंबे फेनी पुल से जुड़े हैं?

- Ans
- 1. भारत और भूटान
 - 2. भारत और श्रीलंका
 - 3. भारत और बांग्लादेश
 - 4. भारत और नेपाल

Question ID : 65497833208
Status : Answered
Chosen Option : 3

Q.17 _____ के बाद, विराट कोहली इंग्लैंड में आयोजित एक श्रृंखला में दो टेस्ट मैच जीतने वाले दूसरे भारतीय क्रिकेट कप्तान बन गए हैं।

- Ans
- 1. मंसूर अली खान पटौदी
 - 2. अजीत वाडेकर
 - 3. दिलीप वेंगसरकर
 - 4. कपिल देव

Question ID : 65497833214
Status : Answered
Chosen Option : 4

Q.18 हिंद महासागर विश्व का _____ महासागर है।

- Ans
- 1. सबसे बड़ा
 - 2. सबसे छोटा
 - 3. तीसरा सबसे बड़ा
 - 4. दूसरा सबसे बड़ा

Question ID : 65497833213
Status : Answered
Chosen Option : 1

Q.19 निम्नलिखित में से कौन सा क्रिकेट खिलाड़ी नवंबर 2020 में अपनी 462वीं अंतरराष्ट्रीय पारी में 22,000 अंतरराष्ट्रीय रनों तक पहुँचने वाला सबसे तेज़ बल्लेबाज़ बन गया?

- Ans
- 1. ईशांत शर्मा
 - 2. हार्दिक पंड्या
 - 3. रोहित शर्मा
 - 4. विराट कोहली

Question ID : 65497833194
Status : Answered
Chosen Option : 3

Q.20 छठी शताब्दी ईसा पूर्व से बाद तक पंच-चिह्नित सिक्के, चांदी और निम्नलिखित में से किस धातु से बने थे?

- Ans
- 1. एलुमिनियम
 - 2. स्वर्ण
 - 3. ताम्र
 - 4. जस्ता

Question ID : 65497833196
Status : Answered
Chosen Option : 3

Q.21 माही और सोम नदियों के संगम पर निम्नलिखित में से कौन सा उत्सव मनाया जाता है?

- Ans
- 1. सरहुल उत्सव
 - 2. ट्यूलिप उत्सव
 - 3. मरिअम्मन उत्सव
 - 4. बनेश्वर उत्सव

Question ID : 65497833201
Status : Answered
Chosen Option : 2

Q.22 ओमान की खाड़ी और लाल सागर निम्न महासागर का हिस्सा हैं:

- Ans
- 1. हिंद महासागर
 - 2. आर्कटिक महासागर
 - 3. प्रशांत महासागर
 - 4. अटलांटिक महासागर

Question ID : 65497833200
Status : Answered
Chosen Option : 3

Q.23 जनगणना 2011 के अनुसार, निम्नलिखित में से किस राज्य में जनसंख्या घनत्व भारत में सबसे कम है?

- Ans
- 1. नागालैंड
 - 2. सिक्किम
 - 3. मिजोरम
 - 4. अरूणाचल प्रदेश

Question ID : 65497833191
Status : Answered
Chosen Option : 4

Q.24 Which of the following is an inactivated Vitamin D?

- Ans
- 1. Ergocalciferol
 - 2. Ascorbic acid
 - 3. Tocopherol
 - 4. Thiamine

Question ID : 65497833203
Status : Answered
Chosen Option : 1

Q.25 निम्नलिखित में से किस वर्ष में पुर्तगालियों ने गोवा पर विजय प्राप्त की थी?

- Ans
- 1. 1579
 - 2. 1526
 - 3. 1510
 - 4. 1590

Question ID : 65497833195
Status : Answered
Chosen Option : 2

Section : Part C Elementary Mathematics

Q.1 ₹900 की राशि पर 5% वार्षिक साधारण ब्याज की दर से ब्याज के रूप में ₹810 प्राप्त करने में कितने वर्ष का समय लगेगा?

- Ans
- 1. 16 वर्ष
 - 2. 15 वर्ष
 - 3. 18 वर्ष
 - 4. 10 वर्ष

Question ID : 65497833226
Status : Answered
Chosen Option : 3

Q.2 एक बॉक्स की लंबाई, चौड़ाई और ऊंचाई का अनुपात 4 : 3 : 2 है। यदि लंबाई में 50% की वृद्धि की जाती है और ऊंचाई में 40% की कमी की जाती है, तो बॉक्स के नए आयतन का पुराने आयतन से अनुपात ज्ञात करें।

- Ans
- 1. 1 : 3
 - 2. 11 : 8
 - 3. 9 : 10
 - 4. 3 : 2

Question ID : 65497833229
Status : Answered
Chosen Option : 3

Q.3 A के 39% और B के 42% का औसत A और B के अंतर के तीन-पांचवें के बराबर है। B, A का कितना प्रतिशत है?

- Ans
- 1. 50%
 - 2. 75%
 - 3. 150%
 - 4. 25%

Question ID : 65497833236
Status : Not Answered
Chosen Option : --

Q.4 A किसी कार्य को 25 दिन में पूरा कर सकता है और B उसी कार्य को 30 दिन में पूरा कर सकता है। यदि दोनों एक साथ मिलकर 5 दिन तक वह कार्य करते हैं तो कार्य का कितना हिस्सा शेष बचेगा?

- Ans
- 1. $\frac{19}{30}$
 - 2. $\frac{30}{19}$
 - 3. $\frac{21}{30}$
 - 4. $\frac{17}{20}$

Question ID : 65497833222
Status : Answered
Chosen Option : 1

Q.5 विवाह के समय एक पति और उसकी पत्नी की औसत उम्र 20 वर्ष थी। 6 वर्ष बाद उनका 2 वर्ष का बच्चा है। परिवार की वर्तमान औसत उम्र ज्ञात कीजिए।

- Ans
- 1. 15 वर्ष
 - 2. 18 वर्ष
 - 3. 16 वर्ष
 - 4. 20 वर्ष

Question ID : 65497833233

Status : Answered

Chosen Option : 2

Q.6 एक व्यक्ति अपने गांव से अस्पताल तक 30 km/h की चाल से गया और 2 km/h की चाल से वापस आया। यदि पूरी यात्रा में 4 h 36 min का समय लगता है, तो गाँव से अस्पताल की दूरी ज्ञात कीजिए।

- Ans
- 1. $17\frac{3}{4}$ km
 - 2. $15\frac{3}{4}$ km
 - 3. $17\frac{1}{4}$ km
 - 4. $15\frac{1}{4}$ km

Question ID : 65497833231

Status : Not Answered

Chosen Option : --

Q.7 एक संख्या के तीन-आठवें के आधे का दो-तिहाई 40 है। उस संख्या का 80% कितना है?

- Ans
- 1. 256
 - 2. 428
 - 3. 128
 - 4. 325

Question ID : 65497833235

Status : Answered

Chosen Option : 1

Q.8 राजेश ₹1,400 में एक साइकल खरीदता है और उसे 40% हानि पर बेच देता है। साइकल का विक्रय मूल्य कितना है?

- Ans
- 1. ₹1,344
 - 2. ₹1,200
 - 3. ₹840
 - 4. ₹1,220

Question ID : 65497833221

Status : Answered

Chosen Option : 3

Q.9 The population of a town at the start of a year was 850000. In the first year, there was a growth in the population at a rate of 12 per thousand, and in the next year, there was a decrease in the population at a rate of 1%. The population at the end of two years is:

- Ans**
- 1. 852015
 - 2. 852348
 - 3. 851598
 - 4. 817546

Question ID : 65497833228

Status : Not Answered

Chosen Option : --

Q.10 एक आयताकार पार्क 110 m लंबा और 70 m चौड़ा है। दो क्रॉस पथ, जिनमें से प्रत्येक की चौड़ाई 6 m है, भुजाओं के समानांतर निर्मित किया जाता है। यदि इन पथों के निर्माण की लागत ₹175/m² है, तो इन पथों के निर्माण की कुल लागत (₹ में) कितनी है?

- Ans**
- 1. 178250
 - 2. 182700
 - 3. 197200
 - 4. 187520

Question ID : 65497833217

Status : Not Answered

Chosen Option : --

Q.11 सूरज एक तय कार्य को उतने ही समय में पूरा कर सकता है, जितने समय में मनोज और राजेश मिलकर उसे पूरा कर सकते हैं। यदि राजेश अकेले इस कार्य को 28 दिनों में पूरा कर सकता है और सूरज और मनोज मिलकर इस कार्य को 14 दिनों में पूरा कर सकते हैं, तो मनोज अकेला इस कार्य को कितने दिनों में पूरा कर सकता है?

- Ans**
- 1. 60
 - 2. 45
 - 3. 42
 - 4. 56

Question ID : 65497833237

Status : Answered

Chosen Option : 4

Q.12 किसी वस्तु को इसके वास्तविक विक्रय मूल्य के $\frac{18}{25}$ मूल्य पर बेचने पर 19% की हानि होती है। उसे इसके वास्तविक विक्रय मूल्य पर बेचने पर कितने प्रतिशत लाभ होगा?

- Ans**
- 1. 12%
 - 2. 15%
 - 3. 12.5%
 - 4. 15.5%

Question ID : 65497833239

Status : Answered

Chosen Option : 3

Q.13 यदि अनुपात P : Q = 2 : 3 और Q : R = 3 : 4 है, तो अनुपात P + Q : Q + R ज्ञात करें।

- Ans
- 1. 5 : 7
 - 2. 7 : 9
 - 3. 7 : 5
 - 4. 9 : 7

Question ID : 65497833227

Status : Answered

Chosen Option : 1

Q.14 दो ट्रेनें एक ही समय में एकदूसरे से 300 km की दूरी पर स्थित दो स्टेशनों से विपरीत दिशाओं में रवाना होती हैं। दोनों ट्रेनें किसी एक स्टेशन से 180 km की दूरी पर एक दूसरे को पार करती हैं। उनकी चाल का अनुपात कितना है?

- Ans
- 1. 4 : 3
 - 2. 3 : 2
 - 3. 3 : 4
 - 4. 2 : 3

Question ID : 65497833238

Status : Answered

Chosen Option : 4

Q.15 यदि पांच आरोही क्रम वाले क्रमिक विषम पूर्णाकों का औसत 11 है, तो उनमें से अंतिम तीन का औसत कितना होगा?

- Ans
- 1. 9
 - 2. 11
 - 3. 12
 - 4. 13

Question ID : 65497833224

Status : Answered

Chosen Option : 4

Q.16 एक व्यक्ति को एक वस्तु ₹7,281 में बेचने पर 10% की हानि होती है। 10% का लाभ प्राप्त करने के लिए उसे इस वस्तु को किस कीमत (₹ में) पर बेचना चाहिए?

- Ans
- 1. 8,090
 - 2. 8,899
 - 3. 7,299
 - 4. 7,799

Question ID : 65497833218

Status : Answered

Chosen Option : 2

Q.17 एक राशि पर 12% की वार्षिक दर से 2 वर्षों के लिए चक्रवृद्धि ब्याज ₹1,590 है। दोगुने समय और आधी ब्याज दर पर उसी धनराशि के लिए साधारण ब्याज क्या होगा?

- Ans
- 1. ₹1,600
 - 2. ₹1,500
 - 3. ₹1,400
 - 4. ₹1,800

Question ID : 65497833219
Status : Answered
Chosen Option : 4

Q.18 वह छोटी से छोटी संख्या ज्ञात कीजिए जिसे 1014 में जोड़ने पर ऐसी संख्या प्राप्त हो जिसे 3, 4, 5 और 6, से विभाजित करने पर कोई शेषफल प्राप्त न हो।

- Ans
- 1. 10
 - 2. 54
 - 3. 8
 - 4. 6

Question ID : 65497833223
Status : Answered
Chosen Option : 4

Q.19 किसी पुस्तक का क्रय मूल्य ₹250 है। यदि पुस्तक पर दी गई क्रमिक छूट 10%, 15% और 20% है, तो पुस्तक की कुल छूट ज्ञात कीजिए।

- Ans
- 1. 38.8%
 - 2. 35%
 - 3. 29%
 - 4. 32.5%

Question ID : 65497833234
Status : Answered
Chosen Option : 1

Q.20 $(17 - 9) + (57 - 10 \div 5 \text{ of } 2) \div 4$ का मान कितना है?

- Ans
- 1. 22
 - 2. 23
 - 3. 12
 - 4. 6

Question ID : 65497833220
Status : Answered
Chosen Option : 1

Q.21 दो क्रमिक छूट के बाद, ₹175 की सूची मूल्य वाली एक कलम ₹129.15 के मूल्य में उपलब्ध है। यदि पहली छूट 10% है, तो दूसरी छूट कितनी है?

- Ans
- 1. 15%
 - 2. 18%
 - 3. 12%
 - 4. 10%

Question ID : 65497833215
Status : Answered
Chosen Option : 2

Q.22 ₹18527 की धनराशि को A, B और C के बीच इस प्रकार से विभाजित किया जाता है कि A और B के हिस्सों का अनुपात 4 : 7 है और B और C के हिस्सों का अनुपात 5 : 6 है। A का हिस्सा (₹ में) ज्ञात करें।

- Ans
- 1. 3820
 - 2. 2865
 - 3. 6685
 - 4. 8022

Question ID : 65497833216
Status : Answered
Chosen Option : 1

Q.23 एक धनराशि को A, B, C और D के बीच 5 : 2 : 4 : 3 के अनुपात में बांटा गया। यदि A को D से ₹1,000 अधिक मिले, तो C को कितने रुपए मिले?

- Ans
- 1. ₹500
 - 2. ₹2,000
 - 3. ₹1,000
 - 4. ₹2,500

Question ID : 65497833225
Status : Answered
Chosen Option : 2

Q.24 वह छोटी से छोटी संख्या ज्ञात कीजिए जिसमें 2495 जोड़ने पर योगफल 6, 4 और 3 से पूर्णतः विभाज्य हो जाए।

- Ans
- 1. 1
 - 2. 5
 - 3. 3
 - 4. 0

Question ID : 65497833232
Status : Answered
Chosen Option : 1

Q.25 $2 \div \frac{1}{5}$ of $(4 + 4 \div 2) + \left[\frac{1}{2} \div \frac{25}{4} - 4 \right]$ का मान ज्ञात कीजिए।

- Ans
- 1. $-\frac{119}{75}$
 - 2. $-\frac{419}{75}$
 - 3. $-\frac{161}{75}$
 - 4. $-\frac{169}{75}$

Question ID : 65497833230

Status : Answered

Chosen Option : 4

Section : Part D English

Q.1 Select the most appropriate option that can substitute the underlined segment in the given sentence. If there is no need to substitute it, select 'No substitution required'.

Asha trusts only Bhaskar who is a friend of hers.

- Ans
- 1. No substitution required
 - 2. who are the friend of her
 - 3. that is a friend of hers
 - 4. who is friend of her

Question ID : 65497833242

Status : Not Answered

Chosen Option : --

Q.2 Select the most appropriate option to fill in the blank.

Although I like cats, I cannot _____ one as a pet.

- Ans
- 1. apply
 - 2. adopt
 - 3. avoid
 - 4. agree

Question ID : 65497833259

Status : Not Answered

Chosen Option : --

Q.3 Select the option that will improve the underlined part of the given sentence. In case no improvement is needed, select 'No improvement required'.

It doesn't matter whether they get the job or not.

- Ans 1. if they don't
 2. No improvement required
 3. nor they get
 4. so they get

Question ID : 65497833258
Status : Not Answered
Chosen Option : --

Q.4 The following sentence has been split into four segments. Identify the segment that contains a grammatical error.

Do you know why / a number of people / prefers to shop / online nowadays?

- Ans 1. a number of people
 2. prefers to shop
 3. Do you know why
 4. online nowadays

Question ID : 65497833250
Status : Not Answered
Chosen Option : --

Q.5 Select the most appropriate ANTONYM of the given word.

PECULIAR

- Ans 1. Normal
 2. Unusual
 3. Curious
 4. Odd

Question ID : 65497833256
Status : Not Answered
Chosen Option : --

Q.6 Select the option that can be used as a one-word substitute for the given group of words.

A group of stars which form a pattern and have a name

- Ans 1. Configuration
 2. Contortion
 3. Constellation
 4. Condemnation

Question ID : 65497833253
Status : Not Answered
Chosen Option : --

Q.7 The following sentence has been split into four segments. Identify the segment that contains a grammatical error.

It was thirty minutes past six / on a early March morning / when he went out / for a walk.

- Ans
- 1. when he went out
 - 2. for a walk
 - 3. It was thirty minutes past six
 - 4. on a early March morning

Question ID : 65497833244
Status : Not Answered
Chosen Option : --

Q.8 Select the most appropriate option to fill in the blank.

He is always restless. He is never at _____ with himself.

- Ans
- 1. silence
 - 2. peace
 - 3. freedom
 - 4. serenity

Question ID : 65497833240
Status : Not Answered
Chosen Option : --

Q.9 Select the option that will improve the underlined part of the sentence. In case no improvement is needed, select 'No improvement required'.

Unless they batted badly, they won the match.

- Ans
- 1. Although they batted badly
 - 2. Until they batted badly
 - 3. Since they batted badly
 - 4. No improvement required

Question ID : 65497833243
Status : Not Answered
Chosen Option : --

Q.10 Select the most appropriate synonym of the given word.

Assist

- Ans
- 1. Check
 - 2. Aid
 - 3. Pardon
 - 4. Delay

Question ID : 65497833251
Status : Not Answered
Chosen Option : --

Q.11 Select the most appropriate meaning of the given idiom.

Wear and tear

- Ans 1. Damage caused by use
 2. Repair to be able to use
 3. Refuse to use because of rip
 4. Destroy after using

Question ID : 65497833257
Status : **Not Answered**
Chosen Option : --

Q.12 Select the option that can be used as a one-word substitute for the given group of words.

A line at which the earth's surface and the sky appear to meet

- Ans 1. Equator
 2. Periphery
 3. Boundary
 4. Horizon

Question ID : 65497833254
Status : **Not Answered**
Chosen Option : --

Q.13 Select the **INCORRECTLY** spelt word.

- Ans 1. Disturbance
 2. Compulsery
 3. Audience
 4. Potential

Question ID : 65497833255
Status : **Not Answered**
Chosen Option : --

Q.14 Select the most appropriate synonym of the given word.

Secure (verb)

- Ans 1. Ignore
 2. Forget
 3. Disjoin
 4. Protect

Question ID : 65497833245
Status : **Not Answered**
Chosen Option : --

Q.15 Select the correctly spelt word.

Ans 1. Committee

2. Comiittee

3. Coomittee

4. Committee

Question ID : 65497833247

Status : Not Answered

Chosen Option : --

Q.16 Select the most appropriate ANTONYM of the given word.

Progress

Ans 1. Revise

2. Decline

3. Advance

4. Redress

Question ID : 65497833252

Status : Not Answered

Chosen Option : --

Q.17 Select the most appropriate meaning of the given idiom.

To aim for the stars

Ans 1. To set high goals

2. To be dizzy

3. To go into space

4. To see shooting stars

Question ID : 65497833246

Status : Not Answered

Chosen Option : --

Q.18 Select the most appropriate meaning of the given idiom.

To do the dishes

Ans 1. To make a great effort

2. To wash and dry dishes

3. To eat out in a restaurant

4. To fulfil one's goal

Question ID : 65497833241

Status : Not Answered

Chosen Option : --

Q.19 The following sentence has been split into four segments. Identify the segment that contains a grammatical error.

I was / upset because / my mother was / angry on me.

- Ans
- 1. upset because
 - 2. my mother was
 - 3. angry on me
 - 4. I was

Question ID : 65497833249
Status : Not Answered
Chosen Option : --

Q.20 Select the most appropriate option to fill in the blank.

He is an/a _____ reader of mystery books.

- Ans
- 1. fragile
 - 2. avid
 - 3. alert
 - 4. agile

Question ID : 65497833248
Status : Not Answered
Chosen Option : --

Comprehension:

In the following passage, some words have been deleted. Read the passage carefully and select the most appropriate option to fill in each blank.

Python snake, also known as Ajar, is one of the most (1)_____ built snakes of the Indian sub-continent. It belongs to the Boidae family and is (2)_____ on water to quite an extent. One of the (3)_____ features of the Rock pythons of India is that they can raise their body temperature above the ambient level (4)_____ muscular contractions. Rock python is a (5)_____ creature, moving only while hunting or when threatened.

SubQuestion No : 21

Q.21 Select the most appropriate option to fill in blank no. 1.

- Ans
- 1. generously
 - 2. massively
 - 3. boldly
 - 4. heartily

Question ID : 65497833261
Status : Not Answered
Chosen Option : --

Comprehension:

In the following passage, some words have been deleted. Read the passage carefully and select the most appropriate option to fill in each blank.

Python snake, also known as Ajgar, is one of the most (1)_____ built snakes of the Indian sub-continent. It belongs to the Boidae family and is (2)_____ on water to quite an extent. One of the (3)_____ features of the Rock pythons of India is that they can raise their body temperature above the ambient level (4)_____ muscular contractions. Rock python is a (5)_____ creature, moving only while hunting or when threatened.

SubQuestion No : 22

Q.22 Select the most appropriate option to fill in blank no. 2.

- Ans
- 1. intermittent
 - 2. correspondent
 - 3. inconsistent
 - 4. dependent

Question ID : 65497833262

Status : Not Answered

Chosen Option : --

Comprehension:

In the following passage, some words have been deleted. Read the passage carefully and select the most appropriate option to fill in each blank.

Python snake, also known as Ajgar, is one of the most (1)_____ built snakes of the Indian sub-continent. It belongs to the Boidae family and is (2)_____ on water to quite an extent. One of the (3)_____ features of the Rock pythons of India is that they can raise their body temperature above the ambient level (4)_____ muscular contractions. Rock python is a (5)_____ creature, moving only while hunting or when threatened.

SubQuestion No : 23

Q.23 Select the most appropriate option to fill in blank no. 3.

- Ans
- 1. mystique
 - 2. critique
 - 3. fatigue
 - 4. unique

Question ID : 65497833263

Status : Not Answered

Chosen Option : --

Comprehension:

In the following passage, some words have been deleted. Read the passage carefully and select the most appropriate option to fill in each blank.

Python snake, also known as Ajar, is one of the most (1)_____ built snakes of the Indian sub-continent. It belongs to the Boidae family and is (2)_____ on water to quite an extent. One of the (3)_____ features of the Rock pythons of India is that they can raise their body temperature above the ambient level (4)_____ muscular contractions. Rock python is a (5)_____ creature, moving only while hunting or when threatened.

SubQuestion No : 24

Q.24 Select the most appropriate option to fill in blank no. 4.

- Ans 1. among
 2. through
 3. near
 4. between

Question ID : 65497833264

Status : Not Answered

Chosen Option : --

Comprehension:

In the following passage, some words have been deleted. Read the passage carefully and select the most appropriate option to fill in each blank.

Python snake, also known as Ajar, is one of the most (1)_____ built snakes of the Indian sub-continent. It belongs to the Boidae family and is (2)_____ on water to quite an extent. One of the (3)_____ features of the Rock pythons of India is that they can raise their body temperature above the ambient level (4)_____ muscular contractions. Rock python is a (5)_____ creature, moving only while hunting or when threatened.

SubQuestion No : 25

Q.25 Select the most appropriate option to fill in blank no. 5.

- Ans 1. antic
 2. lethargic
 3. exotic
 4. classic

Question ID : 65497833265

Status : Not Answered

Chosen Option : --

Section : Part D Hindi

Q.1 दिए गए वाक्य में रेखांकित खंड को प्रतिस्थापित करने के लिए सबसे उपयुक्त विकल्प का चयन करें। यदि इसे प्रतिस्थापित करने की आवश्यकता नहीं है, तो विकल्प 'किसी बदलाव की आवश्यकता नहीं है' का चयन करें।

मेरे आँसू से रूमाल भीग गया।

- Ans 1. मेरे आंसु से
 2. किसी बदलाव की आवश्यकता नहीं है।
 3. मेरे आँसुओं से
 4. मेरे आँसुओं से

Question ID : 65497833266

Status : Answered

Chosen Option : 2

Q.2 दिये गये वाक्यांश के लिए एक शब्द दीजिये।

जिसका मूल्य न लगाया जा सके

- Ans 1. अमूल्य
 2. बहुमूल्य
 3. निर्मूल
 4. सस्ता

Question ID : 65497833273

Status : Answered

Chosen Option : 1

Q.3 दिये गये वाक्य में रेखांकित अंश को प्रतिस्थापित करने के लिए सबसे उपयुक्त विकल्प का चयन करें।

विद्यार्थियों को इस पुस्तक का अध्ययन उपयोगी होगा।

- Ans 1. विद्यार्थियों का
 2. विद्यार्थियों ने
 3. विद्यार्थियों से
 4. विद्यार्थियों के लिए

Question ID : 65497833281

Status : Answered

Chosen Option : 4

Q.4 रिक्त स्थान को भरने के लिए सबसे उपयुक्त शब्द का चयन करें।

हमारे अध्ययन-अध्यापन का _____ हिन्दी है।

- Ans 1. माध्यम
 2. उपकरण
 3. साधन
 4. साध्य

Question ID : 65497833282

Status : Answered

Chosen Option : 1

Q.5 निम्नलिखित प्रश्न में, दिए गए चार विकल्पों में से उस विकल्प का चयन करें, जो मुहावरे का अर्थ व्यक्त करता है।

चादर से बाहर पैर पसारना

- Ans 1. ठंड के समय चादर ओढ़ना
 2. व्यय से आय अधिक करना
 3. बिना परिश्रम से पैसे कमाना
 4. आय से अधिक व्यय करना

Question ID : 65497833267

Status : Answered

Chosen Option : 4

Q.6 'करुण' का विलोम शब्द होगा-

- Ans
- 1. कुरूप
 - 2. वीर
 - 3. कृतघ्न
 - 4. निष्ठुर

Question ID : 65497833278
Status : Answered
Chosen Option : 4

Q.7 दिये गये वाक्य के किस भाग में त्रुटि है?

मेरा इन बातों में विस्वास नहीं है।

- Ans
- 1. मेरा इन
 - 2. बातों में
 - 3. नहीं है।
 - 4. विस्वास

Question ID : 65497833283
Status : Answered
Chosen Option : 1

Q.8 'विहंग' का पर्यायवाची है-

- Ans
- 1. बाण
 - 2. सुंदर
 - 3. पेड़
 - 4. पक्षी

Question ID : 65497833284
Status : Answered
Chosen Option : 2

Q.9 रिक्त स्थान को भरने के लिए सबसे उपयुक्त शब्द का चयन करें।

दहेज़ प्रथा भारतीय समाज पर एक बहुत बड़ा _____ है।

- Ans
- 1. पहचान
 - 2. ख्याति
 - 3. कलंक
 - 4. विशेषता

Question ID : 65497833277
Status : Answered
Chosen Option : 3

Q.10 दिए गए वाक्य का वह भाग ज्ञात करें जिसमें कोई त्रुटि है। यदि कोई त्रुटि नहीं है, तो 'कोई त्रुटि नहीं है' चुनें।

कौवे ने गाना सुनाने के लिए (1)/ ज्योंही उसकी चोंच खोली, (2)/ रोटी का टुकड़ा उसके मुँह से गिर गया। (3)/ कोई त्रुटि नहीं है (4)

- Ans
- 1. 1
 - 2. 4
 - 3. 2
 - 4. 3

Question ID : 65497833268
Status : Answered
Chosen Option : 1

Q.11 'बहुत काम करते रहने वाला' वाक्यांश के लिए एक शब्द होगा-

- Ans
- 1. कलाकार
 - 2. श्रमिक
 - 3. हठी
 - 4. कर्मठ

Question ID : 65497833285
Status : Answered
Chosen Option : 4

Q.12 दिए गए शब्द के समानार्थी शब्द का चयन करें।

कान्ति

- Ans
- 1. तुषार
 - 2. ओज
 - 3. गर्व
 - 4. ओस

Question ID : 65497833269
Status : Not Answered
Chosen Option : --

Q.13 दिये गये वाक्यांश के लिए एक शब्द दीजिये।

बरसात के चार महीने

- Ans
- 1. चातुर्वर्ण्य
 - 2. चतुर्वेदी
 - 3. चातुर्मास्य
 - 4. चतुर्थी

Question ID : 65497833272
Status : Answered
Chosen Option : 3

Q.14 'कूच कर जाना' मुहावरे का सही अर्थ है-

- Ans
- 1. वापस आना
 - 2. आक्रमण करना
 - 3. हार मान लेना
 - 4. मर जाना

Question ID : 65497833279
Status : Answered
Chosen Option : 2

Q.15 सही वर्तनी वाले शब्द का चयन करें।

- Ans
- 1. पूज्यनीय
 - 2. पूज्यनिय
 - 3. पूजनीय
 - 4. पूजानीय

Question ID : 65497833275
Status : Answered
Chosen Option : 1

Q.16 सही वर्तनी वाले शब्द का चयन करें।

- Ans
- 1. कार्यक्रम
 - 2. कार्यकम्र
 - 3. कार्यकर्म
 - 4. कार्यकम

Question ID : 65497833276
Status : Answered
Chosen Option : 1

Q.17 दिये गये वाक्य में रेखांकित अंश को प्रतिस्थापित करने के लिए सबसे उपयुक्त विकल्प का चयन करें।

प्रेम करना तलवार की नोक पर चलना है।

- Ans
- 1. धार
 - 2. गर्दन
 - 3. हथेली
 - 4. शिरा

Question ID : 65497833280
Status : Answered
Chosen Option : 1

Q.18 दिए गए वाक्य का वह भाग ज्ञात करें जिसमें कोई त्रुटि है। यदि कोई त्रुटि नहीं है, तो 'कोई त्रुटि नहीं है' चुनें।

आज यह बहस होने लगी कि किरण और सुमन में सब से सुन्दर कौन है।

- Ans
- 1. कि किरण और सुमन
 - 2. आज यह बहस होने लगी
 - 3. कोई त्रुटि नहीं है।
 - 4. में सब से सुन्दर कौन है।

Question ID : 65497833270

Status : Answered

Chosen Option : 4

Q.19 दिए गए शब्द का विलोम चुनें।

अधिकांश

- Ans
- 1. जीवांश
 - 2. अल्पांश
 - 3. कमतर
 - 4. बहुतायत

Question ID : 65497833271

Status : Answered

Chosen Option : 2

Q.20 रिक्त स्थान को भरने के लिए सबसे उपयुक्त शब्द का चयन करें।

आपने मेरे _____ का उत्तर नहीं दिया।

- Ans
- 1. बात
 - 2. कविता
 - 3. पत्र
 - 4. चिट्ठी

Question ID : 65497833274

Status : Answered

Chosen Option : 3

Comprehension:

दिए गए अनुच्छेद में कुछ शब्द हटा दिए गए हैं। दिए गए विकल्पों की सहायता से रिक्त स्थान भरें। प्रत्येक संख्या के लिए सबसे उपयुक्त विकल्प का चयन करें-

हमारे छात्रावास के कमरे सुन्दर और (1) _____ हैं, प्रकाश का पूरा (2) _____ है, खिड़कियाँ काफी हैं। बालकनी में भी बैठकर पढ़ने में बहुत (3) _____ आता है। यहाँ सब काम ठीक समय पर (4) _____ ढंग से होता है। खाने की भी खूब अच्छी (5) _____ है।

SubQuestion No : 21

Q.21 गद्यांश के रिक्त स्थान (1) के लिए सर्वाधिक उपयुक्त शब्द होगा-

- Ans
- 1. खिड़की दार
 - 2. वायुदार
 - 3. प्रकाशदार
 - 4. हवादार

Question ID : 65497833287

Status : Answered

Chosen Option : 4

Comprehension:

दिए गए अनुच्छेद में कुछ शब्द हटा दिए गए हैं। दिए गए विकल्पों की सहायता से रिक्त स्थान भरें। प्रत्येक संख्या के लिए सबसे उपयुक्त विकल्प का चयन करें-

हमारे छात्रावास के कमरे सुन्दर और (1) _____ हैं, प्रकाश का पूरा (2) _____ है, खिड़कियाँ काफी हैं। बालकनी में भी बैठकर पढ़ने में बहुत (3) _____ आता है। यहाँ सब काम ठीक समय पर (4) _____ ढंग से होता है। खाने की भी खूब अच्छी (5) _____ है।

SubQuestion No : 22

Q.22 गद्यांश के रिक्त स्थान (2) के लिए सर्वाधिक उपयुक्त शब्द होगा-

- Ans
- 1. रोशनदान
 - 2. रास्ता
 - 3. प्रबंध
 - 4. व्यवस्थित

Question ID : 65497833288

Status : Answered

Chosen Option : 3

Comprehension:

दिए गए अनुच्छेद में कुछ शब्द हटा दिए गए हैं। दिए गए विकल्पों की सहायता से रिक्त स्थान भरें। प्रत्येक संख्या के लिए सबसे उपयुक्त विकल्प का चयन करें-

हमारे छात्रावास के कमरे सुन्दर और (1) _____ हैं, प्रकाश का पूरा (2) _____ है, खिड़कियाँ काफी हैं। बालकनी में भी बैठकर पढ़ने में बहुत (3) _____ आता है। यहाँ सब काम ठीक समय पर (4) _____ ढंग से होता है। खाने की भी खूब अच्छी (5) _____ है।

SubQuestion No : 23

Q.23 गद्यांश के रिक्त स्थान (3) के लिए सर्वाधिक उपयुक्त शब्द होगा-

- Ans
- 1. अच्छा
 - 2. नींद
 - 3. प्रसन्नता
 - 4. आनंद

Question ID : 65497833289

Status : Answered

Chosen Option : 4

Comprehension:

दिए गए अनुच्छेद में कुछ शब्द हटा दिए गए हैं। दिए गए विकल्पों की सहायता से रिक्त स्थान भरें। प्रत्येक संख्या के लिए सबसे उपयुक्त विकल्प का चयन करें-

हमारे छात्रावास के कमरे सुन्दर और (1) _____ हैं, प्रकाश का पूरा (2) _____ है, खिड़कियाँ काफी हैं। बालकनी में भी बैठकर पढ़ने में बहुत (3) _____ आता है। यहाँ सब काम ठीक समय पर (4) _____ ढंग से होता है। खाने की भी खूब अच्छी (5) _____ है।

SubQuestion No : 24

Q.24 गद्यांश के रिक्त स्थान (4) के लिए सर्वाधिक उपयुक्त शब्द होगा-

- Ans
- 1. नियम
 - 2. नियमित
 - 3. अनियमित
 - 4. तरतीब

Question ID : 65497833290

Status : Answered

Chosen Option : 2

Comprehension:

दिए गए अनुच्छेद में कुछ शब्द हटा दिए गए हैं। दिए गए विकल्पों की सहायता से रिक्त स्थान भरें। प्रत्येक संख्या के लिए सबसे उपयुक्त विकल्प का चयन करें-

हमारे छात्रावास के कमरे सुन्दर और (1) _____ हैं, प्रकाश का पूरा (2) _____ है, खिड़कियाँ काफी हैं। बालकनी में भी बैठकर पढ़ने में बहुत (3) _____ आता है। यहाँ सब काम ठीक समय पर (4) _____ ढंग से होता है। खाने की भी खूब अच्छी (5) _____ है।

SubQuestion No : 25

Q.25 गद्यांश के रिक्त स्थान (5) के लिए सर्वाधिक उपयुक्त शब्द होगा-

- Ans
- 1. स्थापना
 - 2. व्यवस्था
 - 3. पसंद
 - 4. बालकनी

Question ID : 65497833291

Status : Answered

Chosen Option : 2