

Constable GD in CAPFs NIA SSF and Rifleman GD in Assam Rifles Examination 2021

Roll Number	www.GovtJobsAlert.In
Candidate Name	www.GovtJobsAlert.In
Venue Name	iON Digital Zone iDZ Ramtekdi 2
Exam Date	26/11/2021
Exam Time :	4:00 PM - 5:30 PM
Subject	Constable GD 2021

Section : Part A General Intelligence and Reasoning

Q.1 एक निश्चित कूट भाषा में, 'HORNS' को 'SRONH' और 'CRUDE' को 'UREDC' लिखा जाता है। उसी कूट भाषा में, 'FACTOR' को किस प्रकार लिखा जाएगा?

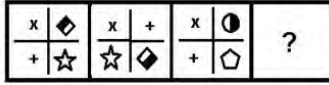
- Ans 1. TROFCA
 2. ACFOTR
 3. TSOCAE
 4. TROACF

Question ID : 65497828593

Status : **Not Attempted and Marked For Review**

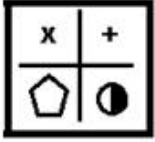
Chosen Option : --

Q.2 दिए गए विकल्पों में से उस आकृति का चयन करें, जो निम्नलिखित श्रृंखला में प्रश्नवाचक चिह्न (?) के स्थान पर आ सकती है।

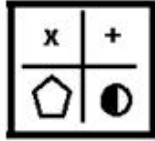


Ans

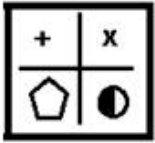
1.



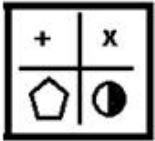
2.



3.



4.



Question ID : 65497828614

Status : Answered

Chosen Option : 1

Q.3 एक निश्चित कूट भाषा में, 'RAT' को '39' लिखा जाता है; और 'BEAR' को '26' लिखा जाता है। उसी कूट भाषा में 'SNAKE' को किस प्रकार लिखा जाएगा?

Ans 1. 54

2. 50

3. 52

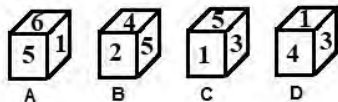
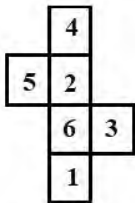
4. 48

Question ID : 65497828599

Status : Answered

Chosen Option : 2

Q.4 उन पासों का चयन कीजिए, जिन्हें दी गई शीट को रेखाओं पर मोड़कर बनाया जा सकता है।



- Ans
- 1. केवल A, C और D
 - 2. केवल A और D
 - 3. केवल A
 - 4. केवल A और C

Question ID : 65497828605

Status : Answered

Chosen Option : 2

Q.5 यदि 'A' का अर्थ 'जोड़' है, 'B' का अर्थ 'गुणा' है, 'C' का अर्थ 'घटाना' है, और 'D' का अर्थ 'भाग' है, तो निम्न व्यंजक का मान कितना होगा?

90 D (2 B 5) A 4 B (12 A 10) C 4 B (17 C 10)

- Ans
- 1. 67
 - 2. 69
 - 3. 65
 - 4. 61

Question ID : 65497828604

Status : Answered

Chosen Option : 2

Q.6 उस विकल्प का चयन कीजिए जिसमें दी गई आकृति सन्निकित है। (आकृति को घुमाने की अनुमति नहीं है)



Ans

✓ 1.



✗ 2.



✗ 3.



✗ 4.



Question ID : 65497828606

Status : Answered

Chosen Option : 1

Q.7 अरुणिमा ने साहिल से कहा, "तुम्हारे साले की इकलौती बहन का पुत्र मेरा नाती है।" साहिल का अरुणिमा से क्या संबंध है?

Ans

✗ 1. पुत्र

✗ 2. ससुर

✓ 3. दामाद

✗ 4. चाचा

Question ID : 65497828617

Status : Answered

Chosen Option : 3

Q.8 पांच मित्र A, B, C, D और E एक सीधी पंक्ति में बैठे हैं। A और B एक-दूसरे के बगल में बैठे हैं। B, A और C के बीच में बैठा है। A, D के बाईं ओर तीसरे स्थान पर बैठा है। D दाएं सिरे से दूसरे स्थान पर बैठा है। बाएं सिरे से तीसरे स्थान पर कौन बैठा है?

Ans

✗ 1. D

✓ 2. C

✗ 3. E

✗ 4. A

Question ID : 65497828602

Status : Answered

Chosen Option : 2

Q.9 उस विकल्प का चयन कीजिए जिसमें दी गई संख्याएँ आपस में उसी तरह से संबंधित हैं जिस प्रकार दिए गए समुच्चय की संख्याएँ आपस में संबंधित हैं।

(7, 308, 11)

- Ans
- 1. (9, 160, 8)
 - 2. (16, 239, 6)
 - 3. (12, 324, 9)
 - 4. (8, 164, 5)

Question ID : 65497828595

Status : **Not Attempted and Marked For Review**

Chosen Option : --

Q.10 214 कर्मचारियों वाले एक संगठन में, 120 ने क्ले मॉडलिंग में भाग लिया और 130 ने पोस्टर मेकिंग में भाग लिया, 36 कर्मचारियों ने क्ले मॉडलिंग और पोस्टर मेकिंग दोनों में भाग लिया। यदि प्रत्येक कर्मचारी ने दो गतिविधियों में से कम से कम एक में भाग लिया, तो कितने कर्मचारियों ने केवल पोस्टर मेकिंग में भाग लिया?

- Ans
- 1. 80
 - 2. 94
 - 3. 84
 - 4. 90

Question ID : 65497828596

Status : **Marked For Review**

Chosen Option : 3

Q.11 उस विकल्प का चयन करें, जिसका तीसरे शब्द से वही संबंध है, जो दूसरे शब्द का पहले शब्द से है।

गति : स्पीडोमीटर :: वायु दाब : ?

- Ans
- 1. बैरोमीटर (Barometer)
 - 2. अल्टीमीटर (Altimeter)
 - 3. वैरियोमीटर (Variometer)
 - 4. हाइप्सोमीटर (Hypsometer)

Question ID : 65497828608

Status : **Marked For Review**

Chosen Option : 1

Q.12 उस वेन आरेख का चयन करें, जो निम्नलिखित वर्गों के बीच के संबंध को सबसे अच्छे तरीके से दर्शाता है।

अनाज, चुकंदर, कीवी

Ans



Question ID : 65497828610

Status : Answered

Chosen Option : 4

Q.13 दिए गए विकल्पों में से उस संख्या का चयन करें, जो निम्नलिखित श्रेणी में प्रश्नवाचक चिह्न (?) के स्थान पर आ सकती है।

21, 32, 54, ?, 131

Ans

✓ 1. 87

✗ 2. 72

✗ 3. 95

✗ 4. 66

Question ID : 65497828613

Status : Answered

Chosen Option : 1

Q.14 दिए गए विकल्पों में से उस अक्षर-समूह का चयन करें, जो निम्नलिखित श्रृंखला में प्रश्नवाचक चिह्न (?) के स्थान पर आ सकता है।

KMQW, HJNT, CEIO, ?

Ans

✓ 1. ACGM

✗ 2. IMST

✗ 3. FINT

✗ 4. OQSY

Question ID : 65497828607

Status : Not Attempted and
Marked For Review

Chosen Option : --

Q.15 दिए गए कथनों और निष्कर्षों को ध्यान से पढ़िए। कथनों में दी गई जानकारी को सत्य मानते हुए विचार करें, भले ही वे सामान्यतः ज्ञात तथ्यों से भिन्न प्रतीत होती हों, और बताएं कि दिए गए निष्कर्षों में से कौन से तार्किक रूप से कथनों का पालन करते हैं?

कथन:

1. कोई भी लड़की, संगीतकार नहीं है।
2. कोई भी संगीतकार, शिक्षक नहीं है।
3. सभी सितारे, संगीतकार हैं।

निष्कर्ष:

- I. कोई भी सितारा, लड़की नहीं है।
- II. कोई भी सितारा, शिक्षक नहीं है।

- Ans
- 1. कोई भी निष्कर्ष पालन नहीं करता है।
 - 2. केवल निष्कर्ष I पालन करता है।
 - 3. दोनों ही निष्कर्ष पालन करते हैं।
 - 4. केवल निष्कर्ष II पालन करता है।

Question ID : 65497828594

Status : Answered

Chosen Option : 3

Q.16 दिए गए विकल्पों में से उस संख्या का चयन करें, जो निम्नलिखित श्रेणी में प्रश्नवाचक चिह्न (?) के स्थान पर आ सकती है।

31, 37, 41, 43, ?

- Ans
- 1. 45
 - 2. 47
 - 3. 51
 - 4. 49

Question ID : 65497828600

Status : Answered

Chosen Option : 4

Q.17 उस विकल्प का चयन कीजिए, जिसका तीसरी संख्या से वही संबंध है, जो दूसरी संख्या का पहली संख्या से है।

8 : 104 :: 16 : ?

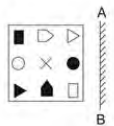
- Ans
- 1. 336
 - 2. 300
 - 3. 335
 - 4. 320

Question ID : 65497828603

Status : Not Attempted and Marked For Review


Chosen Option : --

Q.18 दर्पण को 'AB' पर रखे जाने पर, जैसा कि दर्शाया गया है, दी गई आकृति के सही दर्पण प्रतिबिंब का चयन करें।



Ans


✓ 1.




✗ 2.



✗ 3.



✗ 4.



Question ID : 65497828601

Status : Answered

Chosen Option : 1

Q.19 उस सही विकल्प का चयन करें, जो दिए गए शब्दों के उस क्रम को दर्शाता है, जिस क्रम में वे अंग्रेजी शब्दकोश में मौजूद होते हैं।

1. Program
2. Problem
3. Proposal
4. Profound
5. Property

Ans ✓ 1, 2, 4, 1, 5, 3

✗ 2, 3, 2, 4, 5, 1

✗ 3, 2, 1, 4, 5, 3

✗ 4, 4, 2, 1, 3, 5

Question ID : 65497828611

Status : Answered

Chosen Option : 1

Q.20 अक्षरों के उस संयोजन का चयन करें, जिसे दी गई श्रृंखला के रिक्त स्थानों में क्रमवार भरने पर श्रृंखला पूर्ण हो जाएगी।

Z _ _ U M _ A F _ M _ A _ _ M

- Ans
- 1. DZFUMZA
 - 2. AFZUFU
 - 3. UADZMFZ
 - 4. FDPZMUF

Question ID : 65497828612
Status : Answered
Chosen Option : 2

Q.21 छह मित्र P, Q, R, S, T और U दो पंक्तियों में बैठे हैं, प्रत्येक पंक्ति में तीन मित्र बैठे हैं। S किसी भी पंक्ति के सिरे पर नहीं बैठा है। T, R के बगल में बैठा है। R और U, विकर्णतः एक दूसरे के सामने बैठे हैं। P, U के बाईं ओर दूसरे स्थान पर बैठा है। दिए गए विकल्पों में से कौन से तीन मित्र समान पंक्ति में बैठे हैं?

- Ans
- 1. TQU और PRS
 - 2. PTQ और RSU
 - 3. PSU और RTQ
 - 4. STU और PRQ

Question ID : 65497828609
Status : Answered
Chosen Option : 3

Q.22 एक निश्चित कूट भाषा में, 'INSPIRE' को 'JPTTJZF' लिखा जाता है। उसी कूट भाषा में 'FORGIVE' को किस प्रकार लिखा जाएगा?

- Ans
- 1. GQRKIDF
 - 2. GQSLIDF
 - 3. GQTKJEF
 - 4. GQSKJDF

Question ID : 65497828616
Status : Answered
Chosen Option : 4

Q.23 उस विकल्प का चयन करें, जो तीसरे अक्षर-समूह से वही संबंध है, जो दूसरे अक्षर-समूह का पहले अक्षर-समूह से है।

HKN : KOS :: MPS : ?

- Ans
- 1. PTW
 - 2. TPX
 - 3. TPW
 - 4. PTX

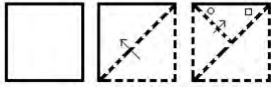
Question ID : 65497828615
Status : Answered
Chosen Option : 4

Q.24 चार अक्षर-समूह दिए गए हैं, जिनमें से तीन किसी तरह से संगत हैं और एक असंगत है। असंगत अक्षर-समूह का चयन करें।

- Ans
- 1. HQZ
 - 2. DMV
 - 3. HQY
 - 4. BKT

Question ID : 65497828598
Status : Answered
Chosen Option : 3

Q.25 निम्नलिखित आकृतियों में कागज के एक टुकड़े को मोड़ने का क्रम और उसे काटने की विधि दर्शाई गई है। इस कागज को खोलने पर यह कैसा दिखाई देगा?



Ans

- 1.
- 2.
- 3.
- 4.

Question ID : 65497828597
Status : Answered
Chosen Option : 3

Section : Part B General Knowledge and General Awareness

Q.1 निम्नलिखित में से किस राज्य में जन्म के समय जीवन प्रत्याशा सबसे अधिक है?

- Ans
- 1. हरियाणा
 - 2. केरल
 - 3. गोवा
 - 4. तमिलनाडु

Question ID : 65497828619
Status : Answered
Chosen Option : 2

Q.2 भारत की निम्नलिखित में से किस झील को रामसर स्थलों में शामिल नहीं किया गया है?

- Ans
- 1. चिल्का झील
 - 2. कीठम झील
 - 3. लोकटक झील
 - 4. डल झील

Question ID : 65497828623
Status : Answered
Chosen Option : 2

Q.3 नवंबर 2020 में, इनमें से किस राज्य में वन शहीदों के स्मारक (Forest Martyrs' Memorial) का उद्घाटन किया गया था?

- Ans
- 1. आंध्र प्रदेश
 - 2. तमिलनाडु
 - 3. महाराष्ट्र
 - 4. कर्नाटक

Question ID : 65497828642
Status : Not Attempted and Marked For Review
Chosen Option : --

Q.4 कबिनी नदी, इनमें से किस नदी की महत्वपूर्ण सहायक नदी है?

- Ans
- 1. कावेरी
 - 2. कृष्णा
 - 3. गोदावरी
 - 4. माही

Question ID : 65497828637
Status : Answered
Chosen Option : 4

Q.5 इनमें से किस संशोधन द्वारा 2006 में सरकारी और निजी शिक्षण संस्थानों में अन्य पिछड़ा वर्ग (OBC) को 27% आरक्षण प्रदान किया गया है?

- Ans
- 1. 93वें
 - 2. 77वें
 - 3. 86वें
 - 4. 92वें

Question ID : 65497828631
Status : Answered
Chosen Option : 4

Q.6 निम्नलिखित में से किस भारतीय अभिनेता को भारतीय चुनाव आयोग द्वारा पंजाब का स्टेट आइकन नियुक्त किया गया है?

- Ans
- 1. सोनू सूद
 - 2. अमिताभ बच्चन
 - 3. सलमान खान
 - 4. अक्षय कुमार

Question ID : 65497828624

Status : **Not Attempted and Marked For Review**

Chosen Option : --

Q.7 निम्नलिखित में से किसने 2020 में निट्टो मेन्स एटीपी (Nitto Men's ATP) टूर अर फ़ाइनल जीता था?

- Ans
- 1. आंद्रे रुब्लेव (Andrey Rublev)
 - 2. डोमिनिक थिएम (Dominic Thiem)
 - 3. डेनियल मेदवेदेव (Daniil Medvedev)
 - 4. नोवाक जोकोविच (Novak Djokovic)

Question ID : 65497828626

Status : **Not Attempted and Marked For Review**

Chosen Option : --

Q.8 निम्नलिखित में से कौन सी पुस्तक बाणभट्ट द्वारा लिखित है?

- Ans
- 1. अष्टाध्यायी
 - 2. हर्षचरितम्
 - 3. अक्रबरनामा
 - 4. मालविकाग्निमित्रम्

Question ID : 65497828639

Status : **Answered**

Chosen Option : 3

Q.9 इनमें से किसे नवंबर 2020 में रिजर्व बैंक इनोवेशन हब का पहला अध्यक्ष नियुक्त किया गया था?

- Ans
- 1. टी.एन. मनोहरन
 - 2. नारायण मूर्ति
 - 3. सेनापति (क्रिस) गोपालकृष्णन
 - 4. राजीव कुमार

Question ID : 65497828622

Status : **Not Attempted and Marked For Review**

Chosen Option : --

Q.10 निम्नलिखित में से कौन सा शीत-रक्तक (cold-blooded) प्राणी नहीं है?

- Ans 1. खरगोश
 2. मेंढक
 3. शार्क
 4. मगरमच्छ

Question ID : 65497828628
Status : Answered
Chosen Option : 1

Q.11 सांची में स्थित बौद्ध विहार को 'विशाल स्तूप (Great Stupa)' भी कहा जाता है। यह भारत में सर्वाधिक प्रसिद्ध बौद्ध स्मारकों में से एक है, जो _____ जिले के सांची शहर में स्थित है।

- Ans 1. पटना
 2. जबलपुर
 3. रायसेन
 4. पूर्णिया

Question ID : 65497828627
Status : Answered
Chosen Option : 2

Q.12 _____ को महारानी विक्टोरिया की उद्घोषणा में यह कहा गया कि अब से भारत का शासन एवं प्रशासन ब्रिटिश सम्राट के नाम पर एक राज्य सचिव के माध्यम से संचालित किया जाएगा।

- Ans 1. 12 अगस्त, 1858
 2. 16 सितंबर, 1860
 3. 27 अक्टूबर, 1858
 4. 1 नवंबर, 1858

Question ID : 65497828620
Status : Not Attempted and Marked For Review
Chosen Option : --

Q.13 निम्नलिखित में से किस देश ने चंद्र कक्षा (lunar orbit) में अपने पहले रोबोटिक डॉकिंग (robotic docking) का प्रदर्शन किया है?

- Ans 1. रूस
 2. चीन
 3. जापान
 4. भारत

Question ID : 65497828632
Status : Answered
Chosen Option : 1

Q.14 मानव शरीर की सबसे छोटी और सबसे लंबी हड्डियाँ क्रमशः _____ और _____ हैं।

- Ans
- 1. पिंडली की हड्डी (tibia), जंघास्थि (femur)
 - 2. नाखून, फिबुला
 - 3. रकाब (stapes), बहिर्जंघिका (fibula)
 - 4. रकाब (stapes), जंघास्थि (femur)

Question ID : 65497828629

Status : Answered

Chosen Option : 1

Q.15 जी.डी.पी. (GDP) को दो भिन्न तरीकों से व्यक्त किया जा सकता है - सांकेतिक जी.डी.पी. (nominal GDP) और _____।

- Ans
- 1. वास्तविक जी.डी.पी. (real GDP)
 - 2. प्रतीकात्मक जी.डी.पी. (symbolic GDP)
 - 3. परिकलित जी.डी.पी. (calculated GDP)
 - 4. घरेलू जी.डी.पी. (domestic GDP)

Question ID : 65497828636

Status : Answered

Chosen Option : 4

Q.16 निम्नलिखित में से कौन-सी, प्रायद्वीपीय भारत की पश्चिम की ओर बहने वाली सबसे बड़ी नदी है?

- Ans
- 1. कृष्णा
 - 2. नर्मदा
 - 3. कावेरी
 - 4. गोदावरी

Question ID : 65497828618

Status : Answered

Chosen Option : 4

Q.17 निम्नलिखित में से किसे भारत में 'रॉकेट तकनीकी के अगुआ (Pioneer of Rocket Technology)' होने का श्रेय दिया जाता है?

- Ans
- 1. टीपू सुल्तान
 - 2. अकबर द्वितीय
 - 3. लॉर्ड कॉर्नवॉलिस
 - 4. बाबर

Question ID : 65497828638

Status : Answered

Chosen Option : 3

Q.18 भारत का प्रसिद्ध पारंपरिक त्योहार छठ पूजा, निम्नलिखित में से किस देवता को समर्पित है?

- Ans
- 1. भगवान शिव
 - 2. चंद्रमा
 - 3. भगवान ब्रह्मा
 - 4. सूर्य

Question ID : 65497828621
Status : Not Answered
Chosen Option : --

Q.19 'लेसंस लाइफ टॉट मी अननोइंगली (Lessons Life Taught Me, Unknowingly)' नामक पुस्तक के लेखक कौन हैं?

- Ans
- 1. जावेद अख्तर
 - 2. शिल्पा शेटी
 - 3. ट्विकल खन्ना
 - 4. अनुपम खेर

Question ID : 65497828630
Status : Not Answered
Chosen Option : --

Q.20 17वीं शताब्दी में मुगल सम्राट शाहजहां द्वारा निर्मित _____, लगभग 200 वर्षों तक मुगल सम्राटों का मुख्य निवास स्थान था।

- Ans
- 1. लाल किला, दिल्ली
 - 2. सिरी फोर्ट, दिल्ली
 - 3. सलीमगढ़ किला, दिल्ली
 - 4. तुगलकाबाद का किला, दिल्ली

Question ID : 65497828634
Status : Not Answered
Chosen Option : --

Q.21 निम्नलिखित क्रिकेटरों में से किसे 'आई. सी. सी. ओडीआई क्रिकेटर ऑफ़ द इयर पुरस्कार 2020' ('ICC ODI Cricketer of the Year Award 2020') से सम्मानित किया गया था?

- Ans
- 1. विराट कोहली
 - 2. जसप्रीत बुमराह
 - 3. महेन्द्र सिंह धोनी
 - 4. रोहित शर्मा

Question ID : 65497828641
Status : Not Answered
Chosen Option : --

Q.22 दही और विनेगर का स्वाद खट्टा होता है, क्योंकि इनमें _____ मौजूद होते हैं।

- Ans
- 1. यीस्ट
 - 2. अम्ल
 - 3. प्रोटीन
 - 4. रसायन

Question ID : 65497828633
Status : Not Answered
Chosen Option : --

Q.23 भारतीय संविधान के अनुच्छेद 44 के किस भाग में नागरिकों के लिए समान नागरिक संहिता का प्रावधान निहित है?

- Ans
- 1. भाग VI
 - 2. भाग IV
 - 3. भाग II
 - 4. भाग III

Question ID : 65497828640
Status : Not Answered
Chosen Option : --

Q.24 भारत में अखिल भारतीय टेनिस संघ (AITA) की स्थापना कब हुई थी?

- Ans
- 1. 1934
 - 2. 1912
 - 3. 1920
 - 4. 1956

Question ID : 65497828625
Status : Not Answered
Chosen Option : --

Q.25 क्षेत्र विशेष की संस्कृति, पर्यटन और विरासत को प्रदर्शित करने के लिए 'डेस्टिनेशन नॉर्थ ईस्ट 2020' का उद्घाटन किसने किया?

- Ans
- 1. केंद्रीय गृह मंत्री, अमित शाह
 - 2. केंद्रीय पर्यटन और संस्कृति मंत्री, प्रहलाद सिंह पटेल
 - 3. केंद्रीय पर्यटन मंत्री, डॉ. जितेंद्र सिंह
 - 4. प्रधानमंत्री, नरेंद्र मोदी

Question ID : 65497828635
Status : Not Answered
Chosen Option : --

Section : Part C Elementary Mathematics

Q.1 एक वस्तु को ₹340 में बेचने पर, एक व्यापारी को 20% की हानि होती है। 15% लाभ प्राप्त करने के लिए उसे इसको कितने रूपए में बेचना चाहिए?

- Ans
- 1. ₹517.50
 - 2. ₹455.75
 - 3. ₹488.75
 - 4. ₹475.50

Question ID : 65497828666

Status : Answered

Chosen Option : 1

Q.2 एक निश्चित धनराशि पर एक निश्चित वार्षिक दर से 2 वर्ष में प्राप्त चक्रवृद्धि ब्याज ₹1128.6 है; जबकि ब्याज की गणना वार्षिक चक्रवृद्धि आधार पर की जाती है, और समान राशि पर समान दर पर समान अवधि में प्राप्त साधारण ब्याज ₹1080 है। समान राशि पर समान दर पर 3 वर्ष में प्राप्त चक्रवृद्धि ब्याज और साधारण ब्याज का अंतर ज्ञात कीजिए।

- Ans
- 1. ₹170.174
 - 2. ₹150.174
 - 3. ₹165.174
 - 4. ₹160.174

Question ID : 65497828663

Status : Not Answered

Chosen Option : --

Q.3 यदि $0.45 : x :: 3 : 8$ है, तो x का मान इनमें से किसके बराबर होगा?

- Ans
- 1. 1.4
 - 2. 2.2
 - 3. 1.2
 - 4. 1.3

Question ID : 65497828648

Status : Answered

Chosen Option : 3

Q.4 एक चालक एक कार को 60 km/h की एकसमान चाल से चलाता है और 330 km की दूरी पर स्थित गंतव्य पर 30 मिनट की देरी से पहुंचता है। समय पर पहुंचने के लिए, चाल में कितनी % वृद्धि होनी चाहिए?

- Ans
- 1. 12%
 - 2. 15%
 - 3. 10%
 - 4. 20%

Question ID : 65497828658

Status : Answered

Chosen Option : 1

Q.5 एक व्यक्ति ने एक मशीन ₹50,000 में खरीदी और उस पर क्रय मूल्य से 20% अधिक मूल्य अंकित किया और उसे 15% की छूट पर बेच दी। प्रतिशत लाभ या हानि ज्ञात करें।

- Ans
- 1. 1% हानि
 - 2. 2.5% लाभ
 - 3. 4% हानि
 - 4. 2% लाभ

Question ID : 65497828656

Status : Answered

Chosen Option : 2

Q.6 A एक निश्चित कार्य का $\frac{3}{8}$ भाग 9 दिन में पूरा कर सकता है और B उसी कार्य के 80% भाग को 16 दिन में पूरा कर सकता है। दोनों ने मिलकर 5 दिन कार्य किया। शेष कार्य को C ने अकेले $6\frac{1}{2}$ दिन में पूरा किया। A और C मिलकर उसी कार्य को कितने दिन में पूरा कर लेंगे?

- Ans
- 1. 6 दिन
 - 2. 9 दिन
 - 3. 8 दिन
 - 4. 10 दिन

Question ID : 65497828667

Status : Not Attempted and Marked For Review

Chosen Option : --

Q.7 $\frac{1}{2}$ of $\frac{1}{3} - \frac{2}{3}$ of $\frac{4}{5} + 4 \div 7 + 3$ of $7 \div 2$ का मान कितना होगा?

- Ans
- 1. $\frac{1104}{105}$
 - 2. $\frac{1024}{105}$
 - 3. $\frac{1124}{105}$
 - 4. $\frac{1224}{105}$

Question ID : 65497828660

Status : Not Attempted and Marked For Review

Chosen Option : --

Q.8 A की आय, B की आय से 25% अधिक है। B की आय, A की आय से कितने प्रतिशत कम है?

- Ans
- 1. 15%
 - 2. 11%
 - 3. 18%
 - 4. 20%

Question ID : 65497828657

Status : Answered

Chosen Option : 4

Q.9 120 m और 180 m लंबी दो रेलगाड़ियां, 34 km/h और 32 km/h की एक समान चाल से एक दूसरे की ओर आ रही हैं। दोनों रेलगाड़ियों द्वारा एक दूसरे को पार करने में लिए गए समय की गणना कीजिए।

- Ans
- 1. 15.5 सेकंड
 - 2. 17 सेकंड
 - 3. 16 सेकंड
 - 4. 180/11 सेकंड

Question ID : 65497828659

Status : Answered

Chosen Option : 4

Q.10 एक वर्ग का परिमाण 64 cm है। एक आयत का क्षेत्रफल, उस वर्ग के क्षेत्रफल से 16 cm^2 कम है। यदि आयत की लंबाई 20 cm हो, तो आयत का परिमाण कितना होगा?

- Ans
- 1. 18 cm
 - 2. 64 cm
 - 3. 12 cm
 - 4. 15 cm

Question ID : 65497828664

Status : Not Attempted and Marked For Review

Chosen Option : --

Q.11 रोहित और मनोज के पास कुल ₹1,320 हैं। यदि रोहित की धनराशि का $\frac{10}{21}$, मनोज की धनराशि के $\frac{5}{7}$ के बराबर है, तो रोहित के पास कितनी धनराशि है?

- Ans
- 1. ₹328
 - 2. ₹980
 - 3. ₹320
 - 4. ₹792

Question ID : 65497828662

Status : Not Attempted and Marked For Review

Chosen Option : --

Q.12 ₹13540 की राशि को कमल और सुनीता के बीच इस प्रकार विभाजित किया गया है कि 8% वार्षिक चक्रवृद्धि ब्याज की दर पर 5 वर्ष के पश्चात कमल के हिस्से पर प्राप्त मिश्रधन, समान दर पर 7 वर्ष के पश्चात सुनीता के हिस्से पर प्राप्त मिश्रधन के बराबर हो, जबकि ब्याज की गणना वार्षिक चक्रवृद्धि आधार पर की जाती है। कमल का हिस्सा ज्ञात कीजिए।

- Ans
- 1. ₹7,390
 - 2. ₹7,290
 - 3. ₹7,280
 - 4. ₹8,240

Question ID : 65497828647

Status : Not Attempted and Marked For Review

Chosen Option : --

Q.13 वह बड़ी से बड़ी संख्या ज्ञात कीजिए, जिससे 265, 580 और 825 को विभाजित करने पर प्रत्येक मामले में समान शेष बचता है।

- Ans
- 1. 55
 - 2. 45
 - 3. 35
 - 4. 25

Question ID : 65497828650

Status : Not Attempted and Marked For Review

Chosen Option : --

Q.14 A की हानि का $\frac{2}{3}$, B के लाभ के $\frac{5}{7}$ के बराबर है। यदि A की हानि ₹2,460 है, तो A की हानि, B के लाभ के कितने प्रतिशत के बराबर है (दो दशमलव स्थान तक पूर्णांकित)?

- Ans
- 1. 107.14%
 - 2. 93.67%
 - 3. 93.33%
 - 4. 107.27%

Question ID : 65497828644

Status : Not Attempted and Marked For Review

Chosen Option : --

Q.15 कोई तालाब 50 m लंबा, 25 m चौड़ा और 4 m गहरा है। तालाब की धारिता (m^3 में) ज्ञात कीजिए।

- Ans
- 1. 2500
 - 2. 500
 - 3. 4000
 - 4. 5000

Question ID : 65497828649

Status : Answered

Chosen Option : 4

Q.16 एक धनराशि पर 9% वार्षिक ब्याज दर से 6 वर्ष में कुल साधारण ब्याज ₹5,427 प्राप्त किया गया। वह धनराशि कितनी है?

- Ans
- 1. ₹54,270
 - 2. ₹10,002
 - 3. ₹10,050
 - 4. ₹54,010

Question ID : 65497828653

Status : Answered

Chosen Option : 3

Q.17 एक व्यक्ति ने ₹18,000 में एक रेफ्रिजरेटर खरीदा। दो वर्षों के बाद, उसने इसकी मरम्मत पर ₹2,500 खर्च किए और इसे ₹12,300 में बेच दिया। हानि प्रतिशत ज्ञात करें।

- Ans
- 1. 46%
 - 2. 42%
 - 3. 44%
 - 4. 40%

Question ID : 65497828654

Status : Answered

Chosen Option : 2

Q.18 $2 \times 7 \div 14$ of $4 - 5 \div 4 \times (9 - 11) + 2 - 2 \times 6 \div 8$ of 3 का मान कितना होगा?

Ans

1. $3\frac{1}{2}$

2. $4\frac{3}{4}$

3. $4\frac{1}{4}$

4. $2\frac{1}{2}$

Question ID : 65497828665

Status : Marked For Review

Chosen Option : 4

Q.19 यदि $P = a^3 \times b^5 \times c^{11}$, $Q = a^9 \times b^9 \times c^5$, $R = a^{15} \times c^{23}$ है, तो P, Q, R का महत्तम समापवर्तक (HCF) ज्ञात करें।

Ans

1. $a^{15} \times b^9 \times c^{23}$

2. $a^3 \times c^5$

3. $a \times c$

4. $a^{26} \times b^{14} \times c^{39}$

Question ID : 65497828643

Status : Answered

Chosen Option : 1

Q.20 किसी वस्तु को $14\frac{1}{2}\%$ और $10\frac{1}{2}\%$ की छूट पर बेचे जाने पर उसके विक्रय मूल्यों का अंतर 48 है। यदि अंकित मूल्य, क्रय मूल्य से 25% अधिक है, तो वस्तु का क्रय मूल्य कितना होगा?

Ans

1. ₹950

2. ₹960

3. ₹920

4. ₹860

Question ID : 65497828645

Status : Not Attempted and Marked For Review

Chosen Option : --

Q.21 यदि एक 7 ft लंबे लड़के की छाया जमीन पर 21 ft लंबी बन सकती है, तो कितने लंबे (ft में) व्यक्ति की छाया 15 ft लंबी बनेगी?

- Ans
- 1. 5.5
 - 2. 6
 - 3. 6.5
 - 4. 5

Question ID : 65497828652
Status : Not Answered
Chosen Option : --

Q.22 एक रेलगाड़ी 70 km/h की चाल से 5 घंटे तक चलती है और स्टेशन 'A' पर रुकती है। इसके बाद रेलगाड़ी, स्टेशन A से निकलकर 66 km/h की चाल से 3 घंटे चलकर स्टेशन 'B' पर पहुंचती है। रेलगाड़ी द्वारा तय की गई कुल दूरी ज्ञात कीजिए।

- Ans
- 1. 548 km
 - 2. 480 km
 - 3. 520 km
 - 4. 500 km

Question ID : 65497828661
Status : Not Answered
Chosen Option : --

Q.23 13 के पहले पांच गुणजों का औसत कितना है?

- Ans
- 1. 39
 - 2. 26
 - 3. 13
 - 4. 65

Question ID : 65497828651
Status : Not Answered
Chosen Option : --

Q.24 तीन संख्याओं में से, पहली संख्या, दूसरी संख्या की 3 गुनी है और दूसरी संख्या, तीसरी संख्या के आधे के बराबर है। संख्याओं का औसत 60 है। तीसरी संख्या ज्ञात कीजिए।

- Ans
- 1. 90
 - 2. 120
 - 3. 30
 - 4. 60

Question ID : 65497828655
Status : Not Answered
Chosen Option : --

Q.25 कुछ वस्तुओं को इस प्रकार बेचा गया कि 60% वस्तुओं का क्रय मूल्य, 40% वस्तुओं के विक्रय मूल्य के बराबर है। लाभ प्रतिशत ज्ञात करें।

- Ans
- 1. 35
 - 2. 50
 - 3. 45
 - 4. 40

Question ID : 65497828646
Status : Not Answered
Chosen Option : --

Section : Part D English

Q.1 Select the most appropriate meaning of the given idiom.

Monkey business

- Ans
- 1. Carrying out business related to monkeys
 - 2. Actions that imitate other animals
 - 3. Dealing in the supply of monkeys
 - 4. Behaviour that is not acceptable or is dishonest

Question ID : 65497828673
Status : Not Answered
Chosen Option : --

Q.2 Select the INCORRECTLY spelt word.

- Ans
- 1. Array
 - 2. Express
 - 3. Exclaim
 - 4. Community

Question ID : 65497828675
Status : Not Answered
Chosen Option : --

Q.3 The following sentence has been divided into parts. One of them may contain an error. Select the part that contains the error from the given options. If you don't find any error, mark 'No error' as your answer.

He want / to have / some more rice.

- Ans
- 1. No error
 - 2. He want
 - 3. some more rice
 - 4. to have

Question ID : 65497828668
Status : Not Answered
Chosen Option : --

Q.4 Select the most appropriate meaning of the given idiom.

In the long run

- Ans
- 1. Occasionally
 - 2. Ultimately
 - 3. Immediately
 - 4. Regularly

Question ID : 65497828670
Status : Not Answered
Chosen Option : --

Q.5 Select the most appropriate SYNONYM of the given word.

Lure

- Ans
- 1. Attract
 - 2. Amend
 - 3. Arise
 - 4. Attack

Question ID : 65497828686
Status : Not Answered
Chosen Option : --

Q.6 Select the most appropriate option to fill in the blank.

There are various legends associated with the _____ of the state of Kerala.

- Ans
- 1. root
 - 2. source
 - 3. basis
 - 4. origin

Question ID : 65497828676
Status : Not Answered
Chosen Option : --

Q.7 Select the most appropriate ANTONYM of the given word.

Tropical

- Ans
- 1. Lush
 - 2. Equatorial
 - 3. Sultry
 - 4. Cold

Question ID : 65497828680
Status : Not Answered
Chosen Option : --

Q.8 Parts of the given sentence have been given as options. One of them contains a grammatical error. Select the option that has the error.

Educational institutions have been notify to open from 17th November for higher semester students who are engaged in research.

Ans 1. have been notify

2. are engaged

3. for higher semester students

4. open from

Question ID : 65497828679

Status : Not Answered

Chosen Option : --

Q.9 The following sentence has been split into four segments. Identify the segment that contains a grammatical error.

He has been talking / since two hours / and is still / not tired.

Ans 1. He has been talking

2. not tired

3. since two hours

4. and is still

Question ID : 65497828685

Status : Not Answered

Chosen Option : --

Q.10 Select the most appropriate option to fill in the blank.

The police later _____ that one of the thieves had been arrested.

Ans 1. abandoned

2. commenced

3. analysed

4. confirmed

Question ID : 65497828671

Status : Not Answered

Chosen Option : --

Q.11 Select the most appropriate option that can substitute the underlined segment in the given sentence. If there is no need to substitute it, select 'No substitution required'.

I am living in this city for several years but have never experienced any discrimination.

Ans 1. was lived

2. have lived

3. No substitution required'

4. had lived

Question ID : 65497828683

Status : Not Answered

Chosen Option : --

Q.12 Select the most appropriate option to fill in the blank.

My classmate is _____ of my achievement.

- Ans
- 1. sad
 - 2. bitter
 - 3. zealous
 - 4. jealous

Question ID : 65497828677
Status : Not Answered
Chosen Option : --

Q.13 Select the option that can be used as a one-word substitute for the given group of words.

Fit to be eaten

- Ans
- 1. Tasty
 - 2. Edible
 - 3. Potable
 - 4. Delicious

Question ID : 65497828687
Status : Not Answered
Chosen Option : --

Q.14 Select the option that can be used as a one-word substitute for the given group of words.

A large cage, building or enclosure for keeping birds in

- Ans
- 1. Aviary
 - 2. Apiary
 - 3. Aquarium
 - 4. Asylum

Question ID : 65497828674
Status : Not Answered
Chosen Option : --

Q.15 Select the INCORRECTLY spelt word.

- Ans
- 1. Nineteen
 - 2. Neutrelise
 - 3. Noun
 - 4. Nationalise

Question ID : 65497828682
Status : Not Answered
Chosen Option : --

Q.16 Select the most appropriate synonym of the given word.

Desert

- Ans
- 1. Stay
 - 2. Support
 - 3. Abandon
 - 4. Help

Question ID : 65497828669
Status : Not Answered
Chosen Option : --

Q.17 Select the most appropriate option that can substitute the underlined word in the given sentence.

In India, there are not enough job employability.

- Ans
- 1. profitability
 - 2. productivities
 - 3. invincibility
 - 4. opportunities

Question ID : 65497828672
Status : Not Answered
Chosen Option : --

Q.18 Select the most appropriate option that can substitute the underlined segment in the given sentence. If there is no need to substitute it, select 'No substitution required'.

I started early from office, lest I should not get caught in the rain.

- Ans
- 1. lest I will not get caught
 - 2. lest I should get caught
 - 3. lest that I get caught
 - 4. No substitution required'

Question ID : 65497828684
Status : Not Answered
Chosen Option : --

Q.19 Select the option that can be used as a one-word substitute for the given group of words.

A system of society or government in which men hold the power and women are largely excluded from it

- Ans
- 1. Matriarchy
 - 2. Masculinity
 - 3. Patrilineal
 - 4. Patriarchy

Question ID : 65497828681
Status : Not Answered
Chosen Option : --

Q.20 Select the most appropriate ANTONYM of the given word.

Monumental

- Ans 1. Insignificant
 2. Mysterious
 3. Enormous
 4. Important

Question ID : 65497828678

Status : Not Answered

Chosen Option : --

Comprehension:

In the following passage, some words have been deleted. Read the passage carefully and select the most appropriate option to fill in each blank.

The predominantly deltaic eastern coastal plain is an area of deep sedimentation. Over (1) _____ of its length it is considerably wider (2) _____ the plain on the western coast. (3) _____ major deltas, from south to north, (4) _____ of the Kaveri, the Krishna-Godavari, the Mahanadi, and the Ganges-Brahmaputra rivers. The last of (5) _____ is some 190 miles (300 km) wide, but only about one-third of it lies within India.

SubQuestion No : 21

Q.21 Select the most appropriate option to fill in blank no. 1.

- Ans 1. more
 2. most
 3. many
 4. maximum

Question ID : 65497828689

Status : Not Answered

Chosen Option : --

Comprehension:

In the following passage, some words have been deleted. Read the passage carefully and select the most appropriate option to fill in each blank.

The predominantly deltaic eastern coastal plain is an area of deep sedimentation. Over (1) _____ of its length it is considerably wider (2) _____ the plain on the western coast. (3) _____ major deltas, from south to north, (4) _____ of the Kaveri, the Krishna-Godavari, the Mahanadi, and the Ganges-Brahmaputra rivers. The last of (5) _____ is some 190 miles (300 km) wide, but only about one-third of it lies within India.

SubQuestion No : 22

Q.22 Select the most appropriate option to fill in blank no. 2.

- Ans 1. then
 2. than
 3. that
 4. there

Question ID : 65497828690

Status : Not Answered

Chosen Option : --

Comprehension:

In the following passage, some words have been deleted. Read the passage carefully and select the most appropriate option to fill in each blank.

The predominantly deltaic eastern coastal plain is an area of deep sedimentation. Over (1) _____ of its length it is considerably wider (2) _____ the plain on the western coast. (3) _____ major deltas, from south to north, (4) _____ of the Kaveri, the Krishna-Godavari, the Mahanadi, and the Ganges-Brahmaputra rivers. The last of (5) _____ is some 190 miles (300 km) wide, but only about one-third of it lies within India.

SubQuestion No : 23

Q.23 Select the most appropriate option to fill in blank no. 3

- Ans 1. Specific
 2. The
 3. Few
 4. Such

Question ID : 65497828691

Status : Not Answered

Chosen Option : --

Comprehension:

In the following passage, some words have been deleted. Read the passage carefully and select the most appropriate option to fill in each blank.

The predominantly deltaic eastern coastal plain is an area of deep sedimentation. Over (1) _____ of its length it is considerably wider (2) _____ the plain on the western coast. (3) _____ major deltas, from south to north, (4) _____ of the Kaveri, the Krishna-Godavari, the Mahanadi, and the Ganges-Brahmaputra rivers. The last of (5) _____ is some 190 miles (300 km) wide, but only about one-third of it lies within India.

SubQuestion No : 24

Q.24 Select the most appropriate option to fill in blank no. 4.

- Ans 1. are
 2. have been
 3. were
 4. had been

Question ID : 65497828692

Status : Not Answered

Chosen Option : --

Comprehension:

In the following passage, some words have been deleted. Read the passage carefully and select the most appropriate option to fill in each blank.

The predominantly deltaic eastern coastal plain is an area of deep sedimentation. Over (1) _____ of its length it is considerably wider (2) _____ the plain on the western coast. (3) _____ major deltas, from south to north, (4) _____ of the Kaveri, the Krishna-Godavari, the Mahanadi, and the Ganges-Brahmaputra rivers. The last of (5) _____ is some 190 miles (300 km) wide, but only about one-third of it lies within India.

SubQuestion No : 25

Q.25 Select the most appropriate option to fill in blank no. 5.

- Ans 1. whom
 2. this
 3. them
 4. that

Question ID : 65497828693

Status : Not Answered

Chosen Option : --

Section : Part D Hindi

Q.1 दिए गए चार विकल्पों में से, उस विकल्प का चयन करें, जो नीचे दिए मुहावरे का अर्थ व्यक्त करता है।

भागीरथ प्रयत्न

- Ans 1. प्रयास न करना
 2. उनकी कोशिश
 3. थोड़ा प्रयास
 4. भारी कोशिश

Question ID : 65497828707

Status : Answered

Chosen Option : 3

Q.2 दिये गये वाक्य में रेखांकित अंश को प्रतिस्थापित करने के लिए सबसे उपयुक्त विकल्प का चयन करें।

इस गीत की दो चार लड़ियाँ सुना दो।

- Ans 1. कविता
 2. झड़ियाँ
 3. कड़ियाँ
 4. छंद

Question ID : 65497828709

Status : Answered

Chosen Option : 3

Q.3 दिए गए शब्द के समानार्थी शब्द का चयन करें।

सुधा

- Ans 1. द्रव्य
 2. पावन
 3. पीयूष
 4. वारि

Question ID : 65497828700

Status : Answered

Chosen Option : 3

Q.4 दिए गए शब्द का विलोम चुनें-

सौम्य

- Ans 1. स्तुत्य
 2. उग्र
 3. निष्ठ
 4. सेवित

Question ID : 65497828706

Status : Answered

Chosen Option : 2

Q.5 दिए गए वाक्य में रेखांकित खंड को प्रतिस्थापित करने के लिए सबसे उपयुक्त विकल्प का चयन करें। यदि इसे प्रतिस्थापित करने की आवश्यकता नहीं है, तो विकल्प 'किसी बदलाव की आवश्यकता नहीं है' का चयन करें।

थोड़ी देर बाद वे वापस लौट आये।

- Ans 1. किसी बदलाव की आवश्यकता नहीं है।
 2. वे वापसी लौट आये
 3. वे लौट आये वापस
 4. वे लौट आये

Question ID : 65497828705

Status : Answered

Chosen Option : 4

Q.6 'कमर कसना' मुहावरे का अर्थ बताइए-

- Ans 1. हौसला हारना
 2. तैयार होना
 3. सहारा देना
 4. दर्द होना

Question ID : 65497828697

Status : Answered

Chosen Option : 2

Q.7 रिक्त स्थान को भरने के लिए सबसे उपयुक्त शब्द का चयन कीजिए।

पृथ्वी का _____ गोल है।

Ans 1. आकार

2. क्षमता

3. स्वरूप

4. रूप

Question ID : 65497828695

Status : Answered

Chosen Option : 1

Q.8 विलोम शब्दों के सही युग्म का चयन करें:

Ans 1. भय - डर

2. आदि - अंत

3. न कहने योग्य - अकथ

4. शरीर - देह

Question ID : 65497828711

Status : Answered

Chosen Option : 2

Q.9 दिए गए शब्द के समानार्थी शब्द का चयन करें।

अमृत

Ans 1. अद्भुत

2. वसुधा

3. सुधा

4. अलौकिक

Question ID : 65497828704

Status : Answered

Chosen Option : 4

Q.10 सही वर्तनी वाले शब्द का चयन करें।

Ans 1. सैक्षनिक

2. शैछणिक

3. शैक्षणिक

4. शिक्षणिक

Question ID : 65497828702

Status : Answered

Chosen Option : 3

Q.11 रिक्त स्थान भरने के लिए सबसे उपयुक्त शब्द का चयन करें-

उनकी आपस में _____ हो गई।

- Ans
- 1. लबझड़
 - 2. गड़बड़
 - 3. खटपट
 - 4. फटफट

Question ID : 65497828698

Status : Answered

Chosen Option : 3

Q.12 मेरे से प्रश्न मत पूछना - रेखांकित शब्द की त्रुटि पहचानिए-

- Ans
- 1. क्रिया विशेष के कारण
 - 2. सर्वनाम के कारण
 - 3. विशेषण के कारण
 - 4. संज्ञा के कारण

Question ID : 65497828710

Status : Answered

Chosen Option : 2

Q.13 बिना पलक झपकाए - वाक्यांश के लिए एक शब्द है:

- Ans
- 1. मेष
 - 2. निर्निमेष
 - 3. पलक
 - 4. निमेष

Question ID : 65497828712

Status : Answered

Chosen Option : 2

Q.14 नीचे दिए वाक्य में रिक्त-स्थान भरने के लिए सबसे उपयुक्त शब्द का चयन करें।

रात को उल्लुओं के _____ की आवाज़ें आ रही थीं।

- Ans
- 1. टरनि
 - 2. कूजने
 - 3. रेंकने
 - 4. घुघुआने

Question ID : 65497828708

Status : Answered

Chosen Option : 2

Q.15 'जिसकी जड़ या आधार का पता न हो' इस वाक्यांश के लिए एक सार्थक शब्द दीजिए।

- Ans
- 1. निर्भय
 - 2. निर्मम
 - 3. निर्दय
 - 4. निर्मूल

Question ID : 65497828694
Status : Answered
Chosen Option : 4

Q.16 माल-सामान की बिक्री करनेवाला

शब्द समूह के स्थान पर एक शब्द लिखिए-

- Ans
- 1. बुभुक्षा
 - 2. क्रेता
 - 3. ग्राहक
 - 4. विक्रेता

Question ID : 65497828713
Status : Answered
Chosen Option : 4

Q.17 दिए गए वाक्य का वो भाग ज्ञात करें जिसमें कोई त्रुटि है। यदि कोई त्रुटि नहीं है, तो 'कोई त्रुटि नहीं है' चुनें।

रण में सेनापति के वीरता (1)\ दिखाने का कारण राष्ट्रपति ने (2)\ उसे वीरचक्र प्रदान किया। (3)\ कोई त्रुटि नहीं है (4)

- Ans
- 1. 1
 - 2. 2
 - 3. 4
 - 4. 3

Question ID : 65497828699
Status : Answered
Chosen Option : 1

Q.18 दिए गए वाक्य का वह भाग ज्ञात करें जिसमें कोई त्रुटि है। यदि कोई त्रुटि नहीं है, तो 'कोई त्रुटि नहीं है' चुनें।

गणतंत्र दिवस की परेड को (1)\ लाखों बालक, वृद्ध नर और नारी (2)\ देख रही थी। (3)\ कोई त्रुटि नहीं है(4)

- Ans
- 1. 3
 - 2. 1
 - 3. 2
 - 4. 4

Question ID : 65497828703
Status : Answered
Chosen Option : 1

Q.19 दिए गए वाक्य में रेखांकित खंड को प्रतिस्थापित करने के लिए सबसे उपयुक्त विकल्प का चयन करें। यदि इसे प्रतिस्थापित करने की आवश्यकता नहीं है, तो विकल्प 'किसी बदलाव की आवश्यकता नहीं है' का चयन करें।

वह नहीं समझेगा इसलिए वह मूर्ख है।

- Ans
- 1. क्योंकि
 - 2. अतः
 - 3. इसके कारण
 - 4. किसी बदलाव की आवश्यकता नहीं है।

Question ID : 65497828696

Status : Answered

Chosen Option : 1

Q.20 सही वर्तनी वाले शब्द का चयन करें।

- Ans
- 1. अरिन्य
 - 2. अरिण्य
 - 3. अरण्य
 - 4. अरन्य

Question ID : 65497828701

Status : Answered

Chosen Option : 3

Comprehension:

निम्नलिखित गद्यांश को पढ़कर प्रश्नों के उचित उत्तर दीजिए-

प्राचीन काल में नारी का स्थान बहुत ही महत्वपूर्ण था। ऐसा कहा जाता है कि "जहाँ नारी की पूजा होती है, वहाँ देवता निवास करते हैं" मध्यकालीन युग से नारी का पतन शुरू हो गया। नारी को दासी या गुलाम माना जाने लगा। नारी घर में ही कैद हो गई। 19वीं सदी में राजा राममोहन राय, स्वामी विवेकानंद, दयानंद सरस्वती आदि महानुभावों एवं समाज सुधारकों के प्रयासों से नारी अबला से सबला बनती गई। सम्पूर्ण कायापलट हो गयी। नारी प्रगति के पथ पर निरंतर आगे बढ़ती गयी, आज की नारी ने जमीन से लेकर अंबर तक अपना कब्जा जमाया है। नर और नारी रथ के दो पहिये हैं, रथ को सुव्यवस्थित चलाने के लिए संतुलन होना चाहिए, तो ही परिवार सुख से जीता है। शिक्षित नारी परिवार की उद्धारक है। प्रत्येक घर में नारी का सम्मान होना चाहिए। समाज में प्रचलित कुरीतियों को दूर करने में दोनों को एक दूसरे का सहयोगी बनना चाहिए। नारी का उद्धार देश का उद्धार है। अर्थात् नारी को सदैव सम्मान देना चाहिए।

SubQuestion No : 21

Q.21 आकाश- कौन-सा शब्द रेखांकित शब्द का पर्याय नहीं है?

- Ans
- 1. अम्बर
 - 2. अतल
 - 3. नभ
 - 4. गगन

Question ID : 65497828715

Status : Answered

Chosen Option : 2

Comprehension:

निम्नलिखित गद्यांश को पढ़कर प्रश्नों के उचित उत्तर दीजिए-

प्राचीन काल में नारी का स्थान बहुत ही महत्वपूर्ण था। ऐसा कहा जाता है कि "जहाँ नारी की पूजा होती है, वहाँ देवता निवास करते हैं" मध्यकालीन युग से नारी का पतन शुरू हो गया। नारी को दासी या गुलाम माना जाने लगा। नारी घर में ही कैद हो गई। 19वीं सदी में राजा राममोहन राय, स्वामी विवेकानंद, दयानंद सरस्वती आदि महानुभावों एवं समाज सुधारकों के प्रयासों से नारी अबला से सबला बनती गई। सम्पूर्ण कायापलट हो गयी। नारी प्रगति के पथ पर निरंतर आगे बढ़ती गयी, आज की नारी ने जमीन से लेकर अंबर तक अपना कब्जा जमाया है। नर और नारी रथ के दो पहिये हैं, रथ को सुव्यवस्थित चलाने के लिए संतुलन होना चाहिए, तो ही परिवार सुख से जीता है। शिक्षित नारी परिवार की उद्धारक है। प्रत्येक घर में नारी का सम्मान होना चाहिए। समाज में प्रचलित कुरीतियों को दूर करने में दोनों को एक दूसरे का सहयोगी बनना चाहिए। नारी का उद्धार देश का उद्धार है। अर्थात् नारी को सदैव सम्मान देना चाहिए।

SubQuestion No : 22

Q.22 अबला रेखांकित शब्द का विलोम बताइए।

- Ans
- 1. दासी
 - 2. सबला
 - 3. दुर्बल
 - 4. नारी

Question ID : 65497828716

Status : Answered

Chosen Option : 2

Comprehension:

निम्नलिखित गद्यांश को पढ़कर प्रश्नों के उचित उत्तर दीजिए-

प्राचीन काल में नारी का स्थान बहुत ही महत्वपूर्ण था। ऐसा कहा जाता है कि "जहाँ नारी की पूजा होती है, वहाँ देवता निवास करते हैं" मध्यकालीन युग से नारी का पतन शुरू हो गया। नारी को दासी या गुलाम माना जाने लगा। नारी घर में ही कैद हो गई। 19वीं सदी में राजा राममोहन राय, स्वामी विवेकानंद, दयानंद सरस्वती आदि महानुभावों एवं समाज सुधारकों के प्रयासों से नारी अबला से सबला बनती गई। सम्पूर्ण कायापलट हो गयी। नारी प्रगति के पथ पर निरंतर आगे बढ़ती गयी, आज की नारी ने जमीन से लेकर अंबर तक अपना कब्जा जमाया है। नर और नारी रथ के दो पहिये हैं, रथ को सुव्यवस्थित चलाने के लिए संतुलन होना चाहिए, तो ही परिवार सुख से जीता है। शिक्षित नारी परिवार की उद्धारक है। प्रत्येक घर में नारी का सम्मान होना चाहिए। समाज में प्रचलित कुरीतियों को दूर करने में दोनों को एक दूसरे का सहयोगी बनना चाहिए। नारी का उद्धार देश का उद्धार है। अर्थात् नारी को सदैव सम्मान देना चाहिए।

SubQuestion No : 23

Q.23 एक दूसरे का _____ बनना चाहिए। रिक्त स्थान की पूर्ति कीजिए।

- Ans
- 1. सहाय
 - 2. सहयोगी
 - 3. असहयोगी
 - 4. सयोगी

Question ID : 65497828717

Status : Answered

Chosen Option : 2

Comprehension:

निम्नलिखित गद्यांश को पढ़कर प्रश्नों के उचित उत्तर दीजिए-

प्राचीन काल में नारी का स्थान बहुत ही महत्वपूर्ण था। ऐसा कहा जाता है कि "जहाँ नारी की पूजा होती है, वहाँ देवता निवास करते हैं" मध्यकालीन युग से नारी का पतन शुरू हो गया। नारी को दासी या गुलाम माना जाने लगा। नारी घर में ही कैद हो गई। 19वीं सदी में राजा राममोहन राय, स्वामी विवेकानंद, दयानंद सरस्वती आदि महानुभावों एवं समाज सुधारकों के प्रयासों से नारी अबला से सबला बनती गई। सम्पूर्ण कायापलट हो गयी। नारी प्रगति के पथ पर निरंतर आगे बढ़ती गयी, आज की नारी ने जमीन से लेकर अंबर तक अपना कब्जा जमाया है। नर और नारी रथ के दो पहिये हैं, रथ को सुव्यवस्थित चलाने के लिए संतुलन होना चाहिए, तो ही परिवार सुख से जीता है। शिक्षित नारी परिवार की उद्धारक है। प्रत्येक घर में नारी का सम्मान होना चाहिए। समाज में प्रचलित कुरीतियों को दूर करने में दोनों को एक दूसरे का सहयोगी बनना चाहिए। नारी का उद्धार देश का उद्धार है। अर्थात् नारी को सदैव सम्मान देना चाहिए।

SubQuestion No : 24

Q.24 मध्यकालीन युग में नारी की स्थिति क्या थी?

- Ans
- 1. महत्वपूर्ण स्थान था
 - 2. पूजनीय थी
 - 3. शिक्षित थी
 - 4. दासी

Question ID : 65497828718

Status : Answered

Chosen Option : 1

Comprehension:

निम्नलिखित गद्यांश को पढ़कर प्रश्नों के उचित उत्तर दीजिए-

प्राचीन काल में नारी का स्थान बहुत ही महत्वपूर्ण था। ऐसा कहा जाता है कि "जहाँ नारी की पूजा होती है, वहाँ देवता निवास करते हैं" मध्यकालीन युग से नारी का पतन शुरू हो गया। नारी को दासी या गुलाम माना जाने लगा। नारी घर में ही कैद हो गई। 19वीं सदी में राजा राममोहन राय, स्वामी विवेकानंद, दयानंद सरस्वती आदि महानुभावों एवं समाज सुधारकों के प्रयासों से नारी अबला से सबला बनती गई। सम्पूर्ण कायापलट हो गयी। नारी प्रगति के पथ पर निरंतर आगे बढ़ती गयी, आज की नारी ने जमीन से लेकर अंबर तक अपना कब्जा जमाया है। नर और नारी रथ के दो पहिये हैं, रथ को सुव्यवस्थित चलाने के लिए संतुलन होना चाहिए, तो ही परिवार सुख से जीता है। शिक्षित नारी परिवार की उद्धारक है। प्रत्येक घर में नारी का सम्मान होना चाहिए। समाज में प्रचलित कुरीतियों को दूर करने में दोनों को एक दूसरे का सहयोगी बनना चाहिए। नारी का उद्धार देश का उद्धार है। अर्थात् नारी को सदैव सम्मान देना चाहिए।

SubQuestion No : 25

Q.25 गद्यांश का उचित शीर्षक बताइए।

- Ans
- 1. यदि मैं शिक्षक बनूँ...!
 - 2. दहेज प्रथा
 - 3. मेरे सपनों का भारत
 - 4. नारी तू नारायणी

Question ID : 65497828719

Status : Answered

Chosen Option : 4