

Constable GD in CAPFs NIA SSF and Rifleman GD in Assam Rifles Examination 2021

Roll Number	www.GovtJobsAlert.In
Candidate Name	www.GovtJobsAlert.In
Venue Name	ION Digital Zone iDZ Sirsakala Bhilai-3
Exam Date	23/11/2021
Exam Time :	4:00 PM - 5:30 PM
Subject	Constable GD 2021

Section : Part A General Intelligence and Reasoning

Q.1 दिए गए विकल्पों में से वह संख्या चुनें जो निम्नलिखित श्रेणी में प्रश्नवाचक चिह्न (?) के स्थान पर आ सकती है।

7, 14, 17, 68, 73, ?

- Ans
- 1. 408
 - 2. 528
 - 3. 432
 - 4. 438

Question ID : 65497829106

Status : Not Attempted and Marked For Review

Chosen Option : --

Q.2 उस विकल्प का चयन कीजिए, जिसमें दी गई संख्याओं के बीच वही संबंध है, जो दिए गए समुच्चय की संख्याओं के बीच है।

(9, 45, 10)

- Ans
- 1. (5, 75, 26)
 - 2. (8, 72, 18)
 - 3. (6, 85, 22)
 - 4. (7, 40, 12)

Question ID : 65497829110

Status : Not Attempted and Marked For Review

Chosen Option : --

Q.3 सात दोस्त S, T, U, V, W, X और Y, एक वृत्त के इर्द-गिर्द वृत्त के केंद्र की ओर पीठ करके बैठे हैं। Y और V के बीच तीन व्यक्ति हैं। W, V के दाईं ओर ठीक बगल में बैठा है। U, Y और X के बीच में बैठा है। T, W या Y के बगल में नहीं बैठा है। S, W के बगल में बैठा है। V और X के बीच कौन बैठा है?

- Ans
- 1. T
 - 2. S
 - 3. Y
 - 4. U

Question ID : 65497829119

Status : Answered

Chosen Option : 1

Q.4 चार अक्षर-समूह दिए गए हैं, जिनमें से तीन किसी तरह से संगत हैं और एक असंगत है। उस अक्षर-समूह का चयन करें, जो असंगत है।

- Ans
- 1. KNQW
 - 2. PSVYB
 - 3. CGILN
 - 4. DGJMP

Question ID : 65497829104
Status : Answered
Chosen Option : 3

Q.5 उस विकल्प का चयन कीजिए, जो दिए गए शब्दों के उस क्रम को दर्शाता है, जिस क्रम में वे अंग्रेजी शब्दकोश में मौजूद होते हैं।

1. Rotate
2. Rose
3. Resolute
4. Repair
5. Recreate

- Ans
- 1. 5, 4, 3, 2, 1
 - 2. 4, 5, 3, 2, 1
 - 3. 1, 4, 3, 2, 5
 - 4. 5, 4, 3, 1, 2

Question ID : 65497829113
Status : Answered
Chosen Option : 1

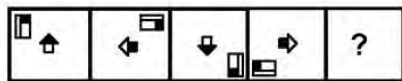
Q.6 उस विकल्प का चयन करें, जिसका तीसरे पद से वही संबंध है, जो दूसरे पद का पहले पद से है।

NOSE : ENOS :: PROUD : ?

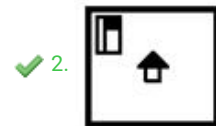
- Ans
- 1. RPUOD
 - 2. DOPRU
 - 3. DUROP
 - 4. OUPDR

Question ID : 65497829101
Status : Answered
Chosen Option : 2

Q.7 उस आकृति का चयन कीजिए जो निम्न आकृति श्रृंखला में प्रश्नवाचक चिह्न (?) के स्थान पर आएगी।



Ans



Question ID : 65497829116

Status : Answered

Chosen Option : 2

Q.8 उस विकल्प का चयन कीजिए, जिसका चौथी संख्या से वही संबंध है, जो पहली संख्या का दूसरी संख्या से है और पांचवीं संख्या का छठी संख्या से है।

9 : 44001 :: ? : 46521 :: 14 : 55211

Ans ✗ 1. 14

✗ 2. 20

✗ 3. 10

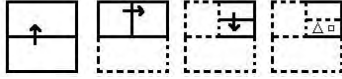
✓ 4. 18

Question ID : 65497829122

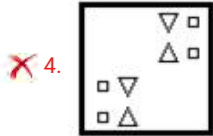
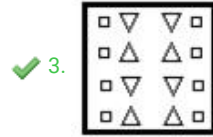
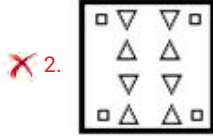
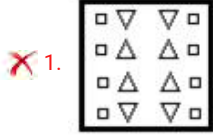
Status : Answered

Chosen Option : 4

Q.9 निम्नलिखित आकृतियों में कागज के एक टुकड़े को मोड़ने का क्रम और उसे काटने की विधि दर्शाई गई है। इस कागज को खोलने पर यह कैसा दिखाई देगा?



Ans



Question ID : 65497829112

Status : Answered

Chosen Option : 3

Q.10 दिए गए विकल्पों में से उस संख्या का चयन कीजिए, जो निम्नलिखित श्रेणी में प्रश्न चिह्न (?) के स्थान पर आ सकती है।

40, 46, 58, 82, 130, ?

Ans ✗ 1. 174

✗ 2. 206

✓ 3. 226

✗ 4. 166

Question ID : 65497829115

Status : Answered

Chosen Option : 3

Q.11 मनदीप और स्वाति के वेतनों का योग ₹85,000 है। स्वाति और युक्ति के वेतनों का योग ₹60,000 है। यदि स्वाति का वेतन, युक्ति के वेतन से ₹10,000 अधिक है, तो मनदीप का वेतन कितना है?

Ans ✗ 1. ₹40,000

✗ 2. ₹35,000

✗ 3. ₹25,000

✓ 4. ₹50,000

Question ID : 65497829111

Status : Answered

Chosen Option : 4

Q.12 यदि 'A' का अर्थ '+' है, 'B' का अर्थ '-' है, 'C' का अर्थ 'x' है और 'D' का अर्थ '÷' है, तो दिए गए व्यंजक का मान ज्ञात कीजिए।

27 D 3 A 5 A (9 C 6) B 15 A (14 B 11) C 6 = ?

Ans 1. 71

2. 81

3. 54

4. 43

Question ID : 65497829123

Status : Answered

Chosen Option : 1

Q.13 दिए गए विकल्पों में से उस अक्षर-समूह का चयन करें, जो निम्नलिखित श्रृंखला में प्रश्न चिह्न (?) के स्थान पर आ सकता है।

MLW, JJV, GHU, ?

Ans 1. FFS

2. GET

3. EGR

4. DFT

Question ID : 65497829117

Status : Answered

Chosen Option : 4

Q.14 'दर्जी' का 'पोशाक' से वही संबंध है, जो 'मोची' का '_____' से है।

Ans 1. साइकिल

2. जूते

3. फ़र्नीचर

4. भवन

Question ID : 65497829118

Status : Answered

Chosen Option : 2

Q.15 दिए गए कथनों और निष्कर्षों को ध्यानपूर्वक पढ़ें। कथनों में दी गई जानकारी को सत्य मानें, भले ही वे सामान्यतः ज्ञात तथ्यों से भिन्न प्रतीत होती हों, और बताएं कि दिए गए निष्कर्षों में से कौन से तार्किक रूप से कथनों का पालन करते हैं?

कथन:

1. सभी सुइयां, कागज़ हैं।
2. कुछ सुइयां, चाकू हैं।

निष्कर्ष:

- I. कुछ चाकू, कागज़ हैं।
- II. कोई कागज़, चाकू नहीं है।

- Ans
- 1. केवल निष्कर्ष I पालन करता है।
 - 2. केवल निष्कर्ष II पालन करता है।
 - 3. दोनों ही निष्कर्ष पालन करते हैं।
 - 4. न तो निष्कर्ष I और न ही II पालन करता है।

Question ID : 65497829109

Status : Answered

Chosen Option : 1

Q.16 एक विशिष्ट कूट भाषा में, 'DUMP' को 'ETNQ' और 'EAGER' को 'DZHDS' लिखा जाता है। उसी कूट भाषा में 'FINGER' को क्या लिखा जाएगा?

- Ans
- 1. GHOHDS
 - 2. GJOHQS
 - 3. IFGNRE
 - 4. HHOHDS

Question ID : 65497829102

Status : Answered

Chosen Option : 1

Q.17 किसी निश्चित कूट भाषा में, 'TARGET' को '219752' और 'PRIZE' को '79985' लिखा जाता है। उसी कूट भाषा में 'QUEEN' को किस प्रकार लिखा जाएगा?

- Ans
- 1. 83225
 - 2. 73554
 - 3. 82554
 - 4. 83555

Question ID : 65497829105

Status : Answered

Chosen Option : 4

Q.18 एक बैठक में भाग ले रहे आठ अधिकारी A, B, C, D, E, F, G और H, एक वृत्ताकार मेज के इर्द-गिर्द इसी क्रम में दक्षिणावर्त बैठे हैं। सभी का मुख मेज के केंद्र की ओर है और उनके बीच समान दूरी है। यदि D का मुख उत्तर-पश्चिम दिशा की ओर है, तो F किस दिशा में बैठा है?

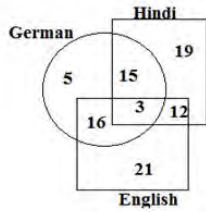
- Ans
- 1. दक्षिण-पूर्व
 - 2. दक्षिण-पश्चिम
 - 3. उत्तर-पूर्व
 - 4. उत्तर-पश्चिम

Question ID : 65497829121

Status : Answered

Chosen Option : 3

Q.19 दिया गया आरेख उन विद्यार्थियों की संख्या दर्शाता है जो विभिन्न भाषाएँ जानते हैं। [हिंदी (Hindi), अंग्रेज़ी (English) और जर्मन (German)]



उन विद्यार्थियों की संख्या कितनी है जो अंग्रेज़ी और जर्मन दोनों जानते हैं, लेकिन हिंदी नहीं जानते हैं?

- Ans
- 1. 15
 - 2. 12
 - 3. 3
 - 4. 16

Question ID : 65497829120

Status : Answered

Chosen Option : 4

Q.20 विशाल, नर्मदा का पति है। प्रतीक, गौरवी का भाई है। कार्तिक, प्रथमेश का बेटा है, जो आरती का पति है। आरती के बेटे का विवाह नर्मदा से हुआ है। गौरवी, विशाल की बेटी है। प्रथमेश का गौरवी से क्या संबंध है?

- Ans
- 1. नाना
 - 2. दादा
 - 3. मामा/मौसा
 - 4. चाचा/फूफा

Question ID : 65497829103

Status : Answered

Chosen Option : 2

Q.21 अक्षरों के उस संयोजन का चयन कीजिए, जिसे दी गई अक्षर श्रृंखला के रिक्त स्थानों में क्रमिक रूप से रखने पर श्रृंखला पूर्ण हो जाएगी।

G _ C T _ X _ T G X _ T _ X C T G _ C T

- Ans
- 1. X X C G G Y
 - 2. X G C C G X
 - 3. X G C C C G
 - 4. T G C C G G

Question ID : 65497829114

Status : Answered

Chosen Option : 2

Q.22 एक निश्चित कूट भाषा में 'READY' को 'IVZWB' लिखा जाता है। उसी कूट भाषा में 'PERFORM' को किस प्रकार लिखा जाएगा?

- Ans
- 1. LORPREFI
 - 2. KVIULIN
 - 3. RPLIFIRE
 - 4. KVPRERFJ

Question ID : 65497829108
Status : Answered
Chosen Option : 2


Q.23 जब दर्पण को दिए गए संयोजन के दाईं ओर रखा जाता है, तो संयोजन के सही दर्पण प्रतिबिंब का चयन करें।

8 5 6 w q a

- Ans
- 1. e p m @ 7 8
 - 2. 8 p w @ 9 8
 - 3. 8 p w @ 7 8
 - 4. 8 b w 9 7 8

Question ID : 65497829107
Status : Answered
Chosen Option : 3

Q.24 दी गई शीट को मोड़कर एक घन बनाया जाता है। इस प्रकार निर्मित घन में, 'A' अक्षर वाले फलक के विपरीत फलक पर कौन सा अक्षर मौजूद होगा?



- Ans
- 1. C
 - 2. B
 - 3. D
 - 4. F

Question ID : 65497829124
Status : Answered
Chosen Option : 1

Q.25 उस विकल्प का चयन करें, जो दी गई आकृति में अंतर्निहित है (आकृति को घुमाने की अनुमति नहीं है)।



Ans



Question ID : 65497829125

Status : Answered

Chosen Option : 3

Section : Part B General Knowledge and General Awareness

Q.1 निम्नलिखित में से कौन सा महासागरीय गतिविधि को संदर्भित नहीं करता है?

Ans 1. परावर्तन

2. तरंग

3. ज्वार-भाटा

4. धाराएं

Question ID : 65497829145

Status : Answered

Chosen Option : 1

Q.2 निम्नलिखित में से कौन-सा लोक नृत्य असम की 'चाय जनजातियों' (tea tribes) द्वारा किया जाता है?

Ans 1. डोमकच (Domkach)

2. अलकप (Alkap)

3. झुमुर (Jhumur)

4. बाराओ (Barao)

Question ID : 65497829130

Status : Not Answered

Chosen Option : --

Q.3 'द अदर साइड ऑफ साइलेंस: वॉयसेस फ्रॉम द पार्टिशन ऑफ इंडिया (The Other Side of Silence: Voices from the Partition of India)' नामक पुस्तक के लेखक का नाम बताइए।

- Ans
- 1. बप्पी सिधवा
 - 2. उर्वशी बुटालिया
 - 3. आयशा जलाली
 - 4. यास्मीन खान

Question ID : 65497829150
Status : Not Answered
Chosen Option : --

Q.4 निम्नलिखित में से कौन एक संधिपाद (Arthropod) है?

- Ans
- 1. जोंक (Leech)
 - 2. सहस्रपाद (Millipede)
 - 3. यकृत पर्णाभ (Liver fluke)
 - 4. घोंघा (Snail)

Question ID : 65497829139
Status : Answered
Chosen Option : 1

Q.5 When is Indian Army Day celebrated every year?

- Ans
- 1. 5 June
 - 2. 23 October
 - 3. 8 March
 - 4. 15 January

Question ID : 65497829143
Status : Answered
Chosen Option : 4

Q.6 भारत में ब्रिटिश राज के संस्थापकों में से एक, रॉबर्ट क्लाइव किस वर्ष में भारत आया था?

- Ans
- 1. 1733
 - 2. 1743
 - 3. 1543
 - 4. 1643

Question ID : 65497829137
Status : Not Attempted and Marked For Review
Chosen Option : --

Q.7 Which of the following is paired CORRECTLY?

- Ans
- 1. Hinge joint: Shoulder
 - 2. Fixed/immovable joint: Elbow
 - 3. Pivotal joint: Neck-head
 - 4. Ball and socket joint: Upper jaw-head

Question ID : 65497829149
Status : Answered
Chosen Option : 4

Q.8 निम्नलिखित में से कौन-सी, भारत की नदियों को आपस में जोड़ने वाली प्रथम परियोजना है?

- Ans
- 1. केन - बेतवा
 - 2. वैगाई - नोय्याल
 - 3. कोसी - गंडक
 - 4. पलार - भवानी

Question ID : 65497829134
Status : Not Answered
Chosen Option : --

Q.9 निम्नलिखित में से कौन सा एक तंतु वाद्य यंत्र (stringed musical instrument) है?

- Ans
- 1. तुरी (Turi)
 - 2. जंतर (Jantar)
 - 3. ज़ांज़ (Zanz)
 - 4. बुंगल (Bungal/Bhungal)

Question ID : 65497829147
Status : Not Answered
Chosen Option : --

Q.10 भारत के स्वतंत्रता आंदोलन के दौरान, भारतीय राष्ट्रीय कांग्रेस के एकमात्र अध्यक्ष कौन थे जिन्होंने निर्वाचित होने के बाद भी अध्यक्ष पद से इस्तीफा दे दिया था?

- Ans
- 1. सुभाष चंद्र बोस
 - 2. वल्लभभाई पटेल
 - 3. दादाभाई नौरोजी
 - 4. अबुल कलाम आज़ाद

Question ID : 65497829140
Status : Answered
Chosen Option : 1

Q.11 समष्टि अर्थशास्त्र (macroeconomics) के जनक (founding father) के रूप में किसे जाना जाता है?

- Ans 1. पॉल सैम्युल्सन (Paul Samuelson)
 2. जॉन मेनार्ड कीन्स (John Maynard Keynes)
 3. अल्फ्रेड मार्शल (Alfred Marshall)
 4. एडम स्मिथ (Adam Smith)

Question ID : 65497829144

Status : Not Attempted and
Marked For Review

Chosen Option : --

Q.12 ऊंटों के बारे में इनमें से कौन सा कथन गलत है?

- Ans 1. उनका गोबर सूखा होता है।
 2. वे थोड़ी मात्रा में मूत्र का उत्सर्जन करते हैं।
 3. उन्हें बहुत पसीना आता है।
 4. वे स्थलीय आवासों में रहते हैं।

Question ID : 65497829148

Status : Not Answered

Chosen Option : --

Q.13 1915 में दक्षिण अफ्रीका से भारत आने के बाद, महात्मा गांधी ने किसकी सलाह पर भारत देश और जनता को समझने के लिए पूरे एक वर्ष तक पूरे भारत की यात्रा करने का फैसला किया?

- Ans 1. बाल गंगाधर तिलक
 2. गोपाल कृष्ण गोखले
 3. मोतीलाल नेहरू
 4. सुभाष चंद्र बोस

Question ID : 65497829127

Status : Not Answered

Chosen Option : --

Q.14 भारतीय संविधान की प्रस्तावना, _____ को जवाहरलाल नेहरू द्वारा संविधान सभा में पेश किए गए उद्देश्य प्रस्ताव पर आधारित है।

- Ans 1. 4 नवंबर 1946
 2. 13 दिसंबर 1946
 3. 29 अगस्त 1947
 4. 14 फरवरी 1945

Question ID : 65497829128

Status : Answered

Chosen Option : 2

Q.15 किस वर्ष से कबड्डी को एक पूर्ण खेल के रूप में एशियाई खेलों में शामिल किया गया है?

- Ans
- 1. 2000
 - 2. 1996
 - 3. 1994
 - 4. 1990

Question ID : 65497829133
Status : Not Answered
Chosen Option : --

Q.16 वर्ष 1932 में, महात्मा गांधी ने ब्रिटिश सरकार के भारत की निर्वाचन प्रणाली को जातिगत आधार पर पृथक करने के फैसले के विरोध में किस जेल में भूख हड़ताल की थी?

- Ans
- 1. डोंगरी
 - 2. भोईवाड़ा
 - 3. यरवदा
 - 4. भायखला

Question ID : 65497829132
Status : Not Answered
Chosen Option : --

Q.17 अक्टूबर 2020 में, भारत सरकार ने _____ के लिए अवसरों को बढ़ावा देने के उद्देश्य से SERB-POWER योजना शुरू की।

- Ans
- 1. चिकित्सा अनुसंधान में युवाओं
 - 2. जैवप्रौद्योगिकी अनुसंधान में महिलाओं
 - 3. शैक्षिक अनुसंधान में युवाओं
 - 4. अन्वेषणात्मक अनुसंधान में महिलाओं

Question ID : 65497829129
Status : Not Answered
Chosen Option : --

Q.18 निम्नलिखित में से कौन 1928 में भारत के लिए संविधान का मसौदा तैयार करने वाले कांग्रेसी नेताओं में से एक थे?

- Ans
- 1. श्यामा प्रसाद मुखर्जी
 - 2. जयपाल सिंह
 - 3. मोतीलाल नेहरू
 - 4. सोमनाथ लाहिड़ी

Question ID : 65497829142
Status : Not Answered
Chosen Option : --

Q.19 1944 में, इंपाल की लड़ाई ब्रिटिश सेना और _____ सेना के बीच लड़ी गई थी।

- Ans
- 1. डच
 - 2. फ्रेंच
 - 3. चीनी
 - 4. जापानी

Question ID : 65497829126
Status : Not Answered
Chosen Option : --

Q.20 भारत की पहली सी-प्लेन सेवा अक्टूबर 2020 में _____ में शुरू की गई थी।

- Ans
- 1. गुजरात
 - 2. गोवा
 - 3. कर्नाटक
 - 4. केरल

Question ID : 65497829141
Status : Not Answered
Chosen Option : --

Q.21 ओडिशा के किस जिले में पूर्वी घाट की सबसे ऊंची चोटी स्थित है?

- Ans
- 1. अनुगुल
 - 2. बौध
 - 3. बालनगीर
 - 4. कोरापुट

Question ID : 65497829131
Status : Not Answered
Chosen Option : --

Q.22 अंतर्राष्ट्रीय मुद्रा कोष के विशेष आहरण अधिकार (SDR) का मूल्य कितनी मुद्राओं वाली बास्केट ऑफ करेंसी (basket of currencies) द्वारा निर्धारित किया जाता है?

- Ans
- 1. पांच
 - 2. छह
 - 3. सात
 - 4. आठ

Question ID : 65497829136
Status : Answered
Chosen Option : 1

Q.23 क्रिश्चियन कोलमैन, जिन्हें एंटी-डोपिंग उल्लंघनों के लिए 14 मई, 2020 से दो वर्ष के लिए प्रतिबंधित किया गया था, _____ से संबद्ध हैं।

- Ans
- 1. टेनिस
 - 2. तैराकी
 - 3. मुक्केबाज़ी
 - 4. एथलेटिक्स

Question ID : 65497829146
Status : Not Answered
Chosen Option : --

Q.24 Which of the following was set up as the apex level institution for housing in India?

- Ans
- 1. National Housing Bank
 - 2. Maharashtra Housing and Area Development Authority
 - 3. Delhi Development Authority
 - 4. The Housing Development Finance Corporation

Question ID : 65497829138
Status : Answered
Chosen Option : 1

Q.25 ओलंपिक गोल्फ टूर्नामेंट में भाग लेने वाली प्रथम भारतीय महिला इनमें से कौन थी?

- Ans
- 1. अदिति अशोक
 - 2. दीक्षा डागर
 - 3. शर्मिला निकोलेट
 - 4. स्मृति मेहरा

Question ID : 65497829135
Status : Answered
Chosen Option : 1

Section : Part C Elementary Mathematics

Q.1 एक फल विक्रेता ने ₹520 प्रति 10 kg के मूल्य पर 30 kg सेब खरीदे। उसने उनमें से 60% सेब ₹60/kg के मूल्य पर बेचे। 20% का लाभ प्राप्त करने के लिए, शेष सेबों का विक्रय मूल्य प्रति kg कितना होना चाहिए?

- Ans
- 1. ₹65
 - 2. ₹60
 - 3. ₹66
 - 4. ₹62

Question ID : 65497829171
Status : Answered
Chosen Option : 3

Q.2 यदि 20 पुरुष किसी कार्य को 36 दिनों में पूरा कर सकते हैं, तो उसी कार्य के तीन-चौथाई भाग को कितने पुरुष 18 दिनों में पूरा कर लेंगे?

- Ans
- 1. 30
 - 2. 40
 - 3. 15
 - 4. 20

Question ID : 65497829155
Status : Answered
Chosen Option : 1

Q.3 एक लड़की अपनी सामान्य चाल की $\frac{3}{5}$ चाल से चलते हुए, अपने कार्यस्थल पर 1 घंटा 30 मिनट की देरी से पहुँचती है। उसकी यात्रा का सामान्य समय कितना है।

- Ans
- 1. 2 h 45 min
 - 2. 2 h 15 min
 - 3. 56 min
 - 4. 54 min

Question ID : 65497829162
Status : Answered
Chosen Option : 2

Q.4 A और B की आय का अनुपात 7 : 9 है और उनके व्ययों का अनुपात 13 : 15 है। यदि A और B क्रमशः ₹9,000 और ₹15,000 की बचत करते हैं, तो A की आय कितनी (₹ में) है?

- Ans
- 1. 31,500
 - 2. 28,000
 - 3. 38,500
 - 4. 35,000

Question ID : 65497829174
Status : Answered
Chosen Option : 4

Q.5 एक निश्चित धनराशि 10.5% वार्षिक साधारण ब्याज की दर पर 4 वर्ष में ₹8,094 हो जाती है। समान राशि, समान साधारण ब्याज की दर पर $6\frac{2}{3}$ वर्ष में कितनी (₹ में) हो जाएगी?

- Ans
- 1. 9,760
 - 2. 9,690
 - 3. 9,850
 - 4. 9,960

Question ID : 65497829175
Status : Not Attempted and Marked For Review
Chosen Option : --

Q.6 A किसी काम को 15 घंटों में और B उसी काम को 30 घंटों में पूरा कर सकता है। A द्वारा 5 घंटे कार्य करने के बाद, शेष काम को पूरा करने के लिए, B भी A के साथ शामिल हो जाता है। शेष काम कितने समय में पूरा हो जाएगा?

- Ans
- ✓ 1. 6 घंटे 40 मिनट
 - ✗ 2. 6 घंटे 20 मिनट
 - ✗ 3. 5 घंटे 40 मिनट
 - ✗ 4. 5 घंटे 30 मिनट

Question ID : 65497829166
Status : Answered
Chosen Option : 1

Q.7 किसी पिग्गी बैंक में ₹1 के सिक्के, ₹2 के सिक्के और ₹5 के सिक्के 5 : 9 : 4 के अनुपात में हैं। यदि पिग्गी बैंक में कुल राशि ₹860 है, तो उसमें ₹5 के कितने सिक्के हैं?

- Ans
- ✗ 1. 50
 - ✗ 2. 90
 - ✗ 3. 60
 - ✓ 4. 80

Question ID : 65497829168
Status : Answered
Chosen Option : 4

Q.8 यदि सात अंकों की संख्या $57282p9$, 11 से पूर्ण रूप से विभाज्य है, तो $(11 - p)$ का मान कितना है, जहाँ $p > 0$ है?

- Ans
- ✗ 1. 10
 - ✓ 2. 8
 - ✗ 3. 5
 - ✗ 4. 2

Question ID : 65497829159
Status : Answered
Chosen Option : 2

Q.9 यदि $x : y = 5 : 8$ है, तो $(4x - 3y) : (4x - 7y)$ का मान कितना है?

- Ans
- ✗ 1. 1 : 1
 - ✗ 2. 11 : 19
 - ✗ 3. 9 : 1
 - ✓ 4. 1 : 9

Question ID : 65497829151
Status : Answered
Chosen Option : 4

Q.10 $8 - 4 \div 8 \text{ of } 3 + (7 \div 7 \text{ of } \frac{1}{7}) \div 6 + (3 \times 6 \div \frac{1}{3}) \times \frac{1}{6}$ का मान ज्ञात कीजिए।

- Ans
- 1. $12 \frac{2}{3}$
 - 2. 18
 - 3. 0
 - 4. $18 \frac{2}{3}$

Question ID : 65497829161
Status : Not Answered
Chosen Option : --

Q.11 16 संख्याओं का औसत 24.5 है। यदि पहली 6 संख्याओं का औसत 20.5 है और अंतिम 5 संख्याओं का औसत 32.4 है, तो शेष संख्याओं का औसत ज्ञात कीजिए।

- Ans
- 1. 21.4
 - 2. 22.4
 - 3. 20.2
 - 4. 21.8

Question ID : 65497829173
Status : Answered
Chosen Option : 1

Q.12 यदि किसी आयत की लंबाई और चौड़ाई को दोगुना किया जाता है, तो इसका परिमाण कितना हो जाएगा?

- Ans
- 1. तीन गुना
 - 2. चार गुना
 - 3. आधा
 - 4. दो गुना

Question ID : 65497829170
Status : Answered
Chosen Option : 4

Q.13 यदि $18 \text{ m} \times 50 \text{ m}$ की विमाओं वाले एक आयत का क्षेत्रफल एक वर्ग के क्षेत्रफल के बराबर है, तो उस वर्ग की भुजा की लंबाई कितनी है?

- Ans
- 1. 34 m
 - 2. 15 m
 - 3. 30 m
 - 4. 17.5 m

Question ID : 65497829152
Status : Answered
Chosen Option : 3

Q.14 A के तीन गुने और B के चार गुने के परिणामों का औसत 17 है, तथा A के चार गुने और B के तीन गुने के परिणामों का औसत 18 है। A और B का योग कितना होगा?

- Ans
- 1. 16
 - 2. 10
 - 3. 15
 - 4. 12

Question ID : 65497829163
Status : Answered
Chosen Option : 2

Q.15 यदि किसी संख्या के 70% और उसी संख्या के 40% का अंतर 135 है, तो वह संख्या कौन सी है?

- Ans
- 1. 450
 - 2. 350
 - 3. 420
 - 4. 550

Question ID : 65497829165
Status : Answered
Chosen Option : 1

Q.16 90 km/h की चाल से चल रही एक ट्रेन किसी निश्चित दूरी को तय करने में 50 मिनट का समय लेती है। यदि चाल में $33\frac{1}{3}\%$ की वृद्धि हो जाए, तो उस दूरी की $2\frac{4}{5}$ गुनी दूरी तय करने में ट्रेन को कितना समय लगेगा?

- Ans
- 1. 1 घंटा 45 मिनट
 - 2. 1 घंटा 30 मिनट
 - 3. 1 घंटा 20 मिनट
 - 4. 1 घंटा 25 मिनट

Question ID : 65497829167
Status : Not Attempted and Marked For Review
Chosen Option : --

Q.17 किसी खराबी की वजह से, नितिन एक ऊनी जैकेट को उसके क्रय मूल्य से 10% कम मूल्य पर बेचता है। यदि उसने उस जैकेट को ₹500 अधिक में बेचा होता, तो उसे 15% का लाभ होता। जैकेट का क्रय मूल्य ज्ञात कीजिए।

- Ans
- 1. ₹2,500
 - 2. ₹5,000
 - 3. ₹3,333
 - 4. ₹2,000

Question ID : 65497829157
Status : Not Answered
Chosen Option : --

Q.18 निम्नलिखित व्यंजक का मान ज्ञात करें।

$$\frac{1}{5} \div \frac{3}{4} \text{ of } \frac{2}{5} + \frac{1}{5} \times \frac{5}{6} - \frac{2}{3}$$

Ans

1. $-\frac{2}{5}$

2. $-\frac{59}{150}$

3. $\frac{1}{6}$

4. $-\frac{37}{90}$

Question ID : 65497829153

Status : Answered

Chosen Option : 3

Q.19 जगन ने समान मूल्य की 4 अलमारियाँ खरीदी। उसने उसमें से 3 को 14% के लाभ पर बेच दी। चौथी अलमारी उसने k% लाभ पर बेची। यदि कुल लाभ 15% है, तो k का मान कितना है?

Ans

1. 15

2. 18

3. 16

4. 14

Question ID : 65497829154

Status : Answered

Chosen Option : 2

Q.20 A का वेतन B के वेतन से 10% कम है, B का वेतन C के वेतन से 25% कम है। C का वेतन A के वेतन से लगभग कितने प्रतिशत अधिक है?

Ans

1. 90%

2. 48%

3. 65%

4. 33%

Question ID : 65497829160

Status : Answered

Chosen Option : 2

Q.21 मान लीजिए x और y , 165, 297 और 495 के क्रमशः लघुत्तम समापवर्त्य (LCM) और महत्तम समापवर्तक (HCF) हैं। $\frac{x}{y}$ का मान ज्ञात कीजिए।

- Ans
- 1. 45
 - 2. 55
 - 3. 75
 - 4. 15

Question ID : 65497829172
Status : Not Answered
Chosen Option : --

Q.22 ₹26000 की एक धनराशि को इस प्रकार दो भागों में विभाजित करने उधार दिया जाता है कि पहले भाग पर 5% वार्षिक ब्याज की दर से 3 वर्ष में प्राप्त ब्याज, दूसरे भाग पर 6% वार्षिक ब्याज की दर से 4 वर्ष में प्राप्त ब्याज के बराबर है। पहले भाग की राशि कितनी है?

- Ans
- 1. ₹16,000
 - 2. ₹14,860
 - 3. ₹10,000
 - 4. ₹11,835

Question ID : 65497829158
Status : Answered
Chosen Option : 1

Q.23 किसी वस्तु पर 12% और 10% की दो क्रमागत छूट दी जाती हैं। यदि वस्तु का अंकित मूल्य ₹3,500 है, तो वस्तु का विक्रय मूल्य कितना होगा?

- Ans
- 1. ₹2,770
 - 2. ₹2,652
 - 3. ₹2,650
 - 4. ₹2,772

Question ID : 65497829164
Status : Answered
Chosen Option : 4

Q.24 एक खुदरा व्यापारी 20% की छूट पर एक वस्तु खरीदता है, और उसे ₹2,200 में बेचकर 10% का लाभ प्राप्त करता है। छूट (₹ में) कितनी थी?

- Ans
- 1. ₹200
 - 2. ₹500
 - 3. ₹400
 - 4. ₹300

Question ID : 65497829156
Status : Answered
Chosen Option : 4

Q.25 कोई धनराशि साधारण ब्याज की किस वार्षिक दर पर, $8\frac{1}{3}$ वर्षों में दोगुनी हो जाएगी?

- Ans
- 1. 12% वार्षिक
 - 2. 7% वार्षिक
 - 3. 8.5% वार्षिक
 - 4. 8% वार्षिक

Question ID : 65497829169
Status : Not Answered
Chosen Option : --

Section : Part D English

Q.1 Select the option that can be used as a one-word substitute for the given group of words.

Giving orders in a manner that permits no refusal

- Ans
- 1. Dictatorial
 - 2. Benedictory
 - 3. Adulterous
 - 4. Infidelity

Question ID : 65497829185
Status : Answered
Chosen Option : 1

Q.2 Select the INCORRECTLY spelt word.

- Ans
- 1. Fatal
 - 2. Taccal
 - 3. Brutal
 - 4. Metal

Question ID : 65497829194
Status : Answered
Chosen Option : 2

Q.3 Select the most appropriate option to fill in the blank.

We have decided to go on a long _____ with our friends.

- Ans
- 1. travel
 - 2. passage
 - 3. visit
 - 4. drive

Question ID : 65497829192
Status : Answered
Chosen Option : 4

Q.4 Select the most appropriate meaning of the given idiom.

To bear fruit

- Ans
- 1. To accept the truth
 - 2. To be creative
 - 3. To produce positive results
 - 4. To put in hard work

Question ID : 65497829178
Status : Answered
Chosen Option : 1

Q.5 The following sentence has been split into four segments. Identify the segment that contains a grammatical error.

He is / the more intelligent / and hardworking student / of our class.

- Ans
- 1. the more intelligent
 - 2. and hardworking student
 - 3. of our class
 - 4. He is

Question ID : 65497829189
Status : Answered
Chosen Option : 1

Q.6 Select the most appropriate synonym of the given word.

Attract

- Ans
- 1. Repel
 - 2. Disgust
 - 3. Prevent
 - 4. Entice

Question ID : 65497829180
Status : Answered
Chosen Option : 4

Q.7 Select the correctly spelt word.

- Ans
- 1. Mechenism
 - 2. Mechanisum
 - 3. Mechanism
 - 4. Machanism

Question ID : 65497829186
Status : Answered
Chosen Option : 3

Q.8 Select the most appropriate ANTONYM of the given word.

Awkward

- Ans 1. Bulky
 2. Uneasy
 3. Inelegant
 4. Graceful

Question ID : 65497829187
Status : Not Answered
Chosen Option : --

Q.9 Select the most appropriate ANTONYM of the given word.

Captivity

- Ans 1. Prosperity
 2. Freedom
 3. Tumble
 4. Elevate

Question ID : 65497829183
Status : Answered
Chosen Option : 2

Q.10 Select the option that can be used as a one-word substitute for the given group of words.

Study of diseases

- Ans 1. Telepathy
 2. Pathology
 3. Empathy
 4. Antipathy

Question ID : 65497829184
Status : Answered
Chosen Option : 2

Q.11 Select the most appropriate meaning of the given idiom.

Eagle eye

- Ans 1. An eye full of curiosity
 2. An eye with sharp visual powers
 3. An eye full of suspicion
 4. An eye with sense of admiration

Question ID : 65497829181
Status : Answered
Chosen Option : 2

Q.12 Select the most appropriate option that can substitute the underlined segment in the given sentence. If there is no need to substitute it, select 'No substitution required'.

The book are not owned by him.

- Ans
- 1. are not being owned
 - 2. No substitution required
 - 3. is not owned
 - 4. is not own

Question ID : 65497829193
Status : Answered
Chosen Option : 3

Q.13 Select the most appropriate option to fill in the blank.

Friendship increases happiness and _____ misery.

- Ans
- 1. diminishes
 - 2. determines
 - 3. distinguishes
 - 4. delegates

Question ID : 65497829195
Status : Not Answered
Chosen Option : --

Q.14 The following sentence has been split into four segments. Identify the segment that contains a grammatical error.

Even though Mahindra & Mahindra warn / consumers not to use low-standard engine oil, / people refuse to read the instructions / and damage their vehicles.

- Ans
- 1. consumers not to use low standard engine oil
 - 2. people refuse to read the instructions
 - 3. and damage their vehicles
 - 4. Even though Mahindra & Mahindra warn

Question ID : 65497829182
Status : Not Answered
Chosen Option : --

Q.15 Select the most appropriate option that can substitute the underlined segment in the given sentence. If there is no need to substitute it, select 'No substitution required'.

We watched the carpenter to repair our broken table.

- Ans
- 1. to repairing
 - 2. No substitution required
 - 3. repairing
 - 4. repaired

Question ID : 65497829177
Status : Not Answered
Chosen Option : --

Q.16 Select the most appropriate synonym of the given word.

Deliberate

- Ans
- 1. Disastrous
 - 2. Unplanned
 - 3. Planned
 - 4. Accidental

Question ID : 65497829190
Status : Not Answered
Chosen Option : --

Q.17 Select the option that will improve the underlined part of the given sentence. In case no improvement is needed, select 'No improvement required'.

He was too tired for walking anymore.

- Ans
- 1. very tired for walking
 - 2. too tired to walk
 - 3. to tired for walk
 - 4. No improvement required

Question ID : 65497829188
Status : Answered
Chosen Option : 2

Q.18 Select the most appropriate option to fill in the blank.

This is the _____ clock that I have ever seen.

- Ans
- 1. finest
 - 2. purest
 - 3. tastiest
 - 4. sharpest

Question ID : 65497829176
Status : Answered
Chosen Option : 1

Q.19 Select the option that can be used as a one-word substitute for the given group of words.

Disease that spreads by physical touch and contact

- Ans
- 1. Contemptible
 - 2. Contagious
 - 3. Poisonous
 - 4. Resistible

Question ID : 65497829191
Status : Answered
Chosen Option : 2

Q.20 The following sentence has been divided into parts. One of them may contain an error. Select the part that contains the error from the given options. If you don't find any error, mark 'No error' as your answer.

She didn't liked / any disturbance / during her studies.

- Ans
- 1. She didn't liked
 - 2. during her studies
 - 3. any disturbance
 - 4. No error

Question ID : 65497829179
Status : Not Answered
Chosen Option : --

Comprehension:

In the following passage, some words have been deleted. Read the passage carefully and select the most appropriate option to fill in each blank.

During a festival in Kerala, an elephant went on a rampage, attacking nearly 27 vehicles (1) _____ near a temple. Festivals in Kerala often (2) _____ hundreds of elephants to attract crowds and accidents are not uncommon.

The big animal (3) _____ tethered by the tusk along with four other elephants (4) _____ broke free and started flinging parked vehicles, (5) _____ rickshaws and motorbikes, around.

SubQuestion No : 21

Q.21 Select the most appropriate option to fill in blank no. 1.

- Ans
- 1. placed
 - 2. put
 - 3. planted
 - 4. parked

Question ID : 65497829197
Status : Answered
Chosen Option : 1

Comprehension:

In the following passage, some words have been deleted. Read the passage carefully and select the most appropriate option to fill in each blank.

During a festival in Kerala, an elephant went on a rampage, attacking nearly 27 vehicles (1) _____ near a temple. Festivals in Kerala often (2) _____ hundreds of elephants to attract crowds and accidents are not uncommon.

The big animal (3) _____ tethered by the tusk along with four other elephants (4) _____ broke free and started flinging parked vehicles, (5) _____ rickshaws and motorbikes, around.

SubQuestion No : 22

Q.22 Select the most appropriate option to fill in blank no. 2.

- Ans
- 1. has
 - 2. are having
 - 3. had
 - 4. have

Question ID : 65497829198
Status : Not Answered
Chosen Option : --

Comprehension:

In the following passage, some words have been deleted. Read the passage carefully and select the most appropriate option to fill in each blank.

During a festival in Kerala, an elephant went on a rampage, attacking nearly 27 vehicles (1) _____ near a temple. Festivals in Kerala often (2) _____ hundreds of elephants to attract crowds and accidents are not uncommon.

The big animal (3) _____ tethered by the tusk along with four other elephants (4) _____ broke free and started flinging parked vehicles, (5) _____ rickshaws and motorbikes, around.

SubQuestion No : 23

Q.23 Select the most appropriate option to fill in blank no. 3.

Ans 1. were

2. was

3. are

4. is

Question ID : 65497829199

Status : Answered

Chosen Option : 2

Comprehension:

In the following passage, some words have been deleted. Read the passage carefully and select the most appropriate option to fill in each blank.

During a festival in Kerala, an elephant went on a rampage, attacking nearly 27 vehicles (1) _____ near a temple. Festivals in Kerala often (2) _____ hundreds of elephants to attract crowds and accidents are not uncommon.

The big animal (3) _____ tethered by the tusk along with four other elephants (4) _____ broke free and started flinging parked vehicles, (5) _____ rickshaws and motorbikes, around.

SubQuestion No : 24

Q.24 Select the most appropriate option to fill in blank no. 4.

Ans 1. hence

2. although

3. but

4. so

Question ID : 65497829200

Status : Not Answered

Chosen Option : --

Comprehension:

In the following passage, some words have been deleted. Read the passage carefully and select the most appropriate option to fill in each blank.

During a festival in Kerala, an elephant went on a rampage, attacking nearly 27 vehicles (1) _____ near a temple. Festivals in Kerala often (2) _____ hundreds of elephants to attract crowds and accidents are not uncommon.

The big animal (3) _____ tethered by the tusk along with four other elephants (4) _____ broke free and started flinging parked vehicles, (5) _____ rickshaws and motorbikes, around.

SubQuestion No : 25

Q.25 Select the most appropriate option to fill in blank no. 5.

- Ans 1. including
 2. include
 3. included
 4. to include

Question ID : 65497829201

Status : **Marked For Review**

Chosen Option : 1

Section : Part D Hindi

Q.1 निम्नलिखित में से शुद्ध वर्तनी वाला शब्द कौन सा है?

- Ans 1. परीक्षण
 2. परिक्षण
 3. परीच्छण
 4. परिच्छण

Question ID : 65497829220

Status : **Not Answered**

Chosen Option : --

Q.2 दिये गये वाक्य में रेखांकित अंश को प्रतिस्थापित करने के लिए सबसे उपयुक्त विकल्प का चयन करें।

टंकी की योग्यता सौ लीटर है।

- Ans 1. आयतन
 2. गहराई
 3. प्रतिभा
 4. क्षमता

Question ID : 65497829221

Status : **Not Answered**

Chosen Option : --

Q.3 दिए गए वाक्य में रेखांकित खंड को प्रतिस्थापित करने के लिए सबसे उपयुक्त विकल्प का चयन करें। यदि इसे प्रतिस्थापित करने की आवश्यकता नहीं है, तो विकल्प 'किसी बदलाव की आवश्यकता नहीं है' का चयन करें।

मेरे सामने कौन ठहर सकता है?

- Ans
- 1. तुम्हारे आगे
 - 2. मेरे आगे
 - 3. किसी बदलाव की आवश्यकता नहीं है।
 - 4. हमारे आगे

Question ID : 65497829202

Status : Not Answered

Chosen Option : --

Q.4 रिक्त स्थान भरने के लिए सबसे उपयुक्त शब्द का चयन करें।

बेटी पिताजी के साथ _____ थी।

- Ans
- 1. जानेवाली
 - 2. जानेवाला
 - 3. जानेवाले
 - 4. चलनेवाले

Question ID : 65497829213

Status : Not Answered

Chosen Option : --

Q.5 निम्नलिखित प्रश्न में, दिए गए चार विकल्पों में से उस विकल्प का चयन करें, जो मुहावरे का अर्थ व्यक्त करता है।

चारपाई पकड़ना

- Ans
- 1. निश्चित हो जाना
 - 2. दुःख देना
 - 3. बीमार होना
 - 4. उत्तेजित होना

Question ID : 65497829212

Status : Not Answered

Chosen Option : --

Q.6 दिए गए वाक्य का वह भाग ज्ञात करें जिसमें कोई त्रुटि है। यदि कोई त्रुटि नहीं है, तो 'कोई त्रुटि नहीं है' चुनें।

मुझे तो (1)/ कहा गया था कि (2)/ आप तैयार हैं। (3)/ कोई त्रुटि नहीं है (4)

- Ans
- 1. 3
 - 2. 2
 - 3. 1
 - 4. 4

Question ID : 65497829207

Status : Not Answered

Chosen Option : --

Q.7 दिए गए शब्द के समानार्थी शब्द का चयन करें।

आँख

- Ans 1. गगन
 2. दूरदर्शी
 3. सर्वदर्शी
 4. लोचन

Question ID : 65497829217

Status : Not Answered

Chosen Option : --

Q.8 दिए गए शब्द के समानार्थी शब्द का चयन कीजिए।

निपुण

- Ans 1. अभिज्ञ
 2. कुशलता
 3. अभिज्ञता
 4. पटुता

Question ID : 65497829208

Status : Not Answered

Chosen Option : --

Q.9 दिये गये वाक्यांश के लिए एक सार्थक शब्द का चयन कीजिए।

जिसे मर जाने की कामना हो

- Ans 1. मुमूर्षा
 2. मुमूर्षु
 3. मृत्यंजय
 4. मुमुक्षु

Question ID : 65497829205

Status : Not Answered

Chosen Option : --

Q.10 नीचे दिए वाक्यांश के लिए एक शब्द दिए गए विकल्पों में से चुनिए-

जिस भूमि में कुछ उत्पन्न न होता हो

- Ans 1. उज्जड़
 2. उपजाऊ
 3. वीरान
 4. ऊसर

Question ID : 65497829218

Status : Not Answered

Chosen Option : --

Q.11 दिए गए वाक्य का वह भाग ज्ञात करें जिसमें कोई त्रुटि है। यदि कोई त्रुटि नहीं है, तो 'कोई त्रुटि नहीं है' चुनें।

कालिदास ने (1)/ अशोक पुष्प का (2)/ वर्णन शरतकाल में किया है। (3)/ कोई त्रुटि नहीं है (4)

- Ans
- 1. 1
 - 2. 3
 - 3. 4
 - 4. 2

Question ID : 65497829203
Status : Not Answered
Chosen Option : --

Q.12 दिए गए शब्द का विलोम चुनें।

परकीय

- Ans
- 1. क्षत्रिय
 - 2. लाघव
 - 3. दृश्य
 - 4. स्वकीय

Question ID : 65497829211
Status : Not Answered
Chosen Option : --

Q.13 'मुँह में ठेंपी देना' इस मुहावरे का अर्थ कौनसा है?

- Ans
- 1. बोलने की हिम्मत न होना
 - 2. कुछ न बोलने देना
 - 3. खूब बदनाम करना
 - 4. दीनता प्रकट करना

Question ID : 65497829206
Status : Not Answered
Chosen Option : --

Q.14 'कृतज्ञ' शब्द का विलोम शब्द कौनसा है?

- Ans
- 1. विकृतज्ञ
 - 2. अनकृतज्ञ
 - 3. अकृतज्ञ
 - 4. अपकृतज्ञ

Question ID : 65497829204
Status : Not Answered
Chosen Option : --

Q.15 निम्नलिखित में से शुद्ध वर्तनी वाला शब्द कौन सा है?

- Ans 1. आकांक्षा
 2. अकांक्षा
 3. आकांछा
 4. अकांछा

Question ID : 65497829219
Status : Not Answered
Chosen Option : --

Q.16 दिए गए वाक्य का वह भाग ज्ञात करें जिसमें कोई त्रुटि है। यदि कोई त्रुटि नहीं है, तो 'कोई त्रुटि नहीं है' चुनें।

महात्मा गाँधी (1)/ भारत के राष्ट्रपिता (2)/ माना जाता है। (3)/ कोई त्रुटि नहीं है(4)

- Ans 1. 3
 2. 4
 3. 2
 4. 1

Question ID : 65497829216
Status : Not Answered
Chosen Option : --

Q.17 रिक्त स्थान को भरने के लिए सबसे उपयुक्त शब्द का चयन करें।

दिल्ली _____ मलेरिया का जोर है।

- Ans 1. में
 2. के ऊपर
 3. के अंदर
 4. के भीतर

Question ID : 65497829215
Status : Not Answered
Chosen Option : --

Q.18 दिये गये वाक्यांश के लिए एक सार्थक शब्द दीजिए।

जिसका दमन करना कठिन हो

- Ans 1. दुर्बोध
 2. दुर्जय
 3. दुर्दम
 4. दुर्गम

Question ID : 65497829209
Status : Not Answered
Chosen Option : --

Q.19 दिए गए वाक्य में रेखांकित खंड को प्रतिस्थापित करने के लिए सबसे उपयुक्त विकल्प का चयन करें। यदि इसे प्रतिस्थापित करने की आवश्यकता नहीं है, तो विकल्प 'किसी बदलाव की आवश्यकता नहीं है' का चयन करें।

गाँधी जी ने अहिंसा के मार्ग का पालन कर अंग्रेजों को भारत से भगा दिये।

- Ans
- 1. पालन करके अंग्रेजों को भारत से भगा दिये।
 - 2. पालन कर अंग्रेजों को भारत से भगा दिया।
 - 3. किसी बदलाव की आवश्यकता नहीं है।
 - 4. पालन करते हुए अंग्रेजों को भारत से भगा दिये।

Question ID : 65497829214

Status : Not Answered

Chosen Option : --

Q.20 रिक्त स्थान को भरने के लिए सबसे उपयुक्त शब्द का चयन करें।

उनकी _____ मनाई गई।

- Ans
- 1. तिरोधान
 - 2. जयंती
 - 3. विवाह
 - 4. जन्मदिन

Question ID : 65497829210

Status : Not Answered

Chosen Option : --

Comprehension:

दिए गए अनुच्छेद में कुछ शब्द हटा दिए गए हैं। दिए गए विकल्पों की सहायता से रिक्त स्थान भरें। प्रत्येक प्रश्न संख्या के लिए सबसे उपयुक्त विकल्प का चयन कीजिए।

तुलसीदास को ईश्वर-प्रेम की झलक (1) _____ के रूप में मिली। उनके ग्रंथों विशेषतया रामचरितमानस के द्वारा उन्होंने वेद-शास्त्र-सम्मत (2) _____ का प्राचर किया। हमारी (3) _____ का आधार ही वेद, शास्त्र, स्मृति आदि ग्रंथ हैं। तुलसीदास ने उस संस्कृति के (4) _____ पक्ष की रक्षा की, और हमारे सामने कई आदर्श प्रस्तुत किए। उन्होंने श्रीरामचंद्र जैसे आदर्श चरित्र द्वारा हमारी पारिवारिक (5) _____ की स्थापना की। सत्य और पौरुष की प्रेरणा दी।

SubQuestion No : 21

Q.21 गद्यांश के रिक्त स्थान (1) के लिए सर्वाधिक उपयुक्त शब्द होगा-

- Ans
- 1. ईश्वर सेवा
 - 2. मानव सेवा
 - 3. भक्ति
 - 4. श्रीरामचंद्र

Question ID : 65497829223

Status : Not Answered

Chosen Option : --

Comprehension:

दिए गए अनुच्छेद में कुछ शब्द हटा दिए गए हैं। दिए गए विकल्पों की सहायता से रिक्त स्थान भरें। प्रत्येक प्रश्न संख्या के लिए सबसे उपयुक्त विकल्प का चयन कीजिए।

तुलसीदास को ईश्वर-प्रेम की झलक (1) _____ के रूप में मिली। उनके ग्रंथों विशेषतया रामचरितमानस के द्वारा उन्होंने वेद-शास्त्र-सम्मत (2) _____ का प्राचर किया। हमारी (3) _____ का आधार ही वेद, शास्त्र, स्मृति आदि ग्रंथ हैं। तुलसीदास ने उस संस्कृति के (4) _____ पक्ष की रक्षा की, और हमारे सामने कई आदर्श प्रस्तुत किए। उन्होंने श्रीरामचंद्र जैसे आदर्श चरित्र द्वारा हमारी पारिवारिक (5) _____ की स्थापना की। सत्य और पौरुष की प्रेरणा दी।

SubQuestion No : 22

Q.22 गद्यांश के रिक्त स्थान (2) के लिए सर्वाधिक उपयुक्त शब्द होगा-

- Ans
- 1. पारसी धर्म
 - 2. हिन्दू धर्म
 - 3. ख्रिस्ती धर्म
 - 4. बौध धर्म

Question ID : 65497829224

Status : Not Answered

Chosen Option : --

Comprehension:

दिए गए अनुच्छेद में कुछ शब्द हटा दिए गए हैं। दिए गए विकल्पों की सहायता से रिक्त स्थान भरें। प्रत्येक प्रश्न संख्या के लिए सबसे उपयुक्त विकल्प का चयन कीजिए।

तुलसीदास को ईश्वर-प्रेम की झलक (1) _____ के रूप में मिली। उनके ग्रंथों विशेषतया रामचरितमानस के द्वारा उन्होंने वेद-शास्त्र-सम्मत (2) _____ का प्राचर किया। हमारी (3) _____ का आधार ही वेद, शास्त्र, स्मृति आदि ग्रंथ हैं। तुलसीदास ने उस संस्कृति के (4) _____ पक्ष की रक्षा की, और हमारे सामने कई आदर्श प्रस्तुत किए। उन्होंने श्रीरामचंद्र जैसे आदर्श चरित्र द्वारा हमारी पारिवारिक (5) _____ की स्थापना की। सत्य और पौरुष की प्रेरणा दी।

SubQuestion No : 23

Q.23 गद्यांश के रिक्त स्थान (3) के लिए सर्वाधिक उपयुक्त शब्द होगा-

- Ans
- 1. रीति
 - 2. डर
 - 3. संस्कृति
 - 4. नीति

Question ID : 65497829225

Status : Not Answered

Chosen Option : --

Comprehension:

दिए गए अनुच्छेद में कुछ शब्द हटा दिए गए हैं। दिए गए विकल्पों की सहायता से रिक्त स्थान भरें। प्रत्येक प्रश्न संख्या के लिए सबसे उपयुक्त विकल्प का चयन कीजिए।

तुलसीदास को ईश्वर-प्रेम की झलक (1) _____ के रूप में मिली। उनके ग्रंथों विशेषतया रामचरितमानस के द्वारा उन्होंने वेद-शास्त्र-सम्मत (2) _____ का प्राचर किया। हमारी (3) _____ का आधार ही वेद, शास्त्र, स्मृति आदि ग्रंथ हैं। तुलसीदास ने उस संस्कृति के (4) _____ पक्ष की रक्षा की, और हमारे सामने कई आदर्श प्रस्तुत किए। उन्होंने श्रीरामचंद्र जैसे आदर्श चरित्र द्वारा हमारी पारिवारिक (5) _____ की स्थापना की। सत्य और पौरुष की प्रेरणा दी।

SubQuestion No : 24

Q.24 गद्यांश के रिक्त स्थान (4) के लिए सर्वाधिक उपयुक्त शब्द होगा-

- Ans
- 1. राजनीतिक और शैक्षणिक
 - 2. भौतिक और राजनीतिक
 - 3. शैक्षणिक और आर्थिक
 - 4. आध्यत्मिक और समाजिक

Question ID : 65497829226

Status : Not Answered

Chosen Option : --

Comprehension:

दिए गए अनुच्छेद में कुछ शब्द हटा दिए गए हैं। दिए गए विकल्पों की सहायता से रिक्त स्थान भरें। प्रत्येक प्रश्न संख्या के लिए सबसे उपयुक्त विकल्प का चयन कीजिए।

तुलसीदास को ईश्वर-प्रेम की झलक (1) _____ के रूप में मिली। उनके ग्रंथों विशेषतया रामचरितमानस के द्वारा उन्होंने वेद-शास्त्र-सम्मत (2) _____ का प्राचर किया। हमारी (3) _____ का आधार ही वेद, शास्त्र, स्मृति आदि ग्रंथ हैं। तुलसीदास ने उस संस्कृति के (4) _____ पक्ष की रक्षा की, और हमारे सामने कई आदर्श प्रस्तुत किए। उन्होंने श्रीरामचंद्र जैसे आदर्श चरित्र द्वारा हमारी पारिवारिक (5) _____ की स्थापना की। सत्य और पौरुष की प्रेरणा दी।

SubQuestion No : 25

Q.25 गद्यांश के रिक्त स्थान (5) के लिए सर्वाधिक उपयुक्त शब्द होगा-

- Ans
- 1. उन्नति
 - 2. कलह
 - 3. विवाद
 - 4. सुख-शांति

Question ID : 65497829227

Status : Not Answered

Chosen Option : --