


Constable GD in CAPFs NIA SSF and Rifleman GD in Assam Rifles Examination 2021

| | |
|----------------|--|
| Roll Number | www.GovtJobsAlert.In |
| Candidate Name | www.GovtJobsAlert.In |
| Venue Name | ANAND INTERNATIONAL COLLEGE OF ENGINEERING JAIPUR |
| Exam Date | 24/11/2021 |
| Exam Time : | 9:00 AM - 10:30 AM |
| Subject | Constable GD 2021 |

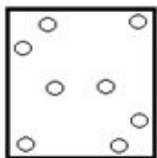
Section : Part A General Intelligence and Reasoning

Q.1 निम्नांकित आकृतियों में एक कागज के टुकड़े को मोड़ने का क्रम और मुड़े हुए कागज को काटने की विधि दर्शाई गई है। यह कागज खोलने पर कैसा दिखेगा?

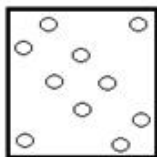


Ans

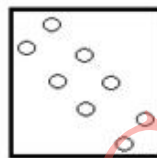
1.



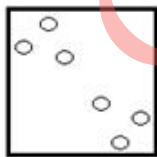
2.



3.



4.



Question ID : 65497829880

Status : Answered

Chosen Option : 3

Q.2 एक निश्चित कूट भाषा में, 'FLOAT' को 'ROU' लिखा जाता है, 'CLAIM' को 'OAV' लिखा जाता है। उसी कूट भाषा में 'ARMED' को किस प्रकार लिखा जाएगा?

- Ans
- 1. SMI
 - 2. DMK
 - 3. RFC
 - 4. TFE

Question ID : 65497829886

Status : Answered

Chosen Option : 1

Q.3 दिए गए विकल्पों में से उस संख्या का चयन करें, जो निम्नलिखित श्रेणी में प्रश्न चिह्न (?) के स्थान पर आ सकती है।

2, 5, 11, 17, ?, 31, 41

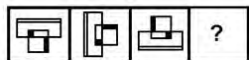
- Ans
- 1. 21
 - 2. 25
 - 3. 29
 - 4. 23

Question ID : 65497829870

Status : Answered

Chosen Option : 3

Q.4 दिए गए विकल्पों में से उस आकृति का चयन कीजिए, जो निम्नलिखित श्रृंखला में प्रश्नवाचक चिह्न (?) के स्थान पर आ सकती है।



Ans

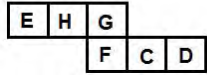
- 1.
- 2.
- 3.
- 4.

Question ID : 65497829884

Status : Answered

Chosen Option : 1

Q.5 दी गई शीट को मोड़कर एक घन बनाया जाता है। इस तरह बने घन में 'C' दर्शाने वाले फलक के विपरीत वाले फलक पर कौन सा अक्षर होगा?



- Ans
- 1. F
 - 2. G
 - 3. H
 - 4. E

Question ID : 65497829866
Status : Answered
Chosen Option : 3

Q.6 एक निश्चित कूट भाषा में, 'LAYOUT' को 'WRRVDI' लिखा जाता है। उसी कूट भाषा में, 'CHETAK' को किस प्रकार लिखा जाएगा?

- Ans
- 1. HXQBEF
 - 2. NXWBKZ
 - 3. NWXKBZ
 - 4. HQXEBF

Question ID : 65497829876
Status : Answered
Chosen Option : 2

Q.7 यदि 'A' का अर्थ '+' है, 'B' का अर्थ '-' है, 'C' का अर्थ 'x' है, और 'D' का अर्थ '=' है, तो दिए गए व्यंजक का मान कितना होगा?

$$36 A (15 C 4) B (21 A 13) A 24 D (16 D 2) = ?$$

- Ans
- 1. 65
 - 2. 51
 - 3. 96
 - 4. 83

Question ID : 65497829865
Status : Answered
Chosen Option : 1

Q.8 दो बहनों रजिनी और रानी की आयु का अनुपात 2 : 3 है। 6 वर्ष बाद, उनकी आयु का अनुपात 3 : 4 हो जाएगा। रजिनी की वर्तमान आयु कितनी है?

- Ans
- 1. 12 वर्ष
 - 2. 18 वर्ष
 - 3. 16 वर्ष
 - 4. 14 वर्ष

Question ID : 65497829879
Status : Answered
Chosen Option : 1

Q.9 दिए गए विकल्पों में से उस संख्या का चयन कीजिए, जो निम्नलिखित श्रेणी में प्रश्नवाचक चिन्ह (?) के स्थान पर आ सकती है।

6, 22, 70, 214, ?, 1942

- Ans
- 1. 280
 - 2. 638
 - 3. 646
 - 4. 430

Question ID : 65497829883
Status : Answered
Chosen Option : 3

Q.10 उस विकल्प का चयन करें जो दी गई आकृति में सन्निहित नहीं है (घुमाने की अनुमति नहीं है)।



- Ans
- 1.
 - 2.
 - 3.
 - 4.

Question ID : 65497829867
Status : Answered
Chosen Option : 4

Q.11 दिए गए विकल्पों में से उस अक्षर-समूह का चयन करें, जो निम्नलिखित शृंखला में प्रश्न चिह्न (?) के स्थान पर आ सकता है?

SRQ, PON, ?, JIH, GFE

- Ans
- 1. LKM
 - 2. MLK
 - 3. KLM
 - 4. MKL

Question ID : 65497829872
Status : Answered
Chosen Option : 2

Q.12 'विटीकल्चर (Viticulture)' का 'अंगूर (Grapes)' से वही संबंध है, जो 'फ्लोरीकल्चर (Floriculture)' का _____ से है।

- Ans
- 1. फूलों (Flowers)
 - 2. पौधों (Plants)
 - 3. रेशम के कीड़े (Silkworm)
 - 4. फ्लोरीन (Fluorine)

Question ID : 65497829873
Status : Answered
Chosen Option : 1

Q.13 एक लड़के की ओर इशारा करते हुए, रंजीता ने कहा, "वह मेरे पति के ससुर की इकलौती पुत्री के पुत्र के पिता की इकलौती बहन का पुत्र है"। उस लड़के की माँ का रंजीता के पति से क्या संबंध है?

- Ans
- 1. चाची/ताई/बुआ
 - 2. मां
 - 3. पुत्री
 - 4. बहन

Question ID : 65497829887
Status : Answered
Chosen Option : 4

Q.14 उस सही विकल्प का चयन कीजिए, जो दिए गए शब्दों के उस क्रम को दर्शाता है, जिस क्रम में वे अंग्रेज़ी शब्दकोश में मौजूद होते हैं।

- 1. Acoustic
- 2. Academy
- 3. Accent
- 4. Accord
- 5. Active

- Ans
- 1. 2, 3, 4, 1, 5
 - 2. 2, 3, 1, 4, 5
 - 3. 2, 3, 4, 5, 1
 - 4. 2, 4, 3, 1, 5

Question ID : 65497829881
Status : Answered
Chosen Option : 1

Q.15

- Ans
- 1.
 - 2.
 - 3.
 - 4.

Question ID : 65497829871
Status : Answered
Chosen Option : 4

Q.16 उस विकल्प का चयन करें, जिसका तीसरी संख्या से वही संबंध है, जो दूसरी संख्या का पहली संख्या से है और छठी संख्या का पांचवीं संख्या से है।

7 : 113 :: 11 : ? :: 15 : 481

- Ans
- 1. 388
 - 2. 340
 - 3. 265
 - 4. 155

Question ID : 65497829864
Status : Not Answered
Chosen Option : --

Q.17 दिए गए कथनों और निष्कर्षों को ध्यानपूर्वक पढ़ें। कथनों में दी गई जानकारी को सत्य मानते हुए विचार करें, भले ही वह सामान्यतः ज्ञात तथ्यों से भिन्न प्रतीत होती हो, और बताइए कि दिए गए निष्कर्षों में से कौन से, तार्किक रूप से कथनों का पालन करते हैं?

कथन:

सभी चूहे, कुत्ते हैं।
कुछ चूहे, मुर्गियां हैं।

निष्कर्ष :

- I. कुछ चूहे, कुत्ते हैं।
- II. कुछ मुर्गियां, चूहे हैं।

- Ans
- 1. केवल निष्कर्ष II पालन करता है
 - 2. केवल निष्कर्ष I पालन करता है
 - 3. न तो निष्कर्ष I और न ही निष्कर्ष II पालन करता है
 - 4. निष्कर्ष I और II दोनों ही पालन करते हैं

Question ID : 65497829877
Status : Answered
Chosen Option : 4

Q.18

- Ans
- 1.
 - 2.
 - 3.
 - 4.

Question ID : 65497829875
Status : Answered
Chosen Option : 4

Q.19 अक्षरों के उस संयोजन का चयन कीजिए, जिसे दी गई शृंखला के रिक्त स्थानों में क्रमबद्ध रूप से रखने पर शृंखला पूर्ण हो जाएगी।

O _ KM _ OPK _ AO _ _ MA

- Ans
- 1. P A M P O
 - 2. P A M P K
 - 3. M A K A P
 - 4. P M A P K

Question ID : 65497829882
Status : Answered
Chosen Option : 2

Q.20 दिए गए पैटर्न का ध्यानपूर्वक अध्ययन कीजिए और उस संख्या का चयन कीजिए जो इसमें प्रश्नवाचक चिह्न (?) के स्थान पर आ सकती है।

6 15 48
7 17 55
13 29 ?

- Ans
- 1. 78
 - 2. 87
 - 3. 79
 - 4. 97

Question ID : 65497829878
Status : Not Answered
Chosen Option : --

Q.21 एक निश्चित कूट भाषा में, 'RAT' को '39' लिखा जाता है और 'DOG' को '26' लिखा जाता है। उसी भाषा में 'YAK' को किस प्रकार लिखा जाएगा?

- Ans
- 1. 43
 - 2. 31
 - 3. 37
 - 4. 25

Question ID : 65497829869
Status : Answered
Chosen Option : 3

Q.22 चार अक्षर-समूह दिए गए हैं, जिनमें से तीन किसी तरह से संगत हैं और एक असंगत है। उस अक्षर-समूह का चयन करें, जो असंगत है।

- Ans
- 1. GIMU
 - 2. DFJP
 - 3. NPTZ
 - 4. FHLR

Question ID : 65497829868
Status : Answered
Chosen Option : 1

Q.23 P, Q, R, S, T, U और V एक दीवार पर एक पंक्ति में पश्चिम दिशा की ओर मुंह करके बैठे हैं। R, S के ठीक बाईं ओर है। Q दोनों सिरों में से एक पर है और T उसके बगल में है। V, T और U के बीच में बैठा हुआ है। S उत्तरी सिरे से पांचवे स्थान पर है। उन व्यक्तियों में से कौन पंक्ति के ठीक मध्य में बैठा है?

- Ans
- 1. V
 - 2. U
 - 3. T
 - 4. Q

Question ID : 65497829874

Status : Answered

Chosen Option : 2

Q.24 उस विकल्प का चयन कीजिए, जिसका तीसरे पद से वही संबंध है, जो दूसरे पद का पहले पद से है।

TONGUE : PUHOFV :: MASTER : ?

- Ans
- 1. BNUTSF
 - 2. PCTHVS
 - 3. TBOSFU
 - 4. SFUTBN

Question ID : 65497829885

Status : Not Answered

Chosen Option : --

Q.25 आठ मित्र K, L, M, N, O, P, Q और R दो वृत्ताकार मेजों के परितः बैठे हैं, जिनमें से एक छोटे आकार की आंतरिक मेज और एक बड़े आकार की बाहरी मेज है। दोनों वृत्ताकार मेजों के केंद्र समान हैं। प्रत्येक मेज पर चार व्यक्ति एक-दूसरे से समान दूरी पर केंद्र की ओर मुख करके बैठे हैं। M, L के दाईं ओर ठीक बगल में बैठा है। Q और N दक्षिण में बैठे हैं और वे R और L की ओर मुख करके बैठे हैं। M, समान मेज पर O के सामने बैठा है। P, बाहरी मेज पर K के सामने बैठा है। N समान मेज पर P और K के बीच में बैठा है। L समान पर M और O के बीच में बैठा है। बाहरी मेज पर उत्तर दिशा में कौन बैठा है?

- Ans
- 1. P
 - 2. K
 - 3. L
 - 4. R

Question ID : 65497829863

Status : Not Answered

Chosen Option : --

Section : Part B General Knowledge and General Awareness

Q.1 'प्रधानमंत्री उज्ज्वला योजना' इनमें से किस वर्ष में प्रारंभ की गई थी?

- Ans
- 1. 2016
 - 2. 2020
 - 3. 2014
 - 4. 2018

Question ID : 65497829902

Status : Answered

Chosen Option : 1

Q.2 भारतीय संविधान का अनुच्छेद _____ केंद्र शासित प्रदेशों के प्रशासन से संबंधित है।

Ans 1. 239

2. 233

3. 224

4. 228

Question ID : 65497829911

Status : Not Answered

Chosen Option : --

Q.3 जून 2021 में, भारी उद्योग मंत्रालय ने FAME इंडिया स्कीम के फेज II के तहत इलेक्ट्रिक दोपहिया वाहनों के लिए सब्सिडी को बढ़ाकर _____ प्रति kWh कर दिया है।

Ans 1. ₹10,000

2. ₹20,000

3. ₹25,000

4. ₹15,000

Question ID : 65497829912

Status : Not Answered

Chosen Option : --

Q.4 अरावली पर्वतमाला की सबसे ऊँची चोटी _____ में स्थित है।

Ans 1. हरियाणा

2. दिल्ली

3. गुजरात

4. राजस्थान

Question ID : 65497829904

Status : Answered

Chosen Option : 4

Q.5 जीका वायरस रोग (Zika virus disease), मुख्यतः मच्छरों की _____ प्रजाति द्वारा संचारित विषाणु के कारण होता है।

Ans 1. क्यूलेक्स (Culex)

2. एडीज (Aedes)

3. हीमागोगस (Haemagogus)

4. एनाफिलीज़ (Anopheles)

Question ID : 65497829906

Status : Answered

Chosen Option : 2

Q.6 सितंबर 2021 में, कोल इंडिया लिमिटेड ने डंपरों में डीजल के उपयोग को _____ से बदलने के लिए एक प्रायोगिक परियोजना (pilot project) की शुरुआत की।

- Ans
- 1. संपीडित प्राकृतिक गैस (CNG)
 - 2. एथेनॉल
 - 3. तरलीकृत प्राकृतिक गैस (LNG)
 - 4. हाइड्रोजन

Question ID : 65497829908
Status : Answered
Chosen Option : 1

Q.7 नवंबर 2020 में, एशिया पैसिफिक इकॉनॉमिक को-ऑपरेशन की मेजबानी निम्नलिखित में से किस देश ने की थी?

- Ans
- 1. हांगकांग
 - 2. जापान
 - 3. मलेशिया
 - 4. सिंगापुर

Question ID : 65497829901
Status : Not Answered
Chosen Option : --

Q.8 अवध किसान सभा की स्थापना किस वर्ष की गई थी?

- Ans
- 1. 1925
 - 2. 1920
 - 3. 1928
 - 4. 1930

Question ID : 65497829903
Status : Not Answered
Chosen Option : --

Q.9 सितंबर 2021 में, _____ ने दो पैरालंपिक पदक जीतने वाली पहली भारतीय महिला होने का गौरव हासिल किया।

- Ans
- 1. अवनि लेखरा
 - 2. एकता भयान
 - 3. दीपा मलिक
 - 4. भाविना पटेल

Question ID : 65497829905
Status : Answered
Chosen Option : 1

Q.10 भू-राजस्व की _____ प्रणाली के तहत, भूमि के स्वामित्व अधिकार किसानों को सौंप दिए गए थे और ब्रिटिश सरकार उनसे सीधे कर वसूल करती थी।

- Ans
- 1. तालुकदार
 - 2. रैयतवाड़ी
 - 3. महालवाड़ी
 - 4. मालगुजारी

Question ID : 65497829907
Status : Answered
Chosen Option : 2

Q.11 निम्नलिखित में से किसे शतरंज के बोर्ड पर पीछे की ओर चलने की अनुमति नहीं है?

- Ans
- 1. ऊंट (Bishop)
 - 2. राजा (King)
 - 3. प्यादा (Pawn)
 - 4. वजीर (Queen)

Question ID : 65497829895
Status : Not Answered
Chosen Option : --

Q.12 भारत के संविधान की किस अनुसूची में 'हिंदी' भाषा शामिल है?

- Ans
- 1. दसवीं
 - 2. चौथी
 - 3. पांचवीं
 - 4. आठवीं

Question ID : 65497829900
Status : Answered
Chosen Option : 4

Q.13 सम्राट अशोक के बारे में निम्नलिखित में से कौन सा कथन असत्य है?

- Ans
- 1. अशोक का संबंध मौर्य वंश से था।
 - 2. अशोक विश्व के इतिहास में एकमात्र ऐसे राजा हैं, जिन्होंने युद्ध जीतने के बाद विजय का त्याग कर दिया था।
 - 3. अशोक ने जिस साम्राज्य पर शासन किया, उसकी स्थापना उसके दादा ने की थी।
 - 4. चाणक्य नामक एक बुद्धिमान व्यक्ति (जिसे कौटिल्य भी कहा जाता है) ने अशोक का विरोध किया था।

Question ID : 65497829910
Status : Not Answered
Chosen Option : --

Q.14 'द डे आई स्टॉप्ड ड्रिंकिंग मिल्क' पुस्तक के लेखक निम्न में से कौन हैं?

- Ans
- 1. रोशनी नीलकनी
 - 2. ट्विकल खन्ना
 - 3. सुधा मूर्ति
 - 4. नीता अंबानी

Question ID : 65497829891
Status : Not Answered
Chosen Option : --

Q.15 यू.एस. (US) ओपन 2020 टेनिस टूर्नामेंट में महिलाओं का एकल खिताब (Women's Singles title) किसने जीता था?

- Ans
- 1. विक्टोरिया अज़ारेंका (Victoria Azarenka)
 - 2. नाओमी ओसाका (Naomi Osaka)
 - 3. मारिया शारापोवा (Maria Sharapova)
 - 4. सेरेना विलियम्स (Serena Williams)

Question ID : 65497829898
Status : Answered
Chosen Option : 2

Q.16 निम्नलिखित में से कौन सा, विटामिन K1 का दूसरा नाम है?

- Ans
- 1. थियामिन
 - 2. निकोटिनिक एसिड
 - 3. फाइलोक्विनोन
 - 4. राइबोफ्लेविन

Question ID : 65497829889
Status : Answered
Chosen Option : 2

Q.17 प्रधानमंत्री मुद्रा योजना की 'शिशु योजना' के अंतर्गत अनुमन्य ऋण की अधिकतम राशि कितनी है?

- Ans
- 1. ₹5,00,000
 - 2. ₹50,000
 - 3. ₹2,00,000
 - 4. ₹1,00,000

Question ID : 65497829896
Status : Answered
Chosen Option : 2

Q.18 6 अप्रैल 1919 को _____ के विरुद्ध अहिंसक विरोध दिवस के रूप में मनाया गया था।

- Ans 1. रॉलेट एक्ट
 2. कैबिनेट मिशन योजना
 3. मॉर्ले-मिटो सुधार
 4. साइमन कमीशन

Question ID : 65497829909
Status : Answered
Chosen Option : 1

Q.19 व्यापार सुगमता सूचकांक (Ease of Doing Business Index) 2020 में भारत का कौन-सा स्थान था?

- Ans 1. 54
 2. 67
 3. 71
 4. 63

Question ID : 65497829899
Status : Answered
Chosen Option : 4

Q.20 पद्म श्री पुरस्कार से सम्मानित सितारा देवी, उनके _____ के क्षेत्र में योगदान के लिए प्रसिद्ध हैं।

- Ans 1. मुडियेट्टु (Mudiyettu)
 2. ओडिसी
 3. सत्रीया (Sattriya)
 4. कत्थक

Question ID : 65497829892
Status : Not Answered
Chosen Option : --

Q.21 निम्नलिखित में से कौन सा, एक लौह खनिज है?

- Ans 1. मैंगनीज
 2. जस्ता
 3. तांबा
 4. बाक्साइट

Question ID : 65497829893
Status : Answered
Chosen Option : 1

Q.22 'वेडिंग एल्बम' नामक नाटक के लेखक कौन हैं?

- Ans 1. गिरीश कर्नाड
 2. बादल सरकार
 3. विजय तेंदुलकर
 4. महेश दत्तानी

Question ID : 65497829894
Status : Not Answered
Chosen Option : --

Q.23 देव-दीपावली नामक त्योहार इनमें से किस शहर में मनाया जाता है?

- Ans
- 1. अयोध्या
 - 2. वाराणसी
 - 3. प्रयागराज
 - 4. उज्जैन

Question ID : 65497829888
Status : Not Answered
Chosen Option : --

Q.24 _____ दो-टर्मिनल वाला एक निष्क्रिय वैद्युत घटक है, जो परिपथ में विद्युत प्रतिरोध उत्पन्न करता है।

- Ans
- 1. प्रतिरोध
 - 2. डायोड
 - 3. संधारित्र
 - 4. ट्रांजिस्टर

Question ID : 65497829890
Status : Not Answered
Chosen Option : --

Q.25 जवाई बांध, जवाई नदी पर निर्मित एक जलाशय है, वह इनमें से किसकी सहायक नदी है?

- Ans
- 1. चंबल नदी
 - 2. बनास नदी
 - 3. माही नदी
 - 4. लूनी नदी

Question ID : 65497829897
Status : Not Answered
Chosen Option : --

Section : Part C Elementary Mathematics

Q.1

- Ans
- 1.
 - 2.
 - 3.
 - 4.

Question ID : 65497829936
Status : Answered
Chosen Option : 1

Q.2

- Ans 1.
 2.
 3.
 4.

Question ID : 65497829914
Status : Answered
Chosen Option : 2

Q.3

- Ans 1.
 2.
 3.
 4.

Question ID : 65497829928
Status : Answered
Chosen Option : 1

Q.4

- Ans 1.
 2.
 3.
 4.

Question ID : 65497829915
Status : Answered
Chosen Option : 2

Q.5

- Ans 1.
 2.
 3.
 4.

Question ID : 65497829921
Status : Answered
Chosen Option : 4

Q.6

- Ans 1.
 2.
 3.
 4.

Question ID : 65497829932
Status : Not Answered
Chosen Option : --

Q.7

- Ans 1.
 2.
 3.
 4.

Question ID : 65497829916
Status : Answered
Chosen Option : 3

Q.8

- Ans 1.
 2.
 3.
 4.

Question ID : 65497829913
Status : Answered
Chosen Option : 1

Q.9

- Ans 1.
 2.
 3.
 4.

Question ID : 65497829918
Status : Answered
Chosen Option : 2

Q.10

- Ans 1.
 2.
 3.
 4.

Question ID : 65497829929
Status : Answered
Chosen Option : 2

Q.11

- Ans 1.
 2.
 3.
 4.

Question ID : 65497829933
Status : Not Answered
Chosen Option : --

Q.12

- Ans 1.
 2.
 3.
 4.

Question ID : 65497829919
Status : Answered
Chosen Option : 2

Q.13

- Ans 1.
 2.
 3.
 4.

Question ID : 65497829923
Status : Not Answered
Chosen Option : --

Q.14

- Ans 1.
 2.
 3.
 4.

Question ID : 65497829935
Status : Answered
Chosen Option : 4

Q.15

- Ans 1.
 2.
 3.
 4.

Question ID : 65497829926
Status : Answered
Chosen Option : 1

Q.16

- Ans 1.
 2.
 3.
 4.

Question ID : 65497829927
Status : Not Answered
Chosen Option : --

Q.17

- Ans 1.
 2.
 3.
 4.

Question ID : 65497829920
Status : Answered
Chosen Option : 4

Q.18

- Ans 1.
 2.
 3.
 4.

Question ID : 65497829925
Status : Not Answered
Chosen Option : --

Q.19

- Ans 1.
 2.
 3.
 4.

Question ID : 65497829924
Status : Answered
Chosen Option : 4

Q.20

- Ans 1.
 2.
 3.
 4.

Question ID : 65497829934
Status : Answered
Chosen Option : 4

Q.21

- Ans 1.
 2.
 3.
 4.

Question ID : 65497829922
Status : Answered
Chosen Option : 1

Q.22

Ans 1.

2.

3.

4.

Question ID : 65497829937

Status : **Answered**

Chosen Option : 1

Q.23

Ans 1.

2.

3.

4.

Question ID : 65497829917

Status : **Not Answered**

Chosen Option : --

Q.24

Ans 1.

2.

3.

4.

Question ID : 65497829931

Status : **Not Answered**

Chosen Option : --

Q.25

Ans 1.

2.

3.

4.

Question ID : 65497829930

Status : **Answered**

Chosen Option : 3

Section : Part D English

Q.1 Select the **INCORRECTLY** spelt word.

- Ans
- 1. Fasten
 - 2. Buisness
 - 3. Plunge
 - 4. Evolve

Question ID : **65497829953**
Status : **Not Answered**
Chosen Option : --

Q.2 Select the most appropriate word for the given group of words.

An imaginary place where everything is perfect

- Ans
- 1. arcadia
 - 2. elysium
 - 3. utopia
 - 4. eden

Question ID : **65497829943**
Status : **Not Answered**
Chosen Option : --

Q.3 Select the option that can be used as a one-word substitute for the given group of words.

Natural skill at doing something

- Ans
- 1. Sense
 - 2. Passion
 - 3. Knack
 - 4. Awareness

Question ID : **65497829952**
Status : **Not Answered**
Chosen Option : --

Q.4 Select the option that can be used as a one-word substitute for the given group of words.

A person who investigates and solves crimes

- Ans
- 1. Inventor
 - 2. Explorer
 - 3. Detective
 - 4. Invigilator

Question ID : **65497829957**
Status : **Not Answered**
Chosen Option : --

Q.5 Select the most appropriate ANTONYM of the given word.

Monotonous

- Ans 1. Varied
 2. Changing
 3. Elaborate
 4. Cheerful

Question ID : 65497829946
Status : Not Answered
Chosen Option : --

Q.6 Select the most appropriate synonym of the given word.

Reliable

- Ans 1. Trusted
 2. Intelligent
 3. Fortunate
 4. Wealthy

Question ID : 65497829945
Status : Not Answered
Chosen Option : --

Q.7 Select the most appropriate option to fill in the blank.

Asha has _____ the house beautifully for the party.

- Ans 1. produced
 2. planned
 3. decorated
 4. improved

Question ID : 65497829949
Status : Not Answered
Chosen Option : --

Q.8 The following sentence has been split into four segments. Identify the segment that contains a grammatical error.

Their dog is / more better / trained than / our dog.

- Ans 1. more better
 2. trained than
 3. Their dog is
 4. our dog

Question ID : 65497829944
Status : Not Answered
Chosen Option : --

Q.9 Select the INCORRECTLY spelt word.

- Ans
- 1. Cushion
 - 2. Costudy
 - 3. Curtail
 - 4. Custard

Question ID : 65497829939
Status : Not Answered
Chosen Option : --

Q.10 Select the most appropriate option to fill in the blank.

The protesters _____ when the police used tear gas.

- Ans
- 1. waved
 - 2. regretted
 - 3. assembled
 - 4. dispersed

Question ID : 65497829940
Status : Not Answered
Chosen Option : --

Q.11 Select the most appropriate meaning of the given idiom.

Elephant in the room

- Ans
- 1. An extremely fat person sitting all alone in a room
 - 2. A wild untamed animal left to wander astray
 - 3. An obvious issue left unaddressed due to its sensitivity
 - 4. A pretty affair which is kept a secret

Question ID : 65497829942
Status : Not Answered
Chosen Option : --

Q.12 The following sentence has been split into four segments. Identify the segment that contains a grammatical error.

Ravi told / his friends / that he would / return back soon.

- Ans
- 1. return back soon
 - 2. that he would
 - 3. his friends
 - 4. Ravi told

Question ID : 65497829954
Status : Not Answered
Chosen Option : --

Q.13 Select the most appropriate option that can substitute the underlined segment in the given sentence. If there is no need to substitute it, select 'No substitution required'.

If he works harder, he got better results.

- Ans 1. will get
 2. is getting
 3. No substitution required
 4. was getting

Question ID : 65497829938
Status : Not Answered
Chosen Option : --

Q.14 Select the most appropriate ANTONYM of the given word.

Persuade

- Ans 1. Halt
 2. Coax
 3. Lead
 4. Sway

Question ID : 65497829951
Status : Not Answered
Chosen Option : --

Q.15 Select the most appropriate option to fill in the blank.

The government _____ the contract for 100 low-floor buses to an automobile manufacturer.

- Ans 1. rewarded
 2. gifted
 3. awarded
 4. granted

Question ID : 65497829941
Status : Not Answered
Chosen Option : --

Q.16 Select the option that will improve the underlined part of the given sentence. In case no improvement is needed, select 'No improvement required'.

It never dawned to him if he could be in danger.

- Ans 1. dawned at him whether
 2. No improvement required
 3. dawned on him that
 4. dawned up to him that

Question ID : 65497829955
Status : Not Answered
Chosen Option : --

Q.17 Select the most appropriate meaning of the given idiom.

Hands down

- Ans 1. Easily and without doubt
 2. Without any weapons
 3. Very weakly and slowly
 4. With sufficient strength

Question ID : 65497829947
Status : Not Answered
Chosen Option : --

Q.18 Select the most appropriate SYNONYM of the given word.

Stray

- Ans 1. Fickle
 2. Homeless
 3. Careless
 4. Casual

Question ID : 65497829956
Status : Not Answered
Chosen Option : --

Q.19 Select the option that will improve the underlined part of the given sentence. In case no improvement is needed, select 'No improvement required'.

Try harder, don't give away so easily.

- Ans 1. No improvement required
 2. give up
 3. give out
 4. give back

Question ID : 65497829948
Status : Not Answered
Chosen Option : --

Q.20 The following sentence has been split into four segments. Identify the segment that contains a grammatical error.

We have / run out eggs; / could you buy / some more?

- Ans 1. some more
 2. could you buy
 3. run out eggs
 4. We have

Question ID : 65497829950
Status : Not Answered
Chosen Option : --

Comprehension:

In the following passage, some words have been deleted. Read the passage carefully and select the most appropriate option to fill in each blank.

On 14th April 1912, the Titanic received warnings all the day about (1)_____ icebergs. The first message was received at 9 a.m. Similar messages (2)_____. Around 9 p.m., Captain Smith (3)_____ with his second officer, before retiring for the night. They knew that on such a clear, moonless night it would be (4)_____ difficult to spot icebergs. Why did they not change the course of the ship and take the ice-free southern route? It remains one of the (5)_____ mysteries surrounding the Titanic.

SubQuestion No : 21

Q.21 Select the most appropriate option to fill in blank no. 1.

- Ans 1. stacking
 2. floating
 3. sinking
 4. soaring

Question ID : 65497829959

Status : **Not Answered**

Chosen Option : --

Comprehension:

In the following passage, some words have been deleted. Read the passage carefully and select the most appropriate option to fill in each blank.

On 14th April 1912, the Titanic received warnings all the day about (1)_____ icebergs. The first message was received at 9 a.m. Similar messages (2)_____. Around 9 p.m., Captain Smith (3)_____ with his second officer, before retiring for the night. They knew that on such a clear, moonless night it would be (4)_____ difficult to spot icebergs. Why did they not change the course of the ship and take the ice-free southern route? It remains one of the (5)_____ mysteries surrounding the Titanic.

SubQuestion No : 22

Q.22 Select the most appropriate option to fill in blank no. 2.

- Ans 1. rejected
 2. followed
 3. adapted
 4. influenced

Question ID : 65497829960

Status : **Not Answered**

Chosen Option : --

Comprehension:

In the following passage, some words have been deleted. Read the passage carefully and select the most appropriate option to fill in each blank.

On 14th April 1912, the Titanic received warnings all the day about (1)_____ icebergs. The first message was received at 9 a.m. Similar messages (2)_____. Around 9 p.m., Captain Smith (3)_____ with his second officer, before retiring for the night. They knew that on such a clear, moonless night it would be (4)_____ difficult to spot icebergs. Why did they not change the course of the ship and take the ice-free southern route? It remains one of the (5)_____ mysteries surrounding the Titanic.

SubQuestion No : 23

Q.23 Select the most appropriate option to fill in blank no. 3.

- Ans
- 1. emigrated
 - 2. gimmicked
 - 3. conferred
 - 4. disunited

Question ID : 65497829961

Status : **Not Answered**

Chosen Option : --

Comprehension:

In the following passage, some words have been deleted. Read the passage carefully and select the most appropriate option to fill in each blank.

On 14th April 1912, the Titanic received warnings all the day about (1)_____ icebergs. The first message was received at 9 a.m. Similar messages (2)_____. Around 9 p.m., Captain Smith (3)_____ with his second officer, before retiring for the night. They knew that on such a clear, moonless night it would be (4)_____ difficult to spot icebergs. Why did they not change the course of the ship and take the ice-free southern route? It remains one of the (5)_____ mysteries surrounding the Titanic.

SubQuestion No : 24

Q.24 Select the most appropriate option to fill in blank no. 4.

- Ans
- 1. dangerously
 - 2. extremely
 - 3. automatically
 - 4. obviously

Question ID : 65497829962

Status : **Not Answered**

Chosen Option : --

Comprehension:

In the following passage, some words have been deleted. Read the passage carefully and select the most appropriate option to fill in each blank.

On 14th April 1912, the Titanic received warnings all the day about (1)_____ icebergs. The first message was received at 9 a.m. Similar messages (2)_____. Around 9 p.m., Captain Smith (3)_____ with his second officer, before retiring for the night. They knew that on such a clear, moonless night it would be (4)_____ difficult to spot icebergs. Why did they not change the course of the ship and take the ice-free southern route? It remains one of the (5)_____ mysteries surrounding the Titanic.

SubQuestion No : 25

Q.25 Select the most appropriate option to fill in blank no. 5.

- Ans 1. unsolved
 2. resolved
 3. declaimed
 4. dishelmed

Question ID : 65497829963
Status : Not Answered
Chosen Option : --

Section : Part D Hindi

Q.1 नीचे दिए वाक्य में रिक्त-स्थान भरने के लिए सबसे उपयुक्त शब्द का चयन करें।

मुर्गा सुबह-सुबह _____ देता है।

- Ans 1. बाँग
 2. कूकड़ू
 3. दहाड़
 4. टर्

Question ID : 65497829973
Status : Answered
Chosen Option : 2

Q.2 सही वर्तनी वाले शब्द का चयन कीजिए।

- Ans 1. षष्ट
 2. शष्ट
 3. शष्ठ
 4. षष्ठ

Question ID : 65497829964
Status : Answered
Chosen Option : 1

Q.3 दिये गये वाक्य के किस भाग में त्रुटि है?

अगामी सोमवार से परीक्षा शुरू होगी।

- Ans
- 1. सोमवार से
 - 2. परीक्षा
 - 3. अगामी
 - 4. शुरू होगी।

Question ID : 65497829977

Status : Answered

Chosen Option : 3

Q.4 दिये गये वाक्य में रेखांकित अंश को प्रतिस्थापित करने के लिए सबसे उपयुक्त विकल्प का चयन करें।

मैं दो घंटे से आपकी प्रतीक्षा देख रहा हूँ।

- Ans
- 1. कर रहा हूँ।
 - 2. सुन रहा हूँ।
 - 3. गुन रहा हूँ।
 - 4. खा रहा हूँ।

Question ID : 65497829974

Status : Answered

Chosen Option : 1

Q.5 'जो केंद्र की ओर उन्मुख होता हो' वाक्यांश के लिए एक शब्द होगा-

- Ans
- 1. विकेंद्रीय
 - 2. केन्द्रापसारी
 - 3. केन्द्रीय
 - 4. केन्द्राभिसारी

Question ID : 65497829983

Status : Answered

Chosen Option : 4

Q.6 'संकीर्ण' का विलोम शब्द होगा-

- Ans
- 1. उत्तीर्ण
 - 2. प्रकीर्ण
 - 3. संकुचित
 - 4. विस्तीर्ण

Question ID : 65497829979

Status : Answered

Chosen Option : 4

Q.7 दिये गये वाक्य के किस भाग में त्रुटि है?

इस प्रकरण में उसके साथ उचित न्याय किया जाएगा।

- Ans
- 1. उचित न्याय
 - 2. उसके साथ
 - 3. किया जाएगा।
 - 4. इस प्रकरण में

Question ID : 65497829981

Status : Answered

Chosen Option : 1

Q.8 दिए गए वाक्य में रेखांकित खंड को प्रतिस्थापित करने के लिए सबसे उपयुक्त विकल्प का चयन करें। यदि इसे प्रतिस्थापित करने की आवश्यकता नहीं है, तो विकल्प 'किसी बदलाव की आवश्यकता नहीं है' का चयन करें।

में निश्चय रूप से नहीं कह सकता कि वह कब आएगा।

- Ans
- 1. निश्चित रूप में नहीं कह सकता
 - 2. निश्चय स्वरूप से नहीं कह सकता
 - 3. निश्चित रूप से नहीं कह सकता
 - 4. किसी बदलाव की आवश्यकता नहीं है।

Question ID : 65497829972

Status : Answered

Chosen Option : 3

Q.9 'इतिहास का जानकार' वाक्यांश के लिए एक शब्द होगा-

- Ans
- 1. इतिहासज्ञ
 - 2. प्रागैतिहासिक
 - 3. पुरातात्विक
 - 4. ऐतिहासिक

Question ID : 65497829976

Status : Answered

Chosen Option : 1

Q.10 सही वर्तनी वाले शब्द का चयन कीजिए।

- Ans
- 1. परस्परीक
 - 2. परस्परिक
 - 3. पारस्परिक
 - 4. पारस्परीक

Question ID : 65497829965

Status : Answered

Chosen Option : 3

Q.11 दिए गए वाक्य में रेखांकित खंड को प्रतिस्थापित करने के लिए सबसे उपयुक्त विकल्प का चयन करें। यदि इसे प्रतिस्थापित करने की आवश्यकता नहीं है, तो विकल्प 'किसी बदलाव की आवश्यकता नहीं है' का चयन करें।

अपने परिवार की गरिमा का ध्यान रखना।

- Ans
- 1. गरिमा का ध्यान रखना।
 - 2. किसी बदलाव की आवश्यकता नहीं है।
 - 3. गरीमा का ध्यान रखना।
 - 4. गरीमा का ध्यान रखना।

Question ID : 65497829966

Status : Answered

Chosen Option : 1

Q.12 'रिक्त' का विलोम शब्द होगा-

- Ans
- 1. अपूर्ण
 - 2. पूर्ण
 - 3. अधूरा
 - 4. अतिरिक्त

Question ID : 65497829982

Status : Answered

Chosen Option : 2

Q.13 'मनोरथ' किसका पर्यायवाची है?

- Ans
- 1. वासना
 - 2. लालच
 - 3. लक्ष्य
 - 4. कामना

Question ID : 65497829978

Status : Answered

Chosen Option : 4

Q.14 'पौ बारह होना' मुहावरे का सही अर्थ क्या है?

- Ans
- 1. बहुत नुकसान होना
 - 2. घमंड करना
 - 3. खूब लाभ होना
 - 4. आश्चर्यचकित होना

Question ID : 65497829980

Status : Not Answered

Chosen Option : --

Q.15 दिए गए शब्द के समानार्थी शब्द का चयन करें।

सोना

- Ans 1. हिरण्य
 2. कलत्र
 3. ललाम
 4. रत्नाकर

Question ID : 65497829971

Status : Answered

Chosen Option : 4

Q.16 दिये गये वाक्यांश के लिए एक शब्द दीजिये।

मृग जैसी आँखों वाली स्त्री

- Ans 1. हिरनचक्षु
 2. मृगमुखी
 3. मृगया
 4. मृगनयनी

Question ID : 65497829969

Status : Answered

Chosen Option : 4

Q.17 खूब लड़ी मर्दानी वो तो _____ थी।

रिक्त स्थान की पूर्ति कीजिए।

- Ans 1. अहल्या
 2. झॉंसी वाली रानी
 3. अनसूया
 4. रानी पद्मावती

Question ID : 65497829975

Status : Answered

Chosen Option : 2

Q.18 रिक्त स्थान को भरने के लिए सबसे उपयुक्त शब्द का चयन करें।

मनोरंजन भी जीवन के लिए उतना ही _____ है, जितना अध्ययन।

- Ans 1. अनावश्यक
 2. आवश्यक
 3. प्रतिबंधित
 4. शानदार

Question ID : 65497829968

Status : Answered

Chosen Option : 2

Q.19 दिए गए वाक्य का वह भाग ज्ञात करें जिसमें कोई त्रुटि है। यदि कोई त्रुटि नहीं है, तो 'कोई त्रुटि नहीं है' चुनें।

वैसा ही (1)/ उच्चारण हमें हिन्दी (2)/ में भी करनी चाहिए (3)/ कोई त्रुटि नहीं है (4)

Ans 1. 2

2. 3

3. 4

4. 1

Question ID : 65497829970

Status : Answered

Chosen Option : 2

Q.20 'हवा से बातें करना' मुहावरे का अर्थ बताइए।

Ans 1. ऊँचा उड़ना

2. पक्षियों की भाषा समझना

3. अकेले रहना

4. तेज़ गति से चलना

Question ID : 65497829967

Status : Answered

Chosen Option : 4

Comprehension:

जैसे ज्ञान का संशोधन और परिष्कार विज्ञान के (1)_____ द्वारा होता है, उसी प्रकार मनुष्य के स्वभाव का (2)_____ कलाओं के द्वारा किया जाता है। केवल ज्ञान की उन्नति और परिष्कार को अपना ध्येय बना लेने के कारण मनुष्य की (3)_____ शक्तियाँ बढ़ तो बहुत गयी हैं, लेकिन कलाओं की (4)_____ कर देने से हमें उनकी केवल दाहकता ही नसीब हो रही है। कलाहीनता मनुष्य को जड़ बना देती है और सचमुच ही आज का मनुष्य चारों ओर से अपनी ही (5)_____ का शिकार हो रहा है।

उपरोक्त गद्यांश के आधार पर निम्न प्रश्नों के उत्तर दीजिए।

SubQuestion No : 21

Q.21 गद्यांश के रिक्त स्थान (1) के लिए सर्वाधिक उपयुक्त शब्द होगा-

Ans 1. यंत्रों

2. उद्योगों

3. प्रयोगों

4. उपकरणों

Question ID : 65497829985

Status : Answered

Chosen Option : 4

Comprehension:

जैसे ज्ञान का संशोधन और परिष्कार विज्ञान के (1)_____ द्वारा होता है, उसी प्रकार मनुष्य के स्वभाव का (2)_____ कलाओं के द्वारा किया जाता है। केवल ज्ञान की उन्नति और परिष्कार को अपना ध्येय बना लेने के कारण मनुष्य की (3)_____ शक्तियां बढ़ तो बहुत गयी हैं, लेकिन कलाओं की (4)_____ कर देने से हमें उनकी केवल दाहकता ही नसीब हो रही है। कलाहीनता मनुष्य को जड़ बना देती है और सचमुच ही आज का मनुष्य चारों ओर से अपनी ही (5)_____ का शिकार हो रहा है।

उपरोक्त गद्यांश के आधार पर निम्न प्रश्नों के उत्तर दीजिए।

SubQuestion No : 22

Q.22 गद्यांश के रिक्त स्थान (2) के लिए सर्वाधिक उपयुक्त शब्द होगा-

- Ans
- 1. हास
 - 2. उत्थान
 - 3. विकास
 - 4. परिष्कार

Question ID : 65497829986

Status : Answered

Chosen Option : 3

Comprehension:

जैसे ज्ञान का संशोधन और परिष्कार विज्ञान के (1)_____ द्वारा होता है, उसी प्रकार मनुष्य के स्वभाव का (2)_____ कलाओं के द्वारा किया जाता है। केवल ज्ञान की उन्नति और परिष्कार को अपना ध्येय बना लेने के कारण मनुष्य की (3)_____ शक्तियां बढ़ तो बहुत गयी हैं, लेकिन कलाओं की (4)_____ कर देने से हमें उनकी केवल दाहकता ही नसीब हो रही है। कलाहीनता मनुष्य को जड़ बना देती है और सचमुच ही आज का मनुष्य चारों ओर से अपनी ही (5)_____ का शिकार हो रहा है।

उपरोक्त गद्यांश के आधार पर निम्न प्रश्नों के उत्तर दीजिए।

SubQuestion No : 23

Q.23 गद्यांश के रिक्त स्थान (3) के लिए सर्वाधिक उपयुक्त शब्द होगा-

- Ans
- 1. मानसिक
 - 2. सामाजिक
 - 3. शारीरिक
 - 4. आर्थिक

Question ID : 65497829987

Status : Answered

Chosen Option : 3

Comprehension:

जैसे ज्ञान का संशोधन और परिष्कार विज्ञान के (1)_____ द्वारा होता है, उसी प्रकार मनुष्य के स्वभाव का (2)_____ कलाओं के द्वारा किया जाता है। केवल ज्ञान की उन्नति और परिष्कार को अपना ध्येय बना लेने के कारण मनुष्य की (3)_____ शक्तियां बढ़ तो बहुत गयी हैं, लेकिन कलाओं की (4)_____ कर देने से हमें उनकी केवल दाहकता ही नसीब हो रही है। कलाहीनता मनुष्य को जड़ बना देती है और सचमुच ही आज का मनुष्य चारों ओर से अपनी ही (5)_____ का शिकार हो रहा है।

उपरोक्त गद्यांश के आधार पर निम्न प्रश्नों के उत्तर दीजिए।

SubQuestion No : 24

Q.24 गद्यांश के रिक्त स्थान (4) के लिए सर्वाधिक उपयुक्त शब्द होगा-

- Ans 1. उपेक्षा
 2. अपेक्षा
 3. तुलना
 4. प्रशंसा

Question ID : 65497829988

Status : Answered

Chosen Option : 1

Comprehension:

जैसे ज्ञान का संशोधन और परिष्कार विज्ञान के (1)_____ द्वारा होता है, उसी प्रकार मनुष्य के स्वभाव का (2)_____ कलाओं के द्वारा किया जाता है। केवल ज्ञान की उन्नति और परिष्कार को अपना ध्येय बना लेने के कारण मनुष्य की (3)_____ शक्तियां बढ़ तो बहुत गयी हैं, लेकिन कलाओं की (4)_____ कर देने से हमें उनकी केवल दाहकता ही नसीब हो रही है। कलाहीनता मनुष्य को जड़ बना देती है और सचमुच ही आज का मनुष्य चारों ओर से अपनी ही (5)_____ का शिकार हो रहा है।

उपरोक्त गद्यांश के आधार पर निम्न प्रश्नों के उत्तर दीजिए।

SubQuestion No : 25

Q.25 गद्यांश के रिक्त स्थान (5) के लिए सर्वाधिक उपयुक्त शब्द होगा-

- Ans 1. जड़ता
 2. शिथिलता
 3. सक्रियता
 4. निष्क्रियता

Question ID : 65497829989

Status : Answered

Chosen Option : 2