

Constable GD in CAPFs SSF Rifleman GD in Assam Rifles and Sepoy in NCB Examination 2022

Roll Number	www.govtjobsalert.in
Candidate Name	www.govtjobsalert.in
Venue Name	ION Digital Zone iDZ 1 Sector 62
Exam Date	08/02/2023
Exam Time	5:15 PM - 6:15 PM
Subject	Constable GD Examination 2022

Section : Part-A-General Intelligence and Reasoning

Q.1 एक कूट भाषा में, 'we must stop' को 'po ba hu', 'stop this noise' को 'hu va xi', 'you must come' को 'nu ba ka', और 'you come forward' को 'nu ka co' के रूप में कूटबद्ध किया जाता है। शब्द 'forward' के लिए कूट क्या होगा?

- Ans 1. co
 2. po
 3. nu
 4. hu

Question ID : 26433069471
Status : Answered
Chosen Option : 1

Q.2 सात व्यक्ति E, F, G, H, I, J और K एक सीधी पंक्ति में उत्तर की ओर मुख करके बैठे हैं। K, H के बाईं ओर तीसरे स्थान पर बैठा है। F और I के बीच कोई नहीं बैठा है। H, J के दाईं ओर चौथे स्थान पर बैठा है। I के दाईं ओर कोई नहीं बैठा है। F, E के दाईं ओर तीसरे स्थान पर बैठा है। पंक्ति के दाएं सिरे से तीसरे स्थान पर कौन बैठा है?

- Ans 1. H
 2. I
 3. F
 4. G

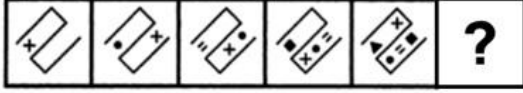
Question ID : 26433068284
Status : Not Answered
Chosen Option : --

Q.3 A # B का अर्थ है 'A, B का भाई है'
A @ B का अर्थ है 'A, B की पुत्री है'
A & B का अर्थ है 'A, B का पति है'
A % B का अर्थ है 'A, B की पत्नी है'
A * B का अर्थ है 'A, B का पुत्र है'
यदि A&D@Q*B*K है, तो D, K से किस प्रकार संबंधित है?

- Ans 1. पोता
 2. पोती
 3. पुत्री
 4. परपोती

Question ID : 26433082534
Status : Answered
Chosen Option : 2

Q.4 दिए गए विकल्पों में से उस आकृति का चयन करें जो निम्नलिखित श्रृंखला में प्रश्नवाचक चिह्न (?) का स्थान ले सकती है।



Ans

- ✓ 1.
- ✗ 2.
- ✗ 3.
- ✗ 4.

Question ID : 26433080497

Status : Answered

Chosen Option : 1

Q.5 उस विकल्प का चयन करें, जो पाँचवीं संख्या से उसी प्रकार संबंधित है, जिस प्रकार दूसरी संख्या, पहली संख्या से संबंधित है और चौथी संख्या, तीसरी संख्या से संबंधित है।
49 : 10 :: 81 : 12 :: 64 : ?

Ans ✓ 1. 11

- ✗ 2. 7
- ✗ 3. 9
- ✗ 4. 8

Question ID : 26433069411

Status : Answered

Chosen Option : 1

Q.6 तीन कथनों के बाद 1, 2 और 3 से संख्यांकित तीन निष्कर्ष दिए गए हैं। कथनों को सत्य मानते हुए भले ही वे सामान्यतः ज्ञात तथ्यों से भिन्न प्रतीत होते हों, निर्णय लें कि कौन-सा/से निष्कर्ष कथनों का तार्किक रूप से अनुसरण करता है/करते हैं।

कथन:

कुछ बेट बॉल हैं।

कुछ बॉल रिग हैं।

कोई रिग बेल नहीं है।

निष्कर्ष:

1. कोई बेल बॉल नहीं है।

2. कोई रिग बेट नहीं है।

3. कुछ बॉल बेट हैं।

Ans ✓ 1. केवल निष्कर्ष 3 अनुसरण करता है

- ✗ 2. केवल निष्कर्ष 1 और 3 अनुसरण करते हैं
- ✗ 3. केवल निष्कर्ष 2 अनुसरण करता है
- ✗ 4. केवल निष्कर्ष 1 और 2 अनुसरण करते हैं

Question ID : 26433087131

Status : Not Answered

Chosen Option : --

Q.7 आमिर, बंटी, लेस्ली, प्रदीप, ईशान, फैज, गौरव और हरीश एक वर्गाकार मेज के चारों ओर मेज के केंद्र की ओर मुख करके बैठे हैं। उनमें से कुछ मेज के कोनों पर बैठे हैं, जबकि कुछ मेज की भुजाओं के ठीक मध्य में बैठे हुए हैं। प्रदीप, गौरव के दाईं ओर तीसरे स्थान पर बैठा है। प्रदीप एक कोने पर बैठा है। बंटी, फैज के दाईं ओर दूसरे स्थान पर बैठा है। फैज, किसी भी कोने पर नहीं बैठा है। बंटी, प्रदीप के ठीक बगल में नहीं बैठा है। हरीश, आमिर के ठीक बगल में बैठा है। हरीश मेज की किसी भी भुजा के मध्य में नहीं बैठा है। हरीश और लेस्ली के बीच केवल एक व्यक्ति बैठा है। बंटी के बाईं ओर दूसरे स्थान पर कौन बैठा/बैठी है?

- Ans
- 1. प्रदीप
 - 2. ईशान
 - 3. गौरव
 - 4. फैज

Question ID : 26433082285
Status : Not Answered
Chosen Option : --

Q.8 निम्नलिखित में से कौन-सी संख्या दी गई श्रृंखला में प्रश्न-चिह्न (?) के स्थान पर आएगी?
5, 11, 35, 143, ?

- Ans
- 1. 719
 - 2. 316
 - 3. 639
 - 4. 512

Question ID : 26433082005
Status : Not Answered
Chosen Option : --

Q.9 नीचे दिए गए समीकरण को गणितीय रूप से सही बनाने के लिए किन दो चिन्हों को परस्पर बदलना चाहिए?

$$64 - 16 \times 24 \div 96 + 10 = 58$$

- Ans
- 1. - और +
 - 2. ÷ और ×
 - 3. ÷ और -
 - 4. × और -

Question ID : 264330117544
Status : Answered
Chosen Option : 1

Q.10 निम्नलिखित में से कौन-सी संख्या दी गई श्रृंखला में प्रश्न-चिह्न (?) को प्रतिस्थापित करेगी?
42, 43, 41, 44, ?, 45

- Ans
- 1. 45
 - 2. 36
 - 3. 42
 - 4. 40

Question ID : 26433083120
Status : Answered
Chosen Option : 3

Q.11 एक निश्चित कूट भाषा में 'EARNED' को '94' के रूप में लिखा जाता है, 'GAINED' को '80' के रूप में लिखा जाता है, तो उसी भाषा में 'DOLLAR' को किस प्रकार से लिखा जाएगा?

- Ans
- 1. 98
 - 2. 111
 - 3. 68
 - 4. 124

Question ID : 26433083114
Status : Answered
Chosen Option : 4

Q.12 दिए गए समीकरण को संतुलित करने के लिए इसके किन दो गणितीय चिह्नों को परस्पर बदलना होगा?
 $25 \times 5 \div 6 + 20 = 62 - 12$

- Ans
- 1. + और +
 - 2. ÷ और ×
 - 3. + और ×
 - 4. + और -

Question ID : 26433087048
Status : Answered
Chosen Option : 2

Q.13 कौन-सा अक्षर-समूह दी गई श्रृंखला में प्रश्नचिह्न (?) के स्थान पर आकर श्रृंखला को पूर्ण करेगा?
YWTZ, UTRY, ?, MNNW, IKLV

- Ans
- 1. QQPX
 - 2. QSRV
 - 3. PSRY
 - 4. QRQX

Question ID : 26433068577
Status : Answered
Chosen Option : 1

Q.14 निम्नलिखित में से कौन-सा अक्षर-समूह दी गई श्रृंखला में प्रश्नचिह्न (?) के स्थान पर आएगा?
DGIL, GJLO, JMOR, ?, PSUX

- Ans
- 1. MPRU
 - 2. NPRV
 - 3. MQRU
 - 4. NPQU

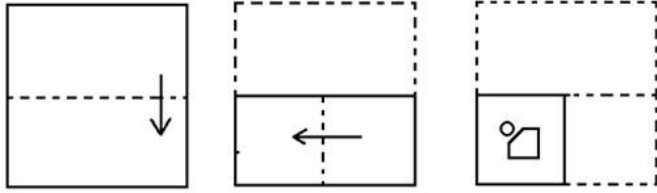
Question ID : 26433076448
Status : Answered
Chosen Option : 1

Q.15 उस विकल्प का चयन कीजिए, जो पाँचवें अक्षर-समूह से उसी प्रकार संबंधित है, जिस प्रकार दूसरा अक्षर-समूह पहले अक्षर-समूह से संबंधित है और चौथा अक्षर-समूह तीसरे अक्षर-समूह से संबंधित है।
PRODUCT : CDOPRTU :: CONFUSE : CEFNOSU :: QUALITY : ?

- Ans
- 1. ALITQUY
 - 2. AIULQTY
 - 3. AILQUTY
 - 4. AILQTUY

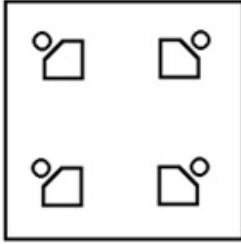
Question ID : 26433082630
Status : Not Answered
Chosen Option : --

Q.19 एक कागज को मोड़ने का क्रम और मुड़े हुए कागज को काटने का तरीका नीचे दर्शाया गया है। उस आकृति का चयन करें जो कागज को खोले जाने पर उसके खुले रूप से सबसे अधिक मिलती-जुलती है।

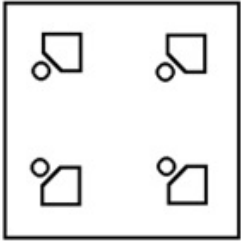


Ans

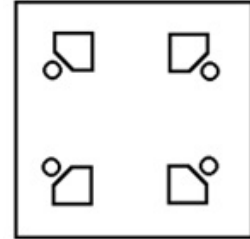
✗ 1.



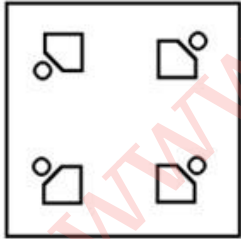
✗ 2.



✓ 3.



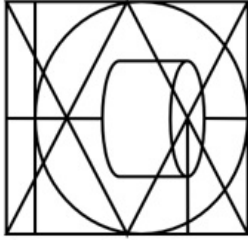
✗ 4.



Question ID : 26433087100
 Status : Answered
 Chosen Option : 2

Q.20 उस विकल्प-आकृति का चयन कीजिए, जो प्रस्तुत आकृति में अंतर्निहित है।

(घुमाना अनुमन्य नहीं है)



Ans

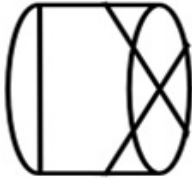
✗ 1.



✗ 2.



✗ 3.



✓ 4.



Question ID : 26433076581

Status : Answered

Chosen Option : 4

Section : Part-B-General Knowledge and General awareness

Q.1 निम्नलिखित में से किसने जून 2022 में क्रेडिट लिंकड सरकारी योजनाओं के लिए राष्ट्रीय पोर्टल - जन समर्थ पोर्टल लॉन्च किया?

Ans ✗ 1. स्मृति ईरानी

✗ 2. निर्मला सीतारमण

✓ 3. नरेन्द्र मोदी

✗ 4. पीयूष गोयल

Question ID : 264330114951

Status : Answered

Chosen Option : 3

Q.2 भारत में हरित क्रांति किस दशक में आई थी?

- Ans
- 1. 1850-1860
 - 2. 1800-1810
 - 3. 1960-1970
 - 4. 1900-1910

Question ID : 264330115413
Status : Answered
Chosen Option : 3

Q.3 हरित क्रांति के पहले चरण में, HYV बीजों का उपयोग अधिक समृद्ध राज्यों तक ही सीमित था। निम्नलिखित में से कौन इस सूची में शामिल नहीं था?

- Ans
- 1. तमिलनाडु
 - 2. कर्नाटक
 - 3. पंजाब
 - 4. आंध्र प्रदेश

Question ID : 264330116151
Status : Not Answered
Chosen Option : --

Q.4 कबड्डी मैच की अवधि कितने मिनट की होती है?

- Ans
- 1. 50 मिनट
 - 2. 30 मिनट
 - 3. 40 मिनट
 - 4. 45 मिनट

Question ID : 264330115931
Status : Answered
Chosen Option : 4

Q.5 लैथेनाइड्स कितने तत्वों की एक श्रृंखला है?

- Ans
- 1. 10
 - 2. 18
 - 3. 12
 - 4. 15

Question ID : 264330115170
Status : Answered
Chosen Option : 2

Q.6 प्रिंस शुद्धेंद्र नारायण सिंह देव को _____ नृत्य में उनके योगदान के लिए संगीत नाटक अकादमी पुरस्कार से सम्मानित किया गया है।

- Ans
- 1. छऊ
 - 2. कथकली
 - 3. कथक
 - 4. मोहिनीअट्टम

Question ID : 264330115871
Status : Not Answered
Chosen Option : --

Q.7 उधम सिंह ने किसकी हत्या की थी?

- Ans 1. माइकल ओ डायर
 2. रेजिनाल्ड डायर
 3. सिडनी रोलेट
 4. जॉन साइमन

Question ID : 264330115721
Status : Answered
Chosen Option : 1

Q.8 क्रिकेट मैच में कितने फील्ड अंपायर होते हैं?

- Ans 1. 3
 2. 2
 3. 1
 4. 4

Question ID : 264330116285
Status : Answered
Chosen Option : 1

Q.9 लोकसभा के अध्यक्ष को कौन चुनता है?

- Ans 1. लोकसभा के सभी सदस्य
 2. भारत के राष्ट्रपति
 3. प्रधानमंत्री और उनकी कैबिनेट
 4. केवल सत्ताधारी दल के लोकसभा के सदस्य

Question ID : 26433090677
Status : Answered
Chosen Option : 1

Q.10 'माघी' भारत के निम्नलिखित में से किस त्योहार का एक अन्य नाम है?

- Ans 1. बिहु
 2. मकर संक्रांति
 3. बैसाखी
 4. बसंत पंचमी

Question ID : 26433094886
Status : Not Answered
Chosen Option : --

Q.11 टेलीफोन, सेलुलर टेलीकॉम, पेजर, टेलीफोन एक्सचेंज और रडार किस उद्योग के उदाहरण हैं?

- Ans 1. सीमेंट उद्योग
 2. रसायन उद्योग
 3. ऑटोमोबाइल उद्योग
 4. सूचना प्रौद्योगिकी एवं इलेक्ट्रॉनिक्स उद्योग

Question ID : 264330115578
Status : Answered
Chosen Option : 4

Q.12 भारत में स्थित एकमात्र निश्चित रूप से सक्रिय ज्वालामुखी, बैरेन द्वीप ज्वालामुखी, अंडमान द्वीप में _____ से लगभग 138 km उत्तर पूर्व में स्थित है।

- Ans
- 1. फेरारगंज
 - 2. दिगलिपुर
 - 3. एबरडीन
 - 4. पोर्ट ब्लेयर

Question ID : 26433092215
Status : Answered
Chosen Option : 1

Q.13 निम्नलिखित में से किसके कार्यकाल के दौरान स्वर्ण सिंह समिति का गठन किया गया था?

- Ans
- 1. मनमोहन सिंह
 - 2. वी.पी. सिंह
 - 3. मोरारजी देसाई
 - 4. इंदिरा गांधी

Question ID : 26433090667
Status : Answered
Chosen Option : 1

Q.14 _____ में, भारतीय संसद ने नागरिकता (संशोधन) अधिनियम (CAA) कानून पारित किया।

- Ans
- 1. जनवरी 2019
 - 2. दिसंबर 2019
 - 3. दिसंबर 2018
 - 4. जनवरी 2018

Question ID : 264330116217
Status : Answered
Chosen Option : 2

Q.15 भारतीय जनता पार्टी से संबंधित मणिपुर के पहले मुख्यमंत्री कौन बने?

- Ans
- 1. नोंगथोम्बम बीरेन सिंह
 - 2. ओकराम इबोबी सिंह
 - 3. लोंगजाम थम्बू सिंह
 - 4. मनोहर पर्रिकर

Question ID : 264330115034
Status : Not Answered
Chosen Option : --

Q.16 _____ देश के विदेशी मुद्रा भंडार का संरक्षक है और उनके निवेश के प्रबंधन की जिम्मेदारी निहित है।

- Ans
- 1. भारतीय स्टेट बैंक
 - 2. वाणिज्य और उद्योग मंत्रालय
 - 3. वित्त मंत्रालय
 - 4. भारतीय रिजर्व बैंक

Question ID : 264330115331
Status : Answered
Chosen Option : 4

Q.17 महात्मा गांधी राष्ट्रीय ग्रामीण रोजगार गारंटी अधिनियम (MGNREGA) के अनुसार प्रस्तावित नौकरियों का कितना भाग महिलाओं के लिए आरक्षित किया गया है?

- Ans 1. एक तिहाई
 2. आधा
 3. एक चौथाई
 4. दो तिहाई

Question ID : 264330116071
Status : Answered
Chosen Option : 1

Q.18 निम्नलिखित में से कौन-सा चीनी तीर्थयात्री श्वेन त्सांग के लगभग 50 वर्ष बाद भारत आया था?

- Ans 1. फाहियान
 2. त्सांग हाय
 3. लाओ त्सू
 4. आई-किंग

Question ID : 26433085223
Status : Answered
Chosen Option : 1

Q.19 पंजाब का कौन सा लोक नृत्य मुख्यतः महिलाओं द्वारा किया जाने वाला नृत्य है?

- Ans 1. गिद्धा
 2. जवारा
 3. दादरा
 4. फुगडी

Question ID : 26433074074
Status : Answered
Chosen Option : 1

Q.20 निम्नलिखित चार में से तीन पारिस्थितिक पिरामिड हैं, और इस प्रकार एक समूह बनाते हैं। कौन सा इस समूह से संबंधित नहीं है?

- Ans 1. संस्कृति का पिरामिड
 2. ऊर्जा का पिरामिड
 3. बायोमास का पिरामिड
 4. संख्या का पिरामिड

Question ID : 264330115247
Status : Answered
Chosen Option : 1

Section : Part-C-Elementary Mathematics

Q.1 एक अंकित मूल्य पर, 8% की छूट से उतना ही लाभ मिलता है जितना कि ₹25 की नकद छूट पर मिलता है। अंकित मूल्य (₹ में) क्या है?

- Ans 1. 317.50
 2. 312.50
 3. 315.00
 4. 310.00

Question ID : 26433085452
Status : Not Answered
Chosen Option : --

Q.2 2 वर्षों में $8\frac{1}{3}\%$ प्रति वर्ष चक्रवृद्धि ब्याज दर पर देय Rs.1,200 के ऋण का वार्षिक भुगतान कितना निकलेगा?

- Ans
- 1. Rs.1,065
 - 2. Rs.1,267
 - 3. Rs.829
 - 4. Rs.676

Question ID : 26433073031
Status : Not Answered
Chosen Option : --

Q.3 अक्षय और विपुल की वार्षिक आय क्रमशः 3 : 2 के अनुपात में है, जबकि उनके व्यय का अनुपात क्रमशः 7 : 3 है। यदि वर्ष के अंत में प्रत्येक ₹1,80,000 की बचत करता है, तो अक्षय की वार्षिक आय कितनी है?

- Ans
- 1. ₹4,60,000
 - 2. ₹4,32,000
 - 3. ₹3,24,000
 - 4. ₹3,20,000

Question ID : 26433076225
Status : Not Answered
Chosen Option : --

Q.4 निम्नलिखित में से सबसे बड़ा अनुपात कौन सा है?

$$\frac{5}{7}, \frac{3}{8}, \frac{9}{15}, \frac{4}{9}$$

- Ans
- 1. $\frac{4}{9}$
 - 2. $\frac{5}{7}$
 - 3. $\frac{3}{8}$
 - 4. $\frac{9}{15}$

Question ID : 26433075947
Status : Answered
Chosen Option : 2

Q.5 एक बेईमान दुकानदार एक ग्राहक को क्रय मूल्य के ऊपर T% के लाभ पर सामान बेचता है और साथ ही 1 kg के स्थान पर वह 800 g तौलता है। उसका कुल लाभ प्रतिशत 40% है। T का मान कितना है?

- Ans
- 1. 40
 - 2. 24
 - 3. 10
 - 4. 12

Question ID : 26433075759
Status : Answered
Chosen Option : 4

Q.6 यदि दो संख्याओं 456 और 240 का महत्तम समापवर्तक 24 है, तो दी गई संख्याओं का लघुतम समापवर्तक _____ है।

- Ans
- 1. 1200
 - 2. 2280
 - 3. 2400
 - 4. 4560

Question ID : 26433082349
Status : Answered
Chosen Option : 4

Q.7 शीतल अपनी दुकान पर सभी वस्तुओं पर 20% की छूट प्रदान करती है और फिर भी 12% का लाभ कमाती है। उस वस्तु का अंकित मूल्य क्या है जिसका क्रय मूल्य ₹200 है?

- Ans
- 1. ₹250
 - 2. ₹240
 - 3. ₹220
 - 4. ₹280

Question ID : 26433080107
Status : Answered
Chosen Option : 1

Q.8 एक भूखंड की कीमत 1500000 रुपए से बढ़कर 1800000 रुपए हो जाती है। भूखंड की कीमत में प्रतिशत वृद्धि है:

- Ans
- 1. 18 प्रतिशत
 - 2. 15 प्रतिशत
 - 3. 10 प्रतिशत
 - 4. 20 प्रतिशत

Question ID : 264330116821
Status : Answered
Chosen Option : 4

Q.9 अनुज, राम और संजय मिलकर एक कार्य को 78/5 दिनों में पूरा कर सकते हैं जबकि अनुज अकेले उसी कार्य को 39 दिनों में पूरा कर सकता है, तो राम और संजय मिलकर समान कार्य को लगभग कितने दिनों में कर सकते हैं?

- Ans
- 1. 41 दिन
 - 2. 44 दिन
 - 3. 45 दिन
 - 4. 26 दिन

Question ID : 264330116901
Status : Answered
Chosen Option : 4

Q.10 निम्नलिखित में से कौन-सा कथन गलत है?

- Ans
- 1. कम समय में एक निश्चित दूरी तय करने के लिए चाल बढ़ानी पड़ती है।
 - 2. समय की गणना दूरी को चाल से विभाजित करके की जाती है।
 - 3. चाल की गणना समय से दूरी को विभाजित करके की जाती है।
 - 4. दी गई समयावधि में अतिरिक्त दूरी तय करने के लिए दी गई चाल को कम कर दिया जाएगा।

Question ID : 26433082500
Status : Answered
Chosen Option : 4

Q.11 रीता 4 km/h की चाल से P से Q की ओर दौड़ना शुरू करती है। यदि P और Q के बीच की दूरी 6000 मीटर है, तो रीता द्वारा P और Q के बीच की दूरी को तय करने में कितना समय लगेगा?

- Ans
- 1. 2.0 h
 - 2. 1.0 h
 - 3. 1.5 h
 - 4. 2.5 h

Question ID : 26433075697
Status : Answered
Chosen Option : 4

Q.12 यदि एक घनाभ की लंबाई, चौड़ाई और ऊँचाई क्रमशः 16 cm, 15 cm और 12 cm है, तो घनाभ के सबसे लंबे विकर्ण की लंबाई _____ है।

- Ans
- 1. 18 cm
 - 2. 24 cm
 - 3. 20 cm
 - 4. 25 cm

Question ID : 26433090309
Status : Answered
Chosen Option : 2

Q.13 A lead hemisphere of radius 7 cm is cast into a cone of base diameter 14 cm. Find the height of the cone.

- Ans
- 1. 18 cm
 - 2. 14 cm
 - 3. 12 cm
 - 4. 16 cm

Question ID : 26433075751
Status : Answered
Chosen Option : 2

Q.14 $(24 \div 12 - 4 + 32) \div (4 + 8 \div 2 - 3)$ का मान _____ है।

- Ans
- 1. 1
 - 2. 7
 - 3. 5
 - 4. 11

Question ID : 26433075753
Status : Not Answered
Chosen Option : --

Q.15 A अकेले एक कार्य को 196 दिनों में पूरा कर सकता है, और B अकेले इसे 147 दिनों में पूरा कर सकता है। A तथा B दोनों एक साथ कार्य करते हुए कार्य को कितने दिनों में पूरा कर सकते हैं?

- Ans
- 1. 84
 - 2. 90
 - 3. 81
 - 4. 88

Question ID : 26433075297
Status : Answered
Chosen Option : 1

Q.16 एक पुरानी वस्तु का अंकित मूल्य ₹4,000 है। A इसे 15% और 10% के दो क्रमागत छूटों पर खरीदता है। वह इसकी मरम्मत पर ₹1,140 खर्च करता है और इसे ₹5,000 में बेच देता है। उसका लाभ या हानि प्रतिशत _____ है। (निकटतम पूर्णांक तक पूर्णांकित)

- Ans
- 1. 18%
 - 2. 17%
 - 3. 20%
 - 4. 19%

Question ID : 26433082383
Status : Answered
Chosen Option : 2

Q.17 एक ट्रक शहर A से शहर B तक 60 किमी/घंटा की औसत चाल से जाता है। यात्रा में 30 घंटे लगते हैं। यह शहर B से शहर A तक उसी सड़क पर 40 किमी/घंटा की औसत चाल से लौटता है। पूरी यात्रा के दौरान ट्रक की औसत चाल क्या थी?

- Ans
- 1. 52 किमी/घंटा
 - 2. 48 किमी/घंटा
 - 3. 46 किमी/घंटा
 - 4. 50 किमी/घंटा

Question ID : 26433080355
Status : Not Answered
Chosen Option : --

Q.18 1000 m की एक रेखीय दौड़ में A, B को 50 m या 5 सेकंड से हरा देता है। निर्धारित कीजिए कि A को दौड़ पूरी करने में कितना समय लगता है।

- Ans
- 1. 120 सेकंड
 - 2. 60 सेकंड
 - 3. 100 सेकंड
 - 4. 95 सेकंड

Question ID : 26433075162
Status : Answered
Chosen Option : 3

Q.19 यदि संगीता के मासिक वेतन में $3\frac{2}{3}\%$ की वृद्धि की जाती है, तो उसे Rs.132 अधिक मिलते हैं। संगीता का मासिक वेतन क्या है?

- Ans
- 1. Rs.2,400
 - 2. Rs.3,000
 - 3. Rs.3,200
 - 4. Rs.3,600

Question ID : 26433080290
Status : Not Answered
Chosen Option : --

Q.20 Rs.1,225 की राशि पर दो वर्षों का ब्याज Rs.144 है जब ब्याज एक निश्चित ब्याज दर पर वार्षिक रूप से चक्रवृद्धि होता है। वार्षिक ब्याज दर ज्ञात करें।

- Ans
- 1. $5\frac{4}{7}\%$
 - 2. $5\frac{2}{7}\%$
 - 3. $6\frac{2}{7}\%$
 - 4. $5\frac{5}{7}\%$

Question ID : 26433073130
Status : Not Answered
Chosen Option : --

Section : Part-D-English

Q.1 Select the most appropriate meaning of the given idiom.

Have your heart in your mouth

- Ans
- 1. Accusing someone of faults which you have
 - 2. Doing immediately
 - 3. Feeling extremely nervous
 - 4. Not being of your kind

Question ID : 26433073707
Status : Answered
Chosen Option : 4

Q.2 Select the most appropriate synonym of the given word.

Leap

- Ans
- 1. Peek
 - 2. Pile
 - 3. Run
 - 4. Hop

Question ID : 26433084891
Status : Answered
Chosen Option : 2

Q.3 Select the most appropriate ANTONYM of the given word.

Follow

- Ans
- 1. Heed
 - 2. Trail
 - 3. Show
 - 4. Lead

Question ID : 26433086376
Status : Answered
Chosen Option : 1

Q.4 Select the correct pair of homonyms to fill in the blanks.

The sales of _____, _____ by 20% on Valentine's Day.

- Ans
- 1. dates, dated
 - 2. roll, rolled
 - 3. pear, pair
 - 4. roses, rose

Question ID : 26433061048
Status : Answered
Chosen Option : 4

Q.5 Select the most appropriate option that can substitute the underlined segment in the given sentence.

Their plan to action during that critical situation was well appreciated by all.

- Ans
- 1. in action during that
 - 2. of action during that
 - 3. off action about that
 - 4. of action off that

Question ID : 26433089308
Status : Not Answered
Chosen Option : --

Q.6 Select the most appropriate option that can substitute the underlined segment in the given sentence.

To enable women to become literate and provide for themselves, education for girls must be done voluntary.

- Ans
- 1. kept secret
 - 2. made mandatory
 - 3. enabled extensively
 - 4. done compulsorily

Question ID : 26433089801
Status : Answered
Chosen Option : 2

Q.7 The following sentence has been split into four segments. Identify the segment that contains a grammatical error.

I were / writing / this poem / last evening.

- Ans
- 1. this poem
 - 2. last evening
 - 3. I were
 - 4. writing

Question ID : 26433094742
Status : Answered
Chosen Option : 3

Q.8 Select the most appropriate synonym of the underlined word in the given sentence.

The news channel described the event in graphic detail.

- Ans 1. Vivid
 2. Startling
 3. Mirthful
 4. Comic

Question ID : 26433087917
Status : Not Answered
Chosen Option : --

Q.9 Select the most appropriate option to substitute the underlined segment in the given sentence.

The syllabus designers has tried to address the problem of time available for teaching.

- Ans 1. have tried to address
 2. has tried addressing
 3. having tried to address
 4. has been tried to address

Question ID : 264330100290
Status : Answered
Chosen Option : 4

Q.10 Select the most appropriate ANTONYM of the given word.

Rustic

- Ans 1. Natural
 2. Shallow
 3. Urbane
 4. Depressed

Question ID : 26433087921
Status : Not Answered
Chosen Option : --

Q.11 Identify and correct the INCORRECTLY spelt word in the given sentence.

Sometimes failure is the stepping stone to success.

- Ans 1. succes
 2. stepping
 3. failuire
 4. stown

Question ID : 26433072763
Status : Not Answered
Chosen Option : --

Q.12 Select the most appropriate synonym of the word given below to fill in the blank in the following sentence.

The car _____ into the truck.

- Ans
- 1. decked
 - 2. bashed
 - 3. striped
 - 4. bounded

Question ID : 26433084776
Status : Not Answered
Chosen Option : --

Q.13 Select the correct spelling of the underlined word in the following sentence.

The architrectre of the building is worth seeing.

- Ans
- 1. arckitecture
 - 2. architecher
 - 3. architectuer
 - 4. architecture

Question ID : 26433072372
Status : Answered
Chosen Option : 4

Q.14 Select the most appropriate meaning of the given idiom.

Head over heels

- Ans
- 1. To have dispute
 - 2. To be very angry
 - 3. To be madly in love
 - 4. To have immense patience

Question ID : 26433073716
Status : Answered
Chosen Option : 3

Q.15 Select the most appropriate option to fill in the blank.

The teacher _____ with laughter, pleased with his joke, but then composed himself.

- Ans
- 1. bread
 - 2. blade
 - 3. braid
 - 4. brayed

Question ID : 26433090394
Status : Answered
Chosen Option : 2

Comprehension:

In the following passage, some words have been deleted. Read the passage carefully and select the most appropriate option to fill in each blank.

We (1)_____ brought up to fear insects. We regard them as unnecessary creatures that do more harm than good. Man continually (2)_____ war on them, because they contaminate his food, carry diseases, or devour his crops. They sting or bite without provocation; they fly uninvited into our rooms on summer nights or beat against our lighted windows. We live in dread not only of unpleasant insects like spiders or wasps but of quite (3)_____ ones like moths. Reading about them increases our understanding without dispelling our fears. Knowing that the industrious ant lives in a highly organised society does nothing to prevent us from being filled with revulsion when we find hordes of them crawling over a carefully prepared picnic lunch.

No matter how much we like honey or how much we have read about the uncanny sense of direction which bees possess, we have a horror of being stung. (4)_____ of our fears are unreasonable but they are difficult to erase. At the same time, however, insects are strangely fascinating. We enjoy reading about them, especially when we find that, like the praying mantis, they lead perfectly horrible lives. We enjoy staring at them, entranced as they go (5)_____ their business, unaware (we hope) of our presence.

SubQuestion No : 16

Q.16 Select the most appropriate option to fill in blank 1.

- Ans**
- 1. have been
 - 2. will be being
 - 3. were being
 - 4. are been

Question ID : 26433090442

Status : Answered

Chosen Option : 1

Comprehension:

In the following passage, some words have been deleted. Read the passage carefully and select the most appropriate option to fill in each blank.

We (1)_____ brought up to fear insects. We regard them as unnecessary creatures that do more harm than good. Man continually (2)_____ war on them, because they contaminate his food, carry diseases, or devour his crops. They sting or bite without provocation; they fly uninvited into our rooms on summer nights or beat against our lighted windows. We live in dread not only of unpleasant insects like spiders or wasps but of quite (3)_____ ones like moths. Reading about them increases our understanding without dispelling our fears. Knowing that the industrious ant lives in a highly organised society does nothing to prevent us from being filled with revulsion when we find hordes of them crawling over a carefully prepared picnic lunch.

No matter how much we like honey or how much we have read about the uncanny sense of direction which bees possess, we have a horror of being stung. (4)_____ of our fears are unreasonable but they are difficult to erase. At the same time, however, insects are strangely fascinating. We enjoy reading about them, especially when we find that, like the praying mantis, they lead perfectly horrible lives. We enjoy staring at them, entranced as they go (5)_____ their business, unaware (we hope) of our presence.

SubQuestion No : 17

Q.17 Select the most appropriate option to fill in blank 2.

- Ans**
- 1. wages
 - 2. employs
 - 3. redresses
 - 4. yields

Question ID : 26433090443

Status : Answered

Chosen Option : 1

Comprehension:

In the following passage, some words have been deleted. Read the passage carefully and select the most appropriate option to fill in each blank.

We (1)_____ brought up to fear insects. We regard them as unnecessary creatures that do more harm than good. Man continually (2)_____ war on them, because they contaminate his food, carry diseases, or devour his crops. They sting or bite without provocation; they fly uninvited into our rooms on summer nights or beat against our lighted windows. We live in dread not only of unpleasant insects like spiders or wasps but of quite (3)_____ ones like moths. Reading about them increases our understanding without dispelling our fears. Knowing that the industrious ant lives in a highly organised society does nothing to prevent us from being filled with revulsion when we find hordes of them crawling over a carefully prepared picnic lunch.

No matter how much we like honey or how much we have read about the uncanny sense of direction which bees possess, we have a horror of being stung. (4)_____ of our fears are unreasonable but they are difficult to erase. At the same time, however, insects are strangely fascinating. We enjoy reading about them, especially when we find that, like the praying mantis, they lead perfectly horrible lives. We enjoy staring at them, entranced as they go (5)_____ their business, unaware (we hope) of our presence.

SubQuestion No : 18

Q.18 Select the most appropriate option to fill in blank 3.

- Ans** 1. benignant
 2. harmless
 3. nonfatal
 4. wholesome

Question ID : 26433090444

Status : Answered

Chosen Option : 3

Comprehension:

In the following passage, some words have been deleted. Read the passage carefully and select the most appropriate option to fill in each blank.

We (1)_____ brought up to fear insects. We regard them as unnecessary creatures that do more harm than good. Man continually (2)_____ war on them, because they contaminate his food, carry diseases, or devour his crops. They sting or bite without provocation; they fly uninvited into our rooms on summer nights or beat against our lighted windows. We live in dread not only of unpleasant insects like spiders or wasps but of quite (3)_____ ones like moths. Reading about them increases our understanding without dispelling our fears. Knowing that the industrious ant lives in a highly organised society does nothing to prevent us from being filled with revulsion when we find hordes of them crawling over a carefully prepared picnic lunch.

No matter how much we like honey or how much we have read about the uncanny sense of direction which bees possess, we have a horror of being stung. (4)_____ of our fears are unreasonable but they are difficult to erase. At the same time, however, insects are strangely fascinating. We enjoy reading about them, especially when we find that, like the praying mantis, they lead perfectly horrible lives. We enjoy staring at them, entranced as they go (5)_____ their business, unaware (we hope) of our presence.

SubQuestion No : 19

Q.19 Select the most appropriate option to fill in blank 4.

- Ans** 1. Most
 2. Some
 3. Several
 4. Few

Question ID : 26433090445

Status : Answered

Chosen Option : 1

Comprehension:

In the following passage, some words have been deleted. Read the passage carefully and select the most appropriate option to fill in each blank.

We (1)_____ brought up to fear insects. We regard them as unnecessary creatures that do more harm than good. Man continually (2)_____ war on them, because they contaminate his food, carry diseases, or devour his crops. They sting or bite without provocation; they fly uninvited into our rooms on summer nights or beat against our lighted windows. We live in dread not only of unpleasant insects like spiders or wasps but of quite (3)_____ ones like moths. Reading about them increases our understanding without dispelling our fears. Knowing that the industrious ant lives in a highly organised society does nothing to prevent us from being filled with revulsion when we find hordes of them crawling over a carefully prepared picnic lunch.

No matter how much we like honey or how much we have read about the uncanny sense of direction which bees possess, we have a horror of being stung. (4)_____ of our fears are unreasonable but they are difficult to erase. At the same time, however, insects are strangely fascinating. We enjoy reading about them, especially when we find that, like the praying mantis, they lead perfectly horrible lives. We enjoy staring at them, entranced as they go (5)_____ their business, unaware (we hope) of our presence.

SubQuestion No : 20

Q.20 Select the most appropriate option to fill in blank 5.

- Ans**
- 1. around
 - 2. beside
 - 3. about
 - 4. near

Question ID : 26433090446

Status : Answered

Chosen Option : 1

Section : Part-D-Hindi

Q.1 निम्नलिखित में से शुद्ध वाक्य कौन सा है?

- Ans**
- 1. वह लड़का खटनत है।
 - 2. वह लड़का नटखट है।
 - 3. वह लड़का नटनट है।
 - 4. वह लड़का नटखत है।

Question ID : 26433066831

Status : Not Answered

Chosen Option : --

Q.2 मनुष्य को जीवों का रक्षक बनना चाहिए।
उपरोक्त वाक्य में रेखांकित शब्द के सही विलोम शब्द का चयन कीजिए।

- Ans**
- 1. भक्षक
 - 2. वधिक
 - 3. तक्षक
 - 4. मारक

Question ID : 26433079744

Status : Not Answered

Chosen Option : --

Q.3 निम्नलिखित वाक्य के किस शब्द में अशुद्धि है?
चावल का अभाव चिंतनिय है।

- Ans
- 1. अभाव
 - 2. चावल
 - 3. है
 - 4. चिंतनिय

Question ID : 26433066770
Status : Not Answered
Chosen Option : --

Q.4 निम्नलिखित मुहावरे के उचित अर्थ का चयन विकल्पों में से कीजिए।
ईट का जवाब पत्थर से देना

- Ans
- 1. गुप्त रहस्य प्रकट कर देना
 - 2. विचलित होना
 - 3. युद्धात्मक विनाश लाना
 - 4. किसी की दुष्टता का करारा जवाब देना

Question ID : 26433070000
Status : Not Answered
Chosen Option : --

Q.5 इनमें से कौन-सा शब्द 'गंगा' का पर्यायवाची नहीं है?

- Ans
- 1. विष्णुपदी
 - 2. त्रिपथगा
 - 3. कालिंदी
 - 4. देवनदी

Question ID : 26433066896
Status : Not Answered
Chosen Option : --

Q.6 'जो बहुत कम जानता हो' वाक्यांश के लिए सही शब्द क्या होगा?

- Ans
- 1. अल्पज्ञ
 - 2. जिज्ञासु
 - 3. कृतज्ञ
 - 4. सर्वज्ञ

Question ID : 26433069982
Status : Not Answered
Chosen Option : --

Q.7 निम्नलिखित विकल्पों में से किस एक वाक्य में 'मोद' शब्द के लिए उचित पर्यायवाची का प्रयोग हुआ है?

- Ans
- 1. नौकरी मिलने पर वह हर्षित है।
 - 2. नरेश दुखी है।
 - 3. वह पढ़ता है।
 - 4. उमेश को उम्मीद है।

Question ID : 26433091189
Status : Not Answered
Chosen Option : --

Q.8 दिए गये वाक्यांश के लिए उचित शब्द बताइए –'किसी बात पर बार-बार जोर देना'

- Ans
- 1. हठधर्मिता
 - 2. हठ
 - 3. बारम्बारता
 - 4. आग्रह

Question ID : 26433062587
Status : Not Answered
Chosen Option : --

Q.9 'चक्षुश्रवा' के लिए उपयुक्त वाक्य खंड चुनकर लिखिए।

- Ans
- 1. चक्षु से जो श्रवण कार्य करता है।
 - 2. चक्षु को जो दूसरों के साथ मिलाता है।
 - 3. चक्षु से जो देखने का कार्य करता है।
 - 4. चक्षु को जो बंदकर सोचता है।

Question ID : 26433063062
Status : Not Answered
Chosen Option : --

Q.10 निम्नलिखित मुहावरे का सही अर्थ विकल्पों में से चुनिए।
खरा खेल फरुखाबादी

- Ans
- 1. गुप्त सलाह करना
 - 2. युद्ध में मारा जाना
 - 3. सही काम
 - 4. परेशान होना

Question ID : 26433070012
Status : Not Answered
Chosen Option : --

Q.11 निम्न में से कौन सा शब्द संख्यावाचक विशेषण का उदाहरण नहीं है?

- Ans
- 1. दोगुना
 - 2. लगातार
 - 3. पहला
 - 4. बहुत

Question ID : 26433085052
Status : Not Answered
Chosen Option : --

Q.12 निम्नलिखित विकल्पों में से किस एक वाक्य में 'आरम्भ' शब्द के लिए उचित विलोम का प्रयोग हुआ है?

- Ans
- 1. हर व्यक्ति का अंत सुनिश्चित है।
 - 2. समय की कद्र करना चाहिए।
 - 3. देश को श्रमजीवी लोगों की जरूरत है।
 - 4. शिमला भारत में है।

Question ID : 26433091191
Status : Not Answered
Chosen Option : --

Q.13 इस कक्ष की लंबाई, ऊँचाई और चौड़ाई बराबर और एकरूप है।
उपरोक्त वाक्य में कौन-सा शब्द भाववाचक संज्ञा शब्द नहीं है?

- Ans
- 1. लंबाई
 - 2. चौड़ाई
 - 3. ऊँचाई
 - 4. एकरूप

Question ID : 26433062854
Status : Not Answered
Chosen Option : --

Q.14 निम्नलिखित वाक्य में रेखांकित खंड के स्थान पर प्रयुक्त होने वाले सबसे उपयुक्त विकल्प का चयन कीजिए।
वह सकुशल गाँव पहुँचे गया।

- Ans
- 1. पहुँच
 - 2. पहुँचाना
 - 3. पहुँची
 - 4. पहचान

Question ID : 26433079668
Status : Not Answered
Chosen Option : --

Q.15 निम्नलिखित वाक्यांश के लिए उपयुक्त सार्थक शब्द क्या होगा?
किसी व्यवस्था को देखने वाला

- Ans
- 1. व्यवस्थापक
 - 2. व्यापक
 - 3. व्यामक
 - 4. व्यावहारिक

Question ID : 26433073315
Status : Not Answered
Chosen Option : --

Comprehension:

प्रश्न संख्या 1-5 के उत्तर निम्न गद्यांश के आधार पर दीजिए।
भारत ने 1. _____ प्राप्त करने के बाद अनेक क्षेत्रों में महत्वपूर्ण उपलब्धियाँ प्राप्त की हैं। जब हम स्वतंत्र हुए तो उस समय हमारी स्थिति अच्छी न थी। सरकारी प्रयासों से काफी सुधार हुआ परंतु अभी भी एक 2. _____ ऐसा है जिसमें हम अभी तक कुछ विशेष नहीं कर पाए हैं, वह क्षेत्र है - खेलों का। इससे बड़ी विडंबना और क्या हो सकती है कि वर्षों से हम ओलंपिक में कोई भी स्वर्णपदक नहीं जीत पाए। दुनिया के छोटे-छोटे अविकसित, निर्धन राष्ट्रों के प्रतिभागी भी 3. _____ के क्षेत्र में हमसे आगे निकल गए हैं। कभी हॉकी का विशेष चैंपियन रहने वाला भारत आज इस खेल में अपनी प्रतिष्ठा खो चुका है। खेलों के गिरते स्तर के लिए कौन जिम्मेदार है? एक ओर सरकार की उदासीन दोषपूर्ण सरकारी नीतियाँ हैं तो दूसरी ओर विभिन्न खेल संघों की 4. _____, खिलाड़ियों के लिए सुविधाओं एवं प्रशिक्षण का सर्वथा अभाव या कुछ और प्रतियोगिताओं में भाग लेकर खाली हाथ लौटने पर सभी एक दूसरे को दोषी बताते हैं। कारण चाहे जो भी हो इतना तय है कि खेलकूद को राष्ट्रीय 5. _____ का पर्याय नहीं मानते। अभाव प्रतियोगिताओं का नहीं, अभाव है तो लगन का, प्रोत्साहन का, संकल्प का और मुंहतोड़ जवाब देने वाले जीवट का।

SubQuestion No : 16

Q.16 रिक्त स्थान 1 पर आने वाला सर्वाधिक उपयुक्त शब्द इनमें से क्या होगा?

- Ans
- 1. खुशी
 - 2. स्वाधीनता
 - 3. गुलामी
 - 4. पराधीनता

Question ID : 26433072606
Status : Not Answered
Chosen Option : --

Comprehension:

प्रश्न संख्या 1-5 के उत्तर निम्न गद्यांश के आधार पर दीजिए।

भारत ने 1. _____ प्राप्त करने के बाद अनेक क्षेत्रों में महत्वपूर्ण उपलब्धियाँ प्राप्त की हैं। जब हम स्वतंत्र हुए तो उस समय हमारी स्थिति अच्छी न थी। सरकारी प्रयासों से काफी सुधार हुआ परंतु अभी भी एक 2. _____

_____ ऐसा है जिसमें हम अभी तक कुछ विशेष नहीं कर पाए हैं, वह क्षेत्र है - खेलों का। इससे बड़ी विडंबना और क्या हो सकती है कि वर्षों से हम ओलंपिक में कोई भी स्वर्णपदक नहीं जीत पाए। दुनिया के छोटे-छोटे अ विकसित, निर्धन राष्ट्रों के प्रतिभागी भी 3. _____ के क्षेत्र में हमसे आगे निकल गए हैं। कभी हॉकी का विशेष चैंपियन रहने वाला भारत आज इस खेल में अपनी प्रतिष्ठा खो चुका है। खेलों के गिरते स्तर के लिए कौन जिम्मेदार है? एक ओर सरकार की उदासीन दोषपूर्ण सरकारी नीतियाँ हैं तो दूसरी ओर विभिन्न खेल संघों की 4. _____, खिलाड़ियों के लिए सुविधाओं एवं प्रशिक्षण का सर्वथा अभाव या कुछ और प्रतियोगिताओं में भाग लेकर खाली हाथ लौटने पर सभी एक दूसरे को दोषी बताते हैं। कारण चाहे जो भी हो इतना तय है कि खेलकूद को राष्ट्रीय 5. _____ का पर्याय नहीं मानते। अभाव प्रतियोगिताओं का नहीं, अभाव है तो लगन का, प्रोत्साहन का, संकल्प का और मुंहतोड़ जवाब देने वाले जीवट का।

SubQuestion No : 17

Q.17 रिक्त स्थान 2 पर आने वाला सर्वाधिक उपयुक्त शब्द इनमें से क्या होगा?

- Ans 1. शहर
 2. क्षेत्र
 3. मामला
 4. खेत

Question ID : 26433072607

Status : Not Answered

Chosen Option : --

Comprehension:

प्रश्न संख्या 1-5 के उत्तर निम्न गद्यांश के आधार पर दीजिए।

भारत ने 1. _____ प्राप्त करने के बाद अनेक क्षेत्रों में महत्वपूर्ण उपलब्धियाँ प्राप्त की हैं। जब हम स्वतंत्र हुए तो उस समय हमारी स्थिति अच्छी न थी। सरकारी प्रयासों से काफी सुधार हुआ परंतु अभी भी एक 2. _____

_____ ऐसा है जिसमें हम अभी तक कुछ विशेष नहीं कर पाए हैं, वह क्षेत्र है - खेलों का। इससे बड़ी विडंबना और क्या हो सकती है कि वर्षों से हम ओलंपिक में कोई भी स्वर्णपदक नहीं जीत पाए। दुनिया के छोटे-छोटे अ विकसित, निर्धन राष्ट्रों के प्रतिभागी भी 3. _____ के क्षेत्र में हमसे आगे निकल गए हैं। कभी हॉकी का विशेष चैंपियन रहने वाला भारत आज इस खेल में अपनी प्रतिष्ठा खो चुका है। खेलों के गिरते स्तर के लिए कौन जिम्मेदार है? एक ओर सरकार की उदासीन दोषपूर्ण सरकारी नीतियाँ हैं तो दूसरी ओर विभिन्न खेल संघों की 4. _____, खिलाड़ियों के लिए सुविधाओं एवं प्रशिक्षण का सर्वथा अभाव या कुछ और प्रतियोगिताओं में भाग लेकर खाली हाथ लौटने पर सभी एक दूसरे को दोषी बताते हैं। कारण चाहे जो भी हो इतना तय है कि खेलकूद को राष्ट्रीय 5. _____ का पर्याय नहीं मानते। अभाव प्रतियोगिताओं का नहीं, अभाव है तो लगन का, प्रोत्साहन का, संकल्प का और मुंहतोड़ जवाब देने वाले जीवट का।

SubQuestion No : 18

Q.18 रिक्त स्थान 3 पर आने वाला सर्वाधिक उपयुक्त शब्द इनमें से क्या होगा?

- Ans 1. संगीत
 2. अभिनय
 3. खेलकूद
 4. नृत्य

Question ID : 26433072608

Status : Not Answered

Chosen Option : --

Comprehension:

प्रश्न संख्या 1-5 के उत्तर निम्न गद्यांश के आधार पर दीजिए।

भारत ने 1. _____ प्राप्त करने के बाद अनेक क्षेत्रों में महत्वपूर्ण उपलब्धियाँ प्राप्त की हैं। जब हम स्वतंत्र हुए तो उस समय हमारी स्थिति अच्छी न थी। सरकारी प्रयासों से काफी सुधार हुआ परंतु अभी भी एक 2. _____

_____ ऐसा है जिसमें हम अभी तक कुछ विशेष नहीं कर पाए हैं, वह क्षेत्र है - खेलों का। इससे बड़ी विडंबना और क्या हो सकती है कि वर्षों से हम ओलंपिक में कोई भी स्वर्णपदक नहीं जीत पाए। दुनिया के छोटे-छोटे अविकसित, निर्धन राष्ट्रों के प्रतिभागी भी 3. _____ के क्षेत्र में हमसे आगे निकल गए हैं। कभी हॉकी का विशेष चैंपियन रहने वाला भारत आज इस खेल में अपनी प्रतिष्ठा खो चुका है। खेलों के गिरते स्तर के लिए कौन जिम्मेदार है? एक ओर सरकार की उदासीन दोषपूर्ण सरकारी नीतियाँ हैं तो दूसरी ओर विभिन्न खेल संघों की 4. _____, खिलाड़ियों के लिए सुविधाओं एवं प्रशिक्षण का सर्वथा अभाव या कुछ और प्रतियोगिताओं में भाग लेकर खाली हाथ लौटने पर सभी एक दूसरे को दोषी बताते हैं। कारण चाहे जो भी हो इतना तय है कि खेलकूद को राष्ट्रीय 5. _____ का पर्याय नहीं मानते। अभाव प्रतियोगिताओं का नहीं, अभाव है तो लगन का, प्रोत्साहन का, संकल्प का और मुंहतोड़ जवाब देने वाले जीवट का।

SubQuestion No : 19

Q.19 रिक्त स्थान 4 पर आने वाला सर्वाधिक उपयुक्त शब्द इनमें से क्या होगा?

- Ans 1. गुटबाजी
 2. मित्रता
 3. दोस्ती
 4. दुश्मनी

Question ID : 26433072609

Status : Not Answered

Chosen Option : --

Comprehension:

प्रश्न संख्या 1-5 के उत्तर निम्न गद्यांश के आधार पर दीजिए।

भारत ने 1. _____ प्राप्त करने के बाद अनेक क्षेत्रों में महत्वपूर्ण उपलब्धियाँ प्राप्त की हैं। जब हम स्वतंत्र हुए तो उस समय हमारी स्थिति अच्छी न थी। सरकारी प्रयासों से काफी सुधार हुआ परंतु अभी भी एक 2. _____

_____ ऐसा है जिसमें हम अभी तक कुछ विशेष नहीं कर पाए हैं, वह क्षेत्र है - खेलों का। इससे बड़ी विडंबना और क्या हो सकती है कि वर्षों से हम ओलंपिक में कोई भी स्वर्णपदक नहीं जीत पाए। दुनिया के छोटे-छोटे अविकसित, निर्धन राष्ट्रों के प्रतिभागी भी 3. _____ के क्षेत्र में हमसे आगे निकल गए हैं। कभी हॉकी का विशेष चैंपियन रहने वाला भारत आज इस खेल में अपनी प्रतिष्ठा खो चुका है। खेलों के गिरते स्तर के लिए कौन जिम्मेदार है? एक ओर सरकार की उदासीन दोषपूर्ण सरकारी नीतियाँ हैं तो दूसरी ओर विभिन्न खेल संघों की 4. _____, खिलाड़ियों के लिए सुविधाओं एवं प्रशिक्षण का सर्वथा अभाव या कुछ और प्रतियोगिताओं में भाग लेकर खाली हाथ लौटने पर सभी एक दूसरे को दोषी बताते हैं। कारण चाहे जो भी हो इतना तय है कि खेलकूद को राष्ट्रीय 5. _____ का पर्याय नहीं मानते। अभाव प्रतियोगिताओं का नहीं, अभाव है तो लगन का, प्रोत्साहन का, संकल्प का और मुंहतोड़ जवाब देने वाले जीवट का।

SubQuestion No : 20

Q.20 रिक्त स्थान 5 पर आने वाला सर्वाधिक उपयुक्त शब्द इनमें से क्या होगा?

- Ans 1. खुशी
 2. दुख
 3. सम्मान
 4. अपमान

Question ID : 26433072610

Status : Not Answered

Chosen Option : --