

## Constable GD in CAPFs SSF Rifleman GD in Assam Rifles and Sepoy in NCB Examination 2022

Roll Number	www.govtjobsalert.in
Candidate Name	www.govtjobsalert.in
Venue Name	Dr. Ghanshyam Singh College Of Education
Exam Date	02/02/2023
Exam Time	5:15 PM - 6:15 PM
Subject	Constable GD Examination 2022

### Section : Part-A-General Intelligence and Reasoning

Q.1 दिए गए विकल्पों में से उस अक्षर-समूह का चयन कीजिए जो निम्न श्रृंखला में प्रश्न-चिह्न (?) के स्थान पर आ सकता है।  
BWLS, FTPW, JQTA, ? , RKBI

- Ans
- 1. NNXE
  - 2. NXCR
  - 3. LKPE
  - 4. JLPR

Question ID : 26433074741  
Status : Answered  
Chosen Option : 1

Q.2 एक निश्चित कूट भाषा में, 'FIT' को 'FGIST' के रूप में लिखा जाता है और 'KIN' को 'KLIMN' के रूप में लिखा जाता है। उसी भाषा में 'JOY' को कैसे लिखा जाएगा?

- Ans
- 1. JJOYY
  - 2. JKOXY
  - 3. KJOYX
  - 4. KKOXX

Question ID : 26433069643  
Status : Answered  
Chosen Option : 2

Q.3 कौन-सा अक्षर-समूह दी गई श्रृंखला में प्रश्नचिह्न (?) के स्थान पर आकर श्रृंखला को पूर्ण करेगा?  
ALTY, DNVA, ? , JRZE, MTBG

- Ans
- 1. GQYC
  - 2. GPYC
  - 3. GQXC
  - 4. GPXC

Question ID : 26433067950  
Status : Answered  
Chosen Option : 4

Q.4 एक कूट भाषा में 'sweet fruits' को 're de', 'mango is sweet' को 'de me ke', 'orange is citrus' को 'ke le pe', 'eat orange' को 'pe ne' के रूप में कूटबद्ध किया जाता है। शब्द 'citrus' के लिए कूट क्या होगा?

- Ans
- 1. ke
  - 2. pe
  - 3. le
  - 4. de

Question ID : 26433082268

Status : Answered

Chosen Option : 3

Q.5 Select the option that is related to the third word in the same way as the second word is related to the first word. (The words must be considered as meaningful English words and must not be related to each other based on the number of letters/number of consonants/vowels in the word.)  
Elephant : Herd :: Fish : ?

- Ans
- 1. Sea
  - 2. Shoal
  - 3. River
  - 4. Aquarium

Question ID : 26433067375

Status : Answered

Chosen Option : 2

Q.6 उस विकल्प का चयन कीजिए जो तीसरे शब्द से उसी प्रकार संबंधित है जिस प्रकार दूसरा शब्द पहले शब्द से संबंधित है। (शब्दों को अर्थपूर्ण शब्दों के रूप में मानना है और उन्हें शब्द में अक्षरों/व्यंजनों/स्वरों की संख्या के आधार पर एक-दूसरे से संबंधित नहीं करना है।)  
लेखक : कलम :: डॉक्टर : \_\_\_\_\_

- Ans
- 1. इरेज़र
  - 2. शार्पनर
  - 3. स्टेथोस्कोप
  - 4. धातु

Question ID : 26433079400

Status : Answered

Chosen Option : 3

Q.7 दिए गए विकल्पों में से वह संख्या चुनिए, जो निम्नलिखित श्रृंखला में प्रश्न-चिह्न (?) को प्रतिस्थापित कर सके।  
23, 32, 14, 41, 5, 50, ?

- Ans
- 1. -4
  - 2. -2
  - 3. 2
  - 4. -3

Question ID : 26433078925

Status : Answered

Chosen Option : 1

Q.8 किस विकल्प में निम्नलिखित शब्दों का वह क्रम दिया गया है, जिस क्रम में वे अंग्रेजी शब्दकोश में आते हैं?

- 1 fondant
- 2 fountain
- 3 follow
- 4 forgive
- 5 forget

- Ans
- 1. 3,4,1,5,2
  - 2. 3,1,5,4,2
  - 3. 3,1,4,5,2
  - 4. 3,5,1,2,4

Question ID : 26433069309  
Status : Answered  
Chosen Option : 2

Q.9 यदि @ का अर्थ  $\div$ , # का अर्थ  $\times$ , \$ का अर्थ  $+$  और % का अर्थ  $-$  है, तो निम्नलिखित समीकरण का मान क्या होगा?

$$10 \# 25 @ 5 \$ 20 \% 10 = ?$$

- Ans
- 1. 60
  - 2. 50
  - 3. 40
  - 4. 65

Question ID : 26433085655  
Status : Answered  
Chosen Option : 1

Q.10 छः व्यक्ति A, B, C, D, E और F एक पंक्ति में उत्तर की ओर मुख करके बैठे हैं। D पंक्ति के दाएं सिरे पर बैठा है। F, D के बाईं ओर ठीक बगल में बैठा है। A और F के बीच में केवल B बैठा है। C और A के बीच में केवल E बैठा है। A के दाईं ओर ठीक बगल में कौन बैठा है?

- Ans
- 1. F
  - 2. D
  - 3. B
  - 4. E

Question ID : 26433074626  
Status : Answered  
Chosen Option : 3

Q.11 उस विकल्प का चयन करें, जो पाँचवीं संख्या से उसी प्रकार संबंधित है, जिस प्रकार दूसरी संख्या, पहली संख्या से संबंधित है और चौथी संख्या, तीसरी संख्या से संबंधित है।

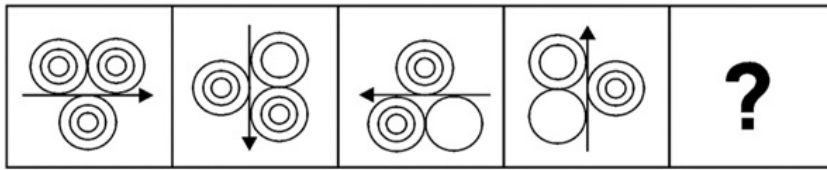
$$320 : 4 :: 40 : 2 :: 1715 : ?$$

- Ans
- 1. 7
  - 2. 9
  - 3. 10
  - 4. 5

Question ID : 26433069422  
Status : Answered  
Chosen Option : 1

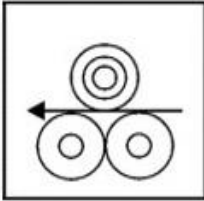
Q.12 दिए गए विकल्पों में से उस आकृति का चयन करें जो निम्नलिखित श्रृंखला में

प्रश्नवाचक चिह्न (?) का स्थान ले सकती है।

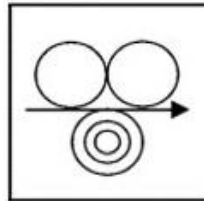


Ans

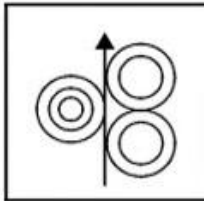
✗ 1.



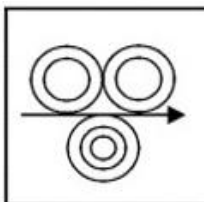
✓ 2.



✗ 3.



✗ 4.



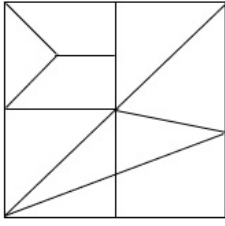
Question ID : 26433080485

Status : Answered

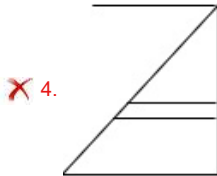
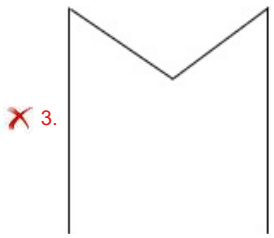
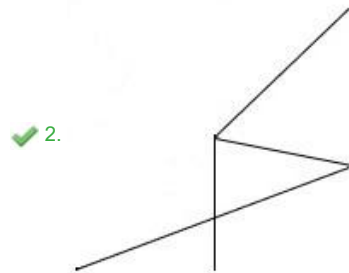
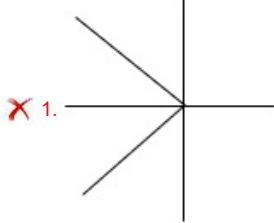
Chosen Option : 2

Q.13 वह विकल्प चित्र चुनिए, जो प्रस्तुत चित्र में अंतर्निहित है। (घुमाना अनुमन्य नहीं है)

है)



Ans



Question ID : 26433069357  
Status : Answered  
Chosen Option : 2

Q.14 दर्पण को दाईं ओर रखे जाने पर, निम्नलिखित में से कौन-सी आकृति दी गई प्रश्न आकृति का सटीक दर्पण प्रतिबिम्ब होगी?

प्रश्न आकृति:



Ans

✗ 1.



✓ 2.



✗ 3.



✗ 4.



Question ID : 26433087086

Status : Answered

Chosen Option : 2

Q.15 'A + B' का अर्थ है कि 'A, B का भाई है'  
 'A - B' का अर्थ है कि 'A, B की पत्नी है'  
 'A × B' का अर्थ है कि 'A, B का पुत्र है'  
 'A ÷ B' का अर्थ है कि 'A, B का पति है'  
 यदि  $P + Q - S + R \times L \div M$  है, तो निम्नलिखित में से कौन-सा कथन सही नहीं है?

Ans

✗ 1. P, S की पत्नी का भाई है।

✗ 2. Q, R के भाई की पत्नी है।

✓ 3. M, Q की बहन है।

✗ 4. M, R की माता है।

Question ID : 26433069656

Status : Answered

Chosen Option : 3

Q.16 तीन कथन दिए गए हैं, जिनके बाद तीन निष्कर्ष I, II और III दिए गए हैं। कथनों को सत्य मानते हुए, भले ही वे सामान्य रूप से ज्ञात तथ्यों से भिन्न प्रतीत होते हों, निर्धारित करें कि कौन-सा/से निष्कर्ष कथनों का तार्किक रूप से अनुसरण करता है/करते हैं।

कथन:

सभी लड़के पुरुष हैं।  
कुछ पुरुष लड़कियां हैं।  
सभी लड़कियां महिलाएँ हैं।

निष्कर्ष:

I. सभी लड़के लड़कियां हैं।  
II. सभी पुरुष महिलाएँ हैं।  
III. कुछ लड़कियां पुरुष हैं।

- Ans  1. केवल निष्कर्ष III अनुसरण करता है  
 2. सभी निष्कर्ष अनुसरण करते हैं  
 3. केवल निष्कर्ष II और III अनुसरण करते हैं  
 4. केवल निष्कर्ष I और III अनुसरण करते हैं

Question ID : 26433090985  
Status : Answered  
Chosen Option : 1

Q.17 निम्नलिखित में से कौन-सी संख्या दी गई श्रृंखला में प्रश्न-चिह्न (?) को प्रतिस्थापित करेगी?  
51, 52, 56, ?, 81, 106

- Ans  1. 64  
 2. 66  
 3. 65  
 4. 67

Question ID : 26433069385  
Status : Answered  
Chosen Option : 3

Q.18 नीचे दिए गए समीकरण को गणितीय रूप से सही बनाने के लिए किन दो चिन्हों को परस्पर बदलना चाहिए?

$$25 \times 16 + 8 - 36 \div 18 = 32$$

- Ans  1. + और ÷  
 2. ÷ और ×  
 3. - और +  
 4. × और -

Question ID : 264330117513  
Status : Answered  
Chosen Option : 1

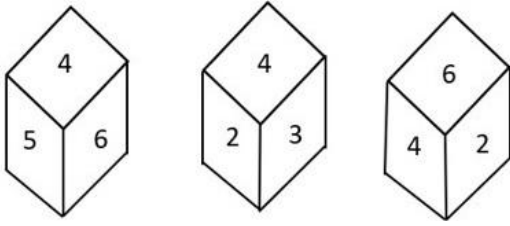
Q.19 छः विद्यार्थी एक वृत्ताकार मेज के परितः मेज के केंद्र की ओर मुख करके बैठे हैं। मैरी, सुसान के बाईं ओर दूसरे स्थान पर है। एलिस, सुसान और प्रिया के ठीक बगल में है। रिया, प्रिया के दाईं ओर तीसरे स्थान पर बैठी है। जोन, रिया के बाईं ओर दूसरे स्थान पर बैठा है। प्रिया, सुसान के दाईं ओर दूसरे स्थान पर बैठी है। इनमें से कौन मैरी और सुसान के ठीक बगल में बैठा/बैठी है?

- Ans  1. जोन  
 2. रिया  
 3. प्रिया  
 4. एलिस

Question ID : 26433081772  
Status : Answered  
Chosen Option : 2

Q.20

एक ही पासे की तीन अलग-अलग स्थितियों को दर्शाया गया है। '4' दर्शाने वाले फलक के विपरीत फलक की संख्या ज्ञात कीजिए।



- Ans
- 1. 3
  - 2. 2
  - 3. 5
  - 4. 1

Question ID : 26433090079  
Status : Answered  
Chosen Option : 4

Section : Part-B-General Knowledge and General awareness

Q.1 As of November 2022, who is the Union Minister for Communications & Electronics and Information Technology in India?

- Ans
- 1. Anurag Thakur
  - 2. Narayan Rane
  - 3. Kiren Rijju
  - 4. Ashwini Vaishnav

Question ID : 264330114940  
Status : Answered  
Chosen Option : 4

Q.2 भारत में, मानसून की अवधि जून के आरंभ से सितंबर के मध्य तक \_\_\_\_\_ दिनों के बीच होती है।

- Ans
- 1. 100 - 120
  - 2. 60 - 80
  - 3. 260 - 280
  - 4. 200 - 240

Question ID : 26433089660  
Status : Answered  
Chosen Option : 1

Q.3 निम्नलिखित में से किसे कथक के लिए संगीत नाटक अकादमी पुरस्कार से सम्मानित किया गया है?

- Ans
- 1. सरोदी सैकिया
  - 2. टंकेश्वर हज़ारिका बोरबयान
  - 3. सुनयना हज़ारीलाल
  - 4. जोगेन दत्ता ब्यान

Question ID : 264330115882  
Status : Answered  
Chosen Option : 3



Q.4 What is the major constituent of cellular energy transfer systems?

- Ans
- 1. oxygen
  - 2. methane
  - 3. phosphorus
  - 4. carbon

Question ID : 264330115258  
Status : Answered  
Chosen Option : 1

Q.5 बी. आर. अम्बेडकर द्वारा दमित वर्ग संघ की स्थापना किस वर्ष की गई थी?

- Ans
- 1. 1928
  - 2. 1930
  - 3. 1932
  - 4. 1926

Question ID : 264330115695  
Status : Answered  
Chosen Option : 2

Q.6 चोल अभिलेखों के अनुसार विद्यालयों के रख-रखाव के लिए भूमि को क्या कहा जाता था?

- Ans
- 1. वेल्लनवगाई
  - 2. देवदान
  - 3. ब्रह्मदेय
  - 4. शालाभोग

Question ID : 264330115458  
Status : Answered  
Chosen Option : 4

Q.7 The principle of Fundamental Rights in the Indian Constitution has been borrowed from which of the following countries?

- Ans
- 1. Canada
  - 2. South Africa
  - 3. United States of America
  - 4. United Kingdom

Question ID : 26433091447  
Status : Answered  
Chosen Option : 3

Q.8 सितंबर 2022 में, मेडागास्कर गणराज्य में भारत के राजदूत के रूप में किसे नामित किया गया?

- Ans
- 1. बंडारू विल्सनबाबू
  - 2. अभय कुमार
  - 3. नवीन श्रीवास्तव
  - 4. मनप्रीत वोहरा

Question ID : 264330115003  
Status : Answered  
Chosen Option : 3

Q.9 भारत में, किसके द्वारा मुख्यमंत्री की नियुक्ति की जाती है?

- Ans
- 1. राष्ट्रपति
  - 2. प्रधानमंत्री
  - 3. राज्यपाल
  - 4. उप राष्ट्रपति

Question ID : 26433089185  
Status : Answered  
Chosen Option : 3

Q.10 Roads linking a state capital with different district headquarters are known as \_\_\_\_\_.  
These roads are constructed and maintained by the State Public Works Department (PWD) in State and Union Territories.

- Ans
- 1. District Roads
  - 2. National Highways
  - 3. Border Roads
  - 4. State Highways

Question ID : 264330115547  
Status : Answered  
Chosen Option : 4

Q.11 भारत सरकार ने वर्ष \_\_\_\_\_ में एक अधिनियम पारित करके, तत्कालीन जम्मू और कश्मीर राज्य की विशेष संवैधानिक स्थिति को रद्द कर दिया।

- Ans
- 1. 2021
  - 2. 2014
  - 3. 2018
  - 4. 2019

Question ID : 264330116228  
Status : Answered  
Chosen Option : 3

Q.12 साजिबु चेराओबा भारतीय राज्य \_\_\_\_\_ में सनमाहिज्म (Sanamahism) धर्म का पालन करने वाले लोगों का चंद्र नव वर्ष उत्सव है।

- Ans
- 1. सिक्किम
  - 2. मणिपुर
  - 3. असम
  - 4. अरुणाचल प्रदेश

Question ID : 264330115116  
Status : Answered  
Chosen Option : 2

Q.13 निम्नलिखित में से किस खिलाड़ी ने भारत के लिए क्रिकेट टेस्ट मैच में पहला शतक बनाया था?

- Ans
- 1. विनू मांकड़
  - 2. लाला अमरनाथ
  - 3. सी के नायडू
  - 4. पंकज राय

Question ID : 264330116299  
Status : Answered  
Chosen Option : 2

Q.14 मक्का और धान की फसलों की कटाई के दौरान किया जाने वाला हुरका बाउल (Hurka Baul) नृत्य मुख्यतः एक कथात्मक नृत्य रूप है। यह निम्नलिखित में से किस राज्य से संबंधित है?

- Ans  1. उत्तराखंड  
 2. पंजाब  
 3. ओडिशा  
 4. पश्चिम बंगाल

Question ID : 264330115065  
Status : Answered  
Chosen Option : 4

Q.15 आईओसी (IOC) के अंतर्गत पहला आधुनिक ओलंपिक खेल कहाँ आयोजित हुआ था?

- Ans  1. सिडनी में  
 2. एथेंस में  
 3. टोक्यो में  
 4. ब्रिस्बेन में

Question ID : 26433071559  
Status : Answered  
Chosen Option : 4

Q.16 How does white silver chloride turn grey in sunlight?

- Ans  1. Due to the decomposition of silver chloride into silver and chlorine by light  
 2. Due to redox reaction  
 3. Due to the displacement of silver chloride to silver oxide  
 4. Due to rusting of silver in the presence of oxygen

Question ID : 26433087845  
Status : Answered  
Chosen Option : 3

Q.17 NABARD का पूर्ण रूप क्या है?

- Ans  1. National Bank for Architecture and Rural Development (नेशनल बैंक फॉर आर्किटेक्चर एंड रूरल डेवलपमेंट)  
 2. National Bank for Agriculture and River Development (नेशनल बैंक फॉर एग्रीकल्चर एंड रिवर डेवलपमेंट)  
 3. National Body for Agriculture and Rural Development (नेशनल बॉडी फॉर एग्रीकल्चर एंड रूरल डेवलपमेंट)  
 4. National Bank for Agriculture and Rural Development (नेशनल बैंक फॉर एग्रीकल्चर एंड रूरल डेवलपमेंट)

Question ID : 264330115300  
Status : Answered  
Chosen Option : 4

Q.18 काम के अधिकार को लागू करने के लिए भारत की केंद्र सरकार द्वारा महात्मा गांधी राष्ट्रीय ग्रामीण रोजगार गारंटी अधिनियम किस वर्ष में अधिनियमित किया गया था?

- Ans  1. 2006  
 2. 2007  
 3. 2009  
 4. 2005

Question ID : 264330116080  
Status : Not Answered  
Chosen Option : --

Q.19 Iron and steel are \_\_\_\_\_ industry.

- Ans
- 1. agriculture
  - 2. handloom
  - 3. agro-based
  - 4. mineral-based

Question ID : 264330115404  
Status : Answered  
Chosen Option : 4

Q.20 भारत में हरित क्रांति में उच्च उपज देने वाली किस्मों के बीजों के प्रयोग की मुख्य आवश्यकता क्या थी?

- Ans
- 1. फसल उगाने की पुरानी पद्धति का उपयोग
  - 2. पानी की अनियमित आपूर्ति का उपयोग
  - 3. स्थानीय बीजों का उपयोग
  - 4. उर्वरक और कीटनाशक का उपयोग

Question ID : 26433054625  
Status : Answered  
Chosen Option : 4

Section : Part-C-Elementary Mathematics

Q.1 6 के वर्ग, 4 के घन और 24 का लघुत्तम समापवर्त्य ज्ञात करें।

- Ans
- 1. 288
  - 2. 1152
  - 3. 576
  - 4. 144

Question ID : 264330116657  
Status : Answered  
Chosen Option : 3

Q.2 यदि  $k + 3$ ,  $k + 2$ ,  $3k - 7$ ,  $2k - 3$  दिए गए क्रम में समानुपात में हों, तो चौथे समानुपाती का न्यूनतम मान क्या होगा?

- Ans
- 1. -7
  - 2. -5
  - 3. 5
  - 4. 7

Question ID : 26433090255  
Status : Answered  
Chosen Option : 4

Q.3 13 घंटे की यात्रा के लिए कार की औसत चाल (किमी/घंटा में) क्या होगी, यदि यह पहले 3 घंटे के लिए 50 किमी/घंटा, अगले 4 घंटे के लिए 60 किमी/घंटा और अंतिम 6 घंटे के लिए 65 किमी/घंटा से चलती है?

- Ans
- 1. 60
  - 2. 65
  - 3. 62.5
  - 4. 65.5

Question ID : 26433075906  
Status : Answered  
Chosen Option : 1

Q.4 एक तेज़ ट्रेन 192 किमी की यात्रा के लिए, धीमी ट्रेन से 2 घंटे कम समय लेती है। यदि धीमी ट्रेन की चाल, तेज़ ट्रेन की चाल से 16 किमी/घंटा कम है, तो क्रमशः धीमी और तेज़ ट्रेनों की चाल ज्ञात करें।

- Ans
- 1. 32 किमी/घंटा, 48 किमी/घंटा
  - 2. 28 किमी/घंटा, 34 किमी/घंटा
  - 3. 30 किमी/घंटा, 40 किमी/घंटा
  - 4. 48 किमी/घंटा, 64 किमी/घंटा

Question ID : 26433075394  
Status : Answered  
Chosen Option : 1

Q.5 A dealer gives an additional concession of 25% on an item that already has a discount of 20% on the marked price. If a buyer pays ₹1,500 for the item, then find the marked price.

- Ans
- 1. ₹2,225
  - 2. ₹2,000
  - 3. ₹1,875
  - 4. ₹2,500

Question ID : 26433090324  
Status : Answered  
Chosen Option : 4

Q.6 What is the volume of a cone having radius 7 cm and slant height 25 cm? Take  $\pi = \frac{22}{7}$

- Ans
- 1. 1,323 cm<sup>3</sup>
  - 2. 1,223 cm<sup>3</sup>
  - 3. 1,232 cm<sup>3</sup>
  - 4. 1,322 cm<sup>3</sup>

Question ID : 26433076252  
Status : Answered  
Chosen Option : 3

Q.7 एक कस्बे की जनसंख्या में सालाना 20% की वृद्धि होती है। यदि 4 वर्ष पहले जनसंख्या 62,500 थी, तो वर्तमान जनसंख्या कितनी है?

- Ans
- 1. 1,29,600
  - 2. 1,29,800
  - 3. 1,29,900
  - 4. 1,29,700

Question ID : 26433082981  
Status : Answered  
Chosen Option : 1

Q.8 15%, 20% और 24% की क्रमिक छूटों के लिए समतुल्य एकल छूट कितनी होगी?

- Ans  1. 46.56%  
 2. 48.32%  
 3. 41.35%  
 4. 44.25%

Question ID : 26433066308  
Status : Answered  
Chosen Option : 2

Q.9 वह सबसे बड़ी संख्या क्या है जिससे क्रमशः 73 और 98 को विभाजित करने पर 4 और 6 शेष बचता है?

- Ans  1. 23  
 2. 13  
 3. 1  
 4. 46

Question ID : 26433075044  
Status : Answered  
Chosen Option : 1

Q.10 एक संख्या में 10% की वृद्धि की जाती है और बढ़ी हुई संख्या में 20% की कमी की जाती है। मूल संख्या में हुए परिवर्तन का शुद्ध प्रतिशत ज्ञात करें।

- Ans  1. 12% कमी  
 2. 8% कमी  
 3. 12% वृद्धि  
 4. 8% वृद्धि

Question ID : 26433075098  
Status : Answered  
Chosen Option : 1

Q.11 एक वस्तु के मूल्य में 30% की वृद्धि की जाती है और फिर 30% की कमी की जाती है। वस्तु के अंतिम मूल्य में शुद्ध प्रतिशत परिवर्तन ज्ञात कीजिए।

- Ans  1. 9% की वृद्धि  
 2. 12% की वृद्धि  
 3. 9% की कमी  
 4. 12% की कमी

Question ID : 26433079769  
Status : Answered  
Chosen Option : 3

Q.12 एक वाहन द्वारा एक निश्चित दूरी को एक निश्चित चाल से तय किया जाता है। यदि उस दूरी के आधे भाग को किसी दूसरे वाहन द्वारा दोगुने समय में तय किया गया है, तो दोनों वाहनों की चालों का अनुपात है।

- Ans  1. 4 : 1  
 2. 2 : 1  
 3. 6 : 1  
 4. 3 : 1

Question ID : 26433063949  
Status : Answered  
Chosen Option : 1

Q.13 एक निश्चित अवधि के लिए ₹2,300 की राशि पर 10% वार्षिक की दर से वार्षिक रूप से चक्रवृद्धि किया जाने वाला चक्रवृद्धि ब्याज ₹483 है। वर्षों में अवधि ज्ञात करें।

- Ans
- 1. 2 वर्ष 6 महीने
  - 2. 2 वर्ष
  - 3. 1 वर्ष 9 महीने
  - 4. 3 वर्ष

Question ID : 26433076228  
Status : Answered  
Chosen Option : 2

Q.14 एक अर्धगोले की त्रिज्या 42 cm है। इसके वक्र पृष्ठीय क्षेत्रफल का आधा ज्ञात कीजिए ( $\pi = \frac{22}{7}$ )।

- Ans
- 1. 5544 cm<sup>2</sup>
  - 2. 2772 cm<sup>2</sup>
  - 3. 3663 cm<sup>2</sup>
  - 4. 4554 cm<sup>2</sup>

Question ID : 26433075748  
Status : Answered  
Chosen Option : 2

Q.15 प्रीति 36 दिनों में एक कार्य कर सकती है। अनु उसी कार्य को 30 दिनों में कर सकती है। यदि प्रीति और अनु एक साथ कार्य शुरू करती हैं लेकिन अनु काम पूरा होने से 3 दिन पहले काम छोड़ देती है, तो दिनों की संख्या ज्ञात करें जिसमें कुल कार्य पूरा हुआ।

- Ans
- 1. 11 दिन
  - 2. 18 दिन
  - 3. 16 दिन
  - 4. 14 दिन

Question ID : 264330116912  
Status : Answered  
Chosen Option : 2

Q.16 यदि A और B के तृतीयानुपाती तथा A, B और C के चतुर्थानुपाती का अनुपात 3 : 4 है, तो B : C का अनुपात \_\_\_\_\_ है।

- Ans
- 1. 5 : 4
  - 2. 3 : 4
  - 3. 4 : 5
  - 4. 4 : 3

Question ID : 26433080117  
Status : Answered  
Chosen Option : 4

Q.17 5 पुरुष एक काम को 2 दिनों में पूरा कर सकते हैं, 4 महिलाएं उसे 3 दिनों में कर सकती हैं और 5 बच्चे उसे 3 दिनों में पूरा कर सकते हैं। 1 पुरुष, 1 महिला और 1 बच्चा तीनों मिलकर उसी काम को कितने दिनों में पूरा करेंगे?

- Ans
- 1. 10 दिन
  - 2. 6 दिन
  - 3. 8 दिन
  - 4. 4 दिन

Question ID : 26433076048  
Status : Answered  
Chosen Option : 4

Q.18 नींबू Rs.2 में 3 की दर से खरीदे जाते हैं और Rs.3 में 2 की दर से बेचे जाते हैं। लाभ प्रतिशत ज्ञात कीजिए।

- Ans  1. 125%  
 2. 128%  
 3. 115%  
 4. 120%

Question ID : 26433075148  
Status : Answered  
Chosen Option : 1

Q.19 एक खेप माल का तीन चौथाई भाग 6% लाभ पर और शेष माल 3% की हानि पर बेचा गया। यदि कुल लाभ Rs.600 है, तो उस खेप माल का क्रय मूल्य (Rs. में) \_\_\_\_\_ है।

- Ans  1. Rs.14,000  
 2. Rs.18,000  
 3. Rs.16,000  
 4. Rs.22,000

Question ID : 26433073006  
Status : Answered  
Chosen Option : 3

Q.20 एक कारखाने में लगातार 5 महीने में 7482, 8952, 6524, 8432 और 6562 इकाइयों का उत्पादन होता है। छठे महीने में कितनी इकाइयों का उत्पादन किया जाना चाहिए, ताकि 6 महीने का औसत उत्पादन 7200 हो जाए?

- Ans  1. 5812  
 2. 4912  
 3. 5248  
 4. 5420

Question ID : 26433079995  
Status : Answered  
Chosen Option : 3

Section : Part-D-English

Q.1 Select the most appropriate ANTONYM of the word given in the brackets to fill in the blank.

Don't try to walk \_\_\_\_\_ (after) you can crawl.

- Ans  1. before  
 2. later  
 3. already  
 4. soon

Question ID : 26433088852  
Status : Answered  
Chosen Option : 1



Q.2 Select the most appropriate meaning of the given idiom.

At the drop of a hat

- Ans  1. Do something immediately without hesitation  
 2. Refuse to do something  
 3. Force someone to behave in a disciplined manner  
 4. Extremely pleased about something

Question ID : 26433072685  
Status : Answered  
Chosen Option : 4

Q.3 Select the most appropriate option to fill in the blanks in the given sentence.

I \_\_\_\_\_ the gift of my aunt and she \_\_\_\_\_ money from my father.

- Ans  1. accepted; expected  
 2. excepted; expected  
 3. accepted; excepted  
 4. excepted; accepted

Question ID : 26433084773  
Status : Answered  
Chosen Option : 1

Q.4 The sentence given below has one misspelt word. Spot the INCORRECTLY spelt word and select its correct spelling.

A unanimous consent of all the shareholders was required to approve the merger.

- Ans  1. Unanemous  
 2. Ananimous  
 3. Unanimous  
 4. Anenimous

Question ID : 26433073561  
Status : Answered  
Chosen Option : 2

Q.5 Select the most appropriate meaning of the highlighted idiom in the given sentence.

The marriage of my elder brother has been **on the cards** for some time now.

- Ans  1. Improbable  
 2. Probable  
 3. Stuck  
 4. Certain

Question ID : 264330108897  
Status : Answered  
Chosen Option : 2

Q.6 Select the most appropriate option to fill in the blank.

There is only one thing that \_\_\_\_\_ with us that cannot be taken away: to act with courage and dignity and to stick to the ideals that have given meaning to life.

- Ans
- 1. have remained
  - 2. remains
  - 3. remaining
  - 4. remained

Question ID : 26433092114  
Status : Answered  
Chosen Option : 4

Q.7 Select the most appropriate option that can substitute the underlined segment in the given sentence. If there is no need to substitute it, select 'No substitution'.

You should take your car in for a service because it has starting to make weird noises.

- Ans
- 1. because it had starting to make weird noises
  - 2. because it has start to make weird noises
  - 3. No substitution
  - 4. because it's starting to make weird noises

Question ID : 264330101021  
Status : Answered  
Chosen Option : 4

Q.8 Select the most appropriate synonym of the underlined word in the given sentence.

In his moment of despair, I am with him.

- Ans
- 1. contentment
  - 2. hope
  - 3. misery
  - 4. beliefs

Question ID : 26433092105  
Status : Answered  
Chosen Option : 1

Q.9 Select the most appropriate synonym of the word 'liberate' from the following sentence.

There is a famous saying by Rousseau which says that man is born free but he is surrounded by the clutches of slavery in society.

- Ans
- 1. Clutches
  - 2. Slavery
  - 3. Free
  - 4. Surrounded

Question ID : 26433072264  
Status : Answered  
Chosen Option : 3

Q.10 Select the most appropriate option that can substitute the underlined segment in the given sentence. If there is no need to substitute it, select 'No substitution required'.

Rosie became an expert in the field of painting by her.

- Ans
- 1. paint by himself
  - 2. painting by herself
  - 3. No substitution required
  - 4. painted by herself

Question ID : 26433088561  
Status : Answered  
Chosen Option : 2

Q.11 Select the most appropriate ANTONYM of the given word.

Courtesy

- Ans
- 1. Crudeness
  - 2. Modulate
  - 3. Decline
  - 4. Generosity

Question ID : 26433090792  
Status : Answered  
Chosen Option : 1

Q.12 Select the most appropriate synonym of the given word.

Cheerless

- Ans
- 1. Strong
  - 2. Clear
  - 3. Gloomy
  - 4. Bright

Question ID : 26433074043  
Status : Answered  
Chosen Option : 3

Q.13 Parts of the following sentence have been given as options. Select the option that contains an error.

The instructions on the bottle say – open the packet and poured the contents into hot water.

- Ans
- 1. say – open the packet and
  - 2. poured the contents
  - 3. into hot water
  - 4. The instructions on the bottle

Question ID : 26433088470  
Status : Answered  
Chosen Option : 2

Q.14 Select the INCORRECTLY spelt word.

- Ans  1. Jeopardy  
 2. Demolish  
 3. Discard  
 4. Discersive

Question ID : 26433073654  
Status : Answered  
Chosen Option : 4

Q.15 Select the word that is OPPOSITE in meaning to the given word.

**Benevolent**

- Ans  1. Magnanimous  
 2. Unsparing  
 3. Benign  
 4. Malevolent

Question ID : 26433074427  
Status : Answered  
Chosen Option : 4

**Comprehension:**

In the following passage, some words have been deleted. Read the passage carefully and select the most appropriate option to fill in each blank.

The effect (1)\_\_\_\_\_ on the mind by travelling depends entirely on the mind of the traveller and on the way in which he conducts himself. The chief idea of one very common type of traveller is to see as many objects of (2)\_\_\_\_\_ as he possibly can. If he can only after his return home say that he has seen such and such a temple, castle, picture gallery, or museum, he is perfectly (3)\_\_\_\_\_. Therefore, when he arrives at a famous city, he (4)\_\_\_\_\_ it, so that he may get over as quickly as possible the task of seeing its principal sights, entered them by name in his notebook as visited or, in his own phraseology 'done', then hurry on to another city which he treats in the same (5)\_\_\_\_\_ way.

**SubQuestion No : 16**

Q.16 Select the most appropriate option to fill in blank number 1.

- Ans  1. appeared  
 2. created  
 3. produced  
 4. ingrained

Question ID : 26433089094  
Status : Answered  
Chosen Option : 2

**Comprehension:**

In the following passage, some words have been deleted. Read the passage carefully and select the most appropriate option to fill in each blank.

The effect (1)\_\_\_\_\_ on the mind by travelling depends entirely on the mind of the traveller and on the way in which he conducts himself. The chief idea of one very common type of traveller is to see as many objects of (2)\_\_\_\_\_ as he possibly can. If he can only after his return home say that he has seen such and such a temple, castle, picture gallery, or museum, he is perfectly (3)\_\_\_\_\_. Therefore, when he arrives at a famous city, he (4)\_\_\_\_\_ it, so that he may get over as quickly as possible the task of seeing its principal sights, entered them by name in his notebook as visited or, in his own phraseology 'done', then hurry on to another city which he treats in the same (5)\_\_\_\_\_ way.

**SubQuestion No : 17**

**Q.17 Select the most appropriate option to fill in blank number 2.**

- Ans  1. variety  
 2. interest  
 3. rarity  
 4. desire

Question ID : 26433089095  
Status : Answered  
Chosen Option : 1

**Comprehension:**

In the following passage, some words have been deleted. Read the passage carefully and select the most appropriate option to fill in each blank.

The effect (1)\_\_\_\_\_ on the mind by travelling depends entirely on the mind of the traveller and on the way in which he conducts himself. The chief idea of one very common type of traveller is to see as many objects of (2)\_\_\_\_\_ as he possibly can. If he can only after his return home say that he has seen such and such a temple, castle, picture gallery, or museum, he is perfectly (3)\_\_\_\_\_. Therefore, when he arrives at a famous city, he (4)\_\_\_\_\_ it, so that he may get over as quickly as possible the task of seeing its principal sights, entered them by name in his notebook as visited or, in his own phraseology 'done', then hurry on to another city which he treats in the same (5)\_\_\_\_\_ way.

**SubQuestion No : 18**

**Q.18 Select the most appropriate option to fill in blank number 3.**

- Ans  1. enjoyed  
 2. happy  
 3. amused  
 4. satisfied

Question ID : 26433089096  
Status : Answered  
Chosen Option : 1

**Comprehension:**

In the following passage, some words have been deleted. Read the passage carefully and select the most appropriate option to fill in each blank.

The effect (1)\_\_\_\_\_ on the mind by travelling depends entirely on the mind of the traveller and on the way in which he conducts himself. The chief idea of one very common type of traveller is to see as many objects of (2)\_\_\_\_\_ as he possibly can. If he can only after his return home say that he has seen such and such a temple, castle, picture gallery, or museum, he is perfectly (3)\_\_\_\_\_. Therefore, when he arrives at a famous city, he (4)\_\_\_\_\_ it, so that he may get over as quickly as possible the task of seeing its principal sights, entered them by name in his notebook as visited or, in his own phraseology 'done', then hurry on to another city which he treats in the same (5)\_\_\_\_\_ way.

**SubQuestion No : 19**

**Q.19** Select the most appropriate option to fill in blank number 4.

- Ans  1. comes across  
 2. visits  
 3. rushes through  
 4. browses through

Question ID : 26433089097  
Status : Answered  
Chosen Option : 1

**Comprehension:**

In the following passage, some words have been deleted. Read the passage carefully and select the most appropriate option to fill in each blank.

The effect (1)\_\_\_\_\_ on the mind by travelling depends entirely on the mind of the traveller and on the way in which he conducts himself. The chief idea of one very common type of traveller is to see as many objects of (2)\_\_\_\_\_ as he possibly can. If he can only after his return home say that he has seen such and such a temple, castle, picture gallery, or museum, he is perfectly (3)\_\_\_\_\_. Therefore, when he arrives at a famous city, he (4)\_\_\_\_\_ it, so that he may get over as quickly as possible the task of seeing its principal sights, entered them by name in his notebook as visited or, in his own phraseology 'done', then hurry on to another city which he treats in the same (5)\_\_\_\_\_ way.

**SubQuestion No : 20**

**Q.20** Select the most appropriate option to fill in blank number 5.

- Ans  1. nonchalant  
 2. disinterest  
 3. unceremonious  
 4. lack lustre

Question ID : 26433089098  
Status : Answered  
Chosen Option : 3

Section : Part-D-Hindi

**Q.1** नुक्ता बीनी करना। रेखांकित शब्द के स्थान पर मुहावरा होगा-

- Ans  1. ऋणी  
 2. मिनी  
 3. चीनी  
 4. पीनी

Question ID : 26433062818  
Status : Not Answered  
Chosen Option : --

Q.2 निम्नलिखित में से शुद्ध वाक्य है-

- Ans  1. गोपियों किसन की राह में आंखें बिछाए बैठी थीं।  
 2. गोपियां कृष्ण की राह में आंखें बिछाए बैठी थीं।  
 3. गोपियां कृष्ण की राह में आंखें बिठाकर बैठी थीं।  
 4. गोपियां कृष्ण की रोह में आंखें बिछाए बैठी थीं।

Question ID : 26433066846  
Status : Not Answered  
Chosen Option : --

Q.3 दिए गए वाक्य के रेखांकित शब्द को उचित विकल्प से परिवर्तित करें।

अभी तक हिंदी के अनेक शब्दों की वर्तनी व्यवस्थित नहीं है।

- Ans  1. शाश्वत  
 2. सुगठित  
 3. स्थित  
 4. स्थिर

Question ID : 26433069916  
Status : Not Answered  
Chosen Option : --

Q.4 निम्नलिखित में से कौन-सी, अकर्मक क्रिया नहीं है?

- Ans  1. उगना  
 2. जागना  
 3. खाता  
 4. उड़ना

Question ID : 26433085038  
Status : Not Answered  
Chosen Option : --

Q.5 जो देने योग्य हो।

दिए गए वाक्यांश के लिए एक शब्द होगा-

- Ans  1. अदेय  
 2. देय  
 3. प्रदाता  
 4. निर्दय

Question ID : 26433070055  
Status : Not Answered  
Chosen Option : --

Q.6 निम्न में से किस शब्द में वर्तनी की अशुद्धि है?

- Ans  1. दृष्टि  
 2. आकृष्ट  
 3. व्यावहारिक  
 4. सोडर्षी

Question ID : 26433067110  
Status : Not Answered  
Chosen Option : --

Q.7 निम्न समानार्थी शब्दों में से उचित शब्द का प्रयोग करके दिए गए वाक्य के रिक्त स्थान की पूर्ति करें।  
कैदियों ने अपनी माँगें पूरी न होने पर जेल में \_\_\_\_\_ करने की धमकी दी है।

- Ans  1. अनशन  
 2. व्रत  
 3. फाका  
 4. उपवास

Question ID : 26433062933  
Status : Not Answered  
Chosen Option : --

Q.8 रेखांकित अंश के स्थान पर सबसे उपयुक्त विकल्प दिए गए विकल्पों में से कौन-सा है?

तलवार एक उपयोगी अस्त्र है।

- Ans  1. शस्त्र  
 2. द्रव्य  
 3. निरस्त्र  
 4. वस्त्र

Question ID : 26433066874  
Status : Not Answered  
Chosen Option : --

Q.9 निम्नलिखित विकल्पों में से कौन-से वाक्य में संख्यावाचक विशेषण का उचित प्रयोग नहीं किया गया है?

- Ans  1. वहीदा बड़ी शैतान लड़की है।  
 2. पाँचवें दिन तक पानी का बरसना जारी रहा।  
 3. शुभम का दिमाग दस गुना तेज चलता है।  
 4. भारत का हर दूसरा आदमी बुद्धिमान है।

Question ID : 26433062969  
Status : Not Answered  
Chosen Option : --

Q.10 वाक्य में रेखांकित शब्द को दिए गए शब्दों में से उचित शब्द से बदलें।  
विषयों में अनुराग होने से सर्वनाश होता है।

- Ans  1. प्रेम  
 2. मैत्री  
 3. आसक्ति  
 4. स्नेह

Question ID : 26433062876  
Status : Not Answered  
Chosen Option : --

Q.11 'असुर' का पर्यायवाची शब्द है-

- Ans  1. दनुज  
 2. कृशानु  
 3. मनुज  
 4. अनुज

Question ID : 26433062913  
Status : Not Answered  
Chosen Option : --



Q.12 'जातीय' शब्द का विलोम क्या होगा?

- Ans
- 1. कुजातीय
  - 2. अनजातीय
  - 3. प्रजातीय
  - 4. विजातीय

Question ID : 26433067094  
Status : Not Answered  
Chosen Option : --

Q.13 सिंह को देखकर मोनू के होश उड़ गए।

रेखांकित शब्द के उचित पर्यायवाची शब्द का चयन कीजिए।

- Ans
- 1. दैत्य
  - 2. व्याघ्र
  - 3. धनद
  - 4. वासव

Question ID : 26433079726  
Status : Not Answered  
Chosen Option : --

Q.14 'जिस पर किसी का नियंत्रण न हो' इस वाक्यांश के लिए सार्थक शब्द है -

- Ans
- 1. निरंकुश
  - 2. नियंत्रित
  - 3. निःस्पृह
  - 4. निरामिष

Question ID : 26433062338  
Status : Not Answered  
Chosen Option : --

Q.15 'घर बसाना' मुहावरे का उचित अर्थ है-

- Ans
- 1. विवाह करना
  - 2. घर में ही रहना
  - 3. घर के अंदर जाना
  - 4. नया घर बनाना

Question ID : 26433065882  
Status : Not Answered  
Chosen Option : --

**Comprehension:**

निम्नलिखित गद्यांश में से कुछ शब्द हटा दिए गए हैं। दिए गए विकल्पों की सहायता से रिक्त स्थानों की पूर्ति कीजिए। प्रत्येक संख्या के लिए उपयुक्त विकल्प का चयन कीजिए।

मेरा विचार है 1. \_\_\_\_\_ एक ही खुराक 2. \_\_\_\_\_ के बाद तबीयत ठीक 3. \_\_\_\_\_ जाएगी। कभी-कभी हवा रुक 4. \_\_\_\_\_ है और फंदा डाल लेती है। बस 5. \_\_\_\_\_ की ऐंठन है।

**SubQuestion No : 16**

Q.16 रिक्त स्थान 1 की पूर्ति के लिए सर्वाधिक उपयुक्त विकल्प का चयन कीजिए।

- Ans  1. का  
 2. कि  
 3. की  
 4. के

Question ID : 26433069756  
Status : Not Answered  
Chosen Option : --

**Comprehension:**

निम्नलिखित गद्यांश में से कुछ शब्द हटा दिए गए हैं। दिए गए विकल्पों की सहायता से रिक्त स्थानों की पूर्ति कीजिए। प्रत्येक संख्या के लिए उपयुक्त विकल्प का चयन कीजिए।

मेरा विचार है 1. \_\_\_\_\_ एक ही खुराक 2. \_\_\_\_\_ के बाद तबीयत ठीक 3. \_\_\_\_\_ जाएगी। कभी-कभी हवा रुक 4. \_\_\_\_\_ है और फंदा डाल लेती है। बस 5. \_\_\_\_\_ की ऐंठन है।

**SubQuestion No : 17**

Q.17 रिक्त स्थान 2 की पूर्ति के लिए सर्वाधिक उपयुक्त विकल्प का चयन कीजिए।

- Ans  1. पीया  
 2. पीने  
 3. पीना  
 4. पीनी

Question ID : 26433069757  
Status : Not Answered  
Chosen Option : --

**Comprehension:**

निम्नलिखित गद्यांश में से कुछ शब्द हटा दिए गए हैं। दिए गए विकल्पों की सहायता से रिक्त स्थानों की पूर्ति कीजिए। प्रत्येक संख्या के लिए उपयुक्त विकल्प का चयन कीजिए।

मेरा विचार है 1. \_\_\_\_\_ एक ही खुराक 2. \_\_\_\_\_ के बाद तबीयत ठीक 3. \_\_\_\_\_ जाएगी। कभी-कभी हवा रुक 4. \_\_\_\_\_ है और फंदा डाल लेती है। बस 5. \_\_\_\_\_ की ऐंठन है।

**SubQuestion No : 18**

Q.18 रिक्त स्थान 3 की पूर्ति के लिए सर्वाधिक उपयुक्त विकल्प का चयन कीजिए।

- Ans  1. होगी  
 2. ही  
 3. होनी  
 4. हो

Question ID : 26433069758  
Status : Not Answered  
Chosen Option : --

**Comprehension:**

निम्नलिखित गद्यांश में से कुछ शब्द हटा दिए गए हैं। दिए गए विकल्पों की सहायता से रिक्त स्थानों की पूर्ति कीजिए। प्रत्येक संख्या के लिए उपयुक्त विकल्प का चयन कीजिए।

मेरा विचार है 1. \_\_\_\_\_ एक ही खुराक 2. \_\_\_\_\_ के बाद तबीयत ठीक 3. \_\_\_\_\_ जाएगी। कभी-कभी हवा रुक 4. \_\_\_\_\_ है और फंदा डाल लेती है। बस 5. \_\_\_\_\_ की ऐंठन है।

**SubQuestion No : 19**

**Q.19** रिक्त स्थान 4 की पूर्ति के लिए सर्वाधिक उपयुक्त विकल्प का चयन कीजिए।

- Ans**
- 1. जानी
  - 2. जाते
  - 3. जाती
  - 4. जाता

Question ID : 26433069759  
Status : Not Answered  
Chosen Option : --

**Comprehension:**

निम्नलिखित गद्यांश में से कुछ शब्द हटा दिए गए हैं। दिए गए विकल्पों की सहायता से रिक्त स्थानों की पूर्ति कीजिए। प्रत्येक संख्या के लिए उपयुक्त विकल्प का चयन कीजिए।

मेरा विचार है 1. \_\_\_\_\_ एक ही खुराक 2. \_\_\_\_\_ के बाद तबीयत ठीक 3. \_\_\_\_\_ जाएगी। कभी-कभी हवा रुक 4. \_\_\_\_\_ है और फंदा डाल लेती है। बस 5. \_\_\_\_\_ की ऐंठन है।

**SubQuestion No : 20**

**Q.20** रिक्त स्थान 5 की पूर्ति के लिए सर्वाधिक उपयुक्त विकल्प का चयन कीजिए।

- Ans**
- 1. उनके
  - 2. उसी
  - 3. उसके
  - 4. उसकी

Question ID : 26433069760  
Status : Not Answered  
Chosen Option : --