

Constable GD in CAPFs SSF Rifleman GD in Assam Rifles and Sepoy in NCB Examination 2022

Roll Number	www.govtjobsalert.in
Candidate Name	www.govtjobsalert.in
Venue Name	iON Digital Zone IDZ Trichy II
Exam Date	31/01/2023
Exam Time	11:45 AM - 12:45 PM
Subject	Constable GD Examination 2022

Section : Part-A-General Intelligence and Reasoning

Q.1 In a code language, 'dark colors' is coded as 'yu nu', 'days are bright' is coded as 'wu tu ku', 'nights are dark' is coded as 'ku nu pu', 'paint bright' is coded as 'wu ru'. What is the code for the word 'nights'?

- Ans
- 1. nu
 - 2. pu
 - 3. yu
 - 4. ku

Question ID : 26433082275
Status : Answered
Chosen Option : 2

Q.2 Select the option that is related to the fifth letter-cluster in the same way as the second letter-cluster is related to the first letter-cluster and the fourth letter-cluster is related to the third letter-cluster.

FVL : MXI :: PCJ : KES :: DKN : ?

- Ans
- 1. PMH
 - 2. PNH
 - 3. OMG
 - 4. ONG

Question ID : 26433057889
Status : Answered
Chosen Option : 3

Q.3 If '+' means '÷', '-' means '+', 'x' means '-' and '÷' means 'x', what will be the value of the following expression?

$[{(49 \times 12) - (6 \div 2)} + (4 - 3)] \div 5$

- Ans
- 1. 10
 - 2. 35
 - 3. 2
 - 4. 1

Question ID : 26433086259
Status : Answered
Chosen Option : 2

Q.4 In a certain code language,
 'A + B' means 'A is the brother of B',
 'A - B' means 'A is the mother of B',
 'A × B' means 'A is the father of B' and
 'A ÷ B' means 'A is the son of B'.
 If $P \times Q \times R + D \div S - B$, then which of the following statements is NOT correct?

- Ans
- 1. R is B's brother.
 - 2. Q is B's father.
 - 3. P is B's mother's father.
 - 4. R is P's son's son.

Question ID : 26433070374
 Status : Answered
 Chosen Option : 3

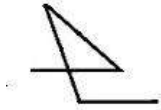
Q.5 Select the correct mirror image of the given pattern when the mirror is placed at MN as shown.



- Ans
- 1. 8JAIT16qE
 - 2. 9parTIAL8
 - 3. JA8IT16qE
 - 4. T16qEIAL8

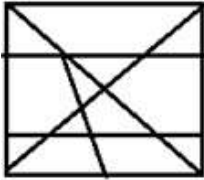
Question ID : 26433082902
 Status : Answered
 Chosen Option : 1

Q.6 Select the option figure in which the given figure is embedded as its part (rotation is not allowed).

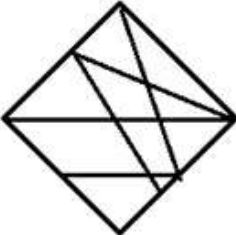


Ans

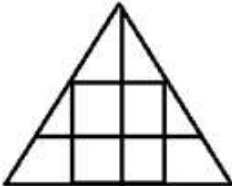
✓ 1.



✗ 2.



✗ 3.



✗ 4.



Question ID : 26433069539

Status : Answered

Chosen Option : 1

Q.7 Which letter-cluster will replace the question mark (?) to complete the given series?
ETAX, FRDT, GPGP, ?, ILMH

Ans ✓ 1. HNJL

✗ 2. HMJI

✗ 3. HNKM

✗ 4. HMNI

Question ID : 26433068573

Status : Answered

Chosen Option : 1

Q.8 Which of the following numbers will replace the question mark (?) in the given series?
9, 35, 91, 189, 341, ?

- Ans
- 1. 1210
 - 2. 497
 - 3. 559
 - 4. 713

Question ID : 26433082001

Status : Not Attempted and
Marked For Review

Chosen Option : --

Q.9 Select the letter-cluster from among the given options that can replace the question mark (?) in the following series.
BELF, WZTN, RUBV, ?, HKRL

- Ans
- 1. MGDV
 - 2. TJLS
 - 3. TBDE
 - 4. MPJD

Question ID : 26433074755

Status : Answered

Chosen Option : 4

Q.10 Select the option that is related to the fourth term in the same way as the first term is related to the second term and the fifth term is related to the sixth term.
6 : 109 :: ? : 257 :: 10 : 501

- Ans
- 1. 8
 - 2. 12
 - 3. 11
 - 4. 9

Question ID : 26433069088

Status : Not Attempted and
Marked For Review

Chosen Option : --

Q.11 Five people E, F, G, H and I are sitting in a straight row, facing north. There are only three people sitting to the left of H and only three people sitting to the right of F. E sits on the immediate left of F and only two people sit on the left of G. Who is sitting on the extreme right end of the row?

- Ans
- 1. G
 - 2. I
 - 3. F
 - 4. E

Question ID : 26433056048

Status : Answered

Chosen Option : 2

Q.12 Which of the following numbers will replace the question marks (?) in the given series?

119, 117, 114, 109, ?, 91, ?, 61

- Ans
- 1. 100, 74
 - 2. 107, 68
 - 3. 101, 80
 - 4. 102, 78

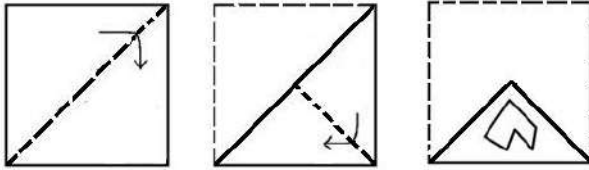
Question ID : 26433070223

Status : Answered


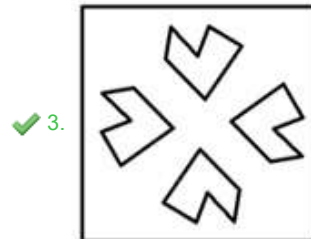
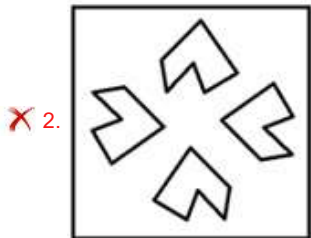
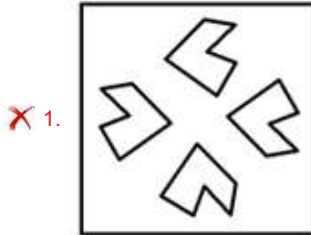
Chosen Option : 4

WWW.GOVtjobsalert.in

Q.13 The following figures show the sequence of folding a piece of paper. The last figure shows the manner in which the folded paper has been cut. Select the figure which would most closely resemble the unfolded form of the paper.



Ans



Question ID : 26433087094
 Status : Answered
 Chosen Option : 3

Q.14 Three statements are given followed by three conclusions numbered I, II and III. Assuming the statements to be true, even if they seem to be at variance with commonly known facts, decide which of the conclusions logically follow(s) from the statements.

Statements:

All gels are boats.

All pumps are boats.

All boats are ships.

Conclusions:

I. All pumps are ships.

II. All ships are gels.

III. Some ships are pumps.

- Ans
- 1. Only conclusions I and II follow
 - 2. All conclusions follow
 - 3. Only conclusions I and III follow
 - 4. Only conclusions II and III follow

Question ID : 26433082305

Status : Answered

Chosen Option : 3

Q.15 Which of the mathematical signs should be interchanged in the below equation to make it mathematically correct?

$$17 + 112 \div 16 - 8 \times 64 = 175$$

- Ans
- 1. \div and \times
 - 2. $+$ and \div
 - 3. $+$ and \times
 - 4. $+$ and $-$

Question ID : 264330117527

Status : Not Attempted and Marked For Review

Chosen Option : --

Q.16 Which option represents the correct order of the given words as they would appear in the English dictionary?

1 eagle

2 eager

3 eastern

4 earth

5 earring

- Ans
- 1. 2,5,1,3,4
 - 2. 2,5,1,4,3
 - 3. 2,1,5,4,3
 - 4. 2,1,5,3,4

Question ID : 26433069316

Status : Answered

Chosen Option : 3

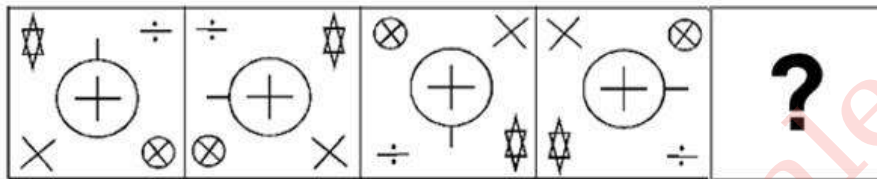
Q.17 Select the option that is related to the third word in the same way as the second word is related to the first word.
 (The words must be considered as meaningful English words and must not be related to each other based on the number of letters/number of consonants/vowels in the word)

New Delhi : India :: Kyiv : ?

- Ans
- 1. Russia
 - 2. Mongolia
 - 3. Moldova
 - 4. Ukraine

Question ID : 26433079477
 Status : Answered
 Chosen Option : 4

Q.18 Select the figure from among the given options that can replace the question mark (?) in the following series.



Ans

- 1.
- 2.
- 3.
- 4.

Question ID : 26433080493
 Status : Answered
 Chosen Option : 1

Q.19 Six students Kabir, Messi, Ronaldo, Sharon, Raj and Moosa are sitting around a circular table facing the centre. Moosa is sitting second to the left of Sharon. Kabir is sitting second to the left of Moosa. Ronaldo is sitting to the immediate left of Kabir. Raj is sitting to the immediate left of Moosa. Messi is an immediate neighbour to Sharon and Moosa. Who is sitting between Ronaldo and Messi?

- Ans
- 1. Raj
 - 2. Moosa
 - 3. Kabir
 - 4. Sharon

Question ID : 26433081786
Status : Answered
Chosen Option : 4

Q.20 In a code language, 'MORBID' is written as '61' and 'PARIAH' is written as '53'. How will 'RAVISHED' be written in that language?

- Ans
- 1. 85
 - 2. 86
 - 3. 88
 - 4. 96

Question ID : 26433068937
Status : Answered
Chosen Option : 2

Section : Part-B-General Knowledge and General awareness

Q.1 Bank rate is the rate at which:

- Ans
- 1. Central Bank borrows loan from Government
 - 2. Commercial banks lend loan to Central bank
 - 3. Commercial banks lend loan to Government
 - 4. Central bank lends loan to commercial banks.

Question ID : 264330115314
Status : Not Attempted and Marked For Review
Chosen Option : --

Q.2 The term Stumping is related to which of the following sports?

- Ans
- 1. Cricket
 - 2. Baseball
 - 3. Tennis
 - 4. Basketball

Question ID : 264330116269
Status : Answered
Chosen Option : 1

Q.3 Who among the following was elected as Member of Rajya Sabha from Himachal Pradesh, India in March 2022?

- Ans
- 1. Jitendra Singh
 - 2. K. G. Kenye
 - 3. Oommen Chandy
 - 4. Sikander Kumar

Question ID : 264330114947
Status : Not Answered
Chosen Option : --

Q.4 Which term did Robert Hooke coin when he observed slices of cork, under a simple magnifying device?

- Ans
- 1. stall
 - 2. brick
 - 3. jail
 - 4. cell

Question ID : 264330115234
Status : Answered
Chosen Option : 4

Q.5 What is the name of Arunachal Pradesh's first greenfield airport?

- Ans
- 1. Kalyani Airport
 - 2. Rajkot Airport
 - 3. Donyi Polo Airport
 - 4. Sindhudurg Airport

Question ID : 264330115561
Status : Not Answered
Chosen Option : --

Q.6 Which is one of the bi-product formed when sodium sulphate reacts with barium chloride?

- Ans
- 1. Sodium chloride
 - 2. Barium oxide
 - 3. Barium hydroxide
 - 4. Sodium oxide

Question ID : 26433091478
Status : Not Answered
Chosen Option : --

Q.7 Which of the following folk-dance forms is NOT predominantly performed in the Indian state of Maharashtra?

- Ans 1. Tamasha
 2. Rouff
 3. Lavani
 4. Koli

Question ID : 26433071485
Status : Not Answered
Chosen Option : --

Q.8 Industrial development is a precondition for _____ of unemployment.

- Ans 1. acceleration
 2. eradication
 3. encouragement
 4. addition

Question ID : 264330115411
Status : Not Answered
Chosen Option : --

Q.9 Before being elected as the 15th President of India, Draupadi Murmu was the Governor of which of the following states?

- Ans 1. Orissa
 2. West Bengal
 3. Jharkhand
 4. Bihar

Question ID : 264330115017
Status : Answered
Chosen Option : 2

Q.10 Sharad Purnima is associated with the Goddess _____ in some parts of India.

- Ans 1. Gauri
 2. Parvati
 3. Sita
 4. Lakshmi

Question ID : 264330115123
Status : Not Answered
Chosen Option : --

Q.11 How many rulers of Dakshinapatha were defeated by Samudragupta?

- Ans
- 1. 3
 - 2. 10
 - 3. 12
 - 4. 8

Question ID : 26433085219
Status : Not Answered
Chosen Option : --

Q.12 Who was the first Indian to receive the medal and Diploma of the French association Archives Internationales de la Danse?

- Ans
- 1. Amala Akkineni
 - 2. Mrinalini Sarabhai
 - 3. Jatin Goswami
 - 4. Alarmel Valli

Question ID : 264330115855
Status : Not Answered
Chosen Option : --

Q.13 _____ and _____ formed the Swaraj Party within the Congress to argue for a return to council politics.

- Ans
- 1. Chittaranjan Das and Motilal Nehru
 - 2. Chittaranjan Das and Jawaharlal Nehru
 - 3. Lokmanya Tilak and Motilal Nehru
 - 4. Lokmanya Tilak and Jawaharlal Nehru

Question ID : 26433090586
Status : Not Answered
Chosen Option : --

Q.14 In badminton singles, at the beginning of the game (0-0) and when the server's score is even, the server serves from which side of the court?

- Ans
- 1. Any service court
 - 2. Cannot serve
 - 3. Right service court
 - 4. Left service side

Question ID : 264330115927
Status : Not Answered
Chosen Option : --

Q.15 Although there was a category of industries left to the private sector, the sector was kept under state control through a system of licenses. No new industry was allowed unless a license was obtained from the government.
The above lines are about which of the following?

- Ans 1. IPR-1956
 2. IPR-1952
 3. IPR-1951
 4. IPR-1958

Question ID : 26433054775
Status : Not Answered
Chosen Option : --

Q.16 According to the 2011 Census of India, the state of Bihar was the _____ most populated state of India .

- Ans 1. fifth
 2. fourth
 3. second
 4. third

Question ID : 264330116064
Status : Not Answered
Chosen Option : --

Q.17 According to which of the following Articles of the Constitution of India can the Supreme Court review its own judgements or orders?

- Ans 1. Article 137
 2. Article 134
 3. Article 147
 4. Article 120

Question ID : 26433086839
Status : Not Answered
Chosen Option : --

Q.18 Make in India scheme was launched by Government of India in year _____.

- Ans 1. 2019
 2. 2014
 3. 2018
 4. 2016

Question ID : 264330116201
Status : Not Answered
Chosen Option : --

Q.19 What does Part IVA of the Indian Constitutions deal with?

- Ans 1. Fundamental Rights
 2. Directive Principles of State Policy
 3. Moral Duty of Police
 4. Fundamental Duties

Question ID : 264330115632
Status : Not Answered
Chosen Option : --

Q.20 Which rocks are formed from solidification and cooling of magma?

- Ans 1. Chemical Sedimentary Rocks
 2. Metamorphic rocks
 3. Sedimentary rocks
 4. Igneous rocks

Question ID : 264330115997
Status : Not Answered
Chosen Option : --

Section : Part-C-Elementary Mathematics

Q.1 Tina puts Rs. 48000 in a bank account. She takes it out 6 years later, it is now worth Rs. 60000. The percent increase is:

- Ans 1. 12 percent
 2. 25 percent
 3. 28 percent
 4. 22 percent

Question ID : 264330116805
Status : Not Answered
Chosen Option : --

Q.2 If the price of petrol is increased by 25 percent, then how much should a person decrease the consumption to keep the expenditure same?

- Ans 1. 20 percent
 2. 18 percent
 3. 23 percent
 4. 21 percent

Question ID : 26433079849
Status : Not Answered
Chosen Option : --

Q.3 A shopkeeper buys some fruits at a discount of 10% on the marked price. For selling the item he increases the marked price. If he wants to get a profit of 25% after allowing a discount of 15%, then by what percentage should his marked price be greater than the original marked price? (Correct to a nearest whole number)

- Ans 1. 32 Percent
 2. 25 Percent
 3. 15 Percent
 4. 10 Percent

Question ID : 26433081569
Status : Not Answered
Chosen Option : --

Q.4 The average age of a certain number of students in a college club is 20 years. Later, 27 new students, whose average age is 22 years, joined the club. 12 students, whose average age is 19 years, left the club. As a result of this change, the average age of all the students increases by 2 years. What is the present number of students in the club?

- Ans 1. 15
 2. 25
 3. 42
 4. 33

Question ID : 26433081064
Status : Not Answered
Chosen Option : --

Q.5 What is the length of the longest pole that can be placed in a room 12 m long, 8 m broad and 3 m high (correct up to 2 decimal places)?

- Ans 1. 18.36 m
 2. 20.58 m
 3. 14.73 m
 4. 16.25 m

Question ID : 26433083062
Status : Not Answered
Chosen Option : --

Q.6 20 women can finish a piece of work in 16 days and 16 men can finish it in 15 days. What is the ratio of the working efficiency of a man and a woman?

- Ans 1. 3 : 2
 2. 5 : 4
 3. 4 : 3
 4. 6 : 5

Question ID : 26433080363
Status : Not Answered
Chosen Option : --

Q.7 An overcoat is sold for Rs.1,260 at successive discounts of 16% and 25%. Find the marked price of the overcoat.

- Ans
- 1. Rs.1,900
 - 2. Rs.1,800
 - 3. Rs.2,100
 - 4. Rs.2,000

Question ID : 26433082974
Status : Not Answered
Chosen Option : --

Q.8 A hemispherical bowl is made of thick steel, whose thickness is 0.50 cm. If the outer diameter of the bowl is 43 cm, then the volume of the bowl is:

- Ans
- 1. 19404 cm³
 - 2. 87318 cm³
 - 3. 58212 cm³
 - 4. 29106 cm³

Question ID : 26433072978
Status : Not Answered
Chosen Option : --

Q.9 The cost price of 1 kg of sugar is Rs.50. A shopkeeper sells it at Rs.55 per kg. In order to raise his profit, the shopkeeper weighs only 900 grams in place of 1 kg. Determine the percentage profit (Approximate) earned by the shopkeeper.

- Ans
- 1. 28%
 - 2. 12%
 - 3. 10%
 - 4. 22%

Question ID : 26433071313
Status : Not Answered
Chosen Option : --

Q.10 A girl walks to a park situated 350 m from her house. It took her 3 mins to reach the park and 4 mins to return. What is the average speed of the girl (in km/h)?

- Ans
- 1. 4 km/h
 - 2. 6.5 km/h
 - 3. 6 km/h
 - 4. 5 km/h

Question ID : 26433080365
Status : Not Answered
Chosen Option : --

Q.11 P and Q together can complete a work in 21 days. Q alone can complete it in 84 days. If efficiency of Q becomes double, then in how many days approximately will P and Q together complete the work?

- Ans
- 1. 40 days
 - 2. 37 days
 - 3. 17 days
 - 4. 33 days

Question ID : 264330116885
Status : Not Answered
Chosen Option : --

Q.12 2 numbers differ by 9 and their product is 2430. Find the HCF of the numbers.

- Ans
- 1. 12
 - 2. 9
 - 3. 3
 - 4. 6

Question ID : 264330116664
Status : Not Answered
Chosen Option : --

Q.13 Which relation is correct for 6 : 11 and 8 : 9?

- Ans
- 1. $6 : 11 \geq 8 : 9$
 - 2. $6 : 11 = 8 : 9$
 - 3. $6 : 11 > 8 : 9$
 - 4. $8 : 9 > 6 : 11$

Question ID : 26433074930
Status : Not Answered
Chosen Option : --

Q.14 If $a + b : b + c : c + a = 2 : 3 : 5$ and $a + b + c = 20$, then the value of c is:

- Ans
- 1. 10
 - 2. 2
 - 3. 12
 - 4. 5

Question ID : 26433073022
Status : Not Answered
Chosen Option : --

Q.15 The least multiple of 7, which leaves a remainder of 4, when divided by 6, 9, 15 and 18 is:

- Ans 1. 364
 2. 357
 3. 371
 4. 350

Question ID : 26433082348
Status : Not Answered
Chosen Option : --

Q.16 A man rows his boat 525 m in 250 seconds along the stream and returns in $7\frac{1}{2}$ minutes. The rowing speed in still water (in km/h) is:

- Ans 1. 5.88 km/h
 2. 6.66 km/h
 3. 5.42 km/h
 4. 4.88 km/h

Question ID : 26433074997
Status : Not Answered
Chosen Option : --

Q.17 If the difference between the compound interest, compounding annually and the simple interest on a certain sum of money at 5% per annum for 3 years is Rs.183, then what is the sum of money invested?

- Ans 1. Rs.20,000
 2. Rs.28,000
 3. Rs.24,000
 4. Rs.16,000

Question ID : 26433075686
Status : Not Answered
Chosen Option : --

Q.18 A deposited a total of Rs.25,500 in a bank in the names of his grandsons P and Q who are presently 13 years and 14 years old, respectively. He divided his money in such a way that they get equal amounts upon attaining the age of 25 years. If the bank gives interest at a rate of 4% p.a. compounded annually, then how much has been deposited in Q's name?

- Ans 1. Rs.12,000
 2. Rs.14,000
 3. Rs.13,000
 4. Rs.12,500

Question ID : 26433065290
Status : Not Answered
Chosen Option : --

Q.19 The speed of a boat along and against the current are 16 km/h and 12 km/h, respectively. The speed of the current is:

- Ans 1. 2 km/h
 2. 14 km/h
 3. 8 km/h
 4. 6 km/h

Question ID : 26433066318
Status : Not Answered
Chosen Option : --

Q.20 A person buys 15 pens for ₹100, and sells them at 13 pens for ₹100. What is the gain percentage?

- Ans 1. $13\frac{4}{13}$ percent
 2. $13\frac{3}{13}$ percent
 3. $15\frac{5}{13}$ percent
 4. $15\frac{3}{13}$ percent

Question ID : 26433079862
Status : Not Answered
Chosen Option : --

Section : Part-D-English

Q.1 Select the most appropriate synonym of the word given in brackets to fill in the blank.

The supervisor is _____ (ruthless) in his behaviour with the workers.

- Ans 1. merciless
 2. senseless
 3. shameless
 4. careless

Question ID : 26433070463
Status : Answered
Chosen Option : 1

Q.2 Select the most appropriate synonym of the given word.

Esteem

- Ans 1. Excuse
 2. Abuse
 3. Ridicule
 4. Respect

Question ID : 26433074046
Status : Answered
Chosen Option : 2

Q.3 Select the most appropriate meaning of the underlined idiom in the given sentence.

It is hard to believe that many smokers didn't go cold turkey even after they got lung cancer.

- Ans
- 1. Losing sensory inputs
 - 2. Dead
 - 3. Quite addictive or dangerous behaviour
 - 4. Withered

Question ID : 26433072088
Status : Answered
Chosen Option : 3

Q.4 The following sentence has been split into four segments. Identify the segment that contains a grammatical error.

Her bookstore flourished / because / she picks / a good location.

- Ans
- 1. Her bookstore flourished
 - 2. because
 - 3. a good location
 - 4. she picks

Question ID : 26433088095
Status : Answered
Chosen Option : 4

Q.5 Select the most appropriate ANTONYM of the underlined word to fill in the blank.

Welter was an honest worker, whereas Rodriguez was _____.

- Ans
- 1. erupt
 - 2. timid
 - 3. corrupt
 - 4. candid

Question ID : 26433091845
Status : Answered
Chosen Option : 3

Q.6 Choose the INCORRECTLY spelt word.

- Ans
- 1. Falcon
 - 2. Tailor
 - 3. Talon
 - 4. Palour

Question ID : 26433084609
Status : Answered
Chosen Option : 4

Q.7 Select the most appropriate option that can substitute the underlined segment in the given sentence.

They took a while to establish the threat.

- Ans 1. recognise the threat
 2. manifest the threat
 3. negotiate the threat
 4. move the threat

Question ID : 26433096192
Status : Answered
Chosen Option : 4

Q.8 Select the most appropriate ANTONYM of the given word.

Dispel

- Ans 1. Scatter
 2. Remove
 3. Disburse
 4. Integrate

Question ID : 26433073868
Status : Answered
Chosen Option : 4

Q.9 A part of the given sentence which has been underlined may contain a spelling error. Select the option that correctly rectifies the spelling error. If there is no error, select 'No error'.

Some of the islands in the Bay of Bengal are still inaccesible to the scientists.

- Ans 1. Inaccessible
 2. Inaccesible
 3. Inaccesible
 4. No error

Question ID : 26433071788
Status : Answered
Chosen Option : 1

Q.10 Select the most appropriate synonym of the given word.
Blunt

- Ans 1. Cheerful
 2. Dull
 3. Valiant
 4. Sharp

Question ID : 26433084680
Status : Answered
Chosen Option : 4

Q.11 Choose the option that can substitute the underlined segment correctly and complete the meaning of the sentence.

Meenakshi looks very beautiful in her blue dress.

- Ans
- 1. Admiring
 - 2. Lavish
 - 3. Gorgeous
 - 4. Lively

Question ID : 26433088880
Status : Answered
Chosen Option : 3

Q.12 Select the most appropriate option that can substitute the underlined segment in the given sentence.

The pleasure created by the poet was primarily until his exaggerated descriptions.

- Ans
- 1. below his exaggerated descriptions
 - 2. beside his exaggerated descriptions
 - 3. off his exaggerated descriptions
 - 4. through his exaggerated descriptions

Question ID : 26433089311
Status : Not Attempted and Marked For Review
Chosen Option : --

Q.13 Select the most appropriate ANTONYM of the given word.

Arrogant

- Ans
- 1. Humble
 - 2. Haughty
 - 3. Superior
 - 4. Scornful

Question ID : 26433086373
Status : Answered
Chosen Option : 1

Q.14 Fill in the blanks with the correct homophone.

His eyes _____ up with fascination when he saw his idol standing in front of him.

- Ans
- 1. lye
 - 2. lit
 - 3. lite
 - 4. life

Question ID : 26433089751
Status : Answered
Chosen Option : 2

Q.15 Select the most appropriate idiom for the underlined segment in the given sentence.

Without any question, Naresh is my good friend.

- Ans
- 1. A good deal of
 - 2. Care a hang
 - 3. Account for
 - 4. Beyond a doubt

Question ID : 26433072816

Status : Answered

Chosen Option : 1

Comprehension:

In the following passage, some words have been deleted. Read the passage carefully and select the most appropriate option to fill in each blank.

The automobile industry is one of the (1) _____ industries at the global level. It plays a crucial role in the development of the global economy because of the high revenues and increased customer demands. The automobile industry helps to (2) _____ economic development of the country; therefore, it is widely recognised as a major economic sector. The automobile industry consists of multiple companies (3) _____ in car manufacturing, as well as the ones involved in marketing and distribution of automobile products, such as cars, buses, vans, trucks, motorcycles, mopeds and (4) _____ bicycles. The global automobile industry incorporates several large car manufacturers' blocs that work (5) _____ at the global level.

SubQuestion No : 16

Q.16 Select the most appropriate option to fill in blank number 1.

- Ans
- 1. jumping
 - 2. leading
 - 3. shortening
 - 4. moving

Question ID : 26433089756

Status : Answered

Chosen Option : 2

Comprehension:

In the following passage, some words have been deleted. Read the passage carefully and select the most appropriate option to fill in each blank.

The automobile industry is one of the (1) _____ industries at the global level. It plays a crucial role in the development of the global economy because of the high revenues and increased customer demands. The automobile industry helps to (2) _____ economic development of the country; therefore, it is widely recognised as a major economic sector. The automobile industry consists of multiple companies (3) _____ in car manufacturing, as well as the ones involved in marketing and distribution of automobile products, such as cars, buses, vans, trucks, motorcycles, mopeds and (4) _____ bicycles. The global automobile industry incorporates several large car manufacturers' blocs that work (5) _____ at the global level.

SubQuestion No : 17

Q.17 Select the most appropriate option to fill in blank number 2.

- Ans 1. release
 2. block
 3. foster
 4. arrest

Question ID : 26433089757

Status : Answered

Chosen Option : 1

Comprehension:

In the following passage, some words have been deleted. Read the passage carefully and select the most appropriate option to fill in each blank.

The automobile industry is one of the (1) _____ industries at the global level. It plays a crucial role in the development of the global economy because of the high revenues and increased customer demands. The automobile industry helps to (2) _____ economic development of the country; therefore, it is widely recognised as a major economic sector. The automobile industry consists of multiple companies (3) _____ in car manufacturing, as well as the ones involved in marketing and distribution of automobile products, such as cars, buses, vans, trucks, motorcycles, mopeds and (4) _____ bicycles. The global automobile industry incorporates several large car manufacturers' blocs that work (5) _____ at the global level.

SubQuestion No : 18

Q.18 Select the most appropriate option to fill in blank number 3.

- Ans 1. unspecialised
 2. specialised
 3. simplified
 4. non-simplified

Question ID : 26433089758

Status : Answered

Chosen Option : 2

Comprehension:

In the following passage, some words have been deleted. Read the passage carefully and select the most appropriate option to fill in each blank.

The automobile industry is one of the (1) _____ industries at the global level. It plays a crucial role in the development of the global economy because of the high revenues and increased customer demands. The automobile industry helps to (2) _____ economic development of the country; therefore, it is widely recognised as a major economic sector. The automobile industry consists of multiple companies (3) _____ in car manufacturing, as well as the ones involved in marketing and distribution of automobile products, such as cars, buses, vans, trucks, motorcycles, mopeds and (4) _____ bicycles. The global automobile industry incorporates several large car manufacturers' blocs that work (5) _____ at the global level.

SubQuestion No : 19

Q.19 Select the most appropriate option to fill in blank number 4.

- Ans 1. fuel-based
 2. motorised
 3. non-motorised
 4. non-fuel

Question ID : 26433089759

Status : Answered

Chosen Option : 4

Comprehension:

In the following passage, some words have been deleted. Read the passage carefully and select the most appropriate option to fill in each blank.

The automobile industry is one of the (1) _____ industries at the global level. It plays a crucial role in the development of the global economy because of the high revenues and increased customer demands. The automobile industry helps to (2) _____ economic development of the country; therefore, it is widely recognised as a major economic sector. The automobile industry consists of multiple companies (3) _____ in car manufacturing, as well as the ones involved in marketing and distribution of automobile products, such as cars, buses, vans, trucks, motorcycles, mopeds and (4) _____ bicycles. The global automobile industry incorporates several large car manufacturers' blocs that work (5) _____ at the global level.

SubQuestion No : 20

Q.20 Select the most appropriate option to fill in blank number 5.

- Ans 1. hurriedly
 2. smoothly
 3. collaboratively
 4. single-handedly

Question ID : 26433089760

Status : Answered

Chosen Option : 3

Q.1 हमें पाप से बचना चाहिए।
उपरोक्त वाक्य में रेखांकित शब्द के सही विलोम शब्द का चयन निम्न विकल्पों में से कीजिए।

- Ans 1. दान
 2. पुण्य
 3. अपाप
 4. कुपाप

Question ID : 26433079642
Status : Not Answered
Chosen Option : --

Q.2 निम्न वाक्यांश के लिए सार्थक शब्द/सही विकल्प का चयन कीजिए।
जिसे ईश्वर में विश्वास न हो

- Ans 1. नकारा
 2. नमाज़ी
 3. नश्वर
 4. नास्तिक

Question ID : 26433066926
Status : Not Answered
Chosen Option : --

Q.3 'सोने को स्वर्ण कहो या _____ उसकी क्रीमत कम नहीं होती।' 'सोने' के पर्याय से उपरोक्त वाक्य में रिक्त स्थान की पूर्ति कीजिए।

- Ans 1. हीरक
 2. अभ्रक
 3. नीलम
 4. कंचन

Question ID : 26433084984
Status : Not Answered
Chosen Option : --

Q.4 'उसने माना पर तुमने नहीं माने।' इस वाक्य में कौन सा शब्द अशुद्ध है?

- Ans 1. नहीं
 2. माना
 3. पर
 4. माने

Question ID : 26433091309
Status : Not Answered
Chosen Option : --

Q.5 'इन लोगों ने क्या किया कुछ?' इस वाक्य में कौन सा शब्द अनुपयुक्त है?

- Ans
- 1. इन
 - 2. लोगों
 - 3. क्या
 - 4. कुछ

Question ID : 26433091305
Status : Not Answered
Chosen Option : --

Q.6 निम्न वाक्यांश के लिए एक सही शब्द का चयन विकल्पों में से कीजिए।
परलोक से संबंध रखने वाला

- Ans
- 1. पुरलौकिक
 - 2. समलौकिक
 - 3. पारलौकिक
 - 4. पारलौकिक

Question ID : 26433070095
Status : Not Answered
Chosen Option : --

Q.7 'फूल की रज' – वाक्य खंड के लिए उपयुक्त शब्द क्या होगा?

- Ans
- 1. पार्थिव
 - 2. प्रदोष
 - 3. पतित
 - 4. पराग

Question ID : 26433063058
Status : Not Answered
Chosen Option : --

Q.8 निम्नलिखित वाक्य में रेखांकित खंड के स्थान पर प्रयुक्त होने वाले सबसे उपयुक्त विकल्प का चयन कीजिए।
लड़के ने पत्र लिखी।

- Ans
- 1. लिखाई
 - 2. लिखा
 - 3. लिखता
 - 4. लिख

Question ID : 26433079565
Status : Not Answered
Chosen Option : --

Q.9 'आस्तीन का साँप' मुहावरे का सही अर्थ है -

- Ans 1. कपटी मित्र होना
 2. किसी के साथ अन्याय करना
 3. साँप काट लेना
 4. साँप देख लेना

Question ID : 26433065922
Status : Not Answered
Chosen Option : --

Q.10 निम्नलिखित मुहावरे के उचित अर्थ का चयन कीजिए-
पट्टी पढ़ाना

- Ans 1. बुरी राय देना
 2. याद करवाना
 3. पढ़ाई करवाना
 4. बहुत कुछ बताना

Question ID : 26433065889
Status : Not Answered
Chosen Option : --

Q.11 निम्नलिखित में से कौन सा क्रिया से बना एक विशेषण शब्द है?

- Ans 1. गाना
 2. दौड़ना
 3. भागना
 4. लड़ाकू

Question ID : 26433085055
Status : Not Answered
Chosen Option : --

Q.12 विकल्पों में से 'अलि' का पर्यायवाची चुनकर निम्न वाक्य पूर्ण कीजिए।
फूल पर _____ गुनगुनाता है।

- Ans 1. वास
 2. अब्ज
 3. भृंग
 4. काक

Question ID : 26433063087
Status : Not Answered
Chosen Option : --

Q.13 जीवन में उत्साह बना रहना चाहिए।
उपरोक्त वाक्य में रेखांकित शब्द के सही विलोम शब्द का चयन निम्न विकल्पों में से कीजिए।

- Ans 1. वित्साह
 2. निरुत्साह
 3. हतुत्साह
 4. प्रत्साह

Question ID : 26433079741
Status : Not Answered
Chosen Option : --

Q.14 निम्नलिखित विकल्पों में से 'प्रारम्भ से लेकर अंत तक' वाक्यांश के लिए एक सार्थक शब्द क्या होगा ?

- Ans 1. आद्योपान्त
 2. अपरिचय
 3. परिचय
 4. निरक्षर

Question ID : 26433062469
Status : Not Answered
Chosen Option : --

Q.15 निम्न में से कौन सा विकल्प स्थानवाचक क्रिया-विशेषण का उदाहरण नहीं है?

- Ans 1. भीतर
 2. तेज
 3. बाएं
 4. ऊपर

Question ID : 26433079229
Status : Not Answered
Chosen Option : --

Comprehension:

नीचे पूछे गए प्रश्न संख्या 1 से 5 के उत्तर निम्न गद्यांश के आधार पर दीजिए।

सौर परिवार में पृथ्वी पर ही जीवन का अस्तित्व है। सभी सजीवों (पौधे और जंतु) में उपापचयी क्रियाएँ (पोषण, श्वसन एवं उत्सर्जन), आकार में 1. _____, शरीर के विभिन्न अंगों में समन्वय, कार्य करने की क्षमता तथा उद्दीपन के प्रति संवेदना होती है। वृद्धि की विशेषावधि के पश्चात सभी पौधे तथा जंतु जनन द्वारा अपने जैसी ही संतति उत्पन्न करते हैं। सभी पौधे तथा जंतुओं की निश्चित 2. _____ होती है, परंतु कोई भी दो पौधे या जंतु एक समान नहीं होते हैं। ऐसी विभिन्नताएँ 3. _____ के समय उत्पन्न होती हैं तथा जैविक विकास के लिए मुख्य 4. _____ बनती हैं। सजीव तंत्र के विलक्षण संगठन के कारण ही विभिन्न जैविक क्रियाएँ संभव हैं। संगठन के विभिन्न स्तर हैं आणविक, कोशिकीय, ऊतकीय, अंगतंत्र, व्यष्टि, समष्टि (जनसंख्या), समुदाय, पारिस्थितिक तंत्र एवं जीव मंडल। संगठन के इन नौ स्तरों के अंतर्गत 5. _____ के गुण केवल कोशिकीय स्तर पर दिखाई देते हैं तथा जीवमंडल से आगे नहीं जाते। कोशिकाएँ विभिन्न आकार और आकृति की हो सकती हैं। कुछ जीव एककोशिक होते हैं, जबकि कुछ बहुकोशिक होते हैं। प्रत्येक कोशिका का एक निश्चित आकार होता है तथा उसमें विभिन्न कार्यों के लिए अनेक कोशिकांग होते हैं। इस प्रकार कोशिका किसी भी जीव की इकाई है और सभी कोशिकाएँ पहले से निर्मित कोशिका से विकसित होती हैं।

SubQuestion No : 16

Q.16 रिक्त स्थान 1 के लिए सर्वाधिक उपयुक्त शब्द इनमें से क्या होगा?

- Ans 1. ब्याज
 2. ऋण
 3. वृद्धि
 4. रत्न

Question ID : 26433070121

Status : Not Answered

Chosen Option : --

Comprehension:

नीचे पूछे गए प्रश्न संख्या 1 से 5 के उत्तर निम्न गद्यांश के आधार पर दीजिए।

सौर परिवार में पृथ्वी पर ही जीवन का अस्तित्व है। सभी सजीवों (पौधे और जंतु) में उपापचयी क्रियाएँ (पोषण, श्वसन एवं उत्सर्जन), आकार में 1. _____, शरीर के विभिन्न अंगों में समन्वय, कार्य करने की क्षमता तथा उद्दीपन के प्रति संवेदना होती है। वृद्धि की विशेषावधि के पश्चात सभी पौधे तथा जंतु जनन द्वारा अपने जैसी ही संतति उत्पन्न करते हैं। सभी पौधे तथा जंतुओं की निश्चित 2. _____ होती है, परंतु कोई भी दो पौधे या जंतु एक समान नहीं होते हैं। ऐसी विभिन्नताएँ 3. _____ के समय उत्पन्न होती हैं तथा जैविक विकास के लिए मुख्य 4. _____ बनती हैं। सजीव तंत्र के विलक्षण संगठन के कारण ही विभिन्न जैविक क्रियाएँ संभव हैं। संगठन के विभिन्न स्तर हैं आणविक, कोशिकीय, ऊतकीय, अंगतंत्र, व्यष्टि, समष्टि (जनसंख्या), समुदाय, पारिस्थितिक तंत्र एवं जीव मंडल। संगठन के इन नौ स्तरों के अंतर्गत 5. _____ के गुण केवल कोशिकीय स्तर पर दिखाई देते हैं तथा जीवमंडल से आगे नहीं जाते। कोशिकाएँ विभिन्न आकार और आकृति की हो सकती हैं। कुछ जीव एककोशिक होते हैं, जबकि कुछ बहुकोशिक होते हैं। प्रत्येक कोशिका का एक निश्चित आकार होता है तथा उसमें विभिन्न कार्यों के लिए अनेक कोशिकांग होते हैं। इस प्रकार कोशिका किसी भी जीव की इकाई है और सभी कोशिकाएँ पहले से निर्मित कोशिका से विकसित होती हैं।

SubQuestion No : 17

Q.17 रिक्त स्थान 2 के लिए सर्वाधिक उपयुक्त शब्द इनमें से क्या होगा?

- Ans 1. विन्यास
 2. आकृति
 3. आकार
 4. विकार

Question ID : 26433070122

Status : Not Answered

Chosen Option : --

Comprehension:

नीचे पूछे गए प्रश्न संख्या 1 से 5 के उत्तर निम्न गद्यांश के आधार पर दीजिए।

सौर परिवार में पृथ्वी पर ही जीवन का अस्तित्व है। सभी सजीवों (पौधे और जंतु) में उपापचयी क्रियाएँ (पोषण, श्वसन एवं उत्सर्जन), आकार में 1. _____, शरीर के विभिन्न अंगों में समन्वय, कार्य करने की क्षमता तथा उद्दीपन के प्रति संवेदना होती है। वृद्धि की विशेषावधि के पश्चात सभी पौधे तथा जंतु जनन द्वारा अपने जैसी ही संतति उत्पन्न करते हैं। सभी पौधे तथा जंतुओं की निश्चित 2. _____ होती है, परंतु कोई भी दो पौधे या जंतु एक समान नहीं होते हैं। ऐसी विभिन्नताएँ 3. _____ के समय उत्पन्न होती हैं तथा जैविक विकास के लिए मुख्य 4. _____ बनती हैं। सजीव तंत्र के विलक्षण संगठन के कारण ही विभिन्न जैविक क्रियाएँ संभव हैं। संगठन के विभिन्न स्तर हैं आणविक, कोशिकीय, ऊतकीय, अंगतंत्र, व्यष्टि, समष्टि (जनसंख्या), समुदाय, पारिस्थितिक तंत्र एवं जीव मंडल। संगठन के इन नौ स्तरों के अंतर्गत 5. _____ के गुण केवल कोशिकीय स्तर पर दिखाई देते हैं तथा जीवमंडल से आगे नहीं जाते। कोशिकाएँ विभिन्न आकार और आकृति की हो सकती हैं। कुछ जीव एककोशिक होते हैं, जबकि कुछ बहुकोशिक होते हैं। प्रत्येक कोशिका का एक निश्चित आकार होता है तथा उसमें विभिन्न कार्यों के लिए अनेक कोशिकांग होते हैं। इस प्रकार कोशिका किसी भी जीव की इकाई है और सभी कोशिकाएँ पहले से निर्मित कोशिका से विकसित होती हैं।

SubQuestion No : 18

Q.18 रिक्त स्थान 3 के लिए सर्वाधिक उपयुक्त शब्द इनमें से क्या होगा?

- Ans
- 1. प्रवास
 - 2. जनन
 - 3. जननी
 - 4. मृत्यु

Question ID : 26433070123

Status : Not Answered

Chosen Option : --

Comprehension:

नीचे पूछे गए प्रश्न संख्या 1 से 5 के उत्तर निम्न गद्यांश के आधार पर दीजिए।

सौर परिवार में पृथ्वी पर ही जीवन का अस्तित्व है। सभी सजीवों (पौधे और जंतु) में उपापचयी क्रियाएँ (पोषण, श्वसन एवं उत्सर्जन), आकार में 1. _____, शरीर के विभिन्न अंगों में समन्वय, कार्य करने की क्षमता तथा उद्दीपन के प्रति संवेदना होती है। वृद्धि की विशेषावधि के पश्चात सभी पौधे तथा जंतु जनन द्वारा अपने जैसी ही संतति उत्पन्न करते हैं। सभी पौधे तथा जंतुओं की निश्चित 2. _____ होती है, परंतु कोई भी दो पौधे या जंतु एक समान नहीं होते हैं। ऐसी विभिन्नताएँ 3. _____ के समय उत्पन्न होती हैं तथा जैविक विकास के लिए मुख्य 4. _____ बनती हैं। सजीव तंत्र के विलक्षण संगठन के कारण ही विभिन्न जैविक क्रियाएँ संभव हैं। संगठन के विभिन्न स्तर हैं आणविक, कोशिकीय, ऊतकीय, अंगतंत्र, व्यष्टि, समष्टि (जनसंख्या), समुदाय, पारिस्थितिक तंत्र एवं जीव मंडल। संगठन के इन नौ स्तरों के अंतर्गत 5. _____ के गुण केवल कोशिकीय स्तर पर दिखाई देते हैं तथा जीवमंडल से आगे नहीं जाते। कोशिकाएँ विभिन्न आकार और आकृति की हो सकती हैं। कुछ जीव एककोशिक होते हैं, जबकि कुछ बहुकोशिक होते हैं। प्रत्येक कोशिका का एक निश्चित आकार होता है तथा उसमें विभिन्न कार्यों के लिए अनेक कोशिकांग होते हैं। इस प्रकार कोशिका किसी भी जीव की इकाई है और सभी कोशिकाएँ पहले से निर्मित कोशिका से विकसित होती हैं।

SubQuestion No : 19

Q.19 रिक्त स्थान 4 के लिए सर्वाधिक उपयुक्त शब्द इनमें से क्या होगा?

- Ans
- 1. आकार
 - 2. रेखा
 - 3. प्रकार
 - 4. आधार

Question ID : 26433070124

Status : Not Answered

Chosen Option : --

Comprehension:

नीचे पूछे गए प्रश्न संख्या 1 से 5 के उत्तर निम्न गद्यांश के आधार पर दीजिए।

सौर परिवार में पृथ्वी पर ही जीवन का अस्तित्व है। सभी सजीवों (पौधे और जंतु) में उपापचयी क्रियाएँ (पोषण, श्वसन एवं उत्सर्जन), आकार में 1. _____, शरीर के विभिन्न अंगों में समन्वय, कार्य करने की क्षमता तथा उद्दीपन के प्रति संवेदना होती है। वृद्धि की विशेषावधि के पश्चात सभी पौधे तथा जंतु जनन द्वारा अपने जैसी ही संतति उत्पन्न करते हैं। सभी पौधे तथा जंतुओं की निश्चित 2. _____ होती है, परंतु कोई भी दो पौधे या जंतु एक समान नहीं होते हैं। ऐसी विभिन्नताएँ 3. _____ के समय उत्पन्न होती हैं तथा जैविक विकास के लिए मुख्य 4. _____ बनती हैं। सजीव तंत्र के विलक्षण संगठन के कारण ही विभिन्न जैविक क्रियाएँ संभव हैं। संगठन के विभिन्न स्तर हैं आणविक, कोशिकीय, ऊतकीय, अंगतंत्र, व्यष्टि, समष्टि (जनसंख्या), समुदाय, पारिस्थितिक तंत्र एवं जीव मंडल। संगठन के इन नौ स्तरों के अंतर्गत 5. _____ के गुण केवल कोशिकीय स्तर पर दिखाई देते हैं तथा जीवमंडल से आगे नहीं जाते। कोशिकाएँ विभिन्न आकार और आकृति की हो सकती हैं। कुछ जीव एककोशिक होते हैं, जबकि कुछ बहुकोशिक होते हैं। प्रत्येक कोशिका का एक निश्चित आकार होता है तथा उसमें विभिन्न कार्यों के लिए अनेक कोशिकांग होते हैं। इस प्रकार कोशिका किसी भी जीव की इकाई है और सभी कोशिकाएँ पहले से निर्मित कोशिका से विकसित होती हैं।

SubQuestion No : 20

Q.20 रिक्त स्थान 5 के लिए सर्वाधिक उपयुक्त शब्द इनमें से क्या होगा?

Ans 1. विकास

2. मरण

3. जीवन

4. जीव

Question ID : 26433070125

Status : Not Answered

Chosen Option : --