

Constable GD in CAPFs SSF Rifleman GD in Assam Rifles and Sepoy in NCB Examination 2022

Roll Number	www.govtjobsalert.in
Candidate Name	www.govtjobsalert.in
Venue Name	iON Digital Zone iDZ Kanti
Exam Date	08/02/2023
Exam Time	5:15 PM - 6:15 PM
Subject	Constable GD Examination 2022

Section : Part-A-General Intelligence and Reasoning

Q.1 निम्नलिखित में से कौन-सी संख्या दी गई श्रृंखला में प्रश्न-चिह्न (?) के स्थान पर आएगी?
5, 11, 35, 143, ?

- Ans
- 1. 316
 - 2. 719
 - 3. 639
 - 4. 512

Question ID : 26433082005
Status : Answered
Chosen Option : 2

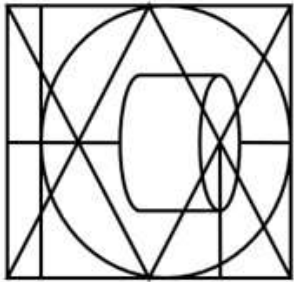
Q.2 दिए गए समीकरण को संतुलित करने के लिए इसके किन दो गणितीय चिह्नों को परस्पर बदलना होगा?
 $25 \times 5 \div 6 + 20 = 62 - 12$

- Ans
- 1. + और ÷
 - 2. ÷ और ×
 - 3. + और -
 - 4. + और ×

Question ID : 26433087048
Status : Answered
Chosen Option : 2

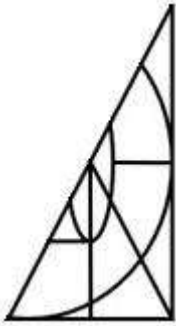
Q.3 उस विकल्प-आकृति का चयन कीजिए, जो प्रस्तुत आकृति में अंतर्निहित है।

(घुमाना अनुमन्य नहीं है)

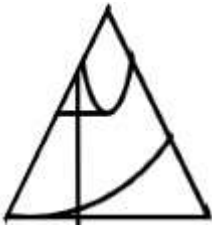


Ans

✓ 1.



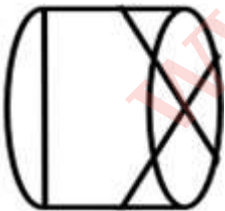
✗ 2.



✗ 3.



✗ 4.



Question ID : 26433076581

Status : Answered

Chosen Option : 1

Q.4 A # B का अर्थ है 'A, B का भाई है'
A @ B का अर्थ है 'A, B की पुत्री है'
A & B का अर्थ है 'A, B का पति है'
A % B का अर्थ है 'A, B की पत्नी है'
A * B का अर्थ है 'A, B का पुत्र है'
यदि A&D@Q*B*K है, तो D, K से किस प्रकार संबंधित है?

- Ans
- 1. पोती
 - 2. पोता
 - 3. परपोती
 - 4. पुत्री

Question ID : 26433082534

Status : Answered

Chosen Option : 3

Q.5 नीचे दिए गए समीकरण को गणितीय रूप से सही बनाने के लिए किन दो चिन्हों को परस्पर बदलना चाहिए?
 $64 - 16 \times 24 \div 96 + 10 = 58$

- Ans
- 1. - और +
 - 2. \times और -
 - 3. \div और \times
 - 4. \div और -

Question ID : 264330117544

Status : Answered

Chosen Option : 1

Q.6 तीन कथनों के बाद 1, 2 और 3 से संख्यांकित तीन निष्कर्ष दिए गए हैं। कथनों को सत्य मानते हुए भले ही वे सामान्यतः ज्ञात तथ्यों से भिन्न प्रतीत होते हों, निर्णय लें कि कौन-सा/से निष्कर्ष कथनों का तार्किक रूप से अनुसरण करता है/करते हैं।

कथन:

कुछ बैट बॉल हैं।

कुछ बॉल रिंग हैं।

कोई रिंग बेल नहीं है।

निष्कर्ष:

1. कोई बेल बॉल नहीं है।

2. कोई रिंग बैट नहीं है।

3. कुछ बॉल बैट हैं।

- Ans
- 1. केवल निष्कर्ष 2 अनुसरण करता है
 - 2. केवल निष्कर्ष 3 अनुसरण करता है
 - 3. केवल निष्कर्ष 1 और 2 अनुसरण करते हैं
 - 4. केवल निष्कर्ष 1 और 3 अनुसरण करते हैं

Question ID : 26433087131

Status : Answered

Chosen Option : 2

Q.7 कौन-सा अक्षर-समूह दी गई श्रृंखला में प्रश्नचिह्न (?) के स्थान पर आकर श्रृंखला को पूर्ण करेगा?
YWTZ, UTRY, ?, MNNW, IKLV

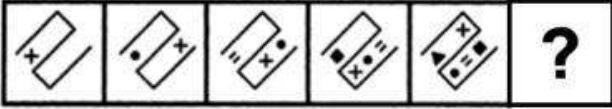
- Ans
- 1. QSRY
 - 2. QRQX
 - 3. PSRY
 - 4. QQPX

Question ID : 26433068577

Status : Answered

Chosen Option : 4

Q.8 दिए गए विकल्पों में से उस आकृति का चयन करें जो निम्नलिखित श्रृंखला में प्रश्नवाचक चिह्न (?) का स्थान ले सकती है।



Ans

- 1.
- 2.
- 3.
- 4.

Question ID : 26433080497

Status : Answered

Chosen Option : 3

Q.9 निम्नलिखित में से कौन-सा अक्षर-समूह दी गई श्रृंखला में प्रश्नचिह्न (?) के स्थान पर आएगा?
DGIL, GJLO, JMOR, ?, PSUX

- Ans
- 1. MPRU
 - 2. MQRU
 - 3. NPQU
 - 4. NPRV

Question ID : 26433076448

Status : Answered

Chosen Option : 1

Q.10 आमिर, बंटी, लेस्ली, प्रदीप, ईशान, फैज, गौरव और हरीश एक वर्गाकार मेज के चारों ओर मेज के केंद्र की ओर मुख करके बैठे हैं। उनमें से कुछ मेज के कोनों पर बैठे हैं, जबकि कुछ मेज की भुजाओं के ठीक मध्य में बैठे हुए हैं। प्रदीप, गौरव के दाईं ओर तीसरे स्थान पर बैठा है। प्रदीप एक कोने पर बैठा है। बंटी, फैज के दाईं ओर दूसरे स्थान पर बैठा है। फैज, किसी भी कोने पर नहीं बैठा है। बंटी, प्रदीप के ठीक बगल में नहीं बैठा है। हरीश, आमिर के ठीक बगल में बैठा है। हरीश मेज की किसी भी भुजा के मध्य में नहीं बैठा है। हरीश और लेस्ली के बीच केवल एक व्यक्ति बैठा है। बंटी के बाईं ओर दूसरे स्थान पर कौन बैठा/बैठी है?

- Ans
- 1. ईशान
 - 2. गौरव
 - 3. प्रदीप
 - 4. फैज

Question ID : 26433082285

Status : Answered

Chosen Option : 2

Q.11 सात व्यक्ति E, F, G, H, I, J और K एक सीधी पंक्ति में उत्तर की ओर मुख करके बैठे हैं। K, H के बाईं ओर तीसरे स्थान पर बैठा है। F और I के बीच कोई नहीं बैठा है। H, J के दाईं ओर चौथे स्थान पर बैठा है। I के दाईं ओर कोई नहीं बैठा है। F, E के दाईं ओर तीसरे स्थान पर बैठा है। पंक्ति के दाएं सिरे से तीसरे स्थान पर कौन बैठा है?

- Ans
- 1. G
 - 2. H
 - 3. I
 - 4. F

Question ID : 26433068284

Status : Answered

Chosen Option : 1

Q.12 एक कूट भाषा में, 'we must stop' को 'po ba hu', 'stop this noise' को 'hu va xi', 'you must come' को 'nu ba ka', और 'you come forward' को 'nu ka co' के रूप में कूटबद्ध किया जाता है। शब्द 'forward' के लिए कूट क्या होगा?

- Ans
- 1. nu
 - 2. po
 - 3. co
 - 4. hu

Question ID : 26433069471

Status : Answered

Chosen Option : 3

Q.13 उस विकल्प का चयन करें, जो पाँचवीं संख्या से उसी प्रकार संबंधित है, जिस प्रकार दूसरी संख्या, पहली संख्या से संबंधित है और चौथी संख्या, तीसरी संख्या से संबंधित है।
49 : 10 :: 81 : 12 :: 64 : ?

Ans 1. 11

2. 9

3. 7

4. 8

Question ID : 26433069411

Status : Answered

Chosen Option : 1

Q.14 उस विकल्प का चयन कीजिए, जो पाँचवें अक्षर-समूह से उसी प्रकार संबंधित है, जिस प्रकार दूसरा अक्षर-समूह पहले अक्षर-समूह से संबंधित है और चौथा अक्षर-समूह तीसरे अक्षर-समूह से संबंधित है।
PRODUCT : CDOPTU :: CONFUSE : CEFNOSU :: QUALITY : ?

Ans 1. AILQTUY

2. AIULQTY

3. AILQUTY

4. ALITQUY

Question ID : 26433082630

Status : Not Answered

Chosen Option : --

Q.15 दी गई आकृति के सही दर्पण प्रतिबिम्ब का चयन करें जब दर्पण को MN पर रखा जाए जैसा कि नीचे दर्शाया गया है।

euRoPEan
M
|
N

Ans 1. nɔɹɔpɛaɹ

2. nɔɹɔpɛaɹ

3. nɔɹɔpɛaɹ

4. nɔɹɔpɛaɹ

Question ID : 26433085555

Status : Answered

Chosen Option : 1

Q.16 निम्नलिखित में से कौन-सी संख्या दी गई श्रृंखला में प्रश्न-चिह्न (?) को प्रतिस्थापित करेगी?
42, 43, 41, 44, ?, 45

Ans 1. 40

2. 36

3. 45

4. 42

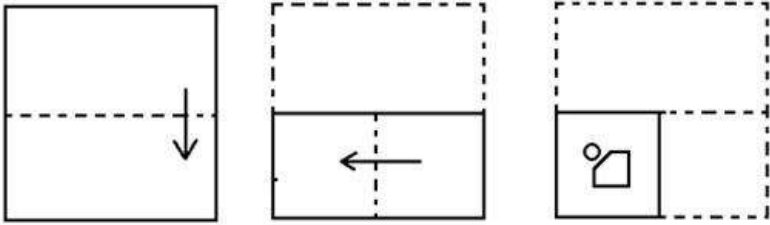
Question ID : 26433083120

Status : Answered

Chosen Option : 1

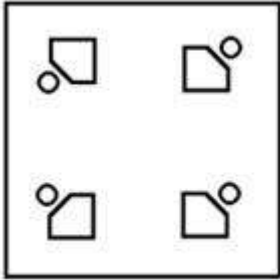
www.govtjobsalert.in

Q.17 एक कागज को मोड़ने का क्रम और मुड़े हुए कागज को काटने का तरीका नीचे दर्शाया गया है। उस आकृति का चयन करें जो कागज को खोले जाने पर उसके खुले रूप से सबसे अधिक मिलती-जुलती है।

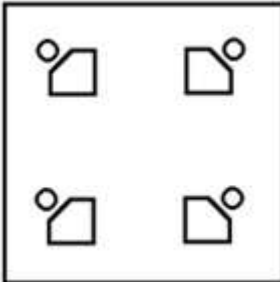


Ans

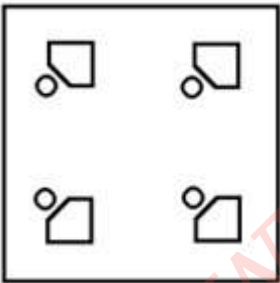
✗ 1.



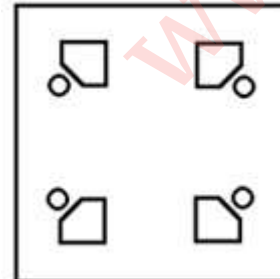
✗ 2.



✗ 3.



✓ 4.



Question ID : 26433087100

Status : Answered

Chosen Option : 4

Q.18 एक निश्चित कूट भाषा में 'EARNED' को '94' के रूप में लिखा जाता है, 'GAINED' को '80' के रूप में लिखा जाता है, तो उसी भाषा में 'DOLLAR' को किस प्रकार से लिखा जाएगा?

- Ans
- 1. 111
 - 2. 68
 - 3. 98
 - 4. 124

Question ID : 26433083114

Status : Answered

Chosen Option : 4

Q.19 उस विकल्प का चयन कीजिए जो तीसरे शब्द से उसी प्रकार संबंधित है जिस प्रकार दूसरा शब्द पहले शब्द से संबंधित है। (शब्दों को अर्थपूर्ण शब्दों के रूप में मानना है और उन्हें शब्द में अक्षरों/व्यंजनों/स्वरों की संख्या के आधार पर एक-दूसरे से संबंधित नहीं करना है।)
वैज्ञानिक : प्रयोगशाला :: खगोल विज्ञानी : ?

- Ans
- 1. पेशा
 - 2. विश्वविद्यालय
 - 3. पर्यावरण
 - 4. वेधशाला

Question ID : 26433067364

Status : Answered

Chosen Option : 3

Q.20 किस विकल्प में निम्नलिखित शब्दों का वह क्रम दिया गया है, जिस क्रम में वे अंग्रेजी शब्दकोश में आते हैं?

- 1 Nothing
- 2 Notebook
- 3 Notable
- 4 Notary
- 5 Nominal

- Ans
- 1. 5,4,3,2,1
 - 2. 5,1,2,3,4
 - 3. 5,3,4,2,1
 - 4. 5,2,3,1,4

Question ID : 26433069320

Status : Answered

Chosen Option : 3

Q.1 हरित क्रांति के पहले चरण में, HYV बीजों का उपयोग अधिक समृद्ध राज्यों तक ही सीमित था। निम्नलिखित में से कौन इस सूची में शामिल नहीं था?

- Ans
- 1. पंजाब
 - 2. आंध्र प्रदेश
 - 3. तमिलनाडु
 - 4. कर्नाटक

Question ID : 264330116151
Status : Answered
Chosen Option : 4

Q.2 भारतीय जनता पार्टी से संबंधित मणिपुर के पहले मुख्यमंत्री कौन बने?

- Ans
- 1. नोंगथोम्बम बीरेन सिंह
 - 2. मनोहर पर्रिकर
 - 3. लोंगजाम थम्बू सिंह
 - 4. ओकराम इबोबी सिंह

Question ID : 264330115034
Status : Answered
Chosen Option : 2

Q.3 'माघी' भारत के निम्नलिखित में से किस त्योहार का एक अन्य नाम है?

- Ans
- 1. मकर संक्रांति
 - 2. बिहु
 - 3. बैसाखी
 - 4. बसंत पंचमी

Question ID : 26433094886
Status : Answered
Chosen Option : 1

Q.4 प्रिंस शुद्धेंद्र नारायण सिंह देव को _____ नृत्य में उनके योगदान के लिए संगीत नाटक अकादमी पुरस्कार से सम्मानित किया गया है।

- Ans
- 1. कथकली
 - 2. मोहिनीअट्टम
 - 3. छऊ
 - 4. कथक

Question ID : 264330115871
Status : Not Answered
Chosen Option : --

Q.5 _____ में, भारतीय संसद ने नागरिकता (संशोधन) अधिनियम (CAA) कानून पारित

किया।

- Ans
- 1. जनवरी 2019
 - 2. जनवरी 2018
 - 3. दिसंबर 2019
 - 4. दिसंबर 2018

Question ID : 264330116217
Status : Answered
Chosen Option : 1

Q.6 भारत में हरित क्रांति किस दशक में आई थी?

- Ans
- 1. 1960-1970
 - 2. 1850-1860
 - 3. 1800-1810
 - 4. 1900-1910

Question ID : 264330115413
Status : Answered
Chosen Option : 1

Q.7 टेलीफोन, सेलुलर टेलीकॉम, पेजर, टेलीफोन एक्सचेंज और रडार किस उद्योग के उदाहरण हैं?

- Ans
- 1. सूचना प्रौद्योगिकी एवं इलेक्ट्रॉनिक्स उद्योग
 - 2. सीमेंट उद्योग
 - 3. ऑटोमोबाइल उद्योग
 - 4. रसायन उद्योग

Question ID : 264330115578
Status : Answered
Chosen Option : 1

Q.8 लैंथेनाइड्स कितने तत्वों की एक श्रृंखला है?

- Ans
- 1. 10
 - 2. 18
 - 3. 15
 - 4. 12

Question ID : 264330115170
Status : Answered
Chosen Option : 2

Q.9 उधम सिंह ने किसकी हत्या की थी?

- Ans
- 1. जॉन साइमन
 - 2. माइकल ओ डायर
 - 3. सिडनी रोलेट
 - 4. रेजिनाल्ड डायर

Question ID : 264330115721

Status : Answered

Chosen Option : 2

Q.10 निम्नलिखित में से कौन-सा चीनी तीर्थयात्री श्वेन त्सांग के लगभग 50 वर्ष बाद भारत आया था?

- Ans
- 1. त्सांग हाय
 - 2. लाओ त्सू
 - 3. फाहियान
 - 4. आई-किंग

Question ID : 26433085223

Status : Not Answered

Chosen Option : --

Q.11 कबड्डी मैच की अवधि कितने मिनट की होती है?

- Ans
- 1. 45 मिनट
 - 2. 50 मिनट
 - 3. 40 मिनट
 - 4. 30 मिनट

Question ID : 264330115931

Status : Answered

Chosen Option : 4

Q.12 निम्नलिखित में से किसने जून 2022 में क्रेडिट लिंक्ड सरकारी योजनाओं के लिए राष्ट्रीय पोर्टल - जन समर्थ पोर्टल लॉन्च किया?

- Ans
- 1. निर्मला सीतारमण
 - 2. नरेन्द्र मोदी
 - 3. स्मृति ईरानी
 - 4. पीयूष गोयल

Question ID : 264330114951

Status : Answered

Chosen Option : 1

Q.13 भारत में स्थित एकमात्र निश्चित रूप से सक्रिय ज्वालामुखी, बैरेन द्वीप ज्वालामुखी, अंडमान द्वीप में _____ से लगभग 138 km उत्तर पूर्व में स्थित है।

- Ans
- 1. दिगलिपुर
 - 2. एबरडीन
 - 3. फेरारगंज
 - 4. पोर्ट ब्लेयर

Question ID : 26433092215

Status : Not Answered

Chosen Option : --

Q.14 निम्नलिखित चार में से तीन पारिस्थितिक पिरामिड हैं, और इस प्रकार एक समूह बनाते हैं। कौन सा इस समूह से संबंधित नहीं है?

- Ans
- 1. ऊर्जा का पिरामिड
 - 2. संस्कृति का पिरामिड
 - 3. बायोमास का पिरामिड
 - 4. संख्या का पिरामिड

Question ID : 264330115247

Status : Answered

Chosen Option : 2

Q.15 _____ देश के विदेशी मुद्रा भंडार का संरक्षक है और उनके निवेश के प्रबंधन की जिम्मेदारी निहित है।

- Ans
- 1. भारतीय स्टेट बैंक
 - 2. वाणिज्य और उद्योग मंत्रालय
 - 3. वित्त मंत्रालय
 - 4. भारतीय रिजर्व बैंक

Question ID : 264330115331

Status : Answered

Chosen Option : 4

Q.16 क्रिकेट मैच में कितने फील्ड अंपायर होते हैं?

- Ans
- 1. 2
 - 2. 1
 - 3. 3
 - 4. 4

Question ID : 264330116285

Status : Answered

Chosen Option : 1

Q.17 महात्मा गांधी राष्ट्रीय ग्रामीण रोजगार गारंटी अधिनियम (MGNREGA) के अनुसार प्रस्तावित नौकरियों का कितना भाग महिलाओं के लिए आरक्षित किया गया है?

- Ans
- 1. एक तिहाई
 - 2. दो तिहाई
 - 3. एक चौथाई
 - 4. आधा

Question ID : 264330116071
Status : Answered
Chosen Option : 1

Q.18 निम्नलिखित में से किसके कार्यकाल के दौरान स्वर्ण सिंह समिति का गठन किया गया था?

- Ans
- 1. मोरारजी देसाई
 - 2. इंदिरा गांधी
 - 3. मनमोहन सिंह
 - 4. वी.पी. सिंह

Question ID : 26433090667
Status : Answered
Chosen Option : 1

Q.19 लोकसभा के अध्यक्ष को कौन चुनता है?

- Ans
- 1. केवल सत्ताधारी दल के लोकसभा के सदस्य
 - 2. लोकसभा के सभी सदस्य
 - 3. भारत के राष्ट्रपति
 - 4. प्रधानमंत्री और उनकी कैबिनेट

Question ID : 26433090677
Status : Answered
Chosen Option : 3

Q.20 पंजाब का कौन सा लोक नृत्य मुख्यतः महिलाओं द्वारा किया जाने वाला नृत्य है?

- Ans
- 1. जवारा
 - 2. दादरा
 - 3. फुगडी
 - 4. गिद्दा

Question ID : 26433074074
Status : Answered
Chosen Option : 4

Q.1 रीता 4 km/h की चाल से P से Q की ओर दौड़ना शुरू करती है। यदि P और Q के बीच की दूरी 6000 मीटर है, तो रीता द्वारा P और Q के बीच की दूरी को तय करने में कितना समय लगेगा?

- Ans
- 1. 1.5 h
 - 2. 2.5 h
 - 3. 2.0 h
 - 4. 1.0 h

Question ID : 26433075697

Status : Answered

Chosen Option : 1

Q.2 शीतल अपनी दुकान पर सभी वस्तुओं पर 20% की छूट प्रदान करती है और फिर भी 12% का लाभ कमाती है। उस वस्तु का अंकित मूल्य क्या है जिसका क्रय मूल्य ₹200 है?

- Ans
- 1. ₹280
 - 2. ₹250
 - 3. ₹220
 - 4. ₹240

Question ID : 26433080107

Status : Answered

Chosen Option : 1

Q.3 Rs.1,225 की राशि पर दो वर्षों का ब्याज Rs.144 है जब ब्याज एक निश्चित ब्याज दर पर वार्षिक रूप से चक्रवृद्धि होता है। वार्षिक ब्याज दर ज्ञात करें।

- Ans
- 1. $5\frac{2}{7}\%$
 - 2. $5\frac{4}{7}\%$
 - 3. $6\frac{2}{7}\%$
 - 4. $5\frac{5}{7}\%$

Question ID : 26433073130

Status : Not Answered

Chosen Option : --

Q.4 7 cm त्रिज्या वाले एक सीसे के अर्धगोले को एक ऐसे शंकु में ढाला गया है जिसके आधार का व्यास 14 cm है। शंकु की ऊँचाई ज्ञात कीजिए।

- Ans
- 1. 12 cm
 - 2. 14 cm
 - 3. 18 cm
 - 4. 16 cm

Question ID : 26433075751

Status : Answered

Chosen Option : 2

Q.5 A अकेले एक कार्य को 196 दिनों में पूरा कर सकता है, और B अकेले इसे 147 दिनों में पूरा कर सकता है। A तथा B दोनों एक साथ कार्य करते हुए कार्य को कितने दिनों में पूरा कर सकते हैं?

Ans 1. 84

2. 81

3. 88

4. 90

Question ID : 26433075297

Status : Answered

Chosen Option : 1

Q.6 एक ट्रक शहर A से शहर B तक 60 किमी/घंटा की औसत चाल से जाता है। यात्रा में 30 घंटे लगते हैं। यह शहर B से शहर A तक उसी सड़क पर 40 किमी/घंटा की औसत चाल से लौटता है। पूरी यात्रा के दौरान ट्रक की औसत चाल क्या थी?

Ans 1. 48 किमी/घंटा

2. 46 किमी/घंटा

3. 52 किमी/घंटा

4. 50 किमी/घंटा

Question ID : 26433080355

Status : Answered

Chosen Option : 1

Q.7 अनुज, राम और संजय मिलकर एक कार्य को $78/5$ दिनों में पूरा कर सकते हैं जबकि अनुज अकेले उसी कार्य को 39 दिनों में पूरा कर सकता है, तो राम और संजय मिलकर समान कार्य को लगभग कितने दिनों में कर सकते हैं?

Ans 1. 26 दिन

2. 44 दिन

3. 41 दिन

4. 45 दिन

Question ID : 264330116901

Status : Answered

Chosen Option : 1

Q.8 2 वर्षों में $8\frac{1}{3}\%$ प्रति वर्ष चक्रवृद्धि ब्याज दर पर देय Rs.1,200 के ऋण का वार्षिक भुगतान कितना निकलेगा?

Ans 1. Rs.1,065

2. Rs.676

3. Rs.1,267

4. Rs.829

Question ID : 26433073031

Status : Answered

Chosen Option : 2

Q.9 अक्षय और विपुल की वार्षिक आय क्रमशः 3 : 2 के अनुपात में है, जबकि उनके व्यय का अनुपात क्रमशः 7 : 3 है। यदि वर्ष के अंत में प्रत्येक ₹1,80,000 की बचत करता है, तो अक्षय की वार्षिक आय कितनी है?

- Ans
- 1. ₹3,24,000
 - 2. ₹4,60,000
 - 3. ₹4,32,000
 - 4. ₹3,20,000

Question ID : 26433076225

Status : Answered

Chosen Option : 3

Q.10 यदि एक घनाभ की लंबाई, चौड़ाई और ऊँचाई क्रमशः 16 cm, 15 cm और 12 cm है, तो घनाभ के सबसे लंबे विकर्ण की लंबाई _____ है।

- Ans
- 1. 18 cm
 - 2. 20 cm
 - 3. 24 cm
 - 4. 25 cm

Question ID : 26433090309

Status : Answered

Chosen Option : 4

Q.11 एक पुरानी वस्तु का अंकित मूल्य ₹4,000 है। A इसे 15% और 10% के दो क्रमागत छूटों पर खरीदता है। वह इसकी मरम्मत पर ₹1,140 खर्च करता है और इसे ₹5,000 में बेच देता है। उसका लाभ या हानि प्रतिशत _____ है। (निकटतम पूर्णांक तक पूर्णांकित)

- Ans
- 1. 20%
 - 2. 18%
 - 3. 17%
 - 4. 19%

Question ID : 26433082383

Status : Answered

Chosen Option : 4

Q.12 यदि दो संख्याओं 456 और 240 का महत्तम समापवर्तक 24 है, तो दी गई संख्याओं का लघुतम समापवर्तक _____ है।

- Ans
- 1. 2400
 - 2. 4560
 - 3. 1200
 - 4. 2280

Question ID : 26433082349

Status : Answered

Chosen Option : 2

Q.13 $(24 \div \overline{12 - 4} + 32) \div (4 + 8 \div 2 - 3)$ का मान _____ है।

- Ans 1. 1
 2. 7
 3. 5
 4. 11

Question ID : 26433075753
Status : Answered
Chosen Option : 2

Q.14 एक अंकित मूल्य पर, 8% की छूट से उतना ही लाभ मिलता है जितना कि ₹25 की नकद छूट पर मिलता है। अंकित मूल्य (₹ में) क्या है?

- Ans 1. 317.50
 2. 315.00
 3. 310.00
 4. 312.50

Question ID : 26433085452
Status : Answered
Chosen Option : 4

Q.15 एक बेईमान दुकानदार एक ग्राहक को क्रय मूल्य के ऊपर T% के लाभ पर सामान बेचता है और साथ ही 1 kg के स्थान पर वह 800 g तौलता है। उसका कुल लाभ प्रतिशत 40% है। T का मान कितना है?

- Ans 1. 12
 2. 40
 3. 10
 4. 24

Question ID : 26433075759
Status : Answered
Chosen Option : 1

Q.16 निम्नलिखित में से सबसे बड़ा अनुपात कौन सा है?

$$\frac{5}{7}, \frac{3}{8}, \frac{9}{15}, \frac{4}{9}$$

Ans

1. $\frac{9}{15}$

2. $\frac{5}{7}$

3. $\frac{3}{8}$

4. $\frac{4}{9}$

Question ID : 26433075947

Status : Answered

Chosen Option : 2

Q.17 निम्नलिखित में से कौन-सा कथन गलत है?

- Ans
- 1. समय की गणना दूरी को चाल से विभाजित करके की जाती है।
 - 2. कम समय में एक निश्चित दूरी तय करने के लिए चाल बढ़ानी पड़ती है।
 - 3. दी गई समयावधि में अतिरिक्त दूरी तय करने के लिए दी गई चाल को कम कर दिया जाएगा।
 - 4. चाल की गणना समय से दूरी को विभाजित करके की जाती है।

Question ID : 26433082500

Status : Answered

Chosen Option : 3

Q.18 एक भूखंड की कीमत 1500000 रुपए से बढ़कर 1800000 रुपए हो जाती है। भूखंड की कीमत में प्रतिशत वृद्धि है:

- Ans
- 1. 10 प्रतिशत
 - 2. 18 प्रतिशत
 - 3. 15 प्रतिशत
 - 4. 20 प्रतिशत

Question ID : 264330116821

Status : Answered

Chosen Option : 4

Q.19 1000 m की एक रेखीय दौड़ में A, B को 50 m या 5 सेकंड से हरा देता है। निर्धारित कीजिए कि A को दौड़ पूरी करने में कितना समय लगता है।

- Ans 1. 95 सेकंड
 2. 100 सेकंड
 3. 60 सेकंड
 4. 120 सेकंड

Question ID : 26433075162
Status : Answered
Chosen Option : 1

Q.20 यदि संगीता के मासिक वेतन में $3\frac{2}{3}\%$ की वृद्धि की जाती है, तो उसे Rs.132 अधिक मिलते हैं। संगीता का मासिक वेतन क्या है?

- Ans 1. Rs.2,400
 2. Rs.3,200
 3. Rs.3,600
 4. Rs.3,000

Question ID : 26433080290
Status : Answered
Chosen Option : 3

Section : Part-D-English

Q.1 Select the most appropriate option to fill in the blank.

The teacher _____ with laughter, pleased with his joke, but then composed himself.

- Ans 1. brayed
 2. blade
 3. braid
 4. bread

Question ID : 26433090394
Status : Not Answered
Chosen Option : --

Q.2 Select the most appropriate ANTONYM of the given word.

Rustic

- Ans 1. Depressed
 2. Natural
 3. Shallow
 4. Urbane

Question ID : 26433087921
Status : Not Answered
Chosen Option : --

Q.3 Select the correct spelling of the underlined word in the following sentence.

The architrectre of the building is worth seeing.

- Ans
- 1. arckitecture
 - 2. architecture
 - 3. architecher
 - 4. architectuer

Question ID : 26433072372
Status : Not Answered
Chosen Option : --

Q.4 Select the most appropriate synonym of the underlined word in the given sentence.

The news channel described the event in graphic detail.

- Ans
- 1. Startling
 - 2. Mirthful
 - 3. Comic
 - 4. Vivid

Question ID : 26433087917
Status : Not Answered
Chosen Option : --

Q.5 Select the most appropriate option that can substitute the underlined segment in the given sentence.

To enable women to become literate and provide for themselves, education for girls must be done voluntary.

- Ans
- 1. made mandatory
 - 2. enabled extensively
 - 3. kept secret
 - 4. done compulsorily

Question ID : 26433089801
Status : Not Answered
Chosen Option : --

Q.6 Select the most appropriate synonym of the word given below to fill in the blank in the following sentence.

The car _____ into the truck.

- Ans
- 1. striped
 - 2. bashed
 - 3. bounded
 - 4. decked

Question ID : 26433084776
Status : Not Answered
Chosen Option : --

Q.7 Select the most appropriate meaning of the given idiom.

Have your heart in your mouth

- Ans 1. Feeling extremely nervous
 2. Doing immediately
 3. Not being of your kind
 4. Accusing someone of faults which you have

Question ID : 26433073707
Status : Not Answered
Chosen Option : --

Q.8 Select the most appropriate ANTONYM of the given word.

Follow

- Ans 1. Trail
 2. Lead
 3. Show
 4. Heed

Question ID : 26433086376
Status : Not Answered
Chosen Option : --

Q.9 Select the most appropriate meaning of the given idiom.

Head over heels

- Ans 1. To be very angry
 2. To have immense patience
 3. To be madly in love
 4. To have dispute

Question ID : 26433073716
Status : Not Answered
Chosen Option : --

Q.10 Identify and correct the INCORRECTLY spelt word in the given sentence.

Sometimes failure is the stepping stone to success.

- Ans 1. succes
 2. stepping
 3. failuire
 4. stown

Question ID : 26433072763
Status : Not Answered
Chosen Option : --

Q.11 Select the correct pair of homonyms to fill in the blanks.

The sales of _____, _____ by 20% on Valentine's Day.

- Ans
- 1. dates, dated
 - 2. pear, pair
 - 3. roses, rose
 - 4. roll, rolled

Question ID : 26433061048
Status : Not Answered
Chosen Option : --

Q.12 Select the most appropriate option that can substitute the underlined segment in the given sentence.

Their plan to action during that critical situation was well appreciated by all.

- Ans
- 1. of action during that
 - 2. in action during that
 - 3. of action off that
 - 4. off action about that

Question ID : 26433089308
Status : Not Answered
Chosen Option : --

Q.13 Select the most appropriate synonym of the given word.

Leap

- Ans
- 1. Run
 - 2. Pile
 - 3. Peek
 - 4. Hop

Question ID : 26433084891
Status : Not Answered
Chosen Option : --

Q.14 Select the most appropriate option to substitute the underlined segment in the given sentence.

The syllabus designers has tried to address the problem of time available for teaching.

- Ans
- 1. have tried to address
 - 2. having tried to address
 - 3. has tried addressing
 - 4. has been tried to address

Question ID : 264330100290
Status : Not Answered
Chosen Option : --

Q.15 The following sentence has been split into four segments. Identify the segment that contains a grammatical error.

I were / writing / this poem / last evening.

- Ans** 1. I were
 2. writing
 3. this poem
 4. last evening

Question ID : 26433094742

Status : Not Answered

Chosen Option : --

Comprehension:

In the following passage, some words have been deleted. Read the passage carefully and select the most appropriate option to fill in each blank.

We (1)_____ brought up to fear insects. We regard them as unnecessary creatures that do more harm than good. Man continually (2)_____ war on them, because they contaminate his food, carry diseases, or devour his crops. They sting or bite without provocation; they fly uninvited into our rooms on summer nights or beat against our lighted windows. We live in dread not only of unpleasant insects like spiders or wasps but of quite (3)_____ ones like moths. Reading about them increases our understanding without dispelling our fears. Knowing that the industrious ant lives in a highly organised society does nothing to prevent us from being filled with revulsion when we find hordes of them crawling over a carefully prepared picnic lunch.

No matter how much we like honey or how much we have read about the uncanny sense of direction which bees possess, we have a horror of being stung. (4)_____ of our fears are unreasonable but they are difficult to erase. At the same time, however, insects are strangely fascinating. We enjoy reading about them, especially when we find that, like the praying mantis, they lead perfectly horrible lives. We enjoy staring at them, entranced as they go (5)_____ their business, unaware (we hope) of our presence.

SubQuestion No : 16

Q.16 Select the most appropriate option to fill in blank 1.

- Ans** 1. have been
 2. were being
 3. are been
 4. will be being

Question ID : 26433090442

Status : Not Answered

Chosen Option : --

Comprehension:

In the following passage, some words have been deleted. Read the passage carefully and select the most appropriate option to fill in each blank.

We (1)_____ brought up to fear insects. We regard them as unnecessary creatures that do more harm than good. Man continually (2)_____ war on them, because they contaminate his food, carry diseases, or devour his crops. They sting or bite without provocation; they fly uninvited into our rooms on summer nights or beat against our lighted windows. We live in dread not only of unpleasant insects like spiders or wasps but of quite (3)_____ ones like moths. Reading about them increases our understanding without dispelling our fears. Knowing that the industrious ant lives in a highly organised society does nothing to prevent us from being filled with revulsion when we find hordes of them crawling over a carefully prepared picnic lunch.

No matter how much we like honey or how much we have read about the uncanny sense of direction which bees possess, we have a horror of being stung. (4)_____ of our fears are unreasonable but they are difficult to erase. At the same time, however, insects are strangely fascinating. We enjoy reading about them, especially when we find that, like the praying mantis, they lead perfectly horrible lives. We enjoy staring at them, entranced as they go (5)_____ their business, unaware (we hope) of our presence.

SubQuestion No : 17

Q.17 Select the most appropriate option to fill in blank 2.

- Ans
- 1. yields
 - 2. employs
 - 3. wages
 - 4. redresses

Question ID : 26433090443

Status : Not Answered

Chosen Option : --

Comprehension:

In the following passage, some words have been deleted. Read the passage carefully and select the most appropriate option to fill in each blank.

We (1)_____ brought up to fear insects. We regard them as unnecessary creatures that do more harm than good. Man continually (2)_____ war on them, because they contaminate his food, carry diseases, or devour his crops. They sting or bite without provocation; they fly uninvited into our rooms on summer nights or beat against our lighted windows. We live in dread not only of unpleasant insects like spiders or wasps but of quite (3)_____ ones like moths. Reading about them increases our understanding without dispelling our fears. Knowing that the industrious ant lives in a highly organised society does nothing to prevent us from being filled with revulsion when we find hordes of them crawling over a carefully prepared picnic lunch.

No matter how much we like honey or how much we have read about the uncanny sense of direction which bees possess, we have a horror of being stung. (4)_____ of our fears are unreasonable but they are difficult to erase. At the same time, however, insects are strangely fascinating. We enjoy reading about them, especially when we find that, like the praying mantis, they lead perfectly horrible lives. We enjoy staring at them, entranced as they go (5)_____ their business, unaware (we hope) of our presence.

SubQuestion No : 18

Q.18 Select the most appropriate option to fill in blank 3.

- Ans
- 1. benignant
 - 2. harmless
 - 3. wholesome
 - 4. nonfatal

Question ID : 26433090444

Status : Not Answered

Chosen Option : --

Comprehension:

In the following passage, some words have been deleted. Read the passage carefully and select the most appropriate option to fill in each blank.

We (1)_____ brought up to fear insects. We regard them as unnecessary creatures that do more harm than good. Man continually (2)_____ war on them, because they contaminate his food, carry diseases, or devour his crops. They sting or bite without provocation; they fly uninvited into our rooms on summer nights or beat against our lighted windows. We live in dread not only of unpleasant insects like spiders or wasps but of quite (3)_____ ones like moths. Reading about them increases our understanding without dispelling our fears. Knowing that the industrious ant lives in a highly organised society does nothing to prevent us from being filled with revulsion when we find hordes of them crawling over a carefully prepared picnic lunch.

No matter how much we like honey or how much we have read about the uncanny sense of direction which bees possess, we have a horror of being stung. (4)_____ of our fears are unreasonable but they are difficult to erase. At the same time, however, insects are strangely fascinating. We enjoy reading about them, especially when we find that, like the praying mantis, they lead perfectly horrible lives. We enjoy staring at them, entranced as they go (5)_____ their business, unaware (we hope) of our presence.

SubQuestion No : 19

Q.19 Select the most appropriate option to fill in blank 4.

- Ans
- 1. Few
 - 2. Most
 - 3. Several
 - 4. Some

Question ID : 26433090445

Status : Not Answered

Chosen Option : --

Comprehension:

In the following passage, some words have been deleted. Read the passage carefully and select the most appropriate option to fill in each blank.

We (1)_____ brought up to fear insects. We regard them as unnecessary creatures that do more harm than good. Man continually (2)_____ war on them, because they contaminate his food, carry diseases, or devour his crops. They sting or bite without provocation; they fly uninvited into our rooms on summer nights or beat against our lighted windows. We live in dread not only of unpleasant insects like spiders or wasps but of quite (3)_____ ones like moths. Reading about them increases our understanding without dispelling our fears. Knowing that the industrious ant lives in a highly organised society does nothing to prevent us from being filled with revulsion when we find hordes of them crawling over a carefully prepared picnic lunch.

No matter how much we like honey or how much we have read about the uncanny sense of direction which bees possess, we have a horror of being stung. (4)_____ of our fears are unreasonable but they are difficult to erase. At the same time, however, insects are strangely fascinating. We enjoy reading about them, especially when we find that, like the praying mantis, they lead perfectly horrible lives. We enjoy staring at them, entranced as they go (5)_____ their business, unaware (we hope) of our presence.

SubQuestion No : 20

Q.20 Select the most appropriate option to fill in blank 5.

- Ans
- 1. beside
 - 2. near
 - 3. around
 - 4. about

Question ID : 26433090446

Status : Not Answered

Chosen Option : --

Q.1 निम्नलिखित मुहावरे के उचित अर्थ का चयन विकल्पों में से कीजिए।
ईट का जवाब पत्थर से देना

- Ans
- 1. गुप्त रहस्य प्रकट कर देना
 - 2. किसी की दुष्टता का करारा जवाब देना
 - 3. युद्धात्मक विनाश लाना
 - 4. विचलित होना

Question ID : 26433070000
Status : Answered
Chosen Option : 2

Q.2 निम्नलिखित वाक्य में रेखांकित खंड के स्थान पर प्रयुक्त होने वाले सबसे उपयुक्त विकल्प का चयन कीजिए।

वह सकुशल गाँव पहुँचे गया।

- Ans
- 1. पहुँचाना
 - 2. पहुँच
 - 3. पहुँची
 - 4. पहचान

Question ID : 26433079668
Status : Answered
Chosen Option : 2

Q.3 'चक्षुश्रवा' के लिए उपयुक्त वाक्य खंड चुनकर लिखिए।

- Ans
- 1. चक्षु से जो देखने का कार्य करता है।
 - 2. चक्षु से जो श्रवण कार्य करता है।
 - 3. चक्षु को जो दूसरों के साथ मिलाता है।
 - 4. चक्षु को जो बंदकर सोचता है।

Question ID : 26433063062
Status : Answered
Chosen Option : 2

Q.4 निम्नलिखित वाक्यांश के लिए उपयुक्त सार्थक शब्द क्या होगा?
किसी व्यवस्था को देखने वाला

- Ans
- 1. व्यापक
 - 2. व्यामक
 - 3. व्यवस्थापक
 - 4. व्यावहारिक

Question ID : 26433073315
Status : Answered
Chosen Option : 3

Q.5 निम्न में से कौन सा शब्द संख्यावाचक विशेषण का उदाहरण नहीं है?

- Ans 1. लगातार
 2. दोगुना
 3. पहला
 4. बहुत

Question ID : 26433085052

Status : Answered

Chosen Option : 1

Q.6 निम्नलिखित विकल्पों में से किस एक वाक्य में 'मोद' शब्द के लिए उचित पर्यायवाची का प्रयोग हुआ है?

- Ans 1. उमेश को उम्मीद है।
 2. नौकरी मिलने पर वह हर्षित है।
 3. नरेश दुखी है।
 4. वह पढ़ता है।

Question ID : 26433091189

Status : Answered

Chosen Option : 2

Q.7 निम्नलिखित मुहावरे का सही अर्थ विकल्पों में से चुनिए।
खरा खेल फरुखाबादी

- Ans 1. सही काम
 2. गुप्त सलाह करना
 3. युद्ध में मारा जाना
 4. परेशान होना

Question ID : 26433070012

Status : Answered

Chosen Option : 2

Q.8 निम्नलिखित में से शुद्ध वाक्य कौन सा है?

- Ans 1. वह लड़का खटनत है।
 2. वह लड़का नटखट है।
 3. वह लड़का नटखत है।
 4. वह लड़का नटनट है।

Question ID : 26433066831

Status : Answered

Chosen Option : 2

Q.9 मनुष्य को जीवों का रक्षक बनना चाहिए।
उपरोक्त वाक्य में रेखांकित शब्द के सही विलोम शब्द का चयन कीजिए।

- Ans
- 1. तक्षक
 - 2. वधिक
 - 3. भक्षक
 - 4. मारक

Question ID : 26433079744
Status : Answered
Chosen Option : 3

Q.10 'जो बहुत कम जानता हो' वाक्यांश के लिए सही शब्द क्या होगा?

- Ans
- 1. कृतज्ञ
 - 2. जिज्ञासु
 - 3. अल्पज्ञ
 - 4. सर्वज्ञ

Question ID : 26433069982
Status : Answered
Chosen Option : 3

Q.11 निम्नलिखित वाक्य के किस शब्द में अशुद्धि है?
चावल का अभाव चिंतनिय है।

- Ans
- 1. है
 - 2. चिंतनिय
 - 3. चावल
 - 4. अभाव

Question ID : 26433066770
Status : Answered
Chosen Option : 2

Q.12 निम्नलिखित विकल्पों में से किस एक वाक्य में 'आरम्भ' शब्द के लिए उचित विलोम का प्रयोग हुआ है?

- Ans
- 1. हर व्यक्ति का अंत सुनिश्चित है।
 - 2. समय की कद्र करना चाहिए।
 - 3. शिमला भारत में है।
 - 4. देश को श्रमजीवी लोगों की जरूरत है।

Question ID : 26433091191
Status : Answered
Chosen Option : 1

Q.13 इस कक्ष की लंबाई, ऊँचाई और चौड़ाई बराबर और एकरूप है।
उपरोक्त वाक्य में कौन-सा शब्द भाववाचक संज्ञा शब्द नहीं है?

- Ans
- 1. एकरूप
 - 2. चौड़ाई
 - 3. ऊँचाई
 - 4. लंबाई

Question ID : 26433062854
Status : Answered
Chosen Option : 1

Q.14 इनमें से कौन-सा शब्द 'गंगा' का पर्यायवाची नहीं है?

- Ans
- 1. विष्णुपदी
 - 2. कालिंदी
 - 3. देवनदी
 - 4. त्रिपथगा

Question ID : 26433066896
Status : Answered
Chosen Option : 2

Q.15 दिए गये वाक्यांश के लिए उचित शब्द बताइए - 'किसी बात पर बार-बार जोर देना'

- Ans
- 1. हठ
 - 2. बारम्बारता
 - 3. हठधर्मिता
 - 4. आग्रह

Question ID : 26433062587
Status : Answered
Chosen Option : 4

Comprehension:

प्रश्न संख्या 1-5 के उत्तर निम्न गद्यांश के आधार पर दीजिए।

भारत ने 1. _____ प्राप्त करने के बाद अनेक क्षेत्रों में महत्वपूर्ण उपलब्धियाँ प्राप्त की हैं। जब हम स्वतंत्र हुए तो उस समय हमारी स्थिति अच्छी न थी। सरकारी प्रयासों से काफी सुधार हुआ परंतु अभी भी एक 2. _____

ऐसा है जिसमें हम अभी तक कुछ विशेष नहीं कर पाए हैं, वह क्षेत्र है - खेलों का। इससे बड़ी विडंबना और क्या हो सकती है कि वर्षों से हम ओलंपिक में कोई भी स्वर्णपदक नहीं जीत पाए। दुनिया के छोटे-छोटे अविकसित, निर्धन राष्ट्रों के प्रतिभागी भी 3. _____ के क्षेत्र में हमसे आगे निकल गए हैं। कभी हॉकी का विशेष चैंपियन रहने वाला भारत आज इस खेल में अपनी प्रतिष्ठा खो चुका है। खेलों के गिरते स्तर के लिए कौन जिम्मेदार है? एक ओर सरकार की उदासीन दोषपूर्ण सरकारी नीतियाँ हैं तो दूसरी ओर विभिन्न खेल संघों की 4. _____, खिलाड़ियों के लिए सुविधाओं एवं प्रशिक्षण का सर्वथा अभाव या कुछ और प्रतियोगिताओं में भाग लेकर खाली हाथ लौटने पर सभी एक दूसरे को दोषी बताते हैं। कारण चाहे जो भी हो इतना तय है कि खेलकूद को राष्ट्रीय 5. _____ का पर्याय नहीं मानते। अभाव प्रतियोगिताओं का नहीं, अभाव है तो लगन का, प्रोत्साहन का, संकल्प का और मुंहतोड़ जवाब देने वाले जीवट का।

SubQuestion No : 16

Q.16 रिक्त स्थान 1 पर आने वाला सर्वाधिक उपयुक्त शब्द इनमें से क्या होगा?

- Ans
- 1. खुशी
 - 2. गुलामी
 - 3. पराधीनता
 - 4. स्वाधीनता

Question ID : 26433072606

Status : Answered

Chosen Option : 4

Comprehension:

प्रश्न संख्या 1-5 के उत्तर निम्न गद्यांश के आधार पर दीजिए।

भारत ने 1. _____ प्राप्त करने के बाद अनेक क्षेत्रों में महत्वपूर्ण उपलब्धियाँ प्राप्त की हैं। जब हम स्वतंत्र हुए तो उस समय हमारी स्थिति अच्छी न थी। सरकारी प्रयासों से काफी सुधार हुआ परंतु अभी भी एक 2. _____

ऐसा है जिसमें हम अभी तक कुछ विशेष नहीं कर पाए हैं, वह क्षेत्र है - खेलों का। इससे बड़ी विडंबना और क्या हो सकती है कि वर्षों से हम ओलंपिक में कोई भी स्वर्णपदक नहीं जीत पाए। दुनिया के छोटे-छोटे अविकसित, निर्धन राष्ट्रों के प्रतिभागी भी 3. _____ के क्षेत्र में हमसे आगे निकल गए हैं। कभी हॉकी का विशेष चैंपियन रहने वाला भारत आज इस खेल में अपनी प्रतिष्ठा खो चुका है। खेलों के गिरते स्तर के लिए कौन जिम्मेदार है? एक ओर सरकार की उदासीन दोषपूर्ण सरकारी नीतियाँ हैं तो दूसरी ओर विभिन्न खेल संघों की 4. _____, खिलाड़ियों के लिए सुविधाओं एवं प्रशिक्षण का सर्वथा अभाव या कुछ और प्रतियोगिताओं में भाग लेकर खाली हाथ लौटने पर सभी एक दूसरे को दोषी बताते हैं। कारण चाहे जो भी हो इतना तय है कि खेलकूद को राष्ट्रीय 5. _____ का पर्याय नहीं मानते। अभाव प्रतियोगिताओं का नहीं, अभाव है तो लगन का, प्रोत्साहन का, संकल्प का और मुंहतोड़ जवाब देने वाले जीवट का।

SubQuestion No : 17

Q.17 रिक्त स्थान 2 पर आने वाला सर्वाधिक उपयुक्त शब्द इनमें से क्या होगा?

- Ans
- 1. मामला
 - 2. खेत
 - 3. क्षेत्र
 - 4. शहर

Question ID : 26433072607

Status : Answered

Chosen Option : 3

Comprehension:

प्रश्न संख्या 1-5 के उत्तर निम्न गद्यांश के आधार पर दीजिए।

भारत ने 1. _____ प्राप्त करने के बाद अनेक क्षेत्रों में महत्वपूर्ण उपलब्धियाँ प्राप्त की हैं। जब हम स्वतंत्र हुए तो उस समय हमारी स्थिति अच्छी न थी। सरकारी प्रयासों से काफी सुधार हुआ परंतु अभी भी एक 2. _____

ऐसा है जिसमें हम अभी तक कुछ विशेष नहीं कर पाए हैं, वह क्षेत्र है - खेलों का। इससे बड़ी विडंबना और क्या हो सकती है कि वर्षों से हम ओलंपिक में कोई भी स्वर्णपदक नहीं जीत पाए। दुनिया के छोटे-छोटे अविकसित, निर्धन राष्ट्रों के प्रतिभागी भी 3. _____ के क्षेत्र में हमसे आगे निकल गए हैं। कभी हॉकी का विशेष चैंपियन रहने वाला भारत आज इस खेल में अपनी प्रतिष्ठा खो चुका है। खेलों के गिरते स्तर के लिए कौन जिम्मेदार है? एक ओर सरकार की उदासीन दोषपूर्ण सरकारी नीतियाँ हैं तो दूसरी ओर विभिन्न खेल संघों की 4. _____, खिलाड़ियों के लिए सुविधाओं एवं प्रशिक्षण का सर्वथा अभाव या कुछ और प्रतियोगिताओं में भाग लेकर खाली हाथ लौटने पर सभी एक दूसरे को दोषी बताते हैं। कारण चाहे जो भी हो इतना तय है कि खेलकूद को राष्ट्रीय 5. _____ का पर्याय नहीं मानते। अभाव प्रतियोगिताओं का नहीं, अभाव है तो लगन का, प्रोत्साहन का, संकल्प का और मुंहतोड़ जवाब देने वाले जीवट का।

SubQuestion No : 18

Q.18 रिक्त स्थान 3 पर आने वाला सर्वाधिक उपयुक्त शब्द इनमें से क्या होगा?

- Ans
- 1. नृत्य
 - 2. संगीत
 - 3. खेलकूद
 - 4. अभिनय

Question ID : 26433072608

Status : Answered

Chosen Option : 3

Comprehension:

प्रश्न संख्या 1-5 के उत्तर निम्न गद्यांश के आधार पर दीजिए।

भारत ने 1. _____ प्राप्त करने के बाद अनेक क्षेत्रों में महत्वपूर्ण उपलब्धियाँ प्राप्त की हैं। जब हम स्वतंत्र हुए तो उस समय हमारी स्थिति अच्छी न थी। सरकारी प्रयासों से काफी सुधार हुआ परंतु अभी भी एक 2. _____

ऐसा है जिसमें हम अभी तक कुछ विशेष नहीं कर पाए हैं, वह क्षेत्र है - खेलों का। इससे बड़ी विडंबना और क्या हो सकती है कि वर्षों से हम ओलंपिक में कोई भी स्वर्णपदक नहीं जीत पाए। दुनिया के छोटे-छोटे अविकसित, निर्धन राष्ट्रों के प्रतिभागी भी 3. _____ के क्षेत्र में हमसे आगे निकल गए हैं। कभी हॉकी का विशेष चैंपियन रहने वाला भारत आज इस खेल में अपनी प्रतिष्ठा खो चुका है। खेलों के गिरते स्तर के लिए कौन जिम्मेदार है? एक ओर सरकार की उदासीन दोषपूर्ण सरकारी नीतियाँ हैं तो दूसरी ओर विभिन्न खेल संघों की 4. _____, खिलाड़ियों के लिए सुविधाओं एवं प्रशिक्षण का सर्वथा अभाव या कुछ और प्रतियोगिताओं में भाग लेकर खाली हाथ लौटने पर सभी एक दूसरे को दोषी बताते हैं। कारण चाहे जो भी हो इतना तय है कि खेलकूद को राष्ट्रीय 5. _____ का पर्याय नहीं मानते। अभाव प्रतियोगिताओं का नहीं, अभाव है तो लगन का, प्रोत्साहन का, संकल्प का और मुंहतोड़ जवाब देने वाले जीवट का।

SubQuestion No : 19

Q.19 रिक्त स्थान 4 पर आने वाला सर्वाधिक उपयुक्त शब्द इनमें से क्या होगा?

- Ans
- 1. गुटबाजी
 - 2. दुश्मनी
 - 3. दोस्ती
 - 4. मित्रता

Question ID : 26433072609

Status : Answered

Chosen Option : 1

Comprehension:

प्रश्न संख्या 1-5 के उत्तर निम्न गद्यांश के आधार पर दीजिए।

भारत ने 1. _____ प्राप्त करने के बाद अनेक क्षेत्रों में महत्वपूर्ण उपलब्धियाँ प्राप्त की हैं। जब हम स्वतंत्र हुए तो उस समय हमारी स्थिति अच्छी न थी। सरकारी प्रयासों से काफी सुधार हुआ परंतु अभी भी एक 2.

_____ ऐसा है जिसमें हम अभी तक कुछ विशेष नहीं कर पाए हैं, वह क्षेत्र है - खेलों का। इससे बड़ी विडंबना और क्या हो सकती है कि वर्षों से हम ओलंपिक में कोई भी स्वर्णपदक नहीं जीत पाए। दुनिया के छोटे-छोटे अविकसित, निर्धन राष्ट्रों के प्रतिभागी भी 3. _____ के क्षेत्र में हमसे आगे निकल गए हैं। कभी हॉकी का विशेष चैंपियन रहने वाला भारत आज इस खेल में अपनी प्रतिष्ठा खो चुका है। खेलों के गिरते स्तर के लिए कौन जिम्मेदार है? एक ओर सरकार की उदासीन दोषपूर्ण सरकारी नीतियाँ हैं तो दूसरी ओर विभिन्न खेल संघों की 4. _____, खिलाड़ियों के लिए सुविधाओं एवं प्रशिक्षण का सर्वथा अभाव या कुछ और प्रतियोगिताओं में भाग लेकर खाली हाथ लौटने पर सभी एक दूसरे को दोषी बताते हैं। कारण चाहे जो भी हो इतना तय है कि खेलकूद को राष्ट्रीय 5. _____ का पर्याय नहीं मानते। अभाव प्रतियोगिताओं का नहीं, अभाव है तो लगन का, प्रोत्साहन का, संकल्प का और मुहतोड़ जवाब देने वाले जीवट का।

SubQuestion No : 20

Q.20 रिक्त स्थान 5 पर आने वाला सर्वाधिक उपयुक्त शब्द इनमें से क्या होगा?

- Ans
- 1. खुशी
 - 2. अपमान
 - 3. सम्मान
 - 4. दुख

Question ID : 26433072610

Status : Answered

Chosen Option : 3

WWW.GOVtJOBsaLert.in