

# Constable GD in CAPFs SSF Rifleman GD in Assam Rifles and Sepoy in NCB Examination 2022

Roll Number	www.govtjobsalert.in
Candidate Name	www.govtjobsalert.in
Venue Name	iON Digital Zone iDZ Kishanpur
Exam Date	13/02/2023
Exam Time	11:45 AM - 12:45 PM
Subject	Constable GD Examination 2022

## Section : Part-A-General Intelligence and Reasoning

Q.1 दिए गए समीकरण को संतुलित करने के लिए विकल्पों में दिए गए किन दो चिह्नों को परस्पर बदलना होगा?

$$(9 \div 3 + 169 \times 13) \div 5 - 10 + 16 = 206$$

- Ans
- 1. + और -
  - 2. × और -
  - 3. ÷ और ×
  - 4. + और ×

Question ID : 26433082481

Status : Answered

Chosen Option : 4

Q.2 एक निश्चित कूट भाषा में, GUIDE को 'KWMFI' लिखा जाता है, और SLICE को 'WNMEI' लिखा जाता है। उसी कूट भाषा में 'FAITH' को किस प्रकार लिखा जाएगा?

- Ans
- 1. JDNVL
  - 2. JDNWL
  - 3. JCNVL
  - 4. JCMVL

Question ID : 26433067988

Status : Answered

Chosen Option : 4

Q.3 उस समुच्चय का चयन करें, जिसमें संख्याएँ उसी प्रकार संबंधित हैं, जिस प्रकार निम्नलिखित समुच्चयों की संख्याएँ हैं।

(नोट: संख्याओं को उसके घटक अंकों में विभाजित किए बिना, पूर्ण संख्याओं पर ही गणितीय संक्रियाएँ की जानी चाहिए। जैसे 13 - मान लीजिए 13 पर गणितीय संक्रियाएँ जैसे कि 13 में जोड़ना/घटाना/गुणा करना आदि किया जा सकता है। 13 को 1 और 3 में तोड़कर और फिर 1 और 3 पर गणितीय संक्रियाएँ करने की अनुमति नहीं है।)

(12, 87, 17)

(19, 117, 20)

- Ans
- 1. (13, 75, 12)
  - 2. (11, 121, 22)
  - 3. (8, 96, 14)
  - 4. (15, 69, 9)

Question ID : 26433076480

Status : Not Answered

Chosen Option : --

Q.4 छः विद्यार्थी P, Q, R, S, T और U एक वृत्ताकार मेज के परितः मेज के केंद्र की ओर मुख करके बैठे हैं। P, Q के दाईं ओर दूसरे स्थान पर बैठा है। S, Q और R दोनों के ठीक बगल में बैठा है। U, R के बाईं ओर तीसरे स्थान पर बैठा है। T, P और R दोनों के ठीक बगल में बैठा है। इनमें से कौन P और Q के ठीक बगल में बैठा है?

- Ans
- 1. T
  - 2. U
  - 3. R
  - 4. S

Question ID : 26433068865

Status : Answered

Chosen Option : 2

Q.5 उस विकल्प का चयन कीजिए जो तीसरे शब्द से उसी प्रकार संबंधित है जिस प्रकार दूसरा शब्द पहले शब्द से संबंधित है। (शब्दों को अर्थपूर्ण शब्दों के रूप में मानना है और उन्हें शब्द में अक्षरों/व्यंजनों/स्वरों की संख्या के आधार पर एक-दूसरे से संबंधित नहीं करना है।)  
आम : फल :: रूबा : ?

- Ans
- 1. नृत्य
  - 2. समुद्र
  - 3. भोजन
  - 4. लंबा

Question ID : 26433079483

Status : Answered

Chosen Option : 1

Q.6 उस विकल्प का चयन कीजिए जो पांचवें अक्षर-समूह से उसी प्रकार संबंधित है जिस प्रकार दूसरा अक्षर-समूह पहले अक्षर-समूह से संबंधित है और चौथा अक्षर-समूह तीसरे अक्षर-समूह से संबंधित है।  
NEAR : PVZP :: GONE : ILMC :: TAXI : ?

- Ans
- 1. GZCR
  - 2. RCZK
  - 3. VZCM
  - 4. VZCG

Question ID : 26433057484

Status : Answered

Chosen Option : 4

Q.7 एक निश्चित कूट भाषा में 'RESULT' को 'LUTERS' के रूप में और 'BARLEY' को 'ELYABR' के रूप में लिखा जाता है। इसी कूट भाषा में 'HEAVEN' को कैसे लिखा जाएगा?

- Ans
- 1. AEVNHA
  - 2. EANVHE
  - 3. EVNEHA
  - 4. VEENAH

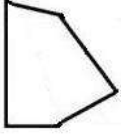
Question ID : 26433079487

Status : Answered

Chosen Option : 3

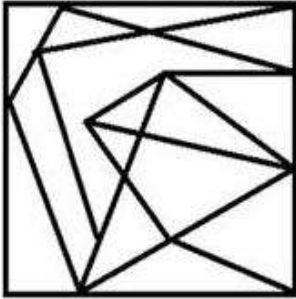
Q.8

उस विकल्प आकृति का चयन करें जिसमें दी गई आकृति अंतर्निहित है (घुमाने की अनुमति नहीं है)।

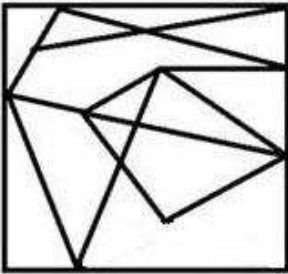


Ans

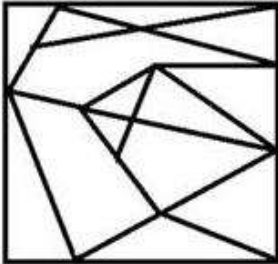
✗ 1.



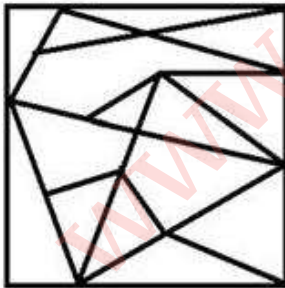
✗ 2.



✓ 3.



✗ 4.



Question ID : 26433069593

Status : Answered

Chosen Option : 3

Q.9 इस प्रश्न में तीन कथन दिए गए हैं, जिसके बाद दो निष्कर्ष I और II दिए गए हैं। कथनों को सत्य मानते हुए, भले ही वे सर्वज्ञात तथ्यों से भिन्न प्रतीत होते हों, निर्णय कीजिए कि कौन-सा/से निष्कर्ष कथनों का तार्किक रूप से अनुसरण करता है/अनुसरण करते हैं।

कथन:

सभी सेब फल हैं।

सभी फल सब्जियां हैं।

कुछ सब्जियां ताजी हैं।

निष्कर्ष:

I. सभी सेब ताजे हैं।

II. कुछ फल ताजे हैं।

Ans  1. न तो निष्कर्ष I और न ही II अनुसरण करता है।

2. निष्कर्ष I और II दोनों अनुसरण करते हैं।

3. केवल निष्कर्ष I अनुसरण करता है।

4. केवल निष्कर्ष II अनुसरण करता है।

Question ID : 26433070386

Status : Answered

Chosen Option : 1

Q.10 निम्न में से कौन सी संख्या दी गई श्रृंखला में प्रश्नचिह्न (?) के स्थान पर आएगी?  
198, 194, 185, ?, 144, 108

Ans  1. 182

2. 169

3. 172

4. 175

Question ID : 26433076740

Status : Answered

Chosen Option : 2

Q.11 आठ लड़कियां P, Q, R, S, U, V, T और W एक वृत्ताकार मेज के परितः मेज के केंद्र की ओर मुख करके बैठी हैं। V, Q के बाईं ओर ठीक बगल में, और U के दाईं ओर ठीक बगल में बैठी है। W, V के बाईं ओर तीसरे स्थान पर, और P के दाईं ओर दूसरे स्थान पर बैठी है। R, P और Q के ठीक बगल में बैठी है। T, R के बाईं ओर चौथे स्थान पर बैठी है। U के बाईं ओर तीसरे स्थान पर कौन बैठी है?

Ans  1. V

2. P

3. T

4. S

Question ID : 26433091415

Status : Answered

Chosen Option : 4

Q.12 नीचे दिए गए समीकरण को गणितीय रूप से सही बनाने के लिए किन दो चिन्हों को परस्पर बदलना चाहिए?

$$81 + 3 \div 27 - 8 \times 24 = 25$$

Ans  1.  $\times$  और  $+$

2.  $+$  और  $-$

3.  $\div$  और  $+$

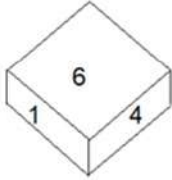
4.  $\div$  और  $\times$

Question ID : 264330117533

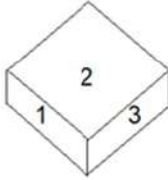
Status : Answered

Chosen Option : 1

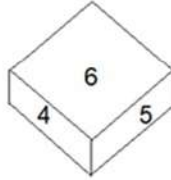
Q.13 एक ही पासे की तीन अलग-अलग स्थितियां दर्शाई गई हैं। '4' दशनि वाले फलक के विपरीत फलक पर संख्या ज्ञात करें।



आकृति 1



आकृति 2



आकृति 3

Ans  1. 3

2. 6

3. 5

4. 2

Question ID : 26433089455

Status : Answered

Chosen Option : 1

Q.14 निम्नलिखित में से कौन-सा अक्षर-समूह दी गई श्रृंखला में प्रश्न-चिह्न (?) के स्थान पर आएगा?  
DHMO, EILN, FJKM, ?, HLIK

Ans  1. HKJK

2. GLKL

3. GLJL

4. GKJL

Question ID : 26433076437

Status : Answered

Chosen Option : 4

Q.15 किस विकल्प में निम्नलिखित शब्दों का वह क्रम दिया गया है, जिस क्रम में वे अंग्रेजी शब्दकोश में आते हैं?

- 1 danger
- 2 damage
- 3 daring
- 4 darling
- 5 dark

Ans ✓ 1. 2,1,3,5,4

✗ 2. 3,1,2,4,5

✗ 3. 2,3,1,4,5

✗ 4. 2,1,3,4,5

Question ID : 26433069291

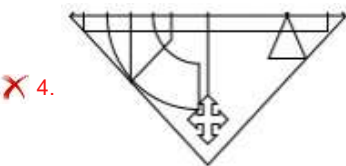
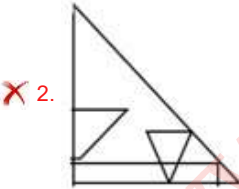
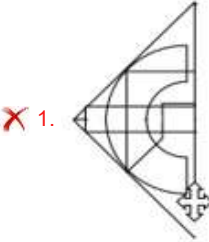
Status : Answered

Chosen Option : 1

Q.16 उस विकल्प आकृति का चयन करें जो दी गई आकृति में निहित है। (आकृति को घुमाने की अनुमति नहीं है)।



Ans



Question ID : 26433089776

Status : Answered

Chosen Option : 3

Q.17 दिए गए विकल्पों में से वह संख्या चुनिए, जो निम्नलिखित शृंखला में प्रश्न-चिह्न

(?) को प्रतिस्थापित कर सके।

$$\frac{1}{248}, \frac{1}{217}, \frac{1}{186}, ? , \frac{1}{124}$$

Ans

✗ 1.  $\frac{1}{179}$

✗ 2.  $\frac{1}{147}$

✗ 3.  $\frac{1}{138}$

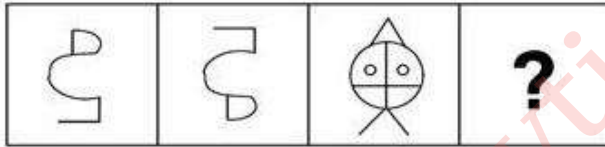
✓ 4.  $\frac{1}{155}$

Question ID : 26433074529

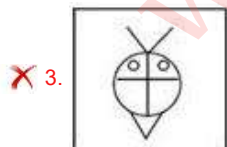
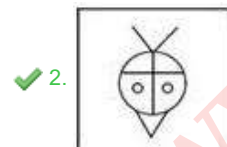
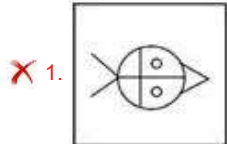
Status : Answered

Chosen Option : 4

Q.18 वह विकल्प ज्ञात कीजिए जो तीसरी आकृति से उसी प्रकार संबंधित है जैसे दूसरी आकृति पहली आकृति से संबंधित है। (पहला आकृति सबसे बाईं ओर की आकृति है।)



Ans



Question ID : 26433078858

Status : Answered

Chosen Option : 2

Q.19 कौन-सा अक्षर-समूह दी गई शृंखला में प्रश्नचिह्न (?) के स्थान पर आकर शृंखला को पूर्ण करेगा?  
ZYXV, UTSQ, PONL, KJIG, ?

- Ans
- 1. FDBA
  - 2. FEDC
  - 3. FEDB
  - 4. FDCB

Question ID : 26433067719  
Status : Answered  
Chosen Option : 3

Q.20 एक परिवार में 7 सदस्य हैं। X और Y एक विवाहित जोड़ा हैं। X, L का पिता है। M, L की पत्नी है। C, L का भाई है। C का एक बेटा O है। P, O की बहन है। C, P से किस प्रकार संबंधित है?

- Ans
- 1. दादा
  - 2. चाचा
  - 3. पिता
  - 4. बेटा

Question ID : 26433074598  
Status : Answered  
Chosen Option : 3

Section : Part-B-General Knowledge and General awareness

Q.1 एशियाई खेल 2018 के मेजबान कौन थे?

- Ans
- 1. चीन
  - 2. सिंगापुर
  - 3. भारत
  - 4. इंडोनेशिया

Question ID : 264330115917  
Status : Answered  
Chosen Option : 2

Q.2 प्लासी का युद्ध \_\_\_\_\_ में लड़ा गया था।

- Ans
- 1. 1755
  - 2. 1757
  - 3. 1760
  - 4. 1764

Question ID : 264330115701  
Status : Answered  
Chosen Option : 2



Q.3 ज़ियाउद्दीन बरनी ने अपना वृत्तांत का पहला संस्करण \_\_\_\_\_ वर्ष में लिखा था।

- Ans
- 1. 1288
  - 2. 1358
  - 3. 1402
  - 4. 1356

Question ID : 26433089124  
Status : Not Answered  
Chosen Option : --

Q.4 नारियल के रेशेयुक्त छिलके \_\_\_\_\_ उत्तक के बने होते हैं।

- Ans
- 1. ज़ाइलम
  - 2. पैरेन्काइमा
  - 3. स्क्लेरेन्काइमा
  - 4. कॉलेन्काइमा

Question ID : 264330115203  
Status : Not Answered  
Chosen Option : --

Q.5 'पाइका' \_\_\_\_\_ में किया जाने वाला एक लोक नृत्य है।

- Ans
- 1. झारखंड
  - 2. हरियाणा
  - 3. महाराष्ट्र
  - 4. तमिलनाडु

Question ID : 26433071664  
Status : Answered  
Chosen Option : 1

Q.6 राम नवमी का त्यौहार हिंदू माह \_\_\_\_\_ में मनाया जाता है।

- Ans
- 1. चैत्र
  - 2. फाल्गुन
  - 3. कार्तिक
  - 4. अश्विन

Question ID : 264330115098  
Status : Answered  
Chosen Option : 2

Q.7 भारतीय संविधान का निम्नलिखित में से कौन सा अनुच्छेद भारत के महान्यायवादी से संबंधित है?

- Ans
- 1. अनुच्छेद 76
  - 2. अनुच्छेद 243ZE
  - 3. अनुच्छेद 279A
  - 4. अनुच्छेद 243I

Question ID : 26433089912  
Status : Answered  
Chosen Option : 1

Q.8 धनंजय यशवंत चन्द्रचूड़ को अक्टूबर 2022 में भारत के \_\_\_\_\_ मुख्य न्यायाधीश के रूप में नियुक्त किया गया है।

- Ans
- 1. 40वें
  - 2. 20वें
  - 3. 30वें
  - 4. 50वें

Question ID : 264330114922  
Status : Answered  
Chosen Option : 4

Q.9 भूकंप के दौरान कंपन को मापने के लिए किस यंत्र का उपयोग किया जाता है?

- Ans
- 1. रिक्टर मापक्रम
  - 2. मरकैली मापक्रम
  - 3. सिस्मोग्राफ
  - 4. हाइग्रोमीटर

Question ID : 264330116003  
Status : Answered  
Chosen Option : 3

Q.10 निम्नलिखित प्रकार के उद्योगों को उनके उदाहरणों से मिलान करें।

- a) कृषि आधारित उद्योग i) होटल और रेस्टोरेंट
- b) सार्वजनिक क्षेत्र उद्योग ii) लोहा और इस्पात उद्योग
- c) निजी क्षेत्र उद्योग iii) रेशम टेक्सटाइल
- d) खनिज आधारित उद्योग iv) BHEL और SAIL

- Ans
- 1. a-iii, b-iv, c-i, d-ii
  - 2. a-iv, b-iii, c-ii, d-i
  - 3. a-iv, b-ii, c-i, d-iii
  - 4. a-i, b-ii, c-iii, d-iv

Question ID : 264330115567  
Status : Not Answered  
Chosen Option : --

Q.11 भारत की जनगणना 2011 का आदर्श-वाक्य (slogan) क्या था?

- Ans
- 1. हमारी जनगणना - हमारा भविष्य
  - 2. हमारी जनगणना - हमारा गौरव
  - 3. भारत की जनगणना - भारत का गौरव
  - 4. हमारी जनगणना - सुरक्षित भविष्य

Question ID : 264330116029  
Status : Answered  
Chosen Option : 1

Q.12 2022 तक प्राप्त जानकारी के अनुसार, भारत ने अपना आखिरी ODI क्रिकेट विश्व कप किस वर्ष जीता था?

- Ans
- 1. 2003
  - 2. 1983
  - 3. 2011
  - 4. 2007

Question ID : 264330116248  
Status : Not Answered  
Chosen Option : --

Q.13 पद्म श्री से सम्मानित होने वाले पहले ट्रांसजेंडर का नाम क्या था?

- Ans
- 1. शांति देवी
  - 2. राम मूर्ति
  - 3. नर्तकी नटराज
  - 4. कार्तिक चंद्र रथ

Question ID : 264330115820  
Status : Not Answered  
Chosen Option : --

Q.14 वह रासायनिक अभिक्रिया जिसमें \_\_\_\_\_ का जोड़ या \_\_\_\_\_ का निष्कासन हो, अपचयन कहा जाता है।

- Ans
- 1. कार्बन डाइऑक्साइड, हाइड्रोजन
  - 2. ऑक्सीजन, हाइड्रोजन
  - 3. कार्बन डाइऑक्साइड, ऑक्सीजन
  - 4. हाइड्रोजन, ऑक्सीजन

Question ID : 264330115157  
Status : Not Answered  
Chosen Option : --

Q.15 \_\_\_\_\_ (ABDM) का उद्देश्य देश के एकीकृत डिजिटल स्वास्थ्य अवसंरचना का समर्थन करने हेतु आवश्यक आधार विकसित करना है।

- Ans
- 1. आयुष्मान भारत डिजिटल मैप
  - 2. आयुष्मान भारत डिजिटल मेनेजमेंट
  - 3. अजय भारत डिजिटल मिशन
  - 4. आयुष्मान भारत डिजिटल मिशन

Question ID : 264330116166  
Status : Not Answered  
Chosen Option : --

Q.16 चौथी पंचवर्षीय योजना वर्ष \_\_\_\_\_ में शुरू हुई थी।

Ans  1. 1969

2. 1973

3. 1962

4. 1966

Question ID : 264330116119

Status : Answered

Chosen Option : 1

Q.17 इनमें से कौन-सा एक मूल कर्तव्य नहीं है?

Ans  1. राष्ट्रगान का सम्मान करना

2. राष्ट्रीय स्वतंत्रता संग्राम के विचारों को पोषित करना

3. मत डालने का कर्तव्य

4. राष्ट्रीय ध्वज का सम्मान करना

Question ID : 26433089180

Status : Answered

Chosen Option : 2

Q.18 बैंकों के बैंकर के रूप में \_\_\_\_\_ 'अंतिम ऋणदाता' के रूप में भी कार्य करता है।

Ans  1. भारतीय स्टेट बैंक

2. यूनिजन बैंक ऑफ इंडिया

3. राष्ट्रीयकृत भारतीय बैंक

4. भारतीय रिजर्व बैंक

Question ID : 264330115320

Status : Answered

Chosen Option : 4

Q.19 \_\_\_\_\_ एक व्यापार नीति है, जो आयात या निर्यात को प्रतिबंधित नहीं करती है।

Ans  1. स्थानीय व्यापार

2. स्विस व्यापार

3. मुक्त व्यापार

4. निष्पक्ष व्यापार

Question ID : 264330115386

Status : Not Answered

Chosen Option : --

Q.20 केंद्र सरकार द्वारा अगस्त 2022 में, नेशनल इंटेलीजेंस ग्रिड (NATGRID) के नए मुख्य कार्यकारी अधिकारी के रूप में किसे चुना गया?

- Ans
- 1. सत्य लोला
  - 2. पीयूष गोयल
  - 3. आशीष गुप्ता
  - 4. रघु रमन

Question ID : 264330115023  
Status : Not Answered  
Chosen Option : --

Section : Part-C-Elementary Mathematics

Q.1 अतुल अकेला एक कार्य को 114 दिनों में पूरा कर सकता है। उसी कार्य को 19 दिनों में पूरा करने के लिए अतुल जैसी दक्षता वाले कितने व्यक्तियों की आवश्यकता थी?

- Ans
- 1. 8
  - 2. 7
  - 3. 6
  - 4. 5

Question ID : 264330116850  
Status : Answered  
Chosen Option : 3

Q.2 एक वस्तु का अंकित मूल्य 1600 रुपए है लेकिन रोहन को 20 प्रतिशत की छूट मिलती है। वह 1600 रुपए में वस्तु बेचता है। रोहन का लाभ प्रतिशत है:

- Ans
- 1. 25 प्रतिशत
  - 2. 22 प्रतिशत
  - 3. 20 प्रतिशत
  - 4. 18 प्रतिशत

Question ID : 264330116735  
Status : Answered  
Chosen Option : 1

Q.3 34 व्यक्तियों के समूह में 90 kg वजन वाले एक व्यक्ति के स्थान पर एक नए व्यक्ति के शामिल होने पर उनका औसत वजन 3 kg बढ़ जाता है। नए व्यक्ति का वजन ज्ञात कीजिए।

- Ans
- 1. 192 kg
  - 2. 196 kg
  - 3. 190 kg
  - 4. 202 kg

Question ID : 26433079998  
Status : Answered  
Chosen Option : 1

Q.4 एक फल व्यापारी एक निश्चित मूल्य पर आम बेचकर 25% का लाभ कमाता है। यदि वह प्रत्येक आम पर Rs.3 अधिक मूल्य लेता है, तो उसे 40% का लाभ होगा। एक आम का क्रय मूल्य ज्ञात कीजिए।

- Ans
- 1. Rs.25
  - 2. Rs.20
  - 3. Rs.15
  - 4. Rs.30

Question ID : 26433074985  
Status : Not Answered  
Chosen Option : --

Q.5 सबसे बड़ी संख्या के अंकों के बीच अंतर ज्ञात करें जो 144 और 216 को पूर्णतः विभाजित कर सकती है?

- Ans
- 1. 3
  - 2. 5
  - 3. 2
  - 4. 4

Question ID : 264330116639  
Status : Answered  
Chosen Option : 2

Q.6 A और B के बीच ₹ 5,309 को इस प्रकार विभाजित कीजिए, ताकि 6% प्रति वर्ष की दर से ब्याज चक्रवृद्धि किए जाने पर 4 वर्ष बाद A की राशि, 6 वर्ष बाद B की राशि के बराबर हो जाए, ब्याज का संयोजन वार्षिक रूप से किया गया है।

- Ans
- 1. ₹2,809, ₹2,500
  - 2. ₹2,659, ₹2,650
  - 3. ₹2,709, ₹2,600
  - 4. ₹2,759, ₹2,550

Question ID : 26433074299  
Status : Not Answered  
Chosen Option : --

Q.7 आठ व्यक्तियों का औसत भार 40 kg है। यदि एक व्यक्ति को हटा दिया जाए, तो औसत भार 38 kg हो जाता है। हटाए गए व्यक्ति का भार कितना है?

- Ans
- 1. 33.25 kg
  - 2. 78 kg
  - 3. 38 kg
  - 4. 54 kg

Question ID : 26433087343  
Status : Answered  
Chosen Option : 4

Q.8 एक वस्तु का क्रय मूल्य, अंकित मूल्य का 64% है। 20% की छूट देने के बाद लाभ प्रतिशत की गणना कीजिए।

- Ans
- 1. 20%
  - 2. 25%
  - 3. 30%
  - 4. 35%

Question ID : 26433073015  
Status : Answered  
Chosen Option : 2

Q.9 किसी उत्पाद का विक्रय मूल्य ऐसा है कि विक्रेता को क्रय मूल्य पर 20% का लाभ होता है। विक्रय मूल्य का क्रय मूल्य से अनुपात ज्ञात कीजिए।

- Ans
- 1.  $\frac{4}{3}$
  - 2.  $\frac{5}{6}$
  - 3.  $\frac{3}{4}$
  - 4.  $\frac{6}{5}$

Question ID : 26433071306  
Status : Answered  
Chosen Option : 4

Q.10 2019 की शुरुआत में एक शहर की जनसंख्या 82,000 थी। इसकी जनसंख्या सालाना 2% की दर से बढ़ रही है। 2022 की शुरुआत में इसकी जनसंख्या (निकटतम पूर्णांक तक पूर्णांकित) कितनी है?

- Ans
- 1. 88000
  - 2. 86789
  - 3. 87019
  - 4. 85000

Question ID : 26433075983  
Status : Not Answered  
Chosen Option : --

Q.11 दो उम्मीदवारों के बीच एक चुनाव में, 80% मतदाताओं ने अपना मत दिया, जिसमें से 5% मत अवैध घोषित कर दिए गए। एक उम्मीदवार को 285000 मत मिले जो कुल वैध मतों का 75% था। उस चुनाव के लिए नामांकित मतदाताओं की कुल संख्या कितनी थी?

- Ans
- 1. 550000
  - 2. 500000
  - 3. 450000
  - 4. 400000

Question ID : 26433087351  
Status : Answered  
Chosen Option : 2

Q.12 यदि  $\frac{5}{8}$  of  $184 \times 15 \div 5 + k = 513 \div 9 + 435$  है, तो k का मान ज्ञात कीजिए।

- Ans
- 1. 136
  - 2. 192
  - 3. 239
  - 4. 147

Question ID : 26433074974  
Status : Answered  
Chosen Option : 4

Q.13 श्लोक पहले 140 km 3 घंटे में और अगले 180 km 5 घंटे में तय करता है। पूरी यात्रा के दौरान उसकी औसत चाल (km/h में) क्या है?

- Ans
- 1. 50
  - 2. 45
  - 3. 30
  - 4. 40

Question ID : 26433075241  
Status : Answered  
Chosen Option : 4

Q.14 एक नाव स्थिर जल में 15 km/h की चाल से चल रही है। धारा की चाल 3 km/h है। नाव को धारा की विपरीत दिशा में 6 km की दूरी तय करने में कितना समय लगेगा?

- Ans
- 1. 15 मिनट
  - 2. 45 मिनट
  - 3. 20 मिनट
  - 4. 30 मिनट

Question ID : 26433075986  
Status : Answered  
Chosen Option : 4

Q.15 यदि 3 और 27 का तीसरा समानुपाती 'x' है, तो 'x' और 27 का महत्तम समापवर्तक क्या होगा?

- Ans
- 1. 3
  - 2. 15
  - 3. 27
  - 4. 9

Question ID : 26433076008  
Status : Answered  
Chosen Option : 3



Q.16 एक व्यक्ति चावल को 10% लाभ पर बेचता है और वास्तविक माप से 20% कम वजन का उपयोग करता है। उसका लाभ प्रतिशत \_\_\_\_\_ है।

- Ans
- 1.  $37\frac{2}{3}\%$
  - 2.  $37\frac{1}{5}\%$
  - 3.  $37\frac{1}{3}\%$
  - 4.  $37\frac{1}{2}\%$

Question ID : 26433075149

Status : Not Answered

Chosen Option : --

Q.17 एक शंकु है जिसका व्यास 14 cm और ऊंचाई 12 cm है। इसमें प्रत्येक 10 s में  $4\text{ cm}^3$  की दर से पानी भरा जा रहा है। शंकु को भरने में कितना समय लगेगा? ( $\pi = \frac{22}{7}$  का उपयोग कीजिए)

- Ans
- 1. 1540 s
  - 2. 6160 s
  - 3. 3080 s
  - 4. 616 s

Question ID : 26433087414

Status : Answered

Chosen Option : 1

Q.18 एक ठोस अर्धगोले का आयतन  $1,152\pi\text{ cm}^3$  है। अर्धगोले का वक्र पृष्ठीय क्षेत्रफल ज्ञात करें।

- Ans
- 1.  $302\pi\text{ cm}^2$
  - 2.  $294\text{ cm}^2$
  - 3.  $344\text{ cm}^2$
  - 4.  $288\pi\text{ cm}^2$

Question ID : 26433075857

Status : Answered

Chosen Option : 4

Q.19 2 घंटे 40 मिनट, 1 घंटे 20 मिनट और 10 घंटे का चतुर्थ आनुपातिक \_\_\_\_\_ है।

- Ans
- 1. 5 घंटे
  - 2. 6 घंटे
  - 3. 2 घंटे
  - 4. 4 घंटे

Question ID : 26433081579

Status : Answered

Chosen Option : 1

Q.20 दो व्यक्ति P और Q एक साथ कार्य करते हुए एक कार्य को 36 दिनों में पूरा कर सकते हैं। Q अकेले उसे 45 दिनों में पूरा कर सकता है। Q अकेले कार्य शुरू करता है और 5 दिन बाद उसे छोड़ देता है। शेष कार्य को पूरा करने में P को कितने दिन लगेंगे?

Ans  1. 180

2. 140

3. 160

4. 120

Question ID : 26433080229

Status : Not Answered

Chosen Option : --

Section : Part-D-English

Q.1 Select the most appropriate ANTONYM of the given word.

Verbose

Ans  1. Brief

2. Polished

3. Wordy

4. Talkative

Question ID : 26433072665

Status : Not Answered

Chosen Option : --

Q.2 Select the most appropriate option to fill in the blank.

I have made the basket for going to the picnic and I've packed some sandwiches

\_\_\_\_\_.

Ans  1. too

2. toot

3. to

4. two

Question ID : 26433084617

Status : Not Answered

Chosen Option : --

Q.3 Select the most appropriate meaning of the given idiom.

Wear your heart on your sleeve

Ans  1. Wearing untidy clothes intentionally

2. Spreading scandals mercilessly

3. Imagining unreal things about others

4. Expressing emotions very openly

Question ID : 26433073486

Status : Not Answered

Chosen Option : --

Q.4 Select the most appropriate meaning of the given idiom.

To add fuel to fire.

- Ans  1. To start the conversation  
 2. To make a bad situation worse  
 3. To speak against someone  
 4. To fight over trivial thing

Question ID : 26433072537  
Status : Not Answered  
Chosen Option : --

Q.5 Select the most appropriate option to fill in the blank.

My uncle's legal \_\_\_\_\_ is his son.

- Ans  1. hair  
 2. here  
 3. hare  
 4. heir

Question ID : 26433073933  
Status : Not Answered  
Chosen Option : --

Q.6 In the following passage, some words have been deleted. Read the passage carefully and select the most appropriate option to fill in the blanks.

Blood transfusion is a procedure that starts with the doctor (1) \_\_\_\_\_ the patients' blood type. In case of a wrong transfusion in the immune (2) \_\_\_\_\_ of an individual, it leads to an infection.

- Ans  1. treating; process  
 2. determining; system  
 3. settling; order  
 4. diagnosing; structure

Question ID : 26433084742  
Status : Not Answered  
Chosen Option : --

Q.7 Substitute the underlined words with the option that is closest in meaning to it.

Rahul likes to keep his house spic and span.

- Ans  1. rich and famous  
 2. shabby and dirty  
 3. bright and glory  
 4. neat and clean

Question ID : 26433088952  
Status : Not Answered  
Chosen Option : --

**Q.8** Select the most appropriate homonym to fill in the blank.  
The authorities \_\_\_\_\_ the unregistered companies.

- Ans
- 1. sees
  - 2. seas
  - 3. cease
  - 4. seize

Question ID : 26433058519  
Status : Not Answered  
Chosen Option : --

**Q.9** Select the most appropriate synonym of the underlined word.

Since the last few hours his pulse rate is constant.

- Ans
- 1. Pitiful
  - 2. Reflective
  - 3. Steady
  - 4. Fickle

Question ID : 26433084682  
Status : Not Answered  
Chosen Option : --

**Q.10** Select the INCORRECTLY spelt word.

- Ans
- 1. Covardice
  - 2. Statutory
  - 3. Brandish
  - 4. Treachery

Question ID : 26433073506  
Status : Not Answered  
Chosen Option : --

**Q.11** Select the most appropriate option to substitute the underlined segment in the given sentence to make it a meaningful sentence. If no substitution is required, select 'No substitution'.

There are hundred of superstitions that survive in various parts of the country, and the study of them is rather amusing.

- Ans
- 1. There are hundred of superstition that survived in various parts of the country, and the study of them is rather amusing.
  - 2. No substitution
  - 3. There are hundreds of superstitions that survive in various parts of the country, and the study of them is rather amusing.
  - 4. There are hundred of superstition that survive in various parts of the country, and the study of them is rather amusing.

Question ID : 26433092043  
Status : Not Answered  
Chosen Option : --

Q.12 Select the most appropriate spelling that can correctly substitute the misspelt underlined segment in the given sentence.

The thick dirt on the building was the acretion of ages.

- Ans
- 1. acretion
  - 2. accration
  - 3. accretion
  - 4. acration

Question ID : 26433071936  
Status : Not Answered  
Chosen Option : --

Q.13 Select the most appropriate synonym of the given word.

Valid

- Ans
- 1. Fake
  - 2. Logical
  - 3. Illicit
  - 4. Evil

Question ID : 26433073688  
Status : Not Answered  
Chosen Option : --

Q.14 The given sentence is divided into three segments. Select the option that has the segment with a grammatical error. If there is no error, select 'no error' as your answer.

Ameya won't / eat / any junk food at all.

- Ans
- 1. any junk food at all
  - 2. eat
  - 3. Ameya won't
  - 4. No error

Question ID : 26433071859  
Status : Not Answered  
Chosen Option : --

Q.15 Select the most appropriate ANTONYM of the given word.  
Lucid

- Ans
- 1. Bloat
  - 2. Jolt
  - 3. Stark
  - 4. Dark

Question ID : 26433066087  
Status : Not Answered  
Chosen Option : --

**Comprehension:**

In the following passage some words have been deleted. Fill in the blanks with the help of the alternatives given. Select the most appropriate option for each number.

Ayurveda views a person more than bones and muscle. According to it, you are a spirit that represents the *vata*, *pitta*, and *kapha* elements. Ayurveda (1) \_\_\_\_\_ impacts your health by bringing an (2) \_\_\_\_\_ in your body, mind, and soul. By consuming healthy food according to the body's constitution, and performing yoga stretches, and meditation, you will start to see (3) \_\_\_\_\_ results. Ayurveda impacts the body at the deepest cellular levels. It helps in healing, and (4) \_\_\_\_\_ of cells, to protect it from a wide range of ailments naturally. According to Ayurveda, when a person eats wrong food, then "ama" or toxin gets deposited in the body. If this waste-product is not eliminated from the body soon, then it starts to spread in different areas of the body. This is the major reason behind experiencing an (5) \_\_\_\_\_ in the body.

**SubQuestion No : 16**

**Q.16** Select the most appropriate option to fill in blank 1.

- Ans  1. probably  
 2. positively  
 3. negatively  
 4. casually

Question ID : 26433073176

Status : Not Answered

Chosen Option : --

**Comprehension:**

In the following passage some words have been deleted. Fill in the blanks with the help of the alternatives given. Select the most appropriate option for each number.

Ayurveda views a person more than bones and muscle. According to it, you are a spirit that represents the *vata*, *pitta*, and *kapha* elements. Ayurveda (1) \_\_\_\_\_ impacts your health by bringing an (2) \_\_\_\_\_ in your body, mind, and soul. By consuming healthy food according to the body's constitution, and performing yoga stretches, and meditation, you will start to see (3) \_\_\_\_\_ results. Ayurveda impacts the body at the deepest cellular levels. It helps in healing, and (4) \_\_\_\_\_ of cells, to protect it from a wide range of ailments naturally. According to Ayurveda, when a person eats wrong food, then "ama" or toxin gets deposited in the body. If this waste-product is not eliminated from the body soon, then it starts to spread in different areas of the body. This is the major reason behind experiencing an (5) \_\_\_\_\_ in the body.

**SubQuestion No : 17**

**Q.17** Select the most appropriate option to fill in blank 2.

- Ans  1. basis  
 2. foundation  
 3. equilibrium  
 4. substance

Question ID : 26433073177

Status : Not Answered

Chosen Option : --

**Comprehension:**

In the following passage some words have been deleted. Fill in the blanks with the help of the alternatives given. Select the most appropriate option for each number.

Ayurveda views a person more than bones and muscle. According to it, you are a spirit that represents the *vata*, *pitta*, and *kapha* elements. Ayurveda (1) \_\_\_\_ impacts your health by bringing an (2) \_\_\_\_ in your body, mind, and soul. By consuming healthy food according to the body's constitution, and performing yoga stretches, and meditation, you will start to see (3) \_\_\_\_ results. Ayurveda impacts the body at the deepest cellular levels. It helps in healing, and (4) \_\_\_\_ of cells, to protect it from a wide range of ailments naturally. According to Ayurveda, when a person eats wrong food, then "ama" or toxin gets deposited in the body. If this waste-product is not eliminated from the body soon, then it starts to spread in different areas of the body. This is the major reason behind experiencing an (5) \_\_\_\_ in the body.

**SubQuestion No : 18**

**Q.18** Select the most appropriate option to fill in blank 3.

- Ans  1. invisible  
 2. visible  
 3. gentle  
 4. sluggish

Question ID : 26433073178

Status : Not Answered

Chosen Option : --

**Comprehension:**

In the following passage some words have been deleted. Fill in the blanks with the help of the alternatives given. Select the most appropriate option for each number.

Ayurveda views a person more than bones and muscle. According to it, you are a spirit that represents the *vata*, *pitta*, and *kapha* elements. Ayurveda (1) \_\_\_\_ impacts your health by bringing an (2) \_\_\_\_ in your body, mind, and soul. By consuming healthy food according to the body's constitution, and performing yoga stretches, and meditation, you will start to see (3) \_\_\_\_ results. Ayurveda impacts the body at the deepest cellular levels. It helps in healing, and (4) \_\_\_\_ of cells, to protect it from a wide range of ailments naturally. According to Ayurveda, when a person eats wrong food, then "ama" or toxin gets deposited in the body. If this waste-product is not eliminated from the body soon, then it starts to spread in different areas of the body. This is the major reason behind experiencing an (5) \_\_\_\_ in the body.

**SubQuestion No : 19**

**Q.19** Select the most appropriate option to fill in blank 4.

- Ans  1. loss  
 2. degeneration  
 3. regeneration  
 4. benefit

Question ID : 26433073179

Status : Not Answered

Chosen Option : --

**Comprehension:**

In the following passage some words have been deleted. Fill in the blanks with the help of the alternatives given. Select the most appropriate option for each number.

Ayurveda views a person more than bones and muscle. According to it, you are a spirit that represents the *vata*, *pitta*, and *kapha* elements. Ayurveda (1) \_\_\_\_ impacts your health by bringing an (2) \_\_\_\_ in your body, mind, and soul. By consuming healthy food according to the body's constitution, and performing yoga stretches, and meditation, you will start to see (3) \_\_\_\_ results. Ayurveda impacts the body at the deepest cellular levels. It helps in healing, and (4) \_\_\_\_ of cells, to protect it from a wide range of ailments naturally. According to Ayurveda, when a person eats wrong food, then "ama" or toxin gets deposited in the body. If this waste-product is not eliminated from the body soon, then it starts to spread in different areas of the body. This is the major reason behind experiencing an (5) \_\_\_\_ in the body.

**SubQuestion No : 20**

**Q.20** Select the most appropriate option to fill in blank 5.

- Ans  1. imbalance  
 2. potential  
 3. energy  
 4. weakness

Question ID : 26433073180  
Status : Not Answered  
Chosen Option : --

## Section : Part-D-Hindi

**Q.1** निम्नलिखित विकल्पों में से किस एक वाक्य में विशेषण का उचित प्रयोग किया गया है?

- Ans  1. रोज स्कूल जाओ।  
 2. पानी से नहाओ।  
 3. खाना खाओ।  
 4. मीठा फल खाओ।

Question ID : 26433062961  
Status : Answered  
Chosen Option : 4

**Q.2** "भिखारी को देखकर उसे उस पर \_\_\_\_\_ आ गई।"  
उपरोक्त वाक्य में रिक्त स्थान पर निम्न में से किस शब्द का प्रयोग सर्वाधिक उपयुक्त होगा?

- Ans  1. माया  
 2. दया  
 3. अनुकंपा  
 4. कृपा

Question ID : 26433067005  
Status : Answered  
Chosen Option : 2



Q.3 अशुद्ध वर्तनी वाला वाक्य पहचानिए।

- Ans
- 1. मेरी पत्नी बीमार है।
  - 2. दादी की मृत्यु से हमें बड़ा शोक हुआ।
  - 3. मुझे तुमसे मिलने की उत्सुकता थी।
  - 4. बहुत भाग - दउड़ के बाद कलेज में उनका प्रवेश हुआ।

Question ID : 26433063064

Status : Answered

Chosen Option : 4

Q.4 निम्नलिखित विकल्पों में से 'साधारण या व्यापक नियम के विरुद्ध चीजें' वाक्यांश के लिए एक सार्थक शब्द क्या होगा ?

- Ans
- 1. अपूर्व
  - 2. अपवाद
  - 3. नीरवता
  - 4. आलोचक

Question ID : 26433062475

Status : Answered

Chosen Option : 2

Q.5 निम्नलिखित वाक्य में रेखांकित खंड के स्थान पर प्रयुक्त होने वाले सबसे उपयुक्त विकल्प का चयन कीजिए।

उसके चाची का लड़की हुई है।

- Ans
- 1. में
  - 2. को
  - 3. के
  - 4. से

Question ID : 26433079571

Status : Answered

Chosen Option : 2

Q.6 निम्नलिखित विकल्पों में से किस एक वाक्य में क्रिया सम्बन्धी अशुद्धि है?

- Ans
- 1. दूसरों के चरित्र पर अकारण ही कीचड़ नहीं डालना चाहिए।
  - 2. कृपया उत्तर शीघ्र दें।
  - 3. चोरी करते हुए पकड़े जाने पर उस पर घड़ों पानी पड़ गया।
  - 4. वह लड़का दौड़ता है।

Question ID : 26433091233

Status : Answered

Chosen Option : 3

Q.7 'अतिवृष्टि' का सही विलोम निम्न में से क्या है?

- Ans
- 1. अवृष्टि
  - 2. बाढ़
  - 3. निवृष्टि
  - 4. अनावृष्टि

Question ID : 26433062924  
Status : Answered  
Chosen Option : 4

Q.8 निम्नलिखित वाक्य के रिक्त स्थान में सबसे उपयुक्त मुहावरा क्या होगा?  
'श्रवण कुमार अपने माता पिता के लिए \_\_\_\_\_ थे।'

- Ans
- 1. अंधे की लकड़ी
  - 2. हाथी के दांत
  - 3. काठ के उल्लू
  - 4. दाढ़ी में तिनका

Question ID : 26433066735  
Status : Answered  
Chosen Option : 1

Q.9 निम्नलिखित विकल्पों में से 'घुन लगना' मुहावरे का अर्थ क्या है?

- Ans
- 1. निराश होना
  - 2. क्षय होना
  - 3. भय होना
  - 4. खुश होना

Question ID : 26433062552  
Status : Answered  
Chosen Option : 2

Q.10 वर्तनी की दृष्टि से अशुद्ध वाक्य का चयन कीजिए-

- Ans
- 1. राम का शत्रू रावण मारा गया।
  - 2. मैंने उसकी अस्वस्थता के बारे में सुना था।
  - 3. वह अपनी उम्र के तीसवें वर्ष तक अविवाहित था।
  - 4. मैं आपसे छुट्टी के लिए प्रार्थना करता हूँ।

Question ID : 26433062892  
Status : Answered  
Chosen Option : 2

Q.11 'क्रम के अनुसार' वाक्यांश के लिए सार्थक शब्द है-

- Ans
- 1. क्रमांक
  - 2. यथाक्रम
  - 3. असंख्य
  - 4. सक्रम

Question ID : 26433065869  
Status : Answered  
Chosen Option : 2

Q.12 सृष्टि के निर्माता ब्रह्मा हैं, तो विनाशक \_\_\_\_\_।  
'शिव' के पर्याय से उक्त वाक्य में रिक्त स्थान की पूर्ति कीजिए।

- Ans
- 1. त्रिलोचन
  - 2. मार्तण्ड
  - 3. लोकेश
  - 4. विभु

Question ID : 26433084990  
Status : Answered  
Chosen Option : 1

Q.13 'कुत्ता रेंकता है।' इस वाक्य में रेखांकित शब्द के स्थान पर उपयुक्त शब्द क्या होगा?

- Ans
- 1. मिमियाता
  - 2. गुटरगू करता
  - 3. चहचहाता
  - 4. भौंकता

Question ID : 26433062779  
Status : Answered  
Chosen Option : 4

Q.14 'वसंत ऋतु में वृक्षों में नव पल्लव आते हैं।' वाक्य में प्रयुक्त 'पल्लव' शब्द का अर्थ है-

- Ans
- 1. डाली
  - 2. शाखा
  - 3. पत्ता
  - 4. फूल

Question ID : 26433069742  
Status : Answered  
Chosen Option : 3

Q.15 'साहित्य से संबंधित' वाक्यांश के लिए एक शब्द होगा-

- Ans  1. साहित्यिक  
 2. सरोकार  
 3. सामाजिक  
 4. दर्पण

Question ID : 26433065734

Status : Answered

Chosen Option : 1

**Comprehension:**

निम्नलिखित गद्यांश में कुछ शब्दों को हटा दिया गया है। दिए गए विकल्पों की सहायता से रिक्त स्थानों की पूर्ति कीजिए। प्रत्येक संख्या के लिए सबसे उपयुक्त विकल्प का चयन करें।  
संसार में सैकड़ों प्रकार के प्राणी हैं, इनमें मानव जीवन 1. \_\_\_\_\_ है। वह सोच-समझ कर 2. \_\_\_\_\_ लेता है कि उसे क्या करना चाहिए तथा उसके लिए क्या उपयोगी है जो उसे अपने 3. \_\_\_\_\_ तक पहुँचा दे। उसके जीवन की 4. \_\_\_\_\_ तभी है जब वह आकांक्षा या लक्ष्य लेकर जीवन व्यतीत करें। जीवन एक प्रकार की 5. \_\_\_\_\_ है, जहाँ नित्य नए-नए अनुभव होते हैं।

SubQuestion No : 16

Q.16 रिक्त स्थान 1 की पूर्ति के लिए सबसे उपयुक्त विकल्प का चयन कीजिए।

- Ans  1. अधूरा  
 2. सर्वश्रेष्ठ  
 3. प्रारंभ  
 4. पूरा

Question ID : 264330111029

Status : Answered

Chosen Option : 2

**Comprehension:**

निम्नलिखित गद्यांश में कुछ शब्दों को हटा दिया गया है। दिए गए विकल्पों की सहायता से रिक्त स्थानों की पूर्ति कीजिए। प्रत्येक संख्या के लिए सबसे उपयुक्त विकल्प का चयन करें।  
संसार में सैकड़ों प्रकार के प्राणी हैं, इनमें मानव जीवन 1. \_\_\_\_\_ है। वह सोच-समझ कर 2. \_\_\_\_\_ लेता है कि उसे क्या करना चाहिए तथा उसके लिए क्या उपयोगी है जो उसे अपने 3. \_\_\_\_\_ तक पहुँचा दे। उसके जीवन की 4. \_\_\_\_\_ तभी है जब वह आकांक्षा या लक्ष्य लेकर जीवन व्यतीत करें। जीवन एक प्रकार की 5. \_\_\_\_\_ है, जहाँ नित्य नए-नए अनुभव होते हैं।

SubQuestion No : 17

Q.17 रिक्त स्थान 2 की पूर्ति के लिए सबसे उपयुक्त विकल्प का चयन कीजिए।

- Ans  1. अनिवार्य  
 2. देखता  
 3. उपचार  
 4. निर्णय

Question ID : 264330111030

Status : Answered

Chosen Option : 4

**Comprehension:**

निम्नलिखित गद्यांश में कुछ शब्दों को हटा दिया गया है। दिए गए विकल्पों की सहायता से रिक्त स्थानों की पूर्ति कीजिए। प्रत्येक संख्या के लिए सबसे उपयुक्त विकल्प का चयन करें।  
संसार में सैकड़ों प्रकार के प्राणी हैं, इनमें मानव जीवन 1. \_\_\_\_\_ है। वह सोच-समझ कर 2. \_\_\_\_\_ लेता है कि उसे क्या करना चाहिए तथा उसके लिए क्या उपयोगी है जो उसे अपने 3. \_\_\_\_\_ तक पहुँचा दे। उसके जीवन की 4. \_\_\_\_\_ तभी है जब वह आकांक्षा या लक्ष्य लेकर जीवन व्यतीत करें। जीवन एक प्रकार की 5. \_\_\_\_\_ है, जहाँ नित्य नए-नए अनुभव होते हैं।

**SubQuestion No : 18**

Q.18 रिक्त स्थान 3 की पूर्ति के लिए सबसे उपयुक्त विकल्प का चयन कीजिए।

- Ans
- 1. सीमा
  - 2. लक्ष्य
  - 3. प्रारंभ
  - 4. कर्तव्य

Question ID : 264330111031

Status : Answered

Chosen Option : 2

**Comprehension:**

निम्नलिखित गद्यांश में कुछ शब्दों को हटा दिया गया है। दिए गए विकल्पों की सहायता से रिक्त स्थानों की पूर्ति कीजिए। प्रत्येक संख्या के लिए सबसे उपयुक्त विकल्प का चयन करें।  
संसार में सैकड़ों प्रकार के प्राणी हैं, इनमें मानव जीवन 1. \_\_\_\_\_ है। वह सोच-समझ कर 2. \_\_\_\_\_ लेता है कि उसे क्या करना चाहिए तथा उसके लिए क्या उपयोगी है जो उसे अपने 3. \_\_\_\_\_ तक पहुँचा दे। उसके जीवन की 4. \_\_\_\_\_ तभी है जब वह आकांक्षा या लक्ष्य लेकर जीवन व्यतीत करें। जीवन एक प्रकार की 5. \_\_\_\_\_ है, जहाँ नित्य नए-नए अनुभव होते हैं।

**SubQuestion No : 19**

Q.19 रिक्त स्थान 4 की पूर्ति के लिए सबसे उपयुक्त विकल्प का चयन कीजिए।

- Ans
- 1. सार्थकता
  - 2. निश्चय
  - 3. महत्त्वपूर्ण
  - 4. विफलता

Question ID : 264330111032

Status : Answered

Chosen Option : 1

**Comprehension:**

निम्नलिखित गद्यांश में कुछ शब्दों को हटा दिया गया है। दिए गए विकल्पों की सहायता से रिक्त स्थानों की पूर्ति कीजिए। प्रत्येक संख्या के लिए सबसे उपयुक्त विकल्प का चयन करें।  
संसार में सैकड़ों प्रकार के प्राणी हैं, इनमें मानव जीवन 1. \_\_\_\_\_ है। वह सोच-समझ कर 2. \_\_\_\_\_ लेता है कि उसे क्या करना चाहिए तथा उसके लिए क्या उपयोगी है जो उसे अपने 3. \_\_\_\_\_ तक पहुँचा दे। उसके जीवन की 4. \_\_\_\_\_ तभी है जब वह आकांक्षा या लक्ष्य लेकर जीवन व्यतीत करें। जीवन एक प्रकार की 5. \_\_\_\_\_ है, जहाँ नित्य नए-नए अनुभव होते हैं।

**SubQuestion No : 20**

Q.20 रिक्त स्थान 5 की पूर्ति के लिए सबसे उपयुक्त विकल्प का चयन कीजिए।

- Ans
- 1. प्रयोगशाला
  - 2. किताबशाला
  - 3. योग्यता
  - 4. कृतज्ञता

Question ID : 264330111033

Status : Answered

Chosen Option : 3

WWW.GOVtJOBSALERT.COM