

# Constable GD in CAPFs SSF Rifleman GD in Assam Rifles and Sepoy in NCB Examination 2022

Roll Number	<a href="http://www.govtjobsalert.in">www.govtjobsalert.in</a>
Candidate Name	<a href="http://www.govtjobsalert.in">www.govtjobsalert.in</a>
Venue Name	Purnodaya Mahila Mahavidyalaya
Exam Date	06/02/2023
Exam Time	2:30 PM - 3:30 PM
Subject	Constable GD Examination 2022

## Section : Part-A-General Intelligence and Reasoning

Q.1 पाँच व्यक्ति - L, M, N, O और P, एक वृत्ताकार मेज के परितः बाहर की ओर मुख करके बैठे हैं। P, L के दाईं ओर ठीक बगल में बैठा है। M, P के दाईं ओर दूसरे स्थान पर बैठा है। N, P और M के ठीक बगल में बैठा है। L के बाईं ओर ठीक बगल में कौन बैठा है?

- Ans
- 1. M
  - 2. N
  - 3. O
  - 4. P

Question ID : 26433074609  
Status : Answered  
Chosen Option : 3

Q.2 निम्नलिखित में से कौन-सी संख्या दी गई श्रृंखला में प्रश्न-चिह्न (?) का स्थान लेगी?  
45, 76, ?, 168, 229

- Ans
- 1. 217
  - 2. 107
  - 3. 171
  - 4. 117

Question ID : 26433068092  
Status : Answered  
Chosen Option : 4

Q.3 निम्नलिखित समीकरण में, कौन-सी गणितीय संक्रियाएं जब क्रमिक रूप से रखी जाएं समीकरण को संतुलित करेंगी?  
 $20 \times 4 \times 8 \times 10 \times 5$

- Ans
- 1.  $\div \times > \times$
  - 2.  $\times \div > \times$
  - 3.  $\div \times < \times$
  - 4.  $\div \div = \times$

Question ID : 26433085657  
Status : Answered  
Chosen Option : 3

Q.4 निम्नलिखित में से कौन-सा पद दी गई श्रृंखला में प्रश्न-चिह्न (?) के स्थान पर आएगा?  
XZVU, UYST, ?, OWMR, LVJQ

- Ans  1. RYPS  
 2. RXPS  
 3. RZPS  
 4. SXQS

Question ID : 26433068310  
Status : Answered  
Chosen Option : 2

Q.5 दिए गए विकल्पों में से उस संख्या का चयन कीजिए, जो निम्नलिखित श्रृंखला में प्रश्न-चिह्न (?) को प्रतिस्थापित कर सके।  
77, 77, 79, 237, 241, ?

- Ans  1. 1520  
 2. 1250  
 3. 1502  
 4. 1205

Question ID : 26433079005  
Status : Answered  
Chosen Option : 4

Q.6 तीन कथनों के बाद तीन निष्कर्ष I, II और III दिए गए हैं। कथनों को सत्य मानते हुए, भले ही वे सामान्य रूप से ज्ञात तथ्यों से भिन्न प्रतीत होते हों, निर्धारित करें कि कौन-सा/से निष्कर्ष कथनों का तार्किक रूप से अनुसरण करता है/करते हैं।

कथन:

सभी पुस्तकें प्लास्टिक हैं।

कुछ प्लास्टिक कप हैं।

सभी कप गिलास हैं।

निष्कर्ष:

I. कुछ प्लास्टिक पुस्तकें हैं।

II. सभी प्लास्टिक कप हैं।

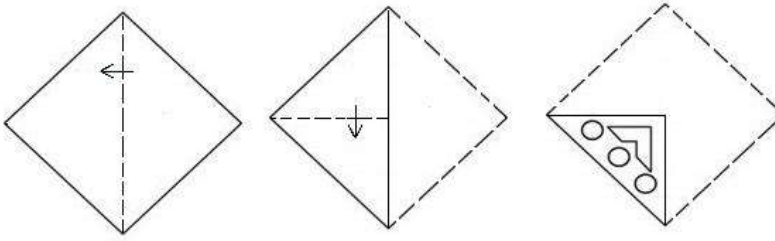
III. कुछ कप गिलास हैं।

- Ans  1. सभी निष्कर्ष अनुसरण करते हैं।  
 2. निष्कर्ष II और III दोनों अनुसरण करते हैं।  
 3. निष्कर्ष I और II दोनों अनुसरण करते हैं।  
 4. निष्कर्ष I और III दोनों अनुसरण करते हैं।

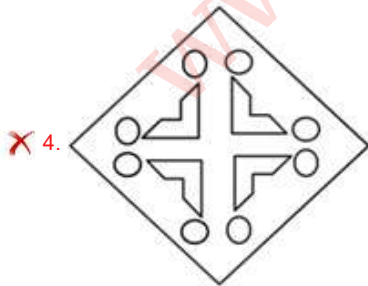
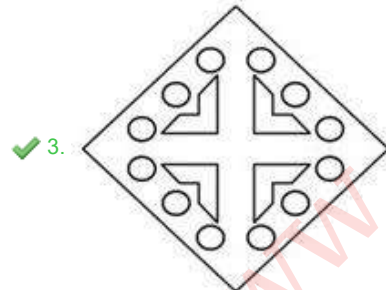
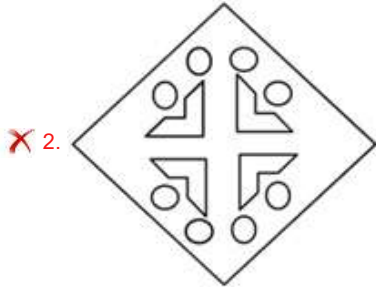
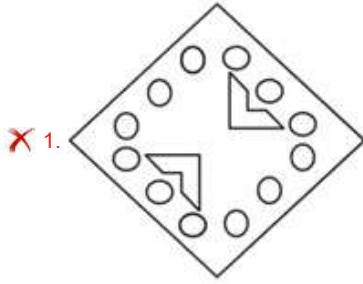
Question ID : 26433074638  
Status : Answered  
Chosen Option : 4

Q.7

जैसा कि नीचे दिखाया गया है, एक कागज को मोड़ा जाता है और काटा जाता है। खोलने पर यह कैसे दिखाई देगा?



Ans



Question ID : 26433082052

Status : Answered

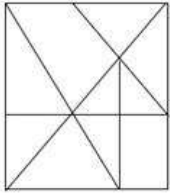
Chosen Option : 3

Q.8 A @ B का अर्थ है 'A, B की बहन है'।  
A & B का अर्थ है 'A, B का भाई है'।  
A # B का अर्थ है 'A, B की पत्नी है'।  
A ^ B का अर्थ है 'A, B की माता है'।  
A + B का अर्थ है 'A, B के पिता है'।  
यदि A & C + E ^ G # I & K + M @ O है, तो निम्नलिखित में से कौन-सा कथन सही नहीं है?

- Ans
- 1. M, K की पुत्री है।
  - 2. O, K की पुत्री है।
  - 3. K, O के पिता हैं।
  - 4. C, G के नाना है।

Question ID : 26433068954  
Status : Answered  
Chosen Option : 2

Q.9 वह विकल्प चित्र चुनिए, जो प्रस्तुत चित्र में अंतर्निहित है। (धुमाना अनुमन्य नहीं है)

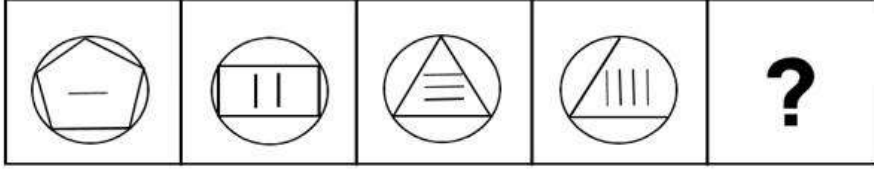


Ans

- 1.
- 2.
- 3.
- 4.


Question ID : 26433069345  
Status : Answered  
Chosen Option : 2

Q.10 दिए गए विकल्पों में से उस आकृति का चयन करें जो निम्नलिखित श्रृंखला में प्रश्नवाचक चिह्न (?) का स्थान ले सकती है।

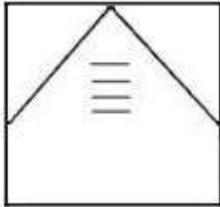


Ans

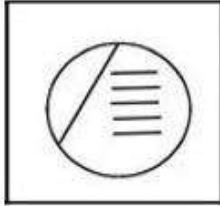
✗ 1.



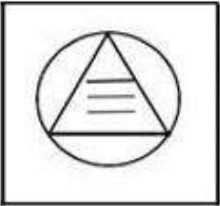
✗ 2.



✓ 3.



✗ 4.



Question ID : 26433080488

Status : Answered

Chosen Option : 3

Q.11 छह मित्र - K, L, M, N, S, और P, एक वृत्ताकार मेज के परितः मेज के केंद्र की ओर मुख करके बैठे हैं। P, S के बाईं ओर तीसरे स्थान पर है। K, S के बाईं ओर ठीक बगल में है। K और L एक दूसरे के सामने बैठे हैं। M, S के दाईं ओर ठीक बगल में बैठा है। M के सामने कौन बैठा है?

Ans ✗ 1. L

✓ 2. N

✗ 3. P

✗ 4. K

Question ID : 26433080432

Status : Answered

Chosen Option : 2

Q.12 उस विकल्प का चयन कीजिए जो तीसरे शब्द से उसी प्रकार संबंधित है जिस प्रकार दूसरा शब्द पहले शब्द से संबंधित है। (शब्दों को अर्थपूर्ण शब्दों के रूप में मानना है और उन्हें शब्द में अक्षरों/व्यंजनों/स्वरों की संख्या के आधार पर एक-दूसरे से संबंधित नहीं करना है।)  
पेंटर : ब्रश :: डॉक्टर : ?

- Ans  1. स्टेथोस्कोप  
 2. कोयला  
 3. प्लास्टिक  
 4. संयंत्र

Question ID : 26433057693

Status : Answered

Chosen Option : 1

Q.13 उस समुच्चय का चयन करें, जिसकी संख्याओं के बीच ठीक वही संबंध है, जो संबंध निम्नांकित समुच्चयों की संख्याओं में हैं।  
(नोट: संख्याओं को उसके घटक अंकों में विभाजित किए बिना, पूर्ण संख्याओं पर ही गणितीय संक्रियाएँ की जानी चाहिए। जैसे 13 - मान लीजिए 13 पर गणितीय संक्रियाएँ जैसे कि 13 में जोड़ना/घटाना/गुणा करना आदि किया जा सकता है। 13 को 1 और 3 में तोड़कर और फिर 1 और 3 पर गणितीय संक्रियाएँ करने की अनुमति नहीं है।)  
(5, 9, 450)  
(7, 12, 840)

- Ans  1. (10, 13, 1350)  
 2. (8, 12, 930)  
 3. (7, 11, 760)  
 4. (6, 9, 540)

Question ID : 26433076540

Status : Answered

Chosen Option : 4

Q.14 दर्पण को नीचे दिए गए चित्र के अनुसार MN पर रखे जाने पर दी गई आकृति का दर्पण में निर्मित सही प्रतिबिंब चयनित कीजिए।

T p E J 4 2 d v c

M \_\_\_\_\_ N

- Ans  1. c v b S P L E q T  
 2. L d E f t S q ^ c  
 3. L b E l t S q ^ c  
 4. L b E l t S q ^ c

Question ID : 26433080815

Status : Answered

Chosen Option : 3

Q.15 एक कूट भाषा में 'red ribbon' को 'cu du', 'apple is red' को 'nu mu cu', 'radish is white' को 'mu ku ru', 'eat radish' को 'ru pu' के रूप में कूटबद्ध किया जाता है। शब्द 'white' के लिए कूट क्या होगा?

- Ans
- 1. mu
  - 2. pu
  - 3. ru
  - 4. ku

Question ID : 26433082270  
Status : Answered  
Chosen Option : 4

Q.16 कौन-सा अक्षर-समूह दी गई श्रृंखला में प्रश्नचिह्न (?) के स्थान पर आकर श्रृंखला को पूर्ण करेगा?  
USRP, OMLJ , IGFD , CAZX ?

- Ans
- 1. XUVT
  - 2. XVUS
  - 3. WUTR
  - 4. WVTS

Question ID : 26433068437  
Status : Answered  
Chosen Option : 3

Q.17 नीचे दिए गए समीकरण को गणितीय रूप से सही बनाने के लिए किन दो चिन्हों को परस्पर बदलना चाहिए?  
 $49 + 16 \div 7 - 36 \times 16 = 92$

- Ans
- 1.  $\times$  और  $+$
  - 2.  $+$  और  $-$
  - 3.  $+$  और  $\times$
  - 4.  $\div$  और  $+$

Question ID : 264330117501  
Status : Answered  
Chosen Option : 1

Q.18 उस विकल्प का चयन करें जो पांचवे अक्षर-समूह से उसी प्रकार संबंधित है जिस प्रकार दूसरा अक्षर-समूह पहले अक्षर-समूह से संबंधित है और चौथा अक्षर-समूह तीसरे अक्षर-समूह से संबंधित है।  
CLARITY : DMBSJUZ :: PRICE : QSJDF :: RAINBOW : ?

- Ans
- 1. SBCOJPX
  - 2. SXBJOCP
  - 3. SBJOCPX
  - 4. SJOCPXB

Question ID : 26433070323  
Status : Answered  
Chosen Option : 3

Q.19 एक निश्चित कूट भाषा में, 'HAUNT' को 'KVXIW' और 'BURNT' को 'EPUIW' लिखा जाता है। उसी कूट भाषा में 'THROW' को किस प्रकार लिखा जाएगा?

- Ans  1. WCUJZ  
 2. ZDUDZ  
 3. ZDURW  
 4. WBUAZ

Question ID : 26433068144  
Status : Answered  
Chosen Option : 1

Q.20 किस विकल्प में निम्नलिखित शब्दों का वह क्रम दिया गया है, जिस क्रम में वे अंग्रेजी शब्दकोश में आते हैं?

- 1 heated  
2 healed  
3 heaped  
4 hedge  
5 helmet

- Ans  1. 2,1,3,4,5  
 2. 3,4,1,2,5  
 3. 3,2,1,4,5  
 4. 2,3,1,4,5

Question ID : 26433069311  
Status : Answered  
Chosen Option : 4

Section : Part-B-General Knowledge and General awareness

Q.1 1944 में, विभिन्न उद्योगपति एक साथ जुड़े और भारत में एक नियोजित अर्थव्यवस्था स्थापित करने के लिए एक संयुक्त प्रस्ताव का मसौदा तैयार किया। यह \_\_\_\_\_ योजना के नाम से प्रसिद्ध है।

- Ans  1. बॉम्बे  
 2. पंचवर्षीय  
 3. औद्योगिक  
 4. राष्ट्रीय

Question ID : 264330116133  
Status : Answered  
Chosen Option : 3

Q.2 प्राकृतिक गैस के ज्वलन पर कौन-सी गैस मुक्त होती है?

- Ans  1. कार्बन डाइऑक्साइड  
 2. ओजोन  
 3. हाइड्रोजन  
 4. हाइड्रोजन सल्फाइड

Question ID : 26433087847  
Status : Answered  
Chosen Option : 1



Q.3 खेलो इंडिया यूथ गेम्स 2020 संस्करण का मेज़बान और विजेता राज्य \_\_\_\_\_ है।

- Ans
- 1. असम
  - 2. क्रमशः महाराष्ट्र और असम
  - 3. क्रमशः असम और महाराष्ट्र
  - 4. महाराष्ट्र

Question ID : 26433089929  
Status : Answered  
Chosen Option : 4

Q.4 जानकी प्रसाद का संबंध कथक के किस घराने से है?

- Ans
- 1. बनारस घराना
  - 2. लखनऊ घराना
  - 3. रायगढ़ घराना
  - 4. जयपुर घराना

Question ID : 26433072919  
Status : Not Answered  
Chosen Option : --

Q.5 क्षेत्रफल की दृष्टि से भारत का सबसे छोटा केंद्र शासित प्रदेश कौन-सा है?

- Ans
- 1. लक्षद्वीप
  - 2. दादरा और नगर हवेली और दमन और दीव
  - 3. अण्डमान और निकोबार द्वीप समूह
  - 4. पुदुचेरी

Question ID : 264330116047  
Status : Answered  
Chosen Option : 1

Q.6 भारत में, कौन सा कार्यक्रम ग्रामीण और शहरी क्षेत्रों में रियायती मूल्यों पर खाद्यान्न और अन्य आवश्यक वस्तुएं प्रदान करता है?

- Ans
- 1. भूदान
  - 2. सार्वजनिक वितरण प्रणाली (Public Distribution System)
  - 3. सुरक्षित भंडार (Buffer Stock)
  - 4. ग्रामदान

Question ID : 264330115535  
Status : Answered  
Chosen Option : 2

Q.7 सरकार के संसदीय स्वरूप को \_\_\_\_\_ मॉडल के रूप में भी जाना जाता है।

- Ans
- 1. साम्यवादी
  - 2. धनिकतंत्र
  - 3. धर्मतंत्र
  - 4. वेस्टमिन्स्टर

Question ID : 26433089177  
Status : Answered  
Chosen Option : 1

Q.8 चुनाव लड़ने और सरकार में सत्ता पर काबिज होने के लिए एकसाथ आने वाले लोगों के समूह को \_\_\_\_\_ कहा जाता है।

- Ans
- 1. न्यायपालिका
  - 2. राजनीतिक दल
  - 3. श्रमिक
  - 4. नगर पालिका

Question ID : 264330115665  
Status : Answered  
Chosen Option : 2

Q.9 \_\_\_\_\_ के अंतर्गत, सितम्बर 2022 में आवासन और शहरी कार्य मंत्रालय द्वारा पेय जल सर्वेक्षण शुरू किया गया।

- Ans
- 1. अमृत 2.0
  - 2. अटल जल पूर्ति
  - 3. नमामि गंगे
  - 4. जल शक्ति

Question ID : 264330116184  
Status : Answered  
Chosen Option : 1

Q.10 नालंदा विश्वविद्यालय की स्थापना \_\_\_\_\_ द्वारा 5वीं शताब्दी में की गई थी।

- Ans
- 1. कुमारगुप्त
  - 2. समुद्रगुप्त
  - 3. चंद्रगुप्त द्वितीय
  - 4. स्कंदगुप्त

Question ID : 264330115460  
Status : Answered  
Chosen Option : 1

Q.11 निम्नलिखित में से कौन-सा युग्म सुमेलित नहीं है?

- Ans  1. 2018 शीतकालीन ओलंपिक खेल - प्योंगचांग  
 2. 2014 शीतकालीन ओलंपिक खेल - सोची  
 3. 2022 शीतकालीन ओलंपिक खेल - बीजिंग  
 4. 2010 शीतकालीन ओलंपिक खेल - लंदन

Question ID : 26433090752  
Status : Answered  
Chosen Option : 2

Q.12 खाद्य गाइड पिरामिड के शीर्ष पर क्या आता है?

- Ans  1. वसा और शर्करा  
 2. खाद्यान्न  
 3. दालें और फलियां  
 4. फल और सब्जियां

Question ID : 264330115221  
Status : Not Answered  
Chosen Option : --

Q.13 निम्नलिखित में से किसे दिल्ली सरकार द्वारा परिषद सम्मान प्राप्त हुआ?

- Ans  1. केलूचरण महापात्रा  
 2. शोवना नारायण  
 3. वेम्पति चिन्ना सत्यम  
 4. अनुराधा पाण्डेय

Question ID : 264330115838  
Status : Not Answered  
Chosen Option : --

Q.14 हाल ही में प्रकाशित पुस्तक "मैडम सर" निम्नलिखित में से किस महिला आईपीएस अधिकारी की कहानी है?

- Ans  1. संजुक्ता पराशर  
 2. मंजरी जरुहर  
 3. कंचन चौधरी भट्टाचार्य  
 4. किरण बेदी

Question ID : 264330114991  
Status : Answered  
Chosen Option : 3

Q.15 \_\_\_\_\_ सैक्टर में शामिल लोग, प्राथमिक सामग्री को संसाधित करते हैं और उसे तैयार माल में परिवर्तित करते हैं।

- Ans
- 1. प्राथमिक
  - 2. शिक्षा
  - 3. सिंचाई
  - 4. द्वितीयक

Question ID : 264330115406  
Status : Answered  
Chosen Option : 4

Q.16 ऋण एक \_\_\_\_\_ का निर्माण करते हैं, क्योंकि उन्हें एक निश्चित अवधि में ऋणदाता को वापस करना पड़ता है।

- Ans
- 1. वृद्धि
  - 2. हिस्सेदारी
  - 3. परिसंपत्ति
  - 4. देयता

Question ID : 264330115288  
Status : Not Answered  
Chosen Option : --

Q.17 गणगौर महोत्सव देवी \_\_\_\_\_ के सम्मान में अधिकांशतः राजस्थान की महिलाओं द्वारा मनाया जाता है।

- Ans
- 1. लक्ष्मी
  - 2. दुर्गा
  - 3. पार्वती
  - 4. सीता

Question ID : 264330115118  
Status : Answered  
Chosen Option : 2

Q.18 नवंबर 2022 तक की स्थिति के अनुसार, निम्नलिखित में से कौन लक्षद्वीप, भारत के प्रशासक है?

- Ans
- 1. ममता बनर्जी
  - 2. प्रफुल्ल पटेल
  - 3. देवेन्द्र कुमार जोशी
  - 4. मनोज सिन्हा

Question ID : 264330114942  
Status : Answered  
Chosen Option : 3

Q.19 एलनीनो एक ऐसी घटना है जिसमें हर 2 से 5 साल में \_\_\_\_\_ तट से गुजरने वाली ठंडी धारा के स्थान पर गर्म महासागरीय धारा बहती है।

- Ans
- 1. पेरू
  - 2. चिली
  - 3. अर्जेंटीना
  - 4. ब्राजील

Question ID : 264330115990  
Status : Not Answered  
Chosen Option : --

Q.20 1905 में बंगाल के विभाजन के लिए अंग्रेजों द्वारा निम्नलिखित में से कौन-सा मुख्य तर्क प्रस्तुत किया गया था?

- Ans
- 1. धार्मिक सद्भाव
  - 2. व्यापार का विकास
  - 3. प्रशासनिक सुविधा
  - 4. शैक्षिक सुधार

Question ID : 26433089885  
Status : Answered  
Chosen Option : 1

Section : Part-C-Elementary Mathematics

Q.1 A एक काम को 15 दिन में पूरा कर सकता है। A ने अकेले कार्य आरंभ किया और 4 दिन कार्य किया। B ने अकेले शेष कार्य 18 दिन में पूरा किया। A और B मिलकर उस काम को कितने दिन में पूरा करेंगे?

- Ans
- 1.  $7\frac{6}{29}$
  - 2.  $11\frac{1}{29}$
  - 3.  $8\frac{7}{29}$
  - 4.  $9\frac{9}{29}$

Question ID : 26433076405  
Status : Answered  
Chosen Option : 3

Q.2 प्रथम 5 प्राकृतिक संख्याओं के घन के औसत और प्रथम 5 प्राकृतिक संख्याओं के वर्ग के औसत के मध्य का अंतर ज्ञात करें।

- Ans  1. 30  
 2. 32  
 3. 34  
 4. 36

Question ID : 264330116695  
Status : Answered  
Chosen Option : 3

Q.3 दो ट्रेनें एक ही समय में मुंबई और दिल्ली से प्रस्थान करती हैं, और क्रमशः 15 km /h और 26 km /h की चाल से एक-दूसरे की ओर बढ़ती हैं। जब वे मिलती हैं, तो पता चलता है कि एक ट्रेन ने दूसरी ट्रेन से 99 km अधिक दूरी तय की है। दोनों स्टेशनों के बीच की दूरी ज्ञात कीजिए।

- Ans  1. 414 km  
 2. 632 km  
 3. 369 km  
 4. 570 km

Question ID : 26433080052  
Status : Answered  
Chosen Option : 3

Q.4 P और Q के तीसरे समानुपाती तथा P, Q और R के चौथे समानुपाती का अनुपात 5 : 6 है, तो Q:R, \_\_\_\_\_ है।

- Ans  1. 3 : 2  
 2. 6 : 5  
 3. 2 : 3  
 4. 5 : 6

Question ID : 26433074964  
Status : Answered  
Chosen Option : 2

Q.5 500 m लंबी एक वृत्ताकार दौड़ में, A और B एक ही समय पर और एक ही बिंदु से क्रमशः 4 m/sec और 5 m/sec की चाल से दौड़ना प्रारंभ करते हैं। एक ही दिशा में दौड़ते हुए वे प्रारंभिक बिंदु पर पहली बार कितनी देर बाद मिलेंगे?

- Ans  1. 450 sec  
 2. 500 sec  
 3. 400 sec  
 4. 550 sec

Question ID : 26433063959  
Status : Answered  
Chosen Option : 2

Q.6 A ने ₹5 में 2 आम की दर से कई आम और ₹5 में 3 आम की दर से समान संख्या में आम खरीदे। 20% का लाभ अर्जित करने के लिए उसे एक दर्जन आम कितने रुपये में बेचना चाहिए?

- Ans
- 1. ₹16
  - 2. ₹25
  - 3. ₹12
  - 4. ₹30

Question ID : 26433076267  
Status : Answered  
Chosen Option : 4

Q.7 एक रेफ्रिजरेटर को Rs.28,448 में बेचने पर एक दुकानदार 12% का लाभ कमाता है। यदि लाभ घटाकर 8% कर दिया जाता है, तो रेफ्रिजरेटर का नया विक्रय मूल्य क्या होगा?

- Ans
- 1. Rs.25,400
  - 2. Rs.26,342
  - 3. Rs.24,500
  - 4. Rs.27,432

Question ID : 26433080303  
Status : Answered  
Chosen Option : 4

Q.8 यदि  $17\% \text{ of } 630 = 35\% \text{ of } x$  है, तो  $x$  का मान क्या होगा?

- Ans
- 1. 310
  - 2. 356
  - 3. 306
  - 4. 308

Question ID : 26433075645  
Status : Answered  
Chosen Option : 3

Q.9 एक मूलधन पर 3 वर्ष में चक्रवृद्धि ब्याज मूलधन का 33.1% है, यदि ब्याज वार्षिक रूप से चक्रवृद्धि होता है। वार्षिक ब्याज दर ज्ञात करें।

- Ans
- 1. 5%
  - 2. 11%
  - 3. 8%
  - 4. 10%

Question ID : 26433081720  
Status : Answered  
Chosen Option : 4

Q.10 ऐसे शंकु का आयतन ज्ञात कीजिए जिसकी त्रिज्या 7 इंच और ऊँचाई 27 इंच है।

( $\pi = \frac{22}{7}$  का प्रयोग करें)

- Ans
- ✓ 1. 1386 इंच<sup>3</sup>
  - ✗ 2. 1618 इंच<sup>3</sup>
  - ✗ 3. 1523 इंच<sup>3</sup>
  - ✗ 4. 1420 इंच<sup>3</sup>

Question ID : 26433080069  
Status : Answered  
Chosen Option : 1

Q.11 50 और 80 के बीच कितनी अभाज्य संख्याएँ होती हैं?

- Ans
- ✓ 1. 7
  - ✗ 2. 6
  - ✗ 3. 8
  - ✗ 4. 5

Question ID : 26433082608  
Status : Answered  
Chosen Option : 1

Q.12 एक बाइक सवार 60 km/h की चाल से एक निश्चित दूरी तय करता है और 80 km/h की चाल से वापस लौटता है। उसकी औसत चाल ज्ञात करें।

- Ans
- ✓ 1.  $68\frac{4}{7}$  km/h
  - ✗ 2.  $63\frac{1}{7}$  km/h
  - ✗ 3.  $53\frac{3}{7}$  km/h
  - ✗ 4.  $71\frac{1}{7}$  km/h

Question ID : 26433076396  
Status : Answered  
Chosen Option : 1

Q.13 एक बेलनाकार टैंक की क्षमता  $6,160 \text{ m}^3$  है। इसके आधार का व्यास 28 m है। इस टैंक की गहराई ज्ञात कीजिए।

$\pi = \frac{22}{7}$  लेने पर

- Ans
- ✓ 1. 10 m
  - ✗ 2. 5 m
  - ✗ 3. 15 m
  - ✗ 4. 8 m

Question ID : 26433076055  
Status : Answered  
Chosen Option : 1



Q.14 एक पौधे की ऊँचाई 2% प्रतिवर्ष की दर से बढ़ती है। यदि इसकी वर्तमान ऊँचाई 1.2 m है, तो 3 वर्ष बाद पौधे की ऊँचाई क्या होगी?

- Ans  1. 1.273 m  
 2. 1.253 m  
 3. 1.254 m  
 4. 1.263 m

Question ID : 26433090260  
Status : Answered  
Chosen Option : 1

Q.15 5 और 11 का तृतीयानुपाती ज्ञात कीजिए।

- Ans  1. 22.0  
 2. 22.4  
 3. 24.0  
 4. 24.2

Question ID : 26433080326  
Status : Answered  
Chosen Option : 4

Q.16 पवन ने स्टोर से जींस की एक जोड़ी उस समय खरीदी जब वे 20 प्रतिशत की छूट दे रहे थे। यदि जींस की जोड़ी का नियमित मूल्य 1800 रूपए है, तो पवन ने छूट के साथ कितना भुगतान किया?

- Ans  1. 1360 रूपए  
 2. 1590 रूपए  
 3. 1680 रूपए  
 4. 1440 रूपए

Question ID : 264330116753  
Status : Answered  
Chosen Option : 4

Q.17 दो संख्याएँ P और Q इस प्रकार हैं कि P के 10% और Q के 5% का योग P के 15% और Q के 25% के योग का एक-चौथाई है। P का Q से अनुपात ज्ञात कीजिए।

- Ans  1. 2 : 5  
 2. 1 : 5  
 3. 5 : 2  
 4. 5 : 1

Question ID : 26433083033  
Status : Answered  
Chosen Option : 2

Q.18 Z का वर्ग ज्ञात करें। 4 अंको की सबसे छोटी संख्या जो 24 और 36 से पूर्णतः विभाज्य है, को 40 से विभाजित किए जाने पर प्राप्त किया गया शेषफल Z है।

- Ans
- 1. 144
  - 2. 100
  - 3. 36
  - 4. 64

Question ID : 264330116659  
Status : Answered  
Chosen Option : 4

Q.19 A एक कार्य को 40 दिनों में कर सकता है और B उसी कार्य को 80 दिनों में कर सकता है। वे एक साथ 20 दिनों तक काम करते हैं, कितना कार्य पूरा करना बाकी है?

- Ans
- 1.  $1/4$
  - 2.  $4/5$
  - 3.  $1/2$
  - 4.  $3/2$

Question ID : 264330116868  
Status : Answered  
Chosen Option : 1

Q.20 एक टेबल का अंकित मूल्य Rs.1,880 है। यदि इसे 15% की छूट पर बेचा जाता है, तो टेबल का विक्रय मूल्य क्या होगा?

- Ans
- 1. Rs.1,598
  - 2. Rs.1,498
  - 3. Rs.1,698
  - 4. Rs.1,798

Question ID : 26433075656  
Status : Answered  
Chosen Option : 1

Section : Part-D-English

Q.1 The sentence below is divided into four segments. Select the option that has an error of tense.

I think India will win the 20-20 cricket match.

- Ans
- 1. No error
  - 2. I think
  - 3. India will win
  - 4. the 20-20 cricket match

Question ID : 26433092944  
Status : Not Answered  
Chosen Option : --

**Q.2** Select the most appropriate option to fill in the blank.

The operation is to be distinguished from other forms of heart surgery and, in particular, from the repair of openings between the \_\_\_\_\_.

- Ans
- 1. oracle
  - 2. oculus
  - 3. oracles
  - 4. auricles

Question ID : 26433090387  
Status : Not Answered  
Chosen Option : --

**Q.3** Select the most appropriate meaning of the given idiom.

**Will-o-the-wisp**

- Ans
- 1. A splendid dream
  - 2. An unrealistic or unattainable goal
  - 3. Having a strong will
  - 4. Being greedy for money

Question ID : 26433072436  
Status : Not Answered  
Chosen Option : --

**Q.4** Select the INCORRECTLY spelt word.

- Ans
- 1. Anticipate
  - 2. Calculate
  - 3. Menipulate
  - 4. Instigate

Question ID : 26433073497  
Status : Not Answered  
Chosen Option : --

**Q.5** Select the most appropriate ANTONYM of the given word.

**Presumable**

- Ans
- 1. Reasonable
  - 2. Credible
  - 3. Improbable
  - 4. Forgetful

Question ID : 26433072210  
Status : Not Answered  
Chosen Option : --

**Q.6 Select the INCORRECTLY spelt word.**

- Ans  1. Philosophy  
 2. Horrendous  
 3. Passive  
 4. Farmaceutical

Question ID : 26433073732  
Status : Not Answered  
Chosen Option : --

**Q.7 Select the most appropriate option to fill in the blank.**

As I review the events of my past life, I realise how \_\_\_\_\_ are the influences that shape our destinies.

- Ans  1. subtle  
 2. artless  
 3. crude  
 4. trumpet

Question ID : 26433092833  
Status : Not Answered  
Chosen Option : --

**Q.8 Select the most appropriate meaning of the given idiom.**

**Better the devil you know than the devil you don't.**

- Ans  1. Being cruel is better with known people.  
 2. It is easier to be in a known bad situation than being in an unknown worse situation.  
 3. Do not trust unknown and known devils.  
 4. Being good is better with evil people.

Question ID : 26433073820  
Status : Not Answered  
Chosen Option : --

**Q.9 Select the most appropriate homophone to fill in the blank.**

He is a good soul. Although the \_\_\_\_\_ of his shoe is worn out, he never asks anyone to help him with money.

- Ans  1. seal  
 2. sole  
 3. sold  
 4. soil

Question ID : 26433088795  
Status : Not Answered  
Chosen Option : --

Q.10 Select the most appropriate synonym of the given word.

Confuse

- Ans  1. Puzzle  
 2. Disunion  
 3. Compose  
 4. Admit

Question ID : 26433072183  
Status : Not Answered  
Chosen Option : --

Q.11 Select the most appropriate option that can substitute the underlined segment in the given sentence.

Don't sit on this bench as it is just painted.

- Ans  1. it was painted just  
 2. it had been painted just  
 3. it had painted just  
 4. it has just been painted

Question ID : 26433088169  
Status : Not Answered  
Chosen Option : --

Q.12 Select the most appropriate ANTONYM of the given word.

Scanty

- Ans  1. Meagre  
 2. Buoyant  
 3. Abundant  
 4. Divine

Question ID : 26433084685  
Status : Not Answered  
Chosen Option : --

Q.13 Select the most appropriate option to substitute the underlined segment in the given sentence.

The monitor of the class don't know the answer.

- Ans  1. the class doesn't knew  
 2. the class doesn't know  
 3. the class didn't knew  
 4. the class don't knew

Question ID : 26433093022  
Status : Not Answered  
Chosen Option : --

**Q.14 Select the most appropriate ANTONYM of the given word.**

**Gratitude**

- Ans  1. Appreciation  
 2. Mercy  
 3. Thanklessness  
 4. Care

Question ID : 26433073799  
Status : Not Answered  
Chosen Option : --

**Q.15 Select the most appropriate synonym of the given word.**

**Deficient**

- Ans  1. Insufficient  
 2. Distinct  
 3. Sufficient  
 4. Abundant

Question ID : 26433074045  
Status : Not Answered  
Chosen Option : --

**Comprehension:**

In the following passage, some words have been deleted. Read the passage carefully and select the most appropriate option to fill in each blank.

If you (1) \_\_\_\_\_ yourself with the good and righteous, they can only (2) \_\_\_\_\_ you up. If you (3) \_\_\_\_\_ yourself with the others, they will (4) \_\_\_\_\_ you down into the doldrums of mediocrity, and they will keep you there, but only as long as you (5) \_\_\_\_\_ it.

**SubQuestion No : 16**

**Q.16 Select the most appropriate option to fill in blank number 1.**

- Ans  1. surround  
 2. ignore  
 3. retreat  
 4. avoid

Question ID : 26433089319  
Status : Not Answered  
Chosen Option : --

**Comprehension:**

In the following passage, some words have been deleted. Read the passage carefully and select the most appropriate option to fill in each blank.

If you (1) \_\_\_\_\_ yourself with the good and righteous, they can only (2) \_\_\_\_\_ you up. If you (3) \_\_\_\_\_ yourself with the others, they will (4) \_\_\_\_\_ you down into the doldrums of mediocrity, and they will keep you there, but only as long as you (5) \_\_\_\_\_ it.

**SubQuestion No : 17**

**Q.17 Select the most appropriate option to fill in blank number 2.**

- Ans  1. replace  
 2. raise  
 3. tarnish  
 4. vanish

Question ID : 26433089320  
Status : Not Answered  
Chosen Option : --

**Comprehension:**

In the following passage, some words have been deleted. Read the passage carefully and select the most appropriate option to fill in each blank.

If you (1) \_\_\_\_\_ yourself with the good and righteous, they can only (2) \_\_\_\_\_ you up. If you (3) \_\_\_\_\_ yourself with the others, they will (4) \_\_\_\_\_ you down into the doldrums of mediocrity, and they will keep you there, but only as long as you (5) \_\_\_\_\_ it.

**SubQuestion No : 18**

**Q.18 Select the most appropriate option to fill in blank number 3.**

- Ans  1. encircle  
 2. clarify  
 3. hide  
 4. loath

Question ID : 26433089321  
Status : Not Answered  
Chosen Option : --

**Comprehension:**

In the following passage, some words have been deleted. Read the passage carefully and select the most appropriate option to fill in each blank.

If you (1) \_\_\_\_\_ yourself with the good and righteous, they can only (2) \_\_\_\_\_ you up. If you (3) \_\_\_\_\_ yourself with the others, they will (4) \_\_\_\_\_ you down into the doldrums of mediocrity, and they will keep you there, but only as long as you (5) \_\_\_\_\_ it.

**SubQuestion No : 19**

**Q.19 Select the most appropriate option to fill in blank number 4.**

- Ans  1. elevate  
 2. drag  
 3. foster  
 4. nurture

Question ID : 26433089322  
Status : Not Answered  
Chosen Option : --

**Comprehension:**

In the following passage, some words have been deleted. Read the passage carefully and select the most appropriate option to fill in each blank.

If you (1) \_\_\_\_\_ yourself with the good and righteous, they can only (2) \_\_\_\_\_ you up. If you (3) \_\_\_\_\_ yourself with the others, they will (4) \_\_\_\_\_ you down into the doldrums of mediocrity, and they will keep you there, but only as long as you (5) \_\_\_\_\_ it.

**SubQuestion No : 20****Q.20 Select the most appropriate option to fill in blank number 5.**

- Ans
- 1. disregard
  - 2. overlook
  - 3. forget
  - 4. permit

Question ID : 26433089323  
Status : Not Answered  
Chosen Option : --

Section : Part-D-Hindi

**Q.1 निम्नलिखित मुहावरों का कौन सा एक विकल्प-युग्म अशुद्ध है?**

- Ans
- 1. कूच कर जाना-चले जाना
  - 2. कान में डाल देना-बता देना
  - 3. खून खौलना-जोश आना
  - 4. खून सफेद हो जाना-अपमान करना

Question ID : 26433062558  
Status : Answered  
Chosen Option : 4

**Q.2 निम्नलिखित अकर्मक एवं सकर्मक क्रिया शब्द युग्मों में से किसमें त्रुटि है?**

- Ans
- 1. जुड़ना - जोड़ना
  - 2. मूड़ना - मोड़ना
  - 3. खुलना - खोलना
  - 4. दिखना - देखना

Question ID : 26433063040  
Status : Answered  
Chosen Option : 2

**Q.3 निम्नलिखित में से अशुद्ध वाक्य कौन-सा है?**

- Ans
- 1. लक्ष्य ने शिक्षक से विभा की शिकायत की।
  - 2. एक विद्यार्थी को दो पुस्तक मिलेगी।
  - 3. अनिल ने कल दो खिलौने खरीदे।
  - 4. नव्या की बहन शिमला में पढ़ती है।

Question ID : 26433066988  
Status : Answered  
Chosen Option : 3



Q.4 वृक्ष काटना अत्यंत घातक है।

रेखांकित शब्द के उचित पर्यायवाची शब्द का चयन कीजिए।

- Ans
- 1. यती
  - 2. वित्त
  - 3. पेड़
  - 4. अंशु

Question ID : 26433079622  
Status : Answered  
Chosen Option : 3

Q.5 'पुस्तकालय \_\_\_\_\_'

उपर्युक्त वाक्य में रिक्त स्थान का उपयुक्त विकल्प निम्न में से क्या होगा?

- Ans
- 1. वह स्थान है, जहाँ पढ़ाई मिलती है
  - 2. वह स्थान है, जहाँ बैठकर पढ़ाई की जाती है
  - 3. वह स्थान है, जहाँ बैठकर बातें की जाती हैं
  - 4. वह स्थान है, जहाँ बैठकर पढ़ाई मिलती है

Question ID : 26433067037  
Status : Answered  
Chosen Option : 2

Q.6 निम्नलिखित वाक्य में अशुद्धि पहचानें-  
कानून के हाथ लंबे होते हैं।

- Ans
- 1. होते
  - 2. हाथ
  - 3. कानून
  - 4. लंबे

Question ID : 26433066823  
Status : Answered  
Chosen Option : 3

Q.7 रेखांकित शब्द-समूह के लिए सर्वाधिक उपयुक्त विकल्प चुनें।  
राज्य के प्रधान शासक द्वारा दिया गया आधिकारिक आदेश पढ़कर मुझे प्रसन्नता हुई।

- Ans
- 1. नियमावली
  - 2. अध्यादेश
  - 3. आदेश
  - 4. अधिकादेश

Question ID : 26433062283  
Status : Answered  
Chosen Option : 2

Q.8 'कमल' का पर्यायवाची शब्द है-

- Ans
- 1. पयोद
  - 2. पंकद
  - 3. पंकज
  - 4. सुमन

Question ID : 26433062915  
Status : Answered  
Chosen Option : 3

Q.9 'कर्मण्य' शब्द का विलोम क्या होगा?

- Ans
- 1. विकर्मण्य
  - 2. सकर्मण्य
  - 3. अकर्मण्य
  - 4. निकर्मण्य

Question ID : 26433067096  
Status : Answered  
Chosen Option : 3

Q.10 'जो बीत गया है' वाक्यांश के लिए सार्थक शब्द है-

- Ans
- 1. व्यतीत
  - 2. अतीत
  - 3. आगामी
  - 4. वर्तमान

Question ID : 26433065863  
Status : Answered  
Chosen Option : 2

Q.11 'आकर्षण' शब्द का विलोम क्या होगा?

- Ans
- 1. विकर्षण
  - 2. आकर्षित
  - 3. अनुपम
  - 4. मनोहर

Question ID : 26433067089  
Status : Answered  
Chosen Option : 1

Q.12 'आपे से बाहर होना' मुहावरे का सही अर्थ है -

- Ans
- 1. डांटना
  - 2. विरोध करना
  - 3. अत्यधिक क्रोधित हो जाना
  - 4. जल जाना

Question ID : 26433065917  
Status : Answered  
Chosen Option : 3

Q.13 निम्नलिखित विकल्पों में से किस एक वाक्य में गुणवाचक विशेषण का उचित प्रयोग नहीं किया गया है?

- Ans  1. कर्मवीर बौना है।  
 2. वह लम्बा है।  
 3. शिवशंकर की शर्ट काली है।  
 4. सुरेश केरल में पढ़ता है।

Question ID : 26433062971  
Status : Answered  
Chosen Option : 4

Q.14 निम्नलिखित विकल्पों में से दिए गए वाक्यांश के लिए उपयुक्त शब्द चुनें।  
वृक्षों और बेलों से घिरा स्थान

- Ans  1. कल्प  
 2. कुंज  
 3. वन  
 4. क्यारी

Question ID : 26433069991  
Status : Answered  
Chosen Option : 2

Q.15 निम्न वाक्य में रेखांकित शब्द को विकल्पों में दिए गए शब्दों में से उचित शब्द से बदलें।  
मैंने चित्त में सोचा कि भला ऐसा क्यों होता है!

- Ans  1. आत्मा  
 2. विचार  
 3. मन  
 4. व्यवहार

Question ID : 26433062878  
Status : Answered  
Chosen Option : 3

**Comprehension:**

नीचे दिए गए गद्यांश से कुछ शब्दों को हटा दिया गया है। गद्यांश के आधार पर पूछे गए प्रश्नों के अनुसार इन रिक्त स्थानों की पूर्ति उपयुक्त शब्दों द्वारा कीजिए।  
सिंह की भांति राणा ने उनके बीच में 1. \_\_\_\_\_ किया। सत्रहों सरदार पृथ्वी पर झुक गए। उनकी तलवारें 2. \_\_\_\_\_ उठीं और पीठ पर बंधी हुई बड़ी ढालें हिल पड़ीं। सेना ने महाराज को देखते ही वज्रध्वनि से 3. \_\_\_\_\_ किया। प्रताप ने एक ऊंचे टीले पर खड़े होकर अपने सरदारों और सेना को सम्बोधित करके कहा, "मेरे प्यारे वीरों, वंशधरों! आज हम वह कार्य करने जा रहे हैं जो हमेशा हमारे 4. \_\_\_\_\_ ने किया है। हम आज मरेगे अथवा विजय प्राप्त करेंगे। हमारा इस युद्ध में कोई स्वार्थ नहीं है। हम केवल इसलिए युद्ध कर रहे हैं कि हमारी 5. \_\_\_\_\_ में हस्तक्षेप हो रहा है। क्या यहाँ पर कोई ऐसा राजपूत है जो पराया गुलाम बना रहना पसंद करे? जो ऐसा हो उसे मेरी तरफ से छुट्टी है।"

**SubQuestion No : 16**

Q.16 रिक्त स्थान 1 के लिए उपयुक्त शब्द का चयन विकल्पों में से कीजिए।

- Ans
- 1. पटाक्षेप
  - 2. आक्रमण
  - 3. पदार्पण
  - 4. तांडव

Question ID : 26433069925

Status : Answered

Chosen Option : 3

**Comprehension:**

नीचे दिए गए गद्यांश से कुछ शब्दों को हटा दिया गया है। गद्यांश के आधार पर पूछे गए प्रश्नों के अनुसार इन रिक्त स्थानों की पूर्ति उपयुक्त शब्दों द्वारा कीजिए।  
सिंह की भांति राणा ने उनके बीच में 1. \_\_\_\_\_ किया। सत्रहों सरदार पृथ्वी पर झुक गए। उनकी तलवारें 2. \_\_\_\_\_ उठीं और पीठ पर बंधी हुई बड़ी ढालें हिल पड़ीं। सेना ने महाराज को देखते ही वज्रध्वनि से 3. \_\_\_\_\_ किया। प्रताप ने एक ऊंचे टीले पर खड़े होकर अपने सरदारों और सेना को सम्बोधित करके कहा, "मेरे प्यारे वीरों, वंशधरों! आज हम वह कार्य करने जा रहे हैं जो हमेशा हमारे 4. \_\_\_\_\_ ने किया है। हम आज मरेगे अथवा विजय प्राप्त करेंगे। हमारा इस युद्ध में कोई स्वार्थ नहीं है। हम केवल इसलिए युद्ध कर रहे हैं कि हमारी 5. \_\_\_\_\_ में हस्तक्षेप हो रहा है। क्या यहाँ पर कोई ऐसा राजपूत है जो पराया गुलाम बना रहना पसंद करे? जो ऐसा हो उसे मेरी तरफ से छुट्टी है।"

**SubQuestion No : 17**

Q.17 रिक्त स्थान 2 के लिए उपयुक्त शब्द का चयन विकल्पों में से कीजिए।

- Ans
- 1. भनभना
  - 2. खनखना
  - 3. तड़तड़ा
  - 4. बजबजा

Question ID : 26433069926

Status : Answered

Chosen Option : 3

**Comprehension:**

नीचे दिए गए गद्यांश से कुछ शब्दों को हटा दिया गया है। गद्यांश के आधार पर पूछे गए प्रश्नों के अनुसार इन रिक्त स्थानों की पूर्ति उपयुक्त शब्दों द्वारा कीजिए।

सिंह की भांति राणा ने उनके बीच में 1. \_\_\_\_\_ किया। सत्रहों सरदार पृथ्वी पर झुक गए। उनकी तलवारें 2. \_\_\_\_\_ उठीं और पीठ पर बंधी हुई बड़ी ढालें हिल पड़ी। सेना ने महाराज को देखते ही वज्रध्वनि से 3. \_\_\_\_\_ किया। प्रताप ने एक ऊंचे टीले पर खड़े होकर अपने सरदारों और सेना को सम्बोधित करके कहा, "मेरे प्यारे वीरों, वंशधरों! आज हम वह कार्य करने जा रहे हैं जो हमेशा हमारे 4. \_\_\_\_\_ ने किया है। हम आज मरेगे अथवा विजय प्राप्त करेंगे। हमारा इस युद्ध में कोई स्वार्थ नहीं है। हम केवल इसलिए युद्ध कर रहे हैं कि हमारी 5. \_\_\_\_\_ में हस्तक्षेप हो रहा है। क्या यहाँ पर कोई ऐसा राजपूत है जो पराया गुलाम बना रहना पसंद करे? जो ऐसा हो उसे मेरी तरफ से छुट्टी है।"

**SubQuestion No : 18**

Q.18 रिक्त स्थान 3 के लिए उपयुक्त शब्द का चयन विकल्पों में से कीजिए।

- Ans
- 1. अभियान
  - 2. जयघोष
  - 3. शोकगान
  - 4. मंगलगान

Question ID : 26433069927

Status : Answered

Chosen Option : 2

**Comprehension:**

नीचे दिए गए गद्यांश से कुछ शब्दों को हटा दिया गया है। गद्यांश के आधार पर पूछे गए प्रश्नों के अनुसार इन रिक्त स्थानों की पूर्ति उपयुक्त शब्दों द्वारा कीजिए।

सिंह की भांति राणा ने उनके बीच में 1. \_\_\_\_\_ किया। सत्रहों सरदार पृथ्वी पर झुक गए। उनकी तलवारें 2. \_\_\_\_\_ उठीं और पीठ पर बंधी हुई बड़ी ढालें हिल पड़ी। सेना ने महाराज को देखते ही वज्रध्वनि से 3. \_\_\_\_\_ किया। प्रताप ने एक ऊंचे टीले पर खड़े होकर अपने सरदारों और सेना को सम्बोधित करके कहा, "मेरे प्यारे वीरों, वंशधरों! आज हम वह कार्य करने जा रहे हैं जो हमेशा हमारे 4. \_\_\_\_\_ ने किया है। हम आज मरेगे अथवा विजय प्राप्त करेंगे। हमारा इस युद्ध में कोई स्वार्थ नहीं है। हम केवल इसलिए युद्ध कर रहे हैं कि हमारी 5. \_\_\_\_\_ में हस्तक्षेप हो रहा है। क्या यहाँ पर कोई ऐसा राजपूत है जो पराया गुलाम बना रहना पसंद करे? जो ऐसा हो उसे मेरी तरफ से छुट्टी है।"

**SubQuestion No : 19**

Q.19 रिक्त स्थान 4 के लिए उपयुक्त शब्द का चयन विकल्पों में से कीजिए।

- Ans
- 1. शत्रुओं
  - 2. पूर्वजों
  - 3. सहयोगियों
  - 4. अनुजों

Question ID : 26433069928

Status : Answered

Chosen Option : 2

**Comprehension:**

नीचे दिए गए गद्यांश से कुछ शब्दों को हटा दिया गया है। गद्यांश के आधार पर पूछे गए प्रश्नों के अनुसार इन रिक्त स्थानों की पूर्ति उपयुक्त शब्दों द्वारा कीजिए।

सिंह की भांति राणा ने उनके बीच में 1. \_\_\_\_\_ किया। सत्रहों सरदार पृथ्वी पर झुक गए। उनकी तलवारें 2. \_\_\_\_\_ उठीं और पीठ पर बंधी हुई बड़ी ढालें हिल पड़ी। सेना ने महाराज को देखते ही वज्रध्वनि से 3. \_\_\_\_\_ किया। प्रताप ने एक ऊंचे टीले पर खड़े होकर अपने सरदारों और सेना को सम्बोधित करके कहा, "मेरे प्यारे वीरों, वंशधरों! आज हम वह कार्य करने जा रहे हैं जो हमेशा हमारे 4. \_\_\_\_\_ ने किया है। हम आज मरेंगे अथवा विजय प्राप्त करेंगे। हमारा इस युद्ध में कोई स्वार्थ नहीं है। हम केवल इसलिए युद्ध कर रहे हैं कि हमारी 5. \_\_\_\_\_ में हस्तक्षेप हो रहा है। क्या यहाँ पर कोई ऐसा राजपूत है जो पराया गुलाम बना रहना पसंद करे? जो ऐसा हो उसे मेरी तरफ से छुट्टी है।"

**SubQuestion No : 20**

**Q.20** रिक्त स्थान 5 के लिए उपयुक्त शब्द का चयन विकल्पों में से कीजिए।

**Ans** ✓ 1. स्वतंत्रता

✗ 2. परतंत्रता

✗ 3. देशभक्ति

✗ 4. प्रसन्नता

Question ID : 26433069929

Status : Answered

Chosen Option : 1

WWW.GOV TJOB SALES .IN