

Constable GD in CAPFs SSF Rifleman GD in Assam Rifles and Sepoy in NCB Examination 2022

Roll Number	www.govtjobsalert.in
Candidate Name	www.govtjobsalert.in
Venue Name	iON Digital Zone iDZ 2 Patliputra
Exam Date	10/01/2023
Exam Time	11:45 AM - 12:45 PM
Subject	Constable GD Examination 2022

Section : Part-A-General Intelligence and Reasoning

Q.1 छः लड़कियां - D, K, M, P, R और S एक वृत्ताकार मेज के परितः मेज के केंद्र की ओर मुख करके बैठी हैं। S, R के बाईं ओर तीसरे स्थान पर बैठी है। P, R के दाईं ओर ठीक बगल में, और D के बाईं ओर ठीक बगल में बैठी है। M, R के बाईं ओर ठीक बगल में बैठी है। K, S के दाईं ओर ठीक बगल में, और M के बाईं ओर ठीक बगल में बैठी है। K और D के ठीक बगल में कौन बैठी है?

- Ans
- 1. S
 - 2. M
 - 3. P
 - 4. R

Question ID : 26433080472

Status : Answered

Chosen Option : 1

Q.2 उस विकल्प का चयन करें जो पांचवें अक्षर-समूह से उसी प्रकार संबंधित है जिस प्रकार दूसरा अक्षर-समूह पहले अक्षर-समूह से संबंधित है और चौथा अक्षर-समूह तीसरे अक्षर-समूह से संबंधित है।
UCE : FEX :: PGS : TIS :: HKR : ?

- Ans
- 1. SNK
 - 2. SMK
 - 3. SMJ
 - 4. RKH

Question ID : 26433057745

Status : Answered

Chosen Option : 2

Q.3 उस विकल्प का चयन कीजिए जो तीसरे शब्द से उसी प्रकार संबंधित है जिस प्रकार दूसरा शब्द पहले शब्द से संबंधित है। (शब्दों को अर्थपूर्ण शब्दों के रूप में मानना है और उन्हें शब्द में अक्षरों/व्यंजनों/स्वरों की संख्या के आधार पर एक-दूसरे से संबंधित नहीं करना है।)
पीडियाट्रिशियन : बच्चे :: डर्मेटोलॉजिस्ट : ?

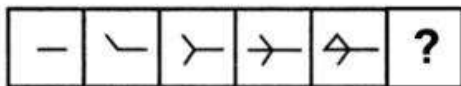
- Ans
- 1. अस्थियां
 - 2. पौधे
 - 3. पैर
 - 4. त्वचा

Question ID : 26433078823

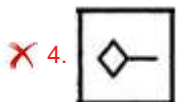
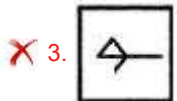
Status : Answered

Chosen Option : 4

Q.4 दिए गए विकल्पों में से उस आकृति का चयन करें जो निम्नलिखित श्रृंखला में प्रश्नवाचक चिह्न (?) का स्थान ले सकती है।



Ans



Question ID : 26433080494

Status : Answered

Chosen Option : 2

Q.5 दिए गए समीकरण को संतुलित करने के लिए इसकी किन दो संख्याओं (अंको को नहीं) को परस्पर बदलना होगा?

$$8 \times 15 \div 3 + 14 - 4 = 26$$

Ans ✗ 1. 14, 15

✓ 2. 4, 8

✗ 3. 3, 4

✗ 4. 15, 26

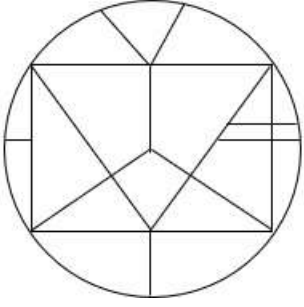
Question ID : 26433087045

Status : Answered

Chosen Option : 2

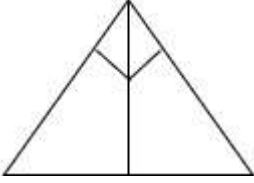
Q.6 वह विकल्प चित्र चुनिए, जो प्रस्तुत चित्र में अंतर्निहित है। (घुमाना अनुमन्य नहीं है)

है)

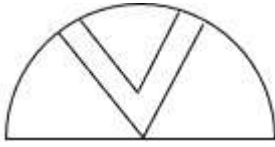


Ans

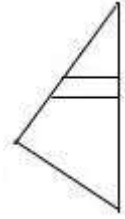
✗ 1.



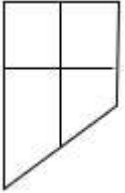
✗ 2.



✓ 3.



✗ 4.



Question ID : 26433069349

Status : Answered

Chosen Option : 3

Q.7 आठ व्यक्ति दो समानांतर पंक्तियों में, प्रत्येक में 4 व्यक्ति के अनुसार, इस प्रकार बैठे हैं कि आसन्न व्यक्तियों के बीच की दूरी समान है तथा ये व्यक्ति एक दूसरे की ओर देख रहे हैं।
पंक्ति I में - L, M, N और O बैठे हैं, और उन सभी का मुख दक्षिण की ओर है।
पंक्ति II में - P, Q, R और S बैठे हैं, और उन सभी का मुख उत्तर की ओर है।
N अपनी पंक्ति के अंतिम दाएं सिरे पर बैठे व्यक्ति के बगल में बैठा है, और उसका मुख R की ओर है। S अपनी पंक्ति के अंतिम बाएं सिरे पर बैठा है। Q, R के दाईं ओर ठीक बगल में बैठा है, और उसका मुख L की ओर है। O अपनी पंक्ति के अंतिम बाएं सिरे पर बैठा है।
दक्षिण दिशा की ओर मुख करके बैठे व्यक्तियों की पंक्ति के अंतिम दाएं सिरे पर कौन बैठा है?

Ans ✗ 1. L

✗ 2. O

✗ 3. N

✓ 4. M

Question ID : 26433068745

Status : Answered

Chosen Option : 4

Q.8 नीचे दिए गए समीकरण को गणितीय रूप से सही बनाने के लिए किन दो चिन्हों को परस्पर बदलना चाहिए?

$$42 + 12 \div 24 \times 84 - 14 = 91$$

- Ans
- 1. \times और \div
 - 2. $+$ और \times
 - 3. $-$ और $+$
 - 4. \div और $-$

Question ID : 264330117505

Status : Answered

Chosen Option : 2

Q.9 एक निश्चित कूट भाषा में 'MONTH' को '141213719' के रूप में और 'YEAR' को '222269' के रूप में लिखा जाता है। उसी भाषा में 'WEEK' को किस प्रकार लिखा जाएगा?

- Ans
- 1. 4222261
 - 2. 1444424
 - 3. 4222216
 - 4. 2444416

Question ID : 26433068228

Status : Answered

Chosen Option : 3

Q.10 किस विकल्प में निम्नलिखित शब्दों का वह क्रम दिया गया है, जिस क्रम में वे अंग्रेजी शब्दकोश में आते हैं?

- 1 lonely
- 2 longitude
- 3 lovely
- 4 lounge
- 5 locker

- Ans
- 1. 5,1,2,4,3
 - 2. 5,1,2,3,4
 - 3. 5,2,1,3,4
 - 4. 5,4,3,1,2

Question ID : 26433069317

Status : Answered

Chosen Option : 1

Q.11 निम्नलिखित में से कौन-सा पद दी गई श्रृंखला में प्रश्न-चिह्न (?) के स्थान पर आएगा?
DBA, JHG, PNM, ?

- Ans
- 1. VTQ
 - 2. VTS
 - 3. KMV
 - 4. VTU

Question ID : 26433068631

Status : Answered

Chosen Option : 2

Q.12 निम्नलिखित में से कौन-सी संख्या दी गई श्रृंखला में प्रश्न-चिह्न (?) के स्थान पर आएगी?
7, 50, 351, 2458, ?

Ans 1. 17207

2. 18000

3. 15265

4. 13582

Question ID : 26433082002

Status : Answered

Chosen Option : 1

Q.13 एक निश्चित कूट भाषा में, 'BUYER' को 'CSZCS' के रूप में लिखा जाता है और 'CHILD' को 'DFJJE' के रूप में लिखा जाता है। उसी भाषा में 'DEATH' को कैसे लिखा जाएगा?

Ans 1. ECBRI

2. EBCUJ

3. FFBUI

4. GFCRJ

Question ID : 26433082558

Status : Answered

Chosen Option : 1

Q.14 दर्पण को चित्र में दिखाए अनुसार MN पर रखे जाने पर दी गई आकृति के सही

दर्पण प्रतिबिंब का चयन करें।

9 4 n o m 7 d b 6 | M
N

Ans 1. a b d 7 m o n 4 e

2. a d b 7 m o n 4 e

3. a d b 7 n o m 4 e

4. e d b 7 m o n 4 a

Question ID : 26433082331

Status : Answered

Chosen Option : 2

Q.15 कौन-सा अक्षर-समूह दी गई श्रृंखला में प्रश्नचिह्न (?) के स्थान पर आकर श्रृंखला को पूर्ण करेगा?
UERB, RHOE, ?, LNIK, IQFN

- Ans 1. OKLH
 2. OKMH
 3. OLM I
 4. OKNI

Question ID : 26433068574

Status : Answered

Chosen Option : 1

Q.16 तीन कथनों के बाद तीन निष्कर्ष I, II और III दिए गए हैं। कथनों को सत्य मानते हुए, भले ही वे सामान्य रूप से ज्ञात तथ्यों से भिन्न प्रतीत होते हों, निर्णय लीजिए कि कौन-सा/से निष्कर्ष कथनों का तार्किक रूप से अनुसरण करता/करते है/हैं।

कथन:

कुछ पत्तागोभी चट्टानें हैं।

सभी चट्टानें पहिए हैं।

कोई पहिया कैची नहीं है।

निष्कर्ष:

I. सभी पत्तागोभी पहिए हैं।

II. कुछ चट्टाने पहिए हैं।

III. कुछ पहिए कैची नहीं हैं।

- Ans 1. निष्कर्ष II और III दोनों अनुसरण करते हैं।
 2. सभी निष्कर्ष अनुसरण करते हैं।
 3. निष्कर्ष I और III दोनों अनुसरण करते हैं।
 4. निष्कर्ष I और II दोनों अनुसरण करते हैं।

Question ID : 26433081792

Status : Answered

Chosen Option : 4

Q.17 निम्नलिखित में से कौन-सी संख्या दी गई श्रृंखला में प्रश्न-चिह्न (?) का स्थान लेगी?
7, 17, ?, 137, 407, 1217

- Ans 1. 57
 2. 47
 3. 34
 4. 51

Question ID : 26433068096

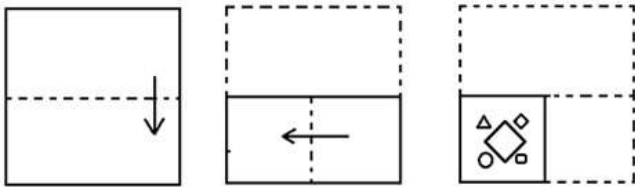
Status : Answered

Chosen Option : 2

Q.18 एक कागज को मोड़ने का क्रम और मुड़े हुए कागज को काटने का तरीका नीचे दर्शाया गया

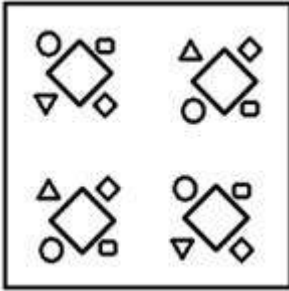
है। उस आकृति का चयन करें जो कागज को खोले जाने पर उसके खुले रूप से सबसे अधिक

मिलती-जुलती है।

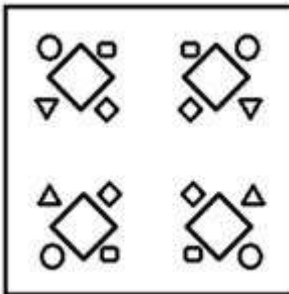


Ans

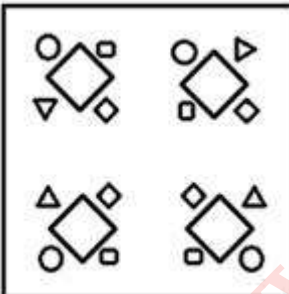
✗ 1.



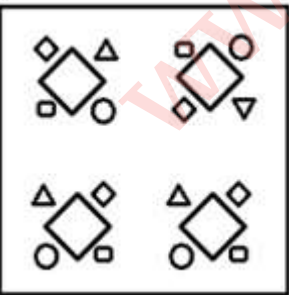
✓ 2.



✗ 3.



✗ 4.



Question ID : 26433087095

Status : Answered

Chosen Option : 2

Q.19 A @ B का अर्थ है 'A, B का पति है'।
A & B का अर्थ है 'A, B की माता है'।
A # B का अर्थ है 'A, B की बेटी है'।
A % B का अर्थ है 'A, B की बहन है'।
यदि G % V @ K & P और G # S % M है, तो S, P से किस प्रकार संबंधित है?

- Ans
- 1. ससुर
 - 2. सास
 - 3. दादी (पिता की माता)
 - 4. पौत्र (पुत्र का पुत्र)

Question ID : 26433069614

Status : Answered

Chosen Option : 3

Q.20 उस समुच्चय का चयन करें, जिसकी संख्याओं के बीच ठीक वही संबंध है, जो संबंध निम्नांकित समुच्चयों की संख्याओं में हैं।
(नोट: संख्याओं को उसके घटक अंकों में विभाजित किए बिना, पूर्ण संख्याओं पर संक्रिया की जानी चाहिए। उदाहरण के लिए 13। 13 पर संचालन जैसे कि जोड़ने/घटाने/गुणा करने आदि को 13 में किया जा सकता है। 13 को 1 और 3 में तोड़कर और फिर 1 और 3 पर गणितीय संक्रियाएँ करने की अनुमति नहीं है)
(20, 90, 10)
(25, 135, 10)

- Ans
- 1. (22, 150, 7)
 - 2. (19, 80, 15)
 - 3. (18, 72, 10)
 - 4. (30, 169, 12)

Question ID : 26433076546

Status : Answered

Chosen Option : 2

Section : Part-B-General Knowledge and General awareness

Q.1 स्किल इंडिया मिशन की अभिशासन परिषद की अध्यक्षता _____ करते हैं।

- Ans
- 1. मुख्यमंत्री
 - 2. प्रधान मंत्री
 - 3. राष्ट्रपति
 - 4. गृह मंत्री

Question ID : 264330116190

Status : Answered

Chosen Option : 2

Q.2 सदनम पी.वी. बालकृष्णन को किस नृत्य शैली के लिए संगीत नाटक अकादमी पुरस्कार दिया गया?

- Ans
- 1. लावणी
 - 2. भरतनाट्यम
 - 3. कुचिपुड़ी
 - 4. कथकली

Question ID : 264330115844

Status : Not Answered

Chosen Option : --

Q.3 मानव शरीर में, भोजन एक सतत् नली से गुजरता है, जो _____ से प्रारम्भ होकर गुदा तक जाती है।

- Ans
- 1. मुख-गुहिका
 - 2. ग्रास नली
 - 3. आमाशय
 - 4. मलाशय

Question ID : 264330115227

Status : Answered

Chosen Option : 1

Q.4 महात्मा गांधी (नई) श्रृंखला के 50 रु के बैंकनोट का आधार रंग _____ है।

- Ans
- 1. स्टोन ग्रे
 - 2. चॉकलेट भूरा
 - 3. फ्लोरोसेंट नीला
 - 4. लैवेंडर

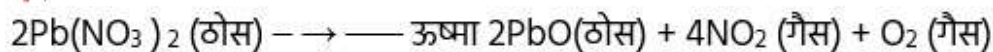
Question ID : 264330115292

Status : Answered

Chosen Option : 3

Q.5 निम्न में से रेडॉक्स अभिक्रिया की पहचान कीजिए।

- Ans
- 1. $\text{CaCO}_3(\text{ठोस}) \rightarrow \text{CaO}(\text{ठोस}) + \text{CO}_2(\text{गैस})$
 - 2. $\text{MnO}_2 + 4\text{HCl} \rightarrow \text{MnCl}_2 + 2\text{H}_2\text{O} + \text{Cl}_2$
 - 3. $\text{Pb}(\text{ठोस}) + \text{CuCl}_2(\text{जलीय}) \rightarrow \text{PbCl}_2(\text{जलीय}) + \text{Cu}(\text{ठोस})$
 - 4.



Question ID : 26433091479

Status : Not Attempted and Marked For Review

Chosen Option : --

Q.6 तमिलनाडु तट पर अधिकतर वर्षा _____ और _____ के दौरान होती है।

- Ans
- 1. अप्रैल और मई
 - 2. अगस्त और सितंबर
 - 3. अक्टूबर और नवंबर
 - 4. मई और जून

Question ID : 26433087879

Status : Answered

Chosen Option : 3

Q.7 जनगणना 2011 के अनुसार भारत में सर्वाधिक महिला साक्षरता दर वाले राज्य का नाम बताइए।

- Ans
- 1. महाराष्ट्र
 - 2. केरल
 - 3. कर्नाटक
 - 4. मिज़ोरम

Question ID : 264330116053

Status : Answered

Chosen Option : 2

Q.8 Which of the following case is NOT a criminal law case?

- Ans
- 1. Divorce case
 - 2. Murder
 - 3. Theft
 - 4. Harassment for dowry

Question ID : 26433089183

Status : Answered

Chosen Option : 1

Q.9 The plan between fifth five year plan and sixth five year plan is known as _____.

- Ans
- 1. Equality
 - 2. Integrated
 - 3. Rolling
 - 4. Forward

Question ID : 264330116139

Status : Answered

Chosen Option : 2

Q.10 महा शिवरात्रि हिंदू देवता, भगवान शिव के सम्मान में हिंदू माह _____ में मनाई जाती है।

- Ans
- 1. कार्तिक
 - 2. चैत्र
 - 3. फाल्गुन
 - 4. वैशाख

Question ID : 264330115124
Status : Answered
Chosen Option : 4

Q.11 बैडमिंटन में प्रत्येक खेल (गेम) में कितने अंक होते हैं?

- Ans
- 1. 20
 - 2. 15
 - 3. 11
 - 4. 21

Question ID : 264330115928
Status : Not Answered
Chosen Option : --

Q.12 निम्नलिखित में से कौन ब्रिटिश भारत में भारतीय सिविल सेवा में भर्ती होने वाले पहले भारतीय थे?

- Ans
- 1. सुरेंद्र नाथ बनर्जी
 - 2. रविंद्रनाथ टैगोर
 - 3. सत्येंद्रनाथ टैगोर
 - 4. रहीमतुल्ला एम. सयानी

Question ID : 26433090582
Status : Answered
Chosen Option : 3

Q.13 भारतीय संविधान का कौन सा अनुच्छेद 'प्राण और दैहिक स्वतंत्रता का संरक्षण' से संबंधित है?

- Ans
- 1. अनुच्छेद 20
 - 2. अनुच्छेद 21
 - 3. अनुच्छेद 22
 - 4. अनुच्छेद 19

Question ID : 26433089906
Status : Answered
Chosen Option : 2

Q.14 निम्नलिखित में से कौन सा आंध्र प्रदेश का शास्त्रीय नृत्य है?

- Ans 1. कुचिपुड़ी
 2. मणिपुरी
 3. भरतनाट्यम
 4. मोहिनीअट्टम

Question ID : 26433074069

Status : Answered

Chosen Option : 1

Q.15 अर्थव्यवस्था के प्रत्येक क्षेत्रक द्वारा जीडीपी में किए गए योगदान से ही _____ तैयार होता है।

- Ans 1. सांकेतिक ढांचा
 2. वास्तविक ढांचा
 3. वास्तविक जीडीपी
 4. अर्थव्यवस्था का ढांचा

Question ID : 26433082165

Status : Answered

Chosen Option : 3

Q.16 ओलंपिक्स में भारत के प्रथम ध्वजवाहक का नाम क्या था?

- Ans 1. लाल शाह बुखारी
 2. पुरमा बैनर्जी
 3. ध्यानचंद
 4. जफर इकबाल

Question ID : 264330116258

Status : Not Answered

Chosen Option : --

Q.17 निम्नलिखित में से किसे सितंबर 2022 में त्रिपुरा, भारत से राज्य सभा के सदस्य के रूप में निर्वाचित किया गया था?

- Ans 1. अरुण सिंह
 2. राधा मोहन दास
 3. बिप्लब कुमार देब
 4. मरियम रेंग्मा

Question ID : 264330114948

Status : Not Answered

Chosen Option : --

Q.18 अक्टूबर 2022 के अनुसार, भारतीय कम्युनिस्ट पार्टी के महासचिव कौन हैं?

- Ans
- 1. सीताराम येचुरी
 - 2. बिर्णय विश्वम
 - 3. इंद्रजीत गुप्ता
 - 4. डी. राजा

Question ID : 264330114995

Status : Answered

Chosen Option : 1

Q.19 श्वेन त्सांग (Xuan Zang) के अनुसार, नालंदा बौद्ध मठ के _____ नए प्रवेशकों से कठिन प्रश्न पूछते हैं, जिनका उत्तर देना बहुत कठिन होता है।

- Ans
- 1. द्वारपाल
 - 2. सबसे पुराने भिक्षु
 - 3. मठ के प्रमुख
 - 4. सबसे छोटे भिक्षु

Question ID : 26433085220

Status : Answered

Chosen Option : 2

Q.20 घुमंतू पशुचारण (Nomadic herding) में, चरवाहे अपने जानवरों के साथ एक स्थान से दूसरे स्थान पर _____ और _____ के लिए निर्धारित मार्गों से भ्रमण करते हैं।

- Ans
- 1. आश्रय और चारे
 - 2. आश्रय और पैसे
 - 3. पैसे और पानी
 - 4. चारे और पानी

Question ID : 264330115539

Status : Answered

Chosen Option : 4

Section : Part-C-Elementary Mathematics

Q.1 सोनल और अर्जुन मिलकर एक कार्य को 57 दिनों में, अर्जुन और रोहन 38 दिनों में, और रोहन और सोनल 38 दिनों में पूरा कर सकते हैं, तो सोनल, अर्जुन और रोहन मिलकर उस कार्य को कितने दिनों में पूरा कर सकते हैं?

- Ans
- 1. 26.5 दिन
 - 2. 24.5 दिन
 - 3. 28.5 दिन
 - 4. 31.5 दिन

Question ID : 264330116874

Status : Answered

Chosen Option : 3

Q.2 120 m लंबी एक रेलगाड़ी 60 km/h की चाल से चलते हुए एक पुल को 18 सेकंड में पार करती है। पुल की लंबाई ज्ञात कीजिए।

- Ans 1. 180 m
 2. 160 m
 3. 170 m
 4. 150 m

Question ID : 26433075415
Status : Answered
Chosen Option : 1

Q.3 एक टेबल फैन को Rs.2,827.06 में बेचने पर, इसे Rs.2,230 में बेचने पर होने वाली हानि से 14% अधिक लाभ मिलता है। 14% लाभ प्राप्त करने के लिए इसका विक्रय मूल्य _____ होगा।

- Ans 1. Rs.2,860.26
 2. Rs.2,890
 3. Rs.3,045
 4. Rs.2,844.50

Question ID : 26433074923
Status : Not Attempted and Marked For Review
Chosen Option : --

Q.4 एक कपड़े की दुकान ने शर्ट पर 30 प्रतिशत की छूट की घोषणा की। रिवान छूट में 810 रुपए बचाना चाहता था। ऐसा करने के लिए उसे कितनी शर्ट खरीदनी चाहिए, यदि प्रत्येक शर्ट का अंकित मूल्य 540 रुपए है?

- Ans 1. 5
 2. 8
 3. 4
 4. 6

Question ID : 264330116759
Status : Answered
Chosen Option : 1

Q.5 एक दुकानदार 12% के लाभ पर सामान बेचता है और वास्तविक वजन से 15% कम वजन को उपयोग में लाता है। उसका कुल प्रतिशत लाभ (दशमलव के 2 स्थान तक शुद्ध) ज्ञात कीजिए।

- Ans 1. 25.80%
 2. 28.75%
 3. 31.76%
 4. 30.24%

Question ID : 26433080164
Status : Answered
Chosen Option : 3

Q.6 10 m × 10 m × 5 m की विमाओं वाले कमरे में रखे जा सकने वाले सबसे लंबे खंभे की लंबाई क्या है?

- Ans
- 1. 10 m
 - 2. 20 m
 - 3. 25 m
 - 4. 15 m

Question ID : 26433066369

Status : Answered

Chosen Option : 4

Q.7 उन संख्याओं का गुणनफल ज्ञात कीजिए जिनके महत्तम समापवर्तक (HCF) और लघुत्तम समापवर्त्य (LCM) क्रमशः 8 और 40 हैं।

- Ans
- 1. 320
 - 2. 360
 - 3. 300
 - 4. 240

Question ID : 264330116665

Status : Answered

Chosen Option : 1

Q.8 जॉन ने एक बैंक से 10% वार्षिक चक्रवृद्धि ब्याज दर पर कुछ राशि उधार ली, जिसके लिए ब्याज वार्षिक रूप से चक्रवृद्धि (संयोजित) किया जाना था। यदि उसने 4 वर्ष के अंत में ₹21,961.50 का भुगतान करके अपना उधार चुकाया, तो उसने कितनी राशि उधार ली थी?

- Ans
- 1. ₹17,000
 - 2. ₹16,000
 - 3. ₹15,000
 - 4. ₹14,000

Question ID : 26433071233

Status : Answered

Chosen Option : 3

Q.9 400 m लंबी एक वृत्ताकार दौड़ में, A और B एक ही बिंदु से एक ही समय पर क्रमशः 10 m/s और 16 m/s की चाल से चलना शुरू करते हैं। समान दिशा में दौड़ते हुए, वे आरंभ बिंदु पर पहली बार कितने समय बाद मिलेंगे?

- Ans
- 1. 180 s
 - 2. 200 s
 - 3. 240 s
 - 4. 220 s

Question ID : 26433074968

Status : Answered

Chosen Option : 3

Q.10 यदि $A : B = 5 : 6$ और $B : C = 6 : 7$ है, तो $(A + B) : (B + C) : (C + A)$ का मान ज्ञात कीजिए।

Ans 1. $11 : 13 : 12$

2. $11 : 12 : 13$

3. $12 : 13 : 11$

4. $13 : 11 : 12$

Question ID : 26433074990

Status : Answered

Chosen Option : 1

Q.11 एक डीलर अपने माल पर क्रय मूल्य से 15% अधिक अंकित करता है। फिर वह उस पर 20% की छूट देता है। उसका हानि प्रतिशत क्या होगा?

Ans 1. 7%

2. 8%

3. 6%

4. 5%

Question ID : 26433082970

Status : Answered

Chosen Option : 2

Q.12 एक बेलनाकार टैंक की क्षमता 5632 m^3 है। यदि इसके आधार का व्यास 16 m है, तो इसकी गहराई ज्ञात करें।

Ans 1. 28 m

2. 30 m

3. 32 m

4. 34 m

Question ID : 26433079807

Status : Answered

Chosen Option : 1

Q.13 The LCM of two numbers is 15 times their HCF. The sum of the LCM and the HCF is 112. If one of the numbers is 49, then the other number is:

Ans 1. 18

2. 24

3. 15

4. 21

Question ID : 26433079829

Status : Answered

Chosen Option : 3

Q.14 बीमारी की वजह से एक व्यक्ति का भार एक महीने में 80 kg से घटकर 64 kg हो गया है। व्यक्ति के भार में प्रतिशत कमी है:

- Ans
- 1. 24 प्रतिशत
 - 2. 14 प्रतिशत
 - 3. 16 प्रतिशत
 - 4. 20 प्रतिशत

Question ID : 264330116794

Status : Answered

Chosen Option : 4

Q.15 संख्या 350 में 20% की वृद्धि की जाती है और फिर 25% की कमी की जाती है। इस प्रकार बनने वाली नई संख्या ज्ञात कीजिए।

- Ans
- 1. 315
 - 2. 3244
 - 3. 320
 - 4. 340

Question ID : 26433080004

Status : Answered

Chosen Option : 1

Q.16 10 वस्तुओं का औसत मूल्य Rs.89 है। यदि एक वस्तु का मूल्य Rs.35 है, तो शेष 9 वस्तुओं का औसत मूल्य (Rs. में) ज्ञात कीजिए।

- Ans
- 1. 85
 - 2. 90
 - 3. 95
 - 4. 80

Question ID : 26433075717

Status : Answered

Chosen Option : 3

Q.17 $1\frac{1}{2}$ वर्ष के लिए 8% प्रति वर्ष की दर से एक निश्चित राशि के लिए चक्रवृद्धि ब्याज और साधारण ब्याज के बीच का अंतर ₹228 है, जब चक्रवृद्धि ब्याज अर्ध-वार्षिक रूप से संयोजित किया जाता है और साधारण ब्याज की गणना वार्षिक रूप से की जाती है। राशि क्या है?

- Ans
- 1. ₹46,531
 - 2. ₹46,900
 - 3. ₹47,000
 - 4. ₹46,875

Question ID : 26433090258

Status : Not Attempted and Marked For Review

Chosen Option : --

Q.18 7, 5 और 3 के चौथे समानुपाती तथा 7 और 13 के तीसरे समानुपाती के बीच का अनुपात _____ है।

- Ans 1. 15 : 169
 2. 75 : 448
 3. 25 : 21
 4. 21 : 25

Question ID : 26433079943
Status : Answered
Chosen Option : 1

Q.19 A और B एक काम को अलग-अलग क्रमशः 10 दिन और 15 दिन में पूरा कर सकते हैं। B अकेले 3 दिन कार्य करता है तथा फिर वह कार्य छोड़ देता है। A शेष कार्य को कितने दिन में पूरा करेगा?

- Ans 1. 7
 2. 9
 3. 8
 4. 6

Question ID : 26433081081
Status : Answered
Chosen Option : 3

Q.20 एक बस स्टेशन P से स्टेशन Q तक 70 km/h की चाल से और स्टेशन Q से स्टेशन P तक 90 km/h की चाल से जाती है। पूरी यात्रा के दौरान बस की औसत चाल क्या है?

- Ans 1. 80.25 km/h
 2. 78.75 km/h
 3. 82.35 km/h
 4. 75.78 km/h

Question ID : 26433080375
Status : Answered
Chosen Option : 2

Section : Part-D-English

Q.1 Select the most appropriate synonym of the given word.
Conceal

- Ans 1. Manifest
 2. Disclose
 3. Confess
 4. Hide

Question ID : 26433084681
Status : Not Answered
Chosen Option : --

Q.2 The following sentence has been split into four segments. Identify the segment that contains an error.

Nandu will /leave for the airport / as soon as / a taxi arrive.

- Ans
- 1. Nandu will
 - 2. leave for the airport
 - 3. as soon as
 - 4. a taxi arrive

Question ID : 26433099601
Status : Not Answered
Chosen Option : --

Q.3 Select the most appropriate option to fill in the blank.

Alas! The forest turned into a _____ land.

- Ans
- 1. buyer
 - 2. beer
 - 3. bare
 - 4. bear

Question ID : 26433090391
Status : Not Answered
Chosen Option : --

Q.4 Select the option that can be used as a one-word substitute for the given group of words.

The possible results of an action

- Ans
- 1. Implementation
 - 2. Decision
 - 3. Ramification
 - 4. Causation

Question ID : 26433089380
Status : Not Answered
Chosen Option : --

Q.5 Select the most appropriate option that can substitute the underlined segment in the given sentence.

Baldness is quite very usual among youngsters these days.

- Ans
- 1. hitting very severely
 - 2. getting very common
 - 3. having very certain
 - 4. happening very surely

Question ID : 26433088503
Status : Not Answered
Chosen Option : --

Q.6 Select the most appropriate meaning of the given idiom.

Bag and baggage

- Ans 1. With all belongings
 2. Lots of bags
 3. To make a beginning
 4. Close friends

Question ID : 26433072538
Status : Not Answered
Chosen Option : --

Q.7 Select the most appropriate ANTONYM of the given word.

Cruel

- Ans 1. Brutal
 2. Savage
 3. Trunk
 4. Kind

Question ID : 26433086374
Status : Not Answered
Chosen Option : --

Q.8 Select the most appropriate option to fill in the blanks and make the sentence meaningful.

They were not _____ to eat during the _____.

- Ans 1. aloud; brake
 2. allowed; brake
 3. aloud; break
 4. allowed; break

Question ID : 26433092101
Status : Not Answered
Chosen Option : --

Q.9 Select the most appropriate meaning of the given idiom.
Bed of roses

- Ans 1. A pleasant condition of life
 2. As one wishes
 3. Be bound to obey
 4. With all of one's belonging

Question ID : 26433084689
Status : Not Answered
Chosen Option : --

Q.10 Select the most appropriate synonym of the given word.

Bankrupt

- Ans
- 1. Careless
 - 2. Invert
 - 3. Well-off
 - 4. Insolvent

Question ID : 26433072187
Status : Not Answered
Chosen Option : --

Q.11 Select the INCORRECTLY spelt word.

- Ans
- 1. Slice
 - 2. Dribbling
 - 3. Solvant
 - 4. Temperament

Question ID : 26433073501
Status : Not Answered
Chosen Option : --

Q.12 Select the most appropriate option that can substitute the underlined segment in the given sentence. If there is no need to substitute it, select 'No substitution'.
The turtle can live in water as well as land.

- Ans
- 1. and also land
 - 2. also on land
 - 3. No substitution
 - 4. as well as on land.

Question ID : 26433093077
Status : Not Answered
Chosen Option : --

Q.13 Select the most appropriate ANTONYM to substitute the underlined word in the given sentence.

Her lively demeanour makes her the ideal choice for this job.

- Ans
- 1. dreamy
 - 2. grainy
 - 3. gloomy
 - 4. slimy

Question ID : 26433074010
Status : Not Answered
Chosen Option : --

Q.14 Select the most appropriate ANTONYM of the given word.

Steadfast

- Ans 1. Unwavering
 2. Dishonest
 3. Immobile
 4. Dependable

Question ID : 26433072216
Status : Not Answered
Chosen Option : --

Q.15 Select the INCORRECTLY spelt word.

- Ans 1. Ignorance
 2. Harass
 3. Occassion
 4. Misspell

Question ID : 26433073738
Status : Not Answered
Chosen Option : --

Comprehension:

In the following passage, some words have been deleted. Read the passage carefully and select the most appropriate option to fill in each blank.

A natural gas barrier in the upper atmosphere called the ozone layer (1.) _____ people and other living things from the sun's harmful ultraviolet (UV) radiation. Ozone exists in tiny concentrations (2.) _____ the atmosphere, but the majority (about 90%) is found in the stratosphere, a layer that is 10 to 50 kilometres (3.) _____ the surface of Earth. The ozone layer is essential to life on Earth because it (4.) _____ out the majority of the sun's harmful UV rays. In the 1970s, researchers (5.) _____ that the ozone layer was thinning.

SubQuestion No : 16

Q.16 Select the most appropriate option to fill in blank number 1.

- Ans 1. discovers
 2. flourishes
 3. shields
 4. attracts

Question ID : 26433089803
Status : Not Answered
Chosen Option : --

Comprehension:

In the following passage, some words have been deleted. Read the passage carefully and select the most appropriate option to fill in each blank.

A natural gas barrier in the upper atmosphere called the ozone layer (1.) _____ people and other living things from the sun's harmful ultraviolet (UV) radiation. Ozone exists in tiny concentrations (2.) _____ the atmosphere, but the majority (about 90%) is found in the stratosphere, a layer that is 10 to 50 kilometres (3.) _____ the surface of Earth. The ozone layer is essential to life on Earth because it (4.) _____ out the majority of the sun's harmful UV rays. In the 1970s, researchers (5.) _____ that the ozone layer was thinning.

SubQuestion No : 17

Q.17 Select the most appropriate option to fill in blank number 2.

- Ans 1. throughout
 2. under
 3. in
 4. below

Question ID : 26433089804

Status : Not Answered

Chosen Option : --

Comprehension:

In the following passage, some words have been deleted. Read the passage carefully and select the most appropriate option to fill in each blank.

A natural gas barrier in the upper atmosphere called the ozone layer (1.) _____ people and other living things from the sun's harmful ultraviolet (UV) radiation. Ozone exists in tiny concentrations (2.) _____ the atmosphere, but the majority (about 90%) is found in the stratosphere, a layer that is 10 to 50 kilometres (3.) _____ the surface of Earth. The ozone layer is essential to life on Earth because it (4.) _____ out the majority of the sun's harmful UV rays. In the 1970s, researchers (5.) _____ that the ozone layer was thinning.

SubQuestion No : 18

Q.18 Select the most appropriate option to fill in blank number 3.

- Ans 1. into
 2. onto
 3. at
 4. above

Question ID : 26433089805

Status : Not Answered

Chosen Option : --

Comprehension:

In the following passage, some words have been deleted. Read the passage carefully and select the most appropriate option to fill in each blank.

A natural gas barrier in the upper atmosphere called the ozone layer (1.) _____ people and other living things from the sun's harmful ultraviolet (UV) radiation. Ozone exists in tiny concentrations (2.) _____ the atmosphere, but the majority (about 90%) is found in the stratosphere, a layer that is 10 to 50 kilometres (3.) _____ the surface of Earth. The ozone layer is essential to life on Earth because it (4.) _____ out the majority of the sun's harmful UV rays. In the 1970s, researchers (5.) _____ that the ozone layer was thinning.

SubQuestion No : 19

Q.19 Select the most appropriate option to fill in blank number 4.

- Ans 1. blocks
 2. blames
 3. builds
 4. brims

Question ID : 26433089806

Status : Not Answered

Chosen Option : --

Comprehension:

In the following passage, some words have been deleted. Read the passage carefully and select the most appropriate option to fill in each blank.

A natural gas barrier in the upper atmosphere called the ozone layer (1.) _____ people and other living things from the sun's harmful ultraviolet (UV) radiation. Ozone exists in tiny concentrations (2.) _____ the atmosphere, but the majority (about 90%) is found in the stratosphere, a layer that is 10 to 50 kilometres (3.) _____ the surface of Earth. The ozone layer is essential to life on Earth because it (4.) _____ out the majority of the sun's harmful UV rays. In the 1970s, researchers (5.) _____ that the ozone layer was thinning.

SubQuestion No : 20

Q.20 Select the most appropriate option to fill in blank number 5.

- Ans 1. learn
 2. learning
 3. learns
 4. learnt

Question ID : 26433089807

Status : Not Answered

Chosen Option : --

Q.1 'समुद्र की सीमा अनंत है।' वाक्य में प्रयुक्त 'अनंत' शब्द का विलोम शब्द बताइए -

- Ans
- 1. अंत
 - 2. असीमित
 - 3. अंतहीन
 - 4. अनंग

Question ID : 26433069745
Status : Answered
Chosen Option : 1

Q.2 'ऊँट के मुँह में जीरा' मुहावरे का सही अर्थ है -

- Ans
- 1. अधिक खाने वाले को कम देना
 - 2. मित्रता करना
 - 3. ऊँट को जीरा खिलाना
 - 4. खाने में जीरा डालना

Question ID : 26433065923
Status : Answered
Chosen Option : 1

Q.3 'दोपहर _____'

उपर्युक्त वाक्य में रिक्त स्थान का उपयुक्त विकल्प निम्न में से क्या होगा?

- Ans
- 1. का अर्थ होता है दो पहरों का अनाचार
 - 2. का अर्थ होता है दो पहरों का समाहार
 - 3. का अर्थ होता है दो पहरों का संग्राम
 - 4. का अर्थ होता है दो पहरों का कदाचार

Question ID : 26433067041
Status : Answered
Chosen Option : 2

Q.4 निम्नलिखित वाक्यांश के लिए उपयुक्त शब्द का चयन विकल्पों में से कीजिए।
जिसने चित्त किसी विषय में दिया (लगाया) है

- Ans
- 1. विषयचित्त
 - 2. अग्रगामी
 - 3. दत्तचित्त
 - 4. अग्रसोची

Question ID : 26433069997
Status : Answered
Chosen Option : 3

Q.5 इस जल में अनेक जीव हैं।

रेखांकित शब्द के विलोम शब्द का चयन कीजिए।

- Ans
- 1. थल
 - 2. तालाब
 - 3. सलिल
 - 4. स्थान

Question ID : 26433079643
Status : Answered
Chosen Option : 1

Q.6 'आज विद्यालय में शिक्षिका ने अंताक्षरी खेलने को कहा।' वाक्य में अशुद्ध वर्तनी वाला शब्द है -

- Ans
- 1. अंताक्षरी
 - 2. शिक्षिका
 - 3. खेलने को कहा
 - 4. विद्यालय

Question ID : 26433069698
Status : Answered
Chosen Option : 3

Q.7 निम्नलिखित मुहावरे के लिय उपयुक्त सार्थक शब्द है-
नानी याद आना

- Ans
- 1. किसी से मिलने का मन करना
 - 2. मुसीबत देखकर घबरा जाना
 - 3. छुप कर बैठ जाना
 - 4. नानी को याद करना

Question ID : 26433065776
Status : Answered
Chosen Option : 2

Q.8 'जिसका खण्डन न हो सके' वाक्यांश के लिए उचित शब्द बताइए -

- Ans
- 1. समूल
 - 2. खण्डनीय
 - 3. खंडित
 - 4. अखण्डनीय

Question ID : 26433065906
Status : Answered
Chosen Option : 4

Q.9 रेखांकित शब्द-समूह के लिए सर्वाधिक उपयुक्त विकल्प चुनें।
मुसीबत का मारा वह किसी और स्थान पर जा बसा।

- Ans
- 1. अत्र
 - 2. सर्वत्र
 - 3. तत्र
 - 4. अन्यत्र

Question ID : 26433062287
Status : Answered
Chosen Option : 4

Q.10 हिमालय भारत का ताज है।

रेखांकित शब्द के उचित पर्यायवाची शब्द का चयन कीजिए।

- Ans
- 1. प्रभा
 - 2. गिरिराज
 - 3. मदन
 - 4. आसव

Question ID : 26433079626
Status : Answered
Chosen Option : 2

Q.11 निम्नलिखित वाक्य में से अशुद्धि पहचानें-
वह आया परंतु मैं नहीं गया।

- Ans
- 1. परंतु
 - 2. वह
 - 3. आया
 - 4. गया

Question ID : 26433066827
Status : Answered
Chosen Option : 1

Q.12 दो घोड़ों पर सवार होने से तुम सफल नहीं रहोगे।
उपरोक्त वाक्य में रेखांकित अंश के लिए कौन - सा शब्द उपयुक्त होगा?

- Ans
- 1. सवारी नीति
 - 2. दुरंगी नीति
 - 3. सफल नीति
 - 4. त्रिरंगी नीति

Question ID : 26433063059
Status : Answered
Chosen Option : 2

Q.13 निम्नलिखित में से अव्यय से बना विशेषण शब्द नहीं है -

- Ans 1. पिछला
 2. कैसा
 3. अगला
 4. बाहरी

Question ID : 26433085056

Status : Answered

Chosen Option : 2

Q.14 'आकलन' शब्द के लिए इनमें से उपयुक्त पर्यायवाची शब्द कौन-सा है?

- Ans 1. अगणन
 2. शरण
 3. नूतन
 4. गणना

Question ID : 26433066893

Status : Answered

Chosen Option : 4

Q.15 मूल क्रिया, प्रथम प्रेरणार्थक क्रिया और द्वितीय प्रेरणार्थक क्रिया का सही शब्द-क्रम चुनिए।

- Ans 1. उठना – उठाना - उठवाना
 2. कराना – करना - करावाना
 3. सुनना – सुनवाना - सुनाना
 4. बजवाना – बजना - बजाना

Question ID : 26433063044

Status : Answered

Chosen Option : 1

Comprehension:

निम्न गद्यांश में से कुछ शब्दों को हटा दिया गया है। गद्यांश के नीचे पूछे गए प्रश्नों में इन रिक्त स्थानों के लिए उपयुक्त शब्द का चयन विकल्पों में से कीजिए।

राष्ट्र के 1. _____ विकास के लिए चरित्र निर्माण परम आवश्यक है। जिस प्रकार वर्तमान में भौतिक निर्माण का कार्य अनेक योजनाओं के माध्यम से तीव्र गति के साथ सम्पन्न हो रहा है, वैसे ही वर्तमान की सबसे बड़ी आवश्यकता यह है कि देशवासियों के चरित्र निर्माण के लिए भी प्रयत्न किया जाए। उत्तम चरित्रवान व्यक्ति ही 2. _____ की सर्वोच्च संपदा है। जनतंत्र के लिए तो यह एक महान 3. _____ योजना है। जन-समाज में राष्ट्र, संस्कृति, 4. _____ एवं परिवार के प्रति हमारा क्या कर्तव्य है इसका पूर्ण रूप से बोध कराना एवं राष्ट्र में व्याप्त समग्र भ्रष्टाचार के प्रति निषेधात्मक वातावरण का निर्माण करना ही चरित्र निर्माण का प्रथम 5. _____ है।

SubQuestion No : 16

Q.16 रिक्त स्थान 1 के लिए सर्वाधिक उपयुक्त शब्द इनमें से क्या होगा?

- Ans
- 1. अधिक
 - 2. सर्वांगीण
 - 3. पूरे
 - 4. सभी

Question ID : 26433072588

Status : Answered

Chosen Option : 2

Comprehension:

निम्न गद्यांश में से कुछ शब्दों को हटा दिया गया है। गद्यांश के नीचे पूछे गए प्रश्नों में इन रिक्त स्थानों के लिए उपयुक्त शब्द का चयन विकल्पों में से कीजिए।

राष्ट्र के 1. _____ विकास के लिए चरित्र निर्माण परम आवश्यक है। जिस प्रकार वर्तमान में भौतिक निर्माण का कार्य अनेक योजनाओं के माध्यम से तीव्र गति के साथ सम्पन्न हो रहा है, वैसे ही वर्तमान की सबसे बड़ी आवश्यकता यह है कि देशवासियों के चरित्र निर्माण के लिए भी प्रयत्न किया जाए। उत्तम चरित्रवान व्यक्ति ही 2. _____ की सर्वोच्च संपदा है। जनतंत्र के लिए तो यह एक महान 3. _____ योजना है। जन-समाज में राष्ट्र, संस्कृति, 4. _____ एवं परिवार के प्रति हमारा क्या कर्तव्य है इसका पूर्ण रूप से बोध कराना एवं राष्ट्र में व्याप्त समग्र भ्रष्टाचार के प्रति निषेधात्मक वातावरण का निर्माण करना ही चरित्र निर्माण का प्रथम 5. _____ है।

SubQuestion No : 17

Q.17 रिक्त स्थान 2 के लिए सर्वाधिक उपयुक्त शब्द इनमें से क्या होगा?

- Ans
- 1. मोहल्ले
 - 2. प्रदेश
 - 3. राष्ट्र
 - 4. राज्य

Question ID : 26433072589

Status : Answered

Chosen Option : 3

Comprehension:

निम्न गद्यांश में से कुछ शब्दों को हटा दिया गया है। गद्यांश के नीचे पूछे गए प्रश्नों में इन रिक्त स्थानों के लिए उपयुक्त शब्द का चयन विकल्पों में से कीजिए।

राष्ट्र के 1. _____ विकास के लिए चरित्र निर्माण परम आवश्यक है। जिस प्रकार वर्तमान में भौतिक निर्माण का कार्य अनेक योजनाओं के माध्यम से तीव्र गति के साथ सम्पन्न हो रहा है, वैसे ही वर्तमान की सबसे बड़ी आवश्यकता यह है कि देशवासियों के चरित्र निर्माण के लिए भी प्रयत्न किया जाए। उत्तम चरित्रवान व्यक्ति ही 2. _____ की सर्वोच्च संपदा है। जनतंत्र के लिए तो यह एक महान 3. _____ योजना है। जन-समाज में राष्ट्र, संस्कृति, 4. _____ एवं परिवार के प्रति हमारा क्या कर्तव्य है इसका पूर्ण रूप से बोध कराना एवं राष्ट्र में व्याप्त समग्र भ्रष्टाचार के प्रति निषेधात्मक वातावरण का निर्माण करना ही चरित्र निर्माण का प्रथम 5. _____ है।

SubQuestion No : 18

Q.18 रिक्त स्थान 3 के लिए सर्वाधिक उपयुक्त शब्द इनमें से क्या होगा?

- Ans 1. कल्याणकारी
 2. मनोहारी
 3. हितकारी
 4. लाभकारी

Question ID : 26433072590

Status : Answered

Chosen Option : 1

Comprehension:

निम्न गद्यांश में से कुछ शब्दों को हटा दिया गया है। गद्यांश के नीचे पूछे गए प्रश्नों में इन रिक्त स्थानों के लिए उपयुक्त शब्द का चयन विकल्पों में से कीजिए।

राष्ट्र के 1. _____ विकास के लिए चरित्र निर्माण परम आवश्यक है। जिस प्रकार वर्तमान में भौतिक निर्माण का कार्य अनेक योजनाओं के माध्यम से तीव्र गति के साथ सम्पन्न हो रहा है, वैसे ही वर्तमान की सबसे बड़ी आवश्यकता यह है कि देशवासियों के चरित्र निर्माण के लिए भी प्रयत्न किया जाए। उत्तम चरित्रवान व्यक्ति ही 2. _____ की सर्वोच्च संपदा है। जनतंत्र के लिए तो यह एक महान 3. _____ योजना है। जन-समाज में राष्ट्र, संस्कृति, 4. _____ एवं परिवार के प्रति हमारा क्या कर्तव्य है इसका पूर्ण रूप से बोध कराना एवं राष्ट्र में व्याप्त समग्र भ्रष्टाचार के प्रति निषेधात्मक वातावरण का निर्माण करना ही चरित्र निर्माण का प्रथम 5. _____ है।

SubQuestion No : 19

Q.19 रिक्त स्थान 4 के लिए सर्वाधिक उपयुक्त शब्द इनमें से क्या होगा?

- Ans 1. राष्ट्र
 2. समाज
 3. राज्य
 4. लोग

Question ID : 26433072591

Status : Answered

Chosen Option : 2

Comprehension:

निम्न गद्यांश में से कुछ शब्दों को हटा दिया गया है। गद्यांश के नीचे पूछे गए प्रश्नों में इन रिक्त स्थानों के लिए उपयुक्त शब्द का चयन विकल्पों में से कीजिए।

राष्ट्र के 1. _____ विकास के लिए चरित्र निर्माण परम आवश्यक है। जिस प्रकार वर्तमान में भौतिक निर्माण का कार्य अनेक योजनाओं के माध्यम से तीव्र गति के साथ सम्पन्न हो रहा है, वैसे ही वर्तमान की सबसे बड़ी आवश्यकता यह है कि देशवासियों के चरित्र निर्माण के लिए भी प्रयत्न किया जाए। उत्तम चरित्रवान व्यक्ति ही 2. _____ की सर्वोच्च संपदा है। जनतंत्र के लिए तो यह एक महान 3. _____ योजना है। जन-समाज में राष्ट्र, संस्कृति, 4. _____ एवं परिवार के प्रति हमारा क्या कर्तव्य है इसका पूर्ण रूप से बोध कराना एवं राष्ट्र में व्याप्त समग्र भ्रष्टाचार के प्रति निषेधात्मक वातावरण का निर्माण करना ही चरित्र निर्माण का प्रथम 5. _____ है।

SubQuestion No : 20

Q.20 रिक्त स्थान 5 के लिए सर्वाधिक उपयुक्त शब्द इनमें से क्या होगा?

- Ans
- 1. रास्ता
 - 2. कदम
 - 3. तरीका
 - 4. सोपान

Question ID : 26433072592

Status : Answered

Chosen Option : 4

WWW.GOV TJOB SALEKIN