

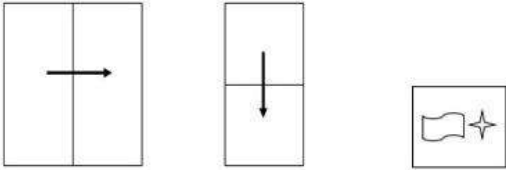
Constable GD in CAPFs SSF Rifleman GD in Assam Rifles and Sepoy in NCB Examination 2022

| | |
|----------------|--|
| Roll Number | www.govtjobsalert.in |
| Candidate Name | www.govtjobsalert.in |
| Venue Name | iON Digital Zone iDZ Laxman Nagar |
| Exam Date | 17/01/2023 |
| Exam Time | 9:00 AM - 10:00 AM |
| Subject | Constable GD Examination 2022 |

Section : Part-A-General Intelligence and Reasoning

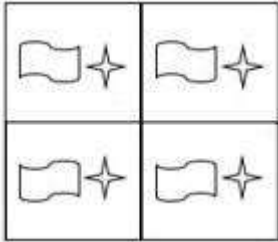
Q.1 एक कागज को नीचे दिखाये गए रूप में मोड़ा और काटा जाता है। खोलने पर यह कैसे

दिखाई देगा?

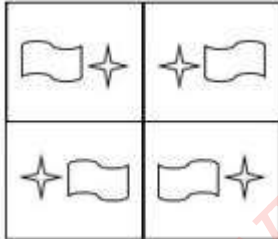


Ans

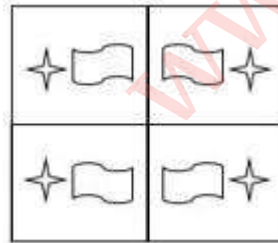
✗ 1.



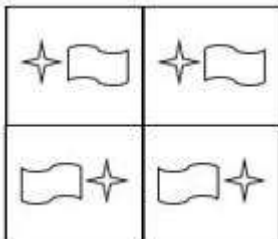
✗ 2.



✓ 3.



✗ 4.



Question ID : 26433089783

Status : Answered

Chosen Option : 3

Q.2 छः व्यक्ति M, N, O, P, Q और R एक सीधी पंक्ति में उत्तर की ओर मुख करके बैठे हैं। O, N के दाईं ओर ठीक बगल में बैठा है। P, O के दाईं ओर ठीक बगल में बैठा है। Q, P के दाईं ओर ठीक बगल में बैठा है। R, N के बाईं ओर ठीक बगल में बैठा है। यदि M के दाईं ओर केवल पांच व्यक्ति बैठे हैं, तो पंक्ति के अंतिम दाएं सिरे पर कौन बैठा है?

- Ans 1. N
 2. Q
 3. P
 4. R

Question ID : 26433069154

Status : Answered

Chosen Option : 2

Q.3 उस विकल्प का चयन करें, जो पाँचवीं संख्या से उसी प्रकार संबंधित है, जिस प्रकार दूसरी संख्या, पहली संख्या से संबंधित है और चौथी संख्या, तीसरी संख्या से संबंधित है।
1 : 36 :: 2 : 49 :: 4 : ?

- Ans 1. 93
 2. 82
 3. 90
 4. 81

Question ID : 26433069413

Status : Answered

Chosen Option : 4

Q.4 उस विकल्प का चयन कीजिए जो तीसरे शब्द से उसी प्रकार संबंधित है जिस प्रकार दूसरा शब्द पहले शब्द से संबंधित है। (शब्दों को अर्थपूर्ण शब्दों के रूप में मानना है और उन्हें शब्द में अक्षरों/व्यंजनों/स्वरों की संख्या के आधार पर एक-दूसरे से संबंधित नहीं करना है।)
माली : हैरो :: किसान : ?

- Ans 1. बीज
 2. पानी
 3. हल
 4. भूमि

Question ID : 26433067366

Status : Marked For Review

Chosen Option : 3

Q.5 निम्नलिखित में से कौन-सी संख्या दी गई श्रंखला में प्रश्न-चिह्न (?) के स्थान पर आएगी?
98, 93, 89, ?, 84

- Ans 1. 86
 2. 85
 3. 90
 4. 87

Question ID : 26433085349

Status : Answered

Chosen Option : 1

Q.6 दिए गए समीकरण को संतुलित करने के लिए इसकी किन दो संख्याओं(अंको को नहीं) को परस्पर बदलना होगा?
 $15 \div 5 \times 12 + 6 = 65 - 35$

- Ans 1. 5, 15
 2. 6, 12
 3. 12, 65
 4. 5, 35

Question ID : 26433087049

Status : Answered

Chosen Option : 2

Q.7 एक कूट भाषा में, 'fast track him' को 'le pa da' के रूप में कूटबद्ध किया जाता है, 'we give fast' को 'da jo he' के रूप में कूटबद्ध किया जाता है और 'track my order' को 'vu ba le' के रूप में कूटबद्ध किया जाता है। शब्द 'him' के लिए कूट क्या होगा?

- Ans 1. de
 2. pa
 3. le
 4. jo

Question ID : 26433086984

Status : Answered

Chosen Option : 2

Q.8 दी गई आकृति के सही दर्पण प्रतिबिम्ब का चयन करें जब दर्पण को MN पर रखा जाए जैसा कि नीचे दर्शाया गया है।

tOgeTHer |
M
N

- Ans 1. 19HTegOt
 2. 79eTegOt
 3. 19HTegot
 4. 79eTegot

Question ID : 26433085557

Status : Answered

Chosen Option : 1

Q.9 'A + B' का अर्थ है 'A, B का भाई है'
'A - B' का अर्थ है 'A, B की माँ है'
'A × B' का अर्थ है 'A, B का पति है'
'A ÷ B' का अर्थ है 'A, B की बहन है'
यदि $B \times D \div F - H + J \div S$ है, तो निम्नलिखित में से कौन-सा कथन सही नहीं है?

- Ans
- 1. B, F की बहन का पति है।
 - 2. J, H की बहन है।
 - 3. F, D की बहन है।
 - 4. H, D का पुत्र है।

Question ID : 26433082636

Status : Answered

Chosen Option : 4

Q.10 उस विकल्प का चयन कीजिये जो तीसरे शब्द से उसी प्रकार संबंधित है जैसे दूसरा शब्द पहले शब्द से संबंधित है। (शब्दों को अर्थपूर्ण शब्दों के रूप में माना जाना चाहिए और उन्हें शब्द में अक्षरों की संख्या / व्यंजनों/स्वरों की संख्या के आधार पर एक दूसरे से संबंधित नहीं किया जाना चाहिए)
2D : त्रिभुज :: 3D : _____

- Ans
- 1. अर्धगोला
 - 2. आयत
 - 3. आकृति
 - 4. वर्ग

Question ID : 26433082658

Status : Answered

Chosen Option : 1

Q.11 तीन कथनों के बाद दो निष्कर्ष संख्या 1 और 2 दिए गए हैं। कथनों को सत्य मानते हुए भले ही वे सामान्य रूप से ज्ञात तथ्यों से भिन्न प्रतीत होते हों, निर्णय लें कि कौन-सा/से निष्कर्ष कथनों का तार्किक रूप से अनुसरण करता है/करते हैं।

कथन:

कोई लाल काला नहीं है।

सभी नीला काला हैं।

कोई नीला गुलाबी नहीं है।

निष्कर्ष:

1. कोई नीला लाल नहीं है।

2. कोई लाल गुलाबी नहीं है।

- Ans
- 1. केवल निष्कर्ष 1 अनुसरण करता है
 - 2. केवल निष्कर्ष 2 अनुसरण करता है
 - 3. निष्कर्ष 1 और 2 दोनों अनुसरण करते हैं
 - 4. न तो निष्कर्ष 1 और न ही 2 अनुसरण करता है

Question ID : 26433087133

Status : Answered

Chosen Option : 1

Q.12 निम्नलिखित में से कौन-सी संख्या दी गई श्रृंखला में प्रश्न-चिह्न (?) के स्थान पर आएगी?
5, 7, 12, 21, 35, 55, ?

Ans 1. 65

2. 82

3. 69

4. 72

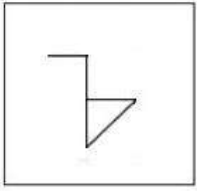
Question ID : 26433082006

Status : Answered

Chosen Option : 2

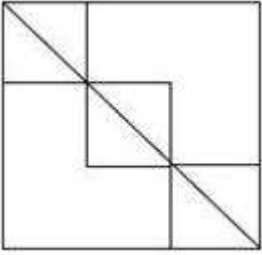
www.govtjobsalert.in

Q.13 उस विकल्प का चयन कीजिए, जिसमें प्रस्तुत चित्र अंतर्निहित है (घुमाना अनुमन्य नहीं है)

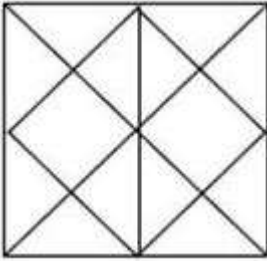


Ans

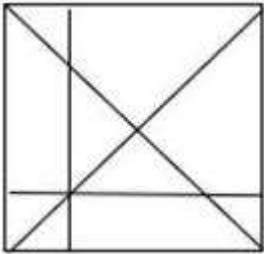
✗ 1.



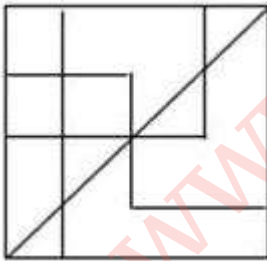
✗ 2.



✗ 3.



✓ 4.



Question ID : 26433076717

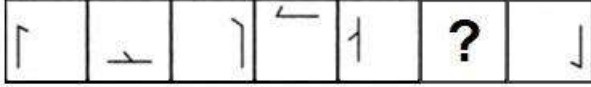
Status : Answered

Chosen Option : 4

Q.14

दिए गए विकल्पों में से उस आकृति का चयन करें जो निम्नलिखित श्रृंखला में

प्रश्नवाचक चिह्न (?) का स्थान ले सकती है।



Ans

✗ 1.



✓ 2.



✗ 3.



✗ 4.



Question ID : 26433080498

Status : Answered

Chosen Option : 2

Q.15 किस विकल्प में निम्नलिखित शब्दों का वह क्रम दिया गया है, जिस क्रम में वे अंग्रेजी शब्दकोश में आते हैं?

1. track
2. trace
3. trade
4. treasure
5. triangle

Ans ✓ 1. 2,1,3,4,5

✗ 2. 2,3,1,5,4

✗ 3. 3,2,1,4,5

✗ 4. 3,4,1,2,5

Question ID : 26433069321

Status : Answered

Chosen Option : 1

Q.16 एक निश्चित कूट भाषा में, 'CLOAKED' को '39' और 'FLANK' को '32' के रूप में लिखा जाता है। उसी कूट भाषा में 'FLOCKED' को किस प्रकार से लिखा जाएगा?

Ans ✗ 1. 48

✗ 2. 46

✗ 3. 42

✓ 4. 44

Question ID : 26433069473

Status : Answered

Chosen Option : 4

Q.17 कौन-सा अक्षर-समूह दी गई श्रृंखला में प्रश्नचिह्न (?) के स्थान पर आकर श्रृंखला को पूर्ण करेगा?
XERJ, THPK, ?, LNLM, HQJN

- Ans
- 1. RKNM
 - 2. QKLN
 - 3. PKNL
 - 4. SLKM

Question ID : 26433068578

Status : Answered

Chosen Option : 3

Q.18 निम्नलिखित में से कौन-सा अक्षर-समूह दी गई श्रृंखला में प्रश्नचिह्न (?) के स्थान पर आएगा?
BVFY, FRJU, JNNQ, ?, RFVI

- Ans
- 1. NJRM
 - 2. NJQM
 - 3. NKRN
 - 4. MJQM

Question ID : 26433076451

Status : Answered

Chosen Option : 1

Q.19 कीर्ति, सुमन, शुभ, कनक, परी, चारु, श्लोक और शिवी एक वर्गाकार मेज के चारों ओर मेज के केंद्र की ओर मुख करके बैठे हैं। उनमें से कुछ कोनों पर बैठे हैं, जबकि कुछ भुजाओं के ठीक मध्य में बैठे हैं। कीर्ति, शुभ के बाईं ओर तीसरे स्थान पर बैठी है। कीर्ति किसी एक कोने पर बैठी है। कनक, परी के दाईं ओर दूसरे स्थान पर बैठी है। परी किसी भी कोने पर नहीं बैठी है। परी, कीर्ति के ठीक बगल में नहीं बैठी है। सुमन, चारु के ठीक बगल में बैठी है। सुमन किसी भी भुजा के ठीक मध्य में नहीं बैठी है। सुमन और श्लोक के बीच किसी भी ओर से केवल तीन व्यक्ति बैठे हैं। इनमें से कौन किसी भी कोने पर नहीं बैठा/बैठी है?

- Ans
- 1. कीर्ति
 - 2. शिवी
 - 3. चारु
 - 4. श्लोक

Question ID : 26433082289

Status : Answered

Chosen Option : 3

Q.20 नीचे दिए गए समीकरण को गणितीय रूप से सही बनाने के लिए किन दो चिन्हों को परस्पर बदलना चाहिए?

$$63 \div 3 \times 21 - 15 + 12 = 6$$

- Ans
- 1. \div और \times
 - 2. \div और $-$
 - 3. \times और $-$
 - 4. $-$ और $+$

Question ID : 264330117547

Status : Answered

Chosen Option : 1

Q.1 राज्य के राज्यपाल के रूप में नियुक्त होने के लिए न्यूनतम आयु कितनी होनी चाहिए?

- Ans
- 1. 30 वर्ष
 - 2. 35 वर्ष
 - 3. 25 वर्ष
 - 4. 27 वर्ष

Question ID : 26433074912

Status : Answered

Chosen Option : 2

Q.2 भारतीय संविधान का कौन सा अनुच्छेद शिक्षा का अधिकार प्रदान करता है?

- Ans
- 1. 22
 - 2. 21A
 - 3. 23
 - 4. 20

Question ID : 264330115635

Status : Answered

Chosen Option : 2

Q.3 जल्लिकट्ट खेल किस देश से संबंधित है?

- Ans
- 1. स्पेन
 - 2. रोम
 - 3. भारत
 - 4. नेपाल

Question ID : 264330116287

Status : Answered

Chosen Option : 3

Q.4 महात्मा गांधी राष्ट्रीय ग्रामीण रोजगार गारंटी अधिनियम, (MGNREGA) भारत सरकार, _____ के अंतर्गत आता है।

- Ans
- 1. स्वास्थ्य एवं परिवार कल्याण मंत्रालय
 - 2. आवासन और शहरी कार्य मंत्रालय
 - 3. सामाजिक न्याय एवं अधिकारिता मंत्रालय
 - 4. ग्रामीण विकास मंत्रालय

Question ID : 264330116219

Status : Answered

Chosen Option : 4

Q.5 विश्व में हरित क्रांति के जनक कौन हैं?

- Ans
- 1. एडम स्मिथ
 - 2. नॉर्मन बोरलॉग
 - 3. कुरियन
 - 4. जवाहर लाल नेहरू

Question ID : 264330115414

Status : Answered

Chosen Option : 2

Q.6 वॉलीबॉल के खेल में एक समय में प्रत्येक पक्ष के कितने खिलाड़ियों को फील्ड में खेलने की अनुमति होती है?

- Ans
- 1. 5
 - 2. 6
 - 3. 7
 - 4. 8

Question ID : 264330115932

Status : Marked For Review

Chosen Option : 2

Q.7 कोली निम्नलिखित में से किस भारतीय राज्य का लोक नृत्य है?

- Ans
- 1. तमिलनाडु
 - 2. महाराष्ट्र
 - 3. पश्चिम बंगाल
 - 4. झारखंड

Question ID : 26433086712

Status : Marked For Review

Chosen Option : 3

Q.8 1290 से 1320 के दौरान किस वंश ने दिल्ली पर शासन किया?

- Ans
- 1. सैयद
 - 2. खलजी
 - 3. लोदी
 - 4. तुगलक

Question ID : 26433085224

Status : Answered

Chosen Option : 2

Q.9 बहादुर शाह जफर और उनके बेटों को ब्रिटिश अधिकारियों ने दिल्ली में _____ से गिरफ्तार किया था।

- Ans
- 1. हुमायूँ का मकबरा
 - 2. जामा मस्जिद
 - 3. सफदरजंग का मकबरा
 - 4. लाल किला

Question ID : 26433089894

Status : Marked For Review

Chosen Option : 4

Q.10 भारत के किस केंद्रीय मंत्री ने नवंबर 2022 में सबसे बड़े दक्षिण एशियाई फिल्म मार्केट-फिल्म बाजार का उद्घाटन किया?

- Ans
- 1. स्मृति ईरानी
 - 2. गजेन्द्र सिंह शेखावत
 - 3. निर्मला सीतारमण
 - 4. अनुराग सिंह ठाकुर

Question ID : 264330114952

Status : Marked For Review

Chosen Option : 3

Q.11 किसने स्वतंत्रता-पूर्व भारत में गरीबी रेखा की अवधारणा प्रस्तुत की?

- Ans
- 1. दादाभाई नौरोजी
 - 2. अमर्त्य सेन
 - 3. मनबेंद्र नाथ रॉय
 - 4. मैसूर नरसिम्हाचर श्रीनिवास

Question ID : 264330116073

Status : Answered

Chosen Option : 1

Q.12 इस्पात के निर्माण की प्रक्रिया में अंतिम चरण क्या है?

- Ans
- 1. पिग आयरन का उत्पादन
 - 2. इस्पात को आकार देना
 - 3. तरल इस्पात का उत्पादन
 - 4. ब्लास्ट फर्नेस में चूना पत्थर, कोक और लोहे को गर्म करना

Question ID : 264330115581

Status : Marked For Review

Chosen Option : 1

Q.13 स्तरीकरण में प्रजातियों का वितरण कैसे किया जाता है?

- Ans
- 1. विकर्णतः
 - 2. क्षैतिज
 - 3. केंद्रीकृत
 - 4. ऊर्ध्वतः

Question ID : 264330115249

Status : Answered

Chosen Option : 3

Q.14 मई 2022 में, भारत के विदेश सचिव कौन बने?

- Ans
- 1. हर्षवर्धन श्रृंगला
 - 2. विनय मोहन क्वात्रा
 - 3. यशवंत सिन्हा
 - 4. सुब्रह्मण्यम जयशंकर

Question ID : 264330115037

Status : Marked For Review

Chosen Option : 2

Q.15 _____ को संगीत नाटक अकादमी फेलो (अकादमी रत्न) से सम्मानित किया गया है।

- Ans
- 1. टंकेश्वर हजारिका बोरबयान
 - 2. जतिन गोस्वामी
 - 3. अनीता शर्मा
 - 4. माणिक बारबयान

Question ID : 264330115873

Status : Marked For Review

Chosen Option : 1

Q.16 निम्नलिखित में से किस तत्व की परमाणु संख्या 12 है?

- Ans
- 1. O
 - 2. He
 - 3. Mg
 - 4. Ca

Question ID : 264330115171

Status : Marked For Review

Chosen Option : 3

Q.17 निम्नलिखित में से कौन-सा, "S" आकार का महासागर है?

- Ans
- 1. प्रशांत महासागर
 - 2. अटलांटिक महासागर
 - 3. हिंद महासागर
 - 4. आर्कटिक महासागर

Question ID : 264330116005

Status : Marked For Review

Chosen Option : 2

Q.18 गणेश चतुर्थी हिंदू पंचांग के निम्नलिखित में से किस माह के चौथे दिन से शुरू होती है?

- Ans
- 1. भाद्रपद
 - 2. माघ
 - 3. कार्तिक
 - 4. अश्विन

Question ID : 26433094887

Status : Marked For Review

Chosen Option : 1

Q.19 भारत में हरित क्रांति की शुरुआत 1960 के दशक में _____ की उच्च उपज देने वाली किस्मों को शुरू करके की गई थी।

- Ans
- 1. चावल और गेहूं
 - 2. ज्वार और मक्का
 - 3. बाजरा और जूट
 - 4. जूट और कॉटन

Question ID : 264330116153

Status : Marked For Review

Chosen Option : 1

Q.20 राष्ट्रीय आय लेखा, एक निश्चित समय अवधि में देश की _____ गतिविधि के स्तर को मापने के लिए एक बहीखाता प्रणाली है।

- Ans
- 1. चिकित्सकीय
 - 2. लोकतांत्रिक
 - 3. आर्थिक
 - 4. रासायनिक

Question ID : 264330115334

Status : Answered

Chosen Option : 3

Q.1 निम्नलिखित में से कौन-सा सही नहीं है?

Ans 1. $8 \times 3 + 63 \div 9 - 6 = 25$

2. $42 \div 6 + (2 \times 5) \times 1 + 9 = 26$

3. $9 \times 4 + (12 + 2) - 30 \div 3 = 40$

4. $13 - 7 + 8 \times 9 + 63 \div 9 = 88$

Question ID : 26433076091

Status : Answered

Chosen Option : 4

Q.2 दो संख्याओं का महत्तम समापवर्तक 24 है और उनका लघुतम समापवर्त्य 2400 है। यदि इनमें से एक संख्या 180 है, तो दूसरी संख्या _____ है।

Ans 1. 338

2. 336

3. 334

4. 320

Question ID : 26433082351

Status : Answered

Chosen Option : 4

Q.3 ₹2,000 पर अंकित एक वस्तु को 20% और 10% की दो क्रमागत छूटों के साथ बेचा जाता है। विक्रय मूल्य ज्ञात कीजिए।

Ans 1. ₹1,640

2. ₹1,240

3. ₹1,440

4. ₹1,540

Question ID : 26433082613

Status : Answered

Chosen Option : 3

Q.4 आनंद 4 km/h की चाल से 20 km की दूरी तय करता है और शेष दूरी को 5 घंटे में वह 5 km/h की चाल से तय करता है। पूरी यात्रा के दौरान आनंद की औसत चाल (km/h में) क्या है?

Ans 1. 4.7

2. 4.5

3. 5

4. 4

Question ID : 26433082501

Status : Answered

Chosen Option : 2

Q.5 एक व्यापारी ₹50,000 में 50 कुर्सियाँ खरीदता है, लेकिन उनमें से 20 क्षतिग्रस्त हो जाती हैं। वह प्रत्येक क्षतिग्रस्त कुर्सी को सामान्य कुर्सी के विक्रय मूल्य के तीन चौथाई पर बेचने का फैसला करता है। सामान्य कुर्सी का विक्रय मूल्य क्या होना चाहिए, ताकि वह पूरे लेन-देन पर 35% का लाभ कमा सके?

- Ans
- 1. ₹5,000
 - 2. ₹1,125
 - 3. ₹6,750
 - 4. ₹1,500

Question ID : 26433075879

Status : Answered

Chosen Option : 1

Q.6 तीन घन, प्रत्येक की भुजा 5 cm है, एक के बाद दूसरा और दूसरे के बाद तीसरा के आधार पर एक-दूसरे से जोड़े गए हैं। परिणामी घनाभ का संपूर्ण पृष्ठीय क्षेत्रफल कितना है?

- Ans
- 1. 380 cm²
 - 2. 350 cm²
 - 3. 375 cm²
 - 4. 325 cm²

Question ID : 26433066368

Status : Answered

Chosen Option : 3

Q.7 सामान्था को 75 मील प्रति घंटे की चाल से स्थान X से स्थान Y तक जाने में 3 घंटे का समय लगता है। 30% बढ़ी हुई चाल से यात्रा करने पर उसे स्थान Y से स्थान Z तक जाने में 2 घंटे का समय लगता है। पूरी यात्रा के दौरान उसकी औसत चाल ज्ञात करें।

- Ans
- 1. 90 मील प्रति घंटा
 - 2. 84 मील प्रति घंटा
 - 3. 72 मील प्रति घंटा
 - 4. 65 मील प्रति घंटा

Question ID : 26433081551

Status : Answered

Chosen Option : 1

Q.8 अखिल, साहिल और अमित एक निश्चित कार्य को 64 दिनों में कर सकते हैं। जबकि अखिल और साहिल समान कार्य को 80 दिनों में कर सकते हैं, तो अमित उसी कार्य को कितने दिनों में कर सकता है?

- Ans
- 1. 330 दिन
 - 2. 380 दिन
 - 3. 320 दिन
 - 4. 340 दिन

Question ID : 264330116903

Status : Answered

Chosen Option : 3

Q.9 यदि a : b, 4 : 6 है और b : c, 10 : 11 है, तो c : a है :

Ans 1. 20 : 33

2. 33 : 20

3. 33 : 21

4. 21 : 33

Question ID : 26433076305

Status : Answered

Chosen Option : 2

Q.10 एक निश्चित समयावधि के बाद, एक बैंक में निवेश की गई Rs.24,000 की राशि Rs.26,460 हो जाएगी, जब चक्रवृद्धि ब्याज की दर 5% वार्षिक है, जो वार्षिक रूप से चक्रवृद्धि है। निवेश की गई राशि कितने महीने में Rs.26,460 हो जाएगी?

Ans 1. 12

2. 36

3. 24

4. 30

Question ID : 26433075073

Status : Answered

Chosen Option : 3

Q.11 एक शहर की वर्तमान जनसंख्या 92,61,000 है। यदि यह 5% वार्षिक दर से बढ़ रही है, तो 3 वर्ष पहले इसकी जनसंख्या कितनी थी।

Ans 1. 60,00,000

2. 40,00,000

3. 80,00,000

4. 20,00,000

Question ID : 26433073131

Status : Answered

Chosen Option : 3

Q.12 एक दूसरे से 100 km की दूरी पर स्थित दो स्टेशनों से दो ट्रेनें एक ही समय पर निकलकर एक दूसरे की ओर चलती हैं, ट्रेनें एक स्टेशन से 70 km की दूरी पर एक-दूसरे को पार करती हैं। उनकी चाल का अनुपात क्या है?

Ans 1. 5 : 7

2. 7 : 3

3. 4 : 5

4. 3 : 4

Question ID : 26433073037

Status : Answered

Chosen Option : 2

Q.13 एक डीलर अपने माल को क्रय मूल्य पर बेचने का दावा करता है। यदि वह वजन में गड़बड़ी करके $5\frac{5}{19}\%$ का लाभ प्राप्त करता है, तो 1 kg वजन में की जाने वाली गड़बड़ी का पता लगाएं।

- Ans
- 1. 60 g
 - 2. 45 g
 - 3. 50 g
 - 4. 55 g

Question ID : 26433081567

Status : Answered

Chosen Option : 3

Q.14 मोहन और सोहन एक ही समय पर बिंदु P और Q से एक दूसरे की ओर दौड़ना शुरू करते हैं। मोहन और सोहन की चाल क्रमशः 24 km/h और 18 km/h है। यदि वे 10 मिनट के बाद मिलते हैं, तो P और Q के बीच की दूरी क्या है?

- Ans
- 1. 9 km
 - 2. 8 km
 - 3. 10 km
 - 4. 7 km

Question ID : 26433075698

Status : Answered

Chosen Option : 4

Q.15 कोविड -19 महामारी के प्रकोप के कारण एक गाँव की जनसंख्या 15,750 से घटकर 14,490 हो गई। उस गाँव की जनसंख्या में कितने प्रतिशत की कमी हुई?

- Ans
- 1. 6%
 - 2. 9%
 - 3. 8%
 - 4. 7%

Question ID : 26433080291

Status : Answered

Chosen Option : 3

Q.16 A, B से दोगुना कुशल है और एक कार्य को पूरा करने में B से 45 दिन कम लेता है। उन दिनों की संख्या ज्ञात कीजिए जिनमें वे एक साथ कार्य को पूरा कर सकते हैं।

- Ans
- 1. 32
 - 2. 36
 - 3. 30
 - 4. 38

Question ID : 26433075396

Status : Answered

Chosen Option : 3

Q.17 जैक और जॉन के धन का अनुपात 7 : 13 है और जॉन और जोनास के धन का अनुपात 9 : 11 है। यदि जैक के पास ₹6,300 हो, तो जोनास के पास कितना धन है?

- Ans
- 1. ₹14,100
 - 2. ₹14,300
 - 3. ₹14,200
 - 4. ₹14,500

Question ID : 26433080175

Status : Answered

Chosen Option : 2

Q.18 एक खुदरा विक्रेता ₹86,000 के अंकित मूल्य वाले एक फूड प्रोसेसर को बेचने के लिए उस पर 40% की छूट की घोषणा करता है। फूड प्रोसेसर का क्रय मूल्य, अंकित मूल्य से 60% कम है। यदि खरीदार खुदरा विक्रेता के स्टोर का अपना सदस्यता कार्ड दिखाता है तो उसे 10% की अतिरिक्त छूट मिलती है। सदस्यता कार्ड योजना के साथ खुदरा विक्रेता का लाभ सदस्यता कार्ड योजना के बिना खुदरा विक्रेता के लाभ का कितना प्रतिशत है?

- Ans
- 1. 73%
 - 2. 82%
 - 3. 67%
 - 4. 70%

Question ID : 26433061892

Status : Answered

Chosen Option : 4

Q.19 एक व्यक्ति का साप्ताहिक वेतन 1200 रुपए था, लेकिन अब वह 1800 रुपए कमाता है। व्यक्ति के वेतन में कितने प्रतिशत वृद्धि हुई है?

- Ans
- 1. 30 प्रतिशत
 - 2. 50 प्रतिशत
 - 3. 20 प्रतिशत
 - 4. 80 प्रतिशत

Question ID : 264330116823

Status : Answered

Chosen Option : 2

Q.20 क्रमशः 8 cm, 1 cm और 6 cm भुजा वाले तीन ठोस घनों को पिघलाकर एक नया घन बनाया जाता है।
नए घन का सबसे लंबा विकर्ण ज्ञात कीजिए।

- Ans
- 1. $7\sqrt{2}$ cm
 - 2. $7\sqrt{3}$ cm
 - 3. $9\sqrt{3}$ cm
 - 4. $9\sqrt{2}$ cm

Question ID : 26433083063

Status : Answered

Chosen Option : 3

Section : Part-D-English

Q.1 Choose the sentence that is in simple past tense.

- A. My uncle broke his promise to keep up with the trend of being healthy.
- B. My uncle had been breaking his promise to keep up with the trend of being healthy.
- C. My uncle had broken his promise to keep up with the trend of being healthy.
- D. My uncle was breaking his promise to keep up with the trend of being healthy.

- Ans
- 1. A
 - 2. B
 - 3. D
 - 4. C

Question ID : 26433096222

Status : Not Answered

Chosen Option : --

Q.2 Select the most appropriate meaning of the given idiom.

Raining cats and dogs

- Ans
- 1. To escape from the situation
 - 2. Cats and dogs getting wet in rain
 - 3. At the exact time
 - 4. A very heavy downpour

Question ID : 26433073709

Status : Not Answered

Chosen Option : --

Q.3 Select the most appropriate synonym of the underlined word in the given sentence.

It is of paramount importance that you read the instructions before attempting the test.

- Ans
- 1. Remind
 - 2. Rehearse
 - 3. Rephrase
 - 4. Central

Question ID : 26433087920
Status : Not Answered
Chosen Option : --

Q.4 The sentence given below has one misspelt word. Spot the INCORRECTLY spelt word and select its correct spelling.

She comes from an illustrios political family.

- Ans
- 1. Illustreous
 - 2. Ilustrious
 - 3. Illustrious
 - 4. Illustreous

Question ID : 26433073552
Status : Not Answered
Chosen Option : --

Q.5 Select the most appropriate meaning of the given idiom.

Level playing field

- Ans
- 1. Forgetting conflicts
 - 2. Lack of intelligence
 - 3. A fair competition
 - 4. Avoiding differences

Question ID : 26433073719
Status : Not Answered
Chosen Option : --

Q.6 Select the most appropriate ANTONYM of the given word.
Scintillating

- Ans
- 1. Dark
 - 2. Amazing
 - 3. Bright
 - 4. Wonderful

Question ID : 26433086490
Status : Not Answered
Chosen Option : --

Q.7 Select the option that can be used as a one-word substitute for the given group of words.

A perfect society in which people work well with each other and are happy

- Ans 1. Homeland
 2. Utopia
 3. Gala land
 4. Dystopia

Question ID : 26433089377

Status : Not Answered

Chosen Option : --

Q.8 Select the most appropriate synonym of the word given below to fill in the blank in the following sentence.

Imminent

The king was changing his hiding place every now and then because of _____ danger to his life.

- Ans 1. losing
 2. participating
 3. happening
 4. approaching

Question ID : 26433084778

Status : Not Answered

Chosen Option : --

Q.9 Select the most appropriate ANTONYM of the given word.

Austere

- Ans 1. Gruff
 2. Genial
 3. Stiff
 4. Affordable

Question ID : 26433088323

Status : Not Answered

Chosen Option : --

Q.10 Select the most appropriate option to substitute the underlined segment in the given sentence.

The lizard moves from one whole to another and eats insects hidden in the hole.

- Ans 1. moves from one to another and eats
 2. moves from one hole to another but eats
 3. moves from one hole to another and eats
 4. moves from one whole to another and eat

Question ID : 264330100292

Status : Not Answered

Chosen Option : --

Q.11 Select the most appropriate option to fill in the blank.

You might be wrong, you can't always be _____.

- Ans
- 1. write
 - 2. riot
 - 3. rite
 - 4. right

Question ID : 26433084615
Status : Not Answered
Chosen Option : --

Q.12 Select the most appropriate synonym of the given word.

Anger

- Ans
- 1. Frenzy
 - 2. Dismay
 - 3. Delight
 - 4. Fury

Question ID : 26433086370
Status : Not Answered
Chosen Option : --

Q.13 Select the most appropriate option to fill in the blank.

Anne's eye _____ is very good for someone of her age.

- Ans
- 1. side
 - 2. site
 - 3. cite
 - 4. sight

Question ID : 26433090395
Status : Not Answered
Chosen Option : --

Q.14 Select the most appropriate option to substitute the underlined segment in the given sentence.

Dowry completely violates women's rights and denies them similar opportunities in society.

- Ans
- 1. an accurate place
 - 2. an appropriate desire
 - 3. an equal standing
 - 4. an increasing honour

Question ID : 26433089833
Status : Not Answered
Chosen Option : --

Q.15 Identify the correctly spelt sentence.

- Ans
- 1. My favourite subject is Mathematecs.
 - 2. My favourite subject is Matematiks.
 - 3. My favourite subject is Mathematics.
 - 4. My favourite subject is Mathimatics.

Question ID : 26433072835

Status : Not Answered

Chosen Option : --

Comprehension:

In the following passage, some words have been deleted. Read the passage carefully and select the most appropriate option to fill in each blank.

Cancer is a disease in which some of the body's cells grow (1)_____ and spread to other parts of the body. Cancer can start (2)_____ anywhere in the human body, which is made up of trillions of cells. Normally, human cells grow and multiply (through a process called cell division) to (3)_____ new cells as the body needs them. When cells grow old or become damaged, they die, and new cells take their place. Sometimes, this orderly process (4)_____ down, and abnormal or damaged cells grow and multiply when they shouldn't. These cells may form tumours, which are lumps of tissue. Tumours can be cancerous or (5)_____.

SubQuestion No : 16

Q.16 Select the most appropriate option to fill in blank 1.

- Ans
- 1. unwontedly
 - 2. inversely
 - 3. inadequately
 - 4. uncontrollably

Question ID : 26433090513

Status : Not Answered

Chosen Option : --

Comprehension:

In the following passage, some words have been deleted. Read the passage carefully and select the most appropriate option to fill in each blank.

Cancer is a disease in which some of the body's cells grow (1)_____ and spread to other parts of the body. Cancer can start (2)_____ anywhere in the human body, which is made up of trillions of cells. Normally, human cells grow and multiply (through a process called cell division) to (3)_____ new cells as the body needs them. When cells grow old or become damaged, they die, and new cells take their place. Sometimes, this orderly process (4)_____ down, and abnormal or damaged cells grow and multiply when they shouldn't. These cells may form tumours, which are lumps of tissue. Tumours can be cancerous or (5)_____.

SubQuestion No : 17

Q.17 Select the most appropriate option to fill in blank 2.

- Ans
- 1. just
 - 2. almost
 - 3. simply
 - 4. barely

Question ID : 26433090514

Status : Not Answered

Chosen Option : --

Comprehension:

In the following passage, some words have been deleted. Read the passage carefully and select the most appropriate option to fill in each blank.

Cancer is a disease in which some of the body's cells grow (1)_____ and spread to other parts of the body. Cancer can start (2)_____ anywhere in the human body, which is made up of trillions of cells. Normally, human cells grow and multiply (through a process called cell division) to (3)_____ new cells as the body needs them. When cells grow old or become damaged, they die, and new cells take their place. Sometimes, this orderly process (4)_____ down, and abnormal or damaged cells grow and multiply when they shouldn't. These cells may form tumours, which are lumps of tissue. Tumours can be cancerous or (5)_____.

SubQuestion No : 18

Q.18 Select the most appropriate option to fill in blank 3.

- Ans** 1. form
 2. shape
 3. build
 4. formulate

Question ID : 26433090515

Status : Not Answered

Chosen Option : --

Comprehension:

In the following passage, some words have been deleted. Read the passage carefully and select the most appropriate option to fill in each blank.

Cancer is a disease in which some of the body's cells grow (1)_____ and spread to other parts of the body. Cancer can start (2)_____ anywhere in the human body, which is made up of trillions of cells. Normally, human cells grow and multiply (through a process called cell division) to (3)_____ new cells as the body needs them. When cells grow old or become damaged, they die, and new cells take their place. Sometimes, this orderly process (4)_____ down, and abnormal or damaged cells grow and multiply when they shouldn't. These cells may form tumours, which are lumps of tissue. Tumours can be cancerous or (5)_____.

SubQuestion No : 19

Q.19 Select the most appropriate option to fill in blank 4.

- Ans** 1. slows
 2. powers
 3. breaks
 4. blows

Question ID : 26433090516

Status : Not Answered

Chosen Option : --

Comprehension:

In the following passage, some words have been deleted. Read the passage carefully and select the most appropriate option to fill in each blank.

Cancer is a disease in which some of the body's cells grow (1)_____ and spread to other parts of the body. Cancer can start (2)_____ anywhere in the human body, which is made up of trillions of cells. Normally, human cells grow and multiply (through a process called cell division) to (3)_____ new cells as the body needs them. When cells grow old or become damaged, they die, and new cells take their place. Sometimes, this orderly process (4)_____ down, and abnormal or damaged cells grow and multiply when they shouldn't. These cells may form tumours, which are lumps of tissue. Tumours can be cancerous or (5)_____.

SubQuestion No : 20

Q.20 Select the most appropriate option to fill in blank 5.

- Ans 1. malignant
 2. benign
 3. benevolent
 4. mild

Question ID : 26433090517

Status : Not Answered

Chosen Option : --

Section : Part-D-Hindi

Q.1 निम्न वाक्य में त्रुटि पहचानकर वाक्य शुद्ध कीजिए।
चतुर से काम करे तो सफलता अवश्य मिलती है।

- Ans 1. चतुर होकर काम करने से सफल अवश्य मिलता है।
 2. चतुरी से काम करे तो सफलता अवश्य मिलती है।
 3. चतुराई से काम करने से सफलता अवश्य मिलती है।
 4. चतुराई से काम करने से सफल अवश्य मिलता है।

Question ID : 26433063028

Status : Answered

Chosen Option : 3

Q.2 तपस्वी ने बहुत तपने के पश्चात यह सिद्धि प्राप्त की है।
वाक्य के रेखांकित शब्द के स्थान पर भाववाचक संज्ञा शब्द होगा-

- Ans 1. तपोवन
 2. तपस्या
 3. तपन
 4. तपभूमि

Question ID : 26433062855

Status : Answered

Chosen Option : 2

Q.3 विकल्पों में दिए गए किस वाक्य में निम्न शब्द के सही पर्यायवाची शब्द का प्रयोग किया गया है?
पंडित

- Ans
- 1. मनीशी मेरे द्वार पर आये हैं।
 - 2. मनिषी मेरे द्वार पर आये हैं।
 - 3. मनीषी मेरे द्वार पर आये हैं।
 - 4. मनीसी ज्ञान से पूर्ण हैं।

Question ID : 26433091217

Status : Answered

Chosen Option : 2

Q.4 निम्नलिखित मुहावरे के उपयुक्त अर्थ का चयन विकल्पों में से कीजिए।
धज्जियां उड़ाना

- Ans
- 1. चम्पत हो जाना
 - 2. नष्ट – भ्रष्ट करना
 - 3. प्रयास करना
 - 4. क्रोध करना

Question ID : 26433070001

Status : Answered

Chosen Option : 2

Q.5 इस साल व्यापार में बहुत लाभ हुआ।
उपरोक्त वाक्य में रेखांकित शब्द के विलोम शब्द का चयन विकल्पों में से कीजिए।

- Ans
- 1. हानि
 - 2. खतरा
 - 3. तकादा
 - 4. फायदा

Question ID : 26433079745

Status : Answered

Chosen Option : 1

Q.6 निम्नलिखित वाक्यांश के लिए सार्थक शब्द क्या होगा?
जो व्यक्ति दूर की बात सोचता है

- Ans
- 1. दूरबीन
 - 2. दूरदृष्टि
 - 3. दूरदर्शी
 - 4. दूरभाषी

Question ID : 26433069984

Status : Answered

Chosen Option : 3

Q.7 निम्नलिखित अर्थ को व्यक्त करने वाले मुहावरे का चयन विकल्पों में से कीजिए।
बहुत खुश होना

- Ans
- 1. मुँह में तिनका लेना
 - 2. मूसलों ढोल बजाना
 - 3. मैदान हाथ आना
 - 4. मुँह पर नाक न होना

Question ID : 26433070014
Status : Answered
Chosen Option : 2

Q.8 निम्न में से कौन-सा शब्द 'जानकी' का पर्यायवाची नहीं है?

- Ans
- 1. सूर्यसुता
 - 2. वैदेही
 - 3. जनकसुता
 - 4. सीता

Question ID : 26433066897
Status : Answered
Chosen Option : 1

Q.9 'शहर का आधा भाग _____ चुका है।' इस वाक्य में रिक्त स्थान की पूर्ति उपयुक्त वाक्य-खंड द्वारा कीजिए।

- Ans
- 1. जल में निमग्न हो
 - 2. जल से मग्न हो
 - 3. जलमग्न हो
 - 4. पानी में तैर रहा हो

Question ID : 26433080895
Status : Answered
Chosen Option : 3

Q.10 निम्नलिखित वाक्य में रेखांकित शब्द के विलोम शब्द का प्रयोग करके रिक्त स्थान की पूर्ति कीजिए।
यदि उन्नति उचित दिशा में न हो तो वह _____ का कारण बनती है।

- Ans
- 1. अवनति
 - 2. दुराग्रह
 - 3. अपमान
 - 4. अउन्नति

Question ID : 26433091343
Status : Answered
Chosen Option : 1

Q.11 दिए गए वाक्यांश के लिए सार्थक शब्द बताइए।
जो काम से जी चुराता हो

- Ans
- 1. चालाक
 - 2. निकम्मा
 - 3. कामचोर
 - 4. कमजोर

Question ID : 26433062590
Status : Answered
Chosen Option : 3

Q.12 निम्नलिखित वाक्य के किस शब्द में अशुद्धि है?
उनकी दृष्टि शून्य आकाश की ओर थी।

- Ans
- 1. आकाश
 - 2. उनकी
 - 3. दृष्टि
 - 4. शून्य

Question ID : 26433066772
Status : Answered
Chosen Option : 3

Q.13 निम्नलिखित में से शुद्ध वाक्य कौन सा है?

- Ans
- 1. काली गाय अच्छी होती है।
 - 2. काली गाय अच्छा होती है।
 - 3. काली गाय अच्छी होता है।
 - 4. काला गाय अच्छी होती है।

Question ID : 26433066834
Status : Answered
Chosen Option : 1

Q.14 लोग रंगीन चाँदनी में नौका विहार का आनंद ले रहे थे।
उपरोक्त वाक्य में रेखांकित शब्द के स्थान पर सर्वोचित शब्द का चयन विकल्पों में से कीजिए।

- Ans
- 1. धवल
 - 2. पीली
 - 3. सुनहरी
 - 4. रोशन

Question ID : 26433065692
Status : Answered
Chosen Option : 1

Q.15 नीचे दिए शब्द के लिए उचित वाक्यांश दिए गए विकल्पों में से चुनिए।
गोचर

- Ans
- 1. गाय को चराने वाला
 - 2. जिसका ज्ञान इंद्रियों द्वारा न हो सके
 - 3. जो गाय के साथ चलता है
 - 4. जिसका ज्ञान इंद्रियों द्वारा हो सके

Question ID : 26433079209

Status : Answered

Chosen Option : 1

Comprehension:

नीचे पूछे गए प्रश्न संख्या 1-5 के उत्तर दिए गए गद्यांश के आधार पर दीजिए।
विदेशी भाषाओं या दूसरों की भाषाओं को पढ़ने से पहले अपनी राष्ट्रभाषा और (1) _____ का ज्ञान नितांत आवश्यक है। अपनी भाषा में हृदय बोलता है, इससे माँ की ममता, राष्ट्रीय संबंधों का माधुर्य और अपने को जानने-पहचानने की सरलता रहती है। अपनी भाषा में अपनापन रहता है। इसके लिए हमें विशेष श्रम नहीं करना पड़ता, व्यर्थ की (2) _____ और समय की बर्बादी नहीं करनी पड़ती। हिंदी हमारी मातृभाषा है। इसलिए इसके व्यवहार में हमें जितनी सहजता और सुविधा का बोध होता है, उतनी सहजता और सुविधा का बोध विदेशी भाषाओं में नहीं होता। कारण यह है कि हिंदी हम घर – बाहर सभी जगह बोलते हैं, इसी में हम अपने मन में बातें सोचते हैं, किसी (3) _____ भाषा में नहीं। इसीलिए भाषा हर तरह की शिक्षा का माध्यम होती है, चाहे वह अन्य किसी भाषा की शिक्षा हो या कला कारीगरों की। अगर हम कोई विदेशी भाषा सीखते हैं तो अपनी मातृभाषा के माध्यम से ही। इसलिए अब हम किसी दूसरी सीखी हुई भाषा को बोलते हैं, तो मातृभाषा में मन में जो हम सोचते हैं, वह उसी का (4) _____ होता है। इसलिए इसके बिना हम रह नहीं सकते। यह हमारे दैनिक जीवन के साथ (5) _____ है। जैसे – दूध में पानी घुला होता है उसी तरह मातृभाषा में भी हमारी माँ का संस्कार, उसका प्यार और मिठास है। अतः अपनी भाषा सर्वोपरि है। भाषाओं के अध्ययन में इसी का सबसे ऊँचा स्थान है। यही कारण है कि सभी सभ्य देशों में शिक्षा मातृभाषा के माध्यम से दी जाती है।

SubQuestion No : 16

Q.16 विकल्पों में से उपयुक्त शब्द का चयन कर रिक्त स्थान (1) की पूर्ति कीजिए।

- Ans
- 1. कूटभाषा
 - 2. भाषा
 - 3. अपभाषा
 - 4. मातृभाषा

Question ID : 26433079177

Status : Answered

Chosen Option : 4

Comprehension:

नीचे पूछे गए प्रश्न संख्या 1-5 के उत्तर दिए गए गद्यांश के आधार पर दीजिए।
विदेशी भाषाओं या दूसरों की भाषाओं को पढ़ने से पहले अपनी राष्ट्रभाषा और (1) _____ का ज्ञान नितांत आवश्यक है। अपनी भाषा में हृदय बोलता है, इससे माँ की ममता, राष्ट्रीय संबंधों का माधुर्य और अपने को जानने-पहचानने की सरलता रहती है। अपनी भाषा में अपनापन रहता है। इसके लिए हमें विशेष श्रम नहीं करना पड़ता, व्यर्थ की (2) _____ और समय की बर्बादी नहीं करनी पड़ती। हिंदी हमारी मातृभाषा है। इसलिए इसके व्यवहार में हमें जितनी सहजता और सुविधा का बोध होता है, उतनी सहजता और सुविधा का बोध विदेशी भाषाओं में नहीं होता। कारण यह है कि हिंदी हम घर – बाहर सभी जगह बोलते हैं, इसी में हम अपने मन में बातें सोचते हैं, किसी (3) _____ भाषा में नहीं। इसीलिए भाषा हर तरह की शिक्षा का माध्यम होती है, चाहे वह अन्य किसी भाषा की शिक्षा हो या कला कारीगरों की। अगर हम कोई विदेशी भाषा सीखते हैं तो अपनी मातृभाषा के माध्यम से ही। इसलिए अब हम किसी दूसरी सीखी हुई भाषा को बोलते हैं, तो मातृभाषा में मन में जो हम सोचते हैं, वह उसी का (4) _____ होता है। इसलिए इसके बिना हम रह नहीं सकते। यह हमारे दैनिक जीवन के साथ (5) _____ है। जैसे – दूध में पानी घुला होता है उसी तरह मातृभाषा में भी हमारी माँ का संस्कार, उसका प्यार और मिठास है। अतः अपनी भाषा सर्वोपरि है। भाषाओं के अध्ययन में इसी का सबसे ऊँचा स्थान है। यही कारण है कि सभी सभ्य देशों में शिक्षा मातृभाषा के माध्यम से दी जाती है।

SubQuestion No : 17

Q.17 निम्नलिखित विकल्पों में से स्त्रीलिंग शब्द का चयन कर रिक्त स्थान (2) की पूर्ति कीजिए।

- Ans 1. माथा घिसना
 2. माथा टेकना
 3. माथा पिट्टन
 4. माथापच्ची

Question ID : 26433079178

Status : Answered

Chosen Option : 4

Comprehension:

नीचे पूछे गए प्रश्न संख्या 1-5 के उत्तर दिए गए गद्यांश के आधार पर दीजिए।
विदेशी भाषाओं या दूसरों की भाषाओं को पढ़ने से पहले अपनी राष्ट्रभाषा और (1) _____ का ज्ञान नितांत आवश्यक है। अपनी भाषा में हृदय बोलता है, इससे माँ की ममता, राष्ट्रीय संबंधों का माधुर्य और अपने को जानने-पहचानने की सरलता रहती है। अपनी भाषा में अपनापन रहता है। इसके लिए हमें विशेष श्रम नहीं करना पड़ता, व्यर्थ की (2) _____ और समय की बर्बादी नहीं करनी पड़ती। हिंदी हमारी मातृभाषा है। इसलिए इसके व्यवहार में हमें जितनी सहजता और सुविधा का बोध होता है, उतनी सहजता और सुविधा का बोध विदेशी भाषाओं में नहीं होता। कारण यह है कि हिंदी हम घर – बाहर सभी जगह बोलते हैं, इसी में हम अपने मन में बातें सोचते हैं, किसी (3) _____ भाषा में नहीं। इसीलिए भाषा हर तरह की शिक्षा का माध्यम होती है, चाहे वह अन्य किसी भाषा की शिक्षा हो या कला कारीगरों की। अगर हम कोई विदेशी भाषा सीखते हैं तो अपनी मातृभाषा के माध्यम से ही। इसलिए अब हम किसी दूसरी सीखी हुई भाषा को बोलते हैं, तो मातृभाषा में मन में जो हम सोचते हैं, वह उसी का (4) _____ होता है। इसलिए इसके बिना हम रह नहीं सकते। यह हमारे दैनिक जीवन के साथ (5) _____ है। जैसे – दूध में पानी घुला होता है उसी तरह मातृभाषा में भी हमारी माँ का संस्कार, उसका प्यार और मिठास है। अतः अपनी भाषा सर्वोपरि है। भाषाओं के अध्ययन में इसी का सबसे ऊँचा स्थान है। यही कारण है कि सभी सभ्य देशों में शिक्षा मातृभाषा के माध्यम से दी जाती है।

SubQuestion No : 18

Q.18 'स्वदेशी' के विलोम शब्द से रिक्त स्थान (3) की पूर्ति कीजिए।

- Ans 1. देशी
 2. विदेशी
 3. ग्रामीण
 4. शहरी

Question ID : 26433079179

Status : Answered

Chosen Option : 2

Comprehension:

नीचे पूछे गए प्रश्न संख्या 1-5 के उत्तर दिए गए गद्यांश के आधार पर दीजिए।
विदेशी भाषाओं या दूसरों की भाषाओं को पढ़ने से पहले अपनी राष्ट्रभाषा और (1) _____ का ज्ञान नितांत आवश्यक है। अपनी भाषा में हृदय बोलता है, इससे माँ की ममता, राष्ट्रीय संबंधों का माधुर्य और अपने को जानने-पहचानने की सरलता रहती है। अपनी भाषा में अपनापन रहता है। इसके लिए हमें विशेष श्रम नहीं करना पड़ता, व्यर्थ की (2) _____ और समय की बर्बादी नहीं करनी पड़ती। हिंदी हमारी मातृभाषा है। इसलिए इसके व्यवहार में हमें जितनी सहजता और सुविधा का बोध होता है, उतनी सहजता और सुविधा का बोध विदेशी भाषाओं में नहीं होता। कारण यह है कि हिंदी हम घर – बाहर सभी जगह बोलते हैं, इसी में हम अपने मन में बातें सोचते हैं, किसी (3) _____ भाषा में नहीं। इसीलिए भाषा हर तरह की शिक्षा का माध्यम होती है, चाहे वह अन्य किसी भाषा की शिक्षा हो या कला कारीगरों की। अगर हम कोई विदेशी भाषा सीखते हैं तो अपनी मातृभाषा के माध्यम से ही। इसलिए अब हम किसी दूसरी सीखी हुई भाषा को बोलते हैं, तो मातृभाषा में मन में जो हम सोचते हैं, वह उसी का (4) _____ होता है। इसलिए इसके बिना हम रह नहीं सकते। यह हमारे दैनिक जीवन के साथ (5) _____ है। जैसे – दूध में पानी घुला होता है उसी तरह मातृभाषा में भी हमारी माँ का संस्कार, उसका प्यार और मिठास है। अतः अपनी भाषा सर्वोपरि है। भाषाओं के अध्ययन में इसी का सबसे ऊँचा स्थान है। यही कारण है कि सभी सभ्य देशों में शिक्षा मातृभाषा के माध्यम से दी जाती है।

SubQuestion No : 19

Q.19 'किसी के कहने के बाद कहना' इस वाक्यांश के लिए उपयोग किए जाने वाले एक शब्द से रिक्त स्थान (4) की पूर्ति कीजिए।

- Ans 1. आलेखन
 2. अनुवाद
 3. संक्षेपण
 4. टिप्पण

Question ID : 26433079180

Status : Answered

Chosen Option : 2

Comprehension:

नीचे पूछे गए प्रश्न संख्या 1-5 के उत्तर दिए गए गद्यांश के आधार पर दीजिए।
विदेशी भाषाओं या दूसरों की भाषाओं को पढ़ने से पहले अपनी राष्ट्रभाषा और (1) _____ का ज्ञान नितांत आवश्यक है। अपनी भाषा में हृदय बोलता है, इससे माँ की ममता, राष्ट्रीय संबंधों का माधुर्य और अपने को जानने-पहचानने की सरलता रहती है। अपनी भाषा में अपनापन रहता है। इसके लिए हमें विशेष श्रम नहीं करना पड़ता, व्यर्थ की (2) _____ और समय की बर्बादी नहीं करनी पड़ती। हिंदी हमारी मातृभाषा है। इसलिए इसके व्यवहार में हमें जितनी सहजता और सुविधा का बोध होता है, उतनी सहजता और सुविधा का बोध विदेशी भाषाओं में नहीं होता। कारण यह है कि हिंदी हम घर – बाहर सभी जगह बोलते हैं, इसी में हम अपने मन में बातें सोचते हैं, किसी (3) _____ भाषा में नहीं। इसीलिए भाषा हर तरह की शिक्षा का माध्यम होती है, चाहे वह अन्य किसी भाषा की शिक्षा हो या कला कारीगरों की। अगर हम कोई विदेशी भाषा सीखते हैं तो अपनी मातृभाषा के माध्यम से ही। इसलिए अब हम किसी दूसरी सीखी हुई भाषा को बोलते हैं, तो मातृभाषा में मन में जो हम सोचते हैं, वह उसी का (4) _____ होता है। इसलिए इसके बिना हम रह नहीं सकते। यह हमारे दैनिक जीवन के साथ (5) _____ है। जैसे – दूध में पानी घुला होता है उसी तरह मातृभाषा में भी हमारी माँ का संस्कार, उसका प्यार और मिठास है। अतः अपनी भाषा सर्वोपरि है। भाषाओं के अध्ययन में इसी का सबसे ऊँचा स्थान है। यही कारण है कि सभी सभ्य देशों में शिक्षा मातृभाषा के माध्यम से दी जाती है।

SubQuestion No : 20

Q.20 विकल्पों में से उपयुक्त शब्द का चयन कर रिक्तस्थान (5) की पूर्ति कीजिए।

- Ans 1. घुली - मिली
 2. मिली - जुली
 3. चुलबुली
 4. हिली - डुली

Question ID : 26433079181

Status : Answered

Chosen Option : 1