

# Constable GD in CAPFs SSF Rifleman GD in Assam Rifles and Sepoy in NCB Examination 2022

Roll Number	<a href="http://www.govtjobsalert.in">www.govtjobsalert.in</a>
Candidate Name	<a href="http://www.govtjobsalert.in">www.govtjobsalert.in</a>
Venue Name	Sri Balaji College Of Engineering And Technology
Exam Date	12/01/2023
Exam Time	9:00 AM - 10:00 AM
Subject	Constable GD Examination 2022

## Section : Part-A-General Intelligence and Reasoning

Q.1 निम्नलिखित में से कौन-सा पद दी गई श्रृंखला में प्रश्न-चिह्न (?) के स्थान पर आएगा?  
RHWC, QKVF, ? , OQTL, NTSO

- Ans  1. PNUI  
 2. QNUI  
 3. ONUJ  
 4. PMUJ

Question ID : 26433068309

Status : Answered

Chosen Option : 1

Q.2 नीचे दिए गए समीकरण को गणितीय रूप से सही बनाने के लिए किन दो चिन्हों को परस्पर बदलना चाहिए?  
 $24 + 36 - 81 \times 9 \div 2 = 42$

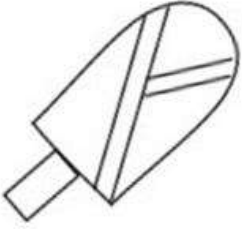
- Ans  1. + और -  
 2. × और +  
 3. + और ×  
 4. + और -

Question ID : 264330117500

Status : Answered

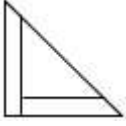
Chosen Option : 3

Q.3 वह विकल्प चित्र चुनिए, जो प्रस्तुत चित्र में अंतर्निहित है। (घुमाना अनुमन्य नहीं है)

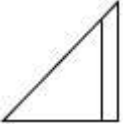


Ans

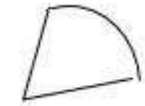
✗ 1.



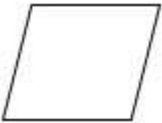
✗ 2.



✓ 3.



✗ 4.



Question ID : 26433069344

Status : Answered

Chosen Option : 3

Q.4 उस विकल्प का चयन कीजिए जो पांचवें अक्षर-समूह से उसी प्रकार संबंधित है जिस प्रकार दूसरा अक्षर-समूह पहले अक्षर-समूह से संबंधित है और चौथा अक्षर-समूह तीसरे अक्षर-समूह से संबंधित है।  
SURGERY : TVSHFSZ :: SILENCE : TJMFODF :: SOCIETY : ?

Ans ✗ 1. CIETYSO

✓ 2. TPDJFUZ

✗ 3. COSYTEI

✗ 4. YTEICOS

Question ID : 26433069638

Status : Answered

Chosen Option : 2

Q.5 6 व्यक्ति - A, B, C, D, E और F, एक वृत्ताकार मेज के परितः केंद्र के विपरीत मुख करके बैठे हैं। B, A के बाईं ओर ठीक बगल में बैठा है। F, A के दाईं ओर ठीक बगल में बैठा है। E, F और D के ठीक बगल में बैठा है। C, D के दाईं ओर ठीक बगल में बैठा है। इनमें से कौन A और C के ठीक बगल में बैठा है?

- Ans
- 1. D
  - 2. E
  - 3. F
  - 4. B

Question ID : 26433074608

Status : Answered

Chosen Option : 4

Q.6 एक निश्चित कूट भाषा में, 'FAVOUR' को 'RUOVAF' के रूप में लिखा जाता है और 'REVEAL' को 'LAEVER' के रूप में लिखा जाता है। उसी भाषा में 'MIRACLE' को कैसे लिखा जाएगा?

- Ans
- 1. ECLARMI
  - 2. ELCARIM
  - 3. ECLRAIM
  - 4. EMLCRIA

Question ID : 26433082559

Status : Answered

Chosen Option : 2

Q.7 एक निश्चित कूट भाषा में, 'HUSBAND' को 'DNABSUH' लिखा जाता है और 'CLEARLY' को 'YLRAELC' लिखा जाता है। उसी भाषा में 'HARBOUR' कैसे लिखा जाएगा?

- Ans
- 1. ORUBHRA
  - 2. RUOBRAH
  - 3. ORUBRAH
  - 4. RUOBRHA

Question ID : 26433068891

Status : Answered

Chosen Option : 2

Q.8 दिए गए समीकरण में % चिह्नों को क्रमिक रूप से बदलने और समीकरण को संतुलित करने के लिए निम्नलिखित विकल्पों में से गणितीय चिह्नों के सही संयोजन का चयन कीजिए।  
42 % 7 % 5% 10 % 3

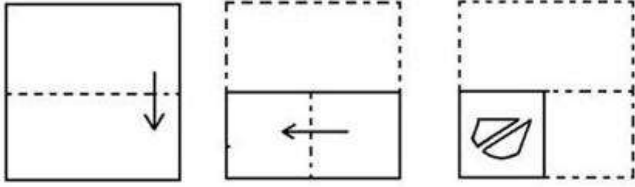
- Ans
- 1. ×, =, -, ÷
  - 2. ×, ÷, =, -
  - 3. ÷, ×, =, ×
  - 4. ÷, ×, =, -

Question ID : 26433087046

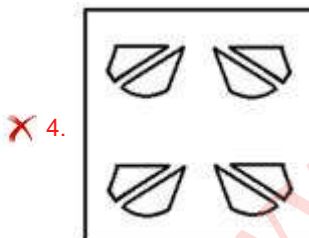
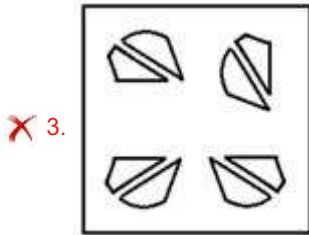
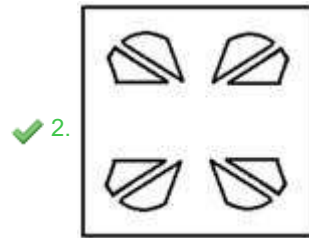
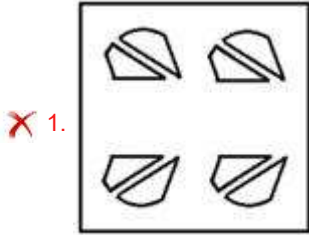
Status : Answered

Chosen Option : 3

Q.9 एक कागज को मोड़ने का क्रम और मुड़े हुए कागज को काटने का तरीका नीचे दर्शाया गया है। उस आकृति का चयन करें जो कागज को खोले जाने पर उसके खुले रूप से सबसे अधिक मिलती-जुलती है।



Ans



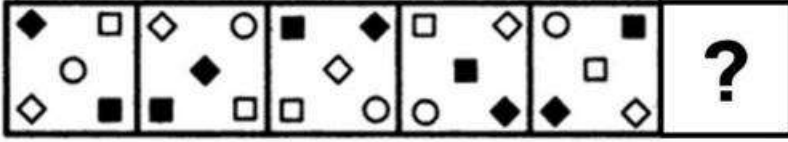
Question ID : 26433087096

Status : Answered

Chosen Option : 2

Q.10 दिए गए विकल्पों में से उस आकृति का चयन करें जो निम्नलिखित श्रृंखला में

प्रश्नवाचक चिह्न (?) का स्थान ले सकती है।



Ans

- ✗ 1.
- ✗ 2.
- ✗ 3.
- ✓ 4.

Question ID : 26433080495

Status : Answered

Chosen Option : 4

Q.11 उस विकल्प का चयन करें जो पांचवें अक्षर-समूह से उसी प्रकार संबंधित है जिस प्रकार दूसरा अक्षर-समूह पहले अक्षर-समूह से संबंधित है और चौथा अक्षर-समूह तीसरे अक्षर-समूह से संबंधित है।

KSW : NUX :: AGP : DIQ :: EOY : ?

- Ans ✗ 1. HOW
- ✗ 2. BQW
- ✓ 3. HQW
- ✗ 4. BQU

Question ID : 26433057747

Status : Answered

Chosen Option : 3

Q.12 निम्नलिखित में से कौन-सी संख्या दी गई श्रृंखला में प्रश्न-चिह्न (?) के स्थान पर आएगी?  
1, 2, 2, 4, 3, 6, 4, 8, ?

- Ans
- 1. 10
  - 2. 5
  - 3. 9
  - 4. 7

Question ID : 26433082003  
Status : Answered  
Chosen Option : 2

Q.13 कौन-सा अक्षर-समूह दी गई श्रृंखला में प्रश्नचिह्न (?) के स्थान पर आकर श्रृंखला को पूर्ण करेगा?

SEJW, QGMT, OIPQ, ? , K MVK

- Ans
- 1. MKTM
  - 2. MKMT
  - 3. MKTN
  - 4. MKSN

Question ID : 26433068575  
Status : Answered  
Chosen Option : 4

Q.14 निम्नलिखित में से कौन-सी संख्या दी गई श्रृंखला में प्रश्न-चिह्न (?) का स्थान लेगी?  
1483, 2369, ?, 4141, 5027, 5913

- Ans
- 1. 3119
  - 2. 2869
  - 3. 3189
  - 4. 3255

Question ID : 26433068091  
Status : Answered  
Chosen Option : 4

Q.15 A @ B का अर्थ है 'A, B की बहन है'।  
A & B का अर्थ है 'A, B का भाई है'।  
A # B का अर्थ है 'A, B की पत्नी है'।  
A ^ B का अर्थ है 'A, B की माता है'।  
A + B का अर्थ है 'A, B के पिता हैं'।  
यदि Z & P + N ^ Q # S & V + E @ L है, तो निम्नलिखित में से कौन-सा कथन सही नहीं है?

- Ans
- 1. Q, E की माता है।
  - 2. P, Q के नाना हैं।
  - 3. N, S की सास है।
  - 4. V, L के पिता हैं।

Question ID : 26433068953  
Status : Answered  
Chosen Option : 1

Q.16 उस समुच्चय का चयन करें, जिसकी संख्याओं के बीच ठीक वही संबंध है, जो संबंध निम्नांकित समुच्चयों की संख्याओं में हैं।  
(नोट: संख्याओं को उसके घटक अंकों में विभाजित किए बिना, पूर्ण संख्याओं पर ही गणितीय संक्रियाएँ की जानी चाहिए। जैसे 13 - मान लीजिए 13 पर गणितीय संक्रियाएँ जैसे कि 13 में जोड़ना/घटाना/गुणा करना आदि किया जा सकता है। 13 को 1 और 3 में तोड़कर और फिर 1 और 3 पर गणितीय संक्रियाएँ करने की अनुमति नहीं है।)  
(17, 136, 40)  
(11, 198, 90)

- Ans
- 1. (24, 96, 25)
  - 2. (12, 228, 105)
  - 3. (9, 135, 70)
  - 4. (12, 108, 45)

Question ID : 26433076548

Status : Answered

Chosen Option : 4

Q.17 तीन कथनों के बाद तीन निष्कर्ष I, II और III दिए गए हैं। कथनों को सत्य मानते हुए, भले ही वे सामान्य रूप से ज्ञात तथ्यों से भिन्न प्रतीत होते हों, निर्णय लीजिए कि कौन-सा/से निष्कर्ष कथनों का तार्किक रूप से अनुसरण करता/करते है/हैं।  
कथन:  
कुछ पेड़ मछली हैं।  
सभी मछलियां बकरियां हैं।  
कोई बकरी फूल नहीं है।  
निष्कर्ष:  
I. कुछ पेड़ बकरियां हैं।  
II. कुछ मछलियां फूल नहीं हैं।  
III. कुछ फूल बकरियां नहीं हैं।

- Ans
- 1. सभी निष्कर्ष अनुसरण करते हैं।
  - 2. केवल निष्कर्ष I अनुसरण करता है।
  - 3. केवल निष्कर्ष II अनुसरण करता है।
  - 4. केवल निष्कर्ष III अनुसरण करता है।

Question ID : 26433081794

Status : Answered

Chosen Option : 1

Q.18 किस विकल्प में निम्नलिखित शब्दों का वह क्रम दिया गया है, जिस क्रम में वे अंग्रेजी शब्दकोश में आते हैं?  
1 Jacket  
2 Japanese  
3 Jabbed  
4 Jackpot  
5 Janitor

- Ans
- 1. 3,5,2,1,4
  - 2. 3,1,2,5,4
  - 3. 3,1,4,5,2
  - 4. 3,2,1,4,5

Question ID : 26433069318

Status : Answered

Chosen Option : 3

Q.19 आठ मित्र- P, Q, R, S, T, U, V और W एक दूसरे की ओर मुख करके दो पंक्तियों में बैठे हैं। प्रत्येक पंक्ति में चार व्यक्ति हैं। Q और R एक दूसरे के सामने बैठे हैं। R, S और T के ठीक बगल में है। W, T के बाईं ओर ठीक बगल में बैठा है। W और U विकर्णतः सामने हैं। V और Q एक दूसरे के बगल में नहीं बैठे हैं। T के सामने कौन बैठा है?

- Ans
- 1. S
  - 2. P
  - 3. R
  - 4. Q

Question ID : 26433079065

Status : Answered

Chosen Option : 2

Q.20 दर्पण को चित्र में दिखाए अनुसार MN पर रखे जाने पर दी गई आकृति के सही दर्पण प्रतिबिंब का चयन करें।



- Ans
- 1. J I @ e 4 m u n w
  - 2. J I @ e 4 w u n m
  - 3. J I e @ 4 w u n m
  - 4. J I e @ 4 m u n w

Question ID : 26433082333

Status : Answered

Chosen Option : 2

Section : Part-B-General Knowledge and General awareness

Q.1 स्वदेशी आंदोलन का लोगों पर सबसे अधिक प्रभाव किस क्षेत्र में पड़ा?

- Ans
- 1. संयुक्त प्रांत
  - 2. बरार
  - 3. बंगाल
  - 4. कश्मीर

Question ID : 26433089884

Status : Answered

Chosen Option : 3



Q.2 विश्व का सबसे लंबा लिखित संविधान किस देश का है?

- Ans
- 1. संयुक्त राज्य अमेरिका
  - 2. नीदरलैंड
  - 3. दक्षिण अफ्रीका
  - 4. भारत

Question ID : 26433089176

Status : Answered

Chosen Option : 4

Q.3 जुलाई 2022 में भारत से शिवसेना के किस नेता को महाराष्ट्र से राज्य सभा का सदस्य चुना गया?

- Ans
- 1. संजय राउत
  - 2. विनायक राऊत
  - 3. उद्धव ठाकरे
  - 4. आदित्य ठाकरे

Question ID : 264330114949

Status : Answered

Chosen Option : 1

Q.4 अगस्त 2022 में, वैज्ञानिक और औद्योगिक अनुसंधान परिषद (CSIR) की पहली महिला महानिदेशक के रूप में किसे नियुक्त किया गया था?

- Ans
- 1. नल्लाथम्बी कलाइसेल्वी
  - 2. सावित्री जिंदल
  - 3. नवजीत कौर बराड़
  - 4. अपेक्षा फर्नांडीस

Question ID : 264330114990

Status : Answered

Chosen Option : 1

Q.5 बुद्ध पूर्णिमा, जो गौतम बुद्ध के भक्तों द्वारा मनाई जाती है, को निम्नलिखित में से किस राज्य में सागा दावा के नाम से जाना जाता है?

- Ans
- 1. सिक्किम
  - 2. आंध्र प्रदेश
  - 3. महाराष्ट्र
  - 4. असम

Question ID : 264330115125

Status : Answered

Chosen Option : 1

Q.6 निम्नलिखित में से कौन एक क्रिकेटर नहीं है?

- Ans
- 1. साइना नेहवाल
  - 2. जवागल श्रीनाथ
  - 3. राहुल द्रविड़
  - 4. सचिन तेंदुलकर

Question ID : 264330116260

Status : Answered

Chosen Option : 1

Q.7 रविकीर्ति ने निम्नलिखित में से किस चालुक्य शासक की प्रशस्ति की रचना की थी?

- Ans
- 1. पुलकेशिन II
  - 2. मंगलेश I
  - 3. विक्रमादित्य IV
  - 4. कीर्तिवर्मन II

Question ID : 26433085221

Status : Answered

Chosen Option : 1

Q.8 सत्रीया, निम्नलिखित में से किस राज्य का शास्त्रीय नृत्य है?

- Ans
- 1. तमिलनाडु
  - 2. महाराष्ट्र
  - 3. उत्तर प्रदेश
  - 4. असम

Question ID : 26433071659

Status : Answered

Chosen Option : 4

Q.9 बैडमिंटन एकल खेल में, यदि दोनों खिलाड़ियों के 29 अंक हैं, तो उनमें से एक किस अंक पर खेल जीतेगा?

- Ans
- 1. 32वां अंक
  - 2. मैच ड्रॉ हो जाएगा
  - 3. 31वां अंक
  - 4. 30वां अंक

Question ID : 264330115929

Status : Answered

Chosen Option : 4

Q.10 सरकार का हस्तक्षेप चाहे मांग का विस्तार करने के लिए हो या इसे कम करने के लिए, \_\_\_\_\_ कार्य कहलाता है।

- Ans  1. स्थिरीकरण  
 2. कस्टमाइज़ेशन  
 3. आरंभ  
 4. निर्माण

Question ID : 264330115287  
Status : Answered  
Chosen Option : 2

Q.11 सोडियम सल्फेट और बेरियम क्लोराइड की अभिक्रिया में बनने वाला सफेद अवक्षेप क्या होता है?

- Ans  1. बेरियम सल्फेट  
 2. बेरियम हाइड्रॉक्साइड  
 3. सोडियम ऑक्साइड  
 4. सोडियम क्लोराइड

Question ID : 26433091480  
Status : Answered  
Chosen Option : 1

Q.12 इसका उपयोग बोरा, चटाई, रस्सी, सूत, कालीन और अन्य कलाकृतियाँ बनाने में किया जाता है। यहाँ किस फसल की बात हो रही है?

- Ans  1. जूट  
 2. केला  
 3. ताड़  
 4. नारियल

Question ID : 264330115534  
Status : Answered  
Chosen Option : 1

Q.13 निम्नलिखित में से किसे राजीव गांधी पुरस्कार, इंदिरा प्रियदर्शिनी सम्मान, रोटरी अंतर्राष्ट्रीय अवार्ड मिले हैं?

- Ans  1. एन राजम  
 2. जिया मोहिउद्दीन डागर  
 3. महबूब सुभानी  
 4. शोभना नारायण

Question ID : 264330115846  
Status : Answered  
Chosen Option : 3

Q.14 लोकसभा का कार्यकाल, जब तक भंग न हो, उसकी पहली बैठक की नियत तारीख से \_\_\_\_\_ तक होता है।

- Ans
- 1. 6 वर्ष
  - 2. 5 वर्ष
  - 3. 4 वर्ष
  - 4. 3 वर्ष

Question ID : 26433089968  
Status : Answered  
Chosen Option : 1

Q.15 किस कारण से आयातित सामान अधिक महंगा होता है?

- Ans
- 1. प्रकृति में दुर्लभता
  - 2. प्रशुल्कों
  - 3. पसंदानुसार निर्मित माल
  - 4. उच्चतर गुणवत्ता

Question ID : 264330116141  
Status : Answered  
Chosen Option : 1

Q.16 निम्नलिखित में से कौन अर्थव्यवस्था के प्राथमिक क्षेत्र से संबंधित नहीं है?

- Ans
- 1. बैंक सेवाएँ
  - 2. डेयरी
  - 3. वानिकी
  - 4. मत्स्यन

Question ID : 26433082166  
Status : Answered  
Chosen Option : 1

Q.17 लू (Loo) किस ऋतु की विशेषता है?

- Ans
- 1. पतझड़
  - 2. शीत ऋतु
  - 3. वसन्त
  - 4. ग्रीष्म ऋतु

Question ID : 264330115989  
Status : Answered  
Chosen Option : 4

Q.18 स्टार्टअप इंडिया को \_\_\_\_\_ के अंतर्गत लॉन्च किया गया था।

- Ans
- 1. कौशल विकास और उद्यमशीलता मंत्रालय
  - 2. श्रम एवं रोजगार मंत्रालय
  - 3. सामाजिक न्याय एवं अधिकारिता मंत्रालय
  - 4. वाणिज्य एवं उद्योग मंत्रालय

Question ID : 264330116192

Status : Answered

Chosen Option : 1

Q.19 जनगणना 2011 के अनुसार भारत में साक्षरता दर कितनी थी?

- Ans
- 1. 88.23%
  - 2. 74.04%
  - 3. 69.90%
  - 4. 65.27%

Question ID : 264330116055

Status : Answered

Chosen Option : 2

Q.20 किशोरों को प्रतिदिन औसत मात्रा वाले कितने संतुलित आहार देने चाहिए?

- Ans
- 1. छह
  - 2. तीन
  - 3. एक
  - 4. दो

Question ID : 264330115229

Status : Answered

Chosen Option : 2

Section : Part-C-Elementary Mathematics

Q.1 एक ट्रेन सीधे रेलपथ पर 129 km/h की चाल से चल रही है और समानांतर सड़क पर एक छोटी कार 60 km/h की चाल से चल रही है। यदि ट्रेन 943 m लंबी है और वे एक ही दिशा में चल रही हैं, तो कार को पूरी तरह से पार करने में ट्रेन को कितना समय (सेकंड में, निकटतम पूर्णांक तक पूर्णांकित) लगेगा? ट्रेन की लंबाई की तुलना में कार की लंबाई पर ध्यान न दें।

- Ans
- 1. 49
  - 2. 29
  - 3. 59
  - 4. 39

Question ID : 26433075767

Status : Answered

Chosen Option : 1

Q.2 ₹50,000 की राशि पर 6% वार्षिक की दर से 2 वर्ष के अंत में अर्धवार्षिक रूप से चक्रवृद्धि होने वाला चक्रवृद्धि ब्याज ज्ञात कीजिए। (निकटतम पूर्णांक में लगभग।)

- Ans
- 1. ₹6,933
  - 2. ₹6,275
  - 3. ₹5,676
  - 4. ₹5,978

Question ID : 26433091560  
Status : Answered  
Chosen Option : 2

Q.3 यदि कोई व्यक्ति ₹12 में 15 पेंसिल खरीदता है, और ₹15 में 12 पेंसिल बेचता है, तो लाभ या हानि प्रतिशत ज्ञात कीजिए।

- Ans
- 1. 56.25% का लाभ
  - 2. 65.25% का लाभ
  - 3. 56.52% की हानि
  - 4. 56.25% की हानि

Question ID : 26433076174  
Status : Answered  
Chosen Option : 2

Q.4 यदि  $3:5 = x:75$ , तो  $x$  का मान क्या होगा?

- Ans
- 1. 50
  - 2. 42
  - 3. 45
  - 4. 30

Question ID : 26433075662  
Status : Answered  
Chosen Option : 3

Q.5 15 मजदूरों में Rs.12,600 बाँटे जाते हैं। इनमें 7 पुरुष, 3 महिलाएँ और 5 लड़के हैं। यदि प्रत्येक महिला प्रत्येक लड़के का तिगुना प्राप्त करती है, और प्रत्येक पुरुष प्रत्येक लड़के का सात गुना प्राप्त करता है, तो प्रत्येक महिला का हिस्सा कितना है?

- Ans
- 1. Rs.1,800
  - 2. Rs.1,200
  - 3. Rs.600
  - 4. Rs.900

Question ID : 26433091920  
Status : Answered  
Chosen Option : 3

Q.6 यदि किसी घन के सबसे लंबे विकर्ण की लंबाई  $6\sqrt{3}$  cm है, तो उस घन का आयतन ज्ञात कीजिये।

- Ans
- 1.  $261 \text{ cm}^3$
  - 2.  $126 \text{ cm}^3$
  - 3.  $216 \text{ cm}^3$
  - 4.  $612 \text{ cm}^3$

Question ID : 26433073051

Status : Answered

Chosen Option : 3

Q.7 मेहुल 560000 रुपए में एक कार खरीदता है। वह इसे पुनर्निर्मित करता है और अंततः इसे 640000 रुपए में बेचता है। कार के मूल्य में प्रतिशत वृद्धि है:

- Ans
- 1. 50/3 प्रतिशत
  - 2. 80/9 प्रतिशत
  - 3. 100/7 प्रतिशत
  - 4. 60/7 प्रतिशत

Question ID : 264330116796

Status : Answered

Chosen Option : 3

Q.8 X भूतल पर स्थित लिफ्ट में चढ़ता है जो 30 मंजिल प्रति मिनट की गति से ऊपर जाती है जबकि Y उसी समय 50वीं मंजिल पर एक दूसरी लिफ्ट में चढ़ता है जो 45 मंजिल प्रति मिनट की गति से नीचे जाती है। किस मंजिल पर उनके मार्ग मिलेंगे? ( लिफ्ट किसी भी मंजिल पर रुक नहीं रही है। )

- Ans
- 1. 18वां
  - 2. 25वां
  - 3. 24वां
  - 4. 20वां

Question ID : 264330116694

Status : Answered

Chosen Option : 1

Q.9 आरव और दुर्गा मिलकर एक काम को 33 दिनों में कर सकते हैं। उन्होंने 15 दिनों तक एक साथ काम किया और फिर आरव ने काम छोड़ दिया और शेष काम को दुर्गा ने अकेले 30 दिनों में पूरा किया। आरव अकेले कितने दिनों में कुल काम कर सकता है।

- Ans
- 1. 145/2 दिन
  - 2. 165/2 दिन
  - 3. 135/2 दिन
  - 4. 155/2 दिन

Question ID : 264330116876

Status : Answered

Chosen Option : 2

Q.10 5000 रुपए पर अंकित मूल्य के एक दर्जन पतलून के जोड़े पर 16 प्रतिशत की छूट है। 2100 रुपए में कितने जोड़ी पतलून खरीदे जा सकते हैं ?

- Ans
- 1. 7
  - 2. 6
  - 3. 4
  - 4. 5

Question ID : 264330116761

Status : Answered

Chosen Option : 2

Q.11 एक निश्चित धनराशि 3 तिमाहियों के बाद मिश्रधन Rs.13,310 हो जाएगी। यदि ब्याज की दर 40% वार्षिक है और ब्याज तिमाही रूप से चक्रवृद्धि किया जाता है, तो वर्तमान धनराशि (Rs. में) ज्ञात कीजिए।

- Ans
- 1. 10000
  - 2. 13000
  - 3. 11000
  - 4. 9000

Question ID : 26433071332

Status : Answered

Chosen Option : 1

Q.12 आकाश अपने घर से स्कूल तक की दूरी अपनी साइकिल से तीन बराबर भागों में क्रमशः 5 km/h, 10 km/h और 15 km/h की चाल से तय करता है। अपने घर से स्कूल तक जाने में आकाश की औसत चाल क्या है?

- Ans
- 1.  $9\frac{1}{11}$  km/h
  - 2. 10 km/h
  - 3. 11 km/h
  - 4.  $8\frac{2}{11}$  km/h

Question ID : 26433080376

Status : Answered

Chosen Option : 1



Q.13 12 महिलाएँ और 16 पुरुष एक काम को 11 दिनों में कर सकते हैं। यदि प्रत्येक महिला उस कार्य को करने के लिए एक पुरुष द्वारा लिए गए समय का दोगुना समय लेती है, तो 16 पुरुष उसी कार्य को कितने दिनों में करेंगे?

- Ans
- ✓ 1.  $\frac{121}{8}$  दिन
  - ✗ 2.  $\frac{115}{8}$  दिन
  - ✗ 3.  $\frac{117}{8}$  दिन
  - ✗ 4.  $\frac{125}{8}$  दिन

Question ID : 26433075120

Status : Answered

Chosen Option : 1

Q.14 एक संख्या को 200 से घटाकर 150 कर दिया गया है। कमी प्रतिशत ज्ञात कीजिए।

- Ans
- ✗ 1. 51%
  - ✗ 2. 43%
  - ✓ 3. 25%
  - ✗ 4. 32%

Question ID : 26433080005

Status : Answered

Chosen Option : 3

Q.15 एक वस्तु का विक्रय मूल्य उसके क्रय मूल्य का  $\frac{4}{3}$  गुना है। लाभ प्रतिशत ज्ञात कीजिए।

- Ans
- ✗ 1.  $32\frac{1}{2}\%$
  - ✗ 2.  $32\frac{1}{3}\%$
  - ✗ 3.  $33\frac{2}{3}\%$
  - ✓ 4.  $33\frac{1}{3}\%$

Question ID : 26433075146

Status : Answered

Chosen Option : 4

Q.16 दिए गए युग्मों में से कौन-सा युग्म असहभाज्य संख्या युग्म बनाता है?

- Ans  1. (36 , 15)  
 2. (9 , 63)  
 3. (21 , 42)  
 4. (11 , 21)

Question ID : 26433082359

Status : Answered

Chosen Option : 4

Q.17 दो एथलीट A और B, एक ही आरंभिक बिंदु से 1800 m लंबाई के एक गोलाकार ट्रैक पर एक ही समय पर क्रमशः 9 m/s और 6 m/s की चाल से दौड़ना शुरू करते हैं। विपरीत दिशाओं में दौड़ते हुए वे कितने अलग-अलग बिंदुओं पर मिलेंगे?

- Ans  1. 5  
 2. 1  
 3. 15  
 4. 3

Question ID : 26433063241

Status : Answered

Chosen Option : 2

Q.18 एक पंखे का अंकित मूल्य उसके क्रय मूल्य से 25% अधिक है। यदि अंकित मूल्य पर 12% की छूट दी जाती है, तो लाभ प्रतिशत ज्ञात करें।

- Ans  1. 10%  
 2. 7%  
 3. 8%  
 4. 9%

Question ID : 26433075468

Status : Answered

Chosen Option : 1

Q.19 एक बेलन का व्यास 14 cm है और इसका वक्र पृष्ठीय क्षेत्रफल  $220 \text{ cm}^2$  है। बेलन का आयतन \_\_\_\_\_ है।

- Ans  1.  $670 \text{ cm}^3$   
 2.  $620 \text{ cm}^3$   
 3.  $707 \text{ cm}^3$   
 4.  $770 \text{ cm}^3$

Question ID : 26433075897

Status : Answered

Chosen Option : 4

Q.20 दो संख्याओं का गुणनफल 6750 है और उनका लघुतम समापवर्त्य 450 है। यदि संख्याओं के बीच का अंतर उनके महत्तम समापवर्तक के बराबर है, तो छोटी संख्या ज्ञात करें।

- Ans
- 1. 90
  - 2. 150
  - 3. 75
  - 4. 120

Question ID : 264330116666  
Status : Answered  
Chosen Option : 3

Section : Part-D-English

Q.1 Select the most appropriate option to fill in the blanks and make the sentence meaningful.

My \_\_\_\_\_ gives me fresh coffee every \_\_\_\_\_.

- Ans
- 1. maid; morning
  - 2. made; mourning
  - 3. maid; mourning
  - 4. made; morning

Question ID : 26433092103  
Status : Answered  
Chosen Option : 1

Q.2 Select the most appropriate ANTONYM of the given word.

Eager

- Ans
- 1. Great
  - 2. Indifferent
  - 3. Sharp
  - 4. Greedy

Question ID : 26433072274  
Status : Answered  
Chosen Option : 2

Q.3 Select the option that expresses the given sentence in past perfect tense.

- A. The participants practised a lot for play.
- B. The participants had practised a lot for play.
- C. The participants had been practising a lot for play.
- D. The participants were practising a lot for play.

- Ans
- 1. D
  - 2. A
  - 3. C
  - 4. B

Question ID : 26433073516  
Status : Answered  
Chosen Option : 4

Q.4 Select the most appropriate meaning of the given idiom.

An axe to grind

- Ans  1. Personal and selfish reason  
 2. Extra effort for solving problems  
 3. To act justly  
 4. Handling sharp items

Question ID : 26433072435  
Status : Answered  
Chosen Option : 1

Q.5 Select the most appropriate meaning of the given idiom.

Get the picture

- Ans  1. To watch with own eyes  
 2. To control something  
 3. To buy something  
 4. To understand what's happening

Question ID : 26433084897  
Status : Answered  
Chosen Option : 4

Q.6 Select the most appropriate synonym of the given word.

Exciting

- Ans  1. Vengeful  
 2. Moral  
 3. Electrifying  
 4. Dreary

Question ID : 26433084889  
Status : Answered  
Chosen Option : 4

Q.7 Select the most appropriate option that can substitute the underlined segment in the given sentence. If there is no need to substitute it, select 'No substitution required'.

The fire fighters were able to put out the fire in the industrial unit.

- Ans  1. No substitution required  
 2. putting out  
 3. to put off  
 4. putting off

Question ID : 26433089754  
Status : Answered  
Chosen Option : 3

Q.8 Select the INCORRECTLY spelt word.

- Ans  1. Blinc  
 2. Spoil  
 3. Lapse  
 4. Argue

Question ID : 26433073496  
Status : Answered  
Chosen Option : 1

Q.9 Select the most appropriate option to fill in the blank.

Differences among the various groups do not \_\_\_\_\_ well for the future of the peace treaty.

- Ans  1. ogre  
 2. auger  
 3. augur  
 4. oar

Question ID : 26433090392  
Status : Answered  
Chosen Option : 1

Q.10 Select the INCORRECTLY spelt word.

- Ans  1. Kindergarten  
 2. Swindle  
 3. Grammar  
 4. Imaginery

Question ID : 26433073740  
Status : Answered  
Chosen Option : 4

Q.11 Select the most appropriate ANTONYM of the given word.  
Invincible

- Ans  1. Powerful  
 2. Secure  
 3. Safe  
 4. Vulnerable

Question ID : 26433086489  
Status : Answered  
Chosen Option : 4

Q.12 Select the most appropriate synonym of the given word.

Conquer

- Ans  1. Defeat  
 2. Separate  
 3. Surrender  
 4. Attach

Question ID : 26433072182  
Status : Answered  
Chosen Option : 4

Q.13 Select the most appropriate ANTONYM of the given word.

Freedom

- Ans  1. Courage  
 2. Starvation  
 3. Scarcity  
 4. Bondage

Question ID : 26433073798  
Status : Answered  
Chosen Option : 4

Q.14 Select the most appropriate option that can substitute the underlined segment in the given sentence.

I still enjoyed the week despite of the weather.

- Ans  1. despite with the weather  
 2. despite for the weather  
 3. despite to the weather  
 4. despite the weather

Question ID : 26433088168  
Status : Answered  
Chosen Option : 4

Q.15 Select the most appropriate option that can substitute the underlined segment in the given sentence. If there is no need to substitute it, select 'No substitution'.

The District Collector, Mr Kaushalendra Kumar, are visiting the site for inspection.

- Ans  1. are visiting site  
 2. is visiting the site  
 3. is visiting cite  
 4. No substitution

Question ID : 26433093079  
Status : Answered  
Chosen Option : 2

**Comprehension:**

In the following passage, some words have been deleted. Read the passage carefully and select the most appropriate option to fill in each blank.

Delhi National Zoological Park, which opened in 1959, is (1.) \_\_\_\_\_ next to the well-known Old Fort. One of the top zoos in the entire Asian continent, it stands out for its (2.) \_\_\_\_\_ to give the animals and the birds housed there a habitat that is as close to natural as possible. With a total area of 214 acres, it is perfect for picnics, (3.) \_\_\_\_\_ in the winter. The National Zoological Gardens in New Delhi are home to over 2,000 different animal and bird (4.) \_\_\_\_\_. These animals and birds, which originate from many areas such as Africa, America, Australia, etc., (5.) \_\_\_\_\_ a home at this zoo. The Mughal Kos Minar serves as the Delhi Zoo's entrance.

**SubQuestion No : 16**

**Q.16** Select the most appropriate option to fill in blank number 1.

- Ans
- 1. waited
  - 2. queued
  - 3. vacated
  - 4. located

Question ID : 26433089809

Status : Answered

Chosen Option : 4

**Comprehension:**

In the following passage, some words have been deleted. Read the passage carefully and select the most appropriate option to fill in each blank.

Delhi National Zoological Park, which opened in 1959, is (1.) \_\_\_\_\_ next to the well-known Old Fort. One of the top zoos in the entire Asian continent, it stands out for its (2.) \_\_\_\_\_ to give the animals and the birds housed there a habitat that is as close to natural as possible. With a total area of 214 acres, it is perfect for picnics, (3.) \_\_\_\_\_ in the winter. The National Zoological Gardens in New Delhi are home to over 2,000 different animal and bird (4.) \_\_\_\_\_. These animals and birds, which originate from many areas such as Africa, America, Australia, etc., (5.) \_\_\_\_\_ a home at this zoo. The Mughal Kos Minar serves as the Delhi Zoo's entrance.

**SubQuestion No : 17**

**Q.17** Select the most appropriate option to fill in blank number 2.

- Ans
- 1. efforts
  - 2. affects
  - 3. effects
  - 4. escalations

Question ID : 26433089810

Status : Answered

Chosen Option : 1

### Comprehension:

In the following passage, some words have been deleted. Read the passage carefully and select the most appropriate option to fill in each blank.

Delhi National Zoological Park, which opened in 1959, is (1.) \_\_\_\_\_ next to the well-known Old Fort. One of the top zoos in the entire Asian continent, it stands out for its (2.) \_\_\_\_\_ to give the animals and the birds housed there a habitat that is as close to natural as possible. With a total area of 214 acres, it is perfect for picnics, (3.) \_\_\_\_\_ in the winter. The National Zoological Gardens in New Delhi are home to over 2,000 different animal and bird (4.) \_\_\_\_\_. These animals and birds, which originate from many areas such as Africa, America, Australia, etc., (5.) \_\_\_\_\_ a home at this zoo. The Mughal Kos Minar serves as the Delhi Zoo's entrance.

#### SubQuestion No : 18

Q.18 Select the most appropriate option to fill in blank number 3.

Ans  1. especially

2. exactly

3. variably

4. explicitly

Question ID : 26433089811

Status : Answered

Chosen Option : 1

### Comprehension:

In the following passage, some words have been deleted. Read the passage carefully and select the most appropriate option to fill in each blank.

Delhi National Zoological Park, which opened in 1959, is (1.) \_\_\_\_\_ next to the well-known Old Fort. One of the top zoos in the entire Asian continent, it stands out for its (2.) \_\_\_\_\_ to give the animals and the birds housed there a habitat that is as close to natural as possible. With a total area of 214 acres, it is perfect for picnics, (3.) \_\_\_\_\_ in the winter. The National Zoological Gardens in New Delhi are home to over 2,000 different animal and bird (4.) \_\_\_\_\_. These animals and birds, which originate from many areas such as Africa, America, Australia, etc., (5.) \_\_\_\_\_ a home at this zoo. The Mughal Kos Minar serves as the Delhi Zoo's entrance.

#### SubQuestion No : 19

Q.19 Select the most appropriate option to fill in blank number 4.

Ans  1. beings

2. species

3. varieties

4. kingdoms

Question ID : 26433089812

Status : Answered

Chosen Option : 2



### Comprehension:

In the following passage, some words have been deleted. Read the passage carefully and select the most appropriate option to fill in each blank.

Delhi National Zoological Park, which opened in 1959, is (1.) \_\_\_\_\_ next to the well-known Old Fort. One of the top zoos in the entire Asian continent, it stands out for its (2.) \_\_\_\_\_ to give the animals and the birds housed there a habitat that is as close to natural as possible. With a total area of 214 acres, it is perfect for picnics, (3.) \_\_\_\_\_ in the winter. The National Zoological Gardens in New Delhi are home to over 2,000 different animal and bird (4.) \_\_\_\_\_. These animals and birds, which originate from many areas such as Africa, America, Australia, etc., (5.) \_\_\_\_\_ a home at this zoo. The Mughal Kos Minar serves as the Delhi Zoo's entrance.

### SubQuestion No : 20

Q.20 Select the most appropriate option to fill in blank number 5.

- Ans
- 1. finds
  - 2. find
  - 3. finding
  - 4. found

Question ID : 26433089813

Status : Answered

Chosen Option : 2

### Section : Part-D-Hindi

Q.1 निम्नलिखित विकल्पों में से किस एक वाक्य में संख्यावाचक विशेषण का उचित प्रयोग नहीं किया गया है?

- Ans
- 1. छत पर चार सफ़ेद कबूतर हैं।
  - 2. भव्या का स्वभाव अच्छा है।
  - 3. कक्षा में चार छात्र पढ़ते हैं।
  - 4. कुछ खिलाड़ी बहुत अच्छा खेले।

Question ID : 26433091237

Status : Not Answered

Chosen Option : --

Q.2 'भारत देश में इन्दोर स्वच्छता की सूची में प्रथम स्थान पर है।' वाक्य में अशुद्ध वर्तनी वाला शब्द है -

- Ans
- 1. स्वच्छता
  - 2. इन्दोर
  - 3. प्रथम
  - 4. भारत

Question ID : 26433069700

Status : Not Answered

Chosen Option : --

Q.3 निम्नलिखित मुहावरे का उचित अर्थ विकल्पों में से चुनिए।  
नाक रगड़ना

- Ans
- 1. क्रोधित होना
  - 2. परेशान करना
  - 3. दीनता पूर्वक प्रार्थना करना
  - 4. तंग करना

Question ID : 26433069998

Status : Not Answered

Chosen Option : --

Q.4 'राजनीतिज्ञों एवं राजदूतों की नीति संबंधी कला' वाक्यांश के लिए इनमें से उपयुक्त शब्द कौन-सा है?

- Ans
- 1. राजनीति
  - 2. कूटनीति
  - 3. गृहनीति
  - 4. अर्थनीति

Question ID : 26433066887

Status : Not Answered

Chosen Option : --

Q.5 'साहित्यानुरागी \_\_\_\_\_।' उपर्युक्त वाक्य में रिक्त स्थान के लिए उपयुक्त विकल्प निम्न में से क्या होगा?

- Ans
- 1. से तात्पर्य है साहित्य प्रेमी
  - 2. से साहित्य प्रेमी तात्पर्य है
  - 3. का प्रेमी तात्पर्य साहित्य है
  - 4. का तात्पर्य प्रेमी साहित्य है

Question ID : 26433067036

Status : Not Answered

Chosen Option : --

Q.6 सभ्य व्यक्ति किसी का अपमान नहीं करते हैं। उपरोक्त वाक्य में रेखांकित शब्द के विलोम शब्द का चयन कीजिए।

- Ans
- 1. भद्र
  - 2. शील
  - 3. शालीन
  - 4. असभ्य

Question ID : 26433079644

Status : Not Answered

Chosen Option : --

Q.7 निम्नलिखित में से कौन सा संबोधन कारक चिह्न है?

- Ans
- 1. हो
  - 2. से
  - 3. अरे
  - 4. ने

Question ID : 26433085032

Status : Not Answered

Chosen Option : --

Q.8 युद्ध की इच्छा रखने वाला युवराज कहलाता है।  
उपरोक्त वाक्य में रेखांकित पद के स्थान पर आने वाले सही शब्द का चयन विकल्पों में से कीजिए।

- Ans
- 1. राजनीतिज्ञ
  - 2. यायावर
  - 3. यशस्वी
  - 4. युयुत्सु

Question ID : 26433063060

Status : Not Answered

Chosen Option : --

Q.9 'अकस्मात्' शब्द के लिए इनमें से उपयुक्त पर्यायवाची शब्द कौन-सा है?

- Ans
- 1. अचानक
  - 2. अदृश्य
  - 3. अभंज
  - 4. अनिवार्य

Question ID : 26433066894

Status : Not Answered

Chosen Option : --

Q.10 रेखांकित शब्द-समूह के लिए सर्वाधिक उपयुक्त विकल्प चुनें।  
जिसमें चेतना न हो, उसकी दशा को नहीं सुधारा जा सकता।

- Ans
- 1. मूर्ख
  - 2. अवचेतन
  - 3. अचेतन
  - 4. बेहोश

Question ID : 26433062282

Status : Not Answered

Chosen Option : --

Q.11 निम्नलिखित वाक्य के किस शब्द में वर्तनीगत अशुद्धि है?  
भगवान शिव का निवास स्थान केलाश है।

- Ans
- 1. निवास
  - 2. केलाश
  - 3. शिव
  - 4. भगवान

Question ID : 26433066822  
Status : Not Answered  
Chosen Option : --

Q.12 निम्नलिखित मुहावरे के लिय उपयुक्त सार्थक शब्द है-  
गूलर का फूल होना

- Ans
- 1. बहुत सुंदर होना
  - 2. क्रोध करना
  - 3. दुर्लभ होना
  - 4. बहुत ज्यादा परेशान होना

Question ID : 26433065778  
Status : Not Answered  
Chosen Option : --

Q.13 गर्मियों में गर्म हवा चलती है।  
उपरोक्त वाक्य में रेखांकित शब्द के उचित पर्यायवाची शब्द का चयन कीजिए।

- Ans
- 1. सर
  - 2. वासव
  - 3. गजराज
  - 4. बयार

Question ID : 26433079621  
Status : Not Answered  
Chosen Option : --

Q.14 जिसके सभी दाँत झड़ चुके हों।

दिए गए वाक्यांश के लिए एक शब्द होगा-

- Ans
- 1. पोपला
  - 2. खल्वाट
  - 3. बूढ़ा
  - 4. खोखला

Question ID : 26433070059  
Status : Not Answered  
Chosen Option : --

Q.15 'राधा जब घर पहुँची तो दिवस खत्म हो चला था।' वाक्य में प्रयुक्त 'दिवस' का विलोम शब्द नहीं है-

- Ans
- 1. निशा
  - 2. रजनी
  - 3. अवनि
  - 4. रात्रि

Question ID : 26433069747

Status : Not Answered

Chosen Option : --

**Comprehension:**

निम्न गद्यावतरण में से कुछ शब्दों को हटा दिया गया है। गद्यावतरण के आधार पर पूछे गए प्रश्नों में इन रिक्त स्थानों के लिए उपयुक्त शब्दों का चयन विकल्पों में से कीजिए।

आवश्यकता इस बात की है कि हमारी शिक्षा का माध्यम 1. \_\_\_\_\_ भाषा हो, जिसमें राष्ट्र के हृदय-मन-प्राण के सूक्ष्मतम और गंभीरतम संवेदन मुखरित हों और हमारा पाठ्यक्रम यूरोप तथा अमेरिका के पाठ्यक्रम पर 2. \_\_\_\_\_ न होकर हमारी अपनी सांस्कृतिक परम्पराओं एवं आवश्यकताओं का प्रतिनिधित्व करे। भारतीय भाषाओं, भारतीय 3. \_\_\_\_\_ भारतीय दर्शन, भारतीय धर्म और भारतीय समाजशास्त्र को हम सर्वोपरि स्थान दें। उन्हें अपने शिक्षाक्रम में गौण स्थान देकर या शिक्षित जन को उनसे वंचित रखकर हमने राष्ट्रीय संस्कृति में एक महान रिक्ति को जन्म दिया है, जो नई 4. \_\_\_\_\_ को भीतर से खोखला कर रहा है। हम राष्ट्रीय 5. \_\_\_\_\_ से ही नहीं, सामयिक जीवन प्रवाह से भी दूर जा पड़े हैं।

**SubQuestion No : 16**

Q.16 रिक्त स्थान 1 के लिए सर्वाधिक उपयुक्त शब्द इनमें से क्या होगा?

- Ans
- 1. विदेशी
  - 2. अंग्रेजी
  - 3. भारतीय
  - 4. अरबी

Question ID : 26433072594

Status : Not Answered

Chosen Option : --

**Comprehension:**

निम्न गद्यावतरण में से कुछ शब्दों को हटा दिया गया है। गद्यावतरण के आधार पर पूछे गए प्रश्नों में इन रिक्त स्थानों के लिए उपयुक्त शब्दों का चयन विकल्पों में से कीजिए।

आवश्यकता इस बात की है कि हमारी शिक्षा का माध्यम 1. \_\_\_\_\_ भाषा हो, जिसमें राष्ट्र के हृदय-मन-प्राण के सूक्ष्मतम और गंभीरतम संवेदन मुखरित हों और हमारा पाठ्यक्रम यूरोप तथा अमेरिका के पाठ्यक्रम पर 2. \_\_\_\_\_ न होकर हमारी अपनी सांस्कृतिक परम्पराओं एवं आवश्यकताओं का प्रतिनिधित्व करे। भारतीय भाषाओं, भारतीय 3. \_\_\_\_\_ भारतीय दर्शन, भारतीय धर्म और भारतीय समाजशास्त्र को हम सर्वोपरि स्थान दें। उन्हें अपने शिक्षाक्रम में गौण स्थान देकर या शिक्षित जन को उनसे वंचित रखकर हमने राष्ट्रीय संस्कृति में एक महान रिक्ति को जन्म दिया है, जो नई 4. \_\_\_\_\_ को भीतर से खोखला कर रहा है। हम राष्ट्रीय 5. \_\_\_\_\_ से ही नहीं, सामयिक जीवन प्रवाह से भी दूर जा पड़े हैं।

**SubQuestion No : 17**

Q.17 रिक्त स्थान 2 के लिए सर्वाधिक उपयुक्त शब्द इनमें से क्या होगा?

- Ans
- 1. नकल
  - 2. निर्धारित
  - 3. जैसा
  - 4. आधारित

Question ID : 26433072595

Status : Not Answered

Chosen Option : --

**Comprehension:**

निम्न गद्यावतरण में से कुछ शब्दों को हटा दिया गया है। गद्यावतरण के आधार पर पूछे गए प्रश्नों में इन रिक्त स्थानों के लिए उपयुक्त शब्दों का चयन विकल्पों में से कीजिए।

आवश्यकता इस बात की है कि हमारी शिक्षा का माध्यम 1. \_\_\_\_\_ भाषा हो, जिसमें राष्ट्र के हृदय-मन-प्राण के सूक्ष्मतम और गंभीरतम संवेदन मुखरित हों और हमारा पाठ्यक्रम यूरोप तथा अमेरिका के पाठ्यक्रम पर 2. \_\_\_\_\_ न होकर हमारी अपनी सांस्कृतिक परम्पराओं एवं आवश्यकताओं का प्रतिनिधित्व करे। भारतीय भाषाओं, भारतीय 3. \_\_\_\_\_ भारतीय दर्शन, भारतीय धर्म और भारतीय समाजशास्त्र को हम सर्वोपरि स्थान दें। उन्हें अपने शिक्षाक्रम में गौण स्थान देकर या शिक्षित जन को उनसे वंचित रखकर हमने राष्ट्रीय संस्कृति में एक महान रिक्ति को जन्म दिया है, जो नई 4. \_\_\_\_\_ को भीतर से खोखला कर रहा है। हम राष्ट्रीय 5. \_\_\_\_\_ से ही नहीं, सामयिक जीवन प्रवाह से भी दूर जा पड़े हैं।

**SubQuestion No : 18**

Q.18 रिक्त स्थान 3 के लिए सर्वाधिक उपयुक्त शब्द इनमें से क्या होगा?

- Ans  1. इतिहास  
 2. हिन्दी  
 3. उर्दू  
 4. अंग्रेजी

Question ID : 26433072596

Status : Not Answered

Chosen Option : --

**Comprehension:**

निम्न गद्यावतरण में से कुछ शब्दों को हटा दिया गया है। गद्यावतरण के आधार पर पूछे गए प्रश्नों में इन रिक्त स्थानों के लिए उपयुक्त शब्दों का चयन विकल्पों में से कीजिए।

आवश्यकता इस बात की है कि हमारी शिक्षा का माध्यम 1. \_\_\_\_\_ भाषा हो, जिसमें राष्ट्र के हृदय-मन-प्राण के सूक्ष्मतम और गंभीरतम संवेदन मुखरित हों और हमारा पाठ्यक्रम यूरोप तथा अमेरिका के पाठ्यक्रम पर 2. \_\_\_\_\_ न होकर हमारी अपनी सांस्कृतिक परम्पराओं एवं आवश्यकताओं का प्रतिनिधित्व करे। भारतीय भाषाओं, भारतीय 3. \_\_\_\_\_ भारतीय दर्शन, भारतीय धर्म और भारतीय समाजशास्त्र को हम सर्वोपरि स्थान दें। उन्हें अपने शिक्षाक्रम में गौण स्थान देकर या शिक्षित जन को उनसे वंचित रखकर हमने राष्ट्रीय संस्कृति में एक महान रिक्ति को जन्म दिया है, जो नई 4. \_\_\_\_\_ को भीतर से खोखला कर रहा है। हम राष्ट्रीय 5. \_\_\_\_\_ से ही नहीं, सामयिक जीवन प्रवाह से भी दूर जा पड़े हैं।

**SubQuestion No : 19**

Q.19 रिक्त स्थान 4 के लिए सर्वाधिक उपयुक्त शब्द इनमें से क्या होगा?

- Ans  1. पीढ़ी  
 2. युवा  
 3. सेना  
 4. आदमी

Question ID : 26433072597

Status : Not Answered

Chosen Option : --

### Comprehension:

निम्न गद्यावतरण में से कुछ शब्दों को हटा दिया गया है। गद्यावतरण के आधार पर पूछे गए प्रश्नों में इन रिक्त स्थानों के लिए उपयुक्त शब्दों का चयन विकल्पों में से कीजिए।

आवश्यकता इस बात की है कि हमारी शिक्षा का माध्यम 1. \_\_\_\_\_ भाषा हो, जिसमें राष्ट्र के हृदय-मन-प्राण के सूक्ष्मतम और गंभीरतम संवेदन मुखरित हों और हमारा पाठ्यक्रम यूरोप तथा अमेरिका के पाठ्यक्रम पर 2. \_\_\_\_\_ न होकर हमारी अपनी सांस्कृतिक परम्पराओं एवं आवश्यकताओं का प्रतिनिधित्व करे। भारतीय भाषाओं, भारतीय 3. \_\_\_\_\_ भारतीय दर्शन, भारतीय धर्म और भारतीय समाजशास्त्र को हम सर्वोपरि स्थान दें। उन्हें अपने शिक्षाक्रम में गौण स्थान देकर या शिक्षित जन को उनसे वंचित रखकर हमने राष्ट्रीय संस्कृति में एक महान रिक्ति को जन्म दिया है, जो नई 4. \_\_\_\_\_ को भीतर से खोखला कर रहा है। हम राष्ट्रीय 5. \_\_\_\_\_ से ही नहीं, सामयिक जीवन प्रवाह से भी दूर जा पड़े हैं।

### SubQuestion No : 20

Q.20 रिक्त स्थान 5 के लिए सर्वाधिक उपयुक्त शब्द इनमें से क्या होगा?

Ans  1. परम्परा

2. रूढ़ि

3. नियम

4. रीति

Question ID : 26433072598

Status : Not Answered

Chosen Option : --

WWW.GOVtJOBSALEXIN