

# Constable GD in CAPFs SSF Rifleman GD in Assam Rifles and Sepoy in NCB Examination 2022

Roll Number	<a href="http://www.govtjobsalert.in">www.govtjobsalert.in</a>
Candidate Name	<a href="http://www.govtjobsalert.in">www.govtjobsalert.in</a>
Venue Name	IPS Digital Centre
Exam Date	13/02/2023
Exam Time	5:15 PM - 6:15 PM
Subject	Constable GD Examination 2022

## Section : Part-A-General Intelligence and Reasoning

Q.1 निम्नलिखित में से कौन-सा पद दी गई श्रृंखला में प्रश्न-चिह्न (?) के स्थान पर आएगा?  
EPJY, GNKX, ILLW, ?, MHNU

- Ans
- 1. LJMU
  - 2. KJMV
  - 3. LJNU
  - 4. KKNV

Question ID : 26433069444  
Status : Answered  
Chosen Option : 2

Q.2 एक निश्चित कूट भाषा में, 'SUBTLE' को '40CUMF' के रूप में लिखा जाता है, 'HANGER' को '9OHFS' के रूप में लिखा जाता है, उसी भाषा में 'CLOTH' को कैसे लिखा जाएगा?

- Ans
- 1. 15PUI
  - 2. 15OTH
  - 3. 17OTH
  - 4. 17PUI

Question ID : 26433069649  
Status : Answered  
Chosen Option : 1

Q.3 उस विकल्प का चयन कीजिए जो तीसरे शब्द से उसी प्रकार संबंधित है जिस प्रकार दूसरा शब्द पहले शब्द से संबंधित है। (शब्दों को अर्थपूर्ण शब्दों के रूप में मानना है और उन्हें शब्द में अक्षरों/व्यंजनों/स्वरों की संख्या के आधार पर एक-दूसरे से संबंधित नहीं करना है।)  
पहिया : कार्ट :: निब : ?

- Ans
- 1. लिखना
  - 2. कलम
  - 3. तकिया
  - 4. कागज

Question ID : 26433067971  
Status : Answered  
Chosen Option : 2

Q.4 निम्नलिखित में से कौन-सी संख्या दी गई श्रंखला में प्रश्न-चिह्न (?) के स्थान पर आकर उसे पूर्ण करेगी?  
14, 16, 21, 32, 49, 72, ?

Ans  1. 103

2. 98

3. 105

4. 101

Question ID : 26433069596

Status : Answered

Chosen Option : 4

Q.5 उस विकल्प का चयन कीजिए जो तीसरे शब्द से उसी प्रकार संबंधित है जिस प्रकार दूसरा शब्द पहले शब्द से संबंधित है। (शब्दों को अर्थपूर्ण शब्दों के रूप में मानना है और उन्हें शब्द में अक्षरों/व्यंजनों/स्वरों की संख्या के आधार पर एक-दूसरे से संबंधित नहीं करना है।)  
भारत : नई दिल्ली :: ऑस्ट्रेलिया : ?

Ans  1. पर्थ

2. कैनबरा

3. मेलबर्न

4. सिडनी

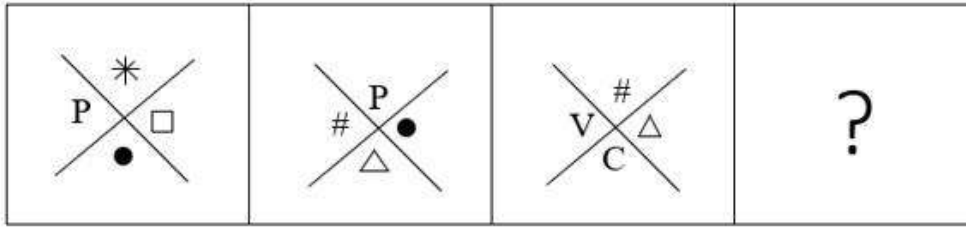
Question ID : 26433079473

Status : Answered

Chosen Option : 4

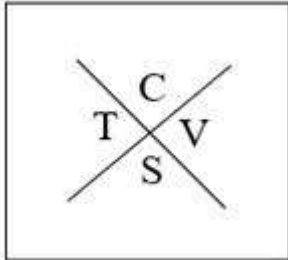
www.govtjobsalert.in

Q.6 दिए गए विकल्पों में से उस आकृति का चयन करें जो निम्न श्रृंखला में प्रश्नवाचक चिन्ह (?) के स्थान पर आ सकती है।



Ans

✗ 1.




✓ 2.



✗ 3.



✗ 4.



Question ID : 26433080759

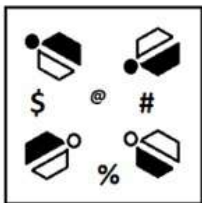
Status : Answered

Chosen Option : 2

Q.7 दर्पण को दाईं ओर रखे जाने पर, निम्नलिखित में से कौन-सी आकृति दी गई प्रश्न आकृति

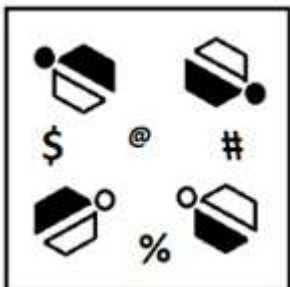
का सटीक दर्पण प्रतिबिम्ब होगी?

प्रश्न आकृति:

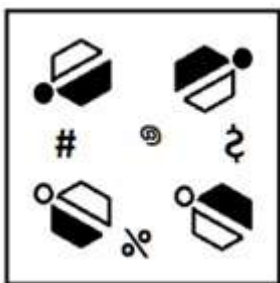


Ans

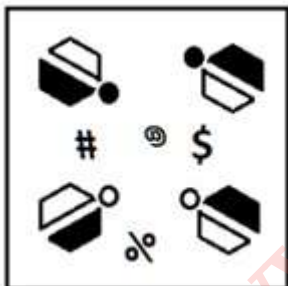
✗ 1.



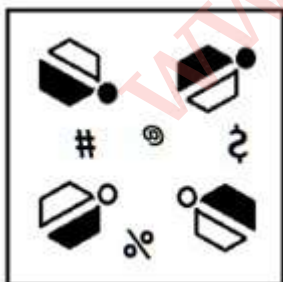
✗ 2.



✗ 3.



✓ 4.

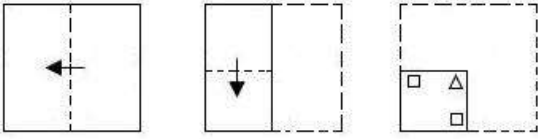


Question ID : 26433087092

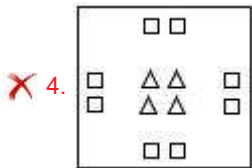
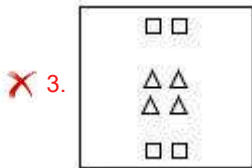
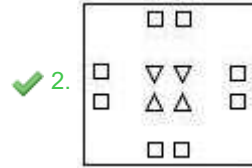
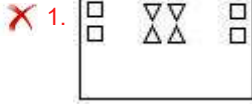
Status : Answered

Chosen Option : 2

Q.8 एक कागज को नीचे दर्शाए गए अनुसार मोड़ा और काटा जाता है। खोले जाने पर यह कैसा दिखाई देगा?



Ans



Question ID : 26433090089

Status : Answered

Chosen Option : 2

Q.9 दिए गए समीकरण को संतुलित करने के लिए इसमें किन दो संख्याओं(अंको को नहीं) और किन दो चिह्नों को आपस में बदला जाना चाहिए?  
 $18 \div 3 - 30 + 15 \times 2 = -1$

Ans ✓ 1. 18 और 15; + और -

✗ 2. 15 और 3; + और -

✗ 3. 3 और 30; × और +

✗ 4. 2 और 18; + और ×

Question ID : 26433092746

Status : Answered

Chosen Option : 1

Q.10 उस विकल्प का चयन करें, जो पाँचवीं संख्या से उसी प्रकार संबंधित है, जिस प्रकार दूसरी संख्या, पहली संख्या से संबंधित है और चौथी संख्या, तीसरी संख्या से संबंधित है।  
2 : 2 :: 4 : 8 :: 8 : ?

Ans  1. 32

2. 34

3. 20

4. 16

Question ID : 26433069431

Status : Answered

Chosen Option : 1

Q.11 उस विकल्प का चयन कीजिए जो नीचे दिए गए शब्दों के उस क्रम को निरूपित करता है जिस क्रम में वे अंग्रेजी शब्दकोश में आते हैं।

1. SPINY
2. SPINE
3. SPINACH
4. SPINNEY
5. SPIRIT
6. SPIKE

Ans  1. 3, 4, 5, 1, 2, 6

2. 2, 5, 3, 4, 6, 1

3. 6, 2, 5, 1, 4, 3

4. 6, 3, 2, 4, 1, 5

Question ID : 26433079379

Status : Answered

Chosen Option : 4

Q.12 एक निश्चित कूट भाषा में, 'DRIVER' को 'JSETGX' के रूप में लिखा जाता है और 'DURING' को 'SVEIPK' के रूप में लिखा जाता है। उसी भाषा में 'DOLLAR' को किस प्रकार लिखा जाएगा?

Ans  1. LODRAL

2. MPERAL

3. RALLOD

4. MPETCN

Question ID : 26433090042

Status : Answered

Chosen Option : 4

Q.13 छः विद्यार्थी - लवली, जॉनसन, विल, मैरी, सामंथा और जोएल एक वृत्ताकार मेज के परितः मेज के केंद्र की ओर मुख करके बैठे हैं। लवली, जॉनसन के बाईं ओर दूसरे स्थान पर बैठी है। विल, जॉनसन के दाईं ओर दूसरे स्थान पर बैठा है। सामंथा, विल के बाईं ओर तीसरे स्थान पर बैठी है। जोएल, जॉनसन के दाईं ओर तीसरे स्थान पर बैठा है। मैरी, विल और जॉनसन के ठीक बगल में है। लवली और जॉनसन के बीच में कौन बैठा/बैठी है?

- Ans
- 1. मैरी
  - 2. जोएल
  - 3. सामंथा
  - 4. विल

Question ID : 26433081783

Status : Answered

Chosen Option : 3

Q.14 निम्नलिखित में से कौन-सी संख्या दी गई श्रृंखला में प्रश्न चिह्न (?) के स्थान पर आएगी?  
3, 9, 21, 45, ?

- Ans
- 1. 134
  - 2. 178
  - 3. 156
  - 4. 93

Question ID : 26433082735

Status : Answered

Chosen Option : 4

Q.15

निम्नलिखित विकल्पों में से उस आकृति का चयन करें जिसमें नीचे दी गई

आकृति (X) निहित है (आकृति को घुमाने की अनुमति नहीं है)।



(X)

Ans

✗ 1.



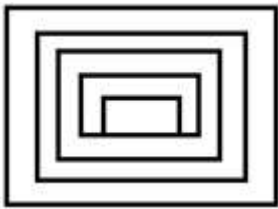
✗ 2.



✓ 3.



✗ 4.



Question ID : 26433069536

Status : Answered

Chosen Option : 3



Q.16 तीन कथन दिए गए हैं, जिनके बाद तीन निष्कर्ष I, II और III दिए गए हैं। कथनों को सत्य मानते हुए, भले ही वे सामान्य रूप से ज्ञात तथ्यों से भिन्न प्रतीत होते हों, निर्धारित करें कि कौन-सा/से निष्कर्ष कथनों का तार्किक रूप से अनुसरण करता है/करते हैं।

कथन:

कोई पेन बॉक्स नहीं है।

कुछ पेन खड़िया हैं।

सभी खड़िया इरेज़र हैं।

निष्कर्ष:

I. कुछ इरेज़र पेन हैं।

II. कुछ खड़िया बॉक्स नहीं हैं।

III. कुछ बॉक्स इरेज़र नहीं हैं।

Ans  1. केवल निष्कर्ष II और III अनुसरण करते हैं

2. केवल निष्कर्ष I और II अनुसरण करते हैं

3. केवल निष्कर्ष III अनुसरण करता है

4. सभी निष्कर्ष अनुसरण करते हैं

Question ID : 26433090991

Status : Not Answered

Chosen Option : --

Q.17 एक निश्चित कूट भाषा में,  
'A + B' का अर्थ है कि 'A, B की माता है',  
'A - B' का अर्थ है कि 'A, B का पिता है',  
'A x B' का अर्थ है कि 'A, B का भाई है' और  
'A & B' का अर्थ है कि 'A, B की बहन है'।  
यदि  $N - D \times P + Q \& C$  है, तो Q का N से क्या संबंध है?

Ans  1. बेटी

2. बहन

3. भांजी

4. नातिन

Question ID : 26433070371

Status : Answered

Chosen Option : 4

Q.18 नौ विद्यार्थी - A, B, C, D, E, F, G, H और Z एक पंक्ति में बैठे हैं, लेकिन उनका इसी क्रम में होना अनिवार्य नहीं है। D, C के बाईं ओर ठीक बगल में बैठा है, जो E के दाईं ओर तीसरे स्थान पर है। B पंक्ति के एक सिरे पर बैठा है। H, F और G दोनों के ठीक बगल में बैठा है। F, B के बाईं ओर तीसरे स्थान पर है। A, F के बाईं ओर ठीक बगल में बैठा है। ये सभी नौ विद्यार्थी उत्तर दिशा की ओर मुख करके बैठे हैं, तो D और A के बीच में कौन बैठा है?

Ans  1. C

2. H

3. F

4. Z

Question ID : 26433079057

Status : Answered

Chosen Option : 1

Q.19 नीचे दिए गए समीकरण को गणितीय रूप से सही बनाने के लिए किन दो चिन्हों को परस्पर बदलना चाहिए?

$$24 \times 12 - 6 \div 40 + 20 = 28$$

- Ans
- 1. - और +
  - 2. ÷ और -
  - 3. + और ×
  - 4. + और ÷

Question ID : 264330117524

Status : Answered

Chosen Option : 2

Q.20 दिए गए विकल्पों में से उस अक्षर-समूह का चयन कीजिए जो निम्न श्रृंखला में प्रश्न-चिह्न (?) के स्थान पर आ सकता है।

HLPE, DHXM, ZDFU, ? , RVVK

- Ans
- 1. FBIR
  - 2. VZNC
  - 3. FPED
  - 4. VQHO

Question ID : 26433074752

Status : Answered

Chosen Option : 2

Section : Part-B-General Knowledge and General awareness

Q.1 Fundamental Duties of the Indian Constitution are adopted from which country?

- Ans
- 1. United States of America
  - 2. Germany
  - 3. USSR (Now Russia)
  - 4. Britain

Question ID : 264330115629

Status : Answered

Chosen Option : 3

Q.2 किस शहर की स्मार्ट सिटी बस परियोजना ने शहरी गतिशीलता (अर्बन मोबिलिटी) श्रेणी में इंडिया स्मार्ट सिटीज अवार्ड (ISAC) 2020 जीता है।

- Ans
- 1. औरंगाबाद
  - 2. इंदौर
  - 3. पुणे
  - 4. आगरा

Question ID : 264330115558

Status : Not Answered

Chosen Option : --

Q.3 हरित क्रांति ने खाद्य फसलों की उपज में वृद्धि की, और इस प्रकार भारतीय अर्थव्यवस्था में \_\_\_\_\_ योगदान दिया।

- Ans
- 1. निष्क्रिय
  - 2. प्रतिकूल
  - 3. सकारात्मक
  - 4. नकारात्मक

Question ID : 264330115424  
Status : Answered  
Chosen Option : 3

Q.4 भारत ने पुरुष हॉकी विश्व कप कितनी बार जीता है?

- Ans
- 1. 1
  - 2. 0
  - 3. 2
  - 4. 4

Question ID : 264330116305  
Status : Answered  
Chosen Option : 4

Q.5 हॉकी मैदान का आयाम \_\_\_\_\_ होता है।

- Ans
- 1. 90 m लंबा और 50 m चौड़ा
  - 2. 96 m लंबा और 55 m चौड़ा
  - 3. 91.4 m लंबा और 55 m चौड़ा
  - 4. 95 m लंबा और 60 m चौड़ा

Question ID : 264330115948  
Status : Not Answered  
Chosen Option : --

Q.6 निम्नलिखित में से कौन छऊ नृत्य से संबंधित है?

- Ans
- 1. गोपाल प्रसाद दुबे
  - 2. विदुषी केएस जयलक्ष्मी
  - 3. महबूब सुभानी
  - 4. सुचित्रा एला

Question ID : 264330115888  
Status : Not Answered  
Chosen Option : --

Q.7 फरवरी 2022 में चुनाव के बाद उत्तराखंड के नए मुख्यमंत्री कौन बने?

- Ans
- 1. प्रमोद सावंत
  - 2. जय राम ठाकुर
  - 3. पुष्कर सिंह धामी
  - 4. भूपेंद्र रजनीकांत पटेल

Question ID : 264330115014

Status : Answered

Chosen Option : 3

Q.8 सातवाहन \_\_\_\_\_ भारत में एक शक्तिशाली राजवंश थे।

- Ans
- 1. पूर्वी
  - 2. पश्चिम
  - 3. उत्तरी
  - 4. दक्षिण

Question ID : 264330115464

Status : Not Answered

Chosen Option : --

Q.9 हरित क्रांति से किन फसलों को अधिक लाभ हुआ?

- Ans
- 1. खाद्यान्न
  - 2. दलहन
  - 3. तिलहन
  - 4. वानस्पतिक

Question ID : 26433054631

Status : Answered

Chosen Option : 1

Q.10 उपभोक्ता संरक्षण अधिनियम 2019 के अनुसार, एक ई-कॉमर्स इकाई भारतीय कंपनी अधिनियम के अनुसार निगमित कंपनी है और यह अनुपालन सुनिश्चित करने के लिए एक \_\_\_\_\_ नियुक्त करेगी।

- Ans
- 1. अधीनस्थ
  - 2. सुलह अधिकारी
  - 3. कनिष्ठ कर्मचारी
  - 4. नोडल अधिकारी

Question ID : 264330116234

Status : Not Answered

Chosen Option : --

Q.11 \_\_\_\_\_ आवर्त सारणी पर 17वें समूह में स्थित हैं।

- Ans
- 1. अक्रिय गैस
  - 2. बोरॉन
  - 3. काल्कोजन
  - 4. हैलोजन

Question ID : 264330115181  
Status : Not Answered  
Chosen Option : --

Q.12 याओशांग (Yaoshang) उत्सव जो मणिपुर में प्रसिद्ध है, \_\_\_\_\_ दिनों तक मनाया जाता है।

- Ans
- 1. पांच
  - 2. तीन
  - 3. दो
  - 4. चार

Question ID : 264330115127  
Status : Not Answered  
Chosen Option : --

Q.13 ग्लेशियर आमतौर पर \_\_\_\_\_ में पाए जाते हैं।

- Ans
- 1. मैदान
  - 2. पठार
  - 3. नदियां
  - 4. पहाड़

Question ID : 264330115994  
Status : Answered  
Chosen Option : 4

Q.14 राष्ट्रीय ग्रामीण रोजगार गारंटी अधिनियम प्रत्येक ग्रामीण परिवार को प्रति वर्ष कितने दिनों के रोजगार का आश्वासन देता है?

- Ans
- 1. 300 दिन
  - 2. 200 दिन
  - 3. 250 दिन
  - 4. 100 दिन

Question ID : 264330116086  
Status : Not Answered  
Chosen Option : --

Q.15 औपनिवेशिक भारत में इंडियन एसोशिएशन की स्थापना निम्नलिखित में से किस स्थान पर हुई थी?

- Ans
- 1. लखनऊ
  - 2. कलकत्ता
  - 3. सूरत
  - 4. पूना

Question ID : 26433089890

Status : Not Answered

Chosen Option : --

Q.16 निम्नलिखित में से कौन सा लोक नृत्य मुख्य रूप से छत्तीसगढ़ में किया जाता है?

- Ans
- 1. कालबेलिया
  - 2. रौद्र
  - 3. भांगड़ा
  - 4. राउत

Question ID : 26433071421

Status : Answered

Chosen Option : 1

Q.17 राज्य विधायिका के निम्न सदन को \_\_\_\_\_ कहा जाता है।

- Ans
- 1. राज्यसभा
  - 2. लोकसभा
  - 3. विधानसभा
  - 4. विधान परिषद

Question ID : 26433086675

Status : Answered

Chosen Option : 2

Q.18 यीस्ट और हाइड्रोजन पेरोक्साइड \_\_\_\_\_ बनाते हैं।

- Ans
- 1. ऑक्सीजन मोनोऑक्साइड
  - 2. ऑक्सीजन
  - 3. कार्बन डाइऑक्साइड
  - 4. कार्बन

Question ID : 264330115200

Status : Not Answered

Chosen Option : --

Q.19 भारत के गुजरात में स्थित एक सहकारी बैंक, SEWA (स्व-नियोजित महिला संघ) की शुरुआत \_\_\_\_\_ में हुई थी।

- Ans
- 1. 1874
  - 2. 1894
  - 3. 1994
  - 4. 1974

Question ID : 264330115311  
Status : Not Answered  
Chosen Option : --

Q.20 नवंबर 2022 में भारत सरकार के किस केंद्रीय मंत्री ने 'इंडिया केम 2022' का उद्घाटन किया?

- Ans
- 1. राजीव चंद्रशेखर
  - 2. राजनाथ सिंह
  - 3. मनसुख मंडाविया
  - 4. किरण रिजिजू

Question ID : 264330114962  
Status : Not Answered  
Chosen Option : --

Section : Part-C-Elementary Mathematics

Q.1 दिनेश अपने ग्राहकों को रेनकोट पर 15% की छूट प्रदान करता है और वह फिर भी 25% का लाभ कमाता है। Rs.800 के अंकित मूल्य वाले रेनकोट की वास्तविक कीमत क्या है?

- Ans
- 1. Rs.542
  - 2. Rs.546
  - 3. Rs.540
  - 4. Rs.544

Question ID : 26433082976  
Status : Answered  
Chosen Option : 4

Q.2 समान लंबाई की दो ट्रेनें समानांतर पटरियों पर एक ही दिशा में 46 km/h और 36 km/h चाल से चल रही हैं। यदि तेज ट्रेन धीमी ट्रेन को 36 सेकंड में पार करती है तो प्रत्येक ट्रेन की लंबाई की गणना करें।

- Ans
- 1. 50 मीटर
  - 2. 44 मीटर
  - 3. 41 मीटर
  - 4. 47 मीटर

Question ID : 26433076331  
Status : Answered  
Chosen Option : 1

Q.3 एक मूलधन 8 प्रतिशत वार्षिक चक्रवृद्धि ब्याज दर से वार्षिक चक्रवृद्धि आधार पर गणना किए जाने पर 3 वर्ष में ₹19,683 हो जाता है। मूलधन क्या है?

- Ans
- 1. ₹16,825
  - 2. ₹13,526
  - 3. ₹14,825
  - 4. ₹15,625

Question ID : 26433079885

Status : Answered

Chosen Option : 4

Q.4 मोहन और रमेश मिलकर एक काम को 6 दिनों में कर सकते हैं और मोहन अकेला उसे 10 दिनों में कर सकता है। रमेश अकेला उसी काम को कितने दिनों में कर सकता है?

- Ans
- 1. 11.25
  - 2. 15
  - 3. 8
  - 4. 7.5

Question ID : 26433076206

Status : Answered

Chosen Option : 2

Q.5 अनित एक कार्य को 77 दिनों में कर सकता है। राम उसी कार्य को 11 दिन में कर सकता है। राम और अनित एक साथ कार्य शुरू करते हैं लेकिन राम कार्य पूरा होने से 3 दिन पहले कार्य छोड़ देता है। दिनों की अनुमानित संख्या ज्ञात करें जिसमें कार्य पूरा हुआ।

- Ans
- 1. 17 दिन
  - 2. 14 दिन
  - 3. 12 दिन
  - 4. 11 दिन

Question ID : 264330116918

Status : Not Answered

Chosen Option : --

Q.6 यदि सामान Rs.600 में खरीदा जाता है और उसका पांचवां हिस्सा 20% की हानि पर बेचा जाता है, तो शेष को कितने प्रतिशत लाभ पर बेचा जाना चाहिए ताकि पूरे लेनदेन पर 30% का लाभ हो?

- Ans
- 1. 40%
  - 2. 22.5%
  - 3. 42.5%
  - 4. 22%

Question ID : 26433081021

Status : Answered

Chosen Option : 3



Q.7 0.25, 2.08 और 8.1 का महत्तम समापवर्तक ज्ञात कीजिए।

Ans  1. 0.01

2. 0.02

3. 0.05

4. 0.1

Question ID : 26433082589

Status : Answered

Chosen Option : 1

Q.8 एक कर्मचारी के वेतन में पहले 15% की वृद्धि और फिर 25% की कमी की जाती है। उसके वेतन में कितने प्रतिशत की वृद्धि या कमी होगी?

Ans  1. 11.23% वृद्धि

2. 13.75% कमी

3. 12.89% कमी

4. 14% वृद्धि

Question ID : 26433082710

Status : Marked For Review

Chosen Option : 2

Q.9 एक कक्षा में 50 विद्यार्थी हैं। यदि लड़कों की संख्या और लड़कियों की संख्या का अनुपात 16:9 है, तो स्कूल में लड़कों और लड़कियों की संख्या के बीच का मध्यानुपाती क्या है?

Ans  1. 36

2. 24

3. 16

4. 22

Question ID : 26433082388

Status : Answered

Chosen Option : 2

Q.10 वह सबसे बड़ी संख्या ज्ञात करें, जिससे संख्या 47, 95 और 187 को विभाजित करने पर प्रत्येक स्थिति में समान शेषफल प्राप्त होता है।

Ans  1. 4

2. 2

3. 8

4. 6

Question ID : 26433082342

Status : Answered

Chosen Option : 1

Q.11 मोहन और सोहन ने एक साथ एक संपत्ति में क्रमशः ₹6,000 और ₹8,000 का निवेश किया और 6 महीने के बाद सोहन अपनी निवेश की गई राशि वापस ले लेता है। एक वर्ष के अंत में मोहन और सोहन द्वारा प्राप्त धन का अनुपात क्या है?

Ans  1. 4:3

2. 3:2

3. 2:3

4. 3:4

Question ID : 26433075672

Status : Answered

Chosen Option : 2

Q.12 एक दूधवाले ने 45 लीटर दूध खरीदा और उसमें 15 लीटर पानी मिला दिया। यदि मिश्रण का प्रति लीटर मूल्य ₹50 हो जाता है, तो प्रति लीटर दूध का क्रय मूल्य कितना होगा? (पानी निःशुल्क उपलब्ध है)

Ans  1. ₹66  $\frac{2}{3}$

2. ₹61  $\frac{2}{3}$

3. ₹34  $\frac{2}{3}$

4. ₹33  $\frac{2}{3}$

Question ID : 26433076395

Status : Not Answered

Chosen Option : --

Q.13 एक गाँव की जनसंख्या में पहले वर्ष में 5% की वृद्धि होती है और दूसरे वर्ष में यह 5% घट जाती है। दूसरे वर्ष के अंत में इसकी जनसंख्या 9975 थी। पहले वर्ष की शुरुआत में जनसंख्या कितनी थी?

Ans  1. 9500

2. 10500

3. 9000

4. 10000

Question ID : 26433075099

Status : Answered

Chosen Option : 2

Q.14 विधि ने राधा को चक्रवृद्धि ब्याज पर ₹8,000, 2 वर्ष के लिए 5% वार्षिक की दर से वार्षिक चक्रवृद्धि आधार पर दिए। विधि को तब कितनी हानि होती जब उसने राधा को यह धनराशि 5% वार्षिक के साधारण ब्याज पर 2 वर्ष के लिए दी होती?

- Ans
- 1. ₹18
  - 2. ₹12
  - 3. ₹15
  - 4. ₹20

Question ID : 26433080124

Status : Answered

Chosen Option : 4

Q.15 5%, 10%, 15% और 20% के बराबर एक एकल छूट कितनी है?

- Ans
- 1. 42.76%
  - 2. 41.86%
  - 3. 32.88%
  - 4. 36.92%

Question ID : 26433080222

Status : Answered

Chosen Option : 1

Q.16 यदि एक घनाभाकार बॉक्स की लंबाई, चौड़ाई और ऊँचाई क्रमशः 24 cm, 16 cm और 12 cm है, तो बॉक्स का आयतन \_\_\_\_\_ है।

- Ans
- 1. 4612 cm<sup>3</sup>
  - 2. 4644 cm<sup>3</sup>
  - 3. 4608 cm<sup>3</sup>
  - 4. 4632 cm<sup>3</sup>

Question ID : 26433090307

Status : Answered

Chosen Option : 3

Q.17 7 cm व्यास वाले एक अर्धगोले का संपूर्ण पृष्ठीय क्षेत्रफल ज्ञात करें।  $\pi = \frac{22}{7}$  लें

- Ans
- 1. 98 cm<sup>2</sup>
  - 2. 87.5 cm<sup>2</sup>
  - 3. 115.5 cm<sup>2</sup>
  - 4. 77 cm<sup>2</sup>

Question ID : 26433076250

Status : Answered

Chosen Option : 4

Q.18 30 पुरुषों की औसत आयु 25 वर्ष है। उनके साथ 30 वर्ष की औसत आयु के 5 नए पुरुष शामिल हुए। सभी पुरुषों की एक साथ औसत आयु ज्ञात कीजिए।

- Ans
- 1.  $28\frac{5}{7}$  वर्ष
  - 2.  $25\frac{5}{7}$  वर्ष
  - 3.  $26\frac{5}{7}$  वर्ष
  - 4.  $27\frac{5}{7}$  वर्ष

Question ID : 26433076303

Status : Answered

Chosen Option : 2

Q.19 एक वस्तु को ₹900 में बेचने पर अर्जित लाभ उसी वस्तु को ₹450 में बेचने पर हुई हानि का दोगुना है। 25% लाभ कमाने के लिए वस्तु को किस मूल्य पर बेचा जाना चाहिए?

- Ans
- 1. ₹750
  - 2. ₹850
  - 3. ₹650
  - 4. ₹950

Question ID : 26433075878

Status : Answered

Chosen Option : 1

Q.20 एक कार 51 km/h की एक समान चाल से चल रही है। 10:40 a.m. से 1:00 p.m. तक कार द्वारा तय की गई दूरी \_\_\_\_\_ है।

- Ans
- 1. 100 km
  - 2. 119 km
  - 3. 125 km
  - 4. 115 km

Question ID : 26433081591

Status : Answered

Chosen Option : 4

Section : Part-D-English

Q.1 Substitute the underlined word segment with most appropriate idiom.

They had to cancel their trip at the last minute due to bad weather.

- Ans
- 1. at a stone's throw
  - 2. at the eleventh hour
  - 3. at somebody's beck and call
  - 4. at sixes and sevens

Question ID : 26433084693

Status : Answered

Chosen Option : 2

Q.2 Select the most appropriate synonym of the given word.

Objective

- Ans
- 1. Subjective
  - 2. Heartfelt
  - 3. Purpose
  - 4. Tyrannical

Question ID : 26433073983  
Status : Answered  
Chosen Option : 3

Q.3 Select the most appropriate option that can substitute the underlined segment in the given sentence.

After a long journey I was looking forward to sleep on a comfortable bed.

- Ans
- 1. sleeps on a
  - 2. sleep over a
  - 3. sleeping in a
  - 4. sleep into a

Question ID : 264330101306  
Status : Answered  
Chosen Option : 2

Q.4 Select the most appropriate ANTONYM of the given word.

Esteem

- Ans
- 1. Value
  - 2. Notice
  - 3. Condemn
  - 4. Regret

Question ID : 26433090788  
Status : Answered  
Chosen Option : 3

Q.5 Select the most appropriate option that can substitute the underlined segment in the given sentence. If there is no need to substitute it, select 'No substitution required'.

Nithi was not feeling well, yet she decide to go to work.

- Ans
- 1. or she decided to go for work
  - 2. No substitution required
  - 3. yet she decided to go to work
  - 4. yet she have decided to go to work

Question ID : 26433091872  
Status : Answered  
Chosen Option : 3

Q.6 Select the most appropriate option to fill in the blank.

Soumyashree, while talking on the topic, could not \_\_\_\_\_ the interview board.

- Ans
- 1. stabilise
  - 2. conceive
  - 3. permeate
  - 4. impress

Question ID : 26433073790  
Status : Answered  
Chosen Option : 2

Q.7 Select the most appropriate ANTONYM of the given word.

Revive

- Ans
- 1. Destroy
  - 2. Revolve
  - 3. Incline
  - 4. Rejuvenate

Question ID : 26433090798  
Status : Answered  
Chosen Option : 1

Q.8 Select the most appropriate meaning of the given idiom.

Get a second wind

- Ans
- 1. Have renewed energy after having been tired
  - 2. Have less energy and be extremely tired
  - 3. Have two different choices
  - 4. Having less energy after resting

Question ID : 26433070652  
Status : Answered  
Chosen Option : 1

Q.9 Select the most appropriate ANTONYM of the word given in brackets to fill in the blank.

The keeper had no intention to \_\_\_\_\_ (attend) the goal, but the ball was hit too hard to be stopped.

- Ans
- 1. miss
  - 2. bring
  - 3. believe
  - 4. blow

Question ID : 26433089748  
Status : Answered  
Chosen Option : 1

Q.10 Select the most appropriate synonym of the given word to fill in the blank in the sentence.

Elaborate

A/an \_\_\_\_\_ water clock depicting zodiac signs is present in the city museum.

- Ans
- 1. resonant
  - 2. intricate
  - 3. beautiful
  - 4. divulging

Question ID : 26433060557

Status : Answered

Chosen Option : 1

Q.11 Parts of the following sentence have been underlined and given as options. Select the option that contains an error.

We all know that sugar and honey tastes very sweet.

- Ans
- 1. tastes
  - 2. all
  - 3. know
  - 4. sweet

Question ID : 26433089370

Status : Answered

Chosen Option : 3

Q.12 Select the INCORRECTLY spelt word.

- Ans
- 1. Viceregal
  - 2. Dalmation
  - 3. Venerate
  - 4. Retinal

Question ID : 26433073761

Status : Answered

Chosen Option : 1

Q.13 Select the most appropriate option that can substitute the underlined segment in the given sentence.

The door which connecting the two offices is kept locked.

- Ans
- 1. connects
  - 2. has connecting
  - 3. does connecting
  - 4. can connecting

Question ID : 26433088829

Status : Answered

Chosen Option : 1

Q.14 Select the most appropriate option to fill in the blank as synonym for the underlined word.

The most arrogant employee in his company was sacked by the boss. No one could tolerate his \_\_\_\_\_ nature.

- Ans
- 1. plain
  - 2. dicey
  - 3. pricey
  - 4. haughty

Question ID : 26433094735

Status : Answered

Chosen Option : 4

Q.15 Select the most appropriate synonym of the given word.

Secure

- Ans
- 1. Independent
  - 2. Safe
  - 3. Comfortable
  - 4. Secret

Question ID : 26433088130

Status : Answered

Chosen Option : 2

**Comprehension:**

In the following passage, some words have been deleted. Read the passage carefully and select the most appropriate option to fill in each blank.

People who hitchhike talk about (1) \_\_\_\_\_ experiences in the course of their journeys. While there are (2) \_\_\_\_\_ bitter experiences, most of the trips are pleasant. What comes out as a common point worth mentioning (3) \_\_\_\_\_ the goodness that most drivers and riders exhibit. The (4) \_\_\_\_\_ rendered by them not just in giving them a ride but in also sponsoring food along the way. Faith in humanity and (5) \_\_\_\_\_ wins in the bargain.

**SubQuestion No : 16**

Q.16 Select the most appropriate option to fill in blank number 1.

- Ans
- 1. worried
  - 2. varied
  - 3. emptied
  - 4. conversant

Question ID : 26433091776

Status : Answered

Chosen Option : 4



**Comprehension:**

In the following passage, some words have been deleted. Read the passage carefully and select the most appropriate option to fill in each blank.

People who hitchhike talk about (1)\_\_\_\_\_ experiences in the course of their journeys. While there are (2)\_\_\_\_\_ bitter experiences, most of the trips are pleasant. What comes out as a common point worth mentioning (3)\_\_\_\_\_ the goodness that most drivers and riders exhibit. The (4)\_\_\_\_\_ rendered by them not just in giving them a ride but in also sponsoring food along the way. Faith in humanity and (5)\_\_\_\_\_ wins in the bargain.

**SubQuestion No : 17**

**Q.17** Select the most appropriate option to fill in blank number 2.

- Ans  1. much  
 2. such  
 3. few  
 4. lot

Question ID : 26433091777

Status : Answered

Chosen Option : 3

**Comprehension:**

In the following passage, some words have been deleted. Read the passage carefully and select the most appropriate option to fill in each blank.

People who hitchhike talk about (1)\_\_\_\_\_ experiences in the course of their journeys. While there are (2)\_\_\_\_\_ bitter experiences, most of the trips are pleasant. What comes out as a common point worth mentioning (3)\_\_\_\_\_ the goodness that most drivers and riders exhibit. The (4)\_\_\_\_\_ rendered by them not just in giving them a ride but in also sponsoring food along the way. Faith in humanity and (5)\_\_\_\_\_ wins in the bargain.

**SubQuestion No : 18**

**Q.18** Select the most appropriate option to fill in blank number 3.

- Ans  1. am  
 2. on  
 3. is  
 4. are

Question ID : 26433091778

Status : Answered

Chosen Option : 3

**Comprehension:**

In the following passage, some words have been deleted. Read the passage carefully and select the most appropriate option to fill in each blank.

People who hitchhike talk about (1)\_\_\_\_\_ experiences in the course of their journeys. While there are (2)\_\_\_\_\_ bitter experiences, most of the trips are pleasant. What comes out as a common point worth mentioning (3)\_\_\_\_\_ the goodness that most drivers and riders exhibit. The (4)\_\_\_\_\_ rendered by them not just in giving them a ride but in also sponsoring food along the way. Faith in humanity and (5)\_\_\_\_\_ wins in the bargain.

**SubQuestion No : 19**

**Q.19** Select the most appropriate option to fill in blank number 4.

- Ans  1. stringency  
 2. brevity  
 3. hospitality  
 4. conformity

Question ID : 26433091779

Status : Answered

Chosen Option : 3

**Comprehension:**

In the following passage, some words have been deleted. Read the passage carefully and select the most appropriate option to fill in each blank.

People who hitchhike talk about (1)\_\_\_\_\_ experiences in the course of their journeys. While there are (2)\_\_\_\_\_ bitter experiences, most of the trips are pleasant. What comes out as a common point worth mentioning (3)\_\_\_\_\_ the goodness that most drivers and riders exhibit. The (4)\_\_\_\_\_ rendered by them not just in giving them a ride but in also sponsoring food along the way. Faith in humanity and (5)\_\_\_\_\_ wins in the bargain.

**SubQuestion No : 20**

**Q.20** Select the most appropriate option to fill in blank number 5.

- Ans  1. frailty  
 2. humaneness  
 3. animosity  
 4. consciousness

Question ID : 26433091780

Status : Answered

Chosen Option : 4

## Section : Part-D-Hindi

**Q.1** “एक अच्छे निबंध में बुद्धि व हृदय का सामंजस्य होना चाहिए।”  
उक्त वाक्य में प्रयुक्त ‘सामंजस्य’ के स्थान पर उसके समानार्थी शब्द का प्रयोग निम्न में से किस वाक्य में किया गया है?

- Ans  1. एक अच्छे निबंध में बुद्धि व हृदय का समुदाय होना चाहिए।  
 2. एक अच्छे निबंध में बुद्धि व हृदय का सौष्ठव होना चाहिए।  
 3. एक अच्छे निबंध में बुद्धि व हृदय का समन्वय होना चाहिए।  
 4. एक अच्छे निबंध में बुद्धि व हृदय का मिश्रण होना चाहिए।

Question ID : 26433067031

Status : Not Answered

Chosen Option : --

Q.2 'नकटा \_\_\_\_\_।' उपर्युक्त वाक्य में रिक्त स्थान के लिए उपयुक्त विकल्प निम्न में से क्या होगा?

- Ans
- 1. का अर्थ होता है जिसका अंगूठा छोटा हो
  - 2. का अर्थ होता है जिसका नाम न हो
  - 3. का अर्थ होता है जिसका कद छोटा हो
  - 4. का अर्थ होता है जिसकी नाक कटी हो

Question ID : 26433067044  
Status : Not Answered  
Chosen Option : --

Q.3 'छत पर कौआ बोल रहा है।' उपरोक्त वाक्य में प्रयुक्त 'कौआ' शब्द का पर्याय क्या है?

- Ans
- 1. काक
  - 2. शिख
  - 3. खग
  - 4. पिक

Question ID : 26433080859  
Status : Not Answered  
Chosen Option : --

Q.4 'रेगिस्तान में \_\_\_\_\_ की सवारी बहुत मजेदार होती है।' इस वाक्य में रिक्त स्थान की पूर्ति शुद्ध शब्द द्वारा कीजिए।

- Ans
- 1. ऊँट
  - 2. ऊख
  - 3. उंट
  - 4. ऊट

Question ID : 26433069704  
Status : Not Answered  
Chosen Option : --

Q.5 'अपना \_\_\_\_\_ सीधा करना' इस मुहावरे को पूरा करें।

- Ans
- 1. दिमाग
  - 2. कमर
  - 3. मतलब
  - 4. उल्लू

Question ID : 26433066815  
Status : Not Answered  
Chosen Option : --

Q.6 'तुम्हारा गांव किधर को है?' इस वाक्य में अशुद्धि पहचाने-

- Ans
- 1. है
  - 2. तुम्हारा
  - 3. किधर को
  - 4. गांव

Question ID : 26433091302

Status : Not Answered

Chosen Option : --

Q.7 नीचे दिए शब्द के लिए उचित वाक्यांश दिए गए विकल्पों में से चुनिए-  
निरंकुश

- Ans
- 1. जिस पर नियंत्रण किया गया हो
  - 2. जिसे आशा न रह गई हो
  - 3. जिसका कोई आकार न हो
  - 4. जिस पर किसी प्रकार का नियंत्रण न हो

Question ID : 26433062392

Status : Not Answered

Chosen Option : --

Q.8 निम्न वाक्य में रेखांकित शब्द के लिए विकल्पों में कौन सा शब्द सर्वाधिक उपयुक्त होगा?  
'मैंने तलवार द्वारा शत्रु को मार दिया।'

- Ans
- 1. ने
  - 2. को
  - 3. से
  - 4. वह

Question ID : 26433066713

Status : Not Answered

Chosen Option : --

Q.9 निम्नलिखित में से शुद्ध वाक्य का चयन कीजिए।

- Ans
- 1. उसे शिमला जाना है।
  - 2. उसका शिमला जाना है।
  - 3. उसने शिमला जाना है।
  - 4. उससे शिमला जाना है।

Question ID : 26433066962

Status : Not Answered

Chosen Option : --

Q.10 दिए गए मुहावरे में रेखांकित अंश के स्थान पर सबसे उपयुक्त विकल्प कौन-सा होगा?  
'अंधों में काना रानी'

- Ans
- 1. नौकर
  - 2. राजा
  - 3. महाराजा
  - 4. दोस्त

Question ID : 26433066738

Status : Not Answered

Chosen Option : --

Q.11 यह हॉल पंडित समाज के लिए आरक्षित है।  
उपरोक्त वाक्य में रेखांकित पद के स्थान पर निम्न में से कौन सा शब्द आ सकता है?

- Ans
- 1. मूर्ख
  - 2. बुद्ध
  - 3. गरीब
  - 4. शिक्षित

Question ID : 26433079174

Status : Not Answered

Chosen Option : --

Q.12 निम्न वाक्यांश के लिए सही वर्तनी वाले उपयुक्त एक शब्द का चयन कीजिए।  
जिसे ईश्वर में विश्वास हो

- Ans
- 1. आस्तिक
  - 2. आस्तिख
  - 3. आप्तिक
  - 4. आशितक

Question ID : 26433070087

Status : Not Answered

Chosen Option : --

Q.13 निम्न शब्द के पर्यायवाची शब्द का किस वाक्य में प्रयोग किया गया है?  
पृथ्वी

- Ans
- 1. वसुधा हरी-भरी है।
  - 2. सरिता हरी-भरी है।
  - 3. किसलय हरी-भरी है।
  - 4. भागीरथी बड़ी है।

Question ID : 26433066935

Status : Not Answered

Chosen Option : --

Q.14 निम्नलिखित वाक्य में रेखांकित शब्द के विलोम से वाक्य के रिक्त स्थान की पूर्ति कीजिए।  
अगर पूत कूपूत हो तो मात-पिता का जीवन व्यर्थ हो जाता है और यदि \_\_\_\_\_ हो तो सार्थक।

- Ans
- 1. उद्योगी
  - 2. दुपूत
  - 3. विज्ञ
  - 4. सपूत

Question ID : 26433085005

Status : Not Answered

Chosen Option : --

Q.15 निम्नलिखित विकल्पों में से कौन सा एक वाक्य क्रिया-विशेषण से सम्बन्ध रखता है?

- Ans
- 1. हम पढ़ते हैं।
  - 2. पिता का कर्तव्य है कि संतानों का पालन करे।
  - 3. वे कमाते हैं।
  - 4. किशन बहुत तेज दौड़ता है।

Question ID : 26433062956

Status : Not Answered

Chosen Option : --

#### Comprehension:

निम्नलिखित गद्यांश में से कुछ शब्द हटा दिए गए हैं। दिए गए विकल्पों की सहायता से रिक्त स्थानों की पूर्ति कीजिए। प्रत्येक संख्या के लिए उपयुक्त विकल्प का चयन कीजिए।

एक पाठशाला का 1. \_\_\_\_\_ था। मैं भी 2. \_\_\_\_\_ बुलाया गया था। वहाँ के प्रधान अध्यापक का एक मात्र पुत्र, जिसकी अवस्था आठ 3. \_\_\_\_\_ की थी, बड़े लाड़ से नुमाइश में मिस्टर हादी के कोल्हू की तरह दिखाया जा रहा था। उसका मुँह पीला था, आँखें सफेद 4. \_\_\_\_\_, दृष्टि भूमि से उठती नहीं थी। 5. \_\_\_\_\_ पूछे जा रहे थे। उनका वह उत्तर दे रहा था।

#### SubQuestion No : 16

Q.16 रिक्त स्थान 1 की पूर्ति के लिए सर्वाधिक उपयुक्त विकल्प का चयन कीजिए।

- Ans
- 1. वार्षिकोत्सव
  - 2. त्योहार
  - 3. दैनिकोत्सव
  - 4. मार्गोत्सव

Question ID : 26433079704

Status : Not Answered

Chosen Option : --

**Comprehension:**

निम्नलिखित गद्यांश में से कुछ शब्द हटा दिए गए हैं। दिए गए विकल्पों की सहायता से रिक्त स्थानों की पूर्ति कीजिए। प्रत्येक संख्या के लिए उपयुक्त विकल्प का चयन कीजिए।

एक पाठशाला का 1. \_\_\_\_\_ था। मैं भी 2. \_\_\_\_\_ बुलाया गया था। वहाँ के प्रधान अध्यापक का एक मात्र पुत्र, जिसकी अवस्था आठ 3. \_\_\_\_\_ की थी, बड़े लाड़ से नुमाइश में मिस्टर हादी के कोल्हू की तरह दिखाया जा रहा था। उसका मुँह पीला था, आँखें सफेद 4. \_\_\_\_\_, दृष्टि भूमि से उठती नहीं थी। 5. \_\_\_\_\_ पूछे जा रहे थे। उनका वह उत्तर दे रहा था।

**SubQuestion No : 17**

Q.17 रिक्त स्थान 2 की पूर्ति के लिए सर्वाधिक उपयुक्त विकल्प का चयन कीजिए।

- Ans
- 1. कहाँ
  - 2. सबमें
  - 3. किधर
  - 4. वहाँ

Question ID : 26433079705

Status : Not Answered

Chosen Option : --

**Comprehension:**

निम्नलिखित गद्यांश में से कुछ शब्द हटा दिए गए हैं। दिए गए विकल्पों की सहायता से रिक्त स्थानों की पूर्ति कीजिए। प्रत्येक संख्या के लिए उपयुक्त विकल्प का चयन कीजिए।

एक पाठशाला का 1. \_\_\_\_\_ था। मैं भी 2. \_\_\_\_\_ बुलाया गया था। वहाँ के प्रधान अध्यापक का एक मात्र पुत्र, जिसकी अवस्था आठ 3. \_\_\_\_\_ की थी, बड़े लाड़ से नुमाइश में मिस्टर हादी के कोल्हू की तरह दिखाया जा रहा था। उसका मुँह पीला था, आँखें सफेद 4. \_\_\_\_\_, दृष्टि भूमि से उठती नहीं थी। 5. \_\_\_\_\_ पूछे जा रहे थे। उनका वह उत्तर दे रहा था।

**SubQuestion No : 18**

Q.18 रिक्त स्थान 3 की पूर्ति के लिए सर्वाधिक उपयुक्त विकल्प का चयन कीजिए।

- Ans
- 1. वर्ष
  - 2. घड़ी
  - 3. दिन
  - 4. पल

Question ID : 26433079706

Status : Not Answered

Chosen Option : --

**Comprehension:**

निम्नलिखित गद्यांश में से कुछ शब्द हटा दिए गए हैं। दिए गए विकल्पों की सहायता से रिक्त स्थानों की पूर्ति कीजिए। प्रत्येक संख्या के लिए उपयुक्त विकल्प का चयन कीजिए।

एक पाठशाला का 1. \_\_\_\_\_ था। मैं भी 2. \_\_\_\_\_ बुलाया गया था। वहाँ के प्रधान अध्यापक का एक मात्र पुत्र, जिसकी अवस्था आठ 3. \_\_\_\_\_ की थी, बड़े लाड़ से नुमाइश में मिस्टर हादी के कोल्हू की तरह दिखाया जा रहा था। उसका मुँह पीला था, आँखें सफेद 4. \_\_\_\_\_, दृष्टि भूमि से उठती नहीं थी। 5. \_\_\_\_\_ पूछे जा रहे थे। उनका वह उत्तर दे रहा था।

**SubQuestion No : 19**

Q.19 रिक्त स्थान 4 की पूर्ति के लिए सर्वाधिक उपयुक्त विकल्प का चयन कीजिए।

- Ans  1. थीं  
 2. होती  
 3. था  
 4. होगी

Question ID : 26433079707

Status : Not Answered

Chosen Option : --

**Comprehension:**

निम्नलिखित गद्यांश में से कुछ शब्द हटा दिए गए हैं। दिए गए विकल्पों की सहायता से रिक्त स्थानों की पूर्ति कीजिए। प्रत्येक संख्या के लिए उपयुक्त विकल्प का चयन कीजिए।

एक पाठशाला का 1. \_\_\_\_\_ था। मैं भी 2. \_\_\_\_\_ बुलाया गया था। वहाँ के प्रधान अध्यापक का एक मात्र पुत्र, जिसकी अवस्था आठ 3. \_\_\_\_\_ की थी, बड़े लाड़ से नुमाइश में मिस्टर हादी के कोल्हू की तरह दिखाया जा रहा था। उसका मुँह पीला था, आँखें सफेद 4. \_\_\_\_\_, दृष्टि भूमि से उठती नहीं थी। 5. \_\_\_\_\_ पूछे जा रहे थे। उनका वह उत्तर दे रहा था।

**SubQuestion No : 20**

Q.20 रिक्त स्थान 5 की पूर्ति के लिए सर्वाधिक उपयुक्त विकल्प का चयन कीजिए।

- Ans  1. कहानी  
 2. प्रश्न  
 3. रिश्ते  
 4. बातें

Question ID : 26433079708

Status : Not Answered

Chosen Option : --