

Constable GD in CAPFs SSF Rifleman GD in Assam Rifles and Sepoy in NCB Examination 2022

Roll Number	www.govtjobsalert.in
Candidate Name	www.govtjobsalert.in
Venue Name	iON Digital Zone iDZ Naino Ka Bas
Exam Date	23/01/2023
Exam Time	9:00 AM - 10:00 AM
Subject	Constable GD Examination 2022

Section : Part-A-General Intelligence and Reasoning

Q.1 निम्नलिखित में से कौन-सा पद दी गई श्रृंखला में प्रश्न-चिह्न (?) के स्थान पर आएगा?
ARHT, YOJW, WLLZ, ?, SFPP

- Ans
- 1. UJNB
 - 2. TINC
 - 3. UINC
 - 4. TIKC

Question ID : 26433069446
Status : Answered
Chosen Option : 3

Q.2 निम्नलिखित में से कौन-सी संख्या दी गई श्रृंखला में प्रश्न चिह्न (?) के स्थान पर आएगी?
8, 14, 26, 50, ?

- Ans
- 1. 54
 - 2. 98
 - 3. 32
 - 4. 113

Question ID : 26433082737
Status : Answered
Chosen Option : 2

Q.3 उस विकल्प का चयन करें जो पांचवें अक्षर-समूह से उसी प्रकार संबंधित है जिस प्रकार दूसरा अक्षर-समूह पहले अक्षर-समूह से संबंधित है और चौथा अक्षर-समूह तीसरे अक्षर-समूह से संबंधित है।
NGC : OJH :: BQJ : CTO :: PTC : ?

- Ans
- 1. QWH
 - 2. QUD
 - 3. OQH
 - 4. OWH

Question ID : 26433057744
Status : Answered
Chosen Option : 1

Q.4 आठ व्यक्ति, D, E, M, P, T, W, Y और Z एक सीधी पंक्ति में उत्तर की ओर मुख करके बैठे हैं। D पंक्ति के बाएं सिरे से तीसरे स्थान पर बैठता है। D और Z के बीच केवल एक व्यक्ति बैठता है। P, Z के दाईं ओर तीसरे स्थान पर बैठता है। P और W के बीच केवल दो व्यक्ति बैठते हैं। E, Y के दाईं ओर ठीक बगल में बैठता है। M पंक्ति के किसी भी सिरे पर नहीं बैठता है। पंक्ति के दाएं सिरे से T का स्थान क्या है?

- Ans 1. पहला
 2. दूसरा
 3. तीसरा
 4. चौथा

Question ID : 26433092421

Status : Answered

Chosen Option : 1

Q.5 'P % Q' का अर्थ है 'P, Q का भाई है'।
'P + Q' का अर्थ है 'P, Q की बेटी है'।
'P = Q' का अर्थ है 'P, Q का बेटा है'।
'P # Q' का अर्थ है 'P, Q की पत्नी है'।
यदि $L = M \# N \% O + P$ है, तो L, P से किस प्रकार संबंधित है?

- Ans 1. नाती
 2. पोता
 3. दादा
 4. भतीजा

Question ID : 26433087001

Status : Answered

Chosen Option : 2

Q.6 उस समुच्चय का चयन करें, जिसकी संख्याओं के बीच ठीक वही संबंध है, जो संबंध निम्नांकित समुच्चयों की संख्याओं में हैं।
(नोट: संख्याओं को उसके घटक अंकों में विभाजित किए बिना, पूर्ण संख्याओं पर ही गणितीय संक्रियाएँ की जानी चाहिए। जैसे 13 - मान लीजिए 13 पर गणितीय संक्रियाएँ जैसे कि 13 में जोड़ना/घटाना/गुणा करना आदि किया जा सकता है। 13 को 1 और 3 में तोड़कर और फिर 1 और 3 पर गणितीय संक्रियाएँ करने की अनुमति नहीं है।)
(16, 350, 19)
(14, 310, 17)

- Ans 1. (12, 240, 17)
 2. (12, 300, 19)
 3. (17, 380, 19)
 4. (13, 320, 19)

Question ID : 26433076545

Status : Answered

Chosen Option : 4

Q.7 उस विकल्प का चयन कीजिए जो नीचे दिए गए शब्दों के उस क्रम को निरूपित करता है जिस क्रम में वे अंग्रेजी शब्दकोश में आते हैं।

1. FAWN
2. FAVOUR
3. FATHER
4. FATIGUE
5. FAT
6. FATE

Ans 1. 2, 6, 3, 4, 5, 1

2. 5, 6, 3, 4, 2, 1

3. 5, 3, 6, 4, 1, 2

4. 6, 4, 3, 2, 1, 5

Question ID : 26433079381

Status : Answered

Chosen Option : 2

Q.8 दर्पण को चित्र में दिखाए अनुसार MN पर रखे जाने पर दी गई आकृति के सही

दर्पण प्रतिबिंब का चयन करें।

g h i ! c 7 L d

M
|
N

Ans 1. b J 7 c ! h g

2. b J 7 c ! h g

3. p h i ! c 7 L p

4. b J 7 c ! h g

Question ID : 26433082330

Status : Answered

Chosen Option : 1

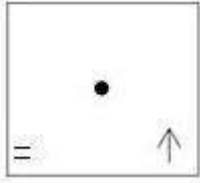
Q.9 दिए गए विकल्पों में से उस आकृति का चयन करें जो निम्न श्रृंखला में

प्रश्नवाचक चिन्ह (?) के स्थान पर आ सकती है।




Ans

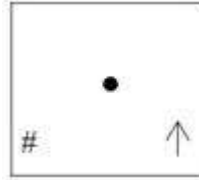
✓ 1.



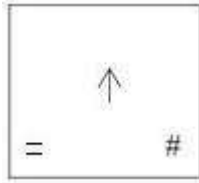
✗ 2.



✗ 3.



✗ 4.



Question ID : 26433080762

Status : Answered

Chosen Option : 1

Q.10 एक निश्चित कूट भाषा में 'POWDER' को 'QPXEFS' के रूप में लिखा जाता है और 'SHAMPOO' को 'TIBNQPP' के रूप में लिखा जाता है। उसी भाषा में 'PERFUME' को किस प्रकार लिखा जाएगा?

Ans ✗ 1. QFSNGVF

✗ 2. QFSFGVN

✗ 3. QFSGNVF

✓ 4. QFSGVNF

Question ID : 26433068227

Status : Answered

Chosen Option : 4

Q.11 निम्नलिखित में से कौन सा विकल्प दी गई श्रृंखला में प्रश्न चिह्न (?) को प्रतिस्थापित करेगा?
52, 86, 121, ?, 194, 232

Ans 1. 157

2. 141

3. 176

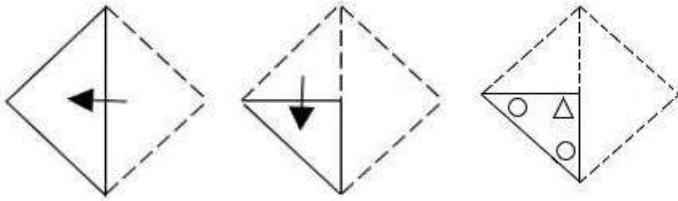
4. 155

Question ID : 26433089440

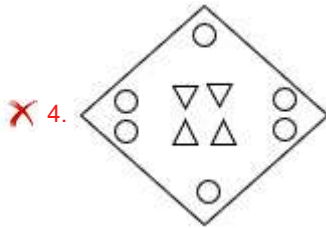
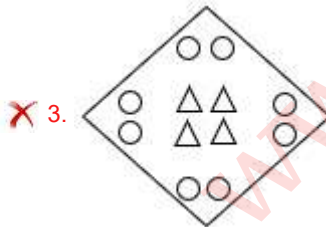
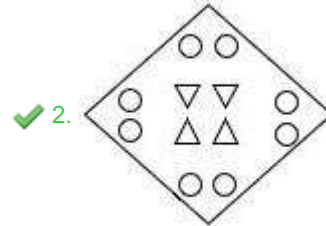
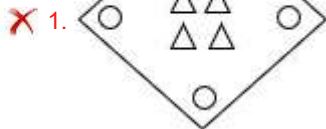
Status : Answered

Chosen Option : 1

Q.12 एक कागज को नीचे दर्शाए गए अनुसार मोड़ा और काटा जाता है। खोले जाने पर यह कैसा दिखाई देगा?



Ans



Question ID : 26433090091

Status : Answered

Chosen Option : 2

Q.13 एक निश्चित कूट भाषा में, 'FACTOR' को 'DBGTQV' के रूप में लिखा जाता है और 'FAMILY' को 'NBGANK' के रूप में लिखा जाता है। उसी भाषा में 'FATHER' को कैसे लिखा जाएगा?

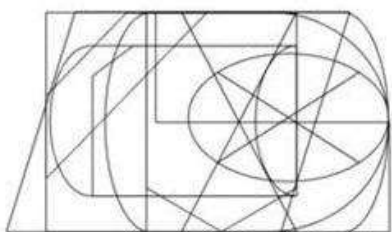
- Ans
- 1. TAFREH
 - 2. UBGREH
 - 3. UBGTGJ
 - 4. REHTAF

Question ID : 26433090044

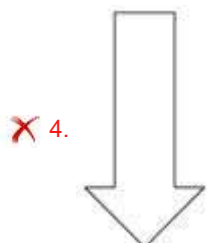
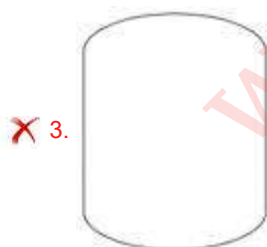
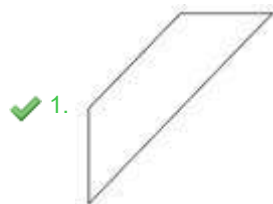
Status : Answered

Chosen Option : 3

Q.14 उस विकल्प आकृति का चयन करें जो नीचे दी गई आकृति में अंतर्निहित है।
(आकृति घुमाने की अनुमति नहीं है)



Ans



Question ID : 26433085741

Status : Answered

Chosen Option : 1

Q.15 नीचे दिए गए समीकरण को गणितीय रूप से सही बनाने के लिए किन दो चिन्हों को परस्पर बदलना चाहिए?

$$35 + 21 - 192 \div 32 \times 7 = 154$$

- Ans
- 1. - और +
 - 2. ÷ और -
 - 3. + और ÷
 - 4. × और -

Question ID : 264330117558

Status : Answered

Chosen Option : 4

Q.16 तीन कथनों के बाद तीन निष्कर्ष I, II और III दिए गए हैं। कथनों को सत्य मानते हुए, भले ही वे सामान्य रूप से ज्ञात तथ्यों से भिन्न प्रतीत होते हों, निर्णय लीजिए कि कौन-सा/से निष्कर्ष कथनों का तार्किक रूप से अनुसरण करता/करते है/हैं।

कथन:

सभी लड़के टमाटर हैं।

कुछ टमाटर सीढ़ियां हैं।

कोई सीढ़ी छोटी नहीं है।

निष्कर्ष:

I. कुछ लड़के टमाटर नहीं हैं।

II. कुछ सीढ़ियां टमाटर हैं।

III. कुछ लड़के सीढ़ी हैं।

- Ans
- 1. केवल निष्कर्ष III अनुसरण करता है।
 - 2. केवल निष्कर्ष I अनुसरण करता है।
 - 3. केवल निष्कर्ष II अनुसरण करता है।
 - 4. कोई भी निष्कर्ष अनुसरण नहीं करता है।

Question ID : 26433081791

Status : Answered

Chosen Option : 3

Q.17 निम्नलिखित में से उस विकल्प का चयन कीजिए, जो पाँचवें अक्षर-समूह से उसी प्रकार से संबंधित है, जिस प्रकार दूसरा अक्षर-समूह पहले अक्षर-समूह से और चौथा अक्षर-समूह तीसरे अक्षर-समूह से संबंधित है।

PEAR : EPRA :: LION : ILNO :: BEAT : ?

- Ans
- 1. HEAR
 - 2. THEF
 - 3. EBTA
 - 4. ROAR

Question ID : 26433083109

Status : Answered

Chosen Option : 3

Q.18 छः व्यक्ति दो समानांतर पंक्तियों में, प्रत्येक में 3 व्यक्ति के अनुसार इस प्रकार बैठे हैं कि आसन्न व्यक्तियों के बीच की दूरी समान है। P, O और T एक ही पंक्ति में दक्षिण की ओर मुख करके बैठे हैं। A, E और R एक ही पंक्ति में उत्तर की ओर मुख करके बैठे हैं। E अपनी पंक्ति के अंतिम दाएं सिरे पर बैठा है, और T के ठीक सामने है। A अपनी पंक्ति के अंतिम बाएं सिरे पर बैठा है, और O के ठीक सामने है। (दक्षिण की ओर मुख करके बैठे हुये व्यक्ति, उत्तर की ओर मुख करके बैठे हुये व्यक्तियों के ठीक सामने हैं)
दक्षिण की ओर मुख करके बैठे व्यक्तियों की पंक्ति के ठीक मध्य में कौन बैठा है?

- Ans 1. E
 2. P
 3. O
 4. T

Question ID : 26433068744
Status : Answered
Chosen Option : 2

Q.19 कौन-सा अक्षर-समूह दी गई श्रृंखला में प्रश्नचिह्न (?) के स्थान पर आकर श्रृंखला को पूर्ण करेगा?
FOWC, KWLI, ?, UMPU, ZUEA

- Ans 1. SEQO
 2. PEAO
 3. PWQO
 4. SDCO

Question ID : 26433079421
Status : Answered
Chosen Option : 2

Q.20 विकल्पों में दिए गए गणितीय चिह्नों का कौन सा संयोजन निम्न समीकरण में * चिह्नों के स्थान पर क्रमिक रूप से आकर समीकरण को संतुलित करेगा?
 $78 * 39 * 46 * 5 * 10 * 2$

- Ans 1. ÷, -, =, ×, +
 2. ÷, +, -, ×, =
 3. +, ÷, =, ×, -
 4. ÷, +, =, ×, -

Question ID : 26433094986
Status : Answered
Chosen Option : 4

Section : Part-B-General Knowledge and General awareness

Q.1 कार्बन की परमाणु संख्या क्या है?

- Ans 1. 7
 2. 9
 3. 8
 4. 6

Question ID : 26433066472
Status : Answered
Chosen Option : 4

Q.2 निम्नलिखित में से किसने, संवैधानिक उपचार के अधिकार को 'संविधान की आत्मा' कहा था?

- Ans
- 1. राजेंद्र प्रसाद
 - 2. बी.आर. अंबेडकर
 - 3. जवाहर लाल नेहरू
 - 4. वल्लभभाई पटेल

Question ID : 26433086802
Status : Answered
Chosen Option : 2

Q.3 विधवा पुनर्विवाह का समर्थन करने वाले बंगाली समाज सुधारक और लेखक का नाम बताइए?

- Ans
- 1. बाल गंगाधर तिलक
 - 2. ईश्वर चंद्र विद्यासागर
 - 3. बिपिन चंद्र पाल
 - 4. जवाहर लाल नेहरू

Question ID : 264330115709
Status : Answered
Chosen Option : 2

Q.4 भारतीय डाक नेटवर्क विश्व में किस लिए प्रसिद्ध है?

- Ans
- 1. यह सबसे छोटा डाक नेटवर्क है
 - 2. यह सबसे पुराना डाक नेटवर्क है
 - 3. यह सबसे सस्ता डाक नेटवर्क है
 - 4. यह सबसे बड़ा डाक नेटवर्क है

Question ID : 264330115592
Status : Answered
Chosen Option : 4

Q.5 तोरग्या, एक _____-दिवसीय मठ उत्सव है, जो अरुणाचल प्रदेश की मोनपा जनजाति द्वारा मनाया जाता है।

- Ans
- 1. चार
 - 2. सात
 - 3. छह
 - 4. तीन

Question ID : 264330115129
Status : Not Answered
Chosen Option : --

Q.6 पेशेवर खेल के लिए टेनिस रैकेट की अधिकतम लंबाई कितनी होती है?

- Ans 1. 29 इंच
 2. 30 इंच
 3. 40 इंच
 4. 35 इंच

Question ID : 26433071572
Status : Answered
Chosen Option : 2

Q.7 केरल के सबसे बड़े जलप्रपात का क्या नाम है?

- Ans 1. वाझाचल जलप्रपात
 2. दूधसागर जलप्रपात
 3. अथिरापिल्ली जलप्रपात
 4. कुंचिकल जलप्रपात

Question ID : 264330116016
Status : Answered
Chosen Option : 3

Q.8 बेंगलुरु टेक समिट 2022 का उद्घाटन किसने किया?

- Ans 1. नरेंद्र मोदी
 2. द्रौपदी मुर्मू
 3. सुधा केवी
 4. सत्या नडेला

Question ID : 264330115048
Status : Not Answered
Chosen Option : --

Q.9 किस पंचवर्षीय योजना का मुख्य फोकस भारी और बुनियादी उद्योगों का विकास तथा तीव्र औद्योगीकरण था?

- Ans 1. पहली
 2. चौथी
 3. तीसरी
 4. दूसरी

Question ID : 264330116138
Status : Answered
Chosen Option : 4

Q.10 मौर्योत्तर काल में, _____ वे पुरुष और महिलाएं थे, जिनके पास जमीनें नहीं थी।

- Ans
- 1. गृहपति
 - 2. ग्राम भोजक
 - 3. भूमिहार
 - 4. दास कर्मकार

Question ID : 26433085225

Status : Answered

Chosen Option : 3

Q.11 राष्ट्रिय आय को _____ की तरह परिभाषित किया जाता है।

- Ans
- 1. कारक लागत पर एन. एन. पी.
 - 2. कारक लागत पर जी. एन. पी.
 - 3. एन. एन. पी.
 - 4. बाजार मूल्य पर जी. एन. पी.

Question ID : 264330115345

Status : Not Answered

Chosen Option : --

Q.12 चुनाव आयोग _____, राज्य विधानमंडल और राष्ट्रपति एवं उपराष्ट्रपति के पदों के लिए चुनाव का संचालन करता है।

- Ans
- 1. डेप्युटी स्पीकर
 - 2. संसद
 - 3. स्पीकर
 - 4. प्रधानमंत्री

Question ID : 26433086834

Status : Answered

Chosen Option : 2

Q.13 हरित क्रांति के परिणामस्वरूप, भारत में, खाद्य फसलों का आयात _____ था।

- Ans
- 1. बढ़ गया
 - 2. प्रतिबंधित
 - 3. कम हो गया
 - 4. अप्रभावित रहा

Question ID : 264330115426

Status : Answered

Chosen Option : 1

Q.14 जनगणना 2011 के अनुसार देश का दूसरा सबसे कम जनसंख्या वाला राज्य कौन-सा है?

- Ans
- 1. अरुणाचल प्रदेश
 - 2. मेघालय
 - 3. मिज़ोरम
 - 4. सिक्किम

Question ID : 264330116052

Status : Answered

Chosen Option : 1

Q.15 अटलांटा के मेयर ने, किस नृत्य गुरु के सम्मान में 3 नवंबर 1994 को कुचिपुड़ी नृत्य नाट्य दिवस घोषित किया था?

- Ans
- 1. वेम्पति चिन्ना सत्यम
 - 2. एन राजम
 - 3. उदय शंकर
 - 4. जिया मोहिउद्दीन डागर

Question ID : 264330115843

Status : Answered

Chosen Option : 1

Q.16 भारत के किस केंद्रीय मंत्री ने 2022 में ट्रांसपोर्ट 4 ऑल चैलेंज स्टेज-2 का शुभारंभ किया?

- Ans
- 1. हरदीप सिंह पुरी
 - 2. राज कुमार सिंह
 - 3. धर्मेन्द्र प्रधान
 - 4. सर्बानंद सोनोवाल

Question ID : 264330114964

Status : Answered

Chosen Option : 4

Q.17 भारतीय जिम्नास्ट दीपा कर्माकर ने किस वर्ष ओलंपिक में भाग लिया था?

- Ans
- 1. 2016
 - 2. 2008
 - 3. 2012
 - 4. 2020

Question ID : 26433092328

Status : Answered

Chosen Option : 1

Q.18 आयरन की कमी से क्या होता है?

- Ans
- 1. थाइरोइड
 - 2. हाइपोकैल्शियमिया
 - 3. एनीमिया
 - 4. काशिओरकोर

Question ID : 264330115226

Status : Answered

Chosen Option : 3

Q.19 स्किल इंडिया, विभिन्न उद्योग से संबंधित नौकरियों में 40 करोड़ से अधिक भारतीयों को प्रशिक्षित करने के लिए सरकार द्वारा _____ में शुरू की गई एक पहल है।

- Ans
- 1. 2010
 - 2. 2015
 - 3. 2012
 - 4. 2017

Question ID : 264330116189

Status : Answered

Chosen Option : 4

Q.20 पंडित बिरजू महाराज निम्नलिखित में से किस नृत्य शैली से संबंधित थे?

- Ans
- 1. कथक
 - 2. मणिपुरी
 - 3. ओडिसी
 - 4. कुचिपुड़ी

Question ID : 26433071452

Status : Answered

Chosen Option : 1

Section : Part-C-Elementary Mathematics

Q.1 वन्यजीव गणना के अनुसार राजस्थान में 2021 में 550 तेंदुएं थे। यदि अगले वर्ष इसके 2 प्रतिशत बढ़ने की संभावना है, तो वर्ष 2022 में तेंदुओं की आबादी कितनी है?

- Ans
- 1. 581
 - 2. 566
 - 3. 561
 - 4. 578

Question ID : 264330116793

Status : Answered

Chosen Option : 3

Q.2 एक व्यापारी किसी वस्तु को अंकित मूल्य पर 15% की छूट देकर बेचने पर 10% का लाभ प्राप्त करता है। क्रय मूल्य और अंकित मूल्य का अनुपात क्या है?

- Ans
- 1. 17:22
 - 2. 15:22
 - 3. 12:17
 - 4. 13:21

Question ID : 26433075470

Status : Answered

Chosen Option : 1

Q.3 दो ट्रेनें एक ही समय में विजयवाड़ा और कलकत्ता से प्रस्थान करती हैं और क्रमशः 24 km/h और 42 km/h की चाल से एक-दूसरे की ओर बढ़ती हैं। जब वे मिलती हैं, तो पता चलता है कि एक ट्रेन ने दूसरी से 140 km अधिक यात्रा की है। दो स्टेशनों के बीच की दूरी कितनी है? (दो दशमलव स्थान तक मान लें)

- Ans
- 1. 540.33 km
 - 2. 413.33 km
 - 3. 510.33 km
 - 4. 513.33 km

Question ID : 26433081043

Status : Answered

Chosen Option : 4

Q.4 जॉन का मासिक व्यय उसके मासिक वेतन का 85% है और जैक का मासिक व्यय उसके मासिक वेतन का 90% है। इनका संयुक्त व्यय 88% है। यदि जॉन का मासिक वेतन ₹60,000 है, तो जैक का मासिक वेतन क्या है?

- Ans
- 1. ₹70,000
 - 2. ₹90,000
 - 3. ₹1,00,000
 - 4. ₹80,000

Question ID : 26433079912

Status : Not Answered

Chosen Option : --

Q.5 $\{8.4 \div 12 \times [(27 - 6)^2 \div 3] (7 - 5)\}$ को हल कीजिए।

- Ans
- 1. 176.4
 - 2. 205.8
 - 3. 182.4
 - 4. 132.5

Question ID : 26433079990

Status : Answered

Chosen Option : 2

Q.6 यदि एक बेलन के आधार का व्यास और ऊँचाई क्रमशः 16 cm और 20 cm है, तो बेलन का कुल पृष्ठीय क्षेत्रफल क्या होगा? ($\pi=22/7$ का उपयोग करें)

- Ans
- 1. 1428 cm²
 - 2. 1408 cm²
 - 3. 1454 cm²
 - 4. 1488 cm²

Question ID : 26433075711

Status : Answered

Chosen Option : 2

Q.7 10000 रुपए के बिल पर लागू। 32 प्रतिशत की छूट और 20 प्रतिशत और 12 प्रतिशत की दो क्रमिक छूट के बीच का अंतर है:

- Ans
- 1. 240 रुपए
 - 2. 260 रुपए
 - 3. 180 रुपए
 - 4. 190 रुपए

Question ID : 264330116758

Status : Answered

Chosen Option : 1

Q.8 यदि 45 आदमी किसी काम को 30 घंटे में कर सकते हैं, तो 20 आदमी उसी काम को कितने घंटे में करेंगे?

- Ans
- 1. 65.5
 - 2. 67.5
 - 3. 52.0
 - 4. 45.0

Question ID : 26433075950

Status : Answered

Chosen Option : 2

Q.9 A उतना ही कार्य कर सकता है जितना B और C मिलकर कर सकते हैं। A और B मिलकर एक कार्य को 7 घंटे 12 मिनट में कर सकते हैं और C उसी कार्य को 36 घंटे में कर सकता है। B को अकेले कार्य करने में लगने वाला समय (घंटों में) ज्ञात करें।

- Ans
- 1. 18 घंटे
 - 2. 13 घंटे
 - 3. 14 घंटे
 - 4. 15 घंटे

Question ID : 264330116873

Status : Not Answered

Chosen Option : --

Q.10 दो बाल्टियां दूध और पानी से 4 : 1 और 7 : 2 के अनुपात में भरी जाती हैं। यदि इन मिश्रणों को क्रमशः 1 : 5 के अनुपात में मिलाया जाता है, तो परिणामी मिश्रण में पानी और दूध का अनुपात ज्ञात करें।

- Ans
- 1. 34 : 211
 - 2. 59 : 111
 - 3. 211 : 59
 - 4. 59 : 211

Question ID : 26433075792

Status : Answered

Chosen Option : 4

Q.11 16 m, 14 m और 10 m एक कमरे की विमाएँ हैं। सभी विमाओं को यथार्थतः मापने के लिए सबसे बड़े पैमाने की लंबाई ज्ञात करें।

- Ans
- 1. 2 m
 - 2. 4 m
 - 3. 10 m
 - 4. 3 m

Question ID : 26433090275

Status : Answered

Chosen Option : 1

Q.12 रेवंत ने 8 कमीजें Rs.480 के कुल लाभ पर और 12 कमीजें Rs.160 के कुल लाभ पर बेचीं। उसे शेष 20 कमीजें प्रति कमीज कितने लाभ पर बेचनी चाहिए कि उसे प्रति कमीज Rs.20 का औसत लाभ प्राप्त हो?

- Ans
- 1. Rs.4
 - 2. Rs.6
 - 3. Rs.8
 - 4. Rs.2

Question ID : 26433073007

Status : Answered

Chosen Option : 3

Q.13 कुलदीप एक कार्य को करने में मनीष से दोगुना कुशल है। एक साथ कार्य करते हुए वे 36 दिनों में एक कार्य को पूरा कर सकते हैं। कुलदीप अकेले उस कार्य को _____ में पूरा कर सकता है।

- Ans
- 1. 54 दिनों
 - 2. 50 दिनों
 - 3. 56 दिनों
 - 4. 52 दिनों

Question ID : 26433076430

Status : Answered

Chosen Option : 1

Q.14 एक बैंक से ₹10,000 की राशि 6% वार्षिक की दर से ली जाती है, जो अर्धवार्षिक रूप से चक्रवृद्धि होती है। डेढ़ वर्ष बाद कितनी राशि वापस लौटानी होगी?

- Ans
- ✓ 1. ₹10,927
 - ✗ 2. ₹10,215
 - ✗ 3. ₹10,567
 - ✗ 4. ₹10,879

Question ID : 26433085763

Status : Answered

Chosen Option : 1

Q.15 यदि कोई व्यक्ति 10 किमी/घंटा की चाल से दौड़ता है, तो वह 300 मीटर की दूरी तय करने में कितना समय लेगा?

- Ans
- ✗ 1. 4 मिनट
 - ✗ 2. 8 मिनट
 - ✗ 3. 5 मिनट
 - ✓ 4. 1 मिनट 48 सेकंड

Question ID : 26433075392

Status : Answered

Chosen Option : 4

Q.16 यदि एक गोले की त्रिज्या 70 फुट है, तो उसका पृष्ठीय क्षेत्रफल ज्ञात कीजिए। ($\pi = \frac{22}{7}$) का प्रयोग कीजिए

- Ans
- ✗ 1. 43200 फुट²
 - ✗ 2. 53124 फुट²
 - ✗ 3. 71542 फुट²
 - ✓ 4. 61600 फुट²

Question ID : 26433080064

Status : Answered

Chosen Option : 4

Q.17 एक मूलधन 8% वार्षिक की चक्रवृद्धि ब्याज दर से 2 वर्षों में ₹1,458 हो जाता है और संयोजन वार्षिक रूप से किया गया है। मूलधन क्या है?

- Ans
- ✗ 1. ₹1,210
 - ✓ 2. ₹1,250
 - ✗ 3. ₹1,280
 - ✗ 4. ₹1,180

Question ID : 26433080129

Status : Answered

Chosen Option : 2

Q.18 राम यातायात में 20 घंटे में 500 km की दूरी तय करता है; उसने कुछ दूरी बाइक से 30 km/h की चाल से तय की और शेष दूरी कार से 20 km/h की चाल से तय की। बाइक द्वारा तय की गई दूरी (km में) _____ है।

- Ans 1. 300
 2. 200
 3. 250
 4. 100

Question ID : 26433079914
Status : Answered
Chosen Option : 3

Q.19 एक व्यक्ति एक रुपये में 25 वस्तुओं को बेचकर 20% लाभ कमाता है। उसने एक रुपये में कितनी वस्तु खरीदी थी?

- Ans 1. 30
 2. 25
 3. 40
 4. 35

Question ID : 26433075495
Status : Answered
Chosen Option : 2

Q.20 एक संख्या में पहले 20% की वृद्धि की जाती है और फिर 20% की कमी की जाती है। संख्या में प्रतिशत परिवर्तन क्या होगा?

- Ans 1. 4% की कमी होती है
 2. कोई परिवर्तन नहीं होता है
 3. 2% की वृद्धि होती है
 4. 4% की वृद्धि होती है

Question ID : 26433075139
Status : Answered
Chosen Option : 1

Section : Part-D-English

Q.1 Select the most appropriate ANTONYM of the given word.

Vicinity

- Ans 1. Adjacent
 2. Natural
 3. Remote
 4. Proximity

Question ID : 26433072215
Status : Not Answered
Chosen Option : --

Q.2 Select the most appropriate ANTONYM of the given word.

Jaded

- Ans
- 1. Unflinching
 - 2. Settled
 - 3. Renewed
 - 4. Impressed

Question ID : 26433091821
Status : Not Answered
Chosen Option : --

Q.3 Select the most appropriate meaning of the given idiom.

Bone to pick

- Ans
- 1. Having a complaint that needs to be discussed
 - 2. Having a fond memory to tell
 - 3. Cleaning the floor for any garbage
 - 4. Making a feast

Question ID : 26433084602
Status : Not Answered
Chosen Option : --

Q.4 Select the most appropriate option that can substitute the underlined segment in the given sentence.

The student repeatedly referred about one particular author during his presentation.

- Ans
- 1. referred to one particular
 - 2. referenced on one particular
 - 3. referred of one particular
 - 4. referred for one particular

Question ID : 26433091965
Status : Not Answered
Chosen Option : --

Q.5 Select the INCORRECTLY spelt word.

- Ans
- 1. Miniature
 - 2. Millennium
 - 3. Condolance
 - 4. Irrelevant

Question ID : 26433073737
Status : Not Answered
Chosen Option : --

Q.6 Select the most appropriate meaning of the underlined idiom that can be substituted in the following sentence.

The fate of the accused hangs in the balance.

- Ans 1. remains undecided
 2. gets a fair decision
 3. gets a very fast decision
 4. gets an unfair decision

Question ID : 26433072231
Status : Not Answered
Chosen Option : --

Q.7 The sentence given below has one misspelt word. Spot the INCORRECTLY spelt word and select its correct spelling.

Ashish was flabbergasted when we told him about our latest achievement.

- Ans 1. Flabergasted
 2. Fabbergasted
 3. Flabbergasted
 4. Flabergested

Question ID : 26433073549
Status : Not Answered
Chosen Option : --

Q.8 Select the correct pair of synonyms to fill in the blanks.

Seema was shivering, and her body was almost _____ due to the long exposure to _____ winds from the mountains.

- Ans 1. frozen, icy
 2. warm, steamy
 3. wet, humid
 4. dry, arid

Question ID : 26433061052
Status : Not Answered
Chosen Option : --

Q.9 Select the most appropriate option to fill in the blanks and make the sentence meaningful.

The _____ from my window is of the _____.

- Ans 1. seen; sea
 2. scene; sea
 3. scene; see
 4. seen; see

Question ID : 26433092100
Status : Not Answered
Chosen Option : --

Q.10 Select the most appropriate synonym of the given word.

Immune

- Ans 1. Resistant
 2. Sensitive
 3. Provoked
 4. Vulnerable

Question ID : 26433088202
Status : Not Answered
Chosen Option : --

Q.11 Select the most appropriate option that can substitute the underlined segment in the given sentence. If there is no need to substitute it, select 'No substitution'.
The young girl was so afraid of her seniors that she refused to go to school.

- Ans 1. so afraid over her seniors
 2. No substitution
 3. so afraid at her seniors
 4. so afraid to her seniors

Question ID : 26433093076
Status : Not Answered
Chosen Option : --

Q.12 Select the most appropriate synonym of the underlined word.

It was a perilous journey.

- Ans 1. Tremendous
 2. Loud
 3. Nasty
 4. Dangerous

Question ID : 26433088763
Status : Not Answered
Chosen Option : --

Q.13 Select the correct option to substitute the underlined segment in the given sentence. If no substitution is required, select 'No substitution'.

They is going to Delhi with their friends.

- Ans 1. No substitution
 2. was going
 3. will going
 4. are going

Question ID : 26433090805
Status : Not Answered
Chosen Option : --

Q.14 Select the most appropriate homonym of the given word.
Idol

- Ans 1. Idle
 2. dull
 3. doll
 4. eye lid

Question ID : 26433086348
Status : Not Answered
Chosen Option : --

Q.15 The following sentence has been split into four segments. Identify the segment that contains a grammatical error.

The teacher will / certainly help you / if you will / ask her.

- Ans 1. The teacher will
 2. certainly help you
 3. ask her
 4. if you will

Question ID : 264330108877
Status : Not Answered
Chosen Option : --

Comprehension:

In the following passage, some words have been deleted. Read the passage carefully and select the most appropriate option to fill in each blank.

A beautiful spectacle for anyone to (1)_____ would be the crowds that throng to see the Indian cricket team playing, whether it be in India or in other parts of the globe. This (2)_____ is the occasion where the spirit of oneness is all pervasive. India with all its diversity (3)_____ be seen either rejoicing or moaning depending on the sway of the game (4)_____ watched. Unity in diversity is (5)_____ in all its glory.

SubQuestion No : 16

Q.16 Select the most appropriate option to fill in blank number 1.

- Ans 1. tarnish
 2. vanish
 3. sold
 4. behold

Question ID : 26433091788
Status : Not Answered
Chosen Option : --

Comprehension:

In the following passage, some words have been deleted. Read the passage carefully and select the most appropriate option to fill in each blank.

A beautiful spectacle for anyone to (1)_____ would be the crowds that throng to see the Indian cricket team playing, whether it be in India or in other parts of the globe. This (2)_____ is the occasion where the spirit of oneness is all pervasive. India with all its diversity (3)_____ be seen either rejoicing or moaning depending on the sway of the game (4)_____ watched. Unity in diversity is (5)_____ in all its glory.

SubQuestion No : 17

Q.17 Select the most appropriate option to fill in blank number 2.

- Ans** 1. undoubtedly
 2. doubtfully
 3. indefinitely
 4. ruthlessly

Question ID : 26433091789

Status : Not Answered

Chosen Option : --

Comprehension:

In the following passage, some words have been deleted. Read the passage carefully and select the most appropriate option to fill in each blank.

A beautiful spectacle for anyone to (1)_____ would be the crowds that throng to see the Indian cricket team playing, whether it be in India or in other parts of the globe. This (2)_____ is the occasion where the spirit of oneness is all pervasive. India with all its diversity (3)_____ be seen either rejoicing or moaning depending on the sway of the game (4)_____ watched. Unity in diversity is (5)_____ in all its glory.

SubQuestion No : 18

Q.18 Select the most appropriate option to fill in blank number 3.

- Ans** 1. could
 2. shan't
 3. shouldn't
 4. won't

Question ID : 26433091790

Status : Not Answered

Chosen Option : --

Comprehension:

In the following passage, some words have been deleted. Read the passage carefully and select the most appropriate option to fill in each blank.

A beautiful spectacle for anyone to (1)_____ would be the crowds that throng to see the Indian cricket team playing, whether it be in India or in other parts of the globe. This (2)_____ is the occasion where the spirit of oneness is all pervasive. India with all its diversity (3)_____ be seen either rejoicing or moaning depending on the sway of the game (4)_____ watched. Unity in diversity is (5)_____ in all its glory.

SubQuestion No : 19

Q.19 Select the most appropriate option to fill in blank number 4.

- Ans 1. being
 2. going
 3. seeing
 4. on

Question ID : 26433091791

Status : Not Answered

Chosen Option : --

Comprehension:

In the following passage, some words have been deleted. Read the passage carefully and select the most appropriate option to fill in each blank.

A beautiful spectacle for anyone to (1)_____ would be the crowds that throng to see the Indian cricket team playing, whether it be in India or in other parts of the globe. This (2)_____ is the occasion where the spirit of oneness is all pervasive. India with all its diversity (3)_____ be seen either rejoicing or moaning depending on the sway of the game (4)_____ watched. Unity in diversity is (5)_____ in all its glory.

SubQuestion No : 20

Q.20 Select the most appropriate option to fill in blank number 5.

- Ans 1. redressed
 2. terraced
 3. procured
 4. witnessed

Question ID : 26433091792

Status : Not Answered

Chosen Option : --

Section : Part-D-Hindi

Q.1 निम्न वाक्य में रिक्त स्थान की पूर्ति उपयुक्त संज्ञा शब्द से करें।
जीवन में _____ होना अति आवश्यक है।

- Ans 1. आप
 2. मधुरता
 3. अपना
 4. कोई

Question ID : 26433085024

Status : Answered

Chosen Option : 2

Q.2 निम्नलिखित मुहावरे के लिए उपयुक्त अर्थ क्या होगा?
उल्टी गंगा बहाना

- Ans
- 1. नियम के विरुद्ध काम करना
 - 2. नदी की धारा को मोड़ देना
 - 3. बिना मतलब की बातें करना
 - 4. दूसरों की वस्तु चुरा लेना

Question ID : 26433065775

Status : Answered

Chosen Option : 1

Q.3 नीचे दिए गए वाक्य में रेखांकित अंश के स्थान पर सबसे उपयुक्त विकल्प कौन-सा होगा?
हमें अपने माता-पिता की शुश्रूषा करनी चाहिए।

- Ans
- 1. भक्ति
 - 2. गुस्सा
 - 3. सेवा
 - 4. नौकरी

Question ID : 26433066715

Status : Answered

Chosen Option : 3

Q.4 'कौरवों के चक्रव्यूह के कारण अल्पायु में अभिमन्यु को वीरगति मिली।' वाक्य में प्रयुक्त 'अल्पायु' का विलोम शब्द होगा-

- Ans
- 1. लघुआयु
 - 2. विरक्ति
 - 3. चिरंजीव
 - 4. चिरायु

Question ID : 26433069744

Status : Answered

Chosen Option : 3

Q.5 निम्न वाक्य में रेखांकित शब्द के स्थान पर सर्वोचित विकल्प चुनिए।
सूखा पड़ गया है, इसलिए इस बार हरियाली कम है।

- Ans
- 1. फसल
 - 2. समृद्धि
 - 3. उत्पादन
 - 4. मेहनत

Question ID : 26433084959

Status : Answered

Chosen Option : 1

Q.6 निम्नलिखित वाक्यांशों के लिए उपयुक्त शब्द का चयन विकल्पों में से कीजिए।
बिजली की तरह चमकने वाला

- Ans
- 1. विद्युतगामी
 - 2. विद्युत्प्रभ
 - 3. आकाशवृत्ति
 - 4. जाजुल्यमान

Question ID : 26433069996

Status : Answered

Chosen Option : 2

Q.7 निम्नलिखित वाक्यांश के लिए एक सार्थक शब्द चुनिए।
दूसरों का भला चाहने वाला

- Ans
- 1. पार्थिव
 - 2. वादी
 - 3. परार्थी
 - 4. स्वार्थी

Question ID : 26433062736

Status : Answered

Chosen Option : 3

Q.8 'महाभारत के युद्ध में कृष्ण ने कौरवों की मदद के लिए ग्यारह अक्षोहिणी सेनाएं दी थीं।' वाक्य में अशुद्ध
वर्तनी वाला शब्द निम्न में से कौन सा है?

- Ans
- 1. महाभारत
 - 2. कौरवों
 - 3. कृष्ण
 - 4. अक्षोहिणी

Question ID : 26433069697

Status : Answered

Chosen Option : 4

Q.9 निम्नलिखित शब्द के सही वर्तनी वाले पर्यायवाची शब्द का चयन कीजिए।
किरण

- Ans
- 1. अंसु
 - 2. रश्मि
 - 3. रस्मि
 - 4. किरन

Question ID : 26433066937

Status : Not Answered

Chosen Option : --

Q.10 नीचे दिए गए मुहावरे में रेखांकित अंश के स्थान पर सबसे उपयुक्त विकल्प कौन-सा होगा?
'एक और एक बारह होना'

- Ans 1. नौ
 2. ग्यारह
 3. तेरह
 4. दस

Question ID : 26433066740
Status : Answered
Chosen Option : 2

Q.11 उसने तरह – तरह के चमड़े के जूते खरीदे।
उपरोक्त वाक्य का शुद्ध रूप क्या होगा?

- Ans 1. उसने चमड़े के अलग – अलग जूता खरीदे।
 2. वह तरह – तरह के चमड़े जूते खरीदे।
 3. उन्होंने तरह – तरह की चमड़े जूते खरीदीं।
 4. उसने चमड़े के तरह – तरह के जूते खरीदे।

Question ID : 26433079235
Status : Answered
Chosen Option : 4

Q.12 निम्न में से किस वाक्य में 'अचल' के सही पर्यायवाची शब्द का प्रयोग हुआ है?

- Ans 1. अस्थिरता उसके स्वभाव की विशेषता है।
 2. उसके चित्त की अवस्था दोलायमान थी।
 3. वह अपने निर्णय पर अटल रहा।
 4. शुभदा बहुत चंचल है।

Question ID : 26433067010
Status : Answered
Chosen Option : 3

Q.13 निम्न विकल्पों में से अशुद्ध योगरूढ़ संज्ञा शब्द क्रम पहचानिए।

- Ans 1. पंकज, जलज, चक्रपाणि
 2. गिरिधर, पंचानन, नीरद
 3. लंबाउदर, दशोनन, पीताअंबर
 4. चतुर्भुज, चतुरानन, नीलकंठ

Question ID : 26433079225
Status : Answered
Chosen Option : 3

Q.14 'जिसे जीता न जा सके' वाक्यांश के लिए उचित शब्द बताइए-

- Ans
- 1. अजातशत्रु
 - 2. विजयी
 - 3. अजेय
 - 4. विजेता

Question ID : 26433065905

Status : Answered

Chosen Option : 3

Q.15 निम्नलिखित वाक्य में रेखांकित शब्द का विलोम बताइए।
दिनकर समाज के लिए 'परमार्थ' का कार्य करता है।

- Ans
- 1. सेवक
 - 2. सुकार्य
 - 3. निस्वार्थ
 - 4. स्वार्थ

Question ID : 26433085076

Status : Answered

Chosen Option : 4

www.govtjobsalert.in

Comprehension:

प्रश्न 1 से 5 तक के उत्तर निम्नांकित गद्यावतरण के आधार पर दीजिए।
संसार के समस्त जीवों में मनुष्य को श्रेष्ठ माना गया है, क्योंकि वह अन्य जीवों की अपेक्षा अधिक 1. _____ और विवेकशील है। वह केवल वर्तमान की ही नहीं सोचता बल्कि भविष्य के बारे में विचार करता है। वह केवल अपनी ओर ध्यान नहीं देता वरन् दूसरों का भी खयाल रखता है। उसमें उचित और अनुचित का ज्ञान कराने वाली बुद्धि होती है। इसी आधार पर बुद्धि के दो पक्ष हैं : एक सुबुद्धि और दूसरी दुर्बुद्धि। सुबुद्धि की बड़ी महिमा है। इसी को सुमति अर्थात् अच्छी मति भी कहा जाता है। जब तक मनुष्य में सुमति रहती है तब तक उसमें अच्छे – बुरे का विवेक भी होता है। जब वह सुमति से हटकर कुमति या दुर्बुद्धि में आ जाता है तब वह बुरे एवं अनुचित कार्य में लग जाता है। सुमति के द्वारा 2. _____ की भी प्राप्ति होती है अर्थात् उसे धन, सम्मान, स्त्री, पुत्र आदि का सुख मिलता है। इन सभी की प्राप्ति विवेक अथवा सुबुद्धि द्वारा संभव है। जो लोग मिल – जुलकर और 3. _____ से कार्य करते हैं उन पर लक्ष्मी की कृपा रहती है। उन्हें सभी की ओर से आदर मिलता है। इससे उनमें ऐसी शक्ति पैदा होती है जिससे वे देश, जाति और परिवार को गौरवमय बनाते हैं। सुमति ही सफलता की जननी है। जीवन में वही व्यक्ति सफल होता है जो कठिन से कठिन परिस्थितियों में अपनी बुद्धि पर विश्वास रखता है तथा है परिश्रम, ईमानदारी और विवेक से काम करता है। सभी का आदर करना, बड़ों के प्रति अप्रिय न बोलना, सभी से नम्र और 4. _____ बने रहना सुमति के अंतर्गत आते हैं। जहाँ सुमति नहीं रहती वहाँ दंभ, अहंकार, क्रोध और अधैर्य का साम्राज्य रहता है। सुमति – हीन लोगों से संपत्ति भी 5. _____ दूर रहती है और वे विपत्तियों में घिरे रहते हैं।

SubQuestion No : 16

Q.16 'बुद्धिमती' के पुल्लिंग शब्द से रिक्त स्थान 1 की पूर्ति कीजिए।

- Ans
- 1. बुद्धिजीवी
 - 2. बुद्धिहीन
 - 3. बुद्धिमान
 - 4. बुद्धिवादी

Question ID : 26433080951

Status : Answered

Chosen Option : 1

Comprehension:

प्रश्न 1 से 5 तक के उत्तर निम्नांकित गद्यावतरण के आधार पर दीजिए।
संसार के समस्त जीवों में मनुष्य को श्रेष्ठ माना गया है, क्योंकि वह अन्य जीवों की अपेक्षा अधिक 1. _____ और विवेकशील है। वह केवल वर्तमान की ही नहीं सोचता बल्कि भविष्य के बारे में विचार करता है। वह केवल अपनी ओर ध्यान नहीं देता वरन् दूसरों का भी खयाल रखता है। उसमें उचित और अनुचित का ज्ञान कराने वाली बुद्धि होती है। इसी आधार पर बुद्धि के दो पक्ष हैं : एक सुबुद्धि और दूसरी दुर्बुद्धि। सुबुद्धि की बड़ी महिमा है। इसी को सुमति अर्थात् अच्छी मति भी कहा जाता है। जब तक मनुष्य में सुमति रहती है तब तक उसमें अच्छे – बुरे का विवेक भी होता है। जब वह सुमति से हटकर कुमति या दुर्बुद्धि में आ जाता है तब वह बुरे एवं अनुचित कार्य में लग जाता है। सुमति के द्वारा 2. _____ की भी प्राप्ति होती है अर्थात् उसे धन, सम्मान, स्त्री, पुत्र आदि का सुख मिलता है। इन सभी की प्राप्ति विवेक अथवा सुबुद्धि द्वारा संभव है। जो लोग मिल – जुलकर और 3. _____ से कार्य करते हैं उन पर लक्ष्मी की कृपा रहती है। उन्हें सभी की ओर से आदर मिलता है। इससे उनमें ऐसी शक्ति पैदा होती है जिससे वे देश, जाति और परिवार को गौरवमय बनाते हैं। सुमति ही सफलता की जननी है। जीवन में वही व्यक्ति सफल होता है जो कठिन से कठिन परिस्थितियों में अपनी बुद्धि पर विश्वास रखता है तथा है परिश्रम, ईमानदारी और विवेक से काम करता है। सभी का आदर करना, बड़ों के प्रति अप्रिय न बोलना, सभी से नम्र और 4. _____ बने रहना सुमति के अंतर्गत आते हैं। जहाँ सुमति नहीं रहती वहाँ दंभ, अहंकार, क्रोध और अधैर्य का साम्राज्य रहता है। सुमति – हीन लोगों से संपत्ति भी 5. _____ दूर रहती है और वे विपत्तियों में घिरे रहते हैं।

SubQuestion No : 17

Q.17 'दौलत' के पर्यायवाची शब्द से रिक्त स्थान 2 की पूर्ति कीजिए।

- Ans
- 1. ऐश - आराम
 - 2. विपत्ति
 - 3. संपत्ति
 - 4. भोग - विलास

Question ID : 26433080952

Status : Answered

Chosen Option : 3

Comprehension:

प्रश्न 1 से 5 तक के उत्तर निम्नांकित गद्यावतरण के आधार पर दीजिए।
संसार के समस्त जीवों में मनुष्य को श्रेष्ठ माना गया है, क्योंकि वह अन्य जीवों की अपेक्षा अधिक 1. _____ और विवेकशील है। वह केवल वर्तमान की ही नहीं सोचता बल्कि भविष्य के बारे में विचार करता है। वह केवल अपनी ओर ध्यान नहीं देता वरन् दूसरों का भी खयाल रखता है। उसमें उचित और अनुचित का ज्ञान कराने वाली बुद्धि होती है। इसी आधार पर बुद्धि के दो पक्ष हैं : एक सुबुद्धि और दूसरी दुर्बुद्धि। सुबुद्धि की बड़ी महिमा है। इसी को सुमति अर्थात् अच्छी मति भी कहा जाता है। जब तक मनुष्य में सुमति रहती है तब तक उसमें अच्छे – बुरे का विवेक भी होता है। जब वह सुमति से हटकर कुमति या दुर्बुद्धि में आ जाता है तब वह बुरे एवं अनुचित कार्य में लग जाता है। सुमति के द्वारा 2. _____ की भी प्राप्ति होती है अर्थात् उसे धन, सम्मान, स्त्री, पुत्र आदि का सुख मिलता है। इन सभी की प्राप्ति विवेक अथवा सुबुद्धि द्वारा संभव है। जो लोग मिल – जुलकर और 3. _____ से कार्य करते हैं उन पर लक्ष्मी की कृपा रहती है। उन्हें सभी की ओर से आदर मिलता है। इससे उनमें ऐसी शक्ति पैदा होती है जिससे वे देश, जाति और परिवार को गौरवमय बनाते हैं। सुमति ही सफलता की जननी है। जीवन में वही व्यक्ति सफल होता है जो कठिन से कठिन परिस्थितियों में अपनी बुद्धि पर विश्वास रखता है तथा है परिश्रम, ईमानदारी और विवेक से काम करता है। सभी का आदर करना, बड़ों के प्रति अप्रिय न बोलना, सभी से नम्र और 4. _____ बने रहना सुमति के अंतर्गत आते हैं। जहाँ सुमति नहीं रहती वहाँ दंभ, अहंकार, क्रोध और अधैर्य का साम्राज्य रहता है। सुमति – हीन लोगों से संपत्ति भी 5. _____ दूर रहती है और वे विपत्तियों में घिरे रहते हैं।

SubQuestion No : 18

Q.18 निम्न विकल्पों में से उपयुक्त प्रत्यय युक्त शब्द से रिक्त स्थान 3 की पूर्ति कीजिए।

- Ans
- ✓ 1. ईमानदारी
 - ✗ 2. चौकीदारी
 - ✗ 3. अनुरागी
 - ✗ 4. वैरागी

Question ID : 26433080953

Status : Answered

Chosen Option : 1

Comprehension:

प्रश्न 1 से 5 तक के उत्तर निम्नांकित गद्यावतरण के आधार पर दीजिए।
संसार के समस्त जीवों में मनुष्य को श्रेष्ठ माना गया है, क्योंकि वह अन्य जीवों की अपेक्षा अधिक 1. _____ और विवेकशील है। वह केवल वर्तमान की ही नहीं सोचता बल्कि भविष्य के बारे में विचार करता है। वह केवल अपनी ओर ध्यान नहीं देता वरन् दूसरों का भी खयाल रखता है। उसमें उचित और अनुचित का ज्ञान कराने वाली बुद्धि होती है। इसी आधार पर बुद्धि के दो पक्ष हैं : एक सुबुद्धि और दूसरी दुर्बुद्धि। सुबुद्धि की बड़ी महिमा है। इसी को सुमति अर्थात् अच्छी मति भी कहा जाता है। जब तक मनुष्य में सुमति रहती है तब तक उसमें अच्छे – बुरे का विवेक भी होता है। जब वह सुमति से हटकर कुमति या दुर्बुद्धि में आ जाता है तब वह बुरे एवं अनुचित कार्य में लग जाता है। सुमति के द्वारा 2. _____ की भी प्राप्ति होती है अर्थात् उसे धन, सम्मान, स्त्री, पुत्र आदि का सुख मिलता है। इन सभी की प्राप्ति विवेक अथवा सुबुद्धि द्वारा संभव है। जो लोग मिल – जुलकर और 3. _____ से कार्य करते हैं उन पर लक्ष्मी की कृपा रहती है। उन्हें सभी की ओर से आदर मिलता है। इससे उनमें ऐसी शक्ति पैदा होती है जिससे वे देश, जाति और परिवार को गौरवमय बनाते हैं। सुमति ही सफलता की जननी है। जीवन में वही व्यक्ति सफल होता है जो कठिन से कठिन परिस्थितियों में अपनी बुद्धि पर विश्वास रखता है तथा है परिश्रम, ईमानदारी और विवेक से काम करता है। सभी का आदर करना, बड़ों के प्रति अप्रिय न बोलना, सभी से नम्र और 4. _____ बने रहना सुमति के अंतर्गत आते हैं। जहाँ सुमति नहीं रहती वहाँ दंभ, अहंकार, क्रोध और अधैर्य का साम्राज्य रहता है। सुमति – हीन लोगों से संपत्ति भी 5. _____ दूर रहती है और वे विपत्तियों में घिरे रहते हैं।

SubQuestion No : 19

Q.19 निम्नलिखित विकल्पों में से सही शब्द चुनकर रिक्त स्थान 4 की पूर्ति कीजिए।

- Ans
- 1. अहंकार
 - 2. निष्ठुर
 - 3. उदार
 - 4. अनुदार

Question ID : 26433080954

Status : Answered

Chosen Option : 3

Comprehension:

प्रश्न 1 से 5 तक के उत्तर निम्नांकित गद्यावतरण के आधार पर दीजिए।
संसार के समस्त जीवों में मनुष्य को श्रेष्ठ माना गया है, क्योंकि वह अन्य जीवों की अपेक्षा अधिक 1. _____ और विवेकशील है। वह केवल वर्तमान की ही नहीं सोचता बल्कि भविष्य के बारे में विचार करता है। वह केवल अपनी ओर ध्यान नहीं देता वरन् दूसरों का भी खयाल रखता है। उसमें उचित और अनुचित का ज्ञान कराने वाली बुद्धि होती है। इसी आधार पर बुद्धि के दो पक्ष हैं : एक सुबुद्धि और दूसरी दुर्बुद्धि। सुबुद्धि की बड़ी महिमा है। इसी को सुमति अर्थात् अच्छी मति भी कहा जाता है। जब तक मनुष्य में सुमति रहती है तब तक उसमें अच्छे – बुरे का विवेक भी होता है। जब वह सुमति से हटकर कुमति या दुर्बुद्धि में आ जाता है तब वह बुरे एवं अनुचित कार्य में लग जाता है। सुमति के द्वारा 2. _____ की भी प्राप्ति होती है अर्थात् उसे धन, सम्मान, स्त्री, पुत्र आदि का सुख मिलता है। इन सभी की प्राप्ति विवेक अथवा सुबुद्धि द्वारा संभव है। जो लोग मिल – जुलकर और 3. _____ से कार्य करते हैं उन पर लक्ष्मी की कृपा रहती है। उन्हें सभी की ओर से आदर मिलता है। इससे उनमें ऐसी शक्ति पैदा होती है जिससे वे देश, जाति और परिवार को गौरवमय बनाते हैं। सुमति ही सफलता की जननी है। जीवन में वही व्यक्ति सफल होता है जो कठिन से कठिन परिस्थितियों में अपनी बुद्धि पर विश्वास रखता है तथा है परिश्रम, ईमानदारी और विवेक से काम करता है। सभी का आदर करना, बड़ों के प्रति अप्रिय न बोलना, सभी से नम्र और 4. _____ बने रहना सुमति के अंतर्गत आते हैं। जहाँ सुमति नहीं रहती वहाँ दंभ, अहंकार, क्रोध और अधैर्य का साम्राज्य रहता है। सुमति – हीन लोगों से संपत्ति भी 5. _____ दूर रहती है और वे विपत्तियों में घिरे रहते हैं।

SubQuestion No : 20

Q.20 उपयुक्त संधि शब्द से रिक्त स्थान 5 की पूर्ति कीजिए।

- Ans
- ✓ 1. सदा + एव = सदैव
 - ✗ 2. सम + योग = संयोग
 - ✗ 3. सम् + चय = संचय
 - ✗ 4. सम + तोष = संतोष

Question ID : 26433080955

Status : Answered

Chosen Option : 1