

Constable (GD) in CAPFs, NIA, SSF and Rifleman (GD) in Assam Rifles Examination, 2018

Roll No. :	www.GovtJobsAlert.In
Registration No.	GovtJobsAlert.In
Name :	GovtJobsAlert.In
Exam Venue :	iON Digital Zone iDZ Gram Raigawan Near Patan Bypass
Exam Time :	9:00 AM - 10:30 AM
Exam Date :	11/02/2019

Section : General Section

Q.1 पांच छात्र एक कतार में खड़े हैं। सुमन प्रणव के बगल में खड़ी है, लेकिन वह दीना के बगल में नहीं खड़ी है। कुमार राजू के बगल में खड़ा है, जो सबसे बाईं ओर खड़ा है, और दीना कुमार के बगल में नहीं खड़ा है। बीच में कौन खड़ा है?

- Ans
- 1. सुमन
 - 2. राजू
 - 3. कुमार
 - 4. दीना

Question ID : 9895802407
Chosen Option : 1

Q.2 एक साइक्लिंग प्रतियोगिता में पांच छात्रों ने हिस्सा लिया। रॉबर्ट, मोनिश से पहले लेकिन गुंजन के बाद में आया। अनिल सुनील से पहले लेकिन मोनिश से बाद में रह गया। प्रतियोगिता किसने जीती?

- Ans
- 1. रॉबर्ट
 - 2. अनिल
 - 3. मोनिश
 - 4. गुंजन

Question ID : 9895802409
Chosen Option : 3

Q.3 उस संख्या को पहचानें जो अन्य से भिन्न है।

- Ans
- 1. 252
 - 2. 196
 - 3. 256
 - 4. 121

Question ID : 9895802415
Chosen Option : 1

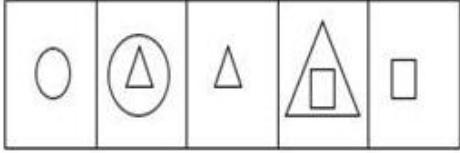
Q.4 उस विकल्प का चयन करें जो XY रेखा पर दर्पण रखे जाने पर दिए गए शब्द की दर्पण छवि से सर्वाधिक मेल खाता है।

X
ACE
Y

- Ans
- 1. ECA
 - 2. ACE
 - 3. ECA
 - 4. ACE

Question ID : 9895802421
Chosen Option : 3

Q.5 निम्नलिखित श्रृंखला में आगे आने वाली आकृति का चयन करें।



- Ans
- 1.
 - 2.
 - 3.
 - 4.

Question ID : 9895802418
Chosen Option : 4

Q.6 निम्नलिखित में से असंगत युग्म को पहचानें।

- Ans
- 1. मिश्र : कैरो
 - 2. इटली : रोम
 - 3. इराक : दीनार
 - 4. ग्रीस : एथेंस

Question ID : 9895802402
Chosen Option : 1

Q.7 निम्नलिखित में से असंगत को पहचानें।

- Ans
- 1. DCBA
 - 2. LKJI
 - 3. ZYXW
 - 4. QRSP

Question ID : 9895802401
Chosen Option : 4

Q.8 निम्नलिखित श्रृंखला में आगे आने वाले अक्षर का चयन करें।

O, R, U, X, A, _____

- Ans
- 1. D
 - 2. E
 - 3. C
 - 4. B

Question ID : 9895802399
Chosen Option : 1

Q.9 उस विकल्प का चयन करें जो तीसरी संख्या से उसी प्रकार संबंधित है जिस प्रकार दूसरी संख्या पहली संख्या से संबंधित है।

11 : 169 :: 18 : _____

- Ans
- 1. 256
 - 2. 400
 - 3. 361
 - 4. 396

Question ID : 9895802414
Chosen Option : 1

Q.1 नीचे दिए गए कथनों के बाद दो निष्कर्ष I और II दिए गए हैं। यह मानते हुए कि कथनों में दी गई जानकारी सत्य है, भले ही वह सर्वज्ञात तथ्यों से भिन्न प्रतीत होती हो, यह निर्णय करें कि कौन सा / से निष्कर्ष तार्किक और निश्चित रूप से कथन में दी गई जानकारी का अनुसरण करता है / करते हैं।

कथन:
कुछ गुड़िया फूल हैं।
कोई भी पेड़ गुड़िया नहीं है।

निष्कर्ष:
I. कोई गुड़िया पेड़ नहीं है।
II कुछ फूल पेड़ हैं।

Ans

1. केवल निष्कर्ष ॥ अनुसरण करता है।
2. दोनों निष्कर्ष । और ॥ अनुसरण करते हैं।
3. न तो निष्कर्ष । और ना ही निष्कर्ष ॥ अनुसरण करता है।
4. केवल निष्कर्ष । अनुसरण करता है।

Question ID : 9895802411
Chosen Option : 1

Q.1 उस विकल्प का चयन करें जो तीसरे पद से उसी प्रकार संबंधित है, जिस प्रकार दूसरा पद पहले पद से संबंधित है।

1
बैल : गाय :: शेर : _____

- Ans 1. शेरनी
2. हिरणी
3. घोड़ी
4. पशुशावक

Question ID : 9895802404
Chosen Option : 1

Q.1 एक मंजिल पर छह कार्यालय क्रमशः A, B, C, D, E और F को आवंटित किया जाता है। ये कार्यालय दो कतारों में हैं, एक कतार का रुख उत्तर की ओर, तथा दूसरी कतार का रुख दक्षिण की ओर है। B को उत्तर-मुखी कार्यालय मिला जो कि D के बगल में नहीं है। D और F को तिरछे रूप से आमने-सामने कार्यालय मिले। C, जिसका कार्यालय F के बगल में है, को दक्षिण-मुखी कार्यालय मिला, और E को उत्तर-मुखी कार्यालय मिला। निम्नलिखित में से किस संयोजन को दक्षिण-मुखी कार्यालय मिले?


- Ans 1. ABC
2. FAE
3. BED
4. FCA

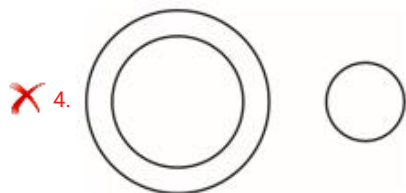
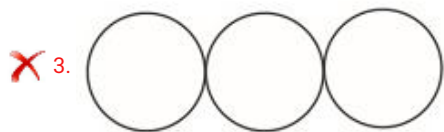
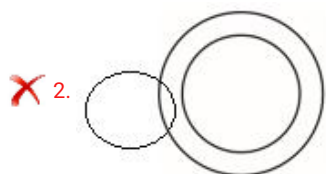
Question ID : 9895802408
Chosen Option : 4

Q.1 उस वेन रेखाचित्र का चयन करें जो नीचे दिए गए तीन वर्गों के बीच के संबंध को बेहतर रूप से दर्शाता हो।

विद्यालय, अध्यापक, छात्र

Ans

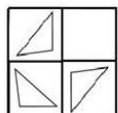




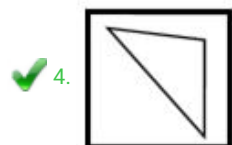
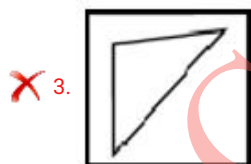
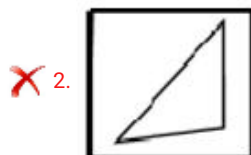
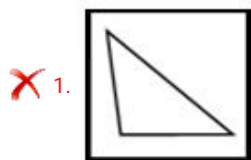
Question ID : 9895802423

Chosen Option : 1

Q.1 4 उस विकल्प आकृति का चयन करें, जिसे प्रश्न की गयी आकृति के रिक्त स्थान में रखने पर आकृति पूर्ण हो जाएगी।



Ans



Question ID : 9895802419

Chosen Option : 4

Q.1 5 उस संख्या को पहचानें जो निम्न श्रृंखला से संबंधित नहीं है।

2, 9, 28, 64, 126, 217, 344, 513

- Ans
- 1. 513
 - 2. 64
 - 3. 344
 - 4. 28

Question ID : 9895802413
Chosen Option : 3

Q.1 यदि CHILDREN को कूट भाषा में LIHCNERD लिखा जाता है, तो MOVEMENT को कूट भाषा में कैसे लिखेंगे?
6

- Ans
- 1. TNEMEVOM
 - 2. EVOMMENT
 - 3. EVOMTNEM
 - 4. EVOMTMEN

Question ID : 9895802406
Chosen Option : 3

Q.1 दिए गए कथनों और निष्कर्षों को ध्यानपूर्वक पढ़ें और बताएँ कि कौन सा निष्कर्ष तार्किक रूप से कथनों का अनुसरण करता है।
7

कथन:

जापान में काम करने वाले सभी वैज्ञानिक प्रतिभाशाली हैं।
जापान में कुछ चीनी वैज्ञानिक काम कर रहे हैं।

निष्कर्ष:

- I. कोई भी चीनी वैज्ञानिक प्रतिभाशाली नहीं है।
- II. कुछ प्रतिभाशाली चीनी वैज्ञानिक जापान में काम कर रहे हैं।
- III. सभी प्रतिभाशाली वैज्ञानिक जापानी हैं।
- IV. कुछ चीनी वैज्ञानिक प्रतिभाशाली हैं।

- Ans
- 1. केवल निष्कर्ष II और IV अनुसरण करते हैं।
 - 2. केवल निष्कर्ष II अनुसरण करता है।
 - 3. केवल निष्कर्ष I अनुसरण करता है।
 - 4. केवल निष्कर्ष III और IV अनुसरण करते हैं।

Question ID : 9895802410
Chosen Option : 2

Q.1 निम्नलिखित श्रृंखला में अगली संख्या का चयन करें।
8

1, 3, 5, 11, 21, 43, 85, 171, _____

- Ans
- 1. 342
 - 2. 247
 - 3. 354
 - 4. 341

Q.1 विकल्पों में दिए गए चार परिवर्तनों में से कौन सा निम्नलिखित समीकरण को सही करेगा?

$$30 \times 3 - 3 = 13$$

Ans 1. \times , \div में बदला जाये; $-$, $+$ में बदला जाये

2.

\times और $-$ आपस में बदले जाये; 3 और 30 आपस में बदले जाये

3. \times , $+$ में बदला जाये; $-$, \div में बदला जाये

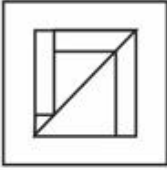
4. \times और $-$ आपस में बदले जाये

Q.2 उस विकल्प चित्र का चयन करें जिसमें प्रश्न चित्र छिपा / सन्निकित है। (घूर्णन की अनुमति नहीं है)



Ans

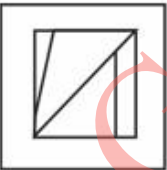
1.



2.



3.



4.



Q.2 निम्नलिखित में से असंगत को पहचानें।

Ans 1. बड़ा

2. ऊपर

✗ 3. आगे

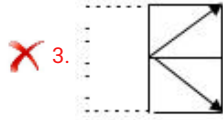
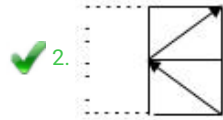
✗ 4. नीचे

Question ID : 9895802400
Chosen Option : 1

Q.2 एक वर्गाकार पारदर्शी कागज एक पैटर्न के साथ दिया गया है। चार विकल्पों में से उस विकल्प का चयन करें, जो पारदर्शी कागज को बिंदु से बनाई गई रेखा पर मोड़ने से बनेगा।



Ans



Question ID : 9895802422
Chosen Option : 4

Q.2 उस विकल्प का चयन करें जो दी गई जोड़ी के अनुरूप है।

CD : HI

Ans

✗ 1. AB : XY

✓ 2. PQ : UV

✗ 3. KL : NO

✗ 4. IJ : MN

Question ID : 9895802403
Chosen Option : 4

Q.2 निम्नलिखित संख्या श्रृंखला में, दो संख्याओं को कोष्ठक के भीतर रखा गया है। श्रृंखला का ध्यानपूर्वक अध्ययन करें और श्रृंखला के संबंध में सही विकल्प का चयन करें।

4, 6, 10, (12), 16, (14), 22

Ans

✗ 1. दोनों कोष्ठक संख्याएँ गलत हैं।

✓ 2. पहली कोष्ठक संख्या (बाएं से) सही है और दूसरी गलत है।

✗ 3. दोनों कोष्ठक संख्याएँ सही हैं।

✗ 4. पहली कोष्ठक संख्या (बाएं से) गलत है और दूसरी सही है।

Question ID : 9895802417
Chosen Option : 1

Q.2
5 यदि D = 4 और G = 7, तब GARDEN = कितना होगा?

- Ans
- ✗ 1. 40
 - ✓ 2. 49
 - ✗ 3. 47
 - ✗ 4. 50

Question ID : 9895802405
Chosen Option : 2

Q.2
6 जीएसटी का पूरा अर्थ क्या होता है?

- Ans
- ✓ 1. गुड्स एंड सर्विस टैक्स
 - ✗ 2. ग्रोथ एंड सर्विस टैक्स
 - ✗ 3. ग्रोथ एंड सेल टैक्स
 - ✗ 4. गुड्स एंड सेल्स टैक्स

Question ID : 9895802961
Chosen Option : 1

Q.2
7 पत्तियों में मौजूद हरा रंग किस नाम से जाना जाता है?

- Ans
- ✗ 1. जाइलम
 - ✓ 2. क्लोरोफिल
 - ✗ 3. टिस्सू
 - ✗ 4. फ्लोएम

Question ID : 9895802966
Chosen Option : 2

Q.2
8 _____ एक पक्षी है, जो शांति का प्रतीक है।

- Ans
- ✓ 1. कबूतर
 - ✗ 2. उल्लू
 - ✗ 3. कौआ
 - ✗ 4. मोर

Question ID : 9895802957
Chosen Option : 4

Q.2 आर्किटेक्चर की जड़ने की तकनीक, पिएट्रा इयूरा निम्नलिखित में से किस स्मारक में पायी जाती है?

- Ans
- 1. इंडिया गेट
 - 2. ताजमहल
 - 3. गेटवे ऑफ इंडिया
 - 4. चार मीनार

Question ID : 9895802976
Chosen Option : 2

Q.3 नमक का रासायनिक नाम क्या है?

- Ans
- 1. सोडियम कार्बोनेट
 - 2. सोडियम हाइड्रोजन कार्बोनेट
 - 3. हाइड्रोजन क्लोराइड
 - 4. सोडियम क्लोराइड

Question ID : 9895802965
Chosen Option : 4

Q.3 लावणी कौन से राज्य का लोकनृत्य प्रकार है?

- Ans
- 1. गुजरात
 - 2. बिहार
 - 3. राजस्थान
 - 4. महाराष्ट्र

Question ID : 9895802953
Chosen Option : 4

Q.3 पुस्तक 'इंडिया 2020' _____ द्वारा लिखी गई है।

- Ans
- 1. राम नाथ कोविंद
 - 2. प्रसून जोशी
 - 3. प्रणब मुखर्जी
 - 4. डॉ. एपीजे अब्दुल कलाम

Question ID : 9895802958
Chosen Option : 4

Q.3 तमिलनाडु की प्रख्यात शास्त्रीय नृत्य शैली कौन सी है?

Ans ✓ 1. भरतनाट्यम

✗ 2. कुचीपुडु

✗ 3. कथक

✗ 4. मोहिनीअट्टम

Question ID : 9895802952
Chosen Option : 1

Q.3
4 _____ इंग्लिश चैनल तैरकर पार करने वाली पहली भारतीय महिला कौन हैं।

Ans ✗ 1. शिखा टंडन

✗ 2. शिवानी कटारिया

✓ 3. आरती साहा

✗ 4. सानिया मिर्जा

Question ID : 9895802955
Chosen Option : 2

Q.3
5 नर्मदा नदी मध्यप्रदेश में _____ से निकलती है।

Ans ✗ 1. अरावली की पहाड़ियों

✗ 2. सतपुड़ा पर्वतश्रेणी

✗ 3. नीलगिरी की पहाड़ियों

✓ 4. अमरकंटक की पहाड़ियों

Question ID : 9895802972
Chosen Option : 4

Q.3
6 _____ भारतीय अर्थव्यवस्था का प्राथमिक क्षेत्र है।

Ans ✓ 1. कृषि

✗ 2. बैंकिंग

✗ 3. सूचना और प्रौद्योगिकी

✗ 4. न्यायतंत्र

Question ID : 9895802960
Chosen Option : 1

Q.3
7 _____ भारत का एक प्रमुख लौह अयस्क क्षेत्र है।

Ans ✗ 1. गुजरात-राजस्थान क्षेत्र

✓ 2. ओडिशा-झारखंड क्षेत्र

3. उत्तरप्रदेश-बिहार क्षेत्र
 4. तामिलनाडु-छत्तीसगढ़ क्षेत्र

Question ID : 9895802971
Chosen Option : 2

Q.3
8 बैस्टिल जेल पर जनता के हमले कौन सी घटना को जन्म दिया?

- Ans 1. ज़ार के पतन
 2. रूसी क्रांति
 3. फ्रांस की क्रांति
 4. सोवियत संघ का विघटन

Question ID : 9895802973
Chosen Option : 1

Q.3
9 डीएनए का पूर्ण रूप क्या है?

- Ans 1. डेल्टान्यूक्लिक एसिड
 2. डिऑक्सीराइबोन्यूट्रल एसिड
 3. डिऑक्सीराइबोन्यूक्लिक एसिड
 4. डिऑक्सीन्यूक्लिक एसिड

Question ID : 9895802968
Chosen Option : 2

Q.4
0 निम्नलिखित में से कौन से स्थल पर 1920 में भारतीय राष्ट्रीय कांग्रेस की बैठक हुई?

- Ans 1. नागपुर
 2. त्रिपुरा
 3. थिरुवनंतपुरम
 4. मुंबई

Question ID : 9895802974
Chosen Option : 1

Q.4
1 _____ को 'लाईट ऑफ एशिया (एशिया की ज्योती)' के रूप में भी जाना जाता है।

- Ans 1. रूसी
 2. गांधी
 3. स्वामी विवेकानंद

✓ 4. बुद्ध

Question ID : 9895802956
Chosen Option : 4

Q.4
2 मानव शरीर की सबसे लंबी हड्डी कौन सी है?

- Ans
- ✓ 1. फीमर
 - ✗ 2. टिबिया
 - ✗ 3. रेडियस
 - ✗ 4. अल्ना

Question ID : 9895802967
Chosen Option : 3

Q.4
3 नॉमिनल जीडीपी के आधार पर, भारत 2018 में विश्व की _____ सबसे बड़ी अर्थव्यवस्था है।

- Ans
- ✗ 1. पांचवी
 - ✓ 2. सातवी
 - ✗ 3. दसवी
 - ✗ 4. तीसरी

Question ID : 9895802959
Chosen Option : 2

Q.4
4 श्रीलंका में गृहयुद्ध कब समाप्त हुआ?

- Ans
- ✗ 1. 1909
 - ✗ 2. 1800
 - ✓ 3. 2009
 - ✗ 4. 2001

Question ID : 9895802964
Chosen Option : 3

Q.4
5 निम्न में से कौन सा अंतःसावी तंत्र का हिस्सा नहीं है?

- Ans
- ✗ 1. थाइमस
 - ✓ 2. लार ग्रंथि
 - ✗ 3. पीनियल ग्रंथि
 - ✗ 4. एड्रीनल ग्रंथि

Question ID : 9895802969
Chosen Option : 1

Q.4
6 भारत देश का सबसे छोटा राज्य कौन सा है?

- Ans
- 1. गोआ
 - 2. सिक्किम
 - 3. पंजाब
 - 4. त्रिपुरा

Question ID : 9895802970
Chosen Option : 1

Q.4
7 ओलंपिक में रजत पदक जीतने वाली पहली भारतीय महिला कौन हैं?

- Ans
- 1. पी.वी. सिंधु
 - 2. सायना नेहवाल
 - 3. अरुंधति पंतावने
 - 4. तन्वी लाड

Question ID : 9895802954
Chosen Option : 1

Q.4
8 जिन जेक्स एक प्रसिद्ध _____ था।

- Ans
- 1. सम्राट
 - 2. चित्रकार
 - 3. चिकित्सक
 - 4. चिन्तक

Question ID : 9895802975
Chosen Option : 2

Q.4
9 भारतीय जनतंत्र के संदर्भ में निम्नलिखित में से कौन सा कथन सही है?

- Ans
- 1. वित्तीय आपातकाल के किस्सों में लोगों को देश पर कब्ज़ा कर लेने की अधिकार देता है।
 - 2. लोगों को तीर्थ यात्रा के लिए कर भुगतान का आदेश देता है।
 - 3. लोगों को अपने प्रतिनिधिओं को चुनने की अनुमति देता है।
 - 4. सेना को देश पर शासन करने की अनुमति देता है।

Question ID : 9895802962
Chosen Option : 3

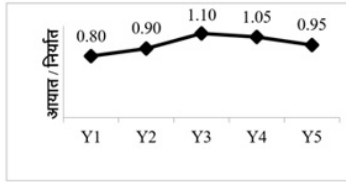
Q.5

0 सोवियत संघ वर्ष _____ में टूटा था।

- Ans
- 1. 2000
 - 2. 1880
 - 3. 1900
 - 4. 1991

Question ID : 9895802963
Chosen Option : 3

Q.5 नीचे दिया गया रेखा चित्र 5 लगातार वर्षों Y_1, Y_2, Y_3, Y_4 तथा Y_5 के लिए एक देश के लिए आयात से निर्यात के अनुपात को दर्शाता है।



यदि वर्ष Y_3 के लिए निर्यात ₹35000 करोड़ है, तो वर्ष Y_3 के लिए आयात (करोड़ में) क्या होगा?

- Ans
- 1. ₹35500
 - 2. ₹41500
 - 3. ₹43500
 - 4. ₹38500

Question ID : 9895804077
Chosen Option : 2

Q.5 A अकेला एक कार्य को 6 दिन में पूरा कर सकता है तथा B अकेला समान कार्य को 8 दिन में पूरा कर सकता है। A तथा B दोनों मिलकर समान कार्य को कितने दिन में पूरा कर सकते हैं?

- Ans
- 1. 26/7 दिन
 - 2. 24/7 दिन
 - 3. 48/13 दिन
 - 4. 35/13 दिन

Question ID : 9895804069
Chosen Option : 3

Q.5 दो वस्तुओं का मूल्य क्रमशः 3 : 2 के अनुपात में है। पहली वस्तु का मूल्य 40% से बढ़ाया जाता है तथा दूसरी वस्तु का मूल्य $x\%$ से घटाया जाता है। यदि दोनों वस्तुओं के मूल्य का नया अनुपात क्रमशः 7 : 3 है, तो x का मान क्या है?

- Ans
- 1. 30
 - 2. 15
 - 3. 10
 - 4. 20

Question ID : 9895804066

Chosen Option : 2

Q.5 राजेश 25 कि.मी./घंटा की गति से अपने दफ्तर जाता है तथा 20 कि.मी./घंटा की गति से अपने घर वापस आता है।
4 यदि वह कुल 9 घंटे लेता है, तो उसके दफ्तर तथा घर के मध्य दूरी क्या है?

- Ans
- 1. 140 कि.मी.
 - 2. 100 कि.मी.
 - 3. 120 कि.मी.
 - 4. 90 कि.मी.

Question ID : 9895804072

Chosen Option : 1

Q.5 अध्यापक के वजन को शामिल करने पर 22 छात्रों के एक समूह का औसत वजन 1 कि.ग्रा. से बढ़ जाता है। यदि 22
5 छात्रों के समूह का आरंभिक औसत वजन 31 कि.ग्रा. था, तो अध्यापक का वजन क्या है?

- Ans
- 1. 54 कि.ग्रा.
 - 2. 57 कि.ग्रा.
 - 3. 53 कि.ग्रा.
 - 4. 48 कि.ग्रा.

Question ID : 9895804057

Chosen Option : 3

Q.5 अनिल, दीपक तथा दिनेश मिलकर एक कार्य को 35 दिन में पूरा कर सकते हैं। अनिल तथा दिनेश मिलकर समान
6 कार्य को 60 दिन में पूरा कर सकते हैं। दीपक अकेला समान कार्य को कितने दिन में पूरा कर सकता है?

- Ans
- 1. 84 दिन
 - 2. 105 दिन
 - 3. 96 दिन
 - 4. 110 दिन

Question ID : 9895804070

Chosen Option : 4

Q.5 $7 \left[10\frac{1}{3} \div \frac{5}{3} \text{ का } (10 + 14 \div 3 - 1) \right]$ का मान क्या है?

- Ans
- 1. $\frac{29}{88}$
 - 2. $\frac{93}{205}$
 - 3. $\frac{31}{85}$
 - 4. $\frac{33}{50}$

Question ID : 9895804056

Chosen Option : 2

Q.5 एक गेंदबाज ने लगातार 15 मैचों में 0, 3, 2, 1, 5, 3, 4, 5, 5, 2, 2, 0, 0, 1 और 2 विकेट लिए हैं।
8 दिए गए आंकड़ों का बहुलक क्या है?

- Ans
- 1. 5
 - 2. 2
 - 3. 0
 - 4. 3

Question ID : 9895804060

Chosen Option : 1

Q.5 यदि एक वर्ग के विकर्ण की लंबाई $10\sqrt{2}$ से.मी. है, तो वर्ग का क्षेत्रफल क्या होगा?

- Ans
- 1. $100\sqrt{2}$ से.मी.²
 - 2. 50 से.मी.²
 - 3. 200 से.मी.²
 - 4. 100 से.मी.²

Question ID : 9895804073

Chosen Option : 4

Q.6 एक थैले में ₹1, ₹2 तथा ₹5 के मूल्य वर्ग के रूप में ₹420 हैं। ₹1, ₹2 तथा ₹5 के सिक्कों की संख्या 8 : 1 : 5 के
0 अनुपात में हैं। थैले में ₹5 के कितने सिक्के हैं?

- Ans
- 1. 60
 - 2. 12
 - 3. 48
 - 4. 24

Question ID : 9895804064

Chosen Option : 4

Q.6 यदि सोनू 20 मी./से. की गति से एक कार चला रहा है, तो सोनू 936 कि.मी. की दूरी को कितने समय में तय
1 करेगा?

- Ans
- 1. 46.8 घंटे
 - 2. 18 घंटे
 - 3. 13 घंटे
 - 4. 21 घंटे

Question ID : 9895804071

Chosen Option : 1

Q.6
2

एक शंकु की ऊँचाई 16 से.मी. है तथा उसके आधार की त्रिज्या 30 से.मी. है। यदि इसे रंगने की दर ₹14/से.मी.² है, तो शंकु को बाहर से रंगने में कुल खर्चा कितना होगा?

- Ans
- 1. ₹42220
 - 2. ₹36820
 - 3. ₹46540
 - 4. ₹44880

Question ID : 9895804075
Chosen Option : 1

Q.6 $5\frac{1}{2} - \left[3\frac{1}{4} + 6 - 4 \div 2\right]$ का मान क्या है?

- Ans
- 1. $\frac{7}{4}$
 - 2. $-\frac{7}{4}$
 - 3. $-\frac{5}{4}$
 - 4. $\frac{5}{4}$

Question ID : 9895804055
Chosen Option : 2

Q.6 $\frac{4}{4}$ यदि P, Q से 40% कम है, तो Q, P से कितना प्रतिशत अधिक है?

- Ans
- 1. 40%
 - 2. 33.33%
 - 3. 60%
 - 4. 66.66%

Question ID : 9895804061
Chosen Option : 1

Q.6 $\frac{5}{5}$ एक वस्तु को 15% की छूट देने के पश्चात् ₹4777 में बेचा गया है। वस्तु का अंकित मूल्य क्या है?

- Ans
- 1. ₹5620
 - 2. ₹5494
 - 3. ₹5348
 - 4. ₹5525

Question ID : 9895804059
Chosen Option : 4

Q.6 $\frac{6}{6}$ यदि एक वस्तु का क्रय मूल्य ₹220 है तथा लाभ 20% है, तो वस्तु का विक्रय मूल्य क्या होगा?

- Ans
- 1. ₹216
 - 2. ₹176

✗ 3. ₹256

✓ 4. ₹264

Question ID : 9895804062

Chosen Option : 4

Q.6 $u : v = 4 : 7$ है तथा $v : w = 9 : 7$ है। यदि $u = 72$ है, तो w का मान क्या है?

Ans ✗ 1. 77

✗ 2. 63

✓ 3. 98

✗ 4. 49

Question ID : 9895804065

Chosen Option : 1

Q.6 एक राशि चक्रवृद्धि ब्याज पर 3 वर्षों में स्वयं का 5 गुना हो जाती है (ब्याज का संयोजन वार्षिक किया गया है)।
8 कितने वर्षों में राशि स्वयं का 125 गुना हो जाएगी?

Ans ✗ 1. 8

✓ 2. 9

✗ 3. 6

✗ 4. 12

Question ID : 9895804068

Chosen Option : 4

Q.6 मनीष ने ₹225 प्रति किताब की दर से किताबें खरीदी तथा ₹162 प्रति किताब की दर से उन्हें बेच दिया। 7 किताबें
9 बेचने पर हानि क्या होगी?

Ans ✗ 1. ₹63

✗ 2. ₹28

✗ 3. ₹315

✓ 4. ₹441

Question ID : 9895804063

Chosen Option : 4

Q.7 यदि पाँच निरीक्षणों a_1, a_2, a_3, a_4 तथा a_5 का औसत N है, तो पाँच नए निरीक्षणों $a_1 - 100, a_2 - 100, a_3 -$
0 $100, a_4 - 100$ तथा $a_5 - 100$ का औसत क्या होगा?

Ans ✓ 1. $N - 100$

✗ 2. $N - 150$

✗ 3. $N - 40$

✗ 4. $N - 20$

Question ID : 9895804058

Chosen Option : 2

Q.7 एक राशि साधारण ब्याज पर 5 वर्षों में ₹10650 तथा 6 वर्षों में ₹11076 हो जाती है। राशि क्या है?

1

- Ans
- 1. ₹8740
 - 2. ₹8520
 - 3. ₹8800
 - 4. ₹8946

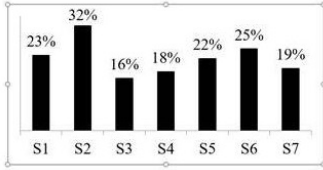
Question ID : 9895804067
Chosen Option : 2

Q.7 $2^3 \times 3^5$ तथा $3^3 \times 5^2$ का महत्तम समापवर्तक क्या है?

- Ans
- 1. $3^5 \times 5^2$
 - 2. $2^3 \times 3^5 \times 5^2$
 - 3. 3^3
 - 4. $2^1 \times 3^3 \times 5^1$

Question ID : 9895804054
Chosen Option : 1

Q.7 नीचे दिए गए बार चार्ट में 7 विभिन्न मिठाईयों S1, S2, S3, S4, S5, S6 तथा S7 में उपयोग हुई चीनी की मात्रा को मिठाई के कुल वजन के प्रतिशत के रूप में दर्शाया गया है।



मिठाई S4 का कुल वजन 150 कि.ग्रा. है। मिठाई S4 में प्रयुक्त चीनी की मात्रा कितनी है?

- Ans
- 1. 27 कि.ग्रा.
 - 2. 35 कि.ग्रा.
 - 3. 31 कि.ग्रा.
 - 4. 25 कि.ग्रा.

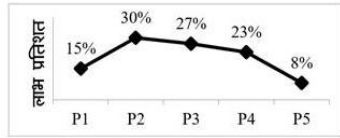
Question ID : 9895804078
Chosen Option : 1

Q.7 एक कमरे की लंबाई, चौड़ाई तथा ऊँचाई 21 मीटर, 12 मीटर तथा 16 मीटर है। उस कमरे में रखी जाने वाली सबसे बड़ी छड़ की लंबाई क्या होगी?

- Ans
- 1. 25 मीटर
 - 2. 32 मीटर
 - 3. 31 मीटर
 - 4. 29 मीटर

Question ID : 9895804074
Chosen Option : 1

Q.7 नीचे दिया गया रेखा चित्र एक कंपनी के 5 विभिन्न उत्पादों P1, P2, P3, P4 तथा P5 पर लाभ प्रतिशत को दर्शाता है।



उत्पाद P3 का राजस्व ₹38100 है। उत्पाद P3 का व्यय क्या है?

- Ans
- 1. ₹30000
 - 2. ₹35000
 - 3. ₹29000
 - 4. ₹32000

Question ID : 9895804076

Chosen Option : 2

Section : English Language

Q.1 Select the most appropriate word to fill in the blank.

The judge found him _____ of murder.

- Ans
- 1. guilty
 - 2. innocent
 - 3. criminal
 - 4. honest

Question ID : 9895803550

Chosen Option : --

Q.2 From the given options, identify the segment in the sentence which contains the grammatical error.

The TV anchor insisted on me to participate in the debate.

- Ans
- 1. in the debate
 - 2. The TV anchor
 - 3. insisted on me
 - 4. to participate

Question ID : 9895803546

Chosen Option : --

Q.3 Select the most appropriate option to substitute the underlined segment in the given sentence. If there is no need to substitute it, select No Improvement.

The torch fall from his trembling hand and he ran wildly towards the school building.

- Ans
- 1. No improvement
 - 2. felled from his trembling hand
 - 3. falling from his trembling hand
 - 4. fell from his trembling hand

Question ID : 9895803569

Chosen Option : --

Q.4 Select the synonym of the given word.

SUITABLE

- Ans
- 1. friendly
 - 2. awkward
 - 3. ideal
 - 4. appropriate

Question ID : 9895803557

Chosen Option : --

Q.5 From the given options, identify the segment in the sentence which contains the grammatical error.

He will not be able to attend the school function tomorrow, will you?

- Ans
- 1. to attend
 - 2. the school function
 - 3. will you?
 - 4. will not be

Question ID : 9895803545

Chosen Option : --

Q.6 Select the most appropriate word to fill in the blank.

1950 is _____ year in which India became a republic.

- Ans
- 1. an
 - 2. the
 - 3. a
 - 4. one

Question ID : 9895803548

Chosen Option : --

Q.7 Select the most appropriate option to substitute the underlined segment in the given sentence. If there is no need to substitute it, select No Improvement.

Mumbai has a lot of heritage structures which badly need restoration.

- Ans
- 1. No improvement
 - 2. few of
 - 3. lot of
 - 4. many of

Question ID : 9895803567

Q.8 Select the most appropriate option to substitute the underlined segment in the given sentence. If there is no need to substitute it, select No Improvement.

A young taxi driver has claimed that a monster attacked him while he drove along a lonely road.

- Ans
- 1. No improvement
 - 2. as long as he drove
 - 3. while he was driving
 - 4. while he is driving

Question ID : 9895803568

Chosen Option : --

Q.9 Select the antonym of the given word.

AFFLICTION

- Ans
- 1. pleasure
 - 2. anguish
 - 3. discomfort
 - 4. agony

Question ID : 9895803560

Chosen Option : --

Q.10 Select the most appropriate word to fill in the blank.

Shall we _____ his invitation to dinner.

- Ans
- 1. agree
 - 2. accept
 - 3. expect
 - 4. except

Question ID : 9895803549

Chosen Option : --

Q.11 Select the antonym of the given word.

EMANCIPATION

- Ans
- 1. riddance
 - 2. freedom
 - 3. liberty
 - 4. bondage

Question ID : 9895803559

Q.1
2 Select the option that means the same as the given idiom.

To jump on the bandwagon

- Ans
- 1. To take a calculated risk
 - 2. To fall into misfortune
 - 3. To follow popular trends
 - 4. To run after the unachievable

Question ID : 9895803561

Chosen Option : --

Q.1
3 Select the synonym of the given word.

MAGNIFICENT

- Ans
- 1. huge
 - 2. modest
 - 3. grand
 - 4. expensive

Question ID : 9895803558

Chosen Option : --

Q.1
4 Select the word which means the same as the group of words given.

One who talks a lot

- Ans
- 1. gullible
 - 2. loquacious
 - 3. glutton
 - 4. taciturn

Question ID : 9895803563

Chosen Option : --

Q.1
5 Select the correctly spelt word.

- Ans
- 1. Receipt
 - 2. Reseipt
 - 3. Receit
 - 4. Receipt

Question ID : 9895803565

Chosen Option : --

Q.1
6 Select the option that means the same as the given idiom.

To pay through the nose

- Ans
- 1. To pay reluctantly
 - 2. To pay easily
 - 3. To pay willingly
 - 4. To pay excessively

Question ID : 9895803562

Chosen Option : --

Q.1
7 Select the most appropriate word to fill in the blank.

Let's go out now. It isn't _____ anymore.

- Ans
- 1. rain
 - 2. rained
 - 3. raining
 - 4. rains

Question ID : 9895803547

Chosen Option : --

Q.1
8 From the given options, identify the segment in the sentence which contains the grammatical error.

Many students thought that this year's question paper was very tough as compared to last year.

- Ans
- 1. Many students thought
 - 2. compared to last year
 - 3. that this year's
 - 4. was very tough

Question ID : 9895803544

Chosen Option : --

Q.1
9 Select the option that means the same as the following phrase.

One who is outgoing

- Ans
- 1. vagabond
 - 2. introvert
 - 3. extrovert
 - 4. explorer

Question ID : 9895803564

Chosen Option : --

Comprehension:

In the following passage some words have been deleted. Fill in the blanks with the help of the alternatives given.

Generations of women in the southern Indian state of Tamil Nadu have been diving to _____ (1) seaweed to help support their families _____ (2) women head to the sea on _____ (3) unique quest.

Clad in traditional saris and goggles, they _____ (4) into the ocean to collect coral and seaweed _____ (5) grow on underwater rocks. Seaweed is used in food and to make various drugs and chemicals.

SubQuestion No : 20

Q.2
0 Select the most appropriate option that will fill in the blank number 1.

Ans 1. assemble

2. collect

3. build

4. grow

Question ID : 9895803552

Chosen Option : --

Comprehension:

In the following passage some words have been deleted. Fill in the blanks with the help of the alternatives given.

Generations of women in the southern Indian state of Tamil Nadu have been diving to _____ (1) seaweed to help support their families _____ (2) women head to the sea on _____ (3) unique quest.

Clad in traditional saris and goggles, they _____ (4) into the ocean to collect coral and seaweed _____ (5) grow on underwater rocks. Seaweed is used in food and to make various drugs and chemicals.

SubQuestion No : 21

Q.2
1 Select the most appropriate option that will fill in the blank number 2.

Ans 1. Those

2. That

3. This

4. These

Question ID : 9895803553

Chosen Option : --

Comprehension:

In the following passage some words have been deleted. Fill in the blanks with the help of the alternatives given.

Generations of women in the southern Indian state of Tamil Nadu have been diving to _____ (1) seaweed to help support their families _____ (2) women head to the sea on _____ (3) unique quest.

Clad in traditional saris and goggles, they _____ (4) into the ocean to collect coral and seaweed _____ (5) grow on underwater rocks. Seaweed is used in food and to make various drugs and chemicals.

SubQuestion No : 22

Q.2
2 Select the most appropriate option that will fill in the blank number 3.

- Ans
- 1. the
 - 2. any
 - 3. an
 - 4. a

Question ID : 9895803554
Chosen Option : --

Comprehension:

In the following passage some words have been deleted. Fill in the blanks with the help of the alternatives given.

Generations of women in the southern Indian state of Tamil Nadu have been diving to _____ (1) seaweed to help support their families _____ (2) women head to the sea on _____ (3) unique quest.

Clad in traditional saris and goggles, they _____ (4) into the ocean to collect coral and seaweed _____ (5) grow on underwater rocks. Seaweed is used in food and to make various drugs and chemicals.

SubQuestion No : 23

Q.2
3 Select the most appropriate option that will fill in the blank number 4.

- Ans
- 1. float
 - 2. swim
 - 3. dive
 - 4. fall

Question ID : 9895803555
Chosen Option : --

Comprehension:

In the following passage some words have been deleted. Fill in the blanks with the help of the alternatives given.

Generations of women in the southern Indian state of Tamil Nadu have been diving to _____ (1) seaweed to help support their families _____ (2) women head to the sea on _____ (3) unique quest.

Clad in traditional saris and goggles, they _____ (4) into the ocean to collect coral and seaweed _____ (5) grow on underwater rocks. Seaweed is used in food and to make various drugs and chemicals.

SubQuestion No : 24

Q.2
4 Select the most appropriate option that will fill in the blank number 5.

- Ans
- 1. whom
 - 2. which
 - 3. what
 - 4. who

Question ID : 9895803556
Chosen Option : --

Q.2
5 Select the correctly spelt word.

- Ans
- 1. Businnes
 - 2. Business
 - 3. Bussiness
 - 4. Buisness

Question ID : 9895803566
Chosen Option : --

Section : Hindi Language

Q.1 दिए गए वाक्य में रेखांकित खंड को प्रतिस्थापित करने के लिए सबसे उपयुक्त विकल्प का चयन करें।

शीला मेरी बहन है, वह बच्चों के साथ खेल रहा है।

- Ans
- 1. बच्चों को साथ खेल रही है।
 - 2. बच्चों से साथ खेल रही है।
 - 3. बच्चों के साथ खेल रहे हैं।
 - 4. बच्चों के साथ खेल रही है।

Question ID : 9895803419
Chosen Option : 4

Q.2

रिक्त स्थान को भरने के लिए सबसे उपयुक्त शब्द का चयन करें।

आकाश में _____ चमक रहा है।

- Ans
- 1. चाँदी
 - 2. बादल
 - 3. तारा
 - 4. सोना

Question ID : 9895803420
Chosen Option : 3

Q.3 दिए गए शब्द का विलोम चुनें।

योग्य

- Ans
- 1. सुयोग्य
 - 2. मूर्ख
 - 3. अयोग्य
 - 4. सौभाग्य

Question ID : 9895803430
Chosen Option : 3

Q.4 दिए गए शब्द का विलोम चुनें।

यश

- Ans
- 1. सुयश
 - 2. अपयश
 - 3. नीरस
 - 4. नीरव

Question ID : 9895803431
Chosen Option : 2

Q.5 सही वर्तनी वाले शब्द का चयन करें।

- Ans
- 1. मौखिक
 - 2. मोखिक
 - 3. मौखीक
 - 4. मौकिख

Question ID : 9895803438
Chosen Option : 1

Q.6 दिए गए शब्द के पर्यायवाची शब्द का चयन करें।

अर्जुन

- Ans
- 1. शमशीर
 - 2. कोविंद
 - 3. धनंजय
 - 4. जगदीश

Question ID : 9895803432
Chosen Option : 3

Q.7 दिये गये वाक्यांश के लिए एक शब्द चुनिए ।

जो जन्म से अंधा हो

- Ans
- 1. जन्मांध
 - 2. दुष्टांध
 - 3. कृपांध
 - 4. अंधभक्त

Question ID : 9895803436
Chosen Option : 1

Q.8 दिए गए शब्द के पर्यायवाची शब्द का चयन करें।

कुबेर

- Ans
- 1. यक्षराज
 - 2. गिरिराज
 - 3. महाराज
 - 4. यमराज

Question ID : 9895803433
Chosen Option : 3

Q.9 रिक्त स्थान को भरने के लिए सबसे उपयुक्त शब्द का चयन करें।

बूढ़ा आदमी अपने _____ से दुःखी है।

- Ans
- 1. जवानी
 - 2. बुढ़ापे
 - 3. बचपन

✗ 4. प्रशंसा

Question ID : 9895803422
Chosen Option : 2

Q.1 निम्नलिखित में से उस विकल्प का चयन करें जो 'अंग-अंग ढीला होना' मुहावरे का अर्थ व्यक्त करता है।

- Ans
- ✗ 1. निराश होना
 - ✗ 2. हार जाना
 - ✗ 3. दुखी होना
 - ✓ 4. अत्यधिक थक जाना

Question ID : 9895803434
Chosen Option : 4

Q.1 दिए गए वाक्य में रेखांकित खंड को प्रतिस्थापित करने के लिए सबसे उपयुक्त विकल्प का चयन करें।
कन्या की सुपात्रता का मापदंड केवल दहेज के स्वरूप से तय करना जाने लगा है।

- Ans
- ✗ 1. स्वरूप से तय करने जाने लगे हैं।
 - ✗ 2. स्वरूप से तय करने जाने लगे हैं।
 - ✓ 3. स्वरूप से तय किया जाने लगा है।
 - ✗ 4. स्वरूप से तय हुआ जाने लगा है।

Question ID : 9895803417
Chosen Option : 4

Comprehension:

दिए गए अनुच्छेद में कुछ शब्द हटा दिए गए हैं। दिए गए विकल्पों की सहायता से रिक्त स्थान भरें। प्रत्येक संख्या के लिए सबसे उपयुक्त विकल्प का चयन करें।

आज अनेक भाषाओं में अनेक समाचार-पत्र बाजार में उपलब्ध हैं। मनुष्य की _____ (1) विशेषता है उसका _____ (2) होना। रात्रि में वह चैन की नींद सोकर प्रातः काल उठता है तो शीघ्र ही अपने आस-पास के वातावरण के बारे में जानने का _____ (3) करता है। चाय की _____ (4) के साथ देश - विदेश की खबरों को जानने के लिए वह _____ (5) का सहारा लेता है।

SubQuestion No : 12

Q.1 गद्यांश में संकेतित रिक्त स्थान (1) के लिए उपयुक्त शब्द होगा -

- Ans
- ✗ 1. आराम
 - ✗ 2. नींद
 - ✗ 3. व्यक्ति

✓ 4. स्वभावगत

Question ID : 9895803425
Chosen Option : 4

Comprehension:

दिए गए अनुच्छेद में कुछ शब्द हटा दिए गए हैं। दिए गए विकल्पों की सहायता से रिक्त स्थान भरें। प्रत्येक संख्या के लिए सबसे उपयुक्त विकल्प का चयन करें।

आज अनेक भाषाओं में अनेक समाचार-पत्र बाजार में उपलब्ध हैं। मनुष्य की _____ (1) विशेषता है उसका _____ (2) होना। रात्रि में वह चैन की नींद सोकर प्रातः काल उठता है तो शीघ्र ही अपने आस-पास के वातावरण के बारे में जानने का _____ (3) करता है। चाय की _____ (4) के साथ देश - विदेश की खबरों को जानने के लिए वह _____ (5) का सहारा लेता है।

SubQuestion No : 13

Q.1
3 गद्यांश में संकेतित रिक्त स्थान (2) के लिए उपयुक्त शब्द होगा -

- Ans
- ✗ 1. संकेत
 - ✗ 2. संपादक
 - ✗ 3. बिक्री
 - ✓ 4. जिज्ञासु

Question ID : 9895803426
Chosen Option : 4

Comprehension:

दिए गए अनुच्छेद में कुछ शब्द हटा दिए गए हैं। दिए गए विकल्पों की सहायता से रिक्त स्थान भरें। प्रत्येक संख्या के लिए सबसे उपयुक्त विकल्प का चयन करें।

आज अनेक भाषाओं में अनेक समाचार-पत्र बाजार में उपलब्ध हैं। मनुष्य की _____ (1) विशेषता है उसका _____ (2) होना। रात्रि में वह चैन की नींद सोकर प्रातः काल उठता है तो शीघ्र ही अपने आस-पास के वातावरण के बारे में जानने का _____ (3) करता है। चाय की _____ (4) के साथ देश - विदेश की खबरों को जानने के लिए वह _____ (5) का सहारा लेता है।

SubQuestion No : 14

Q.1
4 गद्यांश में संकेतित रिक्त स्थान (3) के लिए उपयुक्त शब्द होगा -

- Ans
- ✗ 1. अनुभव
 - ✓ 2. प्रयास

3. प्रतीक्षा

4. खबर

Question ID : 9895803427
Chosen Option : 2

Comprehension:

दिए गए अनुच्छेद में कुछ शब्द हटा दिए गए हैं। दिए गए विकल्पों की सहायता से रिक्त स्थान भरें। प्रत्येक संख्या के लिए सबसे उपयुक्त विकल्प का चयन करें।

आज अनेक भाषाओं में अनेक समाचार-पत्र बाजार में उपलब्ध हैं। मनुष्य की _____ (1) विशेषता है उसका _____ (2) होना। रात्रि में वह चैन की नींद सोकर प्रातः काल उठता है तो शीघ्र ही अपने आस-पास के वातावरण के बारे में जानने का _____ (3) करता है। चाय की _____ (4) के साथ देश - विदेश की खबरों को जानने के लिए वह _____ (5) का सहारा लेता है।

SubQuestion No : 15

Q.1
5 गद्यांश में संकेतित रिक्त स्थान (4) के लिए उपयुक्त शब्द होगा -

- Ans
- 1. बरतन
 - 2. टुकड़ों
 - 3. चुस्कियों
 - 4. कपड़ों

Question ID : 9895803428
Chosen Option : 3

Comprehension:

दिए गए अनुच्छेद में कुछ शब्द हटा दिए गए हैं। दिए गए विकल्पों की सहायता से रिक्त स्थान भरें। प्रत्येक संख्या के लिए सबसे उपयुक्त विकल्प का चयन करें।

आज अनेक भाषाओं में अनेक समाचार-पत्र बाजार में उपलब्ध हैं। मनुष्य की _____ (1) विशेषता है उसका _____ (2) होना। रात्रि में वह चैन की नींद सोकर प्रातः काल उठता है तो शीघ्र ही अपने आस-पास के वातावरण के बारे में जानने का _____ (3) करता है। चाय की _____ (4) के साथ देश - विदेश की खबरों को जानने के लिए वह _____ (5) का सहारा लेता है।

SubQuestion No : 16

Q.1
6 गद्यांश में संकेतित रिक्त स्थान (5) के लिए उपयुक्त शब्द होगा -

Ans

- 1. खेलों
- 2. गानों
- 3. समाचार पत्र
- 4. फिल्मों

Question ID : 9895803429
Chosen Option : 3

Q.1
7 दिये गये वाक्यांश के लिए एक शब्द चुनिए ।

जो मोक्ष चाहता हो

- Ans
- 1. मोक्षालु
 - 2. अमोक्षीय
 - 3. मोक्षप्रिय
 - 4. मुमुक्षु

Question ID : 9895803437
Chosen Option : 3

Q.1
8 दिए गए वाक्य का वह भाग ज्ञात करें जिसमें कोई त्रुटि है।

हम जानते हैं कि परिश्रम का फल सदा ही मीठा होती है।

- Ans
- 1. परिश्रम का फल
 - 2. सदा ही
 - 3. मीठा होती है।
 - 4. हम जानते हैं कि

Question ID : 9895803416
Chosen Option : 4

Q.1
9 रिक्त स्थान को भरने के लिए सबसे उपयुक्त शब्द का चयन करें।

मेरी बस _____ गई थी।

- Ans
- 1. सो
 - 2. उड़
 - 3. मर
 - 4. छूट

Question ID : 9895803421
Chosen Option : 4

Q.2
0 दिए गए वाक्य में रेखांकित खंड को प्रतिस्थापित करने के लिए सबसे उपयुक्त विकल्प का चयन करें।

गणतन्त्र दिवस की परेड में सैनिक कदम तालें कर रहे हैं।

- Ans
- 1. सैनिक कदम तालों कर रहा है।
 - 2. सैनिक कदमों तालों कर रहा है।
 - 3. सैनिक कदमों-ताल कर रहे हैं।
 - 4. सैनिक कदम-ताल कर रहे हैं।

Question ID : 9895803418
Chosen Option : 4

Q.2
1 रिक्त स्थान को भरने के लिए सबसे उपयुक्त शब्द का चयन करें।

वसंत पंचमी के दिन देवी से _____ की जाती है।

- Ans
- 1. पूजा
 - 2. प्रार्थना
 - 3. आवाहन
 - 4. प्रसन्नता

Question ID : 9895803423
Chosen Option : 2

Q.2
2 निम्नलिखित में से उस विकल्प का चयन करें जो 'अंधे के हाथ बटेर लगना' मुहावरे का अर्थ व्यक्त करता है।

- Ans
- 1. बिना प्रयास के कीमती वस्तु मिल जाना
 - 2. सफल होना
 - 3. प्रयास से कीमती वस्तु मिलना
 - 4. अयोग्य होना

Question ID : 9895803435
Chosen Option : 4

Q.2
3 सही वर्तनी वाले शब्द का चयन करें।

- Ans
- 1. शौकाकुल
 - 2. शौककुल
 - 3. शोकाकुल
 - 4. शोककुल

Question ID : 9895803439
Chosen Option : 3

Q.2
4 दिए गए वाक्य का वह भाग ज्ञात करें जिसमें कोई त्रुटि है।

आजकल तापमान में तेजी से परिवर्तन हो रही है।

- Ans
- 1. तापमान में
 - 2. आजकल
 - 3. तेजी से
 - 4. परिवर्तन हो रही है।

Question ID : 9895803415
Chosen Option : 4

Q.2
5 दिए गए वाक्य का वह भाग ज्ञात करें जिसमें कोई त्रुटि है।

मोहन ने रुपयों का प्रबन्ध अपनी पत्नी की गहने बेच कर किया।

- Ans
- 1. रुपयों का प्रबन्ध
 - 2. बेच कर किया
 - 3. अपनी पत्नी की गहने
 - 4. मोहन ने

Question ID : 9895803414
Chosen Option : 3