

## Constable (GD) in CAPFs, NIA, SSF and Rifleman (GD) in Assam Rifles Examination, 2018

Roll No. :	GovtJobsAlert.In
Registration No.	GovtJobsAlert.In
Name :	GovtJobsAlert.In
Exam Venue :	Ion Digital Zone IDZ2 Mundka
Exam Time :	12:30 PM - 2:00 PM
Exam Date :	11/02/2019

Section : General Section

Q.1 'एथलेटिक्स' उसी तरह से 'स्टेडियम' से संबंधित है, जैसे 'स्केटिंग' से ' \_\_\_\_\_ ' संबंधित है।

- Ans
- 1. रिक
  - 2. ट्रैक
  - 3. कोर्ट
  - 4. खेल मैदान

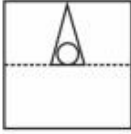
Question ID : 9895802454  
Chosen Option : 2

Q.2 एक पैटर्न के साथ एक पारदर्शी वर्ग शीट दी गई है। दिए गए चार विकल्पों में से उस विकल्प का चयन करें, जो पारदर्शी शीट को डाँट से बनाई गई रेखा पर मोड़ने से बनेगा।



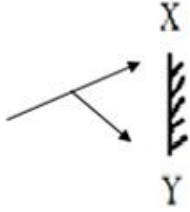
- Ans
- 1.
  - 2.
  - 3.

✗ 4.



Question ID : 9895802472  
Chosen Option : 2

Q.3 उस विकल्प का चयन करें, जो दी हुई आकृति के उस दर्पण छवि के बहुत ही समान है, जब दर्पण को इसके दाईं ओर रखा जाता है।

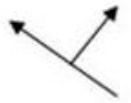


Ans

✓ 1.



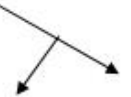
✗ 2.



✗ 3.



✗ 4.



Question ID : 9895802471  
Chosen Option : 1

Q.4 दिए गए कथनों और निष्कर्षों को ध्यान से पढ़ें। यह मानते हुए कि कथनों में दी गई सूचना सत्य है, भले ही वे सामान्य तौर पर ज्ञात तथ्यों से भिन्न हो, और उस निष्कर्ष का चयन करें जो तार्किक रूप से कथनों का अनुपालन बिना किसी संदेह के करता हो।

कथन:

कोई भी बिल्ली बंदर नहीं है।

कोई भी बंदर गाय नहीं है।

निष्कर्ष:

I. कोई बिल्ली गाय नहीं है।

II. कुछ गाय बंदर हैं।

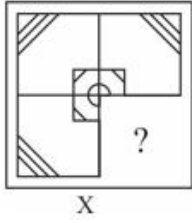
Ans

- 1. केवल निष्कर्ष ॥ अनुसरण करता है।
- 2. न तो निष्कर्ष । और ना ही निष्कर्ष ॥ अनुसरण करता है।
- 3. दोनों निष्कर्ष । और ॥ अनुसरण करते हैं।
- 4. केवल निष्कर्ष । अनुसरण करता है।

Question ID : 9895802460  
Chosen Option : 2

Q.5

चार दिए गए विकल्पों में से उस आकृति का चयन करें, जिसे आकृति X के रिक्त स्थान (?) में रखने से पैटर्न पूरा हो जाएगा। (घूर्णन की अनुमति नहीं है)



Ans

- 1.
- 2.
- 3.
- 4.

Question ID : 9895802470  
Chosen Option : 4

Q.6

नीचे दिए गए कथन के लिए दो निष्कर्ष I और II दिए गए हैं। यह मानते हुए कि कथनों में दी गई सूचना सत्य है, भले ही वे सामान्य तौर पर ज्ञात तथ्यों से भिन्न हो, और उस निष्कर्ष का चयन करें जो तार्किक और निश्चित रूप से कथनों का अनुपालन करता हो।

कथन:

सभी पेपर पुस्तकें हैं।

सभी पुस्तकें पपीता हैं।

निष्कर्ष:

I. सभी पेपर पपीता हैं।

II. कुछ पपीता पेपर हैं।

Ans

1. दोनों निष्कर्ष I और II अनुसरण करते हैं।
2. केवल निष्कर्ष II अनुसरण करता है।
3. केवल निष्कर्ष I अनुसरण करता है।
4. न तो निष्कर्ष I और न ही निष्कर्ष II अनुसरण करता है।

Question ID : 9895802461  
Chosen Option : 3

Q.7 उस विकल्प का चयन करें जो तीसरे पद से उसी तरह संबंधित है, जैसे दूसरा पद पहले पद से।

ACE : EIM :: DFH : ?

Ans

1. PLH
2. PHL
3. HLP
4. HPL

Question ID : 9895802453  
Chosen Option : 3

Q.8 यदि B = 3 और H = 9, तब SCHOOL = कितना होगा?

Ans

1. 78
2. 69
3. 96
4. 76

Question ID : 9895802455  
Chosen Option : 1

Q.9 एक पंक्ति में छह छात्र बैठे हैं। अकबर बीच में बैठे छात्र के बाईं ओर है, लेकिन वह सेकर के दाईं ओर है। प्रकाश देव के दाईं ओर है, और राम, प्रकाश के दाईं ओर है। राम बीच में बैठे छात्र से दूसरे स्थान पर है। कौन सा छात्र बीच में बैठा है?

- Ans
- 1. देव
  - 2. सेकर
  - 3. अकबर
  - 4. राम

Question ID : 9895802457  
Chosen Option : 3

Q.10 उस विकल्प का चयन करें जिसमें दी हुई आकृति अंतर्निहित है।



Ans

- 1.
- 2.
- 3.
- 4.

Question ID : 9895802469  
Chosen Option : 1

Q.1  
1



सात कर्मचारी, T, U, V, W, X, Y और Z, एक विशेष अनुक्रम में अपने कारखाने तक पहुंचते हैं। Y, T से ठीक पहले पहुंचता है लेकिन W के तुरंत बाद नहीं। V सबसे बाद में पहुंचता है। X, T के तुरंत बाद पहुंचता है, जिसके ठीक बाद Z पहुंचता है। W, T के पहले पहुंचता है। दूसरे नंबर पर कार्यालय में कौन पहुंचता है?

- Ans
- 1. W
  - 2. Z
  - 3. X
  - 4. U

Question ID : 9895802459  
Chosen Option : 1

Q.1  
2 निम्नलिखित संख्या श्रृंखला में, दो संख्याओं को कोष्ठक के भीतर रखा गया है। श्रृंखला का ध्यानपूर्वक अध्ययन करें और श्रृंखला के संबंध में सही विकल्प का चयन करें।

3, 9, (27), 81, (243), 729, 2187

- Ans
- 1. पहली कोष्ठक संख्या (बाएं से) सही है और दूसरी गलत है।
  - 2. दोनों कोष्ठक संख्याएँ सही हैं।
  - 3. दोनों कोष्ठक संख्याएँ गलत हैं।
  - 4. पहली कोष्ठक संख्या (बाएं से) गलत है और दूसरी सही है।

Question ID : 9895802467  
Chosen Option : 2

Q.1  
3 उस संख्या को पहचानें जो बाकी से भिन्न है।

- Ans
- 1. 625
  - 2. 115
  - 3. 25
  - 4. 125

Question ID : 9895802465  
Chosen Option : 2

Q.1  
4 निम्नलिखित श्रृंखला को पूरा करने के लिए सही विकल्प का चयन करें।

50, 49, 47, 44, 40, 35, \_\_\_\_\_, 22

- Ans
- 1. 30
  - 2. 25
  - 3. 29
  - 4. 27

Question ID : 9895802462  
Chosen Option : 3

Q.1  
5 निम्नलिखित में से असंगत युग्म को पहचानें।

- Ans
- 1. सूअर : सूअर बाड़ा
  - 2. राजा : महल
  - 3. चील : झपट्टा
  - 4. चिड़िया : घोंसला

Question ID : 9895802452  
Chosen Option : 3

Q.1  
6 दिए गए समीकरण को सही बनाने के लिए किन दो चिह्नों को आपस में बदलने की जरूरत है?

$$20 \div 20 + 20 - 20 \times 20 = 20$$

- Ans
- 1. + और ÷
  - 2. + और ×
  - 3. + और -
  - 4. ÷ और ×

Question ID : 9895802466  
Chosen Option : 2

Q.1  
7 निम्नलिखित श्रृंखला को पूरा करने के लिए सही विकल्प का चयन करें।

5, 8, 13, 20, 29, \_\_\_\_\_, 53, 68, 85

- Ans
- 1. 39
  - 2. 35
  - 3. 40
  - 4. 36

Question ID : 9895802463  
Chosen Option : 3

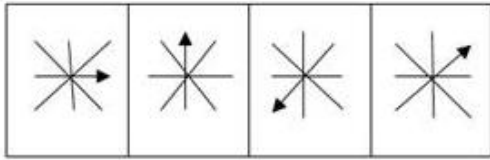
Q.1  
8 निम्नलिखित श्रृंखला में आगे आने वाले पद का चयन करें।

a, cd, fgh, jklm, opqrs, \_\_\_\_\_

- Ans
- 1. uvwxy
  - 2. tuvwxxy
  - 3. uvwxyz
  - 4. vwxyza

Question ID : 9895802449  
Chosen Option : 3

Q.1  
9 निम्नलिखित श्रृंखला में आगे आने वाली आकृति का चयन करें।



Ans

- 1.
- 2.
- 3.
- 4.

Question ID : 9895802468  
Chosen Option : 3

Q.2  
0 निम्नलिखित में से असंगत को पहचानें।

- Ans
- 1. HS



2. KP  
 3. DX  
 4. EV

Question ID : 9895802451  
Chosen Option : 3

Q.2  
1 निम्नलिखित में से असंगत को पहचानें।

- Ans  1. वजन  
 2. छोटा  
 3. लंबाई  
 4. आयतन

Question ID : 9895802450  
Chosen Option : 1

Q.2  
2 एक चिकित्सा प्रतिनिधि एक दिन में छह अस्पतालों A, B, C, D, E और F में से प्रत्येक में एक बार जाने की योजना बनाता है। वह निम्नलिखित परिस्थितियों के अनुसार 1 दिन के लिए अपना कार्यक्रम निर्धारित कर रहा है:

- उसे B और E से पहले A का दौरा करना चाहिए।
- उसे D से पहले B का दौरा करना चाहिए।
- तीसरा अस्पताल जिसमें उसे जाना है, उसे C होना चाहिए।

निम्नलिखित में से किस क्रम में चिकित्सा प्रतिनिधि इन छह अस्पतालों का दौरा करता है?

- Ans  1. A, E, B, D, C, F  
 2. C, F, A, E, D, B  
 3. C, E, A, B, D, F  
 4. A, F, C, D, E, B

Question ID : 9895802458  
Chosen Option : 1

Q.2  
3 उस विकल्प का चयन करें जो तीसरे पद से उसी तरह से संबंधित है जैसे दूसरा पद पहले पद से संबंधित है।

$$\frac{5}{6} : 121 :: \frac{8}{9} : \underline{\hspace{2cm}}$$

- Ans  1. 145

✗ 2. 356

✓ 3. 289

✗ 4. 300

Question ID : 9895802464  
Chosen Option : 3

Q.2  
4 यदि KITCHEN को कूट भाषा में LKWGMKU के रूप में लिखा जाता है, तो SHAMPOO को कूट भाषा में कैसे लिखेंगे?

Ans ✗ 1. TJDQTUV

✗ 2. TJDQTUU

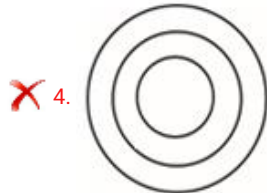
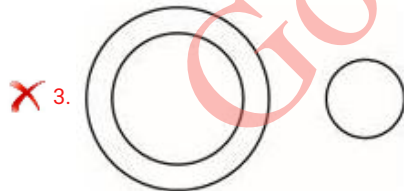
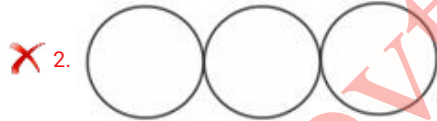

✗ 3. TJEQUUV

✓ 4. TJDQUUV

Question ID : 9895802456  
Chosen Option : 4

Q.2  
5 उस वेन आरेख का चयन करें जो भाषा, हिंदी और मलयालम के वर्ग के बीच के संबंध को सही-सही दर्शाता हो।

Ans



Question ID : 9895802473  
Chosen Option : 1

Q.2  
6 किस देश ने 19वीं शताब्दी से सार्वभौमिक मताधिकार दिया?

Ans

- 1. पाकिस्तान
- 2. भारत
- 3. श्रीलंका
- 4. न्यूज़ीलैंड

Question ID : 9895803015  
Chosen Option : 4

Q.2  
7 ओडिशा में सबसे बड़ी अप्रवाही पानी की झील कौन सी है?

- Ans
- 1. डल झील
  - 2. चिल्का झील
  - 3. बुलर झील
  - 4. पुलीकट झील

Question ID : 9895803011  
Chosen Option : 2

Q.2  
8 \_\_\_\_\_ एक ऐसे नृत्य का रूप है, जो कला में हिन्दू और मुस्लिम विशिष्टता के अद्भुत संयोग का प्रतिनिधित्व करता है।

- Ans
- 1. ओडिसी
  - 2. कथकली
  - 3. मणिपुरी
  - 4. कथक

Question ID : 9895803018  
Chosen Option : 4

Q.2  
9 बेगम हजरत महल भारत के निम्नलिखित में से किस विद्रोह से संबंधित हैं?

- Ans
- 1. सिपाही विद्रोह 1857
  - 2. गोंड विद्रोह 1941
  - 3. मोपला विद्रोह 1921
  - 4. पाइक विद्रोह 1817

Question ID : 9895803004  
Chosen Option : 1

Q.3  
0 'अ सेंचुरी इज़ नॉट इनफ़' पुस्तक लिखने वाले प्रसिद्ध भारतीय क्रिकेटर का नाम बताइये:

- Ans
- 1. विराट कोहली
  - 2. सौरव गांगुली

- 3. वीरेन्द्र सहवाग
- 4. सचिन तेंदुलकर

Question ID : 9895803006  
Chosen Option : 2

Q.3  
1 राष्ट्रीय ग्रामीण रोजगार गारंटी अधिनियम कब पारित हुआ था?

- Ans
- 1. 2005 में
  - 2. 2000 में
  - 3. 1900 में
  - 4. 2019 में

Question ID : 9895803012  
Chosen Option : 1

Q.3  
2 भारत में स्टैच्यू ऑफ यूनिटी की दुनिया की सबसे ऊंची प्रतिमा \_\_\_\_\_ की है।

- Ans
- 1. सरदार वल्लभभाई पटेल
  - 2. डॉ. भीमराव आंबेडकर
  - 3. मोहनदास करमचंद गांधी
  - 4. विनोबा भावे

Question ID : 9895803019  
Chosen Option : 1

Q.3  
3 "Straight from the heart" पुस्तक के लेखक कौन हैं?

- Ans
- 1. एम. एस. धोनी
  - 2. सचिन तेंदुलकर
  - 3. कपिल देव
  - 4. सौरव गांगुली

Question ID : 9895803021  
Chosen Option : 3

Q.3  
4 स्थानीय सरकार की त्रिस्तरीय प्रणाली में \_\_\_\_\_ शामिल नहीं है।

- Ans
- 1. ज़िला परिषद
  - 2. पंचायत समिति
  - 3. ग्राम समिति

✗ 4. ग्राम पंचायत

Question ID : 9895803017  
Chosen Option : 1

Q.3  
5 किस राज्य की समुद्री तट रेखा सबसे लंबी है?

- Ans
- ✗ 1. तमिलनाडु
  - ✗ 2. केरल
  - ✗ 3. कर्नाटक
  - ✓ 4. गुजरात

Question ID : 9895803008  
Chosen Option : 4

Q.3  
6 किस युद्ध में नेपोलियन की पराजय हुई थी?

- Ans
- ✗ 1. आर्कोले
  - ✗ 2. जेना
  - ✓ 3. वॉटरलू
  - ✗ 4. लिग्नी

Question ID : 9895803003  
Chosen Option : 3

Q.3  
7 किस रक्त ग्रुप वाले व्यक्ति को यूनिवर्सल डोनर माना जाता है?

- Ans
- ✗ 1. O पॉज़िटिव
  - ✗ 2. AB निगेटिव
  - ✓ 3. O निगेटिव
  - ✗ 4. AB पॉज़िटिव

Question ID : 9895803024  
Chosen Option : 1

Q.3  
8 योजना आयोग का गठन कब हुआ था?

- Ans
- ✗ 1. 1947 में
  - ✗ 2. 2000 में
  - ✗ 3. 2019 में
  - ✓ 4. 1950 में

Question ID : 9895803013



Q.3 निम्न में से कौन सा बहु-कोशिकीय जानवर नहीं है?

- Ans
- 1. मानव
  - 2. बिल्ली
  - 3. घोड़ा
  - 4. अमीबा

Question ID : 9895803026

Chosen Option : 4

Q.4 मिग (MIG) 21 का उड़ान भरने वाली पहली महिला भारतीय वायु सेना अधिकारी कौन है?

- Ans
- 1. खुशबू मेहता
  - 2. अंजली गुप्ता
  - 3. अवनि चतुर्वेदी
  - 4. भावना शर्मा

Question ID : 9895803022

Chosen Option : 3

Q.4 प्रथम विश्व युद्ध में अपने प्राणों का बलिदान करने वाले भारतीय सैनिकों की याद में बनाये गए अखिल भारतीय युद्ध स्मारक को आज किस नाम से जाना जाता है?

- Ans
- 1. लाल किला
  - 2. इंडिया गेट
  - 3. चार मीनार
  - 4. जामा मस्जिद

Question ID : 9895803020

Chosen Option : 2

Q.4 निम्न में से कौन सा पदार्थ सबसे कठोर है?

- Ans
- 1. कोयला
  - 2. लोहा
  - 3. चांदी
  - 4. हीरा

Question ID : 9895803010

Chosen Option : 4

Q.4 स्पर्श के कारण पौधों में होने वाली दिशात्मक वृद्धि क्या कहलाती है?



Ans

- 1. स्पर्शानुवर्तन
- 2. रसोअनुवर्तन
- 3. प्रकाशानुवर्तन
- 4. गुरुत्वानुवर्तन

Question ID : 9895803027  
Chosen Option : 1

Q.4 संयुक्त राज्य अमेरिका ने किस वर्ष में लोकतांत्रिक संविधान अपनाया?

Ans

- 1. 1932
- 2. 1787
- 3. 1877
- 4. 2000

Question ID : 9895803016  
Chosen Option : 2

Q.4 भारत में, ₹ 500 और ₹ 1,000 के करंसी नोट किस वर्ष में अमान्य घोषित किए गए थे?

Ans

- 1. 2001 में
- 2. 1998 में
- 3. 2016 में
- 4. 2019 में

Question ID : 9895803014  
Chosen Option : 3

Q.4 सबसे छोटा जीवित पक्षी कौन सा है?

Ans

- 1. हमिंगबर्ड
- 2. घरेलू गौरैया
- 3. पीतचटकी
- 4. पंडुक

Question ID : 9895803025  
Chosen Option : 1

Q.4 1192 के तराइन के युद्ध में पृथ्वी राज चौहान किसके हाथों पराजित हुए थे?

Ans

- 1. अबू बकर
- 2. उमर II

- 3. मोहम्मद गोरी
- 4. हारुन अल राशिद

Question ID : 9895803005  
Chosen Option : 3

Q.4  
8 मिस वर्ल्ड 2017 खिताब किसने जीता?

- Ans
- 1. मानुषी छिल्लर
  - 2. युक्ता मुखी
  - 3. लारा दत्ता
  - 4. अनुकृति

Question ID : 9895803023  
Chosen Option : 1

Q.4  
9 भारत ने स्वतंत्र होने के बाद पहला ओलंपिक स्वर्ण पदक जीतने वाली भारतीय हॉकी टीम पर आधारित हिन्दी फिल्म कौन सी है?

- Ans
- 1. लगान
  - 2. चक दे
  - 3. एमएस धोनी
  - 4. गोल्ड

Question ID : 9895803007  
Chosen Option : 4

Q.5  
0 महानदी और गोदावरी के डेल्टा \_\_\_\_\_ मिट्टी से समृद्ध हैं।

- Ans
- 1. अनुर्वर
  - 2. जलोढ़
  - 3. वन
  - 4. काली

Question ID : 9895803009  
Chosen Option : 4

Q.5  
1 मोहित 10 m/s. की गति से अपने दफ्तर जाता है तथा  $x$  km/hr की गति से अपने घर वापस आता है। यदि संपूर्ण यात्रा के लिए मोहित की औसत गति 12 m/s. है, तो  $x$  का मान क्या है?

- Ans
- 1. 54 km/hr
  - 2. 25 km/hr
  - 3. 36 km/hr
  - 4. 15 km/hr

Question ID : 9895804148

Chosen Option : 3

Q.5 अध्यापक के वजन को शामिल करने पर 24 छात्रों के एक समूह का औसत वजन 2 कि.ग्रा. से बढ़ जाता है। यदि 24 छात्रों के समूह का आरंभिक औसत वजन 30 कि.ग्रा. था, तो अध्यापक का वजन क्या है?

- Ans
- 1. 92 kg
  - 2. 82 kg
  - 3. 32 kg
  - 4. 80 kg

Question ID : 9895804135  
Chosen Option : 4

Q.5 यदि दो संख्याओं का महत्तम समापवर्तक 8 है, तो निम्न में से कौन सा उनका लघुत्तम समापवर्त्य नहीं हो सकता?

- Ans
- 1. 68
  - 2. 72
  - 3. 48
  - 4. 24

Question ID : 9895804131  
Chosen Option : 1

Q.5 एक व्यक्ति ने चीनी के 12 बैग ₹ 1200 प्रति बैग की दर से, 8 बैग ₹ 1500 प्रति बैग की दर से तथा 10 बैग ₹ 2100 प्रति बैग की दर से खरीदे। सब बैगों का औसत मूल्य क्या होगा?

- Ans
- 1. ₹ 1420
  - 2. ₹ 1580
  - 3. ₹ 1680
  - 4. ₹ 1640

Question ID : 9895804134  
Chosen Option : 3

Q.5 एक कुर्सी तथा एक मेज के अंकित मूल्य क्रमशः 2 : 3 के अनुपात में हैं। दुकानदार कुर्सी पर 20% की छूट देता है। यदि कुर्सी तथा मेज दोनों पर सम्मिलित छूट 26% है, तो मेज पर कितनी छूट दी गई होगी?

- Ans
- 1. 34%
  - 2. 32%
  - 3. 28%
  - 4. 30%

Question ID : 9895804136  
Chosen Option : 3

Q.5 यदि  $P : Q : R = 5 : 3 : 6$  है, तो  $(P/Q) : (Q/R) : (R/P)$  का अनुपात क्या होगा?

- Ans
- 1. 50 : 45 : 36
  - 2. 75 : 15 : 36

✗ 3. 40 : 12 : 27

✓ 4. 50 : 15 : 36

Question ID : 9895804141

Chosen Option : 4

Q.5 A : B = 5 : 8 है तथा B : C = 11 : 13 है। यदि A = 110 है, तो C का मान क्या है?

Ans ✗ 1. 104

✗ 2. 176

✗ 3. 88

✓ 4. 208

Question ID : 9895804143

Chosen Option : 1

Q.5 एक कंपनी में इंजीनियरों की संख्या प्रत्येक 2 वर्षों में स्वयं की दोगुनी हो जाती है। इंजीनियरों की संख्या कितने वर्षों में अपनी प्रारंभिक संख्या का 1024 गुना हो जाएगी?

Ans ✓ 1. 20 वर्ष

✗ 2. 12 वर्ष

✗ 3. 15 वर्ष

✗ 4. 24 वर्ष

Question ID : 9895804145

Chosen Option : 4

Q.5 नीचे दिए गए बार चार्ट में 7 विभिन्न मिठाइयों S1, S2, S3, S4, S5, S6 तथा

S7 में उपयोग हुई चीनी की मात्रा को मिठाई के कुल वजन के प्रतिशत के रूप में

दर्शाया गया है।



मिठाई S5 तथा S3 का संयुक्त वजन 300 कि.ग्रा. है। इन दो मिठाइयों में

मिलाकर इस्तेमाल की गई चीनी की कुल मात्रा कितनी है?

Ans ✗ 1. 60 kg

✗ 2. 54 kg

✓ 3. निर्धारित नहीं किया जा सकता है।

✗ 4. 57 kg

Question ID : 9895804154  
Chosen Option : 3

Q.6  $\left(\frac{5}{2} \text{ का } 5 \div 4 - 2 \text{ का } \frac{1}{7} \div \frac{1}{7}\right)$  का मान क्या है?

- Ans
- 1.  $\frac{23}{18}$
  - 2.  $\frac{13}{8}$
  - 3.  $\frac{9}{8}$
  - 4.  $\frac{17}{16}$

Question ID : 9895804132  
Chosen Option : 2

Q.6 <sub>1</sub> यदि रोहित 1188 कि.मी. की दूरी 22 घंटों में तय कर सकता है, तो रोहित की गति क्या है?

- Ans
- 1. 25 m/s
  - 2. 54 m/s
  - 3. 48 m/s
  - 4. 15 m/s

Question ID : 9895804149  
Chosen Option : 2

Q.6 P तथा Q मिलकर एक कार्य को 105 दिन में पूरा कर सकते हैं, Q तथा R मिलकर उसी कार्य को 90 दिन में पूरा कर सकते हैं, P तथा R मिलकर उसी कार्य को 126 दिन में पूरा कर सकते हैं। P, Q तथा R मिलकर वही कार्य को कितने दिन में पूरा कर सकते हैं?

- Ans
- 1. 72 दिन
  - 2. 74 दिन
  - 3. 76 दिन
  - 4. 70 दिन

Question ID : 9895804146  
Chosen Option : 3

Q.6 <sub>3</sub> A अकेला एक कार्य को 14 दिन में पूरा कर सकता है तथा B अकेला समान कार्य को 21 दिन में पूरा कर सकता है। A तथा B मिलकर कार्य आरंभ करते हैं परंतु A कार्य शुरू होने के 4 दिन पश्चात् कार्य छोड़ देता है। B शेष कार्य को कितने दिन में पूरा करेगा?

- Ans
- 1. 12 दिन
  - 2. 16 दिन
  - 3. 9 दिन

✓ 4. 11 दिन

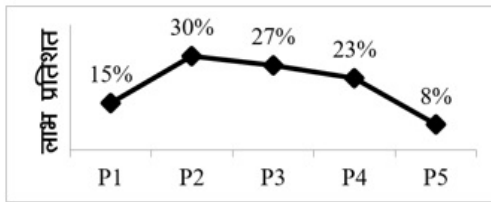
Question ID : 9895804147  
Chosen Option : 3

Q.6  
4 यदि एक वृत्त का व्यास 15% बढ़ाया जाता है, तो उसके क्षेत्रफल में कितने प्रतिशत की वृद्धि होगी?

- Ans
- ✗ 1. 25%
  - ✗ 2. 35.75%
  - ✓ 3. 32.25%
  - ✗ 4. 30.3%

Question ID : 9895804151  
Chosen Option : 3

Q.6  
5 नीचे दिया गया रेखा चित्र एक कंपनी के 5 विभिन्न उत्पादों P1, P2, P3, P4 तथा P5 पर लाभ प्रतिशत को दर्शाता है।



उत्पाद P5 का व्यय ₹ 46000 है। उत्पाद P5 का राजस्व क्या है?

- Ans
- ✗ 1. ₹ 52780
  - ✓ 2. ₹ 49680
  - ✗ 3. ₹ 47360
  - ✗ 4. ₹ 44600

Question ID : 9895804153  
Chosen Option : 1

Q.6  
6  $7\frac{1}{4} + [6 + (5 - 8 \div 4) - 1]$  का मान क्या है?

- Ans
- ✗ 1.  $\frac{23}{2}$
  - ✗ 2.  $\frac{29}{2}$
  - ✗ 3.  $\frac{57}{4}$
  - ✓ 4.  $\frac{61}{4}$



Question ID : 9895804133  
Chosen Option : 2

Q.6 एक वस्तु का विक्रय मूल्य तथा क्रय मूल्य क्रमशः ₹ 1333 तथा ₹ 2150 है। हानि प्रतिशत क्या होगा?

- Ans
- 1. 38%
  - 2. 61.30%
  - 3. 48%
  - 4. 54.4%

Question ID : 9895804139  
Chosen Option : 1

Q.6 रोहन ने ₹ 275 मेज की दर से मेज खरीदी। यदि वह 16 मेज ₹ 5060 की बेचता है, तो लाभ प्रतिशत क्या होगा?

- Ans
- 1. 15%
  - 2. 13.04%
  - 3. 16%
  - 4. 12.5%

Question ID : 9895804140  
Chosen Option : 4

Q.6 एक वर्ग तथा वृत्त का परिमाण समान है। यदि वृत्त का क्षेत्रफल  $1386 \text{ cm}^2$  है, तो वर्ग का क्षेत्रफल क्या होगा?

- Ans
- 1.  $1089 \text{ cm}^2$
  - 2.  $841 \text{ cm}^2$
  - 3.  $1024 \text{ cm}^2$
  - 4.  $1225 \text{ cm}^2$

Question ID : 9895804150  
Chosen Option : 2

Q.7 रोहित एक संख्या को 2 से विभाजित करने की बजाय संख्या को 2 से गुणा कर देता है। परिणामी संख्या सही संख्या का कितना प्रतिशत है?

- Ans
- 1. 300%
  - 2. 200%
  - 3. 50%
  - 4. 400%

Question ID : 9895804138  
Chosen Option : 3

Q.7 एक गेंदबाज ने लगातार 15 मैचों में 0, 3, 2, 1, 5, 3, 4, 5, 5, 2, 2, 0, 0, 1 और 2 विकेट लिए हैं। दिए गए डेटा का माध्यक क्या है?

- Ans
- 1. 1

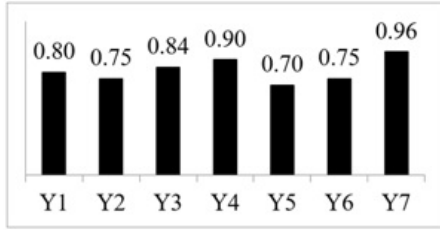
2. 3

3. 2

4. 0

Question ID : 9895804137  
Chosen Option : 2

Q.7 नीचे दिए गए बार चार्ट में सात क्रमागत वर्षों Y1, Y2, Y3, Y4, Y5, Y6 तथा Y7 के लिए व्यय से राजस्व के अनुपात को दर्शाया गया है।



किस वर्ष में लाभ सबसे अधिक है?

Ans  1. Y5

2. Y2

3. निर्धारित नहीं किया जा सकता है।

4. Y6

Question ID : 9895804155  
Chosen Option : 3

Q.7 ₹ 9800 की एक राशि 6 वर्षों में ₹ 4704 का साधारण ब्याज देती है। वार्षिक ब्याज दर क्या होगी?

Ans  1. 7.5%

2. 9%

3. 8.5%

4. 8%

Question ID : 9895804144  
Chosen Option : 4

Q.7 यदि  $A : B = 7 : 8$  है तथा  $B : C = 7 : 9$  है, तो  $A : B : C$  का अनुपात क्या है?

Ans  1. 72 : 56 : 49

2. 56 : 49 : 72

3. 56 : 72 : 49

4. 49 : 56 : 72

Question ID : 9895804142  
Chosen Option : 4

Q.7

5 यदि एक वर्ग की भुजा को 20% बढ़ाया जाता है, तो उसके परिमाण में कितने प्रतिशत की वृद्धि होगी?

- Ans  1. 20%  
 2. 80%  
 3. 40%  
 4. 44%

Question ID : 9895804152  
Chosen Option : 1

Section : English Language

Q.1 Select the correctly spelt word.

- Ans  1. Chageable  
 2. Changeable  
 3. Changable  
 4. Changeble

Question ID : 9895803697  
Chosen Option : --

Q.2 Select the synonym of the given word.

APPARENT

- Ans  1. Questionable  
 2. Obvious  
 3. Doubtful  
 4. Considerable

Question ID : 9895803690  
Chosen Option : --

Q.3 Select the correctly spelt word.

- Ans  1. Millennium  
 2. Millenium  
 3. Millennium  
 4. Millenniumm

Question ID : 9895803696  
Chosen Option : --

Q.4 Select the most appropriate word to fill in the blank.

I make friends \_\_\_\_\_ I go.

- Ans  1. wherever

- 2. whenever
- 3. moreover
- 4. however

Question ID : 9895803679  
Chosen Option : --

**Q.5** Select the most appropriate option to substitute the underlined segment in the given sentence. If there is no need to substitute it, select No Improvement.

The football coach urged the team were give its best to the final match.

- Ans**
- 1. Try to give it best
  - 2. That it give its best
  - 3. No Improvement.
  - 4. To give its best

Question ID : 9895803676  
Chosen Option : --

**Q.6** Select the antonym of the given word.

**HORIZONTAL**

- Ans**
- 1. Parallel
  - 2. Official
  - 3. Vertical
  - 4. Financial

Question ID : 9895803689  
Chosen Option : --

**Q.7** From the given options, identify the segment in the sentence which contains the grammatical error.

The population of Sri Lanka are less than that of India.

- Ans**
- 1. of India
  - 2. than that
  - 3. The population
  - 4. Sri Lanka are

Question ID : 9895803674  
Chosen Option : --

**Q.8** Select the most appropriate option to substitute the underlined segment in the given sentence. If there is no need to substitute it, select No Improvement.

She give me everything I asked for.

- Ans**
- 1. gave me everything
  - 2. gave myself everything
  - 3. No Improvement

4. Is giving me everything

Question ID : 9895803677  
Chosen Option : --

Q.9 From the given options, identify the segment in the sentence which contains the grammatical error.

She was known for her skills in dance and music; she is equal proficient in the allied art of painting.

- Ans
- 1. is equal proficient
  - 2. allied art of painting
  - 3. skills in dance
  - 4. was known

Question ID : 9895803673  
Chosen Option : --

Q.1  
0 Select the most appropriate word to fill in the blank.

The Prime Minister was as good as his \_\_\_\_\_.

- Ans
- 1. office
  - 2. sword
  - 3. dress
  - 4. word

Question ID : 9895803680  
Chosen Option : --

Q.1  
1 Select the option that means the same as the given idiom.

In a nutshell

- Ans
- 1. In writing
  - 2. In detail
  - 3. In discussion
  - 4. In brief

Question ID : 9895803692  
Chosen Option : --

Q.1  
2 Select the synonym of the given word.

CURATIVE

- Ans
- 1. Trembling
  - 2. Feeding
  - 3. Damaging
  - 4. Healing

Question ID : 9895803691

Chosen Option : --

Q.1  
3 Select the word which means the same as the group of words given.

A disease that is prevalent in a particular area

- Ans
- 1. Genetic
  - 2. Contagious
  - 3. Viral
  - 4. Endemic

Question ID : 9895803694

Chosen Option : --

Q.1  
4 Select the antonym of the given word.

ABOLISH

- Ans
- 1. Finish
  - 2. Build
  - 3. Affirm
  - 4. Cancel

Question ID : 9895803688

Chosen Option : --

Q.1  
5 From the given options, identify the segment in the sentence which contains the grammatical error.

Does he like to go for sightseeing when he is in holiday?

- Ans
- 1. when he is
  - 2. in holiday?
  - 3. Does he like
  - 4. to go for sightseeing

Question ID : 9895803672

Chosen Option : --

Q.1  
6 Select the option that means the same as the given idiom.

To keep an eye on

- Ans
- 1. To keep a watch
  - 2. To stare
  - 3. To be cautious
  - 4. To follow

Question ID : 9895803693

Chosen Option : --



Q.1  
7 Select the word which means the same as the group of words given.

One who studies and cares about environment

- Ans
- 1. Archeologist
  - 2. Biologist
  - 3. Anthropologist
  - 4. Ecologist

Question ID : 9895803695

Chosen Option : --

Comprehension:

In the following passage some words have been deleted. Fill in the blanks with the help of the alternatives given.

Every day for a whole year, all kinds of holy men, hermits, scholars and nobles came, and related to the priests their deeds of (1) \_\_\_\_\_, and the priests in solemn council heard their claims. At last, they decided that the one who seemed to be the greatest lover of (2) \_\_\_\_\_ was a rich man who had that very year given all his (3) \_\_\_\_\_ to the poor. So they gave him the plate of gold, but when he took it in his hand, it turned into (4) \_\_\_\_\_ lead; though, when he dropped it on the floor, to his (5) \_\_\_\_\_, it became gold again.

SubQuestion No : 18

Q.1  
8 Select the most appropriate option that will fill in the blank number 1.

- Ans
- 1. kindness
  - 2. sympathy
  - 3. charity
  - 4. happiness

Question ID : 9895803683

Chosen Option : --

Comprehension:

In the following passage some words have been deleted. Fill in the blanks with the help of the alternatives given.

Every day for a whole year, all kinds of holy men, hermits, scholars and nobles came, and related to the priests their deeds of \_\_ (1) \_\_\_\_\_, and the priests in solemn council heard their claims. At last, they decided that the one who seemed to be the greatest lover of (2) \_\_\_\_\_ was a rich man who had that very year given all his (3) \_\_\_\_\_ to the poor. So they gave him the plate of gold, but when he took it in his hand, it turned into (4) \_\_\_\_\_ lead; though, when he dropped it on the floor, to his (5) \_\_\_\_\_, it became gold again.

SubQuestion No : 19

Q.1  
9 Select the most appropriate option that will fill in the blank number 2.

- Ans
- 1. destitute
  - 2. mankind
  - 3. women
  - 4. moneyless

Question ID : 9895803684  
Chosen Option : --

Comprehension:

In the following passage some words have been deleted. Fill in the blanks with the help of the alternatives given.

Every day for a whole year, all kinds of holy men, hermits, scholars and nobles came, and related to the priests their deeds of \_\_ (1) \_\_\_\_\_, and the priests in solemn council heard their claims. At last, they decided that the one who seemed to be the greatest lover of (2) \_\_\_\_\_ was a rich man who had that very year given all his (3) \_\_\_\_\_ to the poor. So they gave him the plate of gold, but when he took it in his hand, it turned into (4) \_\_\_\_\_ lead; though, when he dropped it on the floor, to his (5) \_\_\_\_\_, it became gold again.

SubQuestion No : 20

Q.2  
0 Select the most appropriate option that will fill in the blank number 3.

- Ans
- 1. wealth
  - 2. time
  - 3. energy
  - 4. life

Question ID : 9895803685  
Chosen Option : --

Comprehension:

In the following passage some words have been deleted. Fill in the blanks with the help of the alternatives given.

Every day for a whole year, all kinds of holy men, hermits, scholars and nobles came, and related to the priests their deeds of \_\_ (1) \_\_\_\_\_, and the priests in solemn council heard their claims. At last, they decided that the one who seemed to be the greatest lover of (2) \_\_\_\_\_ was a rich man who had that very year given all his (3) \_\_\_\_\_ to the poor. So they gave him the plate of gold, but when he took it in his hand, it turned into (4) \_\_\_\_\_ lead; though, when he dropped it on the floor, to his (5) \_\_\_\_\_, it became gold again.

SubQuestion No : 21

Q.2  
1 Select the most appropriate option that will fill in the blank number 4.

- Ans
- 1. gold
  - 2. valuable
  - 3. worthless
  - 4. worthy

Question ID : 9895803686

Chosen Option : --

Comprehension:

In the following passage some words have been deleted. Fill in the blanks with the help of the alternatives given.

Every day for a whole year, all kinds of holy men, hermits, scholars and nobles came, and related to the priests their deeds of \_\_ (1) \_\_\_\_\_, and the priests in solemn council heard their claims. At last, they decided that the one who seemed to be the greatest lover of (2) \_\_\_\_\_ was a rich man who had that very year given all his (3) \_\_\_\_\_ to the poor. So they gave him the plate of gold, but when he took it in his hand, it turned into (4) \_\_\_\_\_ lead; though, when he dropped it on the floor, to his (5) \_\_\_\_\_, it became gold again.

SubQuestion No : 22

Q.2  
2 Select the most appropriate option that will fill in the blank number 5.

- Ans
- 1. admiration
  - 2. amazement
  - 3. confusion
  - 4. happiness

Question ID : 9895803687



Chosen Option : --

Q.2 Select the most appropriate option to substitute the underlined segment in the given sentence. If there is no need to substitute it, select No Improvement.

3

A Study has shown that the use of mobile data in India have increased 50 times over the last three years

- Ans
- 1. has increased 50 times
  - 2. Is increasing 50 times
  - 3. No improvement
  - 4. Has been increased to 50 times

Question ID : 9895803675

Chosen Option : --

Q.2 Select the most appropriate word to fill in the blank.

4

They never \_\_\_\_\_ those who have done wrong.

- Ans
- 1. condemn
  - 2. outcast
  - 3. forgive
  - 4. blame

Question ID : 9895803681

Chosen Option : --

Q.2 Select the most appropriate word to fill in the blank.

5

While in Rome we must do as Romans \_\_\_\_\_.

- Ans
- 1. was doing
  - 2. had done
  - 3. do
  - 4. is doing

Question ID : 9895803678

Chosen Option : --

Section : Hindi Language

Q.1 दिए गए शब्द का विलोम चुनें।

उत्थान

- Ans
- 1. गमन
  - 2. जड़
  - 3. चलन
  - 4. पतन

Question ID : 9895803456  
Chosen Option : 1

Q.2 रिक्त स्थान को भरने के लिए सबसे उपयुक्त शब्द का चयन करें।

आज प्रत्येक गाँव में \_\_\_\_\_ खोले जा रहे हैं।

- Ans
- 1. विश्वविद्यालय
  - 2. हवाई अड्डे
  - 3. विद्यालय
  - 4. बंदरगाह

Question ID : 9895803448  
Chosen Option : 3

Q.3 दिए गए शब्द का विलोम चुनें।

निर्माण

- Ans
- 1. अहित
  - 2. कोमल
  - 3. ध्वंस
  - 4. निश्चित

Question ID : 9895803457  
Chosen Option : 3

Q.4 दिए गए शब्द के पर्यायवाची शब्द का चयन करें।

बिजली

- Ans
- 1. दामिनी
  - 2. व्याध्र
  - 3. रिपु
  - 4. वात

Question ID : 9895803458  
Chosen Option : 1

Q.5

दिये गये वाक्यांश के लिए एक शब्द चुनिए।

जो देखने योग्य हो

Ans

- 1. दर्शनीय
- 2. शोभनीय
- 3. प्रशंसनीय
- 4. रमणीय

Question ID : 9895803462

Chosen Option : 1

Q.6 दिए गए वाक्य का वह भाग ज्ञात करें जिसमें कोई त्रुटि है।

आत्मसम्मानी व्यक्ति का हृदय में लोभ का भाव नहीं होता।

Ans

- 1. हृदय में
- 2. आत्मसम्मानी व्यक्ति का
- 3. नहीं होता।
- 4. लोभ का भाव

Question ID : 9895803441

Chosen Option : 2

Q.7 दिए गए वाक्य में रेखांकित खंड को प्रतिस्थापित करने के लिए सबसे उपयुक्त विकल्प का चयन करें।

छात्र जब परिश्रम के मार्ग पर चलता है, तो उसे सफलता व संतुष्टि का फल मिलती है।

Ans

- 1. फल मिलते हैं।
- 2. फल मिलता है।
- 3. फलों मिलना है।
- 4. फल मिलती हैं।

Question ID : 9895803443

Chosen Option : 2

Q.8



रिक्त स्थान को भरने के लिए सबसे उपयुक्त शब्द का चयन करें।

\_\_\_\_\_ बारिश हो रही है।

- Ans
- 1. कलकल
  - 2. रिमझिम
  - 3. सिमसिम
  - 4. खड़खड़

Question ID : 9895803447  
Chosen Option : 2

Q.9 दिए गए वाक्य में रेखांकित खंड को प्रतिस्थापित करने के लिए सबसे उपयुक्त विकल्प का चयन करें।

यात्रा का प्रबन्ध शीघ्रता में हुआ था, अतः न तो उनके पास पर्याप्त वस्त्र थी और न ही धन का पूरा प्रबन्ध।

- Ans
- 1.  
न तो उनके पास पर्याप्त वस्त्र थे, और न ही धन की पूरा प्रबंध।
  - 2.  
न तो उनके पास पर्याप्त वस्त्र थे, और नही धन को पूरा प्रबंध।
  - 3.  
न तो उनके पास पर्याप्त वस्त्र थी और न ही धन को पूरा प्रबंध।
  - 4.  
न तो उनके पास पर्याप्त वस्त्र थे, और न ही धन का पूरा प्रबंध।

Question ID : 9895803444  
Chosen Option : 4

Comprehension:

दिए गए अनुच्छेद में कुछ शब्द हटा दिए गए हैं। दिए गए विकल्पों की सहायता से रिक्त स्थान भरें। प्रत्येक संख्या के लिए सबसे उपयुक्त विकल्प का चयन करें।

भाग्य परिवर्तन के लिए \_\_\_\_\_ (1) ही एकमात्र सहारा है। केवल इच्छाओं द्वारा वांछित फल की \_\_\_\_\_ (2) असंभव है। यदि व्यक्ति दिन में सपने देखता रहे, समुद्र के किनारे \_\_\_\_\_ (3) धरकर बैठा रहे तो कोई लाभ न होगा। परिश्रमी व्यक्ति ही गोता लगाकर अतुल संपत्ति पा सकता है। परिश्रम ही \_\_\_\_\_ (4) की कुंजी है। यह मनुष्य को स्वावलंबी व \_\_\_\_\_ (5) बनाती है।

SubQuestion No : 10

Q.1  
0

गद्यांश में संकेतित रिक्त स्थान (1) के लिए उपयुक्त शब्द होगा -

- Ans
- 1. नींद
  - 2. आलस
  - 3. खाना
  - 4. परिश्रम

Question ID : 9895803451  
Chosen Option : 4

Comprehension:

दिए गए अनुच्छेद में कुछ शब्द हटा दिए गए हैं। दिए गए विकल्पों की सहायता से रिक्त स्थान भरें। प्रत्येक संख्या के लिए सबसे उपयुक्त विकल्प का चयन करें।

भाग्य परिवर्तन के लिए \_\_\_\_\_(1) ही एकमात्र सहारा है। केवल इच्छाओं द्वारा वांछित फल की \_\_\_\_\_(2) असंभव है। यदि व्यक्ति दिन में सपने देखता रहे, समुद्र के किनारे \_\_\_\_\_(3) धरकर बैठा रहे तो कोई लाभ न होगा। परिश्रमी व्यक्ति ही गोता लगाकर अतुल संपत्ति पा सकता है। परिश्रम ही \_\_\_\_\_(4) की कुंजी है। यह मनुष्य को स्वावलंबी व \_\_\_\_\_(5) बनाती है।

SubQuestion No : 11

Q.1  
1 गद्यांश में संकेतित रिक्त स्थान (2) के लिए उपयुक्त शब्द होगा -

- Ans
- 1. गति
  - 2. लेख
  - 3. मौका
  - 4. प्राप्ति

Question ID : 9895803452  
Chosen Option : 4

Comprehension:

दिए गए अनुच्छेद में कुछ शब्द हटा दिए गए हैं। दिए गए विकल्पों की सहायता से रिक्त स्थान भरें। प्रत्येक संख्या के लिए सबसे उपयुक्त विकल्प का चयन करें।

भाग्य परिवर्तन के लिए \_\_\_\_\_(1) ही एकमात्र सहारा है। केवल इच्छाओं द्वारा वांछित फल की \_\_\_\_\_(2) असंभव है। यदि व्यक्ति दिन में सपने देखता रहे, समुद्र के किनारे \_\_\_\_\_(3) धरकर बैठा रहे तो कोई लाभ न होगा। परिश्रमी व्यक्ति ही गोता लगाकर अतुल संपत्ति पा सकता है। परिश्रम ही \_\_\_\_\_(4) की कुंजी है। यह मनुष्य को स्वावलंबी व \_\_\_\_\_(5) बनाती है।

SubQuestion No : 12

Q.1  
2 गद्यांश में संकेतित रिक्त स्थान (3) के लिए उपयुक्त शब्द होगा -

- Ans
- 1. हाथ पर हाथ
  - 2. आँख पर आँख
  - 3. मुँह पर मुँह
  - 4. पैर पर पैर

Question ID : 9895803453  
Chosen Option : 1

Comprehension:

दिए गए अनुच्छेद में कुछ शब्द हटा दिए गए हैं। दिए गए विकल्पों की सहायता से रिक्त स्थान भरें। प्रत्येक संख्या के लिए सबसे उपयुक्त विकल्प का चयन करें।

भाग्य परिवर्तन के लिए \_\_\_\_\_(1) ही एकमात्र सहारा है। केवल इच्छाओं द्वारा वांछित फल की \_\_\_\_\_(2) असंभव है। यदि व्यक्ति दिन में सपने देखता रहे, समुद्र के किनारे \_\_\_\_\_(3) धरकर बैठा रहे तो कोई लाभ न होगा। परिश्रमी व्यक्ति ही गोता लगाकर अतुल संपत्ति पा सकता है। परिश्रम ही \_\_\_\_\_(4) की कुंजी है। यह मनुष्य को स्वावलंबी व \_\_\_\_\_(5) बनाती है।

SubQuestion No : 13

Q.1  
3 गद्यांश में संकेतित रिक्त स्थान (4) के लिए उपयुक्त शब्द होगा -

- Ans
- 1. सफलता
  - 2. प्रसन्नता
  - 3. भाग्य
  - 4. विफलता

Question ID : 9895803454

## Comprehension:

दिए गए अनुच्छेद में कुछ शब्द हटा दिए गए हैं। दिए गए विकल्पों की सहायता से रिक्त स्थान भरें। प्रत्येक संख्या के लिए सबसे उपयुक्त विकल्प का चयन करें।

भाग्य परिवर्तन के लिए \_\_\_\_\_(1) ही एकमात्र सहारा है। केवल इच्छाओं द्वारा वांछित फल की \_\_\_\_\_(2) असंभव है। यदि व्यक्ति दिन में सपने देखता रहे, समुद्र के किनारे \_\_\_\_\_(3) धरकर बैठा रहे तो कोई लाभ न होगा। परिश्रमी व्यक्ति ही गोता लगाकर अतुल संपत्ति पा सकता है। परिश्रम ही \_\_\_\_\_(4) की कुंजी है। यह मनुष्य को स्वावलंबी व \_\_\_\_\_(5) बनाती है।

SubQuestion No : 14

Q.1  
4 गद्यांश में संकेतित रिक्त स्थान (5) के लिए उपयुक्त शब्द होगा -

- Ans
- 1. सुस्त
  - 2. आलसी
  - 3. स्वाभिमानी
  - 4. उपेक्षित

Question ID : 9895803455

Chosen Option : 3

Q.1  
5 दिए गए वाक्य का वह भाग ज्ञात करें जिसमें कोई त्रुटि है।

युवक ही किसी देश को शक्ति का आधार होते हैं।

- Ans
- 1. आधार होते हैं।
  - 2. शक्ति का
  - 3. युवक ही
  - 4. किसी देश को

Question ID : 9895803440

Chosen Option : 4

Q.1  
6



रिक्त स्थान को भरने के लिए सबसे उपयुक्त शब्द का चयन करें।

सूर्य उदय के \_\_\_\_\_ में भी जाग जाता हूँ।

- Ans
- 1. साथ
  - 2. अंदर बाहर
  - 3. ऊपर नीचे
  - 4. आगे पीछे

Question ID : 9895803446  
Chosen Option : 1

Q.1  
7 दिये गये वाक्यांश के लिए एक शब्द चुनिए।

रात में घूमने वाला

- Ans
- 1. शनिचर
  - 2. खगचर
  - 3. निशाचर
  - 4. दिनचर

Question ID : 9895803463  
Chosen Option : 3

Q.1  
8 दिए गए शब्द के पर्यायवाची शब्द का चयन करें।

आगतुक

- Ans
- 1. अनोखा
  - 2. आत्मज
  - 3. अतिथि
  - 4. अनुचर

Question ID : 9895803459  
Chosen Option : 3

Q.1  
9

दिए गए वाक्य का वह भाग ज्ञात करें जिसमें कोई त्रुटि है।

इतने वर्षों की उपरांत मिलने पर हम बहुत खुश हुए।

- Ans
- 1. इतने वर्षों की उपरांत
  - 2. हम बहुत
  - 3. मिलने पर
  - 4. खुश हुए।

Question ID : 9895803442  
Chosen Option : 1

Q.2  
0 रिक्त स्थान को भरने के लिए सबसे उपयुक्त शब्द का चयन करें।

घोड़ा \_\_\_\_\_ रहा है।

- Ans
- 1. भौंक
  - 2. हिनहिना
  - 3. मिमिया
  - 4. कूक

Question ID : 9895803449  
Chosen Option : 2

Q.2  
1 सही वर्तनी वाले शब्द का चयन करें।

- Ans
- 1. अजनम
  - 2. आजनम
  - 3. अजन्मा
  - 4. अजम्ना

Question ID : 9895803465  
Chosen Option : 3

Q.2  
2 दिए गए वाक्य में रेखांकित खंड को प्रतिस्थापित करने के लिए सबसे उपयुक्त विकल्प का चयन करें।

आज सुबह से बारिश हो रही है और बच्चा बारिश में नहा रहा है।

- Ans
- 1. बच्चा बारिश में नहा रहा है।
  - 2. बच्चों बारिश में नहा रही है।



✗ 3. बच्चे बारिशों में नहा रहा है।

✗ 4. बच्चा बारिश में नहा रही है।

Question ID : 9895803445  
Chosen Option : 1

Q.2  
3 सही वर्तनी वाले शब्द का चयन करें।

- Ans
- ✗ 1. सरवभक्षी
  - ✓ 2. सर्वभक्षी
  - ✗ 3. सर्वभक्षी
  - ✗ 4. सरवभक्षी

Question ID : 9895803464  
Chosen Option : 3

Q.2  
4 निम्नलिखित में से उस विकल्प का चयन करें जो 'अँगूठा दिखाना' मुहावरे का अर्थ व्यक्त करता है।

- Ans
- ✗ 1. चिढ़ाना
  - ✓ 2. मौके पर मना कर देना
  - ✗ 3. अँगूठा दिखाकर हँसी उड़ाना
  - ✗ 4. हँसना

Question ID : 9895803460  
Chosen Option : 2

Q.2  
5 निम्नलिखित में से उस विकल्प का चयन करें जो 'अपने मुँह मियाँ मिट्टू बनना' मुहावरे का अर्थ व्यक्त करता है।

- Ans
- ✗ 1. अपने मुँह से मिट्टू पकड़ना
  - ✗ 2. अपनी प्रशंसा दूसरों से सुनना
  - ✓ 3. अपनी प्रशंसा स्वयं करना
  - ✗ 4. दूसरों की प्रशंसा करना

Question ID : 9895803461  
Chosen Option : 3