

Constable (GD) in CAPFs, NIA, SSF and Rifleman (GD) in Assam Rifles Examination, 2018





Roll No. :	GovtJobsAlert.In
Registration No.	GovtJobsAlert.In
Name :	GovtJobsAlert.In
Exam Venue :	Arya College of Engineering and Information Technology
Exam Time :	4:00 PM - 5:30 PM
Exam Date :	11/02/2019

Section : General Section

Q.1 कौन सा विकल्प प्रश्न चिह्न (?) के स्थान पर आएगा और दी गई आकृति श्रृंखला को पूरा करेगा?







Ans

1. 
2. 
3. 
4. 

Question ID : 9895802493

Chosen Option : 3

Q.2 चार संख्याएँ दी गई हैं जिनमें से तीन संख्याएँ किसी न किसी रूप में समान हैं, जबकि एक संख्या भिन्न है। असंगत संख्या चुनिए।

- Ans  1. 72
-  2. 96
-  3. 68
-  4. 48

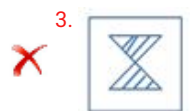
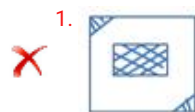
Question ID : 9895802490

Chosen Option : 1

Q.3 विकल्पों में से उस आकृति की पहचान करें, जिसमें दी गई आकृति अंतर्निहित है।



Ans



Question ID : 9895802495

Chosen Option : 2

Q.4 संख्या ट्रायड को पूरा करें।

12	20	28
21	19	?
31	21	11

Ans

1. 12

2. 8

3. 17

4. 15

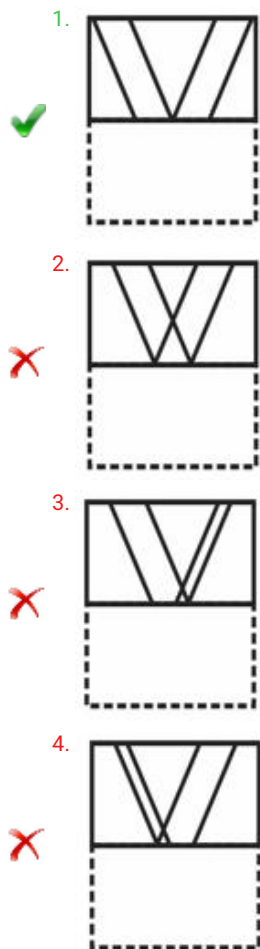
Question ID : 9895802491

Chosen Option : 3

Q.5 पैटर्न का साथ एक वर्गाकार पारदर्शी कागज पत्रक दिया गया है। पारदर्शी कागज पत्रक को बिंदुकित रेखा पर मोड़े जाने पर पैटर्न कैसा दिखाई देगा?



Ans

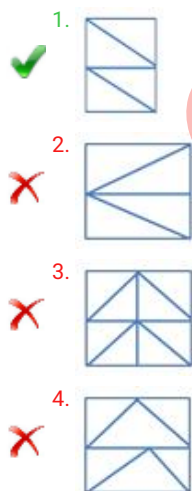


Question ID : 9895802497
Chosen Option : 2

Q.6 वह विकल्प चुनें जो प्रश्न चिह्न (?) के स्थान पर आएगा और दिए गए पैटर्न को पूरा करेगा।



Ans



Question ID : 9895802494
Chosen Option : 1

Q.7 असंगत का चयन करें।

- Ans
- 1. IOU
 - 2. FGH
 - 3. AEI
 - 4. OUA

Question ID : 9895802475
Chosen Option : 2

Q.8 निम्नलिखित में से असंगत गुग्म का चयन करें।

- Ans
- 1. मधुमक्खियाँ : झुंड
 - 2. आदमी : कक्षा
 - 3. फूल : गुलदस्ता
 - 4. अंगूर : गुच्छा

Question ID : 9895802477
Chosen Option : 2

Q.9 नीचे दिए गए कथनों के बाद दो निष्कर्ष I और II दिए गए हैं। यह मानते हुए कि कथनों में दी गई जानकारी सत्य है, भले ही वह सर्वज्ञात तथ्यों से भिन्न प्रतीत होती हो और यह निर्णय करें कि कौन सा / से निष्कर्ष तार्किक और निश्चित रूप से कथन में दी गई जानकारी का अनुसरण करता है / करते हैं।

कथन:

- 1) कुछ बिल्लियाँ बकरियाँ हैं।
- 2) सभी बकरियाँ गाय हैं।

निष्कर्ष:

- I. सभी गायें बकरियाँ हैं।
- II. कुछ बिल्लियाँ गाय हैं।

- Ans
- 1. केवल निष्कर्ष I अनुसरण करता है।
 - 2. दोनों निष्कर्ष I और II अनुसरण करते हैं।

✓³. केवल निष्कर्ष ॥ अनुसरण करता है।

✗⁴. या तो निष्कर्ष । या ॥ अनुसरण करता है।

Question ID : 9895802486

Chosen Option : 3

Q.1 0 छह मित्र P, Q, R, S, T और U केंद्र की ओर देखते हुए एक गोलाकार मेज पर बैठे हैं। S, T के बाएं ओर तीसरा है। R, T और U के बीच में नहीं बैठा है। S, R के ठीक बगल में नहीं है। Q, T के दाएं दूसरा है। U और Q के बीच कौन बैठा है?

- Ans
- ✗¹. R
 - ✓². S
 - ✗³. T
 - ✗⁴. P

Question ID : 9895802483

Chosen Option : 4

Q.1 1 उस विकल्प का चयन करें जो दिए गए युग्म का सदृश है।
हृदय : कार्डियोलॉजी

- Ans
- ✓¹. वायरस : वाइरालजी
 - ✗². शैवाल विज्ञान : कवक
 - ✗³. पौधे : वनस्पति शास्त्र
 - ✗⁴. रोग : अस्पताल

Question ID : 9895802478

Chosen Option : 2

Q.1 2 A, B, C, D, E और F छह मित्र एक लंबी बेंच पर बैठे हैं। E और F बीच में हैं, जबकि A और B दो अंतिम छोरों पर बैठे हैं। C, A के ठीक बगल में बाएं तरफ बैठा है। क्या आप बता सकते हैं कि B के ठीक दाएं ओर कौन बैठा है?

- Ans
- ✗¹. E
 - ✗². C
 - ✓³. D
 - ✗⁴. F

Question ID : 9895802482

Chosen Option : 3

Q.1 3 यदि किसी कूट भाषा में TERRACE को 70 के रूप में लिखा जाता है, तो उसी कूट भाषा में BALCONY को कैसे लिखा जाएगा?

- Ans
- ✓¹. 72
 - ✗². 71
 - ✗³. 74
 - ✗⁴. 73

Question ID : 9895802481
Chosen Option : 1Q.1
4 दी गई श्रृंखला में अगली संख्या ज्ञात करें।

2, 10, 84, ?

- Ans
- 1. 1032
 - 2. 1124
 - 3. 1028
 - 4. 1229

Question ID : 9895802487
Chosen Option : 1Q.1
5 उस विकल्प का चयन करें जो तीसरे पद से उसी प्रकार संबंधित है जिस प्रकार दूसरा पद पहले पद से संबंधित है।

144 : 12 :: 576 : ?

- Ans
- 1. 26
 - 2. 21
 - 3. 24
 - 4. 28

Question ID : 9895802489
Chosen Option : 3Q.1
6 निम्नलिखित समीकरण का मान क्या होगा यदि '+' का अर्थ 'जोड़' है, '-' का अर्थ 'घटाव' है, '.' का अर्थ 'गुणा' है और 'x' का अर्थ 'भाग' है तो निम्नलिखित समीकरण का मान क्या होगा? $49 \times 7 - 3 \div 9 + 4 = ?$

- Ans
- 1. 39
 - 2. 26
 - 3. 31
 - 4. 35

Question ID : 9895802492
Chosen Option : 3Q.1
7 असंगत का चयन करें।

- Ans
- 1. पता लगाना
 - 2. अवलोकन करना
 - 3. अज्ञान
 - 4. समझाना / महसूस करना

Question ID : 9895802476
Chosen Option : 3

Q.1

8 दी गई श्रृंखला में अगली संख्या ज्ञात करें।

101, 123, 147, 173, ?

- Ans
- 1. 201
 - 2. 214
 - 3. 223
 - 4. 236

Question ID : 9895802488
Chosen Option : 1

Q.1 उस विकल्प का चयन करें जो तीसरे पद से उसी तरह संबंधित है जिस तरह दूसरा पद पहले पद से संबंधित है।

PURSE : UPRES :: RAZOR : ?

- Ans
- 1. ARZRO
 - 2. ARRZO
 - 3. AROZR
 - 4. AZROR

Question ID : 9895802479
Chosen Option : 1

Q.2 उन अक्षर युग्म का चयन करें जो दी गई श्रृंखला में अगला आएगा।

AB, GH, MN, ST, ?

- Ans
- 1. UV
 - 2. YZ
 - 3. VW
 - 4. XY

Question ID : 9895802474
Chosen Option : 1

Q.2 पांच आदमी P, Q, R S और T एक अखबार पढ़ रहे हैं।

अखबार को पहले पढ़ने वाला इसे T को देता है। अंत में पढ़ने वाला इसे R से लिया था। Q इसे पढ़ने वाला पहला या अंतिम नहीं है। P और R के बीच दो पढ़ने वाले थे। अखबार पढ़ने वाला तीसरा कौन है?

- Ans
- 1. Q
 - 2. S

3. P

4. R

Question ID : 9895802484
Chosen Option : 3

Q.2
2 निम्नलिखित शब्द की दर्पण छवि को पहचानें जब दर्पण दाईं ओर रखा गया हो।

INSOMNIA

Ans 1. INOSNINI

2. INOSNIN

3. INOSNINI

4. INOSNINI

Question ID : 9895802496
Chosen Option : 1

Q.2
3 यदि किसी कूट भाषा में POLITICAL को QNMHUHDZM के रूप में लिखा जाता है, तो उसी कूट भाषा में SOCIAL को कैसे लिखा जाएगा?

Ans 1. DBKNTH

2. DHBKTN

3. TNDHBK

4. NTHDBK

Question ID : 9895802480
Chosen Option : 3

Q.2
4

नीचे दिए गए कथनों के बाद दो निष्कर्ष । और ॥ दिए गए हैं । यह मानते हुए कि कथनों में दी गई जानकारी सत्य है, भले ही वह सर्वज्ञात तथ्यों से भिन्न प्रतीत होती हो और यह निर्णय करें कि कौन सा / से निष्कर्ष तार्किक और निश्चित रूप से कथन में दी गई जानकारी का अनुसरण करता है / करते हैं।

कथन:

- 1) सभी महिलाएं लड़कियां हैं।
- 2) कुछ लड़कियां चित्रकार हैं।

निष्कर्ष:

- I. सभी लड़कियां महिलाएं हैं।
- II. कुछ महिलाएं चित्रकार हैं।

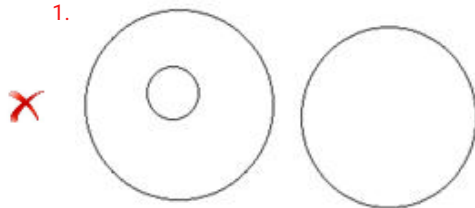
- Ans
1. केवल निष्कर्ष I अनुसरण करता है।
 2. केवल निष्कर्ष II अनुसरण करता है।
 3. न तो निष्कर्ष I और न ही निष्कर्ष II अनुसरण करता है।
 4. निष्कर्ष I और II दोनों अनुसरण करते हैं।

Question ID : 9895802485
Chosen Option : 1

Q.2 उस वेन आरेख का चयन करें जो दिए गए वर्गों को बेहतर ढंग से दर्शाता है।

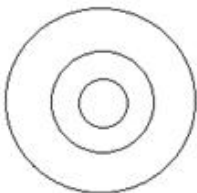
धातु, चांदी, सोना

Ans




2.

✗



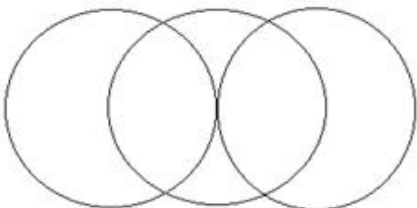
3.

✓



4.

✗



Question ID : 9895802498

Chosen Option : 3

Q.2
6 चारमीनार कहां स्थित है?

Ans

✗

1. मुंबई

✗

2. पणजी

✓

3. हैदराबाद

✗

4. सिकंदराबाद

Question ID : 9895803069

Chosen Option : 1

Q.2
7 _____ ने 2006 में पाकिस्तान के विरुद्ध मैच के पहले ही ओवर में हैट-ट्रिक (तीन विकेट) ली थी और इस प्रकार वे ऐसा करने वाले पहले और आज तक के एकमात्र गेंदबाज बने।

Ans

✓

1. इरफान पठान

✗

2. सचिन तेंदुलकर

✗

3. पार्थिव पटेल

✗

4. रोहित शर्मा

Question ID : 9895803073

Chosen Option : 2

Q.2
8 सबसे बड़ा नदी द्वीप माजुली निम्नलिखित में से किस नदी में स्थित है?

Ans

✗

1. गोदावरी

✗

2. कावेरी

✓ 3. ब्रह्मपुत्र

✗ 4. नर्मदा

Question ID : 9895803061
Chosen Option : 2

Q.2
9 नीली क्रांति _____ से संबंधित है।

Ans ✓ 1. मत्स्य उत्पादन

✗ 2. नील उत्पादन

✗ 3. जूट उत्पादन

✗ 4. कृषि

Question ID : 9895803063
Chosen Option : 1

Q.3
0 भारत की पहली महिला मुख्य चुनाव आयुक्त कौन थीं?

Ans ✗ 1. प्रतिभा देवी

✗ 2. मीरा कुमार

✗ 3. निर्मला सीतारमण

✓ 4. रमा देवी

Question ID : 9895803067
Chosen Option : 3

Q.3
1 किस पाकिस्तानी जनरल ने वर्ष 1999 में अपने देश में सैन्य शासन लागू किया था?

Ans ✓ 1. परवेज़ मुशर्रफ

✗ 2. क़मर जावेद

✗ 3. राहील शरीफ

✗ 4. ज़िआउद्दीन बट

Question ID : 9895803065
Chosen Option : 4

Q.3
2 पुस्तक 'द ऑरिजिन ऑफ़ स्पीशीज़' के लेखक कौन थे?

Ans ✗ 1. जेन गुडाल

✗ 2. लुई पास्चर

✓ 3. चार्ल्स रॉबर्ट डार्विन

✗ 4. जेम्स वॉटसन

Question ID : 9895803077
Chosen Option : 3

Q.3 5 मार्च 1931 को संवैधानिक सुधारों की शर्तों पर बातचीत करने के लिए भारतीय राष्ट्रीय कांग्रेस की ओर से

मोहनदास करमचंद गांधी ने _____ के साथ उच्च स्तरीय आधिकारिक बैठक में भाग लिया।

- Ans
- ✗ 1. लॉर्ड कर्जन
 - ✗ 2. लॉर्ड क्लाइव
 - ✓ 3. लॉर्ड इरविन
 - ✗ 4. लॉर्ड रिपन

Question ID : 9895803055
Chosen Option : 1

Q.3 4 किसी विशेष निर्णय या कानून को रोकने के लिए किसी व्यक्ति, पार्टी या राष्ट्र के अधिकार को क्या कहा जाता है?

- Ans
- ✗ 1. वोट
 - ✗ 2. पावर ऑफ अटॉर्नी
 - ✗ 3. प्राधिकार
 - ✓ 4. वीटो

Question ID : 9895803066
Chosen Option : 4

Q.3 5 सर्वश्रेष्ठ अभिनेत्री के लिए 2018 के राष्ट्रीय फिल्म पुरस्कार से किसे सम्मानित किया गया?

- Ans
- ✗ 1. कैटरिना कैफ़
 - ✓ 2. श्रीदेवी
 - ✗ 3. आलिया भट्ट
 - ✗ 4. दीपिका पादुकोण

Question ID : 9895803072
Chosen Option : 4

Q.3 6 2020 ओलंपिक खेल कहाँ आयोजित किये जाएंगे?

- Ans
- ✓ 1. टोकियो
 - ✗ 2. रियो डी जनेरियो
 - ✗ 3. बीजिंग
 - ✗ 4. पेरिस

Question ID : 9895803058

Q.3
7 निम्न में से कौन भारतीय शास्त्रीय संगीत की प्रख्यात गायिका हैं?

- Ans
- 1. नैना देवी
 - 2. शुभा मुद्गल
 - 3. पूर्णिमा शर्मा
 - 4. रीता गांगुली

Question ID : 9895803070
Chosen Option : 4

Q.3
8 बनारस हिंदू विश्वविद्यालय की स्थापना किसने की?

- Ans
- 1. बाल गंगाधर तिलक
 - 2. जवाहरलाल नेहरू
 - 3. पंडित मदन मोहन मालवीय
 - 4. सर सय्यद मोहम्मद

Question ID : 9895803056
Chosen Option : 3

Q.3
9 यथा फरवरी 2019 को बीसीसीआई के कार्यवाहक अध्यक्ष कौन हैं?

- Ans
- 1. विनोद राय
 - 2. अनुराग ठाकुर
 - 3. सी के खन्ना
 - 4. शशांक मनोहर

Question ID : 9895803057
Chosen Option : 1

Q.4
0 भारत और श्रीलंका को _____ द्वारा विभाजित किया गया है।

- Ans
- 1. होर्मुज जलडमरूमध्य
 - 2. बेरिंग जलडमरूमध्य
 - 3. पालक जलडमरूमध्य
 - 4. जिब्राल्टर जलडमरूमध्य

Question ID : 9895803060
Chosen Option : 1

Q.4 खरीफ फसलों को _____ मौसम की शुरुआत के साथ बोई जाने वाली फसलों के रूप में वर्णित किया जा सकता है।

1

- Ans
- 1. ग्रीष्म
 - 2. वर्षा
 - 3. शीत
 - 4. वसंत

Question ID : 9895803062
Chosen Option : 2

Q.4 अगस्त 1858 में, ब्रिटिश संसद ने एक अधिनियम पारित किया जिसने कंपनी के शासन को समाप्त कर दिया, इसे
2 कौन सा अधिनियम/एक्ट कहा गया?

- Ans
- 1. काजिस अधिनियम
 - 2. फोर्ट विलियम एक्ट
 - 3. भारत सरकार अधिनियम
 - 4. भारतीय न्यास अधिनियम

Question ID : 9895803054
Chosen Option : 1

Q.4
3 भारतीय रेगिस्तान _____ पश्चिमी क्षेत्र में स्थित है।

- Ans
- 1. कैमूर की पहाड़ियां
 - 2. हिमाद्री
 - 3. नीलगिरी की पहाड़ियां
 - 4. अरावली की पहाड़ियां

Question ID : 9895803059
Chosen Option : 1

Q.4
4 निम्न में से कौन परिसंचरण प्रणाली का हिस्सा नहीं है?

- Ans
- 1. धमनियां
 - 2. शिराएं
 - 3. केशिकाएं
 - 4. विल्ली

Question ID : 9895803076
Chosen Option : 3

Q.4
5 सोडियम हाइड्रॉक्साइड का उपयोग _____ के लिए नहीं किया जाता है।

- Ans
- 1. अखबार बनाने
 - 2. धातुओं की चिकनाई हटाने

3. साबुन बनाने
 4. अचार परिरक्षित करने

Question ID : 9895803078
Chosen Option : 1

Q.4
6 भारतीय रिजर्व बैंक के गवर्नर कौन थे जिन्होंने दिसंबर 2018 में अपना इस्तीफा सौंप दिया?

- Ans 1. डॉ. मनमोहन सिंह
 2. उर्जित पटेल
 3. पी चिदंबरम
 4. नरेंद्र मोदी

Question ID : 9895803071
Chosen Option : 2

Q.4
7 कथकली की जड़ें किस राज्य में हैं?

- Ans 1. केरल
 2. आंध्रप्रदेश
 3. तमिलनाडु
 4. कर्नाटक

Question ID : 9895803068
Chosen Option : 1

Q.4
8 Ag एक महंगी, नर्म, सफेद और चमकदार धातु है, जिसे आमतौर पर _____ के रूप में जाना जाता है।

- Ans 1. पारा
 2. एल्युमीनियम
 3. निकल
 4. चांदी

Question ID : 9895803074
Chosen Option : 4

Q.4
9 _____ मानव शरीर की सबसे छोटी हड्डी है।

- Ans 1. कुहनी की हड्डी
 2. कलाई की हड्डी
 3. कान की हड्डी
 4. प्रकोष्ठिका

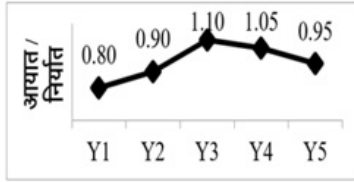
Question ID : 9895803075
Chosen Option : 3

Q.5 भारत के निम्नलिखित इस्पात संयंत्रों में से कौन सा सार्वजनिक क्षेत्र के अंतर्गत नहीं आता है?

- Ans
1. भिलाई इस्पात संयंत्र
 2. राउरकेला स्टील संयंत्र
 3. दुर्गापुर स्टील संयंत्र
 4. टिस्को

Question ID : 9895803064
Chosen Option : 4

Q.5 नीचे दिया गया रेखा चित्र 5 लगातार वर्षों Y_1 , Y_2 , Y_3 , Y_4 तथा Y_5 के लिए एक देश के लिए निर्यात की तुलना में आयात का अनुपात दर्शाता है।



निम्नलिखित में से कौन सा कथन सत्य है?

- Ans
1. दिए गए 5 वर्षों के लिए वर्ष Y_3 के लिए आयात अधिकतम हैं।
 2. आंकड़े पर्याप्त नहीं हैं।
 3. वर्ष Y_3 के लिए निर्यात वर्ष Y_2 के लिए निर्यात से अधिक है।
 4. दिए गए 5 वर्षों के लिए वर्ष Y_1 के लिए आयात न्यूनतम हैं।

Question ID : 9895804231
Chosen Option : 2

Q.5 यदि A, B से 25% कम है, तो $(2B - A)/A$ का मान क्या होगा?

- Ans
1. $\frac{5}{3}$
 2. $\frac{5}{4}$
 3. $\frac{3}{4}$

4. $\frac{3}{2}$

Question ID : 9895804215
Chosen Option : 1

Q.5 यदि मनोज ₹ 486 में 324 टॉफियां खरीदता है, तो 50% लाभ कमाने के लिए उसे ₹ 90 में कितनी टॉफियां बेचनी चाहिए?

- Ans
- 1. 40
 - 2. 45
 - 3. 60
 - 4. 55

Question ID : 9895804217
Chosen Option : 1

Q.5 सुमित, रवि तथा पुनित एक कारोबार शुरू करने के लिए क्रमशः ₹ 45000, ₹ 81000 तथा ₹ 90000 निवेश करते हैं। वर्ष के अंत में कुल लाभ ₹ 4800 होता है। कुल लाभ का 30% चैरिटी में दिया जाता है तथा शेष लाभ उनके बीच बाँटा जाता है। सुमित का हिस्सा कितना होगा?

- Ans
- 1. ₹ 1310
 - 2. ₹ 1400
 - 3. ₹ 1260
 - 4. ₹ 700

Question ID : 9895804219
Chosen Option : 1

Q.5 एक दुकानदार 20% की छूट देने के पश्चात् 36% लाभ कमाता है। अंकित मूल्य, क्रय मूल्य से कितने प्रतिशत अधिक है?

- Ans
- 1. 60%
 - 2. 76%
 - 3. 70%
 - 4. 68%

Question ID : 9895804213
Chosen Option : 1

Q.5 एक राशि चक्रवृद्धि ब्याज पर 4 वर्षों में 6 गुना हो जाती है (ब्याज को वार्षिक आधार पर चक्रवृद्धित किया गया है)। कितने वर्षों में राशि 216 गुना हो जाएगी?

- Ans
- 1. 20
 - 2. 8
 - 3. 12
 - 4. 16

Question ID : 9895804222
Chosen Option : 4

Q.5 दो संख्याओं का लघुत्तम समापवर्त्य तथा महत्तम समापवर्तक क्रमशः 60 तथा 4 है। यदि उनका योग 32 है, तो इन दो संख्याओं का अंतर क्या होगा?

- Ans
- 1. 12
 - 2. 4
 - 3. 20
 - 4. 8

Question ID : 9895804208
Chosen Option : 1

Q.5 रवि, मनीष तथा नवीन अकेले एक कार्य को क्रमशः 30 दिन, 15 दिन तथा 10 दिन में पूरा कर सकते हैं। वे मिलकर कार्य आरंभ करते हैं परंतु रवि कार्य शुरू होने के 2 दिन पश्चात कार्य को छोड़ देता है तथा मनीष और 3 दिन के पश्चात कार्य छोड़ देता है। नवीन शेष कार्य को कितने दिन में पूरा करेगा?

- Ans
- 1. 2 दिन
 - 2. 1 दिन
 - 3. 3 दिन
 - 4. 4 दिन

Question ID : 9895804223
Chosen Option : 1

Q.5 $6\frac{1}{2} + 80 \div 40 - \frac{30}{7}$ of $(5 - \frac{1}{3})$ का मान क्या है?

- Ans
- 1. $-\frac{13}{19}$
 - 2. $-\frac{17}{2}$
 - 3. $-\frac{21}{2}$
 - 4. $-\frac{23}{2}$

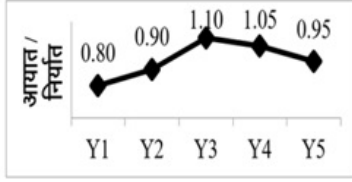
Question ID : 9895804209
Chosen Option : 1

Q.6 यदि $x : y = 6 : 5$ है तथा $z : y = 9 : 25$ है, तो $x : z$ का अनुपात क्या है?

- Ans
- 1. 10 : 3
 - 2. 54 : 125
 - 3. 50 : 33
 - 4. 48 : 25

Question ID : 9895804218
Chosen Option : 1

Q.6
1 नीचे दिया गया रेखा चित्र 5 लगातार वर्षों Y_1, Y_2, Y_3, Y_4 तथा Y_5 के लिए एक देश के लिए निर्यात की तुलना में आयात का अनुपात दर्शाता है।

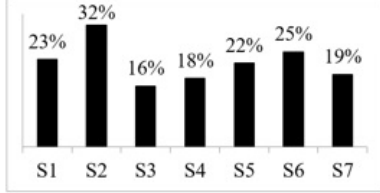


यदि वर्ष Y_5 के लिए आयात ₹ 76000 करोड़ है, तो वर्ष Y_5 के लिए निर्यात (करोड़ में) क्या होगा?

- Ans
- 1. ₹ 82000
 - 2. ₹ 84000
 - 3. ₹ 78000
 - 4. ₹ 80000

Question ID : 9895804230
Chosen Option : 1

Q.6
2 नीचे दिए गए बार चार्ट में 7 विभिन्न प्रकार की मिठाईयों S1, S2, S3, S4, S5, S6 तथा S7 में उपयोग हुई चीनी की मात्रा को मिठाई के कुल वजन के प्रतिशत के रूप में दर्शाया गया है।



मिठाई S3 का कुल वजन 450 kg है। मिठाई S3 में प्रयुक्त चीनी की मात्रा कितनी है?

- Ans
- 1. 72 kg
 - 2. 25 kg
 - 3. 35 kg
 - 4. 31 kg

Question ID : 9895804232
Chosen Option : 1

Q.6
3 एक वर्ग तथा वृत्त का परिमाण समान है। यदि वृत्त का क्षेत्रफल 2464 cm^2 है तो वर्ग का क्षेत्रफल क्या होगा?

- Ans
- 1. 1296 cm^2
 - 2. 1936 cm^2
 - 3. 2116 cm^2

4. 1764 cm^2

Question ID : 9895804228
Chosen Option : 1

Q.6
4 35, 39, 41, 46, 27 तथा x का औसत 38 है। x का मान क्या है?

- Ans 1. 40
 2. 44
 3. 42
 4. 38

Question ID : 9895804212
Chosen Option : 1

Q.6
5 A तथा B क्रमशः ₹ 28000 तथा ₹ 42000 के निवेश के साथ एक कारोबार शुरू करते हैं। A 8 महीने के लिए निवेश करता है तथा B एक वर्ष के लिए निवेश करता है। यदि वर्ष के अंत में कुल लाभ ₹ 21125 है, तो B का हिस्सा कितना है?

- Ans 1. ₹ 14625
 2. ₹ 13575
 3. ₹ 14285
 4. ₹ 12625

Question ID : 9895804220
Chosen Option : 1

Q.6
6 एक लंबवृत्तीय बेलन की ऊँचाई 16 cm है। यदि इसके आधार का व्यास 3.5 cm है, तो बेलन का आयतन क्या होगा?

- Ans 1. 308 cm^3
 2. 176 cm^3
 3. 616 cm^3
 4. 154 cm^3

Question ID : 9895804229
Chosen Option : 1

Q.6
7 पीयूष 8 km/hr की गति से दौड़ रहा है तथा वह प्रत्येक तीसरे किमी के अंत में आराम करने के लिए 5 मिनट रुकता है। 56 km की दूरी तय करने के लिए पीयूष को कितना समय लगेगा?

- Ans 1. 7 hr
 2. 8 hr 30 minutes
 3. 8 hr
 4. 8 hr 20 minutes

Question ID : 9895804226
Chosen Option : 2

Q.6 छः संख्याओं N_1, N_2, N_3, N_4, N_5 तथा N_6 का औसत A है। प्रत्येक संख्या से 5 घटाया जाता है। नया औसत क्या है?

- Ans
- 1. $A - 10$
 - 2. $A - 30$
 - 3. $A - 6$
 - 4. $A - 5$

Question ID : 9895804211
Chosen Option : 1

Q.6 पुनीत 60 km/hr की गति से अपने दफ्तर जाता है तथा 90 km/hr की गति से अपने घर वापस आता है। पूरी यात्रा के लिए पुनीत की औसत गति क्या होगी?

- Ans
- 1. 20 m/s
 - 2. 72 m/s
 - 3. 25 m/s
 - 4. 30 m/s

Question ID : 9895804225
Chosen Option : 1

Q.7 ₹ 10640 की एक राशि 5% की साधारण ब्याज दर से वर्षों में ₹ 3724 ब्याज अर्जित करती है। x का मान क्या है?

- Ans
- 1. 7 वर्ष
 - 2. 6 वर्ष
 - 3. 9 वर्ष
 - 4. 8 वर्ष

Question ID : 9895804221
Chosen Option : 1

Q.7 $\left(\frac{4 \div 2 + 2 - \frac{1}{2} \times \frac{1}{4}}{8 - 3 \div \frac{1}{4} + 6} \right)$ का मान क्या है?

- Ans
- 1. $\frac{17}{16}$
 - 2. $\frac{15}{16}$
 - 3. $\frac{19}{16}$
 - 4. $\frac{31}{16}$

Question ID : 9895804210
Chosen Option : 1

Q.7
2 A अकेले एक कुर्सी 40 दिन में बना सकता है तथा B अकेले उसी कुर्सी को 24 दिन में बना सकता है। यदि A तथा B बारी-बारी से एक-एक दिन कार्य करते हैं तथा A पहले दिन कार्य करता है, तो कुर्सी कितने दिन में बन जाएगी?

- Ans
- ✓^{1.} 30 दिन
- ✗^{2.} 32 दिन
- ✗^{3.} 28 दिन
- ✗^{4.} 34 दिन

Question ID : 9895804224
Chosen Option : 1

Q.7
3 यदि एक वर्ग के विकर्ण की लंबाई 14 cm है, तो वर्ग का क्षेत्रफल क्या होगा?

- Ans
- ✗^{1.} 196 cm²
- ✓^{2.} 98 cm²
- ✗^{3.} 156 cm²
- ✗^{4.} 40 cm²

Question ID : 9895804227
Chosen Option : 1

Q.7
4 यदि एक वस्तु का क्रय मूल्य उस वस्तु के विक्रय मूल्य से 30% कम है, तो लाभ प्रतिशत कितना होगा?

- Ans
- ✓^{1.} 42.86%
- ✗^{2.} 33.33%
- ✗^{3.} 30%
- ✗^{4.} 37.5%

Question ID : 9895804216
Chosen Option : 3

Q.7
5 नीचे दिया गया आंकड़ा उन व्यक्तियों की संख्या दर्शाता है जिन्होंने एक निश्चित राशि की बचत की है।

बचत (₹में)	व्यक्तियों की संख्या
5	1
15	3
20	4
25	2
30	1
35	1
40	2

दिए गए आंकड़े का माध्यक क्या है?

Ans

- 1. ₹ 17.5
- 2. ₹ 22.5
- 3. ₹ 25
- 4. ₹ 20

Question ID : 9895804214
Chosen Option : 1

Section : English Language

Q.1 Select the most appropriate meaning of the given idiom.

Cutting corners

- Ans
- 1. Saving money
 - 2. Lending money
 - 3. Making money
 - 4. Spending too much money

Question ID : 9895803744
Chosen Option : -

Q.2 Select the most appropriate antonym of the given word.

CONVEX

- Ans
- 1. Concave
 - 2. Transparent
 - 3. Dense
 - 4. Opaque

Question ID : 9895803739
Chosen Option : -

Q.3 Select the most appropriate word to fill in the blank.

They showed her the greatest _____.

- Ans
- 1. honour
 - 2. respect
 - 3. tribute
 - 4. praise

Question ID : 9895803732
Chosen Option : -

Q.4 Select the most appropriate word to fill in the blank.

The _____ of the museum showed us some ancient coins.

- Ans
- 1. conservator
 - 2. controller
 - 3. curator
 - 4. collector

Question ID : 9895803731
Chosen Option : -

Comprehension:

In the following passage some words have been deleted. Fill in the blanks with the help of the alternatives given.

There is some truth in the common saying that while dogs become attached to persons, cats are generally (1) _____ to places. A dog will follow his master anywhere, but a cat keeps to the (2) _____ it is used to; and even (3) _____ the house changes hand, the cat will remain there, so long as it is _____ treated (4) _____ by the new owners. A cat does not seem to be capable of (5) _____ often shown by a dog. It thinks most of its own comfort.

SubQuestion No : 5

Q.5 Fill in blank (1) with the most appropriate option.

- Ans
- 1. attached
 - 2. held
 - 3. stuck
 - 4. fond

Question ID : 9895803734
Chosen Option : -

Comprehension:

In the following passage some words have been deleted. Fill in the blanks with the help of the alternatives given.

There is some truth in the common saying that while dogs become attached to persons, cats are generally (1) _____ to places. A dog will follow his master anywhere, but a cat keeps to the (2) _____ it is used to; and even (3) _____ the house changes hand, the cat will remain there, so long as it is _____ treated (4) _____ by the new owners. A cat does not seem to be capable of (5) _____ often shown by a dog. It thinks most of its own comfort.

SubQuestion No : 6

Q.6

Fill in blank (2) with the most appropriate option.

- Ans
- 1. house
 - 2. owner
 - 3. lady
 - 4. master

Question ID : 9895803735
Chosen Option : -

Comprehension:

In the following passage some words have been deleted. Fill in the blanks with the help of the alternatives given.

There is some truth in the common saying that while dogs become attached to persons, cats are generally (1) _____ to places. A dog will follow his master anywhere, but a cat keeps to the (2) _____ it is used to; and even (3) _____ the house changes hand, the cat will remain there, so long as it is _____ treated (4) _____ by the new owners. A cat does not seem to be capable of (5) _____ often shown by a dog. It thinks most of its own comfort.

SubQuestion No : 7

Q.7 Fill in blank (3) with the most appropriate option.

- Ans
- 1. when
 - 2. then
 - 3. wherever
 - 4. where

Question ID : 9895803736
Chosen Option : -

Comprehension:

In the following passage some words have been deleted. Fill in the blanks with the help of the alternatives given.

There is some truth in the common saying that while dogs become attached to persons, cats are generally (1) _____ to places. A dog will follow his master anywhere, but a cat keeps to the (2) _____ it is used to; and even (3) _____ the house changes hand, the cat will remain there, so long as it is _____ treated (4) _____ by the new owners. A cat does not seem to be capable of (5) _____ often shown by a dog. It thinks most of its own comfort.

SubQuestion No : 8

Q.8 Fill in blank (4) with the most appropriate option.

- Ans
- 1. harshly
 - 2. badly

3. kindly

4. softly

Question ID : 9895803737
Chosen Option : -

Comprehension:

In the following passage some words have been deleted. Fill in the blanks with the help of the alternatives given.

There is some truth in the common saying that while dogs become attached to persons, cats are generally (1) _____ to places. A dog will follow his master anywhere, but a cat keeps to the (2) _____ it is used to; and even (3) _____ the house changes hand, the cat will remain there, so long as it is _____ treated (4) _____ by the new owners. A cat does not seem to be capable of (5) _____ often shown by a dog. It thinks most of its own comfort.

SubQuestion No : 9

Q.9 Fill in blank (5) with the most appropriate option.

- Ans
- 1. keenness
 - 2. kindness
 - 3. hatred
 - 4. loyalty

Question ID : 9895803738
Chosen Option : -

Q.1 Select the most appropriate meaning of the given idiom.

A blessing in disguise

- Ans
- 1. A hidden misfortune
 - 2. A hidden favour
 - 3. An apparent fortune
 - 4. An apparent blessing

Question ID : 9895803743
Chosen Option : -

Q.1 Select the correctly spelt word.

- Ans
- 1. Embarrassment
 - 2. Embarrassmment
 - 3. Embarrasment
 - 4. Embarassment

Question ID : 9895803747
Chosen Option : -

Q.1
2 Select the word which means the same as the group of words given.

A short speech at the end of a play

- Ans
- 1. Epilogue
 - 2. Eulogy
 - 3. Chorus
 - 4. Prologue

Question ID : 9895803745
Chosen Option : -

Q.1
3 Select the most appropriate option to substitute the underlined segment in the given sentence. If there is no need to substitute it, select No improvement.

The furniture in this room are old and need to be replaced.

- Ans
- 1. are old and needing
 - 2. is old and need
 - 3. is old and needs
 - 4. No improvement.

Question ID : 9895803728
Chosen Option : -

Q.1
4 Select the correctly spelt word.

- Ans
- 1. Hierarchy
 - 2. Hirarchy
 - 3. Hierarky
 - 4. Hierarchy

Question ID : 9895803748
Chosen Option : -

Q.1
5 Identify the segment in the sentence which contains the grammatical error from the given options.

They visited the Qutub Minar, which is most attractive spot in Delhi.

- Ans
- 1. attractive spot
 - 2. which is most
 - 3. They visited
 - 4. in Delhi

Question ID : 9895803723
Chosen Option : -

Q.1
6 Identify the segment in the sentence which contains the grammatical error from the given options.

The road was blocked since it was in repair.

- Ans
- 1. in repair
 - 2. since it was
 - 3. The road
 - 4. was blocked

Question ID : 9895803725
Chosen Option : -

Q.1
7 Fill in the blanks with the most appropriate words.

Shakespeare _____ this play.

- Ans
- 1. wrote
 - 2. has been writing
 - 3. write
 - 4. is writing

Question ID : 9895803729
Chosen Option : -

Q.1
8 Select the most appropriate synonym of the given word.

FOYER

- Ans
- 1. Lobby
 - 2. Verandah
 - 3. Bedroom
 - 4. Kitchen

Question ID : 9895803742
Chosen Option : -

Q.1
9 Select the most appropriate antonym of the given word.

LENIENT

- Ans
- 1. Defensive
 - 2. Strict
 - 3. Generous

4. Helpful

Question ID : 9895803740
Chosen Option : -

Q.2
0 Select the most appropriate synonym of the given word.

FRUITFUL

- Ans 1. Productive
 2. Useless
 3. Juicy
 4. Barren

Question ID : 9895803741
Chosen Option : -

Q.2
1 Fill in the blanks with the most appropriate words.

_____ taught you such lessons as these?

- Ans 1. Whom
 2. What
 3. Who
 4. Which

Question ID : 9895803730
Chosen Option : -

Q.2
2 Select the most appropriate option to substitute the underlined segment in the given sentence. If there is no need to substitute it, select No improvement.

The movie Uri tells the story of a surgical strike by the Indian army towards militants in POK.

- Ans 1. No improvement.
 2. for militants in POK
 3. over militants at POK
 4. against militants in POK

Question ID : 9895803726
Chosen Option : -

Q.2
3 Select the word which means the same as the group of words given.

A song written in the praise of God

- Ans 1. Elegy

2. Ode
 3. Hymn
 4. Epic

Question ID : 9895803746
Chosen Option : -

Q.2 Identify the segment in the sentence which contains the grammatical error from the given options.
4

She complained about her weak eyes and lamented about the necessity from spectacles.

- Ans 1. She complained
 2. from spectacles
 3. her weak eyes
 4. lamented about

Question ID : 9895803724
Chosen Option : -

Q.2 Select the most appropriate option to substitute the underlined segment in the given sentence. If there is no need to substitute it, select No improvement.
5

The questions are so simple that a child can understand it.

- Ans 1. can understand them
 2. is understanding them
 3. No improvement.
 4. can understand this

Question ID : 9895803727
Chosen Option : -

Section : Hindi Language

Comprehension:

दिए गए अनुच्छेद में कुछ शब्द हटा दिए गए हैं। दिए गए विकल्पों की सहायता से रिक्त स्थान भरें। प्रत्येक संख्या के लिए सबसे उपयुक्त विकल्प का चयन करें।

सफलता की देवी तिलक करने से पहले _____ (1) लेती है। वह उसी माथे पर _____ (2) करती है, जो श्रम की बूंदों से _____ (3) होता है। जो व्यक्ति श्रम से कतराते हैं और कर्तव्य से विमुख होते हैं वे विशेष सुविधा की _____ (4) करते हैं। उनके सपने कभी भी सफलता में परिणत नहीं हो सकते। इसलिए समय के देवता का सम्मान करने के लिए हर _____ (5) को अवसर बनाना तथा समय नियोजन करना आवश्यक है।

SubQuestion No : 1

Q.1

गद्यांश में संकेतित रिक्त स्थान (1) के लिए उपयुक्त शब्द होगा:

- Ans
- 1. पैसा
 - 2. तिलक
 - 3. भाग
 - 4. परीक्षा

Question ID : 9895803477
Chosen Option : -

Comprehension:

दिए गए अनुच्छेद में कुछ शब्द हटा दिए गए हैं। दिए गए विकल्पों की सहायता से रिक्त स्थान भरें। प्रत्येक संख्या के लिए सबसे उपयुक्त विकल्प का चयन करें।

सफलता की देवी तिलक करने से पहले _____ (1) लेती है। वह उसी माथे पर _____ (2) करती है, जो श्रम की बूंदों से _____ (3) होता है। जो व्यक्ति श्रम से कतराते हैं और कर्तव्य से विमुख होते हैं वे विशेष सुविधा की _____ (4) करते हैं। उनके सपने कभी भी सफलता में परिणत नहीं हो सकते। इसलिए समय के देवता का सम्मान करने के लिए हर _____ (5) को अवसर बनाना तथा समय नियोजन करना आवश्यक है।

SubQuestion No : 2

Q.2 गद्यांश में संकेतित रिक्त स्थान (2) के लिए उपयुक्त शब्द होगा:

- Ans
- 1. क्षेत्र
 - 2. समय
 - 3. तिलक
 - 4. आँखें

Question ID : 9895803478
Chosen Option : -

Comprehension:

दिए गए अनुच्छेद में कुछ शब्द हटा दिए गए हैं। दिए गए विकल्पों की सहायता से रिक्त स्थान भरें। प्रत्येक संख्या के लिए सबसे उपयुक्त विकल्प का चयन करें।

सफलता की देवी तिलक करने से पहले _____ (1) लेती है। वह उसी माथे पर _____ (2) करती है, जो श्रम की बूंदों से _____ (3) होता है। जो व्यक्ति श्रम से कतराते हैं और कर्तव्य से विमुख होते हैं वे विशेष सुविधा की _____ (4) करते हैं। उनके सपने कभी भी सफलता में परिणत नहीं हो सकते। इसलिए समय के देवता का सम्मान करने के लिए हर _____ (5) को अवसर बनाना तथा समय नियोजन करना आवश्यक है।

SubQuestion No : 3

Q.3 गद्यांश में संकेतित रिक्त स्थान (3) के लिए उपयुक्त शब्द होगा:

- Ans
- 1. प्रयोग
 - 2. भीगा
 - 3. लगा
 - 4. मूल्य

Question ID : 9895803479

Chosen Option : -

Comprehension:

दिए गए अनुच्छेद में कुछ शब्द हटा दिए गए हैं। दिए गए विकल्पों की सहायता से रिक्त स्थान भरें। प्रत्येक संख्या के लिए सबसे उपयुक्त विकल्प का चयन करें।

सफलता की देवी तिलक करने से पहले _____ (1) लेती है। वह उसी माथे पर _____ (2) करती है, जो श्रम की बूंदों से _____ (3) होता है। जो व्यक्ति श्रम से कतराते हैं और कर्तव्य से विमुख होते हैं वे विशेष सुविधा की _____ (4) करते हैं। उनके सपने कभी भी सफलता में परिणत नहीं हो सकते। इसलिए समय के देवता का सम्मान करने के लिए हर _____ (5) को अवसर बनाना तथा समय नियोजन करना आवश्यक है।

SubQuestion No : 4

Q.4 गद्यांश में संकेतित रिक्त स्थान (4) के लिए उपयुक्त शब्द होगा:

- Ans
- 1. महत्त्व
 - 2. प्रतीक्षा
 - 3. सामने
 - 4. व्यय

Question ID : 9895803480
Chosen Option : -

Comprehension:

दिए गए अनुच्छेद में कुछ शब्द हटा दिए गए हैं। दिए गए विकल्पों की सहायता से रिक्त स्थान भरें। प्रत्येक संख्या के लिए सबसे उपयुक्त विकल्प का चयन करें।

सफलता की देवी तिलक करने से पहले _____ (1) लेती है। वह उसी माथे पर _____ (2) करती है, जो श्रम की बूंदों से _____ (3) होता है। जो व्यक्ति श्रम से कतराते हैं और कर्तव्य से विमुख होते हैं वे विशेष सुविधा की _____ (4) करते हैं। उनके सपने कभी भी सफलता में परिणत नहीं हो सकते। इसलिए समय के देवता का सम्मान करने के लिए हर _____ (5) को अवसर बनाना तथा समय नियोजन करना आवश्यक है।

SubQuestion No : 5

Q.5 गद्यांश में संकेतित रिक्त स्थान (5) के लिए उपयुक्त शब्द होगा:

- Ans
- 1. क्षण
 - 2. भूख
 - 3. संसार
 - 4. आलस्य

Question ID : 9895803481
Chosen Option : -

Q.6 दिए गए वाक्य में रेखांकित खंड को प्रतिस्थापित करने के लिए सबसे उपयुक्त विकल्प का चयन करें।

दुविधा आत्मविश्वास को सबसे बड़ी शत्रु है क्योंकि दुविधा एकाग्रता को नष्ट कर देती है।

- Ans
- 1. दुविधा आत्मविश्वास के सबसे बड़ी शत्रु है
 - 2. दुविधा आत्मविश्वास की सबसे बड़ा शत्रु है
 - 3. दुविधा आत्मविश्वास का सबसे बड़ी शत्रु है
 - 4. दुविधा आत्मविश्वास की सबसे बड़ी शत्रु है

Question ID : 9895803469
Chosen Option : -

Q.7 सही वर्तनी वाले शब्द का चयन करें।

- Ans
- 1. गगनचुंभी

- 2. गगनचोबी
- 3. गगनचूंबी
- 4. गगनचुंबी

Question ID : 9895803490
Chosen Option : -

Q.8 सही वर्तनी वाले शब्द का चयन करें।

- Ans
- 1. प्रतिबर्ष
 - 2. प्रतिवर्ष
 - 3. प्रतिवर्श
 - 4. परतीवर्ष

Question ID : 9895803491
Chosen Option : -

Q.9 निम्नलिखित में से उस विकल्प का चयन करें जो ' आँखों में धूल झाँकना ' मुहावरे का अर्थ व्यक्त करता है।

- Ans
- 1. आँखों से धूल उड़ाना
 - 2. घायल करना
 - 3. धोखा देना
 - 4. अपमानित करना

Question ID : 9895803487
Chosen Option : -

Q.1 रिक्त स्थान को भरने के लिए सबसे उपयुक्त शब्द का चयन करें। जैसे ही अध्यापक महोदय आए, कक्षा _____ हो गई।

- Ans
- 1. शांत
 - 2. भक्त
 - 3. जंगली
 - 4. पागल

Question ID : 9895803475
Chosen Option : -

Q.1 दिये गये वाक्यांश के लिए एक शब्द दीजिये।

अपनी हत्या करने वाला

- Ans
- 1. पराघाती
 - 2. आत्मघाती
 - 3. मित्रघाती

✗ 4. सर्वघाती

Question ID : 9895803488
Chosen Option : -

Q.1 2 दिए गए वाक्य में रेखांकित खंड को प्रतिस्थापित करने के लिए सबसे उपयुक्त विकल्प का चयन करें।

वक्ताओं ने श्रोताओं की मन मोह लिया।

- Ans
- ✗ 1. श्रोताओं का मन मोह लिया।
 - ✗ 2. श्रोताओं के मन मोह लिया।
 - ✓ 3. श्रोताओं से मन मोह लिया।
 - ✗ 4. श्रोताओं को मन मोह लिया।

Question ID : 9895803470
Chosen Option : -

Q.1 3 दिए गए शब्द का विलोम चुनें।

आदान

- Ans
- ✓ 1. ग्रहण
 - ✗ 2. नादान
 - ✗ 3. निदान
 - ✗ 4. प्रदान

Question ID : 9895803483
Chosen Option : -

Q.1 4 दिए गए वाक्य में रेखांकित खंड को प्रतिस्थापित करने के लिए सबसे उपयुक्त विकल्प का चयन करें।

जैसे ही मैंने शेर देखा, डर के मारे मेरा तो प्राण निकल गया।

- Ans
- ✗ 1. मेरे तो प्राण निकल गया।
 - ✗ 2. प्राण मेरे तो निकल गए।
 - ✗ 3. मेरा तो प्राण निकल गयी।
 - ✓ 4. मेरे तो प्राण निकल गए।

Question ID : 9895803468
Chosen Option : -

Q.1 5 रिक्त स्थान को भरने के लिए सबसे उपयुक्त शब्द का चयन करें। मीनाक्षी को अपने किए की _____ मिलेगी।

- Ans
- ✗ 1. कुल्हाड़ी
 - ✓ 2. सजा
 - ✗ 3. गुड़िया

✗ 4. पुरस्कार

Question ID : 9895803472
Chosen Option : -

Q.1
6 रिक्त स्थान को भरने के लिए सबसे उपयुक्त शब्द का चयन करें। विकास _____ कमाने वाला सदस्य है।

- Ans
- ✓ 1. एकमात्र
 - ✗ 2. विदेश
 - ✗ 3. घर
 - ✗ 4. कहाँ

Question ID : 9895803473
Chosen Option : -

Q.1
7 दिए गए वाक्य में रेखांकित खंड को प्रतिस्थापित करने के लिए सबसे उपयुक्त विकल्प का चयन करें। मेरे दादाजी की चित्र बहुत पुराना है। यह चित्र मुझे बहुत प्रिय है।

- Ans
- ✗ 1. दादाजी की चित्र बहुत पुरानी है।
 - ✗ 2. चित्र बहुत पुराना दादाजी को है।
 - ✓ 3. दादाजी का चित्र बहुत पुरानी है।
 - ✗ 4. दादाजी का चित्र बहुत पुराना है।

Question ID : 9895803471
Chosen Option : -

Q.1
8 दिए गए शब्द का विलोम चुनें।

आदि

- Ans
- ✗ 1. आबादी
 - ✓ 2. आरम्भ
 - ✗ 3. बर्बादी
 - ✗ 4. अनादि

Question ID : 9895803482
Chosen Option : -

Q.1
9 दिए गए शब्द के पर्यायवाची शब्द का चयन करें।

प्रख्यात

- Ans
- ✗ 1. शोणित
 - ✓ 2. विमुख

✗ 3. प्रसिद्ध

✗ 4. हस्ती

Question ID : 9895803484
Chosen Option : -

Q.2
0 दिये गये वाक्यांश के लिए एक शब्द दीजिये।

जो देखने में प्रिय लगे

Ans ✗ 1. प्रियसखी

✗ 2. प्रियांशु

✗ 3. प्रियंवदा

✓ 4. प्रियदर्शी

Question ID : 9895803489
Chosen Option : -

Q.2
1 रिक्त स्थान को भरने के लिए सबसे उपयुक्त शब्द का चयन करें। कोयल _____ रही है।

Ans ✗ 1. महक

✗ 2. भौंक

✓ 3. बहक

✗ 4. कूक

Question ID : 9895803474
Chosen Option : -

Q.2
2 दिए गए वाक्य का वह भाग जात करें जिसमें कोई त्रुटि है। भारत की संस्कृति कृषक-संस्कृति है और भारतीय किसान बड़ा कठोरता जीवन जीता है।

Ans ✗ 1. कृषक-संस्कृति है।

✓ 2. भारत की संस्कृति

✗ 3. और भारतीय किसान

✗ 4. बड़ा कठोरता जीवन जीता है।

Question ID : 9895803467
Chosen Option : -

Q.2
3 दिए गए वाक्य का वह भाग जात करें जिसमें कोई त्रुटि है। लगन के साथ अगर को परिश्रम जोड़ दिया जाए तो असंभव कार्य भी संभव हो जाती है।

Ans ✗ 1. अगर परिश्रम को जोड़ दिया जाए तो

✗ 2. संभव हो जाती है।

✓ 3. लगन के साथ

✗^{4.} असंभव कार्य भी

Question ID : 9895803466
Chosen Option : -

Q.2
4 निम्नलिखित में से उस विकल्प का चयन करें जो ' अकल पर पत्थर पड़ना ' मुहावरे का अर्थ व्यक्त करता है।

- Ans
- ✗^{1.} बुद्धि भ्रष्ट हो जाना
 - ✗^{2.} अकल को पत्थर पर रखना
 - ✗^{3.} अकल को पत्थर से मारना
 - ✓^{4.} घायल होना

Question ID : 9895803486
Chosen Option : -

Q.2
5 दिए गए शब्द के पर्यायवाची शब्द का चयन करें।

अमृत

- Ans
- ✗^{1.} रस
 - ✓^{2.} नीर
 - ✗^{3.} पीयूष
 - ✗^{4.} विष

Question ID : 9895803485
Chosen Option : -