

## Constable (GD) in CAPFs, NIA, SSF and Rifleman (GD) in Assam Rifles Examination, 2018

Roll No. :	GovtJobsAlert.In
Registration No.	GovtJobsAlert.In
Name :	GovtJobsAlert.In
Exam Venue :	ANAND INTERNATIONAL COLLEGE OF ENGINEERING JAIPUR
Exam Time :	9:00 AM - 10:30 AM
Exam Date :	12/02/2019

Section : General Section

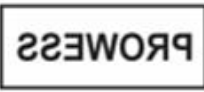



Q.1 चार संख्याएँ दी गई हैं जिनमें से तीन संख्याएँ किसी न किसी रूप में समान हैं, जबकि एक संख्या भिन्न है। असंगत संख्या चुनिए।

- Ans  1. 561  
 2. 317  
 3. 419  
 4. 215

Question ID : 9895802540  
Chosen Option : 1

Q.2 उस विकल्प का चयन करें जो, अगर दर्पण को दाईं ओर रखा जाए तो, दिए गए शब्द की दर्पण छवि से सबसे निकट मेल खाता हो।

PROWESS

- Ans  1.   
 2.   
 3.   
 4. 

Question ID : 9895802546  
Chosen Option : 1

Q.3 सात दोस्तों O, P, Q, R, S, T और U स्टेडियम में बैठे क्रिकेट मैच देख रहे हैं। P एक अंतिम छोर पर बैठा है। T, Q और U के बीच में बैठा है और R, S की ठीक दाईं ओर और Q की ठीक बाईं ओर बैठा है। U, P की बाईं ओर से दूसरे स्थान पर बैठा है। T की बाईं ओर दूसरे स्थान पर कौन बैठा है?

- Ans  1. P  
 2. Q  
 3. U  
 4. R

Question ID : 9895802532  
Chosen Option : 4

Q.4 उस विकल्प का चयन करें जो सही रूप में रिक्त स्थान को भरे और श्रृंखला को पूरा करें।

2, 37, 82, 137, ?

- Ans
- 1. 247
  - 2. 202
  - 3. 147
  - 4. 182

Question ID : 9895802537  
Chosen Option : 2

Q.5 उस विकल्प का चयन करें जो तीसरे पद से उसी प्रकार से संबंधित है जिस प्रकार दूसरा पद प्रथम पद से संबंधित है।

BFI:AGK : DGJ : ?

- Ans
- 1. CHL
  - 2. HCL
  - 3. CHC
  - 4. HCI

Question ID : 9895802529  
Chosen Option : 1

Q.6 नीचे दिए गए कथनों के बाद दो निष्कर्ष I और II दिए गए हैं। यह मानते हुए कि कथनों में दी गई जानकारी सत्य है, भले ही वह सर्वज्ञात तथ्यों से भिन्न प्रतीत होती हो और यह निर्णय करें कि कौन सा / से निष्कर्ष तार्किक और निश्चित रूप से कथन में दी गई जानकारी का अनुसरण करता है / करते हैं।

कथन:

1. सभी छात्र कौवे हैं।
2. सभी कौवे बिल्लियाँ हैं।

निष्कर्ष:

- I. सभी बिल्लियाँ कौवे हैं।
- II. कुछ कौवे छात्र हैं।

- Ans
- 1. केवल निष्कर्ष I अनुसरण करता है।
  - 2. दोनों निष्कर्ष अनुसरण करते हैं।
  - 3. केवल निष्कर्ष II अनुसरण करता है।
  - 4. या तो निष्कर्ष I या निष्कर्ष II अनुसरण करता है।

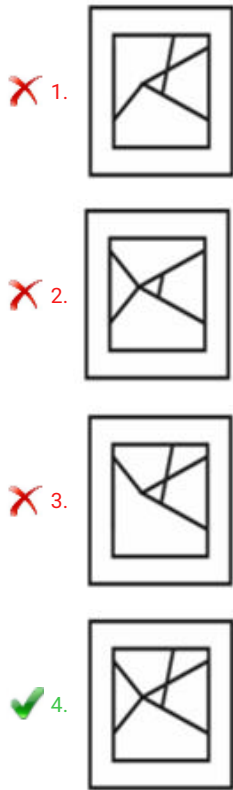
Question ID : 9895802535  
Chosen Option : 3

Q.7 विकल्पों में से उस आकृति का चयन करें जिसमें 'X' से चिह्नित आकृति समाहित है।



X

Ans



Question ID : 9895802545  
Chosen Option : 4

Q.8 Select the option that is related to the third term in the same way as the second term is related to the first term.

Lethargy : Alertness :: Peace : ?

- Ans
- ✗ 1. Choose
  - ✓ 2. Chaos
  - ✗ 3. Chat
  - ✗ 4. Cheer

Question ID : 9895802528  
Chosen Option : 2

Q.9 दिए गए विकल्पों में से असंगत शब्द का चयन करें।

- Ans
- ✗ 1. लंदन
  - ✓ 2. केन्या
  - ✗ 3. बेंगकोक
  - ✗ 4. लिस्बन

Question ID : 9895802526  
Chosen Option : 2

Q.1 निम्न समीकरण को सही करने के लिए दो आपस में बदलने की आवश्यकता वाले दो चिह्नों का पता लगाएँ।  
0  $25 + 26 \times 2 - 7 + 3 = 17$

- Ans
- ✗ 1. - और ×
  - ✗ 2. - और ÷
  - ✗ 3. + और -
  - ✓ 4. × और ÷

Question ID : 9895802542  
Chosen Option : 4

Q.1 उस विकल्प का चयन करें जो तीसरी संख्या से उसी प्रकार से संबंधित है जिस प्रकार दूसरी संख्या प्रथम संख्या से संबंधित है।

22 : 441 :: 13 : ?

- Ans
- 1. 221
  - 2. 144
  - 3. 275
  - 4. 169

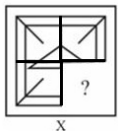
Question ID : 9895802539  
Chosen Option : 2

Q.1 एक निश्चित कूट भाषा में, LIGHT को GSTRO लिखा जाता है। उस कूट भाषा में GYPSY को कैसे लिखा जाएगा?

- Ans
- 1. BHKBT
  - 2. BHJBT
  - 3. BHOBT
  - 4. BHHBT

Question ID : 9895802530  
Chosen Option : 1

Q.1 इन चार विकल्पों में से उस आकृति का चयन करें, जिसे आकृति X के रिक्त स्थान (?) में रखने से पैटर्न पूर्ण कर दें। (घूर्णन की अनुमति नहीं है)।



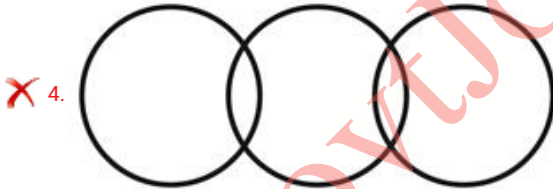
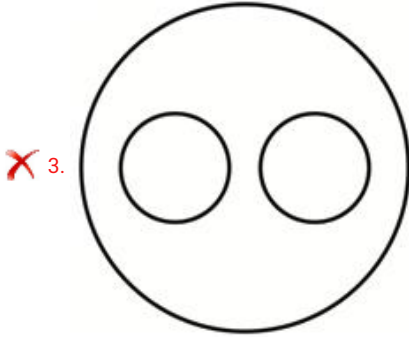
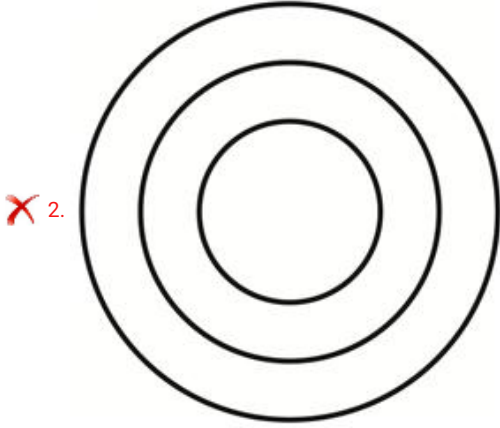
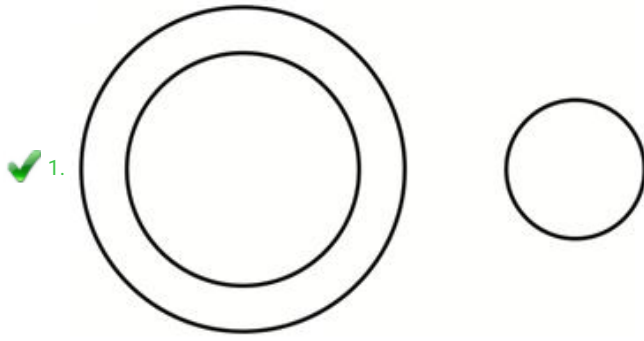
- Ans
- 1.
  - 2.
  - 3.
  - 4.

Question ID : 9895802544  
Chosen Option : 3

Q.1 निम्नलिखित में से कौन सा वेन रेखाचित्र दिए गए वर्ग के बीच के संबंध को सही दर्शाता है?

गिलहरी, तोतें, स्तनधारीओं

Ans



Question ID : 9895802548  
Chosen Option : 1

Q.1 5 उस विकल्प का चयन करें जो सही रूप में रिक्त स्थान को भरे और श्रृंखला को पूरा करें।

RTN, SRO, TPP, UNQ, ?

- Ans
- ✗ 1. VLP
  - ✗ 2. VIP
  - ✗ 3. VJR
  - ✓ 4. VLR

Question ID : 9895802524  
Chosen Option : 4

Q.1 6 In a certain code, VIRUS is written as 46. How will CRUST be written in that code?

- Ans
- ✗ 1. 55
  - ✗ 2. 59

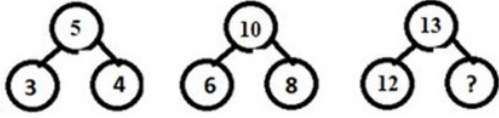
✓ 3. 54

✗ 4. 57

Question ID : 9895802531

Chosen Option : 4

Q.1 उस विकल्प का चयन करें जो दी गई पैटर्न में प्रश्न चिह्न (?) के स्थान पर सही ढंगसे आएगा।



Ans ✓ 1. 5

✗ 2. 11

✗ 3. 13

✗ 4. 7

Question ID : 9895802541

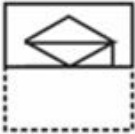
Chosen Option : 1

Q.1 एक वर्गाकार पारदर्शी शीट एक पैटर्न के साथ दी गई है। जब शीट को बिंदीदार रेखा पर मोड़ा जाता है तो पैटर्न कैसा दिखाई देगा?



Ans

✗ 1.



✗ 2.



✗ 3.



✓ 4.



Question ID : 9895802547

Chosen Option : 4

Q.1  
9



नीचे दिए गए कथनों के बाद दो निष्कर्ष I और II दिए गए हैं। यह मानते हुए कि कथनों में दी गई जानकारी सत्य है, भले ही वह सर्वज्ञात तथ्यों से भिन्न प्रतीत होती हो और यह निर्णय करें कि कौन सा / से निष्कर्ष तार्किक और निश्चित रूप से कथन में दी गई जानकारी का अनुसरण करता है / करते हैं।

कथन:

- 1) कुछ जूल (joules) उर्जाएं हैं।
- 2) कुछ उर्जाएं विज्याएं हैं।

निष्कर्ष:

- I. कुछ विज्याएं उर्जाएं हैं।
- II. कुछ उर्जाएं जूल (joules) हैं।

Ans

1. न तो निष्कर्ष I और न ही निष्कर्ष II अनुसरण करता है।
2. केवल निष्कर्ष I अनुसरण करता है।
3. दोनों निष्कर्ष अनुसरण करते हैं।
4. केवल निष्कर्ष II अनुसरण करता है।

Question ID : 9895802536  
Chosen Option : 3

Q.2  
0 निम्न चार अक्षर समूहों में से कौन सा एक इस समूह का हिस्सा नहीं है?

Ans

1. DPN
2. GMO
3. TIF
4. JKN

Question ID : 9895802525  
Chosen Option : 2

Q.2  
1 उस दशमलव संख्या की पहचान करें जो दी गई श्रृंखला में अगली आएगी।

10, 9.9, 9.89, 9.889, 9.8889, \_\_\_\_\_

Ans

1. 9.88999
2. 9.88889
3. 9.98889
4. 9.88888

Question ID : 9895802538  
Chosen Option : 2

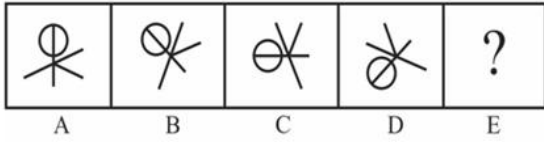
Q.2  
2 एक मात्र रनवे है जिसका सात उड़ानों द्वारा एक के बाद एक उपयोग किया जाएगा। P और Q न तो पहले और न ही आखरी रनवे का उपयोग करेगी। S, R के बाद दूसरे स्थान पर उपयोग करेगी। M, O से पहले दूसरे स्थान पर उपयोग करेगी। N, O के बाद और R से पहले उपयोग करेगी। Q, S से ठीक पहले रनवे का उपयोग करेगी। कौन सी उड़ान O के बाद तीसरे स्थान पर रनवे का उपयोग करेगी?

Ans

1. Q
2. N
3. P
4. R

Question ID : 9895802534  
Chosen Option : 1

Q.2 विकल्पों में से उस आकृति का चयन करें जो दी गई श्रृंखला में अगले स्थान पर आएगी।




Ans

✓ 1.



✗ 2.



✗ 3.



✗ 4.



Question ID : 9895802543  
Chosen Option : 1

Q.2 आठ दोस्तों A, B, C, D, E, F, H और G सामूहिक चर्चा के लिए एक वृत्ताकार मेज़ के इर्द-गिर्द एक दूसरे के आमने सामने बैठे हैं। A, F के सामने है और E से दाईं ओर दूसरे स्थान पर है। G, C और A के बीच में है। H, E की बाईं ओर है। C की बाईं ओर दूसरे स्थान पर कौन बैठा है?

Ans

✗ 1. F

✗ 2. D

✗ 3. C

✓ 4. A

Question ID : 9895802533  
Chosen Option : 4

Q.2 उस विकल्प का चयन करें जो तीसरे पद से उसी प्रकार से संबंधित है जिस प्रकार दूसरा पद प्रथम पद से संबंधित है।

5

उद्य : हिंसक :: भांति : ?

Ans

✓ 1. मिथ्या धारणा

✗ 2. पतन

✗ 3. अहम्

✗ 4. युद्ध

Question ID : 9895802527  
Chosen Option : 1



Q.2  
6 जम्मू और कश्मीर को कौन से अनुच्छेद (धारा) के तहत विशेष दर्जा दिया गया है?

- Ans
- 1. 12
  - 2. 100
  - 3. 370
  - 4. 111

Question ID : 9895803091  
Chosen Option : 3

Q.2  
7 The procedure to remove waste products and excess fluid from the blood when the kidneys stop working properly is called \_\_\_\_\_.

- Ans
- 1. circulation
  - 2. dialysis
  - 3. filtration
  - 4. purification

Question ID : 9895803102  
Chosen Option : 2

Q.2  
8 अर्थशास्त्री \_\_\_\_\_ ने 1998 में नोबेल पुरस्कार प्राप्त किया।

- Ans
- 1. अमर्त्य सेन
  - 2. रघुराम राजन
  - 3. डॉ. मनमोहन सिंह
  - 4. अभिजीत विनायक बनर्जी

Question ID : 9895803089  
Chosen Option : 4

Q.2  
9 भारतीय संविधान का नागरिकत्व पर धारा किस देश के संविधान से प्रेरित है?

- Ans
- 1. युएसए
  - 2. यूके
  - 3. ऑस्ट्रेलिया
  - 4. फ्रांस

Question ID : 9895803090  
Chosen Option : 1

Q.3  
0 लड्डुमार होली कहाँ में मनाई जाती है?

- Ans
- 1. द्वारका
  - 2. अयोध्या
  - 3. वाराणसी
  - 4. बनारस और नंदगाँव

Question ID : 9895803095  
Chosen Option : 4

Q.3  
1 भारत के न्यायतंत्र में अदालतों का पदानुक्रम शामिल है जिसमें \_\_\_\_\_ सर्वोच्च है।

- Ans
- 1. उच्च न्यायालय
  - 2. उच्चतम न्यायालय
  - 3. जिल्ला न्यायालय
  - 4. ग्राम पंचायत

Question ID : 9895803092  
Chosen Option : 2

Q.3  
2 हवा महल कौन से शहर में स्थित है?

- Ans
- 1. आग्रा
  - 2. गुजरात
  - 3. जयपुर
  - 4. दिल्ली

Question ID : 9895803094  
Chosen Option : 3

Q.3  
3 निम्नलिखित में से कौन फ्रांसीसी क्रांति के आदर्शों से प्रेरित था?

- Ans
- 1. बदरुद्दीन तैयबजी
  - 2. टीपू सुल्तान
  - 3. अरविन्द घोष
  - 4. एनी बेसेंट

Question ID : 9895803081  
Chosen Option : 2

Q.3  
4 लक्षद्वीप द्वीपसमूह \_\_\_\_\_ में स्थित हैं।

- Ans
- 1. बंगाल की खाड़ी
  - 2. हिन्द महासागर
  - 3. अरब सागर
  - 4. प्रशांत महासागर

Question ID : 9895803084  
Chosen Option : 3

Q.3  
5 भारतीय उपखंड में जन्म लेने वाला कौन सा भक्ति संगीत सूफी भक्ति संगीत का एक रूप है?

- Ans
- 1. बसंत गीत
  - 2. कजरी
  - 3. कटवाली
  - 4. तीज गीत

Question ID : 9895803093

Chosen Option : 1

Q.3  
6 निम्न में से कौन सी धातु सबसे अधिक तन्य है?

- Ans
- 1. तांबा
  - 2. लोहा
  - 3. सोना
  - 4. एल्युमीनियम

Question ID : 9895803100

Chosen Option : 3

Q.3  
7 निम्न में से कौन-सी सिंधु नदी की उपनदी नहीं है?

- Ans
- 1. चिनाब
  - 2. गंगा
  - 3. झेलम
  - 4. रावी

Question ID : 9895803085

Chosen Option : 2

Q.3  
8 \_\_\_\_\_ capital refers to the variety of raw material and money in hand during the production.

- Ans
- 1. Fixed
  - 2. Physical
  - 3. Working
  - 4. Human

Question ID : 9895803087

Chosen Option : 1

Q.3  
9 \_\_\_\_\_ प्रायः प्रकृति में रेतीली और गुण में लवणीय होती है।

- Ans
- 1. काली मिट्टी
  - 2. माखराला (लेटराइट) मिट्टी
  - 3. जलोढ़ मिट्टी
  - 4. शुष्क मिट्टी

Question ID : 9895803086

Chosen Option : 2

Q.4  
0 \_\_\_\_\_ जम्मू और कश्मीर के बंजारे हैं।

- Ans
- 1. गद्दी चरवाहे
  - 2. गुज्जर बकरवाल

3. भोटिया

4. शेर्पा

Question ID : 9895803080  
Chosen Option : 3

Q.4  
1 \_\_\_\_\_ are receipts of the government which are non-redeemable.

Ans  1. Indirect receipts

2. Tax receipts

3. Direct receipts

4. Revenue receipts

Question ID : 9895803088  
Chosen Option : 4

Q.4  
2 राजीव गांधी खेल रत्न पुरस्कार पाने वाले सबसे कम उम्र के प्राप्तकर्ता कौन हैं?

Ans  1. अभिनव बिंद्रा

2. विश्वनाथन आनंद

3. विराट कोहली

4. गीत सेठी

Question ID : 9895803083  
Chosen Option : 3

Q.4  
3 यथा जून 2018, भारतीय फुटबॉल खिलाड़ी \_\_\_\_\_ दुनिया के दूसरे सबसे ज्यादा गोल करने वाले खिलाड़ी बनें।

Ans  1. आईएम विजयन

2. सुनील छेत्री

3. बाईचुंग भूटिया

4. गुरप्रीत सिंह

Question ID : 9895803098  
Chosen Option : 2

Q.4  
4 गांधी - इरविन समझौता भारत के निम्नलिखित में से किस आंदोलन से संबंधित था?

Ans  1. असहयोग

2. रोलेट

3. सविनय अवज्ञा

4. भारत छोड़ो

Question ID : 9895803079  
Chosen Option : 2

Q.4  
5 विषाणुओं के अध्ययन को क्या कहा जाता है?

- Ans
- 1. पेइडोलॉजी
  - 2. वाइरोलोजी
  - 3. पैथोलॉजी
  - 4. बायोलोजी

Question ID : 9895803099  
Chosen Option : 2

Q.4  
6 Which of the following reacts with water?

- Ans
- 1. Lead
  - 2. Calcium
  - 3. Silver
  - 4. Copper

Question ID : 9895803103  
Chosen Option : 2

Q.4  
7 300 कैच लपकने वाले भारत के पहले विकेट कीपर कौन हैं?

- Ans
- 1. वीरेंद्र सहवाग
  - 2. एमएस धोनी
  - 3. सौरव गांगुली
  - 4. सुरेश रैना

Question ID : 9895803096  
Chosen Option : 3

Q.4  
8 पत्ती की निचली सतह पर स्थित छोटे छिद्रों को क्या कहते हैं?

- Ans
- 1. प्रस्फुटन
  - 2. रोम
  - 3. सिलिया
  - 4. रंध्र

Question ID : 9895803101  
Chosen Option : 4

Q.4  
9 'सत्य के प्रयोग' (माय एक्सपेरीमेन्ट्स विथ ध डूथ) \_\_\_\_\_ की आत्मकथा है।

- Ans
- 1. नरेन्द्र मोदी
  - 2. जवाहरलाल नेहरू
  - 3. एपीजे अब्दुल कलाम
  - 4. महात्मा गांधी

Question ID : 9895803097  
Chosen Option : 4

Q.5  
0 भारत सरकार में युवा मामलों और खेल के लिए वर्तमान कैबिनेट मंत्री कौन है?

- Ans
- 1. नितिन गडकरी
  - 2. राज्यवर्धन सिंह राठौड़
  - 3. विजय गोयल
  - 4. सुषमा स्वराज

Question ID : 9895803082  
Chosen Option : 2

Q.5  
1 यदि  $A : B : C = 4 : 5 : 6$  है, तो  $(1/A) : (1/B) : (1/C)$  का अनुपात क्या होगा?

- Ans
- 1. 15 : 12 : 10
  - 2. 10 : 12 : 15
  - 3. 12 : 10 : 15
  - 4. 15 : 10 : 12

Question ID : 9895804269  
Chosen Option : 1

Q.5  
2 नीचे दिया गया डेटा उन व्यक्तियों की संख्या को दर्शाता है जिन्होंने एक निश्चित राशि की बचत की है।

बचत (₹ में)	व्यक्तियों की संख्या
5	1
15	3
20	4
25	2
30	1
35	1
40	2

दिए गए डेटा का बहुलक क्या है?

- Ans
- 1. ₹ 15
  - 2. ₹ 20
  - 3. ₹ 25
  - 4. ₹ 30

Question ID : 9895804265  
Chosen Option : 2

Q.5  
3



नीचे दी गई तालिका में एक श्रृंखला के 5 विभिन्न मैचों में 4 विभिन्न बल्लेबाजों

B1, B2, B3 तथा B4 द्वारा बनाए गए रनों को दर्शाती है।

	मैच				
	M1	M2	M3	M4	M5
B1	120	95	83	86	20
B2	12	8	0	196	52
B3	23	36	45	19	27
B4	56	65	85	45	42

बल्लेबाज B3 द्वारा बनाए गए रन की प्रति मैच औसत संख्या क्या है?

- Ans
- 1. 28
  - 2. 35
  - 3. 36
  - 4. 30

Question ID : 9895804281  
Chosen Option : 4

Q.5 यदि एक व्यक्ति 30 मी./से. की गति से एक कार चला रहा है, तो व्यक्ति 1620 कि.मी. की दूरी को कितने समय में तय करेगा?

- Ans
- 1. 54 घंटे
  - 2. 15 घंटे
  - 3. 12 घंटे
  - 4. 13 घंटे

Question ID : 9895804276  
Chosen Option : 2

Q.5 8 के पहले चार धनात्मक गुणकों का औसत क्या होगा?

- Ans
- 1. 24
  - 2. 16
  - 3. 20
  - 4. 32

Question ID : 9895804263  
Chosen Option : 3

Q.5 B, A से 20% अधिक है तथा C, B से 25% अधिक है। यदि C = 330 है, तो A का मान क्या होगा?

- Ans
- 1. 214
  - 2. 250
  - 3. 220
  - 4. 198

Question ID : 9895804266  
Chosen Option : 3



Q.5  
7  $2^3 \times 3^5 \times 5^5$  तथा  $3^1 \times 5^2 \times 7^1$  का महत्तम समापवर्तक क्या होगा?

- Ans
- 1.  $2^3 \times 3^5 \times 5^7 \times 7^1$
  - 2.  $2^1 \times 3^1 \times 5^2 \times 7^1$
  - 3.  $2^1 \times 3^1 \times 5^2$
  - 4.  $3^1 \times 5^2$

Question ID : 9895804259  
Chosen Option : 4

Q.5  
8 एक किताब के विक्रय मूल्य तथा क्रय मूल्य 3 : 4 के अनुपात में है। लाभ/हानि प्रतिशत क्या होगा?

- Ans
- 1. 33.33% लाभ
  - 2. 66.66% हानि
  - 3. 20% लाभ
  - 4. 25% हानि

Question ID : 9895804268  
Chosen Option : 4

Q.5  
9  $\left[6\frac{1}{5} \times \frac{5}{6} \text{ का } \left(\frac{2}{5} - \frac{16}{62} + \frac{11}{62}\right)\right]$  का मान क्या है?

- Ans
- 1.  $\frac{43}{108}$
  - 2.  $\frac{33}{20}$
  - 3.  $\frac{47}{62}$
  - 4.  $\frac{47}{108}$

Question ID : 9895804260  
Chosen Option : 2

Q.6  
0 एक आयताकार मेज का परिमाण 48 से.मी. है। यदि आयताकार मेज का क्षेत्रफल 128 से.मी.<sup>2</sup> है, तो मेज की लंबाई क्या होगी?

- Ans
- 1. 18 से.मी.
  - 2. 10 से.मी.
  - 3. 16 से.मी.
  - 4. 12 से.मी.

Question ID : 9895804280  
Chosen Option : 3

Q.6  
1

नीचे दी गई तालिका में एक श्रृंखला के 5 विभिन्न मैचों में 4 विभिन्न बल्लेबाजों

B1, B2, B3 तथा B4 द्वारा बनाए गए रनों को दर्शाती है।

	मैच				
	M1	M2	M3	M4	M5
B1	120	95	83	86	20
B2	12	8	0	196	52
B3	23	36	45	19	27
B4	56	65	85	45	42

इन 5 मैचों में B1 तथा B4 द्वारा बनाए गए रनों की कुल संख्या में क्या अंतर है?

- Ans
- 1. 111
  - 2. 98
  - 3. 87
  - 4. 124

Question ID : 9895804283  
Chosen Option : 1

Q.6 The price of two articles are in the ratio of 4 : 3 respectively. The price of first article is increased by 50% and the price of second article is decreased by 10%. If the new price of second article is ₹ 54, then what was the original price of first article?

- Ans
- 1. ₹ 90
  - 2. ₹ 100
  - 3. ₹ 120
  - 4. ₹ 80

Question ID : 9895804271  
Chosen Option : 3

Q.3 यदि  $a : b = 4 : 5$  है, तो  $(a/b) : (b/a)$  का अनुपात क्या होगा?

- Ans
- 1. 1 : 1
  - 2. 5 : 4
  - 3. 16 : 25
  - 4. 4 : 5

Question ID : 9895804270  
Chosen Option : 3

Q.6 C अकेला एक कार्य को 20 दिन में पूरा कर सकता है तथा D अकेला समान कार्य को 30 दिन में पूरा कर सकता है।  
4 C तथा D दोनों मिलकर समान कार्य को कितने दिन में पूरा कर सकते हैं?

- Ans
- 1. 12 दिन
  - 2. 15 दिन
  - 3. 8 दिन
  - 4. 6 दिन

Question ID : 9895804274

Chosen Option : 1

Q.6 The height of a cone is 24 cm and radius of its base 10 cm. If the rate of painting it is ₹ 28/cm<sup>2</sup>, then what will be the total cost in painting the cone from outside?

- Ans
- 1. ₹ 20820
  - 2. ₹ 17660
  - 3. ₹ 18880
  - 4. ₹ 22880

Question ID : 9895804279

Chosen Option : 4

Q.6 ₹ 3200 रु की एक राशि पर 20% की वार्षिक दर से 2 वर्षों के चक्रवृद्धि ब्याज (ब्याज का संयोजन वार्षिक किया गया है) तथा साधारण ब्याज के मध्य अंतर क्या होगा?

- Ans
- 1. ₹ 128
  - 2. ₹ 148
  - 3. ₹ 96
  - 4. ₹ 132

Question ID : 9895804273

Chosen Option : 1

Q.6 विवेक, देव तथा ललित अकेले एक कार्य को क्रमशः 10 दिन, 15 दिन तथा 20 दिन में पूरा कर सकते हैं। विवेक तथा देव मिलकर समान कार्य का आधा कितने दिन में पूरा कर सकते हैं?

- Ans
- 1. 3 दिन
  - 2. 9 दिन
  - 3. 6 दिन
  - 4. 5 दिन

Question ID : 9895804275

Chosen Option : 1

Q.6 Anil goes to his office at the speed of 35 km/hr and returns to his home at the speed of 30 km/hr. If he takes total 39 hours, then what is the distance between his office and home?

- Ans
- 1. 525 km
  - 2. 210 km
  - 3. 420 km
  - 4. 630 km

Question ID : 9895804277

Chosen Option : 4

Q.6 एक वस्तु को 20% की छूट देने के पश्चात् ₹ 5360 में बेचा गया है। वस्तु का अंकित मूल्य क्या है?

- Ans
- 1. ₹ 6800
  - 2. ₹ 6700
  - 3. ₹ 6620
  - 4. ₹ 7000

Question ID : 9895804264

Chosen Option : 2

Q.7  
0 किसी आयताकार बगीचे की लंबाई तथा चौड़ाई 12 से.मी. तथा 9 से.मी. है। आयताकार बगीचे का क्षेत्रफल क्या होगा?

- Ans
- 1. 96 से.मी.<sup>2</sup>
  - 2. 112 से.मी.<sup>2</sup>
  - 3. 84 से.मी.<sup>2</sup>
  - 4. 108 से.मी.<sup>2</sup>

Question ID : 9895804278  
Chosen Option : 4

Q.7  
1  $\left[4 + 200 \div 50 + \frac{3}{2} \text{ का } \left(\frac{1}{5} - \frac{1}{4}\right)\right]$  का मान क्या है?

- Ans
- 1.  $\frac{337}{40}$
  - 2.  $\frac{323}{40}$
  - 3.  $\frac{329}{40}$
  - 4.  $\frac{317}{40}$

Question ID : 9895804261  
Chosen Option : 4

Q.7  
2 एक विद्यालय के 50 शिक्षकों की औसत आयु 66 वर्ष है तथा दूसरे विद्यालय के 60 शिक्षकों की औसत आयु 55 वर्ष है। दोनों विद्यालयों के शिक्षकों को मिलाकर औसत आयु क्या होगी?

- Ans
- 1. 65 वर्ष
  - 2. 62.5 वर्ष
  - 3. 57.5 वर्ष
  - 4. 60 वर्ष

Question ID : 9895804262  
Chosen Option : 4

Q.7  
3 एक राशि साधारण ब्याज की वार्षिक दर से 15 वर्षों में स्वयं का 14 गुना हो जाती है। कितने वर्षों में राशि स्वयं का 92 गुना हो जाएगी?

- Ans
- 1. 91 वर्ष
  - 2. 195 वर्ष
  - 3. 210 वर्ष
  - 4. 105 वर्ष

Question ID : 9895804272  
Chosen Option : 4

Q.7  
4 राहुल ने बाजार से 80 वस्तुएं खरीदीं। कुल वस्तुओं की 25% वस्तुएं खराब थीं तथा शेष वस्तुओं को 50% लाभ पर बेचा गया। कुल लाभ प्रतिशत क्या होगा?

Ans

1. 9.09%
2. 10%
3. 11.11%
4. 12.5%

Question ID : 9895804267  
Chosen Option : 4

Q.7 नीचे दी गई तालिका में एक श्रृंखला के 5 विभिन्न मैचों में 4 विभिन्न बल्लेबाजों B1, B2, B3 तथा B4 द्वारा बनाए गए रनों को दर्शाती है।

	मैच				
	M1	M2	M3	M4	M5
B1	120	95	83	86	20
B2	12	8	0	196	52
B3	23	36	45	19	27
B4	56	65	85	45	42

M5 में इन बल्लेबाजों द्वारा बनाए गए प्रति बल्लेबाज औसत रन क्या हैं?

- Ans  1. 38.50
2. 35.25
3. 39.25
4. 32.75

Question ID : 9895804282  
Chosen Option : 2

Section : English Language

Q.1 Select the word which means the same as the group of words given.

Handwriting that cannot be read

- Ans  1. Corrigible
2. Illegible
3. Legible
4. Negligible

Question ID : 9895804128  
Chosen Option : --

Q.2 Fill in the blanks with the most appropriate words.

Rohit taught you such tricks as these, \_\_\_\_\_?

- Ans  1. hasn't he
2. didn't he
3. has he
4. did he

Question ID : 9895804114  
Chosen Option : --

**Q.3** Select the most appropriate option to substitute the underlined segment in the given sentence. If there is no need to substitute it, select No improvement.

India expressed concern at the arrest of 130 Indian students enrolling at a fake university in Detroit.

- Ans
- 1. enroll by a fake university
  - 2. No improvement
  - 3. enrolling in a fake university
  - 4. enrolled at a fake university

Question ID : 9895804110  
Chosen Option : --

**Q.4** Select the most appropriate meaning of the given idiom.

To hold your horses

- Ans
- 1. To have patience
  - 2. To be too quick
  - 3. To control horses
  - 4. To be excited

Question ID : 9895804126  
Chosen Option : --

**Q.5** Select the correctly spelt word.

- Ans
- 1. Successfully
  - 2. Sucessfully
  - 3. Succesfully
  - 4. Successfuly

Question ID : 9895804129  
Chosen Option : --

**Q.6** Select the most appropriate option to substitute the underlined segment in the given sentence. If there is no need to substitute it, select No improvement.

Don't talk as soon as she is dancing.

- Ans
- 1. No improvement
  - 2. how
  - 3. but
  - 4. as long as

Question ID : 9895804108  
Chosen Option : --

**Q.7** Select the most appropriate word to fill in the blank.

The forest officers \_\_\_\_\_ a leopard cub trapped in a pit.

- Ans
- 1. searched
  - 2. discovered
  - 3. invented



4. founded

Question ID : 9895804111  
Chosen Option : --

Q.8 Select the most appropriate word to fill in the blank.

I shall be glad if you \_\_\_\_\_ my proposal.

- Ans  1. except  
 2. accept  
 3. intercept  
 4. expect

Question ID : 9895804112  
Chosen Option : --

Q.9 Identify the segment in the sentence which contains the grammatical error from the given options.

She gave a loud shout, which heard across the village.

- Ans  1. She gave  
 2. loud shout  
 3. which heard  
 4. across the village

Question ID : 9895804105  
Chosen Option : --

Q.1 Identify the segment in the sentence which contains the grammatical error from the given options.

0

The work is too much for any man to do single-hand.

- Ans  1. The work is  
 2. too much  
 3. single-hand  
 4. any man to

Question ID : 9895804107  
Chosen Option : --

Q.1 Select the most appropriate antonym of the given word.

1

VIGOROUS

- Ans  1. Trivial  
 2. Strong  
 3. Feeble  
 4. Curious

Question ID : 9895804122  
Chosen Option : --

Q.1  
2



Select the word which means the same as the group of words given.

A person with odd personality

- Ans
- 1. Egoist
  - 2. Ecologist
  - 3. Entomologist
  - 4. Eccentric

Question ID : 9895804127  
Chosen Option : --

Q.1  
3 Select the most appropriate meaning of the given idiom.

Get out of hand

- Ans
- 1. Controllable
  - 2. Uncontrollable
  - 3. Manageable
  - 4. Appreciable

Question ID : 9895804125  
Chosen Option : --

Comprehension:

In the following passage some words have been deleted. Fill in the blanks with the help of the alternatives given.

Suppose you have to make a payment of Rs. 100, you can do so in coins; but it would be \_\_\_\_\_ (1) to pay in nickel or copper coins, because it takes much time to \_\_\_\_\_ (2) them. The government \_\_\_\_\_ (3) permits you to make the payment in \_\_\_\_\_ (4) What are these notes really? They are a kind of money although they are made of \_\_\_\_\_ (5) instead of metal.

SubQuestion No : 14

Q.1  
4 Fill in blank (1) with the most appropriate option.

- Ans
- 1. practical
  - 2. cumbersome
  - 3. feasible
  - 4. easy

Question ID : 9895804116  
Chosen Option : --

Comprehension:

In the following passage some words have been deleted. Fill in the blanks with the help of the alternatives given.

Suppose you have to make a payment of Rs. 100, you can do so in coins; but it would be \_\_\_\_\_ (1) to pay in nickel or copper coins, because it takes much time to \_\_\_\_\_ (2) them. The government \_\_\_\_\_ (3) permits you to make the payment in \_\_\_\_\_ (4) What are these notes really? They are a kind of money although they are made of \_\_\_\_\_ (5) instead of metal.

SubQuestion No : 15

Q.1  
5 Fill in blank (2) with the most appropriate option.

- Ans
- 1. hold
  - 2. count
  - 3. carry
  - 4. pay

Question ID : 9895804117  
Chosen Option : --

Comprehension:

In the following passage some words have been deleted. Fill in the blanks with the help of the alternatives given.

Suppose you have to make a payment of Rs. 100, you can do so in coins; but it would be \_\_\_\_\_ (1) to pay in nickel or copper coins, because it takes much time to \_\_\_\_\_ (2) them. The government \_\_\_\_\_ (3) permits you to make the payment in \_\_\_\_\_ (4) What are these notes really? They are a kind of money although they are made of \_\_\_\_\_ (5) instead of metal.

SubQuestion No : 16

Q.1  
6 Fill in blank (3) with the most appropriate option.

- Ans
- 1. so
  - 2. therefore
  - 3. then
  - 4. although

Question ID : 9895804118  
Chosen Option : --

Comprehension:

In the following passage some words have been deleted. Fill in the blanks with the help of the alternatives given.

Suppose you have to make a payment of Rs. 100, you can do so in coins; but it would be \_\_\_\_\_ (1) to pay in nickel or copper coins, because it takes much time to \_\_\_\_\_ (2) them. The government \_\_\_\_\_ (3) permits you to make the payment in \_\_\_\_\_ (4) What are these notes really? They are a kind of money although they are made of \_\_\_\_\_ (5) instead of metal.

SubQuestion No : 17

Q.1

7 Fill in blank (4) with the most appropriate option.

- Ans  1. coins  
 2. notes  
 3. currency  
 4. card

Question ID : 9895804119  
Chosen Option : --

**Comprehension:**

In the following passage some words have been deleted. Fill in the blanks with the help of the alternatives given.

Suppose you have to make a payment of Rs. 100, you can do so in coins; but it would be \_\_\_\_\_ (1) to pay in nickel or copper coins, because it takes much time to \_\_\_\_\_ (2) them. The government \_\_\_\_\_ (3) permits you to make the payment in \_\_\_\_\_ (4) What are these notes really? They are a kind of money although they are made of \_\_\_\_\_ (5) instead of metal.

SubQuestion No : 18

Q.1  
8 Fill in blank (5) with the most appropriate option.

- Ans  1. plastic  
 2. wood  
 3. paper  
 4. cloth

Question ID : 9895804120  
Chosen Option : --

Q.1  
9 Select the correctly spelt word.

- Ans  1. Playwriter  
 2. Playwright  
 3. Playright  
 4. Playwrite

Question ID : 9895804130  
Chosen Option : --

Q.2  
0 Select the most appropriate antonym of the given word.

ORDINARY

- Ans  1. Normal  
 2. Regular  
 3. Common  
 4. Unique

Question ID : 9895804121  
Chosen Option : --

Q.2 Identify the segment in the sentence which contains the grammatical error from the given options.

1

Buses run from this bus stand every few minutes because you shall not have to wait.

- Ans
- 1. because you shall
  - 2. Buses run from
  - 3. have to wait
  - 4. every few minutes

Question ID : 9895804106  
Chosen Option : --

Q.2 Select the most appropriate synonym of the given word.

2

DUBIOUS

- Ans
- 1. Dutiful
  - 2. Delicate
  - 3. Doubtful
  - 4. Duplicate

Question ID : 9895804123  
Chosen Option : --

Q.2 Select the most appropriate option to substitute the underlined segment in the given sentence. If there is no need to substitute it, select No improvement.

3

Rishi cleared the IIT entrance examination but do not pursue engineering due to personal reasons.

- Ans
- 1. was not pursuing
  - 2. did not pursue
  - 3. No improvement
  - 4. has not pursue

Question ID : 9895804109  
Chosen Option : --

Q.2 Select the most appropriate synonym of the given word.

4

ENORMOUS

- Ans
- 1. Puny
  - 2. Grand
  - 3. Huge
  - 4. Keen

Question ID : 9895804124  
Chosen Option : --

Q.2 Fill in the blanks with the most appropriate words.

5

They did it as you \_\_\_\_\_ them to.

- Ans
- 1. will tell
  - 2. tell



3. had told  
 4. are telling

Question ID : 9895804113  
Chosen Option : --

Section : Hindi Language

Q.1 दिये गये वाक्यांश के लिए एक शब्द दीजिये।

जो कभी बूढ़ा न हो

- Ans  1. अजर  
 2. यौवन  
 3. अमृत  
 4. अमर

Question ID : 9895803515  
Chosen Option : 1

Q.2 दिए गए शब्द के पर्यायवाची शब्द का चयन करें।

कृपण

- Ans  1. कंजूस  
 2. कृपा  
 3. कृपाण  
 4. कृतज्ञ

Question ID : 9895803510  
Chosen Option : 2

Q.3 रिक्त स्थान को भरने के लिए सबसे उपयुक्त शब्द का चयन करें।

मेरे प्रश्न का \_\_\_\_\_ कौन देगा ?

- Ans  1. शब्द  
 2. पुरस्कार  
 3. उत्तर  
 4. फल

Question ID : 9895803499  
Chosen Option : 3

Q.4 निम्नलिखित में से उस विकल्प का चयन करें जो ' आँख खुलना ' मुहावरे का अर्थ व्यक्त करता है।

- Ans  1. भ्रमित होना  
 2. वास्तविकता का बोध होना  
 3. अपनी आँखें खोलना  
 4. गलत काम करना

Question ID : 9895803512  
Chosen Option : 2

Q.5 दिए गए वाक्य में रेखांकित खंड को प्रतिस्थापित करने के लिए सबसे उपयुक्त विकल्प का चयन करें।  
एक सूखे कागज से हाथ में लेकर गोला बना लो।

- Ans
- 1. कागज से हाथ से लेकर
  - 2. कागज की हाथ को लेकर
  - 3. कागज को हाथ से लेकर
  - 4. कागज को हाथ में लेकर

Question ID : 9895803495  
Chosen Option : 4

Q.6 रिक्त स्थान को भरने के लिए सबसे उपयुक्त शब्द का चयन करें।  
कालिदास बहुत \_\_\_\_\_ कवि थे।

- Ans
- 1. मूर्ख
  - 2. बड़े
  - 3. छोटे
  - 4. रोगी

Question ID : 9895803501  
Chosen Option : 2

Q.7 सही वर्तनी वाले शब्द का चयन करें।

- Ans
- 1. ट्यवसथा
  - 2. ट्यावस्था
  - 3. वयवस्था
  - 4. ट्यवस्था

Question ID : 9895803517  
Chosen Option : 4

Q.8 दिए गए शब्द का विलोम चुनें।

घृणा

- Ans
- 1. निंदा
  - 2. द्वेष
  - 3. प्रेम
  - 4. ईर्ष्या

Question ID : 9895803509  
Chosen Option : 3

Q.9

दिए गए शब्द का विलोम चुनें।

उर्वर

- Ans
- 1. पराया
  - 2. पतन
  - 3. ऊसर
  - 4. घृणा

Question ID : 9895803508  
Chosen Option : 3

Q.1  
0 दिए गए वाक्य में रेखांकित खंड को प्रतिस्थापित करने के लिए सबसे उपयुक्त विकल्प का चयन करें।  
गरीब व्यक्ति आशा और विश्वास पर सहारे रात बीतने की प्रतीक्षा करता है।

- Ans
- 1. आशा और विश्वास का सहारा
  - 2. आशा और विश्वास पर सहारा
  - 3. आशा और विश्वास के सहारे
  - 4. आशा और विश्वास से सहारे

Question ID : 9895803496  
Chosen Option : 3

Q.1  
1 दिए गए वाक्य का वह भाग ज्ञात करें जिसमें कोई त्रुटि है।  
वास्तव पर अकेलापन विधाता का एक अभिशाप है।

- Ans
- 1. एक अभिशाप है।
  - 2. विधाता का
  - 3. अकेलापन
  - 4. वास्तव पर

Question ID : 9895803494  
Chosen Option : 4

Q.1  
2 दिए गए वाक्य में रेखांकित खंड को प्रतिस्थापित करने के लिए सबसे उपयुक्त विकल्प का चयन करें।  
जब इच्छाएँ हमारी पर हावी हो जाती हैं तो हमारा मन सदा असंतुष्ट रहता है।

- Ans
- 1. जब इच्छाएँ हम पर हावी हो जाती हैं
  - 2. जब इच्छाएँ उन पर हावी हो जाती हैं
  - 3. जब इच्छाएँ हमारों पर हावी हो जाती हैं
  - 4. जब इच्छाएँ हम पर हावी हो जाते हैं

Question ID : 9895803497  
Chosen Option : 1

Q.1  
3 दिए गए वाक्य का वह भाग ज्ञात करें जिसमें कोई त्रुटि है।

भाषण एक सामाजिक कला है जिसकी संबंध विभिन्न समस्याओं से होता है।



Ans

- 1. जिसकी संबंध
- 2. विभिन्न समस्याओं से
- 3. होता है।
- 4. भाषण एक सामाजिक कला है

Question ID : 9895803493  
Chosen Option : 1

Q.1 निम्नलिखित में से उस विकल्प का चयन करें जो ' कोल्हू का बैल होना ' मुहावरे का अर्थ व्यक्त करता है।  
4

Ans

- 1. रात-दिन काम में लगे रहना
- 2. बैल से कोल्हू चलवाना
- 3. बैल के समान बुद्धि होना
- 4. कोल्हू में बैल जोतना

Question ID : 9895803513  
Chosen Option : 1

Q.1 सही वर्तनी वाले शब्द का चयन करें।  
5

Ans

- 1. उत्कृश्ट
- 2. उत्कृष्ट
- 3. उत्कृष्ठ
- 4. उत्कृष्ट

Question ID : 9895803516  
Chosen Option : 4

Q.1 दिए गए शब्द के पर्यायवाची शब्द का चयन करें।  
6

किसलय

Ans

- 1. विद्यालय
- 2. पुस्तकालय
- 3. भोजनालय
- 4. नवपल्लव

Question ID : 9895803511  
Chosen Option : 4

Q.1 रिक्त स्थान को भरने के लिए सबसे उपयुक्त शब्द का चयन करें।  
7

मछली \_\_\_\_\_ में तैरती है।

Ans

- 1. बादल
- 2. आकाश
- 3. पानी

X 4. तेल

Question ID : 9895803498  
Chosen Option : 3

Comprehension:

दिए गए अनुच्छेद में कुछ शब्द हटा दिए गए हैं। दिए गए विकल्पों की सहायता से रिक्त स्थान भरें। प्रत्येक संख्या के लिए सबसे उपयुक्त विकल्प का चयन करें।

संसार में बहुत सी वस्तुएँ बार-बार मिल सकती हैं। किंतु चार वस्तुएँ कभी \_\_\_\_\_ (1) नहीं आतीं: मुँह से निकला \_\_\_\_\_ (2), कमान से निकला तीर, खोया अवसर और बीता समय। सफलता का पहला मंत्र है - समय प्रबंधन। 'कल नहीं आज' यह \_\_\_\_\_ (3) का परम मंत्र है। हमें जीवन के हर क्षेत्र में इसका \_\_\_\_\_ (4) करना चाहिए। जो आज को सार्थक बनाता है, उसके भूत और भविष्य \_\_\_\_\_ (5) हो जाते हैं।

SubQuestion No : 18

Q.1 8 गद्यांश में संकेतित रिक्त स्थान (1) के लिए उपयुक्त शब्द होगा -

- Ans
- 1. लौटकर
  - 2. उठकर
  - 3. मिलकर
  - 4. बनकर

Question ID : 9895803503  
Chosen Option : 1

Comprehension:

दिए गए अनुच्छेद में कुछ शब्द हटा दिए गए हैं। दिए गए विकल्पों की सहायता से रिक्त स्थान भरें। प्रत्येक संख्या के लिए सबसे उपयुक्त विकल्प का चयन करें।

संसार में बहुत सी वस्तुएँ बार-बार मिल सकती हैं। किंतु चार वस्तुएँ कभी \_\_\_\_\_ (1) नहीं आतीं: मुँह से निकला \_\_\_\_\_ (2), कमान से निकला तीर, खोया अवसर और बीता समय। सफलता का पहला मंत्र है - समय प्रबंधन। 'कल नहीं आज' यह \_\_\_\_\_ (3) का परम मंत्र है। हमें जीवन के हर क्षेत्र में इसका \_\_\_\_\_ (4) करना चाहिए। जो आज को सार्थक बनाता है, उसके भूत और भविष्य \_\_\_\_\_ (5) हो जाते हैं।

SubQuestion No : 19

Q.1 9 गद्यांश में संकेतित रिक्त स्थान (2) के लिए उपयुक्त शब्द होगा -

- Ans
- 1. कंठ
  - 2. पानी
  - 3. खाना
  - 4. शब्द

Question ID : 9895803504

## Comprehension:

दिए गए अनुच्छेद में कुछ शब्द हटा दिए गए हैं। दिए गए विकल्पों की सहायता से रिक्त स्थान भरें। प्रत्येक संख्या के लिए सबसे उपयुक्त विकल्प का चयन करें।

संसार में बहुत सी वस्तुएँ बार-बार मिल सकती हैं। किंतु चार वस्तुएँ कभी \_\_\_\_\_(1) नहीं आतीं: मुँह से निकला \_\_\_\_\_(2), कमान से निकला तीर, खोया अवसर और बीता समय। सफलता का पहला मंत्र है - समय प्रबंधन। 'कल नहीं आज' यह \_\_\_\_\_(3) का परम मंत्र है। हमें जीवन के हर क्षेत्र में इसका \_\_\_\_\_(4) करना चाहिए। जो आज को सार्थक बनाता है, उसके भूत और भविष्य \_\_\_\_\_(5) हो जाते हैं।

SubQuestion No : 20

Q.2  
0 गद्यांश में संकेतित रिक्त स्थान (3) के लिए उपयुक्त शब्द होगा -

- Ans
- 1. असफलता
  - 2. हार
  - 3. सफलता
  - 4. निराशा

Question ID : 9895803505

Chosen Option : 3

## Comprehension:

दिए गए अनुच्छेद में कुछ शब्द हटा दिए गए हैं। दिए गए विकल्पों की सहायता से रिक्त स्थान भरें। प्रत्येक संख्या के लिए सबसे उपयुक्त विकल्प का चयन करें।

संसार में बहुत सी वस्तुएँ बार-बार मिल सकती हैं। किंतु चार वस्तुएँ कभी \_\_\_\_\_(1) नहीं आतीं: मुँह से निकला \_\_\_\_\_(2), कमान से निकला तीर, खोया अवसर और बीता समय। सफलता का पहला मंत्र है - समय प्रबंधन। 'कल नहीं आज' यह \_\_\_\_\_(3) का परम मंत्र है। हमें जीवन के हर क्षेत्र में इसका \_\_\_\_\_(4) करना चाहिए। जो आज को सार्थक बनाता है, उसके भूत और भविष्य \_\_\_\_\_(5) हो जाते हैं।

SubQuestion No : 21

Q.2  
1 गद्यांश में संकेतित रिक्त स्थान (4) के लिए उपयुक्त शब्द होगा -

- Ans
- 1. उपहास
  - 2. तिरस्कार
  - 3. परिष्कार
  - 4. अनुसरण

Question ID : 9895803506

Chosen Option : 4

Comprehension:

दिए गए अनुच्छेद में कुछ शब्द हटा दिए गए हैं। दिए गए विकल्पों की सहायता से रिक्त स्थान भरें। प्रत्येक संख्या के लिए सबसे उपयुक्त विकल्प का चयन करें।

संसार में बहुत सी वस्तुएँ बार-बार मिल सकती हैं। किंतु चार वस्तुएँ कभी \_\_\_\_\_(1) नहीं आतीं: मुँह से निकला \_\_\_\_\_(2), कमान से निकला तीर, खोया अवसर और बीता समय। सफलता का पहला मंत्र है - समय प्रबंधन। 'कल नहीं आज' यह \_\_\_\_\_(3) का परम मंत्र है। हमें जीवन के हर क्षेत्र में इसका \_\_\_\_\_(4) करना चाहिए। जो आज को सार्थक बनाता है, उसके भूत और भविष्य \_\_\_\_\_(5) हो जाते हैं।

SubQuestion No : 22

Q.2  
2 गद्यांश में संकेतित रिक्त स्थान (5) के लिए उपयुक्त शब्द होगा -

- Ans
- 1. विफल
  - 2. असफल
  - 3. सफल
  - 4. निष्फल

Question ID : 9895803507  
Chosen Option : 3

Q.2  
3 रिक्त स्थान को भरने के लिए सबसे उपयुक्त शब्द का चयन करें।  
पुस्तक का \_\_\_\_\_ फट गया।

- Ans
- 1. पद
  - 2. पन्ना
  - 3. वाक्य
  - 4. शब्द

Question ID : 9895803500  
Chosen Option : 2

Q.2  
4 दिये गये वाक्यांश के लिए एक शब्द दीजिये।

जो आँखों के सामने हो

- Ans
- 1. विरोध
  - 2. प्रत्यक्ष
  - 3. परोक्ष
  - 4. अक्षि

Question ID : 9895803514  
Chosen Option : 2

Q.2  
5 दिए गए वाक्य का वह भाग ज्ञात करें जिसमें कोई त्रुटि है।

इस सरकार का राज में आटे-दाल के दाम सातवें आसमान पर पहुँच गए हैं।



Ans

1. पहुँच गए हैं।
2. सातवें आसमान पर
3. इस सरकार का राज में
4. आटे-दाल के दाम

Question ID : 9895803492  
Chosen Option : 3

GovtJobsAlert.In