

Constable (GD) in CAPFs, NIA, SSF and Rifleman (GD) in Assam Rifles Examination, 2018

Roll No. :	GovtJobsAlert.In
Registration No.	GovtJobsAlert.In
Name :	GovtJobsAlert.In
Exam Venue :	iON Digital Zone IDZ Powai
Exam Time :	12:30 PM - 2:00 PM
Exam Date :	12/02/2019

Section : General Section

Q.1 निम्नलिखित समीकरण को सही करने के लिए विकल्पों में दिए गए किन दो चिहनों को परस्पर बदला जाना चाहिए?
 $14 + 16 \times 14 - 7 + 3 = 43$

- Ans
- 1. + और -
 - 2. \times और \div
 - 3. - और \times
 - 4. - और \div

Question ID : 9895804685

Chosen Option : 2

Q.2 उस विकल्प का चयन करें जो सही रूप में रिक्त स्थान को भरे और श्रृंखला को पूरा करें।

MHW, KJU, ILS, GNQ, ___?

- Ans
- 1. EOP
 - 2. EPQ
 - 3. EPO
 - 4. FPO

Question ID : 9895804667

Chosen Option : 2

Q.3 एक निश्चित कूट भाषा में, TOUCH को 68 के रूप में लिखा जाता है। इसी कूट ERROR को कैसे लिखा जाएगा?

- Ans
- 1. 61
 - 2. 59
 - 3. 55
 - 4. 54

Question ID : 9895804674

Chosen Option : 1

Q.4

उस विकल्प का चयन करें जो दिए गए पैटर्न में प्रश्न चिह्न (?) के स्थान पर आएगा।

17	15	13
7	6	5
66	51	?

- Ans
- 1. 19
 - 2. 17
 - 3. 38
 - 4. 45

Question ID : 9895804684
Chosen Option : 3

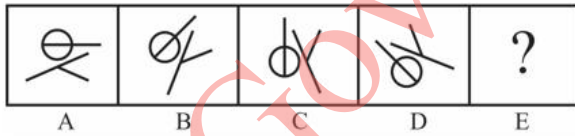
Q.5 उस विकल्प का चयन करें जो तीसरे पद से उसी प्रकार से संबंधित है जिस प्रकार से दूसरा पद पहले पद से संबंधित है।

मेमना : उछलना :: चूहा :

- Ans
- 1. झूलना
 - 2. इठलाना / अकड़ना
 - 3. दौड़ना
 - 4. छलांग

Question ID : 9895804671
Chosen Option : 3

Q.6 विकल्पों में से उस आकृति का चयन करें जो दी गई श्रृंखला में अगले स्थान पर आएगी।



- Ans
- 1.
 - 2.
 - 3.

✓ 4.



Question ID : 9895804686
Chosen Option : 4

Q.7 आठ दोस्त A, B, C, D, E, F, H और G दोपहर के भोजन के लिए एक गोल मेज़ के चारों ओर एक दूसरे की तरफ मुंह करके बैठे हैं। A, F के सामने है और B के बाएँ तीसरे स्थान पर है। G, F और D के बीच में है। H, D के बाएँ ओर है। E, C और A के बीच में है। C के बाएँ दूसरे स्थान पर कौन बैठा है?

- Ans
- ✗ 1. A
 - ✗ 2. D
 - ✓ 3. F
 - ✗ 4. B

Question ID : 9895804676
Chosen Option : 3

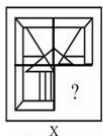
Q.8 उस विकल्प का चयन करें जो तीसरी संख्या से उसी प्रकार से संबंधित है जिस प्रकार से दूसरी संख्या पहली संख्या से संबंधित है।

15 : 270 :: 13 : ?

- Ans
- ✗ 1. 275
 - ✗ 2. 169
 - ✗ 3. 144
 - ✓ 4. 208

Question ID : 9895804682
Chosen Option : 4

Q.9 दिए गए चार विकल्पों में से उस आकृति को चुनें, जिसे आकृति X के रिक्त स्थान में (बिना घुमाए) रखने पर पैटर्न पूरा हो जाएगा।



- Ans
- ✗ 1.
 - ✗ 2.
 - ✗ 3.
 - ✓ 4.

Question ID : 9895804687
Chosen Option : 4

Q.1 वह विकल्प चुनें जो तीसरे पद से उसी प्रकार से संबंधित है जिस प्रकार से दूसरा पद पहले पद से संबंधित है।

0 ईरान : रियाल :: इराक : ?

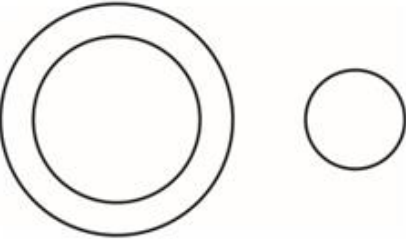
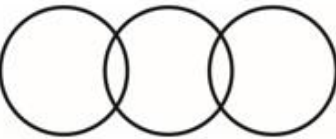

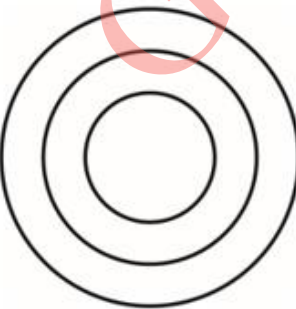
- Ans
- 1. युद्ध
 - 2. रियाल
 - 3. दिरहम
 - 4. दीनार

Question ID : 9895804670
Chosen Option : 4

Q.1 निम्नलिखित में से कौन सा वेन रेखाचित्र दिए गए वर्ग के बीच के संबंध को सही दर्शाता है?

1 ऑस्ट्रिया, डेनमार्क, देश

Ans

1. 
2. 
3. 
4. 

Question ID : 9895804691
Chosen Option : 4

Q.1 उस विकल्प का चयन करें जो सही रूप में रिक्त स्थान को भरे और श्रृंखला को पूरा करें।

2 7, 8, 16, 43, ?

Ans

- 1. 113
- 2. 111
- 3. 107
- 4. 109

Question ID : 9895804681
Chosen Option : 1

Q.1
3 दिए गए विकल्पों में से असंगत संख्या का चयन करें।

- Ans
- 1. 78
 - 2. 24
 - 3. 65
 - 4. 91

Question ID : 9895804683
Chosen Option : 2

Q.1
4 उस विकल्प का चयन करें जो सही रूप में रिक्त स्थान को भरे और श्रृंखला को पूरा करें।

3, 18, 48, 93, ?

- Ans
- 1. 247
 - 2. 202
 - 3. 153
 - 4. 147

Question ID : 9895804680
Chosen Option : 3

Q.1
5 एक निश्चित कूट भाषा में, ASSUME को EMUASS के रूप में लिखा जाता है। इसी कूट में NEEDLE को कैसे लिखा जाएगा?

- Ans
- 1. ELDNEE
 - 2. ELDEEN
 - 3. EJDNEE
 - 4. EDLNEE

Question ID : 9895804673
Chosen Option : 1

Q.1
6 दिए गए विकल्पों में से असंगत का चयन करें।

- Ans
- 1. मगरमच्छ
 - 2. बाघ
 - 3. लोमड़ी
 - 4. शेर

Q.1 विकल्पों में से उस आकृति का चयन करें जिसमें 'X' से चिह्नित आकृति समाहित है।



X

Ans

✗ 1.



✗ 2.



✗ 3.



✓ 4.



Q.1 उस विकल्प का चयन करें जो दर्पण के दायीं ओर रखे जाने पर दिए गए शब्द की दर्पण छवि से सर्वाधिक मेल खाता है।

8

RUPTURE

Ans

✗ 1.

ERUTpUR

✗ 2.

ERUTURE

✗ 3.

ERUTpUR

✓ 4.

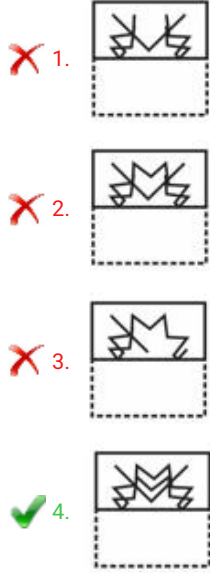
ERUTpUR

Q.1 पैटर्न के साथ एक वर्गाकार पारदर्शी कागज पत्रक दिया गया है। पारदर्शी कागज पत्रक के बिंदुकित रेखा पर मोड़े जाने पर पैटर्न कैसा दिखाई देगा?

9



Ans



Question ID : 9895804690
Chosen Option : 2

Q.2 सात दोस्त O, P, Q, R, S, T और U एक पंक्ति में बैठकर फिल्म देख रहे हैं। S एक छोर पर बैठा है। Q, S के दाएं दूसरे स्थान पर बैठा है। P, O और Q के बीच बैठा है। U किसी भी छोर पर नहीं बैठा है। R, T के बाएं ओर बैठा है। बिल्कुल दाएं छोर पर कौन बैठा है?

- Ans
- ✗ 1. P
- ✓ 2. T
- ✗ 3. R
- ✗ 4. Q

Question ID : 9895804675
Chosen Option : 2

Q.2 उस विकल्प का चयन करें जो तीसरे पद से उसी प्रकार से संबंधित है जिस प्रकार से दूसरा पद पहले पद से संबंधित है।

CGK : XTP :: GIM : ?

- Ans
- ✓ 1. TRN
- ✗ 2. TQN
- ✗ 3. TPN
- ✗ 4. TSN

Question ID : 9895804672
Chosen Option : 1

Q.2
2

नीचे दिए गए कथनों के बाद दो निष्कर्ष I और II दिए गए हैं। यह मानते हुए कि कथनों में दी गई जानकारी सत्य है, भले ही वह सर्वज्ञात तथ्यों से भिन्न प्रतीत होती हो और यह निर्णय करें कि कौन सा / से निष्कर्ष तार्किक और निश्चित रूप से कथन में दी गई जानकारी का अनुसरण करता है / करते हैं।

कथन:

- 1) कुछ मठवासी/भिक्षुअपराधी हैं।
- 2) कुछ अपराधी सैनिक हैं।

निष्कर्ष

- I. कुछ अपराधी मठवासी/भिक्षु हैं।
- II. कुछ सैनिक अपराधी हैं।

Ans

1. न तो निष्कर्ष I और न ही निष्कर्ष II अनुसरण करता है।
2. दोनों निष्कर्ष अनुसरण करते हैं।
3. केवल निष्कर्ष I अनुसरण करता है।
4. केवल निष्कर्ष II अनुसरण करता है।

Question ID : 9895804679
Chosen Option : 3

Q.2 J, K L, M, N और O छह शिक्षक हैं। प्रत्येक शिक्षक हिंदी, अंग्रेजी, गणित, विज्ञान, सामाजिक विज्ञान और कला में से एक विषय पढ़ाता है, जरूरी नहीं कि इसी क्रम में पढ़ाता हो। प्रत्येक शिक्षक सोमवार से शनिवार तक केवल एक ही दिन पढ़ाता है, जरूरी नहीं कि इसी क्रम में पढ़ाता हो। J शनिवार को कला पढ़ाता है। L न तो अंग्रेजी पढ़ाता है और न ही सामाजिक विज्ञान पढ़ाता है, लेकिन वह गुरुवार को पढ़ाता है। बुधवार का दिन गणित के लिए आरक्षित है जो K पढ़ाता है। O, N से एक दिन पहले विज्ञान पढ़ाता है। सामाजिक विज्ञान कला पढ़ाए जाने वाले दिन से एक दिन पहले पढ़ाया जाता है। L कौन सा विषय पढ़ाता है?

Ans

1. विज्ञान
2. गणित
3. कला
4. हिंदी

Question ID : 9895804677
Chosen Option : 4

Q.2 नीचे दिए गए कथनों के बाद दो निष्कर्ष I और II दिए गए हैं। यह मानते हुए कि कथनों में दी गई जानकारी सत्य है, भले ही वह सर्वज्ञात तथ्यों से भिन्न प्रतीत होती हो और यह निर्णय करें कि कौन सा / से निष्कर्ष तार्किक और निश्चित रूप से कथन में दी गई जानकारी का अनुसरण करता है / करते हैं।

कथन:

- 1) सभी तितलियाँ सरीसृप हैं।
- 2) सभी सरीसृप स्तनपायी हैं।

निष्कर्ष:

- I. सभी स्तनपायी तितलियाँ हैं।
- II. सभी तितलियाँ स्तनपायी हैं।

Ans

1. केवल निष्कर्ष II अनुसरण करता है।

2. केवल निष्कर्ष । अनुसरण करता है।
3. दोनों निष्कर्ष अनुसरण करते हैं।
4. या तो निष्कर्ष । या निष्कर्ष ॥ अनुसरण करता है।

Question ID : 9895804678
Chosen Option : 1

Q.2
5 निम्न अक्षर समूहों में से कौन सा एक इस समूह का हिस्सा नहीं है?

- Ans 1. CI
2. AK
3. FH
4. EG

Question ID : 9895804668
Chosen Option : 2

Q.2
6 प्लासी का युद्ध कौन से वर्ष में लड़ा गया था?

- Ans 1. 1900
2. 1757
3. 1957
4. 1857

Question ID : 9895802425
Chosen Option : 2

Q.2
7 _____ भारत के मशहूर शहनाई वादक हैं।

- Ans 1. बिस्मिल्लाह खान
2. रवि शंकर
3. लतीफ खान
4. हरि प्रसाद

Question ID : 9895802439
Chosen Option : 1

Q.2
8 _____ 2018 में 90वें ऑस्कर अवार्ड के लिए भेजी गई एक भारतीय फिल्म थी।

- Ans 1. न्यूटन
2. जीरो
3. राजी

✗ 4. संजू

Question ID : 9895802442
Chosen Option : 2

Q.2 9 उस प्रक्रिया को क्या कहा जाता है जिसके द्वारा आनुवांशिक रूप से समान व्यक्ति उत्पादित किए जा सकते हैं?

- Ans
- ✗ 1. प्रजनन
 - ✗ 2. प्रकाश संश्लेषण
 - ✗ 3. स्कैनिंग
 - ✓ 4. क्लोनिंग

Question ID : 9895802445
Chosen Option : 1

Q.3 0 भारतीय संगीतकार _____ ने अकादमी पुरस्कार जीता है।

- Ans
- ✗ 1. सोनू निगम
 - ✗ 2. अनु मलिक
 - ✗ 3. आरडी बर्मन
 - ✓ 4. एआर रहमान

Question ID : 9895802440
Chosen Option : 3

Q.3 1 कौन सा मूत्र प्रणाली का हिस्सा नहीं है?

- Ans
- ✓ 1. ब्रांकाई
 - ✗ 2. मूत्राशय
 - ✗ 3. मूत्रमार्ग
 - ✗ 4. मूत्रवाहिनी

Question ID : 9895802447
Chosen Option : 1

Q.3 2 स्वर्ण का आणविक सूत्र क्या है?

- Ans
- ✓ 1. Au
 - ✗ 2. G
 - ✗ 3. Ag
 - ✗ 4. Al

Question ID : 9895802444

Q.3
3 सौर मंडल की खोज किसने की?

Ans 1. कोपरनिकस

2. वास्को द गामा

3. मर्फी

4. न्यूटन

Question ID : 9895802441

Chosen Option : 1

Q.3
4 ब्रह्मो समाज की स्थापना किसकी सबसे बड़ी उपलब्धि थी?

Ans 1. स्वामी विवेकानंद

2. राजा राम मोहन रॉय

3. भीमराव अंबेडकर

4. अरविन्द घोष

Question ID : 9895802426

Chosen Option : 2

Q.3
5 पुस्तक 'द पैराडॉक्सिकल प्राइम मिनिस्टर' _____ द्वारा लिखी गई है।

Ans 1. डॉ मनमोहन सिंह

2. शशि थरूर

3. अशोक गेहलोत

4. ज्योतिरादित्य सिंधिया

Question ID : 9895802443

Chosen Option : 1

Q.3
6 निम्नलिखित में से कौन सा चुनाव आयोग का महत्वपूर्ण कर्तव्य नहीं है?

Ans 1. प्रत्यक्ष चुनाव।

2. चुनाव का सञ्चालन और नियंत्रण।

3. स्थानीय चुनाव न करना।

4. चुनाव का निरीक्षण।

Question ID : 9895802437

Chosen Option : 3

Q.3

7 लोकतंत्र में, सत्तारूढ़ दल किस के प्रति उत्तरदायी होता है?

- Ans
- 1. न्यायपालिका
 - 2. विपक्ष
 - 3. इसके नेताओं
 - 4. लोगों

Question ID : 9895802435
Chosen Option : 2

Q.3
8 _____ पौधों में जल परिवहन का कार्य करता है।

- Ans
- 1. क्लोरोप्लास्ट
 - 2. शिराएं
 - 3. जाइलम
 - 4. फ्लोएम

Question ID : 9895802446
Chosen Option : 3

Q.3
9 निम्न में से कौन सा डिजिटल लेनदेन नहीं है?

- Ans
- 1. क्रेडिट कार्ड लेनदेन
 - 2. एटीएम लेनदेन
 - 3. पेटीएम
 - 4. नकद लेनदेन

Question ID : 9895802434
Chosen Option : 4

Q.4
0 वैश्विक प्रतियोगिता में स्वर्ण पदक जीतने वाली पहली भारतीय जिम्नास्ट कौन थीं?

- Ans
- 1. सीमा पूनिया
 - 2. हिमा दास
 - 3. दीपा कर्माकर
 - 4. साक्षी मलिक

Question ID : 9895802427
Chosen Option : 3

Q.4
1 _____ का उद्देश्य ग्रामीण क्षेत्रों में स्व-रोजगार के अवसर पैदा करना है।

- Ans
- 1. प्रधान मंत्री उज्ज्वला योजना
 - 2. गरीबी विरोधी कार्यक्रम

✓ 3. ग्रामीण रोजगार सृजन कार्यक्रम

✗ 4. प्रधान मंत्री ग्रामोदय योजना

Question ID : 9895802433

Chosen Option : 3

Q.4
2 चुनाव आयोग का प्रमुख _____ द्वारा नियुक्त किया जाता है।

Ans ✗ 1. केंद्र सरकार

✗ 2. भारत के मुख्य न्यायाधीश

✓ 3. भारत के राष्ट्रपति

✗ 4. केंद्र सरकार

Question ID : 9895802436

Chosen Option : 3

Q.4
3 निम्न में से कौन-सी मिश्रित धातु नहीं है?

Ans ✗ 1. पीतल

✓ 2. टांका

✗ 3. चांदी

✗ 4. कांसा

Question ID : 9895802448

Chosen Option : 2

Q.4
4 1948 ओलंपिक्स में पहला सुवर्ण पदक जीतनेवाली भारतीय राष्ट्रीय फील्ड हॉकी टीम का कप्तान कौन था?

Ans ✗ 1. मनप्रीत सिंह

✗ 2. आकाशदीप सिंह

✓ 3. किशन लाल

✗ 4. सरदार सिंह

Question ID : 9895802428

Chosen Option : 4

Q.4
5 "भारत का लौह पुरुष" किस को कहा जाता है?

Ans ✗ 1. जवाहरलाल नेहरू

✗ 2. मोहनदास करमचन्द गाँधी

✗ 3. बाल गंगाधर तिलक

✓ 4. वल्लभभाई पटेल

Question ID : 9895802424
Chosen Option : 4

Q.4 मनुष्य, वनस्पति और जीव-जंतु, मत्स्य, पशुधन आदि जीवमंडल से प्राप्त संसाधन, जिनमें जीवन होता है, वे क्या कहलाते हैं?

- Ans
- ✗ 1. नवीकरणीय संसाधन
 - ✗ 2. अजैविक संसाधन
 - ✓ 3. जैव संसाधन
 - ✗ 4. संभावित संसाधन

Question ID : 9895802430
Chosen Option : 3

Q.4 शंकर अंतर्राष्ट्रीय गुड़िया संग्रहालय _____ में स्थित है।

- Ans
- ✗ 1. पुणे
 - ✓ 2. नई दिल्ली
 - ✗ 3. कोलकाता
 - ✗ 4. मुंबई

Question ID : 9895802438
Chosen Option : 3

Q.4 हिमालय की सबसे बाहरी श्रंखला कौन सी है?

- Ans
- ✗ 1. कैलाश
 - ✗ 2. पीर पंजाल
 - ✓ 3. शिवालिक
 - ✗ 4. हिमाद्री

Question ID : 9895802429
Chosen Option : 2

Q.4 दुनिया का सबसे ऊंचा युद्धक्षेत्र कौन सा है?

- Ans
- ✓ 1. सियाचिन ग्लेशियर
 - ✗ 2. गंगोत्री ग्लेशियर
 - ✗ 3. नुब्रा ग्लेशियर
 - ✗ 4. हरि पर्वत ग्लेशियर

Question ID : 9895802431
Chosen Option : 1

Q.5
0 रबी फसलों की बुवाई _____ में की जाती है।

- Ans
- 1. जनवरी-फरवरी
 - 2. अक्टूबर-नवंबर
 - 3. मई-जून
 - 4. अप्रैल-मई

Question ID : 9895802432
Chosen Option : 2

Q.5
1 एक राशि पर चौथे वर्ष का चक्रवृद्धि ब्याज ₹ 6000 है तथा पाँचवें वर्ष का चक्रवृद्धि ब्याज ₹ 6750 है (ब्याज का संयोजन वार्षिक किया गया है)। ब्याज दर क्या है?

- Ans
- 1. 15%
 - 2. 20%
 - 3. 12.5%
 - 4. 25%

Question ID : 9895804298
Chosen Option : 2

Q.5
2 A तथा C मिलकर एक कार्य को 120 दिन में पूरा कर सकते हैं, C तथा E मिलकर समान कार्य को 80 दिन में पूरा कर सकते हैं, A तथा E मिलकर समान कार्य को 160 दिन में पूरा कर सकते हैं। A, C तथा E मिलकर समान कार्य को कितने दिन में पूरा कर सकते हैं?

- Ans
- 1. 960/13 दिन
 - 2. 120/13 दिन
 - 3. 480/13 दिन
 - 4. 240/13 दिन

Question ID : 9895804299
Chosen Option : 2

Q.5
3 एक कमरे की लंबाई, चौड़ाई तथा ऊँचाई 16 मीटर, 12 मीटर तथा 15 मीटर है। उस कमरे में रखी जाने वाली सबसे बड़ी छड़ की लंबाई क्या होगी?

- Ans
- 1. 18 मीटर
 - 2. 24 मीटर
 - 3. 25 मीटर
 - 4. 20 मीटर

Question ID : 9895804304
Chosen Option : 2

Q.5
4 दो संख्याओं 16 तथा 20 के महत्तम समापवर्तक तथा लघुत्तम समापवर्त्य का अनुपात क्या होगा?

- Ans
- 1. 1 : 25
 - 2. 1 : 20
 - 3. 4 : 63
 - 4. 1 : 10

Question ID : 9895804284
Chosen Option : 2

Q.5
5 ₹ 4200 की एक राशि साधारण ब्याज से 3 वर्षों में ₹ 5082 हो जाती है। ब्याज की वार्षिक दर क्या है?

- Ans
- 1. 8%
 - 2. 9%
 - 3. 5%
 - 4. 7%

Question ID : 9895804297
Chosen Option : 4

Q.5
6 $10 - [6 - 4 - (2 \div 1 - 2)]$ का मान क्या है?

- Ans
- 1. 12
 - 2. 8
 - 3. 10
 - 4. 14

Question ID : 9895804285
Chosen Option : 2

Q.5
7 एक कार 48 कि.मी./घंटा की गति से एक निश्चित दूरी को 14 घंटे में तय करती है। वह 84 कि.मी./घंटा की गति से समान दूरी को तय करने में कितना समय लेगी?

- Ans
- 1. 9 घंटे
 - 2. 6 घंटे
 - 3. 12 घंटे
 - 4. 8 घंटे

Question ID : 9895804301
Chosen Option : 4

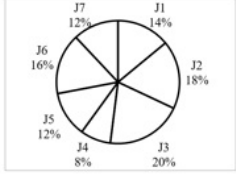
Q.5
8 यदि $X : Y = 7 : 5$ तथा $Y : Z = 7 : 11$ है, तो $X : Y : Z$ का अनुपात क्या है?

- Ans
- 1. 7 : 5 : 11
 - 2. 49 : 30 : 55
 - 3. 49 : 35 : 55

X 4. 30 : 35 : 49

Question ID : 9895804294
Chosen Option : 1

Q.5 नीचे दिया गया पाई चार्ट कार बनाने की 7 विभिन्न प्रक्रियाओं J1, J2, J3, J4, J5, J6 तथा J7 में लगने वाले समय को कार बनने में लगने वाले कुल समय के प्रतिशत के रूप में दर्शाता है। एक कार बनने में कुल 1200 घंटे का समय लगता है।



J2 तथा J5 प्रक्रियाओं में कुल कितना समय लगेगा?

- Ans
- X 1. 240 घंटे
 - X 2. 396 घंटे
 - X 3. 312 घंटे
 - ✓ 4. 360 घंटे

Question ID : 9895804307
Chosen Option : 2

Q.6 12 व्यक्ति एक कार्य के आधे को 9 दिन में पूरा कर सकते हैं। कितने व्यक्ति समान कार्य (संपूर्ण) को 6 दिन में पूरा कर सकते हैं?

- Ans
- X 1. 42
 - X 2. 45
 - ✓ 3. 36
 - X 4. 48

Question ID : 9895804300
Chosen Option : 3

Q.6 एक दूकानदार 25% की छूट देने के पश्चात् 40% लाभ कमाता है। अंकित मूल्य, क्रय मूल्य से कितना प्रतिशत अधिक है?

- Ans
- X 1. 85%
 - X 2. 75%
 - X 3. 80%
 - ✓ 4. 86.67%

Question ID : 9895804292
Chosen Option : 2

Q.6
2 $[22\frac{3}{4} \div \frac{14}{3}]$ का $(8 - \frac{1}{5} + 4 - 2 \div \frac{1}{2})$ का मान क्या है?

- Ans
- 1. 91/213
 - 2. 5/8
 - 3. 3/7
 - 4. 91/199

Question ID : 9895804286
Chosen Option : 1

Q.6 यदि एक 12 वर्ष के लड़के को एक नए लड़के से बदलते हैं, तो 18 लड़कों की औसत आयु 1.5 वर्ष बढ़ जाती है। नए लड़के की आयु क्या है?

- Ans
- 1. 43 वर्ष
 - 2. 35 वर्ष
 - 3. 37.5 वर्ष
 - 4. 39 वर्ष

Question ID : 9895804287
Chosen Option : 3

Q.6 यदि $P : Q = 5 : 6$ है तथा $R : Q = 25 : 9$ है, तो $P : R$ का अनुपात क्या है?

- Ans
- 1. 10 : 13
 - 2. 3 : 10
 - 3. 10 : 3
 - 4. 13 : 10

Question ID : 9895804296
Chosen Option : 3

Q.6 एक वस्तु का अंकित मूल्य उसके क्रय मूल्य से 60% अधिक है। यदि वस्तु को 20% के लाभ पर बेचा गया है, तो छूट प्रतिशत क्या होगा?

- Ans
- 1. 15%
 - 2. 37.5%
 - 3. 25%
 - 4. 17.5%

Question ID : 9895804289
Chosen Option : 3

Q.6 एक लंबवृत्तीय शंकु का आयतन 1232 से.मी.³ है। यदि शंकु की लंबाई 24 से.मी. है, तो इसके आधार की विज्या क्या होगी?

- Ans
- 1. 8 से.मी.

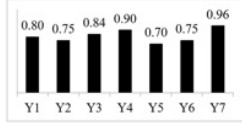
2. 5 से.मी.

3. 9 से.मी.

4. 7 से.मी.

Question ID : 9895804305
Chosen Option : 3

Q.6 नीचे दिए गए बार चार्ट में सात क्रमागत वर्षों Y1, Y2, Y3, Y4, Y5, Y6 तथा Y7 के लिए व्यय से राजस्व के अनुपात को दर्शाया गया है।



लाभ प्रतिशत किस वर्ष के लिए न्यूनतम है?

Ans 1. Y7

2. निर्धारित नहीं किया जा सकता है

3. Y3

4. Y4

Question ID : 9895804306
Chosen Option : 2

Q.6 यदि A, B से 20% कम है, तो $(2B - A)/A$ का मान क्या होगा?

Ans 1. $3/2$

2. $3/5$

3. $3/4$

4. $4/3$

Question ID : 9895804291
Chosen Option : 1

Q.6 एक त्रिभुज की भुजाओं का अनुपात 4 : 3 : 2 है। यदि त्रिभुज का परिमाण 63 से.मी. है, तो सबसे बड़ी भुजा की लंबाई क्या होगी?

Ans 1. 21 से.मी.

2. 28 से.मी.

3. 35 से.मी.

4. 42 से.मी.

Question ID : 9895804295
Chosen Option : 2

Q.7 रमेश 75 वस्तुएं ₹ 10800 कि खरीदता है तथा उनको 5 वस्तुओं के विक्रय मूल्य के बराबर हानि पर बेचता है एक वस्तु का विक्रय मूल्य क्या होगा?

- Ans
- ✓ 1. ₹ 135
 - ✗ 2. ₹ 132
 - ✗ 3. ₹ 144
 - ✗ 4. ₹ 156

Question ID : 9895804293
Chosen Option : 3

Q.7 8 संख्याओं का औसत 44 है। यदि प्रत्येक संख्या में 'Y' जोड़ा जाता है, तो औसत 47 बन जाता है। 'Y' का मान क्या है?

- Ans
- ✗ 1. 21
 - ✗ 2. 24
 - ✗ 3. 8
 - ✓ 4. 3

Question ID : 9895804288
Chosen Option : 3

Q.7 नीचे दिया गया डेटा उन व्यक्तियों की संख्या को दर्शाता है जिन्होंने एक निश्चित राशि की बचत की है।

बचत (₹ में)	व्यक्तियों की संख्या
5	1
15	3
20	4
25	2
30	1
35	1
40	2

प्रति व्यक्ति बचत का माध्य क्या है?

- Ans
- ✓ 1. ₹ 23.21
 - ✗ 2. ₹ 25.54
 - ✗ 3. ₹ 28.89

X 4. ₹ 21.57

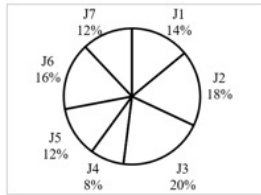
Question ID : 9895804290
Chosen Option : 1

Q.7 3 एक लंबवृत्तीय शंकु का आयतन 2464 से.मी.³ है। यदि शंकु की लंबाई 12 से.मी. है, तो इसके आधार की त्रिज्या क्या होगी?

- Ans
- X 1. 8 से.मी.
 - X 2. 10 से.मी.
 - X 3. 12 से.मी.
 - ✓ 4. 14 से.मी.

Question ID : 9895804303
Chosen Option : 2

Q.7 4 नीचे दिया गया पाई चार्ट कार बनाने की 7 विभिन्न प्रक्रियाओं J1, J2, J3, J4, J5, J6 तथा J7 में लगने वाले समय को कार बनने में लगने वाले कुल समय के प्रतिशत के रूप में दर्शाता है। एक कार बनने में कुल 1200 घंटे का समय लगता है।



J1 तथा J4 प्रक्रियाओं में लगने वाले समय के बीच का अंतर क्या है?

- Ans
- X 1. 84 घंटे
 - ✓ 2. 72 घंटे
 - X 3. 96 घंटे
 - X 4. 60 घंटे

Question ID : 9895804308
Chosen Option : 2

Q.7 5 मोहित एक स्थान A से चलना आरंभ करता है तथा स्थान B पर 12 घंटे में पहुँचता है। वह कुल दूरी का 1/5 वाँ भाग 6 कि.मी./घंटा की गति से तय करता है तथा शेष दूरी 8 कि.मी./घंटा की गति से तय करता है। A तथा B के मध्य दूरी क्या है?

- Ans
- ✓ 1. 90 कि.मी.
 - X 2. 95 कि.मी.
 - X 3. 60 कि.मी.

4. 75 कि.मी.

Question ID : 9895804302
Chosen Option : 2

Section : English Language

Q.1 Select the antonym of the given word.

SAVAGE

- Ans 1. Tribal
 2. Civilized
 3. Stern
 4. Rustic

Question ID : 9895804172
Chosen Option : --

Q.2 From the given options, identify the segment in the sentence which contains the grammatical error.

A woman's real character will always be more visible in his household than anywhere else.

- Ans 1. will always be
 2. in his household
 3. than anywhere else
 4. real character

Question ID : 9895804157
Chosen Option : --

Q.3 Select the synonym of the given word.

FANATIC

- Ans 1. Enthusiast
 2. Great
 3. Famed
 4. Fantastic

Question ID : 9895804174
Chosen Option : --

Q.4 Select the option that means the same as the given idiom.

To be under the weather

- Ans 1. To feel very hot
 2. To get very wet
 3. To not feel well

4. To feel very cold

Question ID : 9895804176
Chosen Option : --

Q.5 Select the most appropriate option to substitute the underlined segment in the given sentence. If there is no need to substitute it, select No Improvement.

A city court ordered the immediate release of a professor described his arrest as illegal.

- Ans
- 1. No improvement
 - 2. describing his arrest
 - 3. describing an arrest
 - 4. describing their arrest

Question ID : 9895804160
Chosen Option : --

Q.6 Select the most appropriate option to substitute the underlined segment in the given sentence. If there is no need to substitute it, select No Improvement.

Australia recorded its hot month in January with sweltering conditions expected to persist through April.

- Ans
- 1. its more hotter month
 - 2. its hotter month
 - 3. its hottest month
 - 4. No improvement

Question ID : 9895804159
Chosen Option : --

Q.7 Select the most appropriate word to fill in the blank.

This question will be discussed at the meeting _____.

- Ans
- 1. tomorrow
 - 2. yesterday
 - 3. last week
 - 4. last year

Question ID : 9895804165
Chosen Option : --

Q.8 Select the word which means the same as the group of words given.

One who treats skin diseases

- Ans
- 1. Dermatologist
 - 2. Gynecologist
 - 3. Radiologist

✓ 4. Cardiologist

Question ID : 9895804179
Chosen Option : --

Q.9 Select the most appropriate option to substitute the underlined segment in the given sentence. If there is no need to substitute it, select No Improvement.

As you make your way in the interior of Red Fort, lush green gardens greet you.

- Ans
- ✗ 1. into the interior of
 - ✗ 2. No improvement
 - ✗ 3. on the interior of
 - ✓ 4. along the interior of

Question ID : 9895804161
Chosen Option : --

Q.1 Select the synonym of the given word

EVERLASTING

- Ans
- ✓ 1. Essential
 - ✗ 2. Equal
 - ✗ 3. Especial
 - ✗ 4. Eternal

Question ID : 9895804175
Chosen Option : --

Q.1 Select the most appropriate word to fill in the blank.

The flight of birds _____ a pretty sight to watch.

- Ans
- ✗ 1. is
 - ✓ 2. has
 - ✗ 3. have
 - ✗ 4. are

Question ID : 9895804163
Chosen Option : --

Q.1 Select the option that means the same as the given idiom.

Like a cakewalk

- Ans
- ✗ 1. Not too easy
 - ✓ 2. Extremely easy
 - ✗ 3. Extremely difficult

4. Quite difficult

Question ID : 9895804177
Chosen Option : --

Q.1
3 Select the antonym of the given word.

COMPULSORY

- Ans 1. Important
 2. Essential
 3. Choice
 4. Optional

Question ID : 9895804173
Chosen Option : --

Q.1
4 From the given options, identify the segment in the sentence which contains the grammatical error.

A great fortune in the hands of a fool are a great misfortune.

- Ans 1. A great fortune
 2. of a fool
 3. in the hands
 4. are a great

Question ID : 9895804158
Chosen Option : --

Q.1
5 Select the correctly spelt word.

- Ans 1. Handkerchief
 2. Hankerchief
 3. Hanckerchief
 4. Hangerchief

Question ID : 9895804180
Chosen Option : --

Q.1
6 From the given options, identify the segment in the sentence which contains the grammatical error.

On the eleventh hour, she retired from the contest, leaving the field open to her opponent.

- Ans 1. to her opponent
 2. retired from
 3. leaving the field
 4. On the eleventh hour

Question ID : 9895804156
Chosen Option : --

Q.1
7 Select the most appropriate word to fill in the blank.

The telephone was _____ by Alexander Graham Bell.

- Ans
- 1. researched
 - 2. invented
 - 3. discovered
 - 4. found

Question ID : 9895804164
Chosen Option : --

Q.1
8 Select the correctly spelt word.

- Ans
- 1. Accommodate
 - 2. Akommodate
 - 3. Acommodate
 - 4. Accomodate

Question ID : 9895804181
Chosen Option : --

Q.1
9 Select the most appropriate word to fill in the blank.

Mother cuts vegetables _____ a knife.

- Ans
- 1. off
 - 2. with
 - 3. by
 - 4. from

Question ID : 9895804162
Chosen Option : --

Q.2
0 Select the word which means the same as the group of words given.

One who repairs leaking water pipes.

- Ans
- 1. Carpenter
 - 2. Mason
 - 3. Plumber
 - 4. Blacksmith

Question ID : 9895804178
Chosen Option : --

Comprehension:

In the following passage some words have been deleted. Fill in the blanks with the help of the alternatives given.

I have just _____ (1) that it is your birthday on Saturday and so I send you my best wishes. I hope the day itself will be _____ (2) and happy for you. May you be showered _____ (3) health and happiness for all the years to come. I take this opportunity of _____ (4) you from the bottom of my heart for all you have done for _____ (5).

SubQuestion No : 21

Q.2
1 Select the most appropriate option that will fill in the blank number 1.

- Ans
- 1. remember
 - 2. remembers
 - 3. remembering
 - 4. remembered

Question ID : 9895804167
Chosen Option : --

Comprehension:

In the following passage some words have been deleted. Fill in the blanks with the help of the alternatives given.

I have just _____ (1) that it is your birthday on Saturday and so I send you my best wishes. I hope the day itself will be _____ (2) and happy for you. May you be showered _____ (3) health and happiness for all the years to come. I take this opportunity of _____ (4) you from the bottom of my heart for all you have done for _____ (5).

SubQuestion No : 22

Q.2
2 Select the most appropriate option that will fill in the blank number 2.

- Ans
- 1. excited
 - 2. plentiful
 - 3. suitable
 - 4. peaceful

Question ID : 9895804168
Chosen Option : --

Comprehension:

In the following passage some words have been deleted. Fill in the blanks with the help of the alternatives given.

I have just _____ (1) that it is your birthday on Saturday and so I send you my best wishes. I hope the day itself will be _____ (2) and happy for you. May you be showered _____ (3) health and happiness for all the years to come. I take this opportunity of _____ (4) you from the bottom of my heart for all you have done for _____ (5).

SubQuestion No : 23

Q.2
3 Select the most appropriate option that will fill in the blank number 3.

- Ans
- 1. with
 - 2. by
 - 3. of
 - 4. from

Question ID : 9895804169

Chosen Option : --

Comprehension:

In the following passage some words have been deleted. Fill in the blanks with the help of the alternatives given.

I have just _____ (1) that it is your birthday on Saturday and so I send you my best wishes. I hope the day itself will be _____ (2) and happy for you. May you be showered _____ (3) health and happiness for all the years to come. I take this opportunity of _____ (4) you from the bottom of my heart for all you have done for _____ (5).

SubQuestion No : 24

Q.2
4 Select the most appropriate option that will fill in the blank number 4.

- Ans
- 1. wishing
 - 2. greeting
 - 3. congratulating
 - 4. thanking

Question ID : 9895804170

Chosen Option : --

Comprehension:

In the following passage some words have been deleted. Fill in the blanks with the help of the alternatives given.

I have just _____ (1) that it is your birthday on Saturday and so I send you my best wishes. I hope the day itself will be _____ (2) and happy for you. May you be showered _____ (3) health and happiness for all the years to come. I take this opportunity of _____ (4) you from the bottom of my heart for all you have done for _____ (5).

SubQuestion No : 25

Q.2
5 Select the most appropriate option that will fill in the blank number 5.

- Ans
- 1. me
 - 2. them
 - 3. her
 - 4. him

Question ID : 9895804171
Chosen Option : --

Section : Hindi Language

Q.1 दिए गए वाक्य में रेखांकित खंड को प्रतिस्थापित करने के लिए सबसे उपयुक्त विकल्प का चयन करें।

अर्जुन ने धनुष से मछली का आँख पर निशाना लगाया।

- Ans
- 1. धनुष से मछली की आँख पर
 - 2. मछली से धनुष की आँख पर
 - 3. धनुष से मछली को आँख पर
 - 4. धनुष से मछली के आँख पर

Question ID : 9895803521
Chosen Option : 1

Q.2 दिए गए वाक्य का वह भाग जात करें जिसमें कोई त्रुटि है। सभी महिलाएँ तुम्हारी तरह हिम्मत वाला होती तो गुंडागर्दी की घटनाओं में वृद्धि न होती।

- Ans
- 1. सभी महिलाएँ तुम्हारी तरह
 - 2. हिम्मत वाला होती तो
 - 3. वृद्धि न होती।
 - 4. गुंडागर्दी की घटनाओं में

Question ID : 9895803519
Chosen Option : 2

Q.3 दिए गए शब्द के पर्यायवाची शब्द का चयन करें।

पुलिन

- Ans
- 1. नवीन
 - 2. कुलीन
 - 3. प्राचीन
 - 4. कगार

Question ID : 9895803537
Chosen Option : 2

Q.4 दिए गए शब्द के पर्यायवाची शब्द का चयन करें।

विभूति

- Ans
- 1. ऐश्वर्य
 - 2. प्रतिभूति
 - 3. अनुभूति
 - 4. सुंदरता

Question ID : 9895803536
Chosen Option : 1

Q.5 दिए गए शब्द का विलोम चुनें।

स्तुति

- Ans
- 1. याद
 - 2. प्रशंसा
 - 3. निंदा
 - 4. अपकार

Question ID : 9895803535
Chosen Option : 3

Q.6 दिए गए वाक्य का वह भाग ज्ञात करें जिसमें कोई त्रुटि है।

समाज में रहकर शक्तिशाली लोगों से बैर जाना ठीक नहीं होता।

- Ans
- 1. ठीक नहीं होता।
 - 2. शक्तिशाली लोगों से
 - 3. बैर जाना

✗ 4. समाज में रहकर

Question ID : 9895803518
Chosen Option : 2

Q.7 निम्नलिखित में से उस विकल्प का चयन करें जो ' एक आँख न भाना ' मुहावरे का अर्थ व्यक्त करता है।

- Ans
- ✓ 1. जरा भी अच्छा न लगना
 - ✗ 2. काना होना
 - ✗ 3. एक आँख से देखना
 - ✗ 4. बहुत अच्छा लगना

Question ID : 9895803539
Chosen Option : 1

Q.8 रिक्त स्थान को भरने के लिए सबसे उपयुक्त शब्द का चयन करें।

_____ लड़का बहुत चालाक है।

- Ans
- ✗ 1. हम
 - ✗ 2. आप
 - ✓ 3. वह
 - ✗ 4. उस

Question ID : 9895803524
Chosen Option : 3

Q.9 दिये गये वाक्यांश के लिए एक शब्द चुनिए।

जो भूमि उपजाऊ न हो

- Ans
- ✗ 1. मैदान
 - ✗ 2. दलदल
 - ✓ 3. बंजर
 - ✗ 4. उर्वर

Question ID : 9895803541
Chosen Option : 3

Q.10 सही वर्तनी वाले शब्द का चयन करें।

- Ans
- ✗ 1. जनमाध
 - ✗ 2. जन्मांद
 - ✓ 3. जन्मांध

✗ 4. जनमंध

Question ID : 9895803542
Chosen Option : 3

Q.1 1 दिए गए वाक्य का वह भाग जात करें जिसमें कोई त्रुटि है। मनुष्य की सफलता का रहस्य परिश्रम एवं अभ्यास ही हैं और अभ्यास करके वह सफलता को प्राप्त पा लेता है।

- Ans
- ✓ 1. सफलता को प्राप्त पा लेता है।
 - ✗ 2. और अभ्यास करके वह
 - ✗ 3. मनुष्य की सफलता का रहस्य
 - ✗ 4. परिश्रम एवं अभ्यास ही है

Question ID : 9895803520
Chosen Option : 1

Q.1 2 सही वर्तनी वाले शब्द का चयन करें।

- Ans
- ✓ 1. अल्पायु
 - ✗ 2. अल्पायू
 - ✗ 3. आलपायु
 - ✗ 4. अलपायु

Question ID : 9895803543
Chosen Option : 1

Q.1 3 दिए गए वाक्य में रेखांकित खंड को प्रतिस्थापित करने के लिए सबसे उपयुक्त विकल्प का चयन करें।
मुझे अभी अपना गृह कार्य पूरा करने हैं, नहीं तो गुरु जी से डाँट पड़ेगी।

- Ans
- ✗ 1. गृहकार्य में पूरे करने हैं
 - ✓ 2. गृहकार्य पूरा करना है
 - ✗ 3. गृहकार्य पूरे करना है
 - ✗ 4. गृहकार्य पूरी करने हैं

Question ID : 9895803522
Chosen Option : 2

Q.1 4 रिक्त स्थान को भरने के लिए सबसे उपयुक्त शब्द का चयन करें।

ज्योति ने एक _____ गीत सुनाया।

- Ans
- ✗ 1. नमकीन
 - ✗ 2. खट्टा

✗ 3. ठंडा

✓ 4. मधुर

Question ID : 9895803527
Chosen Option : 4

Q.1 निम्नलिखित में से उस विकल्प का चयन करें जो ' उल्लू बनाना ' मुहावरे का अर्थ व्यक्त करता है।

Ans

✗ 1. बड़ाई करना

✗ 2. उल्लू की तरह जागना

✓ 3. मूर्ख बनाना

✗ 4. रात को जगाना

Question ID : 9895803538
Chosen Option : 3

Q.1 दिए गए वाक्य में रेखांकित खंड को प्रतिस्थापित करने के लिए सबसे उपयुक्त विकल्प का चयन करें।

किसी वस्तु को तब तक नहीं फेंका जाता अब तक उसकी आवश्यकता बनी रहती है।

Ans

✗ 1. जब तक उसका आवश्यकता

✓ 2. जब तक उसकी आवश्यकता

✗ 3. तब तक उसकी आवश्यकता

✗ 4. कब तक उसकी आवश्यकता

Question ID : 9895803523
Chosen Option : 2

Q.1 रिक्त स्थान को भरने के लिए सबसे उपयुक्त शब्द का चयन करें।

मेज के _____ बिल्ली बैठी है।

Ans

✗ 1. बाहर

✗ 2. साथ

✗ 3. भीतर

✓ 4. नीचे

Question ID : 9895803526
Chosen Option : 4

Comprehension:

दिए गए अनुच्छेद में कुछ शब्द हटा दिए गए हैं। दिए गए विकल्पों की सहायता से रिक्त स्थान भरें। प्रत्येक संख्या के लिए सबसे उपयुक्त विकल्प का चयन करें।

संसार में संपूर्ण अज्ञान नाम की वस्तु नहीं होती। अज्ञान अक्सर परिस्थितियों के _____ (1) बदलता रहता है। इसकी कोई एक सर्वमान्य _____ (2) नहीं हो सकती पर इतना तो तय है कि जिस समय यह व्यक्ति के _____ (3) पर हावी होता है, उस समय उसे यही लगता है कि वह _____ (4) का सबसे बड़ा जानी है और उसके पास हर एक वस्तु की मान्यता का _____ (5) है।

SubQuestion No : 18

Q.1
8 गद्यांश में संकेतित रिक्त स्थान (1) के लिए उपयुक्त शब्द होगा

- Ans
- 1. गणित
 - 2. गुना
 - 3. अनुसार
 - 4. अज्ञान

Question ID : 9895803529

Chosen Option : 3

Comprehension:

दिए गए अनुच्छेद में कुछ शब्द हटा दिए गए हैं। दिए गए विकल्पों की सहायता से रिक्त स्थान भरें। प्रत्येक संख्या के लिए सबसे उपयुक्त विकल्प का चयन करें।

संसार में संपूर्ण अज्ञान नाम की वस्तु नहीं होती। अज्ञान अक्सर परिस्थितियों के _____ (1) बदलता रहता है। इसकी कोई एक सर्वमान्य _____ (2) नहीं हो सकती पर इतना तो तय है कि जिस समय यह व्यक्ति के _____ (3) पर हावी होता है, उस समय उसे यही लगता है कि वह _____ (4) का सबसे बड़ा जानी है और उसके पास हर एक वस्तु की मान्यता का _____ (5) है।

SubQuestion No : 19

Q.1
9 गद्यांश में संकेतित रिक्त स्थान (2) के लिए उपयुक्त शब्द होगा

- Ans
- 1. जिंदगी
 - 2. ऊँचाई
 - 3. छाँव
 - 4. परिभाषा

Question ID : 9895803530

Chosen Option : 4

Comprehension:

दिए गए अनुच्छेद में कुछ शब्द हटा दिए गए हैं। दिए गए विकल्पों की सहायता से रिक्त स्थान भरें। प्रत्येक संख्या के लिए सबसे उपयुक्त विकल्प का चयन करें।

संसार में संपूर्ण अज्ञान नाम की वस्तु नहीं होती। अज्ञान अक्सर परिस्थितियों के _____ (1) बदलता रहता है। इसकी कोई एक सर्वमान्य _____ (2) नहीं हो सकती पर इतना तो तय है कि जिस समय यह व्यक्ति के _____ (3) पर हावी होता है, उस समय उसे यही लगता है कि वह _____ (4) का सबसे बड़ा जानी है और उसके पास हर एक वस्तु की मान्यता का _____ (5) है।

SubQuestion No : 20

Q.2
0 गद्यांश में संकेतित रिक्त स्थान (3) के लिए उपयुक्त शब्द होगा

- Ans
- 1. बादल
 - 2. नाक
 - 3. दिमाग
 - 4. निर्णय

Question ID : 9895803531
Chosen Option : 3

Comprehension:

दिए गए अनुच्छेद में कुछ शब्द हटा दिए गए हैं। दिए गए विकल्पों की सहायता से रिक्त स्थान भरें। प्रत्येक संख्या के लिए सबसे उपयुक्त विकल्प का चयन करें।

संसार में संपूर्ण अज्ञान नाम की वस्तु नहीं होती। अज्ञान अक्सर परिस्थितियों के _____ (1) बदलता रहता है। इसकी कोई एक सर्वमान्य _____ (2) नहीं हो सकती पर इतना तो तय है कि जिस समय यह व्यक्ति के _____ (3) पर हावी होता है, उस समय उसे यही लगता है कि वह _____ (4) का सबसे बड़ा जानी है और उसके पास हर एक वस्तु की मान्यता का _____ (5) है।

SubQuestion No : 21

Q.2
1 गद्यांश में संकेतित रिक्त स्थान (4) के लिए उपयुक्त शब्द होगा

- Ans
- 1. पहाड़
 - 2. कल
 - 3. निर्णय
 - 4. संसार

Question ID : 9895803532
Chosen Option : 4

Comprehension:

दिए गए अनुच्छेद में कुछ शब्द हटा दिए गए हैं। दिए गए विकल्पों की सहायता से रिक्त स्थान भरें। प्रत्येक संख्या के लिए सबसे उपयुक्त विकल्प का चयन करें।

संसार में संपूर्ण अज्ञान नाम की वस्तु नहीं होती। अज्ञान अक्सर परिस्थितियों के _____ (1) बदलता रहता है। इसकी कोई एक सर्वमान्य _____ (2) नहीं हो सकती पर इतना तो तय है कि जिस समय यह व्यक्ति के _____ (3) पर हावी होता है, उस समय उसे यही लगता है कि वह _____ (4) का सबसे बड़ा जानी है और उसके पास हर एक वस्तु की मान्यता का _____ (5) है।

SubQuestion No : 22

Q.2
2 गद्यांश में संकेतित रिक्त स्थान (5) के लिए उपयुक्त शब्द होगा

- Ans
- 1. तर्क
 - 2. बदलाव
 - 3. शर्त
 - 4. जल

Question ID : 9895803533
Chosen Option : 1

Q.2
3 दिए गए शब्द का विलोम चुनें।

उत्कृष्ट

- Ans
- 1. संकरी
 - 2. कृष्ण
 - 3. निकृष्ट
 - 4. कष्ट

Question ID : 9895803534
Chosen Option : 3

Q.2
4 रिक्त स्थान को भरने के लिए सबसे उपयुक्त शब्द का चयन करें।

अंग का _____ है हिस्सा।

- Ans
- 1. विलोम
 - 2. वचन
 - 3. लिंग
 - 4. अर्थ

Q.2
5 दिये गये वाक्यांश के लिए एक शब्द चुनिए।

मांस खाने वाला

Ans

- 1. सर्वहारी
- 2. अल्पाहारी
- 3. शाकाहारी
- 4. मांसाहारी

GovtJobsAlert.In