

Constable (GD) in CAPFs, NIA, SSF and Rifleman (GD) in Assam Rifles Examination, 2018

Roll No. :	GovtJobsAlert.In
Registration No.	GovtJobsAlert.In
Name :	GovtJobsAlert.In
Exam Venue :	iON Digital Zone iDZ Keshaw Puram
Exam Time :	4:00 PM - 5:30 PM
Exam Date :	12/02/2019

Section : General Section

Q.1 उस विकल्प का चयन करें जो तीसरे पद से उसी प्रकार से संबंधित है जिस प्रकार से दूसरा पद पहले पद से संबंधित है।

न्यांमार : क्यात :: पाकिस्तान : ?

- Ans 1. रुपया
 2. रियाल
 3. दिरहम
 4. दीनार

Question ID : 9895804695
Chosen Option : 2

Q.2 उस विकल्प का चयन करें जो दिए गए पैटर्न में प्रश्न चिह्न (?) के स्थान पर आएगा।

5	15	6
7	5	?
32	230	42

- Ans 1. 9
 2. 11
 3. 13
 4. 6

Question ID : 9895804709
Chosen Option : 4

Q.3 आठ दोस्त A, B, C, D, E, F, H और G दोपहर के भोजन के लिए एक गोल मेज के चारों ओर एक दूसरे की तरफ मुंह करके बैठे हैं। A, F के सामने है और B के दाएँ तीसरे स्थान पर है। G, F और D के बीच में है। H, D के बाएँ ओर है। E, C और A के बीच में है। C के दाएँ तीसरे स्थान पर कौन बैठा है?

- Ans 1. A
 2. D

3. G

4. H

Question ID : 9895804701
Chosen Option : 4

Q.4 निम्नलिखित समीकरण को सही करने के लिए विकल्पों में दिए गए किन दो चिहनों को परस्पर बदला जाना चाहिए?

$$22 + 11 \times 22 - 2 + 3 = 45$$

Ans 1. - और ÷

2. × और ÷

3. - और ×

4. + और ÷

Question ID : 9895804710
Chosen Option : 2

Q.5 उस विकल्प का चयन करें जो तीसरे पद से उसी प्रकार से संबंधित है जिस प्रकार से दूसरा पद पहले पद से संबंधित है।

तारवा : कीट :: मेमना : ?

Ans 1. भेड़

2. शेर

3. हिरन

4. बच्चा

Question ID : 9895804696
Chosen Option : 1

Q.6 उस विकल्प का चयन करें जो तीसरे पद से उसी प्रकार से संबंधित है जिस प्रकार से दूसरा पद पहले पद से संबंधित है।

ACG : DFD :: CIU : ?

Ans 1. RLL

2. FLR

3. EGF

4. LFR

Question ID : 9895804697
Chosen Option : 3

Q.7 एक निश्चित कूट भाषा में, UNHAPPY को PPYAHNU के रूप में लिखा जाता है। इसी कूट भाषा में FALLACY को कैसे लिखा जाएगा?

Ans 1. ACYLAAF

2. YCALLAF

3. ACYLALF

4. ACYLLAF

Question ID : 9895804698

Chosen Option : 4

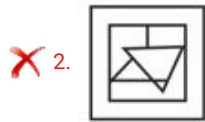
Q.8 विकल्पों में से उस आकृति का चयन करें जिसमें 'X' से चिह्नित आकृति समाहित है।



X

SEQUEL

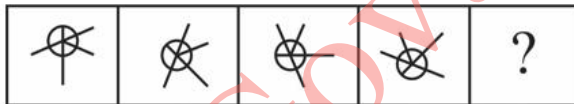
Ans



Question ID : 9895804713

Chosen Option : 2

Q.9 विकल्पों में से उस आकृति का चयन करें जो दी गई श्रृंखला में अगले स्थान पर आएगी।



A

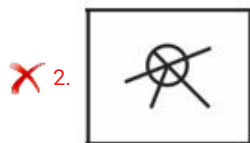
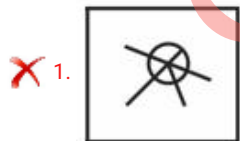
B

C

D

E

Ans



✓ 4.



Question ID : 9895804711
Chosen Option : 3

Q.1 0 उस विकल्प का चयन करें जो सही रूप में रिक्त स्थान को भरे और श्रृंखला को पूरा करें।

8, 9, 17, 44, ?

- Ans
- ✗ 1. 100
 - ✓ 2. 108
 - ✗ 3. 105
 - ✗ 4. 103

Question ID : 9895804706
Chosen Option : 3

Q.1 1 दिए गए विकल्पों में से असंगत संख्या का चयन करें।

- Ans
- ✗ 1. 415
 - ✗ 2. 718
 - ✓ 3. 545
 - ✗ 4. 314

Question ID : 9895804708
Chosen Option : 3

Q.1 2 उस विकल्प का चयन करें जो सही रूप में रिक्त स्थान को भरे और श्रृंखला को पूरा करें।

NIX, LKV, JMT, HOR, ___

- Ans
- ✗ 1. FQQ
 - ✗ 2. FQO
 - ✗ 3. FOP
 - ✓ 4. FQP

Question ID : 9895804692
Chosen Option : 3

Q.1 3 J, K L, M, N और O छह शिक्षक हैं। प्रत्येक शिक्षक हिंदी, अंग्रेजी, गणित, विज्ञान, सामाजिक विज्ञान और कला में से एक विषय पढ़ाता है, जरूरी नहीं कि इसी क्रम में पढ़ाता हो। प्रत्येक शिक्षक सोमवार से शनिवार तक केवल एक ही दिन पढ़ाता है, जरूरी नहीं कि इसी क्रम में पढ़ाता हो। J शनिवार को कला पढ़ाता है। L न तो अंग्रेजी पढ़ाता है और न ही सामाजिक विज्ञान पढ़ाता है, लेकिन वह गुरुवार को पढ़ाता है। बुधवार का दिन गणित के लिए आरक्षित है जो K पढ़ाता है। O, N से एक दिन पहले विज्ञान पढ़ाता है। सामाजिक विज्ञान कला पढ़ाए जाने वाले दिन से एक दिन पहले पढ़ाया जाता है। सामाजिक विज्ञान कौन पढ़ाता है?

Ans

1. M
 2. O
 3. N
 4. J

Question ID : 9895804702
Chosen Option : --

Q.1 सात दोस्त O, P, Q, R, S, T और U एक पंक्ति में बैठकर फिल्म देख रहे हैं। S किसी छोर पर बैठा है। Q, S के दाएं दूसरे स्थान पर बैठा है। P, O और Q के बीच बैठा है। U किसी भी छोर पर नहीं बैठा है। R, T के बाएँ ओर बैठा है। बिल्कुल बाएँ छोर पर कौन बैठा है?

- Ans 1. R
 2. P
 3. Q
 4. S

Question ID : 9895804700
Chosen Option : 4

Q.1 उस विकल्प का चयन करें जो तीसरी संख्या से उसी प्रकार से संबंधित है जिस प्रकार दूसरी संख्या पहली संख्या से संबंधित है।

22 : 625 :: 13 : ?

- Ans 1. 144
 2. 256
 3. 221
 4. 169

Question ID : 9895804707
Chosen Option : 2

Q.1 दिए गए विकल्पों में से असंगत का चयन करें।

- Ans 1. कौवा
 2. गरुड़
 3. शतुरमुर्ग
 4. उल्लू

Question ID : 9895804694
Chosen Option : 3

Q.1 एक निश्चित कूट भाषा में, SPADE को 45 के रूप में लिखा जाता है। इसी कूट भाषा में ABODE को कैसे लिखा जाएगा?

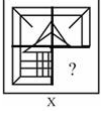
- Ans 1. 39
 2. 29

✓ 3. 27

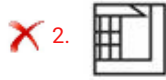
✗ 4. 59

Question ID : 9895804699
Chosen Option : 4

Q.1 दिए गए चार विकल्पों में से उस आकृति को चुनें, जिसे आकृति X के रिक्त स्थान में (बिना घुमाए) रखने पर पैटर्न पूरा हो जाएगा।



Ans

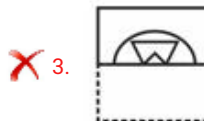
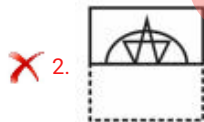
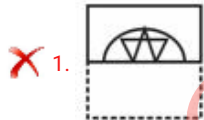


Question ID : 9895804712
Chosen Option : 2

Q.1 पैटर्न के साथ एक वर्गाकार पारदर्शी कागज पत्रक दिया गया है। पारदर्शी कागज पत्रक को बिंदुंकित रेखा पर मोड़ने पर पैटर्न कैसा दिखाई देगा?



Ans



Question ID : 9895804715
Chosen Option : 4

Q.2 ₀ उस विकल्प का चयन करें जो सही रूप में रिक्त स्थान को भरे और श्रृंखला को पूरा करें।

3, 16, 29, 42, ?

- Ans
- 1. 55
 - 2. 57
 - 3. 54
 - 4. 61

Question ID : 9895804705
Chosen Option : 3

Q.2 ₁ दिए गए विकल्पों में से असंगत का चयन करें।

- Ans
- 1. DEP
 - 2. BFQ
 - 3. JPC
 - 4. LHE

Question ID : 9895804693
Chosen Option : 4

Q.2 ₂ उस विकल्प का चयन करें जो दर्पण के दायीं ओर रखे जाने पर दिए गए शब्द की दर्पण छवि से सर्वाधिक मेल खाता है।

SEQUEL



- Ans
- 1. SEQUEL
 - 2. SEQUEL
 - 3. SEQUEL
 - 4. SEQUEL



Question ID : 9895804714
Chosen Option : 4

Q.2 ₃ निम्नलिखित में से कौन सा वेन रेखाचित्र दिए गए वर्ग के बीच के संबंध को सही दर्शाता है?

नेपाल, एशिया, काठमांडू

Ans

- 1. 
- 2. 



Question ID : 9895804716
Chosen Option : 3

Q.2 नीचे दिए गए कथनों के बाद दो निष्कर्ष I और II दिए गए हैं। यह मानते हुए कि कथनों में दी गई जानकारी सत्य है, भले ही वह सर्वज्ञात तथ्यों से भिन्न प्रतीत होती हो और यह निर्णय करें कि कौन सा / से निष्कर्ष तार्किक और निश्चित रूप से कथन में दी गई जानकारी का अनुसरण करता है / करते हैं।

कथन:

- 1.) कुछ बंदूकें मकड़ियाँ हैं।
- 2.) कुछ मकड़ियाँ किसान हैं।

निष्कर्ष

- I. कुछ बंदूकें किसान हैं।
- II. कुछ किसान बंदूकें हैं।

Ans

- ✓ 1. न तो निष्कर्ष I और न ही निष्कर्ष II अनुसरण करता है।
- ✗ 2. केवल निष्कर्ष II अनुसरण करता है।
- ✗ 3. केवल निष्कर्ष I अनुसरण करता है।
- ✗ 4. दोनों निष्कर्ष अनुसरण करते हैं।

Question ID : 9895804704
Chosen Option : 4

Q.2 नीचे दिए गए कथनों के बाद दो निष्कर्ष I और II दिए गए हैं। यह मानते हुए कि कथनों में दी गई जानकारी सत्य है, भले ही वह सर्वज्ञात तथ्यों से भिन्न प्रतीत होती हो और यह निर्णय करें कि कौन सा / से निष्कर्ष तार्किक और निश्चित रूप से कथन में दी गई जानकारी का अनुसरण करता है / करते हैं।

कथन:

- 1.) सभी बच्चे कौवे हैं।
- 2.) सभी बिल्लियाँ कौवे हैं।

निष्कर्ष

- I. कुछ बिल्लियाँ बच्चे हैं।
- II. कोई भी बिल्ली बच्चा नहीं है।

Ans

1. केवल निष्कर्ष ॥ अनुसरण करता है।
2. दोनों निष्कर्ष अनुसरण करते हैं।
3. केवल निष्कर्ष । अनुसरण करता है।
4. या तो निष्कर्ष । या निष्कर्ष ॥ अनुसरण करता है।

Question ID : 9895804703
Chosen Option : 2

Q.2
6 'इयूस' शब्द _____ के साथ जुड़ा हुआ है।

- Ans 1. लॉन टेनिस
2. हॉकी
3. बेसबॉल
4. क्रिकेट

Question ID : 9895802502
Chosen Option : 3

Q.2
7 पहले स्तनपायी क्लोन (भेड़) का नाम क्या है?

- Ans 1. शान
2. भेड़
3. डॉली
4. पोली

Question ID : 9895802519
Chosen Option : 4

Q.2
8 युद्ध के दौरान वीरता के विशिष्ट कार्य प्रदर्शित करने के लिए दिया जाने वाला सर्वोच्च सैन्य सम्मान कौन सा है?

- Ans 1. परम वीर चक्र
2. सेना मेडल
3. महावीर चक्र
4. शौर्य चक्र

Question ID : 9895802516
Chosen Option : 1

Q.2
9 भारतीय जनता पार्टी (बीजेपी) की उत्पत्ति _____ द्वारा स्थापित भारतीय जन संघ में निहित है।

- Ans 1. मुरली मनोहर जोशी

- ✓ 2. श्यामा प्रसाद मुखर्जी
✗ 3. लाल कृष्ण आडवाणी
✗ 4. अटल बिहारी वाजपेयी

Question ID : 9895802511
Chosen Option : 4

Q.3
0 वह एकमात्र पाकिस्तानी नागरिक कौन था, जिसे भारत रत्न से सम्मानित किया गया था?

- Ans ✗ 1. इमरान खान
✓ 2. खान अब्दुल गफ्फार खान
✗ 3. नवाज़ शरीफ़
✗ 4. बेनज़ीर भुट्टो

Question ID : 9895802517
Chosen Option : 4

Q.3
1 स्वतंत्रता के बाद, भारत के पहले उप प्रधान मंत्री कौन हुए?

- Ans ✗ 1. जगजीवन राम
✓ 2. सरदार वल्लभभाई पटेल
✗ 3. मोरारजी देसाई
✗ 4. चरण सिंह

Question ID : 9895802500
Chosen Option : 3

Q.3
2 _____ ऊष्मा का सबसे अच्छा चालक है।

- Ans ✗ 1. स्टेनलेस स्टील
✓ 2. चांदी
✗ 3. सीसा
✗ 4. पारा

Question ID : 9895802520
Chosen Option : --

Q.3
3 निम्नलिखित में से कौन से व्यापार अवरोध नहीं हैं?

- Ans ✗ 1. उपदान (सब्सिडी)
✗ 2. प्रशुल्क अवरोध
✗ 3. निषेध / प्रतिरोध

✓ 4. निर्यात सुरक्षा

Question ID : 9895802509

Chosen Option : 4

Q.3
4 मस्तिष्क _____ तंत्र का एक हिस्सा है।

- Ans
- ✗ 1. परिसंचरण
 - ✗ 2. पाचक
 - ✓ 3. तंत्रिका
 - ✗ 4. अंतःस्रावी

Question ID : 9895802521

Chosen Option : 3

Q.3
5 भारत में, लोगों की _____ वाले राज्यों को अधिक प्रतिनिधि मिलते हैं।

- Ans
- ✓ 1. अधिक आबादी
 - ✗ 2. कम आय
 - ✗ 3. कम आबादी
 - ✗ 4. अधिक आय

Question ID : 9895802512

Chosen Option : 2

Q.3
6 _____ नदी एकमात्र प्राकृतिक जलस्रोत है, जो रेगिस्तान में एक झील के अंदर बहती है।

- Ans
- ✓ 1. लूनी
 - ✗ 2. काली
 - ✗ 3. तीस्ता
 - ✗ 4. गंगा

Question ID : 9895802504

Chosen Option : 1

Q.3
7 साइखोम मीराबाई चानू को 2018 में _____ के लिए पद्म श्री से सम्मानित किया गया।

- Ans
- ✗ 1. एथलेटिक्स
 - ✗ 2. क्रिकेट
 - ✗ 3. कुश्ती
 - ✓ 4. भारोत्तोलन

Question ID : 9895802503

Chosen Option : 4

Q.3
8 गरबा एक लोक नृत्य है, जिसकी उत्पत्ति _____ में हुई थी।

- Ans
- 1. महाराष्ट्र
 - 2. गुजरात
 - 3. राजस्थान
 - 4. बिहार

Question ID : 9895802513
Chosen Option : 1

Q.3
9 PMGY का पूर्ण रूप क्या है?

- Ans
- 1. प्रधान मंत्री गुरुकुल योजना
 - 2. प्रधान मंत्री ग्रामोदय योजना
 - 3. प्रधान मंत्री गरीब योजना
 - 4. प्रधान मंत्री ग्राम योजना

Question ID : 9895802508
Chosen Option : --

Q.4
0 1793 में जमींदारी प्रणाली किसके द्वारा शुरू की गई थी?

- Ans
- 1. कार्नवालिस
 - 2. क्लाइव
 - 3. कर्जन
 - 4. क्लिंट

Question ID : 9895802499
Chosen Option : 3

Q.4
1 _____ को 'कोशिका का पावर हाउस' कहा जाता है।

- Ans
- 1. नाभिक
 - 2. माइटोकॉन्ड्रिया
 - 3. गॉल्जी निकाय
 - 4. कोशिका झिल्ली

Question ID : 9895802523
Chosen Option : --

Q.4
2 उत्तरी भारतीय मैदानों की दलदली पट्टी को _____ के नाम से जाना जाता है।

- Ans
- 1. दोआब

2. खादर
 3. तराई
 4. भांगड़ा

Question ID : 9895802505
Chosen Option : 3

Q.4
3 निम्नलिखित विकल्पों में से कौन सी भारत में हिमालय की सबसे ऊंची पर्वत चोटी है?

- Ans 1. माउंट एवरेस्ट
 2. कंचनजंगा
 3. नमचा बरवा
 4. नंदा देवी

Question ID : 9895802506
Chosen Option : 1

Q.4
4 निम्न में से कौन-सी शास्त्रीय नृत्य की एक शैली नहीं है?

- Ans 1. ओडिसी
 2. कालबेलिया
 3. कथक
 4. कथकली

Question ID : 9895802514
Chosen Option : 2

Q.4
5 कौन सा देश दुनिया का सबसे बड़ा लोकतंत्र है?

- Ans 1. नॉर्वे
 2. आइसलैंड
 3. स्वीडन
 4. भारत

Question ID : 9895802510
Chosen Option : 2

Q.4
6 हरित क्रांति में किसे शामिल नहीं किया गया है?

- Ans 1. खेती में उन्नत तकनीक के उपयोग को
 2. गांव की सड़कों के सुधार को
 3. बीजों की अधिक उपज देने वाली किस्मों को
 4. सिंचाई की अच्छी तरह से विकसित प्रणाली के उपयोग को

Question ID : 9895802507
Chosen Option : 2

Q.4
7 _____ मनुष्यों में ऑक्सीजन परिवहन के लिए उत्तरदायी है।

- Ans
- 1. मेलेनिन
 - 2. हीमोग्लोबिन
 - 3. लसीका
 - 4. बलगम

Question ID : 9895802522
Chosen Option : 1

Q.4
8 हिमालय की ऊंची-ऊंची पर्वतमालाओं में घास के विशाल मैदान क्या कहलाते हैं?

- Ans
- 1. भाबर
 - 2. हरे घास के मैदान
 - 3. मारू
 - 4. बग्याल

Question ID : 9895802501
Chosen Option : 2

Q.4
9 केरल में फसल की कटाई पर कौन सा उत्सव मनाया जाता है?

- Ans
- 1. लोहड़ी
 - 2. पोंगल
 - 3. बैसाखी
 - 4. ओणम

Question ID : 9895802515
Chosen Option : 4

Q.5
0 भारतीय कवि, गीतकार और फिल्म निर्देशक संपूर्ण सिंह कालरा का उपनाम क्या है?

- Ans
- 1. दाग
 - 2. तालिब
 - 3. आरजू
 - 4. गुलज़ार

Question ID : 9895802518
Chosen Option : 4

Q.5
1

सप्ताह के पहले 2 दिनों के लिए शहर A की औसत वर्षा 105 है, अगले 3 दिनों के लिए 84 है तथा सप्ताह के अंतिम 2 दिनों के लिए 49 है। शहर B के लिए कुल साप्ताहिक वर्षा 455 है। दोनों शहर को मिलाकर औसत दैनिक वर्षा क्या होगी?

- Ans
- 1. 152
 - 2. 145
 - 3. 138
 - 4. 159

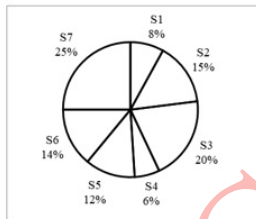
Question ID : 9895804313
Chosen Option : 3

Q.5 एक त्रिभुज की भुजाओं का अनुपात 5 : 2 : 1 है। यदि त्रिभुज का परिमाण 88 से.मी. है, तो सबसे बड़ी भुजा की लंबाई क्या होगी?

- Ans
- 1. 55 से.मी.
 - 2. 38 से.मी.
 - 3. 44 से.मी.
 - 4. 40 से.मी.

Question ID : 9895804328
Chosen Option : --

Q.5 नीचे दिया गया पाई चार्ट एक देश के 7 राज्यों द्वारा प्राप्त वार्षिक बर्फबारी को दर्शाता है। बर्फबारी को देश की कुल वार्षिक बर्फबारी के प्रतिशत के रूप में दर्शाया गया है।



यदि देश द्वारा प्राप्त वार्षिक बर्फबारी 700 से.मी. है, तो S5 द्वारा प्राप्त मासिक बर्फबारी क्या है?

- Ans
- 1. 21 से.मी.
 - 2. 5 से.मी.
 - 3. 12 से.मी.
 - 4. 7 से.मी.

Question ID : 9895804333
Chosen Option : --

Q.5 यदि $s : u : v : w = 2 : 9 : 6 : 7$ है तथा $s + u + v + w = 864$ है, तो $s + u + w$ का मान क्या है?

4

- Ans 1. 734
 2. 648
 3. 612
 4. 722

Question ID : 9895804321
 Chosen Option : --

Q.5 $\left[\frac{4}{5} \div \frac{5}{8} - \frac{7}{5} + \frac{2}{15} \right]$ का $\left(\frac{3}{2} \div \frac{4}{5} \right)$ का मान क्या है?

- Ans 1. 17/80
 2. 13/100
 3. 21/100
 4. 15/29

Question ID : 9895804311
 Chosen Option : --

Q.5 $\left(5 \div \frac{1}{5} \right)$ का $\frac{25}{4} + \frac{20}{3} \div \frac{100}{9}$ का मान क्या है?

- Ans 1. 18/5
 2. 23/5
 3. 27/5
 4. 31/5

Question ID : 9895804310
 Chosen Option : --

Q.5 एक लंबवृत्तीय शंकु की ऊँचाई 28 से.मी. है। यदि इसके आधार का व्यास 42 से.मी. है, तो शंकु का वक्र पृष्ठीय क्षेत्रफल क्या होगा?

- Ans 1. 4620 से.मी.²
 2. 1540 से.मी.²
 3. 170 से.मी.²
 4. 2310 से.मी.²

Question ID : 9895804329
 Chosen Option : --

Q.5 यदि 80 वस्तुओं का क्रय मूल्य 50 वस्तुओं के विक्रय मूल्य के बराबर है, तो लाभ प्रतिशत क्या होगा?

- Ans 1. 40%
 2. 25%
 3. 37.5%

✓ 4. 60%

Question ID : 9895804317
Chosen Option : 1

Q.5 एक लंबवृत्तीय शंकु का आयतन उस लंबवृत्तीय बेलन के बराबर है जिसकी ऊँचाई 48 से.मी. है तथा उसके आधार का व्यास 20 से.मी. है। यदि शंकु की ऊँचाई 16 से.मी. है, तो उसके आधार का व्यास क्या होगा?

- Ans
- ✗ 1. 130 से.मी.
 - ✗ 2. 25 से.मी.
 - ✓ 3. 60 से.मी.
 - ✗ 4. 45 से.मी.

Question ID : 9895804330
Chosen Option : --

Q.6 एक राशि चक्रवृद्धि ब्याज की दर से 7 वर्षों में स्वयं का 8 गुना हो जाती है (ब्याज का संयोजन वार्षिक किया गया है)। कितने वर्षों में राशि स्वयं का 4096 गुना हो जाएगी?

- Ans
- ✗ 1. 24
 - ✗ 2. 16
 - ✓ 3. 28
 - ✗ 4. 56

Question ID : 9895804323
Chosen Option : 4

Q.6 दो संख्याओं का लघुत्तम समापवर्त्य तथा महत्तम समापवर्तक क्रमशः 75 तथा 5 है। यदि उनका अंतर 10 है, तो इन दो संख्याओं का योग क्या होगा?

- Ans
- ✗ 1. 30
 - ✗ 2. 25
 - ✓ 3. 40
 - ✗ 4. 20

Question ID : 9895804309
Chosen Option : --

Q.6 N1 और N2 संख्या का औसत 17 है। N2 तथा N3 का औसत 44 है। N3 तथा N1 का अंतर क्या है?

- Ans
- ✗ 1. 35
 - ✗ 2. 27
 - ✗ 3. 36
 - ✓ 4. 54

Question ID : 9895804312
Chosen Option : 2

Q.6 यदि X, Y से 30% कम है तथा Z, X से 50% कम है, तो Z, Y से कितना प्रतिशत कम है?

- Ans
- 1. 95%
 - 2. 80%
 - 3. 65%
 - 4. 75%

Question ID : 9895804316
Chosen Option : 1

Q.6 यदि रोहित अकेला एक कार्य का एक-चौथाई 32 दिन में पूरा कर सकता है, तो रोहित संपूर्ण कार्य को कितने दिन में पूरा कर सकता है?

- Ans
- 1. 128 दिन
 - 2. 96 दिन
 - 3. 64 दिन
 - 4. 118 दिन

Question ID : 9895804325
Chosen Option : --

Q.6 यदि एक वस्तु का क्रय मूल्य ₹ 1240 है तथा हानि 32% है, तो वस्तु का विक्रय मूल्य क्या होगा?

- Ans
- 1. ₹ 820.62
 - 2. ₹ 780.72
 - 3. ₹ 843.20
 - 4. ₹ 759.60

Question ID : 9895804318
Chosen Option : --

Q.6 यदि $2A = 3B = 7C$ है, तो $A : B : C$ का अनुपात क्या है?

- Ans
- 1. 2 : 3 : 7
 - 2. 21 : 10 : 6
 - 3. 21 : 14 : 6
 - 4. 14 : 10 : 21

Question ID : 9895804319
Chosen Option : --

Q.6 एक रेलगाड़ी एक स्थायी गति से चल रही है। रेलगाड़ी 340 मीटर लम्बाई वाले एक पुल को 35 सेकण्ड में तथा 460 मीटर लम्बाई वाले एक पुल को 38 सेकण्ड में पार करती है। रेलगाड़ी की गति क्या है?

- Ans
- 1. 40 कि.मी./घंटा
 - 2. 72 कि.मी./घंटा
 - 3. 80 कि.मी./घंटा
 - 4. 144 कि.मी./घंटा

Question ID : 9895804326

Chosen Option : 4

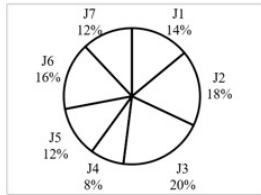
Q.6 ₹ 12500 की एक राशि साधारण ब्याज दर से 7 वर्षों में ₹ 5625 का ब्याज देती है। यदि वार्षिक ब्याज दर 7.5% है, तो 7 का मान क्या होगा?

- Ans
- 1. 5 वर्ष
 - 2. 6 वर्ष
 - 3. 7 वर्ष
 - 4. 8 वर्ष

Question ID : 9895804322

Chosen Option : 4

Q.6 नीचे दिया गया पाई चार्ट कार बनाने की 7 विभिन्न प्रक्रियाओं J1, J2, J3, J4, J5, J6 तथा J7 में लगने वाले समय को कार बनने में लगने वाले कुल समय के प्रतिशत के रूप में दर्शाता है। एक कार बनने में कुल 1200 घंटे का समय लगता है।



J3, J6 तथा J7 प्रक्रियाओं में लगने वाला औसत समय क्या है?

- Ans
- 1. 168 घंटे
 - 2. 180 घंटे
 - 3. 204 घंटे
 - 4. 192 घंटे

Question ID : 9895804332

Chosen Option : 3

Q.7 एक वस्तु को 12.5% की छूट देने के पश्चात् ₹ 5845 में बेचा गया है। वस्तु का अंकित मूल्य क्या है?

- Ans
- 1. ₹ 6700
 - 2. ₹ 6680
 - 3. ₹ 6800
 - 4. ₹ 6600

Question ID : 9895804314

Chosen Option : 3

Q.7
1 यदि धीरज एक 100 मीटर चौड़ी सड़क को 25 सेकण्ड में पार कर सकता है, तो धीरज की गति क्या है?

- Ans
- 1. 6 मी./से.
 - 2. 4 मी./से.
 - 3. 12 मी./से.
 - 4. 14 मी./से.

Question ID : 9895804327
Chosen Option : 2

Q.7
2 नीचे दिए गए आंकड़े अलग-अलग अंक प्राप्त करने वाले कक्षा A के छात्रों की संख्या दर्शाते हैं।

अंक	कक्षा A के छात्र
0-2	3
2-4	4
4-6	1
6-8	1
8-10	1
10-12	0

कक्षा A का माध्य अंक क्या है?

- Ans
- 1. 2.8
 - 2. 1.6
 - 3. 2
 - 4. 3.8

Question ID : 9895804315
Chosen Option : 3

Q.7
3 दीपक तथा विनोद की गति क्रमशः 19 : 12 के अनुपात में है। यदि विनोद की गति 84 कि.मी./घंटा है, तो दीपक की गति क्या होगी?

- Ans
- 1. 117 कि.मी./घंटा
 - 2. 133 कि.मी./घंटा
 - 3. 114 कि.मी./घंटा
 - 4. 126 कि.मी./घंटा

Question ID : 9895804320
Chosen Option : 2

Q.7

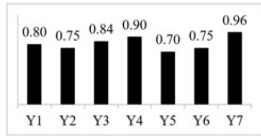
4 16 मजदूर प्रतिदिन 8 घंटे कार्य करके एक इमारत को 32 दिन में गिरा सकते हैं। 24 मजदूर प्रतिदिन 12 घंटे कार्य करके कितने दिन में समान इमारत को गिरा सकते हैं?

- Ans
- 1. 56/3 दिन
 - 2. 128/9 दिन
 - 3. 128/3 दिन
 - 4. 56/9 दिन

Question ID : 9895804324
Chosen Option : 4

Q.7 नीचे दिए गए बार चार्ट में सात क्रमागत वर्षों Y1, Y2, Y3, Y4, Y5, Y6 तथा

Y7 के लिए व्यय से राजस्व के अनुपात को दर्शाया गया है।



वर्ष Y4 के लिए राजस्व ₹ 22500 है। वर्ष Y4 के लिए लाभ क्या है?

- Ans
- 1. ₹ 2250
 - 2. निर्धारित नहीं किया जा सकता है
 - 3. ₹ 2500
 - 4. ₹ 2750

Question ID : 9895804331
Chosen Option : 4

Section : English Language

Q.1 Select the most appropriate ANTONYM of the given word.

SEMBLANCE

- Ans
- 1. A likeness
 - 2. Difference
 - 3. Simile
 - 4. Guise

Question ID : 9895804184
Chosen Option : --

Q.2 Select the most appropriate meaning of the given idiom.

Storm in a teacup

Ans

- 1. A big fuss over a small issue
- 2. A stormy tea party
- 3. A highly risky business
- 4. A grand get-together

Question ID : 9895804186
Chosen Option : --

Q.3 Fill in the blank with the most appropriate word.

Reason is the highest faculty _____ on man by his creator.

- Ans
- 1. donated
 - 2. given
 - 3. bestowed
 - 4. endowed

Question ID : 9895804192
Chosen Option : --

Q.4 Select the most appropriate word to fill in the blank.

I would rather serve _____.

- Ans
- 1. than to beg
 - 2. but beg
 - 3. than beg
 - 4. but to beg

Question ID : 9895804201
Chosen Option : --

Q.5 Select the correctly spelt word.

- Ans
- 1. Leisure
 - 2. Leisour
 - 3. Liesure
 - 4. Lisure

Question ID : 9895804188
Chosen Option : --

Q.6 Identify the segment in the sentence which contains the grammatical error from the given options.

This bottle must not be make to stand close to the fire.

- Ans
- 1. close to the fire
 - 2. This bottle

3. make to stand

4. must not be

Question ID : 9895804196
Chosen Option : --

Q.7 Identify the segment in the sentence which contains the grammatical error from the given options.

When he returned to the dining-room the guests left and the servants were clearing the tables.

Ans 1. to the dining-room

2. When he

3. were clearing

4. the guests left

Question ID : 9895804195
Chosen Option : --

Q.8 Identify the segment in the sentence which contains the grammatical error from the given options.

He was deprived from the benefits of college education owing to the death of his father.

Ans 1. He was deprived from

2. owing to

3. college education

4. the benefits of

Question ID : 9895804194
Chosen Option : --

Q.9 Select the most appropriate word to fill in the blank.

A house to house survey was _____ conducted to register more than seventeen crore voters.

Ans 1. wearily

2. meticulously

3. firmly

4. punctually

Question ID : 9895804193
Chosen Option : --

Q.10 Select the most appropriate meaning of the idiom.

To burn all bridges

Ans 1. To damage a path

2. To chase all enemies

3. To destroy all relations

4. To light a fire

Question ID : 9895804187
Chosen Option : --

Q.1 Select the most appropriate option to substitute the underlined segment in the given sentence. If there is no need to substitute it, select No Improvement

The Finance Minister has announce big schemes for farmers, women and unorganized workers in his Budget speech.

- Ans
- 1. have announced
 - 2. has announced
 - 3. No Improvement
 - 4. has been announcing

Question ID : 9895804197
Chosen Option : --

Comprehension:

In the following passage some words have been deleted. Fill in the blanks with the help of the alternatives given. Science has made an (1) _____ contribution to the relief of human suffering, and humanity (2) _____ a deep (3) _____ of gratitude to scientists whose (4) _____ and sacrifices have led to many (5) _____ discoveries and inventions.

SubQuestion No : 12

Q.1 Fill in the blank (1) with the most appropriate option.

- Ans
- 1. excessive
 - 2. enterprising
 - 3. enormous
 - 4. intensive

Question ID : 9895804203
Chosen Option : --

Comprehension:

In the following passage some words have been deleted. Fill in the blanks with the help of the alternatives given. Science has made an (1) _____ contribution to the relief of human suffering, and humanity (2) _____ a deep (3) _____ of gratitude to scientists whose (4) _____ and sacrifices have led to many (5) _____ discoveries and inventions.

SubQuestion No : 13

Q.1 Fill in the blank (2) with the most appropriate option.

- Ans
- 1. feels
 - 2. thinks
 - 3. offers
 - 4. owes

Question ID : 9895804204
Chosen Option : --

Comprehension:

In the following passage some words have been deleted. Fill in the blanks with the help of the alternatives given. Science has made an (1) _____ contribution to the relief of human suffering, and humanity (2) _____ a deep (3) _____ of gratitude to scientists whose (4) _____ and sacrifices have led to many (5) _____ discoveries and inventions.

SubQuestion No : 14

Q.1
4 Fill in the blank (3) with the most appropriate option.

- Ans
- 1. sense
 - 2. feeling
 - 3. fund
 - 4. amount

Question ID : 9895804205
Chosen Option : --

Comprehension:

In the following passage some words have been deleted. Fill in the blanks with the help of the alternatives given. Science has made an (1) _____ contribution to the relief of human suffering, and humanity (2) _____ a deep (3) _____ of gratitude to scientists whose (4) _____ and sacrifices have led to many (5) _____ discoveries and inventions.

SubQuestion No : 15

Q.1
5 Fill in the blank (4) with the most appropriate option.

- Ans
- 1. discoveries
 - 2. achievements
 - 3. labour
 - 4. success

Question ID : 9895804206
Chosen Option : --

Comprehension:

In the following passage some words have been deleted. Fill in the blanks with the help of the alternatives given. Science has made an (1) _____ contribution to the relief of human suffering, and humanity (2) _____ a deep (3) _____ of gratitude to scientists whose (4) _____ and sacrifices have led to many (5) _____ discoveries and inventions.

SubQuestion No : 16

Q.1
6 Fill in the blank (5) with the most appropriate option.

- Ans
- 1. useful
 - 2. unusual
 - 3. curious
 - 4. dynamic

Question ID : 9895804207
Chosen Option : --

Q.1
7 Select the word which means the same as the group of words given.

The life history of a person written by himself

- Ans
- 1. Novel

2. Autobiography

3. Fiction

4. Biography

Question ID : 9895804190

Chosen Option : --

Q.1 Select the most appropriate option to substitute the underlined segment in the given sentence. If there is no need to substitute it, select No Improvement.

8

He spent all which he has in order to perfect his invention.

Ans 1. which he has

2. No Improvement

3. that he had

4. what he is having

Question ID : 9895804198

Chosen Option : --

Q.1 Select the correctly spe

9

Ans 1. Discrepancy

2. Descrepancy

3. Discripancy

4. Discrepency

Question ID : 9895804189

Chosen Option : --

Q.2 Fill in the blank with the most appropriate word.

0

Miserly people find it difficult to part _____ any of their money for charitable purposes.

Ans 1. for

2. from

3. with

4. about

Question ID : 9895804200

Chosen Option : --

Q.2 Select the synonym of the given word.

1

FAÇADE

Ans 1. Interior

2. Elevation

3. Frontage

4. Ceiling

Question ID : 9895804183
Chosen Option : --

Q.2
2 Select the word which means the same as the group of words given.

Something never done or known before

- Ans
- 1. Unanimous
 - 2. Unprecedented
 - 3. Uncanny
 - 4. Unconditioned

Question ID : 9895804191
Chosen Option : --

Q.2
3 Select the most appropriate ANTONYM of the given word.

RAMBLING

- Ans
- 1. Irregular
 - 2. Coherent
 - 3. Deceptive
 - 4. Confused

Question ID : 9895804185
Chosen Option : --

Q.2
4 Select the synonym of the given word.

IMITATION

- Ans
- 1. Different
 - 2. Genuine
 - 3. Artificial
 - 4. Real

Question ID : 9895804182
Chosen Option : --

Q.2
5 Select the most appropriate option to substitute the underlined segment in the given sentence. If there is no need to substitute it, select No Improvement.

Subhash Palekar a farmer received the Padma Shri award this year in his campaign for zero budget natural farming.

- Ans
- 1. at his campaign with zero budget
 - 2. for his campaign for zero budget
 - 3. No Improvement

✓ 4. for his campaign to zero budget

Question ID : 9895804199
Chosen Option : --

Section : Hindi Language

Q.1 सही वर्तनी वाले शब्द का चयन करें।

- Ans
- ✗ 1. प्रकृतिक
 - ✗ 2. प्राकृत्रिक
 - ✗ 3. पारकृतिक
 - ✓ 4. प्राकृतिक

Question ID : 9895803595
Chosen Option : 4

Q.2 दिए गए शब्द का विलोम चुनें।

शुद्ध

- Ans
- ✓ 1. अशुद्ध
 - ✗ 2. गलत
 - ✗ 3. विरुद्ध
 - ✗ 4. पवित्र

Question ID : 9895803586
Chosen Option : 1

Q.3 दिए गए शब्द के पर्यायवाची शब्द का चयन करें।

कुंतल

- Ans
- ✗ 1. बाघ
 - ✗ 2. बालू
 - ✗ 3. बाण
 - ✓ 4. केश

Question ID : 9895803589
Chosen Option : 4

Q.4 निम्नलिखित में से उस विकल्प का चयन करें जो ' आटे दाल का भाव मालूम होना ' मुहावरे का अर्थ व्यक्त करता है।

- Ans
- ✓ 1. कठिनाई का ज्ञान होना
 - ✗ 2. महंगाई का बढ़ना

✗ 3. आटे और दाल का भाव बताना

✗ 4. परिस्थिति से भागना

Question ID : 9895803591
Chosen Option : 4

Q.5 रिक्त स्थान को भरने के लिए सबसे उपयुक्त शब्द का चयन करें।

हमें पेड़-पौधों की _____ करनी चाहिए।

- Ans
- ✗ 1. पिटाई
 - ✗ 2. उपेक्षा
 - ✗ 3. कटाई
 - ✓ 4. देखभाल

Question ID : 9895803576
Chosen Option : 4

Q.6 दिए गए वाक्य का वह भाग ज्ञात करें जिसमें कोई त्रुटि है।

अतीत की घटनाओं से ही व्यक्ति सीखना सकता है और प्रगति के पथ पर जा सकता है।

- Ans
- ✓ 1. व्यक्ति सीखना सकता है
 - ✗ 2. अतीत की घटनाओं से ही
 - ✗ 3. जा सकता है।
 - ✗ 4. और प्रगति के पथ पर

Question ID : 9895803571
Chosen Option : 4

Q.7 रिक्त स्थान को भरने के लिए सबसे उपयुक्त शब्द का चयन करें।

गौरव सौरभ की _____ अधिक मोटा है।

- Ans
- ✗ 1. ज्यादा
 - ✗ 2. तुलना
 - ✗ 3. उपेक्षा
 - ✓ 4. अपेक्षा

Question ID : 9895803579
Chosen Option : 2

Q.8

दिए गए वाक्य का वह भाग ज्ञात करें जिसमें कोई त्रुटि है।

सामान्य जनता को जागृत करने के लिए पुस्तकें प्रकाशित किये जा रहे हैं।

- Ans
- 1. जागृत करने के लिए
 - 2. किये जा रहे हैं।
 - 3. पुस्तकें प्रकाशित
 - 4. सामान्य जनता को

Question ID : 9895803572
Chosen Option : 4

Q.9 दिये गये वाक्यांश के लिए एक शब्द दीजिये।

कम खाने वाला

- Ans
- 1. अल्पाहारी
 - 2. मांसाहारी
 - 3. शाकाहारी
 - 4. सर्वाहारी

Question ID : 9895803592
Chosen Option : 1

Q.10 दिए गए शब्द के पर्यायवाची शब्द का चयन करें।

हिम

- Ans
- 1. वायु
 - 2. जल
 - 3. अग्नि
 - 4. बर्फ

Question ID : 9895803588
Chosen Option : 4

Q.11 दिए गए वाक्य का वह भाग ज्ञात करें जिसमें कोई त्रुटि है।

मन की शक्ति वैसे तो प्रकृति की देन है, फिर भी इसकी आंशिक निर्माण माता-पिता पर निर्भर करता है।

- Ans
- 1. मन की शक्ति
 - 2. फिर भी इसकी आंशिक निर्माण
 - 3. वैसे तो प्रकृति की देन है,

✗ 4. माता-पिता पर निर्भर करता है।

Question ID : 9895803570
Chosen Option : 3

Comprehension:

दिए गए अनुच्छेद में कुछ शब्द हटा दिए गए हैं। दिए गए विकल्पों की सहायता से रिक्त स्थान भरें। प्रत्येक संख्या के लिए सबसे उपयुक्त विकल्प का चयन करें।

समझने वाली एक महत्वपूर्ण बात यह भी है कि सारी _____(1) हमारे अकेले की नहीं होती। सारे _____(2) हमारे चढ़ने के लिए नहीं होते। कुछ चढ़ाइयाँ ऐसी भी होती हैं जो पूरे _____(3) को एक साथ चढ़नी होती है और यह बात पूरे समाज को समझाना भी अपने आप में पहाड़ होता है। मगर इस पर _____(4) का दायित्व भी उन _____(5) की होती है जिन्हें यह पहाड़ दिखाई देता है।

SubQuestion No : 12

Q.1
2 गद्यांश में संकेतित रिक्त स्थान (1) के लिए उपयुक्त शब्द होगा -

- Ans
- ✗ 1. नदियाँ
 - ✗ 2. निर्णय
 - ✗ 3. जवाब
 - ✓ 4. लड़ाइयाँ

Question ID : 9895803581
Chosen Option : 1

Comprehension:

दिए गए अनुच्छेद में कुछ शब्द हटा दिए गए हैं। दिए गए विकल्पों की सहायता से रिक्त स्थान भरें। प्रत्येक संख्या के लिए सबसे उपयुक्त विकल्प का चयन करें।

समझने वाली एक महत्वपूर्ण बात यह भी है कि सारी _____(1) हमारे अकेले की नहीं होती। सारे _____(2) हमारे चढ़ने के लिए नहीं होते। कुछ चढ़ाइयाँ ऐसी भी होती हैं जो पूरे _____(3) को एक साथ चढ़नी होती है और यह बात पूरे समाज को समझाना भी अपने आप में पहाड़ होता है। मगर इस पर _____(4) का दायित्व भी उन _____(5) की होती है जिन्हें यह पहाड़ दिखाई देता है।

SubQuestion No : 13

Q.1
3 गद्यांश में संकेतित रिक्त स्थान (2) के लिए उपयुक्त शब्द होगा -

- Ans
- ✓ 1. पहाड़

- 2. किताब
- 3. सागर
- 4. सोच

Question ID : 9895803582
Chosen Option : 3

Comprehension:

दिए गए अनुच्छेद में कुछ शब्द हटा दिए गए हैं। दिए गए विकल्पों की सहायता से रिक्त स्थान भरें। प्रत्येक संख्या के लिए सबसे उपयुक्त विकल्प का चयन करें।

समझने वाली एक महत्वपूर्ण बात यह भी है कि सारी _____(1) हमारे अकेले की नहीं होती। सारे _____(2) हमारे चढ़ने के लिए नहीं होते। कुछ चढ़ाइयाँ ऐसी भी होती हैं जो पूरे _____(3) को एक साथ चढ़नी होती है और यह बात पूरे समाज को समझाना भी अपने आप में पहाड़ होता है। मगर इस पर _____(4) का दायित्व भी उन _____(5) की होती है जिन्हें यह पहाड़ दिखाई देता है।

SubQuestion No : 14

Q.1
4 गद्यांश में संकेतित रिक्त स्थान (3) के लिए उपयुक्त शब्द होगा -

- Ans
- 1. स्थान
 - 2. धूप
 - 3. समाज
 - 4. चुनाव

Question ID : 9895803583
Chosen Option : 4

Comprehension:

दिए गए अनुच्छेद में कुछ शब्द हटा दिए गए हैं। दिए गए विकल्पों की सहायता से रिक्त स्थान भरें। प्रत्येक संख्या के लिए सबसे उपयुक्त विकल्प का चयन करें।

समझने वाली एक महत्वपूर्ण बात यह भी है कि सारी _____(1) हमारे अकेले की नहीं होती। सारे _____(2) हमारे चढ़ने के लिए नहीं होते। कुछ चढ़ाइयाँ ऐसी भी होती हैं जो पूरे _____(3) को एक साथ चढ़नी होती है और यह बात पूरे समाज को समझाना भी अपने आप में पहाड़ होता है। मगर इस पर _____(4) का दायित्व भी उन _____(5) की होती है जिन्हें यह पहाड़ दिखाई देता है।

SubQuestion No : 15

Q.1
5

गद्यांश में संकेतित रिक्त स्थान (4) के लिए उपयुक्त शब्द होगा -

- Ans
- 1. हँसने
 - 2. चढ़ने
 - 3. खाने
 - 4. सोने

Question ID : 9895803584
Chosen Option : 1

Comprehension:

दिए गए अनुच्छेद में कुछ शब्द हटा दिए गए हैं। दिए गए विकल्पों की सहायता से रिक्त स्थान भरें। प्रत्येक संख्या के लिए सबसे उपयुक्त विकल्प का चयन करें।

समझने वाली एक महत्त्वपूर्ण बात यह भी है कि सारी _____ (1) हमारे अकेले की नहीं होती। सारे _____ (2) हमारे चढ़ने के लिए नहीं होते। कुछ चढ़ाइयाँ ऐसी भी होती हैं जो पूरे _____ (3) को एक साथ चढ़नी होती है और यह बात पूरे समाज को समझाना भी अपने आप में पहाड़ होता है। मगर इस पर _____ (4) का दायित्व भी उन _____ (5) की होती है जिन्हें यह पहाड़ दिखाई देता है।

SubQuestion No : 16

Q.1
6 गद्यांश में संकेतित रिक्त स्थान (5) के लिए उपयुक्त शब्द होगा -

- Ans
- 1. व्यक्तियों
 - 2. सुखों
 - 3. राने
 - 4. दुखों

Question ID : 9895803585
Chosen Option : 4

Q.1
7 सही वर्तनी वाले शब्द का चयन करें।

- Ans
- 1. आकर्षक
 - 2. आक्रषक
 - 3. अकार्षक
 - 4. आकर्शक

Question ID : 9895803594
Chosen Option : 1

Q.1 रिक्त स्थान को भरने के लिए सबसे उपयुक्त शब्द का चयन करें।

में उसकी _____ को देखकर मुग्ध हो गया।

- Ans
- 1. बेबसी
 - 2. क्रोध
 - 3. विफलता
 - 4. सुन्दरता

Question ID : 9895803577
Chosen Option : 4

Q.1 दिए गए वाक्य में रेखांकित खंड को प्रतिस्थापित करने के लिए उपयुक्त विकल्प का चयन करें।

ऋतु परिवर्तन के कारण मनाए जाने वाले त्योहार हमें प्रकृति से निकट ले जाते हैं।

- Ans
- 1. प्रकृति को निकट ले जाते हैं।
 - 2. प्रकृति की निकट ले जाते हैं।
 - 3. प्रकृति के लिए निकट ले जाते हैं।
 - 4. प्रकृति के निकट ले जाते हैं।

Question ID : 9895803573
Chosen Option : --

Q.2 दिए गए वाक्य में रेखांकित खंड को प्रतिस्थापित करने के लिए उपयुक्त विकल्प का चयन करें।

सेठजी मंदिर में गए, उन्होंने यहाँ आकर गरीबों को केबल बाँटे।

- Ans
- 1. उन्होंने वहाँ आकर
 - 2. उन्होंने वहाँ जाकर
 - 3. उन्होंने यहाँ हटकर
 - 4. उन्होंने यहाँ जाकर

Question ID : 9895803574
Chosen Option : --

Q.2 दिए गए शब्द का विलोम चुनें।

क्रय

- Ans
- 1. निर्यात
 - 2. अहित
 - 3. विक्रय

✗ 4. बंधन

Question ID : 9895803587
Chosen Option : --

Q.2 रिक्त स्थान को भरने के लिए सबसे उपयुक्त शब्द का चयन करें।

तुम्हारा पत्र पढ़कर _____ प्रसन्नता हुई।

- Ans
- ✓ 1. अत्यंत
 - ✗ 2. भयानक
 - ✗ 3. अभिन्न
 - ✗ 4. उन्नत

Question ID : 9895803578
Chosen Option : --

Q.2 दिये गये वाक्यांश के लिए एक शब्द दीजिये।

जो भूमि उपजाऊ हो

- Ans
- ✗ 1. बंजर
 - ✓ 2. उर्वर
 - ✗ 3. कँटीली
 - ✗ 4. बेजान

Question ID : 9895803593
Chosen Option : --

Q.2 निम्नलिखित में से उस विकल्प का चयन करें जो ' आग में घी डालना ' मुहावरे का अर्थ व्यक्त करता है।

- Ans
- ✓ 1. क्रोध को और भड़काना
 - ✗ 2. आग में घी डालकर हवन करना
 - ✗ 3. आग जलाना
 - ✗ 4. बहुत अधिक क्रोध करना

Question ID : 9895803590
Chosen Option : --

Q.2 दिए गए वाक्य में रेखांकित खंड को प्रतिस्थापित करने के लिए उपयुक्त विकल्प का चयन करें।

बादल फटने से डेढ़ सौ व्यक्तियों का मृत्यु हो गई।

- Ans
- ✗ 1. डेढ़ सौ व्यक्तियों के मृत्यु हो गई।
 - ✗ 2. डेढ़ सौ व्यक्तियों से मृत्यु हो गई।

✘ 3. डेढ़ सौ व्यक्तियों को मृत्यु हो गई।

✔ 4. डेढ़ सौ व्यक्तियों की मृत्यु हो गई।

Question ID : 9895803575
Chosen Option : --

GovtJobsAlert.In