

Constable (GD) in CAPFs, NIA, SSF and Rifleman (GD) in Assam Rifles Examination, 2018

Roll No. :	GovtJobsAlert.In
Registration No.	GovtJobsAlert.In
Name :	GovtJobsAlert.In
Exam Venue :	iON Digital Zone iDZ4 Patliputra
Exam Time :	9:00 AM - 10:30 AM
Exam Date :	13/02/2019

Section : General Section

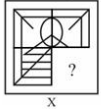
Q.1 उस विकल्प का चयन करें जो तीसरे पद से उसी प्रकार से संबंधित है जिस प्रकार दूसरा पद पहले पद से संबंधित है।

चूहा : कृतक :: मधुमक्खी : ?

- Ans
- 1. कीट
 - 2. सरीसृप
 - 3. पक्षी
 - 4. झोन

Question ID : 9895802702
Chosen Option : 4

Q.2 दिए गए चार विकल्पों में से उस आकृति को चुनें, जिसे आकृति X के रिक्त स्थान में (बिना घुमाए) रखने पर पैटर्न पूरा हो जाएगा।



- Ans
- 1.
 - 2.
 - 3.
 - 4.

Question ID : 9895802719
Chosen Option : 3

Q.3 उस विकल्प का चयन करें जो दी गई श्रृंखला में प्रश्न चिह्न (?) के स्थान पर सही रूप में आएगा।

OJY, MLW, KNU, IPS, ?

- Ans
- 1. GRP
 - 2. GPO
 - 3. GRQ
 - 4. GRR

Question ID : 9895802699
Chosen Option : 3

Q.4 सात दोस्त O, P, Q, R, S, T और U एक पंक्ति में बैठकर फिल्म देख रहे हैं। S एक छोर पर बैठा है। Q, S के दाएँ दूसरे स्थान पर बैठा है। P, O और Q के बीच में बैठा है। U किसी भी छोर पर नहीं बैठा है। R, T के बाएँ ओर बैठा है। बीच में कौन बैठा है?

- Ans
- 1. U
 - 2. Q
 - 3. P
 - 4. R

Question ID : 9895802707
Chosen Option : 3

Q.5 उस विकल्प का चयन करें जो दिए गए पैटर्न में प्रश्न चिह्न (?) के स्थान पर आएगा।

13	22	12
117	?	132
9	7	11

- Ans
- 1. 154
 - 2. 117
 - 3. 165
 - 4. 119

Question ID : 9895802716
Chosen Option : 1

Q.6 J, K L, M, N और O छह शिक्षक हैं। प्रत्येक शिक्षक हिंदी, अंग्रेजी, गणित, विज्ञान, सामाजिक विज्ञान और कला में से एक विषय पढ़ाता है, जरूरी नहीं कि इसी क्रम में पढ़ाता हो। प्रत्येक शिक्षक सोमवार से शनिवार तक केवल एक ही दिन पढ़ाता है, जरूरी नहीं कि इसी क्रम में पढ़ाता हो। J शनिवार को कला पढ़ाता है। L न तो अंग्रेजी पढ़ाता है और न ही सामाजिक विज्ञान पढ़ाता है, लेकिन वह गुरुवार को पढ़ाता है। बुधवार का दिन गणित के लिए आरक्षित है जो K पढ़ाता है। O, N से एक दिन पहले विज्ञान पढ़ाता है। सामाजिक विज्ञान कला पढ़ाए जाने वाले दिन से एक दिन पहले पढ़ाया जाता है। N कौन सा विषय पढ़ाता है?

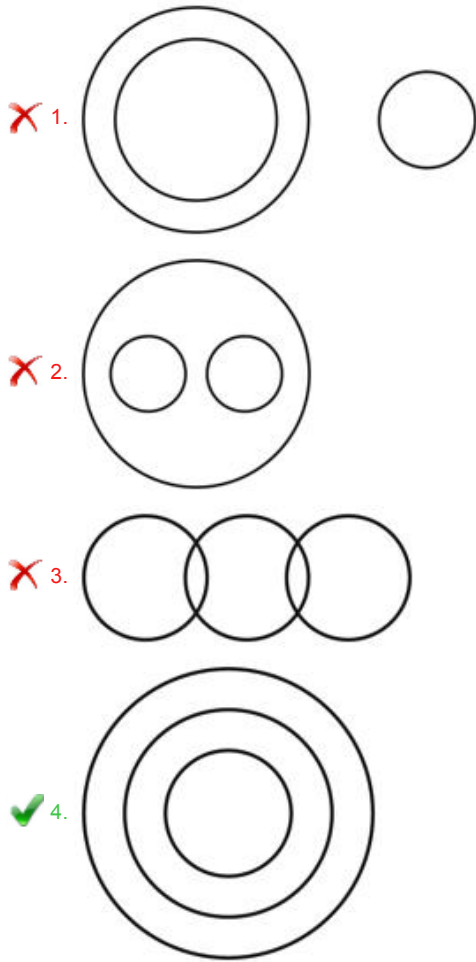
- Ans
- 1. विज्ञान
 - 2. कला
 - 3. हिंदी
 - 4. अंग्रेजी

Question ID : 9895802709
Chosen Option : 4

Q.7 निम्नलिखित में से कौन सा वेन रेखाचित्र दिए गए वर्ग के बीच के संबंध को सही दर्शाता है?

उदयपुर, राजस्थान, भारत

Ans



Question ID : 9895802723
Chosen Option : 4

Q.8 उस विकल्प का चयन करें जो तीसरे पद से उसी प्रकार से संबंधित है जिस प्रकार दूसरा पद पहले पद से संबंधित है।

BAC: GFH :: LKM : ?

- Ans
1. QOP
2. QPO
3. QPR
4. QRP

Question ID : 9895802704
Chosen Option : 3

Q.9 उस विकल्प का चयन करें जो दी गई श्रृंखला में प्रश्न चिह्न (?) के स्थान पर आएगा।

9, 10, 18, 45, ?

- Ans
1. 109
2. 111
3. 110
4. 107

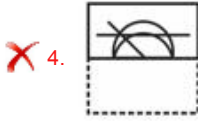
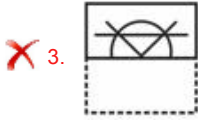
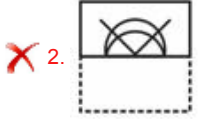
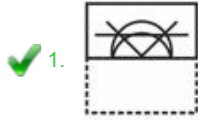
Question ID : 9895802713
Chosen Option : 1

Q.1
0

पैटर्न के साथ एक वर्गाकार पारदर्शी कागज पत्रक दिया गया है। पारदर्शी कागज पत्रक को बिंदुंकित रेखा पर मोड़े जाने पर पैटर्न कैसा दिखाई देगा?



Ans



Question ID : 9895802722

Chosen Option : 1

Q.1 उस विकल्प का चयन करें जो दर्पण के दायीं ओर रखे जाने पर दिए गए शब्द की दर्पण छवि से सर्वाधिक मेल खाता है।

CAPSIZE

Ans

✗ 1. CAPSIZE

✓ 2. CAPSIZE

✗ 3. CAPSIZE

✗ 4. CAPSIZE

Question ID : 9895802721

Chosen Option : 2

Q.1 उस विकल्प का चयन करें जो दी गई तीसरी संख्या से उसी प्रकार से संबंधित है जिस प्रकार दूसरी संख्या पहली संख्या से संबंधित है।

11: 225 : :14:?

Ans

✗ 1. 169

✗ 2. 225

✓ 3. 324

✗ 4. 144

Question ID : 9895802714

Chosen Option : 3

Q.1 उस विकल्प का चयन करें जो दी गई श्रृंखला में प्रश्न चिह्न (?) के स्थान पर आएगा।

4, 16, 28, 40, ?

Ans

✗ 1. 56

✗ 2. 51

✓ 3. 52

✗ 4. 69

Question ID : 9895802712

Chosen Option : 3

Q.1 एक निश्चित कूट भाषा में, SCIENTIST को TSITNEISC के रूप में लिखा जाता है। उसी कूट भाषा में
4 GOLDSMITH को कैसे लिखा जाएगा?

Ans ✗ 1. HTIMSDLOG

✓ 2. HTIMSDLGO

✗ 3. HTISM DLGO

✗ 4. HITMSDLOG

Question ID : 9895802705

Chosen Option : 2

Q.1 नीचे दिए गए कथनों के बाद दो निष्कर्ष I और II दिए गए हैं। यह मानते हुए कि कथनों में दी गई जानकारी सत्य
5 है, भले ही वह सर्वज्ञात तथ्यों से भिन्न प्रतीत होती हो और यह निर्णय करें कि कौन सा / से निष्कर्ष तार्किक और निश्चित रूप से कथन में दी गई जानकारी का अनुसरण करता है / करते हैं।

कथन:

1) कुछ आदमी कीड़े हैं।

2) कुछ लार्वा कीड़े हैं।

निष्कर्ष:

I. कुछ कीड़े लार्वा हैं।

II. कुछ कीड़े आदमी हैं।

Ans ✗ 1. न तो निष्कर्ष I और न ही निष्कर्ष II अनुसरण करता है।

✓ 2. दोनों निष्कर्ष अनुसरण करते हैं।

✗ 3. केवल निष्कर्ष I अनुसरण करता है।

✗ 4. केवल निष्कर्ष II अनुसरण करता है।

Question ID : 9895802711

Chosen Option : 2

Q.1 दिए गए विकल्पों में से असंगत संख्या का चयन करें।
6

Ans ✗ 1. 307

✗ 2. 415

✓ 3. 561

✗ 4. 109

Question ID : 9895802715

Chosen Option : 3

Q.1 एक निश्चित कूट भाषा में, REFUSE को 74 के रूप में लिखा जाता है। उसी कूट भाषा में KIDNAP को क्या लिखा
7 जाएगा?

Ans ✗ 1. 54

✗ 2. 57

✓ 3. 55

✗ 4. 59

Question ID : 9895802706

Chosen Option : 3

Q.1 आठ दोस्त A, B, C, D, E, F, H और G दोपहर के भोजन के लिए एक गोल मेज़ के चारों ओर एक दूसरे की तरफ मुंह करके बैठे हैं। A, F के सामने हैं और B के दाएँ तीसरे स्थान पर है। G, F और D के बीच में है। H, D के बाएँ है। E, C और A के बीच में है। C के सामने कौन बैठा है?

- Ans
- 1. D
 - 2. A
 - 3. F
 - 4. B

Question ID : 9895802708

Chosen Option : 1

Q.1 दिए गए विकल्पों में से असंगत का चयन करें।

- Ans
- 1. अदरक
 - 2. टमाटर
 - 3. लहसुन
 - 4. आलू

Question ID : 9895802701

Chosen Option : 2

Q.2 उस विकल्प का चयन करें जो तीसरे पद से उसी प्रकार से संबंधित है जिस प्रकार दूसरा पद पहले पद से संबंधित है।

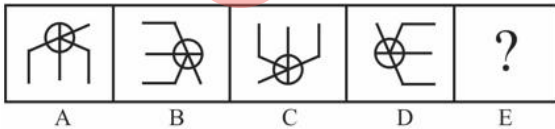
नाखुश : उदास :: बोलना : ?

- Ans
- 1. सुनना
 - 2. पूछना
 - 3. चिल्लाना
 - 4. इच्छा करना

Question ID : 9895802703

Chosen Option : 4

Q.2 विकल्पों में से उस आकृति का चयन करें जो दी गई श्रृंखला में अगले स्थान पर आएगी।



Ans

- 1.
- 2.

✗ 3.



✓ 4.



Question ID : 9895802718

Chosen Option : 4

Q.2 निम्नलिखित समीकरण को सही करने के लिए विकल्पों में दिए गए किन दो चिहनों को परस्पर बदला जाना चाहिए?

2

$$13 + 26 \times 2 - 5 \div 3 = 11$$

Ans

✗ 1. - और ÷

✗ 2. - और ×

✗ 3. + और -

✓ 4. × और ÷

Question ID : 9895802717

Chosen Option : 4

Q.2 दिए गए विकल्पों में से असंगत का चयन करें।

3

Ans

✗ 1. RGC

✗ 2. EFQ

✗ 3. MIF

✓ 4. DPR

Question ID : 9895802700

Chosen Option : --

Q.2 विकल्पों में से उस आकृति का चयन करें जिसमें 'X' से चिह्नित आकृति समाहित है। (घुमाने की अनुमति नहीं है)

4



Ans

✓ 1.



✗ 2.



✗ 3.



✗ 4.



Question ID : 9895802720

Chosen Option : 1

Q.2 नीचे दिए गए कथनों के बाद दो निष्कर्ष I और II दिए गए हैं। यह मानते हुए कि कथनों में दी गई जानकारी सत्य है, भले ही वह सर्वज्ञात तथ्यों से भिन्न प्रतीत होती हो और यह निर्णय करें कि कौन सा / से निष्कर्ष तार्किक और निश्चित रूप से कथन में दी गई जानकारी का अनुसरण करता है / करते हैं।

कथन:

- 1) सभी मुर्गियाँ शेर हैं।
- 2) सभी शेर बिल्लियाँ हैं।

निष्कर्ष

- I. सभी बिल्लियाँ मुर्गियाँ हैं।
- II. कुछ बिल्लियाँ मुर्गियाँ हैं।

Ans

1. केवल निष्कर्ष I अनुसरण करता है।
2. दोनों निष्कर्ष अनुसरण करते हैं।
3. या तो निष्कर्ष I या निष्कर्ष II अनुसरण करता है।
4. केवल निष्कर्ष II अनुसरण करता है।

Question ID : 9895802710

Chosen Option : 4

Q.2 6 'भारत के प्रथम मानवयुक्त अंतरिक्ष-यात्रा कार्यक्रम' का नाम क्या तय किया गया है?

Ans

1. आदित्य एल - 1
2. मंगलयान - II
3. चंद्रयान - II
4. गगनयान

Question ID : 9895802555

Chosen Option : 3

Q.2 7 सूफी परंपरा के संदर्भ में, 'खानकाह' शब्द का अर्थ है:

Ans

1. जन्नत
2. कब्रिस्तान
3. जहन्नुम
4. सराय/धर्मशाला

Question ID : 9895802572

Chosen Option : 1

Q.2 8 निम्नलिखित में से कौन-सा शहर हड़प्पा सभ्यता का शहर नहीं था?

Ans

1. सोतकाकोह
2. लोथल
3. मेहरगढ़
4. धौलावीरा

Question ID : 9895802573
Chosen Option : 1

Q.2 निकटदृष्टिता (मायोपिया) के संबंध में निम्नलिखित में से कौन-सा कथन सही नहीं है?

Ans 1. इसे निकट दृष्टि-दोष भी कहा जाता है।

2.

प्रभावित आँख में, दूरस्थ वस्तु का चित्र रेटिना के पीछे बनता है।

3. इससे प्रभावित व्यक्ति कुछ मीटर से दूर नहीं देख पाता।

4.

इस दोष को अवतल लेंस की मदद से ठीक किया जा सकता है।

Question ID : 9895802563
Chosen Option : 2

Q.3 निम्नलिखित में से कौन-सा संस्थान भारत में ऋण (credit) के औपचारिक स्रोतों के नियमन के लिए उत्तरदायी है?

Ans 1. नाबार्ड

2. आरबीआई

3. ट्राई

4. इरडा

Question ID : 9895802559
Chosen Option : 1

Q.3 निम्नलिखित में से कौन अपवहन-तंत्र/जल निकास के पैटर्न का निर्धारक नहीं होता है?

Ans 1. अपवहन-तंत्र का स्रोत

2. क्षेत्र की जलवायु दशाएँ

3. भूमि के नीचे मौजूद चट्टानी संरचनाएँ

4. भूमि का ढाल

Question ID : 9895802570
Chosen Option : --

Q.3 नाभिकीय संलयन के संबंध में निम्नलिखित में से कौन-सा कथन सही नहीं है?

Ans 1.

इस प्रक्रिया का उपयोग परमाणु बम बनाने में किया जाता है।

2.

यह नाभिकीय विखंडन की तुलना में बहुत अधिक ऊर्जा उत्पन्न करता है।

3. यह तारों की ऊर्जा का स्रोत होता है।

4.

इस प्रक्रिया द्वारा उत्पादित बिजली नाभिकीय विखंडन से प्राप्त बिजली की तुलना में वाणिज्यिक तौर पर कम व्यवहार्य/अर्थक्षम होती है।

Question ID : 9895802565

Chosen Option : 1

Q.3 निम्न में से किस संविधान संशोधन द्वारा शिक्षा का अधिकार प्रदान किया गया है?

- Ans
- 1. 87वां संशोधन
 - 2. 86वां संशोधन
 - 3. 88वां संशोधन
 - 4. 89वां संशोधन

Question ID : 9895802562

Chosen Option : 2

Q.3 भारत में ब्रिटिश शासन के दौरान, 'गुमाश्ता' किसे कहा जाता था?

- Ans
- 1. घुड़सवार सेना का प्रभारी नियुक्त किए गए भारतीय सैनिक को
 - 2. खुफिया विभाग के भारतीय अधिकारी को
 - 3. राजस्व विभाग में ग्रामीण-स्तर के अधिकारी को
 - 4. जुलाहों का निरीक्षण करने, सामग्री एकत्रित करने और कपड़ों की गुणवत्ता को परखने वाला भाड़े के नौकर को

Question ID : 9895802571

Chosen Option : --

Q.3 भारतीय संविधान भारत को किस रूप में घोषित करता है?

- Ans
- 1. राज्यों का संघटन
 - 2. राज्यों का यूनियन
 - 3. राज्यों का परिसंघ
 - 4. राज्यों का संघ

Question ID : 9895802560

Chosen Option : 4

Q.3 2018 के नोबेल शांति पुरस्कार से किसे सम्मानित किया गया?

- Ans
- 1. जेम्स पी. एलीसन
 - 2. डोना स्ट्रिकलैंड
 - 3. नादिया मुराद
 - 4. काजुओ इशिगुरो

Question ID : 9895802556

Chosen Option : 3

Q.3 निम्नलिखित में से कौन-सी नदी प्रसिद्ध धुँआधार जलप्रपात बनाती है?

- Ans
- 1. नर्मदा

2. काली सिंध
3. तापी
4. चंबल

Question ID : 9895802569
Chosen Option : 1

Q.3 निम्न में से किस शासक ने 'अढ़ाई-दिन-का-झोंपड़ा' नामक मस्जिद का निर्माण कराया था?

- Ans 1. इल्तुतमिश
2. अब्राहम लोदी
3. बलबन
4. कुतुब-उद-दीन-ऐबक

Question ID : 9895802550
Chosen Option : 4

Q.3 वर्ष 2018 की समाप्ति पर कौन-सा भारतीय खिलाड़ी एमआरएफ टायर्स आइसीसी टेस्ट खिलाड़ी रैंकिंग में शीर्ष स्थान पर रहा?

- Ans 1. रवींद्र जडेजा
2. विराट कोहली
3. अजिंक्य रहाणे
4. चेतेश्वर पुजारा

Question ID : 9895802553
Chosen Option : 2

Q.4 भीमबैठकानामक विश्व-धरोहर किसलिए प्रसिद्ध है?

- Ans 1. एक चट्टान से बने मंदिरों के लिए
2. बौद्ध स्तूपों के लिए
3. प्रागैतिहासिक शिलालेखों के लिए
4. अशोक स्तंभ के लिए

Question ID : 9895802549
Chosen Option : 3

Q.4 Which of the following money transfer systems allows 24×7×365 transfer of money?

- Ans 1. RTGS
2. Cheque
3. IMPS
4. NEFT

Question ID : 9895802558
Chosen Option : 3

Q.4

2 निम्नलिखित में से कौन-सा नीला लिटमस लाल है?

- Ans
- 1. दूध
 - 2. सिरका
 - 3. बेकिंग सोडा
 - 4. नींबू पानी

Question ID : 9895802566
Chosen Option : 2

Q.4
3 ओडिसा में 'बृंगा' क्या होता है?

- Ans
- 1.
 - 2. 'झूम' कृषि' का स्थानीय नाम
 - 3. हीरे की खदानों के लिए प्रसिद्ध गाँव
 - 4. जनजातियों द्वारा उपयोग किया जाने वाला खाद्य तेल

Question ID : 9895802568
Chosen Option : 1

Q.4
4 निम्न में से कौन-सा त्यौहार विष्णु के 'वामन' अवतार से संबंधित है?

- Ans
- 1. बिहू
 - 2. ओणम
 - 3. जन्माष्टमी
 - 4. कुंभ

Question ID : 9895802551
Chosen Option : 4

Q.4
5 भारत का आर्थिक सर्वेक्षण किसके द्वारा प्रकाशित कराया जाता है?

- Ans
- 1. लोक व्यय विभाग द्वारा
 - 2. वित्तीय सेवाएं विभाग द्वारा
 - 3. राजस्व विभाग द्वारा
 - 4. आर्थिक मामले विभाग द्वारा

Question ID : 9895802557
Chosen Option : 2

Q.4
6 निम्न में से किस संगठन को 2017-18 की मौलाना अबुल कलाम आज़ाद (MAKA) ट्रॉफी मिली?

- Ans
- 1. गुरु नानक देव विश्वविद्यालय
 - 2. जे.एस.डब्ल्यू. स्पोर्ट्स

✘ 3. राष्ट्रीय इस्पात निगम लिमिटेड

✘ 4. ईशा आउटरीच

Question ID : 9895802552
Chosen Option : 1

Q.4
7 यथा फरवरी 2019 को नीति आयोग का वर्तमान उपाध्यक्ष कौन है?

- Ans
- ✘ 1. शक्तिकांत दास
 - ✘ 2. उर्जित पटेल
 - ✘ 3. शक्ति सिन्हा
 - ✔ 4. राजीव कुमार

Question ID : 9895802554
Chosen Option : 4

Q.4
8 निम्नलिखित में से कौन-सा पारिस्थितिक तंत्र कृत्रिम नहीं है?

- Ans
- ✘ 1. उद्यान
 - ✔ 2. जंगल
 - ✘ 3. धान का खेत
 - ✘ 4. बांध का जलाशय

Question ID : 9895802564
Chosen Option : 2

Q.4
9 निम्न में से किस विकल्प को भारत में लोकतंत्र का तीसरा स्तर कहा जाता है?

- Ans
- ✘ 1. राज्य सरकार
 - ✘ 2. सर्वोच्च न्यायालय
 - ✘ 3. केंद्र शासित प्रदेशों की सरकार
 - ✔ 4. स्थानीय स्वशासन

Question ID : 9895802561
Chosen Option : 1

Q.5
0 निम्नलिखित में से कौन-सी जोड़ी सही नहीं है?

- Ans
- ✘ 1. नाइट्रिक अम्ल - HNO_3
 - ✘ 2. सल्फ्यूरिक अम्ल - H_2SO_4
 - ✘ 3. अमोनियम हाइड्रॉक्साइड - NH_4OH
 - ✔ 4. मैग्नीशियम हाइड्रॉक्साइड - MgOH_2

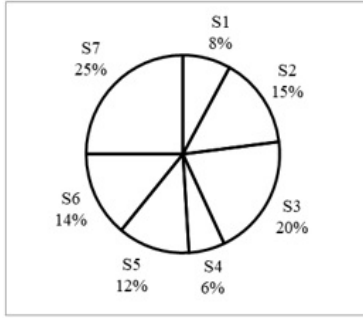
Question ID : 9895802567
Chosen Option : 1

Q.5
1 ₹ 10500 की एक राशि चक्रवृद्धि ब्याज दर से 2 वर्षों में ₹ 17745 हो जाती है। यदि ब्याज का संयोजन वार्षिक किया गया है, तो ब्याज दर क्या होगी?

- Ans
- 1. 25%
 - 2. 40%
 - 3. 30%
 - 4. 20%

Question ID : 9895804348
Chosen Option : 3

Q.5 नीचे दिया गया पाई चार्ट एक देश के 7 राज्यों द्वारा प्राप्त वार्षिक बर्फबारी को दर्शाता है। बर्फबारी को देश की कुल वार्षिक बर्फबारी के प्रतिशत के रूप में दर्शाया गया है।



यदि देश द्वारा प्राप्त वार्षिक बर्फबारी 700 से.मी. है, तो S3 तथा S2 की वार्षिक बर्फबारी में क्या अंतर है?

- Ans
- 1. निर्धारित नहीं किया जा सकता है
 - 2. 35 से.मी.
 - 3. 7 से.मी.
 - 4. 42 से.मी.

Question ID : 9895804356
Chosen Option : 2

Q.5 P, Q तथा R क्रमशः 7 : 4 : 9 के अनुपात में राशि निवेश करते हैं। यदि वर्ष के अंत में वे कुल ₹6680 का लाभ कमाते हैं, तो P तथा Q का मिलाकर कुल हिस्सा क्या है?

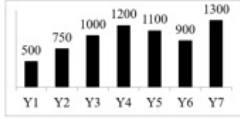
- Ans
- 1. ₹ 3674
 - 2. ₹ 4254
 - 3. ₹ 4868
 - 4. ₹ 4124

Question ID : 9895804346
Chosen Option : 1

Q.5
4

नीचे दिए गए बार चार्ट में 7 क्रमागत वर्षों Y1, Y2, Y3, Y4, Y5, Y6 तथा Y7

के लिए एक देश के कुल निर्यात (1000 करोड़ ₹) को दर्शाया गया है।



सबसे कम निर्यात वाले वर्ष तथा दूसरे उच्चतम निर्यात वाले वर्ष के निर्यात का

अनुपात क्या है?

- Ans
- 1. 5 : 11
 - 2. 9 : 13
 - 3. 5 : 12
 - 4. 9 : 12

Question ID : 9895804358

Chosen Option : 3

Q.5 The volume of a right circular cone is equal to the volume of that right circular cylinder whose height is 27 cm and diameter of its base is 30 cm. If the height of the cone is 25 cm, then what will be the diameter of its base?

- Ans
- 1. 24 cm
 - 2. 27 cm
 - 3. 54 cm
 - 4. 35 cm

Question ID : 9895804353

Chosen Option : 3

Q.5 What is the value of $\left(11 \div 4 - \frac{2}{3} \text{ of } \frac{9}{8} + 11\right)$?

- Ans
- 1. 15
 - 2. 13
 - 3. 17
 - 4. 11

Question ID : 9895804336

Chosen Option : 2

Q.5 Height of a right circular cone is 8 cm. If diameter of its base is 12 cm, then what will be the curved surface area of the cone?

- Ans
- 1. $2112/7 \text{ cm}^2$
 - 2. $1320/7 \text{ cm}^2$
 - 3. $1056/7 \text{ cm}^2$
 - 4. $1440/7 \text{ cm}^2$

Question ID : 9895804354

Chosen Option : 2

Q.5 ₹ 8250 की एक राशि 5 वर्षों में ₹ 2475 का साधारण ब्याज देती है। वार्षिक ब्याज दर क्या होगी?

- Ans
- 1. 8%

2. 10%

3. 7.5%

4. 6%

Question ID : 9895804347

Chosen Option : 4

Q.5 पहली वस्तु का विक्रय मूल्य ₹ 960 है तथा दूसरी वस्तु का क्रय मूल्य ₹ 960 है। यदि पहली वस्तु पर 20% लाभ होता है तथा दूसरी वस्तु पर 20% हानि होती है, तो कुल हानि क्या होगी?

Ans 1. ₹ 20

2. ₹ 36

3. ₹ 24

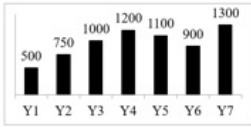
4. ₹ 32

Question ID : 9895804342

Chosen Option : 4

Q.6 नीचे दिए गए बार चार्ट में 7 क्रमागत वर्षों Y1, Y2, Y3, Y4, Y5, Y6 तथा Y7

के लिए एक देश के कुल निर्यात (1000 करोड़ ₹) को दर्शाया गया है।



वर्ष Y1 से Y7 तक औसत निर्यात क्या है?

Ans 1. 886.19

2. 931.45

3. 847.87

4. 964.28

Question ID : 9895804357

Chosen Option : 4

Q.6 दो संख्याओं का लघुत्तम समापवर्त्य तथा महत्तम समापवर्तक क्रमशः 30 तथा 5 है। यदि उनका योग 25 है, तो इन दो संख्याओं का अंतर क्या होगा?

Ans 1. 25

2. 15

3. 10

4. 5

Question ID : 9895804334

Chosen Option : 4

Q.6 40 मेकैनिक एक बाइक की मरम्मत 56 दिन में कर सकते हैं। 32 मेकैनिक उसी काम को कितने दिन में करेंगे?

Ans 1. 56 दिन

2. 80 दिन

3. 60 दिन

4. 70 दिन

Question ID : 9895804350
Chosen Option : 4

Q.6 यदि X , Y से 80% अधिक है, तो Y , X से कितना प्रतिशत कम है?

- Ans
- 1. 61.33%
 - 2. 44.44%
 - 3. 80%
 - 4. 33.33%

Question ID : 9895804341
Chosen Option : 2

Q.6 एक मोटरसाइकिल 25 कि.मी./घंटा की गति से चल रही है तथा उसकी गति प्रत्येक घंटे के अंत में 7 कि.मी./घंटा से बढ़ जाती है। 225 कि.मी. की दूरी को तय करने में वह कितना समय लेगी?

- Ans
- 1. 13/2 घंटे
 - 2. 11/2 घंटे
 - 3. 7 घंटे
 - 4. 6 घंटे

Question ID : 9895804352
Chosen Option : 4

Q.6 30 कर्मचारियों और 5 प्रबंधकों का औसत मासिक वेतन ₹ 80000 है। ₹ 180000 वेतन वाले एक प्रबंधक को एक नए प्रबंधक द्वारा बदल दिया जाता है। यदि अब औसत मासिक वेतन ₹ 78500 हो जाता है, तो नए प्रबंधक का मासिक वेतन क्या है?

- Ans
- 1. ₹ 127500
 - 2. ₹ 154500
 - 3. ₹ 142500
 - 4. ₹ 132000

Question ID : 9895804337
Chosen Option : 1

Q.6 K , L तथा M क्रमशः

6 $15 : 20 : 27$ के अनुपात में राशि निवेश करते हैं। यदि वर्ष के अंत में वे कुल ₹ 10230 का लाभ कमाते हैं, तो K तथा L के हिस्सों के मध्य अंतर क्या है?

- Ans
- 1. ₹ 1155
 - 2. ₹ 1275
 - 3. ₹ 1980
 - 4. ₹ 825

Question ID : 9895804344
Chosen Option : 4

Q.6 दो त्रिभुजों के क्षेत्रफलों का अनुपात $1 : 2$ है तथा उनके आधारों का अनुपात $3 : 4$ है। उनकी ऊँचाइयों का अनुपात क्या है?

- Ans
- 1. $2 : 3$
 - 2. $1 : 3$
 - 3. $4 : 3$

✗ 4. 2 : 1

Question ID : 9895804355

Chosen Option : 1

Q.6 एक थैले में ₹ 1, ₹ 2 तथा ₹ 5 के सिक्के के रूप में ₹ 840 हैं। ₹ 1, ₹ 2 तथा ₹ 5 के सिक्के 8 : 1 : 5 के अनुपात में हैं। थैले में ₹ 5 के कितने सिक्के हैं?

- Ans
- ✗ 1. 24
 - ✓ 2. 120
 - ✗ 3. 600
 - ✗ 4. 60

Question ID : 9895804345

Chosen Option : 2

Q.6 एक दुकानदार एक कूलर को 15% की छूट पर बेचता है। यदि वह 19% की छूट देता है, तो वह ₹ 332 कम कमाता है। कूलर का अंकित मूल्य क्या होगा?

- Ans
- ✗ 1. ₹ 8200
 - ✗ 2. ₹ 8700
 - ✓ 3. ₹ 8300
 - ✗ 4. ₹ 8100

Question ID : 9895804339

Chosen Option : 3

Q.7 23, 27, 29, 36, 47 तथा x का औसत 35 है। x का मान क्या है?

- Ans
- ✓ 1. 48
 - ✗ 2. 45
 - ✗ 3. 52
 - ✗ 4. 39

Question ID : 9895804338

Chosen Option : 1

Q.7 $\left(2000 \div \frac{1}{2} \text{ का } \frac{25}{2} \times \frac{5}{2} \text{ का } \frac{4}{25} - 5\right)$ का मान क्या है?

- Ans
- ✓ 1. 123
 - ✗ 2. 122
 - ✗ 3. 126
 - ✗ 4. 121

Question ID : 9895804335

Chosen Option : 1

Q.7 नीरज 10 कि.मी. तथा 20 कि.मी. की दो दूरियों को क्रमशः 1 घंटे तथा 5 घंटे में तय करता है। संपूर्ण यात्रा के लिए नीरज की औसत गति क्या होगी?

- Ans
- ✗ 1. 6 कि.मी./घंटा
 - ✓ 2. 5 कि.मी./घंटा
 - ✗ 3. 4 कि.मी./घंटा

✗ 4. 7 कि.मी./घंटा

Question ID : 9895804351
Chosen Option : 2

Q.7 नल K एक टैंक को 8 घंटे में भर सकता है तथा नल L समान टैंक को 20 घंटे में भर सकता है। नल K तथा L दोनों मिलकर समान टैंक को कितने घंटे में भर सकते हैं?

- Ans
- ✗ 1. 20/3 घंटे
 - ✗ 2. 18/5 घंटे
 - ✗ 3. 60/11 घंटे
 - ✓ 4. 40/7 घंटे

Question ID : 9895804349
Chosen Option : 4

Q.7 दिए गए आंकड़ों का बहुलक क्या है?

21, 22, 23, 23, 24, 21, 22, 23, 21, 23, 24, 23, 21, 23

- Ans
- ✗ 1. 21
 - ✓ 2. 23
 - ✗ 3. 22
 - ✗ 4. 24

Question ID : 9895804340
Chosen Option : 1

Q.7 100 वस्तुओं में से 25 वस्तुएं 25% लाभ पर बेची गईं तथा शेष वस्तुएं 25% हानि पर बेची गईं। कुल हानि प्रतिशत क्या होगा?

- Ans
- ✓ 1. 12.5
 - ✗ 2. 20
 - ✗ 3. 15
 - ✗ 4. 10

Question ID : 9895804343
Chosen Option : 1

Section : English Language

Q.1 Select the most appropriate option to substitute the underlined segment in the given sentence. If there is no need to substitute it, select No improvement.

The sound of the sea waves became gradually weaker over the time.

- Ans
- ✗ 1. sounds of the sea wave
 - ✓ 2. sound with the sea waves
 - ✗ 3. sound from sea waves
 - ✗ 4. No improvement

Question ID : 9895804252
Chosen Option : --

Q.2 Select the correctly spelt word.

Ans

1. Kindergardan
2. Kindargarten
3. Kindergarten
4. Kindergarden

Question ID : 9895804239
Chosen Option : --

Q.3 Select the most appropriate word to fill in the blank.

His success in the competitive examination gave him a major _____ in his career.

- Ans 1. break up
2. breakdown
3. break out
4. breakthrough

Question ID : 9895804243
Chosen Option : --

Q.4 Select the word which means the same as the group of words given.

That which cannot be wrong

- Ans 1. Inaccurate
2. Inevitable
3. Irrefutable
4. Infallible

Question ID : 9895804241
Chosen Option : --

Q.5 Identify the segment in the sentence which contains the grammatical error from the given options.

As far the eye could reach, nothing could be seen except the ruined columns of an old building.

- Ans 1. could reach
2. except the
3. nothing could be
4. As far the eye

Question ID : 9895804246
Chosen Option : --

Comprehension:

In the following passage some words have been deleted. Fill in the blanks with the help of the alternatives given. Select the most appropriate option for each number.

The trees had lost most of their leaves and their (1) _____ figures were clear against the grey sky. Bella looked up at them and could see birds (2) _____ with difficulty, (3) _____ to keep themselves in place while the wind tried to blow them (4) _____. She was walking against the wind and trying hard to push herself ahead. She resisted and strode (5) _____

SubQuestion No : 6

Q.6 Fill in blank (1) with the most appropriate option.

- Ans
- 1. bared
 - 2. parched
 - 3. dreary
 - 4. dried

Question ID : 9895804254
Chosen Option : --

Comprehension:

In the following passage some words have been deleted. Fill in the blanks with the help of the alternatives given. Select the most appropriate option for each number.

The trees had lost most of their leaves and their (1) _____ figures were clear against the grey sky. Bella looked up at them and could see birds (2) _____ with difficulty, (3) _____ to keep themselves in place while the wind tried to blow them (4) _____. She was walking against the wind and trying hard to push herself ahead. She resisted and strode (5) _____

SubQuestion No : 7

Q.7 Fill in blank (2) with the most appropriate option.

- Ans
- 1. punching
 - 2. parching
 - 3. perching
 - 4. pouncing

Question ID : 9895804255
Chosen Option : --

Comprehension:

In the following passage some words have been deleted. Fill in the blanks with the help of the alternatives given. Select the most appropriate option for each number.

The trees had lost most of their leaves and their (1) _____ figures were clear against the grey sky. Bella looked up at them and could see birds (2) _____ with difficulty, (3) _____ to keep themselves in place while the wind tried to blow them (4) _____. She was walking against the wind and trying hard to push herself ahead. She resisted and strode (5) _____

SubQuestion No : 8

Q.8 Fill in blank (3) with the most appropriate option.

- Ans
- 1. struggling
 - 2. sliding
 - 3. surviving
 - 4. sleeping

Question ID : 9895804256

Chosen Option : --

Comprehension:

In the following passage some words have been deleted. Fill in the blanks with the help of the alternatives given. Select the most appropriate option for each number.

The trees had lost most of their leaves and their (1) _____ figures were clear against the grey sky. Bella looked up at them and could see birds (2) _____ with difficulty, (3) _____ to keep themselves in place while the wind tried to blow them (4) _____. She was walking against the wind and trying hard to push herself ahead. She resisted and strode (5) _____

SubQuestion No : 9

Q.9 Fill in blank (4) with the most appropriate option.

- Ans
- 1. away
 - 2. out
 - 3. aside
 - 4. up

Question ID : 9895804257

Chosen Option : --

Comprehension:

In the following passage some words have been deleted. Fill in the blanks with the help of the alternatives given. Select the most appropriate option for each number.

The trees had lost most of their leaves and their (1) _____ figures were clear against the grey sky. Bella looked up at them and could see birds (2) _____ with difficulty, (3) _____ to keep themselves in place while the wind tried to blow them (4) _____. She was walking against the wind and trying hard to push herself ahead. She resisted and strode (5) _____

SubQuestion No : 10

Q.1
0 Fill in blank (5) with the most appropriate option.

- Ans
- 1. in
 - 2. on
 - 3. by
 - 4. up

Question ID : 9895804258

Chosen Option : --

Q.1
1 Select the most appropriate antonym of the given word.

BENEVOLENT

- Ans
- 1. Merciless
 - 2. Injurious
 - 3. Dull
 - 4. Friendly

Question ID : 9895804235

Chosen Option : --

Q.1
2 Select the most appropriate synonym of the given word.

MORALE

- Ans
- 1. Appearance
 - 2. Self-confidence
 - 3. Reputation
 - 4. Attitude

Question ID : 9895804234

Chosen Option : --

Q.1
3 Select the word which means the same as the group of words given.

An act that makes you feel morally bad or ashamed.

- Ans
- 1. Disgraceful
 - 2. Displeased
 - 3. Irrational

4. Ignorant

Question ID : 9895804242
Chosen Option : --

Q.1
4 Select the most appropriate ANTONYM of the given word.

ATTRACTED

- Ans 1. Transformed
 2. Repelled
 3. Disturbed
 4. Enchanted

Question ID : 9895804236
Chosen Option : --

Q.1
5 Select the most appropriate word to fill in the blank.

My sister _____ a cat and brought it home.

- Ans 1. adapted
 2. assumed
 3. approved
 4. adopted

Question ID : 9895804244
Chosen Option : --

Q.1
6 Identify the segment in the sentence which contains the grammatical error from the given options.

I'm sorry, but I don't agree with which you just said.

- Ans 1. don't agree
 2. I'm sorry
 3. with which
 4. just said

Question ID : 9895804247
Chosen Option : --

Q.1
7 Fill in the blank with the most appropriate option.

_____ in the first attempt, he did not try again.

- Ans 1. Having fail
 2. Being failed
 3. Having failed
 4. Being failing

Question ID : 9895804249
Chosen Option : --

Q.1

8 Identify the segment in the sentence which contains the grammatical error from the given options.

She always gets the better in quarrels whether it is with girls or boys.

- Ans
- 1. gets the
 - 2. better in
 - 3. it is with
 - 4. She always

Question ID : 9895804245

Chosen Option : --

Q.1
9 Select the correctly spelt word.

- Ans
- 1. Thoroughfair
 - 2. Thorowfare
 - 3. Throughfare
 - 4. Thoroughfare

Question ID : 9895804240

Chosen Option : --

Q.2
0 Fill in the blanks with the most appropriate words.

Once the mother duck jumped _____ the pond, the ducklings followed suit.

- Ans
- 1. into
 - 2. in
 - 3. under
 - 4. over

Question ID : 9895804248

Chosen Option : --

Q.2
1 Select the most appropriate option to substitute the underlined segment in the given sentence. If there is no need to substitute it, select No improvement.

Sivagami longed to touch the chisel but her grandfather chase her away.

- Ans
- 1. chased it away
 - 2. chased her away
 - 3. had chased them away
 - 4. No improvement

Question ID : 9895804251

Chosen Option : --

Q.2
2 Select the most appropriate meaning of the underlined idiom in the given sentence.

My views are totally in harmony with my brother's views.

- Ans
- 1. in agreement with
 - 2. in favor of
 - 3. according to
 - 4. different from

Question ID : 9895804238

Chosen Option : --

Q.2 Select the most appropriate option to substitute the underlined segment in the given sentence. If there is no need to substitute it, select No improvement.

3

The ticking of the clock was the only sound to hear.

Ans

1. to be heard
 2. to hear with
 3. in hearing
 4. No improvement

Question ID : 9895804250

Chosen Option : --

Q.2 Select the most appropriate meaning of the given idiom.

4

Bone of contention

Ans

1. A matter of contentment
 2. A highly irritable person
 3. A cause of failure
 4. A subject of dispute

Question ID : 9895804237

Chosen Option : --

Q.2 Select the most appropriate synonym of the given word.

5

THRIVE

Ans

1. Progress
 2. Promote
 3. Prosper
 4. Foster

Question ID : 9895804233

Chosen Option : --

Section : Hindi Language

Comprehension:

दिए गए अनुच्छेद में कुछ शब्द हटा दिए गए हैं। दिए गए विकल्पों की सहायता से रिक्त स्थान भरें। प्रत्येक संख्या के लिए उपयुक्त विकल्प का चयन करें।

सत्य भाषण से मनुष्य की आत्मा _____ (1) होती है। उसके मन को सुख और _____ (2) प्राप्त होती है। सत्यवादी को कभी यह भय नहीं रहता कि यदि उसकी _____ (3) खुल गई तो क्या होगा ? उसे मानसिक शांति रहती है। इसके विपरीत झूठ बोलने वाले व्यक्ति की समाज में _____ (4) होती रहती है। असत्यवादी व्यक्ति अपने स्वभाव के कारण कभी _____ (5) नहीं बोल पाता।

SubQuestion No : 1

Q.1 गद्यांश में संकेतित रिक्त स्थान (1) के लिए उपयुक्त शब्द होगा -

- Ans
- 1. दुर्बल
 - 2. बलवान
 - 3. निन्दा
 - 4. समाज

Question ID : 9895803657
Chosen Option : 2

Comprehension:

दिए गए अनुच्छेद में कुछ शब्द हटा दिए गए हैं। दिए गए विकल्पों की सहायता से रिक्त स्थान भरें। प्रत्येक संख्या के लिए उपयुक्त विकल्प का चयन करें।

सत्य भाषण से मनुष्य की आत्मा _____ (1) होती है। उसके मन को सुख और _____ (2) प्राप्त होती है। सत्यवादी को कभी यह भय नहीं रहता कि यदि उसकी _____ (3) खुल गई तो क्या होगा ? उसे मानसिक शांति रहती है। इसके विपरीत झूठ बोलने वाले व्यक्ति की समाज में _____ (4) होती रहती है। असत्यवादी व्यक्ति अपने स्वभाव के कारण कभी _____ (5) नहीं बोल पाता।

SubQuestion No : 2

Q.2 गद्यांश में संकेतित रिक्त स्थान (2) के लिए उपयुक्त शब्द होगा -

- Ans
- 1. बड़ाई
 - 2. कमी
 - 3. अशांति
 - 4. शांति

Question ID : 9895803658
Chosen Option : 4

Comprehension:

दिए गए अनुच्छेद में कुछ शब्द हटा दिए गए हैं। दिए गए विकल्पों की सहायता से रिक्त स्थान भरें। प्रत्येक संख्या के लिए उपयुक्त विकल्प का चयन करें।

सत्य भाषण से मनुष्य की आत्मा _____ (1) होती है। उसके मन को सुख और _____ (2) प्राप्त होती है। सत्यवादी को कभी यह भय नहीं रहता कि यदि उसकी _____ (3) खुल गई तो क्या होगा ? उसे मानसिक शांति रहती है। इसके विपरीत झूठ बोलने वाले व्यक्ति की समाज में _____ (4) होती रहती है। असत्यवादी व्यक्ति अपने स्वभाव के कारण कभी _____ (5) नहीं बोल पाता।

SubQuestion No : 3

Q.3

गद्यांश में संकेतित रिक्त स्थान (3) के लिए उपयुक्त शब्द होगा -

- Ans
- 1. लकड़ी
 - 2. बरतन
 - 3. गठरी
 - 4. पोल

Question ID : 9895803659
Chosen Option : 4

Comprehension:

दिए गए अनुच्छेद में कुछ शब्द हटा दिए गए हैं। दिए गए विकल्पों की सहायता से रिक्त स्थान भरें। प्रत्येक संख्या के लिए उपयुक्त विकल्प का चयन करें।

सत्य भाषण से मनुष्य की आत्मा _____ (1) होती है। उसके मन को सुख और _____ (2) प्राप्त होती है। सत्यवादी को कभी यह भय नहीं रहता कि यदि उसकी _____ (3) खुल गई तो क्या होगा ? उसे मानसिक शांति रहती है। इसके विपरीत झूठ बोलने वाले व्यक्ति की समाज में _____ (4) होती रहती है। असत्यवादी व्यक्ति अपने स्वभाव के कारण कभी _____ (5) नहीं बोल पाता।

SubQuestion No : 4

Q.4 गद्यांश में संकेतित रिक्त स्थान (4) के लिए उपयुक्त शब्द होगा -

- Ans
- 1. निन्दा
 - 2. मजाक
 - 3. प्रशंसा
 - 4. पूजा

Question ID : 9895803660
Chosen Option : 1

Comprehension:

दिए गए अनुच्छेद में कुछ शब्द हटा दिए गए हैं। दिए गए विकल्पों की सहायता से रिक्त स्थान भरें। प्रत्येक संख्या के लिए उपयुक्त विकल्प का चयन करें।

सत्य भाषण से मनुष्य की आत्मा _____ (1) होती है। उसके मन को सुख और _____ (2) प्राप्त होती है। सत्यवादी को कभी यह भय नहीं रहता कि यदि उसकी _____ (3) खुल गई तो क्या होगा ? उसे मानसिक शांति रहती है। इसके विपरीत झूठ बोलने वाले व्यक्ति की समाज में _____ (4) होती रहती है। असत्यवादी व्यक्ति अपने स्वभाव के कारण कभी _____ (5) नहीं बोल पाता।

SubQuestion No : 5

Q.5 गद्यांश में संकेतित रिक्त स्थान (5) के लिए उपयुक्त शब्द होगा -

- Ans 1. सत्य
 2. नीचा
 3. बढ़िया
 4. घटिया

Question ID : 9895803661
 Chosen Option : 1

Q.6 दिए गए वाक्य में रेखांकित खंड को प्रतिस्थापित करने के लिए उपयुक्त विकल्प का चयन करें।
 मेरी पेंटिंग दस हजारों में बिक गई।

- Ans 1. दस हजार में बिक गए।
 2. दसों हजारों में बिक गई।
 3. दसों हजार में बिक गई।
 4. दस हजार में बिक गई।

Question ID : 9895803650
 Chosen Option : 4

Q.7 दिये गये वाक्यांश के लिए एक शब्द चुनिए।

जिसका कोई नाथ न हो

- Ans 1. हजारीनाथ
 2. कुनाथ
 3. सनाथ
 4. अनाथ

Question ID : 9895803669
 Chosen Option : 4

Q.8 रिक्त स्थान को भरने के लिए उपयुक्त शब्द का चयन करें।

_____ ने अपना घोंसला बनाया।

- Ans 1. शेर
 2. कबूतर
 3. हाथी
 4. चीता

Question ID : 9895803654
 Chosen Option : 2

Q.9 निम्नलिखित में से उस विकल्प का चयन करें जो 'कुएँ का मेंढक' मुहावरे का अर्थ व्यक्त करता है।

- Ans 1. ज्ञानी

- ✓ 2. सीमित ज्ञान वाला
- ✗ 3. मूर्ख
- ✗ 4. कुँ के अंदर रहने वाला मेंढक

Question ID : 9895803666
Chosen Option : 2

Q.1 दिए गए वाक्य में रेखांकित खंड को प्रतिस्थापित करने के लिए उपयुक्त विकल्प का चयन करें।

चाँदी की हथकड़ी काला पड़ जाती है।

- Ans
- ✗ 1. हथकड़ी कालियाँ पड़ जाती है।
- ✗ 2. हथकड़ी काली पड़ जाता है।
- ✓ 3. हथकड़ी काली पड़ जाती है।
- ✗ 4. हथकड़ी काला पड़ जाता है।

Question ID : 9895803649
Chosen Option : 3

Q.1 रिक्त स्थान को भरने के लिए उपयुक्त शब्द का चयन करें।

ज्वर के कारण मुझे चलने पर _____ हो रही है।

- Ans
- ✗ 1. दुखी
- ✗ 2. खुशी
- ✗ 3. हँसी
- ✓ 4. थकावट

Question ID : 9895803652
Chosen Option : 4

Q.1 सही वर्तनी वाले शब्द का चयन करें।

- Ans
- ✓ 1. संस्कार
- ✗ 2. संशकार
- ✗ 3. संष्कार
- ✗ 4. संसकार

Question ID : 9895803670
Chosen Option : 1

Q.1 दिये गये वाक्यांश के लिए एक शब्द चुनिए।

जिसे जाना न जा सके

- Ans
- ✗ 1. ज्ञानशील
- ✗ 2. जानोदय
- ✓ 3. अज्ञेय

✗ 4. जिज्ञासु

Question ID : 9895803668
Chosen Option : 2

Q.1 4 दिए गए वाक्य का वह भाग ज्ञात करें जिसमें कोई त्रुटि है।

लिखित और मौखिक भाषा में सबसे बड़ा अंतर यह है कि लिखित भाषा अनुशासन की माँग करता है।

Ans

- ✗ 1. सबसे बड़ा अंतर
✗ 2. लिखित और मौखिक भाषा में
✗ 3. यह है कि
✓ 4. लिखित भाषा अनुशासन की माँग करता है।

Question ID : 9895803648
Chosen Option : 4

Q.1 5 दिए गए शब्द का विलोम चुनें।

परोक्ष

Ans

- ✗ 1. पाक्षिक
✗ 2. जिज्ञासु
✗ 3. नवागत
✓ 4. प्रत्यक्ष

Question ID : 9895803662
Chosen Option : 3

Q.1 6 दिए गए वाक्य का वह भाग ज्ञात करें जिसमें कोई त्रुटि है।

वास्तव में ईश्वर ने सभी को स्वतन्त्रा उत्पन्न किया है।

Ans

- ✓ 1. स्वतन्त्रा उत्पन्न किया है।
✗ 2. सभी को
✗ 3. वास्तव में
✗ 4. ईश्वर ने

Question ID : 9895803646
Chosen Option : 1

Q.1 7 रिक्त स्थान को भरने के लिए उपयुक्त शब्द का चयन करें।

_____ चैन से रहना चाहता हूँ।

Ans

- ✓ 1. मैं
✗ 2. वह
✗ 3. तुम
✗ 4. आप

Question ID : 9895803653

Chosen Option : 1

Q.1
8 दिए गए शब्द का विलोम चुनें।

उदय

- Ans
- 1. उत्तर
 - 2. वाचाल
 - 3. निरस्त
 - 4. अस्त

Question ID : 9895803663

Chosen Option : 4

Q.1
9 दिए गए वाक्य में रेखांकित खंड को प्रतिस्थापित करने के लिए

उपयुक्त विकल्प का चयन करें।

कई लोग उसके पीट रहे थे, वह अपना बचाव नहीं कर पा रहा था।

- Ans
- 1. उसे पीट रहे थे,
 - 2. उससे पीट रहे थे,
 - 3. उसपर पीट रहे थे,
 - 4. उसे पीट रहा था,

Question ID : 9895803651

Chosen Option : 1

Q.2
0 सही वर्तनी वाले शब्द का चयन करें।

- Ans
- 1. हिंदुत्व
 - 2. हीन्दूत्व
 - 3. हिनदुत्व
 - 4. हिंदूत्व

Question ID : 9895803671

Chosen Option : 1

Q.2
1 रिक्त स्थान को भरने के लिए उपयुक्त शब्द का चयन करें।

दादा जी को बागवानी में _____ है।

- Ans
- 1. नियम
 - 2. प्रश्न
 - 3. शोक
 - 4. रुचि

Question ID : 9895803655

Chosen Option : 4

Q.2
2 दिए गए शब्द के पर्यायवाची शब्द का चयन करें।

बादल

- Ans
- 1. घर
 - 2. घन
 - 3. घट
 - 4. आकाश

Question ID : 9895803665
Chosen Option : 2

Q.2
3 दिए गए शब्द के पर्यायवाची शब्द का चयन करें।

समुद्र

- Ans
- 1. परिमाण
 - 2. मेघ
 - 3. नीरधि
 - 4. परिधि

Question ID : 9895803664
Chosen Option : 4

Q.2
4 निम्नलिखित में से उस विकल्प का चयन करें जो 'तलवार सिर पर लटकी रहना' मुहावरे का अर्थ व्यक्त करता है।

- Ans
- 1. भयंकर खतरा बने रहना
 - 2. तलवार साथ लेकर चलना
 - 3. सिर के ऊपर तलवार लटकाकर घूमना
 - 4. तलवार से खतरा हटाना

Question ID : 9895803667
Chosen Option : 1

Q.2
5 दिए गए वाक्य का वह भाग ज्ञात करें जिसमें कोई त्रुटि है।

वृक्ष पूजन का हमारे जीवन का विशेष स्थान नहीं रहा।

- Ans
- 1. हमारे जीवन का
 - 2. विशेष स्थान
 - 3. नहीं रहा।
 - 4. वृक्ष पूजन का

Question ID : 9895803647
Chosen Option : 1