

Constable (GD) in CAPFs, NIA, SSF and Rifleman (GD) in Assam Rifles Examination, 2018

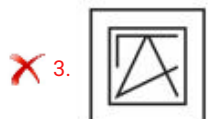
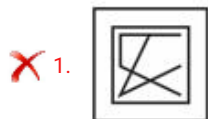
Roll No. :	GovtJobsAlert.In
Registration No.	GovtJobsAlert.In
Name :	GovtJobsAlert.In
Exam Venue :	iON Digital Zone iDZ 2 Mathura Road
Exam Time :	12:30 PM - 2:00 PM
Exam Date :	13/02/2019

Section : General Section

Q.1 विकल्पों में से उस आकृति का चयन करें जिसमें 'X' से चिह्नित आकृति समाहित है। (घुमाने की अनुमति नहीं है)



Ans



Question ID : 9895804738

Chosen Option : 4

Q.2 उस विकल्प का चयन करें जो दिए गए पैटर्न में प्रश्न चिह्न (?) के स्थान पर आएगा।

13	23	?
3	4	6
39	92	66

Ans ✗ 1. 7

✗ 2. 9

✓ 3. 11

✗ 4. 13

Question ID : 9895804734
Chosen Option : 3

Q.3 उस विकल्प का चयन करें जो तीसरे पद से उसी प्रकार से संबंधित है जिस प्रकार दूसरा पद पहले पद से संबंधित है।

DFH: HLP:: EGI : ?

Ans ✗ 1. JMR

✓ 2. JNR

✗ 3. JMP

✗ 4. JNP

Question ID : 9895804722
Chosen Option : 2

Q.4 नीचे दिए गए कथनों के बाद दो निष्कर्ष I और II दिए गए हैं। यह मानते हुए कि कथनों में दी गई जानकारी सत्य है, भले ही वह सर्वज्ञात तथ्यों से भिन्न प्रतीत होती हो और यह निर्णय करें कि कौन सा / से निष्कर्ष तार्किक और निश्चित रूप से कथन में दी गई जानकारी का अनुसरण करता है / करते हैं।

कथन :

1) कुछ चिड़ियाघर हेंगर हैं।

2) कुछ हेंगर मछलियाँ हैं।

निष्कर्ष

I: कुछ चिड़ियाघर मछलियाँ हैं।

II: कुछ हेंगर मछलियाँ हैं।

Ans ✗ 1. केवल निष्कर्ष I अनुसरण करता है।

✓ 2. केवल निष्कर्ष II अनुसरण करता है।

✗ 3. न निष्कर्ष I और न ही निष्कर्ष II अनुसरण करता है।

✗ 4. दोनों निष्कर्ष अनुसरण करते हैं।

Question ID : 9895804729
Chosen Option : 2

Q.5 उस विकल्प का चयन करें जो दी गई तीसरी संख्या से उसी प्रकार से संबंधित है जिस प्रकार दूसरी संख्या पहली संख्या से संबंधित है।

17: 289:: 23: ?

Ans ✗ 1. 144

✓ 2. 529

✗ 3. 169

✗ 4. 625

Question ID : 9895804732
Chosen Option : 2

Q.6 उस विकल्प का चयन करें जो दी गई श्रृंखला में प्रश्न चिह्न (?) के स्थान पर आएगा।

4, 20, 36, 52, ?

- Ans
- 1. 69
 - 2. 67
 - 3. 70
 - 4. 68

Question ID : 9895804730
Chosen Option : 4

Q.7 उस विकल्प का चयन करें जो दी गई श्रृंखला में प्रश्न चिह्न (?) के स्थान पर सही रूप में आएगा।

PKZ, NMX, LOV, JQT, ?

- Ans
- 1. HSP
 - 2. HST
 - 3. HSO
 - 4. HSR

Question ID : 9895804717
Chosen Option : 4

Q.8 नीचे दिए गए कथनों के बाद दो निष्कर्ष I और II दिए गए हैं। यह मानते हुए कि कथनों में दी गई जानकारी सत्य है, भले ही वह सर्वज्ञात तथ्यों से भिन्न प्रतीत होती हो और यह निर्णय करें कि कौन सा / से निष्कर्ष तार्किक और निश्चित रूप से कथन में दी गई जानकारी का अनुसरण करता है / करते हैं।

कथन:

1. सभी जिप्सियां जाले हैं।

2. सभी जाले घोंसले हैं।

निष्कर्ष

I: सभी घोंसले जिप्सियां हैं।

II: कुछ घोंसले जिप्सियां हैं।

- Ans
- 1. दोनों निष्कर्ष अनुसरण करते हैं।
 - 2. या तो निष्कर्ष I या निष्कर्ष II अनुसरण करता है।
 - 3. केवल निष्कर्ष II अनुसरण करता है।
 - 4. केवल निष्कर्ष I अनुसरण करता है।

Question ID : 9895804728
Chosen Option : 3

Q.9 दिए गए विकल्पों में से असंगत का चयन करें।

- Ans
- 1. DHS

- 2. NJG
- 3. GFR
- 4. RST

Question ID : 9895804718
Chosen Option : 1

Q.1 एक निश्चित कूट भाषा में PENCIL को 59 के रूप में लिखा जाता है। उसी कूट भाषा में ERASER कैसे लिखा जाएगा?

- Ans 1. 66
- 2. 54
 - 3. 55
 - 4. 65

Question ID : 9895804724
Chosen Option : 1

Q.1 उस विकल्प का चयन करें जो तीसरे पद से उसी प्रकार से संबंधित है जिस प्रकार दूसरा पद पहले पद से संबंधित है।
अपव्यय करना : लुटाना :: उतरना : ?

- Ans 1. भ्रम
- 2. निषेध
 - 3. नीचे आना
 - 4. दुर्लभता

Question ID : 9895804720
Chosen Option : 4

Q.1 उस विकल्प का चयन करें जो दर्पण के दायीं ओर रखे जाने पर दिए गए शब्द की दर्पण छवि से सर्वाधिक मेल खाता है।

CLAMBER

- Ans 1. REBMA7C
- 2. REBWA7C
 - 3. REBWA7C
 - 4. REBWA7C

Question ID : 9895804739
Chosen Option : 1

Q.1 एक निश्चित कूट भाषा में ENGINEER को REEINENG के रूप में लिखा जाता है। उसी कूट भाषा में PRODUCER कैसे लिखा जाएगा?

- Ans 1. RECUDORP
- 2. RECDUORP

✓ 3. RECDUPRO

✗ 4. RECDVPRO

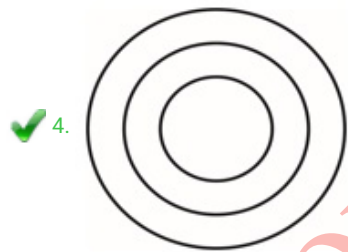

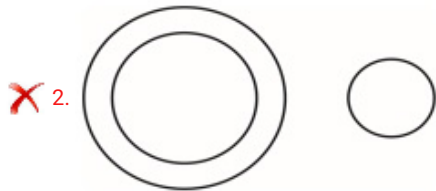
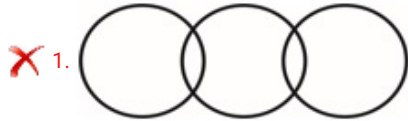
Question ID : 9895804723

Chosen Option : 3

Q.1 ⁴ उस वेन आरेख का चयन करें जो दिए गए वर्गों को सर्वोत्तम ढंग से दर्शाता है।

त्रिवेन्द्रम , भारत, केरल

Ans



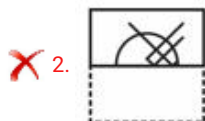
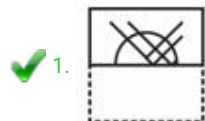
Question ID : 9895804741

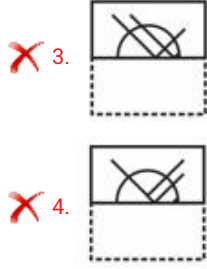
Chosen Option : 3

Q.1 पैटर्न के साथ एक वर्गाकार पारदर्शी कागज पत्रक दिया गया है। पारदर्शी कागज पत्रक को बिंदुंकित रेखा पर मोड़े जाने पर पैटर्न कैसा दिखाई देगा?



Ans





Question ID : 9895804740
Chosen Option : 3

Q.1 आठ मित्र A, B, C, D, E, F, G और H एक गोलाकार मेज़ के चारों ओर एक दूसरे के तरफ मुंह करके भोजन कर रहे हैं। A, F के सामने और B के दाएँ ओर से तीसरे स्थान पर है। G, F और D के बीच में है। H, D के बाएँ ओर है, E, C और A के बीच में है। E के सामने कौन बैठा है?

- Ans
- 1. B
 - 2. H
 - 3. C
 - 4. G

Question ID : 9895804726
Chosen Option : 2

Q.1 सात मित्र O, P, Q, R, S, T और U एक पंक्ति में बैठ कर फिल्म देख रहे हैं। S एक अंतिम छोर बैठा है। Q, S के दाएँ ओर से दूसरे स्थान पर बैठा है। P, O और Q के बीच में बैठा है। U किसी भी छोर पर नहीं बैठा है। R, T के बाएँ ओर बैठा है। P के ठीक बाएँ ओर कौन बैठा है?

- Ans
- 1. O
 - 2. R
 - 3. U
 - 4. Q

Question ID : 9895804725
Chosen Option : 3

Q.1 J, K, L, M, N और O छः शिक्षक हैं। इनमें से प्रत्येक शिक्षक हिंदी, अंग्रेजी, गणित, विज्ञान, सामाजिक विज्ञान और कला में से अलग-अलग विषय पढ़ाता है, जरूरी नहीं कि इसी क्रम में। प्रत्येक शिक्षक सोमवार से शनिवार के बीच एक दिन ही पढ़ाता है, जरूरी नहीं कि इसी क्रम में। J शनिवार को कला पढ़ाता है। L न तो अंग्रेजी पढ़ाता है न ही सामाजिक विज्ञान, पर वह गुरुवार को पढ़ाता है। बुधवार के दिन K द्वारा गणित पढ़ाया जाता है। O, N के एक दिन पहले विज्ञान पढ़ाता है। सामाजिक विज्ञान, कला के एक दिन पहले पढ़ाया जाता है। सप्ताह के पहले दिन कौन सा विषय पढ़ाया जाता है।

- Ans
- 1. हिंदी
 - 2. कला
 - 3. विज्ञान
 - 4. अंग्रेजी

Question ID : 9895804727
Chosen Option : 3

Q.1 9 दिए गए विकल्पों में से असंगत संख्या का चयन करें।

- Ans
- 1. 247
 - 2. 373
 - 3. 317
 - 4. 319

Question ID : 9895804733
Chosen Option : 3

Q.2 निम्नलिखित समीकरण को सही करने के लिए विकल्पों में दिए गए किन दो चिहनों को परस्पर बदला जाना चाहिए?
0 $17 + 28 \times 4 - 5 + 3 = 9$

- Ans
- 1. - और ÷
 - 2. - और ×
 - 3. + और -
 - 4. × और ÷

Question ID : 9895804735
Chosen Option : 4

Q.2 उस विकल्प का चयन करें जो तीसरे पद से उसी प्रकार से संबंधित है जिस प्रकार दूसरा पद पहले पद से संबंधित है।
1 ताला : चाबी :: घोड़ा : ?

- Ans
- 1. रथ
 - 2. तश्तरी
 - 3. सवारी
 - 4. सांड

Question ID : 9895804721
Chosen Option : 3

Q.2 उस विकल्प का चयन करें जो दी गई श्रृंखला में प्रश्न चिह्न (?) के स्थान पर आएगा।

10, 11, 19, 46, ?

- Ans
- 1. 110
 - 2. 77
 - 3. 105
 - 4. 82

Question ID : 9895804731
Chosen Option : 1

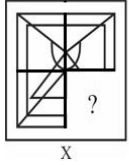
Q.2 3 दिए गए विकल्पों में से असंगत का चयन करें।

- Ans
- 1. अदरक
 - 2. प्याज़
 - 3. सरसों


X 4. लहसुन

Question ID : 9895804719
Chosen Option : 3

Q.2 दिए गए चार विकल्पों में से उस आकृति को चुनें, जिसे आकृति X के रिक्त स्थान में (बिना घुमाए) रखने पर पैटर्न पूरा हो जाएगा।

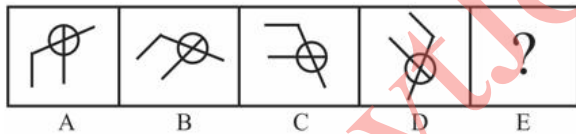


Ans

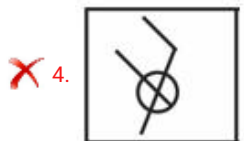
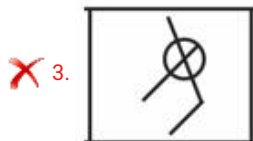
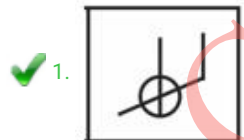


Question ID : 9895804737
Chosen Option : 2

Q.2 5 विकल्पों में से उस आकृति का चयन करें जो दी गई श्रृंखला में अगले स्थान पर आएगी।



Ans



Question ID : 9895804736
Chosen Option : 1

Q.2
6 'बीकमिंग' (Becoming) शीर्षक पुस्तक के लेखक कौन हैं?

- Ans
- 1. मिलेनिया ट्रम्प
 - 2. मिशेल ओबामा
 - 3. शशि थरूर
 - 4. तेरस मई

Question ID : 9895802630
Chosen Option : 3

Q.2
7 मौलाना अबुल कलाम आज़ाद (MAKA) ट्रॉफी को केंद्र सरकार द्वारा निम्न में से किसको दिया जाता है?

- Ans
- 1. खेल संवर्धन और विकास के क्षेत्र में महत्वपूर्ण भूमिका निभाने वाली कॉर्पोरेट इकाइयों
 - 2. अंतर-विश्वविद्यालयीय टूर्नामेंट में समग्र रूप में शीर्ष प्रदर्शन करने वाले विश्वविद्यालय
 - 3. वर्ष में आयोजित अंतर्राष्ट्रीय कार्यक्रमों में समग्र रूप में शीर्ष प्रदर्शन करने वाले एथलीट
 - 4. राष्ट्रीय स्तर के टूर्नामेंटों में समग्र रूप में शीर्ष प्रदर्शन करने वाले राज्य

Question ID : 9895802627
Chosen Option : 4

Q.2
8 हाइपरमेट्रोपिया के बारे में निम्नलिखित में से कौन-सा कथन गलत है?

- Ans
- 1. प्रभावित व्यक्ति आस-पास की वस्तुओं को ठीक से नहीं देख सकता है।
 - 2. इसे दूर-दृष्टि भी कहा जाता है।
 - 3. यह इसलिए भी उत्पन्न हो सकती है क्योंकि आंखों के लेंस की फोकल लंबाई बहुत लंबी होती है।
 - 4. नेत्र-गोलक (आई-बॉल) में वृद्धि दोष के कारणों में से एक है।

Question ID : 9895802638
Chosen Option : 3

Q.2
9 भारतीय संविधान के निम्नलिखित में से किस अनुभाग को 'भारतीय संविधान की अंतरात्मा' के रूप में भी जाना जाता है?

- Ans
- 1. संघवाद
 - 2. नागरिकता

✗ 3. अधिसूचित भाषाएँ

✓ 4. मौलिक अधिकार

Question ID : 9895802636
Chosen Option : 4

Q.3
0 निम्नलिखित में से कौन सी नदी प्रसिद्ध शिवसमुद्रम जलप्रपात बनाती है?

Ans ✗ 1. काली सिंध

✗ 2. कृष्णा

✓ 3. कावेरी

✗ 4. तुंगभद्रा

Question ID : 9895802644
Chosen Option : 4

Q.3
1 निम्नलिखित में से कौन असम से संबंधित लोक नृत्य शैली नहीं है?

Ans ✗ 1. बिहु

✓ 2. मंदजास

✗ 3. बगुरंबा

✗ 4. सत्रीया नृत्य

Question ID : 9895802625
Chosen Option : 1

Q.3
2 पश्चिमी घाट की सबसे ऊँची चोटी कौन सी है?

Ans ✓ 1. अनामुड़ी

✗ 2. महेन्द्रगिरी

✗ 3. बाबा बुदन गिरि

✗ 4. डोडा बेड़ा

Question ID : 9895802643
Chosen Option : 4

Q.3
3 निम्नलिखित में से किस राज्य में जनसंख्या घनत्व सबसे अधिक है?

Ans ✗ 1. उत्तर प्रदेश

✓ 2. बिहार

✗ 3. तमिलनाडु

✗ 4. पश्चिम बंगाल

Question ID : 9895802645
Chosen Option : 1

Q.3
4 सुल्ताना रज़िया के पिता कौन थे?

- Ans
- ✗ 1. बलबन
 - ✓ 2. इल्तुतमिश
 - ✗ 3. मुहम्मद तुगलक
 - ✗ 4. कैकूबाद

Question ID : 9895802647
Chosen Option : 2

Q.3
5 2018 के अर्जुन पुरस्कार से सम्मानित रोहन बोपन्ना, किस खेल में उपलब्धियों के लिए जाने जाते हैं?

- Ans
- ✗ 1. कुश्ती
 - ✓ 2. टेनिस
 - ✗ 3. पैरा बैडमिंटन
 - ✗ 4. शूटिंग

Question ID : 9895802628
Chosen Option : 2

Q.3
6 निम्नलिखित में से कौन विश्व विरासत स्थल नहीं है?

- Ans
- ✗ 1. आगरा का किला
 - ✓ 2. आदमगढ़ शैलाश्रय
 - ✗ 3. भीमबेटका शैलाश्रय
 - ✗ 4. अजंता की गुफाएँ

Question ID : 9895802626
Chosen Option : 2

Q.3
7 निम्नलिखित में से कौन सी गैर-आवश्यक जीवन प्रक्रिया है?

- Ans
- ✓ 1. संचारण
 - ✗ 2. प्रजनन
 - ✗ 3. पोषण
 - ✗ 4. उत्सर्जन

Question ID : 9895802640

Q.3
8 संविधान सभा की मसौदा समिति के अध्यक्ष कौन थे?

- Ans
- 1. के.एम. मुंशी
 - 2. राजेन्द्र प्रसाद
 - 3. जवाहर लाल नेहरू
 - 4. बी.आर. अम्बेडकर

Question ID : 9895802637

Chosen Option : 4

Q.3
9 भारतीय व्यापारी और समाज-सेवी अजीम प्रेमजी को हाल ही में शेवेलियर डे ला लीजन डी ऑनर से सम्मानित किया गया था। यह किस देश का उच्चतम नागरिक सम्मान है?

- Ans
- 1. जर्मनी
 - 2. फ्रांस
 - 3. स्पेन
 - 4. ब्रिटेन

Question ID : 9895802631

Chosen Option : 2

Q.4
0 किसी भी खाद्य श्रृंखला में, शीर्ष स्तर पर कौन कब्जा कर लेता है?

- Ans
- 1. मनुष्य
 - 2. शेर
 - 3. चील
 - 4. सर्प

Question ID : 9895802639

Chosen Option : 2

Q.4
1 गुरुत्वाकर्षण बल के बारे में निम्नलिखित में से कौन-सा कथन सही नहीं है?

- Ans
- 1. यह वस्तुओं के बीच की दूरी के वर्ग के व्युत्क्रमानुपाती होता है।
 - 2. यह एक दूसरे के प्रति ब्रह्मांड की प्रत्येक वस्तु के आकर्षण के लिए जिम्मेदार बल है।
 - 3. न्यूटन ने गुरुत्वाकर्षण बल पर अपने शोध में केप्लर के सिद्धांतों पर भरोसा किया।
 - 4. यह वस्तुओं के द्रव्यमान के उत्पाद के व्युत्क्रमानुपाती होता है।

Question ID : 9895802642
Chosen Option : 3

Q.4
2 भारतीय संविधान में, 'अवशिष्ट मामलों' पर कानून बनाने का अधिकार किसे सौंपा गया है?

- Ans
- 1. सर्वोच्च न्यायालय
 - 2. राज्य सरकार
 - 3. केंद्र सरकार
 - 4. उच्च न्यायालय

Question ID : 9895802635
Chosen Option : 1

Q.4
3 निम्नलिखित में से कौन-सा संगठन विश्व विकास रिपोर्ट प्रकाशित करता है?

- Ans
- 1. यूनेस्को
 - 2. अंतर्राष्ट्रीय मुद्रा कोष
 - 3. विश्व बैंक
 - 4. यूएनडीपी

Question ID : 9895802632
Chosen Option : 4

Q.4
4 निम्नलिखित में से कौन-सा एक नवपाषाण सांस्कृतिक स्थल नहीं है?

- Ans
- 1. कुन्तासी
 - 2. मेहरगढ़
 - 3. बुर्जहोम
 - 4. कोल्दिहवा

Question ID : 9895802646
Chosen Option : 4

Q.4
5 निम्नलिखित में से कौन सा विकल्प शस्योत्सव है?

- Ans
- 1. दशहरा
 - 2. अक्षय तृतीया
 - 3. ओणम
 - 4. जन्माष्टमी

Question ID : 9895802624
Chosen Option : 2

Q.4

6 निम्नलिखित में से कौन सी योजना वित्तीय समावेशन के लिए केंद्र सरकार के कदमों में से नहीं है?

Ans

- 1. प्रधानमंत्री उज्ज्वला योजना
- 2. प्रधानमंत्री सुरक्षा बीमा योजना
- 3. प्रधानमंत्री जीवन ज्योति बीमा योजना
- 4. प्रधानमंत्री जन धन योजना

Question ID : 9895802634
Chosen Option : 3

Q.4
7 भारत में स्वदेशी आंदोलन के दौरान स्वराज ध्वज किसने डिज़ाइन किया था?

Ans

- 1. महात्मा गांधी
- 2. अबनिंद्रनाथ टैगोर
- 3. बाल गंगाधर तिलक
- 4. रबिन्द्रनाथ टैगोर

Question ID : 9895802648
Chosen Option : 2

Q.4
8 पत्ते का वह भाग जो इसे तने से जोड़ता है, वह कहलाता है:

Ans

- 1. अनुपर्ण
- 2. डंठल
- 3. पत्रदल
- 4. नस

Question ID : 9895802641
Chosen Option : 3

Q.4
9 भारत सरकार के निम्नलिखित में से कौन-सा विभाग भुगतान बैंक का संचालन करता है?

Ans

- 1. आर्थिक मामले विभाग
- 2. लेखा संबंधी मामलों का विभाग
- 3. वित्तीय समावेशन विभाग
- 4. डाक विभाग

Question ID : 9895802633
Chosen Option : 3

Q.5
0 रामनाथ गोयनका पुरस्कार किस क्षेत्र में योगदान के लिए प्रदान किये जाते हैं?

Ans

- 1. खेल
- 2. महिला सशक्तिकरण

3. ग्रामीण स्वच्छता

4. पत्रकारिता

Question ID : 9895802629
Chosen Option : 2

Q.5 एक संख्या को 40% बढ़ाया जाता है तथा परिणामी संख्या को 25% घटाया जाता है। कुल कितने प्रतिशत की वृद्धि होगी?

Ans 1. 5%

2. 10%

3. 6%

4. 4%

Question ID : 9895804366
Chosen Option : 2

Q.5 एक दुकान में 60 वस्तुएं हैं। 30 वस्तुओं का औसत मूल्य ₹ 30 है तथा शेष वस्तुओं का औसत मूल्य ₹ 35 है। सभी वस्तुओं को मिलाकर औसत मूल्य क्या है?

Ans 1. ₹ 32.5

2. ₹ 34

3. ₹ 33

4. ₹ 33.5

Question ID : 9895804362
Chosen Option : 3

Q.5 एक थैले में सफेद तथा पीली गेंद क्रमशः 12 : 17 के अनुपात में हैं। यदि कुल गेंदों की संख्या 116 है, तो पीली गेंदें कितनी हैं?

Ans 1. 74

2. 68

3. 62

4. 76

Question ID : 9895804370
Chosen Option : 2

Q.5 एक 420 मीटर लम्बी रेलगाड़ी 120 कि.मी./घंटा की गति से चल रही है। एक 580 मीटर लम्बे प्लेटफार्म को पार करने में वह कितना समय लेगी?

Ans 1. 48 सेकण्ड

2. 40 सेकण्ड

3. 45 सेकण्ड

4. 30 सेकण्ड

Question ID : 9895804376
Chosen Option : 2

Q.5 दो त्रिभुजों के क्षेत्रफलों का अनुपात 6 : 1 है तथा उनके आधारों का अनुपात 3 : 2 है। उनकी ऊँचाइयों का अनुपात क्या है?

- Ans
- 1. 5 : 1
 - 2. 2 : 1
 - 3. 2 : 3
 - 4. 4 : 1

Question ID : 9895804380
Chosen Option : 3

Q.5 मनोज 20 कि.मी. तथा 36 कि.मी. की दो दूरियों को क्रमशः 5 घंटे तथा 3 घंटे में तय करता है। संपूर्ण यात्रा के लिए मनोज की औसत गति क्या होगी?

- Ans
- 1. 8 कि.मी./घंटा
 - 2. 5 कि.मी./घंटा
 - 3. 7 कि.मी./घंटा
 - 4. 6 कि.मी./घंटा

Question ID : 9895804377
Chosen Option : 3

Q.5 यदि छह लगातार सम संख्याओं का औसत 11 है, तो उनमें से सबसे छोटी संख्या क्या होगी?

- Ans
- 1. 10
 - 2. 8
 - 3. 4
 - 4. 6

Question ID : 9895804363
Chosen Option : 4

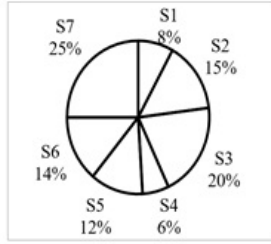
Q.5 एक दिन में 4 घंटे कार्य करके, R एक कार्य को 12 दिन में पूरा कर सकता है तथा एक दिन में 8 घंटे कार्य करके, A समान कार्य को 9 दिन में पूरा कर सकता है। एक दिन में 2 घंटे कार्य करके, R तथा A दोनों मिलकर उसी कार्य को कितने दिन में पूरा कर सकते हैं?

- Ans
- 1. 48/5 दिन
 - 2. 36/5 दिन
 - 3. 72 दिन
 - 4. 72/5 दिन

Question ID : 9895804375
Chosen Option : 2

Q.5
9

नीचे दिया गया पाई चार्ट एक देश के 7 राज्यों द्वारा प्राप्त वार्षिक बर्फबारी को दर्शाता है। बर्फबारी को देश की कुल वार्षिक बर्फबारी के प्रतिशत के रूप में दर्शाया गया है।



यदि देश द्वारा प्राप्त वार्षिक बर्फबारी 700 से.मी. है, तो S2, S6 और S7 की औसत वार्षिक बर्फबारी क्या है?

- Ans
- 1. निर्धारित नहीं किया जा सकता है
 - 2. 154 से.मी.
 - 3. 126 से.मी.
 - 4. 84 से.मी.

Question ID : 9895804381
Chosen Option : 1

Q.6 मोहित तथा सुमित क्रमशः ₹ 66000 तथा ₹ 84000 निवेश के साथ व्यापार शुरू करते हैं। यदि वर्ष के अंत में वे 11 : 9 के अनुपात में लाभ कमाते हैं, तो उनके द्वारा निवेश की गई पूँजी की समय अवधि का अनुपात क्या होगा?

- Ans
- 1. 14 : 9
 - 2. 33 : 42
 - 3. 9 : 11
 - 4. 7 : 11

Question ID : 9895804369
Chosen Option : 3

Q.6 1400 लड़के तथा 900 लड़कियाँ ने एक परीक्षा दी। यदि 52% लड़के तथा 68% लड़कियाँ परीक्षा में उत्तीर्ण होते हैं, तो परीक्षा में अनुत्तीर्ण होने वाले विद्यार्थियों का प्रतिशत क्या है?

- Ans
- 1. 36.28%
 - 2. 58.26%
 - 3. 63.72%
 - 4. 41.74%

Question ID : 9895804365
Chosen Option : 1

Q.6 यदि $p : q = 7 : 8$ है, तो $(p^2/q) : (q^2/p)$ क्या होगा?

- Ans
- 1. 512 : 343

✗ 2. 49 : 64

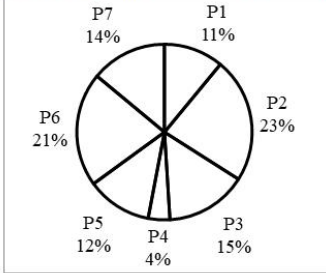
✓ 3. 343 : 512

✗ 4. 7 : 8

Question ID : 9895804371

Chosen Option : 4

Q.6 नीचे दिया गया पाई चार्ट एक देश के लिए 7 विभिन्न वस्तुओं P1, P2, P3, P4, P5, P6 तथा P7 के आयात को कुल आयात के प्रतिशत के रूप में दर्शाता है।



यदि देश का कुल आयात ₹ 3000000 है, तो आइटम P6 का आयात कितना है?

Ans ✗ 1. 720000

✓ 2. 630000

✗ 3. 690000

✗ 4. 450000

Question ID : 9895804383

Chosen Option : 2

Q.6 एक राशि पर 4 वर्षों का साधारण ब्याज ₹ 24000 है तथा समान राशि का, समान ब्याज दर से 2 वर्षों का चक्रवृद्धि ब्याज (ब्याज का संयोजन वार्षिक किया गया है) ₹ 12750 है। ब्याज की वार्षिक दर क्या है?

Ans ✗ 1. 15%

✗ 2. 18%

✓ 3. 12.5%

✗ 4. 20%

Question ID : 9895804373

Chosen Option : 1

Q.6 एक ₹ 10000 की राशि साधारण ब्याज पर 15% की वार्षिक दर से P वर्षों में ₹ 16000 हो जाती है। P का मान क्या होगा?

Ans ✗ 1. 5 वर्ष

✓ 2. 4 वर्ष

✗ 3. 3 वर्ष

✗ 4. 6 वर्ष

Question ID : 9895804372

Chosen Option : 2

Q.6

6 एक वस्तु का क्रय मूल्य ₹ 1126 है तथा हानि 22% है, तो कुल हानि क्या होगी?

- Ans
- 1. ₹ 247.72
 - 2. ₹ 232.20
 - 3. ₹ 252.60
 - 4. ₹ 260.52

Question ID : 9895804367
Chosen Option : 3

Q.6 एक बेलन का वक्र पृष्ठीय क्षेत्रफल 1056 से.मी.² है। यदि बेलन की ऊँचाई 8 से.मी. है, तो इसके आधार का व्यास
7 क्या होगा?

- Ans
- 1. 21 से.मी.
 - 2. 14.5 से.मी.
 - 3. 24.5 से.मी.
 - 4. 42 से.मी.

Question ID : 9895804378
Chosen Option : 4

Q.6 एक घनाभ की लंबाई, चौड़ाई तथा ऊँचाई 5 : 4 : 2 के अनुपात में हैं। यदि घनाभ का आयतन 5000 से.मी.³ है, तो
8 घनाभ का कुल पृष्ठीय क्षेत्रफल क्या होगा?

- Ans
- 1. 1800 से.मी.²
 - 2. 2100 से.मी.²
 - 3. 1750 से.मी.²
 - 4. 1900 से.मी.²

Question ID : 9895804379
Chosen Option : 2

Q.6 एक मशीन का अंकित मूल्य उसके क्रय मूल्य से 70% अधिक है। यदि मशीन को 44.5% के लाभ पर बेचा गया है,
9 तो छूट प्रतिशत क्या होगा?

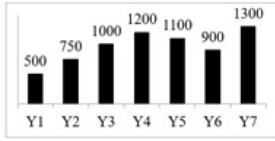
- Ans
- 1. 25%
 - 2. 17%
 - 3. 20%
 - 4. 15%

Question ID : 9895804364
Chosen Option : 1

Q.7
0

नीचे दिए गए बार चार्ट में 7 क्रमागत वर्षों Y1, Y2, Y3, Y4, Y5, Y6 तथा Y7

के लिए एक देश के कुल निर्यात को (1000 करोड़ ₹ में) दर्शाया गया है।



कौन सा वर्ष पिछले वर्ष की तुलना में निर्यात में सबसे अधिकतम बदलाव प्रतिशत

दर्शाता है?

- Ans
- 1. Y3
 - 2. Y5
 - 3. Y2
 - 4. Y4

Question ID : 9895804382

Chosen Option : 4

Q.7 पहली वस्तु का क्रय मूल्य ₹ 480 है तथा दूसरी वस्तु का विक्रय मूल्य ₹ 480 है। यदि पहली वस्तु पर 20% लाभ होता है तथा दूसरी वस्तु पर 20% हानि होती है, तो कुल हानि क्या होगी?

- Ans
- 1. ₹ 20
 - 2. ₹ 18
 - 3. ₹ 24
 - 4. ना लाभ ना हानि

Question ID : 9895804368

Chosen Option : 4

Q.7 18 मजदूर एक कार्य के एक-तिहाई को 27 दिन में पूरा कर सकते हैं। कितने मजदूर पूर्ण कार्य को 9 दिन में पूरा कर सकते हैं?

- Ans
- 1. 112 दिन
 - 2. 148 दिन
 - 3. 162 दिन
 - 4. 128 दिन

Question ID : 9895804374

Chosen Option : 2

Q.7 $680 - 520 \div 5 - \frac{12}{13}$ का $\left(\frac{3}{4} + \frac{1}{3}\right)$ का मान क्या है?

- Ans
- 1. 575
 - 2. 574
 - 3. 577

✗ 4. 571

Question ID : 9895804361
Chosen Option : --

Q.7 यदि दो संख्याओं का महत्तम समापवर्तक 12 है, तो निम्न में से कौन सा उनका लघुत्तम समापवर्त्य नहीं हो सकता है?

- Ans
- ✓ 1. 80
 - ✗ 2. 48
 - ✗ 3. 24
 - ✗ 4. 60

Question ID : 9895804359
Chosen Option : 1

Q.7 $528 - 24 \times \frac{4}{3}$ का $\frac{25}{7} \div \frac{1}{2}$ का मान क्या है?

- Ans
- ✓ 1. 2096/7
 - ✗ 2. 1926/7
 - ✗ 3. 2125/9
 - ✗ 4. 1920/7

Question ID : 9895804360
Chosen Option : 1

Section : English Language

Q.1 Select the correctly spe

- Ans
- ✗ 1. imediate
 - ✗ 2. immigiate
 - ✓ 3. immidiate
 - ✗ 4. immediate

Question ID : 9895804825
Chosen Option : --

Q.2 Identify the segment in the sentence which contains the grammatical error from the given options.

Today we are closer to reaching an agreement that we were a few months ago.

- Ans
- ✓ 1. we are closer
 - ✗ 2. a few months ago
 - ✗ 3. to reaching
 - ✗ 4. that we were

Question ID : 9895804831
Chosen Option : --

Q.3 Select the most appropriate option to substitute the underlined segment in the given sentence. If there is no need to substitute it, select No improvement.

One can succeed in business unless one is prepared to take risks.

- Ans
- 1. No improvement
 - 2. No one cannot succeed
 - 3. One cannot hardly succeed
 - 4. One cannot succeed

Question ID : 9895804835
Chosen Option : --

Q.4 Select the most appropriate word to fill in the blank.

He _____ himself from taking sugary foods.

- Ans
- 1. removed
 - 2. restricted
 - 3. resorted
 - 4. recovered

Question ID : 9895804828
Chosen Option : --

Q.5 Select the most appropriate option to substitute the underlined segment in the given sentence. If there is no need to substitute it, select No improvement.

I am not frightened of Shere Khan so I know that he is very cunning.

- Ans
- 1. but I know
 - 2. in case I know
 - 3. so I know
 - 4. No improvement

Question ID : 9895804836
Chosen Option : --

Q.6 Select the most appropriate synonym of the given word.

GLOOMY

- Ans
- 1. Painful
 - 2. Dull
 - 3. Bright
 - 4. Light

Question ID : 9895804818
Chosen Option : --

Q.7

Select the most appropriate ANTONYM of the given word.

SOGGY

- Ans
- 1. Damp
 - 2. Moist
 - 3. Dry
 - 4. Cool

Question ID : 9895804820
Chosen Option : --

Q.8 Select the correctly spelt word.

- Ans
- 1. Beggar
 - 2. Bagger
 - 3. Baggar
 - 4. Begger

Question ID : 9895804824
Chosen Option : --

Q.9 Select the most appropriate meaning of the given idiom.

At daggers drawn

- Ans
- 1. Being familiar
 - 2. Being hostile
 - 3. Being friendly
 - 4. Being irritated

Question ID : 9895804822
Chosen Option : --

Q.10 Select the word which means the same as the group of words given.

A person who eats too much

- Ans
- 1. Liberal
 - 2. Glutton
 - 3. Greedy
 - 4. Obese

Question ID : 9895804826
Chosen Option : --

Q.1
1

Select the word which means the same as the group of words given.

That which cannot be conquered

- Ans
- 1. Incapable
 - 2. Inevitable
 - 3. Invisible
 - 4. Invincible

Question ID : 9895804827
Chosen Option : --

Q.1
2 Select the most appropriate synonym of the given word.

MENACE

- Ans
- 1. Help
 - 2. Nuisance
 - 3. Delight
 - 4. Harassment

Question ID : 9895804819
Chosen Option : --

Q.1
3 Select the most appropriate word to fill in the blank.

Owing to the heavy rains the office building was badly _____.

- Ans
- 1. damaged
 - 2. damaging
 - 3. damage
 - 4. damages

Question ID : 9895804833
Chosen Option : --

Comprehension:

In the following passage some words have been deleted. Fill in the blanks with the help of the alternatives given. Select the most appropriate option for each number.

There is an important aspect which (1) _____ a mention in any discussion of the future of Indian theatre. It is the (2) _____ development of the cinema as a competitor for (3) _____ among people. In (4) _____ early flush of cinematic triumph, the experts in the field (5) _____ the extinction of the theatre.

SubQuestion No : 14

Q.1
4 Fill in blank (1) with the most appropriate option.

- Ans
- 1. invites
 - 2. involves
 - 3. deserves
 - 4. dictates

Question ID : 9895804839
Chosen Option : --

Comprehension:

In the following passage some words have been deleted. Fill in the blanks with the help of the alternatives given. Select the most appropriate option for each number.

There is an important aspect which (1) _____ a mention in any discussion of the future of Indian theatre. It is the (2) _____ development of the cinema as a competitor for (3) _____ among people. In (4) _____ early flush of cinematic triumph, the experts in the field (5) _____ the extinction of the theatre.

SubQuestion No : 15

Q.1
5 Fill in blank (2) with the most appropriate option.

- Ans
- 1. rapid
 - 2. hurried
 - 3. express
 - 4. prompt

Question ID : 9895804840
Chosen Option : --

Comprehension:

In the following passage some words have been deleted. Fill in the blanks with the help of the alternatives given. Select the most appropriate option for each number.

There is an important aspect which (1) _____ a mention in any discussion of the future of Indian theatre. It is the (2) _____ development of the cinema as a competitor for (3) _____ among people. In (4) _____ early flush of cinematic triumph, the experts in the field (5) _____ the extinction of the theatre.

SubQuestion No : 16

Q.1
6 Fill in blank (3) with the most appropriate option.

- Ans
- 1. popularity
 - 2. fame
 - 3. choice
 - 4. demand

Question ID : 9895804841
Chosen Option : --

Comprehension:

In the following passage some words have been deleted. Fill in the blanks with the help of the alternatives given. Select the most appropriate option for each number.

There is an important aspect which (1) _____ a mention in any discussion of the future of Indian theatre. It is the (2) _____ development of the cinema as a competitor for (3) _____ among people. In (4) _____ early flush of cinematic triumph, the experts in the field (5) _____ the extinction of the theatre.

SubQuestion No : 17

Q.1
7 Fill in blank (4) with the most appropriate option.

- Ans
- 1. a
 - 2. the
 - 3. one
 - 4. some

Comprehension:

In the following passage some words have been deleted. Fill in the blanks with the help of the alternatives given. Select the most appropriate option for each number.

There is an important aspect which (1) _____ a mention in any discussion of the future of Indian theatre. It is the (2) _____ development of the cinema as a competitor for (3) _____ among people. In (4) _____ early flush of cinematic triumph, the experts in the field (5) _____ the extinction of the theatre.

SubQuestion No : 18

Q.1
8 Fill in blank (5) with the most appropriate option.

- Ans
- 1. studied
 - 2. regarded
 - 3. calculated
 - 4. predicted

Q.1
9 Select the most appropriate ANTONYM of the given word.

MISERABLE

- Ans
- 1. Cheerful
 - 2. Hopeless
 - 3. Miserly
 - 4. Lonely

Q.2
0 Select the most appropriate word to fill in the blank.

While walking on the beach we _____ seashells.

- Ans
- 1. increased
 - 2. needed
 - 3. assembled
 - 4. collected

Q.2
1 Select the most appropriate option to substitute the underlined segment in the given sentence. If there is no need to substitute it, select No improvement.

By seeing the cameras the villagers were convinced that the tourists intended to take photographs.

- Ans
- 1. No improvement
 - 2. Seen the cameras

3. Seeing the cameras

4. Saw a camera

Question ID : 9895804837

Chosen Option : --

Q.2 Identify the segment in the sentence which contains the grammatical error from the given options.

2

We have to check the records to find out how much cheques have been collected so far.

Ans 1. have been collected

2. have to check

3. much cheques

4. to find out

Question ID : 9895804830

Chosen Option : --

Q.2 Select the most appropriate meaning of the given idiom.

3

Once in a blue moon

Ans 1. Frequently

2. Never

3. Usually

4. Rarely

Question ID : 9895804823

Chosen Option : --

Q.2 Select the most appropriate word to fill in the blank.

4

He was vexed _____ the behaviour of his daughter.

Ans 1. on

2. for

3. from

4. with

Question ID : 9895804834

Chosen Option : --

Q.2 Identify the segment in the sentence which contains the grammatical error from the given options.

5

We must realize that learning from mistakes are an important part of life.

Ans 1. We must realize

2. mistakes are

3. that learning from

4. part of life

Question ID : 9895804832
Chosen Option : --

Section : Hindi Language

Q.1 निम्नलिखित में से उस विकल्प का चयन करें जो 'एक ही थैली के चट्टे-बट्टे' मुहावरे का अर्थ व्यक्त करता है।

- Ans
- 1. एक थैले में चट्टे और बट्टे रखना
 - 2. एक शक्ल के लोग
 - 3. एक जैसे लोग
 - 4. एक ही नाम वाले लोग

Question ID : 9895803794
Chosen Option : 3

Q.2 दिये गये वाक्यांश के लिए एक शब्द दीजिये।

साथ चलने वाला

- Ans
- 1. सहयोगी
 - 2. सहयोग
 - 3. सहगामी
 - 4. प्रतिगामी

Question ID : 9895803796
Chosen Option : 1

Q.3 दिए गए वाक्य में रेखांकित खंड को प्रतिस्थापित करने के लिए उपयुक्त विकल्प का चयन करें।

मजदूर ने चटनी की रोटी खाई और काम पर चला गया।

- Ans
- 1. मजदूर ने रोटी का चटनी खाई
 - 2. मजदूर ने चटनी से रोटी खाई
 - 3. मजदूर ने रोटी को चटनी खाई
 - 4. मजदूर ने रोटी के चटनी खाई

Question ID : 9895803779
Chosen Option : 2

Comprehension:

निम्नलिखित गद्यांश के रिक्त स्थानों की पूर्ति गद्यांश के नीचे दिए गए प्रश्नों के अनुसार कीजिए -

_____ (1) अनमोल धन है। इसकी _____ (2) किसी से भी नहीं की जा सकती। हीरे _____ (3) या सोने-चाँदी से भी नहीं। सच्ची मित्रता में किसी कारण से _____ (4) नहीं आ सकता। बाइबिल में कहा गया है कि एक सच्चा मित्र विश्व की _____ (5) दवा है।

SubQuestion No : 4

Q.4 गद्यांश में संकेतित रिक्त स्थान (1) के लिए उपयुक्त शब्द होगा-

- Ans
- 1. भाईचारा
 - 2. बहनापा
 - 3. शिशुता
 - 4. मित्रता

Question ID : 9895803785
Chosen Option : 3

Comprehension:

निम्नलिखित गद्यांश के रिक्त स्थानों की पूर्ति गद्यांश के नीचे दिए गए प्रश्नों के अनुसार कीजिए -

_____ (1) अनमोल धन है। इसकी _____ (2) किसी से भी नहीं की जा सकती। हीरे _____ (3) या सोने-चाँदी से भी नहीं। सच्ची मित्रता में किसी कारण से _____ (4) नहीं आ सकता। बाइबिल में कहा गया है कि एक सच्चा मित्र विश्व की _____ (5) दवा है।

SubQuestion No : 5

Q.5 गद्यांश में संकेतित रिक्त स्थान (2) के लिए उपयुक्त शब्द होगा-

- Ans
- 1. उपेक्षा
 - 2. अपेक्षा
 - 3. तुलना
 - 4. बड़ाई

Question ID : 9895803786
Chosen Option : 3

Comprehension:

निम्नलिखित गद्यांश के रिक्त स्थानों की पूर्ति गद्यांश के नीचे दिए गए प्रश्नों के अनुसार कीजिए -

_____ (1) अनमोल धन है। इसकी _____ (2) किसी से भी नहीं की जा सकती। हीरे _____ (3) या सोने-चाँदी से भी नहीं। सच्ची मित्रता में किसी कारण से _____ (4) नहीं आ सकता। बाइबिल में कहा गया है कि एक सच्चा मित्र विश्व की _____ (5) दवा है।

SubQuestion No : 6

Q.6 गद्यांश में संकेतित रिक्त स्थान (3) के लिए उपयुक्त शब्द होगा

- Ans
- 1. लाल
 - 2. रत्न
 - 3. मोती
 - 4. रूपा

Question ID : 9895803787
Chosen Option : 3

Comprehension:

निम्नलिखित गद्यांश के रिक्त स्थानों की पूर्ति गद्यांश के नीचे दिए गए प्रश्नों के अनुसार कीजिए -

_____ (1) अनमोल धन है। इसकी _____ (2) किसी से भी नहीं की जा सकती। हीरे _____ (3) या सोने-चाँदी से भी नहीं। सच्ची मित्रता में किसी कारण से _____ (4) नहीं आ सकता। बाइबिल में कहा गया है कि एक सच्चा मित्र विश्व की _____ (5) दवा है।

SubQuestion No : 7

Q.7 गद्यांश में संकेतित रिक्त स्थान (4) के लिए उपयुक्त शब्द होगा

- Ans
- 1. हस्तक्षेप
 - 2. दखल
 - 3. व्यवधान
 - 4. अपरिहार्य

Question ID : 9895803788
Chosen Option : 2

Comprehension:

निम्नलिखित गद्यांश के रिक्त स्थानों की पूर्ति गद्यांश के नीचे दिए गए प्रश्नों के अनुसार कीजिए -

_____ (1) अनमोल धन है। इसकी _____ (2) किसी से भी नहीं की जा सकती। हीरे _____ (3) या सोने-चाँदी से भी नहीं। सच्ची मित्रता में किसी कारण से _____ (4) नहीं आ सकता। बाइबिल में कहा गया है कि एक सच्चा मित्र विश्व की _____ (5) दवा है।

SubQuestion No : 8

Q.8 गद्यांश में संकेतित रिक्त स्थान (5) के लिए उपयुक्त शब्द होगा

- Ans
- 1. अधम
 - 2. सर्वश्रेष्ठ
 - 3. साधारण
 - 4. हीन

Question ID : 9895803789
Chosen Option : 2

Q.9 सही वर्तनी वाले शब्द का चयन करें।

- Ans
- 1. निराकार
 - 2. निर्कार
 - 3. नीराकार
 - 4. निरकार

Question ID : 9895803799
Chosen Option : 1

Q.10 दिए गए शब्द के पर्यायवाची शब्द का चयन करें।

प्रकृति

- Ans
- 1. सृष्टि
 - 2. संसार
 - 3. हरियाली
 - 4. कुदरत

Question ID : 9895803793
Chosen Option : 2

Q.11 दिये गये वाक्यांश के लिए एक शब्द दीजिये।

परोपकार करने वाला

- Ans
- 1. सहकारी
 - 2. कृतज्ञ
 - 3. परोपकारी
 - 4. कृतघ्न

Question ID : 9895803797
Chosen Option : 3

Q.1
2 रिक्त स्थान को भरने के लिए उपयुक्त शब्द का चयन करें।

साहिल को पाँच _____ दूध चाहिए।

- Ans
- 1. लीटर
 - 2. किलो
 - 3. मीटर
 - 4. दर्जन

Question ID : 9895803780
Chosen Option : 1

Q.1
3 दिए गए वाक्य का वह भाग ज्ञात करें जिसमें कोई त्रुटि है।

मानव जाति अपने को पशुओ का श्रेष्ठ और सभ्य होने का दावा करती है।

- Ans
- 1. अपने को पशुओ का
 - 2. श्रेष्ठ और सभ्य होने का
 - 3. दावा करती है।
 - 4. मानव जाति

Question ID : 9895803774
Chosen Option : 2

Q.1
4 दिए गए शब्द के पर्यायवाची शब्द का चयन करें।

अभ्युदय

- Ans
- 1. इच्छा
 - 2. आकांक्षा
 - 3. अवनति
 - 4. उन्नति

Question ID : 9895803792
Chosen Option : 1

Q.1
5 दिए गए शब्द का विलोम चुनें।

विस्तृत

- Ans
- 1. दीर्घ
 - 2. अधम
 - 3. संक्षिप्त
 - 4. अवर

Question ID : 9895803791
Chosen Option : 3

Q.1
6 दिए गए वाक्य में रेखांकित खंड को प्रतिस्थापित करने के लिए उपयुक्त विकल्प का चयन करें।

जीवन अवसरों में एक धारा है।

- Ans
- 1. अवसरों की एक धारा
 - 2. अवसरों पर धारा
 - 3. अवसरों के एक धारा
 - 4. अवसरों का एक धारा

Question ID : 9895803778
Chosen Option : 1

Q.1
7 दिए गए वाक्य में रेखांकित खंड को प्रतिस्थापित करने के लिए उपयुक्त विकल्प का चयन करें।

अपने कार्य को अपने आप करना ही स्वावलंबन कहलाती है।

- Ans
- 1. स्वावलंबी कहलाता हैं।
 - 2. स्वावलंबन कहलाते हैं।
 - 3. स्वावलंबन कहलाता है।
 - 4. स्वावलंबन कहलाते हैं।

Question ID : 9895803777
Chosen Option : 3

Q.1
8 दिए गए शब्द का विलोम चुनें।

कनिष्ठ

- Ans
- 1. सहायक
 - 2. वरिष्ठ
 - 3. अनुदार
 - 4. सहकर्मी

Question ID : 9895803790

Q.1 निम्नलिखित में से उस विकल्प का चयन करें जो 'चेहरे पर हवाइयाँ उड़ना' मुहावरे का अर्थ व्यक्त करता है।

- Ans
- 1. प्रसन्न होना
 - 2. चेहरे पर हवा लगाना
 - 3. निश्चिंत होना
 - 4. घबरा जाना

Question ID : 9895803795

Chosen Option : 4

Q.2 सही वर्तनी वाले शब्द का चयन करें।

- Ans
- 1. निरामिष
 - 2. नीरामिष
 - 3. निरामईष
 - 4. निरामिश

Question ID : 9895803798

Chosen Option : 1

Q.2 रिक्त स्थान को भरने के लिए उपयुक्त शब्द का चयन करें।

राम ने रावण से _____ किया।

- Ans
- 1. भेदभाव
 - 2. युद्ध
 - 3. ईर्ष्या
 - 4. समझौता

Question ID : 9895803783

Chosen Option : 2

Q.2 रिक्त स्थान को भरने के लिए उपयुक्त शब्द का चयन करें।

नेता ने बहुत ही बढ़िया _____ दिया।

- Ans
- 1. प्रवचन
 - 2. भाषण
 - 3. आख्यान
 - 4. वाद-विवाद

Question ID : 9895803782

Chosen Option : 2

Q.2
3 रिक्त स्थान को भरने के लिए उपयुक्त शब्द का चयन करें।

योद्धा ने बहादुरी के साथ _____ की।

- Ans
- 1. लिखाई
 - 2. रुलाई
 - 3. पढ़ाई
 - 4. लड़ाई

Question ID : 9895803781
Chosen Option : 4

Q.2
4 दिए गए वाक्य का वह भाग ज्ञात करें जिसमें कोई त्रुटि है।

आज दुर्भाग्य से शिक्षण संस्थाओं पर अनुशासनहीनता का आधिक्य है।

- Ans
- 1. आधिक्य है।
 - 2. आज दुर्भाग्य से
 - 3. अनुशासनहीनता का
 - 4. शिक्षण संस्थाओं पर

Question ID : 9895803776
Chosen Option : 2

Q.2
5 दिए गए वाक्य का वह भाग ज्ञात करें जिसमें कोई त्रुटि है।

संतों को जीवन परोपकार के लिए होता है।

- Ans
- 1. होता है।
 - 2. संतों को
 - 3. जीवन
 - 4. परोपकार के लिए

Question ID : 9895803775
Chosen Option : --