

Constable (GD) in CAPFs, NIA, SSF and Rifleman (GD) in Assam Rifles Examination, 2018

Roll No. :	GovtJobsAlert.In
Registration No.	GovtJobsAlert.In
Name :	GovtJobsAlert.In
Exam Venue :	iON Digital Zone iDZ Vastral
Exam Time :	4:00 PM - 5:30 PM
Exam Date :	13/02/2019

Section : General Section

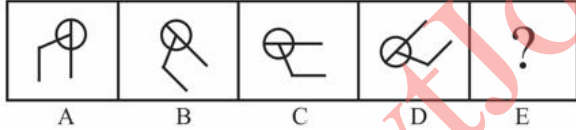
Q.1 दिए गए विकल्पों में से असंगत का चयन करें।

- Ans
- 1. कैनबेरा
 - 2. काबुल
 - 3. विएना
 - 4. बहरीन

Question ID : 9895802803

Chosen Option : 3

Q.2 विकल्पों में से उस आकृति का चयन करें जो दी गई श्रृंखला में अगले स्थान पर आएगी।



Ans

- 1.
- 2.
- 3.
- 4.

Question ID : 9895802820
Chosen Option : 4

Q.3 सात मित्र O, P, Q, R, S, T और U एक पंक्ति में बैठ कर फिल्म देख रहे हैं। S एक छोर पर बैठा है। Q, S के दाएँ ओर से दूसरे स्थान पर बैठा है। P, O और Q के बीच में बैठा है। U किसी भी छोर पर नहीं बैठा है। R, T के बाएँ ओर बैठा है। P के ठीक दाएँ ओर कौन बैठा है?

- Ans
- 1. U
 - 2. O
 - 3. Q
 - 4. R

Question ID : 9895802809
Chosen Option : 3

Q.4 उस विकल्प का चयन करें जो दी गई श्रृंखला में प्रश्न चिह्न (?) के स्थान पर आएगा।

7, 18, 40, 73, ?

- Ans
- 1. 115
 - 2. 107
 - 3. 117
 - 4. 127

Question ID : 9895802814
Chosen Option : 3

Q.5 उस विकल्प का चयन करें जो दर्पण के दायीं ओर रखे जाने पर दिए गए शब्द की दर्पण छवि से सर्वाधिक मेल खाता है।

QUENCH

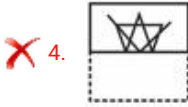
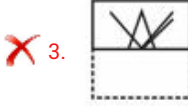
- Ans
- 1.
 - 2.
 - 3.
 - 4.

Question ID : 9895802823
Chosen Option : 1

Q.6 पैटर्न के साथ एक वर्गाकार पारदर्शी कागज पत्रक दिया गया है। पारदर्शी कागज पत्रक को बिंदुंकित रेखा पर मोड़े जाने पर पैटर्न कैसा दिखाई देगा?



Ans



Question ID : 9895802824
Chosen Option : 1

Q.7 उस विकल्प का चयन करें जो दी गई तीसरी संख्या से उसी प्रकार से संबंधित है जिस प्रकार दूसरी संख्या पहली संख्या से संबंधित है।

19: 441 :: 17: ?

- Ans ✓ 1. 361
✗ 2. 169
✗ 3. 225
✗ 4. 144

Question ID : 9895802816
Chosen Option : 1

Q.8 एक निश्चित कूट भाषा में OOOLOGY को 89 के रूप में लिखा जाता है। उसी कूट भाषा में VIROLOGY को कैसे लिखा जाएगा?

- Ans ✗ 1. 89
✗ 2. 113
✗ 3. 97
✓ 4. 123

Question ID : 9895802808
Chosen Option : 4

Q.9 दिए गए विकल्पों में से असंगत संख्या का चयन करें।

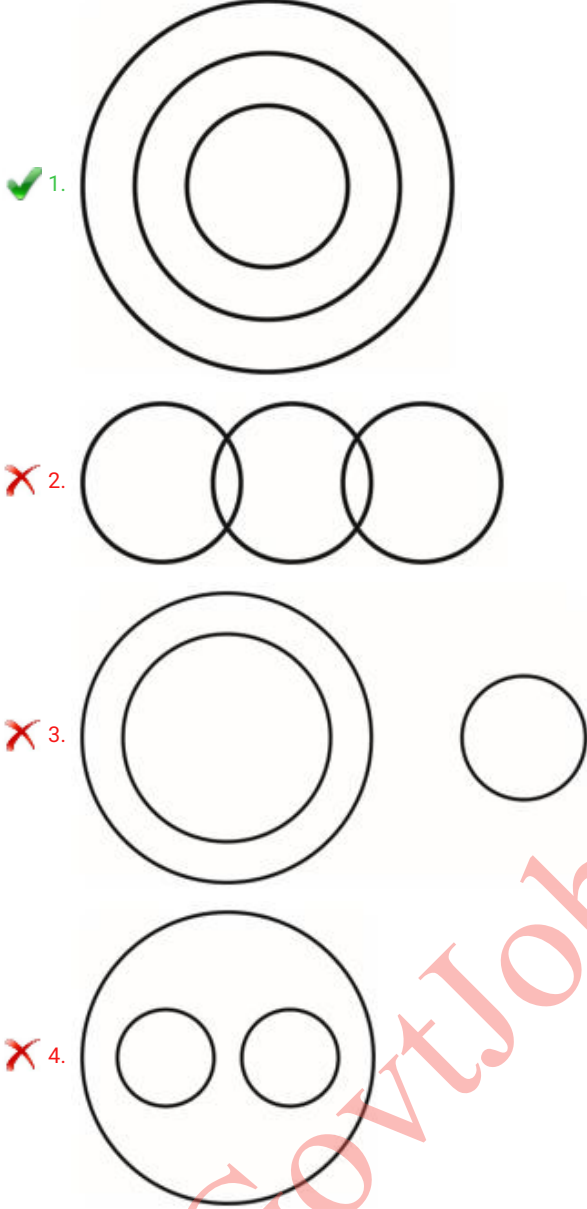
- Ans ✓ 1. 566
✗ 2. 357
✗ 3. 519
✗ 4. 276

Question ID : 9895802817
Chosen Option : 1

Q.1 0 उस वेन आरेख का चयन करें जो दिए गए वर्गों को सर्वोत्तम ढंग से दर्शाता है।

भारत, विशाखापत्तनम, आंध्र प्रदेश

Ans



Question ID : 9895802825
Chosen Option : 1

Q.1 नीचे दिए गए कथनों के बाद दो निष्कर्ष I और II दिए गए हैं। यह मानते हुए कि कथनों में दी गई जानकारी सत्य है, भले ही वह सर्वज्ञात तथ्यों से भिन्न प्रतीत होती हो और यह निर्णय करें कि कौन सा / से निष्कर्ष तार्किक और निश्चित रूप से कथन में दी गई जानकारी का अनुसरण करता है / करते हैं।

कथन:

- 1) सभी बकरियां कुत्ते हैं।
- 2) कुछ बकरियां गाय हैं।

निष्कर्ष:

- I. कुछ कुत्ते गाय हैं।
- II. कुछ गायें कुत्ता हैं।

Ans 1. केवल निष्कर्ष II अनुसरण करता है।

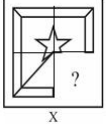
✓ 2. दोनों निष्कर्ष अनुसरण करते हैं।

✗ 3. न तो निष्कर्ष I न ही निष्कर्ष II अनुसरण करता है।

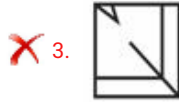
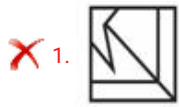
✗ 4. केवल निष्कर्ष I अनुसरण करता है।

Question ID : 9895802813
Chosen Option : 2

Q.1 दिए गए चार विकल्पों में से उस आकृति को चुनें, जिसे आकृति X के रिक्त स्थान में (बिना घुमाए) रखने पर पैटर्न पूरा हो जाएगा।



Ans



Question ID : 9895802821
Chosen Option : 4

Q.1 निम्नलिखित समीकरण को सही करने के लिए विकल्पों में दिए गए किन दो चिहनों को परस्पर बदला जाना चाहिए?
3 $24 + 2 \times 2 - 6 \div 3 = 22$

Ans ✗ 1. + और ×

✓ 2. + और -

✗ 3. × और ÷

✗ 4. - और ÷

Question ID : 9895802819
Chosen Option : 2

Q.1 दिए गए विकल्पों में से असंगत का चयन करें।

Ans ✗ 1. IET

✓ 2. SHT

✗ 3. SGH

X 4. HKO

Question ID : 9895802802
Chosen Option : 2

Q.1 एक निश्चित कूट भाषा में CONCOLOGY को YGOLOCNOC के रूप में लिखा जाता है। उसी कूट भाषा में
5 PALAEOGRAPHY को कैसे लिखा जाएगा?

- Ans
- X 1. YHPARGEOALAP
 - X 2. YHPRAGOEALAP
 - ✓ 3. YHPARGOEALAP
 - X 4. YHPARGOAEALAP

Question ID : 9895802807
Chosen Option : 3

Q.1 आठ मित्र A, B, C, D, E, F, G और H एक गोलाकार मेज़ के चारों ओर एक-दूसरे के तरफ मुंह करके भोजन कर
6 रहे हैं। A, F के सामने और B के दाएँ ओर से तीसरे स्थान पर है। G, F और D के बीच में है। H, D के बाएँ ओर
है। E, C और A के बीच में है। A के दाएँ ओर से तीसरे स्थान पर कौन बैठा है?

- Ans
- X 1. C
 - X 2. D
 - ✓ 3. G
 - X 4. B

Question ID : 9895802810
Chosen Option : 3

Q.1 पुस्तकालय में केवल एक शब्दकोष है जिसका उपयोग लाइब्रेरी में केवल एक ही
7 शब्दकोष है जिसका उपयोग 6 छात्रों P, Q, R, S, T और U द्वारा एक-एक
करके किया जाएगा। S, Q के तुरंत बाद और P के पहले इसका उपयोग करेगा और T,
R के तुरंत बाद और U से पहले इसका उपयोग करेगा। R, P के बाद शब्दकोष का
उपयोग करेगा। अंत में शब्दकोष का उपयोग कौन करेगा?

- Ans
- X 1. P
 - X 2. T
 - X 3. Q
 - ✓ 4. U

Question ID : 9895802811
Chosen Option : 4

Q.1 उस विकल्प का चयन करें जो तीसरे पद से उसी प्रकार से संबंधित है जिस प्रकार दूसरा पद पहले पद से संबंधित है।
8 कल्पना : अनुमान :: शांत : ?

- Ans
- X 1. घोषणा करना
 - X 2. घमंड
 - X 3. शांति

✓ 4. गंभीर

Question ID : 9895802804
Chosen Option : 1

Q.1 9 उस विकल्प का चयन करें जो दी गई श्रृंखला में प्रश्न चिह्न (?) के स्थान पर आएगा।

15, 19, 35, 71, ?

- Ans
- ✗ 1. 141
 - ✓ 2. 135
 - ✗ 3. 145
 - ✗ 4. 125

Question ID : 9895802815
Chosen Option : 2

Q.2 0 उस विकल्प का चयन करें जो तीसरे पद से उसी प्रकार से संबंधित है जिस प्रकार दूसरा पद पहले पद से संबंधित है।

झगड़ा : युद्ध :: इच्छा : ?

- Ans
- ✗ 1. दुखी
 - ✗ 2. पूछना
 - ✓ 3. आकांक्षा
 - ✗ 4. डुबाना

Question ID : 9895802805
Chosen Option : 3

Q.2 1 उस विकल्प का चयन करें जो तीसरे पद से उसी प्रकार से संबंधित है जिस प्रकार दूसरा पद पहले पद से संबंधित है।

DFH: IKM : EGI : ?

- Ans
- ✓ 1. JLN
 - ✗ 2. JIM
 - ✗ 3. JLM
 - ✗ 4. JLI

Question ID : 9895802806
Chosen Option : 1

Q.2 2 उस विकल्प का चयन करें जो दी गई श्रृंखला में प्रश्न चिह्न (?) के स्थान पर सही रूप में आएगा।

QLA, ONY, MPW, KRU, ?

- Ans
- ✗ 1. JTS
 - ✗ 2. ITU
 - ✓ 3. ITS
 - ✗ 4. IST

Question ID : 9895802801

Q.2
3 उस विकल्प का चयन करें जो दिए गए पैटर्न में प्रश्न चिह्न (?) के स्थान पर आएगा।

4	7	6
5	?	8
41	85	100

- Ans
- 1. 11
 - 2. 13
 - 3. 6
 - 4. 9

Question ID : 9895802818
Chosen Option : 3

Q.2
4 विकल्पों में से उस आकृति का चयन करें जिसमें 'X' से चिह्नित आकृति समाहित है। (घुमाने की अनुमति नहीं है)



Ans

- 1.
- 2.
- 3.
- 4.

Question ID : 9895802822
Chosen Option : 4

Q.2
5

नीचे दिए गए कथनों के बाद दो निष्कर्ष I और II दिए गए हैं। यह मानते हुए कि कथनों में दी गई जानकारी सत्य है, भले ही वह सर्वज्ञात तथ्यों से भिन्न प्रतीत होती हो और यह निर्णय करें कि कौन सा / से निष्कर्ष तार्किक और निश्चित रूप से कथन में दी गई जानकारी का अनुसरण करता है / करते हैं।

कथन:

- 1) सभी पक्षी प्याले हैं।
- 2) कुछ प्याले बिल्लियाँ हैं।

निष्कर्ष:

- I. सभी पक्षी बिल्लियाँ हैं।
- II. कुछ प्याले पक्षी हैं।

Ans

1. या तो निष्कर्ष I या निष्कर्ष II अनुसरण करता है।
2. केवल निष्कर्ष I अनुसरण करता है।
3. दोनों निष्कर्ष अनुसरण करते हैं।
4. केवल निष्कर्ष II अनुसरण करता है।

Question ID : 9895802812
Chosen Option : 4

Q.2
6

मैग्नस कार्लसन निम्नलिखित में से किस खेल के लिए प्रसिद्ध है?

Ans

1. फुटबॉल
2. टेनिस
3. शतरंज
4. कैरम

Question ID : 9895802862
Chosen Option : 1

Q.2
7

आम टीवी रिमोट कंट्रोल द्वारा निम्न में से किस तरंग का उपयोग किया जाता है?

Ans

1. इन्फ्रारेड तरंगें
2. रेडियो तरंगें
3. लेजर
4. अल्ट्रासोनिक तरंगें

Question ID : 9895802860
Chosen Option : 2

Q.2
8

निम्नलिखित में से कौन प्रोटीन का एक प्रमुख स्रोत नहीं है?

Ans

1. चना
2. सोयाबीन

✓ 3. गेहूँ

✗ 4. मछली

Question ID : 9895802858
Chosen Option : 3

Q.2 'स्वराज यह मेरा जन्मसिद्ध अधिकार है और मैं इसे लेकर ही रहूँगा' यह नारा निम्नलिखित में से किसने दिया था?

Ans ✗ 1. गोपाल कृष्ण गोखले

✗ 2. चित्तरंजन दास

✗ 3. दादा भाई नौरोजी

✓ 4. बाल गंगाधर तिलक

Question ID : 9895802875
Chosen Option : 4

Q.3 राज्य नीति के निर्देशक सिद्धांतों के विचार को भारतीय संविधान ने किस देश से अपनाया था?

Ans ✗ 1. दक्षिण अफ्रीका

✗ 2. ब्रिटेन

✗ 3. जर्मनी

✓ 4. आयरलैंड

Question ID : 9895802851
Chosen Option : 4

Q.3 निम्नलिखित में से किस जलीय जीव में गलफड़े (गिल्स) नहीं होते?

Ans ✗ 1. स्क्विड

✗ 2. क्लाउनफिश

✓ 3. व्हेल

✗ 4. ऑक्टोपस

Question ID : 9895802859
Chosen Option : 3

Q.3 तंजौर में बृहदेश्वर मंदिर किस धार्मिक संप्रदाय से संबंधित है?

Ans ✗ 1. आलवार

✗ 2. वैदिक

✗ 3. शाक्त

✓ 4. नायनमार

Question ID : 9895802867

Q.3
3 पाठ 'चरक संहिता' ग्रन्थ के अनुसार मानव शरीर में कितनी हड्डियाँ होती हैं?

- Ans
- 1. 360
 - 2. 208
 - 3. 370
 - 4. 206

Question ID : 9895802873
Chosen Option : 4

Q.3
4 भारत के निम्नलिखित में से किस राज्य में संग्रै त्योहार मनाया जाता है?

- Ans
- 1. अरुणाचल प्रदेश
 - 2. मणिपुर
 - 3. नागालैंड
 - 4. मेघालय

Question ID : 9895802869
Chosen Option : 2

Q.3
5 निम्नलिखित में से कौन सा दिन "मानव अधिकार दिवस" के रूप में मनाया जाता है?

- Ans
- 1. नवम्बर 10
 - 2. फरवरी 10
 - 3. दिसंबर 10
 - 4. जनवरी 10

Question ID : 9895802866
Chosen Option : 3

Q.3
6 तटीय ओडिशा का प्राचीन नाम क्या था?

- Ans
- 1. कलिंग
 - 2. कौशाम्बी
 - 3. कामरूप
 - 4. खानदेश

Question ID : 9895802874
Chosen Option : 1

Q.3
7 भारतीय संविधान के निम्नलिखित अनुच्छेदों में से कौन सा भारत के राष्ट्रपति को राष्ट्रीय आपातकाल घोषित करने की सत्ता प्रदान करता है?

- Ans
- 1. अनुच्छेद 371

✗ 2. अनुच्छेद 352

✗ 3. अनुच्छेद 372

✓ 4. अनुच्छेद 356

Question ID : 9895802852
Chosen Option : 2

Q.3
8 'द गाँड ऑफ स्मॉल थिंग्स' उपन्यास किस देश से प्रेरित है?

Ans ✗ 1. चीन

✓ 2. भारत

✗ 3. बांग्लादेश

✗ 4. नेपाल

Question ID : 9895802865
Chosen Option : 2

Q.3
9 केंद्रीय बजट 2018 के अनुसार, ऑपरेशन ग्रीन के लिए कितनी राशि आवंटित की गई थी?

Ans ✗ 1. 700 करोड़

✗ 2. 400 करोड़

✗ 3. 600 करोड़

✓ 4. 500 करोड़

Question ID : 9895802855
Chosen Option : 2

Q.4
0 निम्नलिखित में से कौन सा मंत्रालय हर साल संसद में आर्थिक सर्वेक्षण प्रस्तुत करता है?

Ans ✓ 1. वित्त

✗ 2. वाणिज्य

✗ 3. गृह कार्य

✗ 4. कॉर्पोरेट कार्य

Question ID : 9895802854
Chosen Option : 1

Q.4
1 भारत का प्रायद्वीपीय पठार निम्नलिखित में से किस भूभाग का हिस्सा है?

Ans ✗ 1. लॉरेशिया

✗ 2. एंडीयन

✗ 3. टेथिस

✓ 4. गोंडवाना भूमि

Question ID : 9895802871
Chosen Option : 4

Q.4
2 निम्नलिखित नदियों में से किसे "दक्षिण गंगा" भी कहा जाता है?

- Ans
- ✗ 1. कृष्णा
 - ✓ 2. गोदावरी
 - ✗ 3. कावेरी
 - ✗ 4. पेरियार

Question ID : 9895802870
Chosen Option : 2

Q.4
3 कैलाश पर्वत को हिलाते हुए रावण नामक लोकप्रिय चित्रण निम्न में से किस गुफा में चित्रित किया गया है?

- Ans
- ✗ 1. अजंता
 - ✗ 2. कान्हेरी
 - ✓ 3. एलोरा
 - ✗ 4. हातीगुंफा

Question ID : 9895802868
Chosen Option : 1

Q.4
4 राज्य सभा का पदेन अध्यक्ष कौन होता है?

- Ans
- ✗ 1. प्रधान मंत्री
 - ✗ 2. राज्यसभा में विपक्ष के नेता
 - ✗ 3. सभापति
 - ✓ 4. भारत के उपराष्ट्रपति

Question ID : 9895802853
Chosen Option : 4

Q.4
5 निम्नलिखित में से कौन से शब्द का प्रयोग बैंकिंग क्षेत्र में नहीं होता है?

- Ans
- ✓ 1. शून्यकाल (ज़ीरो आवर)
 - ✗ 2. संपार्श्विक (कोलेटरल)
 - ✗ 3. व्याज दर अदला बदली (इंटररेस्ट रेट स्वेप)
 - ✗ 4. रेपो दर (रेपो रेट)

Question ID : 9895802856

Q.4
6 "द लोग वोक टू फ्रीडम" निम्नलिखित में से किसकी आत्मकथा है?

- Ans
- ✓ 1. नेल्सन मंडेला
 - ✗ 2. जॉहन एफ. कैनेडी
 - ✗ 3. मार्टिन लूथर किंग
 - ✗ 4. अब्राहम लिंकन

Question ID : 9895802864
Chosen Option : 4

Q.4
7 एलिमेंट्री कैनाल (आहार मार्ग) के अंगों द्वारा सावित कौन सा रस वसा के पाचन में महत्वपूर्ण भूमिका निभाता है?

- Ans
- ✗ 1. हाइड्रोक्लोरिक अम्ल, बलगम
 - ✗ 2. लार, हाइड्रोक्लोरिक अम्ल
 - ✓ 3. पित्त रस, अग्नाशयी रस
 - ✗ 4. अग्नाशयी रस, लार

Question ID : 9895802861
Chosen Option : 2

Q.4
8 निम्नलिखित में से कौन सा कथन "स्थानिक प्रजातियों" प्रका वर्णन करता है?

- Ans
- ✓ 1. प्रजातियाँ जो केवल कुछ विशेष क्षेत्रों में पाई जाती हैं।
 - ✗ 2. प्रजातियाँ जो विदेशों से आई हैं।
 - ✗ 3. कम आबादी वाली प्रजातियाँ लुप्तप्राय प्रजातियों की श्रेणी में जा सकती हैं।
 - ✗ 4. प्रजातियाँ जो गहन खोजों के बाद मौजूदा नहीं पाई गई।

Question ID : 9895802872
Chosen Option : 3

Q.4
9 प्रोटीन की उपस्थिति का परीक्षण करने के लिए निम्नलिखित में से कौन सा घोल आवश्यक है?

- Ans
- ✓ 1. कॉपर सल्फेट और कास्टिक सोडा घोल
 - ✗ 2. आयोडीन घोल
 - ✗ 3. कॉपर सल्फेट और आयोडीन घोल
 - ✗ 4. आयोडीन और कास्टिक सोडा घोल

Question ID : 9895802857
Chosen Option : 2

Q.5
0 भारत में राष्ट्रीय खेल दिवस कौन से दिन मनाया जाता है?

- Ans
- 1. अगस्त 26
 - 2. अगस्त 29
 - 3. अगस्त 28
 - 4. अगस्त 27

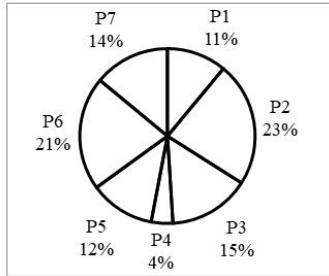
Question ID : 9895802863
Chosen Option : 2

Q.5
1 एक निश्चित राशि पर 15% की वार्षिक दर से तीन वर्षों का साधारण ब्याज ₹ 9000 है। यदि ब्याज की दर 30% हो जाए, तो दो वर्षों का साधारण ब्याज क्या होगा?

- Ans
- 1. ₹ 9000
 - 2. ₹ 27000
 - 3. ₹ 4500
 - 4. ₹ 12000

Question ID : 9895804605
Chosen Option : 4

Q.5
2 नीचे दिया गया पाई चार्ट एक देश के लिए 7 विभिन्न वस्तुओं P1, P2, P3, P4, P5, P6 तथा P7 के आयात को कुल आयात के प्रतिशत के रूप में दर्शाता है।



यदि आइटम P1 के कुल आयात ₹ 33000 है, तो आइटम P2 के आयात का मान क्या है?

- Ans
- 1. 46000
 - 2. 69000
 - 3. 57500
 - 4. 80500

Question ID : 9895804615
Chosen Option : 2

Q.5
3 यदि एक वस्तु का क्रय मूल्य ₹ 928 है तथा लाभ 15% है, तो कुल लाभ क्या होगा?

- Ans
- 1. ₹ 168.40
 - 2. ₹ 154.50
 - 3. ₹ 139.20
 - 4. ₹ 212

Question ID : 9895804601

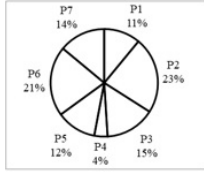
Q.5 एक आयताकार मेज का परिमाण 60 से.मी. है। यदि आयताकार मेज का क्षेत्रफल 209 से.मी.² है, तो मेज की लंबाई क्या होगी?

- Ans
- 1. 21 से.मी.
 - 2. 13 से.मी.
 - 3. 19 से.मी.
 - 4. 17 से.मी.

Question ID : 9895804612

Chosen Option : 3

Q.5 नीचे दिया गया पाई चार्ट एक देश के लिए 7 विभिन्न वस्तुओं P1, P2, P3, P4, P5, P6 तथा P7 के आयात को कुल आयात के प्रतिशत के रूप में दर्शाता है।



आइटम P6 का आयात आइटम P5 के आयात से कितना प्रतिशत अधिक है?

- Ans
- 1. 33%
 - 2. 9%
 - 3. 75%
 - 4. 80%

Question ID : 9895804614

Chosen Option : 2

Q.5 $512 \div 16 + 4 \times \frac{5}{2}$ का $\left(\frac{1}{8} + \frac{1}{3}\right)$ का मान क्या है?

- Ans
- 1. $\frac{439}{12}$
 - 2. $\frac{443}{12}$
 - 3. $\frac{449}{12}$
 - 4. $\frac{455}{12}$

Question ID : 9895804593

Chosen Option : 1

Q.5 यदि $1/A : 1/B : 1/C = 2 : 3 : 4$ है, तो $A : B : C$ का अनुपात क्या होगा?

- Ans
- 1. 3 : 6 : 4

2. 4 : 3 : 6
 3. 12 : 6 : 8
 4. 6 : 4 : 3

Question ID : 9895804603
Chosen Option : 2

Q.5 $2^2 \times 3^5 \times 7^3$ तथा $2^4 \times 3^4 \times 7^1$ का लघुत्तम समापवर्त्य क्या होगा?

- Ans 1. $2^4 \times 3^6 \times 7^4$
 2. $2^6 \times 3^9 \times 7^4$
 3. $2^4 \times 3^5 \times 7^3$
 4. $2^2 \times 3^4 \times 7^1$

Question ID : 9895804592
Chosen Option : 4

Q.5 किसी आयत की लंबाई तथा चौड़ाई 16 से.मी. तथा 12 से.मी. है। आयत का क्षेत्रफल क्या होगा?

- Ans 1. 212 से.मी.²
 2. 144 से.मी.²
 3. 176 से.मी.²
 4. 192 से.मी.²

Question ID : 9895804611
Chosen Option : 4

Q.6 P, Q को एक वस्तु 5% हानि पर बेचता है तथा Q, R को वह वस्तु 20% हानि पर बेचता है। यदि R वस्तु के लिए ₹ 2812 चुकाता है, तो P के लिए क्रय मूल्य क्या था?

- Ans 1. ₹ 3700
 2. ₹ 3515
 3. ₹ 3750
 4. ₹ 3250

Question ID : 9895804600
Chosen Option : 1

Q.6 मोहन 187 कि.मी. की एक दूरी को S कि.मी./घंटा की गति से तय करता है। यदि मोहन अपनी गति को 6 कि.मी./घंटा से बढ़ा देता है, तो वह 6 घंटे कम लेता है। S का मान क्या है?

- Ans 1. 12 कि.मी./घंटा
 2. 11 कि.मी./घंटा
 3. 13 कि.मी./घंटा
 4. 14 कि.मी./घंटा

Q.6 नीचे दिए गए डेटा अलग-अलग अंक प्राप्त करने वाले कक्षा A तथा

B के छात्रों की संख्या दर्शाता है।

अंक	कक्षा A के छात्र	कक्षा B के छात्र
0-2	3	2
2-4	4	1
4-6	1	3
6-8	1	1
8-10	1	1
10-12	0	2

A तथा B का संयुक्त माध्य क्या है?

- Ans
- 1. 3.5
 - 2. 3.75
 - 3. 4.7
 - 4. 4

Q.6 एक 250 मीटर लम्बी रेलगाड़ी एक 350 मीटर लम्बे पुल को पार करने में 30 सेकण्ड लेती है। एक 550 मीटर लम्बे
3 पुल को पार करने में रेलगाड़ी कितना समय लेगी?

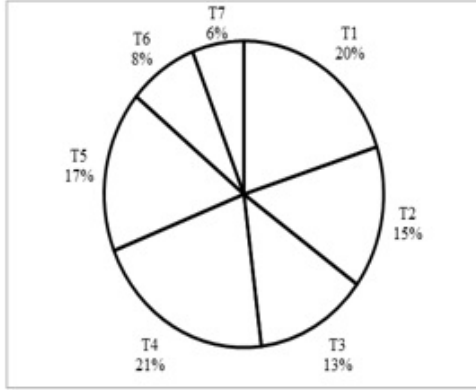
- Ans
- 1. 40 सेकण्ड
 - 2. 38 सेकण्ड
 - 3. 35 सेकण्ड
 - 4. 42 सेकण्ड

Q.6 एक वस्तु का अंकित मूल्य उसके क्रय मूल्य से 70% अधिक है। 10% की छूट देने के पश्चात् वस्तु ₹ 1071 की बेची
4 गई है। वस्तु का क्रय मूल्य क्या होगा?

- Ans
- 1. ₹ 620
 - 2. ₹ 700
 - 3. ₹ 590
 - 4. ₹ 530

Q.6
5

नीचे दिया गया पाई चार्ट किसी शहर में एक वर्ष के लिए विभिन्न प्रकार की कारों की बिक्री दर्शाता है। शहर में कारों की कुल बिक्री 600000 है।



दिए गए वर्ष में शहर में कितनी T4 कारों की बिक्री हुई हैं?

- Ans
- 1. 128000
 - 2. 126000
 - 3. 144000
 - 4. 138000

Question ID : 9895804616
Chosen Option : 2

Q.6 U, V तथा W क्रमशः 15 : 20 : 27 के अनुपात में निवेश करते हैं। यदि वर्ष के अंत में वे कुल ₹ 10230 का लाभ कमाते हैं, तो लाभ में V का हिस्सा क्या है?

- Ans
- 1. ₹ 2870
 - 2. ₹ 3300
 - 3. ₹ 3500
 - 4. ₹ 3150

Question ID : 9895804602
Chosen Option : 2

Q.6 एक कक्षा में कुल 70 छात्र हैं। 26 लड़कियों का औसत वजन 28 कि.ग्रा. है तथा बचे हुए विद्यार्थियों का औसत वजन 35 कि.ग्रा. है। सभी 70 विद्यार्थियों का औसत वजन (कि.ग्रा में) क्या होगा?

- Ans
- 1. 32.4 कि.ग्रा.
 - 2. 34.6 कि.ग्रा.
 - 3. 35.2 कि.ग्रा.
 - 4. 36.8 कि.ग्रा.

Question ID : 9895804595

Chosen Option : 1

Q.6 एक परिवार का औसत मासिक व्यय प्रथम 2 महीने के लिए ₹ 8160 है, अगले 5 महीने के लिए ₹ 12780 है तथा
8 अगले 5 महीने के लिए ₹ 14280 है। यदि परिवार पूरे वर्ष में ₹ 66300 बचाता है, तो परिवार की औसत मासिक आय क्या होगी?

- Ans
- 1. ₹ 18100
 - 2. ₹ 18000
 - 3. ₹ 18260
 - 4. ₹ 18160

Question ID : 9895804596

Chosen Option : 3

Q.6 यदि C अकेला एक कार्य का दो-तिहाई 12 दिन में पूरा कर सकता है, तो C संपूर्ण कार्य को कितने दिन में पूरा कर सकता है?

- Ans
- 1. 18 दिन
 - 2. 8 दिन
 - 3. 24 दिन
 - 4. 15 दिन

Question ID : 9895804608

Chosen Option : 1

Q.7 दो वृत्तों की त्रिज्याएँ 15 से.मी. तथा 8 से.मी. हैं। यदि एक तीसरे वृत्त का क्षेत्रफल दोनों वृत्तों के क्षेत्रफल के योग के बराबर है, तो तीसरे वृत्त की त्रिज्या क्या होगी?

- Ans
- 1. 23 से.मी.
 - 2. 21 से.मी.
 - 3. 19 से.मी.
 - 4. 17 से.मी.

Question ID : 9895804613

Chosen Option : 2

Q.7 एक राशि पर पाँचवें वर्ष का चक्रवृद्धि ब्याज ₹ 7800 है तथा छठे वर्ष का चक्रवृद्धि ब्याज ₹ 9048 है
1 (ब्याज का संयोजन वार्षिक किया गया है)। ब्याज दर क्या है?

- Ans
- 1. 12%
 - 2. 14%
 - 3. 15%
 - 4. 16%

Question ID : 9895804606

Chosen Option : 2

Q.7 M एक कार्य को L द्वारा लिए गए समय से 14 दिन कम में पूरा कर सकता है। यदि M तथा L दोनों मिलकर
2 समान कार्य को 24 दिन में पूरा कर सकते हैं, तो M अकेला समान कार्य को कितने दिन में पूरा कर सकता है?

- Ans
- 1. 21 दिन
 - 2. 56 दिन
 - 3. 42 दिन
 - 4. 35 दिन

Question ID : 9895804607
Chosen Option : 2

Q.7 रवि और मनोज के बीच हुए एक चुनाव में रवि को कुल मान्य मतों के 61% मिलते हैं। यदि कुल मत 25000 थे
3 तथा कुल मतों के 20% को अमान्य घोषित किया गया है, तो दूसरे उम्मीदवार मनोज को कितने मत मिलेंगे?

- Ans
- 1. 8025
 - 2. 8200
 - 3. 9750
 - 4. 7800

Question ID : 9895804599
Chosen Option : 4

Q.7
4 $1040 \div 65 - 8 \times \frac{1}{2}$ का $\left(\frac{1}{2} - \frac{1}{3}\right)$ का मान क्या है?

- Ans
- 1. $\frac{44}{3}$
 - 2. $\frac{49}{3}$
 - 3. $\frac{46}{3}$
 - 4. $\frac{50}{3}$

Question ID : 9895804594
Chosen Option : 3

Q.7 दो वस्तुओं का मूल्य क्रमशः 5 : 6 के अनुपात में है। पहली वस्तु का मूल्य 30% बढ़ाया जाता है तथा दूसरी वस्तु का
5 मूल्य X% घटाया जाता है। यदि नया अनुपात क्रमशः 13 : 11 है, तो X का मान क्या है?

- Ans
- 1. 12.5
 - 2. 9.09
 - 3. 8.33
 - 4. 11.11

Question ID : 9895804604
Chosen Option : 2

Section : English Language

Q.1

Select the most appropriate synonym of the given word.

GULLIBLE

- Ans
- 1. Innocent
 - 2. Perceptive
 - 3. Credulous
 - 4. Knowledgeable

Question ID : 9895804411
Chosen Option : --

Q.2 Select the most appropriate word to fill in the blank.

We need a _____ leader for the nation in these troubled times.

- Ans
- 1. sturdy
 - 2. dynamic
 - 3. gifted
 - 4. hard-core

Question ID : 9895804420
Chosen Option : --

Q.3 Select the correctly spelt word.

- Ans
- 1. Begining
 - 2. Bigining
 - 3. Beginning
 - 4. Beggining

Question ID : 9895804417
Chosen Option : --

Q.4 Identify the segment in the sentence which contains the grammatical error from the given options.

We would be very pleased if you could come to my house.

- Ans
- 1. my house
 - 2. would be
 - 3. if you
 - 4. come to

Question ID : 9895804423
Chosen Option : --

Comprehension:

In the following passage some words have been deleted. Fill in the blanks with the help of the alternatives given. Select the most appropriate option for each number.

The most common act of forgetfulness, I suppose (1) _____ in the matter of posting letters. So common is it that I am always (2) _____ to trust a departing visitor to post an important (3) _____. So before handing over the letter I make him (4) _____ to post it immediately. As for myself, anyone (5) _____ asks me to post a letter is a poor judge of my character.

SubQuestion No : 5

Q.5 Fill in blank (1) with the most appropriate option.

- Ans
- 1. occurs
 - 2. takes
 - 3. develops
 - 4. creates

Question ID : 9895804431
Chosen Option : --

Comprehension:

In the following passage some words have been deleted. Fill in the blanks with the help of the alternatives given. Select the most appropriate option for each number.

The most common act of forgetfulness, I suppose (1) _____ in the matter of posting letters. So common is it that I am always (2) _____ to trust a departing visitor to post an important (3) _____. So before handing over the letter I make him (4) _____ to post it immediately. As for myself, anyone (5) _____ asks me to post a letter is a poor judge of my character.

SubQuestion No : 6

Q.6 Fill in blank (2) with the most appropriate option.

- Ans
- 1. reluctant
 - 2. frightened
 - 3. indifferent
 - 4. willing

Question ID : 9895804432
Chosen Option : --

Comprehension:

In the following passage some words have been deleted. Fill in the blanks with the help of the alternatives given. Select the most appropriate option for each number.

The most common act of forgetfulness, I suppose (1) _____ in the matter of posting letters. So common is it that I am always (2) _____ to trust a departing visitor to post an important (3) _____. So before handing over the letter I make him (4) _____ to post it immediately. As for myself, anyone (5) _____ asks me to post a letter is a poor judge of my character.

SubQuestion No : 7

Q.7 Fill in blank (3) with the most appropriate option.

- Ans
- 1. mail
 - 2. letter
 - 3. message
 - 4. parcel

Question ID : 9895804433
Chosen Option : --

Comprehension:

In the following passage some words have been deleted. Fill in the blanks with the help of the alternatives given. Select the most appropriate option for each number.

The most common act of forgetfulness, I suppose (1) _____ in the matter of posting letters. So common is it that I am always (2) _____ to trust a departing visitor to post an important (3) _____. So before handing over the letter I make him (4) _____ to post it immediately. As for myself, anyone (5) _____ asks me to post a letter is a poor judge of my character.

SubQuestion No : 8

Q.8 Fill in blank (4) with the most appropriate option.

- Ans
- 1. pledge
 - 2. ready
 - 3. assure
 - 4. promise

Question ID : 9895804434
Chosen Option : --

Comprehension:

In the following passage some words have been deleted. Fill in the blanks with the help of the alternatives given. Select the most appropriate option for each number.

The most common act of forgetfulness, I suppose (1) _____ in the matter of posting letters. So common is it that I am always (2) _____ to trust a departing visitor to post an important (3) _____. So before handing over the letter I make him (4) _____ to post it immediately. As for myself, anyone (5) _____ asks me to post a letter is a poor judge of my character.

SubQuestion No : 9

Q.9 Fill in blank (5) with the most appropriate option.

- Ans
- 1. whom
 - 2. which
 - 3. that
 - 4. who

Question ID : 9895804435
Chosen Option : --

Q.1
0 Fill in the blanks with the most appropriate words.

She has been reduced _____ a skeleton due to her illness.

- Ans
- 1. for
 - 2. in
 - 3. with
 - 4. to

Question ID : 9895804425
Chosen Option : --

Q.1
1 Select the most appropriate synonym of the given word.

ELABORATE

- Ans
- 1. Detailed
 - 2. Sketchy
 - 3. Appropriate
 - 4. Elongated

Question ID : 9895804410
Chosen Option : --

Q.1
2 Select the most appropriate antonym of the given word.

ABSURD

- Ans
- 1. sensible
 - 2. guilty
 - 3. sincere
 - 4. ridiculous

Question ID : 9895804413
Chosen Option : --

Q.1 Select the most appropriate option to substitute the underlined segment in the given sentence. If there is no need to substitute it, select No improvement.

The state government has announced that it was giving financial helps to the economically weaker sections of society.

- Ans
- 1. will give financial help
 - 2. No improvement.
 - 3. will give financial helps
 - 4. Gives financial helps

Question ID : 9895804429
Chosen Option : --

Q.1 Select the most appropriate antonym of the given word.

ABUNDANT

- Ans
- 1. adequate
 - 2. plentiful
 - 3. sufficient
 - 4. scarce

Question ID : 9895804412
Chosen Option : --

Q.1 Select the most appropriate meaning of the given idiom.

Hale and hearty.

- Ans
- 1. Healthy
 - 2. Happy
 - 3. Friendly
 - 4. Superior

Question ID : 9895804415
Chosen Option : --

Q.1 Identify the segment in the sentence which contains the grammatical error from the given options.

6

Even though I took a taxi, the train left before I reached the station.

- Ans
- 1. took a taxi

- 2. I reached
- 3. Even though
- 4. the train left

Question ID : 9895804422
Chosen Option : --

Q.1
7 Select the word which means the same as the group of words given.

One who collects stamps

- Ans
- 1. Philatelist
 - 2. Numismatist
 - 3. Philanthropist
 - 4. Plagiarist

Question ID : 9895804419
Chosen Option : --

Q.1
8 Select the word which means the same as the group of words given.

Originating or occurring naturally in the place or country where found.

- Ans
- 1. National
 - 2. Ingenious
 - 3. Ordinary
 - 4. Indigenous

Question ID : 9895804418
Chosen Option : --

Q.1
9 Select the most appropriate option to substitute the underlined segment in the given sentence. If there is no need to substitute it, select No improvement.

There is no reason why you should remain tense when I was promising to help you.

- Ans
- 1. No improvement.
 - 2. I promising to help you
 - 3. I have promised to help you
 - 4. I promised helping you

Question ID : 9895804427
Chosen Option : --

Q.2
0 Select the most appropriate meaning of the given idiom.

At one's wits end

- Ans
- 1. Without aim or purpose

- 2. Not knowing what to do
- 3. To take note of something
- 4. To disagree with something

Question ID : 9895804414
Chosen Option : --

Q.2
1 Select the correctly spelt word.

- Ans
- 1. Attendance
 - 2. Attandance
 - 3. Attendance
 - 4. Attandance

Question ID : 9895804416
Chosen Option : --

Q.2
2 Select the most appropriate option to substitute the underlined segment in the given sentence. If there is no need to substitute it, select No improvement.

Most of us fail to understand the objective of his frequent visits to this part of the country.

- Ans
- 1. No improvement.
 - 2. to understanding the objective of
 - 3. to understand the object of
 - 4. to understand the objectives to

Question ID : 9895804428
Chosen Option : --

Q.2
3 Select the most appropriate word to fill in the blank.

If you kill us, the Emperor can attack your kingdom on the _____ of avenging our death.

- Ans
- 1. pretense
 - 2. excuse
 - 3. pretext
 - 4. guise

Question ID : 9895804421
Chosen Option : --

Q.2
4 Fill in the blanks with the most appropriate words.

Switch off the air conditioner _____ you will catch a cold.

- Ans
- 1. or
 - 2. so
 - 3. and

4. but

Question ID : 9895804426
Chosen Option : --

Q.2 Identify the segment in the sentence which contains the grammatical error from the given options.

5

May I have your permission leaving the office a little early today?

- Ans 1. May I have
 2. a little
 3. leaving
 4. early today

Question ID : 9895804424
Chosen Option : --

Section : Hindi Language

Q.1 दिए गए वाक्य का वह भाग ज्ञात करें जिसमें कोई त्रुटि है।

जिसके जैसी संस्कार होंगे वैसी ही उसकी भाषा होगी।

- Ans 1. जिसके जैसी
 2. संस्कार होंगे
 3. वैसी ही उसकी
 4. भाषा होगी।

Question ID : 9895803901
Chosen Option : 1

Q.2 सही वर्तनी वाले शब्द का चयन करें।

- Ans 1. प्रियदरसी
 2. प्रियदर्शी
 3. प्रियदर्शि
 4. प्रियदर्षी

Question ID : 9895803924
Chosen Option : 2

Q.3 सही वर्तनी वाले शब्द का चयन करें।

- Ans 1. तटस्थ
 2. तटष्ठ
 3. टतस्थ
 4. ततष्ठ

Question ID : 9895803925
Chosen Option : 1

Q.4 दिए गए शब्द का विलोम चुनें।

अज्ञ

- Ans
- 1. विज्ञ
 - 2. अनुज्ञ
 - 3. आस्था
 - 4. आज्ञा

Question ID : 9895803917
Chosen Option : 1

Q.5 दिए गए वाक्य में रेखांकित खंड को प्रतिस्थापित करने के लिए उपयुक्त विकल्प का चयन करें।

दादाजी मोटियाँ रोटियाँ नहीं खाते।

- Ans
- 1. रोटियाँ मोटियाँ
 - 2. मोटे रोटियाँ
 - 3. मोटी रोटियाँ
 - 4. मोटा रोटी

Question ID : 9895803905
Chosen Option : 2

Q.6 दिए गए शब्द के पर्यायवाची शब्द का चयन करें।

बादल

- Ans
- 1. पानी
 - 2. पयोधर
 - 3. पर्वत
 - 4. पवन

Question ID : 9895803918
Chosen Option : 2

Q.7 रिक्त स्थान को भरने के लिए उपयुक्त शब्द का चयन करें।

किसान हल _____ खेत की ओर जा रहा है।

- Ans
- 1. लेकर
 - 2. तोड़कर
 - 3. धक्का देकर

✗ 4. मारकर

Question ID : 9895803906
Chosen Option : 1

Q.8 रिक्त स्थान को भरने के लिए उपयुक्त शब्द का चयन करें।

चारों ओर रंग ही रंग _____ गए।

- Ans
- ✓ 1. बिखर
 - ✗ 2. मुरझा
 - ✗ 3. बौखला
 - ✗ 4. भाग

Question ID : 9895803908
Chosen Option : 1

Q.9 निम्नलिखित में से उस विकल्प का चयन करें जो ' जमीन आसमान एक करना ' मुहाबरे का अर्थ व्यक्त करता है।

- Ans
- ✗ 1. कम परिश्रम करना
 - ✗ 2. जमीन को आसमान तक ले जाना
 - ✗ 3. जमीन और आसमान को मिलाना
 - ✓ 4. बहुत अधिक परिश्रम करना

Question ID : 9895803921
Chosen Option : 4

Q.10 निम्नलिखित में से उस विकल्प का चयन करें जो ' छाती पर मूँग दलना ' मुहाबरे का अर्थ व्यक्त करता है।

- Ans
- ✓ 1. दुख देना
 - ✗ 2. दली हुई मूँग को छाती पर रखना
 - ✗ 3. छाती से मूँग पीसना
 - ✗ 4. सुख देना

Question ID : 9895803920
Chosen Option : 1

Q.11 रिक्त स्थान को भरने के लिए उपयुक्त शब्द का चयन करें।

मैं _____ को परेशान नहीं करूँगा।

- Ans
- ✗ 1. कुछ
 - ✗ 2. कभी
 - ✓ 3. किसी

✗ 4. कोई

Question ID : 9895803907
Chosen Option : 3

Q.1
2 दिए गए शब्द का विलोम चुनें।

स्थूल

- Ans
- ✗ 1. अग्रज
 - ✗ 2. स्थिर
 - ✗ 3. अस्थिर
 - ✓ 4. सूक्ष्म

Question ID : 9895803916
Chosen Option : 3

Q.1
3 दिए गए शब्द के पर्यायवाची शब्द का चयन करें।

गंगा

- Ans
- ✗ 1. यमुना
 - ✓ 2. भागीरथी
 - ✗ 3. तटिनी
 - ✗ 4. नदी

Question ID : 9895803919
Chosen Option : 2

Q.1
4 दिए गए वाक्य का वह भाग ज्ञात करें जिसमें कोई त्रुटि है।

अपनी आय में से भावी जीवन के लिए कुछ अंश बचाकर रखनी बचत कहलाता है।

- Ans
- ✗ 1. भावी जीवन के लिए
 - ✗ 2. अपनी आय में से
 - ✓ 3. कुछ अंश बचाकर रखनी
 - ✗ 4. बचत कहलाता है।

Question ID : 9895803902
Chosen Option : 3

Comprehension:

निम्नलिखित गद्यांश के रिक्त स्थानों की पूर्ति गद्यांश के नीचे दिए गए प्रश्नों के अनुसार कीजिए -

संसार के सभी _____ (1) करुणा के सागर थे। गौतम बुद्ध ने राजपाट और सांसारिकता को _____ (2) ही महानता को प्राप्त किया। गांधीजी ने वकालत छोड़कर देश को _____ (3) कराने के लिए लड़ाई छेड़ दी। ईसा मसीह ने _____ (4) में अपने _____ (5) की आहुति दी।

SubQuestion No : 15

Q.1
5 गद्यांश में संकेतित रिक्त स्थान (1) के लिए उपयुक्त शब्द होगा

- Ans
- 1. राजा
 - 2. नेता
 - 3. महापुरुष
 - 4. विद्वान

Question ID : 9895803911
Chosen Option : 4

Comprehension:

निम्नलिखित गद्यांश के रिक्त स्थानों की पूर्ति गद्यांश के नीचे दिए गए प्रश्नों के अनुसार कीजिए -

संसार के सभी _____ (1) करुणा के सागर थे। गौतम बुद्ध ने राजपाट और सांसारिकता को _____ (2) ही महानता को प्राप्त किया। गांधीजी ने वकालत छोड़कर देश को _____ (3) कराने के लिए लड़ाई छेड़ दी। ईसा मसीह ने _____ (4) में अपने _____ (5) की आहुति दी।

SubQuestion No : 16

Q.1
6

गद्यांश में संकेतित रिक्त स्थान (2) के लिए उपयुक्त शब्द होगा

- Ans
- 1. देकर
 - 2. त्याग कर
 - 3. भूलकर
 - 4. लेकर

Question ID : 9895803912
Chosen Option : 2

Comprehension:

निम्नलिखित गद्यांश के रिक्त स्थानों की पूर्ति गद्यांश के नीचे दिए गए प्रश्नों के अनुसार कीजिए -

संसार के सभी _____ (1) करुणा के सागर थे। गौतम बुद्ध ने राजपाट और सांसारिकता को _____ (2) ही महानता को प्राप्त किया। गांधीजी ने वकालत छोड़कर देश को _____ (3) कराने के लिए लड़ाई छेड़ दी। ईसा मसीह ने _____ (4) में अपने _____ (5) की आहुति दी।

SubQuestion No : 17

Q.1
7 गद्यांश में संकेतित रिक्त स्थान (3) के लिए उपयुक्त शब्द होगा

- Ans
- 1. अराजक
 - 2. स्वछन्द
 - 3. परतंत्र
 - 4. स्वतंत्र

Question ID : 9895803913
Chosen Option : 4

Comprehension:

निम्नलिखित गद्यांश के रिक्त स्थानों की पूर्ति गद्यांश के नीचे दिए गए प्रश्नों के अनुसार कीजिए -

संसार के सभी _____ (1) करुणा के सागर थे। गौतम बुद्ध ने राजपाट और सांसारिकता को _____ (2) ही महानता को प्राप्त किया। गांधीजी ने वकालत छोड़कर देश को _____ (3) कराने के लिए लड़ाई छेड़ दी। ईसा मसीह ने _____ (4) में अपने _____ (5) की आहुति दी।

SubQuestion No : 18

Q.1
8 गद्यांश में संकेतित रिक्त स्थान (4) के लिए उपयुक्त शब्द होगा

- Ans
- 1. आत्महित
 - 2. मनहित
 - 3. जनहित
 - 4. स्वहित

Question ID : 9895803914
Chosen Option : 2

Comprehension:

निम्नलिखित गद्यांश के रिक्त स्थानों की पूर्ति गद्यांश के नीचे दिए गए प्रश्नों के अनुसार कीजिए -

संसार के सभी _____ (1) करुणा के सागर थे। गौतम बुद्ध ने राजपाट और सांसारिकता को _____ (2) ही महानता को प्राप्त किया। गांधीजी ने वकालत छोड़कर देश को _____ (3) कराने के लिए लड़ाई छेड़ दी। ईसा मसीह ने _____ (4) में अपने _____ (5) की आहुति दी।

SubQuestion No : 19

Q.1

9 गद्यांश में संकेतित रिक्त स्थान (5) के लिए उपयुक्त शब्द होगा

- Ans
- 1. प्राणों
 - 2. विचारों
 - 3. धन-धान्य
 - 4. सपनों

Question ID : 9895803915
Chosen Option : 1

Q.2
0 दिये गये वाक्यांश के लिए एक शब्द दीजिये।

जो मास में एक बार होता हो

- Ans
- 1. पाक्षिक
 - 2. साप्ताहिक
 - 3. वार्षिक
 - 4. मासिक

Question ID : 9895803923
Chosen Option : 4

Q.2
1 रिक्त स्थान को भरने के लिए उपयुक्त शब्द का चयन करें।

_____ ही बादल छाए, मोर नाचने लगा।

- Ans
- 1. किस
 - 2. कब
 - 3. जैसे
 - 4. वैसे

Question ID : 9895803909
Chosen Option : 3

Q.2
2 दिए गए वाक्य में रेखांकित खंड को प्रतिस्थापित करने के लिए उपयुक्त विकल्प का चयन करें।

आदर्श बालक सुबह उठकर अपनी माता-पिता को प्रणाम करते हैं।

- Ans
- 1. हमारे माता-पिता को
 - 2. उसके माता-पिता को
 - 3. अपने माता-पिता को
 - 4. अपना माता-पिता को

Question ID : 9895803903

Q.2
3 दिए गए वाक्य में रेखांकित खंड को प्रतिस्थापित करने के लिए उपयुक्त विकल्प का चयन करें।

व्यक्ति को अपना जीवन सफल बनाने के लिए आशा पर सहारा लेना चाहिए।

- Ans
- 1. आशा के सहारा
 - 2. आशाओं ने सहारा
 - 3. आशा की सहारा
 - 4. आशा का सहारा

Question ID : 9895803904

Chosen Option : 3

Q.2
4 दिये गये वाक्यांश के लिए एक शब्द दीजिये।

जो कुछ न जानता हो

- Ans
- 1. अल्पज्ञ
 - 2. अज्ञ
 - 3. सर्वज्ञ
 - 4. मर्मज्ञ

Question ID : 9895803922

Chosen Option : 2

Q.2
5 दिए गए वाक्य का वह भाग ज्ञात करें जिसमें कोई त्रुटि है।

लक्ष्यहीन मनुष्य जिंदगियों में कभी सार्थक कार्य नहीं कर सकता।

- Ans
- 1. लक्ष्यहीन मनुष्य
 - 2. नहीं कर सकता।
 - 3. जिंदगियों में कभी
 - 4. सार्थक कार्य

Question ID : 9895803900

Chosen Option : 3