

Constable (GD) in CAPFs, NIA, SSF and Rifleman (GD) in Assam Rifles Examination, 2018

Roll No. :	GovtJobsAlert.In
Registration No.	GovtJobsAlert.In
Name :	GovtJobsAlert.In
Exam Venue :	iON Digital Zone iDZ 1 Sector 62
Exam Time :	9:00 AM - 10:30 AM
Exam Date :	14/02/2019

Section : General Section

Q.1 एक निश्चित कूट भाषा में BICYCLE को 59 लिखा जाता है। उस कूट भाषा में WINDOW कैसे लिखा जाएगा?

- Ans
- 1. 91
 - 2. 88
 - 3. 89
 - 4. 77

Question ID : 9895802833
Chosen Option : 4

Q.2 उस विकल्प का चयन करें जो जब दर्पण को दाईं ओर रखने पर दिए गए शब्द के दर्पण प्रतिबिम्ब से सर्वाधिक मिलताजुलता हों।

UPRIGHT

- Ans
- 1.
 - 2.
 - 3.
 - 4.

Question ID : 9895802848
Chosen Option : 1

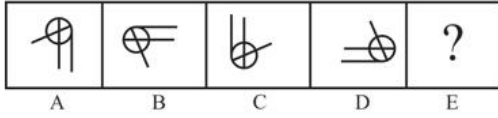
Q.3 जिस प्रकार दूसरा शब्द प्रथम शब्द से सम्बंधित है उसी प्रकार तीसरे शब्द से सम्बंधित शब्द का चयन दिए गए विकल्पों में से करें।

गर्बीला:सरकशी :: भान्ति?

- Ans
- 1. युद्ध
 - 2. भ्रम
 - 3. अहंकार
 - 4. पतन

Question ID : 9895802829
Chosen Option : 2

Q.4 विकल्पों में से उस आकृति का चयन करें जो दी गई श्रृंखला में अगले स्थान पर आएगी।



Ans

1.
2.
3.
4.

Question ID : 9895802845
Chosen Option : 4

Q.5 विकल्पों में से उस आकृति का चयन करें जिसमें 'X' से चिह्नित आकृति समाहित है। (घुमाने की अनुमति नहीं है)



Ans

1.
2.
3.
4.

Question ID : 9895802847
Chosen Option : 4

Q.6 उस विकल्प का चयन करें जो दी गई श्रेणी में (?) के चिन्ह का सही ढंग से स्थान लेगा। 16, 20, 36, 72, ?

- Ans 1. 116
 2. 146

✓ 3. 136

✗ 4. 126

Question ID : 9895802840
Chosen Option : 4

Q.7 आठ मित्र A, B, C, D, E, F, G और H एक गोलाकार मेज़ के इर्दगिर्द आमनेसामने बैठ कर भोजन कर रहे हैं। A, F के सामने और B की दाईं ओर से तीसरे स्थान पर है। G, F और D के बीच में है। H, D की बाईं ओर है। E, C और A के बीच में है। A की बाईं ओर से चौथे स्थान पर कौन बैठा है?

- Ans
- ✓ 1. F
 - ✗ 2. C
 - ✗ 3. D
 - ✗ 4. B

Question ID : 9895802835
Chosen Option : 1

Q.8 जिस प्रकार दूसरा शब्द प्रथम शब्द से सम्बंधित है उसी प्रकार तीसरे शब्द से सम्बंधित शब्द का चयन दिए गए विकल्पों में से करें।

अध्याय : पुस्तक :: चापः?

- Ans
- ✗ 1. घन
 - ✗ 2. समचतुर्भुज
 - ✓ 3. वृत्त
 - ✗ 4. त्रिभुज

Question ID : 9895802830
Chosen Option : 3

Q.9 जिस प्रकार दूसरा शब्द प्रथम शब्द से सम्बंधित है उसी प्रकार तीसरे शब्द से सम्बंधित शब्द का चयन दिए गए विकल्पों में से करें।

GKM : FIO :: EIK:?

- Ans
- ✗ 1. DFM
 - ✗ 2. DHM
 - ✓ 3. DGM
 - ✗ 4. DGN

Question ID : 9895802831
Chosen Option : 3

Q.10 दिए गए विकल्पों में से असंगत संख्या का चयन करें।

- Ans
- ✗ 1. 561
 - ✗ 2. 651
 - ✗ 3. 471
 - ✓ 4. 571

Question ID : 9895802842
Chosen Option : 4

Q.1 एक निश्चित कूट भाषा में BOTANY को OBATYN लिखा जाता है। उस कूट भाषा में OOLOGY कैसे लिखा जाएगा?

- Ans
- 1. OOOLGY
 - 2. OOOLYG
 - 3. OOLOYG
 - 4. OLOOYG

Question ID : 9895802832
Chosen Option : 2

Q.1 2 दिए गए विकल्पों में से असंगत विकल्प का चयन करें।

- Ans
- 1. बीजिंग
 - 2. ओटावा
 - 3. चिली
 - 4. थिम्पू

Question ID : 9895802828
Chosen Option : 3

Q.1 3 एक आकृति के साथ चतुष्कोण पारदर्शी कागज दिया गया है। जब पारदर्शी कागज को बिन्दुओं की बिन्दुदार रेखा से मोड़ा जाए तो आकृति किस तरह दिखाई देगी?



- Ans
- 1.
 - 2.
 - 3.
 - 4.

Question ID : 9895802849
Chosen Option : 4

Q.1
4

उस विकल्प का चयन करें जो दिए गए नमूने में (?) के चिन्ह का सही ढंग से स्थान लेगा ।

6	7	9
3	4	?
27	33	65

- Ans
1. 13
2. 4
3. 5
4. 11

Question ID : 9895802843
Chosen Option : 4

Q.1
5 दिए गए विकल्पों में से असंगत विकल्प का चयन करें।

- Ans
1. FJU
2. THI
3. ILP
4. JHU

Question ID : 9895802827
Chosen Option : 4

Q.1
6 जिस प्रकार दूसरी संख्या प्रथम संख्या से सम्बंधित है उसी प्रकार तीसरी संख्या से सम्बंधित संख्या का चयन दिए गए विकल्पों में से करें।

32 : 256 :: 16 : ?

- Ans
1. 66
2. 122
3. 144
4. 128

Question ID : 9895802841
Chosen Option : 4

Q.1
7 J, K L, M, N और O छः शिक्षक हैं। इनमें से प्रत्येक शिक्षक हिंदी, अंग्रेजी, गणित, विज्ञान, सामाजिक विज्ञान और कला में से अलग-अलग विषय पढ़ाता है, जरूरी नहीं इसी क्रम में। प्रत्येक शिक्षक, सोमवार से शनिवार के बीच, केवल एक दिन ही पढ़ाता है, जरूरी नहीं इसी क्रम में। J शनिवार को कला पढ़ाता है। L न तो अंग्रेजी पढ़ाता है न ही सामाजिक विज्ञान, मगर वह गुरुवार को पढ़ाता है। बुधवार K द्वारा पढ़ाए जाते गणितके लिए आरक्षित है। O, N के एक दिन पहले विज्ञान पढ़ाता है। सामाजिक विज्ञान, कला के एक दिन पहले पढ़ाया जाता है। विज्ञान और गणित पढ़ाए जाने वाले दिनों के बीच में आने वाले दिन कौन सा विषय पढ़ाया जाता है?

- Ans
1. विज्ञान
2. हिंदी
3. अंग्रेजी
4. कला

Question ID : 9895802836

Q.1 निम्नलिखित समीकरण को सही करने के लिए विकल्पों में दिए गए किन दो चिहनों को परस्पर बदला जाना चाहिए?

8

$$21 + 5 \times 2 - 21 + 3 = 12$$

Ans

1. \times और \div

2. $-$ और \times

3. $+$ और $-$

4. $-$ और \div

Question ID : 9895802844

Chosen Option : 3

Q.1 उस विकल्प का चयन करें जो दी गई श्रेणी में (?) के चिन्ह का सही ढंग से स्थान लेगा।

9

8, 19, 41, 74, ?

Ans

1. 118

2. 108

3. 128

4. 98

Question ID : 9895802839

Chosen Option : 1

Q.2 नीचे दिए गए कथन के बाद दो निष्कर्ष I और II हैं। भले ही यह सामान्य तथ्यों से भिन्न दिखाई देते हों, यह मानते हुए कि कौनसा/कौनसे निष्कर्ष तार्किक और निश्चित रूप से कथन में दी गई जानकारी सही है निर्धारित करें कि कथन में दी गई जानकारी का अनुसरण करता/करते हैं।

0

कथन:

1) कुछ आयतनें बल हैं।

2) कुछ प्रवाह आयतन हैं।

निष्कर्ष

I. कुछ आयतनें बल हैं।

II. कुछ आयतन प्रवाह हैं।

Ans

1. न निष्कर्ष I न ही निष्कर्ष II अनुसरण करता है।

2. दोनों निष्कर्ष अनुसरण करते हैं।

3. केवल निष्कर्ष I अनुसरण करता है।

4. केवल निष्कर्ष II अनुसरण करता है।

Question ID : 9895802838

Chosen Option : 2

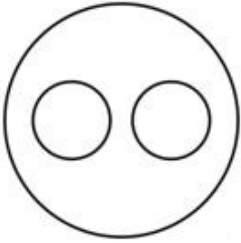
Q.2 वेन चित्र का चयन करें जो दी गई श्रेणियों को सही ढंग से दर्शाता है।

1

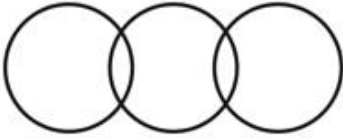
मुद्राएँ , युआन, बाहथ

Ans

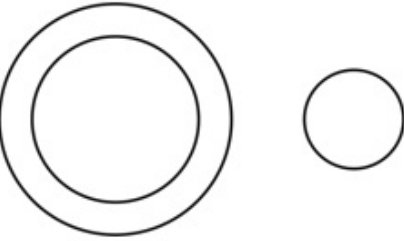
1.




2.



3.



4.



Question ID : 9895802850

Chosen Option : 3

Q.2 सात मित्र O, P, Q, R, S, T और U एक पंक्ति में बैठ कर फिल्म देख रहे हैं। S एक अंतिम छोर पर बैठा है। Q, S के दाईं ओर से दूसरे स्थान पर बैठा है। P, O और Q के बीच में बैठा है। U किसी भी अंतिम छोर पर नहीं बैठा है। R, T की बाईं ओर बैठा है। S और Q के बीच कौन बैठा है?

Ans



1. U



2. O



3. R

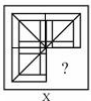


4. P

Question ID : 9895802834

Chosen Option : 4

Q.2 दिए गए चार विकल्पों में से एक आकृति का चयन, जिसे आकृति X के रिक्त स्थान (?) में रखे जाने पर आकार (पैटर्न) पूरा हो (घूर्णन की अनुमति नहीं है)।



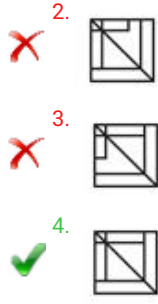
X

Ans



1.





Question ID : 9895802846
Chosen Option : 4

Q.2 उस विकल्प का चयन करें जो दी गई श्रेणी में (?) के चिन्ह का सही ढंग से स्थान लेगा।

RMB, POZ, NQX, LSV, ?

- Ans
1. JVS
2. JUS
3. JUT
4. JVT

Question ID : 9895802826
Chosen Option : 2

Q.2 नीचे दिए गए कथन के बाद दो निष्कर्ष I और II हैं। भले ही यह सामान्य तथ्यों से भिन्न दिखाई देते हों, यह मानते हुए कि कथन में दी गई जानकारी सही है, यह निर्धारित करें कि कौनसा/कौनसे निष्कर्ष तार्किक और निश्चित रूप से कथन में दी गई जानकारी का अनुसरण करता/करते हैं।

कथन:

- कुछ वाइन्स कुर्सियां हैं.
- सभी कुर्सियां इम्स हैं.

निष्कर्ष

- सभी कुर्सियां वाइन्स हैं .
- कुछ इम्स वाइन्स हैं.

- Ans
1. निष्कर्ष I या निष्कर्ष II अनुसरण करता है।
2. केवल निष्कर्ष II अनुसरण करता है।
3. केवल निष्कर्ष I अनुसरण करता है।
4. दोनों निष्कर्ष अनुसरण करते हैं।

Question ID : 9895802837
Chosen Option : 2

Q.2 86 वें संविधान संशोधन अधिनियम, 2002 ने भारत के संविधान में निम्नलिखित में से कौन सा अनुच्छेद दाखिल किया था?

- Ans
1. 20-A
2. 21-A
3. 56-C

✗ 4. 39-A

Question ID : 9895802894
Chosen Option : 4

Q.2
7 मांसपेशियों में ऐंठन का कारण क्या होता है?

- Ans
- ✗ 1. श्रान्त मांसपेशियां द्वारा वातापेक्षी रूप से श्वसन
 - ✓ 2. लैक्टिक एसिड का संचय
 - ✗ 3. पसीने के दौरान पानी की कमी
 - ✗ 4. रक्त परिसंचरण में वृद्धि

Question ID : 9895802880
Chosen Option : 3

Q.2
8 'गोल गुम्बज़' कहाँ पर स्थित है?

- Ans
- ✗ 1. हैदराबाद
 - ✗ 2. बीदर
 - ✗ 3. दौलताबाद
 - ✓ 4. विजयापुरा

Question ID : 9895802883
Chosen Option : 1

Q.2
9 निम्नलिखित में से कौन सा देश BASIC समूहीकरण का सदस्य नहीं है?

- Ans
- ✗ 1. ब्राज़िल
 - ✗ 2. दक्षिण अफ्रीका
 - ✓ 3. केन्या
 - ✗ 4. चीन

Question ID : 9895802899
Chosen Option : 3

Q.3
0 निम्नलिखित में से क्या भारत के सर्वोच्च न्यायालय के अधिकार क्षेत्र में नहीं है?

- Ans
- ✗ 1. मूल
 - ✗ 2. परामर्शक
 - ✗ 3. पुनर्विचार
 - ✓ 4. वित्तीय

Question ID : 9895802893

Q.3
1 बैंक खाते या वित्तीय संस्थान में बिना किसी निर्दिष्ट परिपक्वता तिथि वाली जमा राशि को क्या कहते हैं?

- Ans
- 1. आवर्ती जमा
 - 2. सावधि जमा
 - 3. मांग जमा
 - 4. चालू जमा

Question ID : 9895802897

Chosen Option : 2

Q.3
2 _____ मिट्टी में पानी की अंतःस्त्रवण (परकोलेशन) दर सबसे कम है।

- Ans
- 1. दुम्मट्टी
 - 2. रेतीली
 - 3. बजरी
 - 4. मृण्मय

Question ID : 9895802879

Chosen Option : 1

Q.3
3 जानपीठ पुरस्कार निम्नलिखित में से किस क्षेत्र में उत्कृष्टता के लिए दिया जाता है?

- Ans
- 1. सामाजिक कार्य
 - 2. चिकित्सा-शास्त्र
 - 3. साहित्य
 - 4. चलचित्र

Question ID : 9895802900

Chosen Option : 3

Q.3
4 भूमि और समुद्री हवा किस कारण से होती है?

- Ans
- 1. संवहन
 - 2. विकिरण
 - 3. प्रवाहकत्व
 - 4. पर्यनुकूलन

Question ID : 9895802878

Chosen Option : 1

Q.3
5 निम्नलिखित में से कौन सा विरासत स्थल वास्तुकला की बेहतरीन द्रविड़ शैली को दर्शाता है?

Ans

- 1. बोध गया
- 2. कोणार्क
- 3. अक्षरधाम
- 4. हम्पी

Question ID : 9895802884
Chosen Option : 1

Q.3
6 जठर द्वारा स्रावित बलगम की भूमिका क्या है?

- Ans
- 1. प्रोटीन को पचाना
 - 2. भोजन में कीटाणुओं को मारना
 - 3. पेट की परत की रक्षा करना
 - 4. वसा को पचाना

Question ID : 9895802876
Chosen Option : 2

Q.3
7 पंडित भीमसेन जोशी शास्त्रीय संगीत की किस परंपरा से जुड़े हुए हैं?

- Ans
- 1. हिंदुस्तानी
 - 2. कव्वाली
 - 3. कर्नाटकी
 - 4. ठुमरी

Question ID : 9895802885
Chosen Option : 4

Q.3
8 अशोक द्वारा नियुक्त धार्मिक अधिकारी किस नामसे जाने जाते थे?

- Ans
- 1. धम्मा-महामत्ता
 - 2. धम्माध्याक्ष
 - 3. धम्माधिकारी
 - 4. धम्माधिराज

Question ID : 9895802886
Chosen Option : 3

Q.3
9 जातक कथाएँ निम्नलिखित में से किस संप्रदाय से जुड़ी हुई हैं?

- Ans
- 1. बौद्ध धर्म
 - 2. जैन धर्म

3. लिंगायत

4. शैव धर्म

Question ID : 9895802887
Chosen Option : 2

Q.4
0 2018 राष्ट्रमंडल खेल में कहाँ आयोजित किए गए थे?

Ans 1. दोहा

2. लंडन

3. गोल्ड कोस्ट

4. ब्राज़िल

Question ID : 9895802882
Chosen Option : 3

Q.4
1 कैबिनेट ने 2018-19 के लिए गेहूँ का न्यूनतम समर्थन मूल्य कितने रुपयों तक बढ़ा दिया है?

Ans 1. ₹ 105 प्रति क्विंटल

2. ₹ 202 प्रति क्विंटल

3. ₹ 309 प्रति क्विंटल

4. ₹ 600 प्रति क्विंटल

Question ID : 9895802896
Chosen Option : 1

Q.4
2 _____ शुद्धि आन्दोलन के संस्थापक थे।

Ans 1. स्वामी विवेकानंद

2. स्वामी दयानंद सरस्वती

3. ईश्वर चंद्र विद्यासागर

4. राजा राम मोहनरोय

Question ID : 9895802888
Chosen Option : 3

Q.4
3 बैंक की दर निम्नलिखित में से किस एजेंसी द्वारा तय की जाती है?

Ans 1. वित्त मंत्रालय

2. भारतीय स्टेट बैंक

3. भारतीय प्रतिभूति और विनिमय बोर्ड (सेबी)

4. भारतीय रिजर्व बैंक

Question ID : 9895802895
Chosen Option : 4

Q.4
4 रियो डी जनेरियो की पृथ्वी शिखर बैठक किस वर्ष में आयोजित की गई थी?

- Ans
- 1. 1992
 - 2. 1993
 - 3. 1990
 - 4. 1991

Question ID : 9895802889
Chosen Option : 4

Q.4
5 'अडॉप्ट ए हेरिटेज: अपनी धरोहर, अपनी पहचान', _____ की एक पहल है।

- Ans
- 1. भारतीय पुरातत्व सर्वेक्षण
 - 2. भारतीय ऐतिहासिक अनुसंधान परिषद
 - 3. संस्कृति मंत्रालय
 - 4. पर्यटन मंत्रालय

Question ID : 9895802898
Chosen Option : 1

Q.4
6 2011 की जनगणना के अनुसार, किस राज्य का साक्षरता दर सबसे अधिक है?

- Ans
- 1. केरल
 - 2. कर्नाटक
 - 3. मिजोरम
 - 4. गोवा

Question ID : 9895802891
Chosen Option : 1

Q.4
7 निम्नलिखित में से किसे एक संकेतक के रूप में इस्तेमाल नहीं किया जा सकता?

- Ans
- 1. हल्दी
 - 2. फिनोल्फ़थेलिन
 - 3. साधारण नमक
 - 4. चीनी गुलाब

Question ID : 9895802877
Chosen Option : 4

Q.4
8 मीराबाई चानू ने संयुक्त राज्य अमेरिका के अंनाहाइम में आयोजित निम्नलिखित में से किस प्रतियोगिता में स्वर्ण पदक जीता था?

- Ans
- 1. विश्व वेइटलिफ्टिंग (भारोत्तोलन) प्रतियोगिता
 - 2. विश्व तीरंदाजी प्रतियोगिता
 - 3. विश्व टेनिस प्रतियोगिता
 - 4. विश्व स्नूकर प्रतियोगिता

Question ID : 9895802881
Chosen Option : 1

Q.4
9 नागार्जुन सागर बांध कौन सी नदी पर बनाया गया है?

- Ans
- 1. महानदी
 - 2. पम्बा
 - 3. कावेरी
 - 4. कृष्णा

Question ID : 9895802890
Chosen Option : 1

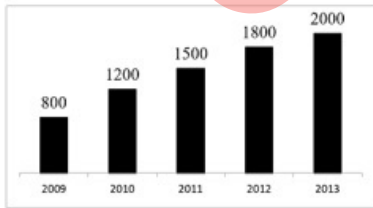
Q.5
0 निम्नलिखित में से कौन सी भाषा संविधान की आठवीं अनुसूची का हिस्सा नहीं है?

- Ans
- 1. फ़ारसी
 - 2. संथाल
 - 3. बोडो
 - 4. डोगरी

Question ID : 9895802892
Chosen Option : 4

Q.5
1 नीचे दिए गए बार चार्ट में 2009 से 2013 के वर्षों के लिए एक देश के

काँफी के वार्षिक उत्पादन (1000 टन में) को दर्शाया गया है।



वर्ष 2010 की तुलना में वर्ष 2011 में काँफी के उत्पादन में कितने प्रतिशत

की वृद्धि हुई है?

- Ans
- 1. 20%
 - 2. 27.5%
 - 3. 25%

✗ 4. 32.5%

Question ID : 9895804641
Chosen Option : 1

Q.5
2 दो संख्याओं 14 तथा 18 के महत्तम समापवर्तक तथा लघुत्तम समापवर्त्य का अनुपात क्या होगा?

- Ans
- ✗ 1. 1 : 49
 - ✗ 2. 1 : 27
 - ✗ 3. 1 : 21
 - ✓ 4. 1 : 63

Question ID : 9895804617
Chosen Option : 4

Q.5
3 यदि पाँच क्रमागत विषम संख्याओं का औसत 17 है, तो उनमें से सबसे बड़ी संख्या क्या होगी?

- Ans
- ✗ 1. 19
 - ✗ 2. 23.5
 - ✗ 3. 25
 - ✓ 4. 21

Question ID : 9895804620
Chosen Option : 4

Q.5
4 यदि एक वस्तु का विक्रय मूल्य ₹ 432 है तथा लाभ 35% है, तो क्रय मूल्य क्या होगा?

- Ans
- ✗ 1. ₹ 368
 - ✓ 2. ₹ 320
 - ✗ 3. ₹ 583.20
 - ✗ 4. ₹ 480.40

Question ID : 9895804625
Chosen Option : 2

Q.5
5 एक वर्ग का विकर्ण 10 से.मी. है। उस वर्ग के विकर्ण की लंबाई क्या होगी जिसका क्षेत्रफल पहले वर्ग के क्षेत्रफल का दोगुना है?

- Ans
- ✓ 1. $10\sqrt{2}$ से.मी.
 - ✗ 2. $20\sqrt{2}$ से.मी.
 - ✗ 3. 20 से.मी.
 - ✗ 4. $8\sqrt{2}$ से.मी.

Question ID : 9895804638
Chosen Option : 2

Q.5
6 $\frac{5}{4}$ का $\frac{12}{5} \div \frac{4}{25} + \frac{1}{2} \times \frac{3}{4}$ का मान क्या है?

- Ans
1. $\frac{149}{8}$
2. $\frac{153}{16}$
3. $\frac{153}{8}$
4. $\frac{149}{4}$

Question ID : 9895804619
Chosen Option : 3

Q.5
7 दो वृत्तों की विज्याएँ 20 से.मी. तथा 15 से.मी. हैं। यदि एक तीसरे वृत्त का क्षेत्रफल दोनों वृत्तों के क्षेत्रफल के योग के बराबर है, तो तीसरे वृत्त की विज्या क्या होगी?

- Ans
1. 35 से.मी.
2. 27 से.मी.
3. 22 से.मी.
4. 25 से.मी.

Question ID : 9895804637
Chosen Option : 4

Q.5
8 एक आयत की लंबाई 24 से.मी. है। यदि विकर्ण की लंबाई 26 से.मी. है, तो आयत की चौड़ाई क्या होगी?

- Ans
1. 12 से.मी.
2. 10 से.मी.
3. 15 से.मी.
4. 14 से.मी.

Question ID : 9895804636
Chosen Option : 2

Q.5
9 A अकेला एक कार्य को 10 दिन में पूरा कर सकता है तथा B अकेला समान कार्य को 20 दिन में पूरा कर सकता है। A तथा B दोनों मिलकर कुल कार्य का आधा कितने दिन में पूरा कर सकते हैं?

- Ans
1. $\frac{10}{3}$ दिन
2. $\frac{20}{3}$ दिन
3. $\frac{40}{3}$ दिन
4. $\frac{25}{3}$ दिन

Question ID : 9895804632
Chosen Option : 2

Q.6
0

दिए गए आंकड़ों का माध्य क्या है?

23, 24, 25, 26, 27, 28, 29, 30, 31, 32

- Ans
- 1. 26.75
 - 2. 27.5
 - 3. 26.12
 - 4. 27.69

Question ID : 9895804623
Chosen Option : 2

Q.6
1 410, 475, 525, 560 तथा 720 का औसत क्या है?

- Ans
- 1. 542
 - 2. 561
 - 3. 538
 - 4. 526

Question ID : 9895804621
Chosen Option : 3

Q.6
2 चार संख्याएँ क्रमशः 3 : 1 : 7 : 5 के अनुपात में हैं। यदि इन चार संख्याओं का योग 336 है, तो पहली तथा चौथी संख्या का योग क्या है?

- Ans
- 1. 172
 - 2. 152
 - 3. 146
 - 4. 168

Question ID : 9895804627
Chosen Option : 4

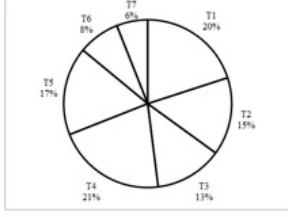
Q.6
3 एक व्यक्ति ₹ 128 प्रति बैग की दर से बैग खरीदता है। यदि वह 20% के लाभ पर बैग बेचता है, तो 15 बैग का विक्रय मूल्य क्या होगा?

- Ans
- 1. ₹ 2194
 - 2. ₹ 1886
 - 3. ₹ 2304
 - 4. ₹ 1600

Question ID : 9895804626
Chosen Option : 3

Q.6
4

नीचे दिया गया पाई चार्ट किसी शहर में एक वर्ष के लिए विभिन्न प्रकार की कारों की बिक्री दर्शाता है। शहर में कारों की कुल बिक्री 600000 है।



T5, T6 और T3 प्रकार की कारों की बिक्री की संख्या का कुल योग क्या है?

- Ans
- 1. 228000
 - 2. 232000
 - 3. 252000
 - 4. 245000

Question ID : 9895804640
Chosen Option : 4

Q.6 यदि एक घनाभ की लम्बाई, चौड़ाई तथा ऊँचाई को क्रमशः 10%, 20% तथा 15% से बढ़ाया जाता है, तो उसके आयतन में कितने प्रतिशत की वृद्धि होगी?

- Ans
- 1. 51.8%
 - 2. 47.4%
 - 3. 45%
 - 4. 54.2%

Question ID : 9895804624
Chosen Option : 3

Q.6 एक कालोनी में बच्चे, महिलाएं तथा पुरुषों की संख्या का अनुपात क्रमशः 6 : 4 : 3 है तथा कालोनी में न्यूनतम सदस्य 200 है। कालोनी में महिलाओं की न्यूनतम संख्या क्या होगी?

- Ans
- 1. 80
 - 2. 64
 - 3. 20
 - 4. 75

Question ID : 9895804628
Chosen Option : 2

Q.6 ₹ 3460 की एक राशि साधारण ब्याज से उधार दी जाती है। यदि वार्षिक ब्याज दर 5% है, तो 5 वर्षों के लिए साधारण ब्याज क्या होगा?

- Ans
- 1. ₹ 875
 - 2. ₹ 845
 - 3. ₹ 865
 - 4. ₹ 855

Question ID : 9895804630

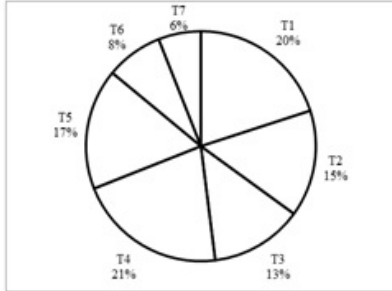
Q.6 एक रेलगाड़ी 20 मी./से. की गति से चल रही है। यदि रेलगाड़ी की लम्बाई 540 मीटर है, तो वह एक खंभे को पार करने में कितना समय लेगी?

- Ans
- 1. 81 सेकण्ड
 - 2. 108 सेकण्ड
 - 3. 54 सेकण्ड
 - 4. 27 सेकण्ड

Question ID : 9895804634

Chosen Option : 4

Q.6 नीचे दिया गया पाई चार्ट किसी शहर में एक वर्ष के लिए विभिन्न प्रकार की कारों की बिक्री दर्शाता है। शहर में कारों की कुल बिक्री 600000 है।



T5 तथा T1 प्रकार की कारों की बिक्री की संख्या में क्या अंतर है?

- Ans
- 1. 27000
 - 2. 18000
 - 3. 24000
 - 4. 21000

Question ID : 9895804639

Chosen Option : 2

Q.7 P तथा Q क्रमशः ₹ 28000 तथा ₹ 42000 के निवेश के साथ एक व्यापार शुरू करते हैं। P, 8 महीने के लिए निवेश करता है तथा Q एक वर्ष के लिए निवेश करता है। यदि वर्ष के अंत में कुल लाभ ₹ 21125 है, तो P का हिस्सा क्या है?

- Ans
- 1. ₹ 14625
 - 2. ₹ 8750
 - 3. ₹ 12625
 - 4. ₹ 6500

Question ID : 9895804629

Chosen Option : 2

Q.7 P, Q तथा R एक कार्य को क्रमशः 30 दिन, 15 दिन तथा 20 दिन में पूरा कर सकते हैं। वे बारी-बारी से एक-एक दिन कार्य करते हैं। P पहले दिन कार्य करता है, फिर Q दूसरे दिन कार्य करता है तथा फिर R तीसरे दिन कार्य करता है और वे इसी प्रकार कार्य करते हैं। कार्य कितने दिन में पूरा हो जाएगा?

Ans

- 1. 22 दिन
- 2. 20 दिन
- 3. 19 दिन
- 4. 21 दिन

Question ID : 9895804633
Chosen Option : 4

Q.7
2 $\left(24 \div 4 - \frac{2}{3} \text{ का } \frac{21}{8} \div \frac{1}{4}\right)$ का मान क्या है?

- Ans
- 1. $-\frac{96}{15}$
 - 2. -8
 - 3. $\frac{91}{16}$
 - 4. -1

Question ID : 9895804618
Chosen Option : 2

Q.7
3 ₹ 6400 रु की एक राशि पर 10% की वार्षिक दर से 2 वर्षों के चक्रवृद्धि ब्याज (ब्याज का संयोजन वार्षिक किया गया है) तथा साधारण ब्याज के मध्य अंतर क्या होगा?

- Ans
- 1. ₹ 128
 - 2. ₹ 64
 - 3. ₹ 90
 - 4. ₹ 72

Question ID : 9895804631
Chosen Option : 2

Q.7
4 एक रेलगाड़ी 45 मी./से. की गति से एक निश्चित दूरी को 15 मिनट में तय करती है। वह 60 मी./से. की गति से समान दूरी को तय करने में कितना समय लेगी?

- Ans
- 1. 3.25 मिनट
 - 2. 11.25 मिनट
 - 3. 6.75 मिनट
 - 4. 4.75 मिनट

Question ID : 9895804635
Chosen Option : 4

Q.7
5 25% तथा 20% की दो क्रमिक छूट दी गई हैं, तो निवल (नेट) छूट प्रतिशत क्या होगी?

- Ans
- 1. 42.5%
 - 2. 45%

✓^{3.} 40%

✗^{4.} 50%

Question ID : 9895804622
Chosen Option : 3

Section : English Language

Q.1 From the given options, identify the segment in the sentence which contains the grammatical error.

The man greeted his secretary and told her that he need her help to complete the work immediately.

- Ans
- ✗^{1.} he need her help
 - ✗^{2.} to complete the work
 - ✓^{3.} greeted his secretary
 - ✗^{4.} told her that

Question ID : 9895804438
Chosen Option : -

Q.2 Select the most appropriate option to substitute the underlined segment in the given sentence. If there is no need to substitute it, select No Improvement.

My favourite novelist in all was Charles Dickens, who really left his mark on me.

- Ans
- ✗^{1.} My favourite novelist of all
 - ✗^{2.} No improvement
 - ✗^{3.} My favourite novelist at all
 - ✓^{4.} My favourite novelist between all

Question ID : 9895804440
Chosen Option : -

Q.3 Select the most appropriate option to fill in the blank.

In the United States of America two dozen people _____ due to the present cold wave.

- Ans
- ✗^{1.} have been killed
 - ✗^{2.} has been killed
 - ✗^{3.} are being killed
 - ✓^{4.} has killed

Question ID : 9895804442
Chosen Option : -

Q.4 Select the synonym of the given word.

IMPECCABLE

- Ans
- ✗^{1.} Smooth
 - ✗^{2.} Flawless

3. Imperfect

4. Clean

Question ID : 9895804450

Chosen Option : -

Q.5 Select the word which means the same as the group of words given.

A poem that expresses lament for the dead

Ans 1. Elegy

2. Lyric

3. Sonnet

4. Ode

Question ID : 9895804457

Chosen Option : -

Q.6 Select the most appropriate option to fill in the blank.

I think that childhood is a time when there are _____ ways to make life enjoyable.

Ans 1. more

2. many

3. little

4. less

Question ID : 9895804443

Chosen Option : -

Q.7 Select the word which means the same as the group of words given.

A place where fights take place

Ans 1. Aquarium

2. Asylum

3. Arsenal

4. Arena

Question ID : 9895804870

Chosen Option : -

Q.8 Select the correctly spelt word.

Ans 1. Pirmenent

2. Permanent

3. Permanant

4. Perminent

Q.9 From the given options, identify the segment in the sentence which contains the grammatical error.

After finishing his tiring game, Rohan leaned by the wall.

- Ans
- 1. his game
 - 2. Rohan leaned
 - 3. by the wall
 - 4. After finishing

Q.1 Select the most appropriate word to fill in the blank.

Let us _____ our heads together to solve the problem.

- Ans
- 1. bring
 - 2. put
 - 3. combine
 - 4. join

Q.1 Select the option that means the same as the given idiom.

To see eye to eye

- Ans
- 1. To fight with another
 - 2. To threaten another
 - 3. To agree with another
 - 4. To love another

Comprehension:

In the following passage some words have been deleted. Fill in the blanks with the help of the alternatives given.

Without water (1) _____ animal can survive. In desert regions the greatest (2) _____ to life is dying of thirst. But many creatures are able to make use of (3) _____ little water that exists in arid areas. One of nature's masterpieces (4) _____ creatures equipped to (5) _____ with desert life is the hardy camel.

SubQuestion No : 12

Q.1 Select the most appropriate option that will fill in the blank number 1.

- Ans
- 1. some
 - 2. every

- 3. no
- 4. any

Question ID : 9895804445
Chosen Option : -

Comprehension:

In the following passage some words have been deleted. Fill in the blanks with the help of the alternatives given.

Without water (1) _____ animal can survive. In desert regions the greatest (2) _____ to life is dying of thirst. But many creatures are able to make use of (3) _____ little water that exists in arid areas. One of nature's masterpieces (4) _____ creatures equipped to (5) _____ with desert life is the hardy camel.

SubQuestion No : 13

Q.1
3 Select the most appropriate option that will fill in the blank number 2.

- Ans
- 1. worry
 - 2. requirement
 - 3. threat
 - 4. warning

Question ID : 9895804446
Chosen Option : -

Comprehension:

In the following passage some words have been deleted. Fill in the blanks with the help of the alternatives given.

Without water (1) _____ animal can survive. In desert regions the greatest (2) _____ to life is dying of thirst. But many creatures are able to make use of (3) _____ little water that exists in arid areas. One of nature's masterpieces (4) _____ creatures equipped to (5) _____ with desert life is the hardy camel.

SubQuestion No : 14

Q.1
4 Select the most appropriate option that will fill in the blank number 3.

- Ans
- 1. very
 - 2. that
 - 3. the
 - 4. what

Question ID : 9895804447
Chosen Option : -

Comprehension:

In the following passage some words have been deleted. Fill in the blanks with the help of the alternatives given.

Without water (1) _____ animal can survive. In desert regions the greatest (2) _____ to life is dying of thirst. But many creatures are able to make use of (3) _____ little water that exists in arid areas. One of nature's masterpieces (4) _____ creatures equipped to (5) _____ with desert life is the hardy camel.

SubQuestion No : 15

Q.1
5 Select the most appropriate option that will fill in the blank number 4.

- Ans
- 1. about
 - 2. besides
 - 3. between
 - 4. among

Question ID : 9895804448

Chosen Option : -

Comprehension:

In the following passage some words have been deleted. Fill in the blanks with the help of the alternatives given.

Without water (1) _____ animal can survive. In desert regions the greatest (2) _____ to life is dying of thirst. But many creatures are able to make use of (3) _____ little water that exists in arid areas. One of nature's masterpieces (4) _____ creatures equipped to (5) _____ with desert life is the hardy camel.

SubQuestion No : 16

Q.1
6 Select the most appropriate option that will fill in the blank number 5.

- Ans
- 1. cope
 - 2. resist
 - 3. adapt
 - 4. live

Question ID : 9895804449

Chosen Option : -

Q.1
7 Select the most appropriate word to fill in the blank.

Smoking is _____ to health.

- Ans
- 1. anxious
 - 2. injurious
 - 3. serious
 - 4. tedious

Question ID : 9895804460

Chosen Option : -

Q.1
8 Select the antonym of the given word.

OPAQUE

- Ans
- 1. Fogged
 - 2. Murky
 - 3. Transparent
 - 4. Turbid

Question ID : 9895804453

Chosen Option : -

Q.1
9 Select the antonym of the given word.

STINGY

- Ans
- 1. Skinny
 - 2. Cheap

- 3. Mean
- 4. Generous

Question ID : 9895804452
Chosen Option : -

Q.2
0 Select the synonym of the given word.

SLENDER

- Ans
- 1. Slim
 - 2. Narrow
 - 3. Wide
 - 4. Weak

Question ID : 9895804451
Chosen Option : -

Q.2
1 Select the correctly spelt word.

- Ans
- 1. Acheive
 - 2. Achieve
 - 3. Achiev
 - 4. Acheeve

Question ID : 9895804459
Chosen Option : -

Q.2
2 From the given options, identify the segment in the sentence which contains the grammatical error.

If it weren't for the old man, we haven't had anything to talk about.

- Ans
- 1. for the old man
 - 2. anything to talk
 - 3. we haven't had
 - 4. If it weren't

Question ID : 9895804436
Chosen Option : -

Q.2
3 Select the option that means the same as the given idiom.

To have the gift of the gab

- Ans
- 1. To be boastful
 - 2. To be intelligent
 - 3. To be gifted
 - 4. To be eloquent

Question ID : 9895804454
Chosen Option : -

Q.2 Select the most appropriate option to substitute the underlined segment in the given sentence. If there is no need to substitute it, select No Improvement.

4

Meeting my teacher after ten years was an unforgotten moment that I will always treasure.

Ans

1. No improvement
 2. the unforgotten moment
 3. an unforgettable moment
 4. a forgotten moment

Question ID : 9895804441
Chosen Option : -

Q.2 Select the most appropriate option to substitute the underlined segment in the given sentence. If there is no need to substitute it, select No Improvement.

5

When you go by rail, make sure taking the express train that stops only at big stations.

Ans

1. make sure to take
 2. No improvement
 3. making sure to take
 4. make sure to taking

Question ID : 9895804439
Chosen Option : -

Section : Hindi Language

Q.1 दिए गए शब्द के पर्यायवाची शब्द का चयन करें।

चंद्रमा

Ans

1. शशिकला
 2. अनुराग
 3. रवि
 4. शशि

Question ID : 9895803970
Chosen Option : 1

Q.2 दिये गये वाक्यांश के लिए एक शब्द चुनिए।

जो बिना तिथि बताए आए

Ans

1. दैनिक
 2. आगत
 3. संत

✓^{4.} अतिथि

Question ID : 9895803973
Chosen Option : 4

Q.3 निम्नलिखित में से उस विकल्प का चयन करें जो ' कड़वा घूँट पीना ' मुहावरे का अर्थ व्यक्त करता है।

- Ans
- ✗^{1.} किसी को कड़वा पानी पिलाना
 - ✓^{2.} चुपचाप अपमान सहना
 - ✗^{3.} अपमान करना
 - ✗^{4.} कड़वा पानी पीना

Question ID : 9895803971
Chosen Option : 2

Q.4 रिक्त स्थान को भरने के लिए उपयुक्त शब्द का चयन करें।

हमेशा सत्य की ही _____ होती है।

- Ans
- ✗^{1.} धर्म
 - ✗^{2.} मौत
 - ✓^{3.} जीत
 - ✗^{4.} तेजी

Question ID : 9895803960
Chosen Option : 3

Q.5 निम्नलिखित में से उस विकल्प का चयन करें जो 'टस से मस न होना' मुहावरे का अर्थ व्यक्त करता है।

- Ans
- ✗^{1.} साफ मना करना
 - ✓^{2.} कुछ असर न पड़ना
 - ✗^{3.} घर से बाहर न जाना
 - ✗^{4.} बहाना बनाना

Question ID : 9895803972
Chosen Option : 2

Q.6 दिए गए शब्द का विलोम चुर्ने।
स्नेहसिक्त

- Ans
- ✓^{1.} स्नेहरिक्त
 - ✗^{2.} स्नेहकर्ता
 - ✗^{3.} स्नेहभक्त
 - ✗^{4.} स्नेहकाल

Question ID : 9895803968
Chosen Option : 1

Q.7 दिए गए वाक्य में रेखांकित खंड को प्रतिस्थापित करने के लिए उपयुक्त विकल्प का चयन करें।

समाज में महान व आदर्श नागरिक बनना ऐसा श्रेष्ठ कार्य है जो धन पर बढ़कर है।

- Ans
- 1. जो धन में बढ़कर है।
 - 2. जो धन से बढ़कर है।
 - 3. जो धन का बढ़कर है।
 - 4. जो धन को बढ़कर है।

Question ID : 9895803954
Chosen Option : 2

Q.8 दिए गए शब्द के पर्यायवाची शब्द का चयन करें।

विश्व

- Ans
- 1. भूमि
 - 2. पाताल
 - 3. धरती
 - 4. संसार

Question ID : 9895803969
Chosen Option : 4

Comprehension:

निम्नलिखित गद्यांश के रिक्त स्थानों की पूर्ति गद्यांश के नीचे दिए गए प्रश्नों के अनुसार कीजिए -

जीवन नदी की _____ (1) के समान है। _____ (2) जीवन है और ठहराव मृत्यु। _____ (3) आगे बढ़ते रहने में ही सुख और आनंद है। आगे बढ़ने में जो तत्व काम करता है वह है _____ (4)। समय के साथ चलनेवाले ही _____ (5) होते हैं।

SubQuestion No : 9

Q.9 गद्यांश में संकेतित रिक्त स्थान (1) के लिए उपयुक्त शब्द होगा

- Ans
- 1. टापू
 - 2. रेत
 - 3. सीपी
 - 4. धारा

Question ID : 9895803962

Comprehension:

निम्नलिखित गद्यांश के रिक्त स्थानों की पूर्ति गद्यांश के नीचे दिए गए प्रश्नों के अनुसार कीजिए -

जीवन नदी की _____ (1) के समान है। _____ (2) जीवन है और ठहराव मृत्यु। _____ (3) आगे बढ़ते रहने में ही सुख और आनंद है। आगे बढ़ने में जो तत्व काम करता है वह है _____ (4)। समय के साथ चलनेवाले ही _____ (5) होते हैं।

SubQuestion No : 10

Q.1
0 गद्यांश में संकेतित रिक्त स्थान (2) के लिए उपयुक्त शब्द होगा

- Ans
- 1. ठहरना
 - 2. दौड़ना
 - 3. बहना
 - 4. रुकना

Question ID : 9895803963

Chosen Option : 2

Comprehension:

निम्नलिखित गद्यांश के रिक्त स्थानों की पूर्ति गद्यांश के नीचे दिए गए प्रश्नों के अनुसार कीजिए -

जीवन नदी की _____ (1) के समान है। _____ (2) जीवन है और ठहराव मृत्यु। _____ (3) आगे बढ़ते रहने में ही सुख और आनंद है। आगे बढ़ने में जो तत्व काम करता है वह है _____ (4)। समय के साथ चलनेवाले ही _____ (5) होते हैं।

SubQuestion No : 11

Q.1
1 गद्यांश में संकेतित रिक्त स्थान (3) के लिए उपयुक्त शब्द होगा

- Ans
- 1. रुक-रुककर
 - 2. थोड़े अन्तराल पर
 - 3. कभी-कभी
 - 4. निरंतर

Question ID : 9895803964

Chosen Option : 4

Comprehension:

निम्नलिखित गद्यांश के रिक्त स्थानों की पूर्ति गद्यांश के नीचे दिए गए प्रश्नों के अनुसार कीजिए -

जीवन नदी की _____ (1) के समान है। _____ (2) जीवन है और ठहराव मृत्यु। _____ (3) आगे बढ़ते रहने में ही सुख और आनंद है। आगे बढ़ने में जो तत्व काम करता है वह है _____ (4)। समय के साथ चलनेवाले ही _____ (5) होते हैं।

SubQuestion No : 12

Q.1
2 गद्यांश में संकेतित रिक्त स्थान (4) के लिए उपयुक्त शब्द होगा

- Ans
- 1. परिधान
 - 2. समय
 - 3. चरित्र
 - 4. जगह

Question ID : 9895803965
Chosen Option : 1

Comprehension:

निम्नलिखित गद्यांश के रिक्त स्थानों की पूर्ति गद्यांश के नीचे दिए गए प्रश्नों के अनुसार कीजिए -

जीवन नदी की _____ (1) के समान है। _____ (2) जीवन है और ठहराव मृत्यु। _____ (3) आगे बढ़ते रहने में ही सुख और आनंद है। आगे बढ़ने में जो तत्व काम करता है वह है _____ (4)। समय के साथ चलनेवाले ही _____ (5) होते हैं।

SubQuestion No : 13

Q.1
3 गद्यांश में संकेतित रिक्त स्थान (5) के लिए उपयुक्त शब्द होगा

- Ans
- 1. उत्तीर्ण
 - 2. ताकतवर
 - 3. कामयाब
 - 4. नाकामयाब

Question ID : 9895803966
Chosen Option : 3

Q.1
4 दिए गए वाक्य का वह भाग ज्ञात करें जिसमें कोई त्रुटि है।

भारतीय संस्कृति की सबसे बड़ी विशेषता रहा है, अनेकता में एकता।

- Ans
- 1. अनेकता में एकता।

- ✓^{2.} रहा है
✗^{3.} भारतीय संस्कृति की
✗^{4.} सबसे बड़ी विशेषता

Question ID : 9895803953
Chosen Option : 3

Q.1
5 सही वर्तनी वाले शब्द का चयन करें।

- Ans
✓^{1.} अविलंब
✗^{2.} अविलंम
✗^{3.} अवीलम्ब
✗^{4.} अविलम्ब

Question ID : 9895803975
Chosen Option : 4

Q.1
6 दिये गये वाक्यांश के लिए एक शब्द चुनिए।

जो कम जानता हो

- Ans
✓^{1.} अल्पज्ञ
✗^{2.} सर्वज्ञ
✗^{3.} मर्मज्ञ
✗^{4.} कर्मज्ञ

Question ID : 9895803974
Chosen Option : 1

Q.1
7 रिक्त स्थान को भरने के लिए उपयुक्त शब्द का चयन करें।

प्रत्येक कमरे में _____ लगा दो।

- Ans
✗^{1.} सब्जी
✗^{2.} मुर्गे
✗^{3.} फल
✓^{4.} ताले

Question ID : 9895803957
Chosen Option : 4

Q.1
8 दिए गए वाक्य का वह भाग ज्ञात करें जिसमें कोई त्रुटि है।

कामकाजी नारी की जीवन चक्की के दो पाटों की तरह होता है।

- Ans
- 1. की तरह होता है।
 - 2. की जीवन
 - 3. कामकाजी नारी
 - 4. चक्की के दो पाटों

Question ID : 9895803951
Chosen Option : 2

Q.1
9 दिए गए शब्द का विलोम चुनें।

आवरण

- Ans
- 1. अनावरण
 - 2. वैयाकरण
 - 3. पर्यावरण
 - 4. अकरणीय

Question ID : 9895803967
Chosen Option : 1

Q.2
0 दिए गए वाक्य में रेखांकित खंड को प्रतिस्थापित करने के लिए उपयुक्त विकल्प का चयन करें।

रमेश अपने चालाकी से किसी को आगे नहीं आने दिया।

- Ans
- 1. आपने चालाकी से
 - 2. अपना चालाकी से
 - 3. अपनों चालाकी से
 - 4. अपनी चालाकी से

Question ID : 9895803956
Chosen Option : 4

Q.2
1 रिक्त स्थान को भरने के लिए उपयुक्त शब्द का चयन करें। शरीर में _____ होनी चाहिए।

- Ans
- 1. कमी
 - 2. शक्ति
 - 3. भाक्ति
 - 4. कमजोरी

Question ID : 9895803959
Chosen Option : 2

Q.2
2 दिए गए वाक्य में रेखांकित खंड को प्रतिस्थापित करने के लिए उपयुक्त विकल्प का चयन करें।

नेताजी ने बाढ़ पीड़ितों के लिए भोजन का व्यवस्था करवाई।

- Ans
- 1. भोजन पर व्यवस्था

2. भोजन को व्यवस्था
 3. भोजन की व्यवस्था
 4. भोजन के व्यवस्था

Question ID : 9895803955
Chosen Option : 3

Q.2
3 सही वर्तनी वाले शब्द का चयन करें।

- Ans 1. विक्रेता
 2. वीक्रेता
 3. वीकरेता
 4. विक्रेता

Question ID : 9895803976
Chosen Option : 4

Q.2
4 दिए गए वाक्य का वह भाग ज्ञात करें जिसमें कोई त्रुटि है।

कंप्यूटर के आने से सबसे बड़ा परिवर्तन मिडिया जगत में आई है।

- Ans 1. कंप्यूटर के आने से
 2. आई है।
 3. सबसे बड़ा परिवर्तन
 4. मिडिया जगत में

Question ID : 9895803952
Chosen Option : 2

Q.2
5 रिक्त स्थान को भरने के लिए उपयुक्त शब्द का चयन करें। _____ में भीड़ रहती है।

- Ans 1. आकाश
 2. मेज
 3. महानगरों
 4. पानी

Question ID : 9895803958
Chosen Option : 3