

Constable (GD) in CAPFs, NIA, SSF and Rifleman (GD) in Assam Rifles Examination, 2018

Roll No. :	GovtJobsAlert.In
Registration No.	GovtJobsAlert.In
Name :	GovtJobsAlert.In
Exam Venue :	Arya College of Engineering and Information Technology
Exam Time :	12:30 PM - 2:00 PM
Exam Date :	14/02/2019

Section : General Section

Q.1 पैटर्न के साथ एक वर्गाकार पारदर्शी कागज पत्रक दिया गया है। पारदर्शी कागज पत्रक को बिंदुंकित रेखा पर मोड़े जाने पर पैटर्न कैसा दिखाई देगा?

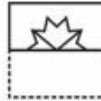


Ans

✗ 1.



✓ 2.



✗ 3.



✗ 4.



Question ID : 9895802924
Chosen Option : 2

Q.2 उस विकल्प का चयन करें जो दी गई श्रृंखला में प्रश्न चिह्न (?) के स्थान पर आएगा।

20, 24, 40, 76, ?

Ans

✗ 1. 145

✗ 2. 130

✗ 3. 120

✓ 4. 140

Question ID : 9895802915
Chosen Option : 4

Q.3 दिए गए विकल्पों में से असंगत संख्या का चयन करें।

Ans

✗ 1. 343

✗ 2. 125

✓ 3. 625

✗ 4. 27

Question ID : 9895802917

Chosen Option : 3

Q.4 उस विकल्प का चयन करें जो तीसरे पद से उसी प्रकार से संबंधित है जिस प्रकार दूसरा पद पहले पद से संबंधित है।

बावर्ची : चाकू :: शल्यचिकित्सक : ?

- Ans
- ✗ 1. फावड़ा
 - ✓ 2. छुरी/स्केलपेल
 - ✗ 3. छेनी
 - ✗ 4. पकड़/मूठ

Question ID : 9895802905

Chosen Option : 2

Q.5 सात मित्र O, P, Q, R, S, T और U एक पंक्ति में बैठ कर फिल्म देख रहे हैं। S एक छोर पर बैठा है। Q, S के दाएँ ओर से दूसरे स्थान पर बैठा है। P, O और Q के बीच में बैठा है। U किसी भी छोर पर नहीं बैठा है। R, T के बाएँ ओर बैठा है। P और R के बीच कौन बैठा है?

- Ans
- ✗ 1. U
 - ✓ 2. O
 - ✗ 3. Q
 - ✗ 4. R

Question ID : 9895802909

Chosen Option : 2

Q.6 उस विकल्प का चयन करें जो तीसरी संख्या से उसी प्रकार से संबंधित है जिस प्रकार दूसरी संख्या पहली संख्या से संबंधित है।

22 : 242 :: 18 : ?

- Ans
- ✓ 1. 162
 - ✗ 2. 221
 - ✗ 3. 169
 - ✗ 4. 275

Question ID : 9895802916

Chosen Option : 1

Q.7 एक निश्चित कूट भाषा में CIRCLE को 50 के रूप में लिखा जाता है। उसी कूट भाषामें ALGAE को कैसे लिखा जाएगा?

- Ans
- ✓ 1. 26
 - ✗ 2. 57
 - ✗ 3. 59
 - ✗ 4. 23

Question ID : 9895802908

Chosen Option : 1

Q.8 उस विकल्प का चयन करें जो तीसरे पद से उसी प्रकार से संबंधित है जिस प्रकार दूसरा पद पहले पद से संबंधित है।

हवाई जहाज : हैंगर :: बन्दूक : ?

- Ans
- ✗ 1. मानव

2. गोली मारना
3. दागना
4. शस्त्रागार

Question ID : 9895802904
Chosen Option : 2

Q.9 नीचे दिए गए कथनों के बाद दो निष्कर्ष I और II दिए गए हैं। यह मानते हुए कि कथनों में दी गई जानकारी सत्य है, भले ही वह सर्वज्ञात तथ्यों से भिन्न प्रतीत होती हो और यह निर्णय करें कि कौन सा / से निष्कर्ष तार्किक और निश्चित रूप से कथन में दी गई जानकारी का अनुसरण करता है / करते हैं।

कथन:

- 1) सभी शूरवीर मठवासिनी (नन) हैं।
- 2) सभी मठवासिनियाँ पुरुष हैं।

निष्कर्ष:

- I. सभी पुरुष शूरवीर हैं।
- II. कुछ शूरवीर पुरुष हैं।

Ans

1. केवल निष्कर्ष II अनुसरण करता है।
2. केवल निष्कर्ष I अनुसरण करता है।
3. या तो निष्कर्ष I या निष्कर्ष II अनुसरण करता है।
4. दोनों निष्कर्ष अनुसरण करते हैं।

Question ID : 9895802912
Chosen Option : 1

Q.1 उस विकल्प का चयन करें जो दर्पण के दाएँ ओर रखे जाने पर शब्द की दी गई दर्पण छवि से सर्वाधिक मेल खाता है।

VOCATION

Ans

1. NOITAVOJ
2. NOITAVOJ
3. NOITAVOJ
4. NOITAVOJ

Question ID : 9895802923
Chosen Option : 3

Q.1 आठ मित्र A, B, C, D, E, F, G और H एक गोलाकार मेज़ के चारों ओर एक-दूसरे के तरफ मुंह करके भोजन कर रहे हैं। A, F के सामने और B के दाएँ ओर से तीसरे स्थान पर है। G, F और D के बीच में है। H, D के बाएँ ओर है, E, C और A के बीच में है। H के सामने कौन बैठा है?

Ans

1. B
2. C
3. G
4. D

Question ID : 9895802910

Chosen Option : 1

Q.1 उस विकल्प का चयन करें जो दी गई श्रृंखला में प्रश्न चिह्न (?) के स्थान पर सही रूप में आएगा।

2

SNC, QPA, ORY, MTW, ?

- Ans
- 1. KUU
 - 2. KVV
 - 3. KVU
 - 4. KUV

Question ID : 9895802901

Chosen Option : 3

Q.1 दिए गए विकल्पों में से असंगत का चयन करें।

3

- Ans
- 1. एशिया
 - 2. चाइना
 - 3. कोलंबिया
 - 4. कनाडा

Question ID : 9895802903

Chosen Option : 1

Q.1 एक निश्चित कूट भाषा में WORKER को OKROKR के रूप में लिखा जाता है। उसी कूट भाषा में ASSUME को कैसे लिखा जाएगा?

4

- Ans
- 1. SUESUE
 - 2. SUMSUM
 - 3. SUESVE
 - 4. SSESSE

Question ID : 9895802907

Chosen Option : 3

Q.1 दिए गए विकल्पों में से असंगत का चयन करें।

5

- Ans
- 1. JIU
 - 2. EKO
 - 3. QMJ
 - 4. KVG

Question ID : 9895802902

Chosen Option : 2

Q.1 नीचे दिए गए कथनों के बाद दो निष्कर्ष I और II दिए गए हैं। यह मानते हुए कि कथनों में दी गई जानकारी सत्य है, भले ही वह सर्वज्ञात तथ्यों से भिन्न प्रतीत होती हो और यह निर्णय करें कि कौन सा / से निष्कर्ष तार्किक और निश्चित रूप से कथन में दी गई जानकारी का अनुसरण करता है / करते हैं।

6

कथन:

- 1) कुछ चूहे व्हेल हैं।
- 2) सभी व्हेल कुत्ते हैं।

निष्कर्ष:

- I. कुछ चूहे कुत्ते हैं।
- II. कोई चूहा कुत्ता नहीं है।

Ans

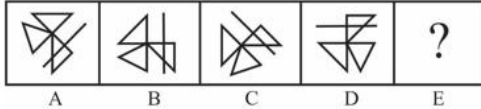
1. दोनों निष्कर्ष अनुसरण करते हैं।
2. केवल निष्कर्ष I अनुसरण करता है।
3. न तो निष्कर्ष I और न ही निष्कर्ष II अनुसरण करता है।
4. केवल निष्कर्ष II अनुसरण करता है।

Question ID : 9895802913

Chosen Option : 2

Q.1 विकल्पों में से उस आकृति का चयन करें जो दी गई श्रृंखला में अगले स्थान पर आएगी।

Problem Fig.



A

B

C

D

E

Ans

- 1.
- 2.
- 3.
- 4.

Question ID : 9895802920

Chosen Option : 4

Q.1 उस विकल्प का चयन करें जो दिए गए पैटर्न में प्रश्न चिह्न (?) के स्थान पर आएगा।

9	81	?
25	121	289
49	169	361

Ans

1. 256
2. 125
3. 225
4. 729

Question ID : 9895802918

Chosen Option : 3

Q.1
9

उस विकल्प का चयन करें जो दी गई श्रृंखला में प्रश्न चिह्न (?) के स्थान पर आएगा।

9, 20, 42, 75, ?

- Ans
- 1. 129
 - 2. 109
 - 3. 119
 - 4. 99

Question ID : 9895802914
Chosen Option : 3

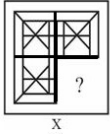
Q.2 निम्नलिखित समीकरण को सही करने के लिए विकल्पों में दिए गए किन दो चिहनों को परस्पर बदला जाना चाहिए?

$$0 \quad 30 + 28 \times 3 - 16 \div 4 = -50$$

- Ans
- 1. \times और \div
 - 2. $+$ और $-$
 - 3. $-$ और \times
 - 4. $-$ और \div

Question ID : 9895802919
Chosen Option : 2

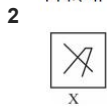
Q.2 दिए गए चार विकल्पों में से उस आकृति को चुनें, जिसे आकृति X के रिक्त स्थान में (बिना घुमाए) रखने पर पैटर्न पूरा हो जाएगा।



- Ans
- 1.
 - 2.
 - 3.
 - 4.

Question ID : 9895802921
Chosen Option : 4

Q.2 विकल्पों में से उस आकृति का चयन करें जिसमें 'X' से चिह्नित आकृति समाहित है। (घुमाने की अनुमति नहीं है)



- Ans
- 1.

X 2.



X 3.



✓ 4.



Question ID : 9895802922

Chosen Option : 4

Q.2 J, K L, M, N और O छः शिक्षक हैं। इनमें से प्रत्येक शिक्षक हिंदी, अंग्रेजी, गणित, विज्ञान, सामाजिक विज्ञान और कला में से अलग-अलग विषय पढ़ाता है, जरूरी नहीं कि इसी क्रम में। प्रत्येक शिक्षक सोमवार से शनिवार के बीच एक दिन ही पढ़ाता है, जरूरी नहीं कि इसी क्रम में। J शनिवार को कला पढ़ाता है। L न तो अंग्रेजी पढ़ाता है न ही सामाजिक विज्ञान, पर वह गुरुवार को पढ़ाता है। बुधवार के दिन K द्वारा गणित पढ़ाया जाता है। O, N के एक दिन पहले विज्ञान पढ़ाता है। सामाजिक विज्ञान, कला के एक दिन पहले पढ़ाया जाता है। सामाजिक विज्ञान और गणित पढ़ाए जाने वाले दिनों के बीच आने वाले दिन कौन सा विषय पढ़ाया जाता है?

Ans

✓ 1. हिंदी

X 2. अंग्रेजी

X 3. विज्ञान

X 4. कला

Question ID : 9895802911

Chosen Option : 1

Q.2 उस विकल्प का चयन करें जो तीसरे पद से उसी प्रकार से संबंधित है जिस प्रकार दूसरा पद पहले पद से संबंधित है।

4

DEH : HIL :: GHL : ?

Ans

X 1. KLO

X 2. KJP

✓ 3. KLP

X 4. KPL

Question ID : 9895802906

Chosen Option : 3


Q.2 निम्नलिखित में से कौन सा वेन रेखाचित्र दिए गए वर्ग के बीच के संबंध को सही दर्शाता है?

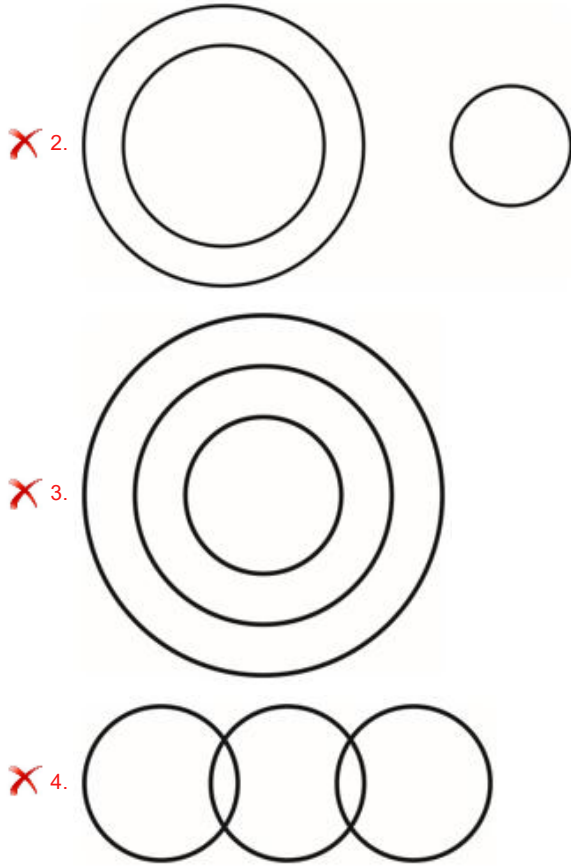
5

इकाई, वॉट, वोल्ट

Ans

✓ 1.





Question ID : 9895802925
Chosen Option : 1

Q.2
6 किंग खालिद इंटरनेशनल एयरपोर्ट किस देश में कार्यरत है?

- Ans
- 1. बहरीन
 - 2. इराक
 - 3. सीरिया
 - 4. सऊदी अरब

Question ID : 9895804852
Chosen Option : 4

Q.2
7 शृंगारिक मूर्तियां वाली वास्तुकला की नागर शैली के लिए कौन से मंदिर सुप्रसिद्ध हैं?

- Ans
- 1. खजुराहो
 - 2. सोमनाथ
 - 3. हम्पी
 - 4. मीनाक्षी

Question ID : 9895804844
Chosen Option : 1

Q.2
8 वर्ल्ड एनर्जी आउटलुक (विश्व ऊर्जा दृष्टिकोण) किस के द्वारा जारी होता है?

- Ans
- 1. अंतर्राष्ट्रीय ऊर्जा संगठन
 - 2. अंतर्राष्ट्रीय ऊर्जा अधिकरण

✓ 3. अंतर्राष्ट्रीय ऊर्जा एजेंसी

✗ 4. विश्व आर्थिक मंच

Question ID : 9895804865

Chosen Option : 1

Q.2 निम्नलिखित में से कौन सा 2030 तक प्राप्त करने के लिए लक्षित एक चिरस्थायी विकास लक्ष्य नहीं है?

Ans ✗ 1. शून्य भूख

✓ 2. अंतरिक्ष अनुसंधान

✗ 3. अच्छा स्वास्थ्य और तंदुरस्ती

✗ 4. लैंगिक समानता

Question ID : 9895804864

Chosen Option : 3

Q.3 दक्षिण अफ्रीका के शीतोष्ण घास के मैदानों को किस नाम से जाने जाते हैं?

Ans ✓ 1. वेल्ड्स

✗ 2. डॉव्न्स

✗ 3. पंपास

✗ 4. प्रेरिज़

Question ID : 9895804853

Chosen Option : 3

Q.3 "डबल फॉल्ट" शब्द का प्रयोग किस खेल में किया जाता है?

Ans ✗ 1. कबड्डी

✓ 2. टेनिस

✗ 3. वॉलीबाल

✗ 4. स्नूकर

Question ID : 9895804848

Chosen Option : 3

Q.3 'करो या मरो' भारत में किस प्रसिद्ध आंदोलन का नारा था?

Ans ✗ 1. रौलट आंदोलन

✗ 2. असहयोग आंदोलन

✓ 3. भारत छोड़ो आंदोलन

✗ 4. सविनय अवज्ञा आंदोलन

Question ID : 9895804849

Chosen Option : 3

Q.3 यूनेस्को की विश्व धरोहर सूची में स्थान बनाने वाला पहला भारतीय शहर कौन सा है?

Ans

1. बंगलुरु
2. अहमदाबाद
3. भुवनेश्वर
4. इंदौर

Question ID : 9895804845
Chosen Option : 2

Q.3
4 'म्युटेशन (उत्परिवर्तन)' शब्द का अर्थ क्या है?

Ans

1. आनुवंशिक सुधार
2. आनुवंशिक रेखा
3. आनुवंशिक स्थानान्तरण
4. आनुवंशिक गलती

Question ID : 9895804861
Chosen Option : 1

Q.3
5 2011 की जनगणना के अनुसार, भारत में मुसलमानों का कुल प्रतिशत कितना है?

Ans

1. 14.2
2. 10.2
3. 16.6
4. 12.4

Question ID : 9895804866
Chosen Option : 3

Q.3
6 देशों के बीच तेजी से एकीकरण को किस रूप में जाना जाता है?

Ans

1. निजीकरण
2. वैश्वीकरण
3. उदारीकरण
4. आधुनिकीकरण

Question ID : 9895804855
Chosen Option : 4

Q.3
7 राष्ट्रीय मानवाधिकार आयोग के बारे में निम्नलिखित में से कौन सा कथन सही है?

Ans

1. उसका अध्यक्ष सर्वोच्च न्यायालय में आसीन न्यायाधीश होना आवश्यक है।
2. मुंबई में इसका मुख्यालय स्थित है।
3. उस में 10 सदस्य हैं।
4. उसकी सत्ता स्वरूप में केवल सिफारिशी (संस्तुतिपरक) हैं।

Question ID : 9895804867
Chosen Option : 2

Q.3 _____ का व्यापक रूप से ईंधन के रूप में उपयोग किया जाता है और वह दबे हुए (कोम्प्रेस्ड) प्राकृतिक गैस का एक प्रमुख घटक है।

- Ans
- 1. ओक्टेन
 - 2. ब्यूटेन
 - 3. प्रोपेन
 - 4. मीथेन

Question ID : 9895804862
Chosen Option : 4

Q.3 निम्नलिखित में से किसने राज-दरबार में सिजदा (साष्टांग प्रणाम) और पैबोस (समाट के पैरों को चूमने) की प्रथा शुरू की थी?

- Ans
- 1. मुहम्मद बिन तुघलक
 - 2. अलाउद्दीन खिलजी
 - 3. घियासुद्दीन बलबन
 - 4. फिरोज़ शाह तुघलक

Question ID : 9895804851
Chosen Option : 2

Q.4 किस IUCN दस्तावेज़ में वनस्पतियों और जीवों की लुप्तप्राय प्रजातियों की सूची दी जाती है?

- Ans
- 1. लाल सूची
 - 2. हरी सूची
 - 3. नीली सूची
 - 4. काली सूची

Question ID : 9895804860
Chosen Option : 4

Q.4 किसी देश में जीवन स्तर (शैली) को दर्शाने के लिए निम्न में से कौन सा एक मापदंड है?

- Ans
- 1. राष्ट्रीय आय
 - 2. औद्योगिक विकास
 - 3. गरीबी का अनुपात
 - 4. प्रति व्यक्ति आय

Question ID : 9895804857
Chosen Option : 4

Q.4 पंचायती राज संस्थाएँ किस अधिनियम के अंतर्गत अस्तित्व में आयीं?

- Ans
- 1. 86 वाँ और 87 वाँ संशोधन अधिनियम

2. 42 वाँ और 43 वाँ संशोधन अधिनियम
3. 73 वाँ और 74 वाँ संशोधन अधिनियम
4. 63 वाँ और 64 वाँ संशोधन अधिनियम

Question ID : 9895804868
Chosen Option : 3

Q.4 _____ बांग्लादेश में स्थापित एक माइक्रोफाइनेंस संगठन और सामुदायिक विकास बैंक है, जो समपार्श्वकी आवश्यकता के बिना गरीबों को छोटे ऋण देता है।

- Ans 1. रिजर्व बैंक
2. ग्रामीण बैंक
3. सहकारी बैंक
4. फेडरल बैंक

Question ID : 9895804856
Chosen Option : 2

Q.4 प्रतिष्ठित लॉरियस वर्ल्ड स्पोर्ट्स अवार्ड किस भारतीय खिलाड़ी को दिया गया था?

- Ans 1. पंकज आडवाणी
2. अनिर्बान चटर्जी
3. दुती चंद
4. विनेश फोगट

Question ID : 9895804863
Chosen Option : 1

Q.4 किस घरेलू कचरे में रीसाइक्लिंग (पुनर्चक्रण) की एक उत्कृष्ट संभाविता है?

- Ans 1. धातु
2. रबर
3. सब्जी के छिलके
4. प्लास्टिक

Question ID : 9895804859
Chosen Option : 4

Q.4 डोड्डाबेट्टा निम्नलिखित में से किस पर्वत श्रृंखला का सर्वोच्च शिखर है?

- Ans 1. नीलगिरी
2. विंध्य
3. सतपुड़ा
4. अरावली

Question ID : 9895804854
Chosen Option : 1

Q.4

7 निम्नलिखित में से किस उत्पाद को भारत में पहला भौगोलिक संकेत (जीआई) प्राप्त हुआ?

- Ans
- 1. जोहा चावल
 - 2. दार्जिलिंग चाय
 - 3. मिजो मिर्च
 - 4. रतलामी सेव

Question ID : 9895804846

Chosen Option : 3

Q.4 1526 में बाबर ने इब्राहिम लोधी को कहाँ हराया था?

- Ans
- 1. पानीपत
 - 2. चौसा
 - 3. कालिंजर
 - 4. हल्दीघाटी

Question ID : 9895804850

Chosen Option : 1

Q.4 9 निम्नलिखित में से किस देश ने पुरुष हॉकी विश्व कप 2018 जीता था?

- Ans
- 1. पाकिस्तान
 - 2. अर्जेंटीना
 - 3. न्यूजीलैंड
 - 4. बेल्जियम

Question ID : 9895804847

Chosen Option : 4

Q.5 0 इनमें से हवा की नमी को किससे मापा जाता है?

- Ans
- 1. माइक्रोमीटर
 - 2. हाइग्रोमीटर
 - 3. थर्मोमीटर
 - 4. हाइड्रोमीटर

Question ID : 9895804858

Chosen Option : 2

Q.5 1 $80 \div 40 - 10 - 5 \times 4$ का $\left(\frac{1}{3} \div \frac{10}{3}\right)$ का मान क्या है?

- Ans
- 1. $\frac{22}{5}$
 - 2. -12
 - 3. -10
 - 4. $\frac{40}{3}$

Question ID : 9895804768
Chosen Option : 3

Q.5 एक वर्ग का विकर्ण 14 से.मी. है। उस वर्ग के विकर्ण की लंबाई क्या होगी जिसका क्षेत्रफल पहले वर्ग के क्षेत्रफल का 2 दोगुना है?

- Ans
- 1. 28 से.मी.
 - 2. $14\sqrt{2}$ से.मी.
 - 3. $21\sqrt{2}$ से.मी.
 - 4. $28\sqrt{2}$ से.मी.

Question ID : 9895804787
Chosen Option : 2

Q.5 यदि एक आयत की लम्बाई को 50% बढ़ाया जाए तथा चौड़ाई को 25% घटाया जाए, तो उसके क्षेत्रफल में कितने प्रतिशत की वृद्धि होगी?

- Ans
- 1. 15%
 - 2. 12.5%
 - 3. 25%
 - 4. 17.5%

Question ID : 9895804774
Chosen Option : 2

Q.5 12 लड़कों और 8 लड़कियों का कुल वजन 1080 कि.ग्रा. है। यदि लड़कों का औसत वजन 50 कि.ग्रा. है, तो लड़कियों का औसत वजन क्या होगा?

- Ans
- 1. 55 कि.ग्रा.
 - 2. 45 कि.ग्रा.
 - 3. 50 कि.ग्रा.
 - 4. 60 कि.ग्रा.

Question ID : 9895804770
Chosen Option : 4

Q.5 दिए गए आंकड़ों का माध्यक क्या है?

1, 3, 6, 2, 5, 8, 3, 8, 2

- Ans
- 1. 3
 - 2. 2
 - 3. 2.5
 - 4. 5

Question ID : 9895804773
Chosen Option : 4

Q.5 एक आयत की लंबाई 16 से.मी. है। यदि विकर्ण की लंबाई 20 से.मी. है, तो आयत की चौड़ाई क्या होगी?

- Ans
- 1. 12 से.मी.
 - 2. 10 से.मी.
 - 3. 8 से.मी.

✗ 4. 14 से.मी.

Question ID : 9895804786

Chosen Option : 1

Q.5 मनीष 40 कि.मी./घंटा की गति से अपने गृहनगर जाता है तथा Y कि.मी./घंटा की गति से अपने घर वापस आता है।
7 उसके घर तथा गृहनगर के मध्य दूरी 360 कि.मी. है। यदि वह कुल 21 घंटे लेता है, तो Y का मान क्या है?

- Ans
- ✗ 1. 33 कि.मी./घंटा
 - ✓ 2. 30 कि.मी./घंटा
 - ✗ 3. 25 कि.मी./घंटा
 - ✗ 4. 28 कि.मी./घंटा

Question ID : 9895804784

Chosen Option : 2

Q.5 एक वस्तु का अंकित मूल्य ₹ 1200 है तथा 31% की छूट दी गई है। यदि लाभ 15% है, तो क्रय मूल्य क्या होगा?
8

- Ans
- ✗ 1. ₹ 748
 - ✗ 2. ₹ 640
 - ✗ 3. ₹ 704
 - ✓ 4. ₹ 720

Question ID : 9895804772

Chosen Option : 4

Q.5 टीना, रीना तथा शोना क्रमशः ₹ 24000, ₹ 28000 तथा ₹ 20000 के निवेश के साथ एक व्यापार शुरू करती हैं। टीना
9 8 महीने के लिए निवेश करती है, रीना 10 महीने के लिए निवेश करती है तथा शोना एक वर्ष के लिए निवेश करती है। यदि वर्ष के अंत में कुल लाभ ₹ 25810 है, तो टीना का हिस्सा क्या है?

- Ans
- ✗ 1. ₹ 8700
 - ✗ 2. ₹ 10150
 - ✗ 3. ₹ 7940
 - ✓ 4. ₹ 6960

Question ID : 9895804779

Chosen Option : 4

Q.6 एक पार्किंग में सभी वाहनों का औसत वजन 4000 कि.ग्रा. है। 12 वाहनों का औसत वजन 6000 कि.ग्रा. है।
0 शेष वाहनों का औसत वजन 3000 कि.ग्रा. है। पार्किंग में वाहनों की कुल संख्या कितनी है?

- Ans
- ✓ 1. 36
 - ✗ 2. 40
 - ✗ 3. 30
 - ✗ 4. 20

Question ID : 9895804771

Chosen Option : 1

Q.6 P तथा Q मिलकर एक कार्य को 20 दिन में पूरा कर सकते हैं। यदि P अकेला समान कार्य को 36 दिन में पूरा कर
1 सकता है, तो Q अकेला समान कार्य को कितने दिन में पूरा कर सकता है?

- Ans
- ✗ 1. 42 दिन
 - ✗ 2. 48 दिन

✓ 3. 45 दिन

✗ 4. 51 दिन

Question ID : 9895804783

Chosen Option : 3

Q.6 एक वस्तु के विक्रय मूल्य तथा क्रय मूल्य 7 : 5 के अनुपात में है। लाभ/हानि प्रतिशत क्या होगा?

Ans ✓ 1. 40% लाभ

✗ 2. 14.28% हानि

✗ 3. 28.5% लाभ

✗ 4. 20% हानि

Question ID : 9895804776

Chosen Option : 1

Q.6 पाइप C एक टैंक को 12 घंटे में भर सकता है तथा पाइप D उस टैंक को 40 घंटे में भर सकता है। पाइप C तथा D दोनों मिलकर उस टैंक को कितने घंटे में भर सकते हैं?

Ans ✗ 1. $\frac{60}{7}$ घंटे

✗ 2. $\frac{60}{11}$ घंटे

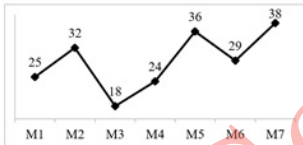
✗ 3. $\frac{120}{11}$ घंटे

✓ 4. $\frac{120}{13}$ घंटे

Question ID : 9895804782

Chosen Option : 4

Q.6 नीचे दिया गया रेखा चित्र 7 विभिन्न माह में कारों के उत्पादन (10000 में) को दर्शाता है।



M4 महीने में कारों का उत्पादन, M2 महीने में कारों के उत्पादन का कितना प्रतिशत है?

Ans ✗ 1. 125%

✗ 2. 66.66%

✓ 3. 75%

✗ 4. 83.33%

Question ID : 9895804791

Chosen Option : 3

Q.6 एक कालोनी में बच्चे, महिलाएं तथा पुरुषों की संख्या का अनुपात क्रमशः 6 : 4 : 3 है तथा कालोनी में न्यूनतम सदस्य 200 है। कालोनी में बच्चों की न्यूनतम संख्या क्या होगी?

Ans ✗ 1. 72

✗ 2. 48

✓ 3. 96

✗ 4. 64

Question ID : 9895804778
Chosen Option : 3

Q.6 ₹ 4650 कि एक राशि साधारण ब्याज से उधार दी जाती है। यदि वार्षिक ब्याज दर 7.5% है, तो 4 वर्षों के लिए साधारण ब्याज क्या होगा?

- Ans
- 1. ₹ 1300
 - 2. ₹ 1395
 - 3. ₹ 1295
 - 4. ₹ 1495

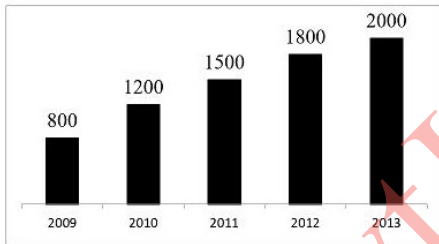
Question ID : 9895804780
Chosen Option : 2

Q.6 दो संख्याओं का लघुत्तम समापवर्त्य तथा महत्तम समापवर्तक क्रमशः 60 तथा 3 है। यदि उनका अंतर 3 है, तो इन दो संख्याओं का योग क्या होगा?

- Ans
- 1. 35
 - 2. 21
 - 3. 27
 - 4. 24

Question ID : 9895804767
Chosen Option : 3

Q.6 नीचे दिए गए बार चार्ट में 2009 से 2013 के वर्षों के लिए एक देश के कॉफी के वार्षिक उत्पादन (1000 टन में) को दर्शाया गया है।



वर्ष 2011 के लिए उत्पादन 2009 के लिए उत्पादन का कितना प्रतिशत है?

- Ans
- 1. 157.5%
 - 2. 175.25%
 - 3. 205.25%
 - 4. 187.5%

Question ID : 9895804789
Chosen Option : 4

Q.6 चार संख्याएँ क्रमशः 2 : 5 : 3 : 8 के अनुपात में हैं। यदि इन चार संख्याओं का योग 432 है, तो पहली तथा चौथी संख्या का योग क्या है?

- Ans
- 1. 232
 - 2. 192
 - 3. 240
 - 4. 216

Question ID : 9895804777
Chosen Option : 3

Q.7
0 What is the value of $\left[88 - 44 \div (22 \times 4) \text{ of } \left(\frac{1}{2} - \frac{1}{4} \div \frac{1}{8}\right)\right]$?

- Ans
- 1. $\frac{711}{3}$
 - 2. $\frac{514}{9}$
 - 3. $\frac{703}{9}$
 - 4. $\frac{265}{3}$

Question ID : 9895804769
Chosen Option : --

Q.7
1 पहली वस्तु का विक्रय मूल्य ₹ 470 है तथा दूसरी वस्तु का क्रय मूल्य ₹ 470 है। यदि पहली वस्तु पर 20% लाभ होता है तथा दूसरी वस्तु पर 20% हानि होती है, तो कुल लाभ अथवा हानि प्रतिशत क्या होगा?

- Ans
- 1. 1.80% हानि
 - 2. 2.22% हानि
 - 3. ना लाभ ना हानि
 - 4. 4% लाभ

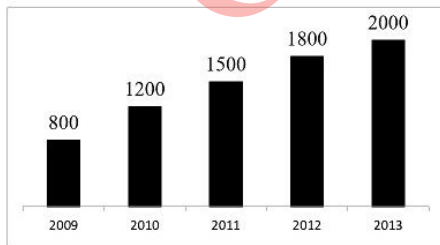
Question ID : 9895804775
Chosen Option : 4

Q.7
2 ₹ 11700 की एक राशि चक्रवृद्धि ब्याज दर से 2 वर्षों में ₹ 16848 हो जाती है। यदि ब्याज का संयोजन वार्षिक किया गया है, तो ब्याज दर क्या होगी?

- Ans
- 1. 15%
 - 2. 17.5%
 - 3. 25%
 - 4. 20%

Question ID : 9895804781
Chosen Option : 2

Q.7
3 नीचे दिए गए बार चार्ट में 2009 से 2013 के वर्षों के लिए एक देश के कॉफी के वार्षिक उत्पादन (1000 टन में) को दर्शाया गया है।



वर्ष 2009 से 2011 तक कॉफी का औसत उत्पादन (1000 टन में) क्या है?

- Ans
- 1. 1233.33
 - 2. 1166.67
 - 3. 1466.67
 - 4. 1366.67

Question ID : 9895804790
Chosen Option : 2

Q.7 एक ठोस घनाभ की लंबाई, चौड़ाई तथा ऊँचाई क्रमशः 14 से.मी., 12 से.मी. तथा 8 से.मी. हैं। यदि घनाभ को पिघलाकर 2 से.मी. वाले समान घन बनाए जाते हैं, तो समान घन की संख्या कितनी होगी?

- Ans
- 1. 128
 - 2. 156
 - 3. 144
 - 4. 168

Question ID : 9895804788
Chosen Option : 4

Q.7 प्लेटफार्म की लम्बाई रेलगाड़ी की लम्बाई की दोगुनी है। रेलगाड़ी की गति 144 कि.मी./घंटा है। यदि रेलगाड़ी प्लेटफार्म को 30 सेकण्ड में पार करती है, तो प्लेटफार्म की लम्बाई क्या है?

- Ans
- 1. 500 मीटर
 - 2. 800 मीटर
 - 3. 400 मीटर
 - 4. 600 मीटर

Question ID : 9895804785
Chosen Option : 2

Section : English Language

Q.1 Select the synonym of the given word.

MELODIOUS

- Ans
- 1. Tuneful
 - 2. Doleful
 - 3. Rattling
 - 4. Rhythmic

Question ID : 9895804477
Chosen Option : --

Q.2 Select the option that means the same as the given idiom.

A red letter day

- Ans
- 1. A painful day
 - 2. A sad day
 - 3. A boring day
 - 4. A memorable day

Question ID : 9895804480
Chosen Option : --

Q.3 Select the antonym of the given word.

HIDEOUS

- Ans
- 1. Beautiful

- 2. Detestable
- 3. Ugly
- 4. Secretive

Question ID : **9895804478**
Chosen Option : --

Q.4 Select the most appropriate option to substitute the underlined segment in the given sentence. If there is no need to substitute it, select No Improvement.

Yesterday eleven coaches of a train headed for Delhi was derailed at Vaishali district of Bihar.

- Ans**
- 1. was derailed in
 - 2. No improvement
 - 3. were derail at
 - 4. were derailed in

Question ID : **9895804467**
Chosen Option : --

Q.5 Select the option that means the same as the given idiom.

To eat humble pie

- Ans**
- 1. To be aggressive
 - 2. To deny desperately
 - 3. To defend oneself
 - 4. To accept error

Question ID : **9895804481**
Chosen Option : --

Q.6 Select the most appropriate word to fill in the blank.

_____ are to be avoided; they lead to conflict.

- Ans**
- 1. Statements
 - 2. Arguments
 - 3. Questions
 - 4. Decisions

Question ID : **9895804487**
Chosen Option : --

Q.7 Select the correctly spelt word.

- Ans**
- 1. Greatfull
 - 2. Greatful
 - 3. Gratefull
 - 4. Grateful

Question ID : **9895804485**
Chosen Option : --

Q.8

From the given options, identify the segment in the sentence which contains the grammatical error.

If they had a playground here, they can play after their school is over.

- Ans
- 1. they can play
 - 2. If they had
 - 3. after their
 - 4. school is over

Question ID : 9895804464

Chosen Option : --

Q.9 From the given options, identify the segment in the sentence which contains the grammatical error.

Ram always tries to do things very carefully and made sure he does them correctly.

- Ans
- 1. and made sure
 - 2. to do things
 - 3. Ram always tries
 - 4. does them

Question ID : 9895804463

Chosen Option : --

Q.1₀ Select the most appropriate option to fill in the blank.

You can visit me on _____ at 7 o'clock.

- Ans
- 1. Sunday
 - 2. tomorrow
 - 3. next month
 - 4. today

Question ID : 9895804468

Chosen Option : --

Q.1₁ Select the word which means the same as the group of words given.

One who is present everywhere

- Ans
- 1. Omniscient
 - 2. Omnivorous
 - 3. Omnipresent
 - 4. Omnipotent

Question ID : 9895804483

Chosen Option : --

Q.1₂ Select the most appropriate option to substitute the underlined segment in the given sentence. If there is no need to substitute it, select No Improvement.

On inspection a hundred year old bridge was find being too weak to take the load of lakhs of vehicles everyday.

- Ans
- 1. was being found
 - 2. No improvement
 - 3. has to be found

✓ 4. was found to be

Question ID : 9895804466

Chosen Option : --

Q.1
3 Select the synonym of the given word.

AGILE

- Ans
- 1. Dull
 - 2. Active
 - 3. Lazy
 - 4. Aggressive

Question ID : 9895804476

Chosen Option : --

Q.1
4 Select the correctly spelt word.

- Ans
- 1. Ocassion
 - 2. Occation
 - 3. Occassion
 - 4. Occasion

Question ID : 9895804484

Chosen Option : --

Q.1
5 Select the word which means the same as the group of words given.

Someone who leaves one's country to settle in another country.

- Ans
- 1. Foreigner
 - 2. Emigrant
 - 3. Tourist
 - 4. Explorer

Question ID : 9895804871

Chosen Option : --

Comprehension:

In the following passage some words have been deleted. Fill in the blanks with the help of the alternatives given.

The Second Anglo-Maratha War had shattered the (1) _____ of the Maratha chiefs, but not their spirit. The loss of their freedom caused them deep _____ (2). They made a last (3) _____ attempt to regain their independence in 1817. The lead in organising a united front of the Maratha chiefs _____ (4) by the Peshwa who was smarting under the (5) _____ control exercised by the British Resident.

SubQuestion No : 16

Q.1
6 Select the most appropriate option that will fill in the blank number 1.

- Ans 1. dignity
 2. power
 3. patience
 4. time

Question ID : 9895804471
 Chosen Option : --

Comprehension:

In the following passage some words have been deleted. Fill in the blanks with the help of the alternatives given.

The Second Anglo-Maratha War had shattered the (1) _____ of the Maratha chiefs, but not their spirit. The loss of their freedom caused them deep _____ (2). They made a last (3) _____ attempt to regain their independence in 1817. The lead in organising a united front of the Maratha chiefs _____ (4) by the Peshwa who was smarting under the (5) _____ control exercised by the British Resident.

SubQuestion No : 17

Q.1
7 Select the most appropriate option that will fill in the blank number 2.

- Ans 1. distress
 2. agony
 3. depression
 4. fear

Question ID : 9895804472
 Chosen Option : --

Comprehension:

In the following passage some words have been deleted. Fill in the blanks with the help of the alternatives given.

The Second Anglo-Maratha War had shattered the (1) _____ of the Maratha chiefs, but not their spirit. The loss of their freedom caused them deep _____ (2). They made a last (3) _____ attempt to regain their independence in 1817. The lead in organising a united front of the Maratha chiefs _____ (4) by the Peshwa who was smarting under the (5) _____ control exercised by the British Resident.

SubQuestion No : 18

Q.1
8 Select the most appropriate option that will fill in the blank number 3.

- Ans 1. desperate
 2. massive
 3. feeble
 4. violent

Question ID : 9895804473

Chosen Option : --

Comprehension:

In the following passage some words have been deleted. Fill in the blanks with the help of the alternatives given.

The Second Anglo-Maratha War had shattered the (1) _____ of the Maratha chiefs, but not their spirit. The loss of their freedom caused them deep _____ (2). They made a last (3) _____ attempt to regain their independence in 1817. The lead in organising a united front of the Maratha chiefs _____ (4) by the Peshwa who was smarting under the (5) _____ control exercised by the British Resident.

SubQuestion No : 19

Q.1
9 Select the most appropriate option that will fill in the blank number 4.

- Ans
- 1. were taken
 - 2. was taken
 - 3. had taken
 - 4. was taking

Question ID : 9895804474

Chosen Option : --

Comprehension:

In the following passage some words have been deleted. Fill in the blanks with the help of the alternatives given.

The Second Anglo-Maratha War had shattered the (1) _____ of the Maratha chiefs, but not their spirit. The loss of their freedom caused them deep _____ (2). They made a last (3) _____ attempt to regain their independence in 1817. The lead in organising a united front of the Maratha chiefs _____ (4) by the Peshwa who was smarting under the (5) _____ control exercised by the British Resident.

SubQuestion No : 20

Q.2
0 Select the most appropriate option that will fill in the blank number 5.

- Ans
- 1. pleasant
 - 2. orthodox
 - 3. rigid
 - 4. cruel

Question ID : 9895804475

Chosen Option : --

Q.2
1 Select the most appropriate option to substitute the underlined segment in the given sentence. If there is no need to substitute it, select No Improvement.

Tourists visiting Leh take home photos and memories but leave back a mountain of waste.

- Ans
- 1. leave behind

2. left back
3. No improvement
4. leave away

Question ID : 9895804465
Chosen Option : --

Q.2
2 Select the most appropriate option to fill in the blank.

Gita won't pass the examination and _____ will Rita.

- Ans 1. nor
2. or
3. either
4. neither

Question ID : 9895804469
Chosen Option : --

Q.2
3 Select the antonym of the given word.

BLESS

- Ans 1. Wish
2. Curse
3. Sanctify
4. Purify

Question ID : 9895804479
Chosen Option : --

Q.2
4 Select the most appropriate word to fill in the blank.

Just are the _____ of God.

- Ans 1. deeds
2. tricks
3. ways
4. plans

Question ID : 9895804486
Chosen Option : --

Q.2
5 From the given options, identify the segment in the sentence which contains the grammatical error.

I said you to prepare the article yesterday but you didn't.

- Ans 1. you didn't
2. the article
3. to prepare
4. I said you

Question ID : 9895804462
Chosen Option : --

Section : Hindi Language

Comprehension:

निम्नलिखित गद्यांश के रिक्त स्थानों की पूर्ति गद्यांश के नीचे दिए गए प्रश्नों के अनुसार कीजिए -

संसार के महान व्यक्ति अथक _____(1) करके ही उन्नति के _____(2) पर पहुंचे हैं। उन्होंने छोटे से छोटा समझे जानेवाले कार्य को पूरी _____(3) से किया। बोझा ढोनेवाले कुली तेनजिंग ने एवरेस्ट पर _____(4) की पताका फहरा दिया। संस्कृत में एक _____(5) है - उद्यम से ही कार्य सिद्ध होते हैं, सिर्फ इच्छा करने से नहीं।

SubQuestion No : 1

Q.1 गद्यांश में संकेतित रिक्त स्थान (1) के लिए उपयुक्त शब्द होगा

- Ans
- 1. सेवा
 - 2. घुमक्कड़ी
 - 3. पढ़ाई
 - 4. परिश्रम

Question ID : 9895804013
Chosen Option : 4

Comprehension:

निम्नलिखित गद्यांश के रिक्त स्थानों की पूर्ति गद्यांश के नीचे दिए गए प्रश्नों के अनुसार कीजिए -

संसार के महान व्यक्ति अथक _____(1) करके ही उन्नति के _____(2) पर पहुंचे हैं। उन्होंने छोटे से छोटा समझे जानेवाले कार्य को पूरी _____(3) से किया। बोझा ढोनेवाले कुली तेनजिंग ने एवरेस्ट पर _____(4) की पताका फहरा दिया। संस्कृत में एक _____(5) है - उद्यम से ही कार्य सिद्ध होते हैं, सिर्फ इच्छा करने से नहीं।

SubQuestion No : 2

Q.2 गद्यांश में संकेतित रिक्त स्थान (2) के लिए उपयुक्त शब्द होगा

- Ans
- 1. शिखर
 - 2. सिंधु
 - 3. तल
 - 4. गर्त

Question ID : 9895804014
Chosen Option : 1

Comprehension:

निम्नलिखित गद्यांश के रिक्त स्थानों की पूर्ति गद्यांश के नीचे दिए गए प्रश्नों के अनुसार कीजिए -

संसार के महान व्यक्ति अथक _____(1) करके ही उन्नति के _____(2) पर पहुंचे हैं। उन्होंने छोटे से छोटा समझे जानेवाले कार्य को पूरी _____(3) से किया। बोझा ढोनेवाले कुली तेनजिंग ने एवरेस्ट पर _____(4) की पताका फहरा दिया। संस्कृत में एक _____(5) है - उद्यम से ही कार्य सिद्ध होते हैं, सिर्फ इच्छा करने से नहीं।

SubQuestion No : 3

Q.3 गद्यांश में संकेतित रिक्त स्थान (3) के लिए उपयुक्त शब्द होगा

- Ans
- 1. निष्क्रियता
 - 2. लगन
 - 3. उपेक्षा
 - 4. बेमन

Question ID : 9895804015

Chosen Option : 2

Comprehension:

निम्नलिखित गद्यांश के रिक्त स्थानों की पूर्ति गद्यांश के नीचे दिए गए प्रश्नों के अनुसार कीजिए -

संसार के महान व्यक्ति अथक _____(1) करके ही उन्नति के _____(2) पर पहुंचे हैं। उन्होंने छोटे से छोटा समझे जानेवाले कार्य को पूरी _____(3) से किया। बोझा ढोनेवाले कुली तेनजिंग ने एवरेस्ट पर _____(4) की पताका फहरा दिया। संस्कृत में एक _____(5) है - उद्यम से ही कार्य सिद्ध होते हैं, सिर्फ इच्छा करने से नहीं।

SubQuestion No : 4

Q.4 गद्यांश में संकेतित रिक्त स्थान (4) के लिए उपयुक्त शब्द होगा

- Ans
- 1. दर्प
 - 2. धर्म
 - 3. मानव
 - 4. विजय

Question ID : 9895804016

Chosen Option : 4

Comprehension:

निम्नलिखित गद्यांश के रिक्त स्थानों की पूर्ति गद्यांश के नीचे दिए गए प्रश्नों के अनुसार कीजिए -

संसार के महान व्यक्ति अथक _____(1) करके ही उन्नति के _____(2) पर पहुंचे हैं। उन्होंने छोटे से छोटा समझे जानेवाले कार्य को पूरी _____(3) से किया। बोझा ढोनेवाले कुली तेनजिंग ने एवरेस्ट पर _____(4) की पताका फहरा दिया। संस्कृत में एक _____(5) है - उद्यम से ही कार्य सिद्ध होते हैं, सिर्फ इच्छा करने से नहीं।

SubQuestion No : 5

Q.5 गद्यांश में संकेतित रिक्त स्थान (5) के लिए उपयुक्त शब्द होगा

- Ans
- 1. भुक्ति
 - 2. युक्ति
 - 3. बात
 - 4. उक्ति

Question ID : 9895804017
Chosen Option : 3

Q.6 दिए गए वाक्य में रेखांकित खंड को प्रतिस्थापित करने के लिए उपयुक्त विकल्प का चयन करें।

खेल कूद हमें विपरीत परिस्थितियों में आगे बढ़ने से प्रेरणा देते हैं।

- Ans
- 1. आगे बढ़ना की
 - 2. आगे बढ़ने की
 - 3. आगे बढ़ते का
 - 4. आगे बढ़ने के

Question ID : 9895804005
Chosen Option : 2

Q.7 दिये गये वाक्यांश के लिए एक शब्द चुनिए।

जिसमें शक्ति न हो

- Ans
- 1. शक्तिशाली
 - 2. सशक्ति
 - 3. अशक्त
 - 4. सशक्त

Question ID : 9895804025
Chosen Option : 3

Q.8 दिए गए शब्द के पर्यायवाची शब्द का चयन करें।

जंगल

- Ans
- 1. उपवन
 - 2. पत्थर
 - 3. पय
 - 4. कानन

Question ID : 9895804021
Chosen Option : 4

Q.9 रिक्त स्थान को भरने के लिए उपयुक्त शब्द का चयन करें।

गंगा के जल को _____ माना जाता है।

- Ans
- 1. पवित्र
 - 2. शुद्ध
 - 3. जहर
 - 4. विष

Question ID : 9895804008
Chosen Option : 1

Q.10 निम्नलिखित में से उस विकल्प का चयन करें जो 'ढोल पीटना' मुहावरे का अर्थ व्यक्त करता है।

- Ans
- 1. ढोल को पीटना
 - 2. ढोल पीटकर बताना
 - 3. गाने के साथ ढोल बजाना
 - 4. बात को प्रचारित करना

Question ID : 9895804023
Chosen Option : 4

Q.11 सही वर्तनी वाले शब्द का चयन करें।

- Ans
- 1. लालिमा
 - 2. लालीमा
 - 3. ललिमा
 - 4. ललईमा

Question ID : 9895804026
Chosen Option : 1

Q.12 दिए गए वाक्य में रेखांकित खंड को प्रतिस्थापित करने के लिए उपयुक्त विकल्प का चयन करें।

कक्षा में चालीस छात्र हैं, लेकिन कार्तिक सबसे बुद्धिमान है।

Ans

- ✗ 1. कार्तिक सबका बुद्धिमान है।
 ✓ 2. कार्तिक सबसे बुद्धिमान है।
 ✗ 3. कार्तिक सबको बुद्धिमान है।
 ✗ 4. कार्तिक सब पर बुद्धिमान है।

Question ID : 9895804007
 Chosen Option : 2

Q.1
 3 दिए गए शब्द का विलोम चुनें।

स्थायर

- Ans ✗ 1. संगम
 ✗ 2. नग्न
 ✓ 3. जगम
 ✗ 4. जंगल

Question ID : 9895804019
 Chosen Option : 3

Q.1
 4 दिए गए शब्द के पर्यायवाची शब्द का चयन करें।

पथ

- Ans ✓ 1. राह
 ✗ 2. पथिक
 ✗ 3. पंछी
 ✗ 4. भानु

Question ID : 9895804020
 Chosen Option : 1

Q.1
 5 दिए गए शब्द का विलोम चुनें।

ह्रस्व

- Ans ✗ 1. लघु
 ✗ 2. अहिंसा
 ✓ 3. दीर्घ
 ✗ 4. रोना

Question ID : 9895804018
 Chosen Option : 3

Q.1
 6

दिए गए वाक्य का वह भाग ज्ञात करें जिसमें कोई त्रुटि है।

आप 'आधे-अधूरे' नामक नाटक को देखने के लिए तुम्हारे मित्र को बुलाइये।

Ans

- 1. आप 'आधे-अधूरे' नामक
- 2. नाटक को देखने के लिए
- 3. तुम्हारे मित्र
- 4. को बुलाइये।

Question ID : 9895804003
Chosen Option : 3

Q.1
7 दिये गये वाक्यांश के लिए एक शब्द चुनिए।

जो बात पहले कभी न हुई हो

Ans

- 1. सुलभ
- 2. दुर्लभ
- 3. अभूतपूर्व
- 4. अविश्वसनीय

Question ID : 9895804024
Chosen Option : 4

Q.1
8 दिए गए वाक्य का वह भाग ज्ञात करें जिसमें कोई त्रुटि है।

समाचार पत्रों का उद्देश्य होनी चाहिए समाचारों को सकारात्मक दिशा देना।

Ans

- 1. समाचार पत्रों का उद्देश्य
- 2. सकारात्मक दिशा देना।
- 3. होनी चाहिए
- 4. समाचारों को

Question ID : 9895804004
Chosen Option : 3

Q.1
9 रिक्त स्थान को भरने के लिए उपयुक्त शब्द का चयन करें।

अध्यापक के कक्षा _____ ही सभी बच्चे शरारतें करने लगे।

Ans

- 1. को आते

2. को जाते
3. से आते
4. से जाते

Question ID : 9895804009
Chosen Option : 4

Q.2
0 निम्नलिखित में से उस विकल्प का चयन करें जो 'डींग मारना'

मुहावरे का अर्थ व्यक्त करता है।

- Ans 1. कम बातें करना
2. बहुत बातें करना
3. बढ़ चढ़कर बातें करना
4. मिल-जुल कर बात करना

Question ID : 9895804022
Chosen Option : 3

Q.2
1 दिए गए वाक्य में रेखांकित खंड को प्रतिस्थापित करने के लिए उपयुक्त विकल्प का चयन करें।

जातिवाद की समस्या स्वस्थ राष्ट्रीय के पनपने में बहुत बड़ा बाधक तत्व है।

- Ans 1. स्वास्थ्य राष्ट्रीयता के पनपने में
2. स्वस्थ राष्ट्रीयता के पनपने में
3. स्वस्थता राष्ट्र के पनपने में
4. स्वास्थ्य राष्ट्रीय के पनपने में

Question ID : 9895804006
Chosen Option : 2

Q.2
2 रिक्त स्थान को भरने के लिए उपयुक्त शब्द का चयन करें।

आग _____ रूप धारण कर चुकी थी।

- Ans 1. नफरत
2. भीषण
3. हँसमुख
4. प्रेम

Question ID : 9895804010
Chosen Option : 2

Q.2
3

दिए गए वाक्य का वह भाग जात करें जिसमें कोई त्रुटि है।

इस साल गर्मी के मौसम में आर्कटिक क्षेत्र में बर्फ सबसे कम पाई गया।

Ans

- 1. बर्फ सबसे कम पाई गया।
- 2. इस साल
- 3. आर्कटिक क्षेत्र में
- 4. गर्मी के मौसम में

Question ID : 9895804002
Chosen Option : 1

Q.2
4 रिक्त स्थान को भरने के लिए उपयुक्त शब्द का चयन करें।

आपकी यात्रा _____ हो।

Ans

- 1. अशुभ
- 2. मंगलमय
- 3. जंगलमय
- 4. हँसमुख

Question ID : 9895804011
Chosen Option : 2

Q.2
5 सही वर्तनी वाले शब्द का चयन करें।

Ans

- 1. खूबसूरती
- 2. खुबसुरती
- 3. खूबसूरति
- 4. खूबसुरती

Question ID : 9895804027
Chosen Option : 2