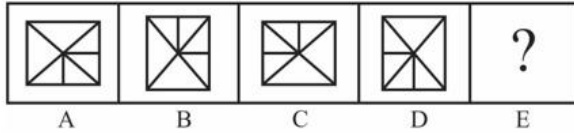


## Constable (GD) in CAPFs, NIA, SSF and Rifleman (GD) in Assam Rifles Examination, 2018

Roll No. :	GovtJobsAlert.In
Registration No.	GovtJobsAlert.In
Name :	GovtJobsAlert.In
Exam Venue :	GovtJobsAlert.In
Exam Time :	4:00 PM - 5:30 PM
Exam Date :	14/02/2019

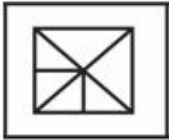
Section : General Section

Q.1 विकल्पों में से उस आकृति का चयन करें जो दी गई श्रृंखला में अगले स्थान पर आएगी।

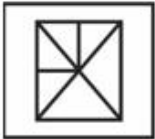


Ans

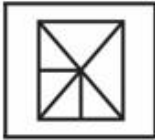
✗ 1.



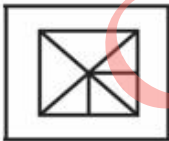
✗ 2.



✗ 3.



✓ 4.



Question ID : 9895803383

Chosen Option : 4

Q.2 पैटर्न के साथ एक वर्गाकार पारदर्शी कागज पत्रक दिया गया है। पारदर्शी कागज पत्रक को बिंदुंकित रेखा पर मोड़े जाने पर पैटर्न कैसा दिखाई देगा?

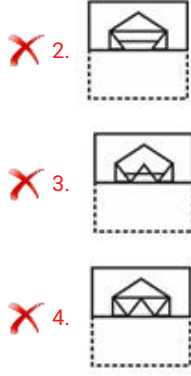


x

Ans

✓ 1.





Question ID : 9895803387  
Chosen Option : 2

Q.3 सात मित्र O, P, Q, R, S, T और U एक पंक्ति में बैठकर फिल्म देख रहे हैं। S एक अंतिम छोर पर बैठा हुआ है। Q, S के दाएं से दूसरे स्थान पर बैठा है। P, O और Q के बीच में बैठा है। U किसी भी अंतिम छोर पर नहीं बैठा है। R, T के बाएं ओर बैठा है। U के दाएं ओर से चौथे स्थान पर कौन बैठा है?

- Ans
- ✗ 1. T
  - ✓ 2. R
  - ✗ 3. Q
  - ✗ 4. P

Question ID : 9895803372  
Chosen Option : 3

Q.4 उस विकल्प का चयन करें जो तीसरे पद से उसी प्रकार से संबंधित है जिस प्रकार दूसरा पद पहले पद से संबंधित है।

प्रसिद्ध : विख्यात :: भिगोना : ?

- Ans
- ✗ 1. इच्छा करना
  - ✓ 2. सराबोर करना
  - ✗ 3. वाद-विवाद करना
  - ✗ 4. पीना

Question ID : 9895803368  
Chosen Option : 2

Q.5 दिए गए विकल्पों में से असंगत का चयन करें।

- Ans
- ✗ 1. JKV
  - ✓ 2. LNM
  - ✗ 3. RNK
  - ✗ 4. HLW

Question ID : 9895803365  
Chosen Option : 2

Q.6 दिए गए विकल्पों में से असंगत का चयन करें।

- Ans
- ✗ 1. मिस

- ✓ 2. बर्लिन  
✗ 3. घाना  
✗ 4. क्यूबा

Question ID : 9895803366  
Chosen Option : 3

Q.7 उस विकल्प का चयन करें जो तीसरे पद से उसी प्रकार से संबंधित है जिस प्रकार दूसरा पद पहले पद से संबंधित है।

BFH : HBF :: GKM : ?

- Ans ✗ 1. MKI  
✗ 2. KMG  
✗ 3. IKM  
✓ 4. MGK

Question ID : 9895803369  
Chosen Option : 4

Q.8 नीचे दिए गए कथनों के बाद दो निष्कर्ष I और II दिए गए हैं। यह मानते हुए कि कथनों में दी गई जानकारी सत्य है, भले ही वह सर्वज्ञात तथ्यों से भिन्न प्रतीत होती हो और यह निर्णय करें कि कौन सा / से निष्कर्ष तार्किक और निश्चित रूप से कथन में दी गई जानकारी का अनुसरण करता है / करते हैं।

कथन:

- 1.) कुछ उल्लू घोड़े हैं।  
2.) कुछ घोड़े खरगोश हैं।

निष्कर्ष:

- I. कुछ उल्लू खरगोश हैं।  
II. कुछ खरगोश उल्लू हैं।

- Ans ✓ 1. न तो निष्कर्ष I और न ही निष्कर्ष II अनुसरण करता है।  
✗ 2. केवल निष्कर्ष I अनुसरण करता है।  
✗ 3. केवल निष्कर्ष II अनुसरण करता है।  
✗ 4. दोनों ही निष्कर्ष अनुसरण करते हैं।

Question ID : 9895803376  
Chosen Option : 1

Q.9 उस विकल्प का चयन करें जो तीसरी संख्या से उसी प्रकार से संबंधित है जिस प्रकार दूसरी संख्या पहली संख्या से संबंधित है।

45 : 315 :: 37 : ?

- Ans ✗ 1. 144  
✗ 2. 221  
✓ 3. 259  
✗ 4. 169

Question ID : 9895803379

Q.1 <sub>0</sub> उस विकल्प का चयन करें जो दी गई श्रृंखला में प्रश्न चिह्न (?) के स्थान पर आएगा।

5, 6, 14, 41, ?

- Ans
- 1. 105
  - 2. 115
  - 3. 135
  - 4. 95

Question ID : 9895803378

Chosen Option : 4

Q.1 <sub>1</sub> उस विकल्प का चयन करें जो तीसरे पद से उसी प्रकार से संबंधित है जिस प्रकार दूसरा पद पहले पद से संबंधित है।

दिसपुर : असम :: कोहिमा : ?

- Ans
- 1. नगालैंड
  - 2. मेघालय
  - 3. राजधानी
  - 4. सिक्किम

Question ID : 9895803367

Chosen Option : 1

Q.1 <sub>2</sub> J, K L, M, N और O छह शिक्षक हैं। उनमें से प्रत्येक एक अलग विषय हिंदी, अंग्रेजी, गणित, विज्ञान, सामाजिक विज्ञान और कला में से पढ़ाता है, जरूरी नहीं कि उसी क्रम में हो। उनमें से प्रत्येक सोमवार से शनिवार तक केवल एक दिन ही पढ़ाता है, जरूरी नहीं कि उसी क्रम में हो। J शनिवार को कला पढ़ाता है। L न तो अंग्रेजी और न ही सामाजिक विज्ञान पढ़ाता है, लेकिन वह गुरुवार को पढ़ाता है। K के द्वारा गणित पढ़ाने के लिए बुधवार आरक्षित है। N से एक दिन पहले O विज्ञान पढ़ाता है। कला से एक दिन पहले सामाजिक विज्ञान पढ़ाया जाता है। कौन सा विषय गुरुवार और शनिवार के बीच के दिन पढ़ाया जाता है?

- Ans
- 1. सामाजिक विज्ञान
  - 2. अंग्रेजी
  - 3. विज्ञान
  - 4. गणित

Question ID : 9895803374

Chosen Option : 1

Q.1 <sub>3</sub> उस विकल्प का चयन करें जो दी गई श्रृंखला में प्रश्न चिह्न (?) के स्थान पर सही रूप में आएगा।

TOD, RQB, PSZ, NUX, ?

- Ans
- 1. LWW
  - 2. LWV
  - 3. LWU
  - 4. LVW

Question ID : 9895803364

Chosen Option : 2

Q.1 निम्नलिखित समीकरण को सही करने के लिए विकल्पों में दिए गए किन दो चिहनों को परस्पर बदला जाना चाहिए?  
4

$$27 + 48 \times 2 - 7 + 3 = 30$$

- Ans
- 1. - और ÷
  - 2. × और ÷
  - 3. - और ×
  - 4. + और -

Question ID : 9895803382  
Chosen Option : 1

Q.1 एक निश्चित कूट भाषा में, DIG को 60 के रूप में लिखा जाता है। उसी कूट भाषा में FEED को कैसे लिखा जाएगा?  
5

- Ans
- 1. 90
  - 2. 50
  - 3. 20
  - 4. 80

Question ID : 9895803371  
Chosen Option : 4

Q.1 विकल्पों में से उस आकृति का चयन करें जिसमें 'X' से चिह्नित आकृति समाहित है। (घुमान की अनुमति नहीं है)  
6



- Ans
- 1.
  - 2.
  - 3.
  - 4.

Question ID : 9895803385  
Chosen Option : 1

Q.1 उस विकल्प का चयन करें जो दी गई श्रृंखला में प्रश्न चिह्न (?) के स्थान पर आएगा।  
7

6, 21, 51, 96, ?

- Ans
- 1. 116

✓ 2. 156

✗ 3. 136

✗ 4. 176

Question ID : 9895803377  
Chosen Option : 2

Q.1 निम्नलिखित में से कौन सा वेन रेखाचित्र दिए गए वर्ग के बीच के संबंध को सही दर्शाता है?

व्हेल, चमगादड़, स्तनपायी

Ans



Question ID : 9895803388  
Chosen Option : 1

Q.1 उस विकल्प का चयन करें जो दर्पण के दाएँ ओर रखे जाने पर शब्द की दी गई दर्पण छवि से सर्वाधिक मेल खाता है।

9

MORTIFY

Ans



Question ID : 9895803386  
Chosen Option : 2

Q.2  
0

नीचे दिए गए कथनों के बाद दो निष्कर्ष I और II दिए गए हैं। यह मानते हुए कि कथनों में दी गई जानकारी सत्य है, भले ही वह सर्वज्ञात तथ्यों से भिन्न प्रतीत होती हो और यह निर्णय करें कि कौन सा / से निष्कर्ष तार्किक और निश्चित रूप से कथन में दी गई जानकारी का अनुसरण करता है / करते हैं।

कथन:

- 1.) सभी कलमें मेंढक हैं।
- 2.) सभी कौबे मेंढक हैं।

निष्कर्ष

- I. कोई कलम कौबा नहीं है।
- II. कुछ कलमें कौबे हैं।

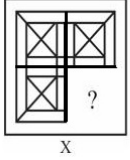
Ans

1. केवल निष्कर्ष II अनुसरण करता है।
2. केवल निष्कर्ष I अनुसरण करता है।
3. दोनों ही निष्कर्ष अनुसरण करते हैं।
4. या तो निष्कर्ष I या निष्कर्ष II अनुसरण करता है।

Question ID : 9895803375

Chosen Option : 1

Q.2 दिए गए चार विकल्पों में से उस आकृति को चुनें, जिसे आकृति X के रिक्त स्थान में (बिना घुमाए) रखने पर पैटर्न पूरा हो जाएगा।



Ans

- 1.
- 2.
- 3.
- 4.

Question ID : 9895803384

Chosen Option : 4

Q.2 दिए गए विकल्पों में से असंगत संख्या का चयन करें।

Ans

1. 8
2. 125

✓ 3. 65

✗ 4. 216

Question ID : 9895803380  
Chosen Option : 3

Q.2 आठ मित्र A, B, C, D, E, F, G और H दोपहर के भोजन के लिए एक वृत्ताकार मेज के चारों ओर एक-दूसरे के  
3 आमने-सामने बैठे हैं। A, F के सामने है और B के दाएँ ओर से तीसरा है। G, F और D के बीच में है। H, D के बाएँ ओर है। E, C और A के बीच में है। H के दायें से तीसरा कौन बैठा है?

Ans ✗ 1. A

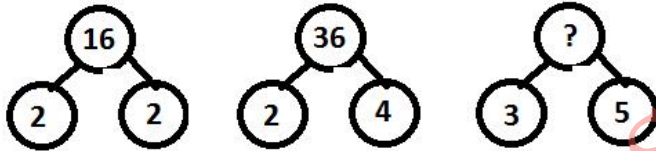
✗ 2. B

✗ 3. D

✓ 4. F

Question ID : 9895803373  
Chosen Option : 2

Q.2 उस विकल्प का चयन करें जो दिए गए पैटर्न में प्रश्न चिह्न (?) के स्थान पर आएगा।  
4



Ans ✗ 1. 8

✗ 2. 15

✓ 3. 64

✗ 4. 34

Question ID : 9895803381  
Chosen Option : 3

Q.2 एक निश्चित कूट भाषा कोड में, STEERING को TEIGTEIG के रूप में लिखा जाता है। उसी कूट भाषा में  
5 QUESTION को कैसे लिखा जाएगा?

Ans ✗ 1. USINUSJN

✓ 2. USINUSIN

✗ 3. USINV SIN

✗ 4. USJNUSIN

Question ID : 9895803370  
Chosen Option : 2

Q.2 भारत में चुनाव के संदर्भ में, VVPAT शब्द का अर्थ पूर्ण रूप क्या है?  
6

Ans ✓ 1. वोटर वेरिफायबल पेपर ऑडिट ट्रेल

✗ 2. वोटर विजिट पोल अकाउंट ट्रेल



3. वोटर विविड प्रेस ऑडिट ट्रेल  
 4. वोटर वेरिफायबल पेपर अकाउंट ट्रेल

Question ID : 9895804944  
Chosen Option : 2

Q.2 7 तेल और बसा युक्त भोजन, जब अधिक समय तक रखा जाता है, तो किस प्रक्रिया के कारण इसके स्वाद और गंध में बदलाव होता है?

- Ans  1. किण्वन (फर्मन्टेशन)  
 2. विकृत गंधिता (रेंसीडीटी)  
 3. अपघटन (सड़न)  
 4. प्रतिस्थापन (सब्सिट्यूशन)

Question ID : 9895804943  
Chosen Option : 3

Q.2 8 निम्नलिखित में से किस केंद्र शासित प्रदेश को भारत में आंशिक राज्य का दर्जा दिया गया है?

- Ans  1. दादरा और नगर हवेली  
 2. चंडीगढ़  
 3. दमन दीव  
 4. पुडुचेरी

Question ID : 9895804948  
Chosen Option : 1

Q.2 9 प्रकाश वर्ष निम्नलिखित में से किस से संबंधित है?

- Ans  1. मौसम  
 2. ध्वनि  
 3. अन्तर  
 4. गति

Question ID : 9895804941  
Chosen Option : 4

Q.3 0 बांदीपुर राष्ट्रीय उद्यान भारत के निम्नलिखित में से किस राज्य में स्थित है?

- Ans  1. छत्तीसगढ़  
 2. ओडिशा  
 3. कर्नाटक  
 4. तमिलनाडु

Question ID : 9895804934

Chosen Option : 1

Q.3  
1 कुछ दिनों के बाद, पीतल और कांस्य की मूर्तियाँ हरी हो जाती हैं उसका कारण क्या है?

- Ans
- 1. अपक्षरण
  - 2. अपघटन (सड़न)
  - 3. ऑक्सीकरण
  - 4. संक्षारण

Question ID : 9895804942

Chosen Option : 3

Q.3  
2 ताजमहल की प्रतिकृति, 'बीबी का मकबरा' कहाँ पर स्थित है?

- Ans
- 1. कटक
  - 2. औरंगाबाद
  - 3. अहमदाबाद
  - 4. चन्द्रनगर

Question ID : 9895804928

Chosen Option : 2

Q.3  
3 बाली का सफ़र 'बाली यात्रा', भारत के निम्नलिखित में से किस राज्य में मनाया जाता है?

- Ans
- 1. ओडिशा
  - 2. केरल
  - 3. राजस्थान
  - 4. तमिलनाडु

Question ID : 9895804929

Chosen Option : 3

Q.3  
4 तृतीयक क्षेत्र का दूसरा नाम क्या है?

- Ans
- 1. उत्पादक क्षेत्र
  - 2. सेवा क्षेत्र
  - 3. सार्वजनिक क्षेत्र
  - 4. प्राथमिक क्षेत्र

Question ID : 9895804951

Chosen Option : 3

Q.3  
5 टुंड्रा प्रकार की वनस्पति के बारे में निम्नलिखित में से कौन सा कथन सही नहीं है?

- Ans
1. सवार (माँस) और काई (लाइचेन) यहाँ पाए जाते हैं।
  2. यह समशीतोष्ण क्षेत्र में पायी जाती है।
  3. प्राकृतिक वनस्पति का विकास यहाँ सीमित है।
  4. छोटी झाड़ियाँ इस वनस्पति का एक हिस्सा हैं।

Question ID : 9895804936  
Chosen Option : 2

Q.3  
6 कौन सा पुल असम के डिब्रूगढ़ को अरुणाचल प्रदेश के पासीघाट से जोड़ता है?

- Ans
1. नैनी
  2. बोगीबिल
  3. पंबन
  4. कोरोनेशन

Question ID : 9895804946  
Chosen Option : 2

Q.3  
7 रैयतवाड़ी व्यवस्था निम्नलिखित में से किसके द्वारा शुरू की गई थी?

- Ans
1. लॉर्ड कार्नवालिस
  2. थॉमस मुनरो
  3. वारेन हेस्टिंग्स
  4. लॉर्ड रिपन

Question ID : 9895804932  
Chosen Option : 1

Q.3  
8 वैदिक काल के महत्वपूर्ण देवताओं के सही समूह का चयन करें।

- Ans
1. ब्रह्मा, प्रजापति, गरुड़
  2. शेषनाग, चंद्र, यम
  3. वरुण, विष्णु, शिव
  4. अग्नि, इंद्र, सोम

Question ID : 9895804933  
Chosen Option : 4

Q.3  
9 नटराज की कांस्य प्रतिमा किसके शासनकाल के दौरान निर्मित की गई थी?

- Ans
1. पल्लव
  2. चेर

3. पंड्या

4. चोला

Question ID : 9895804930  
Chosen Option : 1

Q.4  
0 मलेरिया और काला आज़ार किस से होता है?

Ans  1. प्रजीवगण (प्रोटोजोआ)

2. कवक

3. विषाणु (वाइरस)

4. जीवाणु (बैक्टीरिया)

Question ID : 9895804940  
Chosen Option : 1

Q.4  
1 सैंडस्टोन निम्नलिखित में से किस का उदाहरण है?

Ans  1. मेटामोर्फिक (रूपांतरित) पत्थर

2. गैर-धूमिल पत्थर

3. तलछटी पत्थर

4. आग्नेय पत्थर

Question ID : 9895804935  
Chosen Option : 1

Q.4  
2 भारतीय संविधान के संदर्भ में, निम्नलिखित में से कौन सा अनुच्छेद अपने नागरिकों को धर्म की स्वतंत्रता के अधिकार की गारंटी देता है?

Ans  1. अनुच्छेद 32

2. अनुच्छेद 14

3. अनुच्छेद 25

4. अनुच्छेद 22

Question ID : 9895804949  
Chosen Option : 1

Q.4  
3 महात्मा गांधी राष्ट्रीय ग्रामीण रोजगार गारंटी अधिनियम के संदर्भ में, निम्नलिखित में से कौन सा कथन सही नहीं है?

Ans  1. यह लाभार्थी को 100 दिनों के काम की गारंटी देता है।

2. इसे काम के अधिकार के रूप में भी जाना जाता है।

3. इसे भारत सरकार ने 2009 में शुरू किया था।

✗ 4.

यह ग्रामीण विकास मंत्रालय द्वारा कार्यान्वित किया जाता है।

Question ID : 9895804952  
Chosen Option : 3

Q.4  
4 \_\_\_\_\_ आसपास से ध्वनि को एकत्रित करता है।

- Ans
- ✗ 1. कान का परदा
  - ✓ 2. कर्णपाली (पिन्ना)
  - ✗ 3. श्रवण तंत्रिका
  - ✗ 4. कर्णावर्त (कोचलीआ)

Question ID : 9895804939  
Chosen Option : 2

Q.4  
5 न्यायमूर्ति राजेन्द्र सच्चर समिति की स्थापना भारत सरकार द्वारा किस उद्देश्य के लिए की गई थी?

- Ans
- ✗ 1. भारत की विदेश नीति की स्थिति की जाँच करना।
  - ✗ 2. भारतीय अर्थव्यवस्था के असंगठित क्षेत्र की स्थिति का अध्ययन करना।
  - ✓ 3. मुस्लिम समुदाय की सामाजिक और आर्थिक स्थिति की जाँच करना।
  - ✗ 4. भारत में राष्ट्रीय उद्यानों की स्थितियों का अध्ययन करना।

Question ID : 9895804947  
Chosen Option : 1

Q.4  
6 निम्नलिखित में से किस स्थान पर प्रवासी भारतीय दिवस 2019 के समापन समारोह का आयोजन किया गया?

- Ans
- ✗ 1. चंडीगढ़
  - ✓ 2. वाराणसी
  - ✗ 3. पुणे
  - ✗ 4. कोच्चि

Question ID : 9895804945  
Chosen Option : 3

Q.4  
7 यथा जनवरी 2019 किस भारतीय क्रिकेटर ने एक दिवसीय अंतरराष्ट्रीय मैचों में सबसे तेज 100 विकेट लेने की सिद्धि प्राप्त की?

- Ans
- ✓ 1. मोहम्मद शमी
  - ✗ 2. उमेश यादव
  - ✗ 3. इशांत शर्मा

✗ 4. हार्दिक पंड्या

Question ID : 9895804937  
Chosen Option : 1

Q.4  
8 भारतीय राष्ट्रीय कांग्रेस का लाहौर सत्र किस कारण महत्वपूर्ण है?

Ans ✗ 1. इसने रौलट सत्याग्रह शुरू करने का प्रस्ताव पारित किया।

✓ 2. इसने पूर्ण स्वराज की मांग का प्रस्ताव पारित किया।

✗ 3.

इसने भारत में नागरिक सेवा परीक्षा आयोजित करने का प्रस्ताव पारित किया।

✗ 4. इसने प्रांतीय चुनावों के बहिष्कार का प्रस्ताव पारित किया।

Question ID : 9895804931  
Chosen Option : 2

Q.4  
9 भारत के कृषि क्षेत्र में बेरोजगारी का प्रकार जहाँ आवश्यकता से अधिक लोग नियोजित लोगों को रोजगार दिया जाता है उसको किस रूप में जाना जाता है?

Ans ✓ 1. प्रच्छन्न बेरोजगारी

✗ 2. संरचनात्मक बेरोजगारी

✗ 3. मौसमी बेरोजगारी

✗ 4. सीमांत बेरोजगारी

Question ID : 9895804950  
Chosen Option : 3

Q.5  
0 टेबल टेनिस के लिए 2018 द्रोणाचार्य पुरस्कार किस को दिया गया?

Ans ✓ 1. श्रीनिवास राव

✗ 2. जीवन कुमार शर्मा

✗ 3. विजया शर्मा

✗ 4. तारक सिन्हा

Question ID : 9895804938  
Chosen Option : 4

Q.5  
1 ₹4500 की एक राशि चक्रवृद्धि ब्याज दर से उधार दी जाती है। यदि वार्षिक ब्याज दर 10% है (ब्याज का संयोजन वार्षिक किया गया है), तो 3 वर्षों पश्चात धनराशि क्या होगी?

Ans ✓ 1. ₹5989.5

✗ 2. ₹5689.5

✗ 3. ₹5686.5

✗ 4. ₹5889.5

Question ID : 9895805042

Chosen Option : 2

Q.5 एक लंबवृत्तीय बेलन की ऊँचाई 20 से.मी. है। यदि इसके आधार की त्रिज्या 14 से.मी. है, तो बेलन का वक्र पृष्ठीय क्षेत्रफल क्या होगा?

- Ans
- 1. 1880 से.मी.<sup>2</sup>
  - 2. 2120 से.मी.<sup>2</sup>
  - 3. 1760 से.मी.<sup>2</sup>
  - 4. 1940 से.मी.<sup>2</sup>

Question ID : 9895805047

Chosen Option : 3

Q.5 एक वस्तु का अंकित मूल्य उसके क्रय मूल्य से 40% अधिक है। यदि वस्तु पर 50% की छूट दी गई है, तो विक्रय मूल्य क्रय मूल्य का कितना प्रतिशत है?

- Ans
- 1. 70%
  - 2. 93%
  - 3. 78%
  - 4. 84%

Question ID : 9895805033

Chosen Option : 1

Q.5 प्रबंधकों का औसत वेतन  $x$  है तथा श्रमिकों का औसत वेतन  $y$  है। प्रबंधकों की संख्या श्रमिकों की संख्या का 15 गुना है। प्रबंधकों तथा श्रमिकों को मिलाकर दोनों का औसत वेतन क्या है?

- Ans
- 1.  $(x + 15y)/16$
  - 2.  $(15x + y)/(x + y)$
  - 3.  $(x + 15y)/(x + y)$
  - 4.  $(15x + y)/16$

Question ID : 9895805032

Chosen Option : 2

Q.5 एक वर्ग तथा एक आयत का क्षेत्रफल बराबर है। आयत की लंबाई वर्ग की भुजा से 5 से.मी. अधिक है तथा उसकी चौड़ाई वर्ग की भुजा से 4 से.मी. कम है। आयत का परिमाण क्या होगा?

- Ans
- 1. 84 से.मी.
  - 2. 76 से.मी.
  - 3. 82 से.मी.
  - 4. 72 से.मी.

Question ID : 9895805048

Chosen Option : 1

Q.5  
6

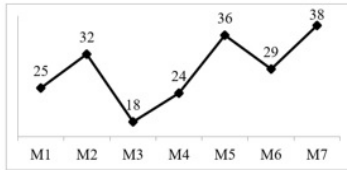
दिए गए डेटा का बहुलक क्या है?

3, 0, 1, 0, 2, 1, 2, 0, 1, 2, 1, 1, 1, 3, 2

- Ans
- 1. 2
  - 2. 0
  - 3. 3
  - 4. 1

Question ID : 9895805034  
Chosen Option : 4

Q.5 नीचे दिया गया रेखा चित्र 7 विभिन्न माह में कारों के उत्पादन (10000s में) को दर्शाता है।



M2 महीने में कारों का उत्पादन M1 महीने में कारों के उत्पादन से कितना प्रतिशत अधिक है?

- Ans
- 1. 28%
  - 2. 33.33%
  - 3. 25%
  - 4. 37.5%

Question ID : 9895805050  
Chosen Option : 2

Q.5 यदि सोहन 25 मी./से. की गति से एक बाइक चला रहा है, तो सोहन 540 कि.मी. की दूरी को कितने समय में तय करेगा?

- Ans
- 1. 5 घंटे
  - 2. 6 घंटे
  - 3. 21.6 घंटे
  - 4. 7 घंटे

Question ID : 9895805045  
Chosen Option : 4

Q.5 एक राशि 10 वर्षों में साधारण ब्याज की दर से स्वयं का तीन गुना हो जाती है। ब्याज की वार्षिक दर क्या है?

- Ans
- 1. 20%
  - 2. 15%
  - 3. 30%
  - 4. 25%

Question ID : 9895805041  
Chosen Option : 3



Q.6 नीचे दी गई तालिका 5 विषयों में 4 छात्रों द्वारा प्राप्त अंकों को दर्शाती है। प्रत्येक विषय के अधिकतम अंक 100 हैं।

विषय	छात्र			
	P1	P2	P3	P4
S1	89	100	92	91
S2	62	52	72	37
S3	57	55	70	65
S4	76	85	76	58
S5	85	70	66	62

P2 द्वारा प्राप्त प्रति विषय औसत अंक क्या हैं?

- Ans
- 1. 75.8
  - 2. 70.6
  - 3. 74.6
  - 4. 72.4

Question ID : 9895805052  
Chosen Option : 4

Q.6 10 वस्तुओं का औसत वजन 65 कि.ग्रा. है। यदि 72 कि.ग्रा. औसत वजन वाली तीन वस्तुओं को हटा दिया जाए, तो बची हुई वस्तुओं का औसत वजन क्या होगा?

- Ans
- 1. 71 कि.ग्रा.
  - 2. 65 कि.ग्रा.
  - 3. 58 कि.ग्रा.
  - 4. 62 कि.ग्रा.

Question ID : 9895805031  
Chosen Option : 2

Q.6  $\left[ \left( \frac{1}{2} \div \frac{1}{4} - 4 \times \frac{1}{2} \times \frac{1}{3} \right) \text{ का } \left( \frac{2}{3} \div \frac{4}{3} + \frac{1}{2} \right) \right]$  मान क्या है?

- Ans
- 1.  $\frac{5}{2}$
  - 2.  $\frac{3}{4}$
  - 3.  $\frac{4}{3}$
  - 4.  $\frac{1}{2}$

Question ID : 9895805029  
Chosen Option : 2

Q.6  $x : y = 5 : 4$  है, तो  $(x/y) : (y/x)$  का अनुपात क्या होगा?

- Ans
- 1. 25 : 16
  - 2. 5 : 4

✗ 3. 16 : 25

✗ 4. 4 : 5

Question ID : 9895805039  
Chosen Option : 1

Q.6 एक व्यक्ति ₹345 प्रति कैलकुलेटर की दर से कैलकुलेटर खरीदता है। यदि वह 40% की हानि पर कैलकुलेटर बेचता है,  
4 तो 28 कैलकुलेटर का विक्रय मूल्य क्या होगा?

Ans ✓ 1. ₹5796

✗ 2. ₹6872

✗ 3. ₹13524

✗ 4. ₹8657

Question ID : 9895805037  
Chosen Option : 4

Q.6 दो संख्याओं का अनुपात 13 : 20 है। यदि उनके मध्य का अंतर 189 है, तो दोनों संख्याओं में से छोटी  
5 संख्या क्या है?

Ans ✓ 1. 351

✗ 2. 221

✗ 3. 279

✗ 4. 297

Question ID : 9895805038  
Chosen Option : 2

Q.6 दो ठोस गोले के आयतन का योग  $1144/3$  से.मी.<sup>3</sup> है। यदि उनकी त्रिज्या का योग 7 से.मी. है, तो उनकी त्रिज्या का  
6 अंतर क्या होगा?

Ans ✓ 1. 1 से.मी.

✗ 2. 4 से.मी.

✗ 3. 3 से.मी.

✗ 4. 2 से.मी.

Question ID : 9895805049  
Chosen Option : 1

Q.6 यदि एक संख्या को 14 से विभाजित किया जाता है, तो वह दूसरी संख्या के 10% के बराबर हो जाता है। पहली  
7 संख्या दूसरी संख्या से कितने प्रतिशत अधिक है?

Ans ✗ 1. 45%

✗ 2. 60%

✗ 3. 30%

✓ 4. 40%

Question ID : 9895805035  
Chosen Option : 2

Q.6 यदि मोहित 1872 कि.मी. की एक दूरी को 26 घंटों में तय कर सकता है, तो मोहित की गति क्या है?

- Ans
- 1. 24 मी./से.
  - 2. 72 मी./से.
  - 3. 36 मी./से.
  - 4. 20 मी./से.

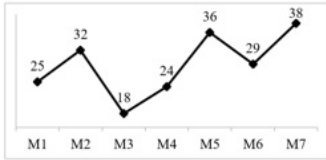
Question ID : 9895805046  
Chosen Option : 2

Q.6 यदि एक वस्तु का विक्रय मूल्य ₹638 है तथा लाभ 45% है, तो लाभ कितना होगा?

- Ans
- 1. ₹198
  - 2. ₹440
  - 3. ₹287.1
  - 4. ₹256

Question ID : 9895805036  
Chosen Option : 3

Q.7 नीचे दिया गया रेखा चित्र 7 विभिन्न माह में कारों के उत्पादन (10000 में) को दर्शाता है।



दिए गए 7 महीनों के लिए औसत मासिक उत्पादन क्या है?

- Ans
- 1. 21.6 (10000 में)
  - 2. 28.8 (10000 में)
  - 3. 32.2 (10000 में)
  - 4. 23.5 (10000 में)

Question ID : 9895805051  
Chosen Option : 1

Q.7 P, Q तथा R एक व्यापार शुरू करने के लिए क्रमशः ₹14000, ₹18000 तथा ₹24000 निवेश करते हैं। यदि वर्ष के अंत में लाभ ₹25480 है, तो P तथा Q के हिस्सों के मध्य अंतर क्या है?

- Ans
- 1. ₹2670
  - 2. ₹2140
  - 3. ₹1820
  - 4. ₹3480

Question ID : 9895805040  
Chosen Option : 2

Q.7 रोहित, मोहित तथा सुमित अकेले-अकेले एक कार्य को क्रमशः 8 दिन, 14 दिन तथा 21 दिन में पूरा कर सकते हैं।  
2 वह तीनों मिलकर समान कार्य को कितने दिन में पूरा कर सकते हैं?

- Ans
- 1. 156/41 दिन
  - 2. 168/43 दिन
  - 3. 168/41 दिन
  - 4. 156/43 दिन

Question ID : 9895805043  
Chosen Option : 2

Q.7 K अकेला एक कार्य को 20 दिन में पूरा कर सकता है तथा M अकेला समान कार्य को 30 दिन में पूरा कर सकता है।  
3 K तथा M मिलकर कार्य आरंभ करते हैं परंतु K कार्य शुरू होने के 5 दिन पश्चात् कार्य छोड़ देता है। M शेष कार्य को कितने दिन में पूरा करेगा?

- Ans
- 1. 55/2 दिन
  - 2. 35/2 दिन
  - 3. 25/2 दिन
  - 4. 45/2 दिन

Question ID : 9895805044  
Chosen Option : 3

Q.7  $\left[ 45 \text{ का } \left( \frac{3}{7} \div \frac{15}{14} \right) - \left( 6 \frac{1}{2} \div 3 - 4 \right) + 2 \right]$  का मान क्या है?

- Ans
- 1.  $\frac{33}{7}$
  - 2.  $\frac{147}{11}$
  - 3.  $\frac{109}{6}$
  - 4.  $\frac{131}{6}$

Question ID : 9895805030  
Chosen Option : 2

Q.7 ऐसी सबसे बड़ी संख्या क्या है, जिससे 52 तथा 104 को विभाजित करने पर क्रमशः 4 तथा 8 शेषफल बचता है?

- Ans
- 1. 16
  - 2. 26
  - 3. 48
  - 4. 12

Question ID : 9895805028  
Chosen Option : 1

Section : English Language

Q.1 Select the word which means the same as the group of words given.

A person who thinks he/she is the best.

- Ans
- 1. Eccentric
  - 2. Egoist
  - 3. Selfish
  - 4. Garrulous

Question ID : 9895804872  
Chosen Option : --

Q.2 From the given options, identify the segment in the sentence which contains the grammatical error.

He cannot speak Spanish because he was born and brought up in Spain.

- Ans
- 1. because he was
  - 2. in Spain.
  - 3. He cannot speak
  - 4. born and brought up

Question ID : 9895804489  
Chosen Option : --

Q.3 Select the correctly spelt word.

- Ans
- 1. Maintainance
  - 2. Mentainance
  - 3. Maintainence
  - 4. Maintenance

Question ID : 9895804510  
Chosen Option : --

Q.4 Select the antonym of the given word.

URGE

- Ans
- 1. Triumph
  - 2. Deter
  - 3. Persuade
  - 4. Request

Question ID : 9895804505  
Chosen Option : --

Q.5

Select the antonym of the given word.

BOISTEROUS

- Ans
- 1. Aggravated
  - 2. Incompetent
  - 3. Exuberant
  - 4. Restrained

Question ID : 9895804504  
Chosen Option : --

Comprehension:

In the following passage some words have been deleted. Fill in the blanks with the help of the alternatives given.

Most animals have their own habitats \_\_\_\_\_ (1) some make long journeys from one region to another. This \_\_\_\_\_ (2) called migration. It takes place at a particular \_\_\_\_\_ (3) of the year. Birds are the best-known \_\_\_\_\_ (4) but many other animals also migrate to places with \_\_\_\_\_ (5) climate.

SubQuestion No : 6

Q.6 Select the most appropriate option to fill in blank number (1).

- Ans
- 1. as
  - 2. because
  - 3. but
  - 4. so

Question ID : 9895804497  
Chosen Option : --

Comprehension:

In the following passage some words have been deleted. Fill in the blanks with the help of the alternatives given.

Most animals have their own habitats \_\_\_\_\_ (1) some make long journeys from one region to another. This \_\_\_\_\_ (2) called migration. It takes place at a particular \_\_\_\_\_ (3) of the year. Birds are the best-known \_\_\_\_\_ (4) but many other animals also migrate to places with \_\_\_\_\_ (5) climate.

SubQuestion No : 7

Q.7 Select the most appropriate option to fill in blank number (2).

- Ans
- 1. are
  - 2. is

3. were

4. was

Question ID : 9895804498

Chosen Option : --

**Comprehension:**

In the following passage some words have been deleted. Fill in the blanks with the help of the alternatives given.

Most animals have their own habitats \_\_\_\_\_ (1) some make long journeys from one region to another. This \_\_\_\_\_ (2) called migration. It takes place at a particular \_\_\_\_\_ (3) of the year.

Birds are the best-known \_\_\_\_\_ (4) but many other animals also migrate to places with \_\_\_\_\_ (5) climate.

**SubQuestion No : 8**

**Q.8** Select the most appropriate option to fill in blank number (3).

**Ans**  1. time

2. season

3. part

4. month

Question ID : 9895804499

Chosen Option : --

**Comprehension:**

In the following passage some words have been deleted. Fill in the blanks with the help of the alternatives given.

Most animals have their own habitats \_\_\_\_\_ (1) some make long journeys from one region to another. This \_\_\_\_\_ (2) called migration. It takes place at a particular \_\_\_\_\_ (3) of the year.

Birds are the best-known \_\_\_\_\_ (4) but many other animals also migrate to places with \_\_\_\_\_ (5) climate.

**SubQuestion No : 9**

**Q.9** Select the most appropriate option to fill in blank number (4).

**Ans**  1. travellers

2. tourists

3. migrants

4. visitors

Question ID : 9895804500

Chosen Option : --

Comprehension:

In the following passage some words have been deleted. Fill in the blanks with the help of the alternatives given.

Most animals have their own habitats \_\_\_\_\_ (1) some make long journeys from one region to another. This \_\_\_\_\_ (2) called migration. It takes place at a particular \_\_\_\_\_ (3) of the year. Birds are the best-known \_\_\_\_\_ (4) but many other animals also migrate to places with \_\_\_\_\_ (5) climate.

SubQuestion No : 10

Q.1  
0 Select the most appropriate option to fill in blank number (5).

- Ans
- 1. cold
  - 2. harsh
  - 3. favourable
  - 4. extreme

Question ID : 9895804501  
Chosen Option : --

Q.1  
1 Select the synonym of the given word.

AMIABLE

- Ans
- 1. Cheerful
  - 2. Friendly
  - 3. Hostile
  - 4. Bashful

Question ID : 9895804503  
Chosen Option : --

Q.1  
2 Select the most appropriate word to fill in the blank.

Beware of him. He is as sly as a \_\_\_\_\_.

- Ans
- 1. fox
  - 2. rabbit
  - 3. snail
  - 4. goat

Question ID : 9895804513  
Chosen Option : --

Q.1  
3 From the given options, identify the segment in the sentence which contains the grammatical error.

If I am a bird, I would fly and explore the world.

Ans



- 1. I would fly
- 2. the world
- 3. If I am
- 4. and explore

Question ID : 9895804490  
Chosen Option : --

Q.1  
4 Select the most appropriate option to fill in the blank.

When she bid farewell to her parents, her eyes were full \_\_\_\_\_ tears.

- Ans
- 1. by
  - 2. with
  - 3. from
  - 4. of

Question ID : 9895804494  
Chosen Option : --

Q.1  
5 Select the most appropriate option to substitute the underlined segment in the given sentence. If there is no need to substitute it, select No Improvement.

The mobile company changed their handsets last year, and by doing so they have managed to improve their sale.

- Ans
- 1. improve the sale
  - 2. improved their sales
  - 3. No improvement
  - 4. improve their sales

Question ID : 9895804492  
Chosen Option : --

Q.1  
6 Select the option that means the same as the given idiom.

Spill the beans

- Ans
- 1. To leak the secret
  - 2. To be productive
  - 3. To be clumsy
  - 4. To keep the secret

Question ID : 9895804507  
Chosen Option : --

Q.1  
7 Select the correctly spelt word.

- Ans
- 1. Calendar

- 2. Calander
- 3. Calendar
- 4. Calender

Question ID : 9895804511  
Chosen Option : --

Q.1  
8 Select the synonym of the given word.

TURBULENT

- Ans
- 1. Miserable
  - 2. Troublesome
  - 3. Violent
  - 4. Accurate

Question ID : 9895804502  
Chosen Option : --

Q.1  
9 From the given options, identify the segment in the sentence which contains the grammatical error.

Ten years since Mohit left India and started working for the betterment of the downtrodden people.

- Ans
- 1. Ten years since
  - 2. Mohit left India
  - 3. started working for
  - 4. the betterment of

Question ID : 9895804488  
Chosen Option : --

Q.2  
0 Select the option that means the same as the given idiom.

At the drop of a hat

- Ans
- 1. Lately
  - 2. Instantly
  - 3. Seldom
  - 4. Slowly

Question ID : 9895804506  
Chosen Option : --

Q.2  
1 Select the most appropriate word to fill in the blank.

Let us go for a picnic today. The \_\_\_\_\_ is very pleasant.

- Ans
- 1. season
  - 2. atmosphere

3. weather

4. climate

Question ID : 9895804512  
Chosen Option : --

Q.2 Select the most appropriate option to substitute the underlined segment in the given sentence. If there is no need to substitute it, select No Improvement.

2

Don't use those pencils; use the one we bought in Portugal.

Ans  1. use this ones

2. use the ones

3. No improvement

4. use one

Question ID : 9895804493  
Chosen Option : --

Q.2 Select the most appropriate option to fill in the blank.

3

The film we saw last night was boring. I wish I \_\_\_\_\_ seen it.

Ans  1. hadn't

2. shouldn't

3. wouldn't have

4. didn't

Question ID : 9895804495  
Chosen Option : --

Q.2 Select the most appropriate option to substitute the underlined segment in the given sentence. If there is no need to substitute it, select No Improvement.

4

The prince was told kill the dragon, but in order to do so, he had to cross the Forbidden Mountain.

Ans  1. was told too kill the dragon

2. was told to kill the dragon

3. No improvement

4. was told killing the dragon

Question ID : 9895804491  
Chosen Option : --

Q.2 Select the word which means the same as the group of words given.

5

A life history written by somebody else

Ans  1. Museology

2. Biography

3. Autobiography

✗ 4. Bibliography

Question ID : 9895804509  
Chosen Option : --

Section : Hindi Language

Q.1 दिए गए वाक्य का वह भाग ज्ञात करें जिसमें कोई त्रुटि है।

हम जिस वस्तु की कामना करते हैं उसी से हमारे कर्म की उत्पत्ति होता है।

- Ans
- ✗ 1. कामना करते हैं
  - ✓ 2. उत्पत्ति होता है।
  - ✗ 3. उसी से हमारे कर्म की
  - ✗ 4. हम जिस वस्तु की

Question ID : 9895804029  
Chosen Option : 4

Q.2 दिए गए शब्द का विलोम चुनें।

जीवन

- Ans
- ✓ 1. मरण
  - ✗ 2. जरा
  - ✗ 3. सम्मोहन
  - ✗ 4. सचेत

Question ID : 9895804045  
Chosen Option : 1

Q.3 दिए गए वाक्य में रेखांकित खंड को प्रतिस्थापित करने के लिए सबसे उपयुक्त विकल्प का चयन करें।

कल मैं दिल्ली से वापस जयपुर गई थी, यहाँ से आगरा गई थी।

- Ans
- ✗ 1. यहाँ पर आगरा गई थी।
  - ✗ 2. यहाँ आगरा पर गई।
  - ✗ 3. वहाँ पर आगरा गई थी।
  - ✓ 4. वहाँ से आगरा गई थी।

Question ID : 9895804033  
Chosen Option : 4

Q.4

दिए गए वाक्य का वह भाग ज्ञात करें जिसमें कोई त्रुटि है।

समय वह धन है जिसका दुरुपयोग करने से वह व्यर्थ चली जाती है।

Ans

- 1. व्यर्थ चली जाती है।
- 2. जिसका दुरुपयोग
- 3. करने से वह
- 4. समय वह धन है

Question ID : 9895804030  
Chosen Option : 1

Q.5 दिए गए वाक्य में रेखांकित खंड को प्रतिस्थापित करने के लिए सबसे उपयुक्त विकल्प का चयन करें।

मैं जिस भारतीय प्रजातंत्र की कल्पना करता हूँ, उसका अध्यक्ष कोई किसान ही होगा।

Ans

- 1. उसकी अध्यक्ष कोई किसान होगी।
- 2. उसकी अध्यक्ष कोई किसान होगा।
- 3. उनका अध्यक्ष भी किसान होगा।
- 4. उसका अध्यक्ष कोई किसान ही होगा।

Question ID : 9895804031  
Chosen Option : 2

Comprehension:

निम्नलिखित गद्यांश के रिक्त स्थानों की पूर्ति गद्यांश के नीचे दिए गए प्रश्नों के अनुसार कीजिए -

कभी हमारा देश सांस्कृतिक \_\_\_\_\_ (1) के पद पर आसीन था। 'विश्व गुरु' होने के नाते इस देश ने समूचे \_\_\_\_\_ (2) को मानवता, नैतिकता और सदाचार की शिक्षा दी। अनेक ग्रन्थ इसके \_\_\_\_\_ (3) हैं। लेकिन समय के साथ हम \_\_\_\_\_ (4) मूल्यों को भूलने लगे। आज भी समाज में नैतिक मूल्यों की \_\_\_\_\_ (5) देखने को मिलती है।

SubQuestion No : 6

Q.6 गद्यांश में संकेतित रिक्त स्थान (1) के लिए उपयुक्त शब्द होगा

Ans

- 1. उपदेशक
- 2. गुरु

✗ 3. अध्येता

✗ 4. वक्ता

Question ID : 9895804039  
Chosen Option : 2

Comprehension:

निम्नलिखित गद्यांश के रिक्त स्थानों की पूर्ति गद्यांश के नीचे दिए गए प्रश्नों के अनुसार कीजिए -

कभी हमारा देश सांस्कृतिक \_\_\_\_\_(1) के पद पर आसीन था। 'विश्व गुरु' होने के नाते इस देश ने समूचे \_\_\_\_\_(2) को मानवता, नैतिकता और सदाचार की शिक्षा दी। अनेक ग्रन्थ इसके \_\_\_\_\_(3) हैं। लेकिन समय के साथ हम \_\_\_\_\_(4) मूल्यों को भूलने लगे। आज भी समाज में नैतिक मूल्यों की \_\_\_\_\_(5) देखने को मिलती है।

SubQuestion No : 7

Q.7 गद्यांश में संकेतित रिक्त स्थान (2) के लिए उपयुक्त शब्द होगा

- Ans
- ✓ 1. विश्व
  - ✗ 2. यूरोप
  - ✗ 3. अमेरिका
  - ✗ 4. यूनान

Question ID : 9895804040  
Chosen Option : 1

Comprehension:

निम्नलिखित गद्यांश के रिक्त स्थानों की पूर्ति गद्यांश के नीचे दिए गए प्रश्नों के अनुसार कीजिए -

कभी हमारा देश सांस्कृतिक \_\_\_\_\_(1) के पद पर आसीन था। 'विश्व गुरु' होने के नाते इस देश ने समूचे \_\_\_\_\_(2) को मानवता, नैतिकता और सदाचार की शिक्षा दी। अनेक ग्रन्थ इसके \_\_\_\_\_(3) हैं। लेकिन समय के साथ हम \_\_\_\_\_(4) मूल्यों को भूलने लगे। आज भी समाज में नैतिक मूल्यों की \_\_\_\_\_(5) देखने को मिलती है।

SubQuestion No : 8

Q.8 गद्यांश में संकेतित रिक्त स्थान (3) के लिए उपयुक्त शब्द होगा

Ans

- 1. साक्षी
- 2. प्रकाश
- 3. प्रभाव
- 4. परिमाण

Question ID : 9895804041  
Chosen Option : 4

Comprehension:

निम्नलिखित गद्यांश के रिक्त स्थानों की पूर्ति गद्यांश के नीचे दिए गए प्रश्नों के अनुसार कीजिए -

कभी हमारा देश सांस्कृतिक \_\_\_\_\_(1) के पद पर आसीन था। 'विश्व गुरु' होने के नाते इस देश ने समूचे \_\_\_\_\_(2) को मानवता, नैतिकता और सदाचार की शिक्षा दी। अनेक ग्रन्थ इसके \_\_\_\_\_(3) हैं। लेकिन समय के साथ हम \_\_\_\_\_(4) मूल्यों को भूलने लगे। आज भी समाज में नैतिक मूल्यों की \_\_\_\_\_(5) देखने को मिलती है।

SubQuestion No : 9

Q.9 गद्यांश में संकेतित रिक्त स्थान (4) के लिए उपयुक्त शब्द होगा

- Ans
- 1. नैतिक
  - 2. मानसिक
  - 3. राजनीतिक
  - 4. भौतिक

Question ID : 9895804042  
Chosen Option : 1

Comprehension:

निम्नलिखित गद्यांश के रिक्त स्थानों की पूर्ति गद्यांश के नीचे दिए गए प्रश्नों के अनुसार कीजिए -

कभी हमारा देश सांस्कृतिक \_\_\_\_\_(1) के पद पर आसीन था। 'विश्व गुरु' होने के नाते इस देश ने समूचे \_\_\_\_\_(2) को मानवता, नैतिकता और सदाचार की शिक्षा दी। अनेक ग्रन्थ इसके \_\_\_\_\_(3) हैं। लेकिन समय के साथ हम \_\_\_\_\_(4) मूल्यों को भूलने लगे। आज भी समाज में नैतिक मूल्यों की \_\_\_\_\_(5) देखने को मिलती है।

SubQuestion No : 10

Q.1  
0

गद्यांश में संकेतित रिक्त स्थान (5) के लिए उपयुक्त शब्द होगा

Ans

- 1. पूर्णता
- 2. कमी
- 3. अधिकता
- 4. उत्थान

Question ID : 9895804043  
Chosen Option : 1

Q.1 रिक्त स्थान को भरने के लिए सबसे उपयुक्त शब्द का चयन करें।

समय पर बिल का भुगतान करें \_\_\_\_\_ बिजली काट दी जाएगी।

Ans

- 1. परंतु
- 2. लेकिन
- 3. या
- 4. अन्यथा

Question ID : 9895804035  
Chosen Option : 4

Q.1 रिक्त स्थान को भरने के लिए सबसे उपयुक्त शब्द का चयन करें।

आज मौसम बहुत \_\_\_\_\_ है।

Ans

- 1. सुहाना
- 2. सुगंध
- 3. बीमार
- 4. दुर्गंध

Question ID : 9895804037  
Chosen Option : 1

Q.1 निम्नलिखित में से उस विकल्प का चयन करें जो 'गागर में सागर भरना' मुहावरे का अर्थ व्यक्त करता है।

Ans

- 1. कम विचार आना
- 2. गागर से सागर को भरना



- ✓ 3. थोड़े शब्दों में अधिक कहना  
✗ 4. अधिक शब्दों में अधिक विचार

Question ID : 9895804048  
Chosen Option : 3

Q.1  
4 सही वर्तनी वाले शब्द का चयन करें।

- Ans  
✗ 1. निरयात  
✗ 2. नीर्यात  
✗ 3. नियार्त  
✓ 4. निर्यात

Question ID : 9895804052  
Chosen Option : 3

Q.1  
5 रिक्त स्थान को भरने के लिए सबसे उपयुक्त शब्द का चयन करें।

आपके दर्शन \_\_\_\_\_ हैं।

- Ans  
✗ 1. कल  
✗ 2. पानी  
✗ 3. सामने  
✓ 4. दुर्लभ

Question ID : 9895804036  
Chosen Option : 4

Q.1  
6 रिक्त स्थान को भरने के लिए सबसे उपयुक्त शब्द का चयन करें।

अधिक जनसंख्या भारत के लिए \_\_\_\_\_ है।

- Ans  
✗ 1. नियम  
✓ 2. अभिशाप  
✗ 3. त्रासदी  
✗ 4. मोक्ष

Question ID : 9895804034  
Chosen Option : 3

Q.1

7 दिए गए वाक्य का वह भाग ज्ञात करें जिसमें कोई त्रुटि है।

अपने से अधिक दूसरों का व्यथा से वे अधिक पीड़ित थे।

- Ans
- 1. पीड़ित थे।
  - 2. दूसरों का व्यथा से
  - 3. वे अधिक
  - 4. अपने से अधिक

Question ID : 9895804028  
Chosen Option : 4

Q.1 दिए गए वाक्य में रेखांकित खंड को प्रतिस्थापित करने के लिए सबसे उपयुक्त विकल्प का चयन करें।

अध्यापिका को परीक्षा के लिए महत्वपूर्ण प्रश्न कराये।

- Ans
- 1. अध्यापिका के
  - 2. अध्यापिका ने
  - 3. अध्यापिका के लिए
  - 4. अध्यापिका का

Question ID : 9895804032  
Chosen Option : 2

Q.1 निम्नलिखित में से उस विकल्प का चयन करें जो 'घाव पर नमक छिड़कना' मुहावरे का अर्थ व्यक्त करता है।

- Ans
- 1. दुखी व्यक्ति को दिलासा देना
  - 2. कष्ट को और बढ़ाना
  - 3. बीती बातें याद करना
  - 4. घाव के ऊपर नमक छिड़क देना

Question ID : 9895804049  
Chosen Option : 2

Q.2 दिए गए शब्द के पर्यायवाची शब्द का चयन करें।

पाणि

- Ans
- 1. हाथ
  - 2. पानी
  - 3. पत्र
  - 4. पत्ता

Question ID : 9895804046

Chosen Option : 3

Q.2  
1 सही वर्तनी वाले शब्द का चयन करें।

- Ans
- 1. विद्यार्थी
  - 2. वीद्यार्थी
  - 3. विद्यर्थी
  - 4. विद्यार्थि

Question ID : 9895804053

Chosen Option : 3

Q.2  
2 दिये गये वाक्यांश के लिए एक शब्द दीजिये।

आकाश को छूने वाला

- Ans
- 1. गगन
  - 2. आकाशीय
  - 3. खगोलीय
  - 4. गगनचुंबी

Question ID : 9895804051

Chosen Option : 2

Q.2  
3 दिए गए शब्द का विलोम चुनें।

जागरण

- Ans
- 1. सचेत
  - 2. जागना
  - 3. निद्रा
  - 4. अनिद्रा

Question ID : 9895804044

Chosen Option : 3

Q.2  
4 दिये गये वाक्यांश के लिए एक शब्द दीजिये।

साथ काम करने वाला

- Ans
- 1. सहधर्मी
  - 2. सहकर्म
  - 3. सहकर्मी
  - 4. सहयोग

Question ID : 9895804050  
Chosen Option : 3

Q.2  
5 दिए गए शब्द के पर्यायवाची शब्द का चयन करें।

सर्प

- Ans
- 1. भूधर
  - 2. भूमि
  - 3. भुजंग
  - 4. देवता

Question ID : 9895804047  
Chosen Option : 3