

Constable (GD) in CAPFs, NIA, SSF and Rifleman (GD) in Assam Rifles Examination, 2018

Roll No. :	GovtJobsAlert.In
Registration No.	GovtJobsAlert.In
Name :	GovtJobsAlert.In
Exam Venue :	iON Digital Zone iDZ Yeshwanthpur Industrial Suburb
Exam Time :	9:00 AM - 10:30 AM
Exam Date :	15/02/2019

Section : General Section

Q.1 एक निश्चित कूट भाषा में, STEERING को HGVVIRMT के रूप में लिखा जाता है। उसी कूट भाषा में QUESTION को कैसे लिखा जाएगा?

- Ans 1. JFVHGRLM
 2. JEVHGRLM
 3. JFVHGRIM
 4. JFVHGILM

Question ID : 9895803395
Chosen Option : 3

Q.2 उस विकल्प का चयन करें जो तीसरे पद से उसी प्रकार से संबंधित है जिस प्रकार दूसरा पद पहले पद से संबंधित है।

प्रसिद्धः विख्यात :: भयंकरः?

- Ans 1. इच्छा
 2. प्रचंड/उग्र
 3. भय/डर
 4. आकांक्षा

Question ID : 9895803393
Chosen Option : 2

Q.3 सात मित्र O, P, Q, R, S, T और U एक पंक्ति में बैठे फिल्म देख रहे हैं। P एक अंतिम छोर पर बैठा हुआ है। Q, S के ठीक बाएँ ओर बैठा है। P, T के दाएँ से दूसरे स्थान पर बैठा है। U किसी भी अंतिम छोर पर नहीं बैठा है। O, R और T के बीच में बैठा है।

कौन बिल्कुल दाएँ छोर पर बैठा है?

- Ans 1. T
 2. P
 3. Q
 4. R

Question ID : 9895803397
Chosen Option : 3

Q.4

उस विकल्प का चयन करें जो दी गई श्रृंखला में प्रश्न चिह्न (?) के स्थान पर सही रूप में आएगा।

PEL, NGK, LIJ, JKI, ?

- Ans 1. HMM
 2. MHH
 3. HHM
 4. MMH

Question ID : 9895803389
Chosen Option : 1

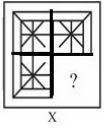
Q.5 उस विकल्प का चयन करें जो तीसरे पद से उसी प्रकार से संबंधित है जिस प्रकार दूसरा पद पहले पद से संबंधित है।

AC: BF : : JK: ?

- Ans 1. LM
 2. UT
 3. TV
 4. TU

Question ID : 9895803394
Chosen Option : 3

Q.6 दिए गए चार विकल्पों में से उस आकृति को चुनें, जिसे आकृति X के रिक्त स्थान में (बिना घुमाए) रखने पर पैटर्न पूरा हो जाएगा।



- Ans 1.
 2.
 3.
 4.

Question ID : 9895803409
Chosen Option : 1

Q.7 उस विकल्प का चयन करें जो तीसरी संख्या से उसी प्रकार से संबंधित है जिस प्रकार दूसरी संख्या पहली संख्या से संबंधित है।

45 : 405 : : 49 : ?

- Ans 1. 525
 2. 169
 3. 637

✗ 4. 144

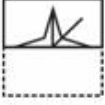
Question ID : 9895803404
Chosen Option : 3

Q.8 पैटर्न के साथ एक वर्गाकार पारदर्शी कागज पत्रक दिया गया है। पारदर्शी कागज पत्रक को बिंदुंकित रेखा पर मोड़ जाने पर पैटर्न कैसा दिखाई देगा?



Ans

✗ 1.



✓ 2.



✗ 3.



✗ 4.

Question ID : 9895803412
Chosen Option : 4

Q.9 दिए गए विकल्पों में से असंगत संख्या का चयन करें।

Ans

✗ 1. 49

✗ 2. 21

✗ 3. 63

✓ 4. 37

Question ID : 9895803405
Chosen Option : 4

Q.10 दिए गए विकल्पों में से असंगत का चयन करें।

Ans

✓ 1. PQH

✗ 2. ELM

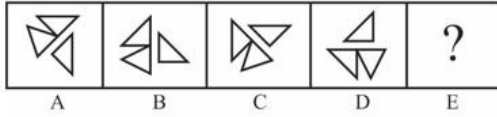
✗ 3. HJL

✗ 4. GJM

Question ID : 9895803390
Chosen Option : 1Q.1
1

विकल्पों में से उस आकृति का चयन करें जो दी गई श्रृंखला में अगले स्थान पर आएगी।

Problem Fig.



Ans

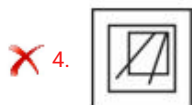
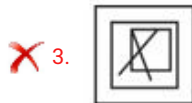


Question ID : 9895803408
Chosen Option : 3

Q.1 विकल्पों में से उस आकृति का चयन करें जिसमें 'X' से चिह्नित आकृति समाहित है। (घुमाने की अनुमति नहीं है)



Ans



Question ID : 9895803410
Chosen Option : 1

Q.1 उस विकल्प का चयन करें जो तीसरे पद से उसी प्रकार से संबंधित है जिस प्रकार दूसरा पद पहले पद से संबंधित है।

कृत्रिम: प्राकृतिक:: उत्तर:?

- Ans 1. समाधान
 2. प्रश्न
 3. समस्या
 4. उत्तर

Question ID : 9895803392
 Chosen Option : 2

Q.1 निम्नलिखित समीकरण को सही करने के लिए विकल्पों में दिए गए किन दो चिहनों को परस्पर बदला जाना चाहिए?
 4 $25 + 5 \times 7 - 12 \div 3 = 26$

- Ans 1. + और ÷
 2. + और -
 3. + और ×
 4. - और ÷

Question ID : 9895803407
 Chosen Option : 4

Q.1 आठ मित्र A, B, C, D, E, F, G और H दोपहर के भोजन के लिए एक वृत्ताकार मेज के चारों ओर एक-दूसरे के
 5 आमने-सामने बैठे हैं। A, D के सामने है और B के दाएँ ओर से तीसरा है। G, A और F के बीच में है। H, A के दाएँ ओर है। E, C और D के बीच में है।

H के दाएँ से तीसरा कौन बैठा है?

- Ans 1. D
 2. B
 3. G
 4. F

Question ID : 9895803398
 Chosen Option : 2

Q.1 उस विकल्प का चयन करें जो दर्पण के दाएँ ओर रखे जाने पर शब्द की दी गई दर्पण छवि से सर्वाधिक मेल खाता है।
 6



- Ans 1.
 2.
 3.

✗ 4.



Question ID : 9895803411

Chosen Option : 2

Q.1 उस विकल्प का चयन करें जो दी गई श्रृंखला में प्रश्न चिह्न (?) के स्थान पर आएगा।

3, 15, 32, 59, ?

Ans ✗ 1. 115

✓ 2. 101

✗ 3. 125

✗ 4. 105

Question ID : 9895803403

Chosen Option : 4

Q.1 नीचे दिए गए कथनों के बाद दो निष्कर्ष I और II दिए गए हैं। यह मानते हुए कि कथनों में दी गई जानकारी सत्य है, भले ही वह सर्वज्ञात तथ्यों से भिन्न प्रतीत होती हो और यह निर्णय करें कि कौन सा / से निष्कर्ष तार्किक और निश्चित रूप से कथन में दी गई जानकारी का अनुसरण करता है / करते हैं।

कथन:

1) सभी सरसों मकई हैं।

2) सभी मकई जैतून हैं।

निष्कर्ष:

I. सभी सरसों जैतून हैं।

II. कुछ जैतून सरसों हैं।

Ans ✗ 1. केवल निष्कर्ष I अनुसरण करता है।

✓ 2. दोनों ही निष्कर्ष अनुसरण करते हैं।

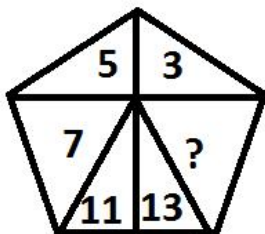
✗ 3. केवल निष्कर्ष II अनुसरण करता है।

✗ 4. या तो निष्कर्ष I या निष्कर्ष II अनुसरण करता है।

Question ID : 9895803400

Chosen Option : 3

Q.1 उस विकल्प का चयन करें जो दिए गए पैटर्न में प्रश्न चिह्न (?) के स्थान पर आएगा।



Ans ✗ 1. 9

✓ 2. 11

✗ 3. 19

✗ 4. 16

Question ID : 9895803406

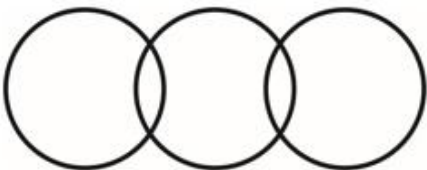
Chosen Option : 4

Q.2 निम्नलिखित में से कौन सा वेन रेखाचित्र दिए गए वर्ग के बीच के संबंध को सही दर्शाता है?

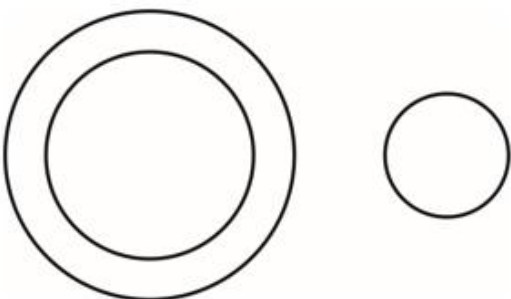
शब्द, पर्यायवाची, विपर्यायवाची/विरुद्धार्थी

Ans


✗ 1.



✗ 2.



✓ 3.



✗ 4.



Question ID : 9895803413

Chosen Option : 2

Q.2 दिए गए विकल्पों में से असंगत का चयन करें।

Ans ✗ 1. फेफड़ा

2. गुर्दा
 3. नाक
 4. यकृत

Question ID : 9895803391
Chosen Option : 3

Q.2 नीचे दिए गए कथनों के बाद दो निष्कर्ष I और II दिए गए हैं। यह मानते हुए कि कथनों में दी गई जानकारी सत्य है, भले ही वह सर्वज्ञात तथ्यों से भिन्न प्रतीत होती हो और यह निर्णय करें कि कौन सा / से निष्कर्ष तार्किक और निश्चित रूप से कथन में दी गई जानकारी का अनुसरण करता है / करते हैं।

कथन:

- 1) कुछ माणिक वस्त्र हैं।
2) कुछ वस्त्र रक्तमणि हैं।

निष्कर्ष:

- I. कुछ माणिक रक्तमणि हैं।
II. कोई भी माणिक रक्तमणि नहीं है।

Ans

1. केवल निष्कर्ष II अनुसरण करता है।
 2. केवल निष्कर्ष I अनुसरण करता है।
 3. दोनों ही निष्कर्ष अनुसरण करते हैं।
 4. या तो निष्कर्ष I या निष्कर्ष II अनुसरण करता है।

Question ID : 9895803401
Chosen Option : 1

Q.2 एक निश्चित कूट भाषा में, UP को 336 के रूप में लिखा जाता है। उसी कूट भाषा में ATE को कैसे लिखा जाएगा?

Ans

1. 100
 2. 20
 3. 80
 4. 60

Question ID : 9895803396
Chosen Option : 1

Q.2 J, K, L, M, N और O छह शिक्षक हैं। उनमें से प्रत्येक हिंदी, अंग्रेजी, गणित, विज्ञान, सामाजिक विज्ञान और कला में से एक अलग विषय पढ़ाता है, जरूरी नहीं कि उसी क्रम में हो। उनमें से प्रत्येक सोमवार से शनिवार तक केवल एक दिन ही पढ़ाता है, जरूरी नहीं कि उसी क्रम में हो। J बुधवार को विज्ञान पढ़ाता है। O, J के बाद दूसरे दिन गणित पढ़ाता है। K सप्ताह के पहले दिन पढ़ाता है, लेकिन न तो हिंदी पढ़ाता है और न ही अंग्रेजी। M, N से पहले अंग्रेजी पढ़ाता है और L, J से पहले कला पढ़ाता है।

कौन सा विषय गुरुवार और शनिवार के बीच के दिन पढ़ाया जाता है?

Ans

1. विज्ञान
 2. अंग्रेजी
 3. सामाजिक विज्ञान
 4. गणित

Question ID : 9895803399
Chosen Option : 2

Q.2
5 उस विकल्प का चयन करें जो दी गई श्रृंखला में प्रश्न चिह्न (?) के स्थान पर आएगा।

100, 96, 80, 44, ?

- Ans
- 1. 16
 - 2. 64
 - 3. -20
 - 4. 20

Question ID : 9895803402
Chosen Option : 3

Q.2
6 निम्नलिखित को आकर्षित करने के लिए सरकार द्वारा विशेष आर्थिक क्षेत्र स्थापित किए जा रहे हैं:

- Ans
- 1. पारंपरिक शिल्पकार
 - 2. विदेशी कंपनियाँ
 - 3. स्थानीय कंपनियाँ
 - 4. सहकारी कंपनियाँ

Question ID : 9895804969
Chosen Option : 1

Q.2
7 निम्नलिखित शासकों में से कौन मध्यकालीन भारत में "बाजार नियामक उपायों" से संबंधित है?

- Ans
- 1. जहांगीर
 - 2. मुहम्मद बिन तुगलक
 - 3. अलाउद्दीन खिलजी
 - 4. शेर शाह सूरी

Question ID : 9895804956
Chosen Option : 3

Q.2
8 भारतीय नौसेना द्वारा हाल ही में सबसे बड़ी तटीय रक्षा अभ्यास किया गया। इसे क्या नाम दिया गया है?

- Ans
- 1. SEA HAWK (सी हाक)
 - 2. SEA VIGIL (सी विजिल)
 - 3. SEA SEIZURE (सी सीज़र)
 - 4. SEA SERPENT (सी सर्पेंट)

Question ID : 9895804977
Chosen Option : 3

Q.2
9 प्रति व्यक्ति आय का दूसरा नाम है:

- Ans
- 1. कुल आय
 - 2. मध्यवर्ती आय
 - 3. औसत आय
 - 4. राष्ट्रीय आय

Question ID : 9895804967
Chosen Option : 1

Q.3
0 मंदिर की वास्तुकला के संदर्भ में, मंदिर का सबसे महत्वपूर्ण हिस्सा क्या होता है?

- Ans
- 1. प्रदक्षिणा पथ
 - 2. गोपुरम
 - 3. गर्भगृह
 - 4. मंडपम

Question ID : 9895804957
Chosen Option : 2

Q.3
1 दो राज्यों के बीच के विवाद को भारत के सर्वोच्च न्यायालय द्वारा अपने किस न्यायाधिकार के अंतर्गत निपटाया जा सकता है?

- Ans
- 1. सलाहकारी न्यायाधिकार
 - 2. पर्यवेक्षी न्यायाधिकार
 - 3. अपील-न्यायाधिकार
 - 4. मूल न्यायाधिकार

Question ID : 9895804959
Chosen Option : 2

Q.3
2 जांस्कर, हुंजा और नुब्रा किसकी सहायक नदियाँ हैं?

- Ans
- 1. ब्रह्मपुत्रा
 - 2. गोदावरी
 - 3. तापी
 - 4. सिंधु

Question ID : 9895804962
Chosen Option : 3

Q.3
3 प्रेरीज़ की जलवायु परिस्थितियों के संदर्भ में, निम्नलिखित में से कौन सा कथन सही है?

Ans

1. यह उत्तर दक्षिण हवा अवरोधक है।

2. स्थानीय हवा "लू" यहाँ चलती है।

3.

इसमें अत्यधिक तापमान के साथ महाद्वीपीय प्रकार की जलवायु होती है।

4. वार्षिक वर्षा बहुत भारी होती है।

Question ID : 9895804963

Chosen Option : 3

Q.3
4

संगठित क्षेत्र की निम्नलिखित में से कौन सी विशेषता सही नहीं है?

Ans

1.

नियोक्ता अपने श्रमिकों को छुट्टी यात्रा रियायत प्रदान करने के लिए बाध्य हैं।

2.

इस क्षेत्र के अंतर्गत उद्यम सरकार के पास पंजीकृत होते हैं।

3.

इस क्षेत्र के तहत श्रमिक सुरक्षा और रोजगार का आनंद लेते हैं।

4. श्रमिकों को छुट्टियों के दिनों का भी भुगतान किया जाता है।

Question ID : 9895804968

Chosen Option : 4

Q.3
5

2016 के रियो ओलंपिक में, भारतीय जिम्नास्ट दीपा करमाकर ने सबसे खतरनाक वॉल्ट का प्रयास किया था जिसे निम्नलिखित के रूप में जाना जाता है:

Ans

1. रूडी

2. प्रोदुनोवा

3. सुकाहारा

4. युरचेंको

Question ID : 9895804966

Chosen Option : 2

Q.3
6

मायोपिया को ठीक करने के लिए किस लेंस का उपयोग किया जाता है?

Ans

1. उत्तल

2. परवलयिक

3. अवतल

4. बेलनाकार

Question ID : 9895804973

Chosen Option : 2

Q.3
7 निम्नलिखित में से किस हिंदू मंदिर को हाल ही में पाकिस्तान सरकार द्वारा राष्ट्रीय धरोहर घोषित किया गया है?

- Ans
- 1. पंज तीरथ
 - 2. वरुण देव मंदिर
 - 3. कटास राज
 - 4. हिंगलाज माता मंदिर

Question ID : 9895804976
Chosen Option : 4

Q.3
8 निम्नलिखित में से किसे भारत के 2019 गणतंत्र दिवस पर मुख्य अतिथि के रूप में आमंत्रित किया गया था?

- Ans
- 1. श्रीलंका के राष्ट्रपति
 - 2. नेपाल के राष्ट्रपति
 - 3. दक्षिण अफ्रीका के राष्ट्रपति
 - 4. जापान के प्रधान मंत्री

Question ID : 9895804975
Chosen Option : 3

Q.3
9 महाराष्ट्र की संस्कृति के बारे में निम्नलिखित में से कौन सा कथन सही नहीं है?

- Ans
- 1. इसकी पारंपरिक साड़ी को पैठणी कहा जाता है।
 - 2. गणेश चतुर्थी इसका मुख्य त्योहार है।
 - 3. इसके लोकप्रिय नृत्य को 'गोटीपुआ' कहा जाता है।
 - 4. इसके लोक रंगमंच को तमाशा कहा जाता है।

Question ID : 9895804955
Chosen Option : 2

Q.4
0 महिला एकल इंडोनेशियाई मास्टर्स बैडमिंटन टूर्नामेंट 2019 की विजेता कौन है?

- Ans
- 1. साइना नेहवाल
 - 2. शिवानी गड्डे
 - 3. अरुंधति पंतावने
 - 4. पी. वी. सिंधु

Question ID : 9895804965
Chosen Option : 1

Q.4
1 हवा से फैलने वाली बीमारियों का सही समूह चुनें।

Ans

- 1. एड्स, टाइफाइड, निमोनिया
- 2. हैजा, टाइफाइड, क्षय
- 3. मस्सा, आम सर्दी, खांसी
- 4. क्षय, निमोनिया, इन्फ्लुएंजा

Question ID : 9895804970
Chosen Option : 4

Q.4 जर्मीदारों को किस भू-राजस्व प्रणाली के तहत, सरकार को एक निश्चित राशि के भुगतान के अधीन अपनी संपत्ति हस्तांतरित करने का अधिकार दिया गया था?

- Ans
- 1. स्थायी समझौता
 - 2. जागीरदारी समझौता
 - 3. रैयतवाड़ी समझौता
 - 4. महालवारी समझौता

Question ID : 9895804958
Chosen Option : 3

Q.4 जब पानी में कुछ साधारण नमक मिलाया जाता है तो क्वथनांक और हिमांक का क्या होगा?

- Ans
- 1. केवल क्वथनांक बढ़ता या घटता है।
 - 2. क्वथनांक बढ़ेगा, हिमांक कम होगा।
 - 3. क्वथनांक कम होगा, हिमांक बढ़ेगा।
 - 4. कोई परिवर्तन नहीं होता है।

Question ID : 9895804974
Chosen Option : 3

Q.4 किस प्रक्रिया के कारण कुछ दिनों के बाद नेप्थालीन गोला (ball) गायब हो जाता है?

- Ans
- 1. गलन
 - 2. गलन और वाष्पीकरण
 - 3. उर्ध्वपातन
 - 4. वाष्पीकरण

Question ID : 9895804972
Chosen Option : 2

Q.4 निम्नलिखित में से किस अधिनियम के तहत द्विशासन की प्रणाली भारत में शुरू की गई थी?

- Ans
- 1. भारतीय सरकार अधिनियम 1909
 - 2. भारतीय सरकार अधिनियम 1947

3. भारतीय सरकार अधिनियम 1935

4. भारतीय सरकार अधिनियम 1919

Question ID : 9895804960
Chosen Option : 3

Q.4
6 कुंभ मेला निम्नलिखित में से किस शहर से जुड़ा है?

Ans 1. मेरठ

2. मथुरा

3. वाराणसी

4. उज्जैन

Question ID : 9895804954
Chosen Option : 4

Q.4
7 शेरशाह सूरी का मकबरा कहाँ है?

Ans 1. सासाराम

2. जबलपुर

3. बुरहानपुर

4. सिकन्दरा

Question ID : 9895804953
Chosen Option : 1

Q.4
8 बी.पी. मंडल आयोग का गठन किस वर्ग के पिछड़ेपन के कारणों का अध्ययन करने के लिए की गई थी?

Ans 1. ग्रामीण महिलाएं और बच्चे

2. सामाजिक और आर्थिक रूप से पिछड़े वर्गों

3. अनुसूचित जाति

4. अनुसूचित जनजाति

Question ID : 9895804961
Chosen Option : 2

Q.4
9 गर्म करने पर आसानी से विरूपित हो जाने वाले प्लास्टिक को किस रूप में जाना जाता है?

Ans 1. थर्मोडायनामिक प्लास्टिक

2. थर्मोप्लास्टिक

3. थर्मो प्रतिरोधी प्लास्टिक

4. थर्मोसेटिंग प्लास्टिक

Question ID : 9895804971

Chosen Option : 2

Q.5
0 भारत में निम्नलिखित में से किस संरक्षित क्षेत्र में मानवीय हस्तक्षेप प्रतिबंधित है?

Ans

1. वेटलैंड्स (आर्द्रभूमि)
 2. बायोस्फीयर रिजर्व (संरक्षित जैवमंडल)
 3. वन्यजीव अभयारण्य
 4. राष्ट्रीय उद्यान

Question ID : 9895804964

Chosen Option : 2

Q.5
1 $24 - [48 \div \{48 \times (48 \div (24 \times 24))\}]$ का मान क्या है?

Ans

1. 16
 2. 20
 3. 12
 4. 18

Question ID : 9895805054

Chosen Option : 2

Q.5
2 दो संख्याओं का अनुपात 14 : 25 है। यदि उनके मध्य का अंतर 264 है, तो दोनों संख्याओं में से छोटी संख्या कौन सी है?

Ans

1. 294
 2. 316
 3. 336
 4. 282

Question ID : 9895805063

Chosen Option : 3

Q.5
3 नीचे दी गई तालिका एक देश के 5 क्रमागत वर्षों Y1, Y2, Y3, Y4 तथा Y5 के लिए चावल के उत्पादन तथा चावल की खेती के तहत क्षेत्र को दर्शाती है।

वर्ष	चावल का उत्पादन (1000 कि.ग्रा. में)
Y1	520
Y2	570
Y3	680
Y4	720
Y5	850

प्रति वर्ष चावल का औसत उत्पादन क्या है?

- Ans
- 1. 644000 कि.ग्रा.
 - 2. 686000 कि.ग्रा.
 - 3. 668000 कि.ग्रा.
 - 4. 702000 कि.ग्रा.

Question ID : 9895805076
Chosen Option : 2

Q.5 एक व्यक्ति ₹360 की 36 वस्तुएं खरीदता है। उसे ₹360 में कितनी वस्तुएं बेचनी चाहिए, जिससे लाभ 50% हो जाए?

- Ans
- 1. 32
 - 2. 24
 - 3. 36
 - 4. 18

Question ID : 9895805061
Chosen Option : 4

Q.5 एक वर्ग तथा एक आयत का क्षेत्रफल बराबर है। आयत की लंबाई वर्ग का भुजा से 9 से.मी. अधिक है तथा उसकी चौड़ाई वर्ग की भुजा से 6 से.मी. कम है। आयत का परिमाण क्या होगा?

- Ans
- 1. 78 से.मी.
 - 2. 76 से.मी.
 - 3. 74 से.मी.
 - 4. 84 से.मी.

Question ID : 9895805073
Chosen Option : 2

Q.5 एक ₹10000 की राशि को 15% की वार्षिक दर से साधारण ब्याज पर उधार दिया जाता है। 6 वर्षों के साधारण ब्याज तथा 2 वर्षों के साधारण ब्याज में कितना अंतर है?

- Ans
- 1. ₹8000
 - 2. ₹4000
 - 3. ₹4500
 - 4. ₹6000

Question ID : 9895805066
Chosen Option : 1

Q.5 यदि S, T का 160% है, तो T, S का कितना प्रतिशत होगा?

- Ans
- 1. 65.20%
 - 2. 70%
 - 3. 85%
 - 4. 62.50%

Question ID : 9895805060
Chosen Option : 4

Q.5
8 दिए गए डेटा का माध्य क्या है?

2, 3, 4, 5, 6, 7, 8, 9

- Ans
- 1. 4.5
 - 2. 5
 - 3. 5.5
 - 4. 4

Question ID : 9895805059
Chosen Option : 3

Q.5
9 A, B तथा C एक व्यापार शुरू करने के लिए क्रमशः ₹14000, ₹18000 तथा ₹24000 निवेश करते हैं। यदि वर्ष के अंत में लाभ ₹25480 है, तो A तथा B के कुल हिस्से क्या हैं?

- Ans
- 1. ₹17290
 - 2. ₹14560
 - 3. ₹6370
 - 4. ₹19110

Question ID : 9895805064
Chosen Option : 2

Q.6
0 16, 17, 18,..... की पंद्रह पदों तक औसत क्या होगी?

- Ans
- 1. 26
 - 2. 24
 - 3. 23.5
 - 4. 23

Question ID : 9895805056
Chosen Option : 3

Q.6
1 पहली कक्षा के 15 छात्रों के औसत अंक 160 हैं। दूसरी कक्षा के 10 छात्रों के औसत अंक 120 हैं। तीसरी कक्षा के 15 छात्रों के औसत अंक 180 हैं। सभी कक्षाओं को मिलाकर छात्रों के औसत अंक क्या होंगे?

- Ans
- 1. 155.5
 - 2. 167.5
 - 3. 162.5
 - 4. 157.5

Question ID : 9895805057
Chosen Option : 4

Q.6
2 एक कलम के अंकित मूल्य तथा क्रय मूल्य का अनुपात 3 : 2 है जबकि अंकित मूल्य तथा विक्रय मूल्य का अनुपात 5 : 4 है, लाभ प्रतिशत क्या है?

Ans

- 1. 25%
- 2. 24%
- 3. 20%
- 4. 16%

Question ID : 9895805058
Chosen Option : 2

Q.6 ₹14000 की एक राशि 3 वर्षों के लिए चक्रवृद्धि ब्याज पर उधार दी गई है (ब्याज का संयोजन वार्षिक है)। यदि ब्याज की दर 10% है, तो चक्रवृद्धि ब्याज क्या होगा?

- Ans
- 1. ₹4,645
 - 2. ₹4,634
 - 3. ₹4,643
 - 4. ₹4,364

Question ID : 9895805067
Chosen Option : 4

Q.6 एक रेलगाड़ी एक स्थायी गति से चल रही है। रेलगाड़ी 243 मीटर लम्बाई वाले एक पुल को 30 सेकण्ड में तथा 343 मीटर लम्बाई वाले एक पुल को 36 सेकण्ड में पार करती है। रेलगाड़ी की गति क्या है?

- Ans
- 1. 65 कि.मी./घंटा
 - 2. 72 कि.मी./घंटा
 - 3. 60 कि.मी./घंटा
 - 4. 64 कि.मी./घंटा

Question ID : 9895805070
Chosen Option : 4

Q.6 नीचे दी गई तालिका एक देश के 5 क्रमागत वर्षों Y1, Y2, Y3, Y4 तथा Y5 के लिए चावल के उत्पादन तथा चावल की खेती के तहत क्षेत्र को दर्शाती है।

वर्ष	चावल का उत्पादन (1000 कि.ग्रा. में)	चावल की खेती के तहत क्षेत्र (100 वर्ग मीटर में)
Y1	520	130
Y2	570	190
Y3	680	150
Y4	720	180
Y5	850	170

Y1 की तुलना में Y5 की प्रति वर्ग मीटर उपज में कितने प्रतिशत का बदलाव है?

- Ans
- 1. 20%
 - 2. 33.33%

- ✓ 3. 25%
✗ 4. 37.5%

Question ID : 9895805077
Chosen Option : 4

Q.6 यदि $X/3 = Y/5 = Z/9$ है, तो $X : Y : Z$ का अनुपात क्या है?

- Ans ✗ 1. 9 : 5 : 6
✗ 2. 3 : 5 : 6
✓ 3. 3 : 5 : 9
✗ 4. 15 : 9 : 5

Question ID : 9895805065
Chosen Option : 3

Q.6 पाइप X एक टैंक को 12 घंटे में भर सकता है तथा पाइप Y समान टैंक को 36 घंटे में भर सकता है। पाइप X तथा पाइप Y दोनों मिलकर टैंक का एक-तिहाई भाग कितने घंटे में भर सकते हैं?

- Ans ✗ 1. 9 घंटे
✓ 2. 3 घंटे
✗ 3. 27 घंटे
✗ 4. 15 घंटे

Question ID : 9895805068
Chosen Option : 2

Q.6 नीचे दी गई तालिका 5 विषयों में 4 छात्रों द्वारा प्राप्त अंकों को दर्शाती है। प्रत्येक विषय के अधिकतम अंक 100 हैं।

विषय	छात्र			
	P1	P2	P3	P4
S1	89	100	92	91
S2	62	52	72	37
S3	57	55	70	65
S4	76	85	76	58
S5	85	70	66	62

P4 के कुल कितने प्रतिशत अंक हैं?

- Ans ✗ 1. 59.5%
✗ 2. 67.2%
✓ 3. 62.6%
✗ 4. 65.8%

Question ID : 9895805075
Chosen Option : 2

Q.6 दो संख्याओं का गुणनफल 720 है। यदि उनका लघुत्तम समापवर्त्य 360 है, तो इन दो संख्याओं का महत्तम समापवर्तक क्या होगा?

- Ans ✗ 1. 20
✗ 2. 120
✓ 3. 2

✗ 4. 60

Question ID : 9895805053
Chosen Option : 3

Q.7
0 एक शंकु का वक्रपृष्ठीय क्षेत्रफल 550 से.मी.² है। यदि उसके आधार का क्षेत्रफल 154 से.मी.² है, तो शंकु का आयतन क्या होगा?

- Ans
- ✗ 1. 1836 से.मी.³
 - ✗ 2. 2464 से.मी.³
 - ✓ 3. 1232 से.मी.³
 - ✗ 4. 1472 से.मी.³

Question ID : 9895805074
Chosen Option : 2

Q.7
1 एक लंबवृत्तीय बेलन की ऊँचाई 12 से.मी. है। यदि इसके आधार की त्रिज्या 21 से.मी. है, तो बेलन का वक्र पृष्ठीय क्षेत्रफल क्या होगा?

- Ans
- ✗ 1. 1544 से.मी.²
 - ✗ 2. 1456 से.मी.²
 - ✗ 3. 1632 से.मी.²
 - ✓ 4. 1584 से.मी.²

Question ID : 9895805072
Chosen Option : 1

Q.7
2 एक व्यक्ति 25 कि.ग्रा. चावल को ₹600 में खरीदता है तथा उनको 5 कि.ग्रा चावल के विक्रय मूल्य के बराबर हानि पर बेचता है। हानि प्रतिशत क्या होगा?

- Ans
- ✗ 1. 14.28%
 - ✗ 2. 25%
 - ✗ 3. 20%
 - ✓ 4. 16.66%

Question ID : 9895805062
Chosen Option : 4

Q.7
3 $(14 \div 49 - 3 \div \frac{7}{2})$ का 5) का मान क्या है?

- Ans
- ✗ 1. 17/35
 - ✗ 2. 7/35
 - ✗ 3. 6/35
 - ✓ 4. 4/35

Question ID : 9895805055
Chosen Option : 1

Q.7 40 व्यक्ति एक पुल की मरम्मत 12 दिन में कर सकते हैं। यदि 8 और व्यक्ति उनके साथ जुड़ते हैं, तो पुल की मरम्मत कितने दिन में हो सकती है?

- Ans
- 1. 9 दिन
 - 2. 11 दिन
 - 3. 8 दिन
 - 4. 10 दिन

Question ID : 9895805069
Chosen Option : 2

Q.7 एक कार 54 कि.मी./घंटा की गति से एक निश्चित दूरी को 7 घंटे में तय करती है। समान दूरी को 6 घंटे में तय करने के लिए कार की गति क्या होनी चाहिए?

- Ans
- 1. 54 कि.मी./घंटा
 - 2. 56 कि.मी./घंटा
 - 3. 63 कि.मी./घंटा
 - 4. 72 कि.मी./घंटा

Question ID : 9895805071
Chosen Option : 4

Section : English Language

Q.1 Select the most appropriate option to substitute the underlined segment in the given sentence. If there is no need to substitute it, select No Improvement.

The work on two projects are already going on which will connect Leh-Ladakh by railway line and air.

- Ans
- 1. is already going on
 - 2. is already going up
 - 3. is already go on
 - 4. No improvement.

Question ID : 9895804518
Chosen Option : --

Q.2 From the given options, identify the segment in the sentence which contains the grammatical error.

Ritesh is best than many other boys in his class.

- Ans
- 1. than many
 - 2. in the class.
 - 3. Ritesh is best
 - 4. other boys

Question ID : 9895804514
Chosen Option : --

Comprehension:

In the following passage some words have been deleted. Fill in the blanks with the help of the alternatives given.

The last one in this long procession of silent men and women was a thin old man. Even (1) _____ carried a load of two baskets, slung on a pole on his (2) _____. In one basket there were (3) _____ pots. The other basket it seemed there was a quilt, extremely (4) _____ and patched, but clean still. (5) _____ the load was light, it was too much for the old man.

SubQuestion No : 3

Q.3 Select the most appropriate option that will fill in the blank number 1.

- Ans
- 1. they
 - 2. she
 - 3. it
 - 4. he

Question ID : 9895804523

Chosen Option : --

Comprehension:

In the following passage some words have been deleted. Fill in the blanks with the help of the alternatives given.

The last one in this long procession of silent men and women was a thin old man. Even (1) _____ carried a load of two baskets, slung on a pole on his (2) _____. In one basket there were (3) _____ pots. The other basket it seemed there was a quilt, extremely (4) _____ and patched, but clean still. (5) _____ the load was light, it was too much for the old man.

SubQuestion No : 4

Q.4 Select the most appropriate option that will fill in the blank number 2.

- Ans
- 1. hand
 - 2. shoulder
 - 3. head
 - 4. neck

Question ID : 9895804524

Chosen Option : --

Comprehension:

In the following passage some words have been deleted. Fill in the blanks with the help of the alternatives given.

The last one in this long procession of silent men and women was a thin old man. Even (1) _____ carried a load of two baskets, slung on a pole on his (2) _____. In one basket there were (3) _____ pots. The other basket it seemed there was a quilt, extremely (4) _____ and patched, but clean still. (5) _____ the load was light, it was too much for the old man.

SubQuestion No : 5

Q.5 Select the most appropriate option that will fill in the blank number 3.

- Ans
- 1. one
 - 2. none
 - 3. some
 - 4. any

Question ID : 9895804525
Chosen Option : --

Comprehension:

In the following passage some words have been deleted. Fill in the blanks with the help of the alternatives given.

The last one in this long procession of silent men and women was a thin old man. Even (1) _____ carried a load of two baskets, slung on a pole on his (2) _____. In one basket there were (3) _____ pots. The other basket it seemed there was a quilt, extremely (4) _____ and patched, but clean still. (5) _____ the load was light, it was too much for the old man.

SubQuestion No : 6

Q.6 Select the most appropriate option that will fill in the blank number 4.

- Ans
- 1. shining
 - 2. new
 - 3. beautiful
 - 4. ragged

Question ID : 9895804526
Chosen Option : --

Comprehension:

In the following passage some words have been deleted. Fill in the blanks with the help of the alternatives given.

The last one in this long procession of silent men and women was a thin old man. Even (1) _____ carried a load of two baskets, slung on a pole on his (2) _____. In one basket there were (3) _____ pots. The other basket it seemed there was a quilt, extremely (4) _____ and patched, but clean still. (5) _____ the load was light, it was too much for the old man.

SubQuestion No : 7

Q.7 Select the most appropriate option that will fill in the blank number 5.

- Ans
- 1. Since
 - 2. Because
 - 3. Although
 - 4. But

Question ID : 9895804527

Chosen Option : --

Q.8 From the given options, identify the segment in the sentence which contains the grammatical error.

I would rather to go home than go to a restaurant for dinner.

- Ans
- 1. rather to go
 - 2. than go to
 - 3. I would
 - 4. for dinner.

Question ID : 9895804516

Chosen Option : --

Q.9 Select the word which means the same as the group of words given.

One who feeds on human flesh

- Ans
- 1. Carnivorous
 - 2. Vegan
 - 3. Omnivorous
 - 4. Cannibal

Question ID : 9895804535

Chosen Option : --

Q.1
0

Select the option that means the same as the given idiom.

To keep someone at arm's length.

- Ans
- 1. To disturb someone
 - 2. To avoid someone
 - 3. To love someone
 - 4. To be near someone

Question ID : 9895804533

Chosen Option : --

Q.1
1 Select the synonym of the given word.

Favoured

- Ans
- 1. Preferred
 - 2. Rejected
 - 3. Neglected
 - 4. Trusted

Question ID : 9895804529

Chosen Option : --

Q.1
2 Select the option that means the same as the given idiom.

To be at home.

- Ans
- 1. To be at ease
 - 2. To be perplexed
 - 3. To be casual
 - 4. To be formal

Question ID : 9895804532

Chosen Option : --

Q.1
3 Select the antonym of the given word.

Peculiar

- Ans
- 1. Quiet
 - 2. Strange
 - 3. Usual
 - 4. Sacred

Question ID : 9895804531
Chosen Option : --

Q.1
4 Select the correctly spelt word.

- Ans
- 1. Appeeling
 - 2. Appealing
 - 3. Appeling
 - 4. Apelling

Question ID : 9895804536
Chosen Option : --

Q.1
5 Select the word which means the same as the group of words given.

One who makes an official examination of accounts

- Ans
- 1. Officer
 - 2. Auditor
 - 3. Supervisor
 - 4. Controller

Question ID : 9895804873
Chosen Option : --

Q.1
6 Select the antonym of the given word.

Ruthless

- Ans
- 1. Humble
 - 2. Kind
 - 3. Careful
 - 4. Merciless

Question ID : 9895804530
Chosen Option : --

Q.1
7 Select the most appropriate word to fill in the blank.

You must _____ hard to get the best deal.

- Ans
- 1. navigate
 - 2. negate
 - 3. neglect

4. negotiate

Question ID : 9895804539
Chosen Option : --

Q.1
8 Select the correctly spelt word.

- Ans 1. Mischeivous
 2. Mischieveous
 3. Mischievius
 4. Mischievous

Question ID : 9895804537
Chosen Option : --

Q.1
9 Select the synonym of the given word.

Forsake

- Ans 1. Abandon
 2. Accept
 3. Adopt
 4. Adapt

Question ID : 9895804528
Chosen Option : --

Q.2
0 Select the most appropriate option to fill in the blank.

All good things _____ come to an end

- Ans 1. shall not
 2. ought
 3. must
 4. have not

Question ID : 9895804521
Chosen Option : --

Q.2
1 From the given options, identify the segment in the sentence which contains the grammatical error.

It is a fact that you are known by me.

- Ans 1. by me.
 2. It is
 3. a fact

4. you are known

Question ID : 9895804515
Chosen Option : --

Q.2
2 Select the most appropriate option to fill in the blank.

_____ many cooks spoil the broth.

- Ans
- 1. Too
 - 2. So
 - 3. Few
 - 4. A few

Question ID : 9895804520
Chosen Option : --

Q.2
3 Select the most appropriate option to substitute the underlined segment in the given sentence. If there is no need to substitute it, select No improvement.

You will be needing to complete all the pending work before it becomes unmanageable.

- Ans
- 1. would be needing
 - 2. will need
 - 3. will be needed
 - 4. No improvement.

Question ID : 9895804517
Chosen Option : --

Q.2
4 Select the most appropriate word to fill in the blank.

The adventurer in him cannot _____ the call of the mountains.

- Ans
- 1. respond
 - 2. restrain
 - 3. resist
 - 4. restore

Question ID : 9895804538
Chosen Option : --

Q.2
5 Select the most appropriate option to substitute the underlined segment in the given sentence. If there is no need to substitute it, select No improvement.

Even children shrink away from food thinking that they should become overweight.

- Ans
- 1. No improvement.
 - 2. were become

3. might become

4. are become

Question ID : 9895804519
Chosen Option : --

Section : Hindi Language

Q.1 दिए गए शब्द के पर्यायवाची शब्द का चयन करें।

अनुचर

- Ans 1. रुचिर
 2. मालिक
 3. सेवक
 4. भास्कर

Question ID : 9895804098
Chosen Option : 1

Q.2 सही वर्तनी वाले शब्द का चयन करें।

- Ans 1. अधीर
 2. आधीर
 3. आधिर
 4. अधिर

Question ID : 9895804104
Chosen Option : 4

Q.3 दिए गए वाक्य का वह भाग ज्ञात करें जिसमें कोई त्रुटि है।

पारिवारिक अदालतों के निर्णय टूटते हुए परिवार का शांति को नया जीवन प्रदान कर सकते हैं।

- Ans 1. प्रदान कर सकते हैं।
 2. टूटते हुए परिवार का
 3. शांति को नया जीवन
 4. पारिवारिक अदालतों के निर्णय

Question ID : 9895804081
Chosen Option : 2

Q.4 निम्नलिखित में से उस विकल्प का चयन करें जो 'चादर देखकर पाँव फैलाना' मुहावरे का अर्थ व्यक्त करता है।

- Ans 1. चादर देखकर सो जाना

- ✓ 2. आय के अनुसार व्यय करना
✗ 3. चादर पर पैर फैलाकर सोना
✗ 4. व्यय अधिक आय कम होना

Question ID : 9895804099
Chosen Option : 2

Q.5 दिए गए शब्द का विलोम चुनें।

मोक्ष

- Ans ✓ 1. बंधन
✗ 2. छुटकारा
✗ 3. स्वर्ग
✗ 4. दुतकार

Question ID : 9895804095
Chosen Option : 3

Q.6 दिए गए वाक्य में रेखांकित खंड को प्रतिस्थापित करने के लिए सबसे उपयुक्त विकल्प का चयन करें।

भोजन की थाली पकवानों से सजा होती है तभी खाने में आनंद आता है।

- Ans ✗ 1. पकवानों से सजी होते हैं
✗ 2. पकवानों से सजी होता है
✗ 3. पकवानों से सजा होता है
✓ 4. पकवानों से सजी होती है

Question ID : 9895804083
Chosen Option : 3

Q.7 दिये गये वाक्यांश के लिए एक शब्द दीजिये।

जो भविष्य में आने वाला हो

- Ans ✗ 1. परागामी
✗ 2. अकाल
✓ 3. आगामी
✗ 4. भूतकाल

Question ID : 9895804102
Chosen Option : 3

Comprehension:

दिए गए अनुच्छेद में कुछ शब्द हटा दिए गए हैं। दिए गए विकल्पों की सहायता से रिक्त स्थान भरें। प्रत्येक संख्या के लिए उपयुक्त विकल्प का चयन करें।

भाग्य और पुरुषार्थ एक ही _____(1) के दो पहलू हैं। मनुष्य पुरुषार्थी है तो वह _____(2) होगा। जब हम इस संसार में आए हैं तो _____(3) करना ही पड़ेगा। संसार की बाधाओं एवं समस्याओं से _____(4) करके अपना _____(5) खोजना होगा तभी विजयश्री हमारे हिस्से में आएगी।

SubQuestion No : 8

Q.8 गद्यांश में संकेतित रिक्त स्थान (1) के लिए उपयुक्त शब्द होगा

- Ans
- 1. बरतन
 - 2. कपड़े
 - 3. सिक्के
 - 4. शीशे

Question ID : 9895804090
Chosen Option : 3

Comprehension:

दिए गए अनुच्छेद में कुछ शब्द हटा दिए गए हैं। दिए गए विकल्पों की सहायता से रिक्त स्थान भरें। प्रत्येक संख्या के लिए उपयुक्त विकल्प का चयन करें।

भाग्य और पुरुषार्थ एक ही _____(1) के दो पहलू हैं। मनुष्य पुरुषार्थी है तो वह _____(2) होगा। जब हम इस संसार में आए हैं तो _____(3) करना ही पड़ेगा। संसार की बाधाओं एवं समस्याओं से _____(4) करके अपना _____(5) खोजना होगा तभी विजयश्री हमारे हिस्से में आएगी।

SubQuestion No : 9

Q.9 गद्यांश में संकेतित रिक्त स्थान (2) के लिए उपयुक्त शब्द होगा

- Ans
- 1. दुखी
 - 2. भाग्यहीन
 - 3. आलसी
 - 4. भाग्यशाली

Question ID : 9895804091
Chosen Option : 3

Comprehension:

दिए गए अनुच्छेद में कुछ शब्द हटा दिए गए हैं। दिए गए विकल्पों की सहायता से रिक्त स्थान भरें। प्रत्येक संख्या के लिए उपयुक्त विकल्प का चयन करें।

भाग्य और पुरुषार्थ एक ही _____ (1) के दो पहलू हैं। मनुष्य पुरुषार्थी है तो वह _____ (2) होगा। जब हम इस संसार में आए हैं तो _____ (3) करना ही पड़ेगा। संसार की बाधाओं एवं समस्याओं से _____ (4) करके अपना _____ (5) खोजना होगा तभी विजयश्री हमारे हिस्से में आएगी।

SubQuestion No : 10

Q.1
0 गद्यांश में संकेतित रिक्त स्थान (3) के लिए उपयुक्त शब्द होगा

- Ans
- 1. भागना
 - 2. सोना
 - 3. घूमना
 - 4. कर्म

Question ID : 9895804092
Chosen Option : 4

Comprehension:

दिए गए अनुच्छेद में कुछ शब्द हटा दिए गए हैं। दिए गए विकल्पों की सहायता से रिक्त स्थान भरें। प्रत्येक संख्या के लिए उपयुक्त विकल्प का चयन करें।

भाग्य और पुरुषार्थ एक ही _____ (1) के दो पहलू हैं। मनुष्य पुरुषार्थी है तो वह _____ (2) होगा। जब हम इस संसार में आए हैं तो _____ (3) करना ही पड़ेगा। संसार की बाधाओं एवं समस्याओं से _____ (4) करके अपना _____ (5) खोजना होगा तभी विजयश्री हमारे हिस्से में आएगी।

SubQuestion No : 11

Q.1
1 गद्यांश में संकेतित रिक्त स्थान (4) के लिए उपयुक्त शब्द होगा

- Ans
- 1. दुनिया
 - 2. भाग्य
 - 3. नौकरी
 - 4. संघर्ष

Question ID : 9895804093
Chosen Option : 4

Comprehension:

दिए गए अनुच्छेद में कुछ शब्द हटा दिए गए हैं। दिए गए विकल्पों की सहायता से रिक्त स्थान भरें। प्रत्येक संख्या के लिए उपयुक्त विकल्प का चयन करें।

भाग्य और पुरुषार्थ एक ही _____(1) के दो पहलू हैं। मनुष्य पुरुषार्थी है तो वह _____(2) होगा। जब हम इस संसार में आए हैं तो _____(3) करना ही पड़ेगा। संसार की बाधाओं एवं समस्याओं से _____(4) करके अपना _____(5) खोजना होगा तभी विजयश्री हमारे हिस्से में आएगी।

SubQuestion No : 12

Q.1
2 गद्यांश में संकेतित रिक्त स्थान (5) के लिए उपयुक्त शब्द होगा

- Ans
- 1. विद्या
 - 2. रास्ता
 - 3. खेलने
 - 4. जानकारी

Question ID : 9895804094
Chosen Option : 2

Q.1
3 सही वर्तनी वाले शब्द का चयन करें।

- Ans
- 1. मीतभाशी
 - 2. मितभाशी
 - 3. मीतभाषी
 - 4. मितभाषी

Question ID : 9895804103
Chosen Option : 4

Q.1
4 दिए गए शब्द का विलोम चुनें।

गद्य

- Ans
- 1. नाटक
 - 2. एंकाकी
 - 3. पद्य
 - 4. अंक

Question ID : 9895804096
Chosen Option : 3

Q.1
5 दिए गए वाक्य में रेखांकित खंड को प्रतिस्थापित करने के लिए

उपयुक्त विकल्प का चयन करें।

लड़का अपने गाँव गया और वहाँ आकर अपने मित्रों से मिला।

- Ans
- 1. यहाँ आकर अपने मित्रों से
 - 2. वहाँ जाकर अपना मित्रों से
 - 3. वहाँ जाकर अपने मित्रों से
 - 4. यहाँ जाकर अपने मित्रों से

Question ID : 9895804082
Chosen Option : 3

Q.1
6 दिये गये वाक्यांश के लिए एक शब्द दीजिये।

साथ पढ़ने वाला

- Ans
- 1. सहपाठी
 - 2. साथी
 - 3. सहपढ़
 - 4. सहयोगी

Question ID : 9895804101
Chosen Option : 1

Q.1
7 निम्नलिखित में से उस विकल्प का चयन करें जो 'चुल्लू भर पानी में डूब मरना' मुहावरे का अर्थ व्यक्त करता है।

- Ans
- 1. चुल्लू में पानी भरकर डूब जाना
 - 2. शर्मिदा होना
 - 3. कायर बनना
 - 4. बेशर्म होना

Question ID : 9895804100
Chosen Option : 4

Q.1
8 दिए गए वाक्य का वह भाग ज्ञात करें जिसमें कोई त्रुटि है।

संगीत मंडली मिलकर मंच में गीत गा रही है।

- Ans
- 1. संगीत मंडली

- 2. मिलकर
- 3. गीत गा रही है।
- 4. मंच में

Question ID : 9895804079
Chosen Option : 2

Q.1 रिक्त स्थान को भरने के लिए उपयुक्त शब्द का चयन करें।

प्रतिदिन आपराधिक _____ बढ़ते जा रहे हैं।

- Ans
- 1. खाद्य
 - 2. गान
 - 3. कर्म
 - 4. पक्षी

Question ID : 9895804087
Chosen Option : 1

Q.2 रिक्त स्थान को भरने के लिए उपयुक्त शब्द का चयन करें।

आजकल परिवार में _____ बढ़ रही है।

- Ans
- 1. दूरियाँ
 - 2. चरित्र
 - 3. धन
 - 4. प्रेम

Question ID : 9895804085
Chosen Option : 1

Q.2 दिए गए वाक्य में रेखांकित खंड को प्रतिस्थापित करने के लिए सबसे उपयुक्त विकल्प का चयन करें।

हिरण्यकश्यप अत्यंत अभिमानी था और वह स्वयं से भगवान मानता था।

- Ans
- 1. वह स्वयं को भगवान मानता था।
 - 2. वह स्वयं ने भगवान मानता था।
 - 3. वह स्वयं पर भगवान मानता था।
 - 4. वह स्वयं में भगवान मानता था।

Question ID : 9895804084
Chosen Option : 1

Q.2
2 दिए गए शब्द के पर्यायवाची शब्द का चयन करें।

स्नेह

- Ans
- 1. घृणा
 - 2. प्रेम
 - 3. लता
 - 4. व्यथा

Question ID : 9895804097
Chosen Option : 1

Q.2
3 दिए गए वाक्य का वह भाग ज्ञात करें जिसमें कोई त्रुटि है।

विद्यालयों में भी सूचना हेतु एक विशेष स्थानों होता है।

- Ans
- 1. एक विशेष
 - 2. सूचना हेतु
 - 3. स्थानों होता है।
 - 4. विद्यालयों में भी

Question ID : 9895804080
Chosen Option : 4

Q.2
4 रिक्त स्थान को भरने के लिए उपयुक्त शब्द का चयन करें।

दाना चुगकर पक्षी ने _____ उड़ान भरी।

- Ans
- 1. गहरी
 - 2. लंबी
 - 3. छोटा
 - 4. लंबा

Question ID : 9895804086
Chosen Option : 2

Q.2
5

रिक्त स्थान को भरने के लिए उपयुक्त शब्द का चयन करें।

मैं अवधी भाषा _____ सकता हूँ।

- Ans
- 1. समझ
 - 2. छू
 - 3. देख
 - 4. खरीद

Question ID : 9895804088
Chosen Option : 1

GovtJobsAlert.In