

## Constable (GD) in CAPFs, NIA, SSF and Rifleman (GD) in Assam Rifles Examination, 2018

Roll No. :	GovtJobsAlert.In
Registration No.	GovtJobsAlert.In
Name :	
Exam Venue :	Global Institute Of Technology
Exam Time :	12:30 PM - 2:00 PM
Exam Date :	15/02/2019

Section : General Section

Q.1 उस विकल्प का चयन करे जो दी गई श्रृंखला में प्रश्न चिन्ह (?) के स्थान पर सही ढंग से आएगा। 109, 105, 89, 53, ?

- Ans
- 1. -11
  - 2. -10
  - 3. 11
  - 4. 10

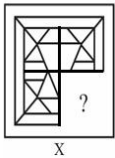
Question ID : 9895803609  
Chosen Option : 3

Q.2 दिए गए विकल्पों में से असंगत विकल्प का चयन करें।

- Ans
- 1. नीला
  - 2. लाल
  - 3. बैंगनी
  - 4. पीला

Question ID : 9895803598  
Chosen Option : 4

Q.3 दिए गए चार विकल्पों में से किसी एक आकृति का चयन करें जिसे, जब आकृति X में रिक्त स्थान (?) में रखा जाए, तो पैटर्न को पूर्ण करेगी। (घूर्णन की अनुमति नहीं है)।



- Ans
- 1.
  - 2.
  - 3.

X 4.



Question ID : 9895803616

Chosen Option : 1

Q.4 एक निश्चित कूट भाषा में, AXE को 120 के रूप में लिखा जाता है। उस कूट भाषा में FEE को कैसे लिखा जाएगा?

- Ans
- X 1. 20
  - X 2. 80
  - X 3. 60
  - ✓ 4. 150

Question ID : 9895803603

Chosen Option : 3

Q.5 J, K, L, M, N और O छह शिक्षक हैं। उनमें से प्रत्येक हिंदी, अंग्रेजी, गणित, विज्ञान, सामाजिक विज्ञान और कला में से एक अलग विषय पढ़ाता है, जरूरी नहीं कि उसी क्रम में हो। उनमें से प्रत्येक सोमवार से शनिवार तक केवल एक दिन ही पढ़ाता है, जरूरी नहीं कि उसी क्रम में हो।

J बुधवार को विज्ञान पढ़ाता है। O, J के बाद दूसरा है, और गणित पढ़ाता है। K सप्ताह के पहले दिन पढ़ाता है, लेकिन वह न तो हिंदी पढ़ाता है और न ही अंग्रेजी। M, N से पहले अंग्रेजी पढ़ाता है और L, J से पहले कला पढ़ाता है।

शनिवार के दिन कौन पढ़ाता है?

- Ans
- X 1. L
  - X 2. M
  - X 3. K
  - ✓ 4. N

Question ID : 9895803606

Chosen Option : 4

Q.6 दिए गए विकल्पों में से असंगत विकल्प का चयन करें।

- Ans
- X 1. DGJ
  - ✓ 2. CHI
  - X 3. BIJ
  - X 4. EGI

Question ID : 9895803597

Chosen Option : 3

Q.7 उस विकल्प का चयन करें जो तीसरे पद से उसी प्रकार से संबंधित है जिस प्रकार दूसरा पद प्रथम पद से संबंधित है।

EFG :JLN : : GKM : ?

- Ans
- ✓ 1. NVZ
  - X 2. KMG
  - X 3. NZY
  - X 4. NUZ

Question ID : 9895803601

Chosen Option : 2

Q.8

निम्नलिखित समीकरण को सही करने के लिए विकल्पों में दिए गए किन दो चिहनों को परस्पर बदला जाना चाहिए?

$$15 + 15 \times 15 - 15 \div 15 = 15$$

- Ans
1. + और -
2. - और ÷
3. + और ×
4. × और ÷

Question ID : 9895803614  
Chosen Option : 3

Q.9 सात मित्र O, P, Q, R, S, T और U एक पंक्ति में बैठे फिल्म देख रहे हैं। P एक अंतिम छोर पर बैठा हुआ है। Q, S के ठीक बाईं ओर बैठा है। P, T की दाईं ओर दूसरे स्थान पर बैठा है। U किसी भी अंतिम छोर पर नहीं बैठा है। O, R और T के बीच बैठा है।

P और T के बीच कौन बैठा है?

- Ans
1. O
2. Q
3. U
4. R

Question ID : 9895803604  
Chosen Option : 3

Q.1 नीचे दो कथन दिए गए हैं, जिनके बाद दो निष्कर्ष I और II हैं। यह मान कर कि कथन में दी गई जानकारी सत्य है चाहे वह सामान्यतः ज्ञात तथ्यों से भिन्न प्रतीत होती हों, तय करें कि इनमें से कौन सा(से) निष्कर्ष तार्किक आधार पर और निश्चित रूप से कथनों में दी गई जानकारी का अनुसरण करता(ते) है(हैं)।

कथन:

- 1) कुछ क्रोध शोक हैं।
- 2) कुछ शोक प्यार हैं।

निष्कर्ष:

- I. कुछ शोक क्रोध हैं।
- II. कुछ प्यार शोक हैं।

- Ans
1. दोनों ही निष्कर्ष अनुसरण करते हैं।
2. केवल निष्कर्ष II अनुसरण करता है।
3. केवल निष्कर्ष I अनुसरण करता है।
4. न तो निष्कर्ष I और न ही निष्कर्ष II अनुसरण करता है।

Question ID : 9895803608  
Chosen Option : 2

Q.1 उस विकल्प का चयन करें जो तीसरे पद से उसी प्रकार से संबंधित है जिस प्रकार दूसरा पद प्रथम पद से संबंधित है।  
1 रोग लक्षण विद्या (पैथोलोजी) : रोग (डिसीज़) :: खगोलशास्त्र (एस्ट्रोनोमी)?

- Ans
1. खोल/शंख (शेल्स)
2. भविष्य (फ्यूचर)
3. ग्रहों (प्लेनेट्स)
4. मिट्टी (सोइल)

Question ID : 9895803599  
Chosen Option : 1

Q.1 उस विकल्प का चयन करे जो दी गई श्रृंखला में प्रश्न चिन्ह (?) के स्थान पर सही ढंग से आएगा।

9, 21, 38, 65, ?

- Ans
- 1. 105
  - 2. 115
  - 3. 107
  - 4. 125

Question ID : 9895803610  
Chosen Option : 3

Q.1 उस विकल्प का चयन करें जो, जब दर्पण को दाईं ओर रखा जाए, तो दी गई आकृतिकी दर्पण छवि से सर्वाधिक मिलता जुलता हो।



- Ans
- 1.
  - 2.
  - 3.
  - 4.

Question ID : 9895803618  
Chosen Option : 3

Q.1 एक निश्चित कूट भाषा में, LOVE को OLEV के रूप में लिखा जाता है। उस कूट भाषा में IRIS को कैसे लिखा जाएगा?

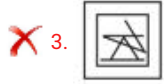
- Ans
- 1. RSII
  - 2. IRSI
  - 3. RISI
  - 4. IIRS

Question ID : 9895803602  
Chosen Option : 3

Q.1 विकल्पों में से उस आकृति का चयन करें जिसमें 'X' से चिह्नित आकृति समाहित है। (घुमाने की अनुमति नहीं है)



- Ans
- 1.
  - 2.



Question ID : 9895803617  
Chosen Option : 2

Q.1 उस विकल्प का चयन करें जो तीसरे पद से उसी प्रकार से संबंधित है जिस प्रकार दूसरा पद प्रथम पद से संबंधित है।

6

24 : 4 :: 45 : ?

Ans

✓ 1. 5

✗ 2. 7

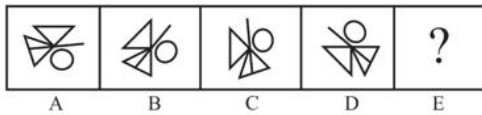
✗ 3. 6

✗ 4. 8

Question ID : 9895803611  
Chosen Option : 1

Q.1 विकल्पों में से उस आकृति का चयन करें जो दी गई श्रृंखला में अगले स्थान पर आएगी।

7



Ans



Question ID : 9895803615  
Chosen Option : 3

Q.1 उस विकल्प का चयन करें जो तीसरे पद से उसी प्रकार से संबंधित है जिस प्रकार दूसरा पद प्रथम पद से संबंधित है।

8

प्रसिद्ध : गुमनाम :: पागल : ?

Ans

✓ 1. समझदार

✗ 2. मूर्ख

✗ 3. चालाक

✗ 4. नाली (सिंक)

Question ID : 9895803600  
Chosen Option : 3

Q.1 दिए गए विकल्पों में से असंगत का चयन करे।

9

- Ans  1. 85  
 2. 45  
 3. 75  
 4. 105

Question ID : 9895803612  
 Chosen Option : 4

Q.2 एक वर्गाकार पारदर्शी शीट एक पैटर्न के साथ दी गई है। जब शीट को बिंदीदार रेखा पर मोड़ा जाता है तो पैटर्न कैसा दिखाई देगा?



- Ans  1.   
 2.   
 3.   
 4.

Question ID : 9895803619  
 Chosen Option : 1

Q.2 नीचे दो कथन दिए गए हैं, जिनके बाद दो निष्कर्ष I और II हैं। यह मान कर की कथन में दी गई जानकारी सत्य है चाहे वह सामान्यतः ज्ञात तथ्यों से भिन्न प्रतीत होतीहों, तय करें कि इनमें से कौन सा(से) निष्कर्ष तार्किक आधार पर और निश्चित रूप से कथनों में दी गई जानकारी का अनुसरण करता(ते) है(हैं)।

कथन:

- 1) सभी कीले पिन्स हैं।
- 2) सभी हथौड़े पिन्स हैं।

निष्कर्ष:

- I. कोई भी कील पिन नहीं है।
- II. कुछ पिन्स कीले हैं।

- Ans  1. न तो निष्कर्ष I और न ही निष्कर्ष II अनुसरण करता है।  
 2. केवल निष्कर्ष I अनुसरण करता है।  
 3. दोनों ही निष्कर्ष अनुसरण करते हैं।  
 4. केवल निष्कर्ष II अनुसरण करता है।

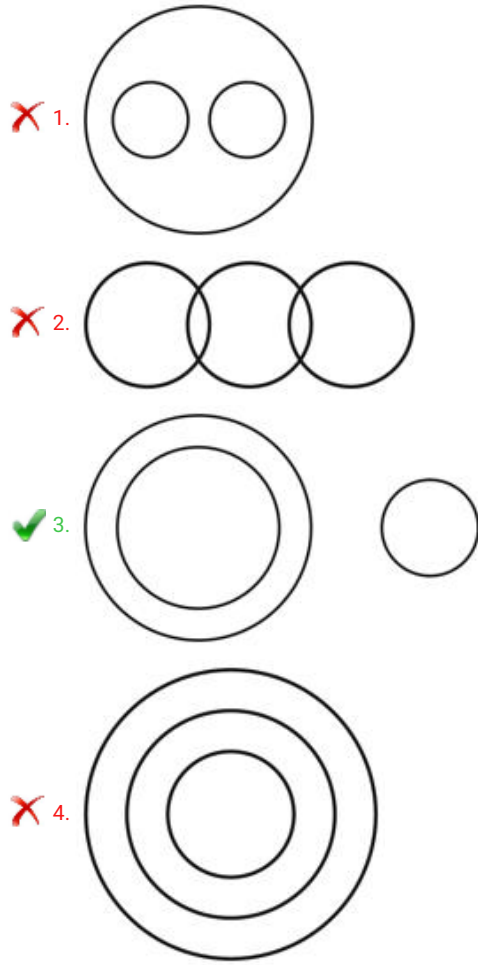
Question ID : 9895803607  
 Chosen Option : 4

Q.2 निम्नलिखित में से कौन सा वेन रेखाचित्र दिए गए वर्ग के बीच के संबंध को सही दर्शाता है?

फर्नीचर, कुर्सियाँ, पेड़

Ans





Question ID : 9895803620  
Chosen Option : 1

Q.2 उस विकल्प का चयन करे जो दी गई श्रृंखला में प्रश्न चिन्ह (?) के स्थान पर सही ढंग से आएगा।

TOD, RQB, PSZ, NUX, ?

- Ans
- 1. LVW
  - 2. LWU
  - 3. LWW
  - 4. LWV

Question ID : 9895803596  
Chosen Option : 2

Q.2 आठ मित्र A, B, C, D, E, F, G और H दोपहर के भोजन के लिए एक वृत्ताकार मेज के आस पास एकदूसरे के आमने सामने बैठे हैं। A, D के सामने और B की दाईं ओर तीसरे स्थान पर है। G, A और F के बीच में है। H, A की ठीक दाईं ओर है। E, C और D के बीच में है।

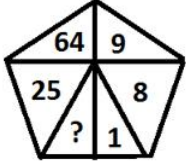
C के सामने कौन बैठा है?

- Ans
- 1. G
  - 2. E
  - 3. F
  - 4. B

Question ID : 9895803605  
Chosen Option : 1

Q.2  
5

उस विकल्प का चयन करे जो दी गई पैटर्न में प्रश्न चिन्ह (?) के स्थान पर सही ढंग से आएगा।



- Ans
- 1. 6
  - 2. 206
  - 3. 216
  - 4. 36

Question ID : 9895803613  
Chosen Option : 1

Q.2 वर्ष 1992 में ब्राजील की राजधानी रियो डे जेनेरियो में UNCED में किस घोषणापत्र पर हस्ताक्षर किए गए?

- Ans
- 1. एजेंडा 22
  - 2. एजेंडा 39
  - 3. एजेंडा 21
  - 4. एजेंडा 19

Question ID : 9895804979  
Chosen Option : 3

Q.2 आगरा के मोती मस्जिद किस मुगल शासक से बद्ध है?

- Ans
- 1. अकबर
  - 2. हुमायूँ
  - 3. शाह जहाँ
  - 4. औरंगजेब

Question ID : 9895805001  
Chosen Option : 4

Q.2 निम्न में से कौन सा भारत का राष्ट्रीय जलीय जंतु है?

- Ans
- 1. रिवर डॉल्फिन
  - 2. व्हेल
  - 3. समुद्री घोड़ा
  - 4. कछुआ

Question ID : 9895805000  
Chosen Option : 2

Q.2 ओला ने हाल ही में किस खाद्य आपूर्ति सेवा प्रदाता कंपनी का अधिग्रहण किया है?

- Ans
- 1. जोमैटो
  - 2. उबर ईट्स



3. स्विगी

4. फूडपांडा

Question ID : 9895804996

Chosen Option : 4

Q.3  
0 'जरूरतों का दोहरा संयोग' किस प्रणाली की विशेषता है?

Ans  1. विदेशी मुद्रा विनिमय प्रणाली

2. तरलता प्रणाली

3. इक्विटी प्रणाली

4. वस्तु विनिमय प्रणाली

Question ID : 9895804981

Chosen Option : 4

Q.3  
1 भारत में किस ब्रिटिश वायसराय ने बंगाल विभाजन को अंजाम दिया?

Ans  1. लार्ड डलहौजी

2. लार्ड कर्जन

3. लार्ड कैनिंग

4. लार्ड लिटन

Question ID : 9895805002

Chosen Option : 1

Q.3  
2 दही बनाने में \_\_\_\_\_ बैक्टीरिया सहायक होते हैं।

Ans  1. बाईफिडोबैक्टीरियम बिफीडम

2. लैक्टिक एसिड

3. लैक्टोबैसिलस एसिडोफाइलस

4. बैसिलस कोगुलेंस

Question ID : 9895804999

Chosen Option : 3

Q.3  
3 बाल लिंगानुपात क्या होता है?

Ans  1. 0-6 आयु वर्ग में प्रति हजार पुरुषों पर महिलाओं की संख्या

2.

0-15 आयु वर्ग में प्रति हजार महिलाओं पर पुरुषों की संख्या

3. 0-6 आयु वर्ग में प्रति सौ पुरुषों पर महिलाओं की संख्या

4. 0-15 आयु वर्ग में प्रति सौ पुरुषों पर महिलाओं की संख्या

Question ID : 9895804991

Chosen Option : 3

Q.3  
4 एक ही भूमि पर एक साथ दो या दो से अधिक फसलें उगाना कौन सी फसल प्रणाली से संबंधित है?

- Ans
- 1. मिश्रित
  - 2. जटिल
  - 3. साधारण
  - 4. अंतर

Question ID : 9895804998  
Chosen Option : 1

Q.3  
5 केंद्र सरकार द्वारा राष्ट्रीय खेल विकास कोष (NSDF) वर्ष की स्थापना किस वर्ष की गई थी?

- Ans
- 1. 1999
  - 2. 1997
  - 3. 1996
  - 4. 1998

Question ID : 9895804982  
Chosen Option : 4

Q.3  
6 2018 में किस टेनिस खिलाड़ी को खेल के लिए पद्म श्री से सम्मानित किया गया था?

- Ans
- 1. सोमदेव देववर्मन
  - 2. लियेंडर पेस
  - 3. युकी भांबरी
  - 4. सानिया मिर्जा

Question ID : 9895804995  
Chosen Option : 4

Q.3  
7 जून 2018 में किसने स्टुटगार्ट ओपन प्रतिस्पर्धा में पुरुष एकल वर्ग का अपना पहला खिताब जीता था?

- Ans
- 1. डोमिनिक थिएम
  - 2. निकोलस माहुट
  - 3. माइलस राओनिक
  - 4. रोजर फेडरर

Question ID : 9895804980  
Chosen Option : 4

Q.3  
8 भारत में उपभोक्ता आंदोलन को जन्म देने वाले कारकों के बारे में निम्नलिखित में से कौन सा कथन सही नहीं है?

- Ans
- 1. बार-बार खाद्य की कमी
  - 2. खाद्य में मिलावट
  - 3. जमाखोरी और कालाबाजारी
  - 4. शीतल पेय पर कर

Question ID : 9895804992  
Chosen Option : 3

Q.3  
9 पैगम्बर मुहम्मद की जयंती को मनाने के लिए कौन सा त्यौहार मनाया जाता है?

- Ans
- 1. ईद-उल-जुहा
  - 2. ईद-उल-फितर
  - 3. मिलाद-उन-नबी
  - 4. शब-ए-बारात

Question ID : 9895804987  
Chosen Option : 2

Q.4  
0 पुस्तक 'एकजाम वारियर्स' के लेखक कौन हैं?

- Ans
- 1. मनमोहन सिंह
  - 2. सुषमा स्वराज
  - 3. अरुण जेटली
  - 4. नरेन्द्र मोदी

Question ID : 9895804993  
Chosen Option : 2

Q.4  
1 भारत का सबसे बड़ा बाँकसाइट उत्पादक राज्य कौन सा है?

- Ans
- 1. झारखण्ड
  - 2. ओडिशा
  - 3. मध्य प्रदेश
  - 4. बिहार

Question ID : 9895804985  
Chosen Option : 2

Q.4  
2 निम्न में से क्या राज्य सूची में शामिल है?

- Ans
- 1. वन
  - 2. बैंकिंग
  - 3. पुलिस
  - 4. रक्षा

Question ID : 9895804990  
Chosen Option : 4

Q.4  
3 जून-जुलाई में बोयी और सितम्बर-अक्टूबर में काटी जाने वाली फसलें किस विकल्प में दी गई हैं?

- Ans
- 1. मटर, गेहूँ
  - 2. खीरा, तरबूज
  - 3. धान, कपास

✗ 4. तरबूज, जौ

Question ID : 9895804986  
Chosen Option : 3

Q.4  
4 pH स्केल की रेंज कितनी होती है?

- Ans
- ✗ 1. 0 से 10
  - ✗ 2. 1 से 7
  - ✗ 3. 1 से 10
  - ✓ 4. 0 से 14

Question ID : 9895804997  
Chosen Option : 2

Q.4  
5 मौर्य साम्राज्य की राजधानी कौन सी थी?

- Ans
- ✗ 1. वैशाली
  - ✓ 2. पाटलिपुत्र
  - ✗ 3. कुशीनगर
  - ✗ 4. इंद्रप्रस्थ

Question ID : 9895804988  
Chosen Option : 2

Q.4  
6 कलरीपायट्टु किस भारतीय राज्य की प्रसिद्ध युद्ध कला है?

- Ans
- ✓ 1. केरल
  - ✗ 2. तमिलनाडु
  - ✗ 3. कर्नाटक
  - ✗ 4. ओडिशा

Question ID : 9895804983  
Chosen Option : 3

Q.4  
7 रॉलेट सत्याग्रह कब और किसके द्वारा की गई?

- Ans
- ✗ 1. 1930, सी. आर. दास
  - ✓ 2. 1919, महात्मा गाँधी
  - ✗ 3. 1915, मोतीलाल नेहरू
  - ✗ 4. 1929, महात्मा गाँधी

Question ID : 9895804978  
Chosen Option : 1

Q.4  
8 डॉल्फिन, शिंशुमार और व्हेल मछलियों को क्या कहा जाता है?

Ans

- 1. स्मैक
- 2. एम्फीबियन
- 3. सेटासीन
- 4. ओडॉटोसीट्स

Question ID : 9895804984  
Chosen Option : 2

Q.4 गंगा नदी को साफ़ करने के बेहतर प्रयास के लिए किस स्टार्टअप को यूएन द्वारा हाल ही में सम्मानित किया गया था?

- Ans
- 1. हेल्प अस ग्रीन
  - 2. नवदैन्य ट्रस्ट
  - 3. सतपुड़ा फाउन्डेशन
  - 4. वर्ल्ड वाइड फंड

Question ID : 9895804994  
Chosen Option : 4

Q.5 निम्न में से किस देश में संवैधानिक शक्तियों का वितरण केंद्र और राज्य दोनों के बीच किया गया है?

- Ans
- 1. ऑस्ट्रेलिया
  - 2. न्यूजीलैंड
  - 3. संयुक्त राज्य अमेरिका
  - 4. भारत

Question ID : 9895804989  
Chosen Option : 4

Q.5 17 संख्याओं का औसत 29 है। पहले 9 संख्याओं का औसत 31 है और अंतिम 9 संख्याओं का औसत 27 है। यदि 9वीं संख्या को बाहर रखा जाए, तो शेष संख्याओं का औसत क्या है?

- Ans
- 1. 31.6
  - 2. 29
  - 3. 31
  - 4. 29.5

Question ID : 9895805157  
Chosen Option : 2

Q.5  
2



निम्नलिखित तालिका का अध्ययन करें और प्रश्न का उत्तर दें।  
पांच शहरों से परीक्षा में शामिल हुए छात्रों की संख्या:

शहर	छात्रों की संख्या (हजार में)	उत्तीर्ण और अनुत्तीर्ण छात्रों का अनुपात
A	54	5 : 4
B	126	4 : 3
C	84	10 : 11
D	96	9 : 7
E	132	6 : 5

B और E शहरों से असफल रहे छात्रों की कुल संख्या के मुकाबले शहरों A और D से परीक्षा में उत्तीर्ण छात्रों की कुल संख्या का अनुपात क्या है?

- Ans
- 1. 14 : 19
  - 2. 9 : 16
  - 3. 13 : 18
  - 4. 5 : 9

Question ID : 9895805175  
Chosen Option : 1

Q.5 पात्र A और B में स्पिरिट और पानी के अनुपात क्रमशः 4 : 5 और 7 : 11 हैं। A और B की अंतर्वस्तु को 2 : 5 के अनुपात में मिलाया जाता है। परिणामस्वरूप घोल में स्पिरिट और पानी का अनुपात क्या है?

- Ans
- 1. 13 : 20
  - 2. 53 : 75
  - 3. 22 : 75
  - 4. 17 : 25

Question ID : 9895805164  
Chosen Option : 3

Q.5 दो पाइप X और Y एक खाली टैंक को t मिनटों में भर सकते हैं। यदि पाइप X अकेले टैंक को भरने के लिए t से 6 मिनट अधिक लेता है और Y अकेले टैंक को भरने के लिए t से 54 मिनट अधिक लेता है, तो X और Y मिलकर टैंक को कितनी देर में भरेंगे?

- Ans
- 1. 27 सेकंड
  - 2. 24 सेकंड
  - 3. 12 सेकंड
  - 4. 18 सेकंड

Question ID : 9895805173  
Chosen Option : 2

Q.5 8 माह में, प्रति वर्ष 12% की चक्रवृद्धि ब्याज दर से ₹12000 की राशि 2 साल के बाद ₹x होगा। x का मान (पूर्णांक के निकटतम) ज्ञात करें?

- Ans
- 1. 15083
  - 2. 15053
  - 3. 15111
  - 4. 15117

Question ID : 9895805166  
Chosen Option : 3



Q.5 डेटा के माध्य और माध्यिका के बीच का अंतर 66, 59, 68, 65, 62, 59, 58, 56, 63, 65 क्या है?

- Ans
- 1. 0.4
  - 2. 0.5
  - 3. 1
  - 4. 0.8

Question ID : 9895805167  
Chosen Option : 3

Q.5 यदि  $x$  सबसे छोटी संख्या है जिसे 12, 15, 18, 20 और 27 से जब विभाजित किया जाता है, तो प्रत्येक मामले में शेष 2 बचेगा, लेकिन  $x$ , 23 से विभाज्य है। यदि  $x$  को उसके अंकों के योग से विभाजित किया जाता है तो भागफल है:

- Ans
- 1. 196
  - 2. 199
  - 3. 149
  - 4. 193

Question ID : 9895805153  
Chosen Option : 3

Q.5 दो ट्रेनों A और B जो 186 m और 200 m लंबी हैं, जो समानांतर पटरियों पर क्रमशः 64 km/h और 80 km/h पर चल रही हैं। यदि वे विपरीत दिशाओं में चल रहे हैं, तो पहली ट्रेन A में बैठे व्यक्ति को दूसरी ट्रेन पार करने में कितना समय लगेगा? (sec में)

- Ans
- 1. 5
  - 2. 6
  - 3. 4.5
  - 4. 5.5

Question ID : 9895805172  
Chosen Option : 3

Q.5  $\left[ \frac{2}{3} \div \frac{8}{15} \text{ of } \frac{2}{5} + \frac{2}{5} \text{ of } 7 \frac{1}{2} \div \frac{3}{4} \right] \text{ of } \frac{4}{19}$  का मान है:

- Ans
- 1. 1
  - 2.  $1\frac{1}{4}$
  - 3.  $\frac{1}{2}$
  - 4.  $1\frac{1}{2}$

Question ID : 9895805154  
Chosen Option : 4

Q.6  
0

निम्नलिखित तालिका का अध्ययन करें और प्रश्न का उत्तर दें।  
पांच शहरों से परीक्षा में शामिल हुए छात्रों की संख्या:

शहर	छात्रों की संख्या (हजार में)	उत्तीर्ण और अनुत्तीर्ण छात्रों का अनुपात
A	54	5 : 4
B	126	4 : 3
C	84	10 : 11
D	96	9 : 7
E	132	6 : 5

C और D शहरों से परीक्षा में बैठने वाले छात्रों की कुल संख्या A, B और E शहरों में असफल रहे छात्रों की कुल संख्या से कितने प्रतिशत अधिक है? (पूर्णांक के निकटतम)

- Ans
- 1. 44
  - 2. 41
  - 3. 42
  - 4. 30

Question ID : 9895805177  
Chosen Option : 4

Q.6 अनु किसी वस्तु को 25% के लाभ पर बेचती है। यदि वह उसे 25% कम पर खरीदती है और इसे ₹30.25 में बेचती है, तो उसे 30% का फायदा होता है। वस्तु का मूल मूल्य क्या है? (₹ में)

- Ans
- 1. 105.80
  - 2. 110
  - 3. 105.50
  - 4. 108

Question ID : 9895805159  
Chosen Option : 3

Q.6  $\frac{0.2 - 0.2 \text{ of } 0.1 - 0.03 + 0.6 \text{ of } 0.01}{0.25 \times 0.75 + 1.25 \text{ of } 0.4 + 0.125}$  का मान इस के बीच स्थित है:

- Ans
- 1. 8.5 और 9.5
  - 2. 11.5 और 12.5
  - 3. 9.5 और 10.5
  - 4. 10.5 और 11.5

Question ID : 9895805155  
Chosen Option : 3

Q.6 एक आदमी अनुप्रवाह में नाव चलाके 2 घंटे में 9 km की दूरी तय करता है और शुरुआती बिंदु पर लौटने के लिए 6 घंटे का समय लेता है। धारा की (km/h में) गति क्या है?

- Ans
- 1. 3
  - 2. 2
  - 3. 1.5
  - 4. 2.5

Question ID : 9895805171  
Chosen Option : 4

Q.6 4 साल पहले A और B की आयु का अनुपात 5 : 7 था। अब से 4 वर्ष बाद उनकी आयु का अनुपात 7 : 9 होगा। अब से 12 वर्ष बाद A और B की आयु का अनुपात क्या होगा?

- Ans
- 1. 9 : 11
  - 2. 15 : 19
  - 3. 13 : 17
  - 4. 8 : 13

Question ID : 9895805163

Chosen Option : 3

Q.6 निम्नलिखित तालिका का अध्ययन करें और प्रश्न का उत्तर दें।  
पांच शहरों से परीक्षा में शामिल हुए छात्रों की संख्या:

शहर	छात्रों की संख्या (हजार में)	उत्तीर्ण और अनुत्तीर्ण छात्रों का अनुपात
A	54	5 : 4
B	126	4 : 3
C	84	10 : 11
D	96	9 : 7
E	132	6 : 5

शहरों की संख्या, जिसमें छात्रों का उत्तीर्ण प्रतिशत 56% से अधिक है:

- Ans
- 1. 2
  - 2. 4
  - 3. 1
  - 4. 3

Question ID : 9895805176

Chosen Option : 3

Q.6 एक समूह में छात्रों की एक निश्चित संख्या का औसत वजन 54 kg है। यदि 52 kg वजन वाले 12 छात्र इस समूह में शामिल होते हैं, तो समूह के सभी छात्रों का औसत वजन घट कर 750g हो जाता है, तो शुरू में समूह के छात्रों की संख्या कितनी थी?

- Ans
- 1. 15
  - 2. 24
  - 3. 20
  - 4. 18

Question ID : 9895805156

Chosen Option : 4

Q.6 एक धातु क्षेत्र की त्रिज्या 3 cm है। जब इसे पिघलाया जाता है और 0.1 cm की एक समान परिपत्र/वृत्तीय खंड के एक तार में खींचा जाता है। तार की लंबाई क्या होगी?(m में):

- Ans
- 1. 24
  - 2. 40
  - 3. 36

X 4. 44

Question ID : 9895805169  
Chosen Option : 1

Q.6 प्रति वर्ष 4% के साधारण ब्याज की दर से,  $1\frac{1}{2}$  वर्षों में, एक निश्चित राशि ₹9243.20 के बराबर होता।  $7\frac{1}{2}$  वर्ष के लिए समान योग पर 8% प्रति वार्षिक दर से साधारण ब्याज क्या होगा?

- Ans
- X 1. ₹5223
  - ✓ 2. ₹5232
  - X 3. ₹5508
  - X 4. ₹5580

Question ID : 9895805165  
Chosen Option : 3

Q.6 एक व्यक्ति चिह्नित मूल्य पर 10% की छूट देने के बाद 17% का लाभ कमाता है। यदि वह चिह्नित मूल्य पर 14% की छूट देता है, तो उच्च लाभ का प्रतिशत क्या होगा?

- Ans
- X 1. 14.6
  - X 2. 23.8
  - ✓ 3. 11.8
  - X 4. 10.6

Question ID : 9895805158  
Chosen Option : 4

Q.7 0.7 और 2.8 के बीच माध्य अनुपातिक का अनुपात और 2.5 और 3.5 के लिए तीसरा अनुपातिक \_\_\_\_\_ है:

- Ans
- X 1. 3 : 7
  - ✓ 2. 2 : 7
  - X 3. 7 : 2
  - X 4. 7 : 3

Question ID : 9895805162  
Chosen Option : 1

Q.7 सुरभि अगर किसी काम को 24 दिनों में पूरा कर सकती है। परन्तु उसने काम का  $\frac{3}{8}$  हिस्सा पूरा किया और फिर उसे छोड़ दिया। बचे हुए काम को अमिता 10 दिनों में पूरा करती है। यदि दोनों के एक साथ काम करने पर वे उसी काम का 125% पूरा करेंगे:

- Ans
- X 1. 15 दिन में
  - X 2. 9 दिन में
  - X 3. 10 दिन में
  - ✓ 4. 12 दिन में

Question ID : 9895805174  
Chosen Option : 2

Q.7 एक दुकानदार निश्चित मूल्य पर किसी वस्तु बेचता है, तो उसके लाभ या हानि का प्रतिशत(%) क्या होगा। यदि उसे निश्चित मूल्य के 75% पर बेचकर, उसे 10% का नुकसान होता है?

- Ans
- ✓ 1. लाभ, 20%
  - X 2. नुकसान, 25%

✗ 3. लाभ, 25%

✗ 4. नुकसान, 20%

Question ID : 9895805160  
Chosen Option : 3

Q.7 एक आयतफलकी बाँक्स का सतही क्षेत्रफल  $240 \text{ cm}^2$  है और इसके विकर्ण की लम्बाई  $11 \text{ cm}$  है। इसकी लंबाई, चौड़ाई और गहराई का योग (cm में) क्या है?

- Ans
- ✗ 1. 21
  - ✗ 2. 17
  - ✗ 3. 20
  - ✓ 4. 19

Question ID : 9895805170  
Chosen Option : 3

Q.7 तेल की कीमत में 20% की वृद्धि हुई है। जबकि, इस पर खर्च 15% बढ़ जाता है। तेल की खपत की वृद्धि या कमी का प्रतिशत क्या है?

- Ans
- ✗ 1.  $4\frac{1}{6}\%$ , वृद्धि
  - ✓ 2.  $4\frac{1}{6}\%$ , कमी
  - ✗ 3.  $6\frac{1}{4}\%$ , कमी
  - ✗ 4.  $6\frac{1}{4}\%$ , वृद्धि

Question ID : 9895805161  
Chosen Option : 3

Q.7 समबाहु त्रिभुज का क्षेत्रफल एक रोम्बस के क्षेत्रफल का  $6\sqrt{3}$  गुना है जिसकी एक भुजा (साइड) की माप  $13 \text{ cm}$  और एक विकर्ण  $10 \text{ cm}$  है। त्रिकोण के पार्श्व की लंबाई, cm में, है:

- Ans
- ✗ 1.  $24\sqrt{6}$
  - ✗ 2.  $12\sqrt{6}$
  - ✗ 3.  $36\sqrt{6}$
  - ✓ 4.  $24\sqrt{5}$

Question ID : 9895805168  
Chosen Option : 4

Section : English Language

Q.1 Select the option that means the same as the given idiom.

Out of order

- Ans
- ✓ 1. Out of place
  - ✗ 2. Out of nowhere
  - ✗ 3. Not in working condition
  - ✗ 4. In good condition

Question ID : 9895804561



Q.2 Select the word which means the same as the group of words given.

The practice of marrying one person at a time.

- Ans
- 1. Bigamy
  - 2. Monotony
  - 3. Polygamy
  - 4. Monogamy

Question ID : 9895804558

Chosen Option : --

Q.3 Select the most appropriate option to fill in the blank.

I told him to avoid fighting, but he won't \_\_\_\_\_.

- Ans
- 1. doing it
  - 2. does it
  - 3. did it
  - 4. do it

Question ID : 9895804547

Chosen Option : --

Q.4 Select the antonym of the given word.

Attack

- Ans
- 1. Secure
  - 2. Defence
  - 3. Refuse
  - 4. Assent

Question ID : 9895804557

Chosen Option : --

Q.5 Select the synonym of the given word.

IDENTICAL

- Ans
- 1. Perfect
  - 2. Same
  - 3. Varied
  - 4. Corresponding

Question ID : 9895804554

Chosen Option : --

Q.6 Select the most appropriate option to substitute the underlined segment in the given sentence. If there is no need to substitute it, select No Improvement.

They thought she was arrogant, and she was very shy.

- Ans
- 1. so that she was



- 2. as soon as she was
- 3. No improvement
- 4. whereas she was

Question ID : 9895804544  
Chosen Option : --

Q.7 From the given options, identify the segment in the sentence which contains the grammatical error.

He not only got a scholarship and also a good job.

- Ans
- 1. got a scholarship
  - 2. a good job.
  - 3. not only
  - 4. and also

Question ID : 9895804542  
Chosen Option : --

Q.8 Select the antonym of the given word.

ABOVE

- Ans
- 1. Below
  - 2. Across
  - 3. Down
  - 4. Less

Question ID : 9895804556  
Chosen Option : --

Q.9 Select the word which means the same as the group of words given.

That which can be seen through

- Ans
- 1. Foggy
  - 2. Transparent
  - 3. Opaque
  - 4. Vague

Question ID : 9895804559  
Chosen Option : --

Q.10 Select the correctly spelt word.

- Ans
- 1. Rememberance
  - 2. Remembarence
  - 3. Remembrance
  - 4. Remembranse

Question ID : 9895804564  
Chosen Option : --

Q.1

1 Select the most appropriate word to fill in the blank.

He likes to do stunts with his bike. He is a \_\_\_\_\_

- Ans
- 1. wind bag
  - 2. daredevil
  - 3. busybody
  - 4. little bug

Question ID : 9895804562  
Chosen Option : --

Q.1  
2 Select the correctly spelt word.

- Ans
- 1. Foolfil
  - 2. Fullfil
  - 3. Fulfil
  - 4. Fullfill

Question ID : 9895804565  
Chosen Option : --

Q.1  
3 Select the most appropriate word to fill in the blank.

My mother is \_\_\_\_\_ riser.

- Ans
- 1. a fast
  - 2. a quick
  - 3. an early
  - 4. an easy

Question ID : 9895804563  
Chosen Option : --

Q.1  
4 Select the most appropriate option to fill in the blank.

She did not reply \_\_\_\_\_ my letter.

- Ans
- 1. to
  - 2. with
  - 3. for
  - 4. against

Question ID : 9895804546  
Chosen Option : --

Q.1  
5 Select the most appropriate option to substitute the underlined segment in the given sentence. If there is no need to substitute it, select No Improvement.

There were not any excuse for not participating in the competition.

- Ans
- 1. no any excuse
  - 2. no excuse
  - 3. no excuses

4. No improvement

Question ID : 9895804545  
Chosen Option : --

Q.1  
6 From the given options, identify the segment in the sentence which contains the grammatical error.

I am fastly excited and really looking forward to the trip.

Ans  1. I am fastly

2. to the trip

3. looking forward

4. and really

Question ID : 9895804541  
Chosen Option : --

Comprehension:

In the following passage some words have been deleted. Fill in the blanks with the help of the alternatives given.

Flood is a common natural disaster. Scientists have often tried to (1) \_\_\_\_\_ floods. There are a number of reasons that (2) \_\_\_\_\_ floods, including heavy rain and cloudbursts. Due to these reasons, rivers (3) \_\_\_\_\_ their banks and cover the surrounding land. Sometimes, dams break and cause disastrous floods that (4) \_\_\_\_\_ to large-scale destruction. Timely safety (5) \_\_\_\_\_ should be taken to save human life and property.

SubQuestion No : 17

Q.1  
7 Select the most appropriate option that will fill in the blank number 1.

Ans  1. prevent

2. avoid

3. control

4. predict

Question ID : 9895804549  
Chosen Option : --

Comprehension:

In the following passage some words have been deleted. Fill in the blanks with the help of the alternatives given.

Flood is a common natural disaster. Scientists have often tried to (1) \_\_\_\_\_ floods. There are a number of reasons that (2) \_\_\_\_\_ floods, including heavy rain and cloudbursts. Due to these reasons, rivers (3) \_\_\_\_\_ their banks and cover the surrounding land. Sometimes, dams break and cause disastrous floods that (4) \_\_\_\_\_ to large-scale destruction. Timely safety (5) \_\_\_\_\_ should be taken to save human life and property.

SubQuestion No : 18

Q.1  
8

Select the most appropriate option that will fill in the blank number 2.

- Ans
- 1. occur
  - 2. arouse
  - 3. happen
  - 4. cause

Question ID : 9895804550

Chosen Option : --

Comprehension:

In the following passage some words have been deleted. Fill in the blanks with the help of the alternatives given.

Flood is a common natural disaster. Scientists have often tried to (1) \_\_\_\_\_ floods. There are a number of reasons that (2) \_\_\_\_\_ floods, including heavy rain and cloudbursts. Due to these reasons, rivers (3) \_\_\_\_\_ their banks and cover the surrounding land. Sometimes, dams break and cause disastrous floods that (4) \_\_\_\_\_ to large-scale destruction. Timely safety (5) \_\_\_\_\_ should be taken to save human life and property.

SubQuestion No : 19

Q.1  
9 Select the most appropriate option that will fill in the blank number 3.

- Ans
- 1. reach
  - 2. drown
  - 3. wash
  - 4. overflow

Question ID : 9895804551

Chosen Option : --

Comprehension:

In the following passage some words have been deleted. Fill in the blanks with the help of the alternatives given.

Flood is a common natural disaster. Scientists have often tried to (1) \_\_\_\_\_ floods. There are a number of reasons that (2) \_\_\_\_\_ floods, including heavy rain and cloudbursts. Due to these reasons, rivers (3) \_\_\_\_\_ their banks and cover the surrounding land. Sometimes, dams break and cause disastrous floods that (4) \_\_\_\_\_ to large-scale destruction. Timely safety (5) \_\_\_\_\_ should be taken to save human life and property.

SubQuestion No : 20

Q.2  
0 Select the most appropriate option that will fill in the blank number 4.

- Ans
- 1. leading
  - 2. led
  - 3. lead
  - 4. leads



Question ID : 9895804552  
Chosen Option : --

**Comprehension:**

In the following passage some words have been deleted. Fill in the blanks with the help of the alternatives given.

Flood is a common natural disaster. Scientists have often tried to (1) \_\_\_\_\_ floods. There are a number of reasons that (2) \_\_\_\_\_ floods, including heavy rain and cloudbursts. Due to these reasons, rivers (3) \_\_\_\_\_ their banks and cover the surrounding land. Sometimes, dams break and cause disastrous floods that (4) \_\_\_\_\_ to large-scale destruction. Timely safety (5) \_\_\_\_\_ should be taken to save human life and property.

SubQuestion No : 21

Q.2  
1 Select the most appropriate option that will fill in the blank number 5.

- Ans
- 1. products
  - 2. items
  - 3. causes
  - 4. measures

Question ID : 9895804553  
Chosen Option : --

Q.2  
2 Select the most appropriate option to substitute the underlined segment in the given sentence. If there is no need to substitute it, select No improvement.

You need to curb your temper or you might offended someone.

- Ans
- 1. No improvement
  - 2. you might be offend
  - 3. you might offending
  - 4. you might offend

Question ID : 9895804543  
Chosen Option : --

Q.2  
3 Select the synonym of the given word.

GLEE

- Ans
- 1. Hearty
  - 2. Happiness
  - 3. Jump
  - 4. Laughter

Question ID : 9895804555  
Chosen Option : --

Q.2  
4

Select the option that means the same as the given idiom.

To measure swords

- Ans
- 1. To engage in competition
  - 2. To argue with someone
  - 3. To push an opponent
  - 4. To confess one's mistake

Question ID : 9895804874

Chosen Option : --

Q.2 From the given options, identify the segment in the sentence which contains the grammatical error.

5

The T.V. and the computer has been blamed for reduced reading habits amongst children.

- Ans
- 1. for reduced
  - 2. The T.V. and the computer
  - 3. has been blamed
  - 4. amongst children.

Question ID : 9895804540

Chosen Option : --

Section : Hindi Language

Comprehension:

दिए गए अनुच्छेद में कुछ शब्द हटा दिए गए हैं। दिए गए विकल्पों की सहायता से रिक्त स्थान भरें। प्रत्येक संख्या के लिए उपयुक्त विकल्प का चयन करें।

एक अत्याचारी शासक एक चीते से अधिक \_\_\_\_\_ (1) होता है। अत्याचारी शासन में रहने की अपेक्षा \_\_\_\_\_ (2) है कि किसी पहाड़ी अथवा वन में रह लिया जाए। जनता को चाहिए कि वह अत्याचारी शासन का समुचित \_\_\_\_\_ (3) करे और सत्ताधारी को अपना \_\_\_\_\_ (4) करने के लिए विवश करने का उपाय करे। अत्याचारी शासन को भय के कारण सहन करने वाला समाज किसी प्रकार की \_\_\_\_\_ (5) नहीं कर पाता।

SubQuestion No : 1

Q.1 गद्यांश में संकेतित रिक्त स्थान (1) के लिए उपयुक्त शब्द होगा -

- Ans
- 1. भयंकर
  - 2. रोचक
  - 3. कमाल
  - 4. मस्त



## Comprehension:

दिए गए अनुच्छेद में कुछ शब्द हटा दिए गए हैं। दिए गए विकल्पों की सहायता से रिक्त स्थान भरें। प्रत्येक संख्या के लिए उपयुक्त विकल्प का चयन करें।

एक अत्याचारी शासक एक चीते से अधिक \_\_\_\_\_ (1) होता है। अत्याचारी शासन में रहने की अपेक्षा \_\_\_\_\_ (2) है कि किसी पहाड़ी अथवा वन में रह लिया जाए। जनता को चाहिए कि वह अत्याचारी शासन का समुचित \_\_\_\_\_ (3) करे और सत्ताधारी को अपना \_\_\_\_\_ (4) करने के लिए विवश करने का उपाय करे। अत्याचारी शासन को भय के कारण सहन करने वाला समाज किसी प्रकार की \_\_\_\_\_ (5) नहीं कर पाता।

## SubQuestion No : 2

Q.2 गद्यांश में संकेतित रिक्त स्थान (2) के लिए उपयुक्त शब्द होगा -

- Ans
- 1. नाटक
  - 2. अच्छा
  - 3. खोना
  - 4. किस्सा

## Comprehension:

दिए गए अनुच्छेद में कुछ शब्द हटा दिए गए हैं। दिए गए विकल्पों की सहायता से रिक्त स्थान भरें। प्रत्येक संख्या के लिए उपयुक्त विकल्प का चयन करें।

एक अत्याचारी शासक एक चीते से अधिक \_\_\_\_\_ (1) होता है। अत्याचारी शासन में रहने की अपेक्षा \_\_\_\_\_ (2) है कि किसी पहाड़ी अथवा वन में रह लिया जाए। जनता को चाहिए कि वह अत्याचारी शासन का समुचित \_\_\_\_\_ (3) करे और सत्ताधारी को अपना \_\_\_\_\_ (4) करने के लिए विवश करने का उपाय करे। अत्याचारी शासन को भय के कारण सहन करने वाला समाज किसी प्रकार की \_\_\_\_\_ (5) नहीं कर पाता।

SubQuestion No : 3

Q.3 गद्यांश में संकेतित रिक्त स्थान (3) के लिए उपयुक्त शब्द होगा -

- Ans
- 1. उत्साह
  - 2. विरोध
  - 3. जोश
  - 4. उमंग

Question ID : 9895804889  
Chosen Option : 2

Comprehension:

दिए गए अनुच्छेद में कुछ शब्द हटा दिए गए हैं। दिए गए विकल्पों की सहायता से रिक्त स्थान भरें। प्रत्येक संख्या के लिए उपयुक्त विकल्प का चयन करें।

एक अत्याचारी शासक एक चीते से अधिक \_\_\_\_\_ (1) होता है। अत्याचारी शासन में रहने की अपेक्षा \_\_\_\_\_ (2) है कि किसी पहाड़ी अथवा वन में रह लिया जाए। जनता को चाहिए कि वह अत्याचारी शासन का समुचित \_\_\_\_\_ (3) करे और सत्ताधारी को अपना \_\_\_\_\_ (4) करने के लिए विवश करने का उपाय करे। अत्याचारी शासन को भय के कारण सहन करने वाला समाज किसी प्रकार की \_\_\_\_\_ (5) नहीं कर पाता।

SubQuestion No : 4

Q.4 गद्यांश में संकेतित रिक्त स्थान (4) के लिए उपयुक्त शब्द होगा -

- Ans
- 1. मजबूत
  - 2. दुर्बल
  - 3. सुधार
  - 4. मजदूर

Question ID : 9895804890  
Chosen Option : 3

Comprehension:

दिए गए अनुच्छेद में कुछ शब्द हटा दिए गए हैं। दिए गए विकल्पों की सहायता से रिक्त स्थान भरें। प्रत्येक संख्या के लिए उपयुक्त विकल्प का चयन करें।

एक अत्याचारी शासक एक चीते से अधिक \_\_\_\_\_ (1) होता है। अत्याचारी शासन में रहने की अपेक्षा \_\_\_\_\_ (2) है कि किसी पहाड़ी अथवा वन में रह लिया जाए। जनता को चाहिए कि वह अत्याचारी शासन का समुचित \_\_\_\_\_ (3) करे और सत्ताधारी को अपना \_\_\_\_\_ (4) करने के लिए विवश करने का उपाय करे। अत्याचारी शासन को भय के कारण सहन करने वाला समाज किसी प्रकार की \_\_\_\_\_ (5) नहीं कर पाता।

SubQuestion No : 5

Q.5 गद्यांश में संकेतित रिक्त स्थान (5) के लिए उपयुक्त शब्द होगा -

- Ans
- 1. विवाह
  - 2. अज्ञान
  - 3. अवनति
  - 4. उन्नति

Question ID : 9895804891  
Chosen Option : 4

Q.6 रिक्त स्थान को भरने के लिए उपयुक्त शब्द का चयन करें।

राम ने साँप को लाठी \_\_\_\_\_ मारा।

- Ans
- 1. पर
  - 2. ने
  - 3. में
  - 4. से

Question ID : 9895804883  
Chosen Option : 4

Q.7 दिए गए शब्द का विलोम चुनें।

उष्ण

- Ans
- 1. उपमा
  - 2. लहर
  - 3. शीत
  - 4. उष्मा

Question ID : 9895804892  
Chosen Option : 3

Q.8 निम्नलिखित में से उस विकल्प का चयन करें जो 'कलेजे पर पत्थर रखना' मुहावरे का अर्थ व्यक्त करता है।

- Ans
- 1. कलेजे को पत्थर पर रखना
  - 2. दिल बड़ा करना
  - 3. जी कड़ा करना
  - 4. भारी पत्थर कलेजे पर रखना

Question ID : 9895804897  
Chosen Option : 2

Q.9 दिये गये वाक्यांश के लिए एक शब्द चुनिए।

जो दूर की सोचता है

- Ans
- 1. चतुर्दशी
  - 2. द्वादशी
  - 3. दूरदर्शी
  - 4. एकादशी

Question ID : 9895804899  
Chosen Option : 3

Q.10 दिए गए शब्द का विलोम चुनें।

अपव्यय

- Ans
- 1. अतिव्यय
  - 2. खर्चीला
  - 3. व्यर्थव्यय
  - 4. मितव्यय

Question ID : 9895804893  
Chosen Option : 1

Q.11 दिए गए वाक्य में रेखांकित खंड को प्रतिस्थापित करने के लिए उपयुक्त विकल्प का चयन करें।

मनुष्य को पुण्य कर्म करता चाहिए।

- Ans
- 1. पुण्य कर्म करनी चाहिए।
  - 2. पुण्य कर्मों करने चाहिए।
  - 3. पुण्य कर्म करते चाहिए।
  - 4. पुण्य कर्म करना चाहिए।

Question ID : 9895804879  
Chosen Option : 4

Q.1  
2 निम्नलिखित में से उस विकल्प का चयन करें जो 'ओखली में सिर देना' मुहावरे का अर्थ व्यक्त करता है।

- Ans
- 1. ओखली को सिर पर रखना
  - 2. जान बूझकर मुसीबत में पड़ना
  - 3. ओखली में सिर देकर उसे कूटना
  - 4. ओखली के समान सर होना

Question ID : 9895804896  
Chosen Option : 2

Q.1  
3 दिए गए वाक्य का वह भाग ज्ञात करें जिसमें कोई त्रुटि है।

कोई गुंडा भरे बाज़ार में किसी को हत्या करके चला गया।

- Ans
- 1. चला गया।
  - 2. किसी को हत्या करके
  - 3. भरे बाजार में
  - 4. कोई गुंडा

Question ID : 9895804876  
Chosen Option : 2

Q.1  
4 रिक्त स्थान को भरने के लिए उपयुक्त शब्द का चयन करें।

मेरे माता-पिता की ओर से \_\_\_\_\_ ढेर सारा प्यार।

- Ans
- 1. तुम्हें
  - 2. मुझे
  - 3. सभी
  - 4. किसी

Question ID : 9895804884  
Chosen Option : 1

Q.1  
5 दिए गए वाक्य का वह भाग ज्ञात करें जिसमें कोई त्रुटि है।

जो लोग विवेकी हैं वे मानवजाति को विनाश की ओर बढ़ते देखकर विचलित होता हैं।

- Ans
- 1. विनाश की ओर बढ़ते देखकर
  - 2. विचलित होता हैं।
  - 3. मानवजाति को
  - 4. जो लोग विवेकी हैं

Question ID : 9895804878  
Chosen Option : 1

Q.1  
6



दिए गए शब्द के पर्यायवाची शब्द का चयन करें।

गोधूलि

- Ans
- 1. रात
  - 2. दिन
  - 3. संध्या
  - 4. सुबह

Question ID : 9895804894  
Chosen Option : 3

Q.1  
7 दिये गये वाक्यांश के लिए एक शब्द चुनिए।

जो सबको प्रिय हो

- Ans
- 1. रमणीय
  - 2. सुन्दर
  - 3. शोभनीय
  - 4. सर्वप्रिय

Question ID : 9895804898  
Chosen Option : 4

Q.1  
8 सही वर्तनी वाले शब्द का चयन करें।

- Ans
- 1. जयेष्ठ
  - 2. ज्येष्ठ
  - 3. ज्येष्ट
  - 4. ज्येश्ठ

Question ID : 9895804901  
Chosen Option : 2

Q.1  
9 रिक्त स्थान को भरने के लिए उपयुक्त शब्द का चयन करें।

वह सदैव \_\_\_\_\_ से बड़े का आदर करता है।

- Ans
- 1. हमारे
  - 2. पराये
  - 3. अपने
  - 4. तुम्हारे

Question ID : 9895804882  
Chosen Option : 3

Q.2  
0



रिक्त स्थान को भरने के लिए उपयुक्त शब्द का चयन करें।

\_\_\_\_\_ में बाजार गया तो सामान अवश्य लाऊँगा।

- Ans
- 1. इसलिए
  - 2. जिससे
  - 3. यदि
  - 4. यदापि

Question ID : 9895804885  
Chosen Option : 3

Q.2  
1 दिए गए शब्द के पर्यायवाची शब्द का चयन करें।

शिक्षक

- Ans
- 1. विभा
  - 2. विद्यार्थी
  - 3. दिवाकर
  - 4. गुरु

Question ID : 9895804895  
Chosen Option : 4

Q.2  
2 सही वर्तनी वाले शब्द का चयन करें।

- Ans
- 1. दुरभल
  - 2. दुरलभ
  - 3. दूर्लभ
  - 4. दुर्लभ

Question ID : 9895804900  
Chosen Option : 4

Q.2  
3 दिए गए वाक्य में रेखांकित खंड को प्रतिस्थापित करने के लिए उपयुक्त विकल्प का चयन करें।

आज की सभा में फूलों के गुलदस्ता अतिथि को भेंट किया गया।

- Ans
- 1. फूलों से गुलदस्ता
  - 2. फूलों की गुलदस्ता
  - 3. फूलों का गुलदस्ता
  - 4. फूलों में गुलदस्ता

Question ID : 9895804880  
Chosen Option : 3

Q.2  
4

दिए गए वाक्य का वह भाग ज्ञात करें जिसमें कोई त्रुटि है।

महानगरों की जीवन शैली तृष्णा का भरी है और यहाँ रहने वाला लाखों कमाकर भी बेचैन है।

Ans

- ✓ 1. तृष्णा का भरी है।
- ✗ 2. लाखों कमाकर भी बेचैन है।
- ✗ 3. और यहाँ रहने वाला
- ✗ 4. महानगरों की जीवन शैली

Question ID : 9895804877  
Chosen Option : 1

Q.2  
5 दिए गए वाक्य में रेखांकित खंड को प्रतिस्थापित करने के लिए उपयुक्त विकल्प का चयन करें।

साँप को देखकर छोटा बच्चा उसको डर गया।

Ans

- ✗ 1. उसमें डर गया।
- ✗ 2. उस पर डर गया।
- ✗ 3. उसकी डर गया।
- ✓ 4. उससे डर गया।

Question ID : 9895804881  
Chosen Option : 4