

Constable (GD) in CAPFs, NIA, SSF and Rifleman (GD) in Assam Rifles Examination, 2018

Roll No. :	GovtJobsAlert.In
Registration No.	GovtJobsAlert.In
Name :	GovtJobsAlert.In
Exam Venue :	iON Digital Zone iDZ Sandalpur
Exam Time :	4:00 PM - 5:30 PM
Exam Date :	15/02/2019

Section : General Section

Q.1 पैटर्न के साथ एक वर्गाकार पारदर्शी कागज पत्रक दिया गया है। पारदर्शी कागज पत्रक को बिंदुंकित रेखा पर मोड़े जाने पर पैटर्न कैसा दिखाई देगा?



Ans

- 1.
- 2.
- 3.
- 4.

Question ID : 9895803644
Chosen Option : 3

Q.2 विकल्पों में से उस आकृति का चयन करें जिसमें 'X' से चिह्नित आकृति समाहित है। (घुमाने की अनुमति नहीं है)



Ans

- 1.
- 2.
- 3.
- 4.

Question ID : 9895803642
Chosen Option : 1

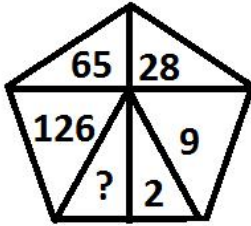
Q.3 निम्नलिखित समीकरण को सही करने के लिए विकल्पों में दिए गए किन दो चिहनों को परस्पर बदला जाना चाहिए?

$$27 + 27 \times 27 - 27 \div 27 = -701$$

- Ans
- 1. \times और \div
 - 2. $+$ और \div
 - 3. $-$ और \div
 - 4. $-$ और \times

Question ID : 9895803639
Chosen Option : 1

Q.4 उस विकल्प का चयन करें जो दिए गए पैटर्न में प्रश्न चिह्न (?) के स्थान पर आएगा।



- Ans
- 1. 217
 - 2. 1
 - 3. 36
 - 4. 216

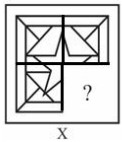
Question ID : 9895803638
Chosen Option : 2

Q.5 दिए गए विकल्पों में से असंगत संख्या का चयन करें।

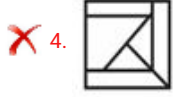
- Ans
- 1. 37
 - 2. 89
 - 3. 63
 - 4. 17

Question ID : 9895803637
Chosen Option : 3

Q.6 दिए गए चार विकल्पों में से उस आकृति को चुनें, जिसे आकृति X के रिक्त स्थान में (बिना घुमाए) रखने पर पैटर्न पूरा हो जाएगा।



- Ans
- 1.
 - 2.



Question ID : 9895803641
Chosen Option : 2

Q.7 नीचे दिए गए कथनों के बाद दो निष्कर्ष I और II दिए गए हैं। यह मानते हुए कि कथनों में दी गई जानकारी सत्य है, भले ही वह सर्वज्ञात तथ्यों से भिन्न प्रतीत होती हो और यह निर्णय करें कि कौन सा / से निष्कर्ष तार्किक और निश्चित रूप से कथन में दी गई जानकारी का अनुसरण करता है / करते हैं।

कथन:

1) कुछ मेजें सोफे हैं।

2) कुछ सोफे कागजात हैं।

निष्कर्ष

I: कुछ सोफे मेजें हैं।

II: कुछ कागजात सोफे हैं।

Ans

✗ 1. केवल निष्कर्ष II अनुसरण करता है।

✗ 2. केवल निष्कर्ष I अनुसरण करता है।

✗ 3. न तो निष्कर्ष I और न ही निष्कर्ष II अनुसरण करता है।

✓ 4. दोनों ही निष्कर्ष अनुसरण करते हैं।

Question ID : 9895803633
Chosen Option : 4

Q.8 आठ मित्र A, B, C, D, E, F, G और H दोपहर के भोजन के लिए एक वृत्ताकार मेज के चारों ओर एक-दूसरे के आमने-सामने बैठे हैं। A, D के सामने है और B के दाएँ ओर से तीसरा है। G, A और F के बीच में है। H, A के दाएँ ओर है। E, C और D के बीच में है।

G के सामने कौन बैठा है?

Ans

✗ 1. B

✓ 2. E

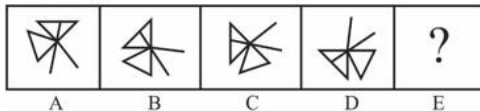
✗ 3. F

✗ 4. C

Question ID : 9895803630
Chosen Option : 2

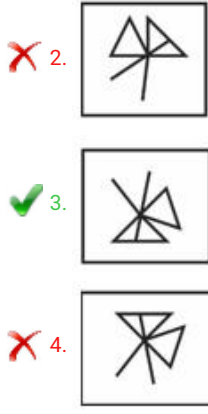
Q.9 विकल्पों में से उस आकृति का चयन करें जो दी गई श्रृंखला में अगले स्थान पर आएगी।

Problem Fig.



Ans





Question ID : 9895803640
Chosen Option : 3

Q.1 उस विकल्प का चयन करें जो दी गई श्रृंखला में प्रश्न चिह्न (?) के स्थान पर आएगा।

107, 103, 87, 51, ?

- Ans
- ✗ 1. 13
- ✗ 2. 15
- ✗ 3. -15
- ✓ 4. -13

Question ID : 9895803634
Chosen Option : 4

Q.1 एक निश्चित कूट भाषा में, JOY को 150 के रूप में लिखा जाता है। उसी कूट भाषा में FEED को कैसे लिखा जाएगा?

- Ans
- ✗ 1. 20
- ✗ 2. 50
- ✓ 3. 80
- ✗ 4. 90

Question ID : 9895803628
Chosen Option : 3

Q.1 नीचे दिए गए कथनों के बाद दो निष्कर्ष I और II दिए गए हैं। यह मानते हुए कि कथनों में दी गई जानकारी सत्य है, भले ही वह सर्वज्ञात तथ्यों से भिन्न प्रतीत होती हो और यह निर्णय करें कि कौन सा / से निष्कर्ष तार्किक और निश्चित रूप से कथन में दी गई जानकारी का अनुसरण करता है / करते हैं।

कथन:

- 1) सभी मकड़ियाँ घोंघे हैं।
2) सभी मोलार्स घोंघे हैं।

निष्कर्ष

- I: कोई भी मकड़ी मोलार्स नहीं है।
II: कुछ मकड़ियाँ मोलार्स हैं।

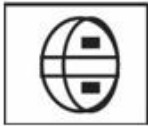
- Ans
- ✓ 1. या तो निष्कर्ष I या निष्कर्ष II अनुसरण करता है।
- ✗ 2. केवल निष्कर्ष I अनुसरण करता है।
- ✗ 3. केवल निष्कर्ष II अनुसरण करता है।
- ✗ 4. दोनों ही निष्कर्ष अनुसरण करते हैं।

Q.1 उस विकल्प का चयन करें जो दर्पण के दाएँ ओर रखे जाने पर शब्द की दी गई दर्पण छवि से सर्वाधिक मेल खाता है।



Ans

✓ 1.



✗ 2.



✗ 3.



✗ 4.



Q.1 उस विकल्प का चयन करें जो तीसरे पद से उसी प्रकार से संबंधित है जिस प्रकार दूसरा पद पहले पद से संबंधित है।

4

BFH: EIK :: GKM : ?

Ans

✓ 1. JNP

✗ 2. IKM

✗ 3. MKG

✗ 4. KMG

Q.1 उस विकल्प का चयन करें जो दी गई श्रृंखला में प्रश्न चिह्न (?) के स्थान पर सही रूप में आएगा।

5

RGN, PIM, NKL, ?

Ans

✓ 1. LMK

✗ 2. LMJ

✗ 3. LWU

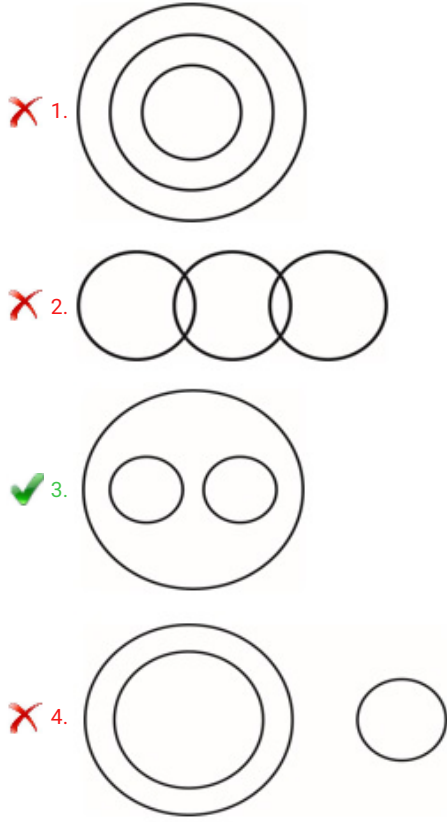
✗ 4. LVW

Q.1 निम्नलिखित में से कौन सा वेन रेखाचित्र दिए गए वर्ग के बीच के संबंध को सही दर्शाता है?

6

लेखनसामग्री, कलम, रबर

Ans



Question ID : 9895803645
Chosen Option : 4

Q.1 उस विकल्प का चयन करें जो तीसरे पद से उसी प्रकार से संबंधित है जिस प्रकार दूसरा पद पहले पद से संबंधित है।

7 निर्दोष: दोषी:: नमी :

- Ans
- 1. आर्द्र/गीला
 - 2. आकांक्षा
 - 3. सूखा
 - 4. समाप्लावन (ड्रेंच)

Question ID : 9895803625
Chosen Option : 3

Q.1 एक निश्चित कूट भाषा में, COMPUTER को CEMOPRTU के रूप में लिखा जाता है। उसी कूट भाषा में CUPBOARD को कैसे लिखा जाएगा?

- 8
- Ans
- 1. ABDCOPRU
 - 2. ABCDORPU
 - 3. ABCDOQRU
 - 4. ABCDOPRU

Question ID : 9895803627
Chosen Option : 2

Q.1 J, K, L, M, N और O छह शिक्षक हैं। उनमें से प्रत्येक हिंदी, अंग्रेजी, गणित, विज्ञान, सामाजिक विज्ञान और कला में से एक अलग विषय पढ़ाता है, जरूरी नहीं कि उसी क्रम में हो। उनमें से प्रत्येक सोमवार से शनिवार तक केवल एक दिन ही पढ़ाता है, जरूरी नहीं कि उसी क्रम में हो। J बुधवार को विज्ञान पढ़ाता है। O, J के बाद दूसरे दिन गणित पढ़ाता है। K सप्ताह के पहले दिन पढ़ाता है, लेकिन न तो हिंदी पढ़ाता है और न ही अंग्रेजी। M, N से पहले अंग्रेजी पढ़ाता है और L, J से पहले कला पढ़ाता है।

शुक्रवार को कौन सा विषय पढ़ाया जाता है?

- Ans
- 1. विज्ञान

2. सामाजिक विज्ञान
 3. कला
 4. अंग्रेजी

Question ID : 9895803631
Chosen Option : 2

Q.2
0 दिए गए विकल्पों में से असंगत का चयन करें।

- Ans 1. FHJ
 2. KOJ
 3. EHK
 4. CJK

Question ID : 9895803622
Chosen Option : 2

Q.2 सात मित्र O, P, Q, R, S, T और U एक पंक्ति में बैठे फिल्म देख रहे हैं। P एक अंतिम छोर पर बैठा हुआ है। Q,
1 S के बिल्कुल बाएँ ओर बैठा है। P, T के दाएँ से दूसरे स्थान पर बैठा है। U किसी भी अंतिम छोर पर नहीं बैठा है।
O, R और T के बीच में बैठा है।

कौन मध्य में बैठा है?

- Ans 1. O
 2. R
 3. Q
 4. T

Question ID : 9895803629
Chosen Option : 1

Q.2 उस विकल्प का चयन करें जो दी गई श्रृंखला में प्रश्न चिह्न (?) के स्थान पर आएगा।

7, 19, 36, 63, ?

- Ans 1. 115
 2. 105
 3. 95
 4. 125

Question ID : 9895803635
Chosen Option : 2

Q.2 उस विकल्प का चयन करें जो तीसरे पद से उसी प्रकार से संबंधित है जिस प्रकार दूसरा पद पहले पद से संबंधित है।

3 मत्स्यविज्ञान: मछलियाँ :: पुरालिपिशास्त्र : ?

- Ans 1. चाँद (मून)
 2. शंख/भूपटल (शेल्स)
 3. मिट्टी (सोईल)
 4. लेखन (राइटिंग्स)

Question ID : 9895803624
Chosen Option : 4

Q.2 4 उस विकल्प का चयन करें जो तीसरी संख्या से उसी प्रकार से संबंधित है जिस प्रकार दूसरी संख्या पहली संख्या से संबंधित है।

54 : 6 :: 42 : ?

- Ans
- 1. 5
 - 2. 7
 - 3. 9
 - 4. 6

Question ID : 9895803636
Chosen Option : 3

Q.2 5 दिए गए विकल्पों में से असंगत का चयन करें।

- Ans
- 1. उदर
 - 2. पैर
 - 3. हृदय
 - 4. गुर्दे

Question ID : 9895803623
Chosen Option : 2

Q.2 6 _____ को अंतर्राष्ट्रीय कूटनीति को मजबूत करने के उनके असाधारण प्रयासों के लिए 2009 के नोबेल शांति पुरस्कार से सम्मानित किया गया।

- Ans
- 1. बराक ओबामा
 - 2. कोफी अन्नान
 - 3. जस्टिन टूडो
 - 4. दलाई लामा

Question ID : 9895805004
Chosen Option : 2

Q.2 7 भारतीय कम्युनिस्ट पार्टी (मार्क्सवादी) का चुनाव चिह्न क्या है?

- Ans
- 1. झाड़ू
 - 2. कमल
 - 3. हाथी
 - 4. हथौड़ा और हँसिया

Question ID : 9895805016
Chosen Option : 4

Q.2 8 वर्ष 1920 में मूक नायक अखबार की शुरुआत किसने की?

- Ans
- 1. दादाभाई नौरोजी
 - 2. भीमराव अंबेडकर
 - 3. ज्योतिबा फुले

✗ 4. महादेव गोविंद रानाडे

Question ID : 9895805012
Chosen Option : 3

Q.2
9 महाराष्ट्र के हिन्दुओं द्वारा मनाया जाने वाला नव वर्ष किस नाम से जाना जाता है?

- Ans
- ✓ 1. गुडी पड़वा
 - ✗ 2. उगादी
 - ✗ 3. पुथान्दो
 - ✗ 4. विशु

Question ID : 9895805010
Chosen Option : 1

Q.3
0 निम्न में से कौन सा केन्द्रीय सार्वजनिक क्षेत्र उद्यम महारत्न है?

- Ans
- ✗ 1. ओएनजीसी विदेश लिमिटेड
 - ✓ 2. एनटीपीसी लिमिटेड
 - ✗ 3. पीईसीलिमिटेड
 - ✗ 4. हिंदुस्तान पेट्रोलियम कॉर्पोरेशन लिमिटेड

Question ID : 9895805024
Chosen Option : 2

Q.3
1 तिहत्तरवें संविधान संशोधन के परिणाम स्वरूप 1992 में भारतीय संविधान में कौन सी अनुसूची जोड़ी गई?

- Ans
- ✗ 1. 9वीं
 - ✗ 2. 12वीं
 - ✗ 3. 8वीं
 - ✓ 4. 11वीं

Question ID : 9895805013
Chosen Option : 2

Q.3
2 स्वराज पार्टी के संस्थापक कौन थे?

- Ans
- ✗ 1. महात्मा गाँधी और भीमराव अंबेडकर
 - ✓ 2. सी. आर. दास और मोतीलाल नेहरु
 - ✗ 3. बाल गंगाधर तिलक और लाला लाजपत राय
 - ✗ 4. जवाहरलाल नेहरु और मोतीलाल नेहरु

Question ID : 9895805007
Chosen Option : 2

Q.3
3 कानपुर शहर में 1857 के विद्रोह का नेतृत्व किसने किया था?

Ans

- 1. बेगम हजरत महल
- 2. नाना साहिब
- 3. रानी लक्ष्मीबाई
- 4. कुँवरसिंह

Question ID : 9895805019
Chosen Option : 2

Q.3
4 सड़कों का घनत्व क्या सूचित करता है?

- Ans
- 1. प्रति 100 किमी. के भूमि क्षेत्र में सड़क की लम्बाई
 - 2. प्रति 1000 वर्ग किमी. के भूमि-क्षेत्र में सड़क की लम्बाई
 - 3. प्रति 1000 किमी. के भूमि-क्षेत्र में सड़क की लम्बाई
 - 4. प्रति 100 वर्ग किमी. के भूमि-क्षेत्र में सड़क की लम्बाई

Question ID : 9895805018
Chosen Option : 3

Q.3
5 अनखिले पुष्पों का संरक्षण किस भाग द्वारा किया जाता है?

- Ans
- 1. परागकोश
 - 2. पंखुड़ी
 - 3. पुं-केसर
 - 4. पुष्पकोश की पत्ती

Question ID : 9895805017
Chosen Option : 2

Q.3
6 तरलीकृत पेट्रोलियम गैस में क्या शामिल होता है?

- Ans
- 1. प्रोपेन और ब्यूटेन
 - 2. नाइट्रोजन और ईथेन
 - 3. नोनेन और ओक्टेन
 - 4. हेक्सेन और बेन्जेन

Question ID : 9895805009
Chosen Option : 1

Q.3
7 किस शक्तिशाली चीनी उद्योगपति (जो चीन का सबसे अमीर व्यक्ति भी हैं) ने अलीबाबा कम्पनी, जिसके वे सहसंस्थापक थे, हाल ही में त्यागपत्र दे दिया?

- Ans
- 1. जैक मा
 - 2. गुओ गुआन्गचांग
 - 3. लेई जुन

✗ 4. डैनियल जांग

Question ID : 9895805026
Chosen Option : 2

Q.3
8 'फीफा प्लेयर ऑफ द ईयर 2018' का खिताब किसने जीता?

- Ans
- ✓ 1. लुका मोड्रिक
 - ✗ 2. लॉयनल मैसी
 - ✗ 3. क्रिस्टियानो रोनाल्डो
 - ✗ 4. मोहम्मद सालह

Question ID : 9895805022
Chosen Option : 3

Q.3
9 मिल्लमैन पुस्तक के लिए मैन बुकर पुरस्कार 2018 किसे दिया गया है?

- Ans
- ✗ 1. रिचर्ड पावर्स
 - ✗ 2. रोबिन रॉबर्टसन
 - ✗ 3. डेजी जॉनसन
 - ✓ 4. अन्ना बर्न्स

Question ID : 9895805006
Chosen Option : 4

Q.4
0 भारतीय संविधान सभा ने संविधान को कब अंगीकार किया था?

- Ans
- ✗ 1. 26 जनवरी 1949
 - ✓ 2. 26 नवम्बर 1949
 - ✗ 3. 26 जनवरी 1950
 - ✗ 4. 26 नवंबर 1950

Question ID : 9895805023
Chosen Option : 2

Q.4
1 पंडवानी लोकगायन शैली किस राज्य से संबंधित है?

- Ans
- ✗ 1. झारखण्ड
 - ✓ 2. छत्तीसगढ़
 - ✗ 3. उत्तर प्रदेश
 - ✗ 4. बिहार

Question ID : 9895805014
Chosen Option : 4

Q.4
2 निम्न में से किसकी स्थापना भारत की श्वेत क्रांति से संबंधित है?

- Ans
- ✗ 1. मदर डेरी
 - ✗ 2. पारस

3. सारस
 4. अमूल

Question ID : 9895805027
Chosen Option : 4

Q.4
3 निम्न में से क्या पारा (मर्करी) का मिश्रण है?

- Ans
 1. नाइक्रोम
 2. पीतल
 3. स्टेलाईट
 4. अमलगम

Question ID : 9895805008
Chosen Option : 4

Q.4
4 देश के कौन से प्रमुख शहर स्वर्णिम चतुर्भुज सुपर राजमार्गों से जुड़े हैं?

- Ans
 1. दिल्ली-कोलकाता-चेन्नई-मुंबई-दिल्ली
 2. दिल्ली-वाराणसी-चेन्नई-पुणे-दिल्ली
 3. दिल्ली-धनबाद-विशाखापत्तनम-सूरत-दिल्ली
 4. दिल्ली-कोलकाता-अंगोला-मुंबई-दिल्ली

Question ID : 9895805003
Chosen Option : 1

Q.4
5 _____ ईंधन (हाइड्रोजन) और ऑक्सीजन के बीच एक रासायनिक प्रक्रिया या प्रतिक्रिया है, जिससे ताप और प्रकाश:

- Ans
 1. दहन
 2. संवहन
 3. कार्बनीकरण
 4. प्रवाहकत्व

Question ID : 9895805011
Chosen Option : 1

Q.4
6 दिए गए विकल्पों में से कौन सी फसल काली मिट्टी में उगाई जाती है?

- Ans
 1. चाय
 2. कपास
 3. काजू
 4. गन्ना

Question ID : 9895805015
Chosen Option : 2

Q.4
7 निम्न में से कौन सा भारतीय खाद्य निगम की भूमिका में शामिल नहीं है?

Ans

✓ 1. कृषि ऋण एवं ऋणग्रस्तता सम्बन्धी कानून बनाना

✗ 2. बफर स्टॉक की खरीद

✗ 3.

किसानों से उपज खरीदने के लिए खरीद केंद्र स्थापित करना

✗ 4.

यह सुनिश्चित करना कि किसान अपनी उपज न्यूनतम समर्थन मूल्य से कम में बेचने पर मजबूर न हों

Question ID : 9895805025

Chosen Option : 1

Q.4
8 सबसे दक्षिण में ज्योतिर्लिंग मंदिर भारत के किस राज्य में स्थित है?

Ans ✗ 1. कर्नाटक

✓ 2. तमिलनाडु

✗ 3. आंध्रप्रदेश

✗ 4. केरल

Question ID : 9895805021

Chosen Option : 2

Q.4
9 उस बैक्टीरिया का नाम बताएँ जो पेचिश का कारक होता है?

Ans ✗ 1. विब्रियो कॉलेरा

✗ 2. स्ट्रेप्टोकोसस पोईजनस बैक्टीरिया

✗ 3. माइकोबैक्टीरियम ट्यूबरकलोसिस

✓ 4. शिगेला

Question ID : 9895805020

Chosen Option : 2

Q.5
0 तीसरे एशियाई पैरा गेम्स 2018 का आधिकारिक शुभंकर (मैस्कट) क्या था?

Ans ✗ 1. एजोमोन

✗ 2. अप्पू

✗ 3. चिम येन

✓ 4. मोमो

Question ID : 9895805005

Chosen Option : 1

Q.5
1 एक कक्षा में सभी छात्रों का औसत वजन 45.5 kg था। बाद में 44.6 kg, 43.4 kg, 44 kg, 45.5 kg और 43.5 kg वजन वाले 5 छात्रों ने कक्षा छोड़ दिया। परिणामस्वरूप, शेष छात्रों का औसत वजन 500g बढ़ जाता है। शुरु में कक्षा में छात्रों की संख्या क्या थी?

Ans ✗ 1. 20

✗ 2. 16

✓ 3. 18

✗ 4. 21

Question ID : 9895805132
Chosen Option : 2

Q.5 एक मिश्र धातु X में वजन के अनुसार तांबा और टिन का अनुपात 7 : 3 है और मिश्र धातु Y में तांबा और टिन 3 : 2 अनुपात है। X और Y का अनुपात 4 : 1 है और मिश्रधातु Z बनाने के लिए पिघलाया जाता है। मिश्रधातु Z में तांबा का प्रतिशत है:

- Ans
- 1. 56
 - 2. 70
 - 3. 68
 - 4. 65

Question ID : 9895805139
Chosen Option : 2

Q.5 आरोही क्रम में व्यवस्थित 10, 11, 13, 17, $x + 2$, $x + 4$, 31, 33, 36, 42 का माध्यिका है 24। डेटा का माध्य क्या है?

- Ans
- 1. 25.4
 - 2. 23.9
 - 3. 24.1
 - 4. 25.2

Question ID : 9895805142
Chosen Option : 1

Q.5 ₹3392 का एक राशि A, B, C और D के बीच विभाजित किया जाता है, जैसे कि A और B के हिस्सों का अनुपात 2 : 5 है, B और C का अनुपात 3 : 7 है और C और D का अनुपात 5 : 8 है। तो C का हिस्सा क्या है?

- Ans
- 1. ₹1696
 - 2. ₹848
 - 3. ₹840
 - 4. ₹1060

Question ID : 9895805138
Chosen Option : 4

Q.5 निम्नलिखित तालिका का अध्ययन करें और प्रश्न का उत्तर दें:
5 पांच शहरों से परीक्षा में शामिल हुए उम्मीदवारों की संख्या:

शहर	उम्मीदवारों की संख्या (हजार में)	उत्तीर्ण और अनुत्तीर्ण उम्मीदवारों का अनुपात
A	75	3 : 2
B	124	16 : 15
C	108	7 : 5
D	81	5 : 4
E	148	17 : 20

शहर D से परीक्षा देने वाले उम्मीदवारों की संख्या शहरों A और B में अनुत्तीर्ण उम्मीदवारों की कुल संख्या का कितना प्रतिशत है?

- Ans
- 1. 90
 - 2. 87
 - 3. 72

X 4. 80

Question ID : 9895805152

Chosen Option : 1

Q.5 एक व्यक्ति एक निश्चित मूल्य पर एक सामग्री बेचता है। यदि उसे उस मूल्य के 80% पर बेचकर, 16% का नुकसान हुआ है। तो उसका लाभ प्रतिशत क्या होगा?

Ans X 1. 4.5

✓ 2. 5

X 3. 4

X 4. 6

Question ID : 9895805134

Chosen Option : 2

Q.5 13 संख्याओं का औसत 65 है। पहली तीन संख्याओं का औसत 63 है और बाकी संख्याओं का 64.5 है। 11वीं संख्या 12वीं संख्या से 2 अधिक है लेकिन 13वीं संख्या से 2.5 कम है। 11वीं और 12वीं संख्या का औसत क्या है?

Ans ✓ 1. 67

X 2. 65

X 3. 67.5

X 4. 65.5

Question ID : 9895805131

Chosen Option : 3

Q.5 82 km/hr की रफ्तार से चलने वाली एक मिनी बस का चालक उससे 150 m आगे एक मोटरसाइकिल देखता है। 20 सेकंड के बाद, मोटरसाइकिल, बस के 100 m पीछे था। मोटरसाइकिल की गति (km/hr में) है:

Ans X 1. 39

✓ 2. 37

X 3. 40

X 4. 35

Question ID : 9895805147

Chosen Option : 3

Q.5 9% प्रति वर्ष साधारण ब्याज पर, $2\frac{1}{2}$ वर्षों में, एक निश्चित राशि ₹11760 के बराबर होता है। प्रति वर्ष 15% पर $4\frac{2}{5}$ वर्ष के लिए समान राशि पर साधारण ब्याज क्या होगा?

Ans X 1. ₹ 6436

✓ 2. ₹ 6336

X 3. ₹ 6433

X 4. ₹ 6363

Question ID : 9895805140

Chosen Option : 2

Q.6 $\left(\frac{7}{8} \div 5\frac{1}{4} \times 7\frac{1}{5} - \frac{3}{20} \text{ का } \frac{2}{3}\right) \div \frac{1}{2} + \left(\frac{3}{5} \times 7\frac{1}{2} + \frac{2}{3} \div \frac{8}{15}\right)$ का मान

$7 + k$ के बराबर है, जहाँ $k = ?$

Ans ✓ 1. $\frac{19}{20}$

2. $\frac{1}{20}$

3. $\frac{3}{5}$

4. $\frac{1}{5}$

Question ID : 9895805129

Chosen Option : 1

Q.6 रितु ने 12% की हानि पर एक सामग्री बेचा। यदि वह इसे ₹55.80 से अधिक में बेचती, तो उसे 13% का लाभ मिलता। 10% लाभ हासिल करने के लिए, उसे इसे ₹ _____ में बेचना चाहिए।

- Ans 1. 274.80
 2. 280.46
 3. 271.60
 4. 245.52

Question ID : 9895805135

Chosen Option : 3

Q.6 एक नाव 2 km ऊपर की ओर प्रतिकूल धारा में और 3 km अनुप्रवाह में नीचे की ओर 45 मिनट में जाती है जबकि यह 3 km ऊपर की ओर प्रतिकूल धारा में और 9 km अनुप्रवाह में नीचे की ओर 90 मिनट में जाती है। बहाव के समय नाव की गति (km/hr में) क्या है?

- Ans 1. 9
 2. 9.5
 3. 12
 4. 10.5

Question ID : 9895805146

Chosen Option : 1

Q.6 $\frac{[5.7 \div 1.9 \text{ का } 0.4] \div 1.5}{1.5 \div [12.5 - (7.5 - 2.5)]}$ का मान ज्ञात करें?

- Ans 1. 5
 2. 25
 3. 0.25
 4. 0.5

Question ID : 9895805130

Chosen Option : 1

Q.6 यदि A, B से 75% अधिक है, C, D से 40% कम है और D, A से 20% अधिक है, तो निम्नलिखित में से कौनसा विकल्प सत्य है?

- Ans 1. 25B = 21C
 2. 63C = 50B
 3. 50C = 63B
 4. 21B = 25C

Question ID : 9895805136

Q.6 निम्नलिखित तालिका का अध्ययन करें और प्रश्न का उत्तर दें:
5 पांच शहरों से परीक्षा में शामिल हुए उम्मीदवारों की संख्या:

शहर	उम्मीदवारों की संख्या (हजार में)	उत्तीर्ण और अनुत्तीर्ण उम्मीदवारों का अनुपात
A	75	3 : 2
B	124	16 : 15
C	108	7 : 5
D	81	5 : 4
E	148	17 : 20

B और E शहरों से अनुत्तीर्ण रहे उम्मीदवारों की कुल संख्या के मुकाबले शहरों A और C से उत्तीर्ण उम्मीदवारों की कुल संख्या का अनुपात है:

- Ans
- 1. 4 : 7
 - 2. 7 : 9
 - 3. 53 : 66
 - 4. 9 : 11

Question ID : 9895805150

Chosen Option : 2

Q.6 एक शंक्वाकार तम्बू के आधार की त्रिज्या 5 m है और इसकी ऊंचाई 12 m है। इसे बनाने के लिए चौड़ाई 5 m के
6 कितने मीटर की कैनवास की आवश्यकता होगी? (जहाँ $\pi = \frac{22}{7}$)

- Ans
- 1. $40\frac{3}{7}$
 - 2. $42\frac{5}{7}$
 - 3. $40\frac{6}{7}$
 - 4. $42\frac{3}{7}$

Question ID : 9895805145

Chosen Option : 2

Q.6 8% प्रति वर्ष पर $2\frac{3}{4}$ वर्ष के लिए ₹7500 की राशि पर चक्रवृद्धि ब्याज क्या है, वार्षिक रूप से चक्रवृद्धि ब्याज है?
7 (पूर्णांक के निकटतम)

- Ans
- 1. ₹ 1248
 - 2. ₹ 1783
 - 3. ₹ 1773
 - 4. ₹ 1348

Question ID : 9895805141

Chosen Option : 4

Q.6 3 m चौड़ी और 1.2 m गहरी एक नहर में पानी 10 km/h के वेग के साथ बह रहा है। कितना क्षेत्र (हेक्टेयर में) यह
8 आधे घंटे में सिंचाई करेगा, यदि 9 cm स्थिर पानी की जरूरत है?

- Ans
- 1. 20
 - 2. 21
 - 3. 20.4
 - 4. 18.8

Question ID : 9895805144
Chosen Option : 2

Q.6 यदि x, 36, 48 और 15 के चौथे अनुपातिक है, और 4.2, y, 9 और 13.5 अनुपात में हैं, तो y और x के बीच क्या अंतर है?

- Ans
- 1. 16.4
 - 2. 15.6
 - 3. 14.8
 - 4. 13.7

Question ID : 9895805137
Chosen Option : 2

Q.7 9 पुरुष और 12 महिलाएं 4 दिनों में एक काम पूरा कर सकते हैं, जबकि 3 पुरुष और 6 महिलाएं इसे 10 दिनों में पूरा कर सकते हैं। जिन दिनों में 15 महिलाएँ काम पूरा करेंगी वह है:

- Ans
- 1. 12
 - 2. 10
 - 3. 8
 - 4. 9

Question ID : 9895805149
Chosen Option : 3

Q.7 निम्नलिखित तालिका का अध्ययन करें और प्रश्न का उत्तर दें:
पांच शहरों से परीक्षा में शामिल हुए उम्मीदवारों की संख्या:

शहर	उम्मीदवारों की संख्या (हजार में)	उत्तीर्ण और अनुत्तीर्ण उम्मीदवारों का अनुपात
A	75	3 : 2
B	124	16 : 15
C	108	7 : 5
D	81	5 : 4
E	148	17 : 20

शहरों की संख्या, जिसमें उम्मीदवारों का उत्तीर्ण प्रतिशत 55% से अधिक है:

- Ans
- 1. 1
 - 2. 4
 - 3. 3
 - 4. 2

Question ID : 9895805151
Chosen Option : 3

Q.7 विभाजन विधि द्वारा दो संख्याओं के म. स. ज्ञात करने में, अंतिम भाजक 174 और भागफल क्रमशः 1, 7 और 2 हैं। यदि दो संख्याओं का योग 11 से विभाजित किया जाता है, तो शेषफल है:

- Ans
- 1. 8
 - 2. 7

✓ 3. 2

✗ 4. 1

Question ID : 9895805128

Chosen Option : 2

Q.7 एक दुकानदार एक सामग्री के चिह्नित मूल्य पर 20% की छूट देता है और फिर भी 28% का लाभ कमाता है। यदि वह इसे चिह्नित मूल्य पर 12.5% छूट पर बेचता है, तो उसका लाभ प्रतिशत है:

Ans ✗ 1. 36

✗ 2. 20.5

✓ 3. 40

✗ 4. 24.6

Question ID : 9895805133

Chosen Option : 4

Q.7 एक वृत्ताकार पार्क का क्षेत्रफल त्रिकोणीय क्षेत्र के क्षेत्रफल का 3π है, जिसमें भुजाएं 20m, 20m और 24m हैं। वृत्ताकार पार्क की (पूर्णांक के निकट) परिधि क्या है?

Ans ✓ 1. 151

✗ 2. 162

✗ 3. 156

✗ 4. 153

Question ID : 9895805143

Chosen Option : 3

Q.7 A किसी कार्य का $33\frac{1}{3}\%$ 5 दिनों में पूरा कर सकता है और B उसी कार्य का 40% 10 दिनों में पूरा कर सकता है। वे 5 दिनों के लिए एक साथ काम करते हैं और फिर B ने काम छोड़ दिया। A अकेला शेष कार्य को कितने समय में पूरा करेगा?

Ans ✓ 1. 7 दिन

✗ 2. 5 दिन

✗ 3. $7\frac{1}{2}$ दिन

✗ 4. $5\frac{1}{2}$ दिन

Question ID : 9895805148

Chosen Option : 3

Section : English Language

Q.1 Select the most appropriate option to substitute the underlined segment in the given sentence. If there is no need to substitute it, select No improvement.

The Constitution of India was prepared after a thorough study of constitutions of various countries.

Ans ✗ 1. in a thorough

✗ 2. with a thorough

✗ 3. No improvement

✓ 4. before a thorough

Question ID : 9895804570

Chosen Option : --

Q.2 Select the antonym of the given word.

MAJOR

- Ans
- 1. Powerless
 - 2. Minor
 - 3. Significant
 - 4. Leading

Question ID : 9895804583
Chosen Option : --

Q.3 Select the most appropriate option to fill in the blank.

_____ you hurry up, you will be late.

- Ans
- 1. Since
 - 2. Although
 - 3. If
 - 4. Unless

Question ID : 9895804573
Chosen Option : --

Q.4 Select the correctly spelt word.

- Ans
- 1. Clearence
 - 2. Clarence
 - 3. Cleerance
 - 4. Clearance

Question ID : 9895804590
Chosen Option : --

Q.5 Select the correctly spelt word.

- Ans
- 1. Evaluasion
 - 2. Eveluasion
 - 3. Evaluetion
 - 4. Evaluation

Question ID : 9895804591
Chosen Option : --

Q.6 Select the most appropriate option to substitute the underlined segment in the given sentence. If there is no need to substitute it, select No improvement.

The terrain of India is make of mountains, plateaus and plains.

- Ans
- 1. No improvement
 - 2. is making of
 - 3. is makes of
 - 4. is made of

Q.7 Select the word which means the same as the group of words given.

One who does not drink alcohol.

- Ans
- 1. vegetarian
 - 2. faithful
 - 3. teetotaler
 - 4. religious

Q.8 Select the option that means the same as the given idiom.

To keep one's fingers crossed

- Ans
- 1. To be frightened
 - 2. To wish for the best
 - 3. To try very hard
 - 4. To be very happy

Comprehension:

In the following passage some words have been deleted. Fill in the blanks with the help of the alternatives given.

The sky was always a deep sapphire blue. The snow was hard and only by cutting steps in (1) _____ we were able to walk. A false move would have been (2) _____. Stopping at every step, (3) _____ on our axes, we tried to (4) _____ down our hearts, which were (5) _____ as though they would burst.

SubQuestion No : 9

Q.9 Select the most appropriate option that will fill in the blank number 1.

- Ans
- 1. this
 - 2. them
 - 3. it
 - 4. that

Comprehension:

In the following passage some words have been deleted. Fill in the blanks with the help of the alternatives given.

The sky was always a deep sapphire blue. The snow was hard and only by cutting steps in (1) _____ we were able to walk. A false move would have been (2) _____. Stopping at every step, (3) _____ on our axes, we tried to (4) _____ down our hearts, which were (5) _____ as though they would burst.

SubQuestion No : 10

Q.1
0 Select the most appropriate option that will fill in the blank number 2.

- Ans
- 1. fatal
 - 2. danger
 - 3. final
 - 4. disaster

Question ID : 9895804576
Chosen Option : --

Comprehension:

In the following passage some words have been deleted. Fill in the blanks with the help of the alternatives given.

The sky was always a deep sapphire blue. The snow was hard and only by cutting steps in (1) _____ we were able to walk. A false move would have been (2) _____. Stopping at every step, (3) _____ on our axes, we tried to (4) _____ down our hearts, which were (5) _____ as though they would burst.

SubQuestion No : 11

Q.1
1 Select the most appropriate option that will fill in the blank number 3.

- Ans
- 1. leaned
 - 2. lean
 - 3. leaning
 - 4. leans

Question ID : 9895804577
Chosen Option : --

Comprehension:

In the following passage some words have been deleted. Fill in the blanks with the help of the alternatives given.

The sky was always a deep sapphire blue. The snow was hard and only by cutting steps in (1) _____ we were able to walk. A false move would have been (2) _____. Stopping at every step, (3) _____ on our axes, we tried to (4) _____ down our hearts, which were (5) _____ as though they would burst.

SubQuestion No : 12

Q.1
2

Select the most appropriate option that will fill in the blank number 4.

- Ans
- 1. calm
 - 2. pacify
 - 3. compose
 - 4. soothe

Question ID : 9895804578
Chosen Option : --

Comprehension:

In the following passage some words have been deleted. Fill in the blanks with the help of the alternatives given.

The sky was always a deep sapphire blue. The snow was hard and only by cutting steps in (1) _____ we were able to walk. A false move would have been (2) _____. Stopping at every step, (3) _____ on our axes, we tried to (4) _____ down our hearts, which were (5) _____ as though they would burst.

SubQuestion No : 13

Q.1
3 Select the most appropriate option that will fill in the blank number 5.

- Ans
- 1. moving
 - 2. thrashing
 - 3. crushing
 - 4. thumping

Question ID : 9895804579
Chosen Option : --

Q.1
4 Select the synonym of the given word.

RARELY

- Ans
- 1. Often
 - 2. Frequently
 - 3. Usually
 - 4. Seldom

Question ID : 9895804580
Chosen Option : --

Q.1
5 From the given options, identify the segment in the sentence which contains the grammatical error.

He is a young man about twenty-five years but very learned.

- Ans
- 1. but very learned.
 - 2. about twenty-five years
 - 3. a young man
 - 4. He is

Question ID : 9895804567

Chosen Option : --

Q.1
6 Select the most appropriate option to fill in the blank.

I wish to travel the whole world, but I _____ afford it.

- Ans
- 1. won't
 - 2. shouldn't
 - 3. can't
 - 4. wouldn't

Question ID : 9895804572

Chosen Option : --

Q.1
7 From the given options, identify the segment in the sentence which contains the grammatical error:

My sister tried to tempt me with sweets so that I ought not tell our parents about the vase she broke.

- Ans
- 1. ought not tell
 - 2. with sweets
 - 3. tried to tempt me
 - 4. about the vase

Question ID : 9895804568

Chosen Option : --

Q.1
8 Select the synonym of the given word.

ANNUAL

- Ans
- 1. Basic
 - 2. Yearly
 - 3. Timely
 - 4. Routine

Question ID : 9895804581

Chosen Option : --

Q.1
9 Select the most appropriate option to substitute the underlined segment in the given sentence. If there is no need to substitute it, select No improvement.

Much of the people in the train were asleep at the time of the accident.

- Ans
- 1. No improvement
 - 2. More of the people
 - 3. Little of the people
 - 4. Most of the people

Question ID : 9895804571

Chosen Option : --

Q.2
0 Select the most appropriate word to fill in the blank.

Fortunately, only a few _____ were hurt in the train accident.

Ans

- 1. vendors
- 2. passengers
- 3. customers
- 4. clients

Question ID : 9895804585
Chosen Option : --

Q.2
1 Select the word which means the same as the group of words given.

One who cannot read or write.

- Ans
- 1. illegible
 - 2. illiterate
 - 3. ignorant
 - 4. ignoble

Question ID : 9895804589
Chosen Option : --

Q.2
2 From the given options, identify the segment in the sentence which contains the grammatical error.

I know the most easiest way to solve this problem.

- Ans
- 1. most easiest
 - 2. I know
 - 3. to solve
 - 4. this problem

Question ID : 9895804566
Chosen Option : --

Q.2
3 Select the option that means the same as the given idiom.

State-of-the-art

- Ans
- 1. Scientific
 - 2. Most advanced
 - 3. Very large
 - 4. Creatively made

Question ID : 9895804587
Chosen Option : --

Q.2
4 Select the most appropriate word to fill in the blank.

He is six feet _____.

- Ans
- 1. long
 - 2. tall
 - 3. high
 - 4. short

Question ID : 9895804584

Chosen Option : --

Q.2 Select the antonym of the given word.

URBAN

- Ans
- 1. Rural
 - 2. Developed
 - 3. Modern
 - 4. Backward

Question ID : 9895804582

Chosen Option : --

Section : Hindi Language

Q.1 निम्नलिखित में से उस विकल्प का चयन करें जो 'घोड़े बेचकर सोना' मुहावरे का अर्थ व्यक्त करता है।

- Ans
- 1. निश्चिंत होकर सोना
 - 2. हलकी नींद में सोना
 - 3. घोड़े बेचना
 - 4. घोड़े बेचकर सोना खरीदना

Question ID : 9895804923

Chosen Option : 1

Q.2 दिए गए वाक्य का वह भाग ज्ञात करें जिसमें कोई त्रुटि है।

भारत इक्कीसवीं सदियों में बेरोजगारी और गरीबी जैसी समस्याओं से मुक्ति पा सकेगा।

- Ans
- 1. मुक्ति पा सकेगा।
 - 2. जैसी समस्याओं से
 - 3. बेरोजगारी और गरीबी
 - 4. भारत इक्कीसवीं सदियों में

Question ID : 9895804904

Chosen Option : 4

Q.3 दिए गए वाक्य में रेखांकित खंड को प्रतिस्थापित करने के लिए सबसे उपयुक्त विकल्प का चयन करें।

छुट्टी का घंटा बजते ही, बच्चों के चेहरों से खिलखिलाहट आ जाती है।

- Ans
- 1. बच्चों के चेहरों पर
 - 2. बच्चों के चेहरे को
 - 3. बच्चों के चेहरे ने
 - 4. बच्चों के चेहरों को

Question ID : 9895804905

Chosen Option : 1

Q.4

दिये गये वाक्यांश के लिए एक शब्द दीजिये।

जो आँखों के सामने न हो

- Ans
- 1. अपरोक्ष
 - 2. समक्ष
 - 3. प्रत्यक्ष
 - 4. परोक्ष

Question ID : 9895804924
Chosen Option : 1

Q.5 दिए गए वाक्य का वह भाग ज्ञात करें जिसमें कोई त्रुटि है।

संवेदना के बिना कोई भाषा जीवंत नहीं हो सकता।

- Ans
- 1. हो सकता।
 - 2. कोई भाषा
 - 3. संवेदना के बिना
 - 4. जीवंत नहीं

Question ID : 9895804903
Chosen Option : 1

Q.6 दिए गए वाक्य का वह भाग ज्ञात करें जिसमें कोई त्रुटि है।

आत्मा को स्वस्थ रखने के लिए शरीर का स्वस्थ होनी अनिवार्य है।

- Ans
- 1. अनिवार्य है।
 - 2. आत्मा को
 - 3. स्वस्थ रखने के लिए
 - 4. शरीर का स्वस्थ होनी

Question ID : 9895804902
Chosen Option : 4

Q.7 दिए गए शब्द के पर्यायवाची शब्द का चयन करें।

कमर

- Ans
- 1. कंधा
 - 2. पैर
 - 3. हाथ
 - 4. कटि

Question ID : 9895804920
Chosen Option : 4

Q.8

दिए गए शब्द के पर्यायवाची शब्द का चयन करें।

पल

- Ans
- 1. क्षण
 - 2. दिन
 - 3. रात
 - 4. मन

Question ID : 9895804921
Chosen Option : 1

Q.9 निम्नलिखित में से उस विकल्प का चयन करें जो 'आस्तीन का साँप' मुहावरे का अर्थ व्यक्त करता है।

- Ans
- 1. आस्तीन में साँप पालना
 - 2. सच्चा मित्र
 - 3. आस्तीन से साँप निकालना
 - 4. धोखेबाज मित्र

Question ID : 9895804922
Chosen Option : 4

Q.1
0 दिए गए शब्द का विलोम चुनें।

आधुनिक

- Ans
- 1. परलोक
 - 2. अधुनातन
 - 3. प्राचीन
 - 4. इहलोक

Question ID : 9895804918
Chosen Option : 3

Q.1
1 सही वर्तनी वाले शब्द का चयन करें।

- Ans
- 1. स्थावार
 - 2. स्थाबर
 - 3. सथावर
 - 4. स्थावर

Question ID : 9895804926
Chosen Option : 4

Q.1
2 रिक्त स्थान को भरने के लिए उपयुक्त शब्द का चयन करें।

बिजली _____ पर बारिश नहीं हुई।

- Ans
- 1. जागी
 - 2. कड़की

3. भड़की

4. नाची

Question ID : 9895804911
Chosen Option : 2

Q.1
3 रिक्त स्थान को भरने के लिए उपयुक्त शब्द का चयन करें।

कुर्सी के _____ मेरी कलम गिर गई।

Ans 1. नीचे

2. अंदर

3. दूर

4. भीतर

Question ID : 9895804908
Chosen Option : 1

Q.1
4 सही वर्तनी वाले शब्द का चयन करें।

Ans 1. प्रसाद

2. प्रसद

3. परसाद

4. प्रासद

Question ID : 9895804927
Chosen Option : 1

Q.1
5 रिक्त स्थान को भरने के लिए उपयुक्त शब्द का चयन करें।

यही मेरी और _____ परिवार की कामना है।

Ans 1. इसने

2. मेरे

3. हमारी

4. अपने

Question ID : 9895804910
Chosen Option : 2

Q.1
6 रिक्त स्थान को भरने के लिए उपयुक्त शब्द का चयन करें।

वह _____ तेज भागता है।

Ans 1. आपको

2. तुमको

3. सबसे

4. मुझे

Question ID : 9895804909
Chosen Option : 3

Q.1
7 दिये गये वाक्यांश के लिए एक शब्द दीजिये।

जो कभी न मरे

- Ans
- 1. अमर
 - 2. अजर
 - 3. आमरण
 - 4. नजर

Question ID : 9895804925
Chosen Option : 1

Comprehension:

निम्नलिखित गद्यांश के रिक्त स्थानों की पूर्ति गद्यांश के नीचे दिए गए प्रश्नों के अनुसार कीजिए-

जननी और जन्मभूमि _____ (1) हैं। _____ (2) हमें जन्म देती है और मातृभूमि अपने अन्न-जल से हमारा पालन-पोषण करती है। इसीलिए माँ के ऋण से _____ (3) होना संभव नहीं है। धरती की _____ (4) में लोट-पोट कर हम बड़े होते हैं। तभी तो कहा गया है, जननी और जन्मभूमि _____ (5) से भी श्रेष्ठ है।

SubQuestion No : 18

Q.1
8 गद्यांश में संकेतित रिक्त स्थान (1) के लिए उपयुक्त शब्द होगा।

- Ans
- 1. तुच्छ
 - 2. उत्तम
 - 3. महान
 - 4. हीन

Question ID : 9895804913
Chosen Option : 3

Comprehension:

निम्नलिखित गद्यांश के रिक्त स्थानों की पूर्ति गद्यांश के नीचे दिए गए प्रश्नों के अनुसार कीजिए-

जननी और जन्मभूमि _____ (1) हैं। _____ (2) हमें जन्म देती है और मातृभूमि अपने अन्न-जल से हमारा पालन-पोषण करती है। इसीलिए माँ के ऋण से _____ (3) होना संभव नहीं है। धरती की _____ (4) में लोट-पोट कर हम बड़े होते हैं। तभी तो कहा गया है, जननी और जन्मभूमि _____ (5) से भी श्रेष्ठ है।

SubQuestion No : 19

Q.1 9 गद्यांश में संकेतित रिक्त स्थान (2) के लिए उपयुक्त शब्द होगा।

- Ans
- 1. नदी
 - 2. धरती
 - 3. माता
 - 4. स्त्री

Question ID : 9895804914
Chosen Option : 3

Comprehension:

निम्नलिखित गद्यांश के रिक्त स्थानों की पूर्ति गद्यांश के नीचे दिए गए प्रश्नों के अनुसार कीजिए-

जननी और जन्मभूमि _____ (1) हैं। _____ (2) हमें जन्म देती है और मातृभूमि अपने अन्न-जल से हमारा पालन-पोषण करती है। इसीलिए माँ के ऋण से _____ (3) होना संभव नहीं है। धरती की _____ (4) में लोट-पोट कर हम बड़े होते हैं। तभी तो कहा गया है, जननी और जन्मभूमि _____ (5) से भी श्रेष्ठ है।

SubQuestion No : 20

Q.2 0 गद्यांश में संकेतित रिक्त स्थान (3) के लिए उपयुक्त शब्द होगा।

- Ans
- 1. कर्जदार
 - 2. उत्तीर्ण
 - 3. उऋण
 - 4. ऋणी

Question ID : 9895804915
Chosen Option : 3

Comprehension:

निम्नलिखित गद्यांश के रिक्त स्थानों की पूर्ति गद्यांश के नीचे दिए गए प्रश्नों के अनुसार कीजिए-

जननी और जन्मभूमि _____ (1) हैं। _____ (2) हमें जन्म देती है और मातृभूमि अपने अन्न-जल से हमारा पालन-पोषण करती है। इसीलिए माँ के ऋण से _____ (3) होना संभव नहीं है। धरती की _____ (4) में लोट-पोट कर हम बड़े होते हैं। तभी तो कहा गया है, जननी और जन्मभूमि _____ (5) से भी श्रेष्ठ है।

SubQuestion No : 21

Q.2
1 गद्यांश में संकेतित रिक्त स्थान (4) के लिए उपयुक्त शब्द होगा।

- Ans
- 1. रज
 - 2. मकरंद
 - 3. रजत
 - 4. पराग

Question ID : 9895804916

Chosen Option : 1

Comprehension:

निम्नलिखित गद्यांश के रिक्त स्थानों की पूर्ति गद्यांश के नीचे दिए गए प्रश्नों के अनुसार कीजिए-

जननी और जन्मभूमि _____ (1) हैं। _____ (2) हमें जन्म देती है और मातृभूमि अपने अन्न-जल से हमारा पालन-पोषण करती है। इसीलिए माँ के ऋण से _____ (3) होना संभव नहीं है। धरती की _____ (4) में लोट-पोट कर हम बड़े होते हैं। तभी तो कहा गया है, जननी और जन्मभूमि _____ (5) से भी श्रेष्ठ है।

SubQuestion No : 22

Q.2
2 गद्यांश में संकेतित रिक्त स्थान (5) के लिए उपयुक्त शब्द होगा।

- Ans
- 1. स्वर्ग
 - 2. आकाश
 - 3. पृथ्वी
 - 4. सूर्य

Question ID : 9895804917
Chosen Option : 1

Q.2
3 दिए गए शब्द का विलोम चुनें।

निःस्वार्थ

- Ans
- 1. स्वार्थ
 - 2. अंतरात्मा
 - 3. समर्थ
 - 4. परोपकार

Question ID : 9895804919
Chosen Option : 1

Q.2
4 दिए गए वाक्य में रेखांकित खंड को प्रतिस्थापित करने के लिए सबसे उपयुक्त विकल्प का चयन करें।

दिल्ली से मुंबई आने वाला ट्रेन दो घंटे की देरी से आएगी।

- Ans
- 1. आने वाला ट्रेन
 - 2. आने वाली ट्रेन
 - 3. आनी वाला ट्रेन
 - 4. आना वाली ट्रेन

Question ID : 9895804907
Chosen Option : 2

Q.2
5 दिए गए वाक्य में रेखांकित खंड को प्रतिस्थापित करने के लिए सबसे उपयुक्त विकल्प का चयन करें।

उसे पक्का विश्वास था कि बड़े व्यक्ति ने कोई अपराध किया है।

- Ans
- 1. पक्के विश्वास था
 - 2. पक्का विश्वास था
 - 3. पक्की विश्वास था
 - 4. पक्का विश्वास थे

Question ID : 9895804906
Chosen Option : 2