

Constable (GD) in CAPFs, NIA, SSF and Rifleman (GD) in Assam Rifles Examination, 2018

Roll No. :	GovtJobsAlert.In
Registration No.	GovtJobsAlert.In
Name :	GovtJobsAlert.In
Exam Venue :	GovtJobsAlert.In
Exam Time :	12:30 PM - 2:00 PM
Exam Date :	18/02/2019

Section : General Section

Q.1 आठ मित्र A, B, C, D, E, F, G और H दोपहर के भोजन के लिए एक वृत्ताकार मेज के चारों ओर एक-दूसरे के आमने-सामने बैठे हैं। A, D के सामने है और B के दाएँ ओर से तीसरा है। G, A और F के बीच में है। H, A के दाएँ ओर है। E, C और D के बीच में है।

B के सामने कौन बैठा है?

- Ans
- 1. F
 - 2. E
 - 3. C
 - 4. H

Question ID : 9895803809
Chosen Option : 1

Q.2 उस विकल्प का चयन करें जो तीसरे पद से उसी प्रकार से संबंधित है जिस प्रकार दूसरा पद पहले पद से संबंधित है।
मत्स्यविज्ञान : मछलियाँ :: हेमटालजी :

- Ans
- 1. हड्डी
 - 2. रक्त (ब्लड)
 - 3. स्नायु
 - 4. ऊतक

Question ID : 9895803803
Chosen Option : 4

Q.3 उस विकल्प का चयन करें जो दी गई श्रृंखला में प्रश्न चिह्न (?) के स्थान पर आएगा।
102, 98, 82, 46, ?

- Ans
- 1. -20
 - 2. 18
 - 3. -18
 - 4. 20

Question ID : 9895803813
Chosen Option : 3

Q.4 उस विकल्प का चयन करें जो दी गई श्रृंखला में प्रश्न चिह्न (?) के स्थान पर आएगा।
5, 17, 34, 61, ?

- Ans
- ✓ 1. 103
 - ✗ 2. 115
 - ✗ 3. 105
 - ✗ 4. 125

Question ID : 9895803814
Chosen Option : 1

Q.5 दिए गए विकल्पों में से असंगत का चयन करें।

- Ans
- ✓ 1. गुर्दा
 - ✗ 2. कान
 - ✗ 3. नाक
 - ✗ 4. आंख

Question ID : 9895803802
Chosen Option : 1

Q.6 पैटर्न के साथ एक वर्गाकार पारदर्शी कागज पत्रक दिया गया है। पारदर्शी कागज पत्रक को बिंदुकित रेखा पर मोड़े जाने पर पैटर्न कैसा दिखाई देगा?



- Ans
- ✗ 1.
 - ✗ 2.
 - ✓ 3.
 - ✗ 4.

Question ID : 9895803823
Chosen Option : 3

Q.7

नीचे दिए गए कथनों के बाद दो निष्कर्ष । और ॥ दिए गए हैं । यह मानते हुए कि कथनों में दी गई जानकारी सत्य है, भले ही वह सर्वज्ञात तथ्यों से भिन्न प्रतीत होती हो और यह निर्णय करें कि कौन सा / से निष्कर्ष तार्किक और निश्चित रूप से कथन में दी गई जानकारी का अनुसरण करता है / करते हैं।

कथन:

- 1) कुछ खाद अमोनिया हैं।
- 2) कुछ अमोनिया पोटाश हैं।

निष्कर्ष:

- I. कुछ अमोनिया खाद हैं।
- II. कुछ पोटाश अमोनिया हैं।

Ans

1. न तो निष्कर्ष । और न ही निष्कर्ष ॥ अनुसरण करता है।
2. केवल निष्कर्ष । अनुसरण करता है।
3. केवल निष्कर्ष ॥ अनुसरण करता है।
4. दोनों ही निष्कर्ष अनुसरण करते हैं।

Question ID : 9895803812

Chosen Option : 4

Q.8 उस विकल्प का चयन करें जो तीसरे पद से उसी प्रकार से संबंधित है जिस प्रकार दूसरा पद पहले पद से संबंधित है।
प्रसिध्द : विख्यात :: प्रतिबंध : ?

Ans

1. अनुमति देना
2. निषेध
3. पैकेट
4. उपयोग

Question ID : 9895803804

Chosen Option : 2

Q.9 उस विकल्प का चयन करें जो दिए गए चित्र की दर्पण छवि से सर्वाधिक मेल खाता है।



Ans

- 1.
- 2.
- 3.



Question ID : 9895803822

Chosen Option : 3

Q.1 निम्नलिखित समीकरण को सही करने के लिए विकल्पों में दिए गए किन दो चिहनों को परस्पर बदला जाना चाहिए?

0 $25 + 25 \times 25 - 25 + 25 = -599$

Ans 1. + और ×

2. × और ÷

3. - और ×

4. - और ÷

Question ID : 9895803818

Chosen Option : 2

Q.1 सात मित्र O, P, Q, R, S, T और U एक पंक्ति में बैठे फिल्म देख रहे हैं। P एक अंतिम छोर पर बैठा हुआ है। Q, S के ठीक बाएँ ओर बैठा है। P, T के दाएँ से दूसरे स्थान पर बैठा है। U किसी भी अंतिम छोर पर नहीं बैठा है। O, R और T के बीच में बैठा है।

बिल्कुल बाएँ छोर पर कौन बैठा है?

Ans 1. T

2. Q

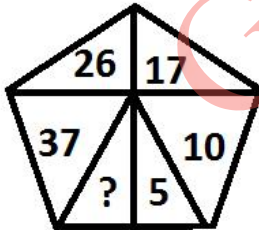
3. P

4. R

Question ID : 9895803808

Chosen Option : 4

Q.1 उस विकल्प का चयन करें जो दिए गए पैटर्न में प्रश्न चिह्न (?) के स्थान पर आएगा।



Ans 1. 3

2. 13

3. 50

4. 49

Question ID : 9895803817

Chosen Option : 3

Q.1

3 एक निश्चित कूट भाषा में, DIG को 20 के रूप में लिखा जाता है। उसी कूट भाषा में FEED को कैसे लिखा जाएगा?

- Ans
- 1. 60
 - 2. 90
 - 3. 20
 - 4. 80

Question ID : 9895803807
Chosen Option : 3

Q.1 J, K, L, M, N और O छह शिक्षक हैं। उनमें से प्रत्येक हिंदी, अंग्रेजी, गणित, विज्ञान, सामाजिक विज्ञान और कला में से एक अलग विषय पढ़ाता है, जरूरी नहीं कि उसी क्रम में हो। उनमें से प्रत्येक सोमवार से शनिवार तक केवल एक दिन ही पढ़ाता है, जरूरी नहीं कि उसी क्रम में हो। J बुधवार को विज्ञान पढ़ाता है। O, J के बाद दूसरे दिन गणित पढ़ाता है। K सप्ताह के पहले दिन पढ़ाता है, लेकिन न तो हिंदी पढ़ाता है और न ही अंग्रेजी। M, N से पहले अंग्रेजी पढ़ाता है और L, J से पहले कला पढ़ाता है।

शनिवार को कौन सा विषय पढ़ाया जाता है?

- Ans
- 1. सामाजिक विज्ञान
 - 2. अंग्रेजी
 - 3. हिंदी
 - 4. विज्ञान

Question ID : 9895803810
Chosen Option : 1

Q.1 विकल्पों में से उस आकृति का चयन करें जिसमें 'X' से चिह्नित आकृति समाहित है। (घुमाने की अनुमति नहीं है)



- Ans
- 1.
 - 2.
 - 3.
 - 4.

Question ID : 9895803821
Chosen Option : 3

Q.1 दिए गए विकल्पों में से असंगत का चयन करें।

- Ans
- 1. GIK

2. DKL

3. FIL

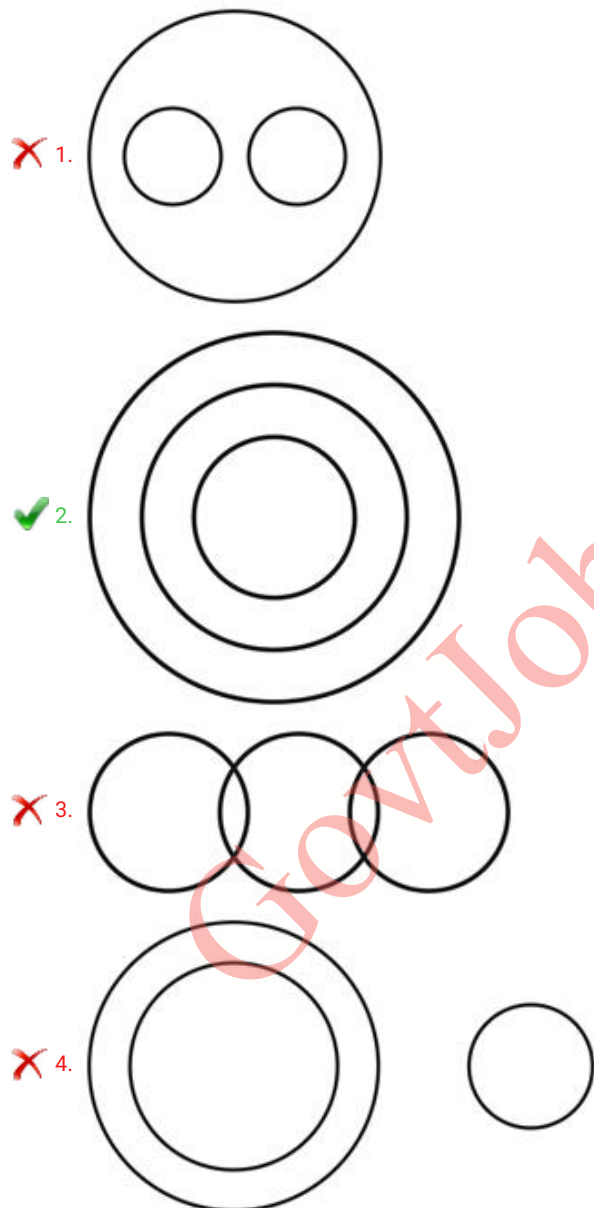
4. KJL

Question ID : 9895803801
Chosen Option : 3

Q.1 निम्नलिखित में से कौन सा वेन रेखाचित्र दिए गए वर्ग के बीच के संबंध को सही दर्शाता है?

पैरा, शब्द, वाक्य

Ans



Question ID : 9895803824
Chosen Option : 1

Q.1 दिए गए विकल्पों में से असंगत संख्या का चयन करें।

Ans 1. 26

✓ 2. 97

✗ 3. 52

✗ 4. 65

Question ID : 9895803816
Chosen Option : 2

Q.1 9 उस विकल्प का चयन करें जो तीसरी संख्या से उसी प्रकार से संबंधित है जिस प्रकार दूसरी संख्या पहली संख्या से संबंधित है।

36 : 324 :: 11 : ?

Ans ✗ 1. 221

✗ 2. 259

✓ 3. 22

✗ 4. 121

Question ID : 9895803815
Chosen Option : 1

Q.2 0 उस विकल्प का चयन करें जो तीसरे पद से उसी प्रकार से संबंधित है जिस प्रकार दूसरा पद पहले पद से संबंधित है।
LEVEL : MFVDK :: FENCE:?

Ans ✗ 1. FGND

✗ 2. GFND

✓ 3. GFND

✗ 4. FGNBD

Question ID : 9895803805
Chosen Option : 3

Q.2 1 नीचे दिए गए कथनों के बाद दो निष्कर्ष I और II दिए गए हैं। यह मानते हुए कि कथनों में दी गई जानकारी सत्य है, भले ही वह सर्वज्ञात तथ्यों से भिन्न प्रतीत होती हो और यह निर्णय करें कि कौन सा / से निष्कर्ष तार्किक और निश्चित रूप से कथन में दी गई जानकारी का अनुसरण करता है / करते हैं।

कथन:

- 1) सभी भेक मेंढक हैं।
- 2) सभी मेंढक सांप हैं।

निष्कर्ष:

- I. कुछ सांप भेक हैं।
- II. कुछ मेंढक भेक हैं।

Ans ✗ 1. केवल निष्कर्ष II अनुसरण करता है।

✗ 2. या तो निष्कर्ष I या निष्कर्ष II अनुसरण करता है।

✓ 3. दोनों ही निष्कर्ष अनुसरण करते हैं।

✗ 4. केवल निष्कर्ष I अनुसरण करता है।

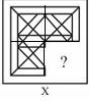
Question ID : 9895803811
Chosen Option : 4

Q.2 2 उस विकल्प का चयन करें जो दी गई श्रृंखला में प्रश्न चिह्न (?) के स्थान पर सही रूप में आएगा।
QFM, OHL, MJK, ?

- Ans
- ✓ 1. KLJ
 - ✗ 2. JKL
 - ✗ 3. KJL
 - ✗ 4. LKJ

Question ID : 9895803800
Chosen Option : 1

Q.2 दिए गए चार विकल्पों में से उस आकृति को चुनें, जिसे आकृति X के रिक्त स्थान में (बिना घुमाए) रखने पर पैटर्न पूरा हो जाएगा।

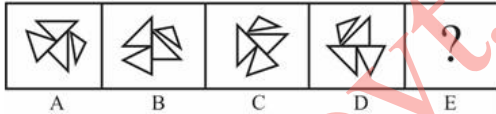


- Ans
- ✗ 1.
 - ✓ 2.
 - ✗ 3.
 - ✗ 4.

Question ID : 9895803820
Chosen Option : 2

Q.2 विकल्पों में से उस आकृति का चयन करें जो दी गई श्रृंखला में अगले स्थान पर आएगी।

Problem Fig.



- Ans
- ✓ 1.
 - ✗ 2.
 - ✗ 3.
 - ✗ 4.

Question ID : 9895803819
Chosen Option : 1

Q.2 एक निश्चित कूट भाषा में, ABOVE को ABEVO के रूप में लिखा जाता है। उसी कूट भाषा में QUESTION को कैसे लिखा जाएगा?

- Ans
- 1. USINVSIN
 - 2. EINQOSTU
 - 3. EINOQTSU
 - 4. EINOQSTU

Question ID : 9895803806
Chosen Option : 2

Q.2 निम्नलिखित में से क्या भारत के संविधान की विशेषता नहीं है?

- Ans
- 1. संघीयता
 - 2. मूलभूत अधिकार
 - 3. एकात्मक प्रणाली
 - 4. सत्ता का विभाजन

Question ID : 9895805370
Chosen Option : 4

Q.2 भारत में सर्वोच्च शांति काल वीरता पुरस्कार कौन सा है?

- Ans
- 1. परमवीर चक्र
 - 2. महावीर चक्र
 - 3. कीर्ति चक्र
 - 4. अशोक चक्र

Question ID : 9895805377
Chosen Option : 3

Q.2 "सत्रीया" एक नृत्य शैली है जिसकी उत्पत्ति भारत के _____ राज्य में हुई।

- Ans
- 1. कर्नाटक
 - 2. असम
 - 3. आंध्र प्रदेश
 - 4. तमिलनाडु

Question ID : 9895805381
Chosen Option : 1

Q.2 निम्नलिखित में से कौन सी नदी अरब सागर में जाके मिलती है?

- Ans
- 1. नर्मदा
 - 2. कावेरी
 - 3. गोदावरी
 - 4. कृष्णा

Question ID : 9895805363
Chosen Option : 3

Q.3
0 निर्वाचक (कॉन्स्टीट्युअंट) भा पहली बार _____ में मिली थी।

- Ans
- 1. 1946
 - 2. 1945
 - 3. 1948
 - 4. 1947

Question ID : 9895805372
Chosen Option : 3

Q.3
1 इयूरड कप किस खेल से संबंधित है?

- Ans
- 1. टेनिस
 - 2. फुटबॉल
 - 3. क्रिकेट
 - 4. हॉकी

Question ID : 9895805379
Chosen Option : 4

Q.3
2 हिमालय _____ पहाड़ों का एक उदाहरण है।

- Ans
- 1. परत
 - 2. खंड
 - 3. पठार
 - 4. ज्वालामुखी

Question ID : 9895805362
Chosen Option : 3

Q.3
3 राग 'मिया मल्हार' का सर्जन किसने किया था?

- Ans
- 1. मीरा बाई
 - 2. अमीर खुसरो

3. पंडित जसराज

4. तानसेन

Question ID : 9895805382
Chosen Option : 4

Q.3
4 कांगड़ा चित्रकला शैली (स्कूल ऑफ पेंटिंग) के संदर्भ में, निम्नलिखित में से कौन सा कथन सही है?

Ans 1. इसका विषय प्रकृति में शुष्क है

2.

उसमें गहरे लाल और काले रंग के साथ सशक्त रंगों का उपयोग होता है

3. इसका विकास समुद्रगुप्त के शासनकाल के दौरान हुआ था

4. यह वैष्णव परंपराओं से प्रेरित हुआ था

Question ID : 9895805360
Chosen Option : 1

Q.3
5 जब सरकार का कुल राजस्व, उधार को छोड़कर, नियोजित व्यय से कम है, तो इसे क्या कहा जाता है?

Ans 1. अंदाजपत्र न्यूनता

2. राजकोषीय घाटा

3. राजस्व घाटा

4. घाटा वित्तीयन

Question ID : 9895805373
Chosen Option : 4

Q.3
6 भक्ति संत, आण्डाल, निम्नलिखित धार्मिक संप्रदायों में से किससे संबंधित थे?

Ans 1. शैव

2. वैष्णव

3. बौद्ध

4. शक्ति

Question ID : 9895805361
Chosen Option : 1

Q.3
7 चावल की एक अनोखी किस्म, पोककल्ली, जो लवणता को बनाए रख सकती है, वह स्थानिक रूप से भारत के किस राज्य से है?

Ans 1. तेलंगाना

2. केरल

3. गोवा

4. आंध्र प्रदेश

Question ID : 9895805383
Chosen Option : 2

Q.3 'गांधार कला शैली (स्कूल ऑफ आर्ट)' _____ राजवंश के तहत विकसित हुई।

- Ans
- 1. कुषाण
 - 2. मौर्य
 - 3. नंद
 - 4. चोल

Question ID : 9895805359
Chosen Option : 2

Q.3 प्रजिबों (प्रोटिस्टा जीवों) द्वारा संचलन के लिए निम्न में से किस विशेषता का उपयोग किया जाता है?

- Ans
- 1. कशाभिका (फ्लेगेल्ला)
 - 2. काल्पनिक जिव (चिमेरा)
 - 3. क्षणभंगुरता (इफीमेरा)
 - 4. ऊर्ध्वहन्वस्थि (मेक्षीलिया)

Question ID : 9895805368
Chosen Option : 1

Q.4 भारत की जीडीपी की गणना के लिए कौन सी संस्था जिम्मेदार है?

- Ans
- 1. केंद्रीय सांख्यिकी कार्यालय
 - 2. भारतीय रिजर्व बैंक
 - 3. मुख्य आर्थिक सलाहकार
 - 4. वित्त मंत्रालय

Question ID : 9895805375
Chosen Option : 1

Q.4 एक यूकेरियोटिक कोशिका में एक नाभिक सहित झिल्ली (मेम्ब्रेन) से बंधे अंग होते हैं, जो कोशिकीय प्रक्रियाओं को _____ में कार्य करने में सहायक हैं।

- Ans
- 1. अलगाव
 - 2. समावेश
 - 3. विभाजन
 - 4. द्विभाजन

Question ID : 9895805367
Chosen Option : 2

Q.4
2 ओज़ोन रिक्तीकरण (डीप्लेशन) किस के पास सबसे ज्यादा होता है?

- Ans
- 1. महासागर
 - 2. भूमध्यरेखा
 - 3. कटिबंधों
 - 4. ध्रुवो

Question ID : 9895805366
Chosen Option : 1

Q.4
3 'भारत एक खोज - (द डिस्कवरी ऑफ इंडिया)' पुस्तक के लेखक कौन हैं?

- Ans
- 1. इंदिरा गांधी
 - 2. अटल बिहारी वाजपेयी
 - 3. महात्मा गांधी
 - 4. जवाहरलाल नेहरू

Question ID : 9895805378
Chosen Option : 4

Q.4
4 2011 की जनगणना के अनुसार, भारत में निम्नलिखित में से किस राज्य में जनसंख्या घनत्व सबसे कम है?

- Ans
- 1. छत्तीसगढ़
 - 2. अरुणाचल प्रदेश
 - 3. सिक्किम
 - 4. हिमाचल प्रदेश

Question ID : 9895805364
Chosen Option : 4

Q.4
5 बेडाक्विलाइन दवा को निम्नलिखित में से किस बीमारी के इलाज के लिए विकसित किया गया था?

- Ans
- 1. अस्थिसंधिसोथ (ऑस्टियोआर्थराइटिस)
 - 2. एमडीआर-टीबी
 - 3. तीव्र अधिश्वेत रक्तता (एक्यूट मायलोईड ल्यूकेमिया)
 - 4. हैज़ा

Question ID : 9895805376
Chosen Option : 1

Q.4
6 जब आप 1gm ताम्बा (कॉपर) पाउडर वाले चाइना डिश को गर्म करते हैं, तो पाउडर की सतह पर एक काला पदार्थ बनता है, इसका कारण क्या है?

Ans

- 1. उपचयन (ऑक्सीकरण)
- 2. कार्बनीकरण (जलकर कोयला हो जाना)
- 3. समुद्र जल से नमक को दूर करना (डीसेलिनीजेशन)
- 4. स्वचालितिकरण (ऑटोमाइजेशन)

Question ID : 9895805365
Chosen Option : 2

Q.4
7 "स्वच्छता स्वतंत्रता से अधिक महत्वपूर्ण है" - यह किसने कहा था?

- Ans
- 1. सुभाष चंद्र बोस
 - 2. जवाहरलाल नेहरू
 - 3. महात्मा गांधी
 - 4. सी राजगोपालाचारी

Question ID : 9895805369
Chosen Option : 3

Q.4
8 पहले आधुनिक ओलंपिक खेल कब आयोजित किए गए थे?

- Ans
- 1. 1935
 - 2. 1943
 - 3. 1921
 - 4. 1896

Question ID : 9895805380
Chosen Option : 2

Q.4
9 भारत सरकार द्वारा योजना आयोग किस वर्ष में स्थापित किया गया था?

- Ans
- 1. 1950
 - 2. 1949
 - 3. 1951
 - 4. 1948

Question ID : 9895805371
Chosen Option : 4

Q.5
0 जब ब्याज या मूलधन _____ अवधि के लिए अतिदेय (ओवरड्रय) हो जाता है तो ऋण (लोन) गैर-निष्पादित परिसंपत्ति (एनपीए) बन जाता है।

- Ans
- 1. 90 दिन
 - 2. 180 दिन

3. 365 दिन

4. 5 वर्ष

Question ID : 9895805374
Chosen Option : 4

Q.5 यदि एक संख्या का 40%, उस संख्या के एक चौथाई से 105 अधिक है, तो संख्या तथा संख्या के 35% में कितना अंतर होगा?

Ans 1. 455

2. 375

3. 495

4. 315

Question ID : 9895805672
Chosen Option : 1

Q.5 एक दुकानदार दो वस्तुएं बेचता है, जिनमें से एक को 10% लाभ पर ₹ 1100 में बेचता है और दूसरी को 10% हानि पर ₹ 900 में बेचता है। लाभ या हानि प्रतिशत क्या होगा?

Ans 1. ₹ 1000

2. 20% हानि

3. 20% लाभ

4. न लाभ न हानि

Question ID : 9895805674
Chosen Option : 2

Q.5 दो संख्याओं के महत्तम समापवर्तक तथा लघुत्तम समापवर्त्य का गुणनफल 216 है। यदि एक संख्या 12 है, तो इन दो संख्याओं का अनुपात क्या होगा?

Ans 1. 1 : 6

2. 2 : 3

3. 3 : 5

4. 1 : 2

Question ID : 9895805665
Chosen Option : 2

Q.5 यदि x का 30% और y का 40% समान हैं तो $y : x$ क्या होगा?

Ans 1. 3 : 4

2. 7 : 4

3. 4 : 3

4. 4 : 7

Question ID : 9895805677
Chosen Option : 3

Q.5 एक ठोस बेलन के आधार का व्यास 14 cm है और ऊंचाई 20 cm है। इसके दोनों छोरों से अर्धगोलाकार भाग निकालने पर मिले आकार का आयतन क्या होगा?

- Ans
1. $\frac{4312}{3} \text{ cm}^3$
2. $\frac{13552}{3} \text{ cm}^3$
3. $\frac{4928}{3} \text{ cm}^3$
4. $\frac{9240}{3} \text{ cm}^3$

Question ID : 9895805686
Chosen Option : 1

Q.5 14 अवलोकन 10, 11, 11, 12, 13, 14, 12, 13, 10, 12, 12,

14, 14 और 15 हैं। दिए गए अवलोकनों का माध्यक क्या है?

- Ans
1. 13
2. 14
3. 12
4. 10

Question ID : 9895805671
Chosen Option : 1

Q.5 नीचे दी गई तालिका विभिन्न कॉलेजों के विभिन्न पाठ्यक्रमों में

दाखिला लेने वाले छात्रों की संख्या दर्शाती है।

Colleges	Courses			
	B1	B2	B3	B4
C1	65	56	65	103
C2	68	58	71	112
C3	72	54	88	125
C4	76	52	75	120
C5	69	60	79	126

किस कॉलेज में प्रति कोर्स छात्रों की औसत संख्या सबसे अधिक है?

- Ans
1. C2
2. C3
3. C4
4. C5

Question ID : 9895805688
Chosen Option : 4

Q.5

8 एक ₹ 4000 की राशि को 10% की वार्षिक दर से साधारण ब्याज पर उधार दिया जाता है। 5 वर्ष का साधारण ब्याज, 3 वर्ष के साधारण ब्याज से कितना अधिक है?

- Ans
- ✓ 1. ₹ 800
 - ✗ 2. ₹ 600
 - ✗ 3. ₹ 1200
 - ✗ 4. ₹ 400

Question ID : 9895805678
Chosen Option : 1

Q.5 तालिका में 4 छात्रों के 5 विषयों के प्राप्तांक दिए हैं। प्रत्येक विषय के कुल अंक 100 हैं।

	Math	English	Hindi	Social Science	Science
S1	98	60	85	75	92
S2	97	65	80	80	90
S3	95	70	85	70	95
S4	96	62	70	80	90

छात्र S1 और S4 के औसत प्राप्तांकों का अंतर क्या है?

- Ans
- ✓ 1. 2.4
 - ✗ 2. 3.4
 - ✗ 3. 2
 - ✗ 4. 1.4

Question ID : 9895805689
Chosen Option : 1

Q.6 यदि एक 32 वर्ष के पुरुष को एक नए पुरुष से बदलते हैं, तो 42 पुरुषों की औसत आयु 1 वर्ष बढ़ जाती है। नए पुरुष की आयु क्या है?

- Ans
- ✓ 1. 74 वर्ष
 - ✗ 2. 73 वर्ष
 - ✗ 3. 72 वर्ष
 - ✗ 4. 75 वर्ष

Question ID : 9895805669
Chosen Option : 1

Q.6 P अकेला एक कार्य को 16 दिन में पूरा कर सकता है तथा Q अकेला समान कार्य को 20 दिन में पूरा कर सकता है।
1 P तथा Q मिलकर कार्य आरंभ करते हैं परंतु Q कार्य समाप्त होने से 7 दिन पहले कार्य छोड़ देता है। कुल कार्य कितने दिन में पूरा हो जाएगा।

- Ans
- ✗ 1. 9 दिन
 - ✗ 2. 18 दिन
 - ✗ 3. 14 दिन
 - ✓ 4. 12 दिन

Question ID : 9895805681

Chosen Option : 4

Q.6 एक राशि पर 25% का वार्षिक दर से एक वर्ष के साधारण ब्याज तथा चक्रवृद्धि ब्याज (ब्याज का संयोजन अर्धवार्षिक किया गया है) के मध्य अंतर ₹ 4375 है। मूलधन क्या होगा?

- Ans
- 1. ₹ 80000
 - 2. ₹ 75000
 - 3. ₹ 85000
 - 4. ₹ 280000

Question ID : 9895805679

Chosen Option : 3

Q.6 एक बैग में ₹ 785 के ₹ 2, ₹ 5 और ₹ 10 के सिक्के हैं। सिक्के 6 : 9 : 10 के अनुपात में हैं। बैग में ₹ 5 के कितने सिक्के हैं?

- Ans
- 1. 45
 - 2. 60
 - 3. 12
 - 4. 24

Question ID : 9895805675

Chosen Option : 2

Q.6 $100 \div 50 - 25 - 55$ का $\left(\frac{1}{3} \times \frac{11}{9}\right)$ का मान क्या है?

- Ans
- 1. $-\frac{1226}{27}$
 - 2. $-\frac{1321}{27}$
 - 3. $-\frac{1156}{27}$
 - 4. $-\frac{1382}{27}$

Question ID : 9895805666

Chosen Option : 1

Q.6 तीन घन जिनकी भुजा की माप 7 cm है, साथ - साथ जोड़े गए हैं। प्राप्त ठोस का पृष्ठीय क्षेत्रफल क्या होगा?

- Ans
- 1. 686 cm²
 - 2. 882 cm²
 - 3. 686 cm
 - 4. 882 cm

Question ID : 9895805685

Chosen Option : 2

Q.6

6 $28 \div (11 - 4) + 384 \div (15 + 16 \div 4 + 4)$ का मान क्या है?

- Ans
- 1. $\frac{524}{23}$
 - 2. $\frac{472}{23}$
 - 3. $\frac{512}{23}$
 - 4. $\frac{476}{23}$

Question ID : 9895805667
Chosen Option : 4

Q.6 एक ठोस खिलौना अर्धगोले पर रखे शंकु के आकार का है। शंकु की ऊंचाई 4 cm है तथा आधार का व्यास 6 cm है।
7 खिलौने का पृष्ठीय क्षेत्रफल क्या होगा?

- Ans
- 1. $\frac{726}{7} \text{ cm}^2$
 - 2. $\frac{660}{7} \text{ cm}^2$
 - 3. $\frac{528}{7} \text{ cm}^2$
 - 4. $\frac{66}{7} \text{ cm}^2$

Question ID : 9895805684
Chosen Option : 4

Q.6 यदि विजय 17.5 मी./से. की गति से यात्रा कर रहा है, तो 26 घंटे में विजय कितनी दूरी तय करेगा?
8

- Ans
- 1. 1638 कि.मी.
 - 2. 1474 कि.मी.
 - 3. 1562 कि.मी.
 - 4. 1572 कि.मी.

Question ID : 9895805682
Chosen Option : 1

Q.6 तीन व्यक्तियों A, B और C ने 3 : 4 : 5 में निवेश के साथ एक व्यापार शुरू किया। 4 महीने बाद B ने अपनी पूंजी का 50% धन निकाल लिया। वर्ष पूरा होने से 4 महीने पहले C ने अपनी पूंजी का 20% धन निकाल लिया। यदि उस वर्ष में कुल लाभ ₹ 31,000 हुआ तो लाभ में A का भाग ज्ञात करो।
9

- Ans
- 1. ₹ 7750
 - 2. ₹ 10330
 - 3. ₹ 9000
 - 4. ₹ 9300

Question ID : 9895805676
Chosen Option : 1

Q.7

0 P तथा Q की मासिक औसत आय ₹ 20000 है। Q तथा R की मासिक औसत आय ₹ 40000 है। R की मासिक आय P की मासिक आय से कितनी अधिक है?

- Ans 1. ₹ 40000
 2. ₹ 25000
 3. ₹ 20000
 4. ₹ 80000

Question ID : 9895805668
Chosen Option : 1

Q.7 राजू ने ₹ 15 प्रति ग्लास की दर से ग्लास खरीदे तथा ₹ 12 प्रति ग्लास की दर से उन्हें बेच दिया। 42 ग्लास बेचने पर हानि प्रतिशत क्या होगी?

- Ans 1. 20%
 2. 25%
 3. 33.33%
 4. 14.28%

Question ID : 9895805673
Chosen Option : 1

Q.7 नीचे दी गई तालिका विभिन्न कॉलेजों के विभिन्न पाठ्यक्रमों में दाखिला लेने वाले छात्रों की संख्या दर्शाती है।

Colleges	Courses			
	B1	B2	B3	B4
C1	65	56	65	103
C2	68	58	71	112
C3	72	54	88	125
C4	76	52	75	120
C5	69	60	79	126

प्रति कॉलेज कोर्स B2 में दाखिला लेने वाले छात्रों की औसत संख्या क्या है?

- Ans 1. 60
 2. 58
 3. 56
 4. 53

Question ID : 9895805687
Chosen Option : 3

Q.7 सूरज 18 कि.मी. की एक दूरी को 12 मिनट में तय करता है। यदि उसकी गति 30 कि.मी./घंटा कम हो जाती है, तो सूरज समान दूरी को तय करने में कितना समय लेगा?

- Ans 1. 20 मिनट
 2. 12 मिनट

3. 16 मिनट

4. 18 मिनट

Question ID : 9895805683

Chosen Option : 4

Q.7 अनिल, दिनेश तथा दीपक मिलकर एक कार्य को 40 दिन में पूरा कर सकते हैं। अनिल तथा दिनेश मिलकर समान कार्य को 50 दिन में पूरा कर सकते हैं। दीपक अकेला समान कार्य को कितने दिन में पूरा कर सकता है?

Ans 1. 90 दिन

2. 75 दिन

3. 200 दिन

4. 150 दिन

Question ID : 9895805680

Chosen Option : 3

Q.7 एक वस्तु का अंकित मूल्य ₹ 8840 है। यदि वस्तु पर 35% की छूट दी गई है, तो वस्तु का विक्रय मूल्य क्या होगा?

Ans 1. ₹ 5746

2. ₹ 6324

3. ₹ 6548

4. ₹ 6176

Question ID : 9895805670

Chosen Option : 1

Section : English Language

Q.1 From the given options, identify the segment in the sentence which contains the grammatical error.

Having worked for the whole day, you shall have taken some rest and begun again.

Ans 1. you should have taken

2. the whole day

3. Having worked for

4. some rest and begun again

Question ID : 9895805204

Chosen Option : --

Q.2 Select the most appropriate option to fill in the blank.

If an individual keeps his fingers crossed he _____ for the best.

Ans 1. hopes

2. suspects

3. reacts

4. responds

Question ID : 9895805210
Chosen Option : --

Q.3 Select the word which means the same as the group of words given.

The method and practice of teaching

- Ans 1. Methodology
 2. Philosophy
 3. Pedagogy
 4. Psychology

Question ID : 9895805224
Chosen Option : --

Q.4 Select the most appropriate word to fill in the blank.

India's Republic Day Parade had, among the main _____, an all-women's marching contingent.

- Ans 1. spectacle
 2. demonstrations
 3. displays
 4. attractions

Question ID : 9895805229
Chosen Option : --

Q.5 Select the most appropriate option to fill in the blank.

Sometimes it is necessary for an author to know what is going on in the minds of his _____.

- Ans 1. characters
 2. listeners
 3. viewers
 4. audience

Question ID : 9895805228
Chosen Option : --

Q.6 Select the most appropriate option to substitute the underlined segment in the given sentence. If there is no need to substitute it, select No improvement.

The river is flooded and it has overflow its banks.

- Ans 1. No improvement.
 2. it has overflow its banks.
 3. it overflow its banks.
 4. it overflowing its banks.

Question ID : 9895805208
Chosen Option : --

Q.7 Select the word which means the same as the group of words given.

A person who presents a radio/television programme

- Ans
- 1. Alchemist
 - 2. Anchor
 - 3. Reporter
 - 4. Anarchist

Question ID : 9895805225
Chosen Option : --

Q.8 Select the synonym of the given word.

MITIGATE

- Ans
- 1. Excuse
 - 2. Improve
 - 3. Moderate
 - 4. Lessen

Question ID : 9895805219
Chosen Option : --

Q.9 From the given options, identify the segment in the sentence which contains the grammatical error.

The researchers have found that all species makes a constructive contribution to the ecology of the earth.

- Ans
- 1. The researchers have found
 - 2. the ecology of the earth.
 - 3. that all species makes
 - 4. a constructive contribution to

Question ID : 9895805205
Chosen Option : --

Comprehension:

In the following passage some words have been deleted. Fill in the blanks with the help of the alternatives given.

Given that the availability of safe drinking water touches the lives of everyone, the _____ (1) of Safe Drinking Water Mission can hardly be underestimated. Undoubtedly, this is one of the most _____ (2) public goods problems to solve. The private solution of reaching out for bottled water due to risks posed by tap water is a _____ (3) one. Even the poor are forced to choose between risking hospital expenses and buying bottled water. Taking into consideration the _____ (4) scenario, it is the duty of every citizen to find out possible and inexpensive means to _____ (5) that safe drinking water is available to all.

SubQuestion No : 10

Q.1
0 Select the most appropriate option that will fill in the blank number 1.

- Ans
- 1. significance
 - 2. progress
 - 3. safety
 - 4. consequence

Question ID : 9895805213
Chosen Option : --

Comprehension:

In the following passage some words have been deleted. Fill in the blanks with the help of the alternatives given.

Given that the availability of safe drinking water touches the lives of everyone, the _____ (1) of Safe Drinking Water Mission can hardly be underestimated. Undoubtedly, this is one of the most _____ (2) public goods problems to solve. The private solution of reaching out for bottled water due to risks posed by tap water is a _____ (3) one. Even the poor are forced to choose between risking hospital expenses and buying bottled water. Taking into consideration the _____ (4) scenario, it is the duty of every citizen to find out possible and inexpensive means to _____ (5) that safe drinking water is available to all.

SubQuestion No : 11

Q.1
1 Select the most appropriate option that will fill in the blank number 2.

- Ans
- 1. ready
 - 2. difficult
 - 3. whole
 - 4. complete

Question ID : 9895805214

Comprehension:

In the following passage some words have been deleted. Fill in the blanks with the help of the alternatives given.

Given that the availability of safe drinking water touches the lives of everyone, the _____ (1) of Safe Drinking Water Mission can hardly be underestimated. Undoubtedly, this is one of the most _____ (2) public goods problems to solve. The private solution of reaching out for bottled water due to risks posed by tap water is a _____ (3) one. Even the poor are forced to choose between risking hospital expenses and buying bottled water. Taking into consideration the _____ (4) scenario, it is the duty of every citizen to find out possible and inexpensive means to _____ (5) that safe drinking water is available to all.

SubQuestion No : 12

Q.1
2 Select the most appropriate option that will fill in the blank number 3.

- Ans
- 1. costly
 - 2. factual
 - 3. material
 - 4. simple

Question ID : 9895805215

Chosen Option : --

Comprehension:

In the following passage some words have been deleted. Fill in the blanks with the help of the alternatives given.

Given that the availability of safe drinking water touches the lives of everyone, the _____ (1) of Safe Drinking Water Mission can hardly be underestimated. Undoubtedly, this is one of the most _____ (2) public goods problems to solve. The private solution of reaching out for bottled water due to risks posed by tap water is a _____ (3) one. Even the poor are forced to choose between risking hospital expenses and buying bottled water. Taking into consideration the _____ (4) scenario, it is the duty of every citizen to find out possible and inexpensive means to _____ (5) that safe drinking water is available to all.

SubQuestion No : 13

Q.1
3 Select the most appropriate option that will fill in the blank number 4.

- Ans
- 1. present
 - 2. general
 - 3. rural

✓ 4. public

Question ID : 9895805216
Chosen Option : --

Comprehension:

In the following passage some words have been deleted. Fill in the blanks with the help of the alternatives given.

Given that the availability of safe drinking water touches the lives of everyone, the _____ (1) of Safe Drinking Water Mission can hardly be underestimated. Undoubtedly, this is one of the most _____ (2) public goods problems to solve. The private solution of reaching out for bottled water due to risks posed by tap water is a _____ (3) one. Even the poor are forced to choose between risking hospital expenses and buying bottled water. Taking into consideration the _____ (4) scenario, it is the duty of every citizen to find out possible and inexpensive means to _____ (5) that safe drinking water is available to all.

SubQuestion No : 14

Q.1
4 Select the most appropriate option that will fill in the blank number 5.

- Ans
- ✓ 1. ensure
 - ✗ 2. assure
 - ✗ 3. confirm
 - ✗ 4. endorse

Question ID : 9895805217
Chosen Option : --

Q.1
5 Select the option that means the same as the given idiom.

To miss the boat

- Ans
- ✗ 1. To decide to travel by air
 - ✓ 2. To miss the journey by boat
 - ✗ 3. To fail to complete the work
 - ✗ 4. To miss an opportunity

Question ID : 9895805223
Chosen Option : --

Q.1
6 Select the most appropriate option to substitute the underlined segment in the given sentence. If there is no need to substitute it, select No improvement.

In the interview held recently, I answer the questions as best as I could.

- Ans
- ✗ 1. I answered the question as best as I can.
 - ✗ 2. I answered the questions as best as I could.

3. No improvement.

4. I answer the question as best as I could.

Question ID : 9895805209
Chosen Option : --

Q.1
7 Select the correctly spelt word.

Ans 1. Mathematics

2. Mathamatics

3. Mathmetics

4. Mathametics

Question ID : 9895805227
Chosen Option : --

Q.1
8 Select the most appropriate option to fill in the blank.

We need not worry about anything _____ his commitment to the work he is assigned.

Ans 1. accept

2. except

3. expect

4. access

Question ID : 9895805211
Chosen Option : --

Q.1
9 Select the synonym of the given word.

INDUSTRIOUS

Ans 1. Fruitful

2. Diligent

3. Prompt

4. Practical

Question ID : 9895805218
Chosen Option : --

Q.2
0 Select the antonym of the given word

CONTRARY

Ans 1. Neutral

2. Predetermined

3. Balanced

4. Agreeable

Question ID : 9895805221
Chosen Option : --

Q.2 Select the most appropriate option to substitute the underlined segment in the given sentence. If there is no need to substitute it, select No improvement.

1

As you can see from my resume, I am working in Mumbai since 2016.

- Ans
- 1. I am work in Mumbai since 2016.
 - 2. I am working in Mumbai from 2016.
 - 3. No improvement.
 - 4. I have been working in Mumbai since 2016.

Question ID : 9895805207
Chosen Option : --

Q.2 From the given options, identify the segment in the sentence which contains the grammatical error.

2

One could argue that these are the compulsions of parliamentary democracy for smooth functioning for the State.

- Ans
- 1. One could argue that
 - 2. of parliamentary democracy
 - 3. functioning for the State.
 - 4. these are the compulsions

Question ID : 9895805206
Chosen Option : --

Q.2 Select the correctly spelt word.

3

- Ans
- 1. Bureaucracy
 - 2. Bureucracy
 - 3. Buraucracy
 - 4. Bureaucrasy

Question ID : 9895805226
Chosen Option : --

Q.2 Select the option that means the same as the given idiom.

4

To set aside

- Ans
- 1. to reject an offer
 - 2. To stop temporarily
 - 3. To finish a work
 - 4. To move sideways

Question ID : 9895805222
Chosen Option : --

Q.2
5 Select the antonym of the given word

SERENE

- Ans
- 1. Splendid
 - 2. Showy
 - 3. Superb
 - 4. Stressed

Question ID : 9895805220
Chosen Option : --

Section : Hindi Language

Q.1 दिए गए शब्द के पर्यायवाची शब्द का चयन करें।

सरस्वती

- Ans
- 1. शारदा
 - 2. नेत्री
 - 3. माता
 - 4. देवी

Question ID : 9895805529
Chosen Option : 4

Q.2 दिए गए वाक्य का वह भाग ज्ञात करें जिसमें कोई त्रुटि है।

निश्चल और सरल बचपन की खुशियाँ चेहरे पर तैर रहा हैं।

- Ans
- 1. बचपन की खुशियाँ
 - 2. तैर रहा हैं।
 - 3. चेहरे पर
 - 4. निश्चल और सरल

Question ID : 9895805512
Chosen Option : 2

Q.3 दिए गए शब्द का विलोम चुनें।

उत्तम

- Ans
- 1. अधम
 - 2. अधर
 - 3. अति

✗ 4. बढ़िया

Question ID : 9895805527
Chosen Option : 1

Q.4 दिए गए शब्द के पर्यायवाची शब्द का चयन करें।

रात्रि

- Ans
- ✗ 1. गजनी
 - ✓ 2. रजनी
 - ✗ 3. ज्ञानी
 - ✗ 4. हिमानी

Question ID : 9895805528
Chosen Option : 2

Q.5 दिये गये वाक्यांश के लिए एक शब्द दीजिये।

जिसका कोई शत्रु न हो

- Ans
- ✓ 1. अजातशत्रु
 - ✗ 2. बंधु
 - ✗ 3. मित्र
 - ✗ 4. सहचर

Question ID : 9895805532
Chosen Option : 1

Q.6 दिए गए वाक्य का वह भाग ज्ञात करें जिसमें कोई त्रुटि है।

प्रकृति केवल निर्माण ही नहीं, ध्वंस भी करता है।

- Ans
- ✗ 1. निर्माण ही नहीं,
 - ✗ 2. ध्वंस भी
 - ✗ 3. प्रकृति केवल
 - ✓ 4. करता है।

Question ID : 9895805510
Chosen Option : 4

Comprehension:

निम्नलिखित गद्यांश के रिक्त स्थानों की पूर्ति गद्यांश के नीचे दिए गए प्रश्नों के अनुसार कीजिए -

अपना स्वभाव छोड़ना किसी के _____ (1) में नहीं है। दुष्ट एवं स्वार्थी को पहचान कर वैसे ही चलना चाहिए जैसे कीचड़ भरे मार्ग में हम बचते हुए चलते हैं। दुष्ट व्यक्ति कुछ पल के लिए अपना _____ (2) बदल सकता है परन्तु _____ (3) मिलते ही वह अपनी दुष्टता पर उतारू हो जाएगा। करेला मीठा नहीं हो सकता एवं साँप विष की जगह _____ (4) नहीं उगल सकता। पाँचों _____ (5) बराबर नहीं होती।

SubQuestion No : 7

Q.7 गद्यांश में संकेतित रिक्त स्थान (1) के लिए उपयुक्त शब्द होगा -

- Ans
- 1. आँख
 - 2. पैर
 - 3. हाथ
 - 4. दिमाग

Question ID : 9895805521
Chosen Option : 3

Comprehension:

निम्नलिखित गद्यांश के रिक्त स्थानों की पूर्ति गद्यांश के नीचे दिए गए प्रश्नों के अनुसार कीजिए -

अपना स्वभाव छोड़ना किसी के _____ (1) में नहीं है। दुष्ट एवं स्वार्थी को पहचान कर वैसे ही चलना चाहिए जैसे कीचड़ भरे मार्ग में हम बचते हुए चलते हैं। दुष्ट व्यक्ति कुछ पल के लिए अपना _____ (2) बदल सकता है परन्तु _____ (3) मिलते ही वह अपनी दुष्टता पर उतारू हो जाएगा। करेला मीठा नहीं हो सकता एवं साँप विष की जगह _____ (4) नहीं उगल सकता। पाँचों _____ (5) बराबर नहीं होती।

SubQuestion No : 8

Q.8 गद्यांश में संकेतित रिक्त स्थान (1) के लिए उपयुक्त शब्द होगा -

- Ans
- 1. सोना
 - 2. नाचना
 - 3. घूमना
 - 4. व्यवहार

Question ID : 9895805522
Chosen Option : 4

Comprehension:

निम्नलिखित गद्यांश के रिक्त स्थानों की पूर्ति गद्यांश के नीचे दिए गए प्रश्नों के अनुसार कीजिए -

अपना स्वभाव छोड़ना किसी के _____ (1) में नहीं है। दुष्ट एवं स्वार्थी को पहचान कर वैसे ही चलना चाहिए जैसे कीचड़ भरे मार्ग में हम बचते हुए चलते हैं। दुष्ट व्यक्ति कुछ पल के लिए अपना _____ (2) बदल सकता है परन्तु _____ (3) मिलते ही वह अपनी दुष्टता पर उतारू हो जाएगा। करेला मीठा नहीं हो सकता एवं साँप विष की जगह _____ (4) नहीं उगल सकता। पाँचों _____ (5) बराबर नहीं होती।

SubQuestion No : 9

Q.9 गद्यांश में संकेतित रिक्त स्थान (1) के लिए उपयुक्त शब्द होगा -

- Ans
- 1. बाजार
 - 2. अवसर
 - 3. घर
 - 4. नौकरी

Question ID : 9895805523
Chosen Option : 2

Comprehension:

निम्नलिखित गद्यांश के रिक्त स्थानों की पूर्ति गद्यांश के नीचे दिए गए प्रश्नों के अनुसार कीजिए -

अपना स्वभाव छोड़ना किसी के _____ (1) में नहीं है। दुष्ट एवं स्वार्थी को पहचान कर वैसे ही चलना चाहिए जैसे कीचड़ भरे मार्ग में हम बचते हुए चलते हैं। दुष्ट व्यक्ति कुछ पल के लिए अपना _____ (2) बदल सकता है परन्तु _____ (3) मिलते ही वह अपनी दुष्टता पर उतारू हो जाएगा। करेला मीठा नहीं हो सकता एवं साँप विष की जगह _____ (4) नहीं उगल सकता। पाँचों _____ (5) बराबर नहीं होती।

SubQuestion No : 10

Q.1
0 गद्यांश में संकेतित रिक्त स्थान (1) के लिए उपयुक्त शब्द होगा -

- Ans
- 1. अमृत
 - 2. दूध
 - 3. कीचड़
 - 4. पानी

Question ID : 9895805524
Chosen Option : 1

Comprehension:

निम्नलिखित गद्यांश के रिक्त स्थानों की पूर्ति गद्यांश के नीचे दिए गए प्रश्नों के अनुसार कीजिए -

अपना स्वभाव छोड़ना किसी के _____ (1) में नहीं है। दुष्ट एवं स्वार्थी को पहचान कर वैसे ही चलना चाहिए जैसे कीचड़ भरे मार्ग में हम बचते हुए चलते हैं। दुष्ट व्यक्ति कुछ पल के लिए अपना _____ (2) बदल सकता है परन्तु _____ (3) मिलते ही वह अपनी दुष्टता पर उतारू हो जाएगा। करेला मीठा नहीं हो सकता एवं साँप विष की जगह _____ (4) नहीं उगल सकता। पाँचों _____ (5) बराबर नहीं होती।

SubQuestion No : 11

Q.1
1 गद्यांश में संकेतित रिक्त स्थान (1) के लिए उपयुक्त शब्द होगा -

- Ans
- 1. कान
 - 2. आँख
 - 3. उँगलियाँ
 - 4. नाक

Question ID : 9895805525
Chosen Option : 3

Q.1
2 दिए गए वाक्य में रेखांकित खंड को प्रतिस्थापित करने के लिए उपयुक्त विकल्प का चयन करें।
जब वह मुझसे मिलती थी तब मेरे चरणों छूने का प्रयास करती थी।

- Ans
- 1. चरण छूने का
 - 2. चरण छूना के
 - 3. चरणों छूना का
 - 4. चरणों छूने का

Question ID : 9895805514
Chosen Option : 1

Q.1
3 सही वर्तनी वाले शब्द का चयन करें।

- Ans
- 1. उपर्युक्त
 - 2. उपरियुत
 - 3. ऊर्पयुक्त
 - 4. उपरीयुक्त

Question ID : 9895805534
Chosen Option : 1

Q.1
4 सही वर्तनी वाले शब्द का चयन करें।

- Ans
- 1. धूड़दौड़
 - 2. घोडदौड़
 - 3. घुडदोड़
 - 4. घुड़दौड़

Question ID : 9895805535
Chosen Option : 4

Q.1
5

रिक्त स्थान को भरने के लिए उपयुक्त शब्द का चयन करें।

आभूषण मनुष्य की _____ बढ़ाते हैं।

- Ans
- 1. प्रेम
 - 2. तेज
 - 3. शक्ति
 - 4. शोभा

Question ID : 9895805517
Chosen Option : 4

Q.1
6 दिए गए वाक्य में रेखांकित खंड को प्रतिस्थापित करने के लिए उपयुक्त विकल्प का चयन करें।

जिस दिन मैं उस संत से मिली, उनके वाणी से मैं प्रभावित हो गई।

- Ans
- 1. उनका वाणी से
 - 2. उनसे वाणी की
 - 3. उनकी वाणी से
 - 4. उनमें वाणी से

Question ID : 9895805515
Chosen Option : 3

Q.1
7 रिक्त स्थान को भरने के लिए उपयुक्त शब्द का चयन करें।

मुझे विश्वास है कि अच्छे _____ जरूर आएँगे।

- Ans
- 1. दिन
 - 2. रात
 - 3. सुबह
 - 4. दोपहर

Question ID : 9895805519
Chosen Option : 1

Q.1
8 रिक्त स्थान को भरने के लिए उपयुक्त शब्द का चयन करें।

दर्जी कपड़े _____ है।

- Ans
- 1. धोता
 - 2. धुनता
 - 3. सिलता
 - 4. बुनता

Question ID : 9895805516
Chosen Option : 3

Q.1
9 दिए गए वाक्य में रेखांकित खंड को प्रतिस्थापित करने के लिए उपयुक्त विकल्प का चयन करें।
हम जो भी कार्य करें वह सावधानी पूर्वकता होना चाहिए।

- Ans
- 1. सावधानीपूर्वक होना चाहिए।
 - 2. सावधानतापूर्वक होना चाहिए।
 - 3. सावधानी पूर्व होना चाहिए।
 - 4. सावधानपूर्वक होना चाहिए।

Question ID : 9895805513
Chosen Option : 1

Q.2
0 दिये गये वाक्यांश के लिए एक शब्द दीजिये।

जिसमें जानने की इच्छा हो

- Ans
- 1. लोलुप
 - 2. पिपासु
 - 3. जिज्ञासु
 - 4. जानकारी

Question ID : 9895805533
Chosen Option : 3

Q.2
1 रिक्त स्थान को भरने के लिए उपयुक्त शब्द का चयन करें।

उसने _____ से पत्र लिखा।

- Ans
- 1. कागज
 - 2. मोबाइल
 - 3. किताब
 - 4. कलम

Question ID : 9895805518
Chosen Option : 4

Q.2
2 दिए गए शब्द का विलोम चुनें।

प्रवेश

- Ans
- 1. पास

- 2. निकास
- 3. आना
- 4. दूर

Question ID : 9895805526
Chosen Option : 2

Q.2
3 दिए गए वाक्य का वह भाग ज्ञात करें जिसमें कोई त्रुटि है।

उद्योग-धंधों के विस्तार से वृक्षों की संख्या से निरंतर गिरावट आ रही है।

- Ans
- 1. वृक्षों की संख्या से
 - 2. उद्योग-धंधों के
 - 3. विस्तार से
 - 4. निरंतर गिरावट आ रही है।

Question ID : 9895805511
Chosen Option : 1

Q.2
4 निम्नलिखित में से उस विकल्प का चयन करें जो 'गड़े मुर्दे उखाड़ना' मुहावरे का अर्थ व्यक्त करता है।

- Ans
- 1. पुरानी बातें उठाना
 - 2. नई कहानियाँ बनाना
 - 3. गड़े हुए मुर्दों को कहीं और ले जाना
 - 4. मुर्दों को कब्र से उठाना

Question ID : 9895805530
Chosen Option : 1

Q.2
5 निम्नलिखित में से उस विकल्प का चयन करें जो 'तेल निकालना' मुहावरे का अर्थ व्यक्त करता है।

- Ans
- 1. बहुत अधिक काम करा लेना
 - 2. तेल के कुँ से तेल बाहर निकालना
 - 3. कम काम करना
 - 4. कम काम लेना

Question ID : 9895805531
Chosen Option : 1