

Constable (GD) in CAPFs, NIA, SSF and Rifleman (GD) in Assam Rifles Examination, 2018

Roll No. :	GovtJobsAlert.In
Registration No.	GovtJobsAlert.In
Name :	GovtJobsAlert.In
Exam Venue :	iON Digital Zone iDZ Ramtekdi 1
Exam Time :	4:00 PM - 5:30 PM
Exam Date :	18/02/2019

Section : General Section

Q.1 'समय' उसी तरह 'घड़ी' से संबंधित है, जिस तरह 'दूरी', _____ से संबंधित है।

- Ans
- 1. किलोमीटर
 - 2. अंतर
 - 3. गंतव्य
 - 4. ओडोमीटर

Question ID : 9895803828
Chosen Option : 1

Q.2 कौन से दो चिहनों को अगर आपस में एक-दूसरे से बदल दिया जाएगा तो निम्नलिखित समीकरण सही हो जाएगा?

$$12 + 18 \times 24 \div 6 - 3 = 19$$

- Ans
- 1. \times और \div
 - 2. \div और $+$
 - 3. $-$ और \div
 - 4. $+$ और \times

Question ID : 9895803843
Chosen Option : 4

Q.3 उस विकल्प का चयन करें जो सही रूप में रिक्त स्थान को भरे और श्रृंखला को पूरा करें।

pmtz, rkvx, tixv, vgzt, _____

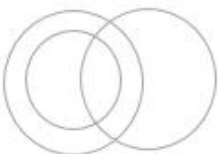
- Ans
- 1. zdcw
 - 2. xebr
 - 3. yerb
 - 4. xeyv

Question ID : 9895803825
Chosen Option : 2

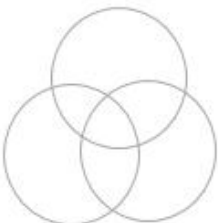
Q.4 निम्नलिखित में से कौन सा वेन रेखाचित्र महिलाओं, माताओं और अभियंताओं के वर्ग के बीच के संबंध को सही-सही दर्शाता है?

Ans

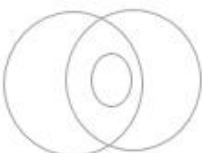
✓ 1.



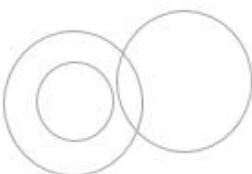
✗ 2.



✗ 3.



✗ 4.



Question ID : 9895803849

Chosen Option : 1

Q.5 निम्नलिखित सेट की संख्याएँ आपस में खास प्रकार से संबंधित हैं। दिए गए विकल्पों में से उस सेट का चयन करें जो निम्नलिखित सेट के समान है।

{4, 6, 9}

Ans

✓ 1. {6, 12, 24}

✗ 2. {9, 15, 18}

✗ 3. {12, 14, 18}

✗ 4. {6, 8, 12}

Question ID : 9895803842

Chosen Option : 1

Q.6

नीचे दिए गए कथन के बाद तीन निष्कर्ष I, II और III दिए गए हैं। स्वयं कोई समाधान किए बिना, वह निष्कर्ष चुनें

जो दिए गए कथन का तार्किक रूप से अनुसरण करता है।

कथन:

- 1.) कोई विद्यालय संस्थान नहीं है।
- 2.) वे सभी प्रतिष्ठान जो कि संस्थान नहीं हैं, उनके भवन हैं।

निष्कर्ष:

- I. विद्यालय प्रतिष्ठान नहीं होते हैं।
- II. सभी विद्यालयों के भवन होते हैं।
- III. विद्यालयों के भवन नहीं होते हैं।

Ans

1. केवल निष्कर्ष III अनुसरण करता है।
2. केवल निष्कर्ष I अनुसरण करता है।
3. केवल निष्कर्ष II अनुसरण करता है।
4. या तो निष्कर्ष I या निष्कर्ष II अनुसरण करता है।

Question ID : 9895803837
Chosen Option : 3

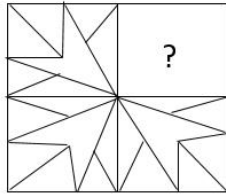
Q.7 चार संख्याएँ दी गई हैं जिनमें से तीन संख्याएँ किसी न किसी रूप में समान हैं, जबकि एक संख्या भिन्न है। असंगत संख्या चुनिए।

Ans

1. 23
2. 73
3. 33
4. 53

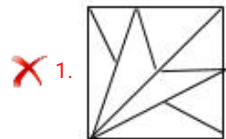
Question ID : 9895803841
Chosen Option : 3

Q.8 उस आकृति का चयन करें जिसे 'X' से चिह्नित रिक्त स्थान पर रखने से चित्र का पैटर्न पूर्ण हो जाएगा।

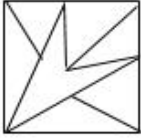


(X)

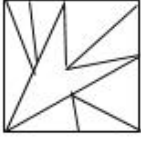
Ans



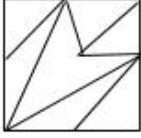
✓ 2.



✗ 3.



✗ 4.



Question ID : 9895803845
Chosen Option : 2

Q.9 अगर एक कूट भाषा में, MACE = 5 और MASTER = 7 है, तो SOLUTION = क्या होगा?

Ans ✗ 1. 11

✓ 2. 9

✗ 3. 10

✗ 4. 8

Question ID : 9895803832
Chosen Option : 1

Q.10 उस विकल्प का चयन करें जो सही रूप में रिक्त स्थान को भरे और श्रृंखला को पूरा करें।

1, 3, 8, 19, 42, ____

Ans ✗ 1. 93

✗ 2. 77

✗ 3. 85

✓ 4. 89

Question ID : 9895803838
Chosen Option : 1

Q.11 असंगत युग्म का चयन करें।

Ans ✗ 1. 8-58

✗ 2. 3-23

✓ 3. 5-31

✗ 4. 12-86

Question ID : 9895803840
Chosen Option : 2

Q.1

2 उस विकल्प का चयन करें जो तीसरे पद से उसी तरह संबंधित है जिस प्रकार दूसरा पद पहले पद से संबंधित है।
हृदय : शिराएं :: नदी : ?

- Ans
- 1. जल
 - 2. सहायक नदियाँ
 - 3. समुद्र
 - 4. धारा

Question ID : 9895803829
Chosen Option : 2

Q.1
3 असंगत का चयन करें।

- Ans
- 1. लंदन
 - 2. स्पेन
 - 3. पेरिस
 - 4. रोम

Question ID : 9895803827
Chosen Option : 4

Q.1 P, Q, R, S, T और U एक कतार में खड़े हैं। Q एकदम P के आगे खड़ा है। S एकदम से T के पीछे है। U, R के
4 पास नहीं है, जो दो व्यक्तियों द्वारा Q से अलग किया गया है। कतार में सबसे आगे कौन खड़ा है?

- Ans
- 1. Q
 - 2. U
 - 3. T
 - 4. R

Question ID : 9895803834
Chosen Option : 1

Q.1 उस विकल्प का चयन करें जो सही रूप में रिक्त स्थान को भरे और श्रृंखला को पूरा करें।

6, 9, 18, 27, ____, 81

- Ans
- 1. 36
 - 2. 48
 - 3. 62
 - 4. 54

Question ID : 9895803839
Chosen Option : 4

Q.1 पिंकी, प्रिया से लंबी है लेकिन रीना से छोटी है। रीना, शीला से लंबी है जो कि प्रिया से छोटी है। रीना, रिया से लंबी है
6 जो कि पिंकी से लंबी है। तो सबसे छोटी कौन है?

- Ans
- 1. शीला
 - 2. रिया

✗ 3. प्रिया

✗ 4. पिकी

Question ID : 9895803835
Chosen Option : 1

Q.1 नीचे दिए गए कथनों के बाद दो निष्कर्ष I और II दिए गए हैं। यह मानते हुए कि कथनों में दी गई जानकारी सत्य है, भले ही वह सर्वज्ञात तथ्यों से भिन्न प्रतीत होती हो और यह निर्णय करें कि कौन सा / से निष्कर्ष तार्किक और निश्चित रूप से कथन में दी गई जानकारी का अनुसरण करता है / करते हैं।

कथन:

- 1.) सभी कप मग हैं।
- 2.) सभी कप बर्तन हैं।

निष्कर्ष:

- I. सभी कप बरतन हैं।
- II. कुछ बरतन कप हैं।

Ans

✗ 1. केवल निष्कर्ष II अनुसरण करता है।

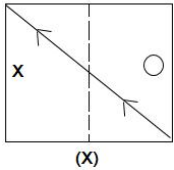
✗ 2. न तो निष्कर्ष I और ना ही II अनुसरण करता है।

✗ 3. केवल निष्कर्ष I अनुसरण करता है।

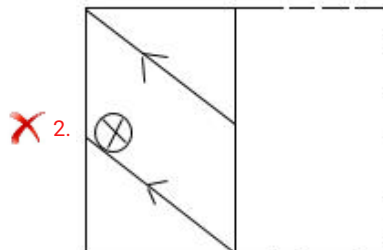
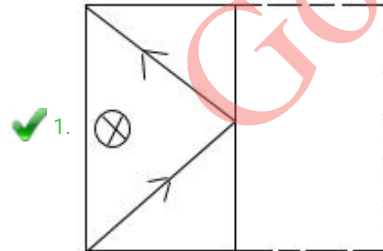
✓ 4. निष्कर्ष I और निष्कर्ष II दोनों अनुसरण करते हैं।

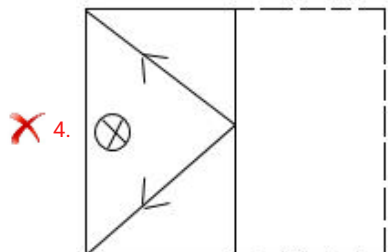
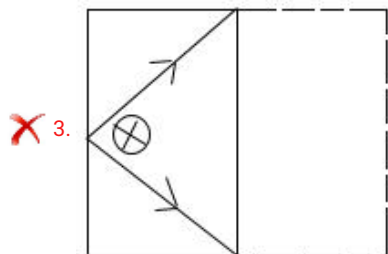
Question ID : 9895803836
Chosen Option : 2

Q.1 'X' से चिह्नित आयताकार पारदर्शी शीट का पैटर्न तब कैसा दिखेगा जब इस शीट को डॉट से बनाई गई रेखा पर मोड़ा जाएगा?



Ans





Question ID : 9895803848
Chosen Option : 1

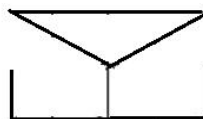
Q.1 उस विकल्प का चयन करें जो तीसरे पद से उसी तरह संबंधित है जिस प्रकार दूसरा पद पहले पद से संबंधित है।

CGEI : XTVR :: FJHL : ?

- Ans
- ✓ 1. UQSO
 - ✗ 2. TNRP
 - ✗ 3. OUQS
 - ✗ 4. UOQS

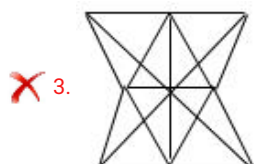
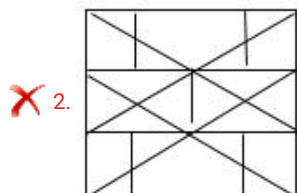
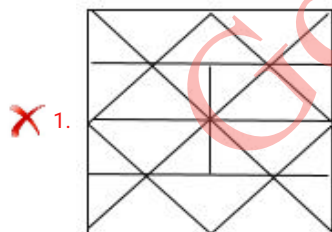
Question ID : 9895803830
Chosen Option : 1

Q.2
0

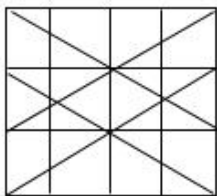


विकल्पों में से उस आकृति का चयन करें जिसमें दी गई आकृति समाहित हो।

Ans




✓ 4.



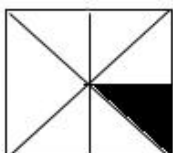
Question ID : 9895803847
Chosen Option : 4

Q.2 विकल्पों में से उस आकृति का चयन करें जो दी गई श्रृंखला में अगले स्थान पर आएगी।

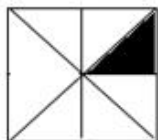


Ans

✓ 1.




✗ 2.



✗ 3.



✗ 4.



Question ID : 9895803844
Chosen Option : 2

Q.2 निम्न चार अक्षर समूहों में से कौन सा एक इस समूह का हिस्सा नहीं है?

Ans

✗ 1. HEFG

✗ 2. NKLM

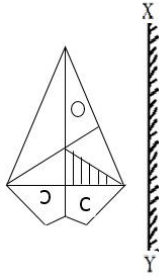
✓ 3. SOPQ

✗ 4. WTUV

Question ID : 9895803826
Chosen Option : 3

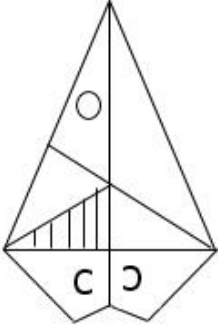
Q.2
3

उस विकल्प का चयन करें जो XY रेखा पर दर्पण रखे जाने पर दिए गए शब्द की दर्पण छवि से सर्वाधिक मेल खाता है।

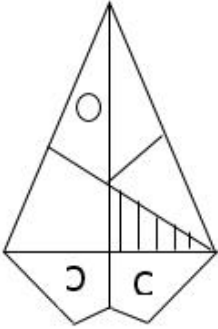


Ans

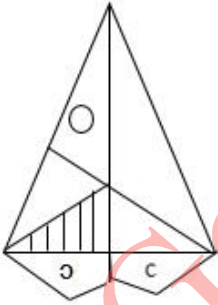
✗ 1.



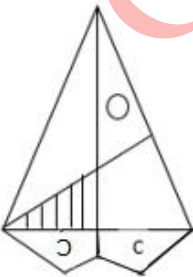
✗ 2.



✓ 3.



✗ 4.



Question ID : 9895803846

Chosen Option : 3

Q.2 अगर एक कूट भाषा में, MOTHER को OMHTRE के रूप में कूटबद्ध किया जाता है, तो THURSDAY को कैसे कूटबद्ध किया जाएगा?

Ans ✓ 1. HTRUDSYA

- 2. UHTDSRYA
- 3. HTRUSDYA
- 4. HTRUSDAY

Question ID : 9895803831
Chosen Option : 1

Q.2 5 छह दोस्त A, B, C, D, E और F एक गोल मेज की चारों ओर केंद्र की तरफ मुखातिब होकर बैठे हैं। C, A और B के बीच बैठा है, जो D के एकदम बाईं ओर बैठा है। अगर C, E से मुखातिब है, तो F के सामने कौन है?

- Ans
- 1. D
 - 2. E
 - 3. B
 - 4. A

Question ID : 9895803833
Chosen Option : 3

Q.2 6 'मूनवॉक', प्रसिद्ध नृत्य चाल, निम्न में से किसके साथ जुड़ा हुआ है?

- Ans
- 1. एडेल
 - 2. फ्रेड एस्टेयर
 - 3. माइकल जैक्सन
 - 4. मीशा ब्रायन

Question ID : 9895805391
Chosen Option : 2

Q.2 7 कोणार्क सूर्य मंदिर कहाँ स्थित है?

- Ans
- 1. ओडिशा
 - 2. तिरुपति
 - 3. केदारनाथ
 - 4. मदुराई

Question ID : 9895805392
Chosen Option : 1

Q.2 8 12वीं पंच वर्षीय योजना का उद्देश्य क्या था?

- Ans
- 1. तीव्र और अधिक समावेशी विकास
 - 2. गरीबी और महिलाओं के शोषण को कम करना
 - 3. स्थिरता और प्रगतिशील उपलब्धि के साथ विकास
 - 4. तीव्र, टिकाऊ और अधिक समावेशी विकास

Question ID : 9895805393

Chosen Option : 1

Q.2
9 छत पर वर्षा जल संचयन शुरू करने वाला पहला भारतीय राज्य कौन सा है?

- Ans
- 1. तमिलनाडु
 - 2. राजस्थान
 - 3. केरल
 - 4. असम

Question ID : 9895805404

Chosen Option : 2

Q.3
0 निम्नलिखित में से कौन सी मिट्टी भारत के उत्तरी मैदानों में पाई जाती है?

- Ans
- 1. शुष्क ज़मीन
 - 2. लेटराइट ज़मीन
 - 3. काली ज़मीन
 - 4. जलोढ़ ज़मीन

Question ID : 9895805402

Chosen Option : 2

Q.3
1 उस स्थान का नाम बताइए जहाँ ओलंपिक खेलों की उत्पत्ति हुई थी?

- Ans
- 1. यूनान
 - 2. बग़दाद
 - 3. लातविया
 - 4. अदन

Question ID : 9895805387

Chosen Option : 1

Q.3
2 1977 में भारतीय जनसंघ (BJS) की स्थापना निम्नलिखित में से किसने की?

- Ans
- 1. दीन दयाल उपाध्याय
 - 2. विनायक सावरकर
 - 3. आशुतोष मुखर्जी
 - 4. श्यामा प्रसाद मुखर्जी

Question ID : 9895805384

Chosen Option : 3

Q.3

3 निम्नलिखित में से कौन सा ग्रीनहाउस गैस नहीं है?

- Ans
- 1. नाइट्रस ऑक्साइड
 - 2. आर्गन
 - 3. मीथेन
 - 4. कार्बन डाइऑक्साइड

Question ID : 9895805406
Chosen Option : 1

Q.3 संपत्ति के अधिकार को भारतीय संविधान के किस संशोधन द्वारा मौलिक अधिकारों की सूची से हटा दिया गया था?

- Ans
- 1. 43 वें संशोधन
 - 2. 44 वें संशोधन
 - 3. 41वें संशोधन
 - 4. 42 वें संशोधन

Question ID : 9895805397
Chosen Option : 4

Q.3 हमारे भोजन में आयोडीन युक्त नमक होना क्यों महत्वपूर्ण है?

- Ans
- 1. यह दृष्टि में सुधार करता है।
 - 2. यह ऊंचाई हासिल करने में मदद करता है।
 - 3. यह थायरॉयड ग्रंथि के सुचारू संचालन में मदद करता है।
 - 4. यह हड्डियों के निर्माण में मदद करता है।

Question ID : 9895805405
Chosen Option : 3

Q.3 यदि दूध को ग्रीष्मकाल में फ्रिज के बाहर रखा जाए तो वह खट्टा हो जाता है जिसका कारण है:

- Ans
- 1. इसका रंग
 - 2. लैक्टोज एसिड में लैक्टोज शर्करा का रूपांतरण
 - 3. इसमें मौजूद कैल्शियम
 - 4. प्रोटीन का विभाजन होना

Question ID : 9895805407
Chosen Option : 2

Q.3 सच्चिदानंद सिन्हा के स्थान पर भारत की संविधान सभा का अध्यक्ष कौन बना?

Ans

- ✓ 1. डॉ. राजेंद्र प्रसाद
✗ 2. सरदार वल्लभभाई पटेल
✗ 3. मोहनदास करमचन्द गांधी
✗ 4. पं. जवाहरलाल नेहरू

Question ID : 9895805386
Chosen Option : 1

Q.3 अंतरिम बजट 2019 के अनुसार, 22वां एम्स कहाँ स्थापित करने का प्रस्ताव है।

- Ans ✗ 1. महाराष्ट्र
✓ 2. हरियाणा
✗ 3. असम
✗ 4. झारखंड

Question ID : 9895805394
Chosen Option : 3

Q.3 ओलंपिक बैडमिंटन एकल क्वार्टर फाइनल में पहुंचने वाली पहली भारतीय महिला खिलाड़ी कौन थी?

- Ans ✗ 1. पी. वी. सिंधु
✗ 2. अपर्णा पोपट
✓ 3. साइना नेहवाल
✗ 4. अश्विनी पी

Question ID : 9895805388
Chosen Option : 1

Q.4 कागजी शिल्प सांझी की उत्पत्ति भारत के निम्नलिखित में से किस स्थान पर हुई?

- Ans ✗ 1. भुवनेश्वर
✓ 2. मथुरा
✗ 3. कोयम्बतूर
✗ 4. इंदौर

Question ID : 9895805390
Chosen Option : 4

Q.4 भारतीय संविधान में मौलिक कर्तव्यों को कौन से संशोधन द्वारा शामिल किया गया था?

- Ans ✗ 1. 14 वें संशोधन
✗ 2. 56 वें संशोधन

✓ 3. 42 वें संशोधन

✗ 4. 25 वें संशोधन

Question ID : 9895805398
Chosen Option : 3

Q.4
2 बांधों को 'आधुनिक भारत के मंदिर' किसने कहा था?

- Ans
- ✗ 1. टी कृष्णनचारी
 - ✗ 2. मोहनदास करमचन्द्र गांधी
 - ✗ 3. सरदार वल्लभभाई पटेल
 - ✓ 4. पं. जवाहरलाल नेहरू

Question ID : 9895805403
Chosen Option : 2

Q.4
3 भारत की रियासतों के एकीकरण में किसने निर्णायक भूमिका निभाई थी?

- Ans
- ✗ 1. मोतीलाल नेहरू
 - ✗ 2. टीटी कृष्णमूर्ति
 - ✗ 3. एपीजे अब्दुल कलाम
 - ✓ 4. सरदार वल्लभभाई पटेल

Question ID : 9895805396
Chosen Option : 1

Q.4
4 विश्व धरोहर स्थल रोबेन द्वीप निम्नलिखित में से किस विभूति से संबंधित है?

- Ans
- ✗ 1. जिमी कार्टर
 - ✗ 2. जॉन एफ कैनेडी
 - ✗ 3. विंस्टन चर्चिल
 - ✓ 4. नेल्सन मंडेला

Question ID : 9895805385
Chosen Option : 4

Q.4
5 किस आंदोलन का नेतृत्व मुहम्मद अली और शौकत अली ने किया था?

- Ans
- ✗ 1. देवबंद आंदोलन
 - ✓ 2. खिलाफत आंदोलन
 - ✗ 3. बादशाही आंदोलन

✗ 4. सुल्तानिया आंदोलन

Question ID : 9895805399
Chosen Option : 2

Q.4
6 इमली में मौजूद अम्ल का नाम बताइए।

- Ans
- ✓ 1. टारटरिक अम्ल
 - ✗ 2. लैक्टिक अम्ल
 - ✗ 3. एमिनो अम्ल
 - ✗ 4. साइट्रिक अम्ल

Question ID : 9895805408
Chosen Option : 1

Q.4
7 भारतीय राष्ट्रीय कांग्रेस के लाहौर अधिवेशन ने किस वर्ष में 26 जनवरी को स्वतंत्रता दिवस के रूप में मनाने की घोषणा की थी?

- Ans
- ✗ 1. 1942
 - ✗ 2. 1935
 - ✓ 3. 1930
 - ✗ 4. 1920

Question ID : 9895805400
Chosen Option : 3

Q.4
8 खाने के बाद पेट में होने वाली एसिडिटी को इसे लेने से खत्म किया जा सकता है:

- Ans
- ✓ 1. बेकिंग सोडा
 - ✗ 2. नींबू का रस
 - ✗ 3. फलों का रस
 - ✗ 4. सब्जियां

Question ID : 9895805389
Chosen Option : 1

Q.4
9 भारत के वित्त मंत्री ने अपने बजट भाषण में स्वदेशी रूप से विकसित _____ नामक अर्द्ध उच्च - गति ट्रेन के शुभारम्भ की घोषणा की।

- Ans
- ✓ 1. वंदे भारत एक्सप्रेस
 - ✗ 2. वीर जवान एक्सप्रेस
 - ✗ 3. वायकॉम एक्सप्रेस
 - ✗ 4. विक्रमशीला एक्सप्रेस

Question ID : 9895805395
Chosen Option : 2

Q.5
0 ब्रिटिश सरकार द्वारा भेजे गए साइमन कमीशन का बहिष्कार किया गया क्योंकि:

- Ans
- 1. सदस्यों के बीच मतभेद थे।
 - 2. इसने रियासतों को विशेष अधिकार दिए।
 - 3. कमीशन में कोई भी भारतीय सदस्य नहीं था।
 - 4. कमीशन ने भारत की वित्तीय स्वतंत्रता पर अंकुश लगाया।

Question ID : 9895805401
Chosen Option : 3

Q.5
1 $\frac{1\frac{2}{3} + \left[16\frac{1}{2} - \left\{ 1\frac{1}{10} \left(3\frac{1}{3} + 5 \right) \right\} \right]}{\frac{1}{4} \text{ of } 2\frac{1}{2} \div \frac{3}{5} \times 4\frac{4}{5}}$ का मान क्या है?

- Ans
- 1. $1\frac{2}{5}$
 - 2. $1\frac{4}{5}$
 - 3. $3\frac{2}{5}$
 - 4. $3\frac{1}{5}$

Question ID : 9895805691
Chosen Option : 3

Q.5
2 $[0.08 \div 1.2 \text{ of } (3.4 - 2.6) \times 0.8 \text{ of } 3.2] \text{ of } \frac{9}{16}$ का मान _____ के बीच स्थित है।

- Ans
- 1. 0.13 से 0.15
 - 2. 0.07 और 0.09
 - 3. 0.11 और 0.13
 - 4. 0.09 और 0.11

Question ID : 9895805692
Chosen Option : 1

Q.5
3

निम्नलिखित तालिका का अध्ययन करें और प्रश्न का उत्तर दें:

शहर के पांच विद्यालयों में अध्ययन करते छात्रों की संख्या:

शहर	छात्रों की संख्या	लड़कों और लड़कियों का अनुपात लड़कों : लड़कियों
A	680	9 : 8
B	720	4 : 5
C	540	5 : 13
D	660	2 : 1
E	900	13 : 12

स्कूल B और C में लड़कियों की कुल संख्या स्कूल A और D में लड़कों की कुल संख्या से कितने प्रतिशत कम है?

- Ans
- 1. 4
 - 2. 1.25
 - 3. 10
 - 4. 11.25

Question ID : 9895805714
Chosen Option : 1

Q.5 सुमन ने एक वस्तु को चिह्नित मूल्य पर 16% की छूट देकर ₹882 में बेची। अगर उसने कोई छूट नहीं दी होती, तो उसे वस्तु की क्रय मूल्य पर 20% का लाभ होता। वस्तु का क्रय मूल्य क्या है?

- Ans
- 1. 850
 - 2. 750
 - 3. 725
 - 4. 875

Question ID : 9895805695
Chosen Option : 2

Q.5 मान ले की x एसी सबसे बड़ी संख्या है, कि जिसके द्वारा 12085, 16914 और 13841 को विभाजित करने से प्रत्येक में शेष समान होता है। x के अंकों का योग क्या है?

- Ans
- 1. 14
 - 2. 13
 - 3. 16
 - 4. 19

Question ID : 9895805690
Chosen Option : 3

Q.5 एक व्यक्ति 250 km की दूरी निश्चित गति से तय की। यदि उसकी गति 20% कम है, तो उसने उतनी ही दूरी को $1\frac{1}{4}$ घंटे में तय की होती। उनकी गति (km/hr में), शुरु में क्या थी?

- Ans
- 1. $52\frac{1}{2}$
 - 2. 45
 - 3. $47\frac{1}{2}$
 - 4. 50

Question ID : 9895805709
Chosen Option : 3

Q.5 जब संख्या x का 32% दूसरी संख्या y में जोड़ा जाता है, तो y 24% बढ़ जाता है। $\frac{(2x+y)}{(3x-y)}$ का मान क्या है?

- Ans
- 1. 1
 - 2. 8
 - 3. 2
 - 4. 3

Question ID : 9895805698
Chosen Option : 4

Q.5 ₹4107 की राशि को A, B, C और D के बीच उस तरह विभाजित की जाती है जिससे A और B के हिस्सों का अनुपात 3 : 4 है, B और C के हिस्सों का अनुपात 2 : 1 है और C और D के हिस्सों का अनुपात 3 : 5 है तो B का हिस्सा कितना है?

- Ans
- 1. ₹1223
 - 2. ₹1443
 - 3. ₹1003
 - 4. ₹1332

Question ID : 9895805700
Chosen Option : 2

Q.5 एक समूह में निश्चित संख्या के व्यक्तियों का औसत वजन 75.5 kg था। बाद में, 72.6 kg, 74 kg, 73.4 kg और 70 kg वजन वाले 4 व्यक्ति समूह में शामिल हुए परिणामत, समूह में सभी व्यक्तियों का औसत वजन 500 g कम हो गया। प्रारंभ में समूह के व्यक्तियों की संख्या क्या थी?

- Ans
- 1. 20
 - 2. 18
 - 3. 24
 - 4. 16

Question ID : 9895805693
Chosen Option : 1

Q.6 दो संख्या 5 : 6 के अनुपात में हैं। यदि 16 को प्रत्येक संख्या में से घटाया जाता है, तो संख्या 3 : 4 के अनुपात में होंगी। यदि 8 को पहली संख्या में जोड़ा जाता है और 3 को दूसरी संख्या से घटाया जाता है, तो अनुपात क्या होगा?

- Ans
- 1. 16 : 15
 - 2. 13 : 14
 - 3. 14 : 13
 - 4. 15 : 16

Question ID : 9895805699
Chosen Option : 4

Q.6
1

एक त्रिकोणीय पार्क का क्षेत्रफल 18 m, 80 m और 82 m की भुजाओं वाले त्रिकोणीय क्षेत्र के क्षेत्रफल का $5\sqrt{3}$ गुना है।

त्रिकोणीय पार्क का पार्श्व क्या है?

- Ans
- 1. 125 m
 - 2. 120 m
 - 3. 140 m
 - 4. 100 m

Question ID : 9895805705
Chosen Option : 2

Q.6 एक व्यक्ति 26% के लाभ पर एक घड़ी बेचता है। यदि उसने इसे 20% कम पर खरीदा होता और ₹81.60 में बेचा होता, तो उसे 32% का लाभ होता। घड़ी का असली क्रय मूल्य क्या है? (₹ में)

- Ans
- 1. 450
 - 2. 400
 - 3. 480
 - 4. 360

Question ID : 9895805697
Chosen Option : 3

Q.6 यदि एक गोले की त्रिज्या 25% तक कम हो जाती है, तो इसका सतह क्षेत्रफल कितने प्रतिशत कम होगा?

- Ans
- 1. 43.75
 - 2. 42
 - 3. 37.50
 - 4. 40

Question ID : 9895805707
Chosen Option : 1

Q.6 निम्नलिखित तालिका का अध्ययन करें और प्रश्न का उत्तर दें:

शहर के पांच विद्यालयों में अध्ययन करते छात्रों की संख्या:

शहर	छात्रों की संख्या	लड़कों और लड़कियों का अनुपात लड़कों : लड़कियों
A	680	9 : 8
B	720	4 : 5
C	540	5 : 13
D	660	2 : 1
E	900	13 : 12

कितने विद्यालयों में, लड़कियों की संख्या प्रति विद्यालय लड़कों की औसत संख्या से अधिक है?

- Ans
- 1. 1
 - 2. 3
 - 3. 4

✗ 4. 2

Question ID : 9895805713
Chosen Option : 4

Q.6 एक साथ काम करते हुए, A, B और C में एक काम को 36 दिनों पूरा कर सकते हैं। यदि A, B और C की दक्षता 5 : 6 : 9 के अनुपात में है, तो B अकेला उसी कार्य को कितने दिनों में पूरा करेगा?

- Ans
- ✓ 1. 120 दिन
 - ✗ 2. 60 दिन
 - ✗ 3. 90 दिन
 - ✗ 4. 100 दिन

Question ID : 9895805710
Chosen Option : 1

Q.6 एक नाव 36 किमी अनुप्रवाह (डाउनस्ट्रीम) और 16 किमी की प्रतिप्रवाह (अपस्ट्रीम) ओर 10 घंटे में तय कर सकती है। वह 3 किमी अनुप्रवाह (डाउनस्ट्रीम) और 1.2 किमी प्रतिप्रवाह (अपस्ट्रीम) 48 मिनट में तय कर सकती है। प्रतिप्रवाह जाते हुए नाव की गति (km/hr में) क्या है?

- Ans
- ✗ 1. 2.5
 - ✓ 2. 4
 - ✗ 3. 2
 - ✗ 4. 3.5

Question ID : 9895805708
Chosen Option : 4

Q.6 दूसरे वर्ष और तीसरे वर्ष के लिए निश्चित सालाना दर पे निश्चित राशि पर चक्रवृद्धि ब्याज क्रमशः ₹3300 और ₹3630 है। यह राशि कितनी है?

- Ans
- ✗ 1. ₹25000
 - ✓ 2. ₹30000
 - ✗ 3. ₹28400
 - ✗ 4. ₹32000

Question ID : 9895805703
Chosen Option : 1

Q.6 2 : 7 और 4 : 5 के अनुपात में एसिड और पानी युक्त एसिड और पानी के दो घोल क्रमशः 2 : 5 के अनुपात में मिश्र किया जाता है। परिणामतः घोल में एसिड और पानी का अनुपात क्या है?

- Ans
- ✓ 1. 8 : 13
 - ✗ 2. 8 : 17
 - ✗ 3. 2 : 1
 - ✗ 4. 3 : 7

Question ID : 9895805701
Chosen Option : 1

Q.6 दिए गए डेटा के परास, माधिका और उपलक क्या है?

2, 3, 1, 1, 3, 4, 2, 1, 1, 4, 5, 2, 4, 2, 2, 1, 3, 3, 2, 5

Ans 1. 4

2. $2\frac{2}{3}$

3. $3\frac{1}{3}$

4. $4\frac{1}{2}$

Question ID : 9895805704

Chosen Option : 3

Q.7 A ने एक वस्तु 25% लाभ पर B को कोई वस्तु बेची। B ने उसे C को 10% लाभ पर बेची और C ने उसे 40% हानि पर D को बेची। यदि D ने इसे, ₹46.20 में खरीदा है, तो A और B के लाभ के बीच में क्या अंतर है?

Ans 1. ₹8.50

2. ₹15

3. ₹7

4. ₹6

Question ID : 9895805696

Chosen Option : 2

Q.7 41 संख्याओं का औसत 63 है। पहले 21 संख्याओं का औसत 61.5 है और अंतिम 21 संख्याओं का औसत 65.5 है। यदि 21वीं संख्या को छोड़ा जाए, तो शेष संख्याओं का औसत क्या है?

Ans 1. 63.575

2. 62.5

3. 63.5

4. 62.475

Question ID : 9895805694

Chosen Option : 3

Q.7 एक निश्चित राशि पर 6% सालाना ब्याज दर से साधारण ब्याज $5\frac{1}{2}$ वर्ष में ₹2541 है। वही राशि $5\frac{2}{3}$ वर्षों में सालाना $8\frac{1}{7}$ % ब्याज पर कितनी होगी?

Ans 1. ₹13125

2. ₹11253

3. ₹12153

4. ₹11235

Question ID : 9895805702

Chosen Option : 3

Q.7
3

निम्नलिखित तालिका का अध्ययन करें और प्रश्न का उत्तर दें:

शहर के पांच विद्यालयों में अध्ययन करते छात्रों की संख्या:

शहर	छात्रों की संख्या	लड़कों और लड़कियों का अनुपात लड़कों : लड़कियों
A	680	9 : 8
B	720	4 : 5
C	540	5 : 13
D	660	2 : 1
E	900	13 : 12

A विद्यालय में लड़कों की संख्या और E विद्यालय में लड़कियों की संख्या की अनुपात क्या है?

- Ans
- 1. 5 : 6
 - 2. 5 : 12
 - 3. 3 : 4
 - 4. 8 : 13

Question ID : 9895805712
Chosen Option : 3

Q.7 28 cm की ऊंचाई के बिलकुल वृत्तिय बेलन का (सिलिंडर) वक्र सतह क्षेत्रफल 176 cm^2 है। बेलन का आयतन (cm³में) _____ है। ($\pi = \frac{22}{7}$ लीजिए)

- Ans
- 1. 176
 - 2. 110
 - 3. 88
 - 4. 66

Question ID : 9895805706
Chosen Option : 3

Q.7 दो पाइप A और B क्रमशः 12 मिनट और 15 मिनट में एक टैंक भर सकते हैं। जब एक आउटलेट पाइप C भी खोला जाता है, तो तीन पाइप एक साथ टैंक को 10 मिनट में भर सकते हैं। C अकेले कितने मिनट में पूरा टैंक खाली कर सकता है?

- Ans
- 1. 24
 - 2. 18
 - 3. 20
 - 4. 16

Question ID : 9895805711
Chosen Option : 3

Section : English Language

Q.1 Select the antonym of the given word.

LATENT

- Ans 1. Hidden
 2. Artificial
 3. Forbidding
 4. Obvious

Question ID : 9895805246
Chosen Option : --

Q.2 Select the most appropriate option to fill in the blank.

The baby bird was _____ by its mother.

- Ans 1. renounced
 2. abandoned
 3. thrown
 4. sacrificed

Question ID : 9895805236
Chosen Option : --

Q.3 Select the option that means the same as the given idiom.

The grass is greener on the other side

- Ans 1. Only green grass grows well
 2. Things appear better for others
 3. Many things looks like green grass
 4. Green grass grows everywhere

Question ID : 9895805249
Chosen Option : --

Q.4 Select the antonym of the given word.

MALEVOLENT

- Ans 1. Well-mannered
 2. Kind
 3. Positive
 4. Cruel

Question ID : 9895805247
Chosen Option : --

Q.5 Select the most appropriate option to substitute the underlined segment in the given sentence. If there is no need to substitute it, select No improvement.

We should offer due respects to all elderly persons.

- Ans 1. offer due respects for

- 2. offers due respects to
- 3. No improvement
- 4. offer due respect to

Question ID : 9895805234
Chosen Option : --

Q.6 Select the synonym of the given word.

HANDY

- Ans
- 1. Convenient
 - 2. Nice
 - 3. Funny
 - 4. Easy

Question ID : 9895805245
Chosen Option : --

Q.7 Select the most appropriate word to fill in the blank.

Apart from cows, buffaloes are also _____ for mass milk production for humans.

- Ans
- 1. developed
 - 2. grown
 - 3. produced
 - 4. reared

Question ID : 9895805254
Chosen Option : --

Q.8 Select the most appropriate option to substitute the underlined segment in the given sentence. If there is no need to substitute it, select No improvement.

Regular exercise lead to fitness of the body.

- Ans
- 1. No improvement
 - 2. leads to fitness of the body
 - 3. will leads to fitness of the body
 - 4. leading to fitness of the body

Question ID : 9895805235
Chosen Option : --

Q.9 From the given options, identify the segment in the sentence which contains the grammatical error.

Nowadays spectacles are costly than they used to be.

- Ans
- 1. they used to be.
 - 2. costly than

3. spectacles are

4. Nowadays

Question ID : 9895805231
Chosen Option : --

Q.1
0 Select the synonym of the given word.

NOMADIC

Ans 1. Brave

2. Roving

3. Wild

4. Barbaric

Question ID : 9895805244
Chosen Option : --

Q.1
1 Select the most appropriate word to fill in the blank.

Dinosaurs are an _____ species now.

Ans 1. antique

2. extinct

3. age-old

4. ancient

Question ID : 9895805255
Chosen Option : --

Q.1
2 Select the most appropriate option to substitute the underlined segment in the given sentence. If there is no need to substitute it, select No improvement.

The Indian forces are known for their bravery.

Ans 1. force are known for

2. No improvement

3. forces are known of

4. forces is known for

Question ID : 9895805233
Chosen Option : --

Q.1
3 Select the word which means the same as the group of words given.

Something which gets broken easily

Ans 1. Soft

2. Fragile

3. Feeble

4. Weak

Question ID : 9895805251
Chosen Option : --

Q.1
4 Select the word which means the same as the group of words given.

One who speaks many languages

Ans 1. Bilingual

2. Multilingual

3. Monolingual

4. Linguist

Question ID : 9895805250
Chosen Option : --

Comprehension:

In the following passage some words have been deleted. Fill in the blanks with the help of the alternatives given.

The neglect of one half of mankind costs the world a great deal both, in economic and social (1) _____. A family (2) _____ an educated mother is, in most cases, a poorer family than one in which everyone is educated and can (3) _____ a living. A family with an uneducated mother may (4) _____ in other ways too, because the mother is (5) _____ to help the children in their education.

SubQuestion No : 15

Q.1
5 Select the most appropriate option that will fill in the blank number 1.

Ans 1. terms

2. values

3. areas

4. aspects

Question ID : 9895805239
Chosen Option : --

Comprehension:

In the following passage some words have been deleted. Fill in the blanks with the help of the alternatives given.

The neglect of one half of mankind costs the world a great deal both, in economic and social (1) _____. A family (2) _____ an educated mother is, in most cases, a poorer family than one in which everyone is educated and can (3) _____ a living. A family with an uneducated mother may (4) _____ in other ways too, because the mother is (5) _____ to help the children in their education.

SubQuestion No : 16

Q.1
6 Select the most appropriate option that will fill in the blank number 2.

- Ans
- 1. of
 - 2. including
 - 3. with
 - 4. without

Question ID : 9895805240
Chosen Option : --

Comprehension:

In the following passage some words have been deleted. Fill in the blanks with the help of the alternatives given.

The neglect of one half of mankind costs the world a great deal both, in economic and social (1) _____. A family (2) _____ an educated mother is, in most cases, a poorer family than one in which everyone is educated and can (3) _____ a living. A family with an uneducated mother may (4) _____ in other ways too, because the mother is (5) _____ to help the children in their education.

SubQuestion No : 17

Q.1
7 Select the most appropriate option that will fill in the blank number 3.

- Ans
- 1. earn
 - 2. create
 - 3. plan
 - 4. manage

Question ID : 9895805241
Chosen Option : --

Comprehension:

In the following passage some words have been deleted. Fill in the blanks with the help of the alternatives given.

The neglect of one half of mankind costs the world a great deal both, in economic and social (1) _____. A family (2) _____ an educated mother is, in most cases, a poorer family than one in which everyone is educated and can (3) _____ a living. A family with an uneducated mother may (4) _____ in other ways too, because the mother is (5) _____ to help the children in their education.

SubQuestion No : 18

Q.1
8 Select the most appropriate option that will fill in the blank number 4.

- Ans
- 1. suffer
 - 2. prosper
 - 3. destroy
 - 4. fail

Question ID : 9895805242
Chosen Option : --

Comprehension:

In the following passage some words have been deleted. Fill in the blanks with the help of the alternatives given.

The neglect of one half of mankind costs the world a great deal both, in economic and social (1) _____. A family (2) _____ an educated mother is, in most cases, a poorer family than one in which everyone is educated and can (3) _____ a living. A family with an uneducated mother may (4) _____ in other ways too, because the mother is (5) _____ to help the children in their education.

SubQuestion No : 19

Q.1
9 Select the most appropriate option that will fill in the blank number 5.

- Ans
- 1. qualified
 - 2. unable
 - 3. eligible
 - 4. able

Question ID : 9895805243
Chosen Option : --

Q.2
0 From the given options, identify the segment in the sentence which contains the grammatical error.

Dr. Rana is our teacher of English since this semester.

- Ans
- 1. of English since
 - 2. our teacher

- 3. Dr. Rana is
- 4. this semester.

Question ID : 9895805232
Chosen Option : --

Q.2
1 Select the correctly spelt word.

- Ans
- 1. Exageration
 - 2. Exaggaration
 - 3. Exeggeration
 - 4. Exaggeration

Question ID : 9895805252
Chosen Option : --

Q.2
2 From the given options, identify the segment in the sentence which contains the grammatical error.

We must visit this ancient temple which are a hundred years old.

- Ans
- 1. We must visit
 - 2. which are
 - 3. a hundred years old.
 - 4. this ancient temple

Question ID : 9895805230
Chosen Option : --

Q.2
3 Select the correctly spelt word.

- Ans
- 1. Accommodate
 - 2. Accomodate
 - 3. Acommodate
 - 4. Accommadate

Question ID : 9895805253
Chosen Option : --

Q.2
4 Select the option that means the same as the given idiom.

A stone's throw away

- Ans
- 1. At a short distance
 - 2. Many miles away
 - 3. Very far off
 - 4. At a remote location

Question ID : 9895805248

Q.2
5 Select the most appropriate option to fill in the blank.

Scientists tried to find out the _____ behind the occurrence of the phenomenon.

- Ans
- 1. illustration
 - 2. cause
 - 3. interpretation
 - 4. clarification

Question ID : 9895805237

Chosen Option : --

Section : Hindi Language

Comprehension:

निम्नलिखित गद्यांश के रिक्त स्थानों की पूर्ति गद्यांश के नीचे दिए गए प्रश्नों के अनुसार कीजिए -

संगीत के बारे में प्रायः जन साधारण की यह _____ (1) है कि यह मन बहलाने अथवा _____ (2) का साधन है, अथवा भजन-पूजन में कविताएँ एवं छंद आदि भगवान के गुणगान की वस्तुएँ हैं। वस्तुतः _____ (3) के और भी उपयोग हैं। यह _____ (4) ही नहीं, मूक पशु-पक्षियों तक की _____ (5) को प्रेरित करने में सक्षम है। मनुष्य समझदार होने के कारण और भी अधिक लाभान्वित होता है।

SubQuestion No : 1

Q.1 गद्यांश में संकेतित रिक्त स्थान (1) के लिए उपयुक्त शब्द होगा -

- Ans
- 1. साधन
 - 2. मान्यता
 - 3. गायन
 - 4. धरती

Question ID : 9895805547

Chosen Option : 3

Comprehension:

निम्नलिखित गद्यांश के रिक्त स्थानों की पूर्ति गद्यांश के नीचे दिए गए प्रश्नों के अनुसार कीजिए -

संगीत के बारे में प्रायः जन साधारण की यह _____ (1) है कि यह मन बहलाने अथवा _____ (2) का साधन है, अथवा भजन-पूजन में कविताएँ एवं छंद आदि भगवान के गुणगान की वस्तुएँ हैं। वस्तुतः _____ (3) के और भी उपयोग हैं। यह _____ (4) ही नहीं, मूक पशु-पक्षियों तक की _____ (5) को प्रेरित करने में सक्षम है। मनुष्य समझदार होने के कारण और भी अधिक लाभान्वित होता है।

SubQuestion No : 2

Q.2 गद्यांश में संकेतित रिक्त स्थान (2) के लिए उपयुक्त शब्द होगा -

- Ans
- 1. धरती
 - 2. भरपूर
 - 3. विश्व
 - 4. मनोरंजन

Question ID : 9895805548
Chosen Option : 4

Comprehension:

निम्नलिखित गद्यांश के रिक्त स्थानों की पूर्ति गद्यांश के नीचे दिए गए प्रश्नों के अनुसार कीजिए -

संगीत के बारे में प्रायः जन साधारण की यह _____ (1) है कि यह मन बहलाने अथवा _____ (2) का साधन है, अथवा भजन-पूजन में कविताएँ एवं छंद आदि भगवान के गुणगान की वस्तुएँ हैं। वस्तुतः _____ (3) के और भी उपयोग हैं। यह _____ (4) ही नहीं, मूक पशु-पक्षियों तक की _____ (5) को प्रेरित करने में सक्षम है। मनुष्य समझदार होने के कारण और भी अधिक लाभान्वित होता है।

SubQuestion No : 3

Q.3 गद्यांश में संकेतित रिक्त स्थान (3) के लिए उपयुक्त शब्द होगा -

- Ans
- 1. पुस्तक

- 2. मृदंग
- 3. तबला
- 4. संगीत

Question ID : 9895805549
Chosen Option : 3

Comprehension:

निम्नलिखित गद्यांश के रिक्त स्थानों की पूर्ति गद्यांश के नीचे दिए गए प्रश्नों के अनुसार कीजिए -

संगीत के बारे में प्रायः जन साधारण की यह _____ (1) है कि यह मन बहलाने अथवा _____ (2) का साधन है, अथवा भजन-पूजन में कविताएँ एवं छंद आदि भगवान के गुणगान की वस्तुएँ हैं। वस्तुतः _____ (3) के और भी उपयोग हैं। यह _____ (4) ही नहीं, मूक पशु-पक्षियों तक की _____ (5) को प्रेरित करने में सक्षम है। मनुष्य समझदार होने के कारण और भी अधिक लाभान्वित होता है।

SubQuestion No : 4

Q.4 गद्यांश में संकेतित रिक्त स्थान (4) के लिए उपयुक्त शब्द होगा -

- Ans
- 1. आकाश
 - 2. मनुष्य
 - 3. घृणा
 - 4. पानी

Question ID : 9895805550
Chosen Option : 2

Comprehension:

निम्नलिखित गद्यांश के रिक्त स्थानों की पूर्ति गद्यांश के नीचे दिए गए प्रश्नों के अनुसार कीजिए -

संगीत के बारे में प्रायः जन साधारण की यह _____ (1) है कि यह मन बहलाने अथवा _____ (2) का साधन है, अथवा भजन-पूजन में कविताएँ एवं छंद आदि भगवान के गुणगान की वस्तुएँ हैं। वस्तुतः _____ (3) के और भी उपयोग हैं। यह _____ (4) ही नहीं, मूक पशु-पक्षियों तक की _____ (5) को प्रेरित करने में सक्षम है। मनुष्य समझदार होने के कारण और भी अधिक लाभान्वित होता है।

SubQuestion No : 5

Q.5 गद्यांश में संकेतित रिक्त स्थान (5) के लिए उपयुक्त शब्द होगा -

- Ans
- 1. रोग
 - 2. घ्राण
 - 3. भावनाओं
 - 4. स्वाद

Question ID : 9895805551
Chosen Option : 3

Q.6 रिक्त स्थान को भरने के लिए उपयुक्त शब्द का चयन करें।

सबने _____ बजाई।

- Ans
- 1. बोलियाँ
 - 2. बाजा
 - 3. तालियाँ
 - 4. गाल

Question ID : 9895805545
Chosen Option : 3

Q.7 दिए गए वाक्य का वह भाग ज्ञात करें जिसमें कोई त्रुटि है।

कभी न कभी इस भ्रष्टाचार के विरुद्ध हमें आवाज उठानी होगा।

- Ans
- 1. कभी न कभी
 - 2. विरुद्ध हमें
 - 3. आवाज उठानी होगा।

✗ 4. इस भ्रष्टाचार के

Question ID : 9895805538
Chosen Option : 3

Q.8 दिए गए शब्द के पर्यायवाची शब्द का चयन करें।

मरुस्थल

- Ans
- ✗ 1. ऊँट
 - ✗ 2. धूल
 - ✗ 3. रेत
 - ✓ 4. रेगिस्तान

Question ID : 9895805555
Chosen Option : 4

Q.9 दिए गए शब्द का विलोम चुनें।

दूषित

- Ans
- ✗ 1. भ्रष्ट
 - ✓ 2. स्वच्छ
 - ✗ 3. प्रदूषित
 - ✗ 4. विकृत

Question ID : 9895805552
Chosen Option : 2

Q.10 सही वर्तनी वाले शब्द का चयन करें।

- Ans
- ✓ 1. रसोईघर
 - ✗ 2. रसोइघर
 - ✗ 3. रसौईघर
 - ✗ 4. रसौइघर

Question ID : 9895805560
Chosen Option : 1

Q.1 दिए गए वाक्य का वह भाग ज्ञात करें जिसमें कोई त्रुटि है।

वन प्रकृति की देन हैं, वे देश से सुंदरता में वृद्धि करते हैं।

- Ans
- ✓ 1. वे देश से

2. सुंदरता में
 3. वृद्धि करते हैं।
 4. वन प्रकृति की देन हैं,

Question ID : 9895805536
Chosen Option : 4

Q.1
2 दिए गए वाक्य में रेखांकित खंड को प्रतिस्थापित करने के लिए उपयुक्त विकल्प का चयन करें।
मिठाईयाँ लेकर विजय बाबू घर चला गया।

- Ans 1. घर चले गया।
 2. घर चली गयी।
 3. घर चले गए।
 4. घर गए चले।

Question ID : 9895805539
Chosen Option : 3

Q.1
3 निम्नलिखित में से उस विकल्प का चयन करें जो 'थाली का बेंगन' मुहावरे का अर्थ व्यक्त करता है।

- Ans 1. इधर की बात उधर करने वाला व्यक्ति
 2. घमंडी व्यक्ति
 3. सिद्धांतरहित व्यक्ति
 4. सिद्धांतवादी व्यक्ति

Question ID : 9895805556
Chosen Option : 2

Q.1
4 दिए गए शब्द का विलोम चुनें।

मौन

- Ans 1. मुखर
 2. चुप
 3. कंठस्थ
 4. स्वरचित

Question ID : 9895805553
Chosen Option : 1

Q.1
5 दिये गये वाक्यांश के लिए एक शब्द दीजिये।

जो सब कुछ जानता हो

- Ans
- 1. कर्मज
 - 2. अल्पज
 - 3. सर्वज
 - 4. मर्मज

Question ID : 9895805559
Chosen Option : 3

Q.1 6 दिए गए वाक्य में रेखांकित खंड को प्रतिस्थापित करने के लिए उपयुक्त विकल्प का चयन करें।

मुझे जिस वस्तु की आवश्यकता है यह वस्तु तुम मुझे दे देना।

- Ans
- 1. वह वस्तु तुम मेरे को दे देना।
 - 2. यही वस्तु तुम मुझे दे देना।
 - 3. उस वस्तु तुम मुझे दे देना।
 - 4. वह वस्तु तुम मुझे दे देना।

Question ID : 9895805540
Chosen Option : 4

Q.1 7 दिये गये वाक्यांश के लिए एक शब्द दीजिये।

जो कम बोलता हो

- Ans
- 1. मितव्ययी
 - 2. वाचाल
 - 3. मितभाषी
 - 4. मूक

Question ID : 9895805558
Chosen Option : 3

Q.1 8 दिए गए वाक्य में रेखांकित खंड को प्रतिस्थापित करने के लिए उपयुक्त विकल्प का चयन करें।

तुम्हारे गुरु तुमकी प्रार्थना स्वीकार कर सकते हैं, परन्तु हम नहीं।

- Ans
- 1. तुमसे प्रार्थना
 - 2. तुम्हारी प्रार्थना
 - 3. तुझे प्रार्थना
 - 4. तुम प्रार्थना

Question ID : 9895805541
Chosen Option : 2

Q.1 रिक्त स्थान को भरने के लिए उपयुक्त शब्द का चयन करें।

बोलने के पहले _____ करो।

- Ans
- 1. पिया
 - 2. सोचा
 - 3. खाया
 - 4. सोया

Question ID : 9895805543
Chosen Option : 2

Q.2 रिक्त स्थान को भरने के लिए उपयुक्त शब्द का चयन करें।

राजीव छत _____ सो रहा है।

- Ans
- 1. पर
 - 2. अंदर
 - 3. में
 - 4. से

Question ID : 9895805542
Chosen Option : 1

Q.2 दिए गए वाक्य का वह भाग ज्ञात करें जिसमें कोई त्रुटि है।

सब्जियाँ इतनी महँगी हैं कि उन्हें खरीदते हुए ग्राहक को सोचना पड़ना रहा है।

- Ans
- 1. उन्हें खरीदते हुए
 - 2. सब्जियाँ इतनी महँगी हैं कि
 - 3. सोचना पड़ना रहा है।
 - 4. ग्राहक को

Question ID : 9895805537
Chosen Option : 2

Q.2 सही वर्तनी वाले शब्द का चयन करें।

- Ans
- 1. वनवाश
 - 2. वनबास
 - 3. बनवास
 - 4. वनवास

Question ID : 9895805561
Chosen Option : 4

Q.2
3 दिए गए शब्द के पर्यायवाची शब्द का चयन करें।

राष्ट्र

- Ans
- 1. बाहर
 - 2. संसार
 - 3. देश
 - 4. धरती

Question ID : 9895805554
Chosen Option : 3

Q.2
4 रिक्त स्थान को भरने के लिए उपयुक्त शब्द का चयन करें।

जो करे वह _____।

- Ans
- 1. मरे
 - 2. सोये
 - 3. भरे
 - 4. जागे

Question ID : 9895805544
Chosen Option : 3

Q.2
5 निम्नलिखित में से उस विकल्प का चयन करें जो 'दंग रह जाना' मुहावरे का अर्थ व्यक्त करता है।

- Ans
- 1. चकित हो जाना
 - 2. नाराज़ हो जाना
 - 3. परेशान हो जाना
 - 4. बदल जाना

Question ID : 9895805557
Chosen Option : 1