

Constable (GD) in CAPFs, NIA, SSF and Rifleman (GD) in Assam Rifles Examination, 2018

Roll No. :	GovtJobsAlert.In
Registration No.	GovtJobsAlert.In
Name :	GovtJobsAlert.In
Exam Venue :	iON Digital Zone iDZ Narhe
Exam Time :	9:00 AM - 10:30 AM
Exam Date :	19/02/2019

Section : General Section

Q.1 उस विकल्प का चयन करें जो तीसरे पद से उसी तरह संबंधित है, जिस तरह दूसरा पद पहले पद से संबंधित है।

BDFH : AFCL :: FHJL : ?

- Ans
- 1. EIGP
 - 2. EJFO
 - 3. EJGP
 - 4. HFGN

Question ID : 9895803855
Chosen Option : 3

Q.2 नीचे दी गई आकृति की सही दर्पण छवि का चयन करें, अगर दर्पण को इस इस आकृति की दाईं ओर रखा जाए तो।



- Ans
- 1.
 - 2.
 - 3.
 - 4.

Question ID : 9895803871
Chosen Option : 1

Q.3 चार संख्याएँ दी गई हैं जिनमें से तीन संख्याएँ किसी न किसी रूप में समान हैं, जबकि एक संख्या भिन्न है। असंगत संख्या चुनिए।

- Ans 1. 55

2. 42

3. 84

4. 91

Question ID : 9895803866
Chosen Option : 4

Q.4 उस विकल्प का चयन करें जो सही रूप में रिक्त स्थान को भरे और श्रृंखला को पूरा करें।
2, 3, 4, 8, 16, 25, _____

Ans 1. 114

2. 85

3. 68

4. 79

Question ID : 9895803863
Chosen Option : --

Q.5 असंगत युग्म का चयन करें।

Ans 1. 23-32

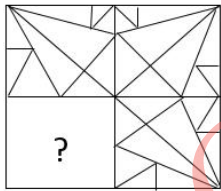
2. 17-52

3. 12-21

4. 14-41

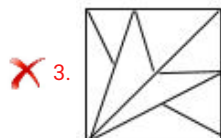
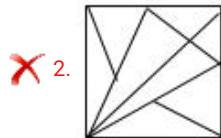
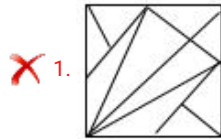
Question ID : 9895803865
Chosen Option : 2

Q.6 उस आकृति का चयन करें जिसे 'X' से चिह्नित रिक्त स्थान पर रखने से चित्र का पैटर्न पूर्ण हो जाएगा।

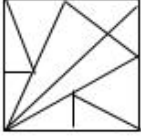


(X)

Ans



✓ 4.



Question ID : 9895803870
Chosen Option : 4

Q.7 छह वस्तुओं P, Q, R, S, T और U में, Q, R से भारी है लेकिन T से हल्की है। S, T से हल्की है लेकिन U से भारी है। P, Q से हल्की है लेकिन S से भारी है। तो दूसरी सबसे भारी वस्तु कौन सी है?

- Ans
- 1. S
 - 2. P
 - 3. Q
 - 4. T

Question ID : 9895803860
Chosen Option : 2

Q.8 उस विकल्प का चयन करें जो तीसरे पद से उसी तरह संबंधित है, जिस तरह दूसरा पद पहले पद से संबंधित है।
यातना : क्रूरता :: क्षमाशीलता : ?

- Ans
- 1. उदारता
 - 2. विनम्रता
 - 3. कृतज्ञता
 - 4. माफी

Question ID : 9895803854
Chosen Option : 2

Q.9 उस विकल्प का चयन करें जो सही रूप में रिक्त स्थान को भरे और श्रृंखला को पूरा करें।
cab, gef, ljk, rpq, _____

- Ans
- 1. wvu
 - 2. yxw
 - 3. ywx
 - 4. zxy

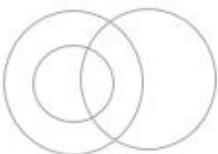
Question ID : 9895803850
Chosen Option : 3

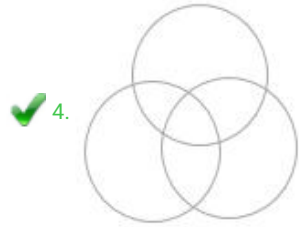
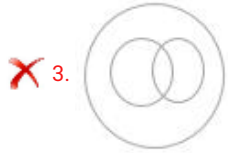
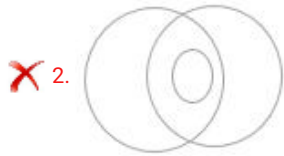
Q.10 कौनसा वेन आरेख वर्गों के दिए गए समुच्चय को सर्वोत्तम रूप से प्रदर्शित करेगा?

शिक्षित, माताएँ और नियोजित

Ans

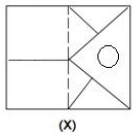
1.



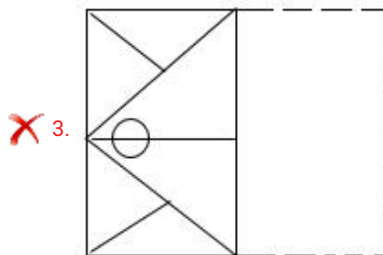
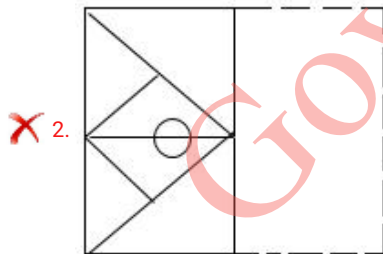
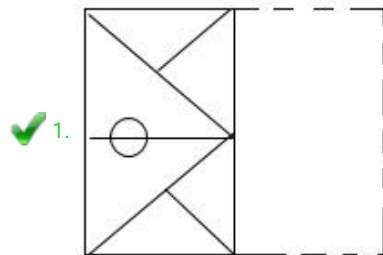


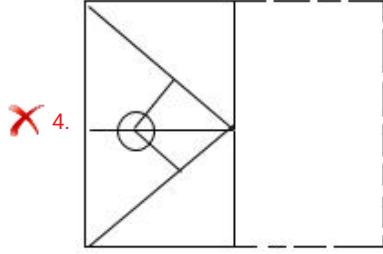
Question ID : 9895803874
Chosen Option : 4

Q.1 'X' से चिह्नित आयताकार पारदर्शी कागज का पैटर्न तब कैसा दिखेगा जब इस कागज को डॉट से बनाई गई रेखा पर मोड़ा जाएगा?



Ans





Question ID : 9895803873
Chosen Option : 1

Q.1
2 निम्न चार अक्षर समूहों में से कौन सा एक इस समूह का हिस्सा नहीं है?

- Ans
- ✗ 1. DWTG
 - ✗ 2. BYWD
 - ✗ 3. CXWD
 - ✓ 4. FUSG

Question ID : 9895803851
Chosen Option : 4

Q.1
3 'सवेरा', 'संध्या' से उसी तरह संबंधित है जिस तरह 'उद्घाटन', _____ से संबंधित है।

- Ans
- ✗ 1. आमंत्रण
 - ✗ 2. समागम
 - ✓ 3. बिदाई
 - ✗ 4. निष्कर्ष

Question ID : 9895803853
Chosen Option : 2

Q.1
4 उस विकल्प का चयन करें जो सही रूप में रिक्त स्थान को भरे और श्रृंखला को पूरा करें।
2, 5, 7, 12, ?, 31, 50

- Ans
- ✓ 1. 19
 - ✗ 2. 21
 - ✗ 3. 25
 - ✗ 4. 18

Question ID : 9895803864
Chosen Option : 1

Q.1
5 छह घर A, B, C, D, E और F दो कतार में अवस्थित हैं। हर कतार में आमने-सामने 3-3 घर हैं। F, C के सामने है, जो कि E के बाएँ है। D, A की दाईं ओर है। तो किस घर का मुँह B की ओर है?

- Ans
- ✗ 1. D
 - ✓ 2. A
 - ✗ 3. C

X 4. E

Question ID : 9895803859
Chosen Option : 3

Q.1 नीचे दिए गए कथनों के बाद दो निष्कर्ष I और II दिए गए हैं। यह मानते हुए कि कथनों में दी गई जानकारी सत्य है, भले ही वह सर्वज्ञात तथ्यों से भिन्न प्रतीत होती हो और यह निर्णय करें कि कौन सा / से निष्कर्ष तार्किक और निश्चित रूप से कथन में दी गई जानकारी का अनुसरण करता है / करते हैं।

कथन:

1. कुछ फूल सफेद हैं।
2. कुछ सफेद वस्तुएँ गोलाकार हैं।

निष्कर्ष:

- I. कुछ फूल गोलाकार हैं।
- II. हर गोलाकार वस्तु या तो सफेद है या वह एक फूल है।

Ans

- X 1. केवल निष्कर्ष I अनुसरण करता है
- X 2. केवल निष्कर्ष II अनुसरण करता है
- ✓ 3. न तो निष्कर्ष I और ना ही II अनुसरण करता है
- X 4. निष्कर्ष I और निष्कर्ष II, दोनों अनुसरण करते हैं

Question ID : 9895803861
Chosen Option : 4

Q.1 चार शब्द दिए गए हैं, जिनमें से तीन किसी तरह से समान हैं, जबकि एक अलग है। विषम शब्द चुनें।

Ans

- X 1. आक्रोश
- X 2. आनंद
- ✓ 3. शांत
- X 4. भय

Question ID : 9895803852
Chosen Option : 1

Q.1 V, X, Y और Z ताश खेल रहे हैं। X, Y के बाएँ है और V, Z के दाएँ है। अगर X पश्चिम की ओर मुँह करके बैठा है तो V किस दिशा में मुँह करके बैठा है?

Ans

- X 1. पूर्व
- ✓ 2. उत्तर
- X 3. दक्षिण
- X 4. पश्चिम

Question ID : 9895803858
Chosen Option : 2

Q.1
9

नीचे दिए गए कथनों के बाद दो निष्कर्ष I और II दिए गए हैं। यह मानते हुए कि कथनों में दी गई जानकारी सत्य है, भले ही वह सर्वज्ञात तथ्यों से भिन्न प्रतीत होती हो और यह निर्णय करें कि कौन सा / से निष्कर्ष तार्किक और निश्चित रूप से कथन में दी गई जानकारी का अनुसरण करता है / करते हैं।

कथन:

1. कुछ आम फल हैं।
2. सभी फल मीठे होते हैं।

निष्कर्ष:

- I. कुछ मीठे पदार्थ आम होते हैं।
- II. सभी मीठे पदार्थ फल हैं।
- III. कुछ आम न तो फल हैं और ना ही मीठे हैं।

Ans 1. केवल निष्कर्ष I और II अनुसरण करते हैं

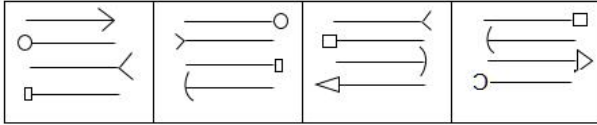
2. केवल निष्कर्ष I अनुसरण करता है

3. केवल निष्कर्ष II और III अनुसरण करते हैं

4. केवल निष्कर्ष I और III अनुसरण करते हैं

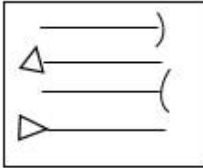
Question ID : 9895803862
Chosen Option : 4

Q.2 विकल्पों में से उस आकृति का चयन करें जो दी गई श्रृंखला में अगले स्थान पर आएगी।

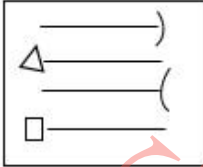


Ans

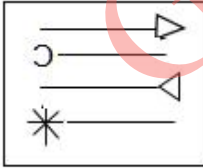
1.



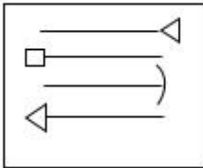
2.



3.



4.



Question ID : 9895803869
Chosen Option : 3

Q.2
1

निम्नलिखित सेट की संख्याएँ एक खास प्रकार से आपस में संबंधित हैं। दिए गए विकल्पों में से उस सेट का चयन करें जो निम्नलिखित सेट के समान है।

{6, 10, 8}

- Ans
- 1. {3, 6, 4}
 - 2. {13, 17, 16}
 - 3. {5, 13, 12}
 - 4. {8, 12, 9}

Question ID : 9895803867
Chosen Option : 4

Q.2 एक कूट भाषा में, HEAD = 4158 और PASTE = 52019116 है, तो TRICK क्या होगा?

- Ans
- 1. 11391820
 - 2. 11932018
 - 3. 11391718
 - 4. 31191820

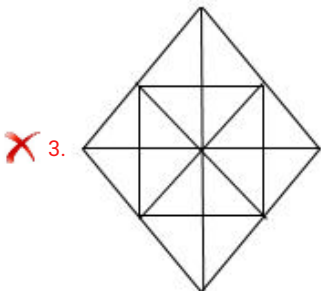
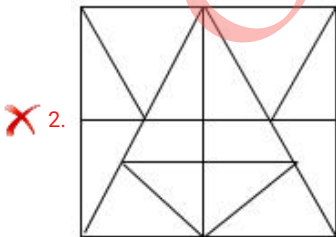
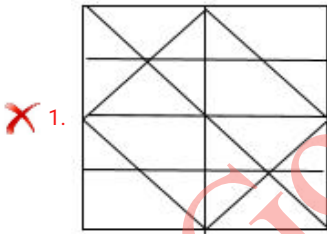
Question ID : 9895803857
Chosen Option : 3

Q.3 विकल्पों में से उस आकृति का चयन करें जिसमें 'X' से चिह्नित आकृति समाहित है।

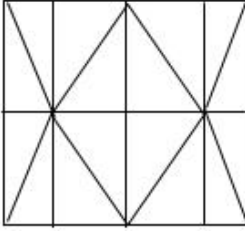


(X)

Ans



✓ 4.



Question ID : 9895803872
Chosen Option : 4

Q.2 अगर एक कूट भाषा में SYMPHONY को ZOPIQNZT के रूप में कूटबद्ध किया जाता है, तो THURSDAY को किस रूप में कूटबद्ध किया जाएगा?

- Ans
- 1. ZBETSIVU
 - 2. ZBETSVIU
 - 3. UIVSTEBZ
 - 4. XZCRQTGS

Question ID : 9895803856
Chosen Option : 1

Q.2 कौन से दो चिह्नों को अगर आपस में एक-दूसरे से बदल दिया जाएगा तो निम्नलिखित समीकरण सही हो जाएगा?
5 $12 + 16 + 8 \times 4 - 8 = 24$

- Ans
- 1. - और ÷
 - 2. ÷ और ×
 - 3. × और -
 - 4. + और ×

Question ID : 9895803868
Chosen Option : 1

Q.2 6 भारत के संविधान में कितनी अनुसूचियाँ हैं?

- Ans
- 1. 11
 - 2. 14
 - 3. 12
 - 4. 13

Question ID : 9895805420
Chosen Option : 3

Q.2 7 इनमें से किस सुप्रसिद्ध पार्श्व गायिका को भारत-रत्न पुरस्कार से सम्मानित किया गया है?

- Ans
- 1. श्रेया घोषाल
 - 2. शुभा मुद्गल
 - 3. लता मंगेशकर

✗ 4. आशा भोंसले

Question ID : 9895805415
Chosen Option : 3

Q.2
8 नालंदा किस धर्म का प्राचीन शिक्षण संस्थान था?

- Ans
- ✗ 1. जैन
 - ✓ 2. बौद्ध
 - ✗ 3. इस्लाम
 - ✗ 4. ईसाई

Question ID : 9895805411
Chosen Option : 1

Q.2
9 भारत में तृतीयक क्षेत्र के बढ़ते महत्व के संदर्भ में निम्नलिखित में से कौन सा कथन सही नहीं है?

- Ans
- ✗ 1. प्रति व्यक्ति आय में वृद्धि
 - ✓ 2. ग्रामीण क्षेत्रों में राजनीतिक जागरूकता का विकास
 - ✗ 3. सेवा प्रदाता उद्योगों का विकास
 - ✗ 4. सूचना और प्रौद्योगिकी का विकास

Question ID : 9895805419
Chosen Option : 1

Q.3
0 किसी राजकोषीय वर्ष में सरकार की सभी प्राप्तियों और व्यय का वार्षिक लेखा-जोखा क्या कहलाता है?

- Ans
- ✗ 1. कर
 - ✗ 2. पूँजी
 - ✓ 3. बजट
 - ✗ 4. राजस्व

Question ID : 9895805418
Chosen Option : 3

Q.3
1 उस्ताद अमजद अली खान किस वाद्य-यंत्र के लिए जाने जाते हैं?

- Ans
- ✗ 1. वीणा
 - ✗ 2. वायलिन
 - ✓ 3. सरोद
 - ✗ 4. तबला

Question ID : 9895805410
Chosen Option : 3

Q.3
2 यमुना नदी निम्नलिखित में से किस राज्य से नहीं गुज़रती है?

- Ans
- 1. उत्तर प्रदेश
 - 2. गुजरात
 - 3. हरियाणा
 - 4. उत्तराखंड

Question ID : 9895805430
Chosen Option : 3

Q.3
3 "दुनिया के मजदूर एकजुट हों" का नारा किससे संबंधित था?

- Ans
- 1. अमरीकी क्रांति
 - 2. फ्रेंच क्रांति
 - 3. रूसी क्रांति
 - 4. जापानी क्रांति

Question ID : 9895805433
Chosen Option : 2

Q.3
4 किस प्रकार का सूक्ष्म जीव टाइफाइड का कारण बनता है?

- Ans
- 1. जीवाणु
 - 2. वाइरस
 - 3. कवक
 - 4. प्रोटोज़ोआ

Question ID : 9895805427
Chosen Option : 2

Q.3
5 निम्नलिखित में से कौन सा श्रम गहन उद्योग है?

- Ans
- 1. चाय
 - 2. दलहन
 - 3. गेहूँ
 - 4. मक्का

Question ID : 9895805428
Chosen Option : --

Q.3
6 निम्नलिखित में से किस परिस्थिति में, भारत में स्वतंत्रता के मौलिक अधिकार को कम किया जाता है?

- Ans
- 1. राज्य का आपातकाल

- 2. महामारी आपातकाल
- 3. वित्तीय आपातकाल
- 4. राष्ट्रीय आपातकाल

Question ID : 9895805422
Chosen Option : 4

Q.3
7 जब बल दो सतहों के बीच सापेक्ष गति का प्रतिरोध करता है, तो इसे _____ कहा जाता है।

- Ans
- 1. घर्षण
 - 2. प्रेरण
 - 3. संवहन
 - 4. प्रतिरोध

Question ID : 9895805423
Chosen Option : 1

Q.3
8 _____ पूर्वी पर्वत श्रृंखला के रूप में जानी जाती है।

- Ans
- 1. काराकोरम
 - 2. अरावली
 - 3. शिवालिक
 - 4. पटकाई पहाड़ियां

Question ID : 9895805429
Chosen Option : 2

Q.3
9 किस दिन को विश्व पर्यावरण दिवस के रूप में मनाया जाता है?

- Ans
- 1. 5 जून
 - 2. 1 मई
 - 3. 5 अगस्त
 - 4. 1 दिसंबर

Question ID : 9895805426
Chosen Option : 1

Q.4
0 भारतीय संविधान में पहला संशोधन किस वर्ष किया गया था?

- Ans
- 1. 1950
 - 2. 1948
 - 3. 1947
 - 4. 1951

Question ID : 9895805421

Chosen Option : 3

Q.4
1 राष्ट्रीय स्ववैश 2018 महिला एकल खिताब किसने जीता?

- Ans
- 1. दीपिका पल्लीकल
 - 2. भुवनेशकुमारी
 - 3. जोशना चिनप्पा
 - 4. उर्वशी जोशी

Question ID : 9895805413

Chosen Option : 1

Q.4
2 जलमिश्रित ऐसीटिक अम्ल आमतौर पर किस नाम से जाना जाता है?

- Ans
- 1. सिरका
 - 2. फिटकरी
 - 3. नीला विट्रियल
 - 4. ओलियम

Question ID : 9895805424

Chosen Option : 3

Q.4
3 आर.के. लक्ष्मण किस कला के लिए जाने जाते हैं?

- Ans
- 1. शास्त्रीय संगीत
 - 2. कार्टून
 - 3. भित्ति-चित्र
 - 4. फ़िल्म

Question ID : 9895805414

Chosen Option : 1

Q.4
4 बैंकों में जमा राशि के अधिकतर हिस्से का उपयोग किसलिए किया जाता है?

- Ans
- 1. ऋण
 - 2. ब्याज
 - 3. गारंटी
 - 4. संपार्श्विक

Question ID : 9895805417

Chosen Option : 3

Q.4
5 भारतीय राष्ट्रीय आंदोलन के संदर्भ में, 'सरहदी गांधी' के नाम से किसे जाना जाता था?

- Ans
- 1. मगफूर अहमद अजाजी
 - 2. खान अब्दुल गफ्फार खान
 - 3. अशफाकुल्ला खान
 - 4. उधम सिंह

Question ID : 9895805431
Chosen Option : 2

Q.4
6 आईसीसी इमर्जिंग प्लेयर ऑफ द ईयर 2018 किसे प्रदान किया गया?

- Ans
- 1. हार्दिक पंड्या
 - 2. शिखर धवन
 - 3. के. एल. राहुल
 - 4. ऋषभ पंत

Question ID : 9895805412
Chosen Option : 1

Q.4
7 गिरमिटिया मज़दूर कौन होते हैं?

- Ans
- 1. वह बंधुआ मज़दूर, जो नए देश की यात्रा का भाड़ा चुकाने के लिए मज़दूरी करता है
 - 2. अवैतनिक मज़दूर
 - 3. बाज़ार से खरीदा गया श्रमिक
 - 4. अफ्रीकी गुलाम

Question ID : 9895805432
Chosen Option : 2

Q.4
8 प्रकाश के उद्दीपन के कारण पौधों में होने वाली गति क्या कहलाती है?

- Ans
- 1. श्वसन
 - 2. गुरुत्वीय अनुचलन
 - 3. गुरुत्वानुवर्तन
 - 4. प्रकाशानुवर्तन

Question ID : 9895805425
Chosen Option : 4

Q.4
9 निम्नलिखित में से कौन सी जोड़ी किसी राज्य और उससे संबंधित कला शैली को दर्शाती है?

Ans

1. तमिलनाडु - ओडिसी
 2. उत्तर प्रदेश - कथक
 3. असम - कथकली
 4. पंजाब - मोहिनीअट्टम

Question ID : 9895805409
Chosen Option : --

Q.5
0 'मालगुदी डेज़' किसकी रचना है?

- Ans 1. आर. के. नारायणन
 2. शशि थरूर
 3. अमीष त्रिपाठी
 4. विक्रम सेठ

Question ID : 9895805416
Chosen Option : 3

Q.5
1 $1.25 - [1 \div \{3 + (2 - 0.4 \times 2.5)\}]$ का मान है:

- Ans 1. 1
 2. 2
 3. $\frac{1}{2}$
 4. 0

Question ID : 9895805717
Chosen Option : 4

Q.5
2 दी गई तालिका का अध्ययन करें और प्रश्न का उत्तर दें:

पांच भिन्न कंपनियों में कार्यरत कर्मचारियों की संख्या

कंपनी	कर्मचारियों की संख्या	पुरुषों और महिलाओं का अनुपात
A	380	13 : 6
B	420	4 : 3
C	360	8 : 7
D	320	11 : 9
E	280	3 : 5

कंपनी E में महिला कर्मचारियों की संख्या, कंपनियों A और B के कुल पुरुष कर्मचारियों की संख्या के कितने प्रतिशत के बराबर है?

- Ans 1. 35
 2. 36
 3. 30

X 4. 32

Question ID : 9895805738
Chosen Option : 1

Q.5 तीन धनात्मक संख्याएं दी गई हैं। यदि उनमें से किन्हीं दो के औसत को तीसरी संख्या में जोड़ा जाता है, तो प्राप्त योग 172, 216 और 180 हैं। दी गई तीनों संख्याओं का औसत क्या है?

- Ans
- X 1. 96
 - X 2. $95\frac{1}{3}$
 - X 3. 93
 - ✓ 4. $94\frac{2}{3}$

Question ID : 9895805719
Chosen Option : 2

Q.5 यदि $(x + 4)$, $(x + 12)$, $(x - 1)$, और $(x + 5)$ समानुपात में हैं, तो x और $(x - 7)$ के बीच माध्य समानुपात है:

- Ans
- X 1. 16
 - X 2. 15
 - X 3. 9
 - ✓ 4. 12

Question ID : 9895805725
Chosen Option : 2

Q.5 दो संख्याएँ 3 : 5 के अनुपात में हैं, यदि प्रत्येक से 9 घटाया जाता है, तो प्राप्त संख्याएँ 12 : 23 के अनुपात में होती हैं। यदि छोटी संख्या में 3 जोड़ा जाता है और दूसरी संख्या से 7 घटाया जाता है, तो उनके बीच का अनुपात होगा:

- Ans
- X 1. 4 : 5
 - ✓ 2. 3 : 4
 - X 3. 5 : 6
 - X 4. 5 : 8

Question ID : 9895805724
Chosen Option : 2

Q.5 उस सबसे छोटी संख्या के अंकों का योग क्या है, जिसे 21, 28, 30 और 35 से विभाजित करने पर प्रत्येक मामले में समान शेष 10 प्राप्त होता है, लेकिन 17 से विभाज्य है?

- Ans
- X 1. 14
 - ✓ 2. 13
 - X 3. 10
 - X 4. 11

Question ID : 9895805715

Q.5 4 cm त्रिज्या वाले धातु के एक गोले को पिघलाया जाता है और प्रत्येक 0.4cm व्यास की छोटी छोटी गोलाकार गेंदों के रूप में ढाला जाता है। बनने वाली छोटी गेंदों की संख्या होगी:

- Ans
- 1. 4000
 - 2. 8000
 - 3. 1000
 - 4. 2000

Question ID : 9895805732

Chosen Option : 1

Q.5 16% वार्षिक ब्याज की दर से ₹15625 की राशि पर $2\frac{3}{4}$ वर्ष का चक्रवृद्धि ब्याज है, ब्याज की गणना वार्षिक चक्रवृद्धि आधार पर की जाती है:

- Ans
- 1. ₹7932
 - 2. ₹6661
 - 3. ₹5400
 - 4. ₹7923

Question ID : 9895805728

Chosen Option : 3

Q.5 यदि एक ट्रेन की चाल में 10 km/hr की वृद्धि की जाती है, तो उसे 360 km की यात्रा करने में 3 घंटे कम समय लगता है। इसकी बढ़ी हुई गति (किमी/घंटा में) क्या है?

- Ans
- 1. 30
 - 2. 36
 - 3. 40
 - 4. 42

Question ID : 9895805733

Chosen Option : 2

Q.6 नीचे दिए गए आंकड़ों के परास, माध्यिका और बहुलक का माध्य क्या है?

1, 2, 5, 9, 6, 3, 9, 7, 4, 3, 9, 1, 9, 6, 8, 1

- Ans
- 1. 8
 - 2. $7\frac{1}{2}$
 - 3. 7
 - 4. $8\frac{1}{2}$

Question ID : 9895805729

Chosen Option : 3

Q.6 दी गई तालिका का अध्ययन करें और प्रश्न का उत्तर दें:
1

पांच भिन्न कंपनियों में कार्यरत कर्मचारियों की संख्या

कंपनी	कर्मचारियों की संख्या	पुरुषों और महिलाओं का अनुपात
A	380	13 : 6
B	420	4 : 3
C	360	8 : 7
D	320	11 : 9
E	280	3 : 5

कंपनी C में पुरुष कर्मचारियों की संख्या और कंपनी D में महिला कर्मचारियों की संख्या का अनुपात है:

- Ans
- 1. 5 : 2
 - 2. 4 : 3
 - 3. 8 : 9
 - 4. 3 : 2

Question ID : 9895805737
Chosen Option : 2

Q.6 $\left[\frac{5}{7} \text{ of } 1\frac{3}{8} - \frac{5}{8} \text{ of } \frac{6}{7} \right] \div \left[1 - \frac{1}{7} \times \left(\frac{5}{12} + \frac{1}{3} \right) \right] \times \frac{\frac{1}{7} - \frac{1}{9}}{\frac{1}{7} + \frac{1}{9}}$ का मान है:

- Ans
- 1. 8
 - 2. 4
 - 3. $\frac{1}{16}$
 - 4. $\frac{1}{4}$

Question ID : 9895805716
Chosen Option : 2

Q.6 किसी वस्तु का विक्रय मूल्य, उसके क्रय मूल्य का 84% है। यदि क्रय मूल्य में 20% की वृद्धि की जाती है और विक्रय मूल्य में 25% वृद्धि की जाती है, तो पहले की हानि के मुकाबले हानि में कितने प्रतिशत की वृद्धि/कमी हुई?

- Ans
- 1. $6\frac{1}{4}\%$, कमी
 - 2. $6\frac{1}{4}\%$, वृद्धि
 - 3. $6\frac{2}{3}\%$, कमी
 - 4. $6\frac{2}{3}\%$, वृद्धि

Question ID : 9895805722
Chosen Option : 3

Q.6 ₹14460 की एक राशि को A, B, C और D के बीच इस प्रकार बांटा जाता है कि A और B के हिस्सों का अनुपात 3 : 5 हो, B और C के हिस्सों का अनुपात 6 : 7 हो तथा C और D के हिस्सों का अनुपात 14 : 15 हो। A और C के हिस्सों का अंतर ज्ञात कीजिए?

- Ans
- 1. ₹1500
 - 2. ₹2100
 - 3. ₹2040
 - 4. ₹1440

Question ID : 9895805726
Chosen Option : 2

Q.6 2 पुरुष और 7 महिलाएं एक काम को 14 दिनों में कर सकती हैं, जबकि 3 पुरुष और 8 महिलाएं उसी काम को 11 दिनों में कर सकती हैं। 5 पुरुष और 4 महिलाएं उसी काम को कितने दिनों में कर लेंगी?

- Ans
- 1. 11
 - 2. 10
 - 3. 14
 - 4. 12

Question ID : 9895805735
Chosen Option : 2

Q.6 35 आम बेचने पर प्राप्त प्राप्त लाभ 7 आमों के क्रय मूल्य के बराबर है। प्रतिशत लाभ ज्ञात कीजिए?

- Ans
- 1. $16\frac{2}{3}$
 - 2. 25
 - 3. $33\frac{1}{3}$
 - 4. 20

Question ID : 9895805721
Chosen Option : 2

Q.6 एक पाइप 10 मिनट में एक टैंक को भर सकता है, जबकि दूसरा पाइप 12 मिनट में इसे खाली कर सकता है। यदि पाइपों को बारी-बारी से 1-1 मिनट के लिए खोला जाता है, तो पहले पाइप से शुरू करने पर, टैंक कितनी देर में (मिनट में) भर जाएगा?

- Ans
- 1. 109
 - 2. 120
 - 3. 108
 - 4. 90

Question ID : 9895805736
Chosen Option : 2

Q.6 रेणु अपनी आय का 30% बचत करती है। यदि उसकी बचत 30% बढ़ जाती है और व्यय 25% बढ़ जाता है, तो रेणु की आय में हुई प्रतिशत वृद्धि है:

- Ans 1. 26.5
 2. 25.8
 3. 30
 4. 15

Question ID : 9895805723
 Chosen Option : 4

Q.6 A और B दो शंकु हैं। A के वक्र-पृष्ठ का क्षेत्रफल B का 2 गुना है। B की तिर्यक ऊँचाई A की दोगुनी है। A और B की त्रिज्याओं का अनुपात क्या है?

- Ans 1. 3 : 2
 2. 2 : 1
 3. 4 : 1
 4. 1 : 4

Question ID : 9895805731
 Chosen Option : 3

Q.7 एक निश्चित राशि का 14% वार्षिक ब्याज की दर से $3\frac{1}{4}$ वर्षों का साधारण ब्याज ₹3731 है। पहले से आधी दर पर $5\frac{1}{2}$ वर्ष में उसी राशि का मिश्रधन कितना होगा?

- Ans 1. ₹11537
 2. ₹11357
 3. ₹11931
 4. ₹11913

Question ID : 9895805727
 Chosen Option : 2

Q.7 एक पार्क आयताकार आकार का है। इसकी लंबाई और चौड़ाई क्रमशः 240 मीटर और 100 मीटर है। पार्क के केंद्र में, एक वृत्ताकार लॉन है। लॉन को छोड़कर, पार्क का क्षेत्रफल 3904 m² है।

लॉन की परिधि (मीटर में) क्या है? ($\pi = 3.14$ लें)

- Ans 1. 508.6
 2. 512.8
 3. 502.4
 4. 516.2

Question ID : 9895805730
 Chosen Option : 2

Q.7
 2

दी गई तालिका का अध्ययन करें और प्रश्न का उत्तर दें:

पांच भिन्न कंपनियों में कार्यरत कर्मचारियों की संख्या

कंपनी	कर्मचारियों की संख्या	पुरुषों और महिलाओं का अनुपात
A	380	13 : 6
B	420	4 : 3
C	360	8 : 7
D	320	11 : 9
E	280	3 : 5

कंपनी C में महिला कर्मचारियों की संख्या, कंपनी E में पुरुष कर्मचारियों की संख्या से कितने प्रतिशत अधिक है?

- Ans
- 1. 60
 - 2. 55
 - 3. 48
 - 4. 54

Question ID : 9895805739
Chosen Option : 2

Q.7 जब एक व्यक्ति 10 km/h की चाल से अपने घर से कार्यालय जाता है, तो उसे 20 मिनट की देरी होती है। जब वह 15 km/h की चाल से जाता है, तो उसे 5 मिनट की देरी होती है। उसके कार्यालय और घर के बीच की दूरी (km में) कितनी है?

- Ans
- 1. 8.5
 - 2. 8
 - 3. 7
 - 4. 7.5

Question ID : 9895805734
Chosen Option : 4

Q.7 किसी वस्तु के अंकित मूल्य पर $12\frac{1}{2}$ % की छूट देने के बाद, इसे ₹700 में बेचा गया। यदि छूट नहीं दी गई होती, तो लाभ 60% होता। वस्तु का क्रय मूल्य है:

- Ans
- 1. ₹540
 - 2. ₹500
 - 3. ₹480
 - 4. ₹600

Question ID : 9895805720
Chosen Option : 3

Q.7 एक समूह में कुछ व्यक्तियों औसत ऊंचाई 155.5 cm है। बाद में, 154.6 cm, 158.4 cm, 152.2 cm और 153.8 cm ऊंचाई वाले 4 व्यक्ति समूह छोड़ देते हैं। परिणामस्वरूप शेष व्यक्तियों की औसत ऊंचाई 0.15 cm बढ़ जाती है। शुरू में समूह में व्यक्तियों की संख्या कितनी थी?

- Ans
- 1. 22
 - 2. 24

3. 20

4. 18

Question ID : 9895805718

Chosen Option : 4

Section : English Language

Q.1 Select the most appropriate option to substitute the underlined segment in the given sentence. If there is no need to substitute it, select No improvement.

Though a hero, he acted a coward.

- Ans**
- 1. as coward
 - 2. like a coward
 - 3. cowardly
 - 4. No improvement

Question ID : 9895805259

Chosen Option : --

Q.2 Select the correctly spelt word.

- Ans**
- 1. Contempory
 - 2. Contemporary
 - 3. Comtemporary
 - 4. Contempary

Question ID : 9895805278

Chosen Option : --

Q.3 Select the most appropriate option to substitute the underlined segment in the given sentence. If there is no need to substitute it, select No improvement.

The rules of chess require that one has to makes only one move at a time.

- Ans**
- 1. No improvement
 - 2. has to make
 - 3. made
 - 4. will make

Question ID : 9895805261

Chosen Option : --

Q.4 Select the option that means the same as the given idiom.

In high spirits

- Ans**
- 1. Remain calm
 - 2. Become successful
 - 3. Feel joyful

4. Create confusion

Question ID : 9895805274
Chosen Option : --

Q.5 Select the synonym of the given word.

ABILITY

- Ans 1. Capacity
 2. Disposition
 3. Instinct
 4. Outlook

Question ID : 9895805270
Chosen Option : --

Q.6 Select the antonym of the given word.

TRANSPARENT

- Ans 1. Milky
 2. White-coloured
 3. Translucent
 4. Opaque

Question ID : 9895805272
Chosen Option : --

Q.7 Select the correctly spelt word.

- Ans 1. Incourrigible
 2. Incorrigibel
 3. Incorigible
 4. Incorrigible

Question ID : 9895805279
Chosen Option : --

Q.8 From the given options, identify the segment in the sentence which contains the grammatical error.

If the report did not have the information needed it could not be used by them.

- Ans 1. information needed
 2. it could not
 3. be used by them
 4. If the

Question ID : 9895805258
Chosen Option : --

Q.9 Fill in the blank with the most appropriate option.

Suresh is _____ in collecting stamps.

- Ans
- 1. interested
 - 2. habituated
 - 3. habitual
 - 4. customary

Question ID : 9895805280
Chosen Option : --

Q.1 From the given options, identify the segment in the sentence which contains the grammatical error.

0

The errors for the typed reports were so numerous that they could hardly be overlooked.

- Ans
- 1. could hardly be
 - 2. errors for
 - 3. so numerous
 - 4. typed reports

Question ID : 9895805257
Chosen Option : --

Q.1 Select the most appropriate option to substitute the underlined segment in the given sentence. If there is no need to substitute it, select No improvement.

1

He decided to leave very quickly the hotel.

- Ans
- 1. leave the hotel quickly.
 - 2. No improvement
 - 3. leave quickly the hotel.
 - 4. quickly leave hotel.

Question ID : 9895805260
Chosen Option : --

Q.1 Select the most appropriate option to fill in the blank.

2

_____ in Nagpur, we are unwilling to move to another city.

- Ans
- 1. Since we were living
 - 2. Since we have lived
 - 3. Since we have been living
 - 4. Being that we are living

Question ID : 9895805262
Chosen Option : --

Q.1
3 Select the most appropriate option to fill in the blank.

He has been _____ my birthday all week!

- Ans
- 1. celebrates
 - 2. celebrating
 - 3. celebrate
 - 4. celebrated

Question ID : 9895805263

Chosen Option : --

Q.1
4 Select the synonym of the given word.

CHARACTER

- Ans
- 1. Spirit
 - 2. Performance
 - 3. Mannerism
 - 4. Trait

Question ID : 9895805271

Chosen Option : --

Q.1
5 Select the word which means the same as the group of words given.

One who loves mankind

- Ans
- 1. Philanthropist
 - 2. Philologist
 - 3. Humanist
 - 4. Philosopher

Question ID : 9895805277

Chosen Option : --

Comprehension:

In the following passage some words have been deleted. Fill in the blanks with the help of the alternatives given.

Fundamentally, all human beings possess a combination of fixed inherited traits. All individuals possess the (1) _____ highly developed nervous system, backbones, erect posture, hair, etc. Therefore, (2) _____ among human beings arise only in (3) _____ changes of this basic pattern. Racial differences (4) _____ one of the finest distinctions and are based only on (5) _____ slight differences.

SubQuestion No : 16

Q.1
6 Select the most appropriate option that will fill in the blank number 1.

- Ans
- 1. same
 - 2. large
 - 3. different
 - 4. natural

Question ID : 9895805265
Chosen Option : --

Comprehension:

In the following passage some words have been deleted. Fill in the blanks with the help of the alternatives given.

Fundamentally, all human beings possess a combination of fixed inherited traits. All individuals possess the (1) _____ highly developed nervous system, backbones, erect posture, hair, etc. Therefore, (2) _____ among human beings arise only in (3) _____ changes of this basic pattern. Racial differences (4) _____ one of the finest distinctions and are based only on (5) _____ slight differences.

SubQuestion No : 17

Q.1
7 Select the most appropriate option that will fill in the blank number 2.

- Ans
- 1. variations
 - 2. naturalness
 - 3. sameness
 - 4. similarities

Question ID : 9895805266
Chosen Option : --

Comprehension:

In the following passage some words have been deleted. Fill in the blanks with the help of the alternatives given.

Fundamentally, all human beings possess a combination of fixed inherited traits. All individuals possess the (1) _____ highly developed nervous system, backbones, erect posture, hair, etc. Therefore, (2) _____ among human beings arise only in (3) _____ changes of this basic pattern. Racial differences (4) _____ one of the finest distinctions and are based only on (5) _____ slight differences.

SubQuestion No : 18

Q.1
8 Select the most appropriate option that will fill in the blank number 3.

- Ans
- 1. minor
 - 2. large
 - 3. fundamental
 - 4. complete

Comprehension:

In the following passage some words have been deleted. Fill in the blanks with the help of the alternatives given.

Fundamentally, all human beings possess a combination of fixed inherited traits. All individuals possess the (1) _____ highly developed nervous system, backbones, erect posture, hair, etc. Therefore, (2) _____ among human beings arise only in (3) _____ changes of this basic pattern. Racial differences (4) _____ one of the finest distinctions and are based only on (5) _____ slight differences.

SubQuestion No : 19

Q.1
9 Select the most appropriate option that will fill in the blank number 4.

- Ans
- 1. show
 - 2. present
 - 3. represent
 - 4. give

Comprehension:

In the following passage some words have been deleted. Fill in the blanks with the help of the alternatives given.

Fundamentally, all human beings possess a combination of fixed inherited traits. All individuals possess the (1) _____ highly developed nervous system, backbones, erect posture, hair, etc. Therefore, (2) _____ among human beings arise only in (3) _____ changes of this basic pattern. Racial differences (4) _____ one of the finest distinctions and are based only on (5) _____ slight differences.

SubQuestion No : 20

Q.2
0 Select the most appropriate option that will fill in the blank number 5.

- Ans
- 1. clear
 - 2. certain
 - 3. possible
 - 4. hidden

Q.2
1 Select the option that means the same as the given idiom.

Have several irons in the fire

- Ans
- 1. Burning unwanted pieces of iron
 - 2. Having too many engagements at a time
 - 3. Doing iron related work
 - 4. Talking to many persons simultaneously

Question ID : 9895805275
Chosen Option : --

Q.2 Fill in the blank with the most appropriate option.
2

Devika is the most _____ of them all and has managed to do well in her profession.

- Ans
- 1. audacious
 - 2. simple
 - 3. intelligent
 - 4. insolent

Question ID : 9895805281
Chosen Option : --

Q.2 From the given options, identify the segment in the sentence which contains the grammatical error.
3

Had you told me that you were in Mumbai I could have certainly contacted you instead of waiting here.

- Ans
- 1. Had you
 - 2. you were
 - 3. instead of
 - 4. could have

Question ID : 9895805256
Chosen Option : --

Q.2 Select the word which means the same as the group of words given.
4

A person who is more than hundred years old

- Ans
- 1. Centurion
 - 2. Centurial
 - 3. Centuriator
 - 4. Centenarian

Question ID : 9895805276
Chosen Option : --

Q.2 Select the antonym of the given word.
5

VIRTUOUS

- Ans
- 1. Worthy
 - 2. Vicious

3. Honest
 4. Kind

Question ID : 9895805273
Chosen Option : --

Section : Hindi Language

Q.1 सही वर्तनी वाले शब्द का चयन करें।

- Ans 1. बाढ़पीडीत
 2. बाढ़पिडित
 3. बाढ़पीड़ित
 4. बाढ़पिदित

Question ID : 9895805586
Chosen Option : 2

Q.2 दिए गए वाक्य का वह भाग ज्ञात करें जिसमें कोई त्रुटि है।

आदर्श विद्यार्थी के गुण सादा जीवन उच्च विचार होता है।

- Ans 1. होता है।
 2. सादा जीवन उच्च विचार
 3. के गुण
 4. आदर्श विद्यार्थी

Question ID : 9895805562
Chosen Option : 4

Q.3 रिक्त स्थान को भरने के लिए उपयुक्त शब्द का चयन करें।

हमें अपने _____ होने पर गर्व है।

- Ans 1. भारती
 2. भिखारी
 3. भारतीय
 4. चोर

Question ID : 9895805571
Chosen Option : 3

Q.4 दिए गए शब्द का विलोम चुनें।

शाश्वत

- Ans
- 1. नश्वर
 - 2. अनादि
 - 3. चिरंतन
 - 4. अनंत

Question ID : 9895805578
Chosen Option : 3

Q.5 रिक्त स्थान को भरने के लिए उपयुक्त शब्द का चयन करें।

देश को _____ से बचना चाहिए।

- Ans
- 1. जयचन्द्रों
 - 2. अतिथियों
 - 3. सज्जनों
 - 4. हरिश्चन्द्रों

Question ID : 9895805569
Chosen Option : 4

Q.6 दिए गए वाक्य का वह भाग ज्ञात करें जिसमें कोई त्रुटि है।

जिसके पास चरित्र होता है उसके सामने संसार भर का संपत्तियाँ घटने टेक देती हैं।

- Ans
- 1. घटने टेक देती हैं।
 - 2. जिसके पास चरित्र होता है
 - 3. संसार भर का संपत्तियाँ
 - 4. उसके सामने

Question ID : 9895805563
Chosen Option : 2

Comprehension:

निम्नलिखित गद्यांश के रिक्त स्थानों की पूर्ति गद्यांश के नीचे दिए गए प्रश्नों के अनुसार कीजिए -

विश्व के लगभग सभी धर्म ग्रन्थों ने अहिंसा पालन पर बल दिया है। अहिंसा का सामान्य अर्थ है किसी भी _____ (1) को न मारना। परन्तु अहिंसा का अभिप्राय केवल शारीरिक हिंसा न करने तक ही सीमित नहीं है। मन से, वचन से तथा कर्म से किसी प्राणी को _____ (2) न पहुँचाना ही अहिंसा है। यदि हम किसी को _____ (3) नहीं दे सकते तो हमें किसी का जीवन लेने का अधिकार भी नहीं है। अहिंसा पालक व्यक्ति के संपर्क में आने वाले व्यक्ति भी सब प्रकार के ईर्ष्या-द्वेष आदि से _____ (4) हो जाते हैं। अहिंसा हमें _____ (5) नहीं बनाती अपितु शक्तिशाली बनाती है।

SubQuestion No : 7

Q.7 गद्यांश में संकेतित रिक्त स्थान (1) के लिए उपयुक्त शब्द होगा -

- Ans
- 1. पुरुष
 - 2. पेड़
 - 3. प्राणी
 - 4. स्त्री

Question ID : 9895805573
Chosen Option : 3

Comprehension:

निम्नलिखित गद्यांश के रिक्त स्थानों की पूर्ति गद्यांश के नीचे दिए गए प्रश्नों के अनुसार कीजिए -

विश्व के लगभग सभी धर्म ग्रन्थों ने अहिंसा पालन पर बल दिया है। अहिंसा का सामान्य अर्थ है किसी भी _____ (1) को न मारना। परन्तु अहिंसा का अभिप्राय केवल शारीरिक हिंसा न करने तक ही सीमित नहीं है। मन से, वचन से तथा कर्म से किसी प्राणी को _____ (2) न पहुँचाना ही अहिंसा है। यदि हम किसी को _____ (3) नहीं दे सकते तो हमें किसी का जीवन लेने का अधिकार भी नहीं है। अहिंसा पालक व्यक्ति के संपर्क में आने वाले व्यक्ति भी सब प्रकार के ईर्ष्या-द्वेष आदि से _____ (4) हो जाते हैं। अहिंसा हमें _____ (5) नहीं बनाती अपितु शक्तिशाली बनाती है।

SubQuestion No : 8

Q.8 गद्यांश में संकेतित रिक्त स्थान (2) के लिए उपयुक्त शब्द होगा -

- Ans
- 1. हँसाना
 - 2. कष्ट
 - 3. रुलाना
 - 4. प्रसन्नता

Question ID : 9895805574
Chosen Option : 2

Comprehension:

निम्नलिखित गद्यांश के रिक्त स्थानों की पूर्ति गद्यांश के नीचे दिए गए प्रश्नों के अनुसार कीजिए -

विश्व के लगभग सभी धर्म ग्रन्थों ने अहिंसा पालन पर बल दिया है। अहिंसा का सामान्य अर्थ है किसी भी _____ (1) को न मारना। परन्तु अहिंसा का अभिप्राय केवल शारीरिक हिंसा न करने तक ही सीमित नहीं है। मन से, वचन से तथा कर्म से किसी प्राणी को _____ (2) न पहुँचाना ही अहिंसा है। यदि हम किसी को _____ (3) नहीं दे सकते तो हमें किसी का जीवन लेने का अधिकार भी नहीं है। अहिंसा पालक व्यक्ति के संपर्क में आने वाले व्यक्ति भी सब प्रकार के ईर्ष्या-द्वेष आदि से _____ (4) हो जाते हैं। अहिंसा हमें _____ (5) नहीं बनाती अपितु शक्तिशाली बनाती है।

SubQuestion No : 9

Q.9 गद्यांश में संकेतित रिक्त स्थान (3) के लिए उपयुक्त शब्द होगा -

- Ans
- 1. जीवन
 - 2. हिंसा
 - 3. दुःख
 - 4. मकान

Question ID : 9895805575
Chosen Option : 1

Comprehension:

निम्नलिखित गद्यांश के रिक्त स्थानों की पूर्ति गद्यांश के नीचे दिए गए प्रश्नों के अनुसार कीजिए -

विश्व के लगभग सभी धर्म ग्रन्थों ने अहिंसा पालन पर बल दिया है। अहिंसा का सामान्य अर्थ है किसी भी _____ (1) को न मारना। परन्तु अहिंसा का अभिप्राय केवल शारीरिक हिंसा न करने तक ही सीमित नहीं है। मन से, वचन से तथा कर्म से किसी प्राणी को _____ (2) न पहुँचाना ही अहिंसा है। यदि हम किसी को _____ (3) नहीं दे सकते तो हमें किसी का जीवन लेने का अधिकार भी नहीं है। अहिंसा पालक व्यक्ति के संपर्क में आने वाले व्यक्ति भी सब प्रकार के ईर्ष्या-द्वेष आदि से _____ (4) हो जाते हैं। अहिंसा हमें _____ (5) नहीं बनाती अपितु शक्तिशाली बनाती है।

SubQuestion No : 10

Q.1
0 गद्यांश में संकेतित रिक्त स्थान (4) के लिए उपयुक्त शब्द होगा -

- Ans
- 1. मुक्त
 - 2. ग्रस्त
 - 3. अधीन
 - 4. युक्त

Question ID : 9895805576
Chosen Option : 1

Comprehension:

निम्नलिखित गद्यांश के रिक्त स्थानों की पूर्ति गद्यांश के नीचे दिए गए प्रश्नों के अनुसार कीजिए -

विश्व के लगभग सभी धर्म ग्रन्थों ने अहिंसा पालन पर बल दिया है। अहिंसा का सामान्य अर्थ है किसी भी _____ (1) को न मारना। परन्तु अहिंसा का अभिप्राय केवल शारीरिक हिंसा न करने तक ही सीमित नहीं है। मन से, वचन से तथा कर्म से किसी प्राणी को _____ (2) न पहुँचाना ही अहिंसा है। यदि हम किसी को _____ (3) नहीं दे सकते तो हमें किसी का जीवन लेने का अधिकार भी नहीं है। अहिंसा पालक व्यक्ति के संपर्क में आने वाले व्यक्ति भी सब प्रकार के ईर्ष्या-द्वेष आदि से _____ (4) हो जाते हैं। अहिंसा हमें _____ (5) नहीं बनाती अपितु शक्तिशाली बनाती है।

SubQuestion No : 11

Q.1
1 गद्यांश में संकेतित रिक्त स्थान (5) के लिए उपयुक्त शब्द होगा -

- Ans
- 1. सपूत
 - 2. शक्तिशाली
 - 3. कायर
 - 4. दोषी

Question ID : 9895805577
Chosen Option : 4

Q.1
2 दिये गये वाक्यांश के लिए एक शब्द दीजिये।

जो बिना वेतन के कार्य करे

- Ans
- 1. अवैतनिक
 - 2. आधुनिक
 - 3. संवैतनिक
 - 4. सामूहिक

Question ID : 9895805584
Chosen Option : 1

Q.1
3

दिए गए शब्द के पर्यायवाची शब्द का चयन करें।

गृह

- Ans
- 1. वसन
 - 2. कुटीर
 - 3. गगन
 - 4. निकेतन

Question ID : 9895805580
Chosen Option : 1

Q.1 निम्नलिखित में से उस विकल्प का चयन करें जो 'दाल गलना' मुहावरे का अर्थ व्यक्त करता है।

- Ans
- 1. युक्ति बनाना
 - 2. युक्ति असफल होना
 - 3. युक्ति सफल होना
 - 4. नुकसान होना

Question ID : 9895805583
Chosen Option : 2

Q.1 दिए गए शब्द का विलोम चुनें।

आयात

- Ans
- 1. अर्थ
 - 2. निर्यात
 - 3. आयत
 - 4. बयान

Question ID : 9895805579
Chosen Option : 2

Q.1 दिए गए वाक्य में रेखांकित खंड को प्रतिस्थापित करने के लिए उपयुक्त विकल्प का चयन करें।

न्याय व्यवस्था कहती है कि जिसने अपराध किया है उसने दंड तो मिलेगा ही।

- Ans
- 1. उससे दंड तो मिलेगा ही।
 - 2. उसी से दंड तो मिलेगा ही।
 - 3. उसमें दंड तो मिलेगा ही।
 - 4. उसे दंड तो मिलेगा ही।

Question ID : 9895805567
Chosen Option : 4

Q.1
7 दिए गए शब्द के पर्यायवाची शब्द का चयन करें।

वैर

- Ans
- ✓ 1. विद्वेष
 - ✗ 2. लड़ाई
 - ✗ 3. विद्रोह
 - ✗ 4. झगड़ा

Question ID : 9895805581
Chosen Option : 3

Q.1
8 दिए गए वाक्य का वह भाग ज्ञात करें जिसमें कोई त्रुटि है।

कविता सुनने पर श्रोताओं को तालियों द्वारा कवि का अभिनंदन करने का मौका मिल जाती है।

- Ans
- ✓ 1. मौका मिल जाती है।
 - ✗ 2. कविता सुनने पर
 - ✗ 3. कवि का अभिनंदन करने का
 - ✗ 4. श्रोताओं को तालियों द्वारा

Question ID : 9895805564
Chosen Option : 1

Q.1
9 रिक्त स्थान को भरने के लिए उपयुक्त शब्द का चयन करें।

भारतीय सैनिकों ने युद्ध में _____ का परिचय दिया।

- Ans
- ✗ 1. खटास
 - ✗ 2. मिठास
 - ✗ 3. कायरता
 - ✓ 4. वीरता

Question ID : 9895805568
Chosen Option : 4

Q.2
0 दिये गये वाक्यांश के लिए एक शब्द दीजिये।

जो सप्ताह में एक बार होता हो

- Ans
- ✓ 1. साप्ताहिक
 - ✗ 2. मासिक
 - ✗ 3. पाक्षिक

✗ 4. वार्षिक

Question ID : 9895805585
Chosen Option : 4

Q.2
1 निम्नलिखित में से उस विकल्प का चयन करें जो 'गाँठ बाँधना' मुहावरे का अर्थ व्यक्त करता है।

- Ans
- ✗ 1. गाँठ में पैसे बाँधना
 - ✗ 2. गाँठ दिखने पर स्मरण होना
 - ✗ 3. भूल जाना
 - ✓ 4. अच्छी तरह याद रखना

Question ID : 9895805582
Chosen Option : 4

Q.2
2 सही वर्तनी वाले शब्द का चयन करें।

- Ans
- ✓ 1. प्रेमातुर
 - ✗ 2. प्रेमतुर
 - ✗ 3. परेमातुर
 - ✗ 4. प्रेमातूर

Question ID : 9895805587
Chosen Option : 1

Q.2
3 दिए गए वाक्य में रेखांकित खंड को प्रतिस्थापित करने के लिए उपयुक्त विकल्प का चयन करें।

जो परिश्रम से मुँह मोड़ता है, तब जीवन में पिछड़ जाता है।

- Ans
- ✗ 1. वे जीवन में
 - ✗ 2. सब जीवन में
 - ✓ 3. वह जीवन में
 - ✗ 4. अब जीवन में

Question ID : 9895805565
Chosen Option : 1

Q.2
4 दिए गए वाक्य में रेखांकित खंड को प्रतिस्थापित करने के लिए उपयुक्त विकल्प का चयन करें।

किसी की टोपी घर में छूट गई और किसी की चश्मा गिर गई।

- Ans
- ✓ 1. किसी का चश्मा गिर गया।
 - ✗ 2. किसी के चश्मे गिर गया।
 - ✗ 3. किसी का चश्मा गिर गई।

✗ 4. किसी का चश्मा गिर गए।

Question ID : 9895805566
Chosen Option : 1

Q.2
5 रिक्त स्थान को भरने के लिए उपयुक्त शब्द का चयन करें।

स्वयंसेवकों का _____ प्रधानमंत्री से मिलने गया।

- Ans
- ✗ 1. भीड़
 - ✓ 2. दल
 - ✗ 3. बल
 - ✗ 4. टुकड़ी

Question ID : 9895805570
Chosen Option : --