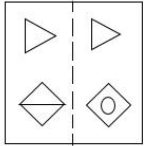


Constable (GD) in CAPFs, NIA, SSF and Rifleman (GD) in Assam Rifles Examination, 2018

Roll No. :	GovtJobsAlert.In
Registration No.	GovtJobsAlert.In
Name :	
Exam Venue :	
Exam Time :	12:30 PM - 2:00 PM
Exam Date :	19/02/2019

Section : General Section

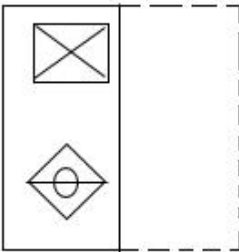
Q.1 'X' से चिह्नित आयताकार पारदर्शी शीट का पैटर्न तब कैसा दिखेगा जब इस शीट को डॉट से बनाई गई रेखा पर मोड़ा जाएगा?




(X)

Ans

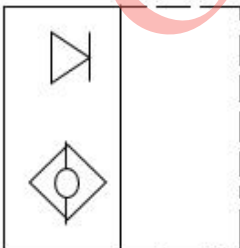
1.



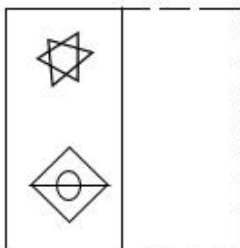
2.



3.



4.



Question ID : 9895803898

Chosen Option : 1

Q.2 उस विकल्प का चयन करें जो सही रूप में रिक्त स्थान को भरे और श्रृंखला को पूरा करें।

21, 22, 18, 27, 11, _____

- Ans
- 1. 36
 - 2. 43
 - 3. 20
 - 4. 42

Question ID : 9895803888

Chosen Option : 1

Q.3 उस विकल्प का चयन करें जो तीसरे पद से उसी तरह संबंधित है जिस तरह दूसरा पद पहले पद से संबंधित है।

भवन : ईट :: कपड़ा : ?

- Ans
- 1. दर्जी (टेलर्स)
 - 2. धागा
 - 3. परिधान
 - 4. सुई

Question ID : 9895803879

Chosen Option : 2

Q.4 उस विकल्प का चयन करें जो सही रूप में रिक्त स्थान को भरे और श्रृंखला को पूरा करें।

bdf, hij, moq, uvw, ?

- Ans
- 1. bdf
 - 2. zbd
 - 3. yza
 - 4. yac

Question ID : 9895803875

Chosen Option : 2

Q.5 असंगत का चयन करें।

- Ans
- 1. सुनामी
 - 2. बर्फीला तूफान
 - 3. चक्रवात
 - 4. विस्फोट

Question ID : 9895803877

Chosen Option : 2

Q.6 निम्नलिखित सेट की संख्याएँ एक खास प्रकार से आपस में संबंधित हैं। दिए गए विकल्पों में से उस सेट का चयन करें जो निम्नलिखित सेट के समान है।

{6, 13, 28}

Ans 1. {11, 17, 36}

2. {8, 14, 30}

3. {9, 16, 34}

4. {4, 11, 25}

Question ID : 9895803892

Chosen Option : 4

Q.7 अगर एक कूट भाषा में DISTANT = 9 और EARTH = 7 है, तो PSYCHOLOGY = क्या होगा?

Ans 1. 12

2. 14

3. 10

4. 11

Question ID : 9895803882

Chosen Option : 4

Q.8 एक शाम, सूर्यास्त से पहले एक मैदान में महेश और विक्रान्त एक-दूसरे की ओर पीठ करके खड़े हैं। अगर विक्रान्त की छाया महेश के बिल्कुल दाएँ बनती है तो महेश किस दिशा की ओर मुँह किए हुए है?

Ans 1. पूर्व

2. पश्चिम

3. उत्तर

4. दक्षिण

Question ID : 9895803883

Chosen Option : 1

Q.9 चार लड़के A, B, C और D तथा चार लड़कियाँ E, F, G और H एक गोल मेज पर केंद्र की ओर मुखातिब होकर इस तरह बैठे हैं कि कोई भी दो लड़की एक साथ नहीं बैठी हैं। F, A और C के बीच में बैठी हैं, और इसका मुँह B की ओर है। E, G के दाईं ओर दूसरे नंबर पर बैठी है। B और H के बीच में दो व्यक्ति बैठे हैं जिनका मुँह E की ओर है।

C के दाईं ओर कौन बैठा/बैठी है?

Ans 1. G

2. E

3. H

4. F

Question ID : 9895803884

Chosen Option : 4

Q.10 निम्न चार अक्षर समूहों में से कौन सा एक इस समूह का हिस्सा नहीं है?

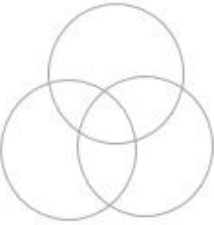
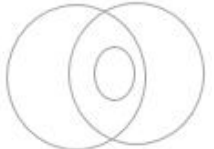
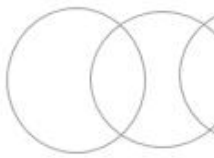

- Ans
- 1. BDFH
 - 2. TUVW
 - 3. HKMP
 - 4. LORU

Question ID : 9895803876
Chosen Option : 2

Q.11 निम्नलिखित में से कौन सा वेन रेखाचित्र दिए गए वर्ग के बीच के संबंध को सही दर्शाता है?

छात्र, क्रिकेट प्रशंसक, टेनिस खिलाड़ी

Ans

- 1. 
- 2. 
- 3. 
- 4. 

Question ID : 9895803899
Chosen Option : 3

Q.12 Q, T से दोगुना भारी है। R का वजन S से आधा है। P का वजन R से आधा है। अगर Q, P से तीन गुना ज्यादा भारी है, तो इन सब में सबसे भारी कौन है?

- Ans
- 1. Q
 - 2. P
 - 3. R
 - 4. S

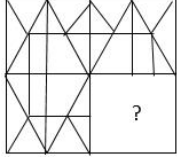
Question ID : 9895803885
Chosen Option : 1

Q.13 अगर एक कूट भाषा में MONSTROUS को NOMRTSSUO के रूप में कूटबद्ध किया जाता है, तो SOCIOLOGY को किस तरह कूटबद्ध किया जाएगा?

- Ans
- 1. OCSOLIGYO
 - 2. COSLOIGYO
 - 3. COSLOIYGO
 - 4. YGOCOSLOI

Question ID : 9895803881
Chosen Option : 2

Q.14 उस आकृति का चयन करें जिसे 'X' से चिह्नित रिक्त स्थान पर रखने से चित्र का पैटर्न पूर्ण हो जाएगा।



(X)

- Ans
- 1.
 - 2.
 - 3.
 - 4.

Question ID : 9895803895
Chosen Option : 1

Q.15 उस विकल्प का चयन करें जो सही रूप में रिक्त स्थान को भरे और श्रृंखला को पूरा करें।

9, 23, 14, 32, 18, ____, 26

- Ans
- 1. 44
 - 2. 38
 - 3. 40
 - 4. 47

Question ID : 9895803889
Chosen Option : 1

Q.16 नीचे दिए गए कथनों के बाद दो निष्कर्ष I और II दिए गए हैं। यह मानते हुए कि कथनों में दी गई जानकारी सत्य है, भले ही वह सर्वज्ञात तथ्यों से भिन्न प्रतीत होती हो, यह निर्णय करें कि कौन सा / से निष्कर्ष तार्किक और निश्चित रूप से कथन में दी गई जानकारी का अनुसरण करता है / करते हैं।

कथन:

1. कुछ धाराएँ नहर हैं।
2. कुछ नहरें नदी हैं।

निष्कर्ष:

- I. कुछ नहरें धाराएँ नहीं हैं।
- II. कुछ धाराएँ नदियाँ हैं।

Ans

1. केवल निष्कर्ष I अनुसरण करता है
2. दोनों निष्कर्ष I और II अनुसरण करते हैं
3. केवल निष्कर्ष II अनुसरण करता है
4. न तो निष्कर्ष I और ना ही निष्कर्ष II अनुसरण करता है

Question ID : 9895803886

Chosen Option : I

Q.17 चार संख्याएँ दी गई हैं जिनमें से तीन संख्याएँ किसी न किसी रूप में समान हैं, जबकि एक संख्या भिन्न है। असंगत संख्या चुनिए।

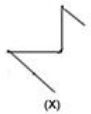
Ans

1. 543
2. 732
3. 651
4. 452

Question ID : 9895803891

Chosen Option : I

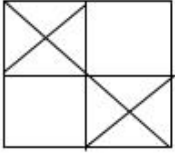
Q.18 विकल्पों में से उस आकृति का चयन करें जिसमें 'X' से चिह्नित आकृति समाहित है।



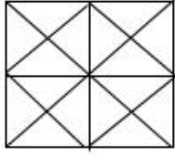
Ans

- 1.
- 2.

✗ 3.



✓ 4.



Question ID : 9895803897

Chosen Option : 3

Q.19 कौन से दो चिहनों को अगर आपस में एक-दूसरे से बदल दिया जाएगा तो निम्नलिखित समीकरण सही हो जाएगा?

$$8 \div 4 - 18 + 12 \times 6 = 16$$

Ans ✗ 1. \times और $-$

✓ 2. \times और \div

✗ 3. \div और $+$

✗ 4. $-$ और $+$

Question ID : 9895803893

Chosen Option : 3

Q.20 असंगत युग्म का चयन करें।

Ans ✗ 1. 7-42

✗ 2. 3-6

✗ 3. 8-56

✓ 4. 12-128

Question ID : 9895803890

Chosen Option : 4

Q.21 नीचे दिए गए कथनों के बाद दो निष्कर्ष I और II दिए गए हैं। यह मानते हुए कि कथनों में दी गई जानकारी सत्य है, भले ही वह सर्वज्ञात तथ्यों से भिन्न प्रतीत होती हो, यह निर्णय करें कि कौन सा / से निष्कर्ष तार्किक और निश्चित रूप से कथन में दी गई जानकारी का अनुसरण करता है / करते हैं।

कथन:

1. कुछ शिक्षक प्रधानाचार्य हैं।

2. कुछ प्रधानाचार्य शिक्षित हैं।

निष्कर्ष:

I. कुछ शिक्षक शिक्षित हैं।

II. कोई भी शिक्षित व्यक्ति शिक्षक नहीं है।

Ans ✗ 1. निष्कर्ष I और निष्कर्ष II, दोनों अनुसरण करते हैं

2. केवल निष्कर्ष ॥ अनुसरण करता है
3. केवल निष्कर्ष । अनुसरण करता है
4. या तो निष्कर्ष । या निष्कर्ष ॥ अनुसरण करता है

Question ID : 9895803887
Chosen Option : 2

Q.22 'सीतारा' (STAR) , 'तारक-पुंज' (GALAXY) से उसी तरह संबंधित है, जिस तरह 'शब्द' (WORD), _____ से संबंधित है।

- Ans 1. वाक्य-विन्यास (SYNTAX)
2. संचार (COMMUNICATION)
3. भाषा (LANGUAGE)
4. अभिव्यक्ति (EXPRESSION)

Question ID : 9895803878
Chosen Option : 4

Q.23 विकल्पों में से उस आकृति का चयन करें जो दी गई श्रृंखला में अगले स्थान पर आएगी।

S *	○ S	△ ○	□ △
# \$	\$ *	* S	S ○

- Ans 1.

@	□
○	▽
2.

N	□
△	○
3.

S	□
○	△
4.

N	□
○	△

Question ID : 9895803894
Chosen Option : 1

Q.24

उस विकल्प का चयन करें जो तीसरे पद से उसी तरह संबंधित है जिस तरह दूसरा पद पहले पद से संबंधित है।

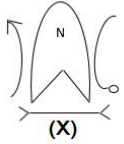
GKNP : HJMQ :: DHKM : ?

- Ans
- 1. FHKO
 - 2. EGJN
 - 3. EILN
 - 4. EHKN

Question ID : 9895803880

Chosen Option : 4

Q.25 उस विकल्प का चयन करें, जो दी गई आकृति के दर्पण छवि से तब पूरी तरह से मिलचा-जुलता है, जब दर्पण को दाईं ओर रखा जाता है।



Ans

- 1.
- 2.
- 3.
- 4.

Question ID : 9895803896

Chosen Option : 2

Q.26 मुगल बादशाह अकबर का मकबरा कहाँ स्थित है?

- Ans
- 1. सिकन्दरा

- 2. अजमेर
- 3. औरंगाबाद
- 4. जौनपुर

Question ID : 9895805458
Chosen Option : 1

Q.27 दूध में निम्नलिखित में से कौन-सा अम्ल पाया जाता है?

- Ans
- 1. हाइड्रोक्लोरिक अम्ल
 - 2. टैनिक अम्ल
 - 3. एस्कॉर्बिक अम्ल
 - 4. लैक्टिक अम्ल

Question ID : 9895805449
Chosen Option : 4

Q.28 भारत में राज्यों के राज्यपालों की नियुक्ति करने का अधिकार किस के पास है?

- Ans
- 1. सुप्रीम कोर्ट के मुख्यन्यायाधीश
 - 2. प्रधानमंत्री
 - 3. मुख्यमंत्री
 - 4. राष्ट्रपति

Question ID : 9895805446
Chosen Option : 4

Q.29 निम्नलिखित में से किस नदी में भारत की प्रायद्वीपीय नदी प्रणाली में सबसे बड़ा जलसंभर है?

- Ans
- 1. कृष्णा
 - 2. गोदावरी
 - 3. महानदी
 - 4. कावेरी

Question ID : 9895805453
Chosen Option : 2

Q.30 निम्नलिखित में से कौन-सा अधिकार उपभोक्ता संरक्षण से संबंधित नहीं है?

- Ans
- 1. चुनने का अधिकार
 - 2. समानता का अधिकार
 - 3. सूचित किए जाने का अधिकार

✗ 4. निवारण पाने का अधिकार

Question ID : 9895805443

Chosen Option : 4

Q.31 हरीप्रसाद चौरसिया _____ बजाने के लिए जाने जाते हैं।

Ans ✗ 1. पखावज

✗ 2. तबला

✗ 3. सितार

✓ 4. बाँसुरी

Question ID : 9895805435

Chosen Option : 1

Q.32 भारत के सर्वोच्च न्यायालय की शक्ति के संदर्भ में, "न्यायिक समीक्षा" का क्या अर्थ है?

Ans ✗ 1.

यह भारत के मुख्य न्यायाधीश की शक्तियों और कार्यों को परिभाषित करता है

✗ 2.

यह भारत के प्रधान मंत्री को आपातकाल के समय सलाह देता है

✓ 3.

यह संसद द्वारा पारित किसी भी कानून की संवैधानिकता की जांच करता है

✗ 4.

यह भारत की निचली अदालतों की शक्तियों को नियंत्रित करता है

Question ID : 9895805447

Chosen Option : 4

Q.33 निम्नलिखित में से कौन भारत की जीडीपी (GDP) की गणना के लिए उत्तरदायी है?

Ans ✗ 1. सभी नगर-पालिकाएँ और पंचायतें

✗ 2. केवल केंद्र सरकारी मंत्रालय

✗ 3. सभी राज्यसरकारें और केंद्र शासित प्रदेश

✓ 4.

केंद्र सरकार के मंत्रालय और राज्यों और केंद्र शासित प्रदेशों के विभिन्न सरकारी विभाग

Question ID : 9895805444

Chosen Option : 3

Q.34 किस पूर्व प्रधानमंत्री ने 'चेजिंग इंडिया' पुस्तक लिखी है?

Ans ✗ 1. पीवी नरसिम्हाराव

✗ 2. अटल बिहारी वाजपेयी

✓ 3. मनमोहन सिंह

4. राजीव गांधी

Question ID : 9895805441
Chosen Option : 3

Q.35 _____ वर्ष 2020, में ओलंपिक खेलों की मेजबानी करेगा।

- Ans 1. जापान
 2. चीन
 3. इटली
 4. स्पेन

Question ID : 9895805438
Chosen Option : 4

Q.36 सुधीर धर _____ के लिए प्रसिद्ध हैं।

- Ans 1. कार्टून ड्राइंग
 2. फ़िल्म निर्माण
 3. संगीत
 4. लैंडस्केप ड्राइंग

Question ID : 9895805439
Chosen Option : 1

Q.37 मकर संक्रांति के त्यौहार को भारत के किस हिस्से में उत्तरायण के रूप में जाना जाता है?

- Ans 1. गुजरात
 2. केरल
 3. उत्तराखंड
 4. पश्चिम बंगाल

Question ID : 9895805436
Chosen Option : 3

Q.38 वायुमंडल में ओजोन की कमी को _____ से जोड़ा गया है।

- Ans 1. पॉलीटेट्राफ्लूरोएथिलीन
 2. फिनोल- फार्मल्डिहाइड
 3. पोलिविनाइल क्लोराइड
 4. क्लोरोफ्लोरोकार्बन

Question ID : 9895805451

Q.39 विधायी शक्तियों के विभाजन के अनुसार, भारत सरकार की प्राथमिक जिम्मेदारियों में से एक है:

- Ans
- 1. सार्वजनिक स्वास्थ्य और स्वच्छता
 - 2. रक्षा बलों को बनाए रखना
 - 3. कृषि आय पर कर
 - 4. सिनेमा हॉल का निर्माण

Question ID : 9895805442

Chosen Option : 1

Q.40 तमिलनाडु का 'जल्लीकट्टू' किस खेल से संबंधित है?

- Ans
- 1. मुर्गों की लड़ाई
 - 2. कुत्तों की लड़ाई
 - 3. बैलों से लड़ाई
 - 4. बिल्लियों से लड़ाई

Question ID : 9895805437

Chosen Option : 3

Q.41 राज्यसभा के बारे में निम्नलिखित में से कौन सा कथन सही है?

- Ans
- 1. यह भारत के संविधान द्वारा निर्धारित एक सीधे निर्वाचित निकाय है
 - 2. राज्य विधानसभा के निर्वाचित सदस्य राज्यसभा के सदस्यों का चुनाव करते हैं
 - 3. इसे संसद के निचले सदन के रूप में जाना जाता है
 - 4. राज्यसभा के सदस्य स्थायी रूप से चुने जाते हैं

Question ID : 9895805445

Chosen Option : 2

Q.42 सिंधु घाटी सभ्यता की 'डांसिंग गर्ल' की मूर्ति _____ में डाली गई थी।

- Ans
- 1. पीतल
 - 2. तांबा
 - 3. लोहा
 - 4. कांस्य

Question ID : 9895805456

Q.43 पैरामिसियम _____ के द्वारा प्रजनन करता है।

- Ans
- 1. द्विखंडन
 - 2. बीजाणु निर्माण
 - 3. कायिक प्रजनन
 - 4. बडिंग

Question ID : 9895805450
Chosen Option : 2

Q.44 काँफ़ी की अरेबिका किस्म निम्न में से किस राज्य में नहीं उगाई जाती है?

- Ans
- 1. केरल
 - 2. ओडिशा
 - 3. कर्नाटक
 - 4. तमिलनाडु

Question ID : 9895805455
Chosen Option : 2

Q.45 निम्न में से किस पोषक तत्व की कमी से रिकेट्स नामक बीमारी होती है?

- Ans
- 1. विटामिन D
 - 2. लोहा
 - 3. विटामिन A
 - 4. विटामिन B

Question ID : 9895805452
Chosen Option : 2

Q.46 रेगुर मिट्टी को _____ मिट्टी के नाम से भी जाना जाता है।

- Ans
- 1. काली
 - 2. लाल
 - 3. पोटाश
 - 4. लोहा

Question ID : 9895805454
Chosen Option : 1

Q.47 निम्नलिखित में से किस मात्रा के लिए इकाई m/s^2 का उपयोग किया जाता है?

Ans

- 1. संवेग
- 2. त्वरण
- 3. वेग
- 4. दूरी

Question ID : 9895805448
Chosen Option : 2

Q.48 उत्तर भारत में प्रचलित मंदिर वास्तुकला की शैली _____ है।

- Ans
- 1. द्रविड़
 - 2. वेसर
 - 3. शिखर
 - 4. नागर

Question ID : 9895805457
Chosen Option : 3

Q.49 भारत रत्न पुरस्कार प्राप्त करने वाले पहले खिलाड़ी _____ हैं।

- Ans
- 1. सानिया मिर्जा
 - 2. सचिन तेंदुलकर
 - 3. प्रकाश पादुकोण
 - 4. सुनील गावस्कर

Question ID : 9895805440
Chosen Option : 4

Q.50 निम्नलिखित में से कौन-सा भारत का शास्त्रीय नृत्य नहीं है?

- Ans
- 1. भांगड़ा
 - 2. ओड़िसी
 - 3. मोहिनीअट्टम
 - 4. कथकली

Question ID : 9895805434
Chosen Option : 3

Q.51 $6.25 + \frac{1}{9} \left[3.75 \div \left\{ \frac{5}{6} \text{ of } 0.4 \left(\frac{1}{3} - \frac{5}{6} + 0.75 \right) \right\} \right]$ का मान क्या है?

- Ans
- 1. 11.5
 - 2. 11.25

3. 10.75

4. 10.5

Question ID : 9895805742

Chosen Option : 1

Q.52 यदि 4.8, 6, x और 8.5 के अनुपात में हैं, तो x का मान क्या है?

Ans 1. 16

2. 9.6

3. 9

4. 6.8

Question ID : 9895805750

Chosen Option : 2

Q.53 A और B की क्षमता 5: 6 के अनुपात में हैं। साथ मिलकर कार्य करते

हुए दोनों एक काम 120 दिनों में पूरा कर सकते हैं। B अकेला उस

काम के 40% हिस्से को कितने दिनों में पूरा करेगा?

Ans 1. 132 दिनों में

2. 80 दिनों में

3. 88 दिनों में

4. 60 दिनों में

Question ID : 9895805761

Chosen Option : 3

Q.54 कुछ सामान एक निश्चित राशि में खरीदे जाते हैं। यदि एक तिहाई

सामान को 10% की हानि पर बेचा जाता है, तो इस पूरे लेन-देन पर

20% का लाभ अर्जित करने के लिए शेष सामान को कितने प्रतिशत

लाभ पर बेचा जाना चाहिए?

Ans 1. 30%

2. 40%

3. 32%

4. 35%

Question ID : 9895805746

Chosen Option : 1

Q.55

निम्नलिखित तालिका का अध्ययन करे (जिसमें पांच वर्षों के दौरान एक कंपनी द्वारा बेची गई कारों की संख्या को दर्शाया गया है) और प्रश्न का उत्तर दे।

वर्ष	बेची गई कारों की संख्या	डीजल से पेट्रोल इंजन कारों का अनुपात डीजल : पेट्रोल
2012	330	5 : 6
2013	480	13 : 11
2014	510	8 : 9
2015	420	11: 10
2016	630	17: 18

2014 में कंपनी द्वारा बेची गई डीजल इंजन कारों की संख्या 2012 में बेची गई पेट्रोल इंजन कारों की तुलना में कितने प्रतिशत अधिक है?

Ans

- ✓ 1. $33\frac{1}{3}\%$
 ✗ 2. 40%
 ✗ 3. 35%
 ✗ 4. 25%

Question ID : 9895805763

Chosen Option : 2

Q.56 ₹ 45400 की राशि पर 15% के वार्षिक दर से $2\frac{2}{5}$ वर्ष के अंत में चक्रवृद्धि ब्याज क्या होगा, जब कि ब्याज वार्षिक रूप से संयोजित होता है? (एक रुपये के निकटतम)

Ans

- ✗ 1. ₹ 17644
 ✗ 2. ₹ 19646
 ✓ 3. ₹ 18244
 ✗ 4. ₹ 18549

Question ID : 9895805753

Chosen Option : 2

Q.57 एक परीक्षा में, गणित में 66% और अंग्रेजी में 70% अभ्यर्थी उत्तीर्ण हुए। यदि 20% अभ्यर्थी दोनों विषयों में अनुत्तीर्ण हुए और 350 अभ्यर्थी दोनों विषयों में उत्तीर्ण हुए तो कितने अभ्यर्थी परीक्षा में बैठे थे?

Ans

- ✓ 1. 625
 ✗ 2. 680
 ✗ 3. 600

X 4. 700

Question ID : 9895805748
Chosen Option : 1

Q.58 नीचे दिए गए डेटा का माध्यिका क्या है?

प्राप्तांक	18	15	17	32	20	28
छात्रों की संख्या	10	3	6	8	15	9

- Ans
- X 1. 24
- ✓ 2. 20
- X 3. 25
- X 4. 17

Question ID : 9895805754
Chosen Option : 2

Q.59 एक कार 6 घंटे तक अलग-अलग गति से यात्रा करती है। पहले घंटे के लिए, यह 60 km/hr की गति से चलती है, अगले दो घंटों के लिए 54 km/hr गति से और शेष समय में x km/hr पर यात्रा करती है। यदि संपूर्ण यात्रा के लिए औसत गति 56.5 km/hr है, तो x का मान क्या है?

- Ans
- X 1. 58
- ✓ 2. 57
- X 3. 56.8
- X 4. 55.6

Question ID : 9895805759
Chosen Option : 3

Q.60 ₹ 12200 की राशि को A, B, C और D के बीच ऐसे विभाजित की जाती है ताकि A और B के हिस्सों का अनुपात 9 : 5 हो, B और C के हिस्सों का अनुपात 10 : 7 हो, D के हिस्से और B और C के संयुक्त हिस्सों का अनुपात 1 : 3 है। B का हिस्सा क्या है?

- Ans
- ✓ 1. ₹ 3000
- X 2. ₹ 2100
- X 3. ₹ 5400
- X 4. ₹ 1700

Question ID : 9895805749
Chosen Option : 2

Q.61 एक गोलाकार लॉन का क्षेत्रफल 34 m, 20 m and 42 m की भुजाओं वाले त्रिकोणीय क्षेत्र के क्षेत्रफल के $1\frac{5}{6}$ गुना है। लॉन की परिधि (m में) क्या है? ($\pi=22/7$ लीजिए)

- Ans
- X 1. 154
- ✓ 2. 88
- X 3. 176

Question ID : 9895805755
Chosen Option : 1

Q.62 निम्नलिखित तालिका का अध्ययन करे (जिसमें पांच वर्षों के दौरान एक कंपनी द्वारा बेची गई कारों की संख्या को दर्शाया गया है) और प्रश्न का उत्तर दे।

वर्ष	बेची गई कारों की संख्या	डीजल से पेट्रोल इंजन कारों का अनुपात डीजल : पेट्रोल
2012	330	5 : 6
2013	480	13 : 11
2014	510	8 : 9
2015	420	11: 10
2016	630	17: 18

2016 में कंपनी द्वारा बेची गई पेट्रोल कारों की संख्या 2013 में बेची गई डीजल इंजन कारों की संख्या का कितना प्रतिशत है? (एक दशमलव स्थान पर सही)

- Ans
- 1. 80.2
 - 2. 85.8
 - 3. 75.6
 - 4. 60.4

Question ID : 9895805764
Chosen Option : 4

Q.63 A और B की वर्तमान आयु का अनुपात 19 : 21 है। आठ वर्ष पहले

उनकी आयु का क्रमशः अनुपात 15 : 17 था। यदि C की वर्तमान

आयु A की वर्तमान आयु से 5 वर्ष कम है तो C की आयु कितनी है?

- Ans
- 1. 33 वर्ष
 - 2. 31 वर्ष
 - 3. 35 वर्ष
 - 4. 34 वर्ष

Question ID : 9895805751

Q.64 एक वस्तु को ₹ 1700 में बेचकर एक आदमी 15% नुकसान उठाता है। यदि वह उसे ₹ 2050 में बेचता है तो उस वस्तु पर उसे कितने प्रतिशत का लाभ या हानि होगी?

- Ans
- 1. लाभ, $2\frac{1}{2}\%$
 - 2. हानि, $2\frac{1}{2}\%$
 - 3. लाभ, $1\frac{1}{2}\%$
 - 4. हानि, $1\frac{1}{2}\%$

Question ID : 9895805747

Chosen Option : 3

Q.65 दो पाइप A और B क्रमशः 60 मिनट और 7 मिनट में एक टंकी भर सकते हैं। C एक आउटलेट (पानी बहार ले जानेवाला) पाइप है। जब सभी तीनों पाइप एक साथ खोले जाते हैं, तो टंकी 50 मिनट में भर जाती है। पाइप A और C को एक साथ 6 मिनट के लिए खोले जाते हैं और फिर बंद कर दिए जाते हैं। B अकेले टंकी के शेष भाग को कितनी देर में भरेगा?

- Ans
- 1. 80मिनट
 - 2. 63 मिनट
 - 3. 72मिनट
 - 4. 75मिनट

Question ID : 9895805760

Chosen Option : 1

Q.66 यदि एक शंकु का अनुपात, जब उसकी ऊंचाई में 50% की वृद्धि होती है तब, 20% कम होता है, तो इसकी आयतन में कितने प्रतिशत का परिवर्तन होगा?

- Ans
- 1. 0.4% वृद्धि
 - 2. 0.4% कमी
 - 3. 4% कमी
 - 4. 4% वृद्धि

Question ID : 9895805757

Chosen Option : 3

Q.67 $\left(\frac{1}{2} - \frac{1}{2} \times \frac{1}{2}\right) \div \left(\frac{1}{2} + \frac{1}{2} \text{ of } \frac{1}{2}\right) + \left(7\frac{3}{4} \text{ of } \frac{5}{31}\right) \div \left(15\frac{1}{3} \text{ of } \frac{2}{23} + \frac{1}{3}\right)$ का मान क्या है?

- Ans
- 1. $\frac{13}{12}$
 - 2. $\frac{4}{3}$

3. $\frac{1}{3}$

4. $\frac{4}{9}$

Question ID : 9895805741
Chosen Option : 4

Q.68 निम्नलिखित तालिका का अध्ययन करे (जिसमें पांच वर्षों के दौरान एक कंपनी द्वारा बेची गई कारों की संख्या को दर्शाया गया है) और प्रश्न का उत्तर दे।

वर्ष	बेची गई कारों की संख्या	डीजल से पेट्रोल इंजन कारों का अनुपात डीजल : पेट्रोल
2012	330	5 : 6
2013	480	13 : 11
2014	510	8 : 9
2015	420	11 : 10
2016	630	17 : 18

2013 और 2015 में कंपनी द्वारा बेची गई डीजल इंजन कारों की कुल संख्या और 2012 और 2014 में बेची गई पेट्रोल इंजन कारों की कुल संख्या का अनुपात क्या है?

- Ans
1. 38 : 37
2. 15 : 14
3. 16 : 15
4. 6 : 5

Question ID : 9895805762
Chosen Option : 4

Q.69 एक दुकानदार किसी वस्तु के अंकित मूल्य पर 22% की छूट देता है और फिर भी 20% लाभ प्राप्त करता है। यदि वस्तु की लागत ₹ 520 है तो उसका अंकित मूल्य क्या है?

- Ans
1. ₹ 780
2. ₹ 700
3. ₹ 800
4. ₹ 750

Question ID : 9895805745
Chosen Option : 1

Q.70 धातु गोले का अनुपात 9 cm है। इसे पिघला कर इससे खिंचकर 0.3 cm कातार बनाया जाता है, तो तार की लंबाई (m में) क्या है?

- Ans
- 1. 108
 - 2. 162
 - 3. 81
 - 4. 54

Question ID : 9895805756
Chosen Option : 1

Q.71 28 संख्याओं का औसत 35 है। पहली 15 संख्याओं का औसत 33 है और अंतिम 14 का 36.5 है। यदि 15वीं संख्या को शामिल नहीं किया गया है, तो शेष संख्याओं का औसत क्या है?

- Ans
- 1. $35\frac{1}{3}$
 - 2. $34\frac{2}{3}$
 - 3. 34
 - 4. 33

Question ID : 9895805744
Chosen Option : 3

Q.72 एक कक्षा में कुछ लड़कियों का औसत वजन 56.4 kg है। बाद में 53.2 kg, 54.6 kg, 52.8 kg और 54 kg वजन की चार लड़कियों ने कक्षा छोड़ दी। परिणामतः, कक्षा में शेष लड़कियों का औसत वजन 275g बढ़ जाता है तो शुरुआत में लड़कियों की संख्या कितनी थी?

- Ans
- 1. 44
 - 2. 40
 - 3. 36
 - 4. 48

Question ID : 9895805743
Chosen Option : 1

Q.73 एक राशि 4% के वार्षिक दर के साधारण ब्याज से 5 वर्षों में ₹ 6240 होती है। तो उस राशि पर $5\frac{2}{5}$ वर्षों के लिए $7\frac{1}{2}$ % की दर पर साधारण ब्याज क्या होगा?

- Ans
- 1. ₹ 2008
 - 2. ₹ 2516
 - 3. ₹ 2106
 - 4. ₹ 2808

Question ID : 9895805752
Chosen Option : 1

Q.74 विभाजन विधि द्वारा दो संख्याओं के महत्तम समापवर्तक ज्ञात करने में, अंतिम भाजक 105 है और शुरु से अंत तक लगातार भागफल 1, 8 और 2 हैं। यदि दो संख्या के बीच का अंतर x है तो x के अंकों का योग क्या है?

- Ans
- 1. 5
 - 2. 3

3. 6

4. 7

Question ID : 9895805740
Chosen Option : 2

Q.75 एक नाव एक घंटे में 4 km धारा-प्रतिकूल (अपस्ट्रीम) और 6 km धारा-अनुकूल (डाउनस्ट्रीम) जाती है, जबकि वह $6\frac{1}{2}$ घंटे में 36 km धारा-प्रतिकूल (अपस्ट्रीम) और 24 km धारा-अनुकूल (डाउनस्ट्रीम) जाती है जाती है। धारा-अनुकूल (डाउनस्ट्रीम) जाते समय नाव की गति km/hr में क्या है?

Ans 1. 10

2. 12

3. 18

4. 9

Question ID : 9895805758
Chosen Option : 4

Section : English Language

Q.1 Select the most appropriate option to substitute the underlined segment in the given sentence. If there is no need to substitute it, select No improvement.

I want to learn Hindi from teacher.

Ans 1. from any teacher

2. from a Hindi teacher

3. from the teacher

4. No improvement

Question ID : 9895805285
Chosen Option : --

Q.2 Select the word which means the same as the group of words given.

The study of ancient events and societies.

Ans 1. Anthropology

2. Archaeology

3. Sociology

4. History

Question ID : 9895805302
Chosen Option : --

Q.3 Select the most appropriate option to fill in the blank.

Noori praised him for having an _____ plan.

Ans 1. indefinite

2. elementary

- 3. intense
- 4. excellent

Question ID : 9895805289
Chosen Option : --

Q.4 From the given options, identify the segment in the sentence which contains the grammatical error.

All we could find out from his neighbours are that he has a job in a corporate company.

- Ans
- 1. could find out
 - 2. in a corporate company
 - 3. his neighbours
 - 4. are that

Question ID : 9895805284
Chosen Option : --

Q.5 Select the synonym of the given word.

EXTROVERT

- Ans
- 1. Talkative
 - 2. Reticent
 - 3. Reserved
 - 4. Introvert

Question ID : 9895805297
Chosen Option : --

Q.6 Select the option that means the same as the given idiom.

Feeling under the weather

- Ans
- 1. To feel like pleasing weather
 - 2. To not look good
 - 3. To not feel well
 - 4. To feel exactly like the weather

Question ID : 9895805301
Chosen Option : --

Q.7 Select the most appropriate option to substitute the underlined segment in the given sentence. If there is no need to substitute it, select No improvement.

You must be fully involved what you do.

- Ans
- 1. fully involved into
 - 2. No improvement
 - 3. fully involved for

4. fully involved in

Question ID : 9895805287
Chosen Option : --

Q.8 Select the word which means the same as the group of words given.

A geometrical figure with eight sides

- Ans 1. Hexagon
 2. Octagon
 3. Parallelogram
 4. Pentagon

Question ID : 9895805303
Chosen Option : --

Comprehension:

In the following passage some words have been deleted. Fill in the blanks with the help of the alternatives given.

For generations man has (1) _____ against the wild to create a world where only he (2) _____ whether animals and plants survive or are (3) _____ out. Earlier, we accepted it as self-evident that any (4) _____ in our environment brought about by science and technology must be improvements (5) _____ the world of our ancestors.

SubQuestion No : 9

Q.9 Select the most appropriate option that will fill in the blank number 1.

- Ans 1. stood
 2. survived
 3. challenged
 4. faced

Question ID : 9895805291
Chosen Option : --

Comprehension:

In the following passage some words have been deleted. Fill in the blanks with the help of the alternatives given.

For generations man has (1) _____ against the wild to create a world where only he (2) _____ whether animals and plants survive or are (3) _____ out. Earlier, we accepted it as self-evident that any (4) _____ in our environment brought about by science and technology must be improvements (5) _____ the world of our ancestors.

SubQuestion No : 10

Q.10

Select the most appropriate option that will fill in the blank number 2.

- Ans
- 1. decides
 - 2. advises
 - 3. thinks
 - 4. observes

Question ID : 9895805292
Chosen Option : --

Comprehension:

In the following passage some words have been deleted. Fill in the blanks with the help of the alternatives given.

For generations man has (1) _____ against the wild to create a world where only he (2) _____ whether animals and plants survive or are (3) _____ out. Earlier, we accepted it as self-evident that any (4) _____ in our environment brought about by science and technology must be improvements (5) _____ the world of our ancestors.

SubQuestion No : II

Q.II Select the most appropriate option that will fill in the blank number 3.

- Ans
- 1. wiped
 - 2. taken
 - 3. thrown
 - 4. put

Question ID : 9895805293
Chosen Option : --

Comprehension:

In the following passage some words have been deleted. Fill in the blanks with the help of the alternatives given.

For generations man has (1) _____ against the wild to create a world where only he (2) _____ whether animals and plants survive or are (3) _____ out. Earlier, we accepted it as self-evident that any (4) _____ in our environment brought about by science and technology must be improvements (5) _____ the world of our ancestors.

SubQuestion No : I2

Q.I2 Select the most appropriate option that will fill in the blank number 4.

- Ans
- 1. replacements
 - 2. changes
 - 3. differences
 - 4. increments

Question ID : 9895805294
Chosen Option : --

Comprehension:

In the following passage some words have been deleted. Fill in the blanks with the help of the alternatives given.

For generations man has (1) _____ against the wild to create a world where only he (2) _____ whether animals and plants survive or are (3) _____ out. Earlier, we accepted it as self-evident that any (4) _____ in our environment brought about by science and technology must be improvements (5) _____ the world of our ancestors.

SubQuestion No : 13

Q.13 Select the most appropriate option that will fill in the blank number 5.

- Ans
- 1. at
 - 2. for
 - 3. in
 - 4. over

Question ID : 9895805295
Chosen Option : --

Q.14 Select the most appropriate word to fill in the blank.

The same sciences which have led us away from nature are now _____ the miracle of creation.

- Ans
- 1. discussing about
 - 2. arguing with
 - 3. unfolding
 - 4. narrating

Question ID : 9895805306
Chosen Option : --

Q.15 Select the correctly spelt word.

- Ans
- 1. Encyclopediia
 - 2. Enciclopedia
 - 3. Encyclopedia
 - 4. Incyclopedia

Question ID : 9895805305
Chosen Option : --

Q.16 From the given options, identify the segment in the sentence which contains the grammatical error.

A community is liked a ship; everyone should be prepared to take the helm.

- Ans
- 1. take the helm
 - 2. should be
 - 3. liked a ship
 - 4. A community

Question ID : 9895805283
Chosen Option : --

Q.17 Select the antonym of the given word.

NOMINATE

- Ans
- 1. Depute
 - 2. Suggest
 - 3. Reject
 - 4. Agreed

Question ID : 9895805298
Chosen Option : --

Q.18 Select the most appropriate word to fill in the blank.

It is neither the size nor the length of life which makes a man _____.

- Ans
- 1. humble
 - 2. heartless
 - 3. feeble
 - 4. inhuman

Question ID : 9895805307
Chosen Option : --

Q.19 Select the antonym of the given word.

ASCERTAIN

- Ans
- 1. Overlook
 - 2. Observe
 - 3. Detect
 - 4. Find out

Question ID : 9895805299
Chosen Option : --

Q.20 Select the most appropriate option to substitute the underlined segment in the given sentence. If there is no need to substitute it, select No improvement.

He lost the paper with the plan of the building which I had prepared.

- Ans
- 1. No improvement

2. the plan paper

3. a plan paper

4. the plain paper

Question ID : 9895805286

Chosen Option : --

Q.21 Select the most appropriate option to fill in the blank.

Greatness is what _____ you honourable.

Ans 1. had made

2. will made

3. is making

4. makes

Question ID : 9895805288

Chosen Option : --

Q.22 Select the correctly spelt word.

Ans 1. Bureaucracy

2. Buraucracy

3. Bureacracy

4. Burocracy

Question ID : 9895805304

Chosen Option : --

Q.23 Select the option that means the same as the given idiom.

Once in a blue moon.

Ans 1. Once in a fortnight

2. Frequently

3. Once in a month

4. Infrequently

Question ID : 9895805300

Chosen Option : --

Q.24 Select the synonym of the given word.

BAFFLE

Ans 1. Discuss

2. Gossip

3. Confuse
 4. Convince

Question ID : 9895805296
Chosen Option : --

Q.25 From the given options, identify the segment in the sentence which contains the grammatical error.

You assertion that you were thoroughly ignorant of the consequences cannot be believed.

- Ans 1. cannot be
 2. ignorant of
 3. were thoroughly
 4. You assertion

Question ID : 9895805282
Chosen Option : --

Section : Hindi Language

Q.1 दिए गए वाक्य का वह भाग ज्ञात करें जिसमें कोई त्रुटि है।
बात तो तुमने ठीक कही है पर इतने रुपए कहाँ से आएगा।

- Ans 1. पर इतने रुपए
 2. बात तो तुमने
 3. कहाँ से आएगा।
 4. ठीक कही है

Question ID : 9895805816
Chosen Option : 4

Q.2 रिक्त स्थान को भरने के लिए उपयुक्त शब्द का चयन करें।

कारखानों के धुएँ से वातावरण _____ हो रहा है।

- Ans 1. गन्दी
 2. साफ
 3. स्वच्छ
 4. दूषित

Question ID : 9895805825
Chosen Option : 1

Q.3 निम्नलिखित में से उस विकल्प का चयन करें जो 'नमक मिर्च लगाना' मुहावरे का अर्थ व्यक्त करता है।

Ans

- 1. अनुनय करना
- 2. उपहास करना
- 3. बढ़ा-चढ़ा कर कहना
- 4. नमक और मिर्च लगाकर रखना

Question ID : 9895805837
Chosen Option : 4

Q.4 दिए गए शब्द के पर्यायवाची शब्द का चयन करें।

आदी

- Ans
- 1. अभ्यस्त
 - 2. अन्य
 - 3. और
 - 4. आदि

Question ID : 9895805834
Chosen Option : 2

Q.5 दिए गए शब्द के पर्यायवाची शब्द का चयन करें।

रुधिर

- Ans
- 1. आधि
 - 2. रक्त
 - 3. विकार
 - 4. पय

Question ID : 9895805835
Chosen Option : 2

Q.6 दिए गए शब्द का विलोम चुनें।

गुप्त

- Ans
- 1. प्रकट
 - 2. गुप्तचर
 - 3. प्रच्छन्न
 - 4. प्रसार

Question ID : 9895805833
Chosen Option : 2

Q.7

दिए गए वाक्य का वह भाग ज्ञात करें जिसमें कोई त्रुटि है।

परोपकार करने से मनुष्य का मन में शांति का अनुभव होता है।

Ans

- 1. शांति का अनुभव
- 2. होता है।
- 3. परोपकार करने से
- 4. मनुष्य का मन में

Question ID : 9895805817

Chosen Option : 3

Q.8 रिक्त स्थान को भरने के लिए उपयुक्त शब्द का चयन करें।

पेड़ में पानी डालो _____ वह सूख जाएगा।

Ans

- 1. किंतु
- 2. अन्यथा
- 3. लेकिन
- 4. परंतु

Question ID : 9895805822

Chosen Option : 4

Q.9 दिए गए वाक्य में रेखांकित खंड को प्रतिस्थापित करने के लिए उपयुक्त विकल्प का चयन करें।

मोहन को काटकर सेब खिलाओ।

Ans

- 1. मोहन को सेब काटकर खिलाओ।
- 2. काटकर सेब को मोहन खिलाओ।
- 3. सेबों मोहन को काटकर खिलाओ।
- 4. मोहन से काटकर सेब खिलाओ।

Question ID : 9895805821

Chosen Option : 2

Q.10 सही वर्तनी वाले शब्द का चयन करें।

Ans

- 1. आयुश्मान
- 2. आयुषमान
- 3. आयुष्मान
- 4. आयुशमान

Question ID : 9895805841
Chosen Option : 3

Q.11 सही वर्तनी वाले शब्द का चयन करें।

- Ans
- 1. पिकदान
 - 2. पीकदान
 - 3. पीकदन
 - 4. पीकदाम

Question ID : 9895805840
Chosen Option : 1

Q.12 दिये गये वाक्यांश के लिए एक शब्द दीजिये।

जो अधिक बोलता हो

- Ans
- 1. वाचाल
 - 2. मितव्ययी
 - 3. मितभाषी
 - 4. अपव्ययी

Question ID : 9895805838
Chosen Option : 4

Q.13 दिये गये वाक्यांश के लिए एक शब्द दीजिये।

जो वर्ष में एक बार होता हो

- Ans
- 1. दैनिक
 - 2. साप्ताहिक
 - 3. पाक्षिक
 - 4. वार्षिक

Question ID : 9895805839
Chosen Option : 4

Q.14 रिक्त स्थान को भरने के लिए उपयुक्त शब्द का चयन करें।

इस लड़की की लंबाई _____ है।

- Ans
- 1. लंबी
 - 2. पतली
 - 3. चौड़ी

✓ 4. अधिक

Question ID : 9895805823
Chosen Option : 4

Q.15 निम्नलिखित में से उस विकल्प का चयन करें जो 'गुड़ गोबर कर देना' मुहावरे का अर्थ व्यक्त करता है।

- Ans
- ✗ 1. गुड़ और गोबर को मिला देना
 - ✗ 2. गुड़ को गोबर में बदलना
 - ✗ 3. काम सुधार देना
 - ✓ 4. काम बिगाड़ देना

Question ID : 9895805836
Chosen Option : 3

Q.16 दिए गए शब्द का विलोम चुनें।

निरामिष

- Ans
- ✗ 1. अन्वेषण
 - ✓ 2. सामिष
 - ✗ 3. आवेश
 - ✗ 4. विष

Question ID : 9895805832
Chosen Option : 2

Comprehension:

निम्नलिखित गद्यांश के रिक्त स्थानों की पूर्ति गद्यांश के नीचे दिए गए प्रश्नों के अनुसार कीजिए -

ईर्ष्या विवेक की विरोधी है। ईर्ष्या वह काली _____ (1) है जो समस्त भ्रूमंडल में विषाक्त फुफकारें छोड़ती है। यह भ्रान्ति की गर्म हवा है जो शरीर के अंदर 'लू' की तरह चलती रहती है और मानसिक शक्तियों को झुलसा कर _____ (2) कर देती है। अतः दूसरों के सुख देखकर _____ (3) का अनुभव करना चाहिए। विदुर जी का मत है, जिनका हृदय द्वेष की _____ (4) में जलता है उन्हें रात में _____ (5) नहीं आती।

SubQuestion No : 17

Q.17

गद्यांश में संकेतित रिक्त स्थान (1) के लिए उपयुक्त

शब्द होगा -

- Ans
- 1. बिल्ली
 - 2. शेरनी
 - 3. लोमड़ी
 - 4. नागिन

Question ID : 9895805827

Chosen Option : I

Comprehension:

निम्नलिखित गद्यांश के रिक्त स्थानों की पूर्ति गद्यांश के नीचे दिए गए प्रश्नों के अनुसार कीजिए -

ईर्ष्या विवेक की विरोधी है। ईर्ष्या वह काली _____ (1) है जो समस्त भूमंडल में विषाक्त फुफकारें छोड़ती है। यह भ्रान्ति की गर्म हवा है जो शरीर के अंदर 'लू' की तरह चलती रहती है और मानसिक शक्तियों को झुलसा कर _____ (2) कर देती है। अतः दूसरों के सुख देखकर _____ (3) का अनुभव करना चाहिए। विदुर जी का मत है, जिनका हृदय द्वेष की _____ (4) में जलता है उन्हें रात में _____ (5) नहीं आती।

SubQuestion No : 18

Q.18 गद्यांश में संकेतित रिक्त स्थान (2) के लिए उपयुक्त

शब्द होगा -

- Ans
- 1. पानी
 - 2. मिठाई
 - 3. राख
 - 4. सब्जी

Question ID : 9895805828

Chosen Option : I

Comprehension:

निम्नलिखित गद्यांश के रिक्त स्थानों की पूर्ति गद्यांश के नीचे दिए गए प्रश्नों के अनुसार कीजिए -

ईर्ष्या विवेक की विरोधी है। ईर्ष्या वह काली _____ (1) है जो समस्त भूमंडल में विषाक्त फुफकारें छोड़ती है। यह भ्रान्ति की गर्म हवा है जो शरीर के अंदर 'लू' की तरह चलती रहती है और मानसिक शक्तियों को झुलसा कर _____ (2) कर देती है। अतः दूसरों के सुख देखकर _____ (3) का अनुभव करना चाहिए। विदुर जी का मत है, जिनका हृदय द्वेष की _____ (4) में जलता है उन्हें रात में _____ (5) नहीं आती।

SubQuestion No : 19

Q.19 गद्यांश में संकेतित रिक्त स्थान (3) के लिए उपयुक्त शब्द होगा -

- Ans
- 1. प्रसन्नता
 - 2. सुगंध
 - 3. पसीना
 - 4. दुर्गंध

Question ID : 9895805829
Chosen Option : 2

Comprehension:

निम्नलिखित गद्यांश के रिक्त स्थानों की पूर्ति गद्यांश के नीचे दिए गए प्रश्नों के अनुसार कीजिए -

ईर्ष्या विवेक की विरोधी है। ईर्ष्या वह काली _____ (1) है जो समस्त भूमंडल में विषाक्त फुफकारें छोड़ती है। यह भ्रान्ति की गर्म हवा है जो शरीर के अंदर 'लू' की तरह चलती रहती है और मानसिक शक्तियों को झुलसा कर _____ (2) कर देती है। अतः दूसरों के सुख देखकर _____ (3) का अनुभव करना चाहिए। विदुर जी का मत है, जिनका हृदय द्वेष की _____ (4) में जलता है उन्हें रात में _____ (5) नहीं आती।

SubQuestion No : 20

Q.20

गद्यांश में संकेतित रिक्त स्थान (4) के लिए उपयुक्त

शब्द होगा -

- Ans
- 1. पानी
 - 2. आग
 - 3. मिर्च
 - 4. सब्जी

Question ID : 9895805830
Chosen Option : 2

Comprehension:

निम्नलिखित गद्यांश के रिक्त स्थानों की पूर्ति गद्यांश के नीचे दिए गए प्रश्नों के अनुसार कीजिए -

ईर्ष्या विवेक की विरोधी है। ईर्ष्या वह काली _____ (1) है जो समस्त भूमंडल में विषाक्त फुफकारें छोड़ती है। यह भ्रान्ति की गर्म हवा है जो शरीर के अंदर 'लू' की तरह चलती रहती है और मानसिक शक्तियों को झुलसा कर _____ (2) कर देती है। अतः दूसरों के सुख देखकर _____ (3) का अनुभव करना चाहिए। विदुर जी का मत है, जिनका हृदय द्वेष की _____ (4) में जलता है उन्हें रात में _____ (5) नहीं आती।

SubQuestion No : 21

Q.21 गद्यांश में संकेतित रिक्त स्थान (5) के लिए उपयुक्त शब्द होगा -

- Ans
- 1. मिठाई
 - 2. नींद
 - 3. दुर्गंध
 - 4. सुगंध

Question ID : 9895805831
Chosen Option : 2

Q.22 दिए गए वाक्य में रेखांकित खंड को प्रतिस्थापित करने के लिए उपयुक्त विकल्प का चयन करें।

मुंबई जैसे शहर में अच्छा मकान मिलने बहुत मुश्किल है।

- Ans
- 1. अच्छा मकान मिलना
 - 2. अच्छी मकान मिलना

3. अच्छी मकानें मिलना

4. अच्छे मकानों मिलना

Question ID : 9895805819

Chosen Option : 1

Q.23 दिए गए वाक्य का वह भाग ज्ञात करें जिसमें कोई त्रुटि है।

उस दृश्य को देखकर मेरा तो प्राण निकल गए।

Ans 1. निकल गए।

2. उस दृश्य

3. मेरा तो प्राण

4. को देखकर

Question ID : 9895805818

Chosen Option : 4

Q.24 रिक्त स्थान को भरने के लिए उपयुक्त शब्द का चयन करें।

चाकू से फल _____ दो।

Ans 1. धो

2. फाड़

3. खिला

4. काट

Question ID : 9895805824

Chosen Option : 2

Q.25 दिए गए वाक्य में रेखांकित खंड को प्रतिस्थापित करने के लिए उपयुक्त विकल्प का चयन करें।

जब से वह अपने घर से आई है जब से वह कुछ बोल नहीं रही है।

Ans 1. अब से वह

2. कब से वह

3. तब से वह

4. जभी से वह

Question ID : 9895805820

Chosen Option : 3