

Constable (GD) in CAPFs, NIA, SSF and Rifleman (GD) in Assam Rifles Examination, 2018

Roll No. :	GovtJobsAlert.In
Registration No.	GovtJobsAlert.In
Name :	GovtJobsAlert.In
Exam Venue :	Bhartiya Institute of Engineering and Technology
Exam Time :	4:00 PM - 5:30 PM
Exam Date :	19/02/2019

Section : General Section

Q.1 एक कतार में पश्चिम की ओर मुँह करके सात लड़कियाँ बैठी हैं। किम, सीमा के बाईं ओर बैठी है तथा सोनी, पिकु और रिया के बीच में बैठी है, जो एक व्यक्ति द्वारा नीला से अलग कर दी गई है। अगर पिकु कतार की एक छोर पर बैठी है तो दूसरी छोर पर कौन बैठी है?

- Ans
- 1. नीला
 - 2. सीमा
 - 3. किम
 - 4. रिया

Question ID : 9895803935
Chosen Option : 2

Q.2 उस विकल्प का चयन करें जो तीसरे पद से उसी तरह संबंधित है, जिस तरह दूसरा पद पहले पद से संबंधित है।
मंदिर : अराधना :: न्यायालय : ?

- Ans
- 1. तर्क
 - 2. वकील
 - 3. न्यायाधीश
 - 4. न्यायिक क्षेत्राधिकार

Question ID : 9895803930
Chosen Option : 1

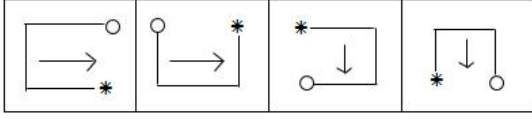
Q.3 निम्नलिखित सेट की संख्याएँ एक खास प्रकार से आपस में संबंधित हैं। दिए गए विकल्पों में से उस सेट का चयन करें जो निम्नलिखित सेट के समान है।

{128, 8, 32}

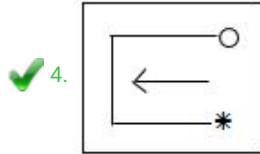
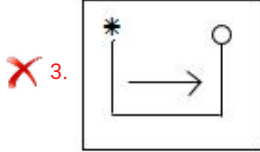
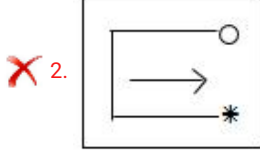
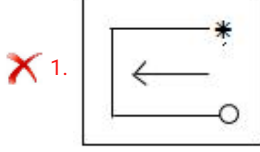
- Ans
- 1. {64, 4, 16}
 - 2. {122, 10, 30}
 - 3. {144, 36, 72}
 - 4. {196, 7, 14}

Question ID : 9895803943

Q.4 विकल्पों में से उस आकृति का चयन करें जो दी गई श्रृंखला में अगले स्थान पर आएगी।



Ans



Question ID : 9895803945

Chosen Option : 2

Q.5 उस विकल्प का चयन करें जो तीसरे पद से उसी तरह संबंधित है जिस तरह दूसरा पद पहले पद से संबंधित है।

BYWD : DWUF :: FUSH : ?

Ans

✓ 1. HSQJ

✗ 2. HSJQ

✗ 3. HTRJ

✗ 4. JQOL

Question ID : 9895803931

Chosen Option : 3

Q.6 कार्यसूची (AGENDA), सभा (MEETING) से उसी तरह संबंधित है, जिस तरह कार्यक्रम (PROGRAMME), _____ से संबंधित है।

Ans

✗ 1. भाषण (SPEECH)

✗ 2. उद्घाटन (INAUGURATION)

✗ 3. संगठन (ORGANISATION)

✓ 4. समारोह (FUNCTION)

Question ID : 9895803929

Q.7 निम्न चार अक्षर समूहों में से कौन सा एक इस समूह का हिस्सा नहीं है?

- Ans
- ✓ 1. WZXY
 - ✗ 2. KQOM
 - ✗ 3. CIGE
 - ✗ 4. PVTR

Question ID : 9895803927

Chosen Option : 1

Q.8 नीचे दिए गए कथनों के बाद दो निष्कर्ष I और II दिए गए हैं। यह मानते हुए कि कथनों में दी गई जानकारी सत्य है, भले ही वह सर्वज्ञात तथ्यों से भिन्न प्रतीत होती हो और यह निर्णय करें कि कौन सा / से निष्कर्ष तार्किक और निश्चित रूप से कथन में दी गई जानकारी का अनुसरण करता है / करते हैं।

कथन:

1. कुछ पशु बाघ हैं।
2. सभी बाघ कशेरुक होते हैं।

निष्कर्ष:

- I. सभी कशेरुक बाघ होते हैं।
- II. कुछ कशेरुक पशु होते हैं।

- Ans
- ✓ 1. केवल निष्कर्ष II अनुसरण करता है
 - ✗ 2. केवल निष्कर्ष I अनुसरण करता है
 - ✗ 3. निष्कर्ष I और निष्कर्ष II, दोनों अनुसरण करते हैं
 - ✗ 4. न तो निष्कर्ष I और न ही II अनुसरण करता है

Question ID : 9895803938

Chosen Option : 3

Q.9 उस विकल्प का चयन करें जो सही रूप में रिक्त स्थान को भरे और श्रृंखला को पूरा करें।

dmt, fkv, ihy, mdc, ___

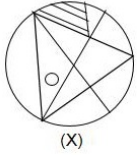
- Ans
- ✓ 1. ryh
 - ✗ 2. qzl
 - ✗ 3. rzh
 - ✗ 4. rxi

Question ID : 9895803926

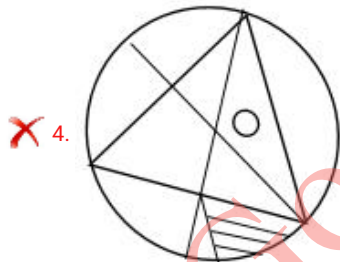
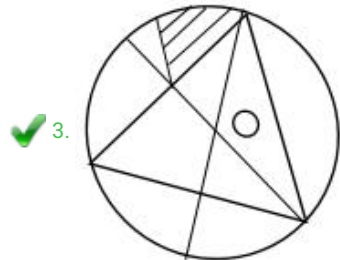
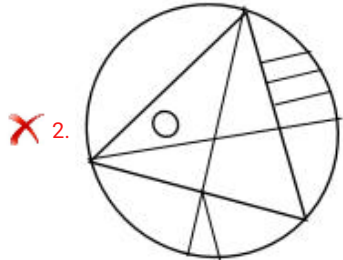
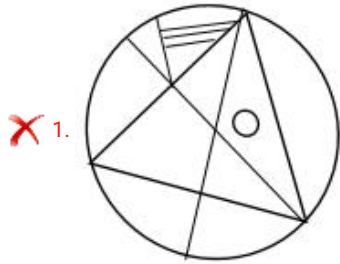
Chosen Option : 3

Q.1
0

उस विकल्प का चयन करें, जो दी गई आकृति के दर्पण छवि से तब पूरी तरह से मिलचा-जुलता है, जब दर्पण को दाईं ओर रखा जाता है।



Ans



Question ID : 9895803947
Chosen Option : 4

Q.1 अगर एक कूट भाषा में ADVENTURES को VDANEUTSER के रूप में कूटबद्ध किया जाता है, तो SYSTEMATIC को किस तरह से कूटबद्ध किया जाएगा?

- Ans
- ✗ 1. YSTSMETACI
 - ✓ 2. SYSETAMCIT
 - ✗ 3. SYSMETITAC
 - ✗ 4. CITETAMSYS

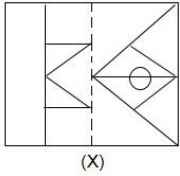
Question ID : 9895803932
Chosen Option : 2

Q.1 छह व्यक्ति A, B, C, D, E और F एक गोल मेज की चारों ओर केंद्र की ओर मुखातिब होकर बैठे हैं। B, D के दाईं ओर बैठा है। E, C के दाईं ओर बैठा है। A, F की ओर मुखातिब है, जो C की दाईं ओर बैठा है। A की बाईं ओर कौन बैठा है?

- Ans
- 1. D
 - 2. C
 - 3. B
 - 4. E

Question ID : 9895803934
Chosen Option : 3

Q.1 'X' से चिह्नित आयताकार पारदर्शी शीट का पैटर्न तब कैसा दिखेगा जब इस शीट को डॉट से बनाई गई रेखा पर मोड़ा जाएगा?

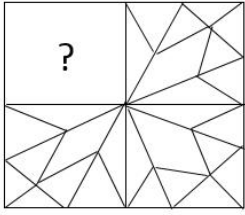


Ans

- 1.
- 2.
- 3.
- 4.

Question ID : 9895803949
Chosen Option : 3

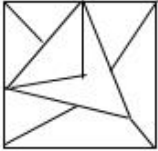
Q.1 4 उस आकृति का चयन करें जिसे 'X' से चिह्नित रिक्त स्थान पर रखने से चित्र का पैटर्न पूर्ण हो जाएगा।



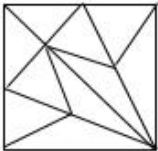
(X)

Ans

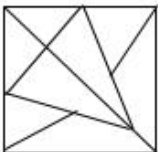
1.



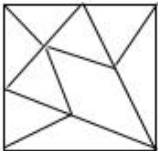
2.



3.



4.



Question ID : 9895803946
Chosen Option : 2

Q.1 5 R, T से लंबा है। P और Q, दोनों उस S से लंबे हैं, जिसकी लंबाई P और T की लंबाई के बीच है। अगर S, T से लंबा है तो सबसे कम लंबाई किसकी है?

Ans

1. T

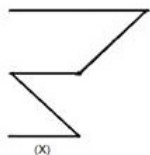
2. Q

3. S

4. P

Question ID : 9895803936
Chosen Option : 4

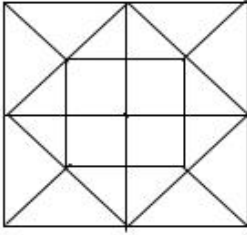
Q.1 6 विकल्पों में से उस आकृति का चयन करें जिसमें 'X' से चिह्नित आकृति समाहित है।



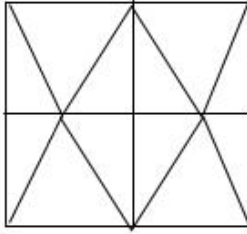
(X)

Ans

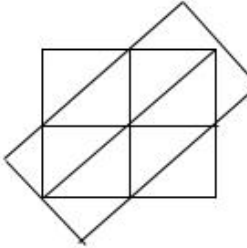
✗ 1.



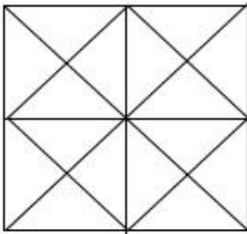
✗ 2.



✗ 3.



✓ 4.



Question ID : 9895803948
Chosen Option : 1

Q.1 असंगत का चयन करें करें।

Ans

- ✗ 1. चूड़ी
- ✗ 2. टायर
- ✓ 3. तस्तरी
- ✗ 4. अंगुठी

Question ID : 9895803928
Chosen Option : 3

Q.1 उस विकल्प का चयन करें जो सही रूप में रिक्त स्थान को भरे और श्रृंखला को पूरा करें।

5, ____, 10, 19, 35, 60

Ans

- ✗ 1. 8
- ✗ 2. 9
- ✗ 3. 7
- ✓ 4. 6

Question ID : 9895803940
Chosen Option : 3

Q.1 ₉ उस विकल्प का चयन करें जो सही रूप में रिक्त स्थान को भरे और श्रृंखला को पूरा करें।

15, 12, 19, 14, 25, 16, ?

- Ans
- 1. 35
 - 2. 31
 - 3. 29
 - 4. 33

Question ID : 9895803939
Chosen Option : 4

Q.2 ₀ असंगत युग्म का चयन करें।





- Ans
- 1. 17-49
 - 2. 5-13
 - 3. 9-25
 - 4. 15-41

Question ID : 9895803941
Chosen Option : 3

Q.2 ₁ निम्नलिखित में से कौन सा वेन रेखाचित्र दिए गए वर्ग के बीच के संबंध को सही दर्शाता है?

उत्पाद, कारखाना, मशीन

Ans

- 1. 
- 2. 
- 3. 
- 4. 

Question ID : 9895803950
Chosen Option : 4

Q.2 कौन से दो चिहनों को अगर आपस में एक-दूसरे से बदल दिया जाएगा तो निम्नलिखित समीकरण सही हो जाए?
2

$$6 \times 2 + 8 - 16 \div 4 = 18$$

- Ans
- 1. - और ÷
 - 2. + और ÷
 - 3. × और ÷
 - 4. + और ×

Question ID : 9895803944
Chosen Option : 4

Q.2 नीचे दिए गए कथनों के बाद दो निष्कर्ष I और II दिए गए हैं। यह मानते हुए कि कथनों में दी गई जानकारी सत्य है, भले ही वह सर्वज्ञात तथ्यों से भिन्न प्रतीत होती हो और यह निर्णय करें कि कौन सा / से निष्कर्ष तार्किक और निश्चित रूप से कथन में दी गई जानकारी का अनुसरण करता है / करते हैं।
3

कथन:

1. सभी सड़कें गलियाँ हैं।
2. कुछ गलियाँ रास्ते हैं।

निष्कर्ष:

- I. कुछ सड़कें रास्ते हैं।
- II. सभी रास्ते सड़क हैं।

- Ans
- 1. केवल निष्कर्ष II अनुसरण करता है
 - 2. निष्कर्ष I और निष्कर्ष II, दोनों अनुसरण करते हैं
 - 3. केवल निष्कर्ष I अनुसरण करता है
 - 4. न तो निष्कर्ष I और न ही II अनुसरण करता है

Question ID : 9895803937
Chosen Option : 1

Q.2 चार संख्याएँ दी गई हैं जिनमें से तीन संख्याएँ किसी न किसी रूप में समान हैं, जबकि एक संख्या भिन्न है। असंगत संख्या चुनिए।
4

- Ans
- 1. 343
 - 2. 729
 - 3. 125
 - 4. 1321

Question ID : 9895803942
Chosen Option : 2

Q.2 अगर एक कूट भाषा में BADE = 1254 और HATE = 18520 है, तो HEALER = क्या होगा?
5

- Ans
- 1. 15818512
 - 2. 58112158

✓ 3. 58121185

✗ 4. 18512158

Question ID : 9895803933
Chosen Option : 3

Q.2
6 तटस्थ, विस्तारवादी और संकुचनकारी रणनीतियाँ सरकार की किस नीति से संबंधित हैं?

Ans ✗ 1. मौद्रिक नीति

✓ 2. राजकोषीय नीति

✗ 3. बजट नीति

✗ 4. बैंकिंग नीति

Question ID : 9895805467
Chosen Option : 2

Q.2
7 हड़प्पा और मोहन जो-दड़ो के प्राचीन शहर किस नदी के किनारे बसाए गए?

Ans ✗ 1. बागमती नदी

✓ 2. सिंधु नदी

✗ 3. ब्रह्मपुत्र नदी

✗ 4. गंगा नदी

Question ID : 9895805482
Chosen Option : 2

Q.2
8 पुरुषों के एकल प्रतिस्पर्धा में सैयद मोदी इंडिया गैंड प्रिक्स गोल्ड बैडमिंटन खिताब 2018 किसने जीता?

Ans ✗ 1. श्रीकांत किदांबी

✗ 2. अजय जयराम

✗ 3. प्रणॉय कुमार

✓ 4. समीर वर्मा

Question ID : 9895805463
Chosen Option : 2

Q.2
9 प्रसिद्ध 'रत्नागिरी मठ' किस भारतीय राज्य में स्थित है?

Ans ✗ 1. झारखंड

✗ 2. कर्नाटक

✗ 3. गुजरात

✓ 4. ओडिशा

Question ID : 9895805461
Chosen Option : 2

Q.3 प्रख्यात अर्थशास्त्री और स्तम्भकार _____ ने प्रधानमंत्री नरेंद्र मोदी की आर्थिक सलाहकार परिषद के अंशकालिक सदस्य पद से इस्तीफा दे दिया है।

- Ans
- 1. अरविंद सुब्रमण्यन
 - 2. रघुराम राजन
 - 3. सुरजीत भल्ला
 - 4. जगदीश भगवती

Question ID : 9895805468
Chosen Option : 2

Q.3 'झुमुर' निम्नलिखित में से किस राज्य का पारंपरिक नृत्य स्वरूप है?

- Ans
- 1. ओडिशा
 - 2. बंगाल
 - 3. मध्य प्रदेश
 - 4. असम

Question ID : 9895805459
Chosen Option : 3

Q.3 'बिशन सिंह बेदी' किस खेल के एक महान भारतीय खिलाड़ी हैं?

- Ans
- 1. लॉन टेनिस
 - 2. फुटबॉल
 - 3. हॉकी
 - 4. क्रिकेट

Question ID : 9895805462
Chosen Option : 3

Q.3 किस भारतीय राज्य में वन क्षेत्र के अधीन सबसे बड़ा क्षेत्र है?

- Ans
- 1. छत्तीसगढ़
 - 2. केरल
 - 3. मध्य प्रदेश
 - 4. अरुणाचल प्रदेश

Question ID : 9895805476
Chosen Option : 2

Q.3

4 सुश्री सुष्मिता सेन किस वर्ष 'मिस यूनिवर्स' का खिताब जीतने वाली पहली भारतीय महिला बनीं?

- Ans
- 1. 1998
 - 2. 1996
 - 3. 1991
 - 4. 1994

Question ID : 9895805466
Chosen Option : 1

Q.3
5 'हेमिस त्योहार' किस भारतीय राज्य में मनाया जाता है?

- Ans
- 1. पंजाब
 - 2. तमिलनाडु
 - 3. कर्नाटक
 - 4. जम्मू और कश्मीर

Question ID : 9895805460
Chosen Option : 2

Q.3
6 दाब के मापन के लिए SI इकाई क्या है?

- Ans
- 1. जूल
 - 2. पास्कल
 - 3. न्यूटन
 - 4. एम्पियर

Question ID : 9895805473
Chosen Option : 1

Q.3
7 निम्नलिखित में से किस देश का संविधान दुनिया का सबसे छोटा संविधान है?

- Ans
- 1. भारत
 - 2. यूनाइटेड किंगडम
 - 3. नॉर्वे
 - 4. संयुक्त राज्य अमरीका

Question ID : 9895805470
Chosen Option : 3

Q.3
8 ऐतिहासिक नालंदा विश्वविद्यालय किसके शासन काल में स्थापित किया गया था?

- Ans
- 1. कुमारगुप्त
 - 2. बिन्दुसार

- 3. दशरथ
- 4. चंद्रगुप्त

Question ID : 9895805481
Chosen Option : 2

Q.3 'सुलभ स्वच्छता और सामाजिक सुधार आंदोलन' के संस्थापक कौन हैं?

- Ans
- 1. डॉ.बिंदेश्वर पाठक
 - 2. अरुणा राय
 - 3. मेधा पाटकर
 - 4. बाबा आमटे

Question ID : 9895805477
Chosen Option : 2

Q.4 निम्नलिखित में से किसे भारत की सबसे छोटी नदी माना जाता है?

- Ans
- 1. गोदावरी
 - 2. नर्मदा
 - 3. कावेरी
 - 4. अर्वरी

Question ID : 9895805478
Chosen Option : 4

Q.4 अरविन्द अडिग को किस पुस्तक के लिए प्रतिष्ठित मैन बुकर पुरस्कार मिला?

- Ans
- 1. द व्हाइट टाइगर
 - 2. द कार्ट रनर
 - 3. सीलेक्सन डे
 - 4. गॉड ऑफ़ स्माल थिंग्स

Question ID : 9895805464
Chosen Option : 4

Q.4 निम्न में से कौन सा निशाचर जानवर है?

- Ans
- 1. हैम्स्टर
 - 2. साही
 - 3. चमगादड़
 - 4. मुरीद

Question ID : 9895805475
Chosen Option : 3

Q.4
3 शिक्षा का अधिकार अधिनियम को किस वर्ष अधिनियमित किया गया?

- Ans
- 1. 2009
 - 2. 2004
 - 3. 2011
 - 4. 2006

Question ID : 9895805471
Chosen Option : 2

Q.4
4 2018 तक निम्नलिखित में से कौन सा शहर सबसे घनी आबादी वाला शहर है?

- Ans
- 1. पेरिस
 - 2. टोक्यो
 - 3. इस्तांबुल
 - 4. शंघाई

Question ID : 9895805480
Chosen Option : 1

Q.4
5 वह कौन सी घटना थी जिसने सरदार वल्लभभाई पटेल के जीवन को मूल रूप से बदल दिया और उन्हें राजनीति की ओर धकेल दिया?

- Ans
- 1. बारडोली सत्याग्रह (वर्ष 1928)
 - 2. गांधी इरविन संधि (वर्ष 1931)
 - 3. गोधरा में महात्मा गांधी से मुलाकात (वर्ष 1917)
 - 4. असहयोग आंदोलन (वर्ष 1922)

Question ID : 9895805483
Chosen Option : 1

Q.4
6 केंद्रीय मंत्रिमंडल ने अपने कर्मचारियों के राष्ट्रीय पेंशन प्रणाली (एनपीएस) कोष में केंद्र सरकार के अंशदान को 10% से बढ़ाकर _____ करने का निर्णय लिया है।

- Ans
- 1. 20%
 - 2. 14%
 - 3. 11%
 - 4. 12%

Question ID : 9895805469
Chosen Option : 4

Q.4
7 खाना पकाने के सामान्य घटक, बेकिंग सोडा का रासायनिक नाम क्या है?

Ans

- 1. सोडियम बाइकार्बोनेट
- 2. सोडियम बेंजोएट
- 3. मोनोसोडियम ग्लूटामेट
- 4. सोडियम क्लोराइड

Question ID : 9895805474
Chosen Option : 2

Q.4
8 निम्नलिखित में से कौन दुनिया की सबसे छोटी पर्वत श्रृंखला है?

Ans

- 1. सिएरा नेवादा
- 2. सटर बट्टस
- 3. आल्प्स
- 4. यूराल

Question ID : 9895805479
Chosen Option : 3

Q.4
9 प्रसिद्ध नाटक 'द माउसट्रैप' किसके द्वारा लिखा गया था?

Ans

- 1. केरिल चर्चिल
- 2. अगाथा क्रिस्टी
- 3. जॉर्ज बर्नार्ड शॉ
- 4. विलियम शेक्सपियर

Question ID : 9895805465
Chosen Option : 4

Q.5
0 भारत, जीवन के अधिकार (राइट टू लाइफ) (अनुच्छेद 21) के भाग के रूप में _____ के अधिकार को मान्यता देता है।

Ans

- 1. स्वीकृति
- 2. मनन
- 3. स्वास्थ्य
- 4. पानी

Question ID : 9895805472
Chosen Option : 3

Q.5
1

निम्नलिखित तालिका का अध्ययन करें (जिसमें 5 कंपनियों द्वारा बनाए एवं बेचे गए उत्पादों की इकाइयों की संख्या को दर्शाया गया है) और प्रश्न का उत्तर दें।

कंपनी	निर्मित इकाइयों की संख्या (हजार में)	बेची गई
A	42	30
B	45	32
C	36	26
D	51	36
E	54	40

कंपनियों A, B और D द्वारा बेची गई इकाइयों की कुल संख्या का कितना प्रतिशत कंपनी C द्वारा निर्मित इकाइयों की संख्या के बराबर है? (एक दशमलव स्थान तक गणना कीजिए)

- Ans 1. 36.7
 2. 33.3
 3. 40.9
 4. 35.6

Question ID : 9895805789

Chosen Option : 3

Q.5 दो ट्रेनें एक ही समय पर चलना शुरू करती हैं, ट्रेन P, A से B की ओर और ट्रेन Q, B से A की ओर चलती है, यदि वे एक दूसरे को पार करने के क्रमशः $2\frac{1}{2}$ घंटे और 10 घंटे बाद B और A पर पहुंचती हैं, और P की चाल 90 km/hr है, तो Q की चाल km/hr में कितनी होगी?

- Ans 1. 75
 2. 45
 3. 60
 4. 80

Question ID : 9895805783

Chosen Option : 3

Q.5 एक आयताकार खेत का विकर्ण 15 मीटर है और इसका क्षेत्रफल 108 m^2 है। ₹50.50 प्रति मीटर की दर से इस खेत में बाड़ लगाने की लागत ज्ञात कीजिए?

- Ans 1. ₹2121
 2. ₹1919
 3. ₹2222
 4. ₹2020

Question ID : 9895805780

Chosen Option : 3

Q.5 आंकड़ों के माध्य, माध्यिका और परास का औसत क्या है:

34, 41, 6, 13, 27, 20, 48, और 55 ?

- Ans 1. $30\frac{1}{2}$

2. $30\frac{1}{3}$

3. $36\frac{1}{3}$

4. $36\frac{2}{3}$

Question ID : 9895805779

Chosen Option : 1

Q.5 ₹15800 की राशि पर 9% वार्षिक चक्रवृद्धि ब्याज की दर से 2 वर्ष का ब्याज (निकटतम रूप तक) ज्ञात कीजिए, जब
5 ब्याज की गणना 8 माह में चक्रवृद्धि करके की जाती है:

Ans 1. ₹2956

2. ₹3018

3. ₹3016

4. ₹2992

Question ID : 9895805778

Chosen Option : 4

Q.5 एक कक्षा में लड़कों और लड़कियों की औसत आयु क्रमशः 14.5 वर्ष और 15 वर्ष है। यदि लड़कों और लड़कियों की
6 संख्या का अनुपात 2 : 3 है, तो कक्षा में सभी छात्रों की औसत आयु (वर्षों में) क्या है?

Ans 1. 14.6

2. 14.8

3. 15.4

4. 15.2

Question ID : 9895805776

Chosen Option : 2

Q.5 निम्नलिखित तालिका का अध्ययन करें (जिसमें 5 कंपनियों द्वारा बनाए गए एवं बेचे गए उत्पादों की इकाइयों की संख्या
7 को दर्शाया गया है) और प्रश्न का उत्तर दें।

कंपनी	निर्मित इकाइयों की संख्या (हजार में)	बेची गई
A	42	30
B	45	32
C	36	26
D	51	36
E	54	40

कंपनियों C और E द्वारा एक साथ निर्मित इकाइयों की संख्या तथा A और D द्वारा एक साथ बेची गई इकाइयों की संख्या का अनुपात है?

Ans 1. 15 : 13

2. 17 : 15

3. 15 : 11

4. 24 : 13

Question ID : 9895805788
Chosen Option : 3

Q.5 $[9.5 \div (0.6 \times 0.75 + 0.8 \div 16) + 0.75] \div (0.03 \div 0.6 \text{ of } 0.01)$ का मान किसके बीच निहित है?

- Ans
- 1. 1 और 2
 - 2. 2 और 3
 - 3. 0 और 1
 - 4. 3 और 4

Question ID : 9895805767
Chosen Option : 3

Q.5 एक दुकानदार एक वस्तु का मूल्य उसके क्रय मूल्य से 25% ऊपर अंकित करता है। बाजार मूल्य पर 10% छूट देने के बाद, वस्तु को ₹720 में बेचा जाता है। वस्तु के क्रय मूल्य और बाजार मूल्य के बीच का अंतर (₹ में) कितना है?

- Ans
- 1. 120
 - 2. 160
 - 3. 180
 - 4. 150

Question ID : 9895805768
Chosen Option : 1

Q.6 निम्नलिखित तालिका का अध्ययन करें (जिसमें 5 कंपनियों द्वारा बनाए एवं बेचे गए उत्पादों की इकाइयों की संख्या को दर्शाया गया है) और प्रश्न का उत्तर दें।

कंपनी	निर्मित इकाइयों की संख्या (हजार में)	बेची गई
A	42	30
B	45	32
C	36	26
D	51	36
E	54	40

किस कंपनी ने उसके द्वारा निर्मित इकाइयों की तुलना में इकाइयों के उच्चतम प्रतिशत की बिक्री की?

- Ans
- 1. A
 - 2. B
 - 3. E
 - 4. C

Question ID : 9895805787
Chosen Option : 2

Q.6 यदि 17, 14, 22 और 18 में से x घटाया जाता है तो ये संख्याएं इसी क्रम में समानुपात में होती हैं। $9x$ और $5x$ का माध्य समानुपात क्या है?

- Ans
- 1. $3\sqrt{5}$

✓ 2. $6\sqrt{5}$

✗ 3. 6

✗ 4. 7

Question ID : 9895805773

Chosen Option : 3

Q.6 अपनी सामान्य चाल की 75% चाल पर चलते हुए, रघु अपने कार्यालय 80 मिनट देर से पहुंचा। यही दूरी तय करने में
2 उसको लगने वाला सामान्य समय घंटों में कितना है?

Ans ✗ 1. 5

✗ 2. $3\frac{1}{2}$

✗ 3. $4\frac{1}{2}$

✓ 4. 4

Question ID : 9895805784

Chosen Option : 2

Q.6 अमीना अपनी आय का 16% बचाती है। अब उसकी आय में 20% की वृद्धि हो गई है, लेकिन वह अब भी पहले की
3 तरह ही बचत करती है। उसके व्यय में हुई प्रतिशत वृद्धि कितनी है?

Ans ✓ 1. 23.8

✗ 2. 21.6

✗ 3. 20.4

✗ 4. 24.2

Question ID : 9895805771

Chosen Option : 4

Q.6 44 cm के ठोस धात्विक घन से 2 cm त्रिज्या वाली कितनी गोलाकार गेंदे बनाई जा सकती हैं? ($\pi = \frac{22}{7}$ लें)
4

Ans ✗ 1. 2420

✗ 2. 2448

✓ 3. 2541

✗ 4. 2532

Question ID : 9895805781

Chosen Option : 1

Q.6 मान लें, x वह सबसे छोटी संख्या है, जिसे 10, 12, 14 और 16 से विभाजित करने पर शेष क्रमशः 2, 4, 6 और 8
5 प्राप्त होता है, किन्तु x 17 से विभाज्य है। जब x को 52 से विभाजित किया जाता है, तो भागफल कितना होगा?

Ans ✗ 1. 99

✗ 2. 92

✓ 3. 96

✗ 4. 95

Question ID : 9895805765

Chosen Option : 1

Q.6 A, B और C एक साथ कार्य करके एक काम को 24 दिनों में पूरा कर सकते हैं। 4 दिनों तक एक साथ काम करने के बाद, C ने काम छोड़ दिया। A और B ने शेष कार्य को 30 दिनों में पूरा किया। उसी कार्य को C द्वारा अकेले पूरा करने में लगने वाले दिनों की संख्या है:

- Ans
- 1. 60
 - 2. 90
 - 3. 72
 - 4. 54

Question ID : 9895805785

Chosen Option : 3

Q.6 एक लंबवृत्तीय शंकु का आयतन 2464 cm^3 है। यदि इसके आधार की त्रिज्या 14 cm है, तो इसका वक्र-पृष्ठीय क्षेत्रफल (cm^2 में) ज्ञात कीजिए: ($\pi = \frac{22}{7}$ लें)

- Ans
- 1. $44\sqrt{58}$
 - 2. $44\sqrt{85}$
 - 3. $88\sqrt{58}$
 - 4. $88\sqrt{85}$

Question ID : 9895805782

Chosen Option : 4

Q.6 ₹6900 की राशि के एक भाग को 5% पर और शेष भाग को 8% साधारण ब्याज पर उधार दिया गया। 3 वर्ष बाद दोनों से प्राप्त कुल ब्याज ₹1359 था। 5% और 8% पर उधार दी गई धनराशि का अनुपात क्या था?

- Ans
- 1. 11 : 12
 - 2. 14 : 9
 - 3. 31 : 38
 - 4. 10 : 13

Question ID : 9895805777

Chosen Option : 3

Q.6 A, किसी कार्य के $\frac{3}{5}$ भाग को 12 दिनों में कर सकता है, B उस कार्य के $\frac{1}{3}$ भाग को 15 दिनों में कर सकता है। उन्होंने 12 दिनों तक एक साथ काम किया और फिर A ने काम छोड़ दिया, B अकेले शेष कार्य को कितने समय में पूरा करेगा?

- Ans
- 1. 4 दिन
 - 2. 5 दिन
 - 3. 6 दिन
 - 4. 9 दिन

Question ID : 9895805786

Chosen Option : 1

Q.7 $\frac{3}{8}$ of $\frac{4}{5} \div 1\frac{1}{5} + \frac{3}{7}$ of $\frac{7}{12} \div \frac{1}{40}$ of $\frac{2}{5} - 3\frac{2}{3} \div \frac{11}{30}$ of $\frac{2}{3}$ का मान क्या है?

- Ans
- 1. $3\frac{1}{3}$
 - 2. $2\frac{1}{4}$
 - 3. $2\frac{1}{2}$
 - 4. $10\frac{1}{4}$

Question ID : 9895805766
Chosen Option : 2

Q.7 दो मिश्रधातुओं A और B में तांबा और जस्ता का अनुपात क्रमशः 7 : 2 और 5 : 3 है। 3 : 1 के अनुपात में तांबा और जस्ता युक्त 44 किलोग्राम मिश्र धातु प्राप्त करने के लिए कितने किलोग्राम A और B को पिघलाया जाना चाहिए?

- Ans
- 1. 36 kg, 8 kg
 - 2. 28 kg, 16 kg
 - 3. 30 kg, 14 kg
 - 4. 24 kg, 20 kg

Question ID : 9895805772
Chosen Option : 2

Q.7 ₹ x की राशि को A, B और C के बीच इस तरह विभाजित किया जाता है कि A और B के हिस्सों का अनुपात 3 : 4 हो, तथा B और C के हिस्सों का अनुपात 5 : 6 हो। यदि C को A से ₹1440 अधिक प्राप्त होता है, तो x का मान क्या है?

- Ans
- 1. 9600
 - 2. 9280
 - 3. 9440
 - 4. 9000

Question ID : 9895805774
Chosen Option : 3

Q.7 15 संख्याओं का औसत 56 है। पहली 8 संख्याओं का औसत 54.4 है और अंतिम 8 संख्याओं का औसत 56.6 है। यदि 8वीं संख्या को हटा दिया जाए तो शेष संख्याओं का औसत क्या है? (एक दशमलव स्थान तक ज्ञात कीजिए)

- Ans
- 1. 56.6
 - 2. 56.2
 - 3. 53.8
 - 4. 53.6

Question ID : 9895805775
Chosen Option : 4

Q.7 ₹700 में 16 नोटबुक के भाव से नोटबुक खरीदी जाती हैं और ₹500 में 11 नोटबुक के भाव से बेची जाती हैं। ₹450 का लाभ प्राप्त करने के लिए कितनी नोटबुक बेची जानी चाहिए?

- Ans 1. 254
 2. 264
 3. 260
 4. 272

Question ID : 9895805769
Chosen Option : 1

Q.7 एक व्यक्ति ने ₹110 प्रति मीटर के भाव पर 80 m कपड़ा खरीदा और इसके 75% हिस्से को 6% के लाभ पर बेच दिया। यदि उसे उसकी लागत पर 10% लाभ हुआ हो तो बचे हुए कपड़े को उसने कितने प्रतिशत पर बेचा?

- Ans 1. 26 %
 2. 22 %
 3. 24 %
 4. 28 %

Question ID : 9895805770
Chosen Option : 3

Section : English Language

Q.1 Select the word which means the same as the group of words given.

A city which is multicultural

- Ans 1. Cosmopolitan
 2. Metro
 3. Global
 4. Urban

Question ID : 9895805329
Chosen Option : --

Q.2 Select the most appropriate option to fill in the blank.

If you listened carefully, you _____.

- Ans 1. would have understood
 2. would understand
 3. will understand
 4. understand

Question ID : 9895805314
Chosen Option : --

Q.3 Select the option that means the same as the given idiom.

To sound a red alert.

Ans

- 1. To press a red button
- 2. To wave a red flag
- 3. To hear an alarm
- 4. To raise an alarm

Question ID : 9895805327
Chosen Option : --

Q.4 Select the option that means the same as the given idiom.

In the good books

- Ans
- 1. To be in favour of
 - 2. To do favourable things
 - 3. To accompany good people
 - 4. To collect good books

Question ID : 9895805326
Chosen Option : --

Q.5 Select the most appropriate option to substitute the underlined segment in the given sentence. If there is no need to substitute it, select No improvement.

Operation Flood was started with the primary objective for linking rural producers with urban consumers.

- Ans
- 1. was started with the primary objectives of
 - 2. was started with the primary objective of
 - 3. was started with primary objective
 - 4. No improvement

Question ID : 9895805313
Chosen Option : --

Q.6 Select the correctly spelt word.

- Ans
- 1. Equivalant
 - 2. Equivelent
 - 3. Equivalent
 - 4. Eqivalent

Question ID : 9895805331
Chosen Option : --

Q.7 Select the antonym of the given word.

DUBIOUS

- Ans
- 1. Faithful
 - 2. Certain

- 3. Docile
- 4. Doubtful

Question ID : 9895805325
Chosen Option : --

Q.8 Select the most appropriate option to substitute the underlined segment in the given sentence. If there is no need to substitute it, select No improvement.

Dancing around a totem pole was one of the favourite pastimes of the American Indians.

- Ans
- 1. are the favourite pastimes
 - 2. were one of the favourite pastimes
 - 3. was one of the favourite pastime
 - 4. No improvement

Question ID : 9895805311
Chosen Option : --

Q.9 From the given options, identify the segment in the sentence which contains the grammatical error.

Every one of the survivor of the capsized ship has told the same story.

- Ans
- 1. the same story
 - 2. of the survivor
 - 3. Every one
 - 4. capsized ship

Question ID : 9895805310
Chosen Option : --

Q.1
0 Select the synonym of the given word.

GALLANT

- Ans
- 1. Wealthy
 - 2. Courageous
 - 3. Violent
 - 4. Wild

Question ID : 9895805322
Chosen Option : --

Q.1
1 From the given options, identify the segment in the sentence which contains the grammatical error.

The speech he made on his visit to our college concerning our society's needs have bothered me greatly.

- Ans
- 1. have bothered
 - 2. concerning our
 - 3. on his visit
 - 4. The speech

Question ID : 9895805309

Chosen Option : --

Comprehension:

In the following passage some words have been deleted. Fill in the blanks with the help of the alternatives given.

After my job was over, I went to Mumbai and returned after (1) _____ six months. I had barely taken (2) _____ my clothes when I saw Ratan standing (3) _____ a new baby. He was (4) _____ with joy. Even my daughter could not have (5) _____ such joy on finding her younger brother after several years.

SubQuestion No : 12

Q.1
2 Select the most appropriate option that will fill in the blank number 1.

- Ans
- 1. rarely
 - 2. hardly
 - 3. nearly
 - 4. merely

Question ID : 9895805317

Chosen Option : --

Comprehension:

In the following passage some words have been deleted. Fill in the blanks with the help of the alternatives given.

After my job was over, I went to Mumbai and returned after (1) _____ six months. I had barely taken (2) _____ my clothes when I saw Ratan standing (3) _____ a new baby. He was (4) _____ with joy. Even my daughter could not have (5) _____ such joy on finding her younger brother after several years.

SubQuestion No : 13

Q.1
3 Select the most appropriate option that will fill in the blank number 2.

- Ans
- 1. off
 - 2. away
 - 3. over
 - 4. of

Question ID : 9895805318

Chosen Option : --

Comprehension:

In the following passage some words have been deleted. Fill in the blanks with the help of the alternatives given.

After my job was over, I went to Mumbai and returned after (1) _____ six months. I had barely taken (2) _____ my clothes when I saw Ratan standing (3) _____ a new baby. He was (4) _____ with joy. Even my daughter could not have (5) _____ such joy on finding her younger brother after several years.

SubQuestion No : 14

Q.1
4 Select the most appropriate option that will fill in the blank number 3.

- Ans
- 1. near
 - 2. with
 - 3. by
 - 4. along

Question ID : 9895805319
Chosen Option : --

Comprehension:

In the following passage some words have been deleted. Fill in the blanks with the help of the alternatives given.

After my job was over, I went to Mumbai and returned after (1) _____ six months. I had barely taken (2) _____ my clothes when I saw Ratan standing (3) _____ a new baby. He was (4) _____ with joy. Even my daughter could not have (5) _____ such joy on finding her younger brother after several years.

SubQuestion No : 15

Q.1
5 Select the most appropriate option that will fill in the blank number 4.

- Ans
- 1. dancing
 - 2. singing
 - 3. skipping
 - 4. bursting

Question ID : 9895805320
Chosen Option : --

Comprehension:

In the following passage some words have been deleted. Fill in the blanks with the help of the alternatives given.

After my job was over, I went to Mumbai and returned after (1) _____ six months. I had barely taken (2) _____ my clothes when I saw Ratan standing (3) _____ a new baby. He was (4) _____ with joy. Even my daughter could not have (5) _____ such joy on finding her younger brother after several years.

SubQuestion No : 16

Q.1
6 Select the most appropriate option that will fill in the blank number 5.

- Ans
- 1. thought
 - 2. felt
 - 3. understood
 - 4. advised

Question ID : 9895805321
Chosen Option : --

Q.1
7 Select the most appropriate option to substitute the underlined segment in the given sentence. If there is no need to substitute it, select No improvement.

The GATT Treaty, it is explained, would allow subsidised to the extent of 10% of the market price.

- Ans
- 1. No improvement
 - 2. would allow support
 - 3. would allow subsidy
 - 4. would allow supply

Question ID : 9895805312
Chosen Option : --

Q.1
8 Select the correctly spelt word.

- Ans
- 1. Thoroughfare
 - 2. Throughfare
 - 3. Thoroghfare
 - 4. Thoroufare

Question ID : 9895805330
Chosen Option : --

Q.1
9 Select the antonym of the given word.

HOSTILE

- Ans
- 1. Serene
 - 2. Optimistic

3. Negative

4. Friendly

Question ID : 9895805324
Chosen Option : --

Q.2
0 Select the synonym of the given word.

IMPAIR

Ans 1. Weaken

2. Introduce

3. Combine

4. Improve

Question ID : 9895805323
Chosen Option : --

Q.2
1 Select the word which means the same as the group of words given.

One who knows everything

Ans 1. Omnipotent

2. Omnipresent

3. Omniscient

4. Omnipotent

Question ID : 9895805328
Chosen Option : --

Q.2
2 Select the most appropriate word to fill in the blank.

A successful entertainer _____ the right mood before beginning a joke or story.

Ans 1. engages

2. enjoys

3. spreads

4. creates

Question ID : 9895805333
Chosen Option : --

Q.2
3 Select the most appropriate option to fill in the blank.

Invite everyone in the group to _____ us for a weekend party.

Ans 1. join

2. join together

3. join them

4. join each other

Question ID : 9895805315
Chosen Option : --

Q.2 From the given options, identify the segment in the sentence which contains the grammatical error.
4

He want to finish the assignment in the last week but in fact he could not.

Ans 1. want to finish

2. in the last week

3. the assignment

4. he could not

Question ID : 9895805308
Chosen Option : --

Q.2 Select the most appropriate word to fill in the blank.
5

The soldiers were instructed to _____ restraint and handle the situation peacefully.

Ans 1. exercise

2. resist

3. control

4. prevent

Question ID : 9895805332
Chosen Option : --

Section : Hindi Language

Q.1 दिए गए वाक्य का वह भाग ज्ञात करें जिसमें कोई त्रुटि है।

फूलों का गुच्छा अतिथि पर सादर भेंट किया गया।

Ans 1. अतिथि पर

2. फूलों का गुच्छा

3. किया गया।

4. सादर भेंट

Question ID : 9895805615
Chosen Option : 1

Q.2 दिए गए शब्द का विलोम चुनें।

दुर्लभ

Ans 1. दुर्जन

- 2. अलभ
- 3. सज्जन
- 4. सुलभ

Question ID : 9895805631
Chosen Option : 3

Q.3 दिये गये वाक्यांश के लिए एक शब्द दीजिये।

जिसका आदि न हो

- Ans
- 1. अजर
 - 2. अनादि
 - 3. अमर
 - 4. अनंत

Question ID : 9895805636
Chosen Option : 2

Q.4 रिक्त स्थान को भरने के लिए उपयुक्त शब्द का चयन करें।

हम _____ साथ पूर्ण सहयोग करेंगे।

- Ans
- 1. हमारे
 - 2. आप
 - 3. अपने
 - 4. आपके

Question ID : 9895805622
Chosen Option : 4

Q.5 दिए गए वाक्य का वह भाग ज्ञात करें जिसमें कोई त्रुटि है।

आज मैं आपके दर्शन करके धन्यता हो गया।

- Ans
- 1. आज मैं
 - 2. आपके दर्शन
 - 3. हो गया।
 - 4. करके धन्यता

Question ID : 9895805614
Chosen Option : 4

Q.6

दिए गए वाक्य का वह भाग ज्ञात करें जिसमें कोई त्रुटि है।

जब धन की आवश्यकता होती है तब किसी से उधार माँगने का नौबत आ जाती है।

- Ans
- 1. आवश्यकता होती है
 - 2. जब धन की
 - 3. तब किसी से
 - 4. उधार माँगने का नौबत आ जाती है।

Question ID : 9895805616
Chosen Option : 4

Q.7 दिये गये वाक्यांश के लिए एक शब्द दीजिये।

मेहनत करने वाला

- Ans
- 1. आलसी
 - 2. कर्मठ
 - 3. मेहनताना
 - 4. कामचोर

Question ID : 9895805637
Chosen Option : 2

Q.8 रिक्त स्थान को भरने के लिए उपयुक्त शब्द का चयन करें।

इस बात से _____ क्या।

- Ans
- 1. मुझे
 - 2. आप
 - 3. मैंने
 - 4. मेरे से

Question ID : 9895805621
Chosen Option : 2

Q.9 दिए गए शब्द का विलोम चुनें।

आस्था

- Ans
- 1. क्षमा
 - 2. अनास्था
 - 3. विराग
 - 4. प्रार्थना

Question ID : 9895805630

Q.1 निम्नलिखित में से उस विकल्प का चयन करें जो 'दो नावों पर पैर रखना' मुहाबरे का अर्थ व्यक्त करता है।

- Ans
- 1. दो नावों पर एक साथ घूमना
 - 2. एक साथ कई काम करना
 - 3. नदी पार करना
 - 4. दो विरोधी पक्षों का आश्रय लेना

Question ID : 9895805635
Chosen Option : 4

Q.1 सही वर्तनी वाले शब्द का चयन करें।

- Ans
- 1. हसतलिखित
 - 2. हस्तलिखीत
 - 3. हस्तलिखित
 - 4. हस्तलीखित

Question ID : 9895805639
Chosen Option : 3

Q.1 दिए गए शब्द के पर्यायवाची शब्द का चयन करें।

रात्रि

- Ans
- 1. रजनी
 - 2. हिमानी
 - 3. गजनी
 - 4. ज्ञानी

Question ID : 9895805632
Chosen Option : 1

Q.1 दिए गए वाक्य में रेखांकित खंड को प्रतिस्थापित करने के लिए उपयुक्त विकल्प का चयन करें।

रात होने के कारण जहाँ रुके हैं, यहाँ पर डेरा डाल लेते हैं।

- Ans
- 1. कहाँ पर डेरा डाल लेता है।
 - 2. कहीं पर डेरा डाल लेते हैं।
 - 3. जहाँ पर डेरा डाल लेते हैं।
 - 4. वहीं पर डेरा डाल लेते हैं।

Question ID : 9895805617
Chosen Option : 4

Q.1
4 निम्नलिखित में से उस विकल्प का चयन करें जो 'दूर के ढोल सुहावने' मुहावरे का अर्थ व्यक्त करता है।

- Ans
- 1. दूर के ढोल अच्छे लगना
 - 2. दूर से ढोल सुनना
 - 3. दूर से लोगों को देखना
 - 4. दूर की वस्तुएँ अच्छे लगना

Question ID : 9895805634
Chosen Option : 4

Q.1
5 दिए गए वाक्य में रेखांकित खंड को प्रतिस्थापित करने के लिए उपयुक्त विकल्प का चयन करें।
जीवन के इस पड़ाव पर आकर उसके व्यवहार में ठहराव आ गई है।

- Ans
- 1. ठहराव आ गया है।
 - 2. ठहराव जा कर गया है।
 - 3. ठहराव आए गए हैं।
 - 4. ठहराव आ गए है।

Question ID : 9895805619
Chosen Option : 1

Q.1
6 सही वर्तनी वाले शब्द का चयन करें।

- Ans
- 1. चिकीत्सालय
 - 2. चिकित्सालय
 - 3. चिकीतसालय
 - 4. चीकितसालय

Question ID : 9895805638
Chosen Option : 2

Q.1
7 दिए गए वाक्य में रेखांकित खंड को प्रतिस्थापित करने के लिए उपयुक्त विकल्प का चयन करें।

मैंने इन सब बातों को गहराई पर अनुभव किया।

- Ans
- 1. गहराई पर बातों की
 - 2. बातों पर गहराई की
 - 3. बातों में गहराई की
 - 4. बातों को गहराई से

Question ID : 9895805618
Chosen Option : 4

Q.1
8 रिक्त स्थान को भरने के लिए उपयुक्त शब्द का चयन करें।

स्वस्थ शरीर में स्वस्थ मन का _____ होता है।

- Ans
- 1. अंधकार
 - 2. अभाव
 - 3. निवास
 - 4. निकास

Question ID : 9895805620
Chosen Option : 2

Q.1
9 रिक्त स्थान को भरने के लिए उपयुक्त शब्द का चयन करें।

पढ़ लो _____ सो जाओ।

- Ans
- 1. या
 - 2. क्योंकि
 - 3. बल्कि
 - 4. लेकिन

Question ID : 9895805623
Chosen Option : 1

Q.2
0 दिए गए शब्द के पर्यायवाची शब्द का चयन करें।

सरस्वती

- Ans
- 1. शारदा
 - 2. नेत्री
 - 3. देवी
 - 4. माता

Question ID : 9895805633
Chosen Option : 1

Comprehension:

निम्नलिखित गद्यांश के रिक्त स्थानों की पूर्ति गद्यांश के नीचे दिए गए प्रश्नों के अनुसार कीजिए -

महापुरुषों ने समय को सच्चा _____ (1) माना है। वह इसलिए क्योंकि सभी मनुष्यों को अनेक प्रकार की _____ (2) समय स्वयं ही देता रहता है। मान लीजिये, किसी को ट्रेन पकड़नी है, यदि वह ठीक समय पर रेलवे स्टेशन पर _____ (3) जाएगा तभी वह _____ (4) को पकड़ सकेगा। एक क्षण की _____ (5) से ट्रेन छूट जाएगी। तब वह अवश्य ही पश्चाताप से भर कर अपने मन में सोचेगा कि काश मैं दो चार क्षण पहले ही चल देता।

SubQuestion No : 21

Q.2
1 गद्यांश में संकेतित रिक्त स्थान (1) के लिए उपयुक्त शब्द होगा -

- Ans
- 1. गुरु
 - 2. गायक
 - 3. पुत्र
 - 4. शत्रु

Question ID : 9895805625
Chosen Option : 1

Comprehension:

निम्नलिखित गद्यांश के रिक्त स्थानों की पूर्ति गद्यांश के नीचे दिए गए प्रश्नों के अनुसार कीजिए -

महापुरुषों ने समय को सच्चा _____ (1) माना है। वह इसलिए क्योंकि सभी मनुष्यों को अनेक प्रकार की _____ (2) समय स्वयं ही देता रहता है। मान लीजिये, किसी को ट्रेन पकड़नी है, यदि वह ठीक समय पर रेलवे स्टेशन पर _____ (3) जाएगा तभी वह _____ (4) को पकड़ सकेगा। एक क्षण की _____ (5) से ट्रेन छूट जाएगी। तब वह अवश्य ही पश्चाताप से भर कर अपने मन में सोचेगा कि काश मैं दो चार क्षण पहले ही चल देता।

SubQuestion No : 22

Q.2

2 गद्यांश में संकेतित रिक्त स्थान (2) के लिए उपयुक्त शब्द होगा -

- Ans
- 1. शिक्षाएँ
 - 2. भोजन
 - 3. वायु
 - 4. आकाश

Question ID : 9895805626
Chosen Option : 1

Comprehension:

निम्नलिखित गद्यांश के रिक्त स्थानों की पूर्ति गद्यांश के नीचे दिए गए प्रश्नों के अनुसार कीजिए -

महापुरुषों ने समय को सच्चा _____ (1) माना है। वह इसलिए क्योंकि सभी मनुष्यों को अनेक प्रकार की _____ (2) समय स्वयं ही देता रहता है। मान लीजिये, किसी को ट्रेन पकड़नी है, यदि वह ठीक समय पर रेलवे स्टेशन पर _____ (3) जाएगा तभी वह _____ (4) को पकड़ सकेगा। एक क्षण की _____ (5) से ट्रेन छूट जाएगी। तब वह अवश्य ही पश्चाताप से भर कर अपने मन में सोचेगा कि काश मैं दो चार क्षण पहले ही चल देता।

SubQuestion No : 23

Q.2
3 गद्यांश में संकेतित रिक्त स्थान (3) के लिए उपयुक्त शब्द होगा -

- Ans
- 1. लेट
 - 2. पहुँच
 - 3. लड़ाई
 - 4. उड़

Question ID : 9895805627
Chosen Option : 2

Comprehension:

निम्नलिखित गद्यांश के रिक्त स्थानों की पूर्ति गद्यांश के नीचे दिए गए प्रश्नों के अनुसार कीजिए -

महापुरुषों ने समय को सच्चा _____ (1) माना है। वह इसलिए क्योंकि सभी मनुष्यों को अनेक प्रकार की _____ (2) समय स्वयं ही देता रहता है। मान लीजिये, किसी को ट्रेन पकड़नी है, यदि वह ठीक समय पर रेलवे स्टेशन पर _____ (3) जाएगा तभी वह _____ (4) को पकड़ सकेगा। एक क्षण की _____ (5) से ट्रेन छूट जाएगी। तब वह अवश्य ही पश्चाताप से भर कर अपने मन में सोचेगा कि काश मैं दो चार क्षण पहले ही चल देता।

SubQuestion No : 24

Q.2
4 गद्यांश में संकेतित रिक्त स्थान (4) के लिए उपयुक्त शब्द होगा -

- Ans
- 1. साइकिल
 - 2. ट्रेन
 - 3. बस
 - 4. जहाज

Question ID : 9895805628
Chosen Option : 2

Comprehension:

निम्नलिखित गद्यांश के रिक्त स्थानों की पूर्ति गद्यांश के नीचे दिए गए प्रश्नों के अनुसार कीजिए -

महापुरुषों ने समय को सच्चा _____ (1) माना है। वह इसलिए क्योंकि सभी मनुष्यों को अनेक प्रकार की _____ (2) समय स्वयं ही देता रहता है। मान लीजिये, किसी को ट्रेन पकड़नी है, यदि वह ठीक समय पर रेलवे स्टेशन पर _____ (3) जाएगा तभी वह _____ (4) को पकड़ सकेगा। एक क्षण की _____ (5) से ट्रेन छूट जाएगी। तब वह अवश्य ही पश्चाताप से भर कर अपने मन में सोचेगा कि काश मैं दो चार क्षण पहले ही चल देता।

SubQuestion No : 25

Q.2

5 गद्यांश में संकेतित रिक्त स्थान (5) के लिए उपयुक्त

शब्द होगा -

- Ans
- 1. लक्ष्य
 - 2. देरी
 - 3. ऊँचाई
 - 4. जल्दी

Question ID : 9895805629
Chosen Option : 2

GovtJobsAlert.In