

Constable (GD) in CAPFs, NIA, SSF and Rifleman (GD) in Assam Rifles Examination, 2018

Roll No. :	GovtJobsAlert.In
Registration No.	GovtJobsAlert.In
Name :	GovtJobsAlert.In
Exam Venue :	iON Digital Zone iDZ Bhagalpur
Exam Time :	9:00 AM - 10:30 AM
Exam Date :	21/02/2019

Section : General Section

Q.1 वह विकल्प चुनें जो तीसरी संख्या से उसी प्रकार से संबंधित है जिस प्रकार से दूसरी संख्या पहली संख्या से संबंधित है।

12 : 180 :: 14 : ?

- Ans
- 1. 238
 - 2. 221
 - 3. 169
 - 4. 144

Question ID : 9895803992
Chosen Option : --

Q.2 इन चार विकल्पों में से उस आकृति का चयन करें, जिसे आकृति X के रिक्त स्थान (?) में रखने से पैटर्न पूर्ण कर दें।
(घूर्णन की अनुमति नहीं है)।



x

- Ans
- 1.
 - 2.
 - 3.
 - 4.

Question ID : 9895803998
Chosen Option : --

Q.3

प्रदत्त विकल्पों में से विषम विकल्प चुनें।

- Ans
- 1. टंगस्टन
 - 2. ऑरम
 - 3. सिलिकॉन
 - 4. मैग्नीशियम

Question ID : 9895803979
Chosen Option : 3

Q.4 वह विकल्प चुनें जो तीसरे पद से उसी प्रकार से संबंधित है जिस प्रकार से दूसरा पद पहले पद से संबंधित है।

प्रारंभिक : अंतिम :: विलाप : ?

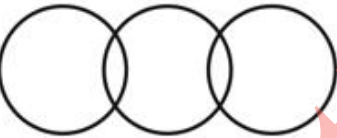
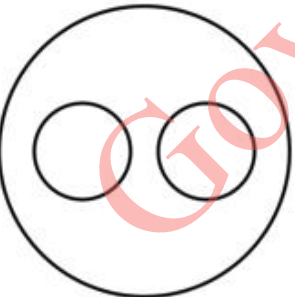

- Ans
- 1. बड़बड़ाहट
 - 2. खुशी
 - 3. पुनर्कथन
 - 4. स्मरण

Question ID : 9895803981
Chosen Option : --

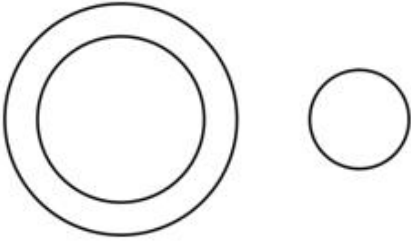
Q.5 निम्नलिखित में से कौन सा वेन रेखाचित्र दिए गए वर्ग के बीच के संबंध को सही दर्शाता है?

जानवर, स्तनपायी, हिरण

Ans

- 1. 
- 2. 
- 3. 

4.



Question ID : 9895804001
Chosen Option : 1

Q.6 वह विकल्प चुनें जो तीसरे पद से उसी प्रकार से संबंधित है जिस प्रकार से दूसरा पद पहले पद से संबंधित है।

AC : CI :: GH : ?

- Ans
- 1. UU
 - 2. UX
 - 3. UY
 - 4. UV

Question ID : 9895803982
Chosen Option : --

Q.7 सात दोस्त O, P, Q, R, S, T और U स्टेडियम में बैठे क्रिकेट मैच देख रहे हैं। P किसी एक छोर पर बैठा है। T Q और U के बीच बैठा है और R, S के ठीक दाईं ओर बैठा है और Q के ठीक बाईं ओर बैठा है। U P के बाईं ओर से दूसरे स्थान पर बैठा है। U और P के बीच कौन बैठा है?

- Ans
- 1. R
 - 2. Q
 - 3. O
 - 4. S

Question ID : 9895803985
Chosen Option : 3

Q.8 एक निश्चित कोड में, OPTIMIST को 121 लिखा जाता है। इसी कोड में PESSIMIST को क्या लिखा जाएगा?

- Ans
- 1. 129
 - 2. 131
 - 3. 127
 - 4. 105

Question ID : 9895803984
Chosen Option : 1

Q.9 एक ही रनवे है और सात हवाईजहाज बारी-बारी से उसका उपयोग करेंगे। P और Q में से कोई भी न तो पहले और न ही अंत में उपयोग करेगा। S R के बाद उपयोग करेगा। M O से पहले उपयोग करेगा। N O के बाद और R से पहले उपयोग करेगा। Q ठीक S से पहले रनवे का उपयोग करेगा। मध्य में कौन रनवे का उपयोग करेगा?

- Ans
- 1. Q
 - 2. O
 - 3. P

✓ 4. N

Question ID : 9895803987
Chosen Option : 4

Q.1
0 निम्न समीकरण को सही करने के लिए दो आपस में बदले जाने वाले चिहनों का पता लगाएँ।
 $18 + 3 \times 27 - 9 \div 3 = 78$

- Ans
- ✗ 1. + और -
 - ✗ 2. + और ÷
 - ✗ 3. - और ÷
 - ✓ 4. + और ×

Question ID : 9895803995
Chosen Option : 4

Q.1
1 नीचे दिए गए कथनों के बाद दो निष्कर्ष दिए गए हैं जिन्हें I और II से चिह्नित किया गया है। मान लें कि इन कथनों में दी गई जानकारी सही है, भले ही सामान्य स्थापित तथ्यों से भिन्न हो और तय करें कि इनमें से कौन सा (से) निष्कर्ष तार्किक आधार पर और निश्चित रूप से कथनों में प्रदत्त जानकारी का अनुसरण करता (ते) है (हैं)।

कथन:

- 1) सभी ग्राहक क्लाइंट हैं।
- 2) सभी क्लाइंट दवाइयों हैं।

निष्कर्ष:

- I. कुछ दवाइयों ग्राहक हैं।
- II. कुछ दवाइयों क्लाइंट हैं।

- Ans
- ✓ 1. दोनों निष्कर्ष अनुसरण करते हैं।
 - ✗ 2. केवल निष्कर्ष I अनुसरण करता है।
 - ✗ 3. या तो निष्कर्ष I या निष्कर्ष II अनुसरण करता है।
 - ✗ 4. केवल निष्कर्ष II अनुसरण करता है।

Question ID : 9895803988
Chosen Option : 1

Q.1
2 प्रदत्त विकल्पों में से विषम संख्या चुनें।

- Ans
- ✗ 1. 151
 - ✓ 2. 161
 - ✗ 3. 163
 - ✗ 4. 157

Question ID : 9895803993
Chosen Option : 2

Q.1
3

एक वर्गाकार पारदर्शी शीट एक पैटर्न के साथ दी गई है। यही पैटर्न तब कैसा दिखाई देगा जब उसे बिंदीदार रेखा के साथ-साथ मोड़ा जाता है?



Ans

✓ 1.



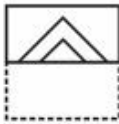
✗ 2.



✗ 3.



✗ 4.



Question ID : 9895804000
Chosen Option : 2

Q.1 वह विकल्प चुनें जो प्रदत्त श्रृंखला में प्रश्न चिह्न (?) के स्थान पर आएगा।

12, 22, 42, 82, ?

Ans

✗ 1. 152

✓ 2. 162

✗ 3. 182

✗ 4. 172

Question ID : 9895803991
Chosen Option : 2

Q.1 उस विकल्प का चयन करें जो, अगर दर्पण को दाईं ओर रखा जाए तो, दिए गए शब्द की दर्पण छवि से सबसे निकट मेल खाता हो।

HOMAGE

Ans

✓ 1. HOMAGE

✗ 2. HOWAGE

✗ 3. HOMAGE

✗ 4. HOMAGE

Question ID : 9895803999
Chosen Option : 1

Q.1

- 6 नीचे दिए गए कथनों के बाद दो निष्कर्ष दिए गए हैं जिन्हें I और II से चिह्नित किया गया है। मान लें कि इन कथनों में दी गई जानकारी सही है, भले ही सामान्य स्थापित तथ्यों से भिन्न हो और तय करें कि इनमें से कौन सा (से) निष्कर्ष तार्किक आधार पर और निश्चित रूप से कथनों में प्रदत्त जानकारी का अनुसरण करता (ते) है (हैं)।

कथन:

- 1) कुछ स्टोर कमरे हैं।
- 2) कुछ कमरे पोस्टर हैं।

निष्कर्ष:

- I. कुछ कमरे स्टोर हैं।
- II. कुछ पोस्टर कमरे हैं।

Ans

1. केवल निष्कर्ष I अनुसरण करता है।
2. दोनों निष्कर्ष अनुसरण करते हैं।
3. केवल निष्कर्ष II अनुसरण करता है।
4. न तो निष्कर्ष I और न ही निष्कर्ष II अनुसरण करता है।

Question ID : 9895803989
Chosen Option : 2

- Q.1 वह विकल्प चुनें जो प्रदत्त श्रृंखला में प्रश्न चिह्न (?) के स्थान पर आएगा।

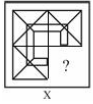
PRL, QPM, RNN, SLO, ?

Ans

1. TIO
2. TJP
3. TKP
4. TIP

Question ID : 9895803977
Chosen Option : 2

- Q.1 इन चार विकल्पों में से वह आकृति चुनें, जिस आकृति X में रिक्त स्थान (?) में रखने से पैटर्न पूर्ण हो जाएगा। (घुमाने की अनुमति नहीं है)।



Ans

- 1.
- 2.
- 3.
- 4.

Question ID : 9895803997

Q.1 प्रदत्त विकल्पों में से विषम विकल्प चुनें।

- Ans
- 1. RGD
 - 2. HIL
 - 3. EKM
 - 4. QSC

Question ID : 9895803978
Chosen Option : 2

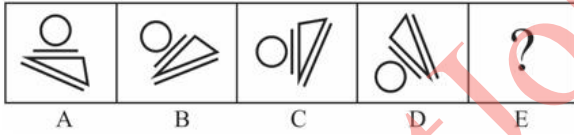
Q.2 वह विकल्प चुनें जो प्रदत्त श्रृंखला में प्रश्न चिह्न (?) के स्थान पर आएगा।

0, 8, 24, 48, ?

- Ans
- 1. 81
 - 2. 87
 - 3. 80
 - 4. 89

Question ID : 9895803990
Chosen Option : 3

Q.2 विकल्पों में से उस आकृति का चयन करें जो दी गई श्रृंखला में अगले स्थान पर आएगी।



Ans

- 1.
- 2.
- 3.
- 4.

Question ID : 9895803996
Chosen Option : 3

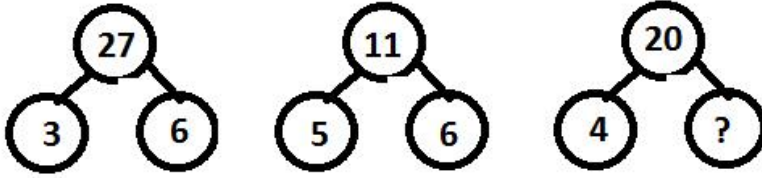
Q.2 वह विकल्प चुनें जो तीसरे पद से उसी प्रकार से संबंधित है जिस प्रकार से दूसरा पद पहले पद से संबंधित है।

मेल : मिश्रण :: अनुरोध : ?

- Ans
- 1. टिप्पण
 - 2. स्वीकार
 - 3. विनती
 - 4. अस्वीकार

Question ID : 9895803980
Chosen Option : 1

Q.2 वह विकल्प चुनें जो प्रदत्त पैटर्न में प्रश्न चिह्न (?) के स्थान पर आएगा।



- Ans
- 1. 6
 - 2. 8
 - 3. 24
 - 4. 36

Question ID : 9895803994
Chosen Option : 1

Q.2 एक निश्चित कोड में, VIROLOGY को LOGYVIRO लिखा जाता है। इसी कोड में SEMANTIC को क्या लिखा जाएगा?

- Ans
- 1. NTICSFMA
 - 2. CITNAMES
 - 3. NTICSEMA
 - 4. NTJCSEMA

Question ID : 9895803983
Chosen Option : 3

Q.2 आठ दोस्त A, B, C, D, E, F, H और G सामूहिक चर्चा के लिए एक गोल मेज़ के इर्द-गिर्द एक दूसरे की तरफ मुँह करके बैठे हैं। A F के सामने है और E से दाईं और दूसरे स्थान पर है। G C और A के बीच है। H E की बाईं ओर है। A के ठीक बाईं ओर कौन बैठा है?

- Ans
- 1. या G या D
 - 2. C
 - 3. या B या D
 - 4. B

Question ID : 9895803986
Chosen Option : 3

Q.2
6 'बोर एंड पीस' पुस्तक किसने लिखी है?

- Ans
- 1. व्लादीमीर लेनिन
 - 2. एंटोन चेखोव
 - 3. लियो टॉल्स्टॉय
 - 4. कार्ल मार्क्स

Question ID : 9895806400
Chosen Option : 3

Q.2
7 केंद्रीय बजट से _____ पहले आर्थिक सर्वेक्षण आम तौर पर प्रस्तुत किया जाता है।

- Ans
- 1. 1 दिन
 - 2. 2 दिन
 - 3. 7 दिन
 - 4. 15 दिन

Question ID : 9895806396
Chosen Option : 4

Q.2
8 जलवायु के संदर्भ में ITCZ का पूर्ण रूप क्या है?

- Ans
- 1. इंडियन ट्राफ़ कन्वर्सेशन ज़ोन
 - 2. इंटर टेम्परेट कंट्रोल ज़ोन
 - 3. इस्लान्दिक ट्रापिकल क्लाइमेट ज़ोन
 - 4. इंटर ट्रापिकल कन्वर्जेस ज़ोन

Question ID : 9895806386
Chosen Option : 3

Q.2
9 स्वच्छ भारत अभियान भारत सरकार द्वारा किसकी जयंती पर शुरू किया गया?

- Ans
- 1. वल्लभभाई पटेल
 - 2. महात्मा गांधी
 - 3. जवाहरलाल नेहरू
 - 4. अटल बिहारी वाजपेयी

Question ID : 9895806388
Chosen Option : 2

Q.3
0 'कुचिपुड़ी' की उत्पत्ति किस राज्य से हुई है?

Ans

- 1. तमिलनाडु
- 2. पुडुचेरी
- 3. केरल
- 4. आंध्र प्रदेश

Question ID : 9895806403
Chosen Option : 4

Q.3
1 गीता गोपीनाथ किस संस्था के मुख्य अर्थशास्त्री के पद पर काबिज होने वाली पहली महिला बनीं?

- Ans
- 1. अंतरराष्ट्रीय मुद्रा कोष
 - 2. विश्व बैंक
 - 3. विश्व व्यापार संगठन
 - 4. UNESCO (यूनेस्को)

Question ID : 9895806398
Chosen Option : 4

Q.3
2 निम्नलिखित में से कौन सा 'घरेलू हिंसा से महिलाओं की सुरक्षा अधिनियम, 2005' के बारे में सही नहीं है?

- Ans
- 1. यह घर के वयस्क पुरुष सदस्य द्वारा चोट या नुकसान अथवा चोट या नुकसान की धमकी के मामले में लागू होता है।
 - 2. चोट शारीरिक, भावनात्मक या आर्थिक हो सकती है।
 - 3. यह कार्यस्थल पर की गई हिंसा पर भी लागू होता है।
 - 4. 'डोमेस्टिक' शब्द में वे सभी महिलाएं शामिल हैं जो आरोपी पुरुष सदस्य के साथ एक साझा घर में रहती हैं या रही हैं।

Question ID : 9895806393
Chosen Option : 4

Q.3
3 एसिड और क्षारकों का एक विशेष गुण एक दूसरे के गुणों को _____ की उनकी क्षमता है।

- Ans
- 1. निष्प्रभावित करने
 - 2. परिशोधित करने
 - 3. अपनाने
 - 4. क्रिस्टलित करने

Question ID : 9895806387
Chosen Option : 1

Q.3
4 गोलकुंडा किले का निर्माण 13 वीं शताब्दी में _____ राजवंश द्वारा किया गया था।

- Ans
- 1. पेरियार

- 2. चोल
- 3. काकतीय
- 4. चालुक्य

Question ID : 9895806404
Chosen Option : 3

Q.3
5 2018 के बजट के अनुसार भारत के राष्ट्रपति का मासिक वेतन क्या है?

- Ans
- 1. 3 लाख
 - 2. 5 लाख
 - 3. 4 लाख
 - 4. 2 लाख

Question ID : 9895806395
Chosen Option : 2

Q.3
6 2022 फीफा विश्व कप के लिए मेजबान देश कौन सा है?

- Ans
- 1. क़तर
 - 2. जापान
 - 3. फ़्रांस
 - 4. जर्मनी

Question ID : 9895806402
Chosen Option : 1

Q.3
7 तैमूर ने किसके शासनकाल के दौरान भारत पर आक्रमण किया था?

- Ans
- 1. नासिर-उद्-दीन महमूद शाह तुगलक
 - 2. अकबर
 - 3. अलाउद्दीन खिलजी
 - 4. फ़िरोज़ शाह तुगलक

Question ID : 9895806382
Chosen Option : 1

Q.3
8 भारत ने हॉकी के लिए 8 ओलंपिक स्वर्ण पदक जीते हैं। भारत ने ओलंपिक में हॉकी के लिए पिछली बार स्वर्ण पदक कब जीता था?

- Ans
- 1. 1988
 - 2. 1984
 - 3. 1976
 - 4. 1980

Question ID : 9895806401

Q.3
9 झूम कृषि को इस प्रकार भी जाना जाता है:

- Ans
- 1. व्यापक खेती
 - 2. शिफ्टिंग खेती
 - 3. व्यावसायिक खेती
 - 4. गहन निर्वाह खेती

Question ID : 9895806384

Chosen Option : 4

Q.4
0 सिंधु घाटी सभ्यता के बारे में निम्नलिखित में से कौन सा कथन सत्य नहीं है?

- Ans
- 1. यह एक शहरी सभ्यता थी जहाँ लोग सुनियोजित कस्बों में रहते थे।
 - 2. पशु का मांस प्रमुख भोजन था।
 - 3. घर पकी हुई ईंटों से बने थे।
 - 4. यह वर्तमान पाकिस्तान और पश्चिमी भारत में लगभग 2500 ईसा पूर्व में पुष्पित पल्लवित हुआ।

Question ID : 9895806381

Chosen Option : 2

Q.4
1 भारत सरकार समय-समय पर कृषि उपज का न्यूनतम समर्थन मूल्य (एमएसपी) जारी करती है। MSP का पूर्ण रूप क्या है?

- Ans
- 1. मिनीमम सेलिंग प्राइज़
 - 2. मिनीमम सपोर्ट प्राइज़
 - 3. मेक्सीमम सेलिंग प्राइज़
 - 4. मेक्सीमम सपोर्ट प्राइज़

Question ID : 9895806397

Chosen Option : 1

Q.4
2 जैनियों का पवित्र स्थान श्रवणबेलगोला कर्नाटक के किस जिले में स्थित है?

- Ans
- 1. मैसूर जिला
 - 2. बेल्लारी जिला
 - 3. शिमोगा जिला
 - 4. हसन जिला

Question ID : 9895806405

Q.4 संसद के पास भारत के संविधान के प्रावधानों में संशोधन करने की शक्तियाँ हैं। संविधान का कौन सा अनुच्छेद संसद को यह शक्ति प्रदान करता है?

- Ans
- 1. अनुच्छेद 256
 - 2. अनुच्छेद 55
 - 3. अनुच्छेद 368
 - 4. अनुच्छेद 1

Question ID : 9895806394
Chosen Option : 3

Q.4 शुष्क बर्फ किस का ठोस रूप है?

- Ans
- 1. ऑक्सीजन
 - 2. ओज़ोन
 - 3. मीथेन
 - 4. कार्बन डाइऑक्साइड

Question ID : 9895806390
Chosen Option : 4

Q.4 निम्नलिखित में से कौन सा भू संरक्षण का तरीका नहीं है?

- Ans
- 1. अंतर्फल
 - 2. समोच्च जुताई
 - 3. अपक्षयण
 - 4. पलवार

Question ID : 9895806385
Chosen Option : 4

Q.4 विश्व स्वास्थ्य संगठन (डब्ल्यूएचओ) द्वारा 2017 में प्रकाशित रिपोर्ट के अनुसार, दुनिया में लगभग कितने लोगों को को घर पर सुरक्षित पेयजल उपलब्ध नहीं है?

- Ans
- 1. 4.2 बिलियन
 - 2. 2.1 बिलियन
 - 3. 900 मिलियन
 - 4. 500 मिलियन

Question ID : 9895806391
Chosen Option : 1

Q.4

7 भारतीय एथलीट दुती चंद निम्नलिखित में से किस खेल से जुड़ी हैं?

- Ans
- 1. भाला फेंक
 - 2. तेज दौड़ (स्प्रिन्टिंग)
 - 3. कूद (जंपिंग)
 - 4. गोला फेंक

Question ID : 9895806399
Chosen Option : 1

Q.4 8 महात्मा गांधी द्वारा शुरू किया गया पहला प्रमुख राष्ट्रव्यापी सत्याग्रह किसके विरोध में था?

- Ans
- 1. बंगाल का विभाजन
 - 2. नमक कर
 - 3. रौलेट एक्ट
 - 4. कड़ी उत्पादों पर कार

Question ID : 9895806383
Chosen Option : 2

Q.4 9 भारत का संविधान 26 जनवरी 1950 को लागू हुआ था। किस अधिनियम या शासन दस्तावेज को इसने प्रतिस्थापित किया था?

- Ans
- 1. भारत सरकार अधिनियम, 1858
 - 2. भारतीय परिषद अधिनियम, 1892
 - 3. भारत सरकार अधिनियम, 1935
 - 4. विनियमन अधिनियम, 1773

Question ID : 9895806392
Chosen Option : 3

Q.5 0 निम्नलिखित में से कौन सा कथन एंजियोस्पर्म के बारे में सही नहीं है?

- Ans
- 1. कोनिफर्स, सायकेड्स और गीन्कगो एंजियोस्पर्म के उदाहरण हैं।
 - 2. प्रजनन करने से पहले उन्हें परागण से गुजरना पड़ता है।
 - 3. फूलों के प्रजनन अंग होते हैं।
 - 4. उनके तने, पत्ते और जड़ें होती हैं।

Question ID : 9895806389
Chosen Option : 3

Q.5 1 ग्राहक को अंकित मूल्य पर 8% की छूट देने के बाद 38% लाभ प्राप्त करने के लिए किसी वस्तु को क्रय मूल्य से कितने प्रतिशत अधिक मूल्य पर अंकित किया जाना चाहिए?

- Ans
- 1. 48
 - 2. 50
 - 3. 46
 - 4. 45

Question ID : 9895806286
Chosen Option : 2

Q.5 7 cm भुजा वाले घन से सबसे बड़ा गोला काट कर निकाला गया है। गोले का आयतन cm^3 में कितना है?
2
($\pi = \frac{22}{7}$ लें लीजिए)

- Ans
- 1. $179\frac{1}{3}$
 - 2. $182\frac{2}{3}$
 - 3. $179\frac{2}{3}$
 - 4. $182\frac{1}{3}$

Question ID : 9895806298
Chosen Option : 3

Q.5 ₹ 1518 की एक राशि को A, B और C के बीच इस प्रकार विभाजित किया जाता है कि A, B से 20% अधिक प्राप्त
3 करता है और B, C से 20% कम प्राप्त करता है। इस राशि में C का हिस्सा कितना है?

- Ans
- 1. ₹ 440
 - 2. ₹ 550
 - 3. ₹ 572
 - 4. ₹ 528

Question ID : 9895806289
Chosen Option : 2

Q.5 A और B की एक निश्चित कार्य करने की क्षमताओं का अनुपात 5 : 8 है। एक साथ काम करके वे उस काम को 20
4 दिनों में पूरा कर सकते हैं, A अकेले उस काम के 25% हिस्से को कितने दिन में पूरा करेगा?

- Ans
- 1. 12 दिन
 - 2. 14 दिन
 - 3. 11 दिन
 - 4. 13 दिन

Question ID : 9895806301
Chosen Option : 4

Q.5 मान लें की x, 29 का वह लघुत्तम अपवर्त्य है, जिसे 20, 21, 22, 24 और 28 से विभाजित करने पर, शेषफल
5 क्रमशः 13, 14, 15, 17 और 21 मिलते हैं, तो x के अंकों का योग क्या है?

- Ans
- 1. 23
 - 2. 22

✗ 3. 19

✗ 4. 18

Question ID : 9895806281

Chosen Option : 2

Q.5 एक दुकानदार का लाभ उसके माल की बिक्री का 16% था। यदि उसके क्रय मूल्य में 20% की कमी होती है, और वह अपने विक्रय मूल्य को 23% कम कर देता है, तो अब उसके लाभ का प्रतिशत क्या है? (दशमलव के एक स्थान तक गणना करें)

Ans ✗ 1. 14.9

✗ 2. 15.8

✓ 3. 14.6

✗ 4. 15.4

Question ID : 9895806287

Chosen Option : 4

Q.5 एक कक्षा में 24 छात्रों की औसत आयु 15.5 वर्ष है। इनके शिक्षक की आयु सभी पच्चीस छात्रों की आयु के औसत से 7 वर्ष अधिक है। शिक्षक की आयु वर्ष में कितनी है?

Ans ✗ 1. $41\frac{2}{3}$

✗ 2. $40\frac{1}{3}$

✓ 3. $44\frac{2}{3}$

✗ 4. $42\frac{1}{3}$

Question ID : 9895806284

Chosen Option : 1

Q.5 $5\frac{5}{6} \div 3\frac{1}{2} \times 2\frac{1}{10} + \frac{3}{5}$ of $7\frac{1}{2} \div \frac{2}{3} - \frac{2}{3} \div \frac{8}{15} \times 1\frac{1}{5}$ का मान है:

Ans ✗ 1. $8\frac{3}{5}$

✓ 2. $8\frac{3}{4}$

✗ 3. $1\frac{3}{4}$

✗ 4. $2\frac{3}{5}$

Question ID : 9895806282

Chosen Option : --

Q.5
9

निम्नलिखित तालिका का अध्ययन करें, जो पांच वर्षों में एक कंपनी द्वारा निर्मित एवं बेचे गए उत्पाद की इकाइयों की संख्या दर्शाती है, और प्रश्न के उत्तर दें।

वर्ष	निर्मित इकाइयों की संख्या (हजार में)	बेचे गए
2013	350	320
2014	375	315
2015	300	280
2016	450	423
2017	420	360

2014 और 2015 में बेची गई इकाइयों की कुल संख्या और 2017 में निर्मित इकाइयों की संख्या का अनुपात क्या है?

- Ans
- 1. 19:14
 - 2. 17:12
 - 3. 9:8
 - 4. 14:17

Question ID : 9895806304
Chosen Option : --

Q.6 42 cm व्यास वाले एक वृत्त से एक वृत्त-खंड काटा जाता है। यदि इस वृत्त-खंड का कोण 150° है तो इसका क्षेत्रफल 0 cm^2 में क्या है? ($\pi = \frac{22}{7}$ लें)

- Ans
- 1. 564.6
 - 2. 577.5
 - 3. 580.4
 - 4. 584.8

Question ID : 9895806296
Chosen Option : 2

Q.6 एक 280 मीटर लंबी ट्रेन 108 km/hr की गति से चल रही है। इसे 170 m लंबाई के पुल को पार करने में कितना 1 समय लगेगा?

- Ans
- 1. 15 सेकंड
 - 2. 16 सेकंड
 - 3. 10 सेकंड
 - 4. 12 सेकंड

Question ID : 9895806300
Chosen Option : 1

Q.6
2

निम्नलिखित तालिका का अध्ययन करें, जो पांच वर्षों में एक कंपनी द्वारा निर्मित एवं बेचे गए उत्पाद की इकाइयों की संख्या दर्शाती है, और प्रश्न के उत्तर दें।

वर्ष	निर्मित इकाइयों की संख्या (हजार में)	बेचे गए
2013	350	320
2014	375	315
2015	300	280
2016	450	423
2017	420	360

किस वर्ष में बेची गई उत्पाद इकाइयों की संख्या, प्रति वर्ष निर्मित इकाइयों की औसत संख्या से 19000 अधिक है?

- Ans
- 1. 2016
 - 2. 2015
 - 3. 2014
 - 4. 2017

Question ID : 9895806305
Chosen Option : 1

Q.6 10 संख्याओं का औसत 41 है। पहली 3 संख्याओं का औसत 39.4 है और अंतिम 4 संख्याओं का औसत 43.5 है।
3 4थी संख्या, 5वीं संख्या से 2 अधिक और 6 वीं संख्या से 0.2 अधिक है। 4 थी और 6वीं संख्या का औसत क्या है?

- Ans
- 1. 39.6
 - 2. 38.9
 - 3. 38.7
 - 4. 39.9

Question ID : 9895806285
Chosen Option : 2

Q.6 किसी राशि पर साधारण ब्याज उस राशि का $11\frac{1}{9}\%$ है और वर्षों की संख्या प्रतिशत वार्षिक ब्याज की दर के बराबर
4 है। उसी दर पर ₹ 12600 की राशि का $2\frac{4}{5}$ वर्ष का साधारण ब्याज क्या होगा?

- Ans
- 1. ₹ 1224
 - 2. ₹ 1164
 - 3. ₹ 1176
 - 4. ₹ 1216

Question ID : 9895806293
Chosen Option : 3

Q.6 संख्याएं 6, 8, 11, 12, $2x - 8$, $2x + 10$, 35, 41, 42, 50 आरोही क्रम में लिखी गई हैं। यदि उनकी माध्यिका 25
5 हो, तो संख्याओं का माध्य क्या है?

- Ans
- 1. 25.5
 - 2. 25.2
 - 3. 24.8
 - 4. 24.6

Question ID : 9895806295

Q.6 A को 60 km की दूरी तय करने में B से 6 घंटे अधिक लगते हैं। लेकिन यदि A अपनी गति को दोगुना कर लेता है, तो उसे वही दूरी तय करने में उसे B से 3 घंटे कम समय लगता है। A की गति (km/hr में) कितनी है?

Ans

- ✓ 1. $3\frac{1}{3}$
 ✗ 2. $4\frac{2}{3}$
 ✗ 3. 5
 ✗ 4. 4

Question ID : 9895806299

Chosen Option : 3

Q.6 2 पात्रों, A और B में अम्ल और पानी का मिश्रण भरा है। A और B में अम्ल और पानी का अनुपात क्रमशः 7 : 3 और 4 : 1 है। उन्हें 1 : 2 के अनुपात में मिलाया जाता है। प्राप्त मिश्रण में अम्ल और पानी का अनुपात क्या है?

Ans

- ✗ 1. 16 : 7
 ✓ 2. 23 : 7
 ✗ 3. 25 : 9
 ✗ 4. 15 : 8

Question ID : 9895806292

Chosen Option : 2

Q.6 $1.6 \div 1.6 \text{ of } 1.6 + 0.6 \text{ of } 1.4 \div 0.5 - 0.001 \times 1.5 \div 0.075$ का मान _____ के बीच है।

Ans

- ✗ 1. 2.6 और 2.8
 ✗ 2. 2 और 2.2
 ✓ 3. 2.2 और 2.4
 ✗ 4. 2.4 और 2.6

Question ID : 9895806283

Chosen Option : 1

Q.6 यदि किसी वस्तु को ₹ 85 में बेचने के बजाय ₹ 93 बेचे जाने पर 20% ज्यादा लाभ होता है, तो वस्तु का क्रय मूल्य क्या है?

Ans

- ✓ 1. ₹ 40
 ✗ 2. ₹ 60
 ✗ 3. ₹ 64
 ✗ 4. ₹ 56

Question ID : 9895806288

Chosen Option : 1

Q.7
0

निम्नलिखित तालिका का अध्ययन करें, जो पांच वर्षों में एक कंपनी द्वारा निर्मित एवं बेचे गए उत्पाद की इकाइयों की संख्या दर्शाती है, और प्रश्न के उत्तर दें।

वर्ष	निर्मित इकाइयों की संख्या (हजार में)	बेचे गए
2013	350	320
2014	375	315
2015	300	280
2016	450	423
2017	420	360

पाँच वर्षों के दौरान न बिकने वाली इकाइयों की कुल संख्या, 2013 और 2015 में निर्मित उत्पाद की कुल इकाइयों की संख्या की कितने प्रतिशत है? (दशमलव के एक स्थान तक गणना करें)

- Ans 1. 30.3
 2. 29.4
 3. 29.6
 4. 30.8

Question ID : 9895806303
Chosen Option : 2

Q.7 A, किसी कार्य के $\frac{2}{3}$ हिस्से को 8 दिनों में पूरा कर सकता है। B उसी कार्य के $\frac{3}{5}$ हिस्से को 12 दिनों में पूरा कर सकता है और C उसी कार्य के $\frac{4}{9}$ हिस्से को 8 दिनों में पूरा कर सकता है। A और B ने 5 दिनों तक एक साथ काम किया। C को अकेले शेष कार्य को पूरा करने में कितना समय (दिन में) लगेगा?

- Ans 1. $7\frac{1}{2}$
 2. 6
 3. 9
 4. $8\frac{1}{2}$

Question ID : 9895806302
Chosen Option : 2

Q.7 A और B की वर्तमान आयु का अनुपात 15 : 8 है। 8 वर्ष के बाद उनकी आयु का अनुपात 17 : 10 होगा। अब से 10 वर्ष बाद A और B की आयु का अनुपात क्या होगा?

- Ans 1. 5 : 3
 2. 8 : 5
 3. 10 : 7
 4. 7 : 4

Question ID : 9895806291
Chosen Option : 1

Q.7 ₹ 24500 की राशि पर 10% वार्षिक चक्रवृद्धि ब्याज की दर से $2\frac{2}{5}$ वर्ष का चक्रवृद्धि ब्याज क्या होगा, ब्याज की गणना वार्षिक चक्रवृद्धि आधार पर की जाती है?

- Ans 1. ₹ 6338.40
 2. ₹ 6340
 3. ₹ 6330.80

✗ 4. ₹ 6342

Question ID : 9895806294
Chosen Option : 1

Q.7 एक सर्कस का तम्बू 3 m की ऊँचाई तक बेलनाकार है और इसके ऊपर शंक्वाकार है। यदि आधार की त्रिज्या 52.5 m है और शंकु की तिर्यक ऊँचाई 52 m है, तो इसे बनाने के लिए आवश्यक कैनवास का कुल क्षेत्रफल कितना होगा?

- Ans
- ✗ 1. 2730π
 - ✓ 2. 3045π
 - ✗ 3. 2842π
 - ✗ 4. 3048π

Question ID : 9895806297
Chosen Option : 2

Q.7 यदि 12, x, 8 और 14 समानुपात में हैं, तो $(x - 12)$ और $(x + 4)$ के बीच माध्य समानुपात क्या है?

- Ans
- ✗ 1. 16
 - ✗ 2. 12
 - ✗ 3. 11
 - ✓ 4. 15

Question ID : 9895806290
Chosen Option : 2

Section : English Language

Q.1 From the given options, identify the segment in the sentence which contains the grammatical error.

As a painter he are good if not better than Suresh.

- Ans
- ✗ 1. if not better
 - ✗ 2. he are good
 - ✓ 3. As a painter
 - ✗ 4. than Suresh

Question ID : 9895806052
Chosen Option : --

Q.2 Select the word which means the same as the group of words given.

One who makes an eloquent public speech

- Ans
- ✗ 1. Leader
 - ✗ 2. Orator
 - ✓ 3. Speaker
 - ✗ 4. Debater

Question ID : 9895806070

Chosen Option : --

Q.3 Select the most appropriate option to fill in the blank.

One should be careful to check the grease and oil in _____ car occasionally for it's smooth functioning.

- Ans
- 1. ones
 - 2. our
 - 3. their
 - 4. one's

Question ID : 9895806056

Chosen Option : --

Q.4 Select the word which means the same as the group of words given.

The absence of government in a country

- Ans
- 1. Anarchy
 - 2. Bureaucracy
 - 3. Autocracy
 - 4. Democracy

Question ID : 9895806071

Chosen Option : --

Q.5 Select the option that means the same as the given idiom.

In black and white

- Ans
- 1. Photocopied
 - 2. In writing
 - 3. In colour
 - 4. Scanned

Question ID : 9895806068

Chosen Option : --

Q.6 Select the most appropriate word to fill in the blank.

Many tourists to India visit the beautiful valley of Kashmir _____ in spring and summer.

- Ans
- 1. frequently
 - 2. especially
 - 3. rarely
 - 4. generally

Question ID : 9895806074

Chosen Option : --

Q.7 Select the option that means the same as the given idiom.

Hit the nail on the head

- Ans
- 1. Use some tools
 - 2. Hit the nail exactly
 - 3. Use hammer and nail
 - 4. Accurately right

Question ID : 9895806069
Chosen Option : --

Q.8 Select the correctly spelt word.

- Ans
- 1. Millenium
 - 2. Millennium
 - 3. Milennium
 - 4. Millenniam

Question ID : 9895806073
Chosen Option : --

Q.9 From the given options, identify the segment in the sentence which contains the grammatical error.

Is the older person always more wiser than the younger one?

- Ans
- 1. Is the
 - 2. older person always
 - 3. than the younger one?
 - 4. more wiser

Question ID : 9895806050
Chosen Option : --

Comprehension:

In the following passage some words have been deleted. Fill in the blanks with the help of the alternatives given.

In 1893, Lokmanya Tilak converted the Ganapati festival _____ (1) a national celebration. He campaigned for _____ (2) wide celebration of this public festival throughout Maharashtra. It was _____ (3) this festival that he _____ (4) mobilise public support for the nationalist _____ (5)

SubQuestion No : 10

Q.1
0 Select the most appropriate option that will fill in the blank number 1.

- Ans
- 1. for
 - 2. to

3. into

4. with

Question ID : 9895806059
Chosen Option : --

Comprehension:

In the following passage some words have been deleted. Fill in the blanks with the help of the alternatives given.

In 1893, Lokmanya Tilak converted the Ganapati festival _____ (1) a national celebration. He campaigned for _____ (2) wide celebration of this public festival throughout Maharashtra. It was _____ (3) this festival that he _____ (4) mobilise public support for the nationalist _____ (5)

SubQuestion No : 11

Q.1
1 Select the most appropriate option that will fill in the blank number 2.

- Ans
- 1. a
 - 2. one
 - 3. some
 - 4. the

Question ID : 9895806060
Chosen Option : --

Comprehension:

In the following passage some words have been deleted. Fill in the blanks with the help of the alternatives given.

In 1893, Lokmanya Tilak converted the Ganapati festival _____ (1) a national celebration. He campaigned for _____ (2) wide celebration of this public festival throughout Maharashtra. It was _____ (3) this festival that he _____ (4) mobilise public support for the nationalist _____ (5)

SubQuestion No : 12

Q.1
2 Select the most appropriate option that will fill in the blank number 3.

- Ans
- 1. throughout
 - 2. through
 - 3. with
 - 4. without

Question ID : 9895806061
Chosen Option : --

Comprehension:

In the following passage some words have been deleted. Fill in the blanks with the help of the alternatives given.

In 1893, Lokmanya Tilak converted the Ganapati festival _____ (1) a national celebration. He campaigned for _____ (2) wide celebration of this public festival throughout Maharashtra. It was _____ (3) this festival that he _____ (4) mobilise public support for the nationalist _____ (5)

SubQuestion No : 13

Q.1
3 Select the most appropriate option that will fill in the blank number 4.

- Ans
- 1. can
 - 2. may
 - 3. will
 - 4. could

Question ID : 9895806062
Chosen Option : --

Comprehension:

In the following passage some words have been deleted. Fill in the blanks with the help of the alternatives given.

In 1893, Lokmanya Tilak converted the Ganapati festival _____ (1) a national celebration. He campaigned for _____ (2) wide celebration of this public festival throughout Maharashtra. It was _____ (3) this festival that he _____ (4) mobilise public support for the nationalist _____ (5)

SubQuestion No : 14

Q.1
4 Select the most appropriate option that will fill in the blank number 5.

- Ans
- 1. movement
 - 2. festival
 - 3. season
 - 4. term

Question ID : 9895806063
Chosen Option : --

Q.1
5 Select the most appropriate word to fill in the blank.

Our society is _____ by the evil of corruption; the integrity of even senior officials is disputed.

- Ans
- 1. identified
 - 2. indicated
 - 3. specified
 - 4. endangered

Question ID : 9895806075

Chosen Option : --

Q.1 6 Select the most appropriate option to substitute the underlined segment in the given sentence. If there is no need to substitute it, select No improvement.

He have been working on and off for two years to complete a book.

- Ans
- 1. No improvement
 - 2. have worked
 - 3. has work
 - 4. has been working

Question ID : 9895806053

Chosen Option : --

Q.1 7 From the given options, identify the segment in the sentence which contains the grammatical error.

When I asked for directions, he gave me many wrong informations.

- Ans
- 1. gave me many
 - 2. for directions
 - 3. When I asked
 - 4. wrong informations

Question ID : 9895806051

Chosen Option : --

Q.1 8 Select the antonym of the given word.

GRANT

- Ans
- 1. Refuse
 - 2. Approve
 - 3. Sanction
 - 4. Reject

Question ID : 9895806066

Chosen Option : --

Q.1 9 Select the most appropriate option to fill in the blank.

'Discovery of India' _____ by Jawaharlal Nehru.

- Ans
- 1. has written
 - 2. has been written
 - 3. have written
 - 4. have been written

Question ID : 9895806057

Q.2
0 Select the antonym of the given word.

HUMILITY

- Ans
- 1. Shyness
 - 2. Cruelty
 - 3. Obedience
 - 4. Modesty

Question ID : 9895806067
Chosen Option : --

Q.2
1 Select the most appropriate option to substitute the underlined segment in the given sentence. If there is no need to substitute it, select No improvement.

A team of doctors is focusing over treatment of cancer at an early age.

- Ans
- 1. is focusing on treatment of cancer
 - 2. No improvement
 - 3. is focusing in treatment of cancer
 - 4. is focusing onto treatment of cancer

Question ID : 9895806055
Chosen Option : --

Q.2
2 Select the most appropriate option to substitute the underlined segment in the given sentence. If there is no need to substitute it, select No improvement.

Would you mind help me with these questions?

- Ans
- 1. Would you mind to help
 - 2. Would you mind helping
 - 3. Would you mind for helping
 - 4. No improvement

Question ID : 9895806054
Chosen Option : --

Q.2
3 Select the correctly spelt word.

- Ans
- 1. Acquaintence
 - 2. Acquaintance
 - 3. Aquaintance
 - 4. Acquantage

Question ID : 9895806072
Chosen Option : --

Q.2
4 Select the synonym of the given word.

ZENITH

- Ans
- 1. Edge
 - 2. Peak
 - 3. Border
 - 4. Brink

Question ID : 9895806065
Chosen Option : --

Q.2
5 Select the synonym of the given word.

RESISTANCE

- Ans
- 1. Approval
 - 2. Refusal
 - 3. Recognition
 - 4. Enthusiasm

Question ID : 9895806064
Chosen Option : --

Section : Hindi Language

Q.1 दिए गए वाक्य का वह भाग ज्ञात करें जिसमें कोई त्रुटि है।

अपना संतान किसे अच्छी नहीं लगती, फिर भी दूसरों के प्रति उदार रहना हमारा धर्म है।

- Ans
- 1. अपना संतान
 - 2. किसे अच्छी नहीं लगती,
 - 3. फिर भी दूसरों के प्रति उदार रहना
 - 4. हमारा धर्म है

Question ID : 9895806026
Chosen Option : 2

Q.2 रिक्त स्थान को भरने के लिए उपयुक्त शब्द का चयन करें।

घर के _____ अस्पताल है।

- Ans
- 1. बिना
 - 2. अंदर
 - 3. द्वारा

✓ 4. सामने

Question ID : 9895806030
Chosen Option : 4

Q.3 दिए गए वाक्य का वह भाग ज्ञात करें जिसमें कोई त्रुटि है।

जंगल में जाने पर उसके सामने भील आ गई।

- Ans
- ✗ 1. उसके सामने
 - ✗ 2. जंगल में
 - ✓ 3. भील आ गई।
 - ✗ 4. जाने पर

Question ID : 9895806025
Chosen Option : 4

Q.4 दिये गये वाक्यांश के लिए एक शब्द दीजिये।

जिसका अंत न हो

- Ans
- ✗ 1. अजर
 - ✗ 2. अज्ञात
 - ✓ 3. अनंत
 - ✗ 4. अंतिम

Question ID : 9895806046
Chosen Option : 3

Q.5 सही वर्तनी वाले शब्द का चयन करें।

- Ans
- ✗ 1. चतुरभुज
 - ✓ 2. चतुर्भुज
 - ✗ 3. चतूर्भूज
 - ✗ 4. चर्तुभुज

Question ID : 9895806049
Chosen Option : 2

Q.6 निम्नलिखित में से उस विकल्प का चयन करें जो 'नाक में दम करना' मुहावरे का अर्थ व्यक्त करता है।

- Ans
- ✗ 1. अपमान करना
 - ✗ 2. दम को रोकना

✗ 3. शान्त रहना

✓ 4. बहुत परेशान करना

Question ID : 9895806044
Chosen Option : 4

Q.7 दिए गए वाक्य में रेखांकित खंड को प्रतिस्थापित करने के लिए उपयुक्त विकल्प का चयन करें।

मुझे पनीर का मिठाई बहुत पसंद है।

Ans ✗ 1. पनीर को मिठाई

✓ 2. पनीर की मिठाई

✗ 3. पनीर में मिठाई

✗ 4. पनीर से मिठाई

Question ID : 9895806027
Chosen Option : 2

Q.8 सही वर्तनी वाले शब्द का चयन करें।

Ans ✓ 1. गायिका

✗ 2. गयीका

✗ 3. गायीका

✗ 4. गयिका

Question ID : 9895806048
Chosen Option : 1

Q.9 रिक्त स्थान को भरने के लिए उपयुक्त शब्द का चयन करें।

घोड़े पर सवार वह _____ पड़ा।

Ans ✗ 1. धर

✗ 2. खेल

✓ 3. गिर

✗ 4. उड़

Question ID : 9895806032
Chosen Option : 4

Q.10 दिए गए वाक्य में रेखांकित खंड को प्रतिस्थापित करने के लिए उपयुक्त विकल्प का चयन करें।

दिवाली के त्योहार पर बाजार में दुकानों भी सजी है।

Ans

- 1. दुकानों भी सजे हैं।
- 2. दुकानें भी सजी हैं।
- 3. दुकान भी सजे हैं।
- 4. दुकान भी सजा है।

Question ID : 9895806028
Chosen Option : 2

Q.1
1 दिए गए शब्द का विलोम चुनें।

उज्ज्वल

- Ans
- 1. प्रकाशित
 - 2. स्वच्छ
 - 3. धूमिल
 - 4. पारदर्शी

Question ID : 9895806040
Chosen Option : 3

Q.1
2 दिए गए वाक्य का वह भाग ज्ञात करें जिसमें कोई त्रुटि है।

समय की गति बड़ी अद्भुत है, समय किसी की भी प्रतीक्षा नहीं करती।

- Ans
- 1. प्रतीक्षा नहीं करती।
 - 2. समय किसी की भी
 - 3. बड़ी अद्भुत है,
 - 4. समय की गति

Question ID : 9895806024
Chosen Option : 2

Q.1
3 दिए गए वाक्य में रेखांकित खंड को प्रतिस्थापित करने के लिए उपयुक्त विकल्प का चयन करें।

इस समय हमारे देश से भावनात्मक एकता की आवश्यकता है।

- Ans
- 1. इस समय हमारे देश का
 - 2. इस समय हमारे देशों को
 - 3. इस समय हमारे देशों का
 - 4. इस समय हमारे देश पर

Question ID : 9895806029
Chosen Option : 4

Q.1
4 दिए गए शब्द के पर्यायवाची शब्द का चयन करें।

संपूर्ण

- Ans
- 1. आधा
 - 2. पूरा
 - 3. छोटा
 - 4. अधूरा

Question ID : 9895806042
Chosen Option : 4

Q.1
5 दिये गये वाक्यांश के लिए एक शब्द दीजिये।

जिसमें कोई संदेह न हो

- Ans
- 1. संदेहशील
 - 2. संसंदेह
 - 3. संदेहास्पद
 - 4. निस्संदेह

Question ID : 9895806047
Chosen Option : 4

Q.1
6 रिक्त स्थान को भरने के लिए उपयुक्त शब्द का चयन करें।

महात्मा गांधी _____ हैं।

- Ans
- 1. अल्पज्ञ
 - 2. लोकप्रिय
 - 3. वाचाल
 - 4. असत्यवादी

Question ID : 9895806031
Chosen Option : 2

Comprehension:

निम्नलिखित गद्यांश के रिक्त स्थानों की पूर्ति गद्यांश के नीचे दिए गए प्रश्नों के अनुसार कीजिए-

दैनिक जीवन के सभी कार्य मनुष्य और _____ (1) एक समान करते हैं। मनुष्य और पशु दोनों में यदि कोई अंतर है तो बस यही कि मनुष्य में परोपकार की _____ (2) होती है। वह इसमें आनंद अनुभव करता है। पशु इस _____ (3) से वंचित रह जाते हैं। परोपकार तो हमारी भारतीय _____ (4) के मूल में है। भारतीय इतिहास में ऐसे अनेक उदाहरण मिल जाएँगे जिन्होंने _____ (5) के लिए अपना सर्वस्व दान कर दिया।

SubQuestion No : 17

Q.1
7 गद्यांश में संकेतित रिक्त स्थान (1) के लिए उपयुक्त शब्द होगा।

- Ans
- 1. सूर्य
 - 2. चाँद
 - 3. तारे
 - 4. पशु

Question ID : 9895806035
Chosen Option : 1

Comprehension:

निम्नलिखित गद्यांश के रिक्त स्थानों की पूर्ति गद्यांश के नीचे दिए गए प्रश्नों के अनुसार कीजिए-

दैनिक जीवन के सभी कार्य मनुष्य और _____ (1) एक समान करते हैं। मनुष्य और पशु दोनों में यदि कोई अंतर है तो बस यही कि मनुष्य में परोपकार की _____ (2) होती है। वह इसमें आनंद अनुभव करता है। पशु इस _____ (3) से वंचित रह जाते हैं। परोपकार तो हमारी भारतीय _____ (4) के मूल में है। भारतीय इतिहास में ऐसे अनेक उदाहरण मिल जाएँगे जिन्होंने _____ (5) के लिए अपना सर्वस्व दान कर दिया।

SubQuestion No : 18

Q.1
8 गद्यांश में संकेतित रिक्त स्थान (2) के लिए उपयुक्त शब्द होगा।

- Ans
- 1. खिलवाड़
 - 2. घृणा
 - 3. भावना

✗ 4. संकेत

Question ID : 9895806036
Chosen Option : 2

Comprehension:

निम्नलिखित गद्यांश के रिक्त स्थानों की पूर्ति गद्यांश के नीचे दिए गए प्रश्नों के अनुसार कीजिए-

दैनिक जीवन के सभी कार्य मनुष्य और _____ (1) एक समान करते हैं। मनुष्य और पशु दोनों में यदि कोई अंतर है तो बस यही कि मनुष्य में परोपकार की _____ (2) होती है। वह इसमें आनंद अनुभव करता है। पशु इस _____ (3) से वंचित रह जाते हैं। परोपकार तो हमारी भारतीय _____ (4) के मूल में है। भारतीय इतिहास में ऐसे अनेक उदाहरण मिल जाएँगे जिन्होंने _____ (5) के लिए अपना सर्वस्व दान कर दिया।

SubQuestion No : 19

Q.1
9 गद्यांश में संकेतित रिक्त स्थान (3) के लिए उपयुक्त शब्द होगा।

- Ans
- ✗ 1. दुख
 - ✗ 2. खेल
 - ✓ 3. आनंद
 - ✗ 4. तमाशा

Question ID : 9895806037
Chosen Option : 3

Comprehension:

निम्नलिखित गद्यांश के रिक्त स्थानों की पूर्ति गद्यांश के नीचे दिए गए प्रश्नों के अनुसार कीजिए-

दैनिक जीवन के सभी कार्य मनुष्य और _____ (1) एक समान करते हैं। मनुष्य और पशु दोनों में यदि कोई अंतर है तो बस यही कि मनुष्य में परोपकार की _____ (2) होती है। वह इसमें आनंद अनुभव करता है। पशु इस _____ (3) से वंचित रह जाते हैं। परोपकार तो हमारी भारतीय _____ (4) के मूल में है। भारतीय इतिहास में ऐसे अनेक उदाहरण मिल जाएँगे जिन्होंने _____ (5) के लिए अपना सर्वस्व दान कर दिया।

SubQuestion No : 20

Q.2
0 गद्यांश में संकेतित रिक्त स्थान (4) के लिए उपयुक्त शब्द होगा।

- Ans
- 1. पुस्तक
 - 2. देश
 - 3. पुराण
 - 4. संस्कृति

Question ID : 9895806038
Chosen Option : 3

Comprehension:

निम्नलिखित गद्यांश के रिक्त स्थानों की पूर्ति गद्यांश के नीचे दिए गए प्रश्नों के अनुसार कीजिए-

दैनिक जीवन के सभी कार्य मनुष्य और _____ (1) एक समान करते हैं। मनुष्य और पशु दोनों में यदि कोई अंतर है तो बस यही कि मनुष्य में परोपकार की _____ (2) होती है। वह इसमें आनंद अनुभव करता है। पशु इस _____ (3) से वंचित रह जाते हैं। परोपकार तो हमारी भारतीय _____ (4) के मूल में है। भारतीय इतिहास में ऐसे अनेक उदाहरण मिल जाएँगे जिन्होंने _____ (5) के लिए अपना सर्वस्व दान कर दिया।

SubQuestion No : 21

Q.2
1 गद्यांश में संकेतित रिक्त स्थान (5) के लिए उपयुक्त शब्द होगा।

- Ans
- 1. संघर्ष
 - 2. परोपकार
 - 3. मूर्खता
 - 4. लड़ाई

Question ID : 9895806039
Chosen Option : 3

Q.2
2 निम्नलिखित में से उस विकल्प का चयन करें जो 'घर फूँककर तमाशा देखना' मुहावरे का अर्थ व्यक्त करता है।

- Ans
- 1. अपनी हानि करके मौजमस्ती करना
 - 2. तमाशा देखना
 - 3. निकम्मा होना
 - 4. घर को फूँकना

Question ID : 9895806045
Chosen Option : 1

Q.2
3 दिए गए शब्द के पर्यायवाची शब्द का चयन करें।

प्रधान

- Ans
- 1. मंत्री
 - 2. नेता
 - 3. मुख्य
 - 4. गौण

Question ID : 9895806043
Chosen Option : 3

Q.2
4 रिक्त स्थान को भरने के लिए उपयुक्त शब्द का चयन करें।

बाहर _____ आया है?

- Ans
- 1. मैं
 - 2. कौन
 - 3. हम
 - 4. किसने

Question ID : 9895806033
Chosen Option : 2

Q.2
5 दिए गए शब्द का विलोम चुनें।

निर्मल

- Ans
- 1. निर्जल
 - 2. कमजोर
 - 3. मलिन
 - 4. ताकतवर

Question ID : 9895806041
Chosen Option : --