

Constable (GD) in CAPFs, NIA, SSF and Rifleman (GD) in Assam Rifles Examination, 2018

Roll No. :	GovtJobsAlert.In
Registration No.	GovtJobsAlert.In
Name :	GovtJobsAlert.In
Exam Venue :	iON Digital Zone iDZ Bodri Near high court
Exam Time :	12:30 PM - 2:00 PM
Exam Date :	21/02/2019

Section : General Section

Q.1 सात मित्र O, P, Q, R, S, T और U स्टेडियम में बैठकर क्रिकेट मैच देख रहे हैं। P एक अंतिम छोर पर बैठा है। T, Q और U के बीच में बैठा है, और R, S के बिलकुल दाएँ ओर और Q के बिलकुल बाएँ ओर बैठा है। U, P के बाएँ ओर दूसरे स्थान पर बैठा है। बिलकुल बाएँ छोर पर कौन बैठा है?

- Ans
- 1. Q
 - 2. S
 - 3. P
 - 4. R

Question ID : 9895806214

Chosen Option : 4

Q.2 दिए गए समीकरण को सही बनाने के लिए किन दो चिहनों को परस्पर बदलना होगा?

$$25 \div 25 + 6 - 10 \times 25 = 36$$

- Ans
- 1. + और -
 - 2. ÷ और ×
 - 3. + और ÷
 - 4. × और -

Question ID : 9895806223

Chosen Option : 2

Q.3 उस सही विकल्प का चयन करें जो रिक्त स्थान की पूर्ति करते हुए श्रृंखला को पूरा करें।

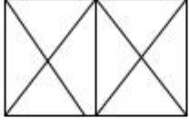
$$12, 15, 21, 30, \underline{\hspace{2cm}}?$$

- Ans
- 1. 41
 - 2. 42
 - 3. 45
 - 4. 40

Question ID : 9895806220

Chosen Option : 1

Q.4 उस विकल्प का चयन करें जिसमें दी गई आकृति अंतर्निहित है।



Ans

- ✗ 1.
- ✗ 2.
- ✓ 3.
- ✗ 4.

Question ID : 9895806226
Chosen Option : 3

Q.5 दिए गए कथनों और निष्कर्षों को ध्यानपूर्वक पढ़ें और तय करें कि कौन सा/से निष्कर्ष तार्किक रूप से कथनों का अनुसरण करता है / करते हैं।

कथन:

'भाग्य, बहादुर का साथ देता है' - एक कथन

निष्कर्ष:

- I. सफलता के लिए जोखिम आवश्यक हैं।
II. कायर लोग अपनी मृत्यु से पहले कई बार मरते हैं।

Ans

- ✗ 1. निष्कर्ष I और II दोनों अनुसरण करते हैं।
- ✓ 2. न तो निष्कर्ष I और न ही निष्कर्ष II अनुसरण करता है।
- ✗ 3. केवल निष्कर्ष I अनुसरण करता है।
- ✗ 4. केवल निष्कर्ष II अनुसरण करता है।

Question ID : 9895806218
Chosen Option : 3

Q.6 यदि D = 2 और I = 7, और GOD = 20, तो SPICES = _____।

Ans

- ✗ 1. 63
- ✓ 2. 59
- ✗ 3. 60
- ✗ 4. 69

Question ID : 9895806212
Chosen Option : 2

Q.7

निम्नलिखित श्रृंखला में, दो संख्याओं को कोष्ठक के भीतर रखा गया है। श्रृंखला का ध्यानपूर्वक अध्ययन करें और श्रृंखला के संबंध में सही विकल्प का चयन करें।

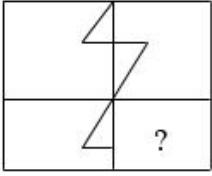
1, 2, 5, 10, (15), 26, 37, 50, (66), 82

Ans



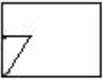
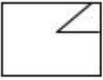
- ✗ 1. पहली कोष्ठक संख्या (बाएं से) गलत है और दूसरी सही है।
✗ 2. पहली कोष्ठक संख्या (बाएं से) सही है और दूसरी गलत है।
✓ 3. कोष्ठक में रखी दोनों संख्याएँ गलत हैं।
✗ 4. कोष्ठक में रखी दोनों संख्याएँ सही हैं।

Question ID : 9895806224
Chosen Option : 4

Q.8 निम्नलिखित पैटर्न को पूरा करने के लिए सही विकल्प का चयन करें।



Ans

- ✗ 1. 
✗ 2. 
✓ 3. 
✗ 4. 

Question ID : 9895806227
Chosen Option : 3

Q.9 उस सही विकल्प का चयन करें जो रिक्त स्थान की पूर्ति करते हुए श्रृंखला को पूरा करें।

6, 26, 126, _____

Ans

- ✗ 1. 512
✗ 2. 625
✗ 3. 256
✓ 4. 626

Question ID : 9895806219
Chosen Option : 3

Q.10 उस विकल्प का चयन करें जो दिए गए शब्दों के सेट के अनुरूप है।

भेड़ : मेमना : झुंड :: ?

Ans

- ✓ 1. मुर्गी : चूजा : झुंड
✗ 2. बिल्ली : शावक : बिलौटा
✗ 3. मुर्गा : मुर्गी : चूजा
✗ 4. मधुमक्खियां : झुंड : घोंसला

Question ID : 9895806211
Chosen Option : 1

Q.1 शब्दों के चार युग्म दिए गए हैं जिनमें से तीन युग्म किसी न किसी प्रकार से समान हैं, जबकि एक युग्म भिन्न है। असंगत युग्म का चयन करें।

Ans

- ✗ 1. केरल : कोचीन
✗ 2. असम : दिसपुर
✓ 3. नागालैंड : मिजोरम
✗ 4. तमिलनाडु : चेन्नई

Question ID : 9895806209
Chosen Option : 1

Q.1 निम्नलिखित में से उस संख्या की पहचान करें जो बाकी से अलग है।

Ans

- ✗ 1. 95
✗ 2. 75
✗ 3. 25
✓ 4. 52

Question ID : 9895806222
Chosen Option : 4

Q.1 नीचे दिए गए कथनों के बाद दो निष्कर्ष I और II दिए गए हैं। यह मानते हुए कि कथनों में दी गई जानकारी सत्य है, भले ही वह सर्वज्ञात तथ्यों से भिन्न प्रतीत होती हो और यह निर्णय करें कि कौन सा / से निष्कर्ष तार्किक रूप से और निश्चित रूप से कथन में दी गई जानकारी का अनुसरण करता है / करते हैं।

कथन:

कुछ कलाकार नर्तक हैं।
कुछ नर्तक गायक हैं।

निष्कर्ष:

- I. कुछ कलाकार गायक हैं।
II. कोई भी कलाकार गायक नहीं है।

Ans

- ✓ 1. या तो निष्कर्ष I या निष्कर्ष II अनुसरण करता है।
✗ 2. केवल निष्कर्ष II अनुसरण करता है।
✗ 3. केवल निष्कर्ष I अनुसरण करता है।
✗ 4. दोनों निष्कर्ष I और II अनुसरण करते हैं।

Question ID : 9895806217
Chosen Option : 3

Q.1 उस विकल्प का चयन करें जो दर्पण के दायीं ओर रखे जाने पर दिए गए शब्द की दर्पण छवि से सर्वाधिक मेल खाता है।

MIND

- Ans 1. dNIM
 2. DNIM
 3. MIND
 4. dNIM

Question ID : 9895806228
Chosen Option : 1

Q.1 उस पद का चयन करें जो निम्नलिखित श्रृंखला में अगला आएगा।

BBddFF, GGiiKK, LLnnPP, _____।

- Ans 1. QQssUU
 2. QQssTT
 3. SSttUU
 4. QQSStt

Question ID : 9895806206
Chosen Option : 2

Q.1 चार शब्द दिए गए हैं, जिनमें से तीन किसी तरह से समान हैं, जबकि एक शब्द अलग है। असंगत शब्द का चयन करें।

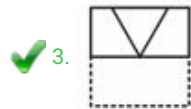
- Ans 1. वर्ग
 2. चौड़ाई
 3. लंबाई
 4. ऊंचाई

Question ID : 9895806207
Chosen Option : 1

Q.1 एक पैटर्न के साथ एक चौकोर पारदर्शी शीट दी गई है। बिंदुंकित रेखा पर पारदर्शी शीट को मोड़ने पर पैटर्न कैसा दिखाई देगा?



- Ans 1.
 2.



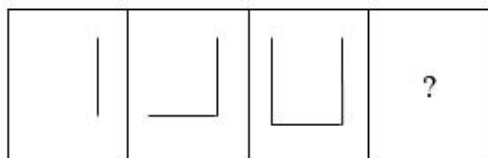
Question ID : 9895806229
Chosen Option : 2

Q.1
8 निम्नलिखित में से असंगत की पहचान करें।

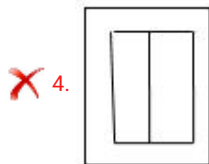
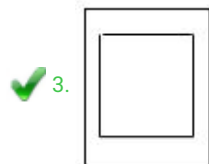
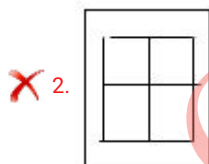
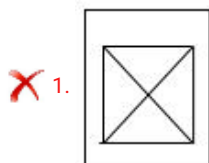
- Ans ✓ 1. UV
✗ 2. rt
✗ 3. xz
✗ 4. fh

Question ID : 9895806208
Chosen Option : 1

Q.1
9 उस आकृति का चयन करें जो निम्नलिखित श्रृंखला में आगे आएगी।



Ans



Question ID : 9895806225
Chosen Option : 3

Q.2 दिए गए विकल्पों में से वह शब्द चुनें जो दिए गए शब्दों के समान हो और इसलिए उसी समूह से संबंधित हो।

0

एल्युमीनियम, तांबा, जस्ता

Ans

- 1. लोहा
- 2. छड़
- 3. कार्बन
- 4. आभूषण

Question ID : 9895806210
Chosen Option : 1


Q.2 उस वेन आरेख का चयन करें जो दिए गए वर्गों को सर्वोत्तम ढंग से दर्शाता है।

1

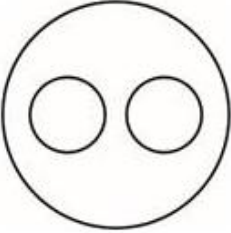
कर्नाटक, गुजरात, भारत

Ans


1.



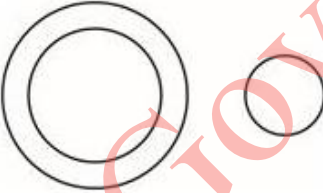
2.



3.



4.



Question ID : 9895806230
Chosen Option : 2

Q.2 यदि ENGINEER को REENIGNE के रूप में कूटबद्ध किया जाता है, तो HOSPITAL को _____ के रूप में कूटबद्ध किया जाएगा।

2

Ans

- 1. LATIPOSH
- 2. LATIPSOH
- 3. LAITPSOH
- 4. LATISPOH

Question ID : 9895806213
Chosen Option : 2

Q.2 उस विकल्प का चयन करें जो तीसरे पद से उसी तरह से संबंधित है जिस प्रकार दूसरा पद पहले पद से संबंधित है।

3

35 : 2 :: 79 : _____?

- Ans
- 1. 63
 - 2. 1
 - 3. 2
 - 4. 16

Question ID : 9895806221

Chosen Option : --

Q.2 एक पुस्तक श्रृंखला के छह खंड - I, II, III, IV, V और VI - एक शेल्फ में पास-पास रखी गयी हैं। II, III, V और VI के कवर भूरे रंग के हैं, जबकि अन्य के कवर लाल रंग के हैं। I, IV और II नए खंड हैं, जबकि बाकी पुराने खंड हैं। I, III और II कानून की पुस्तकें हैं, जबकि बाकी अर्थशास्त्र की पुस्तकें हैं।

4

कौन सी दो पुस्तकें अर्थशास्त्र की पुरानी पुस्तकें हैं जिन के कवर भूरे रंग के हैं?

- Ans
- 1. III और V
 - 2. II और III
 - 3. III और IV
 - 4. V और VI

Question ID : 9895806215

Chosen Option : 4

Q.2 छह मित्र A, B, C, D, E और F समूह चर्चा के लिए एक वृत्ताकार मेज के चारों ओर आमने-सामने बैठे हैं। A, C के सामने बैठा है। B, A के दाएँ ओर दूसरा बैठा है। D, F और A के बीच में बैठा है। E के सामने कौन बैठा है?

5

- Ans
- 1. B
 - 2. D
 - 3. C
 - 4. F

Question ID : 9895806216

Chosen Option : 1

Q.2 भारत में प्रथम महिला उच्च न्यायालय के न्यायाधीश कौन थे?

6

- Ans
- 1. कान्ताकुमारी भटनागर
 - 2. अन्ना चांडी
 - 3. फातिमा बीवी
 - 4. आर. भानुमति

Question ID : 9895806424

Chosen Option : 3

Q.2 भारतीय संविधान में 'रूल ऑफ लो (कानून के नियम)' की अवधारणा को निम्नलिखित में से किसके संविधान से लिया गया है?

7

Ans

- 1. आयरलैंड
- 2. इंगलैंड
- 3. यूनाइटेड स्टेट्स
- 4. जर्मनी

Question ID : 9895806418
Chosen Option : 1

Q.2₈ राजस्थान का कौन सा शहर वार्षिक मरु महोत्सव का आयोजन करता है?

- Ans
- 1. जयपुर
 - 2. जैसलमेर
 - 3. बाड़मेर
 - 4. बीकानेर

Question ID : 9895806429
Chosen Option : --

Q.2₉ पानी का pH (पीएच) इसकी अम्लता को दर्शाता है। शुद्ध पानी का सामान्य pH (पीएच) क्या है?

- Ans
- 1. 7
 - 2. 4
 - 3. 5
 - 4. 6

Question ID : 9895806416
Chosen Option : 2

Q.3₀ निम्नलिखित खेलों में से कौन सा खेल ग्रीष्मकालीन ओलंपिक में शामिल नहीं है?

- Ans
- 1. स्क्वाॅश
 - 2. फेंसिंग
 - 3. सायक्लिंग
 - 4. फुटबॉल

Question ID : 9895806427
Chosen Option : --

Q.3₁ 2011 की जनगणना के अनुसार 'साक्षर' व्यक्ति निम्न में से किसको माना जाता है?

- Ans
- 1. जो किसी भी भाषा में अपना नाम लिखने में सक्षम है
 - 2. जो किसी भी भाषा में स्पष्ट और प्रभावी ढंग से संवाद करने में सक्षम है

✗ 3.

जो 5 वर्ष और उससे अधिक आयु का हो और किसी भी भाषा में पढ़ और लिख सकता हो

✓ 4.

जो 7 वर्ष और उससे अधिक आयु का हो और किसी भी भाषा में पढ़ और लिख सकता हो

Question ID : 9895806411
Chosen Option : 2

Q.3
2 भारतीय उपमहाद्वीप में पहली ट्रेन निम्नलिखित में कौन से वर्ष में बोरीबंदर और ठाणे के बीच चली थी?

Ans ✗ 1. 1864

✗ 2. 1874

✗ 3. 1854

✓ 4. 1853

Question ID : 9895806407
Chosen Option : 3

Q.3
3 _____ को 'गोल्डन फाइबर' के रूप में भी जाना जाता है।

Ans ✗ 1. रबर

✗ 2. कपास

✓ 3. पटसन (जूट)

✗ 4. गेहूँ

Question ID : 9895806409
Chosen Option : 4

Q.3
4 भारत में "बचपन बचाओ आन्दोलन" (BBA) के स्थापक कौन थे?

Ans ✗ 1. बेजवाड़ा विल्सन

✓ 2. कैलाश सत्यार्थी

✗ 3. लक्ष्मी अग्रवाल

✗ 4. कीर्ति भारती

Question ID : 9895806423
Chosen Option : 4

Q.3
5 'ह्यूमस (खाद मिट्टी)' भूमि की किस परत का हिस्सा है?

Ans ✗ 1. नीचे की परत

✓ 2. ऊपर की परत

✗ 3. मूल चट्टान परत

✗ 4. उप परत

Question ID : 9895806410
Chosen Option : 1

Q.3
6 बोधगया में महाबोधि मंदिर परिसर में पहला मंदिर किसने बनवाया था?

- Ans
- 1. अशोक
 - 2. उपाली
 - 3. सुभूति
 - 4. आनंद

Question ID : 9895806428
Chosen Option : 3

Q.3
7 कौन सा वेद मुख्य रूप से त्याग में कर्मकांड कार्य के साथ व्यवहार करता है?

- Ans
- 1. ऋग्वेद
 - 2. अथर्व वेद
 - 3. साम वेद
 - 4. यजुर्वेद

Question ID : 9895806406
Chosen Option : 2

Q.3
8 निम्नलिखित में से कौन सी राष्ट्रीय आय की गणना की एक विधि नहीं है?

- Ans
- 1. व्यय विधि
 - 2. उत्पाद विधि
 - 3. प्रशंसा विधि
 - 4. आय विधि

Question ID : 9895806420
Chosen Option : 3

Q.3
9 'पेमेंट ऑफ ग्रेच्युटी एक्ट, 1972' के अनुसार, एक कर्मचारी _____ वर्षों की निरंतर सेवा के बाद ग्रेच्युटी के लिए पात्र हो जाता है।

- Ans
- 1. 7
 - 2. 10
 - 3. 15
 - 4. 5

Question ID : 9895806419
Chosen Option : --

Q.4
0 भारत के संविधान के अनुच्छेद _____ के तहत मौलिक (मुलभुत) कर्तव्यों का उल्लेख किया गया है।

- Ans
- 1. 24A
 - 2. 60
 - 3. 51A
 - 4. 35

Question ID : 9895806417
Chosen Option : 3

Q.4
1 निम्नलिखित में से कौन सा वेद संगीत के वेद के रूप में जाना जाता है?

- Ans
- 1. ऋग्वेद
 - 2. अथर्व वेद
 - 3. साम वेद
 - 4. यजुर्वेद

Question ID : 9895806430
Chosen Option : 3

Q.4
2 भारतीय रिजर्व बैंक की स्थापना निम्नलिखित कौन से वर्ष में की गई थी?

- Ans
- 1. 1935
 - 2. 1948
 - 3. 1927
 - 4. 1941

Question ID : 9895806421
Chosen Option : 1

Q.4
3 'मेघदूतम्' के लेखक कौन थे?

- Ans
- 1. गंधर्व
 - 2. तुलसीदास
 - 3. कालिदास
 - 4. वाल्मीकि

Question ID : 9895806425
Chosen Option : 1

Q.4
4 वरिष्ठ भारतीय राष्ट्रीय (सीनियर इंडियन नेशनल) स्नूकर पुरुष का खिताब 2019 किसने जीता?

- Ans
- 1. पंकज अडवानी
 - 2. गीत शेठी
 - 3. आदित्य मेहता
 - 4. मनन चन्द्र

Question ID : 9895806426
Chosen Option : 1

Q.4 5 बाबर (1526) से लेकर औरंगजेब (1707) तक के मुगल अधिक शक्तिशाली थे और इसलिए उन्हें _____ मुगल के नाम से जाने जाते थे।

- Ans
- 1. बहादुर मुगल
 - 2. बाद के मुगल
 - 3. प्रारंभिक मुगल
 - 4. महान मुगल

Question ID : 9895806408
Chosen Option : 1

Q.4 6 प्याज काटते वक्त आँखों में जलन और आंसू पैदा करने में कारणरूप रासायनिक प्रतिक्रिया से निम्न में से क्या उत्पन्न होता है?

- Ans
- 1. सल्फ्यूरिक एसिड
 - 2. नाइट्रिक एसिड
 - 3. हाइड्रोक्लोरिक एसिड
 - 4. असेटिक एसिड

Question ID : 9895806415
Chosen Option : 1

Q.4 7 भारत की _____ क्रांति, बेहतर उत्पादन प्रौद्योगिकियों में अधिक ज्ञान का इनपुट तेजी से दुर्लभ भूमि संसाधनों की उत्पादकता कैसे बढ़ा सकता है उसका एक प्रभावशाली उदाहरण है।

- Ans
- 1. नीली
 - 2. लाल
 - 3. हरी
 - 4. सफ़ेद

Question ID : 9895806422
Chosen Option : 1

Q.4 8 पके टमाटर और तरबूज उनका लाल रंग किससे से प्राप्त करते हैं?

- Ans
- 1. मेलेनिन
 - 2. बिलीरुबिन
 - 3. क्लोरोफिल
 - 4. लाइकोपीन

Question ID : 9895806412
Chosen Option : 4

Q.4
9 इलेक्ट्रिक चार्ज (विद्युत आवेश) की SI इकाई क्या है?

- Ans
- 1. कूलम्ब
 - 2. वाट
 - 3. एम्पीयर
 - 4. वोल्ट

Question ID : 9895806413
Chosen Option : 3

Q.5
0 भारत विश्व शौचालय दिवस कब मनाया जाता है?

- Ans
- 1. 19 नवंबर
 - 2. 13 मार्च
 - 3. 17 जुलाई
 - 4. 24 नवंबर

Question ID : 9895806414
Chosen Option : 2

Q.5
1 277 मीटर लंबी एक ट्रेन 60 किमी / घंटा की चाल से चल रही है। यदि किसी पुल को पार करने में उसे 45 सेकंड लगते हैं, तो पुल की लंबाई (मीटर में) ज्ञात करें?

- Ans
- 1. 423
 - 2. 467
 - 3. 473
 - 4. 477

Question ID : 9895806325
Chosen Option : 1

Q.5
2 एक वृत्ताकार भूखंड की परिधि 220 m है। यह 15 m चौड़े एक वृत्ताकार पथ से घिरा हुआ है। पथ का क्षेत्रफल (m^2 में) क्या है? (पूर्णांक के निकटतम) ($\pi = 22/7$ लें)

- Ans
- 1. 3992
 - 2. 4007
 - 3. 3996
 - 4. 4018

Question ID : 9895806321
Chosen Option : 1

Q.5
3 सम वृत्ताकार शंकु की वक्र सतह का क्षेत्रफल 1000 cm^2 है और इसकी विज्या 10 cm है। इसका आयतन क्या है? (cm^3 में)

- Ans
- 1. 4400
 - 2. 5000

✗ 3. 4800

✗ 4. 5500

Question ID : 9895806322
Chosen Option : 3

Q.5
4 $5 \times 0.1 \div [0.8 \div (0.2 \times 0.1)] \times (0.2 \div 0.2 \text{ of } 0.1)$ का मान क्या है?

Ans ✗ 1. $\frac{1}{4}$

✗ 2. 8

✓ 3. $\frac{1}{8}$

✗ 4. 4

Question ID : 9895806308
Chosen Option : 1

Q.5
5 A ने 25% लाभ पर B को एक वस्तु बेचा। B ने उसे C को 30% लाभ पर बेचा। यदि B का लाभ A की तुलना में ₹ 72 अधिक है, तो A ने इसके लिए कितना भुगतान किया है?

Ans ✗ 1. ₹ 540

✗ 2. ₹ 600

✗ 3. ₹ 560

✓ 4. ₹ 576

Question ID : 9895806312
Chosen Option : 4

Q.5
6 30 संख्याएँ हैं। पहली 14 संख्याओं का औसत 9 है और अंतिम 14 संख्याओं का औसत 5 है। यदि 16वीं संख्या का औसत 7 है और तीस संख्याओं का औसत भी 7 है, तो 15वीं संख्या क्या है?

Ans ✗ 1. 9

✓ 2. 7

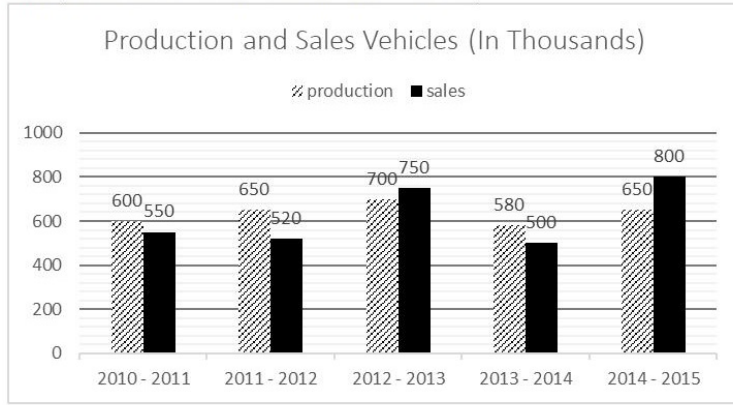
✗ 3. 6

✗ 4. 8

Question ID : 9895806310
Chosen Option : 1

Q.5
7

नीचे दिए गए ग्राफ का अध्ययन करें और प्रश्नों के उत्तर दें।



2012-13 और 2013-14 में वाहनों के कुल उत्पादन और 2011-12 और 2014-15 में वाहनों की कुल बिक्री के बीच अंतर क्या है?

- Ans
- 1. 60
 - 2. 40
 - 3. 30
 - 4. 10

Question ID : 9895806330
Chosen Option : 4

Q.5 एक नाव 2 घंटे में 5 km की दूरी प्रतिकूल धारा में और 6 km की दूरी अनुकूल धारा में तय करती है। यह 8 5½ घंटे में 15 km प्रतिकूल धारा में और 14 km अनुकूल धारा में जाती है। अनुकूल धारा में नाव की गति (km/hr में) क्या है?

- Ans
- 1. 8
 - 2. 6
 - 3. $7\frac{1}{2}$
 - 4. $10\frac{1}{2}$

Question ID : 9895806324
Chosen Option : 3

Q.5 दो पाइप A और B क्रमशः 30 मिनट और 40 मिनट में एक टैंक भर सकते हैं, जबकि तीसरा पाइप C प्रति मिनट 9 36 लीटर पानी निकाल सकता है। यदि सभी पाइप एक साथ खोले जाते हैं तो टैंक एक घंटे में भर जाता है। टैंक की क्षमता (लीटर में) ज्ञात करें।

- Ans
- 1. 756
 - 2. 792
 - 3. 720
 - 4. 864

Question ID : 9895806327
Chosen Option : 1

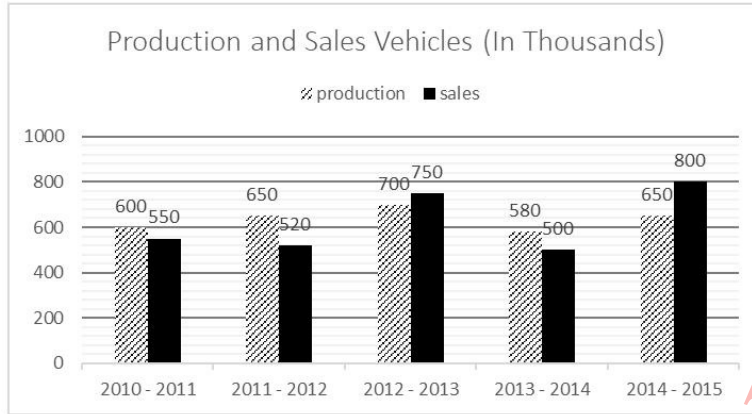
Q.6 6 वर्ष पहले A और B की आयु (वर्षों में) का अनुपात 10 : 13 था। अब से 9 वर्ष बाद, उनकी आयु का अनुपात 5 : 6 हो जाएगा। उनकी वर्तमान आयु का योग क्या है (वर्षों में)?

Ans

- ✓ 1. 81
- ✗ 2. 90
- ✗ 3. 69
- ✗ 4. 99

Question ID : 9895806317
Chosen Option : 3

Q.6 नीचे दिए गए ग्राफ का अध्ययन करें और प्रश्नों के उत्तर दें।
1



5 वर्षों के दौरान वाहनों का औसत वार्षिक उत्पादन वाहनों की औसत वार्षिक बिक्री से कितने प्रतिशत अधिक है? (दो दशमलव स्थान तक सही)

- Ans
- ✓ 1. 1.92
 - ✗ 2. 1.98
 - ✗ 3. 1.84
 - ✗ 4. 1.96

Question ID : 9895806328
Chosen Option : 4

Q.6 एक कक्षा में 80 छात्र हैं। 50 kg वजन वाले एक छात्र कक्षा छोड़ता है और उसी समय एक अन्य एक छात्र कक्षा में शामिल होता है। इस प्रकार छात्रों का औसत वजन 250 g बढ़ जाता है। नए छात्र का वजन (किलोग्राम में) क्या है?
2

- Ans
- ✗ 1. 72
 - ✗ 2. 66
 - ✓ 3. 70
 - ✗ 4. 68

Question ID : 9895806309
Chosen Option : 4

Q.6 एक परीक्षा में जिसका पूर्णांक 500 है, जिसमें A को B से 15% अधिक अंक प्राप्त हुए, B को C से 25% अधिक अंक प्राप्त हुए और C को D की तुलना में 20% कम अंक प्राप्त हुए। यदि D को 400 अंक प्राप्त हुए तो पूर्णांक का कितना प्रतिशत A द्वारा प्राप्त किया गया?
3

- Ans
- ✓ 1. 92%
 - ✗ 2. 90%
 - ✗ 3. 86%

✗ 4. 84%

Question ID : 9895806314
Chosen Option : 4

Q.6 एक निश्चित राशि 12.5% प्रति वर्ष की साधारण ब्याज दर पर $2\frac{1}{2}$ वर्ष में ₹ 4200, हो जाती है। $3\frac{3}{5}$ वर्षों के लिए 7.5% प्रति वर्ष की दर से उसी राशि पर साधारण ब्याज क्या होगा?

- Ans
- ✗ 1. ₹ 910
 - ✓ 2. ₹ 864
 - ✗ 3. ₹ 890
 - ✗ 4. ₹ 920

Question ID : 9895806318
Chosen Option : 3

Q.6 ₹ 13824 की राशि 10% प्रति वर्ष की दर से $1\frac{1}{4}$ वर्ष में 5 मासिक आधार पर चक्रवृद्धित किये जाने पर ₹ x हो जाएगी। x का मान क्या है?

- Ans
- ✗ 1. ₹ 15,375
 - ✓ 2. ₹ 15,625
 - ✗ 3. ₹ 15,400
 - ✗ 4. ₹ 15,600

Question ID : 9895806319
Chosen Option : 2

Q.6 $(15\frac{1}{3} \text{ of } \frac{2}{23} + \frac{1}{3}) \div (7\frac{3}{4} \text{ of } \frac{5}{31}) \times \frac{1}{4} \text{ of } 2\frac{1}{2} \div \frac{3}{5} \times 4\frac{4}{5}$ का मान क्या है?

- Ans
- ✓ 1. $6\frac{2}{3}$
 - ✗ 2. $\frac{3}{20}$
 - ✗ 3. $6\frac{1}{3}$
 - ✗ 4. $\frac{7}{20}$

Question ID : 9895806307
Chosen Option : 2

Q.6 आंकड़े 5, 7, 3, 9, 10, 2, 6, 8, 12, 4 की माध्यिका x है। यदि 6 को 12 से बदल दिया जाता है, तो माध्यिका y है। x और y के बीच क्या अंतर है?

- Ans
- ✗ 1. 0.75
 - ✗ 2. 1.25
 - ✗ 3. 0.5
 - ✓ 4. 1

Question ID : 9895806320
Chosen Option : 4

Q.6 ₹ 12870 की राशि को A, B और C के बीच इस प्रकार विभाजित की जाती है कि A के हिस्से और B एवं C के संयुक्त हिस्से का अनुपात 3 : 7 है और C के हिस्से और A एवं B के संयुक्त हिस्से का अनुपात 2 : 9 है। A और B के हिस्से में क्या अंतर है?

- Ans
- 1. ₹ 4308
 - 2. ₹ 1521
 - 3. ₹ 2808
 - 4. ₹ 3921

Question ID : 9895806316
Chosen Option : 2

Q.6 ₹ 360 में कोई वस्तु बेचने पर एक व्यापारी को 25% की हानि होती है। तो 25% का लाभ प्राप्त करने के लिए उसे वस्तु को कितने में बेचना होगा?

- Ans
- 1. ₹ 640 में
 - 2. ₹ 600 में
 - 3. ₹ 560 में
 - 4. ₹ 720 में

Question ID : 9895806313
Chosen Option : 4

Q.7 जब 22, 29, 38 और 53 प्रत्येक में से x को घटाया जाता है तो वे अनुपात में होते हैं। (x + 1) और (4x - 7) के बीच माध्य क्या है?

- Ans
- 1. 17
 - 2. 12
 - 3. 15
 - 4. 18

Question ID : 9895806315
Chosen Option : 1

Q.7 किसी वस्तु की अंकित कीमत उसकी लागत/क्रय मूल्य से 40% अधिक है। एक दुकानदार अंकित मूल्य पर 25% की छूट देता है। इसके अतिरिक्त वह 20% की अन्य छूट देता है। यदि वह अब ₹ 83.20 का नुकसान उठाता है, तो वस्तु की लागत/क्रय मूल्य क्या है?

- Ans
- 1. ₹ 540
 - 2. ₹ 560
 - 3. ₹ 520
 - 4. ₹ 554

Question ID : 9895806311
Chosen Option : 2

Q.7 A किसी काम को 20 दिनों में, B उसी काम को 60 दिनों में और C उस काम को 120 दिनों में पूरा कर सकता है। यदि A को क्रमशः B और C द्वारा वैकल्पिक दिनों में सहायता प्रदान की जाती है, तो कार्य को पूरा करने में कितने दिन लगेंगे?

- Ans
- 1. 14 दिन

- 2. 15 दिन
- 3. 12 दिन
- 4. 16 दिन

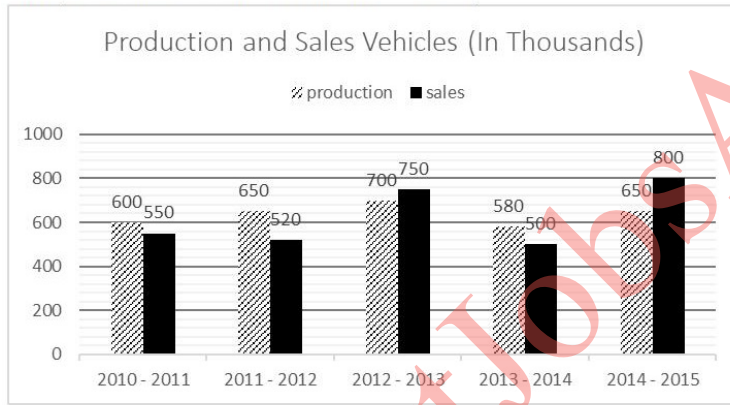
Question ID : 9895806326
Chosen Option : 2

Q.7 जब 17985, 22814 और 19741 को सबसे बड़ी संख्या x से विभाजित किया जाता है, तो प्रत्येक मामले में शेष 3 समान होता है। x के अंको का गुणनफल क्या है?

- Ans
- 1. 72
 - 2. 216
 - 3. 108
 - 4. 144

Question ID : 9895806306
Chosen Option : 3

Q.7 नीचे दिए गए ग्राफ का अध्ययन करें और प्रश्नों के उत्तर दें।
4



2010-11 और 2011-12 के दौरान वाहनों की कुल उत्पादन और 2012-13 और 2014-15 के दौरान वाहनों की कुल बिक्री का अनुपात क्या है?

- Ans
- 1. 25 : 31
 - 2. 13 : 11
 - 3. 20 : 29
 - 4. 23 : 19

Question ID : 9895806329
Chosen Option : 1

Q.7 एक शंकु और एक गोलार्ध में समान आधार और समान आयतन है। यदि शंकु की ऊंचाई 12 cm है, तो गोलार्ध की त्रिज्या क्या होगी?
5

- Ans
- 1. 9 cm
 - 2. 4 cm
 - 3. 8 cm
 - 4. 6 cm

Section : English Language

Q.1 Select the synonym of the given word.

ACCESSORIES

- Ans
- 1. Additions
 - 2. Tools
 - 3. Attachments
 - 4. Benefits

Question ID : 9895806090
Chosen Option : --

Q.2 Select the most appropriate word to fill in the blank.

Precise and _____ sentences make good essays.

- Ans
- 1. Effective
 - 2. Skillful
 - 3. Efficient
 - 4. Essential

Question ID : 9895806100
Chosen Option : --

Q.3 From the given options, identify the segment in the sentence which contains the grammatical error.

Without you apologize now, I shall punish you.

- Ans
- 1. I shall
 - 2. apologize now
 - 3. punish you
 - 4. Without you

Question ID : 9895806076
Chosen Option : --

Q.4 Select the most appropriate option to substitute the underlined segment in the given sentence. If there is no need to substitute it, select No improvement.

Gita won't pass the examination and or will Rita.

- Ans
- 1. and either will
 - 2. and so will
 - 3. No improvement
 - 4. and neither will

Question ID : 9895806080

Q.5 Select the option that means the same as the given idiom.

To mind one's P's and Q's

- Ans
- 1. To be careful about one's speech and behaviour
 - 2. To teach English punctuation
 - 3. To be particular about the English alphabet
 - 4. To learn the words beginning with P and Q

Question ID : 9895806095

Chosen Option : --

Q.6 Select the most appropriate option to fill in the blank.

A _____ student is unlikely to get admission to a top-level institution.

- Ans
- 1. mediocre
 - 2. reputed
 - 3. solemn
 - 4. modest

Question ID : 9895806083

Chosen Option : --

Comprehension:

In the following passage some words have been deleted. Fill in the blanks with the help of the alternatives given.

Jawaharlal Nehru was probably the first important public leader to realise that if India were to _____ (1) its problems, it would have to _____ (2) into the age of science. The government of free India was one of the first in the world to set up a department of science and technology. The _____ (3) the government has attached to science is also clear _____ (4) the fact that the portfolio of science and technology has always been _____ (5) by the Prime Minister himself.

SubQuestion No : 7

Q.7 Select the most appropriate option that will fill in the blank number 1.

- Ans
- 1. face
 - 2. work
 - 3. raise
 - 4. solve

Question ID : 9895806085

Chosen Option : --

Comprehension:

In the following passage some words have been deleted. Fill in the blanks with the help of the alternatives given.

Jawaharlal Nehru was probably the first important public leader to realise that if India were to _____ (1) its problems, it would have to _____ (2) into the age of science. The government of free India was one of the first in the world to set up a department of science and technology. The _____ (3) the government has attached to science is also clear _____ (4) the fact that the portfolio of science and technology has always been _____ (5) by the Prime Minister himself.

SubQuestion No : 8

Q.8 Select the most appropriate option that will fill in the blank number 2.

- Ans**
- 1. enter
 - 2. begin
 - 3. direct
 - 4. evolve

Question ID : 9895806086
Chosen Option : --

Comprehension:

In the following passage some words have been deleted. Fill in the blanks with the help of the alternatives given.

Jawaharlal Nehru was probably the first important public leader to realise that if India were to _____ (1) its problems, it would have to _____ (2) into the age of science. The government of free India was one of the first in the world to set up a department of science and technology. The _____ (3) the government has attached to science is also clear _____ (4) the fact that the portfolio of science and technology has always been _____ (5) by the Prime Minister himself.

SubQuestion No : 9

Q.9 Select the most appropriate option that will fill in the blank number 3.

- Ans**
- 1. importance
 - 2. budget
 - 3. policy
 - 4. plan

Question ID : 9895806087
Chosen Option : --

Comprehension:

In the following passage some words have been deleted. Fill in the blanks with the help of the alternatives given.

Jawaharlal Nehru was probably the first important public leader to realise that if India were to _____ (1) its problems, it would have to _____ (2) into the age of science. The government of free India was one of the first in the world to set up a department of science and technology. The _____ (3) the government has attached to science is also clear _____ (4) the fact that the portfolio of science and technology has always been _____ (5) by the Prime Minister himself.

SubQuestion No : 10

Q.1
0 Select the most appropriate option that will fill in the blank number 4.

- Ans
- 1. for
 - 2. to
 - 3. from
 - 4. of

Question ID : 9895806088
Chosen Option : --

Comprehension:

In the following passage some words have been deleted. Fill in the blanks with the help of the alternatives given.

Jawaharlal Nehru was probably the first important public leader to realise that if India were to _____ (1) its problems, it would have to _____ (2) into the age of science. The government of free India was one of the first in the world to set up a department of science and technology. The _____ (3) the government has attached to science is also clear _____ (4) the fact that the portfolio of science and technology has always been _____ (5) by the Prime Minister himself.

SubQuestion No : 11

Q.1
1 Select the most appropriate option that will fill in the blank number 5.

- Ans
- 1. charged
 - 2. offered
 - 3. held
 - 4. regarded

Question ID : 9895806089
Chosen Option : --

Q.1
2 Select the synonym of the given word.

LITHE

Ans

- 1. Loose
- 2. Fixed
- 3. Slow
- 4. Flexible

Question ID : 9895806091
Chosen Option : --

Q.1
3 Select the antonym of the given word.

RECALLED

- Ans
- 1. Forgotten
 - 2. Forgiven
 - 3. Revived
 - 4. Remembered

Question ID : 9895806093
Chosen Option : --

Q.1
4 Select the most appropriate option to fill in the blank.

On the eve of independence day, the President _____ the nation.

- Ans
- 1. talks
 - 2. welcomes
 - 3. addresses
 - 4. lectures

Question ID : 9895806082
Chosen Option : --

Q.1
5 Select the most appropriate word to fill in the blank.

Illiteracy is a big _____ to progress.

- Ans
- 1. opposition
 - 2. impediment
 - 3. concern
 - 4. issue

Question ID : 9895806101
Chosen Option : --

Q.1
6 From the given options, identify the segment in the sentence which contains the grammatical error.

Today anyone who wears a half pant which reach just below the knees invites a comment about the dress.

- Ans
- 1. which reach

- 2. about the dress
- 3. just below the knees
- 4. anyone who wears

Question ID : 9895806077
Chosen Option : --

Q.1
7 Select the word which means the same as the group of words given.

One who practices one of the fine arts

- Ans
- 1. Artisan
 - 2. Designer
 - 3. Artist
 - 4. Architect

Question ID : 9895806097
Chosen Option : --

Q.1
8 Select the option that means the same as the given idiom.

To lose one's temper

- Ans
- 1. To remain peaceful
 - 2. To become angry
 - 3. To be in good mood
 - 4. To be aloof from

Question ID : 9895806094
Chosen Option : --

Q.1
9 Select the antonym of the given word.

ASCERTAIN

- Ans
- 1. Interrupt
 - 2. Assume
 - 3. Hinder
 - 4. Disprove

Question ID : 9895806092
Chosen Option : --

Q.2
0 Select the correctly spelt word.

- Ans
- 1. Struggal
 - 2. Strugle

3. Struggle

4. Struggel

Question ID : 9895806098
Chosen Option : --

Q.2
1 Select the correctly spelt word.

Ans 1. Tvelfth

2. Twelefth

3. Twelfth

4. Twelth

Question ID : 9895806099
Chosen Option : --

Q.2
2 Select the most appropriate option to substitute the underlined segment in the given sentence. If there is no need to substitute it, select No improvement.

Since pollution control measures are expensive, therefore many industries hesitate to adopt them.

Ans 1. As pollution control measures are expensive

2. Although pollution control measures are expensive

3. No improvement

4. However pollution control measures are expensive

Question ID : 9895806081
Chosen Option : --

Q.2
3 From the given options, identify the segment in the sentence which contains the grammatical error.

The great poet and dramatist, the Kalidas, is quite often described as the Shakespeare of Sanskrit Literature.

Ans 1. The great poet and dramatist

2. the Kalidas

3. described as

4. is quite often

Question ID : 9895806078
Chosen Option : --

Q.2
4 Select the most appropriate option to substitute the underlined segment in the given sentence. If there is no need to substitute it, select No improvement.

Because they would say he was too old to play with them, he walked on disappointedly.

Ans 1. they would said he was too old to play

2. they are saying he is too old to play

3. they would say he is so old to play

4. No improvement

Q.2 Select the word which means the same as the group of words given.

Something kept as a reminder of an event

- Ans
- 1. Award
 - 2. Souvenir
 - 3. Trophy
 - 4. Prize

Section : Hindi Language

Q.1 दिये गये वाक्यांश के लिए एक शब्द दीजिये।

जो पंद्रह दिन में एक बार होता हो

- Ans
- 1. वार्षिक
 - 2. दैनिक
 - 3. साप्ताहिक
 - 4. पाक्षिक

Q.2 दिए गए वाक्य का वह भाग ज्ञात करें जिसमें कोई त्रुटि है।

काम की समय पर संपन्न करना ही सफलता का रहस्य है।

- Ans
- 1. समय पर
 - 2. काम की
 - 3. संपन्न करना ही
 - 4. सफलता का रहस्य है।

Q.3 दिए गए शब्द का विलोम चुनें।

रोचक

Ans

- 1. मोचन
- 2. नीरस
- 3. मजेदार
- 4. सरस

Question ID : 9895805885
Chosen Option : 2

Comprehension:

निम्नलिखित गद्यांश के रिक्त स्थानों की पूर्ति गद्यांश के नीचे दिए गए प्रश्नों के अनुसार कीजिए-

प्राणी जगत का मित्र है सूर्य । वह प्रकृति में नवीनता पैदा करता है। उसके आते ही _____ (1) का अंधकार और नीरवता _____ (2) हो जाती है। नई स्फूर्ति के साथ मनुष्य और पशु-पक्षी अपनी-अपनी _____ (3) में लग जाते हैं। _____ (4) की पहली किरण जब धरती के आँगन में अपना कदम रखती है तो चिड़ियाँ चहचहा कर उसका _____ (5) करती है। रात्रि की निद्रा में अलसाई कलियाँ फूट पड़ती हैं।

SubQuestion No : 4

Q.4 गद्यांश में संकेतित रिक्त स्थान (1) के लिए उपयुक्त शब्द होगा।

- Ans
- 1. रात्रि
 - 2. वर्षा
 - 3. दिन
 - 4. हवा

Question ID : 9895805879
Chosen Option : 1

Comprehension:

निम्नलिखित गद्यांश के रिक्त स्थानों की पूर्ति गद्यांश के नीचे दिए गए प्रश्नों के अनुसार कीजिए-

प्राणी जगत का मित्र है सूर्य । वह प्रकृति में नवीनता पैदा करता है। उसके आते ही _____ (1) का अंधकार और नीरवता _____ (2) हो जाती है। नई स्फूर्ति के साथ मनुष्य और पशु-पक्षी अपनी-अपनी _____ (3) में लग जाते हैं। _____ (4) की पहली किरण जब धरती के आँगन में अपना कदम रखती है तो चिड़ियाँ चहचहा कर उसका _____ (5) करती है। रात्रि की निद्रा में अलसाई कलियाँ फूट पड़ती हैं।

SubQuestion No : 5

Q.5 गद्यांश में संकेतित रिक्त स्थान (2) के लिए उपयुक्त शब्द होगा।

- Ans
- 1. दुखी
 - 2. गायब
 - 3. प्रसन्न
 - 4. उत्पन्न

Question ID : 9895805880
Chosen Option : 2

Comprehension:

निम्नलिखित गद्यांश के रिक्त स्थानों की पूर्ति गद्यांश के नीचे दिए गए प्रश्नों के अनुसार कीजिए-

प्राणी जगत का मित्र है सूर्य । वह प्रकृति में नवीनता पैदा करता है। उसके आते ही _____ (1) का अंधकार और नीरवता _____ (2) हो जाती है। नई स्फूर्ति के साथ मनुष्य और पशु-पक्षी अपनी-अपनी _____ (3) में लग जाते हैं। _____ (4) की पहली किरण जब धरती के आँगन में अपना कदम रखती है तो चिड़ियाँ चहचहा कर उसका _____ (5) करती है। रात्रि की निद्रा में अलसाई कलियाँ फूट पड़ती हैं।

SubQuestion No : 6

Q.6 गद्यांश में संकेतित रिक्त स्थान (3) के लिए उपयुक्त शब्द होगा।

- Ans
- 1. दिनचर्या
 - 2. पढ़ने

✗ 3. घूमने

✗ 4. झगड़े

Question ID : 9895805881

Chosen Option : 1

Comprehension:

निम्नलिखित गद्यांश के रिक्त स्थानों की पूर्ति गद्यांश के नीचे दिए गए प्रश्नों के अनुसार कीजिए-

प्राणी जगत का मित्र है सूर्य । वह प्रकृति में नवीनता पैदा करता है। उसके आते ही _____ (1) का अंधकार और नीरवता _____ (2) हो जाती है। नई स्फूर्ति के साथ मनुष्य और पशु-पक्षी अपनी-अपनी _____ (3) में लग जाते हैं। _____ (4) की पहली किरण जब धरती के आँगन में अपना कदम रखती है तो चिड़ियाँ चहचहा कर उसका _____ (5) करती है। रात्रि की निद्रा में अलसाई कलियाँ फूट पड़ती हैं।

SubQuestion No : 7

Q.7 गद्यांश में संकेतित रिक्त स्थान (4) के लिए उपयुक्त शब्द होगा।

Ans

✓ 1. सूर्य

✗ 2. तारे

✗ 3. बादल

✗ 4. पानी

Question ID : 9895805882

Chosen Option : 1

Comprehension:

निम्नलिखित गद्यांश के रिक्त स्थानों की पूर्ति गद्यांश के नीचे दिए गए प्रश्नों के अनुसार कीजिए-

प्राणी जगत का मित्र है सूर्य । वह प्रकृति में नवीनता पैदा करता है। उसके आते ही _____ (1) का अंधकार और नीरवता _____ (2) हो जाती है। नई स्फूर्ति के साथ मनुष्य और पशु-पक्षी अपनी-अपनी _____ (3) में लग जाते हैं। _____ (4) की पहली किरण जब धरती के आँगन में अपना कदम रखती है तो चिड़ियाँ चहचहा कर उसका _____ (5) करती है। रात्रि की निद्रा में अलसाई कलियाँ फूट पड़ती हैं।

SubQuestion No : 8

Q.8 गद्यांश में संकेतित रिक्त स्थान (5) के लिए उपयुक्त शब्द होगा।

- Ans
- 1. तिरस्कार
 - 2. आलस्य
 - 3. अपमान
 - 4. स्वागत

Question ID : 9895805883
Chosen Option : 4

Q.9 दिए गए शब्द के पर्यायवाची शब्द का चयन करें।

वस्त्र

- Ans
- 1. कपड़ा
 - 2. अधर
 - 3. अधि
 - 4. दामिनी

Question ID : 9895805887
Chosen Option : 1

Q.10 रिक्त स्थान को भरने के लिए उपयुक्त शब्द का चयन करें।

मेरी छोटी बहन _____ चलने लगी है।

- Ans
- 1. थोड़ा
 - 2. हमेशा
 - 3. कब

✗ 4. के साथ

Question ID : 9895805875
Chosen Option : 3

Q.1 रिक्त स्थान को भरने के लिए उपयुक्त शब्द का चयन करें।

सब जानते हैं कि _____ में बल होता है।

Ans

- ✗ 1. कुमति
- ✗ 2. कायरता
- ✗ 3. अशक्तता
- ✓ 4. एकता

Question ID : 9895805877
Chosen Option : 4

Q.1 दिए गए वाक्य में रेखांकित खंड को प्रतिस्थापित करने के लिए उपयुक्त विकल्प का चयन करें।

नौकरानी ने साबुन के कपड़े धोए।

Ans

- ✗ 1. साबुन का कपड़े धोए।
- ✗ 2. साबुन कपड़े से धोए।
- ✗ 3. कपड़े से साबुन धोए।
- ✓ 4. साबुन से कपड़े धोए।

Question ID : 9895805873
Chosen Option : 4

Q.1 रिक्त स्थान को भरने के लिए उपयुक्त शब्द का चयन करें।

_____! कितनी धूप है।

Ans

- ✗ 1. शाबाश
- ✗ 2. सावधान
- ✗ 3. खबरदार
- ✓ 4. उफ

Question ID : 9895805874
Chosen Option : 4

Q.1
4

दिए गए वाक्य का वह भाग ज्ञात करें जिसमें कोई त्रुटि है।

भरतनाट्यम् नृत्य भारत की समृद्ध कला का श्रेष्ठ नमूने है।

Ans

- ✓ 1. श्रेष्ठ नमूने है।
- ✗ 2. समृद्ध कला का
- ✗ 3. भारत की
- ✗ 4. भरतनाट्यम् नृत्य

Question ID : 9895805870
Chosen Option : 1

Q.1 5 दिए गए वाक्य में रेखांकित खंड को प्रतिस्थापित करने के लिए उपयुक्त विकल्प का चयन करें।

नदियों के पानी की स्वच्छ रखकर हम अपना भविष्य सुधार सकते हैं।

Ans

- ✓ 1. पानी को स्वच्छ रखकर
- ✗ 2. पानी पर स्वच्छ रखकर
- ✗ 3. पानी का स्वच्छ रखकर
- ✗ 4. पानी में स्वच्छ रखकर

Question ID : 9895805871
Chosen Option : 1

Q.1 6 रिक्त स्थान को भरने के लिए उपयुक्त शब्द का चयन करें।

रविवार के _____ अवकाश रहता है।

Ans

- ✗ 1. माह
- ✗ 2. वर्ष
- ✗ 3. सप्ताह
- ✓ 4. दिन

Question ID : 9895805876
Chosen Option : 4

Q.1 7 निम्नलिखित में से उस विकल्प का चयन करें जो 'नाक कटना' मुहावरे का अर्थ व्यक्त करता है।

Ans

- ✗ 1. विकलांग हो जाना
- ✓ 2. प्रतिष्ठा नष्ट होना
- ✗ 3. बहुत कष्ट होना
- ✗ 4. नाक कट जाना

Question ID : 9895805888
Chosen Option : 2

Q.1
8 दिए गए शब्द के पर्यायवाची शब्द का चयन करें।

वर्षा

- Ans
- 1. पावस
 - 2. ऋतुराज
 - 3. गैरत
 - 4. हिमांत

Question ID : 9895805886
Chosen Option : 1

Q.1
9 दिए गए शब्द का विलोम चुनें।

कर्मठ

- Ans
- 1. कृतघ्न
 - 2. कायर
 - 3. कृतज्ञ
 - 4. कामचोर

Question ID : 9895805884
Chosen Option : 3

Q.2
0 निम्नलिखित में से उस विकल्प का चयन करें जो 'दाँत खड़े करना' मुहाबरे का अर्थ व्यक्त करता है।

- Ans
- 1. परास्त करना
 - 2. दाँत में दर्द होना
 - 3. दाँतों में खट्टा लगना
 - 4. दाँत खराब होना

Question ID : 9895805889
Chosen Option : 1

Q.2
1 दिए गए वाक्य का वह भाग ज्ञात करें जिसमें कोई त्रुटि है।

राष्ट्रीय प्रतीक हमारी संस्कृति की पहचान करती हैं।

- Ans
- 1. राष्ट्रीय प्रतीक
 - 2. करती हैं।

✓ 3. की पहचान

✗ 4. हमारी संस्कृति

Question ID : 9895805868
Chosen Option : 4

Q.2
2 दिए गए वाक्य में रेखांकित खंड को प्रतिस्थापित करने के लिए उपयुक्त विकल्प का चयन करें।

आकाश साफ व स्वच्छ थी।

Ans ✗ 1. स्वच्छ व साफ थी।

✗ 2. साफ व स्वच्छ होनी था।

✓ 3. साफ व स्वच्छ था।

✗ 4. साफ व स्वच्छ थे ।

Question ID : 9895805872
Chosen Option : 4

Q.2
3 दिये गये वाक्यांश के लिए एक शब्द दीजिये।

जो नया आया हो

Ans ✗ 1. प्राचीन

✗ 2. अर्वाचीन

✗ 3. नवीन

✓ 4. नवागत

Question ID : 9895805891
Chosen Option : 3

Q.2
4 सही वर्तनी वाले शब्द का चयन करें।

Ans ✗ 1. ब्राहमण

✗ 2. बराहमन

✗ 3. बरहमन

✓ 4. ब्राह्मण

Question ID : 9895805893
Chosen Option : 4

Q.2
5 सही वर्तनी वाले शब्द का चयन करें।

Ans ✓ 1. संपादिका

✗ 2. सम्पदिका

✘ 3. संपदिका

✘ 4. सम्पादिका

Question ID : 9895805892
Chosen Option : 2

GovtJobsAlert.In