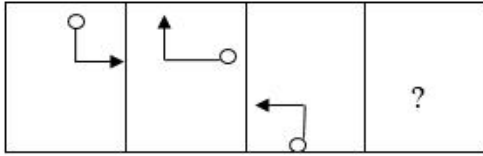


## Constable (GD) in CAPFs, NIA, SSF and Rifleman (GD) in Assam Rifles Examination, 2018

Roll No. :	GovtJobsAlert.In
Registration No.	GovtJobsAlert.In
Name :	GovtJobsAlert.In
Exam Venue :	Shri Siddhi Vinayak Institute Of Technology
Exam Time :	4:00 PM - 5:30 PM
Exam Date :	21/02/2019

Section : General Section

Q.1 उस आकृति का चयन करें जो निम्नलिखित श्रृंखला में आगे आएगी?



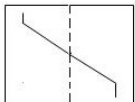
Ans

1. ✓
2. ✗
3. ✗
4. ✗

Question ID : 9895806250  
Chosen Option : 3

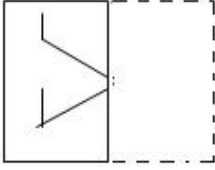
Q.2 एक पैटर्न के साथ एक चौकोर पारदर्शी शीट दी गई है। बिंदीदार रेखा के साथ पारदर्शी शीट को मोड़ने पर

पैटर्न कैसे दिखाई देगा?

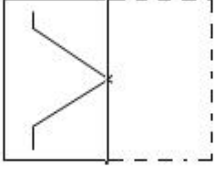


Ans

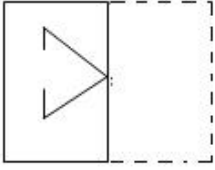
✗ 1.



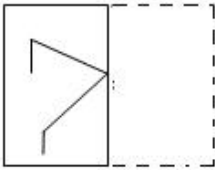
✓ 2.



✗ 3.



✗ 4.



Question ID : 9895806254  
Chosen Option : 2

Q.3 दिए गए कथनों और निष्कर्षों को ध्यानपूर्वक पढ़ें और तय करें कि कौन सा निष्कर्ष तार्किक रूप से कथनों का अनुसरण करता है।

कथन:

- 1) मेरी कक्षा के सभी छात्र/छात्राएं सक्रिय हैं।
- 2) रोहिणी सक्रिय नहीं है।

निष्कर्ष:

- I. रोहिणी मेरी कक्षा की छात्रा नहीं है।
- II. रोहिणी को सक्रिय होना चाहिए।

Ans

✗ 1. केवल निष्कर्ष II अनुसरण करता है।

✗ 2. दोनों निष्कर्ष I और II अनुसरण करते हैं।

✗ 3. न तो निष्कर्ष I और न ही निष्कर्ष II अनुसरण करता है।

✓ 4. केवल निष्कर्ष I अनुसरण करता है।

Question ID : 9895806242  
Chosen Option : 4

Q.4 दिए गए समीकरण को सही बनाने के लिए किन दो चिन्हों को आपस में अदल बदल करना होगा?

$$3 \div 2 - 4 \times 5 + 5 = 1$$

Ans

✗ 1.  $\times$  और  $-$

✓ 2.  $+$  और  $\div$

✗ 3.  $+$  और  $-$

✗ 4. ÷ और ×

Question ID : 9895806248  
Chosen Option : 2

Q.5 यदि A = 2 और D = 5, और SEA = 28, तब COUNTRY = \_\_\_\_\_.

- Ans
- ✗ 1. 132
  - ✓ 2. 123
  - ✗ 3. 112
  - ✗ 4. 121

Question ID : 9895806237  
Chosen Option : 2

Q.6 उस विकल्प का चयन करें जो सही रूप में रिक्त स्थान को भरे और श्रृंखला को पूरा करें।

5, 22, 39, 56, \_\_\_?

- Ans
- ✗ 1. 76
  - ✓ 2. 73
  - ✗ 3. 87
  - ✗ 4. 89

Question ID : 9895806244  
Chosen Option : 2

Q.7 चार संख्याएँ दी गई हैं जिनमें से तीन संख्याएँ किसी न किसी रूप में समान हैं, जबकि एक संख्या भिन्न है। असंगत संख्या चुनिए।

- Ans
- ✗ 1. 250
  - ✓ 2. 159
  - ✗ 3. 150
  - ✗ 4. 95

Question ID : 9895806247  
Chosen Option : 4

Q.8 निम्नलिखित में से असंगत की पहचान करें।

- Ans
- ✗ 1. uWy
  - ✓ 2. gHj
  - ✗ 3. dFh
  - ✗ 4. rTv

Question ID : 9895806233  
Chosen Option : 2

Q.9

उस विकल्प का चयन करें जो तीसरे शब्द से उसी तरह संबंधित है जिस प्रकार दूसरा शब्द पहले शब्द से संबंधित है।

कोण : रेडियन :: द्रव्यमान : \_\_\_\_\_.

- Ans
- 1. किलोग्राम
  - 2. लीटर
  - 3. ऊंचाई
  - 4. अंश (डिग्री)

Question ID : 9895806236  
Chosen Option : 2

Q.1 L, M, N और O ओ को एक पंक्ति में बैठाया जाना है। हालाँकि, लेकिन N और O एक साथ नहीं हो सकते। इसके अलावा, M, बाएं से तीसरे स्थान पर नहीं हो सकता। यदि L और M एक दूसरे के बगल में बैठे हैं। बैठने को बाएं से दाएं की ओर ध्यान में रखते हुए, फिर निम्नलिखित में से कौन सा सत्य होना चाहिए?

- Ans
- 1. L तीसरे स्थान पर है।
  - 2. O तीसरे स्थान पर है।
  - 3. N तीसरे स्थान पर है।
  - 4. N पहले स्थान पर है।

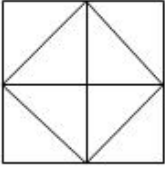
Question ID : 9895806241  
Chosen Option : 4

Q.1 उस विकल्प का चयन करें जिसमें दी गई आकृति अंतर्निहित है।



- Ans
- 1.
  - 2.
  - 3.

4.



Question ID : 9895806251  
Chosen Option : 3

Q.1 उस विकल्प का चयन करें जो सही रूप में रिक्त स्थान को भरे और श्रृंखला को पूरा करें।  
2

YCL, MQZ, \_\_\_\_\_, OSB

- Ans
- 1. BFQ
  - 2. BEM
  - 3. AEN
  - 4. ADM

Question ID : 9895806231  
Chosen Option : 3

Q.1 चार शब्द दिए गए हैं, जिनमें से तीन किसी तरह से समान हैं, जबकि एक अलग है। विषम शब्द चुनें।  
3

- Ans
- 1. पायल
  - 2. कंगन
  - 3. आभूषण
  - 4. हार

Question ID : 9895806232  
Chosen Option : 3

Q.1 एक निजी स्कूल में, पाँच शिक्षिकाएँ हैं। अंबी और गीता फ्रेंच और अंग्रेजी पढ़ाती हैं। हरिनी और गीता अंग्रेजी और विज्ञान पढ़ाती हैं। दिवा और अंबी गणित और फ्रेंच पढ़ाती हैं। हेमा और गीता सामाजिक विज्ञान और फ्रेंच पढ़ाती हैं। किस विषय को अधिकतम शिक्षिकाओं द्वारा पढ़ाया जाता है?  
4

- Ans
- 1. फ्रेंच
  - 2. गणित
  - 3. विज्ञान
  - 4. अंग्रेजी

Question ID : 9895806240  
Chosen Option : 4

Q.1 यदि CENTRAL को BFMUQBK के रूप में कूटबद्ध किया जाता है, तो FRIENDS को \_\_\_\_\_ के रूप में कूटबद्ध किया जाएगा।  
5

- Ans
- 1. ESHFNER
  - 2. ESHFMER
  - 3. ESHEMER

✗ 4. ESHENER

Question ID : 9895806238  
Chosen Option : 2

Q.1 उस विकल्प का चयन करें जो, दर्पण के लंबवत रूप से रखे जाने पर, दिए गए शब्द की दर्पण छवि से सर्वाधिक निकट प्रतीत होता है।

UNION

- Ans ✗ 1. IIOIII ∩  
✓ 2. IIOIIIU  
✗ 3. NOINU  
✗ 4. ∩ IIIIOII

Question ID : 9895806253  
Chosen Option : 4

Q.1 निम्नलिखित संख्या श्रृंखला में, दो संख्याओं को कोष्ठक के भीतर रखा गया है। श्रृंखला का ध्यानपूर्वक अध्ययन करें और श्रृंखला के संबंध में सही विकल्प का चयन करें।

0, 7, 26, 63, (124), 215, 342, (512)

Ans ✗ 1. कोष्ठक में रखी दोनों संख्याएँ गलत हैं।

✓ 2.

पहली कोष्ठक संख्या (बाएं से) सही है और दूसरी गलत है।

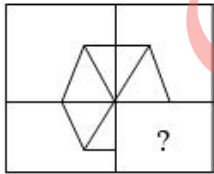
✗ 3. कोष्ठक में रखी दोनों संख्याएँ सही हैं।

✗ 4.

पहली कोष्ठक संख्या (बाएं से) गलत है और दूसरी सही है।

Question ID : 9895806249  
Chosen Option : 2

Q.1 निम्नलिखित पैटर्न को पूरा करने के लिए सही विकल्प का चयन करें।




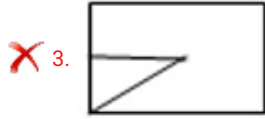
Ans

✗ 1.



✓ 2.





Question ID : 9895806252  
Chosen Option : 2

Q.1 शब्दों के चार युग्म दिए गए हैं जिनमें से तीन युग्म किसी न किसी प्रकार से समान हैं, जबकि एक युग्म भिन्न है। असंगत युग्म का चयन करें।

- Ans
- ✗ 1. डॉक्टर : स्टेथोस्कोप
  - ✗ 2. मूर्तिकार : छेनी
  - ✗ 3. बावर्ची : चाकू
  - ✓ 4. आरा : सुतार / बढ़ई

Question ID : 9895806234  
Chosen Option : 1

Q.2 दिए गए विकल्पों में से वह शब्द चुनें जो दिए गए शब्दों के समान हो और इसलिए उसी समूह से संबंधित हो।

लीरा, दीनार, रुपया

- Ans
- ✗ 1. लिस्बन
  - ✓ 2. रियाल
  - ✗ 3. कैरो
  - ✗ 4. ओस्लो

Question ID : 9895806235  
Chosen Option : 2

Q.2 उस विकल्प का चयन करें जो तीसरी संख्या से उसी तरह से संबंधित है जैसे दूसरी संख्या पहली संख्या से संबंधित है।

7 : 50 :: 13 : \_\_\_\_?

- Ans
- ✗ 1. 169
  - ✗ 2. 160
  - ✓ 3. 170
  - ✗ 4. 144

Question ID : 9895806246  
Chosen Option : 3

Q.2  
2

नीचे एक कथन दिया गया है, उसके बाद चार निष्कर्ष दिए गए हैं। कथन को ध्यान से पढ़ें और तय करें कि कौन सा निष्कर्ष दिए गए कथन का ताकिक रूप से अनुसरण करता है।

कथन:

यह किताब मदद कर सकती है क्योंकि सभी अच्छी किताबें मदद करती हैं।

निष्कर्ष:

- I. यह एक अच्छी किताब नहीं है।
- II. यह एक अच्छी किताब है।
- III. कोई अच्छी किताब मदद नहीं करती।
- IV. कुछ अच्छी किताबें मदद करती हैं।

Ans




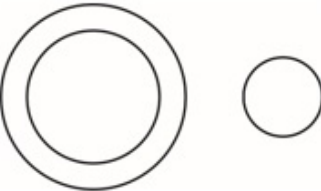
- ✓ 1. केवल निष्कर्ष II अनुसरण करता है।
- ✗ 2. सभी निष्कर्ष अनुसरण करते हैं।
- ✗ 3. दोनों निष्कर्ष III और IV अनुसरण करते हैं।
- ✗ 4. केवल निष्कर्ष I अनुसरण करता है।

Question ID : 9895806243  
Chosen Option : 1

Q.2  
3 उस वेन आरेख का चयन करें जो दिए गए वर्गों को सर्वोत्तम ढंग से दर्शाता है।

जानवर, सरीसृप, साँप

Ans

- ✗ 1. 
- ✓ 2. 
- ✗ 3. 
- ✗ 4. 

Question ID : 9895806255  
Chosen Option : 4

Q.2  
4



उस संख्या की पहचान करें जो निम्न श्रृंखला से संबंधित नहीं है।

1, 2, 5, 12, 20, 32, 45

- Ans
- 1. 12
  - 2. 32
  - 3. 45
  - 4. 20

Question ID : 9895806245  
Chosen Option : 2

Q.2 पांच मित्र, सभी केंद्र की ओर मुंह किए, एक वृत्ताकार मंडली में बैठे हैं। मोहन राजू के बाईं ओर है। विनीत अर्जुन के दायाँ ओर, अर्जुन और नवीन के बीच में बैठा है। राजू और नवीन के बीच कौन है?

- Ans
- 1. अर्जुन और विनीत
  - 2. मोहन
  - 3. विनीत
  - 4. अर्जुन

Question ID : 9895806239  
Chosen Option : 2

Q.2 ध्वनि के बारे में निम्नलिखित में से कौन सा कथन असत्य है?

- Ans
- 1. एक औसत मानव की श्रव्य सीमा 20 हर्ट्ज - 20 किलोहर्ट्ज है।
  - 2. ध्वनि एक अनुदैर्घ्य तरंग के रूप में आगे बढ़ती है।
  - 3. तापमान या माध्यम के निरपेक्ष ध्वनि की गति समान रहती है।
  - 4. ध्वनि निर्वात में आगे नहीं बढ़ सकती है।

Question ID : 9895806438  
Chosen Option : 4

Q.2 किस वर्ष में जारी अध्यादेश के माध्यम से भारत में बैंकों का राष्ट्रीयकरण किया गया था?

- Ans
- 1. 1976
  - 2. 1969
  - 3. 1954
  - 4. 1963

Question ID : 9895806447  
Chosen Option : 1

Q.2

8 निम्नलिखित में से कौन सी बीमारी बैक्टीरिया (जीवाणु) से होती है?

- Ans
- 1. चेचक
  - 2. क्षय
  - 3. रेबीज
  - 4. छोटी चेचक

Question ID : 9895806440  
Chosen Option : 2

Q.2  
9 पहला मुगल सम्राट बाबर कहाँ से भारत आया था?

- Ans
- 1. फ़ारस
  - 2. फ़रग़ाना
  - 3. यूनान
  - 4. सीरिया

Question ID : 9895806432  
Chosen Option : 3

Q.3  
0 भारत में राजकोषीय वर्ष किस के बीच माना जाता है?

- Ans
- 1. 1 अप्रैल - 31 मार्च
  - 2. 31 मार्च - 1 अप्रैल
  - 3. 1 जुलाई - 30 जून
  - 4. 1 जनवरी - 31 दिसंबर

Question ID : 9895806446  
Chosen Option : 1

Q.3  
1 पृथ्वी पर जीवन लगभग \_\_\_\_\_ साल पहले समुद्रों में शुरू हुआ था।

- Ans
- 1. 100 मिलियन
  - 2. 1 बिलियन
  - 3. 500 मिलियन
  - 4. 3.5 बिलियन

Question ID : 9895806436  
Chosen Option : 2

Q.3  
2 स्वतंत्र भारत का पहला केंद्रीय बजट किसने प्रस्तुत किया था?

- Ans
- 1. मौलाना आज़ाद

2. सी डी देशमुख  
 3. आर के शनमुखम चेटी  
 4. एन वी गाडगिल

Question ID : 9895806445  
Chosen Option : 2

Q.3  
3 'सेवासदन', 'कर्मभूमि' और 'गबन' किस हिंदी लेखक की श्रेष्ठ कृतियाँ हैं?

- Ans  1. प्रेमचंद  
 2. रामधारी सिंह 'दिनकर'  
 3. भीष्म साहनी  
 4. हरीशचंद्र

Question ID : 9895806450  
Chosen Option : 1

Q.3  
4 निम्नलिखित में से कौन एक एम्फीबियन (उभयचर) नहीं है?

- Ans  1. टोड  
 2. मेंढक  
 3. कछुआ  
 4. सैलामैंडर

Question ID : 9895806439  
Chosen Option : 4

Q.3  
5 निम्नलिखित में से कौन सा कथन लोकतंत्र के पक्ष में अच्छा तर्क नहीं है?

- Ans  1. लोकतंत्र लोगों के प्रति अधिक जवाबदेह है।  
 2. लोकतंत्र अन्य लोगों की तुलना में अधिक समृद्ध है।  
 3. लोकतंत्र में संघर्षों का बेहतर समाधान होता है।  
 4. लोकतंत्र में लोग स्वतंत्र और समान महसूस करते हैं।

Question ID : 9895806442  
Chosen Option : 3

Q.3  
6 भारत के संविधान में पंचवर्षीय योजनाओं की अवधारणा \_\_\_\_\_ से ली गई है।

- Ans  1. जर्मनी  
 2. संयुक्त राज्य अमेरिका

3. इंग्लैंड

4. रूस

Question ID : 9895806443  
Chosen Option : 1

Q.3  
7 यथा जनवरी 2019 को छत्तीसगढ़ के मुख्यमंत्री कौन हैं?

Ans  1. भूपेश बघेल

2. शिव दहरिया

3. कवासी लखमा

4. कमल नाथ

Question ID : 9895806448  
Chosen Option : 1

Q.3  
8 किस टीम ने रणजी ट्रॉफी अधिकतम बार जीती है?

Ans  1. विदर्भ

2. तमिलनाडु

3. मुंबई

4. सौराष्ट्र

Question ID : 9895806451  
Chosen Option : 2

Q.3  
9 'गिद्धा' किस राज्य की नृत्य शैली है?

Ans  1. ओडिशा

2. पंजाब

3. असम

4. पश्चिम बंगाल

Question ID : 9895806455  
Chosen Option : 1

Q.4  
0 ब्रह्मपुत्र नदी को तिब्बत में 'त्संगपो' कहा जाता है। इसे बांग्लादेश में क्या कहा जाता है?

Ans  1. कर्नाफुली

2. जमुना

3. मेघना

4. पद्मा

Question ID : 9895806435  
Chosen Option : 1

Q.4  
1 भारतीय राष्ट्रीय कांग्रेस की पहली भारतीय महिला अध्यक्ष कौन थी?

- Ans
- 1. सुचेता कृपलानी
  - 2. अरुणा असफ अली
  - 3. सरोजिनी नायडू
  - 4. विजया लक्ष्मी पंडित

Question ID : 9895806433  
Chosen Option : 1

Q.4  
2 'प्रति व्यक्ति' ग्रीष्म ओलंपिक पदक तालिका में कौन सा देश पहले स्थान पर है?

- Ans
- 1. फिनलैंड
  - 2. हंगरी
  - 3. जापान
  - 4. नीदरलैंड

Question ID : 9895806452  
Chosen Option : 3

Q.4  
3 'जैविक आवर्धन' के बारे में निम्नलिखित में से कौन सा कथन असत्य है?

- Ans
- 1. इसकी अधिकतम संकेंद्रण खाद्य शृंखला के निचले स्तर पर है।
  - 2. यह पारिस्थितिकी तंत्र के स्तर पर निर्भर कर बदलता है।
  - 3. रसायन पानी या मिट्टी से अवशोषण के माध्यम से खाद्य शृंखला में प्रवेश करते हैं।
  - 4. इसकी अधिकतम संकेंद्रण खाद्य शृंखला के शीर्ष स्तर पर है।

Question ID : 9895806437  
Chosen Option : 1

Q.4  
4 नालियों और मोरियों को साफ करने के लिए किस रसायन का व्यापक रूप से उपयोग किया जाता है?

- Ans
- 1. सोडियम हाइड्रॉक्साइड
  - 2. नाइट्रोजन हाइड्रॉक्साइड
  - 3. हाइड्रोजन पेरोक्साइड
  - 4. सोडियम क्लोराइड

Question ID : 9895806441  
Chosen Option : 4

Q.4  
5 भारतीय उपमहाद्वीप की सबसे पुरानी पर्वत श्रृंखला कौन सी है?

- Ans
- 1. अरावली
  - 2. हिमालय
  - 3. सतपुड़ा
  - 4. विंध्य

Question ID : 9895806434  
Chosen Option : 1

Q.4  
6 किसी गिरफ्तार व्यक्ति के मौलिक अधिकारों पर संविधान के अनुच्छेद 22 और आपराधिक कानून के संबंध में निम्नलिखित में से कौन सा कथन सही नहीं है?

- Ans
- 1. पुलिस हिरासत में दिए गए बयानों को आरोपी के खिलाफ सबूत के रूप में इस्तेमाल किया जा सकता है।
  - 2. गिरफ्तारी के 24 घंटे के भीतर मजिस्ट्रेट के सामने पेश किये जाने का अधिकार।
  - 3. 15 साल से कम उम्र के लड़के और महिलाओं को केवल पूछताछ के लिए पुलिस स्टेशन नहीं बुलाया जा सकता है।
  - 4. जिस अपराध के लिए व्यक्ति को गिरफ्तार किया जा रहा है, गिरफ्तारी के समय उस अपराध को सूचित किए जाने का

Question ID : 9895806444  
Chosen Option : 1

Q.4  
7 कौन सा राज्य वार्षिक सूरजकुंड शिल्प मेले की मेजबानी करता है?

- Ans
- 1. उत्तर प्रदेश
  - 2. हरियाणा
  - 3. राजस्थान
  - 4. पंजाब

Question ID : 9895806454  
Chosen Option : 2

Q.4  
8 चंद्रगुप्त मौर्य ने किसे पराजित कर के मौर्य साम्राज्य की स्थापना की थी?

- Ans
- 1. शुंगा
  - 2. पल्लव
  - 3. चालुक्य
  - 4. नंदा

Question ID : 9895806431

Q.4 2018 में घोषित दादा साहेब फाल्के पुरस्कार किसे प्रदान किया गया?

- Ans
- ✓ 1. स्वर्गीय विनोद खन्ना
  - ✗ 2. स्वर्गीय यश चोपड़ा
  - ✗ 3. स्वर्गीय शशि कपूर
  - ✗ 4. स्वर्गीय राजेश खन्ना

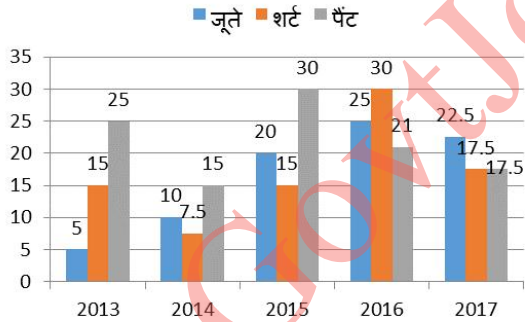
Question ID : 9895806449  
Chosen Option : 2

Q.5 विकटोरिया मेमोरियल कहाँ स्थित है?

- Ans
- ✗ 1. नई दिल्ली
  - ✗ 2. लाहौर
  - ✗ 3. मुंबई
  - ✓ 4. कोलकाता

Question ID : 9895806453  
Chosen Option : 4

Q.5 निम्नलिखित ग्राफ का अध्ययन कीजिए जो विभिन्न मर्दों के उत्पादन (हजारों में) को दर्शाता है, और प्रश्नों का उत्तर दीजिए।



वर्ष 2016 में कंपनी द्वारा उत्पादित जूते और शर्ट की कुल संख्या और वर्ष 2014 में कंपनी द्वारा उत्पादित पैंट की संख्या के बीच अंतर है:

- Ans
- ✗ 1. 32000
  - ✗ 2. 38000
  - ✗ 3. 35000
  - ✓ 4. 40000

Question ID : 9895806355  
Chosen Option : 2

Q.5 A और B यदि एक साथ काम करते हैं तो 30 दिनों में काम पूरा कर सकते हैं। उनकी काम करने की क्षमता का अनुपात 3 : 2 है। तेज व्यक्ति कितने दिनों में काम पूरा कर सकता है?

- Ans
- ✗ 1. 60

2. 30

3. 40

4. 50

Question ID : 9895806346

Chosen Option : 1

Q.5 यदि किसी मूलधन पर ब्याज 1 पैसे प्रति रुपये प्रति माह हो, तो प्रति वर्ष दर कितना प्रतिशत है?

Ans  1. 10%

2. 15%

3. 12%

4.  $10\frac{1}{2}\%$

Question ID : 9895806344

Chosen Option : 3

Q.5 आंकड़े 28, 31, 42, 37, 26, 34, 18, 23 का माध्यिका है:

Ans  1. 29.5

2. 30

3. 31.5

4. 28

Question ID : 9895806337

Chosen Option : 1

Q.5 सुरेश ₹ 120 में एक कलम  $33\frac{1}{3}\%$  के लाभ पर बेचता है। 40% का लाभ प्राप्त करने के लिए उसे किस मूल्य पर बेचा जाना चाहिए?

Ans  1. ₹ 140

2. ₹ 120

3. ₹ 160

4. ₹ 126

Question ID : 9895806340

Chosen Option : 4

Q.5 80 छात्रों की एक कक्षा में 60% छात्र अर्थशास्त्र में उत्तीर्ण हुए और केवल 20% इतिहास में उत्तीर्ण नहीं हुए। अधिकतम बच्चों की संख्या जो न तो अर्थशास्त्र में उत्तीर्ण हुए और ना ही इतिहास में उत्तीर्ण हुए:

Ans  1. 24

2. 16

3. 12

4. 20

Question ID : 9895806338

Chosen Option : 4



Q.5 सबसे छोटी संख्या ज्ञात क्या कीजिए जो 4, 8, 2, 6 और 12 से विभाज्य है?

- Ans
- 1. 24
  - 2. 36
  - 3. 48
  - 4. 144

Question ID : 9895806331  
Chosen Option : 4

Q.5 किसी अर्धवृत्त (मीटर में) का परिमाप उसके क्षेत्रफल (वर्ग मीटर में) के बराबर है। व्यास की लंबाई ज्ञात करें। ( $\pi = \frac{22}{7}$ )

- Ans
- 1.  $6 \frac{6}{11}$  मीटर
  - 2.  $3 \frac{3}{11}$  मीटर
  - 3.  $6 \frac{2}{11}$  मीटर
  - 4.  $5 \frac{6}{11}$  मीटर

Question ID : 9895806351  
Chosen Option : 4

Q.5 निम्नलिखित प्रश्न में प्रश्नवाचक चिन्ह (?) के स्थान पर कौन सा मान आना चाहिए?  
 $1 - [5 - \{2 + (-5 + 6 - 2)2\}] = ?$

- Ans
- 1. -2
  - 2. -4
  - 3. 0
  - 4. 2

Question ID : 9895806333  
Chosen Option : 2

Q.6 एक समवृत्ताकार शंकु के आधार का क्षेत्रफल  $\frac{1408}{7} \text{ cm}^2$  है और इसकी ऊंचाई 6 cm है।  $\pi = \frac{22}{7}$  मानकर, शंकु का वक्र सतह क्षेत्रफल कितना होगा?

- Ans
- 1.  $\frac{1760}{7} \text{ cm}^2$
  - 2.  $\frac{1670}{7} \text{ cm}^2$
  - 3.  $\frac{7160}{7} \text{ cm}^2$
  - 4.  $\frac{1067}{7} \text{ cm}^2$

Question ID : 9895806352

Q.6 एक शर्ट के अंकित मूल्य पर 30% की छूट मिलने से एक व्यक्ति एक टाई भी खरीद सकता है, जिसका क्रय मूल्य ₹ 210 है। व्यक्ति ने शर्ट के लिए कितना भुगतान किया?

- Ans
- 1. ₹ 700
  - 2. ₹ 490
  - 3. ₹ 540
  - 4. ₹ 690

Question ID : 9895806336

Chosen Option : 4

Q.6 120 बैग का क्रय मूल्य ₹ 15 प्रति बैग है। उनमें से 40 बैग को ₹ 18 प्रति बैग में बेचा गया। ₹ 4 प्रति बैग का समय लाभ प्राप्त करने के लिए शेष बैग को किस मूल्य पर बेचा जाना चाहिए?

- Ans
- 1. ₹ 20
  - 2. ₹ 16
  - 3. ₹ 19.5
  - 4. ₹ 22.5

Question ID : 9895806339

Chosen Option : 2

Q.6 एक पेन ड्राइव को 30% और 20% की दो क्रमिक छूट देने के बाद बेचा गया था। यदि वस्तु का विक्रय मूल्य ₹ 560 था। पेन ड्राइव का अंकित मूल्य क्या था?

- Ans
- 1. ₹ 1280
  - 2. ₹ 1140
  - 3. ₹ 1000
  - 4. ₹ 840

Question ID : 9895806343

Chosen Option : 4

Q.6 ₹ 2500 धनराशि पर 4% वार्षिक दर से 2 वर्षों का साधारण ब्याज तथा चक्रवृद्धि ब्याज का अंतर (₹ में) है:

- Ans
- 1. ₹ 4
  - 2. ₹ 40
  - 3. ₹ 45
  - 4. ₹ 14

Question ID : 9895806345

Chosen Option : 4

Q.6 एक किलोमीटर की दौड़ में A, B को 125 मीटर से हरा देता है यदि A की गति 16 मीटर / सेकंड है तो B की गति ज्ञात करें।

- Ans
- 1. 18 मीटर / सेकंड
  - 2. 7 मीटर / सेकंड

✓ 3. 14 मीटर / सेकंड

✗ 4. 21 मीटर / सेकंड

Question ID : 9895806349  
Chosen Option : 2

Q.6 यदि 12 पुरुष या 20 महिलाएं 54 दिनों में किसी काम को करते हैं, तो 9 पुरुष और 12 महिलाएं मिलकर कितने दिनों में उसी काम को करेंगे?

Ans ✗ 1. 32

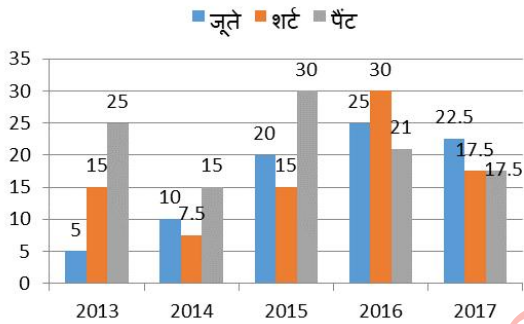
✓ 2. 40

✗ 3. 35

✗ 4. 38

Question ID : 9895806347  
Chosen Option : 2

Q.6 निम्नलिखित ग्राफ का अध्ययन कीजिए जो विभिन्न मर्दों के उत्पादन (हजारों में) को दर्शाता है, और प्रश्नों का उत्तर दीजिए।



कंपनी द्वारा वर्ष 2014 और 2016 में, तैयार सभी उत्पादों को मिलाकर उनकी कुल संख्या है:

Ans ✗ 1. 1075

✗ 2. 105700

✗ 3. 10750

✓ 4. 108500

Question ID : 9895806353  
Chosen Option : 4

Q.6 दो संख्याएँ  $a^2$  और 9 हैं। यदि उनका माध्य अनुपात  $b$  है तो  $(a^2 + b^2):(a^2 - b^2) = ?$

Ans ✗ 1. 3 : 2

✗ 2. 1 : 1

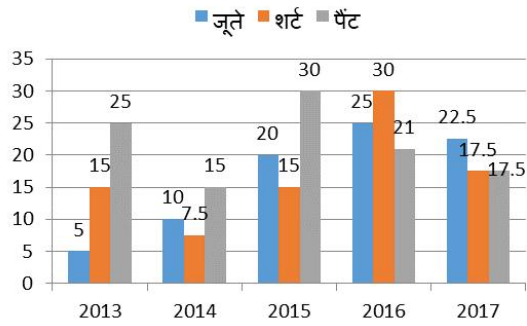
✗ 3. 3 : 4

✓ 4. 5 : 4

Question ID : 9895806342  
Chosen Option : 2

Q.6  
9

निम्नलिखित ग्राफ का अध्ययन कीजिए जो विभिन्न मर्दों के उत्पादन (हजारों में) को दर्शाता है, और प्रश्नों का उत्तर दीजिए।



क्रमशः वर्ष 2014, 2015 और 2016 में, कंपनी द्वारा तैयार पैंटोंकी संख्या के बीच अनुपात है:

- Ans
- 1. 5 : 10 : 7
  - 2. 3 : 4 : 6
  - 3. 3 : 4 : 5
  - 4. 1 : 2 : 3

Question ID : 9895806354  
Chosen Option : 1

Q.7 निम्नलिखित प्रश्न में प्रश्नवाचक चिन्ह (?) के स्थान पर कौन सा मान आना चाहिए?  
 $2 - [6 - \{3 + (-4 + 5 + 1) \times 8\} + 12] = ?$

- Ans
- 1. 2
  - 2. 1
  - 3. 3
  - 4. 4

Question ID : 9895806332  
Chosen Option : 2

Q.7 छह बच्चों के पास चॉकलेट की औसत संख्या छह है। यदि एक और बच्चा उनके साथ शामिल हो जाए तो सात बच्चों के पास चॉकलेट की औसत संख्या 7 हो जाती है। सातवें बच्चे के पास चॉकलेट की संख्या है:

- Ans
- 1. 12
  - 2. 13
  - 3. 14
  - 4. 11

Question ID : 9895806335  
Chosen Option : 4

Q.7 A ने सुबह 6:00 बजे उत्तर दिशा की ओर दौड़ना शुरू किया। B ने भी सुबह 10:00 बजे उत्तर दिशा की ओर दौड़ना शुरू किया। A और B की गति का अनुपात 3 : 7 है यदि दोनों एक साथ एक ही स्थान से दौड़ना शुरू करते हैं, तो वे किस समय मिलेंगे?

- Ans
- 1. दोपहर 2 बजे
  - 2. दोपहर 12:30 बजे
  - 3. दोपहर 1 बजे

✗ 4. दोपहर 1:30 बजे

Question ID : 9895806348  
Chosen Option : 2

Q.7 सात व्यक्तियों के पास 20, 30, 40, 50, 60, 70 और 80 चॉकलेट हैं। यदि उनमें से प्रत्येक को 5 अतिरिक्त  
3 चॉकलेट दी जाती हैं, तो अब उनके पास चॉकलेट की औसत संख्या क्या होगी?

- Ans
- ✗ 1. 50
  - ✗ 2. 60
  - ✓ 3. 55
  - ✗ 4. 45

Question ID : 9895806334  
Chosen Option : 2

Q.7 मीरा और शोला की वर्तमान आयु का अनुपात 9 : 5 है। 8 साल बाद शोला की आयु मीरा की वर्तमान आयु के बराबर  
4 हो जाएगी। शोला की वर्तमान आयु (वर्षों में) है:

- Ans
- ✓ 1. 10
  - ✗ 2. 9
  - ✗ 3. 18
  - ✗ 4. 5

Question ID : 9895806341  
Chosen Option : 2

Q.7 एक समबाहु त्रिभुज का क्षेत्रफल 173 सेमी<sup>2</sup> है तो समबाहु त्रिभुज का परिमाण है ( $\sqrt{3} = 1.73$ )  
5

- Ans
- ✓ 1. 60 सेमी
  - ✗ 2. 100 सेमी
  - ✗ 3. 40 सेमी
  - ✗ 4. 20 सेमी

Question ID : 9895806350  
Chosen Option : 2

Section : English Language

Q.1 Select the antonym of the given word.

Genuine

- Ans
- ✗ 1. False
  - ✗ 2. Frank
  - ✗ 3. Actual
  - ✓ 4. True

Question ID : 9895806119

Q.2 Select the most appropriate word to fill in the blank.

The Director has still not given his \_\_\_\_\_ to conduct the survey of natural resources.

- Ans
- 1. consent
  - 2. request
  - 3. compliance
  - 4. projection

Question ID : 9895806127

Chosen Option : --

Q.3 Select the most appropriate word to fill in the blank.

The government should provide attractive tax \_\_\_\_\_ for the salaried class.

- Ans
- 1. suggestions
  - 2. bids
  - 3. structures
  - 4. documents

Question ID : 9895806126

Chosen Option : --

Q.4 Select the most appropriate option to substitute the underlined segment in the given sentence. If there is no need to substitute it, select No improvement.

The City Development Council resolved at a recent meeting to take steps to controlling pollution immediately.

- Ans
- 1. to take steps for control pollution immediately
  - 2. to take steps to control pollution immediately
  - 3. to take steps of control pollution immediately
  - 4. No improvement

Question ID : 9895806107

Chosen Option : --

Q.5 From the given options, identify the segment in the sentence which contains the grammatical error.

The person at the counter when filling up my details asked me how many languages did I know.

- Ans
- 1. how many languages
  - 2. did I know
  - 3. at the counter
  - 4. filling up my details

Question ID : 9895806102

Chosen Option : --

Q.6 From the given options, identify the segment in the sentence which contains the grammatical error.

Soon I was informed by reliable sources that their parents had no any responsibilities towards the family.

- Ans
- 1. towards the family
  - 2. Soon I was informed
  - 3. no any responsibilities
  - 4. by reliable sources

Question ID : 9895806104  
Chosen Option : --

Q.7 Select the most appropriate option to fill in the blank.

Macbeth is the tragedy of a man who was \_\_\_\_\_ with great qualities.

- Ans
- 1. empowered
  - 2. advantaged
  - 3. conferred
  - 4. endowed

Question ID : 9895806108  
Chosen Option : --

Q.8 Select the option that means the same as the given idiom.

To read between the lines

- Ans
- 1. To understand more than actual words
  - 2. To look for the meaning of every word
  - 3. To understand the dictionary meanings
  - 4. To ask someone to read every line

Question ID : 9895806120  
Chosen Option : --

Q.9 Select the most appropriate option to fill in the blank.

All the respondents should express their \_\_\_\_\_ views in this questionnaire.

- Ans
- 1. candid
  - 2. contrary
  - 3. confident
  - 4. convincing

Question ID : 9895806109  
Chosen Option : --

Q.1  
0

Select the synonym of the given word.

CONFLUENCE

- Ans
- 1. Stream
  - 2. Flow
  - 3. Junction
  - 4. Diversion

Question ID : 9895806117  
Chosen Option : --

Q.1  
1 Select the correctly spelt word.

- Ans
- 1. Scissars
  - 2. Sissors
  - 3. Scissors
  - 4. Scissors

Question ID : 9895806124  
Chosen Option : --

Q.1  
2 Select the option that means the same as the given idiom.

To split hairs

- Ans
- 1. To stop the argument in between
  - 2. To engage in discussing irrelevant details
  - 3. To occupy one's time in dressing
  - 4. To get angry about someone's fashion

Question ID : 9895806121  
Chosen Option : --

Q.1  
3 From the given options, identify the segment in the sentence which contains the grammatical error.

When questioned about their laziness, almost all the boys gave the same excuse, 'We all are tired.'

- Ans
- 1. When questioned
  - 2. 'We all are tired.'
  - 3. about their laziness
  - 4. almost all the boys

Question ID : 9895806103  
Chosen Option : --

Q.1  
4 Select the word which means the same as the group of words given.

A short stay at a place



- Ans
- 1. Lodge
  - 2. Voyage
  - 3. Sojourn
  - 4. Trip

Question ID : 9895806123  
Chosen Option : --

Q.1  
5 Select the synonym of the given word.

PSEUDONYM

- Ans
- 1. Namesake
  - 2. Alias
  - 3. First name
  - 4. Family name

Question ID : 9895806116  
Chosen Option : --

Q.1  
6 Select the most appropriate option to substitute the underlined segment in the given sentence. If there is no need to substitute it, select No improvement.

Even if you did not know where I was, you can always have telephoned me to ask.

- Ans
- 1. No improvement
  - 2. you will always have telephoned me
  - 3. you could always have telephoned me
  - 4. you should always have telephoned me

Question ID : 9895806106  
Chosen Option : --

Q.1  
7 Select the most appropriate option to substitute the underlined segment in the given sentence. If there is no need to substitute it, select No improvement.

In spite of his illness, the man run a few yards before withdrawing from the race.

- Ans
- 1. ran a few yards before withdrawing from
  - 2. running a few yards before withdrawing from
  - 3. ran a few yards before withdrew from
  - 4. No improvement

Question ID : 9895806105  
Chosen Option : --

Q.1  
8 Select the word which means the same as the group of words given.

Organisms that live on another

- Ans
- 1. Microbes
  - 2. Parasites
  - 3. Bacteria
  - 4. Viruses

Question ID : 9895806122  
Chosen Option : --

Q.1  
9 Select the correctly spelt word.

- Ans
- 1. Alterashion
  - 2. Alteration
  - 3. Allteration
  - 4. Altaration

Question ID : 9895806125  
Chosen Option : --

Q.2  
0 Select the antonym of the given word.

Interruption

- Ans
- 1. Hinderance
  - 2. Temporary
  - 3. Continuity
  - 4. Disruption

Question ID : 9895806118  
Chosen Option : --

Comprehension:

In the following passage some words have been deleted. Fill in the blanks with the help of the alternatives given.

Women have \_\_\_\_\_ (1) been held in high esteem in our country. During the Vedic period they \_\_\_\_\_ (2) important positions in social and religious \_\_\_\_\_ (3) Without women, religious ceremonies were \_\_\_\_\_ (4) incomplete. Our mythological and philosophical writings bear witness to the fact that the tradition of having high regard for women was long \_\_\_\_\_ (5)

SubQuestion No : 21

Q.2  
1 Select the most appropriate option that will fill in the blank number 1.

- Ans
- 1. seldom
  - 2. always
  - 3. never

4. hardly

Question ID : 9895806111  
Chosen Option : --

**Comprehension:**

In the following passage some words have been deleted. Fill in the blanks with the help of the alternatives given.

Women have \_\_\_\_\_ (1) been held in high esteem in our country. During the Vedic period they \_\_\_\_\_ (2) important positions in social and religious \_\_\_\_\_ (3) Without women, religious ceremonies were \_\_\_\_\_ (4) incomplete. Our mythological and philosophical writings bear witness to the fact that the tradition of having high regard for women was long \_\_\_\_\_ (5)

SubQuestion No : 22

Q.2  
2 Select the most appropriate option that will fill in the blank number 2.

- Ans
- 1. demanded
  - 2. offered
  - 3. developed
  - 4. occupied

Question ID : 9895806112  
Chosen Option : --

**Comprehension:**

In the following passage some words have been deleted. Fill in the blanks with the help of the alternatives given.

Women have \_\_\_\_\_ (1) been held in high esteem in our country. During the Vedic period they \_\_\_\_\_ (2) important positions in social and religious \_\_\_\_\_ (3) Without women, religious ceremonies were \_\_\_\_\_ (4) incomplete. Our mythological and philosophical writings bear witness to the fact that the tradition of having high regard for women was long \_\_\_\_\_ (5)

SubQuestion No : 23

Q.2  
3 Select the most appropriate option that will fill in the blank number 3.

- Ans
- 1. literature
  - 2. thoughts
  - 3. life
  - 4. books

Question ID : 9895806113  
Chosen Option : --

Comprehension:

In the following passage some words have been deleted. Fill in the blanks with the help of the alternatives given.

Women have \_\_\_\_\_ (1) been held in high esteem in our country. During the Vedic period they \_\_\_\_\_ (2) important positions in social and religious \_\_\_\_\_ (3) Without women, religious ceremonies were \_\_\_\_\_ (4) incomplete. Our mythological and philosophical writings bear witness to the fact that the tradition of having high regard for women was long \_\_\_\_\_ (5)

SubQuestion No : 24

Q.2  
4 Select the most appropriate option that will fill in the blank number 4.

- Ans
- 1. believed
  - 2. accepted
  - 3. performed
  - 4. considered

Question ID : 9895806114  
Chosen Option : --

Comprehension:

In the following passage some words have been deleted. Fill in the blanks with the help of the alternatives given.

Women have \_\_\_\_\_ (1) been held in high esteem in our country. During the Vedic period they \_\_\_\_\_ (2) important positions in social and religious \_\_\_\_\_ (3) Without women, religious ceremonies were \_\_\_\_\_ (4) incomplete. Our mythological and philosophical writings bear witness to the fact that the tradition of having high regard for women was long \_\_\_\_\_ (5)

SubQuestion No : 25

Q.2  
5 Select the most appropriate option that will fill in the blank number 5.

- Ans
- 1. maintained
  - 2. discontinued
  - 3. valued
  - 4. awaited

Question ID : 9895806115  
Chosen Option : --

Section : Hindi Language

Comprehension:

निम्नलिखित गद्यांश के रिक्त स्थानों की पूर्ति गद्यांश के नीचे दिए गए प्रश्नों के अनुसार कीजिए -

प्रसन्न रहना ईश्वर की सर्वोपरि भक्ति है। प्रसन्नता मानव को ईश्वर का दिया हुआ अनुपम उपहार है। आज के व्यक्ति को प्रसन्नता व मानसिक शांति की इसलिए \_\_\_\_\_ (1) है क्योंकि अधिकांश मनुष्य अपने जीवन से \_\_\_\_\_ (2) है। खुश रहना सरल नहीं है। व्यर्थ ही भविष्य की \_\_\_\_\_ (3) बनाते रहना और अतीत की अप्रिय घटनाओं में खोए रहना प्रसन्नता प्राप्ति में \_\_\_\_\_ (4) है। प्रसन्न रहकर हम \_\_\_\_\_ (5) के कृपा पात्र बन सकते हैं।

SubQuestion No : 1

Q.1 गद्यांश में संकेतित रिक्त स्थान (1) के लिए उपयुक्त शब्द होगा।

- Ans
- 1. तृष्णा
  - 2. क्षुधा
  - 3. वासना
  - 4. आवश्यकता

Question ID : 9895805905  
Chosen Option : 4

Comprehension:

निम्नलिखित गद्यांश के रिक्त स्थानों की पूर्ति गद्यांश के नीचे दिए गए प्रश्नों के अनुसार कीजिए -

प्रसन्न रहना ईश्वर की सर्वोपरि भक्ति है। प्रसन्नता मानव को ईश्वर का दिया हुआ अनुपम उपहार है। आज के व्यक्ति को प्रसन्नता व मानसिक शांति की इसलिए \_\_\_\_\_ (1) है क्योंकि अधिकांश मनुष्य अपने जीवन से \_\_\_\_\_ (2) है। खुश रहना सरल नहीं है। व्यर्थ ही भविष्य की \_\_\_\_\_ (3) बनाते रहना और अतीत की अप्रिय घटनाओं में खोए रहना प्रसन्नता प्राप्ति में \_\_\_\_\_ (4) है। प्रसन्न रहकर हम \_\_\_\_\_ (5) के कृपा पात्र बन सकते हैं।

SubQuestion No : 2

Q.2 गद्यांश में संकेतित रिक्त स्थान (2) के लिए उपयुक्त शब्द होगा।

- Ans
- 1. मित्रता
  - 2. प्रशंसा

3. सहायता

4. अप्रसन्न

Question ID : 9895805906  
Chosen Option : 4

Comprehension:

निम्नलिखित गद्यांश के रिक्त स्थानों की पूर्ति गद्यांश के नीचे दिए गए प्रश्नों के अनुसार कीजिए -

प्रसन्न रहना ईश्वर की सर्वोपरि भक्ति है। प्रसन्नता मानव को ईश्वर का दिया हुआ अनुपम उपहार है। आज के व्यक्ति को प्रसन्नता व मानसिक शांति की इसलिए \_\_\_\_\_ (1) है क्योंकि अधिकांश मनुष्य अपने जीवन से \_\_\_\_\_ (2) है। खुश रहना सरल नहीं है। व्यर्थ ही भविष्य की \_\_\_\_\_ (3) बनाते रहना और अतीत की अप्रिय घटनाओं में खोए रहना प्रसन्नता प्राप्ति में \_\_\_\_\_ (4) है। प्रसन्न रहकर हम \_\_\_\_\_ (5) के कृपा पात्र बन सकते हैं।

SubQuestion No : 3

Q.3 गद्यांश में संकेतित रिक्त स्थान (3) के लिए उपयुक्त शब्द होगा।

- Ans
- 1. कपड़े
  - 2. योजनाएँ
  - 3. पकवान
  - 4. लेख

Question ID : 9895805907  
Chosen Option : 2

Comprehension:

निम्नलिखित गद्यांश के रिक्त स्थानों की पूर्ति गद्यांश के नीचे दिए गए प्रश्नों के अनुसार कीजिए -

प्रसन्न रहना ईश्वर की सर्वोपरि भक्ति है। प्रसन्नता मानव को ईश्वर का दिया हुआ अनुपम उपहार है। आज के व्यक्ति को प्रसन्नता व मानसिक शांति की इसलिए \_\_\_\_\_ (1) है क्योंकि अधिकांश मनुष्य अपने जीवन से \_\_\_\_\_ (2) है। खुश रहना सरल नहीं है। व्यर्थ ही भविष्य की \_\_\_\_\_ (3) बनाते रहना और अतीत की अप्रिय घटनाओं में खोए रहना प्रसन्नता प्राप्ति में \_\_\_\_\_ (4) है। प्रसन्न रहकर हम \_\_\_\_\_ (5) के कृपा पात्र बन सकते हैं।

SubQuestion No : 4

Q.4 गद्यांश में संकेतित रिक्त स्थान (4) के लिए उपयुक्त शब्द होगा।

- Ans
- 1. पीछे
  - 2. ऊपर
  - 3. आगे
  - 4. बाधक

Question ID : 9895805908  
Chosen Option : 4

Comprehension:

निम्नलिखित गद्यांश के रिक्त स्थानों की पूर्ति गद्यांश के नीचे दिए गए प्रश्नों के अनुसार कीजिए -

प्रसन्न रहना ईश्वर की सर्वोपरि भक्ति है। प्रसन्नता मानव को ईश्वर का दिया हुआ अनुपम उपहार है। आज के व्यक्ति को प्रसन्नता व मानसिक शांति की इसलिए \_\_\_\_\_ (1) है क्योंकि अधिकांश मनुष्य अपने जीवन से \_\_\_\_\_ (2) है। खुश रहना सरल नहीं है। व्यर्थ ही भविष्य की \_\_\_\_\_ (3) बनाते रहना और अतीत की अप्रिय घटनाओं में खोए रहना प्रसन्नता प्राप्ति में \_\_\_\_\_ (4) है। प्रसन्न रहकर हम \_\_\_\_\_ (5) के कृपा पात्र बन सकते हैं।

SubQuestion No : 5

Q.5 गद्यांश में संकेतित रिक्त स्थान (5) के लिए उपयुक्त शब्द होगा।

- Ans
- 1. प्रधानमंत्री
  - 2. ईश्वर
  - 3. सहायक
  - 4. मंत्री

Question ID : 9895805909  
Chosen Option : 2

Q.6 दिए गए वाक्य का वह भाग ज्ञात करें जिसमें कोई त्रुटि है।

जिम्मेदार नागरिक होने के नाते मालिक को नौकर के बच्चे के पढ़ाना चाहिए।

- Ans
- 1. मालिक को नौकर के
  - 2. होने के नाते

✗ 3. जिम्मेदार नागरिक

✓ 4. बच्चे के पढ़ाना चाहिए।

Question ID : 9895805894

Chosen Option : 4

Q.7 रिक्त स्थान को भरने के लिए उपयुक्त शब्द का चयन करें।

स्वतंत्रता दिवस पर देशभक्ति के गीत \_\_\_\_\_।

Ans ✗ 1. नाचे

✗ 2. सजे

✓ 3. गूँजे

✗ 4. बोले

Question ID : 9895805902

Chosen Option : 3

Q.8 रिक्त स्थान को भरने के लिए उपयुक्त शब्द का चयन करें।

मुझे तुम पर \_\_\_\_\_ नहीं है।

Ans ✗ 1. पूजा

✗ 2. प्रेम

✓ 3. विश्वास

✗ 4. घृणा

Question ID : 9895805903

Chosen Option : 3

Q.9 दिये गये वाक्यांश के लिए एक शब्द दीजिये।

जो उपकार को न मानता हो

Ans ✗ 1. कृतज्ञ

✓ 2. कृतघ्न

✗ 3. कर्मठ

✗ 4. कर्मज्ञ

Question ID : 9895805917

Chosen Option : 2



Q.1  
0 निम्नलिखित में से उस विकल्प का चयन करें जो 'चिकना घड़ा' मुहावरे का अर्थ व्यक्त करता है।

- Ans
- 1. मजबूत घड़ा
  - 2. निर्लज्ज व्यक्ति
  - 3. घड़ा चिकना करके पानी भरना
  - 4. घड़े का चिकना होना

Question ID : 9895805915  
Chosen Option : 2

Q.1  
1 दिये गये वाक्यांश के लिए एक शब्द दीजिये।

जो अच्छे कुल में उत्पन्न हुआ हो

- Ans
- 1. शालीन
  - 2. कुलीन
  - 3. तल्लीन
  - 4. मलीन

Question ID : 9895805916  
Chosen Option : 2

Q.1  
2 दिए गए वाक्य का वह भाग ज्ञात करें जिसमें कोई त्रुटि है।

समाचार पत्र समाचार का भंडार तो हैं ही, इसके साथ इसके एक उपयोग और भी है।

- Ans
- 1. समाचार का भंडार तो हैं ही,
  - 2. इसके साथ
  - 3. समाचार पत्र
  - 4. इसके एक उपयोग और भी है।

Question ID : 9895805895  
Chosen Option : 2

Q.1  
3 दिए गए शब्द के पर्यायवाची शब्द का चयन करें।

आत्मज

- Ans
- 1. पत्नी
  - 2. पुत्र
  - 3. पुत्री

✗ 4. पिता

Question ID : 9895805912  
Chosen Option : 3

Q.1  
4 दिए गए वाक्य का वह भाग ज्ञात करें जिसमें कोई त्रुटि है।

सभ्यता के विकास के साथ ही चिंताजनक अवस्था उत्पन्न होता जा रही है।

- Ans
- ✗ 1. सभ्यता के विकास
  - ✗ 2. के साथ ही
  - ✓ 3. उत्पन्न होता जा रही है।
  - ✗ 4. चिंताजनक अवस्था

Question ID : 9895805896  
Chosen Option : 3

Q.1  
5 सही वर्तनी वाले शब्द का चयन करें।

- Ans
- ✓ 1. रसोइया
  - ✗ 2. रसेइया
  - ✗ 3. रसौईया
  - ✗ 4. रसोईया

Question ID : 9895805919  
Chosen Option : 4

Q.1  
6 सही वर्तनी वाले शब्द का चयन करें।

- Ans
- ✓ 1. रोहिणी
  - ✗ 2. रौहिणी
  - ✗ 3. रोहिणि
  - ✗ 4. रोहीणी

Question ID : 9895805918  
Chosen Option : 1

Q.1  
7 दिए गए वाक्य में रेखांकित खंड को प्रतिस्थापित करने के लिए उपयुक्त विकल्प का चयन करें।

रोगी के आस-पास हमें भीड़ नहीं लगाना चाहिए।

- Ans
- ✗ 1. भीड़ लगानी मत चाहिए।
  - ✗ 2. भीड़ मत लगानी चाहिए।

✗ 3. भीड़ नहीं लगाने चाहिए।

✓ 4. भीड़ नहीं लगानी चाहिए।

Question ID : 9895805899  
Chosen Option : 4

Q.1  
8 दिए गए शब्द का विलोम चुनें।

नित्य

Ans ✗ 1. वार

✗ 2. रोज

✗ 3. वासर

✓ 4. अनित्य

Question ID : 9895805911  
Chosen Option : 4

Q.1  
9 रिक्त स्थान को भरने के लिए उपयुक्त शब्द का चयन करें।

उसे चोट लगने पर खून \_\_\_\_\_ लगा।

Ans ✗ 1. चलने

✗ 2. जाने

✗ 3. भागने

✓ 4. बहने

Question ID : 9895805901  
Chosen Option : 4

Q.2  
0 दिए गए शब्द का विलोम चुनें।

सुधा

Ans ✗ 1. रस

✗ 2. जल

✗ 3. अमृत

✓ 4. गरल

Question ID : 9895805910  
Chosen Option : 2

Q.2  
1 निम्नलिखित में से उस विकल्प का चयन करें जो 'दाल में कुछ काला होना' मुहावरे का अर्थ व्यक्त करता है।

Ans ✓ 1. आशंका/संदेह होना

- 2. दाल में कुछ गिर जाना
- 3. दाल का काला होना
- 4. सत्यता प्रमाणित होना

Question ID : 9895805914  
Chosen Option : 1

Q.2  
2 दिए गए शब्द के पर्यायवाची शब्द का चयन करें।

रावण

- Ans
- 1. दशानन
  - 2. पंचानन
  - 3. पीतांबर
  - 4. चतुरानन

Question ID : 9895805913  
Chosen Option : 1

Q.2  
3 दिए गए वाक्य में रेखांकित खंड को प्रतिस्थापित करने के लिए उपयुक्त विकल्प का चयन करें।

एकता और संगठन का भावना जागृत करने के लिए उन्होंने अनेक प्रयास किए।

- Ans
- 1. संगठन को भावना
  - 2. संगठन की भावना
  - 3. संगठन पर भावना
  - 4. संगठन से भावना

Question ID : 9895805897  
Chosen Option : 2

Q.2  
4 रिक्त स्थान को भरने के लिए उपयुक्त शब्द का चयन करें।

वह कक्षा की \_\_\_\_\_ जा रहा है।

- Ans
- 1. ओर
  - 2. उत्तर
  - 3. दिशा
  - 4. और

Question ID : 9895805900  
Chosen Option : 1

Q.2  
5 दिए गए वाक्य में रेखांकित खंड को प्रतिस्थापित करने के लिए उपयुक्त विकल्प का चयन करें।

अपनी गलतियों को समझते हुए भी वह उसे सुधारते का प्रयास नहीं करता।

Ans

- 1. सुधरने का प्रयास
- 2. सुधराने का प्रयास
- 3. सुधारने की प्रयास
- 4. सुधारने का प्रयास

Question ID : 9895805898  
Chosen Option : 4

GovtJobsAlert.In