

## Constable (GD) in CAPFs, NIA, SSF and Rifleman (GD) in Assam Rifles Examination, 2018

Roll No. :	GovtJobsAlert.In
Registration No.	GovtJobsAlert.In
Name :	GovtJobsAlert.In
Exam Venue :	Metro Info Solutions
Exam Time :	9:00 AM - 10:30 AM
Exam Date :	22/02/2019

Section : General Section

Q.1 उस विकल्प का चयन करें जो तीसरी संख्या से उसी तरह से संबंधित है जैसे दूसरी संख्या पहली संख्या से संबंधित है।

12 : 134 :: 16 : \_\_\_\_?

- Ans
- 1. 264
  - 2. 256
  - 3. 246
  - 4. 265

Question ID : 9895806271  
Chosen Option : 3

Q.2 निम्नलिखित समीकरण को सही करने के लिए आपस में अदला बदली करना जरूरी दो चिन्ह ज्ञात करें।

$15 + 3 \times 7 - 11 \div 3 = 27$

- Ans
- 1. + और ×
  - 2. + और ÷
  - 3. - और ÷
  - 4. + और -

Question ID : 9895806273  
Chosen Option : 3

Q.3 उस विकल्प का चयन करें जो सही रूप में रिक्त स्थान को भरे और श्रृंखला को पूरा करें।

aB, cDE, fGHI, jKLMN, \_\_\_\_\_.

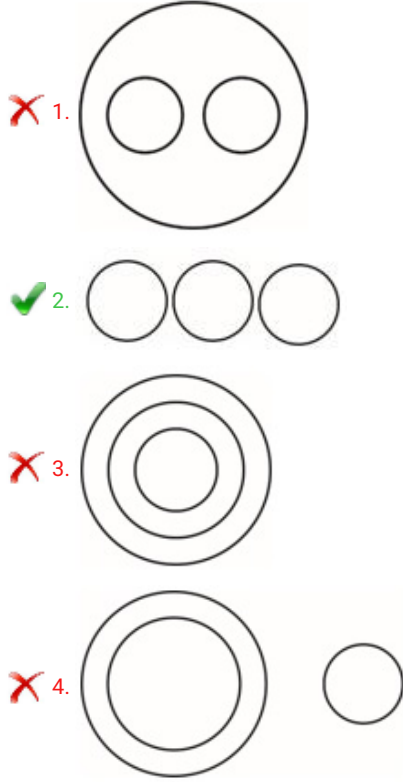
- Ans
- 1. pQRST
  - 2. oPQRST
  - 3. pQRSTU
  - 4. oPQRS

Question ID : 9895806256  
Chosen Option : 2

Q.4 उस वेन आरेख का चयन करें जो दिए गए वर्गों को सर्वोत्तम ढंग से दर्शाता है।

फुटबॉल, वॉलीबॉल, बास्केटबॉल

Ans



Question ID : 9895806280  
Chosen Option : 2

Q.5 नीचे दिए गए कथनों के बाद दो निष्कर्ष I और II दिए गए हैं। यह मानते हुए कि कथनों में दी गई जानकारी सत्य है, भले ही वह सर्वज्ञात तथ्यों से भिन्न प्रतीत होती हो और यह निर्णय करें कि कौन सा / से निष्कर्ष तार्किक और निश्चित रूप से कथन में दी गई जानकारी का अनुसरण करता है / करते हैं।

कथन:

- 1) सभी सेब आम हैं।
- 2) कोई भी आम सस्ता नहीं है।

निष्कर्ष:

- I. सभी आम सेब हैं।
- II. कोई भी सेब सस्ता नहीं है।

Ans

1. केवल निष्कर्ष I अनुसरण करता है।
2. दोनों निष्कर्ष I और II अनुसरण करते हैं।
3. केवल निष्कर्ष II अनुसरण करता है।
4. न तो निष्कर्ष I और न ही निष्कर्ष II अनुसरण करता है।

Question ID : 9895806267  
Chosen Option : 2

Q.6 एक पुस्तकालय में केवल एक शब्दकोश है, जिसका उपयोग 6 छात्र P, Q, R, S, T और U, एक-एक करके करेंगे। S, Q के बाद तुरंत उपयोग करेगा और P, T, R के तुरंत बाद और U से पहले उपयोग करेगा। U, Q के बाद शब्दकोश का उपयोग करेगा। पहले शब्दकोश का उपयोग कौन करेगा?

- Ans
- 1. R
  - 2. Q
  - 3. P
  - 4. S

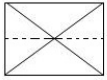
Question ID : 9895806264  
Chosen Option : 2

Q.7 निम्नलिखित में से असंगत की पहचान करें।

- Ans
- 1. DW
  - 2. AT
  - 3. BV
  - 4. GZ

Question ID : 9895806258  
Chosen Option : 1

Q.8 एक पैटर्न के साथ एक चौकोर पारदर्शी शीट दी गई है। बिंदीदार रेखा के साथ पारदर्शी शीट को मोड़ने पर पैटर्न कैसे दिखाई देगा?

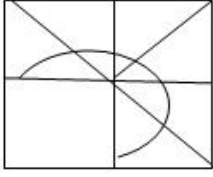


- Ans
- 1.
  - 2.
  - 3.
  - 4.

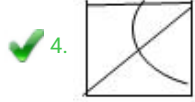
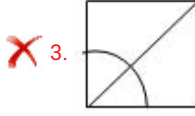
Question ID : 9895806279  
Chosen Option : 1

Q.9

निम्नलिखित पैटर्न को पूरा करने के लिए सही विकल्प का चयन करें।



Ans



Question ID : 9895806277

Chosen Option : 4

Q.1 यदि  $G = 7$  और  $J = 10$ , और  $PEN = 35$ , तब  $VEHICLE =$  \_\_\_\_\_.

Ans

1. 73

2. 65

3. 71

4. 64

Question ID : 9895806262

Chosen Option : 4

Q.1 एक बेंच पर चार छात्र बैठे हैं। बरथ, गुहान के बगल में बैठा है लेकिन राजेश के बगल में नहीं। यदि राजेश नरेन के बगल में नहीं बैठा है, तो नरेन से सटे सीटों पर कौन है?

Ans

1. गुहान

2. राजेश

3. बरथ

4. बरथ और गुहान

Question ID : 9895806265

Chosen Option : 4

Q.1 चार शब्द दिए गए हैं, जिनमें से तीन किसी तरह से समान हैं, जबकि एक अलग है। विषम शब्द चुनें।

Ans

1. अलग करना

2. भेद करना

3. समान

4. विभिन्न

Question ID : 9895806257  
Chosen Option : 3

Q.1 निम्नलिखित संख्या श्रृंखला में, दो संख्याओं को कोष्ठक के भीतर रखा गया है। श्रृंखला का ध्यानपूर्वक अध्ययन करें  
3 और श्रृंखला के संबंध में सही विकल्प का चयन करें।

1, 11, 31, 61, (101), 151, 211, (281), 361

Ans  1.

पहली कोष्ठक संख्या (बाएं से) गलत है और दूसरी सही है।

2. कोष्ठक में रखी गई दोनों संख्याएँ सही हैं।

3.

पहली कोष्ठक संख्या (बाएं से) सही है और दूसरी गलत है।

4. कोष्ठक में रखी गई दोनों संख्याएँ गलत हैं।

Question ID : 9895806274  
Chosen Option : 3

Q.1 यदि CRICKET को IRCCTEK के रूप में कूटबद्ध किया जाता है, तो PLAYERS को \_\_\_\_\_ के रूप में  
4 कूटबद्ध किया जाएगा?

Ans  1. ALPYSRE

2. ALPYSER

3. SREYALP

4. ALPYERS

Question ID : 9895806263  
Chosen Option : 1

Q.1 उस विकल्प का चयन करें जो, दर्पण के लंबवत रूप से रखे जाने पर, दिए गए शब्द की दर्पण छवि से सर्वाधिक  
5 निकट प्रतीत होता है।

FIGMENT

Ans  1. TNEMGIF

2. TNEMGIF

3. TNEWGIF

4. TNEMGIF

Question ID : 9895806278  
Chosen Option : 2

Q.1 नंबर-जोड़ी की पहचान करें जो बाकी सब से अलग है।  
6

- Ans
- 1. 45 - 54
  - 2. 39 - 93
  - 3. 79 - 97
  - 4. 91 - 99

Question ID : 9895806272  
Chosen Option : 4

Q.1  
7 उस संख्या का चयन करें जो निम्न समूह से संबंधित नहीं है।

5, 9, 17, 33, 66, 129, 257

- Ans
- 1. 17
  - 2. 66
  - 3. 257
  - 4. 129

Question ID : 9895806270  
Chosen Option : 2

Q.1  
8 दिए गए कथनों और निष्कर्षों को ध्यानपूर्वक पढ़ें और तय करें कि कथनों में से कौन सा निष्कर्ष तार्किक रूप से अनुसरण करता है।

कथन:

एक अधिकारी श्री X, पर, दूसरे लोगों के एक समूह के साथ सॉफ्टवेयर कंपनी Z में भ्रष्टाचार के मामलों में शामिल होने का आरोप है।

निष्कर्ष:

- I. श्री X सॉफ्टवेयर कंपनी Z का एक भ्रष्ट अधिकारी हो सकते हैं।
- II. श्री X सॉफ्टवेयर कंपनी Z में भ्रष्टाचार के मामलों में शामिल नहीं भी हो सकते हैं।

- Ans
- 1. या निष्कर्ष I या II अनुसरण करते हैं।
  - 2. केवल निष्कर्ष II अनुसरण करता है।
  - 3. दोनों निष्कर्ष I और II अनुसरण करते हैं।
  - 4. केवल निष्कर्ष I अनुसरण करता है।

Question ID : 9895806268  
Chosen Option : 3

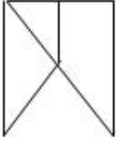
Q.1  
9 उस विकल्प का चयन करें जिसमें दी गई आकृति अंतर्निहित है।



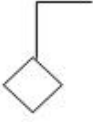
- Ans
- 1.



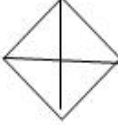
✓ 2.



✗ 3.



✗ 4.



Question ID : 9895806276  
Chosen Option : 1

Q.2 शब्दों के चार युग्म दिए गए हैं जिनमें से तीन युग्म किसी न किसी प्रकार से समान हैं, जबकि एक युग्म भिन्न है। असंगत युग्म का चयन करें।

Ans

- ✓ 1. आमलेट : भोजन  
✗ 2. धागा (यार्न) : तंतु (फाइबर)  
✗ 3. गुड़ : गन्ना  
✗ 4. धातु : अयस्क

Question ID : 9895806259  
Chosen Option : 2

Q.2 एक पंक्ति में पांच अलग-अलग रंग के घर हैं -पीला, नीला, सफेद, गुलाबी और हरा। पीला घर नीले रंग के दाईं ओर है और हरा घर सफेद घर के बाईं ओर और पीले घर के दाईं ओर है। नीला गुलाबी के दाईं ओर है। कौन सा घर मध्य में है?

Ans

- ✓ 1. पीला  
✗ 2. हरा  
✗ 3. गुलाबी  
✗ 4. नीला

Question ID : 9895806266  
Chosen Option : 3

Q.2 जिस तरह 'डॉक्टर' 'अस्पताल' से संबंधित है उसी तरह 'शिक्षक' '\_\_\_\_\_' से संबंधित है।

Ans

- ✗ 1. विद्यार्थी  
✗ 2. शिक्षण  
✗ 3. प्राचार्य  
✓ 4. विद्यालय

Question ID : 9895806261

Q.2  
3 निम्नलिखित श्रृंखला को पूरा करने के लिए सही विकल्प का चयन करें।

13, 35, 57, 79, 911, \_\_\_\_\_, 1315

- Ans
- 1. 1011
  - 2. 1311
  - 3. 1113
  - 4. 1131

Question ID : 9895806269

Chosen Option : 2

Q.2  
4 उस शब्द-युग्म का चयन करें जो दिए गए शब्द-युग्म के अनुरूप है।

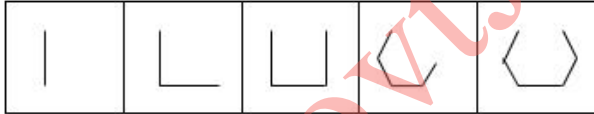
बैरोमीटर : वायुदाब

- Ans
- 1. घड़ी : समय
  - 2. विद्युत् धारा : ओडोमीटर
  - 3. चाय : कप
  - 4. पानी : बोतल

Question ID : 9895806260

Chosen Option : 2

Q.2  
5 उस आकृति का चयन करें जो निम्नलिखित श्रृंखला में अगली आएगी।



- Ans
- 1.
  - 2.
  - 3.
  - 4.

Question ID : 9895806275

Chosen Option : 1



Q.2 1950 में भारतीय संविधान द्वारा देश को शासित करने वाले मौलिक दस्तावेज के रूप में किस अधिनियम को प्रतिस्थापित किया गया था?

- Ans
- 1. भारत सरकार अधिनियम 1935 ई
  - 2. मॉर्ले-मिंटो अधिनियम
  - 3. भारतीय परिषद अधिनियम 1861
  - 4. विनियमन अधिनियम 1773

Question ID : 9895806467  
Chosen Option : 1

Q.2 7 निम्नलिखित में से कौन सा मांसाहारी पादप है?

- Ans
- 1. वीनस फ्लाईट्रैप
  - 2. रेड मेपल
  - 3. क्वेकिंग एस्पेन
  - 4. पेओनी

Question ID : 9895806472  
Chosen Option : 2

Q.2 8 निम्न में से किस अवधारणा के अनुसार गरीबों को अन्य गरीब लोगों के साथ केवल निकृष्ट परिवेश में रहने वाले गरीबों के संदर्भ में देखा जाना चाहिए।

- Ans
- 1. सामाजिक पहचान
  - 2. सामाजिक बहिष्कार
  - 3. सामाजिक वर्गीकरण
  - 4. सामाजिक भेद

Question ID : 9895806464  
Chosen Option : 1

Q.2 9 निम्नलिखित में से किस भारतीय ने रेमन मैग्सेसे पुरस्कार 2018 जीता है?

- Ans
- 1. पालागुम्मी साईनाथ
  - 2. महाश्वेता देवी
  - 3. अरविंद केजरीवाल
  - 4. सोनम वांगचुक

Question ID : 9895806462  
Chosen Option : 4

Q.3 0 फ्रांस और स्पेन की सीमा पर कौन सा पर्वत शिखर स्थित है?

- Ans
- 1. गैंड कैस पर्वत
  - 2. पिरिनी पर्वत
  - 3. मॉंटे सिंटो पर्वत
  - 4. जूरा पर्वत

Question ID : 9895806476  
Chosen Option : 1

Q.3  
1 'फ्लोटिंग फुमदीस' भारत के किस राज्य में पाए जाते हैं?

- Ans
- 1. मणिपुर
  - 2. जम्मू और कश्मीर
  - 3. केरल
  - 4. उत्तराखंड

Question ID : 9895806473  
Chosen Option : 1

Q.3  
2 संविधान की 8 वीं अनुसूची, संविधान (बानबेवां संशोधन) अधिनियम, 2003 द्वारा यथा अद्यतन, में सूचीबद्ध भाषाओं की संख्या कितनी है?

- Ans
- 1. 22
  - 2. 24
  - 3. 18
  - 4. 20

Question ID : 9895806469  
Chosen Option : 1

Q.3  
3 'ईएमई मंदिर', जिसे 'दक्षिणामूर्ति मंदिर' भी कहा जाता है, भारत के किस शहर में स्थित है?

- Ans
- 1. जयपुर
  - 2. पूना
  - 3. चेन्नई
  - 4. वडोदरा

Question ID : 9895806458  
Chosen Option : 1

Q.3  
4 'संगम साहित्य' किस भारतीय भाषा में लिखा गया है?

- Ans
- 1. तेलुगू
  - 2. तमिल

✗ 3. कन्नड़

✗ 4. संस्कृत

Question ID : 9895806479  
Chosen Option : 4

Q.3  
5 भारत में पल्स पोलियो प्रतिरक्षण कार्यक्रम कब शुरू किया गया?

Ans ✗ 1. 1991

✗ 2. 1997

✓ 3. 1995

✗ 4. 1993

Question ID : 9895806474  
Chosen Option : 1

Q.3  
6 प्राचीन शहर 'लोथल', जो अब एक प्रमुख पुरातात्विक स्थल के रूप में प्रसिद्ध है, भारत के किस राज्य में स्थित है?

Ans ✗ 1. महाराष्ट्र

✗ 2. पंजाब

✗ 3. राजस्थान

✓ 4. गुजरात

Question ID : 9895806478  
Chosen Option : 3

Q.3  
7 नृत्य शैली 'डोलू कुनिथा' किस भारतीय राज्य से संबंधित है?

Ans ✓ 1. कर्नाटक

✗ 2. पश्चिम बंगाल

✗ 3. झारखंड

✗ 4. केरल

Question ID : 9895806456  
Chosen Option : 4

Q.3  
8 भारतीय मौसम विभाग (IMD) ने वर्षा से नदियों और जलाशयों में जल स्तर में वृद्धि के आकलन के लिए \_\_\_\_\_ नामक एक नई तकनीक विकसित की है।

Ans ✗ 1. जलाशय आधारित पूर्वानुमान दृष्टिकोण

✗ 2. पानी आधारित दृष्टिकोण

✗ 3. अंतर्देशीय आधारित दृष्टिकोण

✓ 4. प्रभाव आधारित पूर्वानुमान दृष्टिकोण

Question ID : 9895806475  
Chosen Option : 2

Q.3 2019 में ICC क्रिकेट विश्व कप की मेजबानी करने वाला देश कौन सा है?

- Ans
- 1. ऑस्ट्रेलिया
  - 2. न्यूजीलैंड
  - 3. दक्षिण अफ्रीका
  - 4. इंग्लैंड और वेल्स

Question ID : 9895806460  
Chosen Option : 4

Q.4 0 द्वितीय विश्व युद्ध में भारतीय सहयोग को सुरक्षित करने के लिए क्रिप्स मिशन किस वर्ष भारत में आया था?

- Ans
- 1. 1944
  - 2. 1943
  - 3. 1942
  - 4. 1941

Question ID : 9895806480  
Chosen Option : 3

Q.4 1 2011 की जनगणना के अनुसार किस भारतीय राज्य में सबसे कम जनसंख्या घनत्व है?

- Ans
- 1. मिजोरम
  - 2. सिक्किम
  - 3. गोवा
  - 4. अरुणाचल प्रदेश

Question ID : 9895806477  
Chosen Option : 3

Q.4 2 लोकप्रिय त्योहार 'चावोथ (Chavoth)' किस भारतीय राज्य से संबंधित है?

- Ans
- 1. हरियाणा
  - 2. गुजरात
  - 3. तमिलनाडु
  - 4. गोवा

Question ID : 9895806457  
Chosen Option : 1

Q.4 3 न्यूनतम समर्थन मूल्य (MSP) तय करने की जिम्मेदारी किसकी है?

- Ans
- 1. भारतीय प्रतिस्पर्धा आयोग
  - 2. भारत के विधि आयोग
  - 3. कृषि लागत और मूल्य आयोग (CACP)
  - 4. भारतीय शिक्षा आयोग

Question ID : 9895806466  
Chosen Option : 1

Q.4  
4 चाक का रासायनिक नाम क्या है?

- Ans
- 1. मैग्नीशियम कार्बोनेट
  - 2. सोडियम कार्बोनेट
  - 3. कैल्शियम कार्बोनेट
  - 4. हाइड्रोजन कार्बोनेट

Question ID : 9895806471  
Chosen Option : 3

Q.4  
5 शस्त्र और गोला-बारूद रखने और उसके उपयोग को नियंत्रित करने वाला शस्त्र अधिनियम किस वर्ष में पारित हुआ था।

- Ans
- 1. 1947
  - 2. 1942
  - 3. 1959
  - 4. 1950

Question ID : 9895806468  
Chosen Option : 3

Q.4  
6 LED शब्द का पूर्ण रूप क्या है जिसके आविष्कार के लिए आविष्कारकों को 2014 में नोबेल पुरस्कार मिला?

- Ans
- 1. ल्युमिनेंट एमिशन डिवाइस (Luminant Emission Device)
  - 2. लाइट एक्सटेन्शन डिवाइस (Light Extension Device)
  - 3. लाइट एमिटिंग डायोड (Light Emitting Diode)
  - 4. ल्युमिनस एक्सटेन्शन डिवाइस (Luminous Extension Device)

Question ID : 9895806470  
Chosen Option : 4

Q.4  
7 संयुक्त राज्य अमेरिका में राज्यपाल के रूप में चुने जाने वाले पहले भारतीय अमेरिकी कौन हैं?

- Ans
- 1. पान नलिन



- 2. विनोद खोसला
- 3. रोहिंटन मिस्त्री
- 4. बाँबी जिंदल

Question ID : 9895806463  
Chosen Option : 2

Q.4  
8 2018 तक किस राष्ट्र में सबसे अधिक व्यापार अधिशेष है?

- Ans
- 1. जर्मनी
  - 2. ब्राज़िल
  - 3. डेनमार्क
  - 4. फ्रांस

Question ID : 9895806465  
Chosen Option : 2

Q.4  
9 निम्नलिखित में से किसे 2018 में भारत सरकार द्वारा यूनेस्को के कार्यकारी बोर्ड (EXB) के लिए नामित किया गया है?

- Ans
- 1. हरीश साल्वे
  - 2. रुचिर खंबोज
  - 3. शशि थरूर
  - 4. जे.एस. राजपूत

Question ID : 9895806461  
Chosen Option : 3

Q.5  
0 भारत ने किस वर्ष में राष्ट्रमंडल खेलों की मेजबानी की?

- Ans
- 1. 2006
  - 2. 2010
  - 3. 2004
  - 4. 2008

Question ID : 9895806459  
Chosen Option : 2

Q.5  
1 एक ट्रेन 95 km/hr की दूरी तय करती है और 85 km/hr से प्रारंभिक बिंदु पर लौटती है। ट्रेन की औसत गति क्या है?

- Ans
- 1. 84.24 km/hr
  - 2. 89.72 km/hr
  - 3. 75.56 km/hr
  - 4. 92.29 km/hr



Question ID : 9895806369  
Chosen Option : 3

Q.5  
2 एक खिलाड़ी 20 सेकंड में अपनी साइकिल 150 मीटर चलाता है। खिलाड़ी की गति क्या है?

- Ans
- 1. 22 km/hr
  - 2. 18 km/hr
  - 3. 25 km/hr
  - 4. 27 km/hr

Question ID : 9895806370  
Chosen Option : 4

Q.5  
3  $4 + [(120 - 10) \div (3^2 + 1)] - 5$  का मान क्या है?

- Ans
- 1. 10
  - 2. 12
  - 3. 14
  - 4. 8

Question ID : 9895806358  
Chosen Option : 1

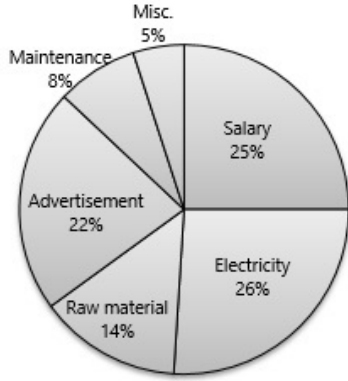
Q.5  
4 एक समचतुर्भुज में विकर्ण क्रमशः 14 cm और 24 cm हैं। समचतुर्भुज का क्षेत्रफल क्या है?

- Ans
- 1. 380 cm<sup>2</sup>
  - 2. 336 cm<sup>2</sup>
  - 3. 168 cm<sup>2</sup>
  - 4. 442 cm<sup>2</sup>

Question ID : 9895806372  
Chosen Option : 1

Q.5  
5

आलेख का ठीक से अध्ययन करें और डेटा का अर्थ करके उत्तर दें।  
कंपनी का कुल व्यय (खर्च) ₹ 35,50,000 है



कंपनी द्वारा कच्चे माल और बिजली पर खर्च की गई राशि क्या है?

- Ans
- 1. ₹ 8,90,000
  - 2. ₹ 20,14,000
  - 3. ₹ 14,20,000
  - 4. ₹ 16,24,000

Question ID : 9895806379  
Chosen Option : 3

Q.5 दो पाइप क्रमशः 15 मिनट और 30 मिनट में एक टंकी भर सकते हैं। यदि दोनों पाइप एक साथ खोले जाते हैं, तो टंकी कितने समय में भर जाएगी?

- Ans
- 1. 20 मिनट
  - 2. 18 मिनट
  - 3. 10 मिनट
  - 4. 25 मिनट

Question ID : 9895806368  
Chosen Option : 3

Q.5 एक आयताकार क्षेत्र में, एक बाजू 5 m है और विकर्ण 13 m है। आयत का क्षेत्र क्या है?

- Ans
- 1. 60 m
  - 2. 17 m<sup>2</sup>
  - 3. 65 m<sup>2</sup>
  - 4. 60 m<sup>2</sup>

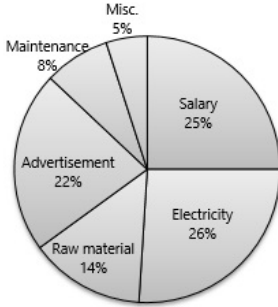
Question ID : 9895806371  
Chosen Option : 1

Q.5 एक बैंक 5% प्रतिवर्ष के साधारण ब्याज दर से ऋण देता है। एक साल के लिए ₹ 50,000 का ऋण लेनेवाला एक ग्राहक कितना ब्याज बैंक को भुगतान करेगा?

- Ans
- 1. ₹ 7,500
  - 2. ₹ 25,000
  - 3. ₹ 5,000
  - 4. ₹ 2,500

Question ID : 9895806365  
Chosen Option : 4

Q.5 आलेख का ठीक से अध्ययन करें और डेटा का अर्थ करके उत्तर दें।  
कंपनी का कुल व्यय (खर्च) ₹ 35,50,000 है



क्रमशः विज्ञापन और रखरखाव पर कंपनी द्वारा खर्च की गई राशि का अनुपात क्या है?

- Ans
- 1. 5 : 6
  - 2. 4 : 11
  - 3. 11 : 4
  - 4. 6 : 5

Question ID : 9895806380  
Chosen Option : 3

Q.6 3, 6 और 18 का चौथा आनुपातिक \_\_\_\_\_ है।

- Ans
- 1. 24
  - 2. 36
  - 3. 72
  - 4. 12

Question ID : 9895806376  
Chosen Option : 3

Q.6 20 व्यक्तियों की औसत आय ₹ 4,000 है और दूसरे 25 व्यक्तियों की औसत आय ₹ 2,500 है। पूरे समूह की औसत आय क्या है?

- Ans
- 1. ₹ 2,400.25
  - 2. ₹ 2,675.75
  - 3. ₹ 2,900.65
  - 4. ₹ 3,166.66

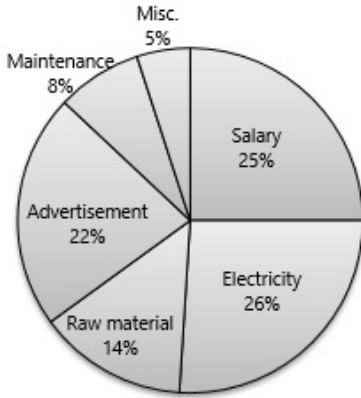
Question ID : 9895806359  
Chosen Option : 4

Q.6  
2 एक समबाहु त्रिभुज की भुजा  $2\sqrt{3}$  cm की उंचाई क्या है?

- Ans
- 1.  $3\sqrt{3}$  cm
  - 2. 4 cm
  - 3.  $\sqrt{3}$  cm
  - 4. 3 cm

Question ID : 9895806373  
Chosen Option : 4

Q.6  
3 आलेख का ठीक से अध्ययन करें और डेटा का अर्थ करके उत्तर दें।  
कंपनी का कुल व्यय (खर्च) ₹ 35,50,000 है



कंपनी द्वारा वेतन पर खर्च की जाने वाली राशि क्या है?

- Ans
- 1. ₹ 8,87,500
  - 2. ₹ 12,750
  - 3. ₹ 4,32,500
  - 4. ₹ 9,25,500

Question ID : 9895806378  
Chosen Option : 1

Q.6  
4 ₹ 600 में एक पुस्तक बेचने पर एक दुकानदार को 20% लाभ होता है। पुस्तक का क्रय मूल्य क्या है?

- Ans
- 1. ₹ 500
  - 2. ₹ 550
  - 3. ₹ 600
  - 4. ₹ 400

Question ID : 9895806362  
Chosen Option : 1

Q.6 5 राम एक काम 5 दिनों में कर सकता है, जबकि हरि अकेले वह काम 6 दिनों में कर सकता है। यदि वे साथ मिलकर वह काम करते हैं तो उसे कितने दिनों में पूरा करेंगे?

- Ans
- ✓ 1.  $\frac{30}{11}$  दिन
  - ✗ 2.  $\frac{11}{20}$  दिन
  - ✗ 3.  $\frac{20}{11}$  दिन
  - ✗ 4.  $\frac{11}{30}$  दिन

Question ID : 9895806367  
Chosen Option : 4

Q.6 6 2 वर्ष के लिए वार्षिक 5% के वार्षिक दर से ₹ 10,000 पर साधारण ब्याज और चक्रवृद्धि ब्याज के बीच कितना अंतर होगा?

- Ans
- ✗ 1. ₹ 100
  - ✗ 2. ₹ 250
  - ✗ 3. ₹ 50
  - ✓ 4. ₹ 25

Question ID : 9895806366  
Chosen Option : 2

Q.6 7 एक दुकान में ₹ 3,500 अंकित मूल्य वाला एक कोट ₹ 2,800 में बेचा जाता है। कितने प्रतिशत की छूट दी गई है?

- Ans
- ✗ 1. 25%
  - ✗ 2. 18%
  - ✓ 3. 20%
  - ✗ 4. 15%

Question ID : 9895806363  
Chosen Option : 3

Q.6 8 एक संख्या की  $5\frac{3}{2}\%$  से वृद्धि करने से 52 देती है। संख्या क्या है?

- Ans
- ✓ 1. 800
  - ✗ 2. 750
  - ✗ 3. 672
  - ✗ 4. 576

Question ID : 9895806364  
Chosen Option : 1

Q.6 9 यदि  $(2x + 3y) : (2x - 3y) = 3 : 2$  तो  $x : y$  \_\_\_\_\_ है।

- Ans
- ✓ 1. 15 : 2

2. 2 : 3  
 3. 6 : 7  
 4. 3 : 14

Question ID : 9895806375  
Chosen Option : 1

Q.7  
0 डेटा के वितरण में, उच्चतम स्कोर और निम्नतम स्कोर के बीच के अंतर को क्या कहा जाता है?

- Ans  1. श्रेणी  
 2. माध्य  
 3. माध्यिका  
 4. बहुलक

Question ID : 9895806377  
Chosen Option : 3

Q.7  
1 अमित को अपनी मोटर साइकिल ₹ 24,000 में बेचने पर 20% की हानि हुई। उसे ₹ 35,000 में बेचने पर उसे कितने प्रतिशत लाभ होगा?

- Ans  1. 24.56%  
 2. 16.67%  
 3. 15%  
 4. 18.26%

Question ID : 9895806361  
Chosen Option : 2

Q.7  
2 तीन संख्याओं का औसत 28 है। पहली संख्या दूसरी संख्या से आधी है और तीसरी संख्या दूसरी संख्या की दोगुनी है। तो तीसरी संख्या कौन सी है?

- Ans  1. 45  
 2. 54  
 3. 46  
 4. 48

Question ID : 9895806360  
Chosen Option : 2

Q.7  
3 240 और 320 को पूर्णतः विभाजित करने वाली सबसे बड़ी संख्या क्या है?

- Ans  1. 560  
 2. 320  
 3. 80  
 4. 120

Question ID : 9895806356  
Chosen Option : 3



Q.7  
4  $(72 + 13) \div (3 + 2) - (3 \times 5)$  का मान क्या है?

- Ans
- 1. 4
  - 2. 2
  - 3. 8
  - 4. 6

Question ID : 9895806357  
Chosen Option : 2

Q.7  
5 यदि  $a : b = 2 : 3$ ,  $b : c = 5 : 7$  और  $c : d = 9 : 8$ ; तो  $a : b : c : d$  \_\_\_\_\_ है।

- Ans
- 1. 30 : 45 : 63 : 56
  - 2. 15 : 18 : 21 : 35
  - 3. 45 : 63 : 65 : 30
  - 4. 18 : 36 : 45 : 63

Question ID : 9895806374  
Chosen Option : 3

Section : English Language

Q.1 From the given options, identify the segment in the sentence which contains the grammatical error.

In evaluate your progress, I have taken into account your classroom performance, receptivity and overall improvement.

- Ans
- 1. have taken
  - 2. overall improvement
  - 3. In evaluate
  - 4. into account

Question ID : 9895806129  
Chosen Option : --

Q.2 Select the most appropriate option to substitute the underlined segment in the given sentence. If there is no need to substitute it, select No improvement.

The pursuit of truth has at last led us to the tools by which we have ourself become destroyers of our own institutions.

- Ans
- 1. No improvement
  - 2. by which we have yourself become
  - 3. by which we have ourselves become
  - 4. by which we have themselves become

Question ID : 9895806132  
Chosen Option : --

Q.3 Select the option that means the same as the given idiom.

A blue-eyed boy

- Ans
- 1. A boy with blue eyes
  - 2. An innocent boy
  - 3. One who is unpopular
  - 4. One who is a favourite

Question ID : 9895806146  
Chosen Option : --

Q.4 Select the synonym of the given word.

AISLE

- Ans
- 1. Verandah
  - 2. Lobby
  - 3. Passage
  - 4. Porch

Question ID : 9895806143  
Chosen Option : --

Q.5 Select the word which means the same as the group of words given.

A person who suffers from an imaginary illness

- Ans
- 1. Hypochondriac
  - 2. Kleptomania
  - 3. Paranoid
  - 4. Megalomania

Question ID : 9895806148  
Chosen Option : --

Q.6 Select the most appropriate option to substitute the underlined segment in the given sentence. If there is no need to substitute it, select No improvement.

As a public speaker I have to take care that every word I said is heard distinctly at the far end of large halls containing thousands of people.

- Ans
- 1. to take care that every word I will said
  - 2. No improvement
  - 3. to take care that every word I say
  - 4. to take care that every word I am saying

Question ID : 9895806133  
Chosen Option : --

Q.7

Select the word which means the same as the group of words given.

People working in the same department or office

- Ans
- 1. Fellows
  - 2. Companions
  - 3. Colleagues
  - 4. Friends

Question ID : 9895806149  
Chosen Option : --

Q.8 Select the most appropriate word to fill in the blank.

He looked up the \_\_\_\_\_ to find out when the Sun would rise.

- Ans
- 1. almanac
  - 2. year book
  - 3. diary
  - 4. atlas

Question ID : 9895806153  
Chosen Option : --

Q.9 From the given options, identify the segment in the sentence which contains the grammatical error.

The central library, with a large number of books in its stacks, attract students from almost every constituent college.

- Ans
- 1. large number of books
  - 2. almost every constituent college
  - 3. in its stacks
  - 4. attract students from

Question ID : 9895806128  
Chosen Option : --

Q.1<sub>0</sub> Select the antonym of the given word.

TIMID

- Ans
- 1. Generous
  - 2. Kind
  - 3. Jealous
  - 4. Brave

Question ID : 9895806144  
Chosen Option : --

Q.1<sub>1</sub> Select the correctly spelt word.

- Ans
- 1. Disscipline
  - 2. Disipline
  - 3. Discipline
  - 4. Disiplene

Question ID : 9895806150  
Chosen Option : --

Q.1  
2 Select the synonym of the given word.

LAVISH

- Ans
- 1. Expensive
  - 2. Free
  - 3. Stingy
  - 4. Liberal

Question ID : 9895806142  
Chosen Option : --

Q.1  
3 From the given options, identify the segment in the sentence which contains the grammatical error.

One should take advantage of opportunities to talk with native speakers if one wants to improve your English.

- Ans
- 1. take advantage of
  - 2. one wants to improve your
  - 3. opportunities to talk
  - 4. One should

Question ID : 9895806130  
Chosen Option : --

Q.1  
4 Select the most appropriate option to fill in the blank.

There is a lovely \_\_\_\_\_ of the town from the window.

- Ans
- 1. vision
  - 2. image
  - 3. view
  - 4. spectacle

Question ID : 9895806134  
Chosen Option : --

Q.1  
5 Select the most appropriate option to fill in the blank.

If you fail to \_\_\_\_\_ your authority properly, they will not obey you.

Ans

- 1. identify
- 2. encounter
- 3. exercise
- 4. detect

Question ID : 9895806135  
Chosen Option : --

Q.1  
6 Select the most appropriate word to fill in the blank.

The suspect was taken to the police station, but he revealed nothing in the \_\_\_\_\_.

- Ans
- 1. complaint
  - 2. interrogation
  - 3. evaluation
  - 4. assessment

Question ID : 9895806152  
Chosen Option : --

Q.1  
7 Select the most appropriate option to substitute the underlined segment in the given sentence. If there is no need to substitute it, select No improvement.

We decided to take one shortest route to our destination so that we could save travel-time.

- Ans
- 1. to take the shortest route
  - 2. to take an shortest route
  - 3. to take a shortest route
  - 4. No improvement

Question ID : 9895806131  
Chosen Option : --

Q.1  
8 Select the option that means the same as the given idiom.

An account which is in the red

- Ans
- 1. That which is operated without a cheque-book.
  - 2. That which has a loan approved
  - 3. That which is ready to be opened
  - 4. That which is overdrawn

Question ID : 9895806147  
Chosen Option : --

Q.1  
9 Select the correctly spelt word.

- Ans
- 1. Pilgrimage
  - 2. Pilgrimege



3. Pilgrimage

4. Pilgrimage

Question ID : 9895806151  
Chosen Option : --

Q.2  
0 Select the antonym of the given word.

CONFRONT

Ans  1. Invite

2. Encounter

3. Avoid

4. Oppose

Question ID : 9895806145  
Chosen Option : --

Comprehension:

In the following passage some words have been deleted. Fill in the blanks with the help of the alternatives given.

A strong desire to travel \_\_\_\_\_ (1) the blue, to fly into the heavens and \_\_\_\_\_ (2) the stars was what Kalpana dreamt of. \_\_\_\_\_ (3) to the core, she finally succeeded \_\_\_\_\_ (4) making her vision a reality. For this first India-born female astronaut, her castles in the air had \_\_\_\_\_ (5) foundation firmly embedded in reality.

SubQuestion No : 21

Q.2  
1 Select the most appropriate option that will fill in the blank number 1.

Ans  1. under

2. beyond

3. across

4. upto

Question ID : 9895806137  
Chosen Option : --

Comprehension:

In the following passage some words have been deleted. Fill in the blanks with the help of the alternatives given.

A strong desire to travel \_\_\_\_\_ (1) the blue, to fly into the heavens and \_\_\_\_\_ (2) the stars was what Kalpana dreamt of. \_\_\_\_\_ (3) to the core, she finally succeeded \_\_\_\_\_ (4) making her vision a reality. For this first India-born female astronaut, her castles in the air had \_\_\_\_\_ (5) foundation firmly embedded in reality.

SubQuestion No : 22



Q.2  
2 Select the most appropriate option that will fill in the blank number 2.

- Ans
- 1. touch
  - 2. look
  - 3. feel
  - 4. watch

Question ID : 9895806138  
Chosen Option : --

**Comprehension:**

In the following passage some words have been deleted. Fill in the blanks with the help of the alternatives given.

A strong desire to travel \_\_\_\_\_ (1) the blue, to fly into the heavens and \_\_\_\_\_ (2) the stars was what Kalpana dreamt of. \_\_\_\_\_ (3) to the core, she finally succeeded \_\_\_\_\_ (4) making her vision a reality. For this first India-born female astronaut, her castles in the air had \_\_\_\_\_ (5) foundation firmly embedded in reality.

SubQuestion No : 23

Q.2  
3 Select the most appropriate option that will fill in the blank number 3.

- Ans
- 1. Defined
  - 2. Destined
  - 3. Determined
  - 4. Defied

Question ID : 9895806139  
Chosen Option : --

**Comprehension:**

In the following passage some words have been deleted. Fill in the blanks with the help of the alternatives given.

A strong desire to travel \_\_\_\_\_ (1) the blue, to fly into the heavens and \_\_\_\_\_ (2) the stars was what Kalpana dreamt of. \_\_\_\_\_ (3) to the core, she finally succeeded \_\_\_\_\_ (4) making her vision a reality. For this first India-born female astronaut, her castles in the air had \_\_\_\_\_ (5) foundation firmly embedded in reality.

SubQuestion No : 24

Q.2  
4 Select the most appropriate option that will fill in the blank number 4.

- Ans
- 1. on
  - 2. for
  - 3. in
  - 4. into

Question ID : 9895806140  
Chosen Option : --

**Comprehension:**

In the following passage some words have been deleted. Fill in the blanks with the help of the alternatives given.

A strong desire to travel \_\_\_\_\_ (1) the blue, to fly into the heavens and \_\_\_\_\_ (2) the stars was what Kalpana dreamt of. \_\_\_\_\_ (3) to the core, she finally succeeded \_\_\_\_\_ (4) making her vision a reality. For this first India-born female astronaut, her castles in the air had \_\_\_\_\_ (5) foundation firmly embedded in reality.

SubQuestion No : 25

Q.2  
5 Select the most appropriate option that will fill in the blank number 5.

- Ans
- 1. their
  - 2. which
  - 3. there
  - 4. those

Question ID : 9895806141  
Chosen Option : --

Section : Hindi Language

Q.1 निम्नलिखित में से उस विकल्प का चयन करें जो 'पल्ला झाड़ना' 'मुहावरे' का अर्थ व्यक्त करता है।

- Ans
- 1. पीछे पड़ जाना
  - 2. पीछा छुड़ा लेना
  - 3. पल्ले को झाड़ना-पोंछना
  - 4. पल्ले का झाड़न बनाना

Question ID : 9895805941  
Chosen Option : 2

Q.2 दिए गए शब्द के पर्यायवाची शब्द का चयन करें।

भौरा

- Ans
- 1. मधुमाला
  - 2. मधु
  - 3. मधुप
  - 4. मधुमति

Question ID : 9895805939  
Chosen Option : 2

Q.3 दिए गए शब्द का विलोम चुनें।

अतिवृष्टि

- Ans
- ✓ 1. अनावृष्टि
  - ✗ 2. लघुवृष्टि
  - ✗ 3. दीर्घवृष्टि
  - ✗ 4. वृष्टि

Question ID : 9895805936  
Chosen Option : 1

Q.4 दिए गए वाक्य में रेखांकित खंड को प्रतिस्थापित करने के लिए उपयुक्त विकल्प का चयन करें।

कर्मक्षेत्र में निरंतर संघर्ष करते रहने की नाम ही जीवन है।

- Ans
- ✓ 1. करते रहने का नाम ही जीवन है।
  - ✗ 2. करते रहनी का नाम ही जीवन है।
  - ✗ 3. करते रहने को नाम ही जीवन है।
  - ✗ 4. करते रहने से नाम ही जीवन है।

Question ID : 9895805924  
Chosen Option : 1

Q.5 दिए गए वाक्य में रेखांकित खंड को प्रतिस्थापित करने के लिए उपयुक्त विकल्प का चयन करें।

मेरे घर के पास गाय के ताजा दूध मिलता है।

- Ans
- ✗ 1. गाय का ताजी दूध
  - ✓ 2. गाय का ताजा दूध
  - ✗ 3. गाय की ताजा दूध
  - ✗ 4. गाय के ताजी दूध

Question ID : 9895805923  
Chosen Option : 3

Q.6 रिक्त स्थान को भरने के लिए उपयुक्त शब्द का चयन करें।

राम कलम \_\_\_\_\_ लिखता है।

- Ans
- ✓ 1. से
  - ✗ 2. को
  - ✗ 3. पर

✗ 4. में

Question ID : 9895805927  
Chosen Option : 1

Q.7 दिए गए शब्द का विलोम चुनें।

सृष्टि

- Ans
- ✓ 1. प्रलय
  - ✗ 2. तूफान
  - ✗ 3. संसार
  - ✗ 4. ब्रह्माण्ड

Question ID : 9895805937  
Chosen Option : 3

Q.8 दिए गए वाक्य का वह भाग ज्ञात करें जिसमें कोई त्रुटि है।  
नदियाँ हमारा जीवन हैं इसलिए हम उनके पूजा करते हैं।

- Ans
- ✓ 1. पूजा करते हैं।
  - ✗ 2. इसलिए हम उनके
  - ✗ 3. जीवन हैं
  - ✗ 4. नदियाँ हमारा

Question ID : 9895805921  
Chosen Option : 2

Q.9 रिक्त स्थान को भरने के लिए उपयुक्त शब्द का चयन करें।

पानी \_\_\_\_\_ रहा है।

- Ans
- ✗ 1. भीग
  - ✗ 2. जाग
  - ✗ 3. नाच
  - ✓ 4. बरस

Question ID : 9895805928  
Chosen Option : 4

Q.10 दिए गए शब्द के पर्यायवाची शब्द का चयन करें।

वृक्ष

- Ans
- ✓ 1. विटप

- 2. पौधा
- 3. व्योम
- 4. वारि

Question ID : 9895805938  
Chosen Option : 2

Q.1  
1 दिये गये वाक्यांश के लिए एक शब्द चुनिए।

जिसकी कोई संतान न हो

- Ans
- 1. निस्संतान
  - 2. वितान
  - 3. विधुर
  - 4. कुंवारा

Question ID : 9895805942  
Chosen Option : 1

Comprehension:

निम्नलिखित गद्यांश के रिक्त स्थानों की पूर्ति गद्यांश के नीचे दिए गए प्रश्नों के अनुसार कीजिए -

यदि हम \_\_\_\_\_ (1) के लिए युद्ध से विमुख हो जाते हैं तो हम एक ऐसे सुखी समाज का \_\_\_\_\_ (2) कर सकते हैं जिसमें जान और विज्ञान की सतत \_\_\_\_\_ (3) हो सकती है। क्या हम इस स्वर्गीय आनंद के बदले विनाशक मृत्यु को इसलिए चाहते हैं क्योंकि हम अपने झगड़े समाप्त नहीं कर सकते। हम आपसे \_\_\_\_\_ (4) होने के नाते मनुष्यता के नाम पर यह प्रार्थना करते हैं कि आप सब कुछ भूल कर केवल मानवता को ही याद रखें। यदि आप यह कर सकते हैं, तो निश्चय ही महान \_\_\_\_\_ (5) के लिए रास्ता खुला है।

SubQuestion No : 12

Q.1  
2 गद्यांश में संकेतित रिक्त स्थान (1) के लिए उपयुक्त शब्द होगा -

- Ans
- 1. युद्ध
  - 2. सदैव
  - 3. पक्षियों



4. साहित्य

Question ID : 9895805931  
Chosen Option : 1

Comprehension:

निम्नलिखित गद्यांश के रिक्त स्थानों की पूर्ति गद्यांश के नीचे दिए गए प्रश्नों के अनुसार कीजिए -

यदि हम \_\_\_\_\_ (1) के लिए युद्ध से विमुख हो जाते हैं तो हम एक ऐसे सुखी समाज का \_\_\_\_\_ (2) कर सकते हैं जिसमें ज्ञान और विज्ञान की सतत \_\_\_\_\_ (3) हो सकती है। क्या हम इस स्वर्गीय आनंद के बदले विनाशक मृत्यु को इसलिए चाहते हैं क्योंकि हम अपने झगड़े समाप्त नहीं कर सकते। हम आपसे \_\_\_\_\_ (4) होने के नाते मनुष्यता के नाम पर यह प्रार्थना करते हैं कि आप सब कुछ भूल कर केवल मानवता को ही याद रखें। यदि आप यह कर सकते हैं, तो निश्चय ही महान \_\_\_\_\_ (5) के लिए रास्ता खुला है।

SubQuestion No : 13

Q.1  
3 गद्यांश में संकेतित रिक्त स्थान (2) के लिए उपयुक्त शब्द होगा -

- Ans
- 1. दुख
  - 2. संकट
  - 3. कठिन
  - 4. निर्माण

Question ID : 9895805932  
Chosen Option : 3

Comprehension:



निम्नलिखित गद्यांश के रिक्त स्थानों की पूर्ति गद्यांश के नीचे दिए गए प्रश्नों के अनुसार कीजिए -

यदि हम \_\_\_\_\_ (1) के लिए युद्ध से विमुख हो जाते हैं तो हम एक ऐसे सुखी समाज का \_\_\_\_\_ (2) कर सकते हैं जिसमें ज्ञान और विज्ञान की सतत \_\_\_\_\_ (3) हो सकती है। क्या हम इस स्वर्गीय आनंद के बदले विनाशक मृत्यु को इसलिए चाहते हैं क्योंकि हम अपने झगड़े समाप्त नहीं कर सकते। हम आपसे \_\_\_\_\_ (4) होने के नाते मनुष्यता के नाम पर यह प्रार्थना करते हैं कि आप सब कुछ भूल कर केवल मानवता को ही याद रखें। यदि आप यह कर सकते हैं, तो निश्चय ही महान \_\_\_\_\_ (5) के लिए रास्ता खुला है।

SubQuestion No : 14

Q.1  
4 गद्यांश में संकेतित रिक्त स्थान (3) के लिए उपयुक्त शब्द होगा -

- Ans
- 1. विनाश
  - 2. प्रगति
  - 3. अधोगति
  - 4. अवनति

Question ID : 9895805933

Chosen Option : 1

Comprehension:

निम्नलिखित गद्यांश के रिक्त स्थानों की पूर्ति गद्यांश के नीचे दिए गए प्रश्नों के अनुसार कीजिए -

यदि हम \_\_\_\_\_ (1) के लिए युद्ध से विमुख हो जाते हैं तो हम एक ऐसे सुखी समाज का \_\_\_\_\_ (2) कर सकते हैं जिसमें ज्ञान और विज्ञान की सतत \_\_\_\_\_ (3) हो सकती है। क्या हम इस स्वर्गीय आनंद के बदले विनाशक मृत्यु को इसलिए चाहते हैं क्योंकि हम अपने झगड़े समाप्त नहीं कर सकते। हम आपसे \_\_\_\_\_ (4) होने के नाते मनुष्यता के नाम पर यह प्रार्थना करते हैं कि आप सब कुछ भूल कर केवल मानवता को ही याद रखें। यदि आप यह कर सकते हैं, तो निश्चय ही महान \_\_\_\_\_ (5) के लिए रास्ता खुला है।

SubQuestion No : 15

Q.1  
5 गद्यांश में संकेतित रिक्त स्थान (4) के लिए उपयुक्त शब्द होगा -

- Ans
- 1. जानवर
  - 2. मनुष्य
  - 3. देवता
  - 4. राक्षस

Question ID : 9895805934  
Chosen Option : 3

Comprehension:

निम्नलिखित गद्यांश के रिक्त स्थानों की पूर्ति गद्यांश के नीचे दिए गए प्रश्नों के अनुसार कीजिए -

यदि हम \_\_\_\_\_ (1) के लिए युद्ध से विमुख हो जाते हैं तो हम एक ऐसे सुखी समाज का \_\_\_\_\_ (2) कर सकते हैं जिसमें ज्ञान और विज्ञान की सतत \_\_\_\_\_ (3) हो सकती है। क्या हम इस स्वर्गीय आनंद के बदले विनाशक मृत्यु को इसलिए चाहते हैं क्योंकि हम अपने झगड़े समाप्त नहीं कर सकते। हम आपसे \_\_\_\_\_ (4) होने के नाते मनुष्यता के नाम पर यह प्रार्थना करते हैं कि आप सब कुछ भूल कर केवल मानवता को ही याद रखें। यदि आप यह कर सकते हैं, तो निश्चय ही महान \_\_\_\_\_ (5) के लिए रास्ता खुला है।

SubQuestion No : 16

Q.1  
6 गद्यांश में संकेतित रिक्त स्थान (5) के लिए उपयुक्त शब्द होगा -

- Ans
- 1. वर्तमान
  - 2. भविष्य
  - 3. अतीत
  - 4. भूत

Question ID : 9895805935  
Chosen Option : 2

Q.1  
7 निम्नलिखित में से उस विकल्प का चयन करें जो 'पगड़ी उछालना' मुहावरे का अर्थ व्यक्त करता है।

- Ans
- 1. खुश होना

- 2. अपमान करना
- 3. सम्मान करना
- 4. पगड़ी को उछालना

Question ID : 9895805940

Chosen Option : 1

Q.1  
8 रिक्त स्थान को भरने के लिए उपयुक्त शब्द का चयन करें।

आजकल अंधाधुंध वृक्ष \_\_\_\_\_ जा रहे हैं।

- Ans
- 1. जाते
  - 2. काटे
  - 3. भागे
  - 4. चलते

Question ID : 9895805929

Chosen Option : 2

Q.1  
9 रिक्त स्थान को भरने के लिए उपयुक्त शब्द का चयन करें।

पहले \_\_\_\_\_ देखो फिर सड़क पार करो।

- Ans
- 1. ऊपर-भीतर
  - 2. जिधर-किधर
  - 3. दाएँ-बाएँ
  - 4. अंदर-बाहर

Question ID : 9895805926

Chosen Option : 3

Q.2  
0 दिए गए वाक्य में रेखांकित खंड को प्रतिस्थापित करने के लिए उपयुक्त विकल्प का चयन करें।

सुंदरलाल बहुगुणा ने 'चिपको आंदोलन' द्वारा लोगों को जागरूकता करने का प्रयास किया।

- Ans
- 1. जागरूक करने का
  - 2. जागरूकता करने से
  - 3. जागरूक करने को
  - 4. जागरूक करने की

Question ID : 9895805925

Chosen Option : 1

Q.2  
1 सही वर्तनी वाले शब्द का चयन करें।

- Ans
- 1. एकादशि
  - 2. एकादषी
  - 3. एकादशी
  - 4. एकदशी

Question ID : 9895805945  
Chosen Option : 3

Q.2  
2 दिए गए वाक्य का वह भाग ज्ञात करें जिसमें कोई त्रुटि है।

पढ़ाई से मुक्त होकर कुछ करने का उमंग उनके चेहरों पर साफ दिखाई दे रही है।

- Ans
- 1. उनके चेहरों पर
  - 2. साफ दिखाई दे रही है।
  - 3. कुछ करने का उमंग
  - 4. पढ़ाई से मुक्त होकर

Question ID : 9895805920  
Chosen Option : 1

Q.2  
3 सही वर्तनी वाले शब्द का चयन करें।

- Ans
- 1. राष्ट्रियता
  - 2. राश्ट्रीयता
  - 3. राष्ट्रियता
  - 4. रश्ट्रीयता

Question ID : 9895805944  
Chosen Option : 3

Q.2  
4 दिए गए वाक्य का वह भाग ज्ञात करें जिसमें कोई त्रुटि है।

कोहरा छटने के बाद सर्दी में सुनहरा धूप बड़ी आरामदायक होती है।

- Ans
- 1. सुनहरा धूप
  - 2. बड़ी आरामदायक होती है।
  - 3. कोहरा छटने के बाद
  - 4. सर्दी में

Question ID : 9895805922  
Chosen Option : 2

Q.2

5 दिये गये वाक्यांश के लिए एक शब्द चुनिए।

जो नया जन्मा हो

- Ans
- 1. पारिजात
  - 2. नवजात
  - 3. कुजात
  - 4. सजातीय

Question ID : 9895805943  
Chosen Option : 2

GovtJobsAlert.In