

Constable (GD) in CAPFs, NIA, SSF and Rifleman (GD) in Assam Rifles Examination, 2018

Roll No. :	GovtJobsAlert.In
Registration No.	GovtJobsAlert.In
Name :	GovtJobsAlert.In
Exam Venue :	ANAND INTERNATIONAL COLLEGE OF ENGINEERING JAIPUR
Exam Time :	12:30 PM - 2:00 PM
Exam Date :	22/02/2019

Section : General Section

Q.1 उस विकल्प का चयन करें जो तीसरे पद से उसी तरह से संबंधित है जिस प्रकार दूसरा पद पहले पद से संबंधित है।

$$\frac{10}{13} : 269 :: \frac{12}{16} : \text{_____}$$

- Ans
- 1. 256
 - 2. 400
 - 3. 326
 - 4. 350

Question ID : 9895806496
Chosen Option : 2

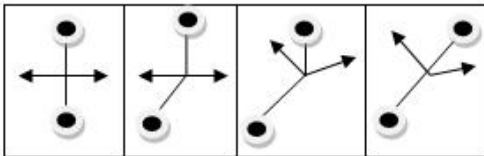
Q.2 सरथ, नवीन, दीपक और विक्रम एक गोल मेज के चारों ओर बैठे हैं और अपने व्यापार पर चर्चा कर रहे हैं। सरथ इंजीनियर के सामने बैठा है। नवीन डॉक्टर के दाईं ओर बैठा है। वकील पुलिस के बाईं ओर है। विक्रम दीपक के सामने बैठा है।

इंजीनियर कौन है?

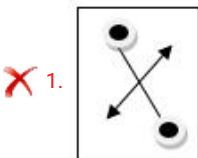
- Ans
- 1. सरथ
 - 2. विक्रम
 - 3. नवीन
 - 4. दीपक

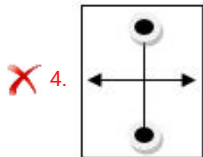
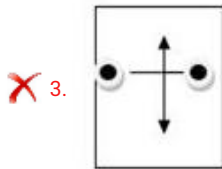
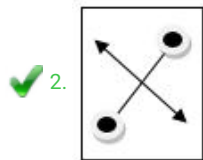
Question ID : 9895806490
Chosen Option : 3

Q.3 निम्नलिखित श्रृंखला में आगे आने वाली आकृति का चयन करें।



Ans





Question ID : 9895806500
Chosen Option : 2

Q.4 उस संख्या को पहचानें जो निम्न श्रृंखला से संबंधित नहीं है।

0, 7, 26, 2, 9, 27, 4, 11, 30

- Ans
- ✗ 1. 9
 - ✗ 2. 26
 - ✓ 3. 27
 - ✗ 4. 7

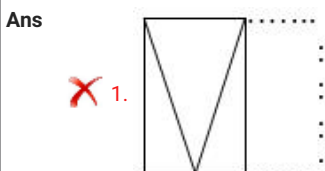
Question ID : 9895806495
Chosen Option : 3

Q.5 'घोड़ा' उसी तरह से संबंधित है 'बछड़े' से, जिस प्रकार 'आदमी' संबंधित है ' _____ ' से ।

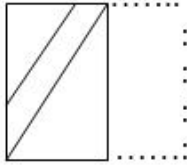
- Ans
- ✗ 1. परिवार
 - ✗ 2. विद्यार्थी
 - ✗ 3. महिला
 - ✓ 4. बच्चा

Question ID : 9895806486
Chosen Option : 4

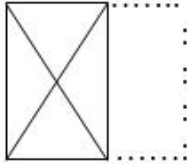
Q.6 एक पैटर्न के साथ एक चौकोर पारदर्शी शीट दी गई है। चार विकल्पों में उस विकल्प का चयन करें जो जब पारदर्शी शीट को बिन्दुदार रेखा पर मोड़े जाने पर दिखाई देने वाले पैटर्न को दर्शाता है।



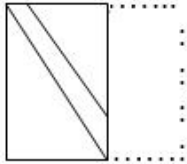
✗ 2.



✓ 3.



✗ 4.



Question ID : 9895806504

Chosen Option : 3

Q.7 यदि OFFICE को PHIMHK के रूप में कूटबद्ध किया जाता है, तो COLLEGE को _____ के रूप में कूटबद्ध किया जाएगा।

- Ans
- ✗ 1. DQOOJML
 - ✗ 2. DQOPJNL
 - ✓ 3. DQOPJML
 - ✗ 4. DQPPJML

Question ID : 9895806488

Chosen Option : 3

Q.8 पाँच मित्र एक पंक्ति में बैठे हैं। सत्या, प्रभा के बगल में बैठी है लेकिन दिव्या के बगल में नहीं। कीर्ति, रोजा के बगल में बैठी है जो बाएँ छोर पर बैठी है। दिव्या, कीर्ति के बगल में नहीं बैठी है। बीच में कौन बैठा है?

- Ans
- ✗ 1. कीर्ति
 - ✗ 2. प्रभा
 - ✓ 3. सत्या
 - ✗ 4. दिव्या

Question ID : 9895806489

Chosen Option : 4

Q.9 उस पद का चयन करें जो निम्नलिखित श्रृंखला में अगला आएगा।

aCCe, fHHj, kMMo, _____

- Ans
- ✗ 1. qSSt
 - ✓ 2. pRRt
 - ✗ 3. qRRt
 - ✗ 4. pQQR

Question ID : 9895806481

Chosen Option : 3

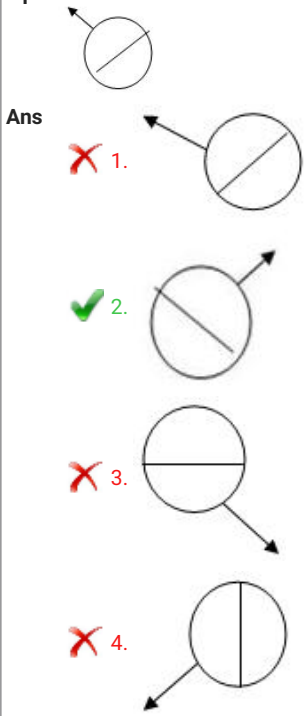
Q.1

0 निम्नलिखित में से असंगत को पहचानें।

- Ans
- ✓ 1. Z
 - ✗ 2. I
 - ✗ 3. E
 - ✗ 4. U

Question ID : 9895806483
Chosen Option : 1

Q.1 उस विकल्प का चयन करें जो दिए गए संयोजन की दर्पण छवि से सर्वाधिक निकट प्रतीत होता है।



Question ID : 9895806503
Chosen Option : 2

Q.1 नीचे दिए गए कथनों के बाद दो निष्कर्ष I और II दिए गए हैं। आपको कथनों में दी गई जानकारी को सत्य मानना है, भले ही वे सर्वज्ञ तथ्यों से भिन्न प्रतीत होती हों, और यह तय करना है कि कौन सा/से निष्कर्ष तार्किक रूप से और निश्चित रूप से कथनों का अनुसरण करता है/करते हैं।

कथन :

कुछ बंदर गधे हैं।
सभी गधे शेर हैं।

निष्कर्ष:

- I. सभी शेर गधे हैं।
- II. सभी गधे बंदर हैं।

- Ans
- ✗ 1. निष्कर्ष I और II दोनों अनुसरण करते हैं।
 - ✗ 2. केवल निष्कर्ष II अनुसरण करता है।
 - ✓ 3. न तो निष्कर्ष I और न ही निष्कर्ष II अनुसरण करता है।
 - ✗ 4. केवल निष्कर्ष I अनुसरण करता है।

Question ID : 9895806493
Chosen Option : 3

Q.1

3 निम्नलिखित में से असंगत की पहचान करें।

- Ans
- 1. 225
 - 2. 256
 - 3. 167
 - 4. 196

Question ID : 9895806497
Chosen Option : 3

Q.1 4 निम्नलिखित श्रृंखला में अगली आने वाली दशमलव संख्या को पहचानें।

20, 19.9, 19.89, 19.889, 19.8889, _____

- Ans
- 1. 19.88889
 - 2. 19.88999
 - 3. 19.98889
 - 4. 19.88888

Question ID : 9895806494
Chosen Option : 1

Q.1 5 एक दवा कंपनी ने आठ नई दवाएं - A, B, C, D, E, F, G और H लॉन्च कीं। दवाइयों को 2015 में 3 महीने की अवधि में एक के बाद एक लॉन्च किया गया था। लॉन्च करने का क्रम निम्नलिखित शर्तों पर आधारित था:

- A, H के तुरंत बाद लॉन्च हुआ;
- E, G और A दोनों से पहले लॉन्च हुआ;
- C, E के तुरंत बाद लॉन्च हुआ;
- D, E से पहले लेकिन B के बाद लॉन्च हुआ; तथा
- B, F से तुरंत पहले लॉन्च हुआ।

निम्नलिखित में से कौन सा कथन सत्य हो सकता है?

- Ans
- 1. B लॉन्च की जाने वाली तीसरी दवा थी।
 - 2. C लॉन्च की जाने वाली पाँचवी दवा थी।
 - 3. G लॉन्च की जाने वाली दूसरी दवा थी।
 - 4. A लॉन्च की जाने वाली चौथी दवा थी।

Question ID : 9895806491
Chosen Option : 2

Q.1 6 दिए गए कथनों और निष्कर्षों को ध्यानपूर्वक पढ़ें और तय करें कि कौन सा/से निष्कर्ष तार्किक रूप से कथनों का अनुसरण करता है/ करते हैं।

कथन:
सभी लड़कियां छात्राएं हैं।
सभी छात्राएं बहनें हैं।

निष्कर्ष:

- I. सभी लड़कियां बहनें हैं।
- II. कुछ लड़कियां बहनें नहीं हैं।

- Ans
- 1. न तो निष्कर्ष I और न ही निष्कर्ष II अनुसरण करता है।

2. केवल निष्कर्ष II अनुसरण करता है।
 3. केवल निष्कर्ष I अनुसरण करता है।
 4. निष्कर्ष I और II दोनों अनुसरण करते हैं।

Question ID : 9895806492
Chosen Option : 3

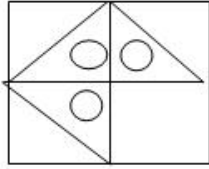
Q.1 दिए गए समीकरण को सही बनाने के लिए किन दो चिन्हों को आपस में बदलना होगा?

$$0 \div 15 + 15 - 10 \times 10 = -99$$

- Ans 1. \div और \times
 2. \div और $-$
 3. $+$ और \div
 4. $+$ और \times

Question ID : 9895806498
Chosen Option : 3

Q.1 निम्नलिखित पैटर्न को पूरा करने के लिए सही विकल्प का चयन करें।



- Ans 1.
 2.
 3.
 4.

Question ID : 9895806502
Chosen Option : 2

Q.1 निम्नलिखित संख्या श्रृंखला में, दो संख्याओं को कोष्ठक में रखा गया है। श्रृंखला का ध्यानपूर्वक अध्ययन करें और श्रृंखला के संबंध में सही विकल्प का चयन करें।

2, 5, 10, 17, (26), 37, 50, 65, (81), 101

- Ans 1.
(बाएं से) पहली कोष्ठक वाली संख्या गलत है और दूसरी सही है।
 2. दोनों कोष्ठक वाली संख्याएँ सही हैं।
 3.
(बाएं से) पहली कोष्ठक वाली संख्या सही है और दूसरी गलत है।

✗ 4. दोनों कोष्ठक वाली संख्याएँ गलत हैं।

Question ID : 9895806499
Chosen Option : 3

Q.2
0 निम्नलिखित में से असंगत को पहचानें।

- Ans
- ✓ 1. भेड़
 - ✗ 2. रजाई
 - ✗ 3. तकिया
 - ✗ 4. बिस्तर

Question ID : 9895806482
Chosen Option : 1



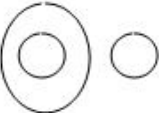

Q.2
1 निम्नलिखित में से असंगत युग्म को पहचानें।

- Ans
- ✗ 1. इंडिया गेट : नई दिल्ली
 - ✗ 2. ताज महल : आगरा
 - ✓ 3. कोणार्क : ओडिशा
 - ✗ 4. विक्टोरिया स्मारक : कोलकाता

Question ID : 9895806484
Chosen Option : 4

Q.2
2 वेन आरेख का चयन करें जो दिए गए तीन वर्गों के बीच के संबंध को सर्वोत्तम रूप में दर्शाता है।

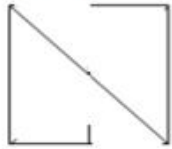
भाषाएँ, हिन्दी, मलयालम

- Ans
- ✗ 1. 
 - ✓ 2. 
 - ✗ 3. 
 - ✗ 4. 

Question ID : 9895806505
Chosen Option : 2

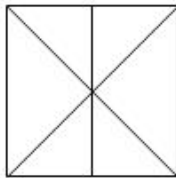
Q.2
3

उस विकल्प का चयन करें जिसमें दी गई आकृति अंतर्निहित है।

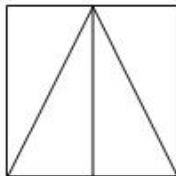


Ans

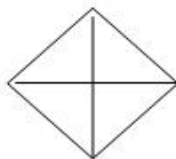
✓ 1.



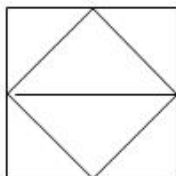
✗ 2.



✗ 3.



✗ 4.



Question ID : 9895806501
Chosen Option : 1

Q.2 उस विकल्प का चयन करें जो तीसरे पद से उसी तरह से संबंधित है जिस प्रकार दूसरा पद पहले पद से संबंधित है।

प्रचुर : दुर्लभ :: आगमन : ?

Ans

✗ 1. आना

✓ 2. प्रस्थान

✗ 3. रुकना

✗ 4. पहुँचना

Question ID : 9895806485
Chosen Option : 2

Q.2 यदि PROFIT को 17-19-16-7-10-21 के रूप में कूटबद्ध किया गया है, तो COMPANY को कैसे कूटबद्ध किया जाएगा?

Ans

✓ 1. 4-16-14-17-2-15-26

✗ 2. 3-15-13-16-1-14-25

✗ 3. 3-16-14-17-2-15-25

✗ 4. 4-15-13-17-2-15-26

Question ID : 9895806487
Chosen Option : 1

Q.2 'मोडसे' निम्नलिखित में से किस भारतीय राज्य का पारंपरिक नृत्य है?

Ans

- 1. ओडिशा
- 2. झारखंड
- 3. नागालैंड
- 4. मिज़ोरम

Question ID : 9895806531
Chosen Option : 4

Q.2
7 विश्व में सबसे बड़ा पेयजल जलाशय कहाँ स्थित है?

- Ans
- 1. रूस
 - 2. संयुक्त राज्य अमेरिका
 - 3. चीन
 - 4. सऊदी अरब

Question ID : 9895806549
Chosen Option : 1

Q.2
8 रेगिस्तानी क्षेत्र में किस प्रकार की वनस्पति सामान्य रूप से पाई जाती है?

- Ans
- 1. झाड़ी
 - 2. हर्बेशीयस
 - 3. बेलें
 - 4. वृक्ष

Question ID : 9895806548
Chosen Option : 2

Q.2
9 किसी भी परिसंकटमय नियोजन में काम करने के लिए 14 वर्ष से कम उम्र के बच्चों का निषेध भारतीय संविधान के किस अनुच्छेद में वर्णित है?

- Ans
- 1. 25
 - 2. 23
 - 3. 22
 - 4. 24

Question ID : 9895806542
Chosen Option : 4

Q.3
0 वह उद्योगपति की पहचान करें जो वेदांत रिसोर्सिज़ नामक प्राकृतिक संसाधन कंपनी के संस्थापक हैं।

- Ans
- 1. अनील अग्रवाल
 - 2. विशाल सिक्का
 - 3. कुलदीप अग्रवाल
 - 4. शंकर उदय

Question ID : 9895806538
Chosen Option : 1

Q.3
1 ऋग्वेद को कितने 'मंडलों' या पुस्तकों में विभाजित किया गया है?

- Ans
- 1. 12
 - 2. 10
 - 3. 5
 - 4. 7

Question ID : 9895806553
Chosen Option : 2

Q.3
2 बैंकिंग शब्दावली में, SLR शब्द का अर्थ है:

- Ans
- 1. सबोर्डिनेट लेवल रिटर्न
 - 2. स्टैंडर्ड लिक्विड रेशिओ
 - 3. स्टेच्युटरी लिक्विडिटी रेशिओ
 - 4. सबसीडरी लेवरेजिंग रेशिओ

Question ID : 9895806540
Chosen Option : 3

Q.3
3 भारत सरकार के द्वारा घोषित न्यूनतम समर्थन मूल्य (MSP) कितनी फसलों के लिए है?

- Ans
- 1. 30
 - 2. 15
 - 3. 25
 - 4. 20

Question ID : 9895806541
Chosen Option : 2

Q.3
4 धुपगढ़ चोटी भारत के किस राज्य में स्थित है?

- Ans
- 1. मध्य प्रदेश
 - 2. राजस्थान
 - 3. गुजरात
 - 4. उत्तर प्रदेश

Question ID : 9895806551
Chosen Option : 1

Q.3
5 FM रेडियो का पेटेंट किसने कराया था?

- Ans
- 1. निकोला टेस्ला
 - 2. जॉन लॉगी बेयर्ड
 - 3. थॉमस ऐल्वा एडीसन
 - 4. एडविन एच. आर्मस्ट्रांग

Question ID : 9895806545
Chosen Option : 2

Q.3
6 निम्नलिखित में से पल्लव राजवंश की राजधानी कौन सी थी?

- Ans
- 1. विशाखापट्टनम
 - 2. कांचीपुरम
 - 3. तंजावुर
 - 4. मदुरै

Question ID : 9895806554
Chosen Option : 2

Q.3
7 'लोसोंग' निम्नलिखित में से किस भारतीय राज्य का त्योहार है?

- Ans
- 1. गोवा
 - 2. मेघालय
 - 3. सिक्किम
 - 4. अरुणाचल प्रदेश

Question ID : 9895806532
Chosen Option : 2

Q.3
8 निम्नलिखित में से कौन सा जानवर स्तनपायी है?

- Ans
- 1. कछूआ
 - 2. व्हेल
 - 3. ऐनलिड
 - 4. बुल्फ्राग

Question ID : 9895806547
Chosen Option : 2

Q.3
9 हरित क्रांति निम्नलिखित में से किस राष्ट्र में पहले शुरू की गई थी?

- Ans
- 1. ब्राज़िल
 - 2. अर्जेंटीना
 - 3. चिली
 - 4. मेक्सिको

Question ID : 9895806552
Chosen Option : 4

Q.4
0 भारत में GST कब लागू हुआ?

- Ans
- 1. 15 अगस्त 2014
 - 2. 1 जुलाई 2017
 - 3. 2 अक्टूबर 2015

✗ 4. 8 नवंबर 2016

Question ID : 9895806539
Chosen Option : 2

Q.4
1 ऐतिहासिक फव्वारा 'गुलज़ार हौज़' निम्नलिखित में से किस भारतीय शहर में स्थित है?

- Ans
- ✗ 1. दिल्ली
 - ✗ 2. लखनऊ
 - ✓ 3. हैदराबाद
 - ✗ 4. अजमेर

Question ID : 9895806533
Chosen Option : 3

Q.4
2 'ग्रेट मैन मेड रिवर' किस देश में स्थित है?

- Ans
- ✗ 1. केन्या
 - ✗ 2. इथियोपिया
 - ✓ 3. लीबिया
 - ✗ 4. मिस्र

Question ID : 9895806550
Chosen Option : 4

Q.4
3 किसी एक व्यक्ति को भारतीय सर्वोच्च न्यायालय के न्यायाधीश के रूप में नियुक्त होने के लिए उच्च न्यायालय में कितने वर्षों तक अभ्यास करना अनिवार्य है?

- Ans
- ✓ 1. 10
 - ✗ 2. 15
 - ✗ 3. 12
 - ✗ 4. 5

Question ID : 9895806544
Chosen Option : 1

Q.4
4 निम्नलिखित में से विश्व के किस नेता को प्रथम फिलिप कोटलर प्रेसिडेंसियल सम्मान से सम्मानित किया गया है?

- Ans
- ✗ 1. एन्जेला मर्केल
 - ✓ 2. नरेंद्र मोदी
 - ✗ 3. डोनाल्ड ट्रम्प
 - ✗ 4. थेरेसा मे

Question ID : 9895806536
Chosen Option : 2

Q.4
5 टमाटर में कौन सा अम्ल (एसिड) मौजूद होता है?

- Ans
- ✓ 1. ओक्सालिक एसिड
 - ✗ 2. टार्टरिक एसिड

3. सल्फेनिक एसिड

4. मेलिक एसिड

Question ID : 9895806546
Chosen Option : 1

Q.4
6 भारतीय संसद द्वारा भगोड़ा आर्थिक अपराधी अधिनियम कब पारित किया गया?

Ans 1. 2016

2. 2014

3. 2012

4. 2018

Question ID : 9895806543
Chosen Option : 1

Q.4
7 भारतीय राष्ट्रीय कांग्रेस की स्थापना किस शहर में हुई थी?

Ans 1. बंबई

2. राजकोट

3. मद्रास

4. कलकत्ता

Question ID : 9895806555
Chosen Option : 1

Q.4
8 भारतीय पारंपरिक खेल, 'इन्सुकनार' किस राज्य से संबंधित है?

Ans 1. मिज़ोरम

2. नागालैंड

3. मेघालय

4. मणिपुर

Question ID : 9895806534
Chosen Option : 1

Q.4
9 'वाय आई एम ए हिन्दू' पुस्तक के लेखक कौन हैं?

Ans 1. अमीष त्रिपाठी

2. दुर्जोय दत्ता

3. चेतन भगत

4. शशि थरूर

Question ID : 9895806537
Chosen Option : 1

Q.5
0 निम्नलिखित में से श्रीलंका का राष्ट्रीय खेल कौन सा है?

Ans 1. क्रिकेट

2. बास्केटबॉल
 3. हॉकी
 4. वॉलीबॉल

Question ID : 9895806535
 Chosen Option : 1

Q.5 वह सबसे छोटी संख्या कौन सी है जिसे 27, 45, 30 से विभाजित किये जाने पर हर मामले में शेष 5 आता है?

- 1
 Ans 1. 275
 2. 260
 3. 308
 4. 102

Question ID : 9895806581
 Chosen Option : 1

Q.5 तालिका का उचित रूप से अध्ययन करें और आंकड़े की व्याख्या करके उत्तर दें:

2 तालिका एक परीक्षा में चार अलग-अलग विषयों में पांच छात्रों द्वारा प्राप्त अंकों का प्रतिशत दर्शाती है।

छात्र	विषय (अधि. अंक)			
	गणित (150)	रसायन विज्ञानं (130)	भौतिक विज्ञानं (120)	जीव विज्ञानं (100)
हरीश	90	50	60	70
रमण	80	30	60	65
राजेश	70	60	80	82
मनोज	35	75	20	72
अजमत	40	35	38	48

प्रत्येक विषय में 50% से कम अंक प्राप्त करने वाले कितने छात्र हैं:

- Ans 1. 4
 2. 2
 3. 3
 4. 1

Question ID : 9895806605
 Chosen Option : 4

Q.5 यदि किसी निश्चित संख्या का 20% किसी अन्य संख्या के 3/4 के बराबर है, तो संख्याओं के बीच अनुपात क्या है?

- 3
 Ans 1. 3 : 4
 2. 4 : 3
 3. 15 : 4
 4. 4 : 6

Question ID : 9895806594
 Chosen Option : 2

Q.5 40 किमी प्रति घंटे की गति से चल रही एक ट्रेन द्वारा 150 किमी की दूरी तय करने में लगने वाला समय है:

- 4
 Ans 1. 2 घंटे 35 मिनट

✗ 2. 3 घंटे 35 मिनट

✗ 3. 2 घंटे 45 मिनट

✓ 4. 3 घंटे 45 मिनट

Question ID : 9895806588

Chosen Option : 4

Q.5 एक समपार्श्व का आधार एक समबाहु त्रिभुज है, जिसकी भुजा 5 m है, और ऊँचाई 20 m है। समपार्श्व का आयतन है:

Ans ✗ 1. 125 m^3

✗ 2. $120\sqrt{3}\text{m}^3$

✗ 3. 120 m^3

✓ 4. $125\sqrt{3}\text{m}^3$

Question ID : 9895806602

Chosen Option : 4

Q.5 तालिका का उचित रूप से अध्ययन करें और आंकड़े की व्याख्या करके उत्तर दें:

6 तालिका एक परीक्षा में चार अलग-अलग विषयों में पांच छात्रों द्वारा प्राप्त अंकों का प्रतिशत दर्शाती है।

छात्र	विषय (अधि. अंक)			
	गणित (150)	रसायन विज्ञानं (130)	भौतिक विज्ञानं (120)	जीव विज्ञानं (100)
हरीश	90	50	60	70
रमण	80	30	60	65
राजेश	70	60	80	82
मनोज	35	75	20	72
अजमत	40	35	38	48

रसायन विज्ञान में सभी पांच छात्रों द्वारा प्राप्त औसत अंक क्या है?

Ans ✓ 1. 65

✗ 2. 85

✗ 3. 70

✗ 4. 75

Question ID : 9895806603

Chosen Option : 4

Q.5 पांच संख्याओं का औसत 120 है। यदि एक संख्या को अलग किया जाए, तो शेष चार संख्याओं का औसत 130 है।
7 अलग की गई संख्या है:

Ans ✗ 1. 120

✗ 2. 75

✓ 3. 80

✗ 4. 110

Question ID : 9895806584

Chosen Option : 3

Q.5 ₹2500 अंकित मूल्य वाली एक शर्ट ₹2200 में मिल रही है, कितने प्रतिशत की छूट प्रदान की गई है?
8

Ans

- 1. 12%
- 2. 10%
- 3. 15%
- 4. 25%

Question ID : 9895806599
Chosen Option : 1

Q.5 केन्द्रीय प्रवृत्ति में माध्य, माध्यिका और बहुलक के बीच संबंध है:

- Ans
- 1. माध्यिका = 3 बहुलक - 2 माध्य
 - 2. माध्यिका = 3 बहुलक + 2 माध्य
 - 3. बहुलक = 3 माध्यिका + 2 माध्य
 - 4. बहुलक = 3 माध्यिका - 2 माध्य

Question ID : 9895806599
Chosen Option : 4

Q.6 ARITHMETIC शब्द में, 1 अक्षर के होने का प्रतिशत क्या है?

- Ans
- 1. 20%
 - 2. 15%
 - 3. 25%
 - 4. 10%

Question ID : 9895806591
Chosen Option : 1

Q.6 एक बल्लेबाज अपनी 12 वीं पारी में 60 रन बनाता है और इस तरह उसका औसत रन 2 रन से बढ़ जाता है। उसकी 11 वीं पारी के बाद का औसत रन क्या था?

- Ans
- 1. 63
 - 2. 48
 - 3. 36
 - 4. 84

Question ID : 9895806585
Chosen Option : 3

Q.6 वार्षिक आधार पर चक्रवृद्धित 5% प्रति वर्ष की ब्याज दर पर ₹800 की राशि कितने समय में ₹882 हो जाएगी?

- Ans
- 1. 3 वर्ष
 - 2. 2 वर्ष
 - 3. 4 वर्ष
 - 4. 5 वर्ष

Question ID : 9895806596
Chosen Option : 2

Q.6 तालिका का उचित रूप से अध्ययन करें और आंकड़े की व्याख्या करके उत्तर दें:

3 तालिका एक परीक्षा में चार अलग-अलग विषयों में पांच छात्रों द्वारा प्राप्त अंकों का प्रतिशत दर्शाती है।

छात्र	विषय (अधि. अंक)			
	गणित (150)	रसायन विज्ञानं (130)	भौतिक विज्ञानं (120)	जीव विज्ञानं (100)
हरीश	90	50	60	70
रमण	80	30	60	65
राजेश	70	60	80	82
मनोज	35	75	20	72
अजमत	40	35	38	48

सभी विषयों में 50% और उससे अधिक अंक प्राप्त करने वाले छात्रों की संख्या है:

- Ans
- 1. 2
 - 2. 3
 - 3. 5
 - 4. 4

Question ID : 9895806604
Chosen Option : 1

Q.6 कितने प्रतिशत प्रति वर्ष की साधारण ब्याज दर पर ₹1800 की राशि 10 वर्षों में ₹2700 हो जाएगी?

- 4 Ans
- 1. 12%
 - 2. 15%
 - 3. 10%
 - 4. 5%

Question ID : 9895806595
Chosen Option : 4

Q.6 2 m भुजा वाले घन बॉक्स में 5 cm भुजा वाले कितने घन रखे जा सकते हैं?

- 5 Ans
- 1. 10000
 - 2. 46000
 - 3. 64000
 - 4. 5000

Question ID : 9895806600
Chosen Option : 1

Q.6 एक व्यक्ति 60 किमी / घंटा की गति से एक स्थान (P) से दूसरे स्थान (Q) पर जाता है और अपनी गति को 50% बढ़ाकर Q से वापस आता है। व्यक्ति की औसत गति है:

- 6 Ans
- 1. 72 km/hr
 - 2. 74 km/hr
 - 3. 62 km/hr
 - 4. 75 km/hr

Question ID : 9895806589
Chosen Option : 1

Q.6

7 रहीम और हरीश क्रमशः 15 दिनों और 10 दिनों में एक काम पूरा कर सकते हैं। यदि वे एक साथ काम करते हैं तो कितने दिनों में वही काम पूरा हो जाएगा?

- Ans
- 1. 30
 - 2. 5
 - 3. 6
 - 4. 25

Question ID : 9895806586

Chosen Option : 3

Q.6 किसी वस्तु के विक्रय मूल्य और क्रय मूल्य का अनुपात 7 : 3 है। वस्तु के लाभ और विक्रय मूल्य के बीच अनुपात क्या होगा?

- Ans
- 1. 4 : 7
 - 2. 7 : 3
 - 3. 5 : 2
 - 4. 7 : 4

Question ID : 9895806593

Chosen Option : 1

Q.6 15 वस्तुओं का क्रय मूल्य 12 वस्तुओं के विक्रय मूल्य के बराबर है। लाभ या हानि प्रतिशत है:

- Ans
- 1. 20% लाभ
 - 2. 20% हानि
 - 3. 25% लाभ
 - 4. 25% हानि

Question ID : 9895806597

Chosen Option : 3

Q.7 दो समबाहु त्रिभुजों का क्षेत्रफल का अनुपात 36 : 64 है। उनकी ऊंचाई का अनुपात होगा:

- Ans
- 1. 6 : 8
 - 2. 36 : 64
 - 3. 8 : 6
 - 4. 64 : 36

Question ID : 9895806601

Chosen Option : 1

Q.7 यदि 6 व्यक्ति 24 दिन में 36 एकड़ फसल की कटाई करते हैं, तो 12 व्यक्ति 18 दिनों में कितने एकड़ फसल की कटाई करेंगे?

- Ans
- 1. 24
 - 2. 28
 - 3. 15
 - 4. 35

Question ID : 9895806587

Chosen Option : 1

Q.7
2

5 + [(28 - 4) ÷ 2² + 2] - 2 का मान क्या है?

- Ans
- 1. 6
 - 2. 7
 - 3. 4
 - 4. 5

Question ID : 9895806583

Chosen Option : 4

Q.7 100 संतरे 400 रुपये में खरीदे जाते हैं और ₹60 प्रति दर्जन की दर से बेचे जाते हैं। लाभ या हानि प्रतिशत है:

- Ans
- 1. 30% हानि
 - 2. 15% लाभ
 - 3. 25% लाभ
 - 4. 20% हानि

Question ID : 9895806598

Chosen Option : 3

Q.7 54 - 2(20 + 12 ÷ 4 × 3 - 2 × 2) + 10 का मान क्या है?

- Ans
- 1. 24
 - 2. 4
 - 3. 12
 - 4. 14

Question ID : 9895806582

Chosen Option : 4

Q.7 दो संख्याओं का अनुपात 8 : 3 है और उनका अंतर 120 है। दोनों संख्याओं में सबसे छोटी संख्या कौन सी है?

- Ans
- 1. 72
 - 2. 84
 - 3. 162
 - 4. 65

Question ID : 9895806592

Chosen Option : 1

Section : English Language

Q.1 Select the most appropriate option to substitute the underlined segment in the given sentence. If there is no need to substitute it, select No improvement.

Evolution is the gradual change over the physical and mental make up of species.

- Ans
- 1. No improvement
 - 2. on the physical and mental make-up of species
 - 3. from the physical and mental make-up of species
 - 4. in the physical and mental make-up of species

Question ID : 9895806159

Chosen Option : --

Q.2 Select the antonym of the given word.

GORGEOUS

- Ans
- 1. Ordinary
 - 2. Beautiful
 - 3. Smart
 - 4. Decorative

Question ID : 9895806170

Chosen Option : --

Q.3 Select the word which means the same as the group of words given.

A collection of poems

- Ans
- 1. Rhyme
 - 2. Anthology
 - 3. Verse
 - 4. Stanza

Question ID : 9895806174

Chosen Option : --

Q.4 Select the option that means the same as the given idiom.

To be in hot water

- Ans
- 1. To be depended on
 - 2. To be in trouble
 - 3. To be unreliable
 - 4. To be praised

Question ID : 9895806172

Chosen Option : --

Q.5 From the given options, identify the segment in the sentence which contains the grammatical error.

The department will initiate a campaign to promoting organic farming across the State.

- Ans
- 1. organic farming
 - 2. across the State
 - 3. will initiate
 - 4. to promoting

Question ID : 9895806155

Chosen Option : --

Q.6 Select the option that means the same as the given idiom.

Fair weather friends

- Ans
- 1. Friends who are always happy

- 2. Good company for holidays
- 3. Friends in good times
- 4. Friends who keep you happy

Question ID : 9895806173
Chosen Option : --

Q.7 Select the most appropriate option to substitute the underlined segment in the given sentence. If there is no need to substitute it, select No improvement.

He do not register his dissent to the proposal put forward by the member.

- Ans
- 1. does not registered his dissent to
 - 2. did not register his dissent to
 - 3. did not registered his dissent to
 - 4. No improvement

Question ID : 9895806158
Chosen Option : --

Q.8 Select the most appropriate option to substitute the underlined segment in the given sentence. If there is no need to substitute it, select No improvement.

He searched for his files across the chest of drawers.

- Ans
- 1. into the chest of drawers
 - 2. above the chest of drawers
 - 3. No improvement
 - 4. in the chest of drawers

Question ID : 9895806157
Chosen Option : --

Q.9 From the given options, identify the segment in the sentence which contains the grammatical error.

The football team had won the series abroad after a decade and brings home the trophy.

- Ans
- 1. abroad after
 - 2. won the series
 - 3. a decade
 - 4. and brings

Question ID : 9895806156
Chosen Option : --

Q.10 From the given options, identify the segment in the sentence which contains the grammatical error.

Gazing out of the train window as I travelled upon the country, I was introduced to a new India.

- Ans
- 1. a new India
 - 2. upon the
 - 3. introduced to
 - 4. Gazing out

Question ID : 9895806154
Chosen Option : --

Q.1
1 Select the antonym of the given word.

PAUCITY

- Ans
- 1. Shortage
 - 2. Lack
 - 3. Surplus
 - 4. Flexibility

Question ID : 9895806171
Chosen Option : --

Q.1
2 Select the most appropriate synonym of the given word.

MANDATORY

- Ans
- 1. Elementary
 - 2. Advanced
 - 3. Lucid
 - 4. Compulsory

Question ID : 9895806169
Chosen Option : --

Q.1
3 Select the most appropriate word to fill in the blank.

I read 'Harry Potter' books because they were _____ by my friend.

- Ans
- 1. counselled
 - 2. advised
 - 3. recommended
 - 4. motivated

Question ID : 9895806176
Chosen Option : --

Q.1
4 Select the most appropriate synonym of the given word.

FUTILE

- Ans
- 1. Useless
 - 2. Uninteresting
 - 3. Juicy
 - 4. Boring

Question ID : 9895806168
Chosen Option : --

Q.1
5 Select the correctly spelt word.

- Ans
- 1. Permmision
 - 2. Permission
 - 3. Permission

✓ 4. Parmission

Question ID : 9895806179
Chosen Option : --

Q.1
6 Select the most appropriate option to fill in the blank.

In my opinion, he is the _____ of all the brothers.

- Ans
- ✗ 1. brightly
 - ✗ 2. brightest
 - ✓ 3. bright
 - ✗ 4. brighter

Question ID : 9895806161
Chosen Option : --

Q.1
7 Select the word which means the same as the group of words given.

Country treated as permanent home by an individual

- Ans
- ✗ 1. Dwelling
 - ✗ 2. Residence
 - ✗ 3. Neighbourhood
 - ✓ 4. Domicile

Question ID : 9895806175
Chosen Option : --

Comprehension:

In the following passage some words have been deleted. Fill in the blanks with the help of the alternatives given.

Lions live for around 10-14 years in the wild, while in (1) _____ they can live over 20 years. In the wild, males seldom live longer than ten years as fights with rivals occasionally cause them (2) _____. They typically (3) _____ Savanna and grassland, although they may take to bush and forest. A (4) _____ of lions consists of related females and offspring and some adult males. Groups of female lions typically hunt together (5) _____ mostly on large hoofed animals.

SubQuestion No : 18

Q.1
8 Select the most appropriate option that will fill in the blank number 1.

- Ans
- ✗ 1. forest
 - ✓ 2. captivity
 - ✗ 3. cage
 - ✗ 4. caves

Question ID : 9895806163
Chosen Option : --

Comprehension:

In the following passage some words have been deleted. Fill in the blanks with the help of the alternatives given.

Lions live for around 10-14 years in the wild, while in (1) _____ they can live over 20 years. In the wild, males seldom live longer than ten years as fights with rivals occasionally cause them (2) _____. They typically (3) _____ Savanna and grassland, although they may take to bush and forest. A (4) _____ of lions consists of related females and offspring and some adult males. Groups of female lions typically hunt together (5) _____ mostly on large hoofed animals.

SubQuestion No : 19

Q.1
9 Select the most appropriate option that will fill in the blank number 2.

- Ans
- 1. damage
 - 2. injuries
 - 3. loss
 - 4. harm

Question ID : 9895806164
Chosen Option : --

Comprehension:

In the following passage some words have been deleted. Fill in the blanks with the help of the alternatives given.

Lions live for around 10-14 years in the wild, while in (1) _____ they can live over 20 years. In the wild, males seldom live longer than ten years as fights with rivals occasionally cause them (2) _____. They typically (3) _____ Savanna and grassland, although they may take to bush and forest. A (4) _____ of lions consists of related females and offspring and some adult males. Groups of female lions typically hunt together (5) _____ mostly on large hoofed animals.

SubQuestion No : 20

Q.2
0 Select the most appropriate option that will fill in the blank number 3.

- Ans
- 1. inhabit
 - 2. grow
 - 3. breed
 - 4. nurture

Question ID : 9895806165
Chosen Option : --

Comprehension:

In the following passage some words have been deleted. Fill in the blanks with the help of the alternatives given.

Lions live for around 10-14 years in the wild, while in (1) _____ they can live over 20 years. In the wild, males seldom live longer than ten years as fights with rivals occasionally cause them (2) _____. They typically (3) _____ Savanna and grassland, although they may take to bush and forest. A (4) _____ of lions consists of related females and offspring and some adult males. Groups of female lions typically hunt together (5) _____ mostly on large hoofed animals.

SubQuestion No : 21

Q.2
1 Select the most appropriate option that will fill in the blank number 4.

- Ans
- 1. flock
 - 2. bunch
 - 3. pack
 - 4. pride

Question ID : 9895806166
Chosen Option : --

Comprehension:

In the following passage some words have been deleted. Fill in the blanks with the help of the alternatives given.

Lions live for around 10-14 years in the wild, while in (1) _____ they can live over 20 years. In the wild, males seldom live longer than ten years as fights with rivals occasionally cause them (2) _____. They typically (3) _____ Savanna and grassland, although they may take to bush and forest. A (4) _____ of lions consists of related females and offspring and some adult males. Groups of female lions typically hunt together (5) _____ mostly on large hoofed animals.

SubQuestion No : 22

Q.2
2 Select the most appropriate option that will fill in the blank number 5.

- Ans
- 1. snatching
 - 2. preying
 - 3. consuming
 - 4. eating

Question ID : 9895806167
Chosen Option : --

Q.2
3 Select the correctly spelt word.

- Ans
- 1. Commemorate
 - 2. Comemorate
 - 3. Commamorate
 - 4. Comamorate

Question ID : 9895806178

Q.2
4 Select the most appropriate word to fill in the blank.

In what ways has progress in human knowledge _____ our environment?

- Ans
- 1. reframed
 - 2. aligned
 - 3. altered
 - 4. represented

Question ID : 9895806177
Chosen Option : --

Q.2
5 Select the most appropriate option to fill in the blank.

There is nothing that _____ of us can do to solve the problem.

- Ans
- 1. any
 - 2. every one
 - 3. none
 - 4. no one

Question ID : 9895806160
Chosen Option : --

Section : Hindi Language

Q.1 दिए गए वाक्य में रेखांकित खंड को प्रतिस्थापित करने के लिए उपयुक्त विकल्प का चयन करें।

दादाजी समाचार पत्र पढ़ रहे हैं और दादी जी पूजा कर रहे हैं।

- Ans
- 1. दादी जी पूजा कर रही हैं।
 - 2. दादी जी पूजा कर रहा है।
 - 3. दादी जी पूजा कर रही थे।
 - 4. दादी जी पूजा कर रहे है।

Question ID : 9895805949
Chosen Option : 1

Comprehension:

निम्नलिखित गद्यांश के रिक्त स्थानों की पूर्ति गद्यांश के नीचे दिए गए प्रश्नों के अनुसार कीजिए -

आज के युवा कल के भविष्य हैं। देश की उन्नति का आधार युवा वर्ग को ही माना जाता है। युवाओं में इतना _____ (1) एवं शक्ति होती है कि वे किसी भी परेशानी का सामना कर सकते हैं। इनके जीने की अपनी एक अलग _____ (2) होती है। युवा वर्ग में हर समय कुछ नया करने का _____ (3) होता है। आज इन्हीं सब की देन है कि हमारी सेना दिन-प्रतिदिन _____ (4) होती जा रही है। परन्तु कई कारणों से युवाओं में पाश्चात्य संस्कृति का प्रभाव एवं आधुनिक रहन-सहन की धारणा उत्पन्न हो रही है, जिसके कारण वे अपने नैतिक _____ (5) की अवहेलना करने लगे हैं।

SubQuestion No : 2

Q.2 गद्यांश में संकेतित रिक्त स्थान (1) के लिए उपयुक्त शब्द होगा -

- Ans
- 1. खुशी
 - 2. पानी
 - 3. साहस
 - 4. शांति

Question ID : 9895805957
Chosen Option : 3

Comprehension:

निम्नलिखित गद्यांश के रिक्त स्थानों की पूर्ति गद्यांश के नीचे दिए गए प्रश्नों के अनुसार कीजिए -

आज के युवा कल के भविष्य हैं। देश की उन्नति का आधार युवा वर्ग को ही माना जाता है। युवाओं में इतना _____ (1) एवं शक्ति होती है कि वे किसी भी परेशानी का सामना कर सकते हैं। इनके जीने की अपनी एक अलग _____ (2) होती है। युवा वर्ग में हर समय कुछ नया करने का _____ (3) होता है। आज इन्हीं सब की देन है कि हमारी सेना दिन-प्रतिदिन _____ (4) होती जा रही है। परन्तु कई कारणों से युवाओं में पाश्चात्य संस्कृति का प्रभाव एवं आधुनिक रहन-सहन की धारणा उत्पन्न हो रही है, जिसके कारण वे अपने नैतिक _____ (5) की अवहेलना करने लगे हैं।

SubQuestion No : 3

Q.3 गद्यांश में संकेतित रिक्त स्थान (2) के लिए उपयुक्त शब्द होगा -

- Ans
- 1. शैली
 - 2. जिज्ञासा

3. तरीका

4. उत्साह

Question ID : 9895805958
Chosen Option : 1

Comprehension:

निम्नलिखित गद्यांश के रिक्त स्थानों की पूर्ति गद्यांश के नीचे दिए गए प्रश्नों के अनुसार कीजिए -

आज के युवा कल के भविष्य हैं। देश की उन्नति का आधार युवा वर्ग को ही माना जाता है। युवाओं में इतना _____ (1) एवं शक्ति होती है कि वे किसी भी परेशानी का सामना कर सकते हैं। इनके जीने की अपनी एक अलग _____ (2) होती है। युवा वर्ग में हर समय कुछ नया करने का _____ (3) होता है। आज इन्हीं सब की देन है कि हमारी सेना दिन-प्रतिदिन _____ (4) होती जा रही है। परन्तु कई कारणों से युवाओं में पाश्चात्य संस्कृति का प्रभाव एवं आधुनिक रहन-सहन की धारणा उत्पन्न हो रही है, जिसके कारण वे अपने नैतिक _____ (5) की अवहेलना करने लगे हैं।

SubQuestion No : 4

Q.4 गद्यांश में संकेतित रिक्त स्थान (3) के लिए उपयुक्त शब्द होगा -

- Ans 1. सपना
 2. डर
 3. आदर
 4. प्रेम

Question ID : 9895805959
Chosen Option : 1

Comprehension:

निम्नलिखित गद्यांश के रिक्त स्थानों की पूर्ति गद्यांश के नीचे दिए गए प्रश्नों के अनुसार कीजिए -

आज के युवा कल के भविष्य हैं। देश की उन्नति का आधार युवा वर्ग को ही माना जाता है। युवाओं में इतना _____ (1) एवं शक्ति होती है कि वे किसी भी परेशानी का सामना कर सकते हैं। इनके जीने की अपनी एक अलग _____ (2) होती है। युवा वर्ग में हर समय कुछ नया करने का _____ (3) होता है। आज इन्हीं सब की देन है कि हमारी सेना दिन-प्रतिदिन _____ (4) होती जा रही है। परन्तु कई कारणों से युवाओं में पाश्चात्य संस्कृति का प्रभाव एवं आधुनिक रहन-सहन की धारणा उत्पन्न हो रही है, जिसके कारण वे अपने नैतिक _____ (5) की अवहेलना करने लगे हैं।

SubQuestion No : 5

Q.5 गद्यांश में संकेतित रिक्त स्थान (4) के लिए उपयुक्त शब्द होगा -

- Ans
- 1. मजबूत
 - 2. दुर्बल
 - 3. कमजोर
 - 4. मलिन

Question ID : 9895805960
Chosen Option : 1

Comprehension:

निम्नलिखित गद्यांश के रिक्त स्थानों की पूर्ति गद्यांश के नीचे दिए गए प्रश्नों के अनुसार कीजिए -

आज के युवा कल के भविष्य हैं। देश की उन्नति का आधार युवा वर्ग को ही माना जाता है। युवाओं में इतना _____ (1) एवं शक्ति होती है कि वे किसी भी परेशानी का सामना कर सकते हैं। इनके जीने की अपनी एक अलग _____ (2) होती है। युवा वर्ग में हर समय कुछ नया करने का _____ (3) होता है। आज इन्हीं सब की देन है कि हमारी सेना दिन-प्रतिदिन _____ (4) होती जा रही है। परन्तु कई कारणों से युवाओं में पाश्चात्य संस्कृति का प्रभाव एवं आधुनिक रहन-सहन की धारणा उत्पन्न हो रही है, जिसके कारण वे अपने नैतिक _____ (5) की अवहेलना करने लगे हैं।

SubQuestion No : 6

Q.6 गद्यांश में संकेतित रिक्त स्थान (5) के लिए उपयुक्त शब्द होगा -

- Ans
- 1. गानों
 - 2. कीमतों
 - 3. मूल्यों
 - 4. फिल्मों

Question ID : 9895805961
Chosen Option : 3

Q.7 निम्नलिखित में से उस विकल्प का चयन करें जो 'पाँचों उँगलियों घी में होना' मुहावरे का अर्थ व्यक्त करता है।

- Ans
- 1. सब प्रकार से लाभ ही लाभ
 - 2. हानि होना
 - 3. उँगलियाँ चाटना
 - 4. उँगलियाँ घी में डालकर बैठना

Question ID : 9895805966

Q.8 दिए गए शब्द के पर्यायवाची शब्द का चयन करें।

पर्वत

- Ans
- 1. पावन
 - 2. पवन
 - 3. भुजंग
 - 4. शैल

Question ID : 9895805964

Chosen Option : 4

Q.9 रिक्त स्थान को भरने के लिए उपयुक्त शब्द का चयन करें।

हम घूमने _____।

- Ans
- 1. जाएँगे
 - 2. चाहेंगे
 - 3. देखेंगे
 - 4. गाएँगे

Question ID : 9895805953

Chosen Option : 1

Q.10 दिए गए शब्द का विलोम चुनें।

योग

- Ans
- 1. नीरोग
 - 2. वियोग
 - 3. संयोग
 - 4. आसन

Question ID : 9895805963

Chosen Option : 2

Q.11 दिए गए शब्द के पर्यायवाची शब्द का चयन करें।

किनारा

- Ans
- 1. नदी
 - 2. संगम
 - 3. तट
 - 4. गंगा

Question ID : 9895805965

Chosen Option : 3

Q.1

2 दिए गए वाक्य का वह भाग ज्ञात करें जिसमें कोई त्रुटि है।

वनों की अंधाधुंध कटाई से स्वच्छ वायु मिलनी कठिन हो गया है।

Ans ✓ 1. मिलनी कठिन हो गया है।

✗ 2. वनों की अंधाधुंध

✗ 3. कटाई से

✗ 4. स्वच्छ वायु

Question ID : 9895805948
Chosen Option : 1

Q.1 3 दिये गये वाक्यांश के लिए एक शब्द चुनिए।

बहुत तीव्र चलने वाला

Ans ✗ 1. प्रतिगामी

✗ 2. आगामी

✗ 3. अल्पगामी

✓ 4. द्रुतगामी

Question ID : 9895805969
Chosen Option : 4

Q.1 4 दिए गए वाक्य का वह भाग ज्ञात करें जिसमें कोई त्रुटि है।

विकास वाहक उपकरणों ने उनके प्रकार का समस्याएँ उत्पन्न कर दी हैं।

Ans ✓ 1. का समस्याएँ

✗ 2. उत्पन्न कर दी हैं।

✗ 3. उनके प्रकार

✗ 4. विकास वाहक उपकरणों ने

Question ID : 9895805946
Chosen Option : 2

Q.1 5 रिक्त स्थान को भरने के लिए उपयुक्त शब्द का चयन करें।

चिड़िया पेड़ _____ बैठी है।

Ans ✗ 1. बाहर

✗ 2. अंदर

✓ 3. पर

✗ 4. भीतर

Question ID : 9895805955
Chosen Option : 3

Q.1
6 दिए गए शब्द का विलोम चुनें।

सर्वदा

- Ans
- 1. सदा
 - 2. सब तरफ
 - 3. यदा-कदा
 - 4. सरिता

Question ID : 9895805962
Chosen Option : 3

Q.1
7 दिये गये वाक्यांश के लिए एक शब्द चुनिए।

सदा रहने वाला

- Ans
- 1. सदाचारी
 - 2. संविदा
 - 3. शाश्वत
 - 4. सदाशील

Question ID : 9895805968
Chosen Option : 3

Q.1
8 दिए गए वाक्य में रेखांकित खंड को प्रतिस्थापित करने के लिए उपयुक्त विकल्प का चयन करें।

हम जैसे बीज बोते हैं ऐसे ही पेड़ और फल होते हैं।

- Ans
- 1. वैसे ही पेड़ और फल
 - 2. वैसा ही पेड़ और फल
 - 3. जैसे ही पेड़ और फल
 - 4. उतना ही पेड़ और फल

Question ID : 9895805951
Chosen Option : 1

Q.1
9 रिक्त स्थान को भरने के लिए उपयुक्त शब्द का चयन करें।

वह आलमारी _____ की बनी है।

- Ans
- 1. मिट्टी
 - 2. लोहे
 - 3. कपड़ा
 - 4. रंग

Question ID : 9895805952
Chosen Option : 2

Q.2
0 सही वर्तनी वाले शब्द का चयन करें।

- Ans
- 1. रूपवान

- 2. रूपबान
- 3. रूपवान
- 4. रूपावन

Question ID : 9895805971
Chosen Option : 1

Q.2
1 सही वर्तनी वाले शब्द का चयन करें।

- Ans
- 1. पत्राकर
 - 2. पत्रकार
 - 3. पत्ररकार
 - 4. पत्रकर

Question ID : 9895805970
Chosen Option : 2

Q.2
2 निम्नलिखित में से उस विकल्प का चयन करें जो 'पाँव जमीन पर न पड़ना' मुहावरे का अर्थ व्यक्त करता है।

- Ans
- 1. जमीन से ऊपर पाँव रखना
 - 2. आसमान में उड़ना
 - 3. अत्यधिक खुश होना
 - 4. कल्पना करना

Question ID : 9895805967
Chosen Option : 2

Q.2
3 रिक्त स्थान को भरने के लिए उपयुक्त शब्द का चयन करें।

अच्छे बालक _____ करते हैं।

- Ans
- 1. चोरी
 - 2. पढाई
 - 3. गलिगलौज
 - 4. लड़ाई

Question ID : 9895805954
Chosen Option : 2

Q.2
4 दिए गए वाक्य का वह भाग ज्ञात करें जिसमें कोई त्रुटि है।

सौरभ अपनी नाक का ऊपर मक्खी भी नहीं बैठने देता।

- Ans
- 1. मक्खी भी
 - 2. नहीं बैठने देता।
 - 3. सौरभ अपनी
 - 4. नाक का ऊपर

Question ID : 9895805947
Chosen Option : 4

Q.2
5 दिए गए वाक्य में रेखांकित खंड को प्रतिस्थापित करने के लिए उपयुक्त विकल्प का चयन करें।

अक्षरों से बनी लिपियों की महत्त्व है।

Ans

- 1. लिपियों को महत्त्व है।
- 2. लिपियों का महत्त्व है।
- 3. लिपियों के महत्त्व है।
- 4. लिपियों ने महत्त्व है।

Question ID : 9895805950
Chosen Option : 2

GovtJobsAlert.In